

الدراسات الاجتماعية



الصف السادس

الفصل الدراسي الثاني

العام الدراسي ٢٠٢٥ - ٢٠٢٦



66176078



66176078

مذكرات بو محمد الأصلية

الفهرس

رقم الصفحة "الكتاب"	رقم الصفحة "المذكرة"	الدرس	الوحدة
١٨	٣	الأول: الموقع الجغرافي لدول الخليج العربية وأهميته	الأولى: دولة الكويت ودول الخليج العربية تواجه الاستعمار وتعلن الاستقلال
٢١	٤	الثاني: التنافس الاستعماري الأوروبي على منطقة الخليج العربية	
٢٤	٦	الثالث: اتفاقية الحماية بين الكويت وبريطانيا عام ١٨٩٩م	
٢٦	٧	الرابع: مرحلة الاستقلال لدولة الكويت ودول الخليج العربية	
٢٩	٨	الخامس: تطور الحياة السياسية في دولة الكويت	
٤٠	٩	الأول: السكان في دول الخليج العربية	الثانية: دولة الكويت ودول الخليج العربية تنمو سكانيا وتتشابه ثقافيا
٤٣	١١	الثاني: التحديات السكانية في دول الخليج العربية	
٤٦	١٢	الثالث: التشابه الثقافي بين سكان دول الخليج العربية	
٤٩	١٤	الرابع: الثقافة الرقمية للإنسان الخليجي	
٥٢	١٥	الخامس: الوعي الثقافي للإنسان الخليجي	
٦٠	١٦	الأول: موارد الطاقة (النفط والغاز الطبيعي) في دول الخليج العربية	الثالثة: الموارد الاقتصادية والتنمية لدولة الكويت ودول الخليج العربية
٦٤	١٨	الثاني: الموارد الزراعية في دول الخليج العربية	
٦٧	٢٠	الثالث: موارد الثروة الحيوانية والسمكية في دول الخليج العربية	
٦٩	٢١	الرابع: الموارد الصناعية والتجارية في دول الخليج العربية	
٧٢	٢٢	الخامس: التحديات الاقتصادية وسبل تحقيق التنمية في دول الخليج العربية	
٨٢	٢٤	الأول: مجلس التعاون لدول الخليج العربية	الرابعة: التعاون والتطلعات المستقبلية لدولة الكويت ودول الخليج العربية
٨٤	٢٥	الثاني: التعاون الأمني والدفاعي المشترك	
٨٦	٢٦	الثالث: التعاون الاقتصادي والتجاري المشترك	
٨٩	٢٨	الرابع: التعاون الثقافي والتعليمي المشترك	
٩٢	٢٩	الخامس: التطلعات المستقبلية لدول مجلس التعاون	



- **لاحظ الخريطة المقابلة ثم أكمل الجدول التالي :**



الدولة الخليجية	العاصمة
دولة الكويت	الكويت
مملكة البحرين	المنامة
قطر	الدوحة
الإمارات العربية المتحدة	ابوظبي
سلطنة عمان	مسقط
المملكة العربية السعودية	الرياض

- **لاحظ الخريطة المقابلة ثم أكمل الجدول التالي :**

- القارة التي تقع فيها منطقة دول الخليج العربية هي ... آسيا
- تقع دول الخليج العربية بالنسبة للوطن العربي في جهة الشرق
- دائرة العرض التي تمر ببعض الدول الخليجية مثل عمان والإمارات والسعودية اسمها مدار السرطان

- **عدد أسماء الدول العربية الخليجية التي تمر بها دائرة مدار السرطان؟**

✓ (سلطنة عمان - الإمارات - المملكة العربية السعودية)

- **أمامك خريطة صماء لدول الخليج سجل عليها ما يلي.**

- أسماء الدول التي يمر بها مدار السرطان.
- اسم المسطح المائي الذي تطل عليه دولة الكويت

- **ما الأهمية الاقتصادية لموقع دول الخليج العربية؟ " عدد العوامل التي تميزت بها دول الخليج العربي التي جذبت إليها الأطماع**

الاستعمارية منذ القدم"

✓ ممر مائي هام للتجارة قديما من أوروبا الى الهند وأفريقيا خاصة تجارة الحرير والتوابل.

✓ كانت منطقة دول الخليج العربية مركزا عالميا لتجارة اللؤلؤ.

✓ تنوع الأنشطة الاقتصادية البحرية في المنطقة مثل : صيد الأسماك وصناعة السفن.

- **بم تفسر :** تتمتع منطقة الخليج العربية بموقع متميز بالنسبة للعالم.

✓ لعبت دور بارز كوسيط تجاري بين الشرق والغرب.

- **أكمل:**

➤ يعتبر الخليج العربي ممرا مائيا هاما للتجارة قديما من أوروبا الى الهند وأفريقيا ...

➤ من أشهر أنواع التجارة بين قديما بين منطقة الخليج العربي وأوروبا والهند وأفريقيا هي .. الحرير والتوابل ..

➤ كانت منطقة دول الخليج العربية قديما مركزا عالميا لتجارة ... اللؤلؤ ...

- ما المقصود بالاستعمار؟

✓ أن تسيطر دولة قوية على دولة ضعيفة بهدف استغلال مواردها.

- **بم تفسر:** شهدت منطقة الخليج العربية تنافسا استعماريًا لاستغلال مواردها

✓ بسبب الانتعاش التجاري الذي ساعد على ظهور الكثير من المدن والمراكز التجارية على سواحلها

- لاحظ الخريطة السابقة ثم اجب عن الأسئلة التالية :

• ضع عنوانًا للخريطة.

- خريطة الدول الاستعمارية الأوروبية على منطقة الخليج العربية.

• استخراج منها أسماء الدول الاستعمارية.

- البرتغال – هولندا – بريطانيا.

- أول الدول الأوروبية التي وصلت لمنطقة الخليج العربية هي (البرتغال).

- الدولة الاستعمارية التي عقدت معاهدات تجارية واهتمت بتجارة اللؤلؤ هي (هولندا)

- قارن بين كلا مما يلي حسب المطلوب منك في الجدول التالي :

وجه المقارنة	الاستعمار البرتغالي	الاستعمار الهولندي
القرن الذي ظهر فيه	ق ١٦ م	ق ١٧ م
هدف الاستعمار	نشر الديانة النصرانية – السيطرة على تجارة الشرق	احتكار تجارة الشرق
سبب انتهاء الاستعمار	ظهور منافسين لهم وهم الهولنديين	سيطر البريطانيون على ممتلكات الهولنديين – وقوع هولندا تحت الحكم الفرنسي

- اكمل:

- ظهر الاستعمار البرتغالي في منطقة الخليج العربية في القرن ... ١٦ ...
- الديانة التي كان يهدف الاستعمار البرتغالي في نشرها في منطقة الخليج العربية هي الديانة ... النصرانية ...
- الاستعمار الذي ظهر في منطقة الخليج العربية وكان منافسًا للاستعمار البرتغالي اسمه .. الاستعمار الهولندي ..
- ظهر الاستعمار الهولندي في منطقة الخليج العربية في القرن ... ١٧ م ...
- من أسباب انتهاء الاستعمار الهولندي هو وقوع هولندا تحت الحكم ... الفرنسي ...
- الدولة الأوروبية التي أحكمت السيطرة على منطقة الخليج عن طريق الاتفاقيات والمعاهدات هي ... بريطانيا ...
- شكل الاستعمار الذي أحكمت به بريطانيا سيطرتها على منطقة الخليج العربية اسمه .. الاتفاقيات والمعاهدات ..
- الدولة التي كانت تحاول بسط نفوذها وفرض تبعية بعض مناطق الخليج العربية لها اسمها .. الدولة العثمانية ..
- الدولة الخليجية التي كانت تشتهر باهتمامها بتجارة اللؤلؤ قديمًا اسمها ... البحرين ...

- دليل على صحة العبارة:

- "تعد البرتغال أول دولة أوروبية وصلت إلى منطقة الخليج العربية".
- ✓ لأنها أقامت فيها الحصون والمنشآت العسكرية واحتلت المدن والقرى.
- "اهتمام الاستعمار الهولندي بالتجارة في منطقة الخليج العربي".
- ✓ بناء القلاع ومراكز تجارية استعمارية.
- ✓ إيجاد صلات مع البحرين لاهتمامهم بتجارة اللؤلؤ.

- علل لما يأتي:

- سيطر البريطانيون على ممتلكات الهولنديين في منطقة الخليج العربي.
- ✓ بسبب وقوع هولندا تحت الحكم الفرنسي.
- استعمار بريطانيا لمنطقة الخليج العربي. "ما هدف الاستعمار البريطاني"
- ✓ للسيطرة على منطقة الخليج العربية وتجارها البحرية.
- نجاح بريطانيا في إحكام سيطرتها على منطقة الخليج العربي عن طريق المعاهدات والاتفاقيات.
- ✓ بسبب محاولة الدولة العثمانية بسط نفوذها وفرض تبعية بعض مناطق الخليج لها.

- رتب الدول الاستعمارية ترتيباً تصاعدياً.



صفوة معلمي الكويت

- **اكمل:** الاسرة التي حكمت الكويت وعاشت ككيان سياسي مستقل منذ تأسيسها هي اسرة ... آل صباح ...
- **علل:** تحرك الأطماع الدولية والعثمانية تجاه الكويت.

✓ لازدهار الأنشطة الاقتصادية في الكويت وتقدمها بشكل كبير وملحوظ

- **لاحظ الصورة المقابلة ثم أجب:**



شكل (٤) صورة الشيخ مبارك الصباح

- اسم حاكم الكويت الدالة عليه الصورة المقابلة (الشيخ مبارك الصباح)
- المشروع العثماني الألماني الذي رفضه هو (مشروع سكة حديد)
- الدولة التي حاولت السيطرة على الكويت في عهده هي (الدولة العثمانية)
- الروابط التي ربطت الكويت بالدولة العثمانية هي الروابط (الدينية)
- الدولة التي تعاونت معها الدولة العثمانية لمد نفوذها في الكويت اسمها (ألمانيا)

- **اذكر سبب فشل محاولات الدولة العثمانية للسيطرة على دولة الكويت.**

✓ بسبب عقد الشيخ مبارك الصباح اتفاقية حماية مع بريطانيا

- **ما واجبك تجاه وطنك الكويت في حال تعرضه لأطماع خارجية؟**

✓ الدفاع عنه ومقاومة أي خطر أو عدوان

- **لاحظ صورة الاتفاقية المقابلة ثم أجب :**

اسم الاتفاقية	اتفاقية الحماية الكويتية البريطانية
سنة الاتفاقية	١٨٩٩ م
أطراف الاتفاقية	دولة الكويت x بريطانيا
حاكم الكويت الذي وقع الاتفاقية	الشيخ مبارك الصباح
سبب الاتفاقية	حماية دولة الكويت من أخطار الدولة العثمانية في السيطرة عليها
أهمية الاتفاقية	❖ محافظة دولة الكويت على كيانها السياسي. ❖ حفظ حدودها من الأطماع الخارجية.

الاتفاقيات والمعاهدات

الاتفاقية المرقمة (٣٦) البريطانية الكويتية الأولى

المقودة مع شيخ الكويت سنة ١٨٩٩

بسم الله تعالى شأنه . إن العاية من تحرر هذه الاتفاقية المشرفة هو إتمام التمسك والاتفاق بين القبائل كولويل مالكوهم جون ميد القم السياسي لصاحبة الجلالة بالتيابة عن الحكومة البريطانية كطرف أول وبين الشيخ مبارك بن صباح شيخ الكويت كطرف ثان . بأن الشيخ مبارك بن صباح بكامل حريته . يرغب أن يرتبط ويلزم ووارثيه وخلفه في الحكم بأن لا يستقبل أي وكيل أو يمثل لأي سلطة أو حكومة في الكويت أو في أي مكان آخر من حدود مفاطته بدون الموافقة السابقة للحكومة البريطانية . وهو بالإضافة إلى ذلك يلزم نفسه ووارثيه وخلفه في الحكم بأن لا يتناول أو يبيع أو يوزع أو يرهن أو يعطى للاستئجار لأي غرض كان أي جزء من مفاطته لأي حكومة أجنبية أو سلطان أي سلطة بدون الموافقة السابقة لهذه الأفراس من حكومة صاحبة الجلالة .

وهذا الاتفاق يتعد لأي جزء من المفاطته التابعة للشيخ المذكور مبارك ابن الشيخ صباح التي قد تقع الآن في حوزة رعايا أي حكومة أخرى .

ودعم لصفاة على توقيع هذه الاتفاقية القانونية المشرفة بين القبائل كولويل مالكوهم جون ميد القم السياسي لصاحبة الجلالة في الخليج الفارسي والشيخ مبارك بن الشيخ صباح . يقوم الطرف الأول بالتيابة عن الحكومة البريطانية والطرف الثاني بالتيابة عن نفسه ووارثيه وخلفائه . بالتوقيع على هسدة الاتفاقية بحضور الشهود في اليوم العاشر من رمضان سنة ١٣١٩ الموافق اليوم الثالث والعشرين من كانون الثاني ١٨٩٩ .

التوقيع التوقيع
مبارك الصباح م . ج . م . ميد
القم السياسي في الخليج الفارسي

الشهود
أي . وكلام مور . كابين . ج كالنكوت جاسكر
السيد محمد رحم ابن عبد الله



صفحة من الكويت

عرف الاستقلال .

✓ تحرر الدولة من المستعمر الأجنبي وقيامها بمسؤولية إدارة شؤونها الداخلية والخارجية.

أكمل

- البلد الخليجي الوحيد الذي لم يتعرض للاستعمار هو ... المملكة العربية السعودية ...
- الدولة التي انسحبت واعترفت باستقلال دول الخليج العربية اسمها ... بريطانيا ...

لاحظ الصورة المقابلة ثم أجب :

شكل (٦) صورة الشيخ عبدالله السالم الصباح

- حاكم الكويت في الصورة المقابلة هو (الشيخ عبد الله السالم الصباح).
- اللقب الذي اطلق عليه هو (أبو الاستقلال).
- ما سبب حصوله على هذا اللقب ؟ حصول دولة الكويت على الاستقلال في عهده.
- ما ضد كلمة الاستقلال : (الاستعمار).

ما اسم الحدث الذي تدل عليه الصورة المقابلة ؟

✓ توقيع الشيخ عبدالله السالم على وثيقة الاستقلال.

أكمل:

- تم استبدال اتفاقية الحماية باتفاقية اسمها ... الصداقة والتشاور ...
- تاريخ حصول الكويت على استقلالها؟ ... ١٩ يونيو ١٩٦١ م ...



شكل (٧) الشيخ عبدالله السالم يوقع وثيقة الاستقلال

عدد بنود اتفاقية الصداقة والتشاور.

- ✓ اعتراف بريطانيا باستقلال دولة الكويت
- ✓ استمرار العلاقات الودية بين البلدين

أكمل: العام الذي أعلن فيه قيام المملكة العربية السعودية ... ١٩٣٢ م ...

ماذا يحدث لو: لم يستبدل الشيخ عبدالله السالم اتفاقية الحماية باتفاقية الصداقة والتشاور؟

✓ لم تحصل الكويت على استقلالها

✓ لم يلقب الشيخ عبدالله السالم أبو الاستقلال

لاحظ الخريطة ثم أكمل الجدول التالي

الدولة	الكويت	البحرين	قطر	الإمارات	عمان	السعودية
استقلالها	١٩٦١ م	١٩٧١ م	١٩٧١ م	١٩٧١ م	١٩٧٠ م	١٩٣٢ م

صفحة معلم الكويت

"أننا نعمل جميعاً من أجل وطن عزيز علينا اجتمعت القلوب على حبه واتحدت العقول والسواعد لخدمته واصطفقت الصفوف لنهضته محترمين الدستور والقوانين الخ "



- **من قائل العبارة السابقة؟** - الشيخ مشعل الأحمد الصباح

- **القيم المستفادة من خطاب صاحب السمو أمير البلاد الشيخ مشعل الأحمد الصباح:**

✓ الوحدة الوطنية لتحقيق النهضة الشاملة
✓ حب الوطن.

- **لاحظ الصورة المقابلة ثم أجب عما يلي.**

• ضع عنوان مناسب للصورة: (أمير الكويت يستلم الدستور).

• أمير الكويت الذي أمر بوضع الدستور هو الشيخ (عبدالله السالم الصباح).

• اللقب الذي أطلق على الشيخ عبدالله السالم بعد تسلمه الدستور هو (أبو الدستور).

- **علل:** أطلق على الشيخ عبدالله السالم لقب أبو الدستور. - لأن الدستور وضع في عهده وهو الذي أمر بوضعه.

- **اكمل:** العام الذي أعلن فيه عن وضع الدستور الكويتي هو عام ... ١٩٦٢م ...

- **عدد مواد الدستور الكويتي.** (١٨٣ مادة)

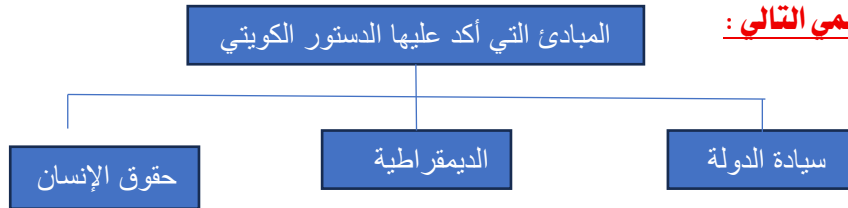
- **ما مهمة المجلس التأسيسي؟** - وضع دستور دائم لدولة الكويت

- **علل** حرص الشيخ عبد الله السالم على وضع دستور دائم لدولة الكويت.

✓ إيماننا منه بأن الدستور يعد الضمان الأكيد لأمة قوية تواجه التحديات والأزمات

- **عرف الدستور؟** هو قانون الدولة الأساسي الذي يحدد نظام المجتمع وحقوق المواطنين وواجباتهم

- **أكمل المخطط السهمي التالي :**



- **فرق بين المصطلحات التالية حسب الجدول:**

حقوق الإنسان	الديمقراطية	سيادة الدولة
هي المتطلبات الأساسية لجميع الأفراد دون تمييز	التشاور والحوار لتحقيق المصلحة العامة وهي ترتبط بمفهوم المواطنة	حق الدولة في إدارة أمورها الداخلية وطاعة الأفراد للنظام والقانون في الدولة

- **اكمل:** تنص المادة السادسة في الدستور الكويتي على أن نظام الحكم ديمقراطي

- **علل:** تعتبر الحياة الديمقراطية في دولة الكويت رائدة و متميزة.

✓ لأنها أعطيت المرأة الكويتية حقوقها السياسية كاملة

✓ **الحقوق السياسية للمرأة الكويتية**

- حق الانتخاب لمن يمثلها في مجلس الأمة. - حق الترشيح لعضوية مجلس الأمة وتولي المناصب الوزارية.

اكمل: أول سيدة كويتية تولت العمل الوزاري هي الدكتورة ... **معصومة المبارك** ...

أكتب مرادفات الكلمات التالية: - الدستور = القانون. - الديمقراطية = المواطنة

كيف توظف مفهوم الديمقراطية في حياتك اليومية؟ - في التشاور والحوار قبل اتخاذ أي قرار

ما هو دورك كمواطن صالح تجاه سيادة الدولة؟ - طاعة النظام والقانون في الدولة



شكل (١٠) خرائط دول الخليج العربية وعدد سكانها

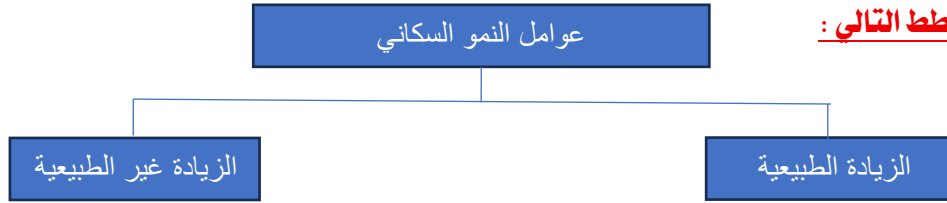
- لاحظ الشكل ثم أكمل الجدول التالي :

الدولة الخليجية	عدد السكان
دولة الكويت	٤,٩ مليون نسمة
مملكة البحرين	١,٦ مليون نسمة
دولة قطر	٣,١ مليون نسمة
دولة الإمارات	١٠,٧ مليون نسمة
سلطنة عمان	٥,٢ مليون نسمة
المملكة العربية السعودية	٣٣,٧ مليون نسمة

- فرق بين كلا مما يلي حسب الجدول :

النمو السكاني	الكثافة السكانية
هو التغيير الذي يحدث لعدد السكان نتيجة الزيادة الطبيعية وغير الطبيعية	هي عدد السكان في الكيلومتر المربع أي: الكثافة السكانية = عدد السكان ÷ مساحة الدولة

- أكمل المخطط التالي :



- فرق من حيث المفهوم بين كل مما يلي حسب الجدول :

الزيادة الطبيعية	الزيادة غير الطبيعية
الفرق بين عدد المواليد وعدد الوفيات للسكان	الفرق بين معدلات الهجرة الوافدة والهجرة المغادرة خارجياً

- علل:

- شهدت دولة الكويت ودول الخليج العربية نمواً سكانياً سريعاً.
- ✓ بسبب اكتشاف النفط
- أسباب الزيادة غير الطبيعية للسكان في الكويت ودول الخليج العربية بعد اكتشاف النفط.
- ✓ توفر الرعاية الصحية
- ✓ توفر فرص العمل
- ✓ ارتفاع الأجور
- ✓ سيادة الأمن والأمان

صفحة معلم الكويت

- شهدت دولة الكويت ودول الخليج العربية نمواً سكانياً سريعاً بعد اكتشاف النفط ...
- أعلى دولة خليجية في الكثافة السكانية تسمى مملكة البحرين ...

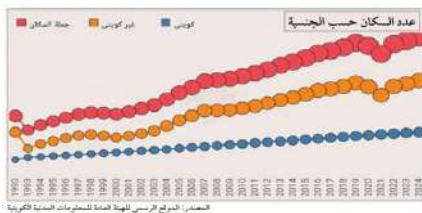
اسم الدولة	المساحة كم ^٢	عدد السكان نسمة	الكثافة السكانية فرد / كم ^٢	معدل النمو السكاني %
دولة الكويت	١٧,٨ ألف كم ^٢	٤,٩ مليون	٢٧٥,٧	٢,٥
المملكة العربية السعودية	٢,٠ مليون كم ^٢	٣٣,٧ مليون	١٦,٩	٤,٧
مملكة البحرين	٧٨٦,٨ كم ^٢	١,٦ مليون	٢٠٣٣	٣,٤
دولة قطر	١١,٦ ألف كم ^٢	٣,١ مليون	٢٦٣,٢	٤,٥
دولة الإمارات العربية المتحدة	٧١,٠ ألف كم ^٢	١٠,٧ مليون	١٥٠,٤	٣,٨
سلطنة عمان	٣٠٩,٥ ألف كم ^٢	٥,٢ مليون	١٦,٧	٤,٧

- **حلل الجدول السابق ثم أجب عن الأسئلة التالية :**

١. اكمل ما يلي:

- شهدت دولة الكويت ودول الخليج العربية نمواً سكانياً سريعاً بعد اكتشاف النفط ...
- الدولة الخليجية الأولى من حيث عدد السكان اسمها السعودية ...
- الدولة الخليجية الأولى من حيث المساحة اسمها السعودية ...
- الدولة الخليجية الأقل في نسبة عدد السكان اسمها البحرين ...
- الدولة الخليجية الأقل في المساحة اسمها البحرين ...
- تبلغ مساحة دولة الكويت حوالي ... ١٧,٨ ألف كم ...
- أعلى دولة خليجية في الكثافة السكانية هي البحرين ...
- أقل دولة خليجية في الكثافة السكانية هي عمان ...
- الدولة الخليجية الأولى في معدل النمو السكاني هي السعودية - عمان ...
- يبلغ معدل النمو السكاني في دولة الكويت حوالي ... ٢,٥ % ...
٢. رتب دول الخليج العربية من حيث المساحة تصاعدياً:

١. السعودية	٢. عمان	٣. الإمارات	٤. الكويت	٥. قطر	٦. البحرين
-------------	---------	-------------	-----------	--------	------------



- **لاحظ الرسم البياني ثم أجب :**

- أ- ضع عنواناً مناسباً للرسم البياني السابق:
- (أعداد السكان في دولة الكويت ما بين أعوام ١٩٩٠م - ٢٠٢٤م)
- ب- استخلص حقيقة من الرسم البياني:

(أعداد السكان في الكويت في تزايد مستمر)

- **علل:** تختلف الكثافة السكانية بين دول الخليج العربية.

✓ حيث تمثل مملكة البحرين أعلى دولة خليجية في الكثافة السكانية



- ما المقصود بالخلل في التركيب السكاني؟
- ✓ يعني التفاوت الكبير بين فئات سكان الدولة من حيث الجنسية والعمر والجنس وغيرها.
- لاحظ الدائرة البيانية لنسبة المواطنين وغير المواطنين في دول الخليج العربية عام (٢٠٢٢-٢٠٢٣ م) ثم

أكمل :

- تبلغ نسبة المواطنين حوالي ... ٤٧٪ ...
- نسبة غير المواطنين تمثل ... ٥٣٪ ...

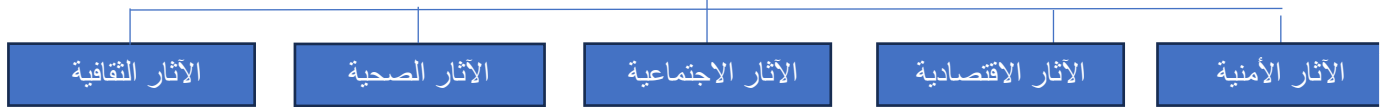
ما التحديات السكانية التي تواجه دول الخليج العربية؟

- ✓ خلل في التركيب السكاني لدول الخليج العربية
- **علل:** زيادة أعداد السكان في دول الخليج العربية بعد اكتشاف النفط.
- ✓ لتساهم في البناء والتعمير
- ✓ للبحث عن فرص العمل.

ما النتائج المترتبة على العلاقات التجارية القديمة لدول الخليج العربية؟

- ✓ ساعدت على قدوم المهاجرين إلى دول المنطقة بأعداد قليلة التي زادت بعد اكتشاف النفط.
- **صمم خريطة ذهنية للأثار الناجمة عن الخلل في التركيب السكاني :**

الآثار الناجمة عن الخلل في التركيب السكاني



فرق بين الآثار الناجمة عن الخلل في التركيب السكاني في الجدول التالي :

الآثار الأمنية	الآثار الاقتصادية	الآثار الاجتماعية	الآثار الصحية	الآثار الثقافية
- انتشار الجرائم والفوضى - الإضراب عن العمل	- استنزاف الموارد الاقتصادية - زيادة عدد البطالة للعاملة الوطنية	- العادات التي تحملها العمالة الوافدة من شرق آسيا	- انتشار الأمراض - الضغط على الخدمات الصحية	- تدهور اللغة العربية - التأثير على الوعي الديني

عدد جهود دول الخليج العربية لمواجهة الخلل في التركيب السكاني :

- ✓ تطوير برامج التدريب والتعلم لغرس قيم العمل الجاد لدى المواطنين.
- ✓ نشر الوعي بأهمية الحد من استقدام العمالة الوافدة التي يمكن الاستغناء عنها.
- ✓ ربط مخرجات التعليم باحتياجات سوق العمل من خلال تطوير المناهج التعليمية.
- ✓ إشراك القطاع الخاص في جذب العمالة الوطنية وتدريبها وتشغيلها.

لاحظ الصورة المقابلة ثم اذكر المشكلة التي تمثلها :

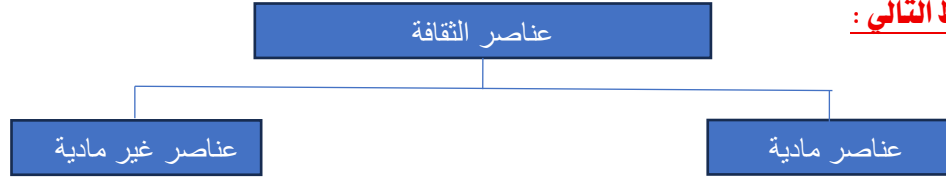
- ✓ زيادة عدد البطالة للعمالة الوطنية



صفحة ١١ من ١١

- **عرف الثقافة:** هي ثمرة النشاط الفكري والمادي لدى الإنسان.

- **أكمل المخطط التالي:**



- **صنف عناصر الثقافة التالية في مكانها المناسب:**

(القيم – الملابس – العادات – المباني – التقاليد – وسائل النقل)

العناصر غير المادية	العناصر المادية
القيم – العادات – التقاليد	الملابس – المباني – وسائل النقل

- **بم تفسر:** أصبح لمنطقة الخليج العربية هوية ثقافية تميزها عن غيرها.

✓ بسبب تشابه سكان دول الخليج العربية ثقافياً بشكل كبير

- **دلل على صحة العبارة:** "يتشابه سكان دول الخليج العربية ثقافياً لدرجة كبيرة"

✓ حيث لا يستطيع من يزور المنطقة لأول مرة أن يفرق بين شعوبها

- **علل:**

➤ تشابهت الأحداث التاريخية بين دول الخليج العربية.

✓ بسبب تعرض جميع دول الخليج للاستعمار ما عدا دولة خليجية واحدة وهي السعودية

➤ علل يتشابه سكان منطقة الخليج العربية في عاداتهم وتقاليدهم.

✓ لأنهم يتشابهون في الزي الوطني والاحتفال بالمناسبات الاجتماعية كالأعراس والقرقيعان

- **عدد أهم الروابط الثقافية التي تميز سكان دول الخليج العربية عن غيرهم:**

✓ التاريخ المشترك.

✓ وحدة الأصل.

✓ العادات والتقاليد.

✓ الدين واللغة.

- **عدد أهم العادات والتقاليد التي يتشابه فيها سكان منطقة الخليج العربية:**

✓ الزي الوطني.

✓ الاحتفال بالمناسبات الاجتماعية مثل الأعراس والقرقيعان.

- **اذكر أهم مميزات المجتمعات الخليجية:**

✓ العلاقات الأسرية المتماسكة.

✓ القيم الأخلاقية التي لها دور أصيل في الحياة.

صفحة 12 من 12
معلمي الكويت

- اكمل مخطط القيم الاخلاقية لدول الخليج العربية التالي:



- اكمل ما يلي بما يناسبها :

- معظم أصول سكان دول الخليج تعود إلى شبه الجزيرة العربية
- اللغة الرسمية لدول الخليج العربية وهي لغة القرآن الكريم هي اللغة العربية
- الدين الرسمي لدول الخليج العربية هو الدين الإسلامي
- المادة من الدستور الكويتي التي تنص على أن الدين الإسلامي هو الدين الرسمي للدولة هي المادة الثانية...
- الدولة الخليجية الوحيدة التي لم تتعرض للاستعمار اسمها السعودية
- المنظمة العالمية التي اعتبرت الموروث الخليجي ضمن قائمة التراث العالمي تسمى اليونسكو
- اليوم الذي تم تخصيصه يوماً للأسرة الخليجية من كل عام يوافق يوم .. ١٤ سبتمبر

- لاحظ الصورة المقابلة وأجب :



- ما اسم المناسبة الاجتماعية التي تمثلها الصورة؟ (القرقيعان)
- في أي شهر من العام تكون هذه المناسبة؟ (شهر رمضان)
- دون أزوجة شعبية تمثل هذه المناسبة: "عطونا الله يعطيكم بيت مكة يوديك"



فرق بين كل مما يلي حسب الجدول :

الثقافة الرقمية	الذكاء الاصطناعي
تمثل القيم والمهارات والمعارف المكتسبة باستخدام التكنولوجيا	برنامج إلكتروني يحاكي الذكاء الإنساني

عدد أهم مجالات استخدام الذكاء الاصطناعي :

١. مجال الطب.
٢. مجال التعليم.
٣. الحياة اليومية.
٤. السفر.
٥. التجارة.

صنف العبارات التالية حسب كل مجال :

البحث عن المعلومات والتعلم عن بعد - التسوق الإلكتروني - الترفيه والألعاب والصحافة الإلكترونية - تشخيص الحالات المرضية"

مجال الطب	مجال التعليم	الحياة اليومية	السفر	التجارة
تشخيص الحالات المرضية	البحث عن المعلومات والتعلم عن بعد	الترفيه والألعاب والصحافة الإلكترونية	ترجمة اللغات والتنقل	التسوق الإلكتروني

عدد سلبيات الذكاء الاصطناعي:

- ✓ عدم معرفة بعض الأفراد بالبرامج الإلكترونية.
- ✓ مكلف للغاية.
- ✓ يضعف الإبداع

اكتب المصطلح الدال على العبارات التالية :

- الأمن السيبراني: حماية البرمجيات من الاختراقات السيبرانية على الشبكات الإلكترونية.
- الثقافة الأمنية: عدم نشر البيانات الشخصية إلكترونياً.

علل:

- لشبكة المعلومات الإلكترونية سلبيات خطيرة. - التعرض للاختراقات التي يتصدى لها الأمن السيبراني.
- تأسيس المركز الوطني للأمن السيبراني. - لحماية الشبكات المعلوماتية والاتصالات.
- إنشاء الهيئة العامة للاتصالات وتقنية المعلومات. - لتعزيز التوعية الوطنية بمخاطر الاستخدام الإلكتروني.

ما جهود دولة الكويت في مواجهة تحديات الأمن السيبراني؟

- ✓ تأسيس المركز الوطني للأمن السيبراني.
- ✓ إنشاء الهيئة العامة للاتصالات وتقنية المعلومات.

لاحظ الصورة المقابلة وأجب :

- ما اسم الجهة الحكومية التي يمثلها هذا الشعار؟ (المركز الوطني للأمن السيبراني)
- ما الهدف من إنشاء هذه الجهة؟ (حماية الشبكات المعلوماتية والاتصالات)
- عدد أهم البيانات الشخصية التي يجب عليك عدم نشرها إلكترونياً.



بيانات هويتك	البيانات التعليمية	البيانات الطبية	البيانات المالية
			

- **علل** تعرضت الهوية الثقافية لسكان دول الخليج العربية لتأثيرات خارجية.
- ✓ بسبب الغزو الثقافي الذي أدى لظهور عادات دخيلة على الهوية الوطنية والخليجية.
- **أكتب أثر الغزو الثقافي على الإنسان الخليجي.**
- ✓ ظهور عادات دخيلة على الهوية الوطنية والخليجية.
- ✓ التأثير على اللغة والقيم والعادات المحلية.
- ✓ ضعف الهوية الثقافية للإنسان الخليجي.
- **عرف وسائل التواصل الاجتماعي.**
- ✓ هي تطبيقات حديثة للتواصل والتفاعل مع الآخرين.
- **فرق بين إيجابيات وسلبيات وسائل التواصل الاجتماعي :**

سلبيات وسائل التواصل الاجتماعي	إيجابيات وسائل التواصل الاجتماعي
١- هدر الوقت	١- تعزيز العلاقات الاجتماعية
٢- انتهاك الخصوصية	٢- إثراء المعلومات
٣- نشر الشائعات	٣- تطوير الذات
٤- الغزو الثقافي	

- **اكمل:** القانون الكويتي للجرائم الإلكترونية يحمل الرقم ٦٣
- **أذكر أهم النقاط التي تناولها القانون الكويتي للجرائم الإلكترونية.**
- ✓ عدم الاعتداء على البيانات الخاصة.
- ✓ احترام الآخرين بعدم السب أو القذف.





حلل الخريطة المقابلة واستنتج الموارد الاقتصادية لدولة الكويت ودول الخليج العربية:

- ✓ موارد الطاقة (النفط والغاز الطبيعي).
- ✓ الموارد الزراعية.
- ✓ موارد الثروة الحيوانية والسمكية.
- ✓ الموارد الصناعية والتجارية.

- **علل:** تطور الأنشطة الاقتصادية في دول الخليج العربية بعد اكتشاف النفط وتصديره.

✓ أن دول الخليج بدأت مرحلة جديدة بتنوع الموارد الاقتصادية مما أدى إلى نمو الاقتصاد وزيادة الدخل القومي فيها.

عرف مفهوم الدخل القومي.

✓ هو مجموع الدخول التي تحصل عليها الدولة خلال عام.


اكمل:

- تحتل دول الخليج العربية المركز الأول عالمياً في إنتاج ... النفط ...
- تحتل دول الخليج العربية المركز الأول عالمياً في احتياطي الغاز الطبيعي ...
- يبلغ احتياطي النفط لدول الخليج العربية من الاحتياطي العالمي ... ٣٢٪ ...
- يبلغ إنتاج النفط لدول الخليج العربية من الإنتاج العالمي ٢٣٪ ...
- يبلغ احتياطي الغاز الطبيعي لدول الخليج العربية من الاحتياطي العالمي ... ٢١٪ ...
- يبلغ إنتاج الغاز الطبيعي لدول الخليج العربية من الإنتاج العالمي ١٠٪ ...

فرق بين كل مما يلي حسب الجدول:

احتياطي النفط	إنتاج النفط
كميات النفط المخزونة في باطن الأرض	كميات النفط الخام التي يتم استخراجها من باطن الأرض

حول نسبة احتياطي النفط والغاز الطبيعي إلى دائرة بيانية وحول إنتاج النفط والغاز الطبيعي إلى أعمدة بيانية



شكل (١٩) نسبة إنتاج النفط والغاز الطبيعي الخليجي من إجمالي الإنتاج العالمي لعام ٢٠٢٣ م



شكل (٢٠) نسبة احتياطي النفط والغاز الطبيعي الخليجي من إجمالي الاحتياطي العالمي لعام ٢٠٢٣ م

➤ ظهرت الحاجة إلى إقامة العديد من الموانئ النفطية.

✓ بسبب زيادة الإنتاج النفطي في دول الخليج العربية.

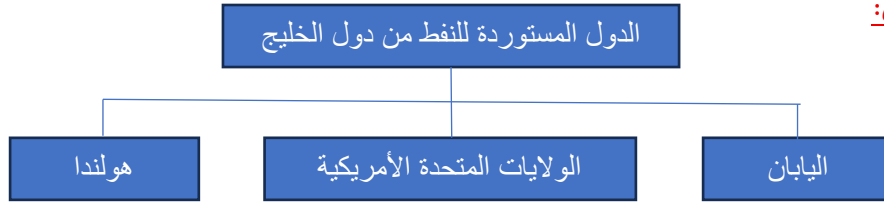
✓ زيادة الطلب العالمي على النفط كمصدر للطاقة

➤ علل : لا يتم تصدير جميع الإنتاج من النفط.

✓ حيث يتم الاحتفاظ بجزء منه كاحتياطي للأجيال القادمة.

- اكمل: يتم نقل النفط من الحقول إلى موانئ التصدير عبر ... شبكات أنابيب ...

- اكمل المخطط التالي:



- ما الذي يمثله الشعار؟

✓ شركة نفط الكويت

- حل الخريطة السابقة ثم أكمل الجدول:

اسم الدولة	حقل النفط	الميناء
الكويت	برقان / بحرة	الأحمدى / الزور
السعودية	الغوار	السفانية
قطر	الشمال	مسعيد

- أكمل ما يلي:

- أكبر حقول النفط في دول الخليج العربية اسمه حقل الغوار
- ثاني أكبر حقل نفطي في دول الخليج العربية هو حقل برقان
- يقع حقل الغوار النفطي في دولة خليجية اسمها السعودية
- يقع حقل برقان النفطي في دولة خليجية اسمها الكويت
- أول حقل نفطي تم اكتشافه في دولة الكويت اسمه حقل بحرة
- أكبر حقل للغاز الطبيعي في دول الخليج العربية اسمه حقل الشمال
- يقع حقل الشمال للغاز الطبيعي في دولة خليجية اسمها ... قطر

- ماذا سيحدث في حال نضوب النفط في دول الخليج العربية؟

✓ ستلجأ هذه الدول إلى الاعتماد على المخزون من الإنتاج للأجيال القادمة.

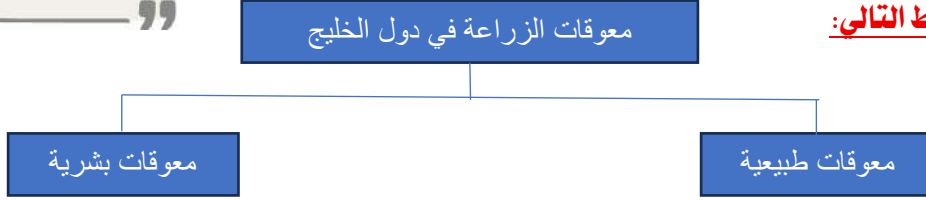
✓ الاعتماد على موارد اقتصادية أخرى بديلة عن النفط والغاز.

قال رسول الله (صلى الله عليه وسلم):
 ((ما من مسلم يغرس غرساً أو يزرع زرعاً فيأكل
 منه طيرٌ أو إنسانٌ أو بهيمةٌ إلا كان له به صدقة))
 رواه البخاري ومسلم

- **الام يدعوننا الحديث الشريف؟**

✓ يدعوننا إلى الاهتمام بالزراعة

- **اكمل المخطط التالي:**



- **علل:** قامت دول الخليج العربية بتشجيع ودعم الزراعة.

✓ لتحقيق الاكتفاء الذاتي من الغذاء

✓ لتقليل الاعتماد على استيراد المواد الغذائية

- **اذكر جهود دول الخليج العربية في قطاع الزراعة.**

✓ دعم المزارعين ومنحهم القروض الميسرة.

✓ استصلاح الأراضي لزيادة الرقعة الزراعية.

✓ العمل على إيجاد مصادر مياه عذبة عن طريق محطات تحلية المياه.

✓ استخدام طرق الزراعة الحديثة مثل (الزراعة بدون تربة – الزراعة في البيوت البلاستيكية).

- **فرق بين كلا مما يلي حسب الجدول:**

الزراعة بدون تربة	الزراعة في البيوت البلاستيكية
هي الزراعة التي تتم في بيئة مائية أو رملية أو نشارة خشب تضاف إليها المحاليل الغذائية	هي بيوت تزرع فيها الخضروات في غير مواسمها وتقوم بحماية المحاصيل من تقلبات الطقس

- **اكمل المخطط التالي:** أنواع الانتاج الزراعي في الكويت ودول الخليج



- **صنف المحاصيل التالية حسب الجدول.**

(قمح – طماطم – شعير – ذرة – خيار – خضراوات ورقية)

الخضار والفاكهة	الحبوب
طماطم – خيار – خضراوات ورقية	قمح – ذرة – شعير

- **لاحظ الصورة المقابلة ثم أجب.**

• ما اسم النباتات التي تمثلها الصورة المقابلة؟ (الأشجار الخشبية)

- **علل:** تقوم دول الخليج العربية بزراعة الأشجار الخشبية.

✓ تجميل الشوارع والحدائق.

✓ تثبيت الرمال ومصدات الرياح.



* أولاً: الثروة الحيوانية:-

- **العقبات التي تواجه تنمية الثروة الحيوانية في دول الخليج العربية:**

- ✓ الظروف المناخية القاسية.
- ✓ قلة موارد المياه.

- **أسباب الزيادة الملحوظة في موارد الثروة الحيوانية في دول الخليج العربية:**

- ✓ إنشاء محطات الأبحاث والمحاجر البيطرية وتوفير اللقاحات للحيوانات.
- ✓ إنشاء المشاريع الحيوانية لزيادة الإنتاج وتحسينه.
- ✓ تقديم الإعلانات المجانية لمساعدة مربي الحيوانات والدواجن.

- **موارد الثروة الحيوانية في دول الخليج العربية:**

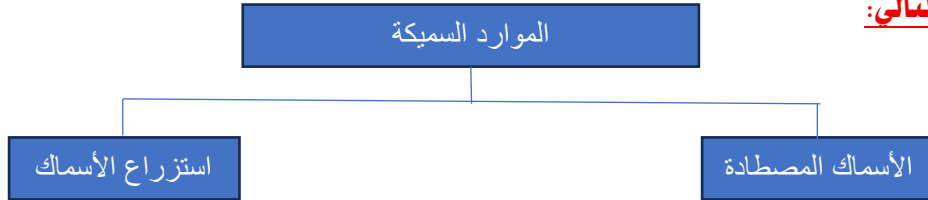
- ✓ بيض المائدة.
- ✓ منتجات الألبان.
- ✓ لحوم الدجاج ولحوم الحمراء

- **اكمل.**

- الحيوان الذي يحتل المرتبة الأولى للثروة الحيوانية لدول الخليج العربية يسمى الضأن....
- الحيوان الذي يحتل المرتبة الثانية للثروة الحيوانية لدول الخليج العربية يسمى الماعز....

* ثانياً: الثروة السمكية:-

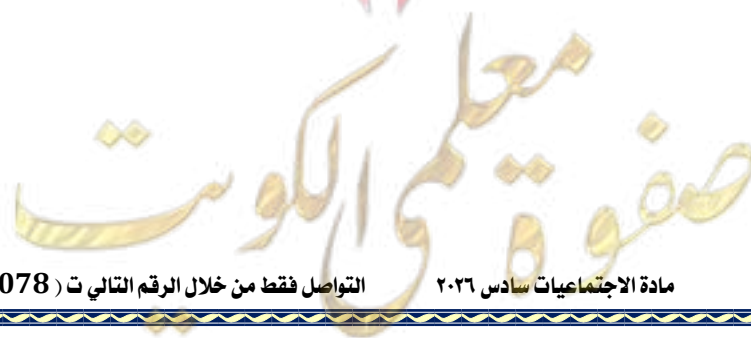
- **بم تفسر:** تعتبر الثروة السمكية مصدراً للغذاء في دول الخليج العربية؟
- ✓ بسبب موقعها الجغرافي المطل على مسطح الخليج العربي.

- **اكمل المخطط التالي:**- **اكمل.**

- الدولة الخليجية الأولى في إنتاج الأسماك المصطادة تسمى سلطنة عمان....
- الدولة الخليجية الأولى في إنتاج استزراع الأسماك تسمى المملكة العربية السعودية....

- **ما المقصود بالاستزراع السمكي؟**

- ✓ تربية الأسماك بأنواعها المختلفة تحت ظروف محكمة وتحت سيطرة الإنسان.



- لاحظ الخريطة المقابلة التي أمامك ثم حدد عليها المطلوب باستخدام الأشكال التالية.



- الدولة الخليجية الأعلى في إنتاج الأسماك المصطادة. (Blue circle)
- الدولة الخليجية الأعلى في إنتاج استزراع الأسماك. (Red square)

الدرس الرابع: الموارد الصناعية والتجارية في دول الخليج العربية ص ٦٩

* أولاً: الموارد الصناعية:-

- **بم تفسر: اهتمام دول الخليج بتطوير الصناعة وتنويع أنشطتها.**

- ✓ دورها الحيوي في التنمية الاقتصادية.
- ✓ لأنها أحد الركائز الأساسية لزيادة الدخل القومي.
- **عرف الصناعة.** هي عملية تحويل المواد الخام إلى منتجات جاهزة للاستخدام.

- **اكمل المخطط التالي**

أنواع الصناعات في دول الخليج العربية



- **صنف الصناعات التالية في الجدول:**

(البتروكيماوية – الطابوق الجيري – الألومنيوم – الدقيق – تكرير النفط – الحديد – المعكرونة)

الصناعات التعدينية	الصناعات الإنشائية	الصناعات النفطية	الصناعات الغذائية
الألومنيوم – الحديد	الطابوق الجيري – الإسمنت	البتروكيماوية – تكرير النفط	الدقيق – المعكرونة

- لاحظ الخريطة المقابلة ثم اختر من المجموعة (أ) ما يناسبها من المجموعة (ب) بكتابة الرقم المناسب في المكان الصحيح.



شكل (٢٣) خريطة المناطق الصناعية في دول الخليج العربية

م	المجموعة (أ)	م	المجموعة (ب)
١	دولة الكويت	٣	ينبع
٢	سلطنة عمان	١	الشويخ
٣	المملكة العربية السعودية	٢	صحار
٤	دولة قطر	٦	جبل علي
٥	مملكة البحرين	٤	مسيعيد
٦	الإمارات العربية المتحدة	٥	شمال سترة

- فرق بين الصادرات والواردات.

الواردات	الصادرات
السلع التي تشتريها دولنا من الخارج	السلع والمنتجات التي تبيعها دولنا في الخارج

- ما المقصود بالترانزيت؟

✓ هو إعادة تصدير البضائع المستوردة.

- صنف الكلمات التالية في الجدول.

(الأجهزة الكهربائية – الغاز الطبيعي – النفط – المنتجات الغذائية)

الواردات في دول الخليج العربية	الصادرات في دول الخليج العربية
الأجهزة الكهربائية – المنتجات الغذائية	الغاز الطبيعي – النفط

الدرس الخامس: التحديات الاقتصادية وسبل تحقيق التنمية في دول الخليج العربية ص ٧٢

- فرق بين مفهوم الأمن الغذائي والأمن المائي :

الأمن المائي	الأمن الغذائي
تأمين الحد الأدنى من الموارد المائية	قدرة المجتمع على توفير الموارد الغذائية بأنواع وكميات مناسبة

- قارن بين أسباب مشكلة الغذاء وأسباب تدني وفرة المياه :

أسباب تدني وفرة المياه	أسباب مشكلة الغذاء
١ - الموقع في الإقليم الصحراوي الجاف	١ - زيادة عدد السكان
٢ - زيادة التوسع الحضري	٢ - تأثير درجة الحرارة على الإنتاج الزراعي
٣ - عدم وجود مصادر مياه عذبة	٣ - تحرك الرمال

- ما النتائج المترتبة على اعتماد دول الخليج العربية في توفير احتياجاتها الغذائية على الاستيراد من الخارج؟

✓ جعلها تفتقد الأمن الغذائي

- علل: تواجه دول الخليج العربية محدودية في توفر المياه العذبة.

✓ الموقع في الإقليم الصحراوي الجاف.

✓ زيادة التوسع الحضري.

✓ عدم وجود مصادر مياه عذبة.

* التقليل من الاعتماد على النفط كمصدر أساسي للدخل:-- عدد الطرق التي اتبعتها دول الخليج العربية للتقليل من الاعتماد على النفط.

✓ تنويع مصادر الدخل.

✓ البحث عن مصادر طاقة بديلة.

- **ما المقصود بالطاقة الخضراء؟**

✓ تشمل مصادر الطاقة المتجددة مثل الطاقة الشمسية والطاقة المائية وطاقة الرياح.

- **ما هو هدف الطاقة المتجددة في دولة الكويت؟**

✓ إنتاج ١٥٪ من احتياجاتها من الكهرباء من مصادر متجددة بحلول عام ٢٠٣٠م.

- **عدد سبل تحقيق التنمية الاقتصادية في دول الخليج العربية.**

✓ تطوير الصناعات غير النفطية.

✓ تعزيز التكامل الاقتصادي ودعم المشاريع المشتركة.

✓ تنمية التجارة البينية (تبادل السلع والخدمات).

✓ الاستثمار في رأس المال البشري.

- **ما هو دور المرأة في مسيرة العمل في القطاع الاقتصادي والتنمية**

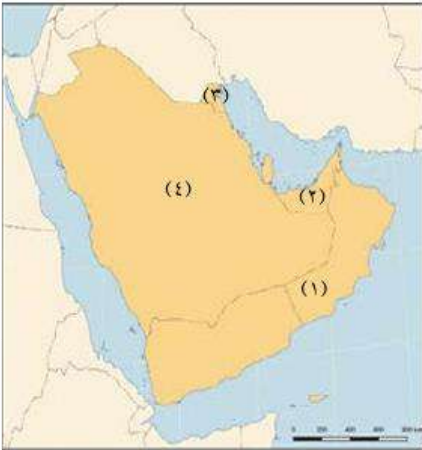
✓ ريادة الأعمال والمشاريع الصغيرة

- **صنف الصناعات الخليجية التالية حسب نوعها:**

(تكرير النفط – الحديد – البتروكيماويات – الألومنيوم – الطابوق)

الصناعات التحويلية	الصناعات النفطية	الصناعات الإنشائية
الحديد – الألومنيوم	تكرير النفط – البتروكيماويات	الطابوق

- **لاحظ خريطة دول الخليج العربية ثم أكمل:**



• الدولة الخليجية التي يقع فيها حقل برقان النفطي تحمل الرقم (٣).

• الدولة الخليجية التي توجد بها منطقة الجبيل الصناعية تحمل الرقم (٤).

• منطقة صلالة الزراعية تحمل على الخريطة الرقم (١).



صفوة معلم الكويت

- **لاحظ الخريطة المقابلة ثم أجب:**



شكل (٢٨) خريطة دول مجلس التعاون لدول الخليج العربية

- **ضع عنوان مناسب للخريطة:** (دول مجلس التعاون الخليجي).

- **كم عدد الدول الأعضاء في مجلس التعاون الخليجي؟** (٦ دول خليجية).

- **اكتب أسماء الدول الأعضاء:**

- ١- السعودية.
- ٢- الكويت.
- ٣- الإمارات.
- ٤- البحرين.
- ٥- قطر.
- ٦- عمان.

- **اقرأ الفقرة ثم أجب:**

" ستواصل الكويت دورها المعهود في تطوير التعاون الأخوي في مختلف المجالات مع أشقائنا في الخليج"



- من القائل؟ (الشيخ جابر الأحمد الصباح – رحمه الله)
- الدور الذي ستواصله الكويت؟ (تطوير التعاون الأخوي)
- صاحب فكرة إنشاء مجلس التعاون الخليجي؟ (الشيخ جابر الأحمد الجابر الصباح)

- **اكمل ما يلي:**

- الشعار المقابل يمثل تجمع خليجي يسمى (مجلس التعاون لدول الخليج العربية).
- تاريخ الإعلان عن قيام المجلس ٢٥ مايو ١٩٨١م
- المدينة التي أعلن فيها عن قيام المجلس أبو ظبي
- مقر المجلس الرياض



- **اكتب المصطلح الدال على:**

- (مجلس التعاون لدول الخليج العربية): منظمة سياسية اقتصادية إقليمية تضم ست دول عربية خليجية.

- **عدد أهداف مجلي التعاون الخليجي.**

- ✓ تحقيق التعاون في جميع المجالات.
- ✓ تحقيق الترابط والصلات بين الدول.
- ✓ العمل على التقدم في المجال العلمي.

- **اكمل المخطط التالي:**



- **علل:** يحتل مجلس التعاون لدول الخليج العربية مكانة مميزة بين دول العالم.

✓ حيث حقق الكثير من الإنجازات في مختلف المجالات.

- **اقرأ العبارات التالية ثم اذكر السبب.**

- دول الخليج العربية تشبه مجموعة الأصدقاء.
- ✓ السبب: العلاقات القوية التي تربطهم والتعاون المشترك.
- دول الخليج العربية تشبه أفراد الأسرة.
- ✓ السبب: أواصر القرابة التي تربط بين أبناء الشعوب الخليجية.
- دول الخليج العربية تشبه أعضاء جسم الإنسان.
- ✓ السبب: لأن كل منهم يحتاج للآخر.

عدد أهم قضايا التعاون السياسي بين دول الخليج العربية.

- ✓ دعم القضية الفلسطينية.
- ✓ تحرير الكويت من الغزو العراقي الغاشم.
- ✓ دعم وحدة واستقرار وسيادة الدول العربية.
- **علل** حرص المجلس على التعاون الأمني والدفاعي.
- ✓ وحدة الهدف والمصير.
- ✓ مواجهة المخاطر والتهديدات.

اذكر أهم إنجازات التعاون الدفاعي والأمني بين دول مجلس التعاون الخليجي.

- ✓ إقرار الاتفاقية الأمنية بين الدول الأعضاء.
- ✓ التدريبات والمناورات العسكرية المشتركة.
- ✓ إنشاء قوة مشتركة (درع الجزيرة) مقرها السعودية لحماية أمن دول المجلس.
- ✓ إقرار البطاقة الذكية للتنقل بين دول المجلس.

اكتب المصطلحات الدالة على:

- **(درع الجزيرة):** قوة مشتركة لحماية أمن دول المجلس مقرها السعودية.
- **(المسؤولية الوطنية):** الانتماء للوطن والقيام بالواجبات والدفاع عنه.

اكمل ما يلي.

- مقر درع الجزيرة في المملكة العربية السعودية
- القوة المشتركة تسمى درع الجزيرة

اكمل المخطط التالي:

صفوة معلم الكوثر

عرف المواطنة الاقتصادية :

✓ هي المساواة في المعاملة بين مواطني دول مجلس التعاون الخليجي في كافة المجالات الاقتصادية.

- **علل:** سعت دول مجلس التعاون إلى تعزيز التعاون الاقتصادي.

✓ لتعزيز مكانتها على ساحة التجارة العالمية في ظل التطورات الاقتصادية.

✓ استجابة لأمال مواطني دول مجلس التعاون في تحقيق المواطنة الاقتصادية

- **عدد!** بازات التعاون الاقتصادي والتجاري المشترك بين دول مجلس التعاون الخليجي.

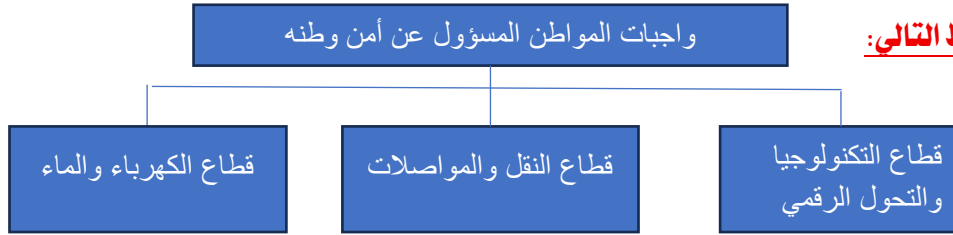
✓ الاتحاد الجمركي.

✓ السوق الخليجية

✓ الاتحاد النقدي.

المشتركة.

- **اكمل المخطط التالي:**



*. أولاً: قطاع التكنولوجيا والتحول الرقمي

- **اكتب فيما يلي:** "إنجازات دول مجلس التعاون الخليجي في التحول الرقمي".

✓ خفض أسعار التجوال.

✓ الربط المباشر بين شبكات الإنترنت.

✓ إنشاء منصات إلكترونية للخدمات الحكومية.

- **لاحظ الصورة المقابلة ثم أجب.**



• ما اسم المنصة الإلكترونية التي يمثلها الشعار؟

✓ منصة سهل الإلكترونية

• في أي دولة خليجية تعمل هذه المنصة؟

✓ دولة الكويت.

• اذكر اثنين من الخدمات التي تقدمها هذه المنصة.

✓ إشعارات غياب الطلاب.

✓ إشعارات اجتماعات أولياء الأمور

- **لاحظ الخريطة المقابلة ثم أجب.**

• ما اسم المشروع الذي تمثله الخريطة؟

✓ مشروع سكة الحديد (قطار البيت الخليجي)

• ما طول مسار السكة الحديدية؟

✓ طول المسار: (٢١١٧ كم)

• بداية المشروع من الكويت ونهايته في سلطنة عمان

• الدولتان اللتان انتهتا من المسار الإمارات و السعودية



شكل (٢٩) خريطة مشروع سكة حديد دول الخليج العربية

صفوة الكويت



*. ثانيا: قطاع الكهرباء والماء

- **لاحظ الصورة ثم أجب.**

- ما اسم المشروع الذي تمثله الصورة؟
- ✓ مشروع الربط الكهربائي
- ما الهدف من المشروع؟
- ✓ تحسين كفاءة استهلاك الطاقة وضمان استمرارية التيار الكهربائي
- آخر الدول الخليجية المنضمة لمشروع الربط الكهربائي هي سلطنة عمان

- **حوط الخيار الصحيح من الخيارات التي تلي كل عبارة:**

- الدولة الخليجية التي ينطلق منها مشروع سكة الحديد الخليجي.



- آخر دولة انضمت إلى مشروع الربط الكهربائي



اكتب عما يلي:**➤ إنجازات التعاون الثقافي لدول مجلس التعاون الخليجي.**

- ✓ إقرار ميثاق الشرف الإعلامي.
- ✓ إقامة نشاطات شبابية مثل بطولة كأس الخليج العربي لكرة القدم.
- ✓ إنشاء مركز الترجمة والتعريب.
- ✓ تنظيم فعاليات ثقافية وتشجيع السياحة الخليجية (مشروع عاصمة السياحة الخليجية).

➤ إنجازات التعاون التعليمي لدول مجلس التعاون الخليجي

- ✓ اجتماعات وزراء التربية والتعليم دورياً.
- ✓ معاملة طلاب دول المجلس معاملة طلاب الدولة نفسها.

لا حظ الصورة المقابلة ثم أجب.**➤ ما اسم صاحب الصورة؟**

- ✓ لاعب منتخب الكويت السابق سعد الحوطي

➤ اكتب أشهر ما قاله صاحب الصورة.

- ✓ "أحنا أخوان .. خليجنا واحد"

لا حظ الصورة المقابلة بما يناسبها.

- عاصمة السياحة الخليجية لعام ٢٠٢٥م: مدينة اسمها العين
- تقع مدينة العين عاصمة السياحة الخليجية لعام ٢٠٢٥ في دولة اسمها الإمارات العربية المتحدة
- عاصمة الثقافة والإعلام العربي لعام ٢٠٢٥م مدينة الكويت

لا حظ جدول المقارنة التالي:

المقارنة	مكتب التربية العربي لدول الخليج	مؤسسة الإنتاج البرامجي لمجلس التعاون
المقر	الرياض	مدينة الكويت
الشعار		

لا حظ الصورة المقابلة ثم أجب.**➤ اكتب اسم الجهة التعليمية والثقافية التي تمثلها الصورة.**

- ✓ مؤسسة الإنتاج البرامجي المشترك لمجلس التعاون لدول الخليج العربية.

➤ مقراها:

- ✓ الكويت.

➤ الهدف منها:

- ✓ إنتاج برامج تعليمية وصحية وبيئية ومسلسلات إذاعية وتلفزيونية هادفة.

لا حظ الآية الكريمة ثم أجب.

قال تعالى "وتعاونوا على البر والتقوى ولا تعاونوا على الإثم والعدوان"

➤ ما القيمة المستفادة من الآية الكريمة؟

- ✓ التعاون على أعمال الخير

➤ اكمل المثال الشعبي: ربيع تعاونوا ما ذلوا

- **اقرأ الفقرة ثم أجب.** "تأتي أهمية تضافر الجهود ووضع مصلحة الوطن دائما فوق كل اعتبار والعمل على تطوير الأداء الحكومي لتحقيق كافة الإنجازات والأهداف للسير على طريق التنمية ومواجهة التحديات لتلبية آمال المواطنين وتطلعاتهم ووضع الحلول العملية لكافة القضايا بما يعود بالخير والمنفعة على الجميع"



➤ **من القائل؟**

✓ صاحب السمو أمير البلاد الشيخ مشعل الأحمد الصباح

➤ **ما الرسالة التي دعا لها الخطاب السامي لحضرة صاحب السمو أمير البلاد؟**

✓ وضع مصلحة الوطن فوق كل اعتبار.

✓ تطوير الأداء الحكومي.

✓ مواجهة التحديات لتلبية آمال المواطنين.

✓ وضع الحلول العملية للقضايا.

- **لاحظ الصورة المقابلة ثم أجب.**

- **ما اسم الحدث؟**

✓ القمة الخليجية الخامسة والأربعون.

- **ما اسم الدولة التي انعقدت فيها؟ ومتى انعقدت؟**

✓ انعقدت في دولة الكويت عام ٢٠٢٤م

- **علل لما يلي.** عقدت القمة ٤٥ لمجلس التعاون الخليجي في الكويت ٢٠٢٤.

✓ تعميق روابط المجلس.

✓ مواجهة التحديات الإقليمية والعالمية.

- **اكتب عم يلي:** المشاريع المستقبلية لدول مجلس التعاون الخليجي.

✓ الربط الكهربائي مع دول أخرى.

✓ مشروع التأشيرة السياحية الخليجية الموحدة.

✓ تشغيل كامل لمشروع سكة الحديد عام ٢٠٣٠م.

- **اكمل الجدول التالي طبقا لمجالات التطلمات المستقبلية لدول الخليج العربية.**

الهدف	المجال
تحقيق استقرار مالي ونمو اقتصادي	الاستدامة الاقتصادية
السياحة – ريادة الأعمال – التجارة الإلكترونية	استدامة القطاعات الاستثمارية
قوى عاملة مؤهلة	الاستدامة الاجتماعية
الأمن المائي والغذائي – تنويع مصادر الطاقة	الاستدامة البيئية

➤ ما رؤية الكويت ٢٠٣٥؟

✓ تحويل الكويت إلى مركز مالي وتجاري عالمي جاذب للاستثمار

➤ " إن ثروة الكويت الحقيقية في أبنائها، وهي ثروة لا تعادلها أية ثروة. فهم عماد المستقبل وأمل الوطن وعلى سواعدهم تبنى الإنجازات وتحقق الطموحات".

- من القائل؟

✓ الشيخ صباح الأحمد الصباح – رحمه الله

- ما توقعك لمستقبل الكويت بعد تحقيق رؤية الكويت عام ٢٠٢٥م؟

✓ عملت الكويت على الموازنة بين رؤية ٢٠٣٥ وأهداف التنمية المستدامة والمتمثلة في سبع ركائز واسعة؛ لتكون خطة التنمية الوطنية.

- لاحظ الخريطة السابقة ثم استعن بالأرقام التي عليها لإكمال العبارات التالية:

- مقر مجلس التعاون الخليجي يحمل الرقم (١).
- الدولة التي ينتهي عندها مشروع سكة الحديد الخليجي تحمل الرقم (٣).
- الدولة التي يوجد فيها عاصمة السياحة الخليجية لعام ٢٠٢٥م تحمل الرقم (٢).
- الدولة التي يوجد فيها عاصمة الثقافة والإعلام العربي تحمل الرقم (٤).

صفوة معلم الكويت