



الاجتماعيات

الكورس الثاني ✦ 2025 – 2026

8

صفوة
UULA.COM



الاجتماعيات

الكورس الثاني ✦ 2025 – 2026

8

صفوة معلمي الكيمياء
UULA.COM

حقق هدفك الدراسي

ريح بالك وارفع مستوى دراستك مع المذكرة الشاملة والفيديوهات التي تشرحها والاختبارات التي تدربك في منصة علا



**نخبة المعلمين يجابونك
بأسرع وقت**

ما فهمت؟ تواصل مع أقوى
المعلمين واحصل على شرح
لسؤالك

**دروس يشرحها أقوى
معلمي الكويت**

فيديوهات مبسطة قصيرة تشرح
لك كل شيء خطوة بخطوة

**تفوق في القصير والفايل
مع نماذج اختبارات سابقة**

نماذج اختبارات سابقة مشروعة
بالكامل تجهزك لاختبارك



اكتشف عالم التفوق مع منصة علا

لتشارك بالمادة وتستمتع بالشرح المميز صور
أو اضغط على رمز QR

المعلق



هذه المذكرة تغطي المادة كاملة.

في حال وجود أي تغيير للمنهج أو تعليق جزء منه يمكنكم مسح رمز QR للتأكد من المقرر.



المنقذ



أول ما تحتاج مساعدة بالمادة ، المنقذ موجودا!

صور ال QR بكاميرا التلفون أو اضغط عليه إذا كنت تستخدم المذكرة من جهازك و يطلع لك فيديو يشرح لك.



التحديات البيئية التي تواجه دول العالم الإسلامي

1	التلوث البيئي (المفهوم - المصادر - الأنواع)
2	التلوث الهوائي
4	التلوث المائي
7	تلوث التربة
8	التلوث الضوضائي
10	أ- الاحتباس الحراري ب - النفايات ج- التدوير



التلوث البيئي (المفهوم - المصادر - الأنواع)

علل لما يلي:

- سعى دول العالم الإسلامي لاستثمار الموارد الطبيعية المختلفة
- التهوض الاقتصادي
- تحقيق الاكتفاء الذاتي
- سد احتياجاتها المختلفة

- استثمار الموارد الطبيعية المختلفة يحتاج إلى طاقة تشغيلية متمثلة بالأنشطة الاقتصادية
- ليقوم الإنسان بتحويل الموارد الطبيعية إلى موارد اقتصادية للاستفادة منها

عرف - التلوث البيئي

أي تغيير غير مرغوب به في الخواص الطبيعية أو الكيميائية أو البيولوجية للبيئة المحيطة مثل (الهواء - الماء - التربة) والذي قد يتسبب في الإضرار ب حياة الإنسان والكائنات الحية الأخرى

علل - التلوث البيئي خطر يهدد حياة الإنسان والبيئة من حوله

لأن له تأثير سلبي مباشر على صحة الإنسان وعلى النبات والحيوان والهواء والماء والتربة

عدد - مصادر التلوث البيئي

- مصادر بيئية طبيعية
- مصادر بيئية بشرية

فرق بين كل من:

☆ ممكن أن يأتي السؤال بصيغ أخرى: عدد مصادر التلوث البيئي الطبيعية والبشرية - ارسم مخطط سهمي

مصادر التلوث البيئي الطبيعية	مصادر التلوث البيئي البشرية
<ul style="list-style-type: none"> البراكين العواصف الرملية الحرائق الطبيعية 	<ul style="list-style-type: none"> النفايات الصناعية الأسمدة المبيدات الانفجارات النووية احتراق وقود المصانع ووسائل النقل الحرائق البشرية

صنف المصادر التالية حسب مكانها الصحيح:

(الاستخدام المفرط للأسمدة - البراكين - الانفجارات النووية - العواصف الرملية)

مصادر بيئية طبيعية	مصادر بيئية بشرية
<ul style="list-style-type: none"> البراكين العواصف الرملية 	<ul style="list-style-type: none"> الاستخدام المفرط للأسمدة الانفجارات النووية

اختر الإجابة الصحيحة:

يعتبر مصدرًا من مصادر التلوث البيئية البشرية :

- العواصف
- البراكين
- الحرائق الطبيعية
- المبيدات الحشرية

عدد - أنواع التلوث البيئي

التلوث الضوضائي

تلوث التربة

التلوث المائي

التلوث الهوائي

التحديات البيئية التي تواجه دول العالم الإسلامي

التلوث الهوائي



اكتب اسم نوع التلوث الذي تمثله الصورة المقابلة التلوث الهوائي

علل لما يلي:

يمثل تلوث الهواء تهديداً كبيراً للبيئة

لأنه يؤثر مباشرة في نقاء الأوكسجين الضروري لاستمرار الحياة على الأرض

أهمية نقاء الأوكسجين في الهواء

لأنه مهم لاستمرار الحياة على الأرض

عرف - التلوث الهوائي

هو حدوث تغير في مكونات الهواء الطبيعي بوجود مواد أو جسيمات أو غازات غريبة تؤدي إلى الإضرار بصحة الإنسان والكائنات الحية أو تسبب اختلالاً في التوازن البيئي

عدد لكل مما يلي:

أسباب التلوث الهوائي

- وسائل النقل
- المبيدات الحشرية

- حرق النفايات
- غازات المصانع ومحطات الكهرباء

عدد - آثار التلوث الهوائي

تدمير النباتات

أمراض الجهاز التنفسي والعصبي

التأثير على الدماغ

تغير المناخ

اختر العبارة التي لا تنتمي إلى أسباب التلوث الهوائي

الإسراف في استخدام المبيد الحشري

حوادث ناقلات النفط

دخان عوادم السيارات

حرق الغابات

❏ اختر العبارة التي لا تنتمي إلى آثار التلوث الهوائي

- تغير المناخ
- التأثير على الدماغ
- أمراض الجهاز التنفسي والعصبي
- موت الكائنات البحرية

❏ عدد - نماذج من الدول الإسلامية التي تعاني من التلوث الهوائي



▪ ماليزيا



▪ جمهورية بنغلاديش



▪ دولة الكويت

❏ علل - تعرض دولة الكويت لكارثة بيئية خطيرة

- بسبب غزو النظام العراقي البائد
- احتراق آبار النفط الكويتية لمدة 8 شهور

❏ عدد - النتائج المترتبة على احتراق آبار النفط الكويتية عام 1991م

- تشكلت سحابة دخانية كثيفة
- تساقط أمطار حمضية خلقت آثار بيئية جسيمة

صوب ما تحته خط:

❏ استمر احتراق آبار النفط الكويتية خلال فترة حرب التحرير عام 1991م لمدة عشرة أشهر (ثمانية أشهر)

اكتب مدلول الصور التالية:



احتراق آبار النفط الكويتية عام 1991م



فريق إطفاء الحرائق الكويتي

أكمل العبارات التالية:

❏ الدولة التي تجاوز فيها التلوث الهوائي الحد الآمن بخمسة أضعاف من النسبة المسموح فيها عالمياً تسمى بنغلاديش

❏ الدولة التي تعتبر من أكثر دول العالم تلوثاً بالهواء تسمى بنغلاديش

❏ علل - تعتبر بنغلاديش من أكثر الدول تلوثاً بالهواء في العالم
لأن التلوث تجاوز فيها الحد الآمن بخمسة أضعاف من النسبة المسموح فيها عالمياً

❏ أكمل : الدولة الإسلامية التي يمثل التلوث الهوائي فيها خطراً على الشعب نظراً للتلوث الضبابي أو الدخاني تسمى ماليزيا

اختر للمجموعة (أ) ما يرتبط بها من المجموعة (ب) بوضع الرقم المناسب:

م	المجموعة (أ)	الرقم المناسب	المجموعة (ب)
1	دولة تعرضت للتلوث الدخاني أو الضبابي	3	الكويت
2	أكثر دول العالم تلوثاً بالهواء	1	ماليزيا
3	دولة تعرضت لتساقط الأمطار الحمضية	2	بنغلاديش

التحديات البيئية التي تواجه دول العالم الإسلامي

التلوث المائي

❏ أكمل : المادة الضرورية لبقاء الحياة على سطح الأرض تسمى الماء

❏ علل - الماء هو المادة الضرورية لبقاء الحياة على سطح الأرض
لأن أي خلل في الماء سيؤدي إلى تدهور واختلال بقية نظام الحياة والنظام البيئي

❏ عرف - التلوث المائي
هو حدوث تغير في الصفات الفيزيائية أو الكيميائية أو البيولوجية للمياه (الأنهار ، البحار ، المحيطات ، البحيرات ، المياه الجوفية) بحيث تصبح غير صالحة للاستعمال الطبيعي للإنسان والكائنات الحية

عدد لكل مما يلي:

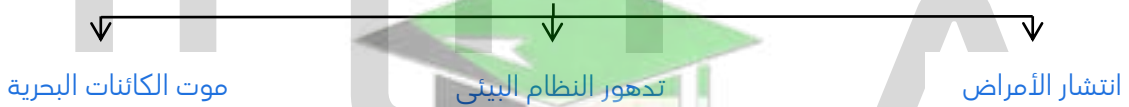
❏ أسباب التلوث المائي

☆ ممكن أن يأتي السؤال بصيغة أخرى: **أكمل المخطط السهمي**

- تسرب النفط
- تصريف مياه الصرف الصحي
- النفايات الصلبة ومخلفات المصانع

❏ آثار التلوث المائي

☆ ممكن أن يأتي السؤال بصيغة أخرى: **أكمل المخطط السهمي**



❏ عدد - نماذج من الدول الإسلامية التي تعاني من التلوث الهوائي



▪ جمهورية موريتانيا



▪ دولة الكويت

اختر الإجابة الصحيحة:

❏ الدولة التي عانت من التلوث المائي عام 1991م يمثلها العلم الذي يحمل الحرف



●



○



○



○

٥ العام الميلادي الذي قام فيه النظام العراقي البائد بشكل متعمد بسكب كميات كبيرة من النفط الكويتي في مياه الخليج العربي

○ 1993 م

○ 1992 م

○ 1991 م

○ 1990 م

عدد لكل مما يلي:

٥ أهم الحوادث البيئية التي حدثت في المياه الإقليمية لدولة الكويت

- سكب كميات كبيرة من النفط الكويتي في مياه الخليج العربي
- ضخ مياه الصرف الصحي في جون الكويت

٥ النتائج المترتبة على قيام النظام العراقي بسكب كميات كبيرة من النفط الكويتي في مياه الخليج العربي
تكون بقعة نفطية كبيرة أثرت في مياه دولة الكويت

٥ علل - نفوق أعداد كبيرة من الأسماك في جون الكويت

بسبب ضخ مياه الصرف الصحي في جون الكويت

اختر الإجابة الصحيحة:

٥ الدولة التي عانت من التلوث المائي عام 2017م يمثلها العلم الذي يحمل الحرف



○



○



○



●

علل لما يلي:

٥ معاناة موريتانيا في عام 2017 م من شدة في التلوث المائي

بسبب تسرب كميات كبيرة من بقع زيت البواخر

٥ نفوق كم هائل من الأسماك في موريتانيا عام 2017م

بسبب تسرب كميات كبيرة من بقع الزيت من البواخر

أكمل العبارات التالية:

الكويت

٥ دولة خليجية عربية إسلامية تعرضت للتلوث المائي عام 1991م تسمى

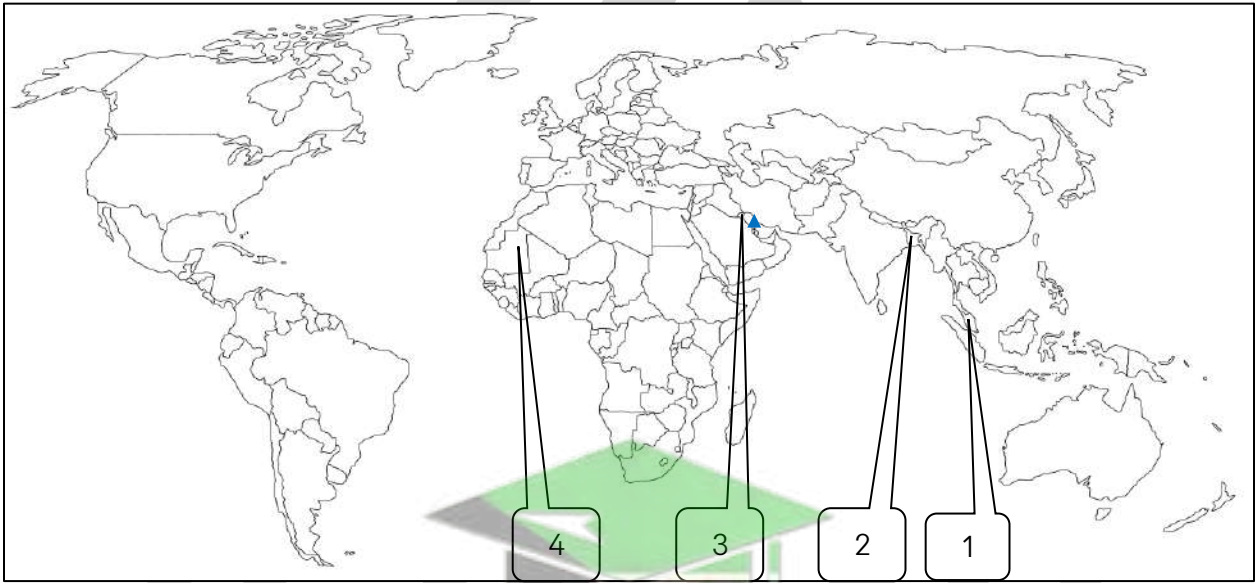
موريتانيا

٥ الدولة الإسلامية التي تعرضت للتلوث المائي نتيجة تسرب كميات كبيرة من بقع زيت البواخر تسمى

صفوة معلم الكويت

وجه المقارنة	التلوث الهوائي	التلوث المائي
المفهوم	هو حدوث تغير في مكونات الهواء الطبيعي بوجود مواد أو جسيمات أو غازات غريبة تؤدي إلى الإضرار بصحة الإنسان والكائنات الحية أو تسبب اختلالاً في التوازن البيئي	هو حدوث تغير في الصفات الفيزيائية أو الكيميائية أو البيولوجية للمياه (الأنهار ، البحار ، المحيطات ، البحيرات ، المياه الجوفية) بحيث تصبح غير صالحة للاستعمال الطبيعي للإنسان والكائنات الحية
نماذج من الدول	الكويت - بنغلاديش - ماليزيا	الكويت - موريتانيا
الأسباب	<ul style="list-style-type: none"> وسائل النقل المبيدات الحشرية حرق النفايات غازات المصانع ومحطات الكهرباء 	<ul style="list-style-type: none"> تسرب النفط تصريف مياه الصرف الصحي النفايات الصلبة ومخلفات المصانع
الآثار والنتائج	<ul style="list-style-type: none"> تغير المناخ التأثير على الدماغ أمراض الجهاز التنفسي والعصبي تدمير النباتات 	<ul style="list-style-type: none"> انتشار الأمراض تدهور النظام البيئي موت الكائنات الحية

لاحظ خريطة العالم ثم نفذ المطلوب منك:



- الدولة الإسلامية التي تعرضت لنوعين من التلوث الهوائي والمائي عام 1991م يمثلها الرقم **4**
- الدولة الإسلامية التي عانت من التلوث المائي بسبب تسرب كميات كبيرة من بقع زيت البواخر يمثلها الرقم **3**
- الدولة الإسلامية التي عرف فيها التلوث الهوائي بالدخاني أو الضبابي يمثلها الرقم **2**
- أكثر دول العالم تلوثاً للهواء يمثلها الرقم **1**
- حدد على الخريطة بالرمز ▲ المسطح المائي الذي تم فيه سكب كميات كبيرة من النفط الكويتي

صفوة معلم الكويت

تلوث التربة

❏ أكمل : عنصر أساسي من عناصر البيئة الطبيعية تسمى التربة

❏ علل - تعد التربة عنصراً أساسياً ومهماً من عناصر البيئة الطبيعية

لأنها المنبع الأول لإنتاج الغذاء

❏ علل - تواجه دول العالم الإسلامي تحدي بيئي متمثل في تلوث التربة

- تغير خصائصها
- فقد قدرتها الإنتاجية
- ينعكس على استقرار النظم البيئية والحياة المرتبطة بها

❏ عرف - تلوث التربة

هو دخول مواد غريبة في التربة أو زيادة تركيز في إحدى مكوناتها الطبيعية وبالتالي تتغير صفاتها وخواصها الطبيعية

❏ أكمل : نوع التلوث الذي تمثله الصورة المقابلة تلوث التربة



❏ علل - تعرض دولة الكويت لتلوث التربة عام 1991م

- حرق آبار النفط الكويتية من قبل قوات النظام العراقي البائد أثناء حرب التحرير
- خلفت الكثير من المآسي وأوجه الدمار التي تأثرت بها التربة والبيئة الطبيعية في دولة الكويت

❏ أكتب مدلول الصورة المقابلة

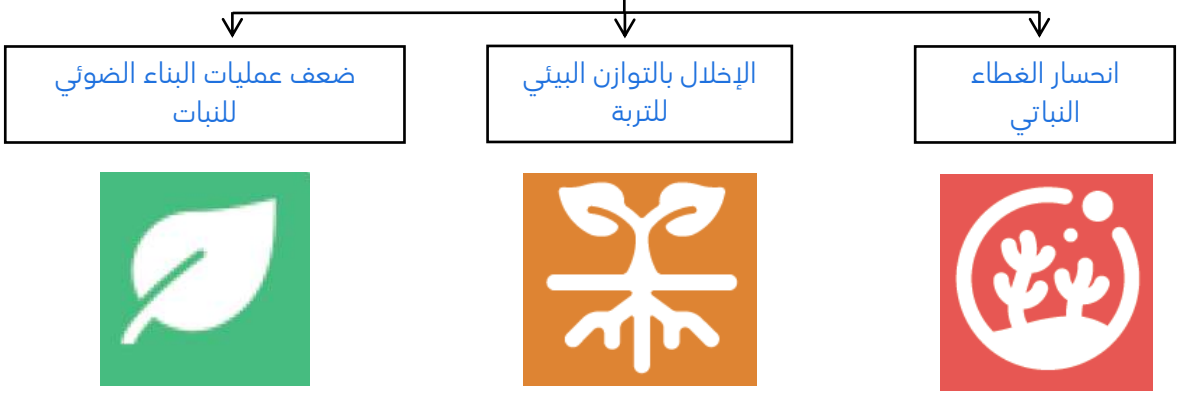
حرائق آبار النفط الكويتية عام 1991م



أكمل المخطط السهمي التالي

❏ عدد - أسباب تلوث التربة





صوب ما تحته خط:

الأمطار الحمضية أحد أسباب تلوث إلحاء (التربة)

التحديات البيئية التي تواجه دول العالم الإسلامي

التلوث الضوضائي

أكمل العبارات التالية:

- نوع من أنواع التلوث البيئي يتمثل في الانزعاج والضجيج يسمى التلوث الضوضائي
- مدينة إسلامية تعد نموذجاً للتلوث الضوضائي تسمى القاهرة
- دولة إسلامية تعتبر عاصمتها نموذجاً للتلوث الضوضائي تسمى مصر

علل - تعد القاهرة نموذج للتلوث الضوضائي في دول العالم الإسلامي بسبب الازدحام المروري الناتج عن كثرة أعداد السيارات مما يرفع مستويات الضوضاء فيها

عرف - التلوث الضوضائي

هو الأصوات التي زادت حدتها وشدتها وخرجت عن المألوف من الأصوات الطبيعية

عدد لكل مما يلي

أسباب التلوث الضوضائي

- وسائل النقل بكافة أنواعها
- عمليات البناء والهدم وأصوات آلات الحفر

آثار التلوث الضوضائي

- التوتر العصبي
- ضرر في الجهاز السمعي

صوب ما تحته خط:

التوتر العصبي هو من آثار التلوث الهوائي (الضوضائي)

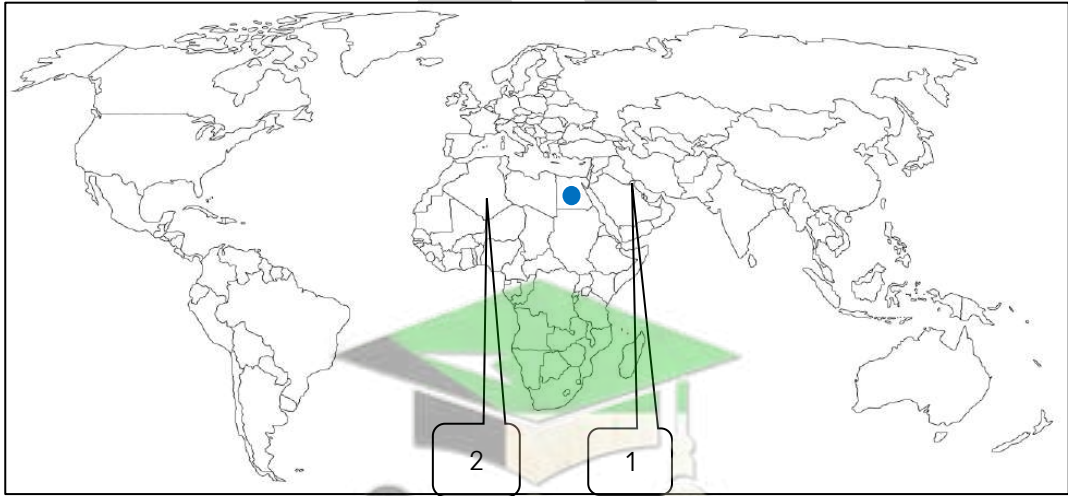


وجه المقارنة	تلوث التربة	التلوث الضوضائي
المفهوم	هو دخول مواد غريبة في التربة أو زيادة تركيز في إحدى مكوناتها الطبيعية وبالتالي تتغير صفاتها وخواصها الطبيعية	هو الأصوات التي زادت حدتها وشدتها وخرجت عن المألوف من الأصوات الطبيعية
مثال	الكويت	مصر
الأسباب	<ul style="list-style-type: none"> النفايات الصناعية والكيماوية والبشرية الأمطار الحمضية الاستخدام المفرط للمبيدات الحشرية 	<ul style="list-style-type: none"> وسائل النقل بكافة أنواعها عمليات البناء والهدم وأصوات آلات الحفر
الآثار	<ul style="list-style-type: none"> انحسار الغطاء النباتي الإخلال بالتوازن البيئي للتربة ضعف عمليات البناء الضوئي للنبات 	<ul style="list-style-type: none"> التوتر العصبي ضرر في الجهاز السمعي

❖ صنف كل من الكلمات التالية حسب ما يناسبها في الجدول التالي (الضجيج - تسرب النفط - وسائل النقل - المخلفات الصناعية)

التلوث الهوائي	التلوث المائي	التلوث الضوضائي	تلوث التربة
وسائل النقل	تسرب النفط	الضجيج	المخلفات الصناعية

لاحظ خريطة العالم ثم نفذ المطلوب منك:



- ❖ حدد بالرمز ● الدولة التي تعد عاصمتها نموذجاً للتلوث الضوضائي
- ❖ الدولة الإسلامية التي تعرضت تربتها للتلوث بسبب حرائق النفط عام 1991م يمثلها الرقم 1

أ- الاحتباس الحراري ب - النفايات ج- التدوير



الاحتباس الحراري

أكتب مدلول الصورة المقابلة

ظاهرة الاحتباس الحراري

عرف - الاحتباس الحراري

ارتفاع درجة حرارة الأرض عن معدلها الطبيعي

دلل - ظاهرة الاحتباس الحراري هي نتيجة مباشرة لتزايد الأنشطة البشرية في البيئة أدت هذه الأنشطة إلى ارتفاع تركيز الغازات الدفيئة في الغلاف الجوي مما أدى إلى احتباس الحرارة في طبقة الغلاف الجوي القريبة من سطح الأرض

علل - ارتفاع تركيز الغازات الدفيئة في الغلاف الجوي

بسبب تزايد الأنشطة البشرية

عدد - أسباب الاحتباس الحراري

☆ ممكن أن يأتي السؤال بصيغة أخرى: **علل حدوث ظاهرة الاحتباس الحراري**

■ ثاني أكسيد الكربون المسبب الأكبر للاحتباس الحراري ■ غاز الميثان

أختر : المسبب الأكبر لظاهرة الاحتباس الحراري هو غاز :

○ الهيدروجين ○ النيتروجين ○ الأكسجين ○ ثاني أكسيد الكربون

أكمل العبارات التالية:

الغاز الذي يؤدي زيادته المستمرة إلى ظاهرة الاحتباس الحراري هو غاز ثاني أكسيد الكربون

الغاز المسبب لظاهرة الاحتباس الحراري مع غاز ثاني أكسيد الكربون اسمه غاز الميثان

تبلغ نسبة غاز ثاني أكسيد الكربون من الغازات المسببة لظاهرة الاحتباس الحراري 55%

حول نسبة غاز ثاني أكسيد الكربون من الغازات المسببة لظاهرة الاحتباس الحراري إلى دائرة بيانية



عدد لكل مما يلي

نتائج الاحتباس الحراري

- التغير المناخي
- ذوبان الجليد في القطبين الشمالي والجنوبي
- غرق مناطق عديدة من العالم

❏ النتائج المترتبة على التغير المناخي الناتج عن الاحتباس الحراري

- ذوبان الجليد في القطبين الشمالي والجنوبي
- غرق مناطق عديدة من العالم



❏ اكتب مدلول الظاهرة في الصورة القابلة

إعصار جونو أو غونو عام 2007م

❏ علل حدوث هذه الظاهرة

بسبب ظاهرة الاحتباس الحراري

❏ ما النتيجة المترتبة على هذه الظاهرة

الإعصار ضرب سواحل سلطنة عُمان الشرقية باتجاه سواحل الإمارات الشرقية وسواحل إيران الجنوبية الشرقية

❏ اكمل : الإعصار الذي ضرب سواحل عُمان الشرقية عام 2007م يسمى إعصار _____ **جونو أو غونو**



النفائات :

❏ أكمل الصورة المقابلة تمثل تحدي بيئي يواجه دول العالم الإسلامي يسمى **النفائات**

❏ عرف - النفائات

هي المواد أو الأشياء التي لم تعد صالحة للاستعمال أو لا يحتاجها الإنسان فيتخلص منها

❏ علل - ازدياد كمية النفائات في المجتمعات

☆ ممكن أن يأتي السؤال بصيغة أخرى: **علل تُعد النفائات من أبرز التحديات التي تواجه المجتمعات**

▪ السلوك الاستهلاكي لدى الإنسان

▪ زيادة عدد السكان

▪ التقدم الصناعي

❏ عدد - النتائج المترتبة على سوء إدارة النفائات وعدم اتباع الأساليب الصحية للتخلص منها

- تراكم النفائات في المناطق السكنية
- تشكل خطراً على الإنسان ويؤثر سلباً على البيئة

التدوير



❏ ماذا يمثل الشعار المقابل ؟

تدوير النفايات

❏ عرف التدوير

★ ممكن أن يأتي السؤال بصيغة أخرى: **أكمل**

إعادة استخدام المخلفات لإنتاج منتجات أخرى أقل جودة من المنتج الأصلي

❏ أين تجد هذا الشعار ؟

المنتجات الورقية والبلاستيكية وغيرها في المنزل أو الأسواق

❏ علل - الحفاظ على البيئة يعد أحد أهم متطلبات العصر

لأن ممارسات الإنسان السلبية تجاه بيئته ومواردها انعكس على سلامتها ونظافتها

❏ عدد - الخطوات التي يجب اتباعها للحفاظ على البيئة

- وضع النفايات في الأماكن المخصصة لها
- تدويرها حسب نوعها

❏ دلل - حرص الشعب الكويتي على نظافة بيئته أثناء فترة غزو النظام العراقي البائد على دولة الكويت

- توقف عمال النظافة عن العمل لعدة أشهر
- قام الشعب الكويتي الأصيل بأنواع عدة من العمل التطوعي مثل تنظيف الشوارع وجمع النفايات

❏ أكمل الناقص في الجدول :

السبب	النتيجة
الاحتباس الحراري	ضرب إعصار جونو لسواحل سلطنة عُمان الشرقية
سرعة التقدم الصناعي والسلوك الاستهلاكي للإنسان	زيادة النفايات

صفوة معلمي الكويت