



# الاجتماعيات

UULA.COM

الكورس الثاني  
2026 – 2025

7



# الاجتماعيات

UULA.COM

الكورس الثاني  
2026 – 2025

7

# حقق هدفك الدراسي

ريح بالك وارفع مستوى دراستك مع المذكرة الشاملة والفيديوهات التي تشرحها والاختبارات التي تدربك في منصة علا



**نخبة المعلمين يجابونك  
بأسرع وقت**

ما فهمت؟ تواصل مع أقوى  
المعلمين واحصل على شرح  
لسؤالك

**دروس يشرحها أقوى  
معلمي الكويت**

فيديوهات مبسطة قصيرة تشرح  
لك كل شيء خطوة بخطوة

**تفوق في القصير والفايل  
مع نماذج اختبارات سابقة**

نماذج اختبارات سابقة مشروعة  
بالكامل تجهزك لاختبارك



**اكتشف عالم التفوق مع منصة علا**

لتشارك بالمادة وتستمتع بالشرح المميز صور  
أو اضغط على رمز QR

# المعلق



هذه المذكرة تغطي المادة كاملة.

في حال وجود أي تغيير للمنهج أو تعليق جزء منه يمكنكم مسح رمز QR للتأكد من المقرر.



# المنقذ



أول ما تحتاج مساعدة بالمادة ، المنقذ موجودا!

صور ال QR بكاميرا التلفون أو اضغط عليه إذا كنت تستخدم المذكرة من جهازك و يطلع لك فيديو يشرح لك.



# قائمة المحتوى

01

## السكان في دولة الكويت والوطن العربي

- 1 السكان في الوطن العربي
- 3 النمو والتركيب السكانية في الوطن العربي
- 6 توزيع وكثافة السكانية في الوطن العربي
- 10 نمط وحياة السكان في الوطن العربي



صفوة معلمي الكويت

# السكان في الوطن العربي

## السكان في الوطن العربي

❶ عدد - العناصر الطبيعية التي قامت عليها الحياة

الماء والهواء والتربة والمناخ والنبات

❷ دلل على صحة العبارة (العناصر الطبيعية وحدها لا تبني المجتمع)

الإنسان هو العنصر الأهم في نشأة المجتمعات

❸ علل الانسان هو العنصر الأهم في نشأة المجتمعات

- الانسان كائن اجتماعي بطبعه، يعيش ويتفاعل مع مجموعة من الأفراد
- الأفراد يمثلون حجر الأساس في بناء الأوطان وازدهارها

❹ عرف - السكان

مجموعة من الأفراد الذين يعيشون في إقليم جغرافي محدد ويرتبطون بعلاقات عرقية واجتماعية واقتصادية فيما بينهم

❺ قال تعالى ﴿هُوَ أَنشَأَكُم مِّنَ الْأَرْضِ وَاسْتَعْمَرَكُمْ فِيهَا﴾  
إلى ماذا تدعو الآية الكريمة السابقة

الإنسان مكلف من الله سبحانه وتعالى بتعمير الأرض  
وبناء المجتمعات فيها



الفرد

❻ أكمل - ثروة وطنية يجب إعدادها للنهوض بالمجتمع تسمى

## الأصول السكانية في الوطن العربي

صوب ما تحته خطأ :

( متعدد )

❷ ينتمي سكان الوطن العربي الى أصول بشرية موحدة

❸ عدد العوامل التي ساعدت على تشكل سكان الوطن العربي في نسيج واحد

- الدين
- اللغة
- الثقافة

صفوة معلم الكويت



❗ أكمل المخطط السهمي التالي :

★ ممكن أن يأتي السؤال بصيغة أخرى: عدد - الأصول السكانية التي يرجع إليها سكان الوطن العربي

### الأصول السكانية لسكان الوطن العربي



## أهمية السكان في الوطن العربي

❗ دلل على صحة العبارة

"رغم تنوع أصول السكان في الوطن العربي واختلاف أعراقهم وثقافتهم، إلا أنهم يشكلون مجتمعاً واحداً متعاوناً"

برز دورهم في مختلف المجالات التي تسهم في تحقيق نهضة الأمة العربية وتعزيز وحدتها

❗ أكمل المخطط السهمي التالي:

★ ممكن أن يأتي السؤال بصيغة أخرى: عدد

### أهمية السكان في الوطن العربي



عدد لكل مما يلي :

★ ممكن أن يأتي السؤال بصيغة أخرى: علل

❗ الأهمية السياسية لسكان الوطن العربي:

- يمنح الدولة نفوذ سياسي قوي
- الدفاع عن الوطن ضد الأخطار

❗ الأهمية الاقتصادية لسكان الوطن العربي :

- قوة إنتاجية واستهلاكية.
- محرك للتنمية الاقتصادية.

❗ الأهمية الاجتماعية لسكان الوطن العربي :

- تشكيل هوية المجتمع بقيمه وثقافته وعاداته
- المساهمة في بناء المؤسسات والخدمات المجتمعية.

❗ الأهمية العلمية والثقافية لسكان الوطن العربي :

- مصدر الابتكار والاختراعات والبحث العلمي
- تعزيز الوحدة الثقافية العربية والحفاظ عليها



الأهمية السياسية لسكان الوطن العربي	الأهمية الاجتماعية لسكان الوطن العربي
<ul style="list-style-type: none"> <li>■ يمنح الدولة نفوذ سياسي قوي</li> <li>■ الدفاع عن الوطن ضد الأخطار</li> </ul>	<ul style="list-style-type: none"> <li>■ تشكيل هوية المجتمع بقيمه وثقافته وعاداته</li> <li>■ المساهمة في بناء المؤسسات والخدمات المجتمعية.</li> </ul>

### اختر الإجابة الصحيحة:

❏ الدفاع عن الوطن ضد الأخطار ومنح الدولة النفوذ السياسي ضمن الأهمية:

- السياسية ○ الاقتصادية ○ الاجتماعية ○ العلمية والثقافية

❏ قوة الإنتاج والاستهلاك ومحرك التنمية ضمن الأهمية:

- السياسية ○ الاقتصادية ○ الاجتماعية ○ العلمية والثقافية

❏ تشكيل هوية المجتمع وبناء المؤسسات ضمن الأهمية:

- السياسية ○ الاقتصادية ○ الاجتماعية ○ العلمية والثقافية

❏ تعزيز الوحدة الثقافية العربية ومصدر الابتكار والبحث العلمي ضمن الأهمية:

- السياسية ○ الاقتصادية ○ الاجتماعية ○ العلمية والثقافية

السكان في دولة الكويت والوطن العربي

## النمو والتركيبة السكانية في الوطن العربي

### النمو السكاني في الوطن العربي

❏ علل - اهتمام العلماء والمخططين في دراسة النمو السكاني

- معرفة التغير في أعداد السكان وأثره على الحياة اليومية
- المساعدة في وضع الخطط المناسبة لتوفير الموارد والخدمات
- كل رقم سكاني يمثل إنساناً يسهم بدوره في بناء الوطن وتقدمه

❏ عرف النمو السكاني

التغير في عدد السكان بالزيادة أو النقصان خلال فترة زمنية معينة

❏ عدد - عوامل النمو السكاني

- الزيادة الطبيعية
- الزيادة غير الطبيعية

علل لما يلي:

❏ زيادة عدد السكان في الوطن العربي

- نتيجة الزيادة الطبيعية





❏ حدوث الزيادة الطبيعية في عدد سكان الوطن العربي

- تحسن الرعاية الصحية
- زيادة مستوى الدخل

❏ حدوث الزيادة غير الطبيعية في عدد سكان الوطن العربي

- البحث عن فرص العمل
- الهروب من النزاعات

❏ صنف في الجدول التالي السبب والنتيجة لعوامل النمو السكاني

البحث عن فرص العمل - زيادة مستوى الدخل - الهروب من النزاعات - الزيادة الطبيعية - تحسن الرعاية الصحية - الزيادة غير الطبيعية

السبب	<ul style="list-style-type: none"> <li>▪ زيادة مستوى الدخل</li> <li>▪ تحسن الرعاية الصحية</li> </ul>	<ul style="list-style-type: none"> <li>▪ البحث عن فرص العمل</li> <li>▪ الهروب من النزاعات</li> </ul>
النتيجة	<ul style="list-style-type: none"> <li>▪ الزيادة الطبيعية</li> </ul>	<ul style="list-style-type: none"> <li>▪ الزيادة غير الطبيعية</li> </ul>

## التركيبة السكانية في الوطن العربي

❏ علل - أهمية التعرف على التركيبة السكانية لمجتمع ما

- لأنها مؤشر يعكس خصائص السكان
- تساعد في التعرف على أقسام التركيبة السكانية ( التركيب النوعي - التركيب العمري )

❏ اكمل المخطط السهمي التالي :

### أقسام التركيبة السكانية



### أكمل العبارات التالية:

❏ الصورة المقابلة تمثل أحد أقسام التركيبة السكانية يسمى التركيب النوعي.

❏ عدد فئات التركيب العمري للسكان ثلاث فئات.

❏ فئة من فئات التركيب العمري بالتخطيط الصحيح تتحول لقوة دفع لعجلة التنمية تسمى فئة الشباب.

❏ الصورة المقابلة تمثل أحد أقسام التركيبة السكانية يسمى التركيب العمري.



## أختر الإجابة الصحيحة:

التركيب العمري لفئة الأطفال :

- صفر - 14 65-14 ○ 65 فأكثر ○ جميع ما سبق


التركيب العمري لفئة الشباب :

- صفر - 14 65-14 ○ 65 فأكثر ○ جميع ما سبق

التركيب العمري لفئة كبار السن :

- صفر - 14 65-14 ○ 65 فأكثر ○ جميع ما سبق

## ادرس الهرم السكاني لبعض دول الوطن العربي ( عام 2025 ) ثم نفذ المطلوب منك



أعلى الدول العربية في عدد الذكور مصر

أقل الدول العربية في عدد الذكور البحرين

أعلى الدول العربية في عدد الإناث مصر

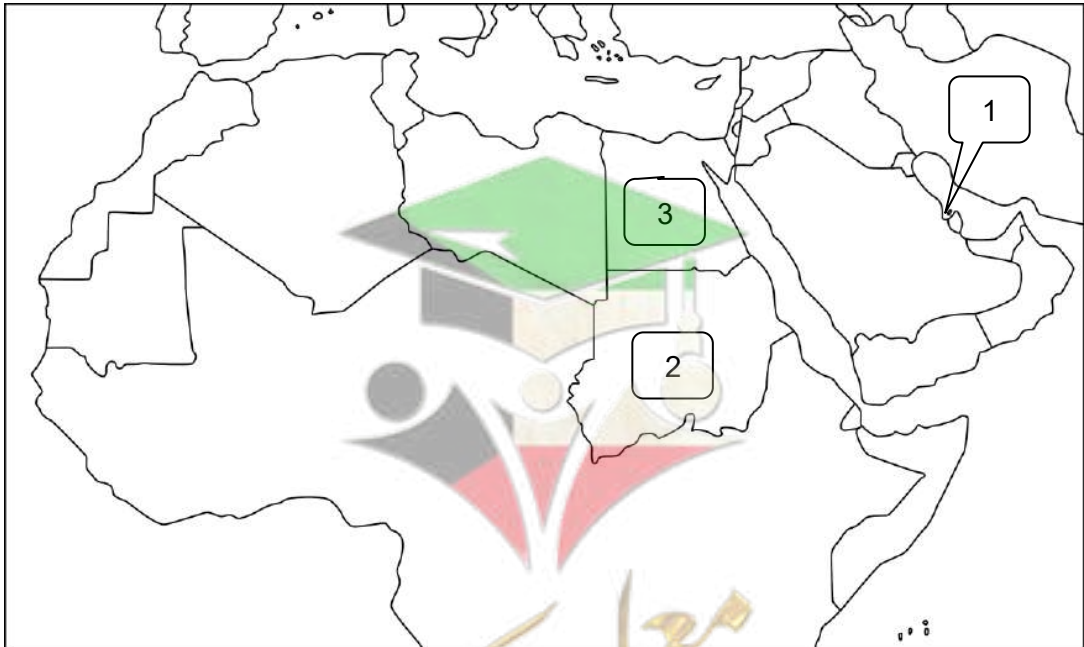
أقل الدول العربية في عدد الإناث البحرين

دولة عربية يزيد فيها عدد الإناث عن عدد الذكور السودان

ما الذي يميز الذكور عن الإناث في دولة الإمارات

عدد الذكور فيها ضعف عدد الإناث تقريباً

## لاحظ خريطة الوطن العربي الصماء ثم نفذ المطلوب منك بكل دقة :



الدولة العربية الأعلى في عدد الذكور تحمل الرقم 3

الدولة العربية الأقل في عدد الإناث تحمل الرقم 1

الدولة العربية التي يزيد فيها عدد الإناث عن عدد الذكور تحمل الرقم 2

# توزيع وكثافة السكانية في الوطن العربي

## توزيع السكان في الوطن العربي

### أكمل العبارات التالية:

- الوطن العربي يمتد على مساحة شاسعة.
- عدد سكان الوطن العربي يبلغ أكثر من 450 مليون نسمة.
- ينتشر السكان في الوطن العربي في كل الأقاليم بشكل غير متساوي.

### عرف - توزيع السكان

انتشار السكان في مناطق مختلفة من سطح الأرض

### عدد العوامل المؤثرة في توزيع السكان

- العوامل الطبيعية
- العوامل البشرية

### أكمل المخطط السهمي التالي:

☆ ممكن أن يأتي السؤال بصيغة أخرى: عدد

العوامل الطبيعية المؤثرة في توزيع السكان



### عدد - العوامل البشرية المؤثرة في توزيع السكان

- توفر فرص العمل
- توفر الخدمات
- الأماكن المقدسة والتاريخية
- إنشاء مدن إسكانية جديدة

### علل لما يلي

يتوزع السكان في المناطق التي تتوفر فيها فرص العمل

بسبب النشاط الصناعي والتجاري

تركز السكان في المناطق الأماكن المقدسة والتاريخية

لأنها مناطق جذب للسكان

تثبت الحكومات مشاريع إنشاء مدن إسكانية جديدة

لتشجيع السكان على الانتقال إلى هذه المدن

اذكر مثالين على الخدمات التي تجذب السكان

المستشفيات

المدارس

صنف حسب الجدول التالي:

فرص العمل - وفرة المياه - الخدمات - المناخ الملائم  
- التضاريس - الأماكن المقدسة - خصوبة التربة - المدن الجديدة

العوامل الطبيعية المؤثرة في توزيع السكان	العوامل البشرية المؤثرة في توزيع السكان
وفرة المياه - المناخ الملائم - التضاريس - خصوبة التربة	فرص العمل - الخدمات - الأماكن المقدسة - المدن الجديدة

أختر الإجابة الصحيحة:

من العوامل الطبيعية المؤثرة في توزيع السكان

○ الأماكن المقدسة

○ التضاريس

○ توفر الخدمات

○ فرص العمل

عنصر ينتمي للعوامل البشرية المؤثرة في توزيع السكان

○ خصوبة التربة

○ المناخ الملائم

○ فرص العمل

○ وفرة المياه

استخرج حقيقتين من الخريطة المقابلة

- معظم سكان الوطن العربي يعيشون قرب السواحل والأنهار
- توزيع السكان وتركيزهم يختلف من منطقة لمنطقة أخرى



الكثافة السكانية في الوطن العربي

الكثافة السكانية = عدد السكان / المساحة كم<sup>2</sup>

عدد أقسام مناطق الوطن العربي من حيث الكثافة السكانية

- مناطق ذات كثافة سكانية عالية
- مناطق ذات كثافة سكانية منخفضة

مناطق ذات كثافة سكانية عالية

المناطق الساحلية



المناطق السهلية



مناطق ذات كثافة سكانية منخفضة

المناطق الجبلية



المناطق الصحراوية



صنف المناطق حسب الكثافة السكانية باستخدام الكلمات التالية (عالية - منخفضة)



منخفضة



عالية



عالية



منخفضة

لاحظ خريطة الوطن العربي ثم اجب على الأسئلة التالية

ماذا تمثل النقاط الحمراء ؟

كثافة السكان العالية في الوطن العربي في المناطق السهلية والمناطق الساحلية.

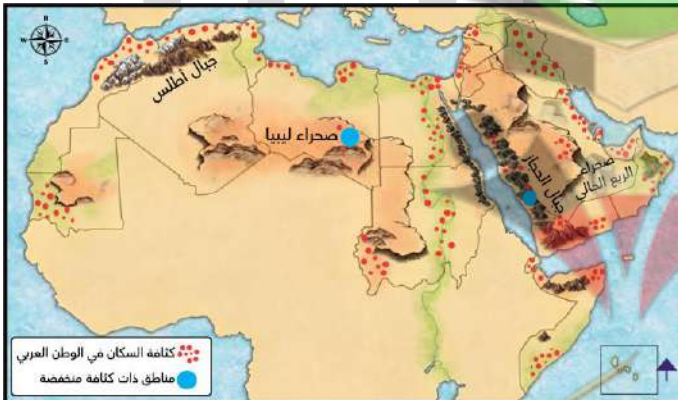
اكتب المناطق ذات كثافة سكانية منخفضة

- صحراء ليبيا
- جبال الحجاز
- جبال أطلس
- صحراء الربع الخالي

أكمل العبارات التالية:

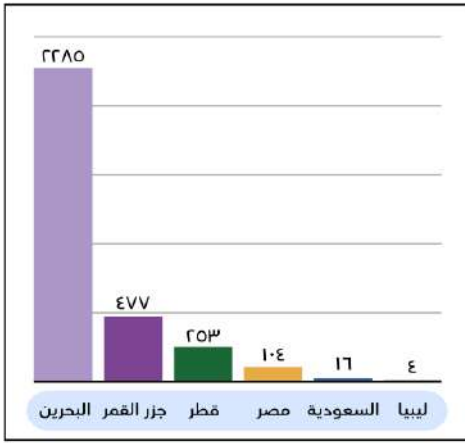
صحراء في الجناح العربي الأفريقي من المناطق ذات الكثافة السكانية المنخفضة تسمى صحراء ليبيا

جبال في الجناح العربي الآسيوي من المناطق ذات الكثافة السكانية المنخفضة تسمى جبال الحجاز





## لاحظ الرسم البياني المقابل ثم نفذ المطلوب منك :



إحصائية الكثافة السكانية في بعض الدول العربية (البنك الدولي)

أعلى الدول العربية في الكثافة السكانية تسمى **البحرين**

أقل الدول العربية في الكثافة السكانية تسمى **ليبيا**

استنتج نوع العلاقة بين (السكان والمساحة) في البحرين

علاقة عكسية كلما قلت المساحة وزاد عدد السكان و زادت الكثافة السكانية

بالاستعانة بقانون الكثافة احسب الكثافة السكانية لجيوتي :

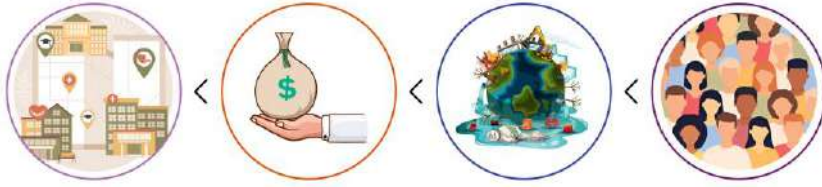
عدد السكان 1.184.076 مليون نسمة مساحة جيوتي 23.180 كم<sup>2</sup>

$$\text{الكثافة السكانية} = \frac{\text{عدد السكان}}{\text{المساحة}} = \frac{1.184.076}{23.180} = 51 \text{ نسمة/كم}^2$$

عدد - الآثار المترتبة على ارتفاع الكثافة السكانية

- ارتفاع تكاليف المعيشة
- الضغط على الخدمات

- ازدحام المدن الكبرى
- التلوث

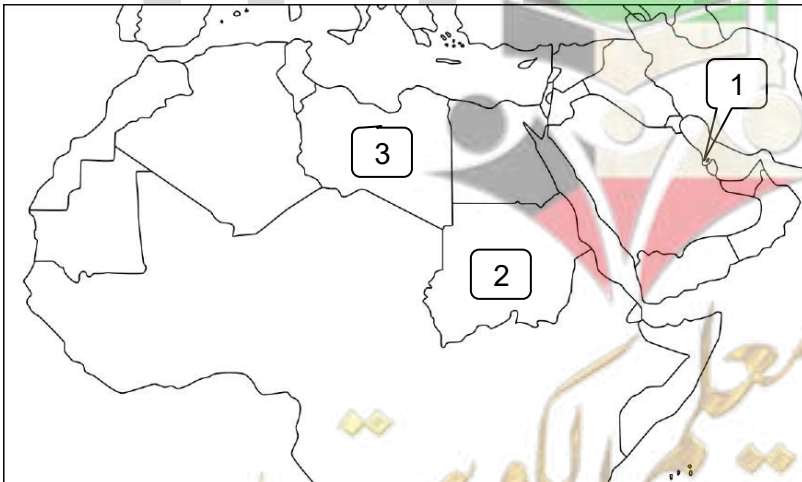


## اكتب الرابط المشترك بين العناصر التالية :

- (العوامل الطبيعية المؤثرة في توزيع السكان)
- (العوامل البشرية المؤثرة في توزيع السكان)
- (الآثار المترتبة على ارتفاع الكثافة السكانية)
- (مناطق ذات كثافة سكانية عالية)
- (مناطق ذات كثافة سكانية منخفضة)

- وفرة المياه - المناخ الملائم - التضاريس - خصوبة التربة
- توفر فرص العمل - توفر الخدمات - الأماكن المقدسة
- ازدحام المدن الكبرى - التلوث - الضغط على الخدمات
- المناطق السهلية - المناطق الساحلية
- المناطق الصحراوية - المناطق الجبلية

## لاحظ خريطة الوطن العربي الصماء ثم نفذ المطلوب منك بكل دقة :



أعلى الدول العربية في الكثافة السكانية تحمل الرقم **1**

أقل الدول العربية في الكثافة السكانية تحمل الرقم **3**



# نمط وحياة السكان في الوطن العربي

## أنماط السكان في الوطن العربي

أكمل المخططات السهمية التالية

☆ ممكن أن يأتي السؤال بصيغ أخرى: عدد - دلة - تنوع أنماط السكان في الوطن العربي

أنماط السكان في الوطن العربي

سكان المدن (الحاضرة)



سكان الريف والقرى



سكان الصحراء (البدو)



تبعاً لبيئاتهم (لاختلاف بيئاتهم)

علل - تتنوع أنماط حياة السكان

عدد - مظاهر اختلاف أنماط المعيشة لسكان الوطن العربي

العادات والتقاليد

الملبس

العمل

قارن بين كل من :

☆ ممكن أن يأتي السؤال بصيغة أخرى: عدد

سكان المدن (الحاضرة)	سكان الريف والقرى	سكان الصحراء (البدو)	وجه المقارنة
<ul style="list-style-type: none"> <li>المدن</li> <li>المناطق العمرانية</li> </ul>	<ul style="list-style-type: none"> <li>قرب الأراضي الزراعية حول مصادر المياه</li> </ul>	<ul style="list-style-type: none"> <li>الصحاري الواسعة</li> </ul>	مكان الإقامة
<ul style="list-style-type: none"> <li>الخدمات العامة</li> <li>التجارة</li> <li>الصناعة</li> </ul>	<ul style="list-style-type: none"> <li>الزراعة</li> <li>تربية الحيوانات</li> </ul>	<ul style="list-style-type: none"> <li>تربية الإبل</li> <li>تربية الأغنام</li> </ul>	الأنشطة الاقتصادية
وهران في الجزائر	البقاع في الريف اللبناني	صحراء السماوة في العراق	مثال

عدد- المجالات التي يعمل فيها سكان المدن

الصناعة

التجارة

الخدمات العامة

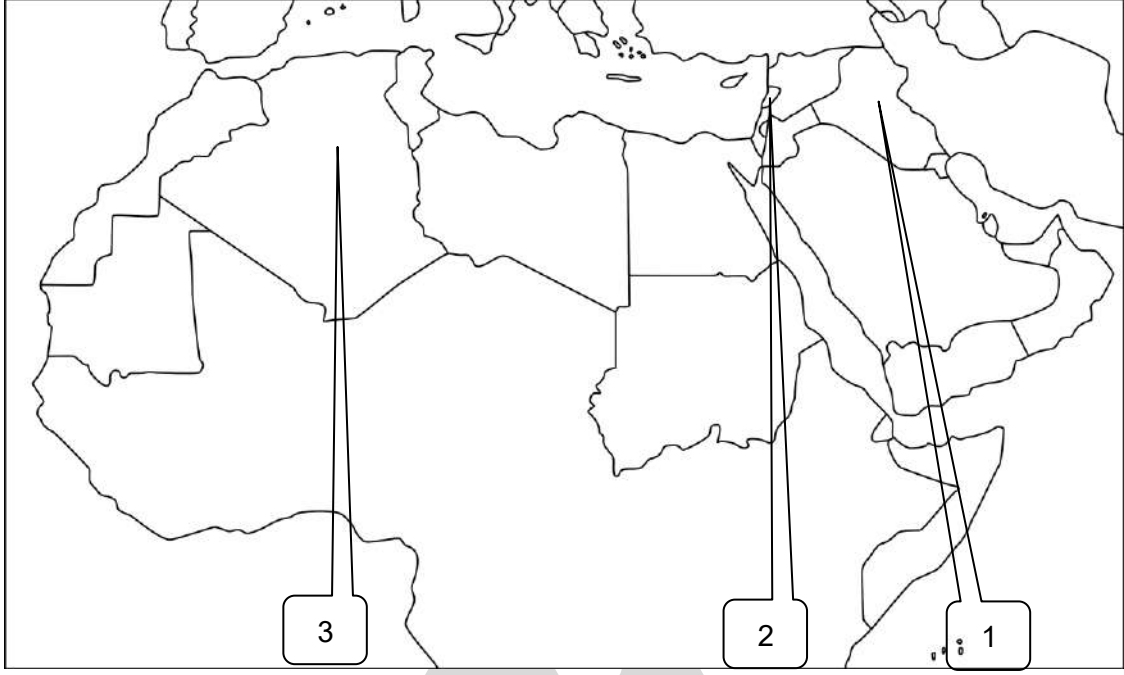
للبحث عن الماء والكلأ

علل - يعتمد سكان الصحراء (البدو) على التنقل

## أكمل العبارات التالية:

- ❑ صحراء في العراق يعتمد سكانها على تربية الإبل والأغنام والتنقل اسمها السماوة
- ❑ ريف لبناني يعتمد سكانه على الزراعة وتربية الحيوانات اسمه البقاع
- ❑ نمط من أنماط السكان في الوطن العربي تتميز حياتهم بنوع من التنظيم يسمى سكان المدن ( الحاضرة )

## لاحظ خريطة الوطن العربي الصماء ثم نفذ المطلوب منك بكل دقة :



- ❑ الدولة العربية التي يقع فيها ريف البقاع تحمل على الخريطة الرقم 2
- ❑ الدولة العربية التي تقع فيها صحراء السماوة تحمل على الخريطة الرقم 1
- ❑ الدولة العربية التي تقع فيها مدينة وهران تحمل على الخريطة الرقم 3

## الحياة الاجتماعية في الوطن العربي

- ❑ علل - أهمية الحياة الاجتماعية في الوطن العربي
- مرآة تعكس حياة الشعوب وثقافتها التي توارثتها الأجيال عبر القرون
  - أسهمت في بناء منظومة من العادات والتقاليد التي ميزت هويتها العربية عن غيرها
- ❑ عدد - الحياة الاجتماعية في الوطن العربي
- العادات والتقاليد الاجتماعية
  - الزي العربي
  - الثقافة والفنون
- ❑ عدد - العادات والتقاليد الاجتماعية لسكان الوطن العربي

☆ ممكن أن يأتي السؤال بصيغة أخرى: عدد - أمثلة العادات والتقاليد التي تعبر عن أسلوب حياة السكان وتواصلهم

- إقامة الاحتفالات الدينية والاجتماعية
- كرم الضيافة العربية
- المحافظة على العلاقات والروابط الاجتماعية

## علل لما يلي

Q يتنوع الزي العربي من منطقة لأخرى

- اختلاف المناخ والعادات والتقاليد
- يحمل رموزاً اجتماعية
- مظهر من مظاهر الفخر بالهوية مثل (الدشداشة - القفطان - البرنوس)

Q الزي العربي يحمل رموزاً اجتماعية

اللون والشكل يعبران عن المنطقة أو القبيلة أو المناسبة

Q عدد - أمثلة للزي العربي كمظهر للفخر بالهوية

- الدشداشة
- القفطان
- البرنوس

## صوب ما تحته خط

Q جانب من جوانب الثقافة والفنون ينتقل شفهيّاً من جيل الى آخر هو الجانب المادي (الغير مادي)

Q عدد - مظاهر الجانب الغير مادي للثقافة والفنون

اللغة واللهجات المحلية - الأمثال والحكايات الشعبية - الأغاني والأهازيج - الشعر النبطي والشعبي

Q أكمل - سجلت اليونسكو (حذاء الإبل) ضمن قائمة التراث غير المادي عام 2022م



صفوة معلمي الكويت