

# أوراق عمل مادة الاجتماعيات



الفصل الدراسي الثاني (2025-2026 م )

لـلـصـف السابع



اعداد قسم الاجتماعيات



## ورقة عمل رقم (1)

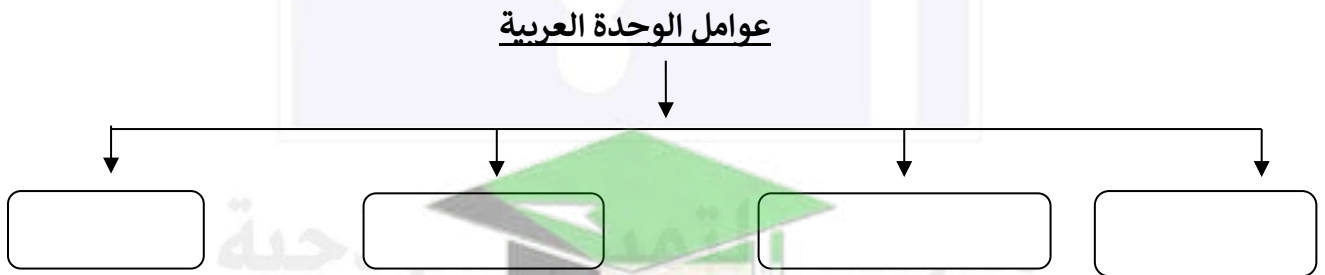
### السؤال الأول: أكمل العبارات الآتية بما يناسبها مما درست.

1. مجموعة من الأفراد الذين يعيشون في إقليم جغرافي محدد، ويرتبطون بعلاقات عرقية واجتماعية واقتصادية تسمى.....
2. الشكل المقابل يمثل مجموعات بشرية ذات أصول متعددة تسمى .....



3. منح الدولة نفوذ سياسي قوي ويحمي الدولة من الاخطار تمثل الأهمية.....

### السؤال الثاني: أكمل المخطط السهمي التالي.



### \* أكتب المصطلح العلمي.

- (.....) مجموعة من الأفراد الذين يعيشون في إقليم جغرافي محدد، ويرتبطون بعلاقات عرقية واجتماعية واقتصادية

## ورقة عمل رقم (2)

### السؤال الأول: اكمل عبارات التالية بما يناسبها مما درست.

- أعلى الدول العربية في عدد الذكور .....
- أقل الدول العربية في عدد الإناث .....
- دولة عربية يزيد فيها عدد الإناث عن عدد الذكور .....

### السؤال الثاني: فرق بين السبب والنتيجة لعوامل النمو السكاني.

السبب	.....	البحث عن فرص عمل
النتيجة	الزيادة الطبيعية	.....

### السؤال الثالث: أ) عدد عوامل النمو السكاني في الوطن العربي.

..... - .....

### ب) عرف النمو السكاني.

.....

ج) اختر. التركيب العمري لفئة الشباب (صفر - ١٤ ، ١٤ - ٦٥ ، ٦٥ فأكثر ، جميع ما سبق)

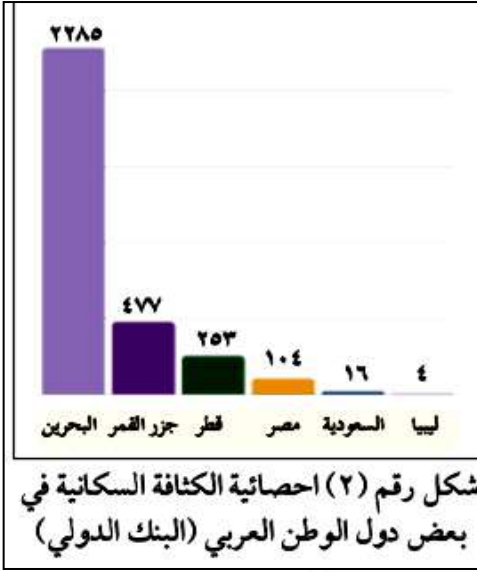


### ورقة عمل (3)

#### السؤال الأول: عرف ما يلي.

- 1- توزيع السكان.....
- 2- الكثافة السكانية.....

#### سؤال الثاني: لاحظ الرسم البياني الذي أمامك شكل ثم نفذ المطلوب منك.



١ - الدولة الأعلى في الكثافة السكانية.....

٢ - الدولة الأقل في الكثافة السكانية.....

● بالاستعانة بقانون الكثافة احسب الكثافة السكانية لدولة

جيبوتي: عدد السكان ١,١٨٤,٠٧٦ مليون نسمة مساحة جيبوتي

٢٣,١٨٠ كم ٢

	=	
--	---	--

#### السؤال الثالث: ما الآثار المترتبة على ارتفاع الكثافة السكانية.

- .....\*
- .....\*
- .....\*



#### ورقة عمل رقم 4

#### السؤال الأول: أكمل العبارات التالية بما يناسبها فيما درست.

- 1- ريف لبناني يعتمد سكانه على الزراعة وتربية الحيوانات اسم .....
- 2- صحراء في العراق يعتمد سكانها على تربية الإبل والأغنام والتنقل اسمها .....
- 3- سجلت اليونسكو (حذاء الإبل) ضمن قائمة التراث غير المادي عام .....
- 4- فرقة فنون شعبية كويتية لجمع وأداء الفن الشعبي الكويتي اسمها .....

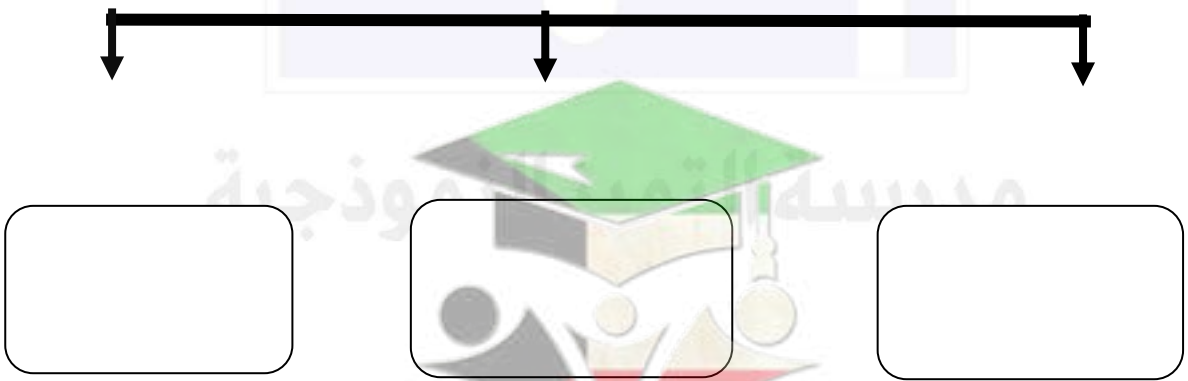
#### السؤال الثاني (أ) علل لما يلي.

- ١ - تنوع الزي العربي من منطقة إلى أخرى.

.....

#### (ب) اكمل المخطط السهمي التالي.

عدد أنماط السكان في الوطن العربي



## ورقة عمل (5)

### السؤال الأول.

أولاً: لاحظ الوثيقة في الشكل المقابل

ثم استخراج منها ما يلي.

- 1- سنة إجراء التعداد.....
- 2- إجمالي عدد السكان.....
- 3- علل زيادة السكان في دولة الكويت.....

ثانياً: أكمل العبارات التالية بما يناسبها.

1. عدد سكان دولة الكويت بعد اكتشاف النفط بلغ في عام ٢٠٢٥ م نحو .....
2. أكثر مناطق دولة الكويت كثافة سكانية منطقتي السالمية ومنطقة اسمها.....
- 3- فرقة فنون شعبية كويتية لجمع وأداء الفن الشعبي الكويتي اسمها.....

ثالثاً: عدد جهود دولة الكويت للحفاظ على الموروث الشعبي.

.....

.....

رابعاً: علل. ترتفع الكثافة السكانية في المناطق التي يتركز فيها الوافدون، مثل منطقتي السالمية

والمهبولة؟

.....

الكويت اليوم - ٩

العدد ١٩٨١ - السنة الثالثة

## الجمهورية العربية السورية

### نتائج تعداد سكان الكويت لعام ١٩٥٧

التصنيف من أهم صفات سكان الكويت ، ذلك الميزة تميز عن سائر سكانها واستخدم بها جميع الفئات والفئات في ميدان التخطيط وتصميم المشروعات التي تهدف إلى رفع المستوى الاجتماعي والاقتصادي لسكان الكويت .

وبسبب القدرة أن تتلقى أي سلطة أو تشايرت بتدريس عملية التعداد والنتائج التي تتصل عليها هذه التسمية ، وتنتشر الأمانة والأمانة العامة في الكويت الرسمية (الكويت اليوم) .  
والقدرة على استبعاد الأخطاء من نتائج الأمانة لكل من يتقدم إليها .

وليس تشيئة الاجتماعية

استمرت دائرة التعداد الاجتماعية دائرة تعدد عدد سكان الكويت الإجمالي الإحصائية الخاصة بتأجيل تعداد سكان الكويت الذي لم يجر في حوالي سنة ١٩٥٠ .  
وبعد أول المروسة في هذه الفترة تشمل على توزيع السكان الكويتيين وغير الكويتيين في كل مدينة وقرية حسب النوع (الذكور والإناث) والعائلات والعائلات وكذلك توزيعهم حسب النوع والأعمار والعائلة المحلية والزمنية .

كما تشمل الفترة على توزيع السكان غير الكويتيين في الكويت خارج الكويت حسب جنسيتهم وتلك التي تقسمها في الكويت .  
ولا كانت هذه هي المرة الأولى التي تنشر فيها نتائج التعداد

#### عدد السكان في كل مدينة وقرية

جملة السكان		اسم المدينة أو القرية	
المجموع	إناث	ذكور	الجملة
٢٠٦٤٧٣	٧٤٤١٥	١٣٢٠٥٨	٣٣٨٥٣١

تعداد السكان



## إجابات أوراق العمل

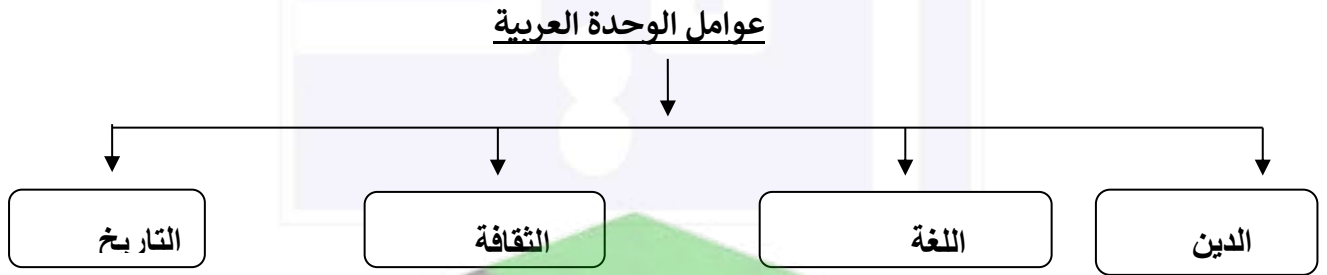
### السؤال الأول: أكمل العبارات الآتية بما يناسبها مما درست.

- 1- مجموعة من الأفراد الذين يعيشون في إقليم جغرافي محدد، ويرتبطون بعلاقات عرقية واجتماعية واقتصادية تسمى. السكان
- 2- الشكل المقابل يمثل مجموعات بشرية ذات أصول متعددة تسمى. الأصول السكانية



- 3 - منح الدولة نفوذ سياسي قوي ويحمي الدولة من الاخطار تمثل الأهمية. السياسية

### السؤال الثاني: أكمل المخطط السهمي التالي.



### \* أكتب المصطلح العلمي.

- (السكان ) مجموعة من الأفراد الذين يعيشون في إقليم جغرافي محدد، ويرتبطون بعلاقات عرقية واجتماعية واقتصادية

## ورقة عمل رقم (2)

### السؤال الأول: لاحظ الشكل المقابل ثم نفذ المطلوب منك.

- أعلى الدول العربية في عدد الذكور مصر
- أقل الدول العربية في عدد الإناث السودان
- دولة عربية يزيد فيها عدد الإناث عن عدد الذكور...الإمارات

### السؤال الثاني: فرق بين السبب والنتيجة لعوامل النمو السكاني.

السبب	الرعاية الصحية	البحث عن فرص عمل
النتيجة	الزيادة الطبيعية	الزيادة غير الطبيعية

j

### السؤال الثالث: (أ) عدد عوامل النمو السكاني في الوطن العربي.

- الزيادة الطبيعية - الزيادة غير الطبيعية

### (ب) عرف النمو السكاني.

التغير في عدد السكان بالزيادة والنقصان خلال فترة زمنية معينة

(ج) اختر. التركيب العمري لفئة الشباب ( صفر- ١٤ ، ١٤ - ٦٥ ، ٦٥ فأكثر، جميع ما سبق)





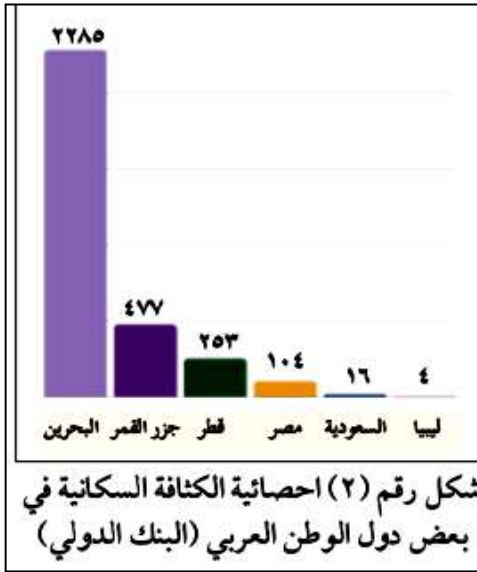
### ورقة عمل (3)

#### السؤال الأول: عرف ما يلي.

1- توزيع السكان: انتشار السكان في مناطق مختلفة من سطح الأرض

2- الكثافة السكانية: عدد السكان / المساحة كم<sup>2</sup>

#### السؤال الثاني: لاحظ الرسم البياني الذي أمامك شكل ثم نفذ المطلوب منك.



١ - الدولة الأعلى في الكثافة السكانية البحرين

٢ - الدولة الأقل في الكثافة السكانية ليبيا

● بالاستعانة بقانون الكثافة احسب الكثافة السكانية لدولة

جيبوتي: عدد السكان ١,١٨٤,٠٧٦ مليون نسمة مساحة جيبوتي

٢٣,١٨٠ كم<sup>٢</sup>

$$\frac{1,184,076}{23,180} = 51$$

#### السؤال الثالث: ما الآثار المترتبة على ارتفاع الكثافة السكانية.

\*الضغط على الخدمات

\*ازدحام المدن الكبرى

\*ارتفاع تكاليف المعيشة

## ورقة عمل رقم (4)

### السؤال الأول: أكمل العبارات التالية بما يناسبها فيما درست:

1. ريف لبناني يعتمد سكانه على الزراعة وتربية الحيوانات اسمه.....البقاع.....
- 2-صحراء في العراق يعتمد سكانها على تربية الإبل والأغنام والتنقل اسمها.....سكان الصحراء
- 3- سجلت اليونسكو (حدا الإبل) ضمن قائمة التراث غير المادي عام.....2022.....
- 4-فرقة فنون شعبية كويتية لجمع وأداء الفن الشعبي الكويتي اسمها... فرقة تلفزيون الكويت ...

### السؤال الثاني(أ) علل لما يلي.

١ - تنوع الزي العربي من منطقة إلى أخرى.

- المناخ - العادات والتقاليد

### (ب) اكمل المخطط السهمي التالي.

عدد أنماط السكان في الوطن العربي



### ورقة عمل (5)

## السؤال الأول.

### أولاً. لاحظ الوثيقة في الشكل المقابل ثم

### استخرج منها ما يلي.

### 1-سنة إجراء التعداد 1957م

**2- اجمالي عدد السكان 206473**

### 3- علل زيادة السكان في دولة الكويت

### - بسبب اكتشاف النفط

الكروت - ١٩٥٧

عدد ١٩٩ - السنة الثالثة

## البيانات العامة

### نتائج تعداد سكان الكويت لعام ١٩٥٧

التعليق: من أهم مميزات سكان الكويت، لغة الملاحة تجريبه على سواحه منها، وبسببه بدأ جميع اللواتي والمصنع في مياها الخليجية وصمم لشركات التي لهذا إلى روح للشوى الاجتماعي والاقتصادي لسكان الكويت.

وبسبب الملاحة التي تنتمي إلى أسئلة أو استعارات ينقسم على التعداد والنتائج التي تتنقل عليها هذه التسمية، وبسبب اللغة والردود عليها في الجزيرة الرسمية (الكروت البرية).

والفكرة على استعداد لاصلاء نسخاً من كرتها الاحصائية لكل من يقدم لها.

ليس التعداد الاجتماعي

استمر حارة التعداد الاجتماعي لثمة تدفق جدد من اعداد الاحصائية التجميعية الخاصة بتعداد سكان الكويت التي اثير في حوالي سنة ١٩٥٥.

وهذا قول المروعة في هذه التسمية لتشمل على توزيع السكان الكويتيين وغير الكويتيين في كل مدينة وقريه حسب النوع (الذكور والاناث) والديانات والطبقات وكذلك توزيعهم حسب النوع والاهوار بالخدمة المحلية والعامة الزمنية.

كما تشمل التسمية على توزيع السكان غير الكويتيين في كل نوع خارج الكويت حسب جنسهم وانتماءهم في الكويت. ولا تخدم هذه هي اللغة الاولى التي نشر لها مترجمة للبيانات.

### عدد السكان في كل مدينة وقريه

جملة السكان			اسم المدينة أو القرية
المجموع	اناث	ذكور	
٢٠٦٤٧٣	٧٤٤١٥	١٣٢٠٥٨	الجملة

تعداد السكان

**ثانيا: أكمل العبارات التالية بما يناسبها.**

1- عدد سكان دولة الكويت بعد اكتشاف النفط بلغ في عام ٢٠٢٥ م نحو خمسة ملايين

## 2- أكثر مناطق دولة الكويت كثافة سكانية منطقتي السالمية ومنطقة اسمها المهبولة

### 3 - فرقة فنون شعبية كويتية لجمع وأداء الفن الشعبي الكويتي اسمها فرقة التليفزيون

### ثالثاً. عدد جهود دولة الكويت للحفاظ على الموروث الشعبي.

## - تنظيم المعارض والفعاليات - انتاج برامج وثائقية وتاريخية

**-ادراج الموروث ضمن الكتب المدرسية والبرامج الاذاعية**

**علل ترتفع الكثافة السكانية في المناطق التي يتركز فيها الوافدون، مثل منطقتي السالمية والمهبولة؟**

-نظرا لوفرة السكن ذى التكلفة المنخفضة والخدمات فيها