



مراجعة الاختبار القصير

مادة الاجتماعيات

الصف

السابع



غير المحلولة



تواصل واتساب



TikTok



تواصل تيليجرام



## مفاهيم اجتماعيات سابع ( ملخصة )

٣. الوطن العربي : .....
٤. الموقع الجغرافي : .....

## الوحدة الأولى: السمات الطبيعية لدولة الكويت و الوطن العربي

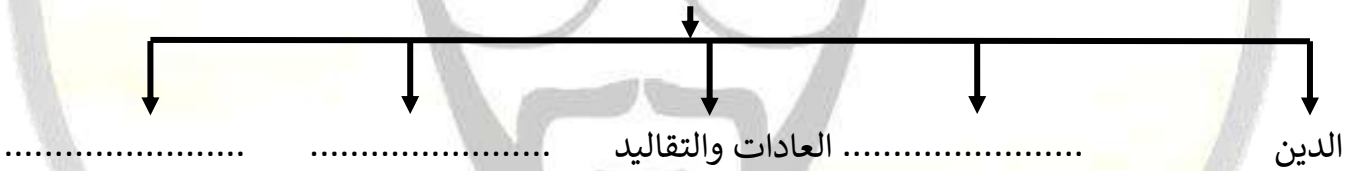
### الدرس الأول : تعريف الوطن العربي

السؤال الأول : أكتب المصطلح الجغرافي :

( ..... ) مجموعة من الدول تجمعها سمات مشتركة وتمتد عبر قارتين آسيا وأفريقيا

السؤال الثاني : صمم مخطط سهمي لما يلي :

السمات المشتركة التي تحدد هوية دول الوطن العربي ( سؤال مهم )

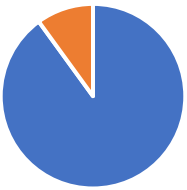


السؤال الثالث : أكمل :



تليجرام

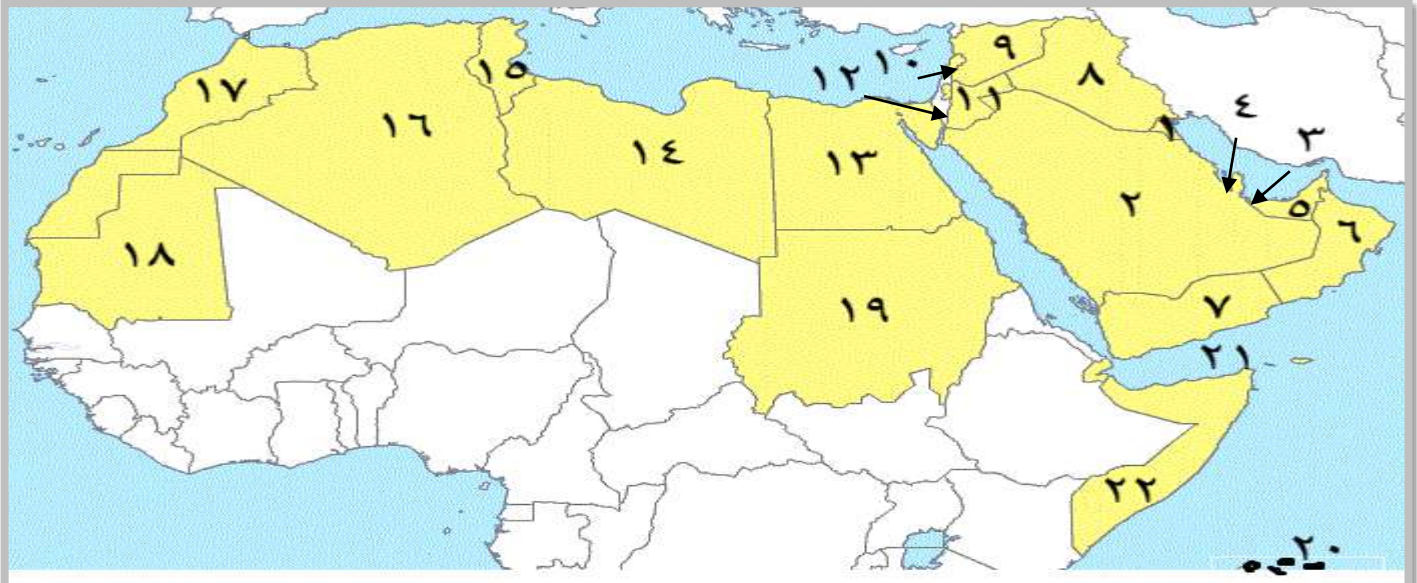
- يمتد الوطن العربي من ..... شرقا إلى ..... غربا
- يمتد الوطن العربي بين قارتين هما ..... و .....
- الموقع الذي يشغله الوطن العربي بالنسبة للعالم موقع .....
- عدد الدول العربية يبلغ في آسيا وأفريقيا ..... دولة
- يبلغ عدد الدول العربية في قارة اسيا ..... دولة
- يبلغ عدد الدول العربية في قارة أفريقيا ..... دول
- مساحة الوطن العربي تبلغ ..... مليون كم<sup>2</sup>
- النسبة المئوية التي تمثلها مساحة الوطن العربي من جملة مساحة العالم تبلغ ..... %
- مساحة الوطن العربي تفوق مساحة قارة ..... ودولة تسمى ..... و .....







السؤال الرابع : الخريطة



الرقم ١ يمثل دولة .....	الرقم ١٢ يمثل دولة .....
الرقم ٢ يمثل دولة .....	الرقم ١٣ يمثل دولة .....
الرقم ٣ يمثل دولة .....	الرقم ١٤ يمثل دولة .....
الرقم ٤ يمثل دولة .....	الرقم ١٥ يمثل دولة .....
الرقم ٥ يمثل دولة .....	الرقم ١٦ يمثل دولة .....
الرقم ٦ يمثل دولة .....	الرقم ١٧ يمثل دولة .....
الرقم ٧ يمثل دولة .....	الرقم ١٨ يمثل دولة .....
الرقم ٨ يمثل دولة .....	الرقم ١٩ يمثل دولة .....
الرقم ٩ يمثل دولة .....	الرقم ٢٠ يمثل دولة .....
الرقم ١٠ يمثل دولة .....	الرقم ٢١ يمثل دولة .....
الرقم ١١ يمثل دولة .....	الرقم ٢٢ يمثل دولة .....

الدرس الثاني : الموقع الجغرافي للوطن العربي

السؤال الأول : أكتب المصطلح الجغرافي :

( ..... ) مكان الدولة على سطح الأرض بالنسبة للموقع النسبي والموقع الفلكي

السؤال : أكمل الجدول التالي

الحدود البرية	الحدود البحرية	
تركيا		الشمال
	الخليج العربي	الشرق
		الغرب

السؤال الثالث : أكمل :

- القارة المجاورة للوطن العربي من جهة الشمال تسمى .....

- المسطح المائي الذي يحد الوطن العربي من ناحية الغرب يسمى .....



- المسطح المائي الذي يحد الوطن العربي من ناحية الشمال يسمى .....
- المسطح المائي الذي يحد الوطن العربي من جهة الشرق يسمى .....
- الدولة التي تحد الوطن العربي من الشمال تسمى .....
- الدولة التي تحد الوطن العربي من الشرق تسمى .....
- يمتد الوطن العربي بين دائرتي عرض ..... و..... شمال خط الاستواء
- يمتد الوطن العربي بين خطي طول ..... شرقا و..... غرب خط جرينتش
- الدولة العربية التي يمر بها خط الاستواء هي .....
- الدولة العربية التي يمر بها خط جرينتش هي .....
- الدولة التي تقع خارج حدود الموقع الفلكي للوطن العربي تسمى .....
- المحيط الذي تقع فيه جزر القمر يسمى .....
- أكبر الأقاليم امتدادا في الوطن العربي والأكثر انتشارا يسمى .....
- الدولة العربية التي تقع جميع أراضيها ضمن إقليم البحر المتوسط تسمى .....
- ارتفاع درجة الحرارة وهطول الأمطار طوال العام من مميزات إقليم يسمى .....



تليجرام

#### السؤال الرابع علل ما يلي:

##### ١- أهمية خطوط الطول

- .....
- .....

##### ٢- أهمية دوائر العرض

- .....
- .....

##### ٣- يستخدم الموقع الفلكي حاليا لنظام تحديد المواقع GPS على نطاق واسع من خلال الاجهزة الذكية

##### ٤- اكتسب الوطن العربي موقعا هاما

- .....

##### ٥- يعتبر مناخ الوطن العربي الأشد حرارة وجفافا والأقل أمطارا في العالم

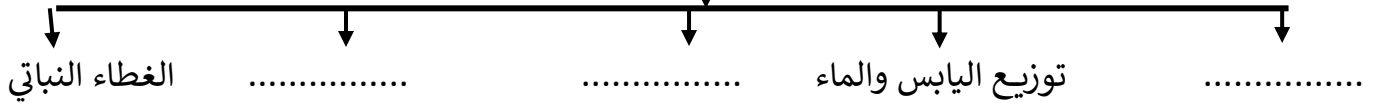
- .....





السؤال الخامس : صمم مخطط سهمي لما يلي :

عدد العوامل المؤثرة على مناخ الوطن العربي



الأقاليم المناخية في الوطن العربي



اذكر صفات مناخ الوطن العربي

- - - - -

السؤال السادس : قارن بين :

إقليم البحر المتوسط	إقليم المناخ الصحراوي	إقليم المناخ المداري

مراجعة الخرائط



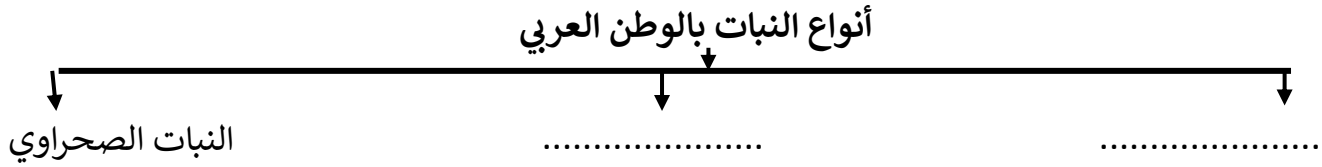
الرقم ١ يمثل مسطح مائي يسمى .....	تركيا تحمل الرقم .....
المسطح الذي يحد الوطن العربي غربا رقم .....	الدولة التي يمر بها خط جرينتش رقم .....
الخليج العربي يحمل الرقم .....	الدولة التي يمر بها خط الاستواء رقم .....
دولة ايران تحمل الرقم .....	الدولة التي تقع خارج الموقع الفلكي رقم .....
أكبر الدول مساحة بالجناب الاسيوي .....	



## الدرس الثالث: الحياة النباتية و الحياة الحيوانية في الوطن العربي

### أ-الحياة النباتية في الوطن العربي

السؤال الأول : صمم مخطط سهمي لما يلي :



السؤال الثاني : أكمل :

- نباتات تنمو في الغابات المدارية الحارة اشجار .....
- أشجار **السنديان** توجد في غابات تسمى .....
- تنتشر الحشائش المعتدلة ( **الإستبس** ) في دولة .....
- الحشائش التي تنتشر في دولة السودان تسمى .....

السؤال الثالث : اختر العنصر الذي لا ينتمي للعبارة :

- الدول التي توجد ضمن الغابات المدارية ( اليمن - الصومال - لبنان )
- الدول التي توجد ضمن الغابات المعتدلة ( الصومال - لبنان - تونس )

السؤال الرابع : علل ما يلي :

١-أهمية حشائش الاستبس

.....

٢-أهمية حشائش السافانا

.....

٣- ينتشر النبات الصحراوي في معظم دول الوطن العربي

.....

٤- أهمية النباتات الصحراوية

.....

٥- يعد الغطاء النباتي عنصرا أساسيا في نشأة الحياة الحيوانية وبقائها

.....

٦- يتنوع النبات الطبيعي من منطقة لاخرى بالوطن العربي

.....



تيلجرام



السؤال الخامس قارن بين كلا من :

أنواع الغابات	الغابات المدارية	الغابات المعتدلة
الصفات		
أمثلة		
الدول		

الأنواع	الحشائش الحارة ( السافانا )	الحشائش المعتدلة ( الإستبس )
الطول		
الأهمية		
الدول		

	الحيوانات في الغابات	الحيوانات في الحشائش	الحيوانات في النباتات الصحراوية
الأنواع			
المميزات			

