

UULA.COM

الزينة



U U L A

التاريخ

الكورس الأول

15

2025 - 2024



أكمل العبارات التالية:



تقع دولة الكويت بالنسبة لشبه الجزيرة العربية في جهة **الشمال الشرقي**

تقع دولة الكويت بالنسبة للخليج العربي في جهة **الشمال الغربي**

الدولة التي تحد الكويت من جهة الشمال والشمال الغربي تسمى **العراق**

الدولة التي تحد الكويت من جهة الجنوب والجنوب الغربي تسمى **المملكة العربية السعودية**

المسطح المائي الذي يحده دولة الكويت من ناحية الشرق يسمى **الخليج العربي**

تقع الكويت بين خطي عرض **30.05 - 28.45** شمال خط الاستواء.

تقع الكويت بين خطي طول **48.30 - 46.30** شرق خط جرينتش.

تبلغ مساحة دولة الكويت حوالي **17,818** كم².

علل - أهمية الموقع الجغرافي المتميز للكيان السياسي لدولة الكويت

★ ممكن أن يأتي السؤال بصيغة أخرى: عدد - خصائص الموقع الاستراتيجي المتميز للكيان السياسي لدولة الكويت

- موقعها الذي يمثل النهاية الطبيعية للطريق الملاحي البحري والتجاري
- تمثل البوابة والمداخل الطبيعي لشمال شرق الجزيرة العربية
- منطقة ترانزيت
- نشاط دولة الكويت البحري والتجاري
- تميز الكويتيين بالمهارة في نقل التجارة بين موانئ الخليج وسواحل الهند والشرق الأفريقي



التضاريس

عدد أنواع المظاهر التضاريسية في دولة الكويت

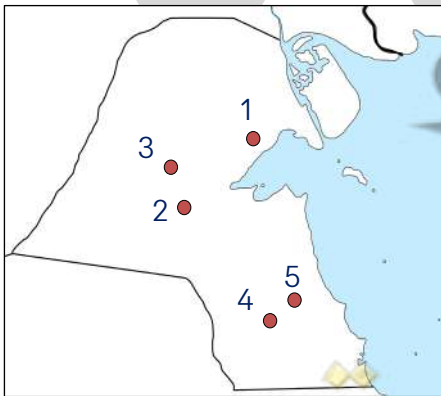
سهول

أودية

هضاب

تلل

لاحظ خريطة دولة الكويت الصماء ثم نفذ المطلوب منك :



الرقم (1) يمثل تل يصل ارتفاعه إلى 137 متر يسمى **حافة جال الزور**

الرقم (2) يمثل تلال يبلغ ارتفاعها نحو 183م تسمى **كراع المرو**

تلال اللياح يمثلها على الخريطة الرقم **3**

تل وارة يمثلها على الخريطة الرقم **4**

مدينة الأحمدية يمثلها على الخريطة الرقم **5**

أكمل العبارات التالية:

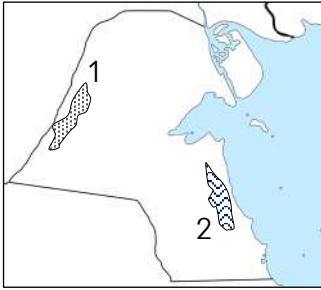
تل برقان وتل وارة في الجنوب من مدينة الأحمدية تأخذ شكل **قباب**

الهضبة التي تأخذ الشكل الطولي وتمتد في اتجاه شمالي جنوبي لمسافة ٣٠ كم تسمى **هضبة الأحمدى**

أقصى ارتفاع لهضبة الأحمدى فوق سطح البحر حوالي **137 م**

وادي يفصل بين الحدود الكويتية العراقية لمسافة 150 كم يسمى **الباطن**

الحدود التي يسير معها وادي الباطن بالنسبة لدولة الكويت تسمى **الغربية**



لاحظ خريطة دولة الكويت الصماء ثم نفذ المطلوب منك

هضبة الأحمدى يمثلها على الخريطة الرقم **2**

وادي الباطن يمثلها على الخريطة الرقم **1**

صنف المظاهر التضاريسية التالية في دولة الكويت حسب الجدول التالي
جال الزور - كراع المرو - الياح - برقان - وارة - القرين - الباطن - الدبدية - الروضتين - الأحمدى

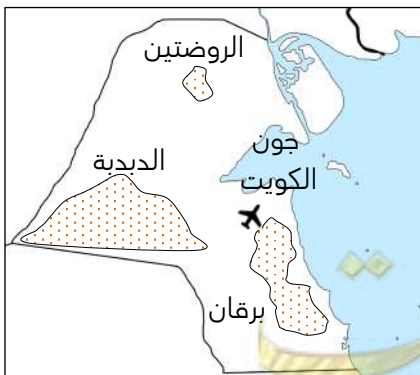
★ ممكن أن يأتي السؤال بصيغة أخرى : دال على صحة العبارة - تتنوع وتعدد التضاريس في الكويت

سهول	هضاب	وديان	تلال
الروضتين - الدبدية - برقان	الأحمدى	الباطن	الجنوب الشمال
			برقان - وارة - القرين جال الزور - كراع المرو - الياح

اكتب المفهوم الدال على العبارات التالية :

★ ممكن أن يأتي السؤال بصيغة أخرى: **عرف**

المفهوم	العبارة
هضبة الأحمدى	هضبة تأخذ الشكل الطولي وتمتد في اتجاه شمالي جنوبي لمسافة 30 كم
وادي الباطن	الحد الفاصل بين الحدود الكويتية العراقية لمسافة 150 كم ويسير مع الحدود الغربية للكويت
سهل الدبدية	سهل يحتل مساحة كبيرة في غرب وجنوب دولة الكويت
سهل الروضتين	يقع في شمال الكويت وهي أرض منبسطة تنحدر نحو الشرق والشمال الشرقي
سهل برقان	يمتد من جون الكويت باتجاه الجنوب موازياً لخط الساحل ويقع فيه تلال وارة وبرقان والقرين



علل - سهل برقان أشهر السهول الموجودة في دولة الكويت
بسبب اكتشاف النفط ويضم أكبر حقول النفط الكويتية حقل برقان

عدد - المناطق الصالحة للزراعة في دولة الكويت

- الفحيحيل
- المنقف
- الوفرة
- الجهراء
- الفنطاس
- أبو حليفة

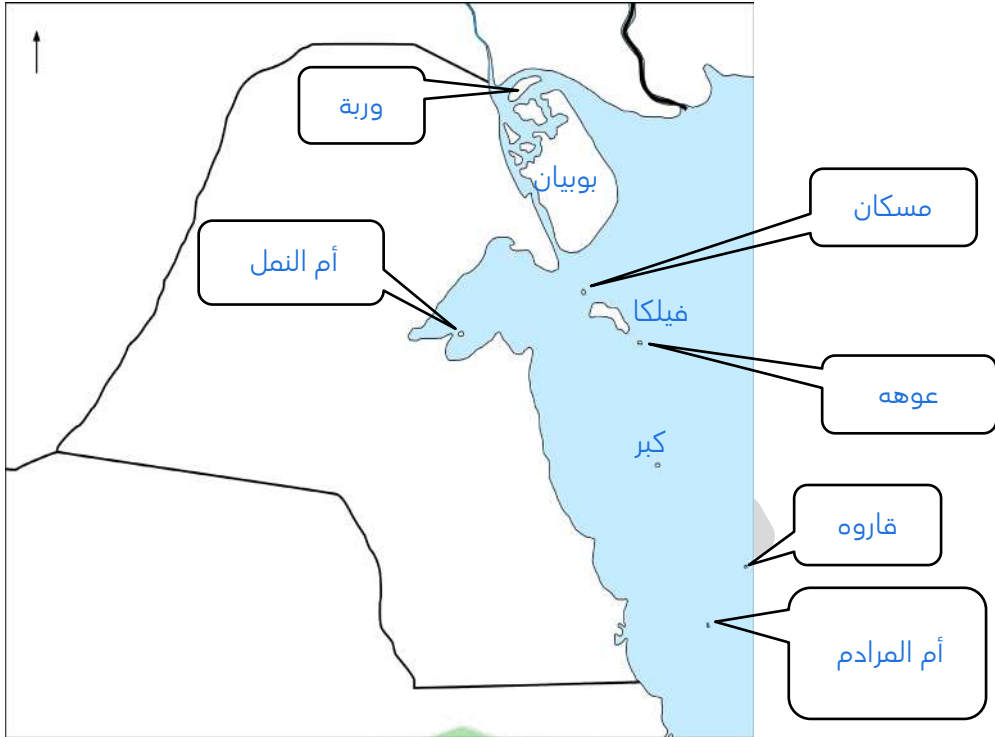
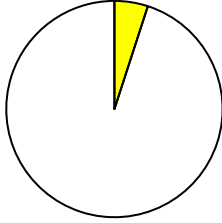
❏ " الكويت جيولوجياً جزء من الكتلة العربية " دال على صحة العبارة
تفصل بين العراق والهضبة الصحراوية المُكونة لشبه الجزيرة العربية



جزر الكويت

أكمل العبارات التالية:

- ❏ عدد الجزر الكويتية 10 جزر
- ❏ أكبر الجزر الكويتية هي جزيرة بوبيان
- ❏ نسبة جزيرة بوبيان من المساحة الإجمالية لدولة الكويت 5%



علل لما يلي :

- ❏ جزيرتا وربة وبوبيان كانت مطمعاً ومطلباً دائماً للعراق
لأن الجزيرتين ستمنح العراق منفذاً بحرياً مناسباً له على الخليج
- ❏ جزيرة فيلكا أصبحت غير مأهولة بالسكان بعد عام 1990 م
بسبب أحداث الغزو العراقي البائد للكويت عام 1990 م

أكمل العبارات التالية:

- ❏ جزيرة إيكاروس قديماً تسمى حالياً جزيرة فيلكا
- ❏ أولى الجزر التابعة لدولة الكويت من ناحية الشمال وربة
- ❏ آخر الجزر الكويتية من ناحية الجنوب جزيرة أم المرادم
- ❏ الجزيرة الثانية من حيث المساحة في دولة الكويت تسمى فيلكا



فرق بين المميزات المناخية لدولة الكويت في الفصول الأربعة

الصيف	الشتاء
<ul style="list-style-type: none"> طويل حار جاف تهب رياح مثيرة للغبار ترتفع نسبة الرطوبة (أغسطس و سبتمبر) تصل درجة الحرارة إلى 50 درجة في الظل 	<ul style="list-style-type: none"> دافئ قصير ممطر أحياناً متوسط درجة الحرارة 18 درجة وأحياناً تصل إلى الصفر المئوي الأمطار شتوية قليلة وغير منتظمة وتختلف من سنة إلى أخرى
الربيع	الخريف
<ul style="list-style-type: none"> قصير معتدل 	<ul style="list-style-type: none"> ترتفع نسبة الرطوبة تقل درجة الحرارة نسبياً عن الصيف

علل - دولة الكويت إحدى المناطق المتميزة جغرافياً ومناخياً بمنطقة الخليج العربي

☆ ممكن أن يأتي السؤال بصيغة أخرى: عدد- مميزات مناخ دولة الكويت

- الجفاف
- قلة الرطوبة
- الانتقال السريع بين فصولها المختلفة (خاصة فصل الشتاء والصيف)

عدد أهم المناطق التي تنحصر فيها المياه الصالحة للاستهلاك الآدمي بدولة الكويت



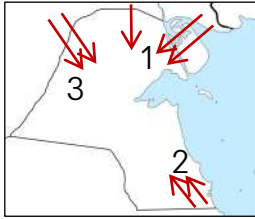
قارن بين كل من :

☆ ممكن أن يأتي السؤال بصيغ أخرى: أكمل - اختياري - عدد أنواع الرياح

الرياح	الرياح الشمالية الغربية	الجنوبية الشرقية " الكوس "
المميزات	<ul style="list-style-type: none"> تهب معظم أيام السنة رياح جافة بفعل المرتفع السيبيري 	<ul style="list-style-type: none"> رطوبة دافئة تهب من الجنوب الشرقي وتتأثر بالمنخفض السوداني
الآثار	<ul style="list-style-type: none"> خفض درجة الحرارة صيفاً البرد القارس شتاءً 	<ul style="list-style-type: none"> رفع درجة الحرارة وتزيد الرطوبة في الصيف يعتدل الجو وتحمل معها المطر شتاءً

صفوة معلم الكويت

الرياح	السموم	العواصف الترابية " السرايات "
المميزات	<ul style="list-style-type: none"> رياح جافة تهب في الظهيرة تنخفض معها نسبة الرطوبة تهب من الشمال أو الشمال الشرقي في الصيف 	<ul style="list-style-type: none"> تهب في أواخر الربيع وأوائل الصيف
الآثار	<ul style="list-style-type: none"> ارتفاع درجة الحرارة صيفاً تثير الأتربة والرمال 	<ul style="list-style-type: none"> تثير الغبار مصحوبة عادة بعواصف رعدية يسقط بسببها المطر الشديد في أواخر الربيع وأوائل الصيف



أمامك خريطة دولة الكويت اكتب الرقم الدال على العبارات التالية :

- رياح الكوس يمثلها الرقم 2
- الرياح الشمالية الغربية يمثلها الرقم 3
- رياح السموم يمثلها الرقم 1



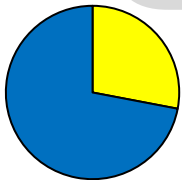
السكان

علل - ارتباط أصول السكان في الكويت ارتباطاً وثيقاً بالتركيبة السكانية لشبه الجزيرة العربية لأنها تقع ضمن الامتداد الجغرافي والسياسي للإقليم الذي يحتل المنطقة الغربية للخليج العربي

عرف - إقليم البحرين إقليم ممتد من جنوب البصرة شمالاً حتى عُمان جنوباً

أكمل العبارات التالية :

- المعلومات السكانية في دولة الكويت في الفترات القديمة اقتصر على الرحالة
- العام الميلادي الذي جرى فيه أول تعداد سكاني في الكويت بشكل موثق 1957 م
- أمير الكويت الذي جرى في عهده أول تعداد سكاني للكويت هو الشيخ عبد الله السالم الصباح
- الدائرة التي قامت بأول تعداد سكاني في الكويت تسمى دائرة الشؤون الاجتماعية
- نسبة عدد السكان من غير الكويتيين (الوافدين) من إجمالي عدد السكان عام 1990م 72 %
- نسبة عدد السكان الكويتيين من إجمالي عدد سكان دولة الكويت عام 1990م 28 %



الكويتيين
الوافدين

علل - تعرض وضع السكان في الكويت لتغيرات كبيرة في عام 1990 م

- نتيجة للاحتلال العراقي للكويت
- تبع ذلك هجرة وعودة الوافدين إلى أوطانهم



الأنشطة الاقتصادية قديماً

أكمل : الأساس الذي قام عليه اقتصاد المجتمع الكويتي البسيط الغوص و الرعي

علل تميز النشاط الاقتصادي للمجتمع الكويتي القديم بالتنوع
لأنه يجمع بين النشاط البري والبحري والزراعة في القرى الكويتية مثل الجهراء والفحيحيل

فرق بين الأنشطة الاقتصادية للمجتمع الكويتي قديماً

النشاط البري	النشاط البحري
الرعي - الصيد - أعمال البداوة	الصيد - الغوص على اللؤلؤ صناعة السفن - التجارة البحرية

علل- الأهمية الاقتصادية للخليج العربي قديماً

- يقع وسط قارات العالم القديم (آسيا - أفريقيا - أوروبا)
- وجود مضيق هرمز الذي يربط خليج عمان والخليج العربي .
- توفر الموارد الطبيعية البرية والبحرية (التمر - اللؤلؤ)
- توافر وسائل نقل التجارة براً وبحراً للبلدان المحيطة
- وجود قوة بشرية لها دور في الحراك الاقتصادي مع المناطق المجاورة

عرف - طريق الحرير _____ أحد أهم الطرق التجارية الدولية في العالم القديم يبدأ من الصين

فرق بين مسارات طريق الحرير

طريق الحرير البري (المسار الشمالي)	طريق الحرير البحري (المسار الغربي)
يبدأ من الصين حتى أوروبا	يبدأ من ميناء كانتون الصيني ويعبر بحر الصين ثم يلتف حول شبه القارة الهندية ثم يدخل البحار المحيطة بشبه الجزيرة العربية ويتفرع لفرعين



النشاط البحري

عدد- أنواع الأنشطة الاقتصادية في دولة الكويت قديماً



أكمل المخطط السهمي : أنواع الأنشطة الاقتصادية البحرية في الكويت قديماً



أكمل العبارات التالية :

☆ ممكن أن يأتي السؤال بصيغة أخرى: عرف

طريقة من طرق صيد الأسماك قديماً في الكويت تصنع من القصب تسمى الخطور

طريقة من طرق صيد الأسماك قديماً في الكويت بواسطة سنارة لوضع الطعم تسمى الميدار

طريقة الصيد التي تتجمع فيها الأسماك حول سراج يحمله الصياد فيقوم بضربه بآلة حادة تسمى القنبار أو الصيد بالإضاءة

❏ عدد العوامل التي ساعدت على ازدهار صناعة السفن

- هبوب الرياح الموسمية على منطقة الخليج العربي ساعد على دفع السفن
- توفر الأيدي العاملة لصناعة السفن
- تمتع الكويت بوجهة بحرية طويلة
- توفر مصادر الموارد المستخدمة في صناعة السفن
- براعة الاساتذة و القلائف

❏ عدد أنواع السفن في دولة الكويت قديماً



❏ " اعتزاز دولة الكويت بتراثها البحري " دلل على صحة العبارة

- اتخذت الكويت صورة سفينة البوم لتكون شعاراً للدولة
- شعار للعملة الوطنية
- تزين المؤسسات بصور ومشاهد تعبر عن ارتباط الكويت وشعبها بتراثها البحري

علل لما يلي :

★ يمكن أن يأتي السؤال بصيغة أخرى: اختياري

❏ كساد تجارة الغوص على اللؤلؤ في الكويت بسبب ظهور اللؤلؤ الصناعي بعد عام ١٩٢٨ م

❏ إصدار الشيخ أحمد الجابر الصباح قانون الغواصين عام ١٩٤٠ م

- لأهمية حرفة الغوص بالنسبة للكويتيين
- لتنظيم علاقة العمل بين النوخة والبقارة

❏ عرف - قانون الغواصين قانون صدر عام 1940م لينظم علاقة العمل بين النوخة والبقارة

❏ عرف - النوخة قائد السفينة وربانها والمسئول عن طاقمها وتحديد أماكن الغوص

❏ عدد الصفات التي يجب أن تتوافر في النوخة

- القدرة على معرفة المسالك والطرق
- الإلمام بالاتجاهات البحرية
- اتخاذ جميع القرارات

عرف المفاهيم التالية :

❏ المجدمي لقب كان يطلق على رئيس البقارة والمسئول عن إدارة السفينة

❏ الغيص الشخص الذي يغوص في قاع البحر بحثاً عن الممار

❏ السيب الشخص المنوط به سحب الغيص للسطح عند شد الأخير الحبل (الأيد) و مساعدة الغيص في فتح الممار

❏ النهام الشخص الذي ينشد المواويل تشجيعاً لطاقم السفينة في رحلتهم

❏ الرضيف صغار السن الذين يقومون ببعض الأعمال الأقل من السيب

❏ الطواش هو تاجر اللؤلؤ

❏ بداية موسم الغوص يسمى الدشة

❏ نهاية موسم الغوص تسمى القفال



❏ دال على صحة العبارة - حرفة الغوص لها تأثير على أهل الكويت

- ❏ تقوية العلاقات بين السكان
- ❏ الاحترام المتبادل
- ❏ التعاون والتعاقد
- ❏ الالتزام والطاعة

❏ أكمل : الركن الأساسي للاقتصاد الكويتي قديماً يسمى التجارة

❏ علل- الكويت من المراكز المهمة في التجارة الدولية

- ❏ موقعها الجغرافي منحها بعداً استراتيجياً
- ❏ حلقة وصل تربط بين الشرق والغرب
- ❏ صناعة السفن والغوص على اللؤلؤ
- ❏ قلة الرسوم الجمركية
- ❏ نقطة ترانزيت لإعادة تصدير الواردات

❏ عرف - الترانزيت إعادة تصدير الواردات

أكمل العبارات التالية :

❏ العام الميلادي الذي تأسست فيه دولة الكويت ١٦١٣ م

❏ بداية موسم السفر يسمى الدشة

❏ بداية الدشة (موسم السفر) تكون في شهر أغسطس (الثامن)

❏ نهاية موسم السفر يسمى الإغلاق

❏ نهاية موسم السفر (الإغلاق) في شهر مايو (الخامس)

❏ ينتهي موسم السفر مع هبوب رياح تعرف محلياً باسم السرايات

❏ موسم السفر كان يبدأ بتوجه السفن إلى البصرة

❏ علل - إغلاق موسم السفر في شهر مايو

بسبب هبوب الرياح الموسمية المسببة لهيجان المحيط الهندي وبحر العرب وعلو أمواجه

❏ فند - لم يتخذ حكام الكويت قديماً أي قرارات تساعد على النمو التجاري والاقتصادي

★ يمكن أن يأتي السؤال بصيغ أخرى: عدد - الإجراءات التي اتخذتها السلطات الكويتية للاهتمام بالتجارة

- ❏ عدم رفع الضرائب والمكوس
- ❏ تقديم الكثير من التسهيلات
- ❏ توفير الرعاية والأمن
- ❏ الاهتمام بالتجارة البرية والنقل البري

النشاط البري

❏ عدد- أنواع النشاط البري



أكمل العبارات التالية :

❏ الحرفة الأساسية لسكان البادية في دولة الكويت هي الرعي

❏ ترتبط حرفة الرعي في دولة الكويت بشكل أساسي بموسم هطول الأمطار



❶ صنف النباتات التالية حسب الجدول التالي
الحمض - جويذان - الشدا - الريلة

نباتات موسمية	نباتات معمرة
جويذان - الريلة	الحمض - الشدا

❷ عدد - الصعوبات التي تواجه الزراعة في دولة الكويت قديماً

- بلد صحراوي يعاني من شح المياه
- ارتفاع درجة الحرارة أغلب أيام السنة
- عدم خصوبة التربة

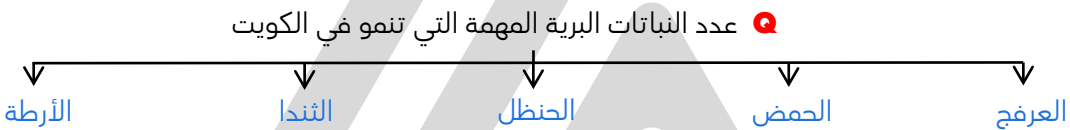
❸ برهن - نجاح الكويتيين في التكيف مع البيئة قديماً وامتهان الزراعة

★ يمكن أن يأتي السؤال بصيغة أخرى: عدد الوسائل التي استخدمها الكويتيون لاحتراق مهنة الزراعة قديماً

- زراعة النباتات التي تتلاءم مع البيئة
- استغلوا مياه الأمطار القليلة
- استخدموا مياه الآبار السطحية
- قاموا بزراعة بعض الخضراوات مثل الطماطم والبطاطس

❹ عدد - أهم المحاصيل التي تزرع في الكويت قديماً

- الخضراوات بجميع أنواعها
- الحبوب (القمح - الشعير)
- الأعلاف كالبرسيم (الجت)
- أشجار الأثل والسدر



الحرف اليدوية

❶ علل - أهمية الحرف اليدوية في الكويت قديماً

- جزء من تراثنا القديم
- تلبية احتياجات الكويت الداخلية

❷ قارن بين كل من

الحرفة	التعريف	أهم الأعمال
النجار	حرفة يدوية لها دور في توفير مستلزمات البناء و المستلزمات المنزلية قديما	الأبواب - النوافذ - التخوت - كرسي البرمة - ألعاب الأطفال مثل النّبّاطة والدوامة الشداخة : تستخدم لصيد الفئران
الحداد	يقوم بصناعة المسامير اللازمة لصناعة السفن وأدوات البناء و الزراعة	الصخين - الجدوم - الهيب - المنقاش - السكاكين - السلاسل - الدوّة
الصفار	يقوم بصنع وتلميع القدور المستخدمة في الطبخ المصنوعة من النحاس	تلميع وتنظيف وطلاء القدور مرة أخرى من الداخل حتى تعود كالجديدة
التناك	يقوم باستخدام الصفيح المعدنية لصنع المحقان و الدوة	التنك - قوطي الجاز (الكروسين) العلب وأعطيتها - السطول - الطشوت
القفاص	يقوم باستخدام جريد النخل و يصنع بها أشكال مختلفة من الأقفاص	الأقفاص - المنز - الأسرّة للكبار - الرك
السدو	حرفة تزاولها المرأة في البادية لحياكة الصوف	<ul style="list-style-type: none"> ▪ حياكة العدول مفردها (العدل) ▪ المزاوذ ومفردها (المزودة من الزاد) ▪ المنسوجات الصوفية كالمفروشات والسجاد والعباءات النسائية و البشوت الرجالية

النشاف	الحياك
يقوم بتنجيد وصناعة المساند والفرش مستخدماً القطن	يقوم بخياطة الملابس كالشبوت

❏ عرف المفاهيم التالية :

☆ ممكن أن يأتي السؤال بصيغ أخرى: **أكمل - اختياري**

المفهوم	التعريف
الصخين	أداة تستخدم للحفر
المنز	هو السرير الذي ينام فيه الطفل قديماً
الرك	صندوق به فتحة من أعلى لوضع بعض المأكولات
العدول (العدل)	عبارة عن ما يوضع على ظهر الدابة وتوضع فيه حاجات الراكب
المزاود	عبارة عن أكياس متوسطة لحفظ الطعام والملابس



المعالم الحضارية لدولة الكويت

❏ علل - لعبت دولة الكويت دوراً مهماً في التواصل الحضاري ما بين حضارات شمال الخليج وجنوبه

نتيجة لموقع دولة الكويت المميز على الخليج العربي

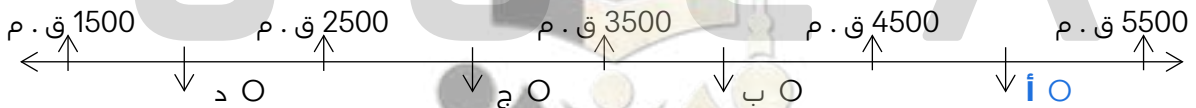
❏ " لمنطقة الصبية قيمة وأهمية أثرية كبيرة " دلل على صحة العبارة

☆ ممكن أن يأتي السؤال بصيغة أخرى: عدد أهم اثار حضارة الغبيذ الموجودة في منطقة الصبية



- تحتضن مئات المواقع الأثرية التي برهنت على وجود حضارة العبيد
- العثور على أقدم القرى السكنية في بكرة و طيخ شمال الصبية
- العثور على آبار المياه القديمة
- العثور على جرار فخارية
- العثور على الرحي الحجرية التي تستخدم في طحن الغلال

❏ اختياري : حضارة العبيد على المخطط السهمي يمثلها الحرف



❏ عدد - أهم الاكتشافات في جزيرة أم النمل

- قبر على ساحل الجزيرة
- تمثال من الطين المحروق
- مذبح من الحجر الرملي مربع الشكل



❏ " لا توجد دلائل على الوجود الإغريقي في جزيرة فيلكا " فند العبارة

- عدد من المستوطنات كالقلعة الهلنستية
- تل الخزنة الذي كان مكاناً مقدساً عند الإغريق
- العملات النحاسية
- الكتابات على الصخور كحجر إيكاروس

أكمل العبارات التالية :

- أقدم آثار جزيرة فيلكا ترجع لحضارة تسمى **دلمون**
- لعبت جزيرة فيلكا دوراً رئيسياً في منطقة الخليج خلال الألفين الثالث و **الثاني ق . م**
- جزيرة فيلكا مركزاً من مراكز حضارة تسمى **دلمون**
- الحضارة التي لعبت دور الوسيط التجاري بين حضارات الهند وبلاد الرافدين تسمى **دلمون**

عدد أبرز آثار حضارة دلمون في جزيرة فيلكا

- مجموعة من الأختام المستديرة
- معابد تنتشر حولها الوحدات السكنية
- 400 ختم دلموني

عدد استخدامات الختم الدلموني

- تستخدم كتعويذة
- ختم تجاري
- هوية لحاملها

" صبغت الكويت بصبغة إسلامية منذ ظهور الإسلام " دلل على صحة العبارة

- وقعت معركة ذات السلاسل في منطقة كاظمة
- العثور على مسكوكات إسلامية أهمها عملة أموية
- ميان ترجع للفترة الإسلامية في منطقة أم العيش
- مستوطنات متتالية في منطقة الشقاي و وادي الباطن

أكمل الجدول التالي :

معركة ذات السلاسل	
12 هجرية	العام الهجري
كاظمة في الكويت	مكان المعركة
بين المسلمين والفرس	الأطراف
دخول الإسلام بلاد الرافدين وفارس والهند و وسط آسيا	النتيجة

أكمل العبارات التالية :

- العام الهجري الذي وقعت فيه معركة ذات السلاسل بين الفرس والمسلمين **12 هجري**
- العام الهجري المؤرخ على العملات الأموية المكتشفة في الكويت **123**
- منطقة الشقاي ووادي الباطن تقع على طريق قديماً يسمى **الحج البصري (طريق الحج)**

فرق بين أهم الآثار في المناطق التالية

الصبية	أم النمل	فيلكا	كاظمة	أم العيش	الشقاي ووادي الباطن
جرار فخارية	تمثال من الطين المحروق	عملات نحاسية	عملة أموية	ميان إسلامية	مستوطنات

نشأة الكويت 1613م

أكمل العبارات التالية

- جاءت تسمية كويت من تصغير كلمة تسمى **كوت**



❖ القلعة أو الحصن الصغير يسمى الكوت

❖ عرف المفاهيم التالية

المفهوم	التعريف
الكوت	القلعة أو الحصن الصغير
القرن	المرتفع أو التل الصغير
القرين	هو اسم شائع في الجزيرة العربية يدل على المرتفع أو التل الصغير
مرتفع بهيئة	المرتفع الذي نشأت حوله وفوقه مدينة الكويت ويقع بالقرب من قصر السيف

علل لما يلي :

- ❖ تسمية الكويت بهذا الاسم تصغيراً لكلمة كوت والتي تعني القلعة أو الحصن
- ❖ بناء القلاع قديماً في الكويت لحماية مدينة الكويت من الأخطار والأطماع الخارجية
- ❖ أكمل : العام الميلادي الذي نشأت فيه الكويت هو 1613 م

أكمل العبارات التالية :

- ❖ مجموعة أسر ذات ارتباط قبلي متماثل نزحوا من منطقة الهدار ليستقروا بالقرب من منطقة حصن الكوت عرفوا باسم العتوب
- ❖ المنطقة التي خرجت منها العتوب في شبه الجزيرة العربية تسمى الهدار
- ❖ القبيلة التي دخلوا في حمايتها العتوب تسمى بني خالد

عرف المفاهيم التالية

- ❖ العتوب مجموعة من العشائر أو الأسر التي تنتمي إلى عدة قبائل أبرزها قبيلة عنزة
- ❖ قبيلة عنزة هي القبيلة العربية الكبرى التي كانت تستوطن منطقة نجد بشبه الجزيرة العربية

❖ عدد أسباب هجرة العتوب

- القحط
- الصراعات القبلية

❖ عدد - أشهر الأسر التي تنتمي للعتوب

- آل صباح
- آل خليفة
- الجلاهمة

❖ فسر- تسمية العتوب بهذا الاسم العتوب اسم يدل على الترحال وليس نسباً

❖ أكمل : الدولة التي شكلت محطة الاستقرار الأولى بالنسبة للعتوب هي قطر

❖ علل - شكلت قطر محطة الاستقرار الأولى بالنسبة للعتوب

- بسبب القحط الذي أصاب مناطقهم الأصلية
- الصراعات القبلية

أكمل العبارات التالية :

- المنطقة التي استقر فيها العتوب في قطر بالقرب من الزبارة تسمى الفريجة
- استقر العتوب في منطقة الفريجة بقطر لمدة 50 سنة
- علل - هجرة العتوب من قطر بسبب حدوث خلاف بين العتوب وآل مسلم حكام قطر آنذاك



- من خلال الخريطة التي أمامك : أذكر خط سير هجرة العتوب إلى الكويت
 - من الهدار إلى قطر
 - في قطر استقروا بالفريجة لمدة 50 سنة وتعلموا ركوب البحر
 - حدث خلاف بين العتوب و آل مسلم حكام قطر و اتجهوا إلى جنوب البصرة ثم الصبية
 - استقروا في منطقة الكوت أو القرين (الكويت) حالياً

- عدد النتائج المترتبة - على حدوث الخلاف بين العتوب وآل مسلم حكام قطر
 - هجرة العتوب
 - اتجهوا إلى جنوب البصرة ثم إلى الصبية وأخيراً استقروا في منطقة الكوت أو القرين (الكويت حالياً)



اختيار آل صباح لحكم الكويت

اقرأ ثم أجب عما يلي :

دخلت ثلاث أسر عربية ذات شأن هي آل صباح وآل جلاهمة وآل خليفة تحدهم عوامل المصلحة والطموح في التحالف واستقرت على بقعة من الأرض على الساحل الشمالي الغربي من الخليج تسمى الكويت.

- من القائل أحد موظفي شركة الهند الشرقية البريطانية (فرنسيس و اردن)

- عدد أسباب اختيار الشيخ صباح الأول للحكم

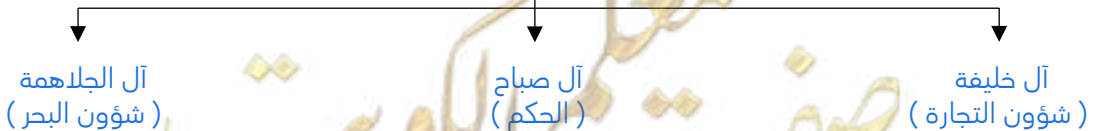
☆ ممكن أن يأتي السؤال بصيغة أخرى: علل اختيار الشيخ صباح الأول للحكم

- سماته الشخصية من شجاعة و حكمة
- كانت الزعامة لوالده على قومه منذ أن كانوا بنجد
- طوال أيام العام مقيماً بالكويت وعمله في البر خلافاً للبقية كانوا يعملون في البحر

أكمل العبارات التالية :

- حاكم الكويت الذي أصبحت في عهده الكويت مركز جذب سكاني يسمى صباح الأول
- حاكم الكويت الذي بدأت في عهده تتحدد بقية التراتيب التنظيمية للمجتمع الكويتي الجديد يسمى صباح الأول

أكمل المخطط السهمي تقسيم المهام بين الأسر الثلاث الكبيرة





أكمل : قبيلة امتدت نفوذها من قطر جنوباً حتى حدود البصرة شمالاً بمحاذاة ساحل الخليج العربي تسمى **بني خالد**

عدد - التهديدات والأخطار المحيطة بالإمارة الوليدة (الكويت)

- الصراع بين العثمانيين وبني خالد
- الصراع بين السعوديين وبني خالد

الحاكم الأول : الشيخ صباح الأول بن جابر (1752 م - 1763 م)

أكمل : الحاكم الأول للكويت يسمى الشيخ **صباح الأول بن جابر**

علل - يعد اختيار صباح الأول البداية الحقيقية لظهور الكويت كياناً سياسياً منظماً

★ ممكن أن يأتي السؤال بصيغ أخرى:
عدد أهم الأحداث التي وقعت في عهد الشيخ صباح الأول
عدد الأسباب التي جذبت المهاجرين إلى الكويت في عهد الشيخ صباح الأول

- العمل على توطيد الأمن ونشر العدل
- تنظيم أمور السكان والبلدة الوليدة
- ساهم في ترسيخ أنشطة الكويت التجارية
- بدأت تجذب الكثير من المهاجرين
- نظام حكم قائم على الشورى والعدل

الحاكم الثاني الشيخ عبدالله الأول بن صباح بن جابر (1763 م - 1814 م)

أكمل : الحاكم الثاني للكويت يسمى الشيخ **عبد الله الأول بن صباح**

- عدد - صفات الشيخ عبد الله الأول بن صباح
- ذو سيرة حسنة
- نباهة وحزم
- قريب من الحق
- محب للعدالة

عدد - المناطق التي وصلت إليها تجارة الكويت في عهد الشيخ عبد الله الأول

- الهند
- اليمن
- شرق أفريقيا
- العراق

عدد - أهم الأحداث التي وقعت زمن الشيخ عبد الله الأول

- معركة الرقة
- بناء سور الكويت الأول عام 1797 م لحماية المدينة من الأخطار الخارجية

اختياري : تعرضت البصرة لنكبات على يد الفرس في الفترة من

- (1775 - 1778 م)
- (1776 - 1777 م)
- (1774 - 1778 م)
- (1775 - 1779 م)

أكمل : القوة البحرية التي تمتلك أكبر الأساطيل وأقواها بشمال الخليج في عام ١٧٨٣ م تسمى **بني كعب**

معركة الرقة	
السنة	1783 م
الأطراف	الكويت × بني كعب
الأسباب	<ul style="list-style-type: none"> ازدهار الكويت ونموها التجاري والاقتصادي أثار غيرة بني كعب تفضيل التجار لميناء الكويت رأى بني كعب ازدهار الكويت يؤثر على تجارتهم البحرية وتضييق معاملاتهم البحرية
النتائج	<ul style="list-style-type: none"> استطاع الكويتيون إثبات قدرتهم أمام قوة بحرية كقوة بني كعب عاد الكويتيون بعد المعركة بالكثير من الذخيرة والمدافع وتصبوها على الشاطئ

علل - نصب الكويتيون المدافع على الشاطئ بعد معركة الرقة تخليداً لانتصارهم



الحاكم الثالث : الشيخ جابر الأول بن عبد الله الصباح : 1814 م - 1859 م

عدد سمات وصفات الشيخ جابر الأول

- هادئ الطبع
- محب لقومه
- مشفق عليهم
- ذكي جداً
- اشتهر بجابر العيش

علل - الشيخ جابر الأول بن عبد الله الصباح اشتهر بجابر العيش لكرمه وكثرة ما يتصدق به على الفقراء والمساكين

أكمل : العام الميلادي الذي قام فيه الكابتن البريطاني ج. بروكس برحلته للخليج 1830 م

عدد - أهم أعمال الشيخ جابر الأول

☆ ممكن أن يأتي السؤال بصيغة أخرى: **أكمل**

- بناء السور الثاني عام ١٨١٤ م
- ساعد العثمانيين على إعادة البصرة بعد خروج القبائل على السلطة العثمانية
- رفض عرض مقدم من شركة الهند الشرقية البريطانية لإقامة محطة فحم لدولة الكويت عام 1841 م
- في عام 1839 م رفض الشيخ جابر الأول طلب نائب المقيم السياسي البريطاني في الخليج بأن تقوم الكويت برفع الراية الإنجليزية وإقامة مباني على أراضيها

عدد مطالب نائب المقيم السياسي البريطاني في الخليج من الشيخ جابر الأول

- تقوم الكويت برفع الراية الإنجليزية
- إقامة بعض المباني على أراضيها

علل لما يلي :

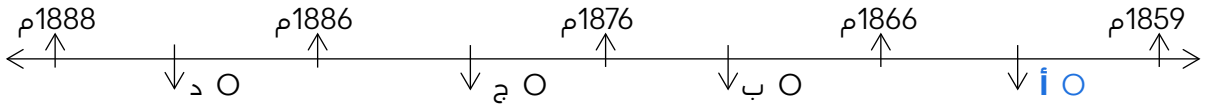
رفض الشيخ جابر الأول طلبات المقيم السياسي البريطاني لأنه في غير صالح الكويت

تعد فترة حكم الشيخ جابر الأول فترة ازدهار بحري لإمارة الكويت

- تطورت صناعة السفن الكبيرة المعروفة باسم البغلة والبتيل
- استطاع الكويتيون الوصول إلى سواحل الهند واليمن لنقل البضائع

حكام الكويت (الرابع - الخامس)

❑ اختياري : الفترة الزمنية التي تمثل حكم الشيخ صباح الثاني بن جابر :



أكمل ما يلي :

❑ حاكم الكويت الرابع الذي تقدمت التجارة في عهده يسمى الشيخ صباح الثاني بن جابر

❑ حاكم الكويت الرابع الذي ألغى الرسوم احتراماً لرغبة أبناء شعبه يسمى الشيخ صباح الثاني بن جابر

❑ علل - تقدمت التجارة في عهد الشيخ صباح الثاني بن جابر بشكل كبير

- إلغاء الرسوم على البضائع
- نظام الحكم العادل في الكويت

أكمل ما يلي :

❑ المعتمد البريطاني في الخليج الذي زار الكويت عام 1865 م والذي أشاد بالتقدم الاقتصادي والتجاري الذي حققته الكويت يسمى لويس بيلي

❑ أهم الأعمال والأحداث في عهد الشيخ صباح الثاني بن جابر

- تقدم التجارة في عهده
- إلغاء الرسوم على البضائع
- التقدم الاقتصادي والتجاري
- النظام العادل للحكم في الكويت
- احتفاظ الكويت باستقلالها

الحاكم الخامس : الشيخ عبدالله بن صباح الثاني (1866م - 1892 م)

❑ عدد - صفات الشيخ عبد الله بن صباح الثاني

- حسن السيرة ودمائه الأخلق
- كان محبوباً لدى الجميع

❑ أكمل : العام الميلادي الذي ساعد فيه الشيخ عبد الله بن صباح الثاني حملة مدحت باشا على إقليم الإحساء 1871 م

❑ عدد أهم الأحداث في عهد الشيخ عبد الله بن صباح الثاني

★ ممكن أن يأتي السؤال بصيغة أخرى:

عدد المساعدات التي قدمها الشيخ عبد الله بن صباح الثاني لحملة مدحت باشا عام 1871 م

- مساعدة العثمانيين في حملة مدحت باشا على إقليم الإحساء عام 1871 م
- ساند الحملة بأسطول بحري يقوده بنفسه
- جيش بري بقيادة شقيقه الشيخ مبارك

صفوة معلمي الكويت



الحاكم السادس : الشيخ محمد بن صباح (1892م - 1896م)

عدد - صفات الشيخ محمد بن صباح

- النزاهة
- الوقار
- التواضع

أكمل ما يلي :

- حاكم الكويت الذي ساعده في الحكم أخواه الشيخان جراح ومبارك يسمى الشيخ محمد بن صباح
- الشيخ الذي تولي الشؤون المالية في عهد الشيخ محمد بن صباح يسمى جراح
- الشيخ الذي تولي شؤون البادية والجيش في عهد الشيخ محمد بن صباح يسمى مبارك
- العام الميلادي الذي استقبل فيه الشيخ محمد بن صباح أسرة الأمير عبد الرحمن آل سعود 1891 م
- مؤسس الدولة السعودية الثالثة يسمى الملك عبد العزيز آل سعود

النمو التجاري و الاقتصادي للكويت تحت حكم آل صباح

عدد أهم القرارات التي اتخذها حكام الكويت و ساعدت على النمو التجاري والاقتصادي للكويت

☆ ممكن أن يأتي السؤال بصيغة أخرى: **فند**

- قلة الضرائب على البضائع القادمة للكويت
- تشجيع بناء سفن الغوص وتأمين طرق التجارة المارة عبر أراضيها
- اجتذاب الوكالات التجارية التابعة للشركات الأوروبية العاملة في الخليج العربي
- لعب التجار الكويتيون دور الوسيطاء التجاريين لبناء علاقات بين الدول المجاورة
- تعززت نزعة الاستقلال لدى حكام الكويت وتأكيد كياناتهم المستقل

أكمل العبارات التالية :

- العام الميلادي الذي انتقلت فيه الوكالة البريطانية من البصرة إلى الكويت للمرة الأولى هو 1793 م
- العام الميلادي الذي انتقلت فيه الوكالة البريطانية من البصرة إلى الكويت للمرة الثانية هو 1821 م

علل - نمو وازدهار الكويت في ظل حكم آل صباح

☆ ممكن أن يأتي السؤال بصيغة أخرى: **عدد عوامل**

- موقع الكويت الاستراتيجي على الجزء الغربي للخليج العربي
- طبيعة نظام الحكم المعتمد على العدل والشورى والأمن
- وجود علاقات متوازنة مع القوى المجاورة
- التسهيلات التي كانت تمنح لتجار البادية
- النظام الاقتصادي وتوزيع المهام ما بين الغوص ونقل التمور وتجارة البادية
- الصفات التي تميز بها أهل الكويت من التسامح والانفتاح على الآخرين

عرف - تجارة المسابرة هي التسهيلات التي كانت تمنح لتجار البادية

اكتب فقرة تاريخية مترابطة مستعيناً بالكلمات الآتية : ((هوية الكويت - العتوب - النواة الأولى -حكم آل صباح))

إن هوية الكويت تشكلت مبكراً منذ عملية التأسيس التي جرت على يد العتوب حيث استطاعت أن تكون النواة الأولى التي سرعان ما استقطبت العديد من المجموعات السكانية الأخرى التي وفدت إلى أرض الكويت وتحولت لمركز جذب سكاني تحت حكم آل صباح



التنافس الاستعماري الأوروبي على منطقة الخليج العربي من القرن 16 - 19 م

- ❑ اختياري : سعى الأوروبيون بداية بالبرتغاليين للسيطرة على الخليج العربي في مطلع القرن
 ○ الرابع عشر ○ الخامس عشر ○ السادس عشر ○ السابع عشر

أكمل العبارات التالية :

- ❑ أول دولة أوروبية سعت للسيطرة على الخليج العربي في مطلع القرن السادس عشر هي البرتغال
 ❑ دولة تعد مركزاً للتوابع في جنوب شرق آسيا تسمى الهند

❑ علل - لعب البرتغاليون والهولنديون دوراً مهماً في تاريخ الاستعمار الأوروبي للخليج العربي في مطلع القرن السادس عشر

- لأنهم أدركوا الأهمية الاقتصادية للخليج العربي
- النهضة الملاحية التي شهدتها بلادهم
- العامل السياسي والديني
- العامل العلمي الذي كان له دوراً في حركة ونشاط العلوم الأوروبية وبخاصة علم الفلك والرياضيات

أولاً: البرتغاليون

❑ أكمل : أسوأ النظم الاستعمارية في الخليج العربي يسمى الاستعمار البرتغالي

❑ علل - السيطرة البرتغالية من أسوأ النظم الاستعمارية في الخليج العربي

- مارس البرتغاليون سيطرتهم القسوى على الخليج العربي
- ظهور بعض الأنشطة المعادية لهم من العثمانيين

علل لما يلي :

❑ التواجد البرتغالي في منطقة الخليج العربي تعرض للانهايار التدريجي

- المنافسة التجارية بينه وبين الهولنديين والإنجليز
- جهود البعارة في عُمان التي ساهمت في تصفية الوجود البرتغالي
- وقوع البرتغال نفسها تحت الاحتلال الأسباني

ثانياً : الهولنديين

أكمل العبارات التالية :

- ❑ الدولة التي برز وجودها بالشرق في أواخر القرن السادس عشر تسمى هولندا
 ❑ العام الميلادي الذي خرج فيه أول أسطول هولندي إلى آسيا وبلغ جزر الهند الشرقية هو 1595م

❶ عدد - أهم الأعمال التي قام بها الهولنديين في منطقة آسيا وشرقها

- خروج أول أسطول هولندي إلى آسيا عام 1595 م
- إنشاء شركة الهند الشرقية المتحدة
- عقد معاهدات مع حكام منطقة الخليج العربي
- بناء القلاع وتعيين الحكام والقضاة في المواقع التابعة لهم
- اتخاذ الهولنديين من ميناء بندر عباس مركزاً تجارياً لهم لتجارة التوابل



ثالثاً : البريطانيون

❶ علل - زيادة حدة التنافس بين البريطانيين والهولنديين

- بسبب تأسيس شركة الهند الشرقية الإنجليزية 1600 م
- انهيار النفوذ الهولندي والاستيلاء على ممتلكاتهم

عدد ما يلي :

❶ الممتلكات الهولندية التي استولت عليها بريطانيا

- ممتلكات هولندا في الهند واستولوا على سيلان
- المواقع التجارية الهولندية في الخليج العربي

❶ النتائج المترتبة على انهيار النفوذ الهولندي

- وضع البريطانيون يدهم على ممتلكات هولندا في الهند سيلان
- المواقع التجارية الهولندية في الخليج العربي
- قيام شاه فارس بمنح البريطانيين بعض الامتيازات
- ظهرت لبريطانيا الأهمية الاستراتيجية لمنطقة الخليج العربي

❶ الأعمال التي قام بها البريطانيون في منطقة الخليج

- تأسيس مراكز تجارية لهم
- إنشاء مركز تجاري في البصرة الخاضعة للدولة العثمانية
- مركز للبريد البري المتجه من الهند إلى لندن

علل لما يلي :

❶ نقل مركز البريد و التجارة البريطاني من البصرة إلى الكويت في عام 1775م

- بسبب الصراع القائم بين الدولة الفارسية والعثمانية بين عام 1775 م - 1779 م
- الحصار الفارسي للبصرة عام 1775م

❶ اضطرار بريطانيا للعودة إلى الكويت مرة أخرى واتخاذها مقراً مؤقتاً لهم في الفترة ما بين (1793م - 1795 م)

بسبب المشاكل التجارية والسياسية بين العثمانيين والوكالة البريطانية

❶ دلل - أهمية الكويت بالنسبة لبريطانيا في نهاية القرن الثامن عشر الميلادي

- أسس البريطانيون في الكويت مراكز تجارية لهم
- نقل مركز البريد من البصرة للكويت مرتين عام 1775 م وعام 1793 م
- توقيع اتفاقية الحماية عام 1899 م

❏ دلل كانت العلاقة الكويتية - العثمانية علاقة اسمية

- كانت علاقة قائمة على الولاء الديني بحكم أن الدولة العثمانية هي دولة الخلافة
- رفعت السفن الكويتية المبحرة إلى شواطئ بحر العرب والهند العلم العثماني
- لم يكن للعثمانيين أي سلطة إدارية أو سياسية أو عسكرية في الكويت
- من أدار شؤون الكويت الداخلية هم حكامها وأهلها

❏ علل - مساعدة الكويت للدولة العثمانية في حملة محدث باشا عام 1871 م

- إعادة سيطرتها على إقليم الإحساء
- تلطيف الأجواء بين الكويت والعثمانيين

❏ عدد- الأسس التي حددها الفرمان العثماني في علاقة الكويت بالدولة العثمانية

- شيخ الكويت مستقل في شؤونه الداخلية
- منح شيخ الكويت لقب قائم مقام
- أهالي الكويت لا يلتزمون بدفع رسوم أو ضرائب إلى الباب العالي
- إلزام السفن الكويتية برفع العلم العثماني مع إعفائها من دفع الرسوم

لاحظ خريطة أوروبا الصماء أمامك

❏ حدد الدول الاستعمارية (البرتغال - هولندا - إنجلترا)



الشيخ مبارك الصباح (1896 م - 1915 م)

❏ أكمل : الصورة المقابلة تمثل الحاكم السابع لدولة الكويت ويسمى

الشيخ مبارك الصباح



❏ علل - فترة حكم الشيخ مبارك فترة حاسمة في تاريخ الإمارة

★ ممكن أن يأتي السؤال بصيغة أخرى : علل - الشيخ مبارك كان حاكماً مطلقاً للكويت

لأنه واجه خلال فترة حكمه واقعاً دولياً يمزج بالتغيرات والخلافات والمطامع والتهديدات التي طالت وهددت إمارته ووجودها

أولاً : الأوضاع الداخلية

❏ دلل على صحة العبارة " بدأ الشيخ مبارك التعامل مع الأوضاع الداخلية والخارجية في إمارة الكويت بمنتهى الحذر والحيطة "

- بدأ في تشجيع التجارة
- رعاية مصالح الإمارة الاقتصادية والسكانية
- عمل على استغلال التوترات بين القوى الاستعمارية بهدف تأمين قدر من الأمن لإمارته

❏ عدد أهم المجالات الداخلية في عهد الشيخ مبارك بن صباح

- حفظ الأمن وتشجيع التجارة
- الصحة
- التعليم
- الجيش



❏ دلل على صحة العبارة " حرص الشيخ مبارك الصباح على حفظ الأمن وتشجيع التجارة "

★ ممكن أن يأتي السؤال بصيغة أخرى:
فند - لم تلقى التجارة أي اهتمام من قبل الشيخ مبارك الصباح أثناء فترة حكمه

- إخراج قوات عسكرية لتأمين طرق القوافل التجارية وضمان سلامة الطرق داخل حدود إمارته
- عمل على تشجيع التجارة
- مراقبة الأسواق ومشكلات الأهالي

❏ دلل - اهتمام الشيخ مبارك الصباح بالتعليم

أنشئت المدرسة المباركية عام 1911 م أول المدارس النظامية الأهلية



❏ دلل - اهتمام الشيخ مبارك الصباح بالصحة

وافق علي تأسيس أول مستشفى عام 1911 م (المستشفى الأمريكي)

❏ دلل - اهتمام الشيخ مبارك الصباح بالجيش

وفر له ما يتوفر للجيش النظامية من عقيدة قتالية وتموين وإدارة وتشكيلات قتالية معتمداً على قبائل الكويت وسكانها

ثانياً : الأوضاع الخارجية

❏ عدد الأطماع الدولية تجاه الكويت في عهد الشيخ مبارك الصباح

- الروس
- الألمان
- الدولة العثمانية
- بريطانيا

الروس

❏ لخص الأطماع الروسية نحو تعزيز نفوذها في الكويت في نهاية القرن التاسع عشر الميلادي

- استغلال بعض المشاريع الروسية لإنشاء محطة للفحم وميناء لتزويد سفنها بالوقود
- جعل الكويت نهاية لخط سكة حديد مشروع كابنيست حيث كانت هذه المشاريع ستارا لأهداف سياسة غير معلنة

❏ عرف - (مشروع كابنيست)

هو مشروع إنشاء محطة للفحم الحجري في الكويت لتزويد السفن الروسية بحاجتها من الوقود

الألمان

أكمل العبارات التالية:

❏ المشروع الألماني الذي رفضه الشيخ مبارك الصباح يسمى خط سكة حديد برلين- بغداد

❏ العام الميلادي الذي استقبل فيه الشيخ مبارك الصباح البعثة الألمانية 1900 م

❏ المنطقة التي استقبل فيها الشيخ مبارك الصباح البعثة الألمانية تسمى الجهراء

علل - مجئ البعثة الألمانية للكويت عام 1900 م

لاستطلاع الأمر حول مشروع خط سكك حديد برلين - بغداد الذي كان مقرر أن ينتهي عند أحد الموانئ على الخليج العربي في الكويت تحديداً

علل - رفض الشيخ مبارك الصباح أن يكون للألمان أي مشاريع اقتصادية فوق أراضيهم

لأنه مرتبط باتفاقية حماية مع الإنجليز

الدولة العثمانية

عدد - أسباب رفض الشيخ مبارك الصباح مشروع سكة الحديد مع الدولة العثمانية

☆ ممكن أن يأتي السؤال بصيغة أخرى: **علل**

- رأى الشيخ مبارك الصباح أن ذلك خطراً يهدد إمارته واستقلاله
- الدولة العثمانية كانت ستبعث موظفين وجباة ضرائب فتفقد بذلك استقلالها الذي ميزها منذ نشأتها

دلل - على براعة الشيخ مبارك الصباح السياسية بعلاقته مع الدولة العثمانية

- تعامل الشيخ مبارك مع طبيعة الوضع العثماني بنوع من المرونة وعدم التصادم المباشر
- عقد اتفاقية الحماية مع بريطانيا عام 1899م

اكتب ردة فعل العثمانيين على عقد الشيخ مبارك اتفاقية الحماية 1899 م

- اكتب ردة فعل العثمانيين على عقد الشيخ مبارك اتفاقية الحماية 1899 م
- تهديد الشيخ مبارك نفسه بالنفي
- إرسال وحدات عسكرية للكويت

البريطانيون

عدد - الخطوات التي قام بها الشيخ مبارك في تأمين وضع الإمارة في مجمل تحركاته السياسية

- اتخاذ خطوات أكثر جرأة خصوصاً تجاه الجانب البريطاني
- نجح في بث بذور الشك أنه في حالة عدم حصوله على اتفاق مع بريطانيا سيعقد اتفاق مع الدولة العثمانية أو روسيا
- نجح في عقد اتفاقية الحماية عام 1899م

عدد- النتائج المترتبة على التقارب البريطاني مع الشيخ مبارك الصباح

- عقد اتفاقية الحماية بين بريطانيا والكويت في 23 يناير 1899م
- تدعيم واستقرار وتطور الأوضاع في الكويت
- دعم قدراتها في مواجهة الأخطار الخارجية والداخلية

اتفاقية الحماية 1899 م وآثرها على الكويت

علل

تزايد رغبة الشيخ مبارك في تأمين وضع إمارة الكويت عام 1899 م

بسبب قلق الشيخ مبارك الصباح من إقدام العثمانيين على ضم الإمارة بالقوة



علل - أهمية اتفاقية الحماية 1899م لدولة الكويت

- حفظت للكويت حدودها من الأطماع في تلك الفترة
- تدعيم واستقرار وتطور الأوضاع في الكويت
- دعم قدراتها في مواجهة الأخطار الخارجية والداخلية

عدد الجوانب الإيجابية والسلبية لاتفاقية الحماية 1899 م

☆ ممكن أن يأتي السؤال بصيغة أخرى: فرق

الجوانب الإيجابية لاتفاقية الحماية 1899 م	الجوانب السلبية لاتفاقية الحماية 1899 م
<ul style="list-style-type: none">المحافظة على كيائها السياسيإيقاف تهديد الدول الاستعمارية لهاالتمهيد لجعل الكويت تنمو بعيداً عن هذه الصراعاتبريطانيا ملتزمة بحماية الكويت والدعم المادي السنوي لها	<ul style="list-style-type: none">فقدت سيادتها فيما يتعلق بإدارة شئونها الخارجيةطبقت على الكويت عبارة (إمارة مستقلة تحت الحماية البريطانية)

علل - حرص بريطانيا على أن تبقى اتفاقية الحماية مع الكويت سرية

بسبب عدم رغبتها في إثارة الدولة العثمانية أو خلق توتر جديد بينها وبين القوى الأوروبية

الشيخ مبارك الصباح وقيام الدولة السعودية الثالثة 1902 م

أكمل - العام الميلادي الذي قامت فيه الدولة السعودية الثالثة 1902م

اكتب باختصار عن : مساعدة الشيخ مبارك الصباح لقيام الدولة السعودية الثالثة 1902م

- تجهز الأمير عبد العزيز آل سعود لمغادرة الكويت بعد أن هيا له الشيخ مبارك من الأسلحة والمؤن ما يعينه على تحقيق هدفه .
- تمكن الأمير عبد العزيز من دخول الرياض
- أرسل الأمير عبد العزيز لوالده وللشيخ مبارك يخبرهما بنجاحه و يطلب من والده الإمام عبد الرحمن الحضور للرياض فغادر الكويت بعد استقرار دام تسع سنوات .

حدد علي الخريطة التالية ما يلي : معركة الصريف - معركة هدية - الرياض - الكويت - مدينة الجھراء



أكمل ما يلي :

Q العام الميلادي الذي وقعت فيه أحداث معركة الصريف 1901 م

Q العام الميلادي الذي وقعت فيه أحداث معركة هدية 1910 م

Q دلل " الشيخ مبارك كان يقف بقوة في وجه أي سياسة تنتقص من سيادة الكويت "

- عارض بشكل كبير عملية تعيين ممثل تركي في الكويت
- حدة نقاشه مع المعتمد البريطاني

اقرأ ثم أجب عما يلي :

Q (لقد قاومت هذا طيلة عمري ، وانت تطالبني بالموافقة على ذلك)

Q القائل : الشيخ مبارك الصباح

Q المناسبة : معارضة بريطانيا بتعيين ممثل تركي في الكويت

Q اختر الإجابة الصحيحة : استمرت فترة حكم الشيخ مبارك الصباح قرابة

○ خمسة وعشرين عام

○ خمسة عشر عام

○ عشرين عام

○ عشرة أعوام

