

مذكرة

الفلة

الفصل
الأول

8



الاجتماعيات



يمكنك طلب المذكرة المحولة مطبوعة عن طريق الموقع

22250101



WWW.TMKNKW.COM

الفهرس

- الوحدة الأولى: (لمحة تاريخية لنشأة الدولة الإسلامية وأهمية حضارتها).....2
- مظاهر الحضارة الإسلامية ودورها في نهضة أوروبا الحديثة.....9
- الوحدة الثالثة: البيئة الطبيعية لدول العالم الإسلامي.....19
- الوحدة الرابعة: أثر البيئة الطبيعية على الاقتصاد والمجتمع.....29

صفوة معلمي الكويت



الوحدة الأولى: (لمحة تاريخية لنشأة الدولة الإسلامية وأهمية حضارتها)

ما المقصود بالديانات السماوية؟

ما هدف الديانات السماوية؟

أذكر مميزات الوطن العربي.

اختر من المجموعة (أ) ما يناسبها من المجموعة (ب) بوضع الرقم:

الديانة	الرقم	النبي
1- اليهودية	2	عيسى عليه السلام
2- النصرانية	3	محمد ﷺ
3- الإسلام	1	موسى عليه السلام

علل: الوطن العربي مهد الحضارات.

صنف الحضارات الآتية في مكانها المناسب في الجدول الذي يليها:

(الحضارة الفرعونية - حضارة بلاد الرافدين - حضارة دلمون - حضارة بلاد اليمن)

الدولة	العراق	مصر	اليمن	البحرين
الحضارة				

مظاهر الحضارة الإسلامية





أكمل ما يلي:

1. انطلقت الدعوة الإسلامية على يد سيدنا محمد ﷺ في ()
2. وصلت الدعوة الإسلامية في حياة النبي إلى حدود الإمبراطورية
3. العام الذي أتم فيه النبي ﷺ تبليغ رسالة الإسلام وألقى فيه خطبة في حجة الوداع هو عام ()
4. الحجة التي خطب فيها النبي خطبة حدد فيها حقوق الفرد المسلم تجاه دينه تسمى (الوداع)
5. العام الذي توفي فيه الرسول ﷺ هو عام ()

أذكر أهمية حجة الوداع عام 10 هجري.

هي حقوق وواجبات الفرد المسلم تجاه دينه
عالمية تحت راية الإسلام

ما المقصود بحركة الفتوحات الإسلامية؟

هي دعوة ظهرت بعد وفاة الرسول ﷺ تقوم على دعوة البلاد غير المسلمة للدخول إلى الإسلام إما سلماً أو حرباً

علل : اتساع الدولة الإسلامية بعد وفاة الرسول ﷺ .

بسبب قيام حركة الفتوحات الإسلامية

عدد قارات العالم القديم. (قارة آسيا وأفريقيا وأوروبا)

صنف العواصم أو المدن الآتية في الجدول الذي يليها:

(دمشق - بغداد - المدينة المنورة - الكوفة - إسطنبول)

الدولة	العاصمة
دولة الخلافة الإسلامية	المدينة المنورة - الكوفة
الدولة الأموية	دمشق
الدولة العباسية	بغداد
الدولة العثمانية	إسطنبول



أكمل ما يلي:

1. الدولة التي أحدثت تحولاً شاملاً في جميع جوانب الحياة هي ()
2. الحضارة التي أجمع عليها العلماء على أنها تحتل مكانة رفيعة بين كبرى الحضارات التي عرفها التاريخ تسمى ()

علل ما يلي أجمع العديد من العلماء على أن الحضارة الإسلامية تحتل مكانة رفيعة بين كبرى الحضارات التي عرفها التاريخ.



حدد على الخريطة التي أمامك ما يلي:

1. المدينة التي بدأت منها الدعوة الإسلامية باستخدام الرمز
2. المدينة التي هاجر إليها النبي ﷺ وأسس فيها الدولة الإسلامية باستخدام الرمز

عرف المقصود بالحضارة.

فرق في الجدول التالي بين جوانب الحضارة الروحية والمادية.

المقارنة	الجوانب الروحية للحضارة	الجوانب المادية للحضارة
التعريف	هي الجوانب غير المحسوسة	هي الجوانب المحسوسة
الأمثلة	الأخلاق والتقاليد والأعراف والمثل والأفكار والثقافة	الآلات والأدوات والمباني والزروع والصناعات والاكتشافات العلمية

ما المقصود بالثقافة؟

عدد الشعوب التي كونت مجتمع الدولة الإسلامية.

الفرس والترك والأفارقة والآسيويين والأوروبيين والهنود



• صنف الصور التالية حسب الجانب الذي تمثله في الحضارة الإسلامية بكتابة كلمة (مادي) أو (روحي) أسفل كل صورة:



روحي



مادي



روحي



مادي

• ما المقصود بالحضارة الإسلامية؟

هي كل ما قدمه المجتمع الإسلامي في الجوانب الروحية والجوانب المادية لخدمة المجتمع البشري

• أكمل المخطط التالي:

أسس قيام الحضارة الإسلامية



• أكمل ما يلي:

1. القرآن الكريم والسنة النبوية يمثلان أحد أسس قيام الحضارة الإسلامية وهو ()
2. الاسم الذي أطلق على حضارة الفرس هو ()
3. الاسم الذي أطلق على حضارة الروم هو ()
4. أصدرت الجمعية العامة للأمم المتحدة قراراً بإدخال اللغة العربية ضمن اللغات الرسمية في هيئة الأمم المتحدة عام (1973)
5. اليوم العالمي للاحتفال باللغة العربية هو يوم ()

• علل: يتحدث العرب وغيرهم من الشعوب الإسلامية اللغة العربية.



أذكر أهم الحضارات التي ساهمت في قيام الحضارة الإسلامية.

عدد الخصائص التي تميزت بها الحضارة الإسلامية.

علل: تميزت الحضارة الإسلامية بأنها حضارة إيمان وعمل.

علل: تميزت الحضارة الإسلامية بأنها حضارة إنسانية عالمية.

أكمل: صفة تميز بها ديننا الإسلامي في التعامل بين المسلمين وفي تعامل المسلمين مع الآخرين أيا كان جنسهم ودينهم تسمى (التسامح)

ما النتائج المترتبة على تميز الحضارة الإسلامية بأنها حضارة تسامح؟

ما المقصود بالتسامح؟ هو الحلم والعفو في التعامل بين الناس

علل ما يلي:

1. الحضارة الإسلامية حضارة متطورة.

2. الحضارة الإسلامية تتسع لكل تطورات الحياة الإنسانية في شتى المجالات

أكمل: الخاصية التي خص بها الله تعالى الأمة الإسلامية هي (الوسطية)



عدد مظاهر الوسطية في الحضارة الإسلامية.

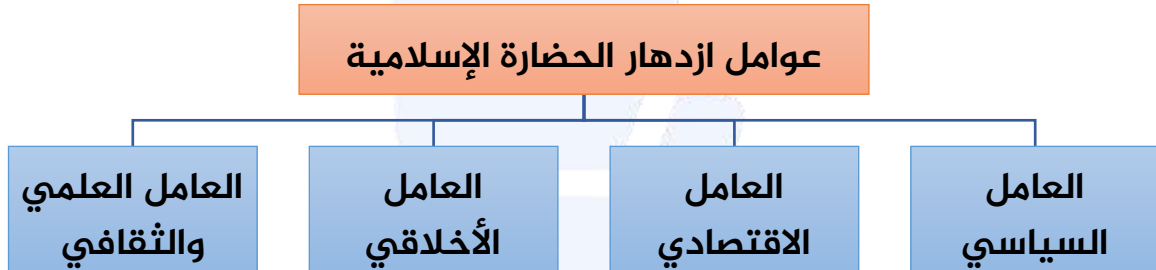
دلل على انعكاس خصائص الحضارة الإسلامية على دولة الكويت.

أكمل: أمير دولة الكويت الراحل الذي لقب بلقب قائد العمل الإنساني هو)

علل: لقب الشيخ صباح الأحمد الجابر الصباح رحمه الله بقائد العمل الإنساني.

عرف الازدهار:

أكمل المخطط التالي:



ما المقصود بأهل الذمة؟ هم أهل الكتاب من اليهود والنصارى

علل ما يلي:

1. للعامل السياسي دور مهم في ازدهار الحضارة الإسلامية.

2. ازدهار الزراعة والصناعة في الدولة الإسلامية، أو ازدهار الدولة الإسلامية اقتصاديا



3. كان للعامل الأخلاقي أثر بالغ في تميز الحضارة الإسلامية عن غيرها من الحضارات.

• صنف العبارات التالية في مكانها المناسب بالجدول الذي يليها:

(طلب العلم والتعلم - التحلي بمكارم الأخلاق ونبذ الأخلاق السيئة - توفر عنصر الأمن والاستقرار - تنوع الموارد الطبيعية وتوفر الأيدي العاملة)

العامل السياسي	العامل الاقتصادي	العامل الأخلاقي	العامل العلمي
من	تنوع الموارد الطبيعية وتوفر الأيدي العاملة	الأخلاق ونبذ الأخلاق السيئة	



مظاهر الحضارة الإسلامية ودورها في نهضة أوروبا الحديثة

علل ظهرت العديد من المظاهر التي جعلت الدولة الإسلامية رائدة في شتى الجوانب.

عدد مظاهر الحضارة الإسلامية.

أكمل العبارات التالية:

1. بعد وفاة الرسول ﷺ استحدث نظاما سياسيا جديدا يسمى ()
2. النظام الذي وضع لتطبيق الشورى بين المسلمين هو ()

ما المقصود بالخلافة؟ هي رئاسة عامة للمسلمين في أمور الدين والدنيا

أكمل العبارات التالية:

1. المكان الذي اجتمع فيه المسلمين لاختيار أبو بكر الصديق للخلافة اسمه ()
2. تقع سقيفة بني ساعدة التي اجتمع فيها المسلمين لاختيار أبو بكر الصديق للخلافة في ()

ما هي شروط تولي منصب الخليفة.

أذكر أهم التنظيمات التي ظهرت بعد اتساع الدولة الإسلامية.

ما المقصود بالوالي؟



❖ ما هي شروط الوزير لتولي شؤون الدولة نيابة عن الخليفة؟

❖ أكمل:

1. نظام سياسي يلي الخلافة في الأهمية يسمى ()
2. اقتبس المسلمون نظام الوزارة من الدولة ()
3. الدولة التي كانت تحكم بلاد فارس قبل انتشار الإسلام اسمها ()
4. الشخص الذي أطلق عليه لقب الوزير لأول مرة في عهد الخليفة العباسي أبي العباس السفاح اسمه ()
5. النظام الذي بدأ في عهد الرسول ﷺ واستمر فيما بعد في الدولة الإسلامية اسمه ()

❖ ما المقصود بالديوان؟ هو السجل الذي يكتب فيه

1. نظام إداري استحدثه الخليفة الراشدي عمر بن الخطاب يسمى ()
2. استحدث الخليفة عمر بن الخطاب نظام الدواوين عام ()
3. من أشهر الدواوين التي استحدثها الخليفة عمر بن الخطاب هو ()
4. تم تعريب الدواوين في عهد الخليفة الأموي اسمه ()
5. نظام أنشئ لحفظ الأمن الداخلي في الدولة الإسلامية يسمى ()
6. تطور نظام الشرطة في عهد الخليفة الراشدي ()
7. أطلق على رئيس الشرطة في عهد علي بن أبي طالب اسم ()

❖ عرف نظام الشرطة.



علل ما يلي:

1. استحدث الخليفة عمر بن الخطاب نظام الدواوين عام 20 هجري.

2. إنشاء نظام الشرطة

صنف الأنظمة التالية حسب مكانها الصحيح في الجدول التالي:

(نظام الشرطة - نظام الخلافة - نظام الوزارة - نظام الدواوين - نظام الولاية)

الأنظمة الإدارية	الأنظمة السياسية
نظام الشرطة - نظام الدواوين	نظام الخلافة - نظام الوزارة - نظام الولاية

عدد الجوانب الاقتصادية التي اهتمت بها الدولة الإسلامية.

ما النتائج المترتبة على اهتمام الدولة الإسلامية بالجانب الاقتصادي (الزراعة - الصناعة - التجارة)

علل ما يلي: عملت الدولة الإسلامية على تطوير الزراعة.

عدد جهود الدولة الإسلامية في تطوير الزراعة.

عرف قناة الري.

عرف السد:

أذكر أهمية السدود.



أكمل ما يلي:

1. من أشهر السدود في الدولة الإسلامية سد اسمه ()

2. المدينة التي يوجد فيها سد معاوية بن ابي سفيان اسمها ()

دلل " قامت الدولة الإسلامية بتوزيع مياه الري على الزروع بصورة عادلة "

علل: إنشاء ديوان الماء.

أكمل ما يلي:

1. قامت الدولة الإسلامية بتوزيع مياه الري على الزروع بصورة عادلة من خلال

إنشاء ديوان اسمه (ديوان الماء)

2. أنشأ ديوان الماء في مدينة اسمها (هرو)

3. الاسم الذي أطلق على دولة إيران قديما هو (خراسان)

4. من أشهر الحبوب الغذائية في الدولة الإسلامية وكان الطعام الأساسي

لغالبية سكانها هو (القمح)

5. منطقة في شبه الجزيرة العربية تميزت بزراعة القمح في الدولة الإسلامية

هي منطقة (نجد)

علل: اهتم المسلمون بزراعة القمح في الدولة الإسلامية.

عدد أهم الصناعات في الدولة الإسلامية.

أكمل: اهتمت الدولة الإسلامية بصناعة السفن الحربية في عهد الخليفة

(هارون الرشيد)

العام	الأساسي
الأطراف	المسلمين X البيزنطيين
عهد الخليفة الراشدي	



أكمل:

1. عرف المسلمون صناعة الورق الرخيص بعد فتح مدينة اسمها ()
2. الورق الذي كان يكتب عليه المسلمون قبل صناعة الورق الرخيص هو ()



لماذا ترك المسلمون الكتابة على ورق البردي والجلود؟

أكمل: سميت الصناعات الخشبية باسم ()

علل: سميت صناعة الارابيسك بهذا الاسم. (نسبة إلى العرب)

علل: ظهور وظيفة المحتسب في عهد الخليفة عمر بن الخطاب.

ما المقصود بالمحتسب؟

أكمل:

1. ظهرت وظيفة المحتسب في عهد الخليفة الراشدي اسمه ()
2. انتعشت حركة التجارة البرية والبحرية بعد استخدام المسلمين ()
3. الآلة التي سهلت معرفة الاتجاهات على القوافل والسفن تسمى ()

عرف البوصلة:



عدد المناطق التي انتشرت فيها الأسواق.



علل: أهمية البوصلة بالنسبة لتجارة المسلمين.

علل: زيادة موارد بيت مال المسلمين.

ما النتائج المترتبة على: " ازدهار التجارة الإسلامية وانتشارها "

عدد موارد بيت المال:

أذكر أهم المراكز الإسلامية التجارية التي أسهمت في نشر الإسلام.

ما المقصود ببيت مال المسلمين؟

علل: كان لجزيرة فيلكا دورا مهما في التجارة البحرية خلال العصر الإسلامي.



عدد طرق التجارة البرية في عصر الدولة الإسلامية.

إحدى محطات استراحة قوافل الحجاج التي اهتم بها خلفاء الدولة العباسية في الكويت تسمى

فرق بين العماثر الدينية والعماثر المدنية في الجدول التالي:

العماثر المدنية	العماثر الدينية
المدن - القصور	القباب - الأعمدة - المآذن

ما المقصود بالعماثر الدينية؟



عدد مميزات العمارات الدينية.

عدد سمات (مميزات) الأعمدة في بناء المساجد.

عرف المآذن. هي أعلى بناء في المسجد والتي ينطلق منها صوت الأذان

أكمل ما يلي:

1. حرصت دولة الكويت على تشييد مساجدها وفق الطراز ()
2. المسجد الذي يقع في قلب عاصمة دولة الكويت اسمه ()
3. أنشأ المسجد الكبير في قلب العاصمة الكويتية عام (1986)
4. أنشأ المسجد الكبير عام 1986م في عهد الشيخ ()

ما المقصود بالعمائر المدنية؟ هي التي تتمثل في المدن والقصور

دلل على صحة العبارة " بنى المسلمون المدن على أسس هندسية دقيقة "

أكمل:

- عاصمة الدولة الإسلامية في العصر العباسي هي
- تم بناء مدينة بغداد في عهد الخليفة العباسي اسمه
- عرف القصور.

أكمل: من أشهر القصور في الحضارة الإسلامية هو

- يقع قصر الحمراء في مدينة
- الاسم الذي كان يطلق على اسبانيا الحالية في العصر الإسلامي هو

ما هي مميزات (سمات) قصر الحمراء؟



عدد فئات المجتمع الإسلامي حسب المهن.

علل: كان للمرأة في المجتمع الإسلامي مكانة رفيعة ودور كبير في نهضة حضارتها.

أكمل: المرأة التي تولت الحكم خلال فترة دولة المماليك اسمها

أهل الذمة لفظ يطلق على اليهود والنصارى

علل: أهل الذمة كان لهم دور كبير في المجتمع الإسلامي (الدولة الإسلامية)

عدد أهم ما تميزت به عمارة المساجد الإسلامية.

أذكر العوامل التي أدت إلى ازدهار العلم والعلماء في الدولة الإسلامية.

عدد أهم المراكز العلمية في الحضارة الإسلامية في الجدول التالي:

المركز	المكان
المسجد الحرام	
المسجد النبوي	مدينة المنورة
الجامع الأزهر	
مكتبة بيت الحكمة	بغداد



أكمل الجدول التالي:

العلم	العالم	الكتاب
الفلك والجغرافيا	البيروني	القانون المسعودي
الكيمياء	جابر بن حيان	أسرار الكيمياء
الرياضيات	الخوارزمي	الجبر والمقابلة

علل: تدين أوروبا بالفضل الكبير في نهضتها الحديثة للحضارة الإسلامية.
حيث استفادت من الحضارة الإسلامية عن طريق:

عدد مراكز إشعاع الحضارة الإسلامية.

أكمل الجدول التالي:



مركز إشعاع الحضارة الإسلامية	الاسم الحالي (الدول الحالية)
بلاد الأندلس	إسبانيا
صقلية	إيطاليا
بلاد الشام	سوريا، لبنان، فلسطين، العراق، الكويت

ما النتائج المترتبة على ترجمة الأوروبيون لكتب علماء المسلمين؟



• عدد مجالات العلوم التي استفاد منها الأوروبيون من العلماء المسلمين وساهمت في نهضة أوروبا الحديثة.



• أكمل: أهم علماء المسلمين في الجغرافيا اسمه ()

• أذكر أهم أعمال (إنجازات) الشريف الإدريسي في مجال الجغرافيا.



• أكمل:

1. من كتب المسلمين في الطب كتاب اسمه
2. صاحب كتاب القانون في الطب عالم اسمه
3. عالم الصيدلة المسلم الذي ترجم الأوروبيون كتابه اسمه



الوحدة الثالثة: البيئة الطبيعية لدول العالم الإسلامي

ما النتائج التي ترتبت على الضعف الذي دب في أوصال الدولة الإسلامية؟

أذكر أسماء القارات التي يمتد فيها العالم الإسلامي.

()

أكمل العبارات التالية:

1. تشغل مساحة دول العالم الإسلامي من مساحة اليابسة في العالم نسبة

2. عدد القارات التي يتوزع فيها دول العالم الإسلامي هو ()

3. يبلغ عدد دول العالم الإسلامي اليوم حوالي (58 دولة)

4. عدد دول العالم الإسلامي في قارة آسيا هو (27 دولة)

5. عدد دول العالم الإسلامي في قارة أفريقيا هو ()

6. عدد دول العالم الإسلامي في قارة أوروبا هو ()

7. عدد دول العالم الإسلامي في قارة أمريكا الجنوبية هو ()

8. الدولتان الإسلاميتان اللتان تقعان في قارة أوروبا هما ()

9. الدولتان الإسلاميتان اللتان تقعان في قارة أوروبا هما اسمهما

10. أكبر دول العالم الإسلامي مساحة هي دولة ()

11. أصغر دول العالم الإسلامي مساحة هي دولة ()

عدد خصائص موقع العالم الإسلامي.

1. التحكم بالعديد من الممرات المائية الهامة

2. تنوع الموارد الطبيعية والاقتصادية

3. منطقة التقاء قارات العالم القديم

⬅ لاحظ خريطة العالم الإسلامي التي أمامك ثم نفذ المطلوب.



⬅ أكتب أسماء القارات التي يمتد فيها العالم الإسلامي على الخريطة

⬅ استخرج من الخريطة أهم المحيطات التي يشرف عليها العالم الإسلامي.

1. المحيط الهادي 2. المحيط الأطلسي 3. المحيط الهندي

⬅ أذكر أهم البحار التي يطل عليها العالم الإسلامي.

⬅ حدد على الخريطة أهم الممرات المائية التي يتحكم فيها دول العالم الإسلامي باستخدام الرموز.

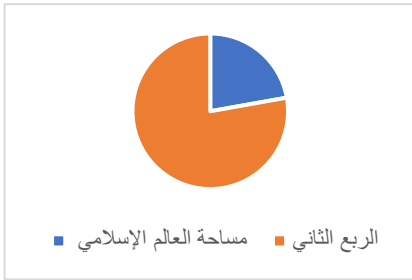
1. مضيق جبل طارق باستخدام الرمز

2. مضيق باب المندب باستخدام الرمز

3. مضيق هرمز باستخدام الرمز

4. قناة السويس باستخدام الرمز

- ضع الرمز © موقع أكبر دولة إسلامية من حيث المساحة



- ضع الرمز ▲ على موقع أصغر دول العالم الإسلامي من حيث المساحة

حول نسبة مساحة دول العالم الإسلامي بالنسبة لإجمالي مساحة اليابسة في العالم إلى دائرة بيانية:

ما المقصود بالتضاريس؟

علل: تنوعت تضاريس دول العالم الإسلامي.

عدد أنواع التضاريس.

عدد فوائد ومميزات الجبال بالنسبة لدول العالم الإسلامي.

علل ما يلي:

1. تعتبر الجبال مصدر جذب للسياحة.

2. يقل تركيز السكان في الجبال.

لاحظ الخريطة التالية ثم أكمل الجدول الذي يليها:





البحال في أمريكا الجنوبية	البحال في قارة أوروبا	البحال في قارة أفريقيا	البحال في قارة آسيا
جولياناتوب	الألب	تبستي - البجل الأخضر - أطلس	كشمير - باكستان زاجروس - عسير والحباز

أذكر مميزات الهضاب في دول العالم الإسلامي.

أذكر أهم الهضاب في دول العالم الإسلامي:

أكمل:

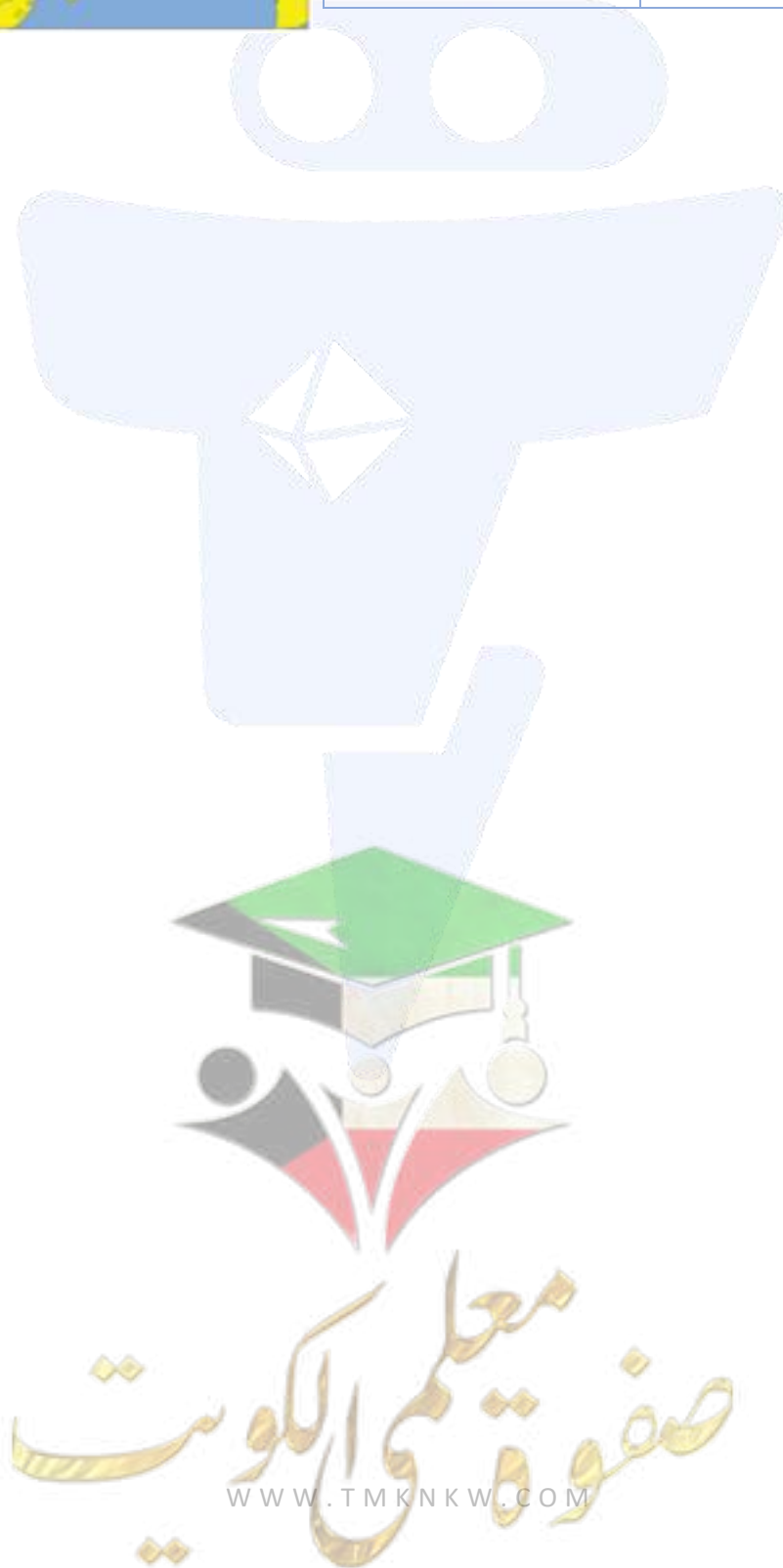
1. أكثر أشكال التضاريس انتشارا في العالم الإسلامي هي ()
2. هناك هضاب لا تصلح للسكن وإقامة العمران فيها مثل ()
3. من المناطق الصحراوية في قارة أفريقيا التي لا تصلح للسكن وإقامة العمران فيها هي ()
4. أكبر هضاب العالم الإسلامي من حيث المساحة هي ()
5. تقع هضبة الصحراء الكبرى في قارة اسمها ()
6. تنتشر في هضبة الصحراء الكبرى ظاهرة اسمها ()



⬅ لاحظ الخريطة ثم أكمل الجدول.



الهضاب في قارة أفريقيا	الهضاب في قارة آسيا
هضبة الصحراء الكبرى	هضبة إيران - هضبة نجد - هضبة الأناضول



أذكر خصائص ومميزات هضبة الصحراء الكبرى.

أكمل:

1. الشكل الثالث من اشكال المرتفعات وتأتي بعد الهضاب من حيث الارتفاع تسمى (التلال)

2. ارتفاعات طبيعية من سطح الأرض تتميز بوجود قمة واضحة تشبه قمة الجبال تسمى (التلال)

ما المقصود بالتلال: هي ارتفاعات طبيعية من سطح الأرض تتميز بوجود قمة واضحة تشبه قمة الجبال لكنها اقل ارتفاعاً منها وأكثر انسيابية

عدد مميزات التلال.



أمامك خريطة لدولة الكويت الطبيعية استخرج منها أهم التلال ثم صنفها في مكانها بالجدول:

التلال الجنوبية	التلال الشمالية
تل وارة	تلال جبال الزور
	تلال كراع المرو
	تلال جبال اللياح



أكمل:

1. أكثر التلال شهرة في المملكة الأردنية هي التي توجد في عاصمتها (عمان)
2. الاسم الذي أطلق على التلال التي توجد في عمان عاصمة المملكة الأردنية هو (مدينة التلال السبع)

أكمل تنقسم السهول في دول العالم الإسلامي إلى سهول فيضية وساحلية

فرق في الجدول بين السهول الفيضية والسهول الساحلية:

السهول الساحلية	السهول الفيضية
هي الأراضي المنبسطة التي تجاور سواحل البحار والمحيطات	هي الأراضي المنخفضة التي تكونت من التربة التي حملتها مياه الأنهار

ما أهمية السهول في دول العالم الإسلامي؟ أو ما هي فوائد السهول؟

2. يستفاد من

امامك خريطة لأهم السهول في العالم الإسلامي استخرج منها السهول في آسيا وأفريقيا:



السهول في آسيا	السهول في أفريقيا
سهول دجلة والفرات	سهول نهر النيل سهول نهر النيجر سهول السنغال

أذكر سمات ومميزات السهول في السنغال.

أكمل:

من أشهر السهول في السنغال والتي يجري من خلالها نهر السنغال هي (سهول كايور وسهول باول)

الحشائش التي تربي عليها المواشي في السنغال تسمى (السافانا)

المحصول الذي اشتهرت السنغال بزراعته اسمه (الفل السوداني)



عدد فوائد سهول كايور وسهول باول في السنغال.

عدد مميزات السهول في جمهورية تركيا.

ما النتائج المترتبة على الخصوبة العالية لتربة تركيا؟



صنف السهول التالية في مكانها المناسب بالجدول التالي:

(سهول قيصريّة - سهول كابور - سهول بورصة - سهول بأول)

السهول في تركيا	السهول في السنغال
سهول بورصة - سهول قيصريّة	سهول كابور - سهول باول



⬤ صنف الكلمات التالية في مكانها الصحيح في الجدول الذي يليها:
(زاجروس - الأناضول - وارة - الأخضر - بورصة - جال الزور)

سهول	تلال	هضاب	جبال
بورصة	وارة - جال الزور	الأناضول	زاجروس - الأخضر

⬤ ما المقصود بالإقليم المناخي؟

⬤ أكمل ما يلي:

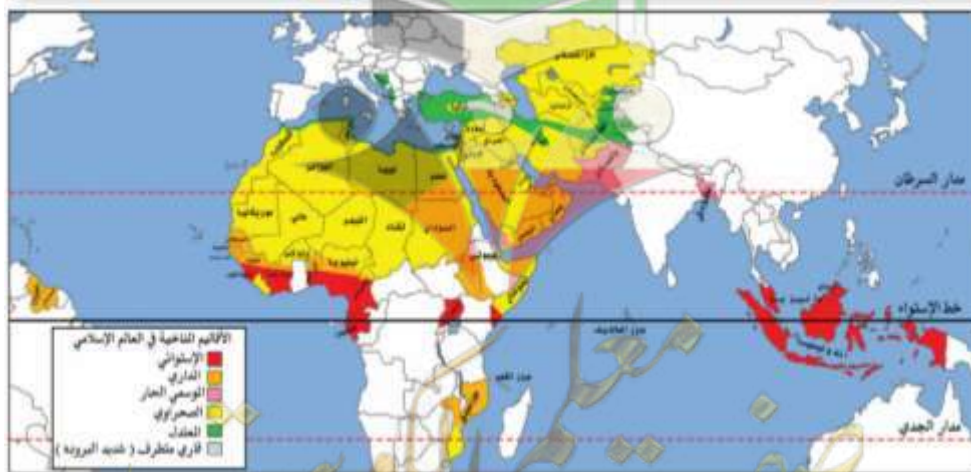
1. تقع دول العالم الإسلامي بين خط طول (141 درجة) شرق خط جرينتش إلى خط طول (25 درجة) غرب خط جرينتش
2. تقع دول العالم الإسلامي بين دائرتي عرض (13 درجة) جنوب خط الاستواء إلى (55 درجة) شمال خط الاستواء

⬤ علل: تتميز دول العالم الإسلامي بموقعها الفلكي المتميز.

⬤ ما النتائج المترتبة على كل مما يلي:

أ. وقوع دول العالم الإسلامي في موقع فلكي متميز؟

ب. تنوع الأقاليم المناخية.





أذكر العوامل التي ساعدت على تنوع الأقاليم المناخية في دول العالم الإسلامي. أو علل: تنوع الأقاليم المناخية في دول العالم الإسلامي.

أكمل:

1. الإقليم المناخي الذي تقع فيه دولة الكويت اسمه (الصحراوي)
2. أكثر الأقاليم المناخية انتشار إقليم اسمه (الإقليم الصحراوي)



الوحدة الرابعة: أثر البيئة الطبيعية على الاقتصاد والمجتمع

❖ ما المقصود بالبيئة الطبيعية؟

❖ عدد عناصر البيئة الطبيعية.

❖ أذكر أنواع الموارد الطبيعية في دول العالم الإسلامي.

❖ أكمل:

1. من أهم مصادر الطاقة في العالم هي (النفط والغاز الطبيعي)
 2. نسبة إنتاج النفط في العالم الإسلامي من الإنتاج العالمي هي من (30 - 35 %)
 3. يبلغ إجمالي احتياطي النفط الخام في العالم الإسلامي من الاحتياطي العالمي حوالي (58.5 %)
 4. الدولة التي تحتل المركز الأول في قائمة دول العالم الإسلامي لإنتاج النفط والاحتياطي هي (السعودية)
 5. المصدر الرئيسي للدخل الذي تعتمد عليه دولة الكويت هو (النفط)
 6. من عيوب ومشكلات النفط أنه مصدر (غير متجدد ومعرض للنضوب)
- ❖ علل: تحرص دولة الكويت على تنويع مصادر الدخل بعيداً عن الاعتماد بشكل رئيسي على النفط.

❖ أكمل:

1. نسبة إنتاج العالم الإسلامي من الغاز الطبيعي من الإنتاج العالمي هي (36 %)
2. الدولة الإسلامية التي تحتل المركز الأول في إنتاج الغاز الطبيعي في العالم الإسلامي هي (قطر)
3. يقع أكبر حقل غاز طبيعي في العالم في دولة (قطر)
4. أكبر حقل للغاز الطبيعي في العالم اسمه (حقل الشمال في قطر)

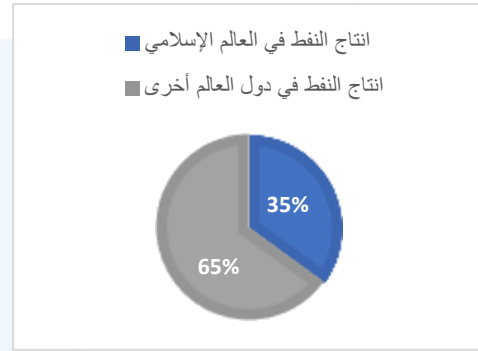
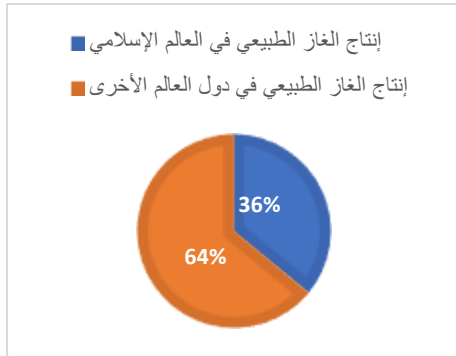


5. الدولة الإسلامية التي تعتبر ثاني أكبر احتياطي للغاز الطبيعي في العالم هي دولة (إيران)

6. يتشارك في حقل الشمال لإنتاج الغاز الطبيعي دولتان إسلاميتان هما (قطر وإيران)

حول النسب في الجدول التالي إلى دوائر بيانية:

الدول	إنتاج النفط	إنتاج الغاز الطبيعي
دول العالم الإسلامي	35 %	36 %
دول العالم الأخرى	65 %	64 %



ما هي مقترحاتك لاستغناء دولة الكويت عن الاعتماد على النفط كمصدر رئيسي للدخل؟

عرف المعدن: هو عنصر أو مركب كيميائي بطبيعته ناتج عن عمليات جيولوجية

علل: تتفاوت كميات المعادن في دول العالم الإسلامي من دولة إلى أخرى.





أكمل:

1. نسبة انتاج العالم الإسلامي من الحديد من الإنتاج العالمي حوالي (3%)
 2. الدولة الإسلامية التي تحتل المركز الأول في انتاج الحديد الخام اسمها (موريتانيا)
 3. الدولة الإسلامية التي تحتل المركز الثاني في انتاج الحديد الخام اسمها (تركيا)
- عدد أهم الصناعات التي يدخل فيها الحديد.

أذكر اهم مميزات معدن الحديد

أكمل:

1. الدولة الإسلامية الأولى في إنتاج اليورانيوم اسمها (كازاخستان)
2. تبلغ نسبة انتاج دولة كازاخستان من اليورانيوم من الإنتاج العالي حوالي (41%)
3. يدخل معدن اليورانيوم في صناعات منها صناعة (الطاقة النووية والرجاج)
4. الدولة الإسلامية الأولى في انتاج الفوسفات هي (المغرب)
5. يبلغ نسبة انتاج المملكة المغربية من الفوسفات من الإنتاج العالمي حوالي (35)
6. الدول التي تحتل المركز الأول عالميا في انتاج الفوسفات هي (الصين)
7. الدول الإسلامية التي تحتل المركز الثاني عالميا في انتاج الفوسفات هي (المغرب)

أذكر أهم الصناعات التي يدخل في صناعتها معدن الفوسفات.



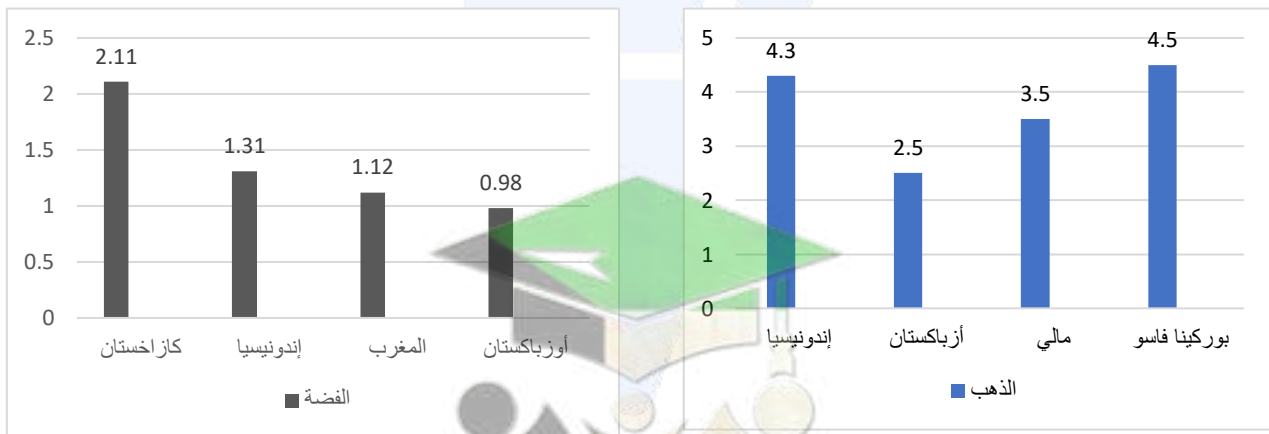
الفضة	
الدولة	نسبة الإنتاج
كازاخستان	2.11 %
إندونيسيا	1.31 %
المغرب	1.12 %
أزباكستان	0.98 %

الذهب	
الدولة	نسبة الإنتاج
إندونيسيا	4.25 %
أزباكستان	3.92 %
مالي	3.03 %
بوركينافاسو	2.86 %

⬇️ لاحظ الجدول السابق ثم أجب عن الأسئلة التالية:

1. الدولة الأولى في إنتاج الذهب في الجدول هي (إندونيسيا)
2. الدولة الإسلامية الأولى في إنتاج الفضة في الجدول هي (كازاخستان)
3. استخرج حقيقة من الجدول (إندونيسيا أكثر دول العالم الإسلامي في إنتاج الذهب)
4. رتب الدول في جدول الذهب ترتيباً تنازلياً:

⬇️ حول جدول الذهب وجدول الفضة لأعمدة بيانية:



⬇️ فرق بين معدن اليورانيوم ومعدن الفوسفات حسب الجدول التالي:

اليورانيوم	الفوسفات	الاستخدامات
صناعة الطاقة النووية	صناعة الأسمدة	
صناعة الزجاج	صناعة المنظفات	



أكمل:

1. المصدر الرئيسي لإنتاج الغذاء في العالم الإسلامي هي (الزراعة)
 2. نسبة سكان العالم الإسلامي الذين يعملون في الزراعة هي (70%)
- علل: أهمية الزراعة بالنسبة لدول العالم الإسلامي.

أذكر العوامل التي ساعدت على زيادة الإنتاج الزراعي في دول العالم الإسلامي.

عدد جهود دولة الكويت في تطوير الزراعة

أذكر أهم المنتجات الزراعية التي نجحت في زراعتها دولة الكويت.

أكمل:

1. اشتهرت دول العالم الإسلامي في إنتاج نوعين من المزروعات هما (الحبوب والخلاصة النقدية)
2. يبلغ نسبة إنتاج العالم الإسلامي من الحبوب حوالي (14% من الإنتاج العالمي)
3. المحصول الذي يتصدر الحبوب المزروعة في العالم الإسلامي اسمه (الأرز)
4. الدولة الأولى في إنتاج الأرز في العالم الإسلامي هي (إندونيسيا)
5. ثاني دول العالم الإسلامي إنتاجاً لمحصول الأرز دولة اسمها (بنغلاديش)
6. ثالث دول العالم الإسلامي إنتاجاً لمحصول الأرز دولة اسمها (باكستان)
7. المحصول الذي يحتل المركز الثاني من بين محاصيل الحبوب المزروعة في دول العالم الإسلامي هو (القمح)
8. يتركز زراعة محصول القمح في العالم الإسلامي في إقليم اسمه (البحر المتوسط)

ما المقصود بالمحاصيل النقدية؟ هي المحاصيل التي تزرع من أجل التصدير



أكمل ما يلي:

1. تتمثل الغلات النقدية في (القطن والجوت والمطاط الطبيعي)
2. الدولة الأولى في إنتاج القطن في العالم الإسلامي هي (أوزباكستان)
3. الدولة الثانية في إنتاج القطن في العالم الإسلامي هي (تركيا)
4. الدولة الأولى في إنتاج الجوت في العالم الإسلامي هي (كازاخستان) والثانية (الجزائر)
5. الدولة الأولى في إنتاج المطاط الطبيعي في العالم الإسلامي هي (إندونيسيا) والثانية (السودان)

عرف الجوت:

المناطق الاستوائية والموسمية ويصنع منه الحبال والأحذية

أذكر أهمية (فوائد) نبات الجوت.

والأقمشة

صنف المحاصيل التالية في مكانها الصحيح في الجدول الذي يليها:

(الذرة - القطن - القمح - الشعير - الجوت - المطاط الطبيعي - الأرز)

الحبوب الغذائية	الغلات النقدية
القطن - الجوت - المطاط الطبيعي	الذرة - القمح - الشعير - الأرز

تنقسم الموارد الحيوانية إلى أ- الثروة الرعوية ب- الثروة السمكية

أذكر أنواع الثروة الرعوية. (الماعز و الأغنام (الضأن و البقر و الإبل)

عدد جهود دول العالم الإسلامي في تطوير قطاع الثروة الرعوية.

علل: تلجأ دول العالم الإسلام لتطوير قطاع الثروة الرعوية.





⬤ لاحظ خريطة العالم الإسلامي السابقة ثم أجب:

1. الدولة الإسلامية التي تحتل المركز الأول في الثروة الرعوية اسمها (السودان)
 2. الدولة الإسلامية التي تحتل المركز الثاني في الثروة الرعوية اسمها (نيجيريا)
 3. الدولة الإسلامية التي تحتل المركز الثالث في الثروة الرعوية اسمها (الصومال)
- ⬤ عدد فوائد الثروة الرعوية.

⬤ علل: أهمية الثروة السمكية لدول العالم لدول العالم الإسلامي.

⬤ دلل على اهتمام دول العالم الإسلامي بتطوير الثروة السمكية.

⬤ أذكر أهم مصادر إنتاج الأسماك في العالم الإسلامي.

1. مصادر طبيعية مثل (المحيطات - المياه العذبة)
2. مصادر غير طبيعية مثل (الاستزراع السمكي)



أكمل: الدولة الإسلامية التي تحتل المركز الثاني على مستوى العالم في الإنتاج البحري هي (إندونيسيا)

- تحظى الثروة السمكية بدولة الكويت باهتمام بالغ.
1. لأنها تعتمد على الصيد المحلي لتأمين حاجتها من الأسماك
 2. لديها مواقع مائية بها مخزون سمكي جيد

أذكر جهود دولة الكويت في المحافظة على الثروة السمكية

ما المقصود بالتكامل الاقتصادي؟

يقصد به تحقيق تكافؤ الفرص أمام جميع عناصر

عدد عناصر التكامل الاقتصادي بين دول العالم الإسلامي.

أذكر غايات (أهداف) التكامل الاقتصادي بين دول العالم الإسلامي.

علل: للتكامل الاقتصادي بين دول العالم الإسلامي أهمية كبيرة.

أو ... عدد أهمية التكامل الاقتصادي بين دول العالم الإسلامي.



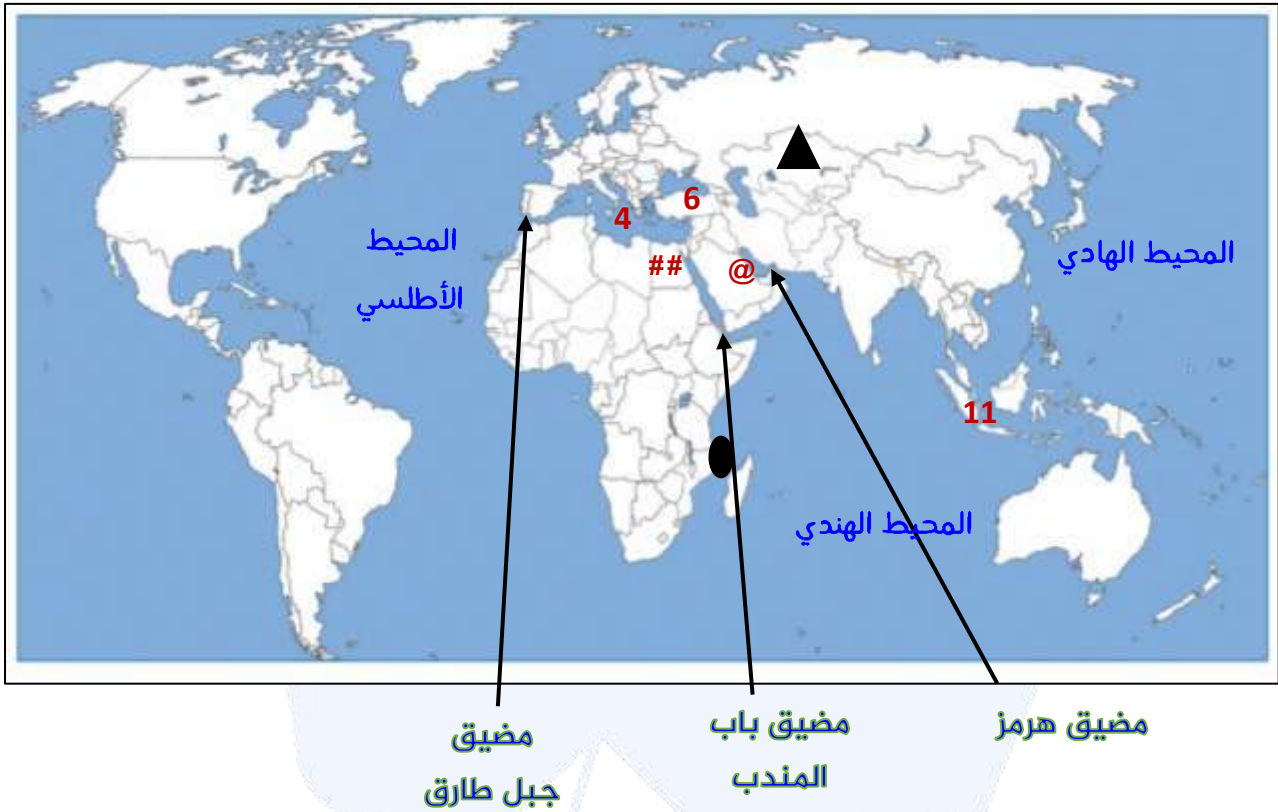


لاحظ خريطة العالم الصماء ثم أجب عن الأسئلة التي تليها:



- القارة التي يوجد فيها دولة سورينام الإسلامية تحمل الرقم (1)
- الدولة التي يوجد فيها جبال زاغرس تحمل الرقم (2)
- الدولة التي يوجد فيها هضبة الاناضول تحمل الرقم (6)
- الدولة التي تشتهر سهولها بإنتاج الفول السوداني تحمل الرقم (5)
- الدولة الإسلامية الأولى في إنتاج النفط تحمل الرقم (9)
- الدولة الإسلامية الأولى في إنتاج الفوسفات تحمل الرقم (8)
- الدولة الإسلامية الأولى في إنتاج الذهب تحمل الرقم (11)
- الدولة الإسلامية الأولى في إنتاج الفضة تحمل الرقم (10)
- ضع الرمز ♥ على موقع دولة الكويت على الخريطة
- الدولة الإسلامية الأولى في الثروة الرعوية تحمل الرقم (12)
- ارسم خط الاستواء وخط جرينتش على الخريطة -----





- الدولة التي يوجد بها سهول بورصة وقيصرية تحمل الرقم (6)
- أكتب الممرات المائية التي يتحكم فيها العالم الإسلامي على الخريطة (مضيق جبل طارق - مضيق باب المندب - مضيق هرمز - قناة السويس)
- - ضع الرمز ▲ على موقع أكبر دول العالم الإسلامي من حيث المساحة
- - ضع الرمز ● على موقع أصغر دول العالم الإسلامي من حيث المساحة
- أكتب المحيطات التي يشرف عليها العالم الإسلامي.
- البحر المتوسط يمثل على الخريطة رقم (4)
- ضع الرمز @ على موقع الدولة الإسلامية الأولى في إنتاج الغاز الطبيعي
- ضع الرمز ## على موقع الدولة الإسلامية التي تتحكم في قناة السويس
- الدولة الإسلامية الثانية على مستوى العالم في الثروة السمكية تحمل الرقم (11)