

مذكرة

الفلة

الفصل
الأول

7



الاجتماعيات



يمكنك طلب المذكرة المحولة مطبوعة عن طريق الموقع

22250101



WWW.TMKNKW.COM

الفهرس

الوحدة الأولى: الوطن العربي مقومات وملامح جغرافية.....	2
أولاً: الموقع الجغرافي للوطن العربي.....	2
ثانياً: مناخ الوطن العربي:.....	4
الحياة النباتية والحيوانية.....	5
التضاريس في الوطن العربي.....	7
دولة الكويت والوطن العربي في الحضارة الإسلامية.....	10
حضارة الانباط.....	13
حضارة الكوش.....	14
محطات حضارية في دولة الكويت.....	15
دولة الكويت والوطن العربي في الحضارة العربية الإسلامية.....	17
دولة الكويت والوطن العربي بين الاستعمار والاستقلال.....	24
الحركات الاستعمارية في الوطن العربي.....	25
مرحلة الاستقلال في الوطن العربي:.....	27





الوحدة الأولى: الوطن العربي مقومات وملامح جغرافية

عرف الوطن العربي:

ما السمات التي حددت هوية الدول العربية؟



أكمل العبارات التالية بم يناسبها:

1. يمتد الوطن العربي ضمن قارتي هما (آسيا) و (أفريقيا)
2. عدد دول الوطن العربي هو (22)
3. عدد دول الوطن العربي في قارة اسيا هو (14)
4. عدد دول الوطن العربي في قارة افريقيا هو (10)
5. تبلغ مساحة الوطن العربي حوالي (13,500 مليون كم)
6. تمثل مساحة الوطن العربي من مساحة العالم حوالي (10%)
7. مساحة الوطن العربي تفوق مساحة قارة (أوروبا)

أولاً: الموقع الجغرافي للوطن العربي

عرف المفاهيم التالية:

1. الموقع الجغرافي:

2. الموقع النسبي:

لاحظ خريطة الوطن العربي التي أمامك ثم أكمل الجدول التالي:



الحدود البرية	الحدود البحرية	الجهة
إيران	الخليج العربي	الشرق
_____	المحيط الأطلسي	الغرب
تركيا	البحر المتوسط	الشمال
الصحراء الكبرى	المحيط الهندي	الجنوب



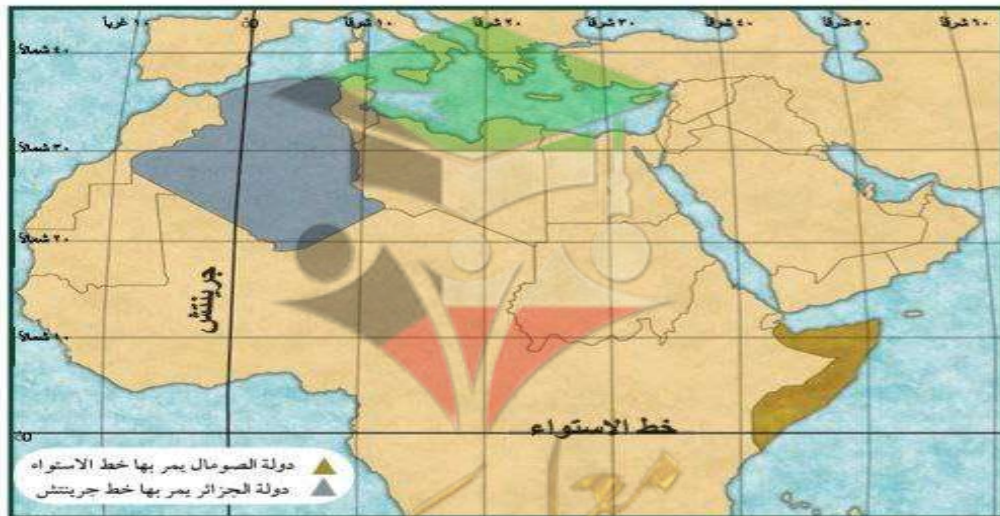
أكمل العبارات التالية بما يناسبها:

1. الدولة التي تحد الوطن العربي من جهة الشرق هي
2. الدولة التي تحد الوطن العربي من جهة الشمال هي
3. المسطح المائي الذي يحد الوطن العربي من جهة الشرق هي
4. المسطح المائي الذي يحد الوطن العربي من جهة الغرب هو
5. المسطح المائي الذي يحد الوطن العربي من جهة الشمال هو
6. المسطح المائي الذي يحد الوطن العربي من جهة الجنوب هو
7. يحد الوطن العربي من جهة الشمال دولة تركيا ()
8. يحد الوطن العربي من جهة الشرق دولة () ومسطح مائي اسمه ()

الموقع الفلكي

أكمل العبارات التالية بما يناسبها:

1. يمتد الوطن العربي بين دائرتي عرض من جنوباً إلى
2. يمتد الوطن العربي بين خطي طول 60 شرقاً إلى 17 غرباً
3. الدولة العربية التي يمر بها خط الاستواء هي (الصومال)
4. الدولة التي يمر بها خط جرينتش هي (البحرين)
5. الدولة العربية التي تقع في المحيط الهندي هي





❖ فرق بين أهمية خطوط الطول ودوائر العرض

أهمية خطوط الطول	أهمية دوائر العرض
معرفة فرق التوقيت بين دول	تقسيم الأرض إلى أقاليم مناخية
تحديد مواقع الدول والمدن جغرافيا	

❖ عرف (GPS): هو نظام يستخدم حاليا لتحديد المواقع على نطاق واسع من خلال الأجهزة المكية معتمدا على الأقمار الصناعية

ثانيا: مناخ الوطن العربي:

❖ ما خصائص مناخ الوطن العربي؟

2. الأقل أمطارا في الحال

❖ علل: يعتبر مناخ الوطن العربي الأشد حرارة وجفافا؟

صحراوي

❖ عدد العوامل التي تؤثر في مناخ الوطن العربي.

3. التضاريس

❖ قارن بين مميزات الأقاليم المناخية في الوطن العربي في الجدول التالي.

إقليم البحر المتوسط	الإقليم الصحراوي	الإقليم المداري
1. حار جاف صيفا 2. معتدل ممطر شتاء	1. ارتفاع درجة الحرارة والجفاف صيفا 2. انخفاض الحرارة وقلة الامطار شتاء	1. ارتفاع درجة الحرارة 2. سقوط الامطار طول العام

❖ أكمل العبارات التالية بم يناسبها:

1. الاقليم المناخي الأكثر انتشارا في الوطن العربي هو الإقليم الصحراوي
2. الدولة العربية التي تقع جميع أراضيها ضمن إقليم البحر المتوسط هي لبنان



3. . الإقليم المناخي الذي يتميز بارتفاع درجة الحرارة وسقوط الامطار طول العام هو الإقليم المداري

4. الاقليم المناخي الذي يتميز بارتفاع درجة الحرارة والجفاف صيفا وانخفاض الحرارة وقلة الامطار شتاء هو الإقليم الصحراوي

الاقليم المناخي الذي يتميز بأنه حار جاف صيفا ومعتدل ممطر شتاء إقليم البحر المتوسط

6. سجلت الكويت أعلى درجة حرارة حيث بلغت 53.9 درجة عام 2016م

الحياة النباتية والحيوانية

علل: تنوع النبات الطبيعي في الوطن العربي؟

قارن بين الغابات المدارية والغابات المعتدلة؟

أنواع الغابات	الغابات المدارية	الغابات المعتدلة
الصفات	أشجار ضخمة أوراق عريضة	قلة أوراق الأشجار - تساقط الأوراق شتاء
أمثلة	الابنوس	السنديان
الدول	اليمن - الصومال	لبنان - تونس

قارن بين حشائش السافانا وحشائش الاستبس حسب ما هو مطلوب في الجدول:

المقارنة	حشائش السافانا	حشائش الاستبس
التعريف	حشائش حارة طويلة	حشائش معتدلة قصيرة
الأهمية	ترعى عليها الماشية	تستخدم في صناعة الحبال والحصار
مكان الانتشار	السودان	المغرب

عدد أمثلة للنباتات الصحراوية في الوطن العربي؟



علل: ينتشر النبات الصحراوي في معظم دول الوطن العربي؟

ما أهمية النبات الصحراوي في الوطن العربي؟

أكمل العبارات التالية بما يناسبها:

1. أهم أشجار الغابات المدارية في الوطن العربي هي الأبنوس
 2. أهم أشجار الغابات المعتدلة في الوطن العربي هي السنديان
 3. الدول العربية التي يوجد فيها الغابات المدارية هي اليمن والصومال
 4. الدول العربية التي يوجد فيها الغابات المعتدلة هي لبنان وتونس
 5. حشائش طويلة تربي عليها الماشية في السودان هي السافانا
 6. حشائش معتدلة قصيرة تستخدم في صناعة الحبال والحصر هي الإستبس
 7. الدولة العربية التي يوجد بها حشائش السافانا هي السودان
 8. الدولة العربية التي يوجد بها حشائش الإستبس هي المغرب
 9. النباتات التي تستخدم في طب الأعشاب هي النبات الصحراوي
- علل: يعتبر الغطاء النباتي عنصراً أساسياً في نشأة الحياة الحيوانية.

قارن بين الحيوانات في الغابات والحشائش والنباتات الصحراوية؟

المقارنة	الحيوانات في الغابات	الحيوانات في الحشائش	الحيوانات في الصحراء
أنواعها	القردة - السنجاب - الوشق	الزرافات - الأفيال - الاسود	الذئب - الغزلان - السحالي
خصائصها	التسلق والقفز السريع بين فروع الأشجار	سهولة الحركة والتنقل	القدرة على التكيف الاختفاء من الأعداء تحمل الجفاف



التضاريس في الوطن العربي

⊖ عرف التضاريس: هي أشكال سطح الأرض مثل (الجبال - الهضاب - السهول)

⊖ أذكر أهم الجبال في الوطن العربي .

⊖ ما أهمية الجبال في الوطن العربي؟

⊖ أكمل العبارات التالية بم يناسبها:

1. أعلى قمة جبلية في الوطن العربي هو جبل توبقال
2. الدولة العربية التي يوجد فيها الجبل الأخضر هي عمان
3. أكثر أشكال التضاريس انتشاراً في الوطن العربي هي (الهضاب)
4. الدولة التي تقع فيها هضبة نجد هي (السعودية)
5. الهضبة التي توجد في موريتانيا هي هضبة آرار

⊖ علل لما يلي:

- تعد الهضاب أكثر الأشكال التضاريسية انتشاراً في الوطن العربي.

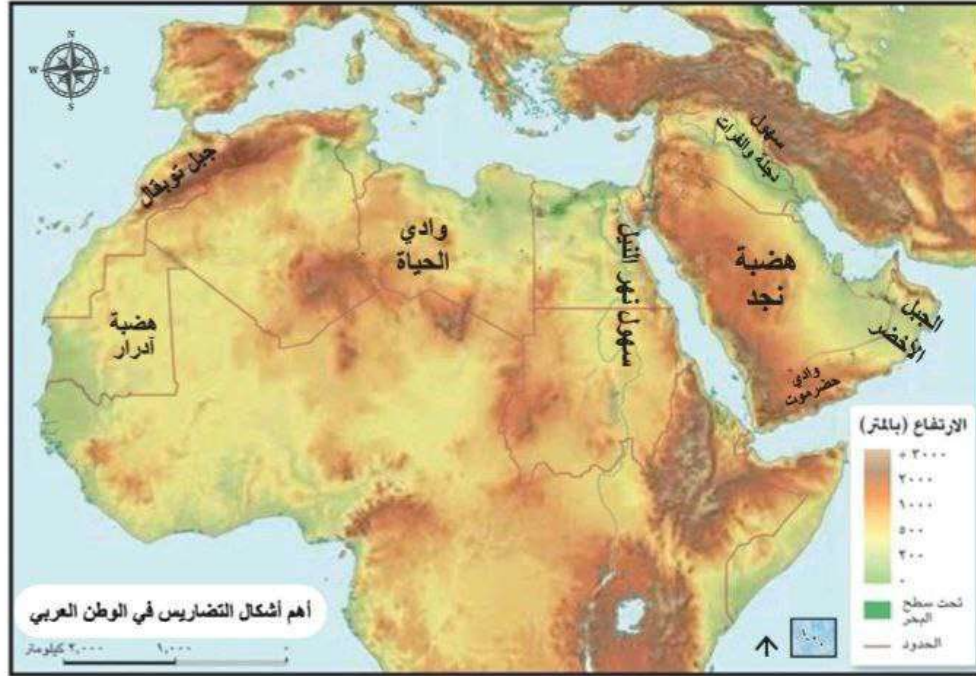
⊖ عرف المفاهيم التالية:

1. السهول الفيضية: هي الأراضي المنبسطة التي تمتد على جانبي الأنهار
 2. الوديان: منخفضات طبيعية تمتد بين التضاريس المختلفة
- ⊖ ما الأهمية الاقتصادية والجغرافية للسهول في الوطن العربي؟

⊖ أكمل العبارات التالية:

1. تنقسم السهول في الوطن العربي الى سهول ساحلية وفيضية
2. توجد سهول نهري دجلة والفرات في العراق
3. توجد سهول نهر النيل في مصر

٢ ما الأهمية الاقتصادية للواديان؟



٣ استخرج من الخريطة المطلوب في الجدول التالي:

الواديان	السهول	الهضاب	الجبال	التضاريس
حضرموت	دجلة والفرات	نجد	الجبل الأخضر	قارة اسيا
الحياة	نهر النيل	ادرار	جبل توبقال	قارة افريقيا

٤ أكمل العبارات التالية

١. تقع دولة الكويت في قارة اسيا
٢. تقع دولة الكويت بالنسبة لشبه الجزيرة العربية في جهة الشمال الشرقي
٣. تقع دولة الكويت بين دائرتي عرض من 28 شمالا الى 30 شمالا
٤. تقع دولة الكويت بين خطي طول من 46 شرقا الى 48 شرقا
٥. المسطح المائي الذي تطل عليه الكويت يسمى الخليج العربي
٦. الإقليم المناخي الذي تتبعه دولة الكويت هو الإقليم الصحراوي
٧. ينحدر سطح دولة الكويت من الغرب الى الشرق



❶ استخرج من الخريطة ما هو مطلوب في الجدول التالي:



التضاريس	دولة الكويت
المرتفعات	جبال الزور
السهول	الدبدبة
الهضاب	الاحمدي
أودية	وادي الباطن

❷ ما أهمية موقع دولة الكويت الجغرافي؟

بين أجزاء الوطن العربي والعالم
أهم في ازدهار التجارة

صفوة معلم الكويت



دولة الكويت والوطن العربي في الحضارة الإسلامية

أكمل العبارات التالية بما يناسبها:

1. أول عصور البشرية يسمى
2. ثاني العصور البشرية هو العصر وال
3. فترة زمنية محددة يتميز فيها الإنسان بطريقة عيش مختلفة عن العصور الأخرى تسمى
4. في بداية نشأة الإنسان كان يسكن ثم قام ببناء ثم أنشأ

عرف المفاهيم التالية

1. العصر التاريخي: فترة زمنية محددة يتميز فيها الإنسان بطريقة
2. قبل الميلاد ق. م:

أكمل الجدول التالي بما يناسبه من تطور حياة الإنسان العصور القديمة:

المقارنة	التطور
نوع السكن	
الأدوات	
الكتابة	
أسلوب الحياة	

خصائص العصور



🔴 **صنف خصائص العصور التاريخية الآتية أسفل كل صورة من الصور التي تليها:**
(العصر الجليدي - العصر الحجري - العصر البرونزي - العصر الحديدي)



🔴 **قارن بين خصائص العصور التاريخية للإنسان في الجدول التالي:**

العصر الجليدي	العصر البرونزي	العصر الحجري	العصر الحديدي

🔴 **أكمل العبارات التالية**

1. العصر التاريخي الذي تميز باصطياد الحيوانات هو
2. العصر التاريخي الذي سكن فيه الانسان الكهوف يسمى
3. العصر التاريخي الذي استخدم الانسان فيه ادوات من الحجر يسمى
4. العصر التاريخي الذي اكتشف فيه الانسان النار يسمى
5. العصر التاريخي الذي بدا فيه الانسان الزراعة
6. العصر الذي بنى فيه الانسان القرى وصنع ادوات من النحاس هو
7. العصر التاريخي الذي صنع فيه الانسان ادواته من الحديد هو
8. العصر التاريخي الذي اصبحت فيه المدن أكثر تنظيماً هو

الدولة	الموقع الاثري	الاكتشافات	القارات
عمان	بوشر	مدافن دائرية	اسيا
موريتانيا	منطقة تيشيت	أدوات زراعية	افريقيا





دليل على صحة العبارة التالية:

"الوطن العربي مركزا مهما للحضارات عبر العصور"

أكمل العبارات التالية

1. المناطق التي ظهرت فيها أقدم القرى الزراعية في الوطن العربي وادي

وادي

2. الدولة التي يوجد فيها الموقع الاثري بوشير هي

3. الدولة العربية التي يوجد بها اثار منطقه تشيت هي

4. اهم المواقع الأثرية في دوله عمان هو

5. اهم المواقع الأثرية في دوله موريتانيا هي منطقه

6. اهم الاكتشافات الأثرية في دوله عمان هي

7. اهم الاكتشافات الأثرية في منطقه موريتانيا هي

8. القارة التي توجد فيها الموقع الاثري بوشير هي

9. القارة التي يوجد بها الموقع الاثري منطقه تشيت هي دوله

عرف الحضارة: كل ما يطرا على المجتمع من تقدم رقي

ما عوامل قيام الحضارة؟

ما النتائج المترتبة على توافر عوامل طبيعية وبشرية لقيام الحضارة في

الوطن العربي

علل: نشوء حضارات كبرى في الوطن العربي.



ما المجالات التي برع فيها الانسان؟

أكمل الجدول التالي بما يناسبه:

الحضارة	أبرز معالمها	الموقع الجغرافي
الحضارة الفرعونية	أبو الهول	مصر
حضارة جرمة	نظام الري (الفقارات)	ليبيا
حضارة بابل	شرائع حمورابي	العراق
مملكة سبأ	سد مأرب	اليمن

حضارة الأنباط

عرف المفاهيم التالية

الأنباط:

سكنوا من شمال الحجاز الى جنوب بلاد الشام

علل: سبب شهره حضارة الأنباط في مدينه البتراء.



أكمل العبارات التالية:

- موقع الأنباط القديمة هي مدينة البتراء
- تقع مدينة البتراء في دولة
- أطلق على مدينة البتراء اسم المدينة
- مدينة تعتبر من عجائب الدنيا السبع اسمها
- تشمل الأنباط اليوم أجزاء من و و و
- أهم اثار حضارة البتراء هي و
- واجهة ضخمة منحوتة بدقة في الجبل تسمى
- نظام ذكي لحفظ مياه الأمطار في مواجهة الجفاف يسمى
- الكتابة التي استخدمتها دوله الأنباط القديمة تسمى
- الدولة التي ظهرت فيها الكتابة النبطية هي
- كانت الكتابة النبطية خطوة ساعدة على تطور خط يسمى



علل سميت مدينه البتراء جنوب الأردن باسم المدينة الوردية.

ما أهمية الكتابة النبطية في حضارة الأنباط؟

علل: استخدم الأنباط في حضارتهم خطا مميزا يعرف بالكتابة النبطية.



الخط النبطي

عرف المفاهيم التالية:

- الخزنة:

- قنوات المياه:



قنوات المياه



الخزنة

حضارة الكوش

أكمل العبارات التالية

1. الحضارة التي أطلق عليها حضارة الفراعنة السود تسمى

2. الموطن الاصلي لحضارة الكوش هي

3. سكن الكوش شمال السودان في

4. سكن الكوش على ضفاف نهر اسمه

5. عاصمة حضارة كوش هي

6. المدة التي حكم فيها حكام حضارة كوش هي

7. أشهر ما يميز حضارة كوش في السودان هي بناء

ما أهم معالم حضارة كوش في شمال السودان؟



لله التالية:

أكمل العبارات التالية:

1. مقابر مهيبة لملوك وملكات المملكة الكوشية هي أهرامات
2. أقدم نظم الكتابة في أفريقيا منذ القرن الثالث قبل الميلاد هي الكتابة
3. الحضارة التي اشتهرت بمناجم الذهب هي
4. بلغ عدد الاهرام المروية يفوق 200 هرم



علل ما يأتي: تشيد اهرامات مروي؟

ما اهم مميزات اهرامات مروي؟

ما أهميه الكتابة المروية؟



ما استخدامات الذهب في حضارة كوش؟

علل: كانت حضارة الكوشة محط للأطماع.

محطات حضارية في دولة الكويت

1. دال على أن الكويت لم تكن منطقة عبور فقط.
2. حيث تعد دولة الكويت واحدة من المناطق الغنية بالمواقع الأثرية
3. كانت محطة استقرار وتفاعل بين الحضارات المختلفة
4. كيف استفاد أهل الكويت من الحضارات التي نشأت على أرضها؟



ما أهم الحضارات التي نشأت على أرض الكويت؟

أكتب خصائص الحضارات في الجدول التالي:

الحضارة	العصر	الموقع الاثري	الخصائص
العبيد	الحجري الحديث	الصبية	ظهرت مستوطنات زراعية مبكرة في شمال الكويت
دلمون	البرونزي	فيلكا	لعبت دورا مهما في شبكة التجارة البحرية في الخليج العربي
الهيلينستية	-	فيلكا (إيكاروس)	أصبحت فيلكا مركزا ثقافيا يونانيا يضم معابد وتمائلا ونقوشا يونانية

أكمل العبارات التالية:

1. اول الحضارات التي ظهرت على ارض الكويت هي
2. العصر الذي ظهرت فيه حضارة العبيد هو العصر
3. العصر الذي ظهرت فيه المستوطنات الزراعية في شمال الكويت هو العصر
4. العصر الذي ظهرت في حضارة دلمون في الكويت هو

5. مركز الحضارة الدلمونية في الكويت هي

6. الاسم الذي أطلق على جزيرة فيلكا قديما هي

أهم الآثار التابعة لحضارة العبيد في منطقته الصبية؟

ما أهم الآثار المكتشفة التابعة لحضارة دلمون في جزيرة فيلكا؟

أكمل العبارات التالية:

1. بلغ عدد الاختام التي عثر عليها في جزيرة فيلكه
2. الجزيرة التي وجد على أرضها أكثر من 700 ختم هي

أكتب مدلول الصورة المقابلة.

()



أواني فخارية



رؤوس رماح



حجر صابوني



اختام





دولة الكويت والوطن العربي في الحضارة العربية الإسلامية

أذكر ممالك العرب قبل الإسلام .

1- كنده 2- المنارة 3- نواميا

عدد أهم حرف العرب قبل الإسلام .

1- الزراعة في (مصر واليمن) 2- الرعي في (البادية) 3- التجارة

أكمل العبارات التالية:

من أهم الامبراطوريات المجاورة لشبه الجزيرة العربية قديما الامبراطوريات

أشهر قبائل العرب قبل الإسلام في يثرب

ما العادات السيئة التي ارتبطت بالتجارة عند العرب قبل الاسلام؟

الربا - الرش - الاحتكار - السلب - النهب

عدد خصائص (مميزات) المجتمع العربي قبل الإسلام.

1. غلبة
2. انتماء
3. انتماء
4. انتماء
5. انتماء

ما النتائج السلبية المترتبة على سيادة الطبقية والعصبية بين القبائل قبل الإسلام؟

1. انتماء
2. انتماء
3. انتماء
4. انتماء
5. انتماء

عدد علوم العرب قبل الإسلام .

أكمل العبارات التالية:

1. أشهر أسواق العرب قبل الإسلام

2. من أشهر المراكز الأدبية عند العرب قبل الإسلام

عدد مظاهر الحياة الثقافية عند العرب قبل الإسلام.



❖ فرق بين الرسائل السماوية والعبادات الوضعية في الجدول .

الرسائل السماوية	العبادات الوضعية

❖ أكمل الجدول التالي بما يناسبه :

الرسالة	الحنفية	اليهودية	النصرانية
النبي			
الكتاب	صحف إبراهيم	التوراة	الإنجيل

❖ عرف المفاهيم التالية:

1. الوثنية: هي عبادة الأصنام والالوهة.
2. المجوسية:
3. الصابئة: هي عبادة النجوم والكواكب.

❖ ما الفرق بين الرسائل السماوية والعبادات الوضعية؟

1. الرسائل السماوية:

العبادات الوضعية:



❖ لاحظ الخريطة المقابلة ثم أكمل العبارات التالية:

1. أكثر العبادات الوضعية انتشار في شبه الجزيرة العربية هي
2. أكثر الديانات انتشار على ساحل بحر الروم هي

❖ أكمل العبارات التالية

1. العام الذي نزل فيه الوحي على النبي وبدأت فيه الدعوة للتوحيد هو
2. المدينة التي ظهر فيها الإسلام هي
3. المدينة التي هاجر إليها النبي محمد ﷺ وأسس فيها أول مجتمع إسلامي هي
4. خاتم الأنبياء والرسل هو النبي



عدد طرق انتشار الإسلام :

1. الدعوة السلمية 2. الفتوحات الإسلامية 3. العلم والثقافة 4. التجارة

ما النتائج المترتبة على اتساع الرقعة الجغرافية للدولة الإسلامية؟

رتب الدول الإسلامية من الأقدم للأحدث .

1. الدولة الأموية 2. الدولة العباسية 3. الدولة العباسية

ما مقومات الحضارة العربية الإسلامية؟

أكمل: إنتاج روحي ومادي ينسب الي الشعوب المسلمة تسمى ()

أذكر اهم مجالات الحضارة الإسلامية :

1. العلوم الإسلامية 2. العمران والفنون 3. النظام الاجتماعي والسياسي

علل ما يلي: تميزت الحضارة الإسلامية بتكامل فريد .

صنف العبارات التالية في مكانها المناسب في الجدول الذي يليها:

(بناء المساجد والقصور - نظام الحكم - حماية حقوق المرأة - القرآن وعلومه - اللغة العربية وعلومها)

المجال	الأمثلة
العلوم الإسلامية	
العمران والفنون	بناء المساجد والقصور
النظام الاجتماعي والسياسي	

• **صنف العلوم النقلية والعقلية الآتية في الجدول الذي يليها:**

(القرآن وعلومه - الفلك - الجغرافيا - اللغة العربية)

العلوم النقلية	العلوم العقلية
القرآن وعلومه - اللغة العربية	الفلك - الجغرافيا

• **دلل على اهتمام المسلمين بالنظام الاجتماعي والسياسي؟**



• **استخرج من الخريطة السابقة أهم المراكز العلمية في الحضارة الإسلامية.**

• **أكمل العبارات التالية:**

1. **العالمية المسلمة التي لقبت بالاسطرلابية تسمى**
2. **اللقب الذي أطلق على عالمة الفلك المسلمة مريم بنت العجلي اسم**
3. **العالمية المسلمة التي طورت آلة الاسطرلاب تسمى**
4. **الجهاز الذي يستخدم في الملاحة والفلك لقياس الزوايا مشابهة لطريقة عمل GPS تسمى**

• **أذكر أهمية آلة الاسطرلاب.**

• **عرف الاسطرلاب.**



أكمل ما يلي:

1. المادة 26 من الإعلان العالمي لحقوق الإنسان تنص على
2. الطبيب المسلم الذي أطلق عليه لقب ابن النفيس هو
3. اللقب الذي أطلق على الطبيب أبو الحسن علاء الدين اسم
4. الطبيب المسلم الذي اكتشف الدورة الدموية الصغرى يسمى أبو
5. الطبيب المسلم الذي ألف كتاب شرح تشريح القانون يسمى
6. الملاح العربي الذي لقب بأسد البحار هو
7. الملاح العربي الذي رسم أقدم الخرائط العلمية يسمى
8. رسم الملاح شهاب الدين أحمد بن ماجد أقدم الخرائط العلمية المعتمدة مثل
9. علم توجيهه وقيادة المركبة البحرية يسمى
10. اللقب الذي أطلق على شهاب الدين أحمد بن ماجد لقب
11. المكتشف الحقيقي لطريق الهند وليس كما ادعى الغربيون هو

أكمل الجدول التالي بما يناسبه:

اسم العالم	اللقب	المجال	المساهمة العلمية (الإنجازات)
مريم بنت العجلي	الاسطرلابية	الفلك	طورت آلة الاسطرلاب التي تستخدم في تحديد المواقع واتجاه القبلة
أبو الحسن علاء الدين	ابن النفيس	الطب والفقه	- أول من اكتشف الدورة الدموية الصغرى - ألف كتاب شرح تشريح القانون
شهاب الدين أحمد بن ماجد	أسد البحر	الملاحة البحرية	- طور أدوات الملاحة البحرية - رسم أقدم الخرائط العلمية

أكمل العبارات التالية:

1. العالم المسلم مؤسس علم البصريات الحديثة هو
2. العالم المسلم الذي ابتكر الغرفة المظلمة هو



3. العالم الذي يرجع له الفضل في اختراع الكاميرا هو
4. أساس صناعة الكاميرا الحديثة تسمى
5. اللقب الذي أطلق على العالم الحسن بن الهيثم لقب
6. العالم المسلم الذي لقب بابو البصريات يسمى
7. العالم العربي الذي لقب بفيلسوف العرب
8. اللقب الذي أطلق على ابو يعقوب بن إسحاق الكندي اسم
9. الفيلسوف العربي الذي طور علم الموسيقى يسمى
10. العربي الذي أدخل الفلسفة إلى الثقافة الإسلامية يسمى
11. المترجم العربي الذي لقب بشيخ المترجمين يسمى
12. اللقب الذي أطلق على حنين بن اسحاق العبادي لقب
13. المترجم العربي الذي ترأس بيت الحكمة في بغداد يسمى
14. يقع بيت الحكمة في مدينة اسمها

علل: لقب حنين بن إسحاق بشيخ المترجمين .

لإتقانه أربع لغات

اسم العالم	اللقب	المجال	المساهمة العلمية (الإنجازات)
الحسن بن الهيثم			
يعقوب بن إسحاق الكندي			طور علم الموسيقى الرياضي أدخل الفلسفة إلى الثقافة الإسلامية
حنين بن إسحاق العبادي			

علل: أظهرت الدلائل التاريخية أن أرض الكويت كانت جزءاً من أحداث التاريخ الإسلامي



ما أهمية كازمة التاريخية؟

علل كانت كازمة منطقة لممارسة الصيد والقنص؟

ما أهمية كازمة الثقافية؟

ما أهمية كازمة عسكرياً؟

أكمل العبارات التالية.

1. أشهر القبائل العربية التي سكنت الكويت هي قبيلة وقبيلة
2. الكويت كانت ملتقى لملتقى لعدد من الأدباء والشعراء وأشهرهم الشاعر
3. أشهر الشعراء الذين ألفوا قصائد على أرض كازمة هم
4. العام الذي وقعت فيه معركة كازمة هو عام
5. سميت معركة كازمة عام 12 هجريا باسم معركة
6. قائد المسلمين في معركة كازمة هو
7. قائد الفرس في معركة كازمة يسمى

علل: تسمية معركة كازمة بذات السلاسل؟



دولة الكويت والوطن العربي بين الاستعمار والاستقلال

علل: سبب طمع الأوروبية في الوطن العربي؟

ما المظاهر السياسية لأوضاع الوطن العربي في القرن الثامن عشر؟

ما المظاهر الاقتصادية للوطن العربي في القرن الثامن عشر؟

ما المظاهر الثقافية للوطن العربي في القرن 18؟

ما المظاهر الاجتماعية للوطن العربي الثامن عشر؟

علل: أطماع الدول الأوروبية في الوطن العربي.

صنف العبارات الآتية في مكانها المناسب في الجدول الذي يليها:

(انخفاض مستوى التعليم - توفر الموارد الطبيعية - نشر الدين المسيحي - تراجع السلطة

السياسية)

أوضاع الوطن العربي	أطماع الدول الأوروبية
انخفاض مستوى التعليم	توفر الموارد الطبيعية
تراجع السلطة السياسية	نشر الدين المسيحي

الحركات الاستعمارية في الوطن العربي

➤ ما المقصود بالاستعمار؟

➤ عدد أشكال الاستعمار الاوروبي؟



➤ عرف المفاهيم التالية؟

1. الاحتلال العسكري:

2. الاستعمار الاقتصادي:

➤ أكمل العبارات التالية:

1. العام الذي وقعت فيه الجزائر تحت الاحتلال العسكري الفرنسي هو عام

2. استمر الاحتلال العسكري الفرنسي على الجزائر لمدة

3. الدولة الأوروبية التي استعمرت الجزائر هي

4. شكل الاستعمار الفرنسي للجزائر هو

5. الدولة الأوروبية التي استعمرت السودان هي دولة

➤ ما النتائج المترتبة على الاستعمار الفرنسي للجزائر؟

❖ علل أسباب طمع بريطانيا بالسيطرة على السودان.

❖ ما النتائج المترتبة على الاستعمار البريطاني الاقتصادي على السودان؟



❖ صنف آثار الاستعمار الآتية في الجدول الذي يليها:

(استنزاف الموارد الطبيعية - فقدان السيادة - انتشار العنف والعنصرية - تغيير اللغة والثقافة - تقسيم الدول - فرض أنظمة المستعمر الاقتصادية - تفتيت المجتمعات)

الآثار السياسية	الآثار الاقتصادية	الآثار الاجتماعية والثقافية
فقدان السيادة	استنزاف الموارد الطبيعية	انتشار العنف والعنصرية
تقسيم الدول	فرض أنظمة المستعمر الاقتصادية	تغيير اللغة والثقافة
-----	-----	تفتيت المجتمعات

❖ عرف المفاهيم التالية:

- مفهوم المقاومة:

❖ ما النتائج المترتبة على حركة المقاومة العربية للاستعمار الأوروبي

❖ علل اختلفت أشكال المقاومة العربية للاستعمار الأوروبي؟

❖ ما اشكال المقاومة العربية للاستعمار الأوروبي؟

• عرف المفاهيم التالية:

1. المقاومة السلمية:

2. المقاومة الثقافية:

3. المقاومة السياسية:

4. المقاومة المسلحة:

• أذكر بعض نماذج المقاومة العربية.

• أكمل الجدول التالي بما يناسبه :

أوجه المقارنة	فلسطين	ليبيا
الدولة الاستعمارية	الكيان الصهيوني	إيطاليا
شكل الاستعمار	استيطان	احتلال عسكري استيطاني
مقاومته الثورة	المقاومة السياسية	المقاومة المسلحة
مثال للثورة	الثورة الفلسطينية الكبرى	الثورة السنوسية
قائد الثورة	محمد أمين الحسيني	عمر المختار

مرحلة الاستقلال في الوطن العربي:

• عرف: الاستقلال:

• أكمل العبارات التالية:

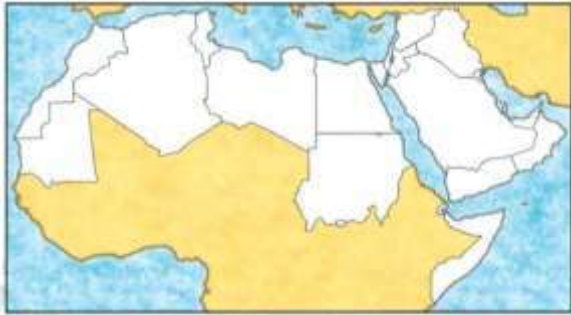
1. قائد الثورة الفلسطينية الكبرى هو

2. الثورة التي قامت ضد الاحتلال الصهيوني لفلسطين هي الثورة

3. قائد المقاومة المسلحة في ليبيا ضد الاستعمار الإيطالي هو
4. العام الذي بدا فيه عمر المختار نضاله العسكري هو
5. أعدم الزعيم عمر المختار وهو في عمر
6. الدول العربية التي لم تحصل على استقلالها هي
7. حصلت جميع الدول العربية على استقلالها في

❖ ما نتائج: استقلال دول الوطن العربي؟

❖ عدد أنظمه الحكم في الوطن العربي.



❖ صنف الدول الآتية في مكانها المناسب بالجدول الذي يليها:

(عمان - الكويت وقطر - السعودية والمغرب - مصر وسوريا - الإمارات)

النظام الملكي	النظام السلطاني	النظام الأميري	النظام الجمهوري	النظام الاتحادي

❖ علل : يمثل الاستقلال نقطة تحول في تاريخ أي دولة:

❖ ما مظاهر استقلال دول الوطن العربي

أكمل العبارات التالية:

1. العام الذي وقعت فيه الكويت اتفاقية الحماية مع بريطانيا هو م
2. استمرت الحماية البريطانية على الكويت لمدته
3. حاكم الكويت الذي وقع اتفاقية الحماية مع بريطانيا هو



الشيخ مبارك الصباح

ما أسباب عقد اتفاقية الحماية مع بريطانيا عام 1899؟

أذكر ملامح الحياة في دولة الكويت تحت حماية بريطانيا من 1899م.



أكمل العبارات التالية بما يناسبها:

1. العام الذي تولى فيه الشيخ عبد الله السالم الصباح حكم الكويت هو م
2. الأمير الذي حصلت الكويت في عهده على الاستقلال هو
3. العام الذي استقلت فيه الكويت عن الحماية البريطانية هو عام م

عدد مظاهر استقلال دولة الكويت .

رتب خطوات حصول دولة الكويت على الاستقلال.

ما نتائج استقلال الكويت عام 1961؟

