

# مذكرة الفيزياء

## الصف العاشر ( 10 )

### الفصل الدراسي الثاني

العام الدراسي : 2025/2024 م

أ/ يوسف عزمي

صفوة معلم الكويت

الدرس (1-1) : الحركة التوافقية البسيطة (S.H.M)

الحركة الدورية الحركة التي تكرر نفسها في فترات زمنية متساوية

\*\* من أمثلة الحركة الدورية : .....

علل تصاح حركة البندول البسيط أو حركة دوران الأرض حول الشمس كأداة لقياس الزمن .

لأنها حركة دورية تكرر نفسها في فترات زمنية متساوية

الموجة انتقال الحركة الاهتزازية عبر جزيئات الوسط

\*\* إذا رميت حجراً في بركة ماء ستلاحظ تشكل دوائر في الماء. هل تنتقل جزيئات الماء؟ ولماذا؟

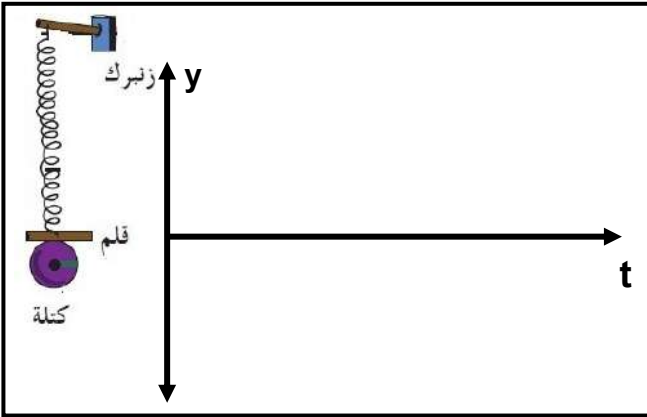
لا تنتقل الجزيئات، ولكن الطاقة هي التي تنتقل عبر جزيئات الوسط

علل : تنتشر الموجة الحادثة على سطح الماء من جزيء إلى آخر.

بسبب انتقال الطاقة عبر جزيئات الوسط

الحركة التوافقية البسيطة حركة اهتزازية تتناسب فيها قوة الإرجاع طردياً مع الإزاحة وتعاكسها بالاتجاه

بإهمال الاحتكاك مع الهواء



تمثيل الحركة التوافقية البسيطة بيانياً :

عند ربط كتلة مثبت بها قلم بنايوس معلق بحيث إن القلم يرسم على ورقة موضوعة تتحرك بشكل أفقي وبسرعة ثابتة ثم سحب الكتلة لأسفل وتركت تتحرك حركة توافقية بسيطة (أ) أرسم الشكل الناتج على الورقة :

(ب) نستنتج أن الحركة التوافقية البسيطة تمثل بـ .....

قوة الإرجاع قوة تعمل على إرجاع الجسم إلى موضع اتزانها وتتناسب طردياً مع الإزاحة وتعاكسها بالاتجاه



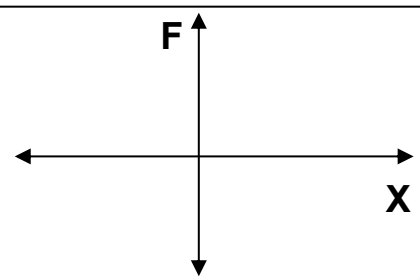
علل لما يأتي :

1- عندما نقوم بشد الكتلة المربوطة بنهاية النابض ثم نتركها فأنها تتحرك نحو موضع اتزانها

بسبب قوة الإرجاع التي تقوم بإرجاع الجسم إلى موضع الاتزان

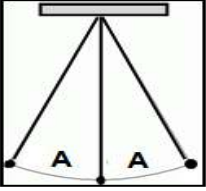
2- يعود الجسم المهتز في الحركة التوافقية البسيطة إلى موضع اتزانها .

بسبب قوة الإرجاع التي تقوم بإرجاع الجسم إلى موضع الاتزان



قوة الإرجاع والإزاحة الحادثة في الحركة التوافقية البسيطة

## خصائص الحركة التوافقية البسيطة



1- السعة ( A )

أكبر إزاحة للجسم المهتز بعيداً عن موضع سكونه  
أو نصف المسافة بين أبعد نقطتين يصل إليهما الجسم المهتز

\*\* بعد الجسم المهتز في أي لحظة عن موضع الاتزان يمثل ..... بينما أكبر بعد للجسم المهتز يمثل .....

\*\* إذا كان البعد بين أبعد نقطتين يصل إليها الجسم المهتز يساوي ( 8 cm ) فإن سعة الحركة تساوي .....

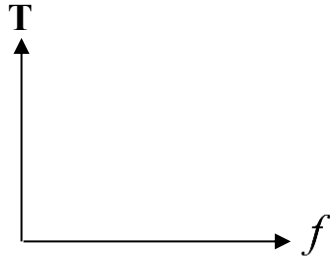
$$f = \frac{N}{t}$$

2- التردد ( f ) عدد الاهتزازات الحادثة في الثانية الواحدة

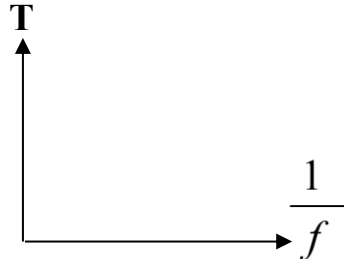
$$T = \frac{t}{N}$$

3- الزمن الدوري ( T ) الزمن اللازم لعمل دورة كاملة

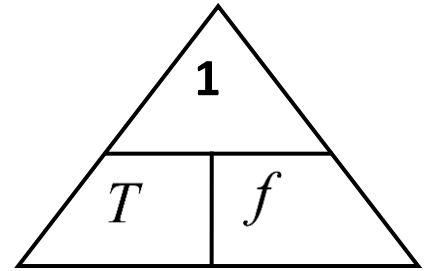
\*\* يقاس الزمن الدوري بوحدة ..... بينما يقاس التردد بوحدة ..... والذي يكافئ .....



الزمن الدوري والتردد لجسم يتحرك حركة توافقية بسيطة



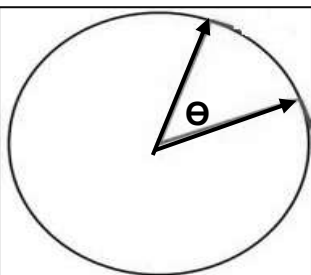
الزمن الدوري ومقلوب التردد في الحركة التوافقية البسيطة



$$\omega = \frac{2\pi}{T} = 2\pi f$$

4- السرعة الزاوية (  $\omega$  ) الزاوية التي يمسخها نصف القطر في الثانية الواحدة

\*\* تقاس السرعة الزاوية بوحدة .....



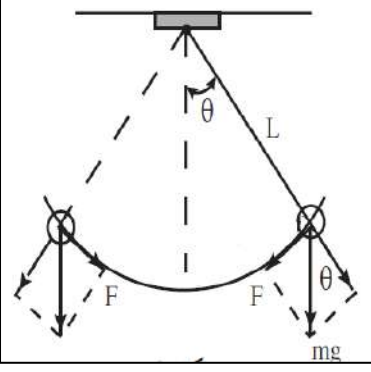
مثال 1 : جسم يتحرك حركة توافقية بسيطة ويصنع (120) اهتزازة خلال دقيقة . أحسب :

( أ ) التردد :

( ب ) الزمن الدوري :

( ج ) السرعة الزاوية ( التردد الزاوي ) :

## معادلات الحركة التوافقية البسيطة



عبارة عن ثقل معلق في خيط مهمل الوزن وغير قابل للتمدد

البندول البسيط

\*\* الشروط اللازمة لكي تكون حركة البندول البسيط حركة توافقية بسيطة :

1- .....

2- .....

\*\* القوة المعيدة ( الإرجاع ) للبندول تحسب من العلاقة : .....

علل : حركة البندول البسيط تكون حركة توافقية بسيطة عندما يهتز بزاوية اهتزاز صغيرة في غياب الاحتكاك.

لأن قوة الإرجاع تتناسب طردياً مع الإزاحة وتعاكسها بالاتجاه

$$y = A \sin(\omega t)$$

الأزاحة في ( S . H . M )

\*\* (y) هي ..... (A) هي ..... (ω) هي ..... (t) هي .....

مثال 1 : يتحرك جسم حركة توافقية بسيطة بحيث تعطي إزاحته بالعلاقة التالية :  $y = 15 \sin (10 \pi t)$

حيث تقاس الأبعاد بوحدة ( cm ) والأزمنة ( s ) والزاويا ( rad ) . أحسب :

أ) سعة الحركة :

ب) السرعة الزاوية :

ج) التردد :

د) الزمن الدوري :

هـ) الإزاحة بعد زمن ( 0.12 s ) :

وجه المقارنة	الزمن الدوري في النابض	الزمن الدوري في البندول البسيط
العلاقة الرياضية	$T = 2\pi \sqrt{\frac{m}{K}}$	$T = 2\pi \sqrt{\frac{L}{g}}$
العوامل		
العلاقة مع الكتلة المعلقة		
العلاقة مع طول الخيط		

الزمن الدوري للبندول البسيط والجذر التربيعي لطول الخيط	الزمن الدوري للنابض وجذر الكتلة المعلقة بالنابض	الزمن الدوري للنابض ومقلوب جذر ثابت النابض	الزمن الدوري للنابض والجذر التربيعي لثابت النابض
مربع الزمن الدوري للبندول البسيط وطول الخيط	السرعة الزاوية والتردد في الحركة التوافقية البسيطة	السرعة الزاوية والزمن الدوري في الحركة التوافقية البسيطة	منحني الإزاحة والزمن في الحركة التوافقية البسيطة

\*\* لمضاعفة الزمن الدوري للبندول البسيط إلى مثلي ما كان عليه يجب زيادة طوله إلى .....

\*\* لإنقاص الزمن الدوري للنابض إلى نصف ما كان عليه يجب إنقاص الكتلة المعلقة إلى .....

علل لما يأتي :

1- يختلف الزمن الدوري للبندول البسيط باختلاف المكان علي سطح الأرض.

لأن عجلة الجاذبية الأرضية تختلف باختلاف المكان على سطح الأرض حيث

$$T = 2\pi \sqrt{\frac{L}{g}}$$

2- الزمن الدوري للبندول البسيط على سطح القمر أكبر من الزمن الدوري لنفس البندول على سطح الأرض.

لأن عجلة الجاذبية على القمر أقل من عجلة الجاذبية على الأرض حيث

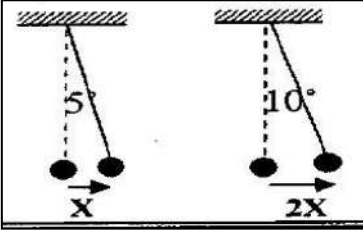
$$T = 2\pi \sqrt{\frac{L}{g}}$$

1- للزمن الدوري والتردد لبندول بسيط يهتز على سطح الأرض عندما يهتز نفس البندول على سطح القمر.

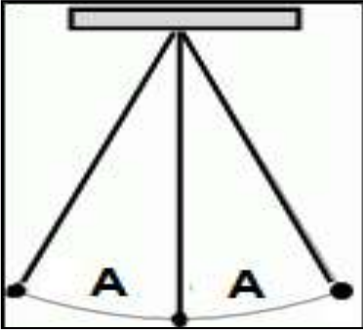
2- للزمن الدوري للبندول البسيط إذا زاد طول الخيط الي أربعة أمثال.

3- للزمن الدوري للبندول البسيط إذا زادت الكتلة المعلقة الي المثلثي.

4- للزمن الدوري للنايبيض إذا قلت الكتلة المعلقة الي ربع ما كانت عليه.



5- للزمن الدوري إذا زادت سعة الحركة التوافقية البسيطة للمثلي كما بالشكل المقابل.



نشاط

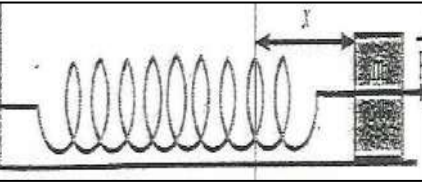
في الشكل المقابل : بندول بسيط يتحرك حركة توافقية بسيطة .

أ ) ماذا يحدث للزمن الدوري عند زيادة سعة الاهتزازة :

ب ) ماذا يحدث للزمن الدوري عند زيادة الكتلة المعلقة :

ج ) ماذا يحدث للزمن الدوري عند زيادة طول الخيط :

د ) ماذا تستنتج :



نشاط

الشكل المقابل : يمثل حركة نابض يتحرك علي مستوي أفقي

فعندما نقوم بشد الكتلة بقوة ( F ) فإنها تتحرك عن موضع الاتزان بمقدار ( X )

أ ) الحركة التي يتحركها النابض تسمى :

ب ) خصائص هذه الحركة :

ج ) أهم تطبيقات هذا النوع من الحركة :

د ) في هذه الحركة تكون قوة الإرجاع تتناسب

مع الإزاحة وتعاكسها في

مثال 1 : إذا كان الزمن الدوري لبندول بسيط يساوي s ( 3.14 ) . إحسب طول الخيط لهذا البندول .

**مثال 2 :** بندول بسيط طول خيطه ( 1 m ) وكتلة كرتته ( 0.1 kg ) . أعتبر (  $g = 10 \text{ m/s}^2$  ) . أحسب :

( أ ) الزمن الدوري للبندول البسيط :

( ب ) الزمن الدوري للبندول إذا زادت كتلة الكرة إلي المثلين :

( ج ) الزمن الدوري إذا زاد طول الخيط الي اربعة أمثال :

( د ) الزمن الدوري للبندول بفرض وضعه علي سطح القمر :

( هـ ) الزمن الدوري للبندول بفرض وضعه على كوكب آخر عجلة جاذبيته ثلاث أمثال عجلة جاذبية كوكب الأرض :

**مثال 3 :** علقت كتلة غير معلومة بنابض ثابت مرونته ( 400 N/m ) وتردده ( 5 Hz ) . أحسب :

( أ ) الزمن الدوري للناض :

( ب ) الكتلة المعلقة في النابض :

**مثال 4 :** كتلة مقدارها ( 0.25 kg ) متصلة مع نابض مرن ثابت القوة له ( 100 N/m ) وضع أفقيا على طاولة

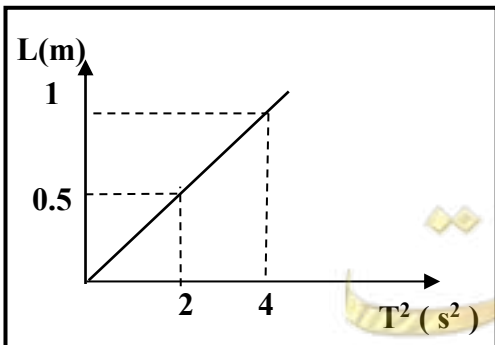
فإذا سحبنا الكتلة مسافة ( 10 cm ) يمين موضع الاتزان وتركت لتتحرك حركة توافقية بسيطة . أحسب :

( ب ) السرعة الزاوية للحركة :

**مثال 5 :** عند رسم العلاقة البيانية بين مربع الزمن الدوري (  $T^2$  ) لبندول

بسيط وطوله في أحد المختبرات تم الحصول على الخط البياني المقابل .

أحسب مقدار عجلة الجاذبية :





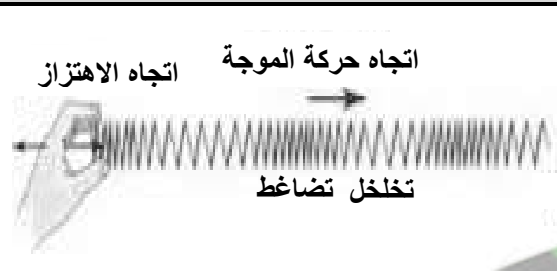
الدرس ( 1- 2 ) : خصائص الحركة الموجية

الضوء	الصوت	وجه المقارنة
		نوع الموجة
		انتشارها في الوسط المادي

علل لما يأتي :

- 1- موجات الصوت موجات ميكانيكية بينما موجات الضوء موجات كهرومغناطيسية.  
أو نري ضوء الشمس ولا نسمع صوت الانفجارات الحادثة فيها.  
لأن الصوت يحتاج إلى وسط مادي ينتقل فيه بينما الضوء لا يحتاج إلى وسط مادي وينتشر في الفراغ.
- 2- موجات الصوت تحتاج إلى وسط مادي لكي تنتقل فيه بينما موجات الضوء تنتشر في الفراغ.  
لأن موجات الصوت موجات ميكانيكية بينما موجات الضوء موجات كهرومغناطيسية.
- 3- إذا وضع جرس داخل وعاء زجاجي مفرغ من الهواء فإننا لا نسمع صوت رنين الجرس.  
لأن موجات الصوت موجات ميكانيكية لا تنتقل في الفراغ وتحتاج وسط مادي تنتشر فيه.

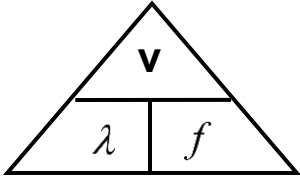
وجه المقارنة	الحركة التوافقية البسيطة	الحركة الموجية ( الموجات )
الخصائص		

أنواع الموجات	1- الموجات المستعرضة	2- الموجات الطولية
الشكل		
التعريف	موجات تكون فيها حركة جزيئات الوسط عمودية على اتجاه انتشار الموجة	موجات تكون فيها حركة جزيئات الوسط في نفس اتجاه انتشار الموجة
أمثلة		
مما تتكون		
طول الموجة ( $\lambda$ )	المسافة بين قمتين متتاليتين أو المسافة بين قاعين متتاليتين	المسافة بين مركزي تضاضطين متتاليتين أو المسافة بين مركزي تخلخلين متتاليتين
نصف طول الموجة	المسافة بين قمة وقاع متتاليتين	المسافة بين مركزي تضاضط وتخلخل متتاليتين



نشأ في الشكل التالي موجتان مختلفتين :

** الموجة تسمى .....	** الموجة تسمى .....
** حركة جزيئات الوسط ..... اتجاه الحركة	** حركة جزيئات الوسط ..... اتجاه الحركة
** الطول الموجي يساوي .....	** الطول الموجي يساوي .....



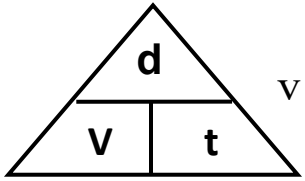
$$v = \lambda \times f$$

حاصل ضرب التردد في الطول الموجي

سرعة انتشار الموجات

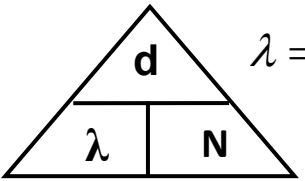
\*\* تمثل (  $\lambda$  ) ..... وتمثل (  $f$  ) .....

\*\* العوامل التي تتوقف عليها سرعة الموجات : .....



$$v = \frac{d}{t}$$

\*\* لحساب سرعة انتشار الموجات (  $v$  ) بدلالة المسافة الكلية (  $d$  ) والزمن (  $t$  ) :



$$\lambda = \frac{d}{N}$$

\*\* لحساب الطول الموجي (  $\lambda$  ) بدلالة المسافة الكلية (  $d$  ) وعدد الموجات (  $N$  ) :

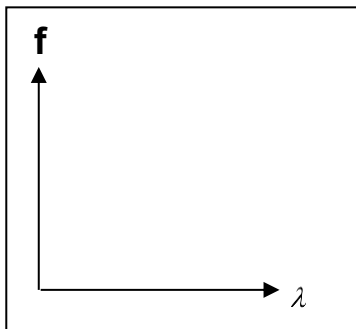
علل تظل سرعة انتشار الموجات ثابتة في نفس الوسط مهما زاد التردد أو لا تتوقف على التردد والطول الموجي

لأن كلما زاد التردد يقل الطول الموجي بنفس النسبة وتظل سرعة الموجات ثابتة

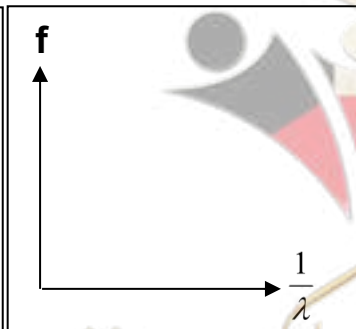
ماذا يحدث :

1- لسرعة انتشار الموجة عندما يزداد ترددها لمثلي ما كان عليه :

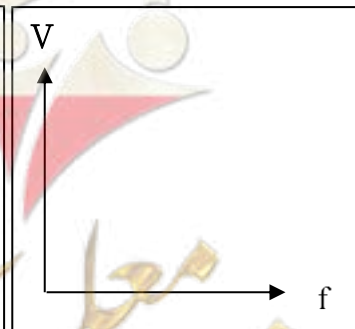
2- لطول موجة عندما يزداد ترددها لمثلي ما كان عليه :



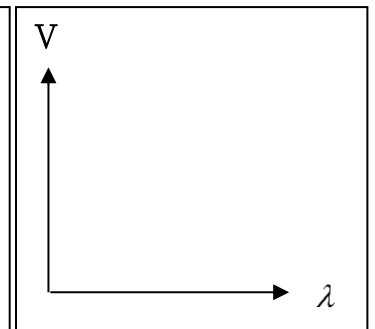
تردد الموجة  
وطولها الموجي



تردد الموجة  
ومقلوب طولها الموجي



سرعة انتشار الموجات  
وتردد الموجات



سرعة انتشار الموجات  
والطول الموجي

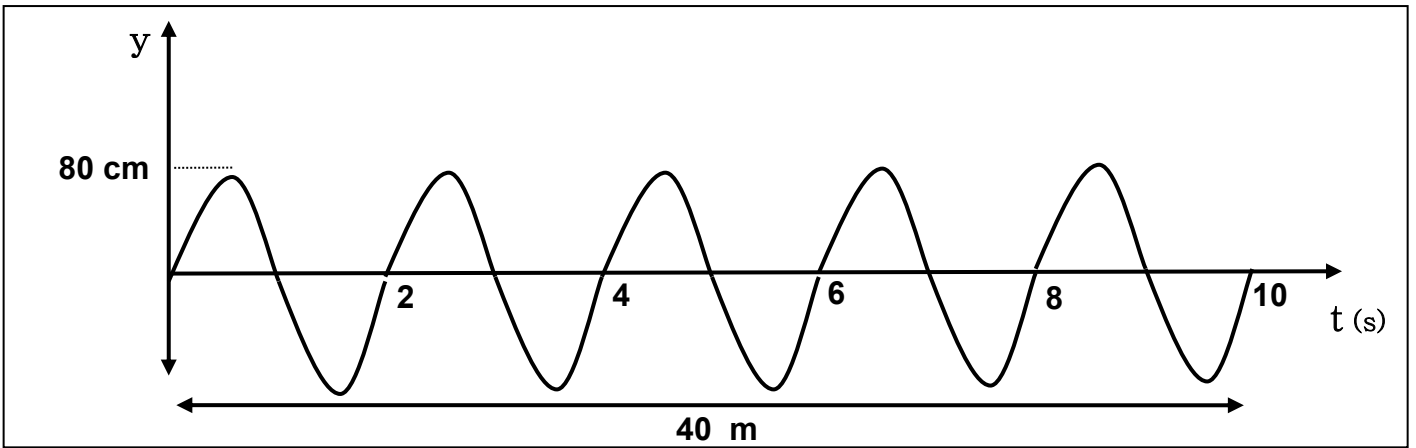
**مثال 1 :** قطعت موجة صوتية ترددها ( 200 Hz ) ملعب طوله ( 80 m ) خلال زمن ( 0.25 s ) . أحسب :

( أ ) سرعة الموجة :

( ب ) طول الموجة :

( ج ) طول الموجة إذا أصبح تردد الموجة ( 400 Hz ) :

**مثال 2 :** في الشكل المقابل : يوضح الإزاحة والزمن لموجة مستعرضة من الرسم أوجد :



(1) سعة الاهتزازة بوحدة ( m ) :

(2) الزمن الدوري :

(3) التردد :

(4) السرعة الزاوية :

(5) الطول الموجي :

(6) سرعة انتشار الموجة :

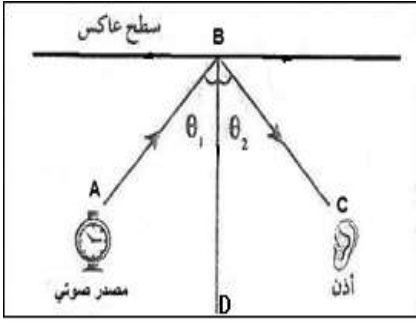
## الصوت

اضطراب ينتقل في الوسط نتيجة اهتزازه

الصوت

ارتداد الصوت عندما يقابل سطح عاكس

انعكاس الصوت



نشاط

في الشكل المقابل تجربة انعكاس الصوت .

أ ( الشعاع AB ) يمثل ..... والشعاع ( BC ) يمثل .....

ب) العمود ( BD ) يمثل .....

د ( الزاوية  $\theta_1$  ) تمثل .....

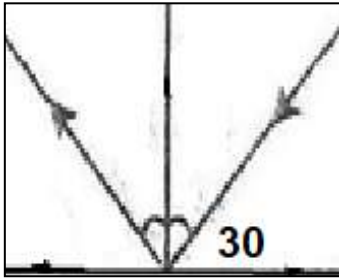
هـ ( الزاوية  $\theta_2$  ) تمثل .....

و ( أذكر قانوني الانعكاس :

**1- القانون الأول للانعكاس :** الشعاع الساقط والشعاع المنعكس والعمود المقام من نقطة السقوط

تقع جميعها في مستوى واحد عمودي على السطح العاكس

**2- القانون الثاني للانعكاس :** زاوية السقوط تساوي زاوية الانعكاس



\*\* في الشكل تكون زاوية السقوط بالدرجات ..... وزاوية الانعكاس بالدرجات .....

\*\* تنقسم الطاقة الصوتية عند السطح الفاصل إلى ثلاثة أقسام هي :

.....  
.....

الصوف أو القماش	الحديد أو الخشب	عند سقوط موجات الصوت علي سطح من
		عدد الموجات المنعكسة
		عدد الموجات الممتصة

صفوة معلم الكويت



1- إذا أنتقل الصوت من وسط أكبر كثافة ( مثل الماء ) إلي وسط أقل كثافة ( مثل الهواء ).

2- إذا أنتقل الصوت من وسط أقل كثافة ( مثل الهواء ) إلي وسط أكبر كثافة ( مثل الماء ).

3- إذا سقط الصوت عمودياً على السطح الفاصل بين وسطين مختلفين في الكثافة.

علل لما يأتي :

1- حدوث انكسار الموجات الصوتية عند مرورها بين وسطين.

نتيجة اختلاف سرعة الصوت في الوسطين

2- سماع الصوت الصادر من السيارات في الليل وعدم سماعه في النهار.

لأن الهواء غير متجانس الحرارة وسرعة الصوت في الهواء الساخن أكبر

من الهواء البارد فينكسر الصوت لأعلي في النهار وينكسر لأسفل في الليل

3- تحدث ظاهرة انكسار الصوت في الهواء الذي يحيط بسطح الأرض.

لأن الهواء غير متجانس الحرارة وتختلف سرعة الصوت عند انتقاله بين

طبقات الهواء مختلفة الحرارة



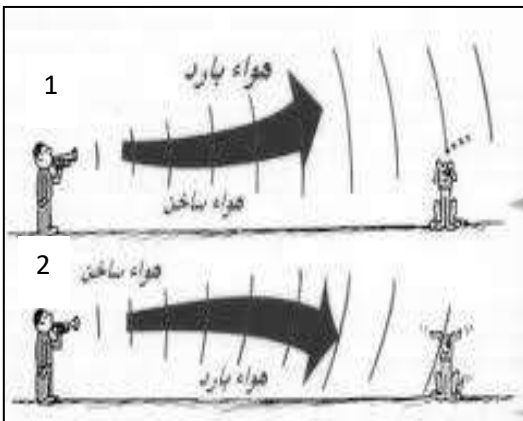
نشاط الشغل المقابل : يوضح احدي خواص الموجات الصوتية

أ ( اسم الخاصية ) .....

ب ( تحدث هذه الظاهرة بسبب اختلاف ..... بين طبقات الهواء

ج ( تحدث الحالة الأولى في ..... وتحدث الحالة الثانية في ..... )

د ( نستطيع سماع الأصوات البعيدة في الحالة ..... )



## التداخل في الصوت

تراكب الموجات عبور الموجات نقطة ما ثم تستعيد كل موجة شكلها وتكمل في الاتجاه الذي تسلكه

نقطة تتجمع فيها الموجات ذات النوع الواحد

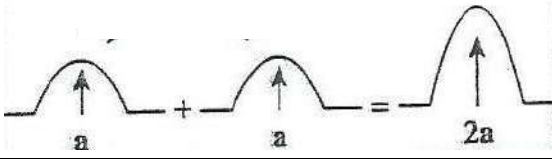
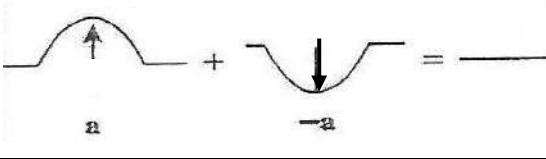
\*\* لا يتحقق مبدأ التراكب إذا كانت الموجتان من نوعين .....

علل يمكن سماع شخص بوضوح بالرغم من أن صوته تقاطع مع أصوات أخرى.

بسبب تراكب موجات الصوت

تداخل الموجات ظاهرة التراكب بين مجموعة موجات من نوع واحد ولها نفس التردد

\*\* للحصول على نمط تداخل واضح ومستمر لابد أن يكون للموجات ذات التردد الواحد المتداخلة نفس .....

وجه المقارنة	التداخل البنائي	التداخل الهدمي
التعريف	تداخل تدعم الموجات بعضها البعض	تداخل تلغي الموجات بعضها البعض
متى يحدث	التقاء قممتين أو قاعين أو التقاء تضامطين أو تخلخلين	التقاء قمة مع قاع أو التقاء تضامط مع تخلخل
الشكل		
السعة الكلية لموجتين لهما نفس السعة		
نوع الموجات المتداخلة		

نشاط .. الشكل التالي يوضح تداخل الموجات .

 <p>1- نوع التداخل .....</p> <p>2- يحدث نتيجة التقاء .....</p> <p>3 - تكون الإزاحة الكلية تساوي .....</p> <p>ويؤدي إلي .....</p> <p>4 - شروط حدوثه .....</p>	 <p>1- نوع التداخل .....</p> <p>2- يحدث نتيجة التقاء .....</p> <p>3 - تكون الإزاحة الكلية تساوي .....</p> <p>ويؤدي إلي .....</p> <p>4 - شروط حدوثه .....</p>
---	--



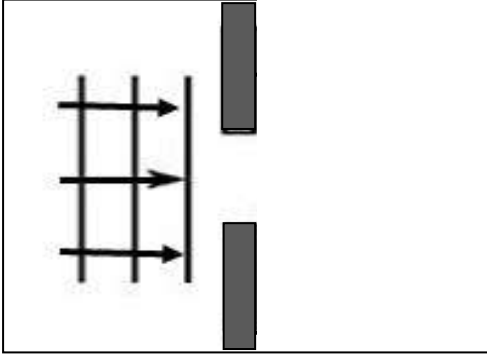
## حيود الصوت

حيود الصوت : ظاهرة انحناء الموجات حول حافة حادة أو عند نفاذها من فتحة صغيرة بالنسبة لطولها الموجي

\*\* يزداد انحناء الموجات كلما كان أوسع الفتحة ..... الطول الموجي .

علل : يمكنك سماع صوت يفصلك عنه حاجز ( حائط )

بسبب حيود الصوت عند اصطدامه بحاجز



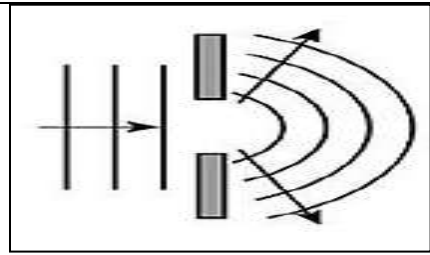
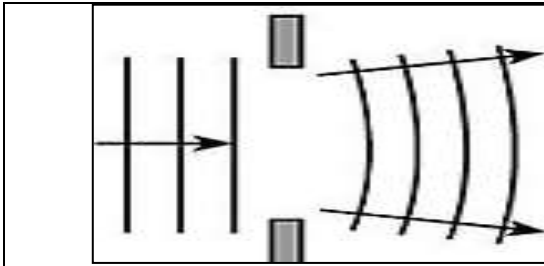
نشاط : الشكل المقابل : يوضح احدي ظواهر الموجات الصوتية .

أ ) أكمل مسار الموجات الصوتية بعد مرورها من الفتحة في الشكل المقابل .

ب ) تسمى هذه الظاهرة .....

ج ) تزداد الظاهرة وضوحا كلما كان اتساع الفتحة ..... الطول الموجي

نشاط : الشكل المقابل : يوضح مرور الموجات الصوتية في فتحتين.



الملاحظة : .....

الاستنتاج : .....

.....

الملاحظة : .....

الاستنتاج : .....

.....

حيود الصوت	تداخل الصوت	وجه المقارنة
		توضيح الظاهرة عملياً

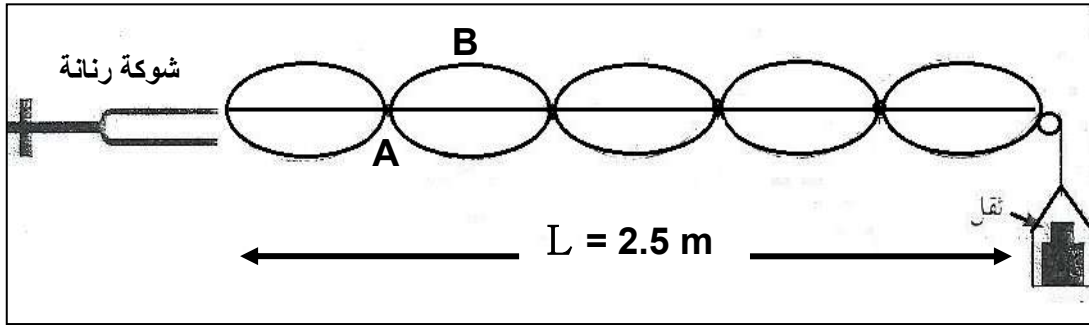


## الموجات الموقوفة ( الساكنة )

موجات تنشأ من تراكب قطارين من الموجات متماثلة في التردد والسعة ويسيران باتجاهين متعاكسين

الموجات الموقوفة

نشاط



الشكل يمثل تجربة ميلد :

أ ) نوع الموجات المتكونة عند طرق الشوكة الرنانة .....

ب) النقطة ( A ) تسمى ..... حيث سعة الاهتزازة تكون .....

ج) النقطة ( B ) تسمى ..... حيث سعة الاهتزازة تكون .....

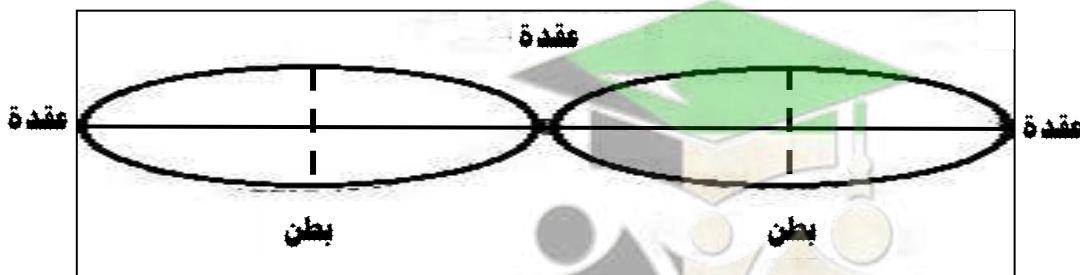
د ) المسافة بين النقطتين ( A ) متتاليتين أو بين النقطتين ( B ) متتاليتين تمثل .....

هـ ) لحساب طول الوتر ( L ) في الشكل السابق نستخدم العلاقة :  $L = \frac{n}{2} \lambda$

و ) لحساب الطول الموجي (  $\lambda$  ) في الشكل السابق نستخدم العلاقة :  $\lambda = \frac{2}{n} L$

ي ) من الشكل السابق الطول الموجي (  $\lambda$  ) يساوي .....

وجه المقارنة	البطن	العقدة
التعريف	موضع تكون فيه سعة الاهتزاز أكبر ما يمكن	موضع تكون فيه سعة الاهتزاز صفر



نشاط



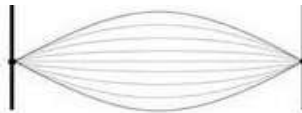
من الشكل المقابل .

عرف كلاً من :

\* ربع طول الموجة الموقوفة (  $\frac{1}{4} \lambda$  ) : المسافة بين عقدة وبطن متتاليين

\* نصف طول الموجة الموقوفة (  $\frac{1}{2} \lambda$  ) : المسافة بين عقدتين متتاليتين أو المسافة بين بطنين متتاليين

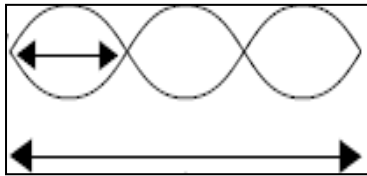
\* طول الموجة الموقوفة (  $\lambda$  ) : مثلي المسافة بين عقدتين متتاليتين أو مثلي المسافة بين بطنين متتاليين

التوافقية الثانية	التوافقية الأولى	النغمة الأساسية	نوع النغمة
			الشكل
			عدد القطاعات
			طول الوتر $L = \frac{n}{2} \lambda$
			التردد ( f )
			النسبة بين طول الأوتار
			النسبة بين الترددات

علل لما يأتي :

- تتكون الموجات الموقوفة في الأوتار المهتزة. بسبب تراكب قطارين من الأمواج الساقطة والمنعكسة لها نفس التردد والسعة وفي اتجاهين متعاكسين
- تسمى الموجات الساكنة بهذا الاسم. لأن أماكن العقد والبطن ثابتة
- يصدر الوتر أقل تردد عندما يصدر نغمته الأساسية. لأن في النغمة الأساسية يهتز الوتر كقطاع واحد والتردد يتناسب طردياً مع عدد القطاعات

مثال 1 : اهتز حبل طوله ( 240 cm ) اهتزازاً مكوناً ثلاث بطون (قطاعات) عندما كان التردد ( 15 Hz ) . أحسب :



( أ ) الطول الموجي :

.....  
 .....

( ب ) سرعة انتشار الموجة في الحبل :

.....

مثال 2 : وتر طوله ( 1.5 m ) تولدت عليه موجة موقوفة مكونة من ( 7 ) عقد وسرعة الموجات ( 12 m/s ) .

( أ ) أحسب طول الموجة الحادثة في الوتر :

.....  
 .....

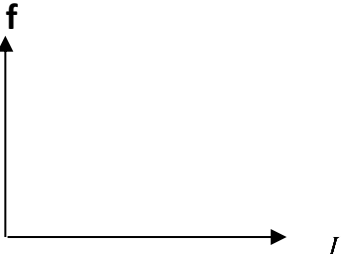
( ب ) أحسب تردد النغمة الصادرة :

.....

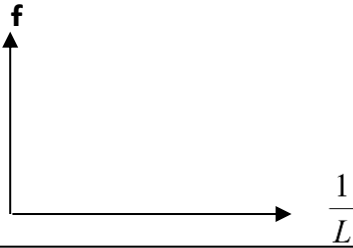
( ج ) حدد نوع النغمة الصادرة :

.....

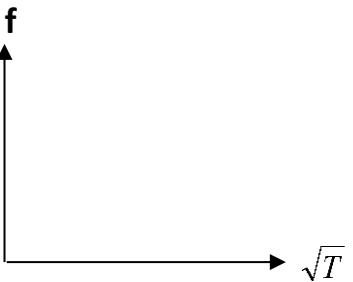
## اهتزاز الأوتار المستعرضة ( الصنومتر )



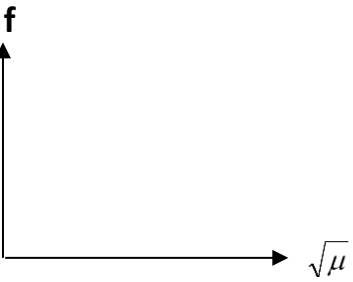
تردد النغمة الأساسية للوتر  
وطول الوتر



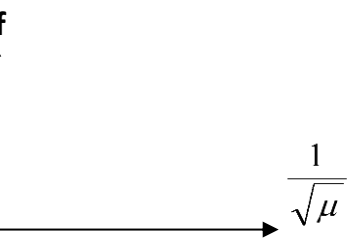
تردد النغمة الأساسية للوتر  
ومقلوب طول الوتر



تردد النغمة الأساسية للوتر  
والجذر التربيعي لقوة شد الوتر



تردد النغمة الأساسية للوتر  
وجذر كتلة وحدة الأطوال من الوتر



تردد النغمة الأساسية للوتر  
ومقلوب جذر كتلة وحدة الأطوال

$$* V = \sqrt{\frac{T}{\mu}}$$

سرعة الموجات في الوتر :

$$* f = \frac{n}{2L} \sqrt{\frac{T}{\mu}}$$

تردد النغمة الصادرة من الوتر :

العوامل المؤثرة علي تردد النغمة الأساسية الصادرة من الوتر

### 1- طول الوتر ( L ) :

\*\* تردد النغمة الأساسية لوتر يتناسب ..... مع طول الوتر

\*\* تردد النغمة الأساسية لوتر يتناسب ..... مع مقلوب طول الوتر

\*\* العلاقة بين تردد النغمة الأساسية وطول الوتر تمثل بـ :  $\frac{f_2}{f_1} = \frac{L_1}{L_2}$

### 2- قوة الشد في الوتر ( T ) :

\*\* تردد النغمة الأساسية يتناسب ..... مع الجذر التربيعي لقوة الشد في الوتر

\*\* العلاقة بين تردد النغمة الأساسية وقوة الشد تمثل بـ :  $\frac{f_2}{f_1} = \sqrt{\frac{T_2}{T_1}}$

\*\* لحساب قوة الشد بدلالة الكتلة المعلقة في الوتر نستخدم العلاقة :  $T = mg$

### 3- كتلة وحدة الأطوال من الوتر ( μ ) :

\*\* تردد النغمة الأساسية يتناسب ..... مع الجذر التربيعي لكتلة وحدة الأطوال

\*\* تردد النغمة الأساسية يتناسب ..... مع مقلوب جذر كتلة وحدة الأطوال

\*\* العلاقة بين تردد النغمة الأساسية وكتلة وحدة الأطوال تمثل بـ :  $\frac{f_2}{f_1} = \sqrt{\frac{\mu_1}{\mu_2}}$

\*\* لحساب كتلة وحدة الأطوال بدلالة كتلة الوتر نستخدم العلاقة :  $\mu = \frac{m}{L}$

ماذا يحدث :

1- لتردد الوتر المهتز إذا زاد طول الوتر للمثلي .

2- لتردد الوتر المهتز إذا زادت قوة الشد إلي أربعة أمثال .

3- لتردد الوتر المهتز إذا قلت كتلة وحدة الأطوال إلي ربع ما كانت عليه .

4- لتردد الوتر إذا زادت كتلة وحدة الأطوال لأربعة أمثال وقلت قوة الشد إلي الربع .

الوتر السميك يصدر صوتاً أقل تردداً من الوتر الرفيع من نفس نوع المادة  
علل : لأن كلما زاد سمك الوتر زادت كتلة وحدة الأطوال من الوتر فيقل التردد

مثال 1 : وتر طوله ( 0.8 m ) وكتلته (  $2 \times 10^{-3}$  kg ) ويتم شده بقوة مقدارها ( 64 N ) . أحسب :  
(أ) كتلة وحدة الأطوال من الوتر :

(ب) تردد النغمة الأساسية :

(ج) تردد النغمة التوافقية الأولى :

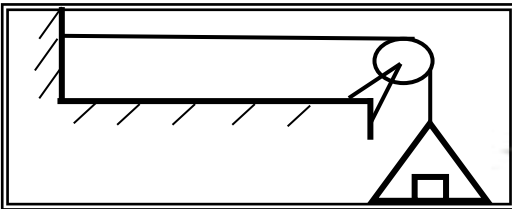
(د) تردد النغمة التوافقية الثانية :

مثال 2 : وتر كتلة وحدة الأطوال ( 0.04 kg/m ) ويتم شده بقوة ( 16 N ) . أحسب سرعة الموجات في الوتر.

مثال 3 : يصدر وتر طوله ( 50 cm ) نغمة ترددها ( 500 Hz ) أحسب تردده عندما يصبح طوله ( 100 cm ) .

مثال 4 : وتران متساويان في الطول وقوة الشد حيث كتلة وحدة الأطوال للوتر الأول ( 0.54 ) kg/m وللوتر الثاني ( 0.24 ) kg/m وكان تردد الوتر الأول ( 200 ) Hz . أحسب تردد الوتر الثاني :

مثال 5 : في الشكل وتر مشدود بكتلة ( 18 ) kg وكتلة وحدة الأطوال منه ( 0.05 ) kg/m وطوله ( 0.5 ) m .



( أ ) حدد نوع الموجة المتولدة به .

(ب) أحسب قوة الشد في الوتر .

(ج) أحسب تردد الوتر الأساسي .

\*\* في الشكل المقابل : افتح صنبور الماء لتحصل على ماء ينساب بخيط رفيع . وانفخ البالون وقربه من الماء .



دع البالون الجاف يهتلك بسترته أو بقطعة من الصوف . وقرب البالون ببطء

1- ماذا اكتسب البالون نتيجة احتكاكه بسترته أو بقطعة الصوف ؟

.....

2- ماذا حدث للماء عندما قربت البالون منه قبل احتكاكه ؟

.....

3- ماذا حدث للماء عندما قربت البالون منه بعد احتكاكه ؟

.....

4- هل يُمكنك استخدام مسطرة من الحديد بدلاً من البالون ؟ ولماذا ؟

.....

5- ماذا تستنتج ؟

تبقى الشحنات ( الالكترونات ) ثابتة في المواد العازلة، ولكنها تتحرك في المواد الموصلة وتكون تيار كهربائي

\*\* يحمل الإلكترون شحنة ..... والبروتون شحنة ..... والنيوترون .....

\*\* أصغر شحنة حرة في الطبيعة هو .....

\*\* الشحنات المتشابهة ..... بينما الشحنات المختلفة .....

حفظ (بقاء) الشحنة الكهربائية الشحنات لا تفنى ولا تستحدث، بل تنتقل من مادة إلى أخرى (الشحنات محفوظة)



فقدان الكهرباء الساكنة عند انتقال الشحنات بعيد عن الجسم

التفريغ الكهربائي

جهاز يستخدم في الكشف عن الشحنة الكهربائية

الكشاف الكهربائي

( الالكتروسكوب )

طرق الشحن ( طرق توليد الكهرباء الساكنة ) :

1- الشحن بالدلك (الاحتكاك) : انتقال الالكترونات من جسم مشحون إلى جسم آخر بالاحتكاك

2- الشحن بالتوصيل (اللمس) : انتقال الالكترونات من جسم مشحون إلى جسم آخر بالتلامس المباشر

3- الشحن بالتأثير (الحث) : انتقال الالكترونات إلى جزء من الجسم بسبب الشحنة الكهربائية لجسم آخر لا يلامسه

\*\* لديك ثلاث كرات متماثلة A و B و C . الكرة A لها شحنة ( + 30 C ) والكرة B لها شحنة ( - 55 C ) والكرة C

لا يوجد عليها شحنة . أحسب : أ ) شحنة كل من الكرات الثلاثة بعد أن تلامس الكرة C الكرة A ومن ثم الكرة B

.....

.....

.....

ب) شحنة كل من الكرات الثلاثة إذا تلامست الكرات الثلاثة مع بعضهما في آن واحد.

.....

الطرف ( b )	الطرف ( a )	نوع الشحنة المتكونة عند
		

ماذا يحدث في الحالات الآتية مع ذكر السبب

1- إذا فقدت الذرة عدد من الإلكترونات .

الحدث :

التفسير :

2- إذا اكتسبت الذرة عدد من الإلكترونات .

الحدث :

التفسير :

3- عند احتكاك ساق المطاط بالفراء أو الصوف .

الحدث :

التفسير :

4- عند احتكاك ساق الزجاج أو البلاستيك بالحرير .

الحدث :

التفسير :

5- عند جمع جسمين يحمل أحدهما شحنة موجبة والآخر شحنة سالبة .

الحدث :

التفسير :

6- لورقتي الكشاف الكهربائي عندما يلمس قرص الكشاف جسماً مشحوناً .

الحدث :

التفسير :

7- بين قدميك والسجاد الصوفي الذي تمشي عليه .

الحدث :

التفسير :

علل لما يأتي :

1- لا يمكن وجود شحنة كهربائية تعادل شحنة (10.5) أو (100.5) إلكترون .

لأن شحنة الإلكترون لا تتجزأ والشحنة الكهربائية هي مضاعفات صحيحة لشحنة الإلكترون الواحد

2- الطاقة اللازمة لنزع إلكترون من الذرة في المستويات الخارجية أقل من الطاقة اللازمة لنزعه من المستويات الداخلية

لأن ترابط الإلكترونات الخارجية بالنوات ضعيف بينما ترابط الإلكترونات الداخلية بالنوات أقوى

3- إلكترونات المطاط تحتاج لطاقة أكبر لنزعها من الذرة بعكس إلكترونات الصوف تحتاج طاقة أقل.

لأن إلكترونات المطاط تكون أكثر ارتباطاً بالذرة بينما إلكترونات الصوف تكون أقل ارتباطاً بالذرة

4- تجهز شاحنة نقل النفط بسلسلة معدنية تتدلى من الخلف وعلى تلامس دائم مع الأرض.

لأن السلسلة تعمل على تفريغ الشحنات المتراكمة إلى الأرض وتمنع حدوث شرارة كهربائية قد تؤدي لاحتراقها

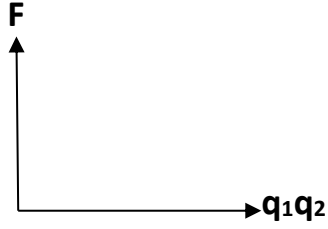


## قانون كولوم

قانون كولوم

$$F = \frac{K q_1 q_2}{d^2}$$

القوة الكهربائية بين شحنتين تتناسب طردياً مع حاصل ضرب الشحنتين وعكسياً مع مربع المسافة بينهما



القوة الكهربائية ومقدار كل من الشحنتين الكهربائيتين

\*\* ( q<sub>1</sub> q<sub>2</sub> ) تمثل ..... ووحدة قياسها .....

\*\* ( d ) تمثل ..... ووحدة قياسها .....

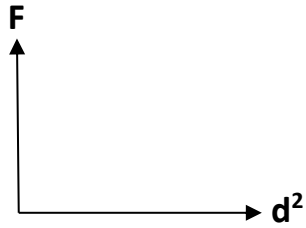
\*\* ( F ) تمثل ..... ووحدة قياسها .....

\*\* ( K ) تمثل ..... ويتوقف علي .....

\*\* تتبع القوة الكهربائية المتبادلة بين شحنتين في قانون كولوم قانون .....

\*\* قانون كولوم يشبه قانون الجذب العام . لماذا ؟

لأن الشحنة في قانون كولوم تؤدي نفس دور الكتلة في قانون الجذب العام لنيوتن



القوة الكهربائية ومربع المسافة بين الشحنتين

$$1- \text{ لحساب القوة الكهربائية : } F = \frac{K q_1 q_2}{d^2}$$

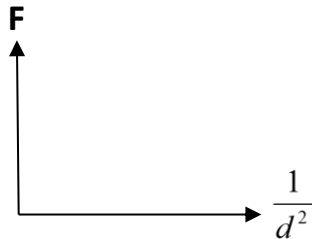
$$2- \text{ لحساب قوة الجاذبية : } F = \frac{G m_1 m_2}{d^2}$$

$$3- \text{ ثابت كولوم يساوي } ( 9 \times 10^9 \text{ N.m}^2/\text{C}^2 )$$

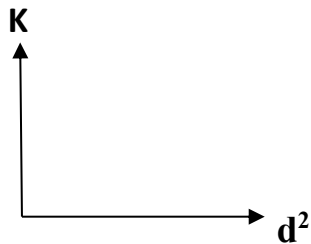
$$4- \text{ ثابت الجذب العام يساوي } ( 6.67 \times 10^{-11} \text{ N.m}^2/\text{Kg}^2 )$$

$$5- \text{ وحدة الميكرو كولوم تساوي : } \mu\text{C} = 10^{-6} \text{ C}$$

ملاحظات



القوة الكهربائية ومقلوب مربع المسافة بين الشحنتين



ثابت كولوم ومربع المسافة بين الشحنتين

\*\* القوة الكهربائية بين مكونات الذرة ..... من قوى الجاذبية المتبادلة بينها .

\*\* العوامل التي تتوقف عليها القوة الكهربائية : .....

\*\* اتجاه القوة الكهربائية يكون دائماً على امتداد ..... بين الشحنتين

\*\* شحنتان كهربائيتان مقدارهما ( q ) و ( 2q ) فإذا كانت الشحنة الأولى تؤثر علي

الشحنة الثانية بقوة ( F ) فإن الشحنة الثانية تؤثر علي الشحنة الأولى بقوة .....

$$** \text{ لديك قوتين } ( F_1 ) \text{ و } ( F_2 ) \text{ في اتجاه واحد فإن محصلتهما } ( F_T ) \text{ تساوي } F_T = F_1 + F_2$$

$$** \text{ لديك قوتين } ( F_1 ) \text{ و } ( F_2 ) \text{ متعاكستين بالاتجاه فإن محصلتهما } ( F_T ) \text{ تساوي } F_T = F_2 - F_1$$



ماذا يحدث في كل ما يلي :

1- لقوة كهربائية مقدارها ( 100 N ) إذا قلت المسافة بين الشحنتين لنصف قيمتها .

2- لقوة كهربائية مقدارها ( 400 N ) إذا قلت كل من الشحنتين إلى نصف قيمتهما .

3- لقوة كهربائية إذا زادت كل من الشحنتين إلى مثلي قيمتهما وزيدت المسافة للمثلي .

4- لقوة كهربائية إذا أستبدل إحدى الشحنتين مقدار كل منهما ( + q ) بشحنة مقدارها ( - q ) .

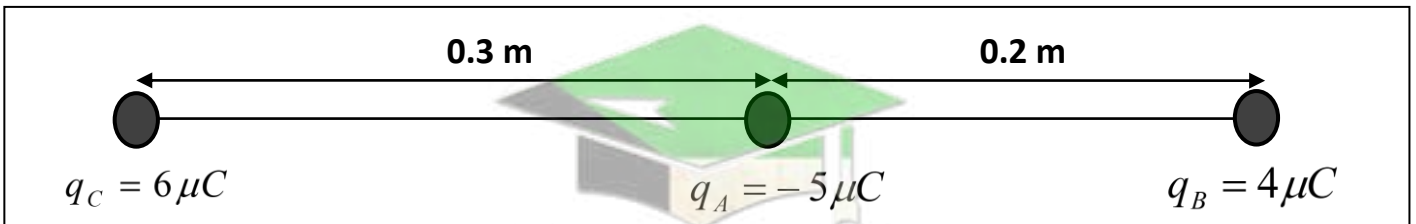
مثال 1 : شحنتين في الهواء مقدارهما ( 20  $\mu\text{C}$  ) و ( 40  $\mu\text{C}$  ) بينهما مسافة ( 50 cm ) . أحسب :

أ ( القوة الكهربائية المتبادلة بينهما وحدد نوعها حيث ثابت كولوم يساوي (  $9 \times 10^9 \text{ N.m}^2/\text{C}^2$  ) :

ب ( القوة الكهربائية المتبادلة بين الشحنتين إذا زادت كلا من الشحنتين الي المثلي مع ثبات المسافة بينهما :

ج ( القوة الكهربائية المتبادلة بين الشحنتين إذا زادت المسافة بينهما للمثلي مع ثبات مقدار الشحنتين :

مثال 2 : أدرس الشكل المقابل . ثم أحسب :



أ ( القوة الكهربائية المتبادلة بين الكرة ( A ) والكرة ( B ) :

ب ( القوة الكهربائية المتبادلة بين الكرة ( A ) والكرة ( C ) :

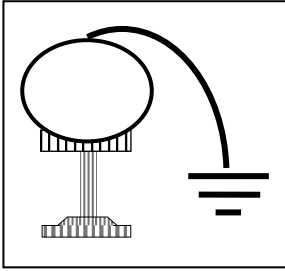
ج ( القوة الكهربائية الكلية المؤثرة على الكرة ( A ) :

**الدرس ( 1-2 ) : التيار الكهربائي ومصدر الجهد**

**تدفق الشحنات**

\*\* تتدفق الشحنات من أحد طرفي الموصل إلى الطرف الآخر عندما يكون هناك .....

\*\* يستمر سريان الشحنات ثم تتوقف عندما يتساوى .....

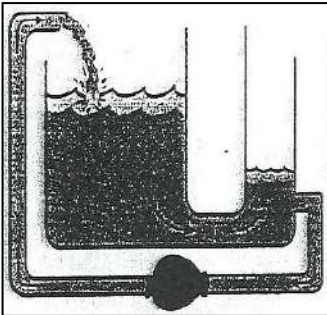


نشاط في الشكل مولد ( فان دي جراف ) مشحون يتصل بسلك موصل بالأرض .

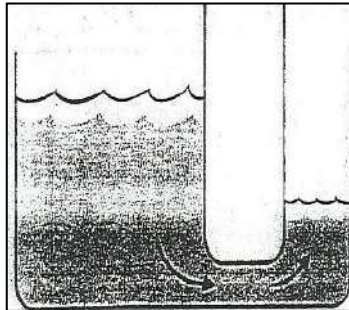
أ- الحدث :

ب- التفسير :

ملاحظة : تدفق الشحنات يشبه تدفق المياه من خزان عالٍ إلى منخفض حيث يستمر تدفق المياه طالما هناك فرق في مستوى المياه



ب ( يستمر تدفق المياه بسبب وجود مضخة تحافظ على الفرق في مستوى الخزان



أ ( تتدفق المياه من طرف الأنبوب ذي الضغط المرتفع إلى الطرف الآخر ذي الضغط المنخفض ويتوقف هذا التدفق عندما يتساوى الضغط

\* بطارية فولتا : هي مجموعة أقراص معدنية من النحاس والزنك وتوضع بينها ورق مشبع بالماء المالح

**مصدر القوة الدافعة في الدوائر الكهربائية**

**البطارية**

يتطلب استمرار التيار الكهربائي وجود مصدر الجهد (مضخة كهربائية أو البطارية) في الدائرة الكهربائية.

علل :

لكي توفر الطاقة اللازمة لتحريك الشحنات الكهربائية وتحافظ على وجود فرق الجهد في الدائرة

**سريان الشحنات الكهربائية**

**التيار الكهربائي**

\*\* في الموصلات الصلبة تقوم ..... بحمل الشحنات أما ..... فهي موجودة داخل نواة الذرة وثابتة.

\*\* في الموانع تشكل الأيونات السالبة والموجبة سريان الشحنة الكهربائية مثل .....

**الإلكترونات التي تحمل الشحنات في الدائرة الكهربائية**

**إلكترونات التوصيل**

\*\* في العمود الكهربائي تتحول الطاقة ..... إلى الطاقة .....

\*\* في المولد الكهربائي ( الدينامو ) تتحول الطاقة ..... إلى الطاقة .....

\*\* في الظروف العادية عدد الإلكترونات ..... عدد البروتونات الموجبة في السلك

علل لما يأتي :

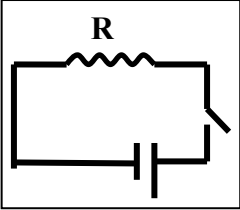
1- لا يمكن للبروتونات أن تحمل الشحنات بينما الإلكترونات تحمل الشحنات في الدائرة الكهربائية .

لأن البروتونات ثابتة وموجودة داخل نواة الذرة بينما الإلكترونات حرة الحركة

2- محصلة الشحنة الكهربائية المارة السلك في كل لحظة تساوي صفر .

لأن عدد الإلكترونات الذي يدخل من أحد طرفي السلك يساوي عدد الإلكترونات الذي يخرج من الطرف الآخر




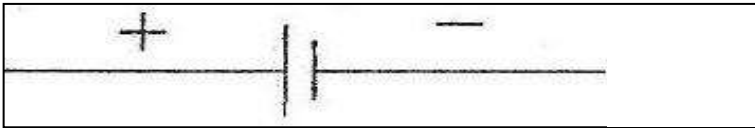
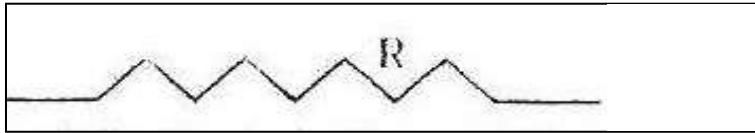
3- لا يمر تيار كهربائي في الدائرة الموضحة بالشكل .



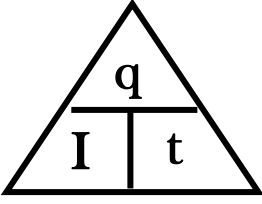
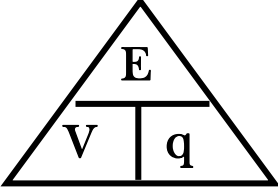
لأن الدائرة الكهربائية مفتوحة والتيار الكهربائي يسري في مسار مغلق

الرسوم التخطيطية

\* سجل علي قطعة في الشكل الذي أمامك أسم القطعة :



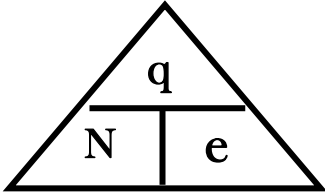
**تابع التيار الكهربائي ومصدر الجهد**

وجه المقارنة	شدة التيار ( I )	فرق الجهد ( V )
العلاقة المستخدمة	$I = \frac{q}{t}$ 	$V = \frac{E}{q}$ 
التعريف	كمية الشحنة التي تمر خلال مقطع سلك في الثانية	الشغل المبذول ( الطاقة ) لنقل وحدة الشحنات بين نقطتين
العوامل		
وحدة القياس		
جهاز القياس		

وجه المقارنة	الأمبير	الفولت
التعريف	شدة التيار عند سريان شحنة ( 1 C ) في الثانية	فرق الجهد عند بذل شغل ( 1 J ) لنقل وحدة الشحنات بين نقطتين
الرمز		
المكافئ له بالوحدات الأخرى		

وجه المقارنة	الأميتر	الفولتميتر
الاستخدام		
طريقة التوصيل في الدائرة الكهربائية		
الرمز في الدائرة الكهربائية		

			
فرق الجهد والشغل المبذول عند ثبات كمية الشحنة	فرق الجهد وكمية الشحنة عند ثبات الشغل المبذول	شدة التيار والزمن عند ثبات الشحنة الكهربائية المارة بالسلك	شدة التيار وكمية الشحنة المارة عند ثبات الزمن



\*\* لحساب عدد الالكترونات المارة في السلك ( N ) نستخدم العلاقة :  $N = \frac{q}{e}$

الكولوم الوحدة الدولية للشحنة ويساوي شحنة (  $6.25 \times 10^{18}$  ) إلكترون

القوة الدافعة الكهربائية الطاقة لكل شحنة واحد كولوم ناتجة عن حركة الالكترونات بين نقطتين

**مثال 1 :** تيار شدته ( 500 mA ) يمر في سلك في نصف دقيقة حيث فرق الجهد بين طرفي السلك ( 12 V ) . أحسب :  
أ ) كمية الشحنة الكهربائية المارة في السلك :

.....  
.....

ب) الشغل المبذول ( الطاقة ) اللازم لنقل هذه الشحنة في السلك :

.....  
.....

ج) عدد الالكترونات المارة في السلك حيث شحنة الإلكترون الواحد (  $e = 1.6 \times 10^{-19} C$  ) :

.....  
.....

**مثال 2 :** بطارية تبذل طاقة ( 270 J ) على شحنة ( 30 C ) في دائرة كهربائية . أحسب :  
أ ) فرق جهد هذه البطارية :

.....  
.....

ب) شدة التيار المار في الدائرة في زمن قدره ( 10 ) ثواني :

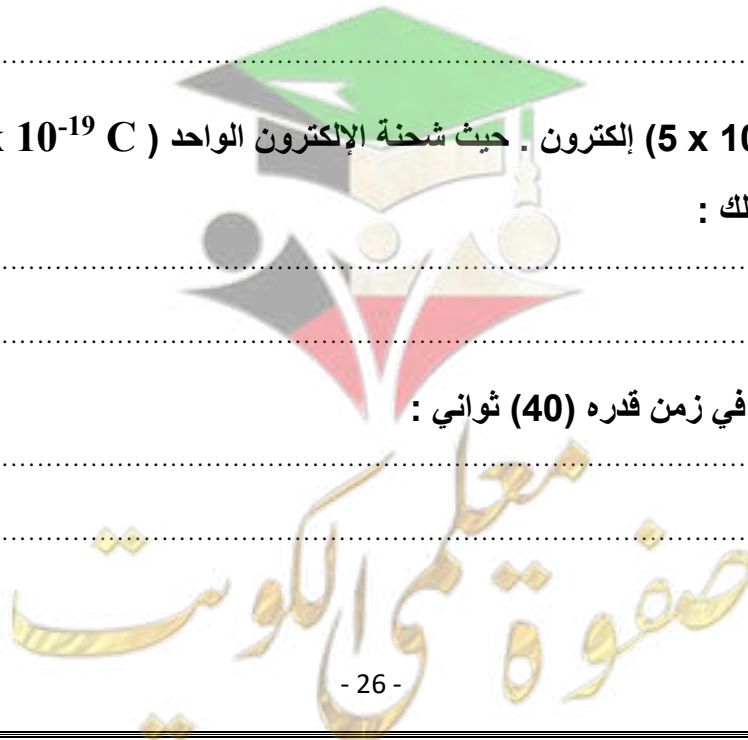
.....  
.....

**مثال 3 :** سلك يمر به (  $5 \times 10^{21}$  ) إلكترون . حيث شحنة الإلكترون الواحد (  $e = 1.6 \times 10^{-19} C$  ) . أحسب :  
أ ) كمية الشحنة المارة بالسلك :

.....  
.....

ب) شدة التيار المار بالسلك في زمن قدره ( 40 ) ثواني :

.....  
.....



الدرس (2-2) : المقاومة الكهربائية وقانون أوم

المقاومة الكهربائية الإعاقة التي تواجهها الإلكترونات بسبب تصادمها مع ذرات الفلز وتصادمها مع بعضها

العوامل التي تتوقف عليها المقاومة الكهربائية :

1- طول السلك ( L ) : تتناسب المقاومة الكهربائية مع طول السلك .

2- مساحة مقطع السلك ( A ) : تتناسب المقاومة الكهربائية مع مساحة المقطع.

3- نوع مادة السلك : المقاومة الكهربائية تتوقف علي .....

4- درجة الحرارة : المقاومة الكهربائية تتوقف علي .....

$$R = \frac{\rho L}{A}$$

حساب المقاومة الكهربائية

$$\rho = \frac{RA}{L}$$

حساب المقاومة النوعية

علل لما يأتي :

1- تكون مقاومة الأسلاك السميكة أقل من مقاومة الأسلاك الرفيعة .

لأن المقاومة الكهربائية لوصل تتناسب عكسياً مع مساحة مقطعه وتقل التصادمات مع الإلكترونات بزيادة المسافة بين الذرات

2- تكون مقاومة الأسلاك الطويلة أكبر من مقاومة الأسلاك القصيرة .

لأن المقاومة الكهربائية لوصل تتناسب طردياً مع طوله وتزداد التصادمات مع الإلكترونات بزيادة عدد الذرات

3- تتغير مقاومة السلك بتغير درجة حرارته .

بسبب زيادة الحركة الاهتزازية للذرات فتزداد التصادمات مع الإلكترونات

المواد فائقة التوصيل مواد مقاومتها صفر عند درجات الحرارة المنخفضة جداً

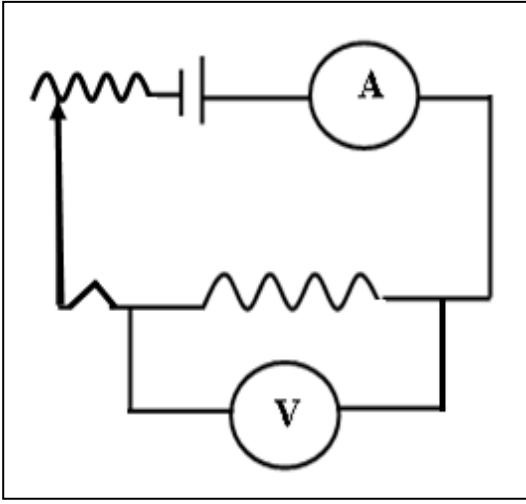
1- ويرمز لها بالرمز .....

أنواع المقاومات

2- ويرمز لها بالرمز .....

الأوميتر جهاز يستخدم في قياس المقاومة الكهربائية

صفوة معلم الكونت



\*\* سجل علي الدائرة الكهربائية التي أمامك أسم كل قطعة علي الرسم :

\*\* تقاس المقاومة الكهربائية بوحدة .....

\*\* تقاس المقاومة النوعية بوحدة .....

\*\* تتوقف المقاومة النوعية علي كل من .....

\*\* تتوقف المقاومة النوعية للنحاس علي ..... فقط

\*\* تتوقف المقاومة النوعية في درجة حرارة الغرفة علي ..... فقط

ماذا يحدث في الحالات الآتية :

1- للمقاومة إذا زاد طول السلك إلي المثلي .

2- للمقاومة إذا زادت مساحة مقطع السلك إلي المثلي .

3- للمقاومة النوعية إذا قلت مساحة المقطع لنصف ما كانت عليه .

4- لمقاومة موصل طوله ( L ) ومساحة مقطعه ( A ) ومقاومته ( R ) ثني من منتصفه وألتصق طرفاه .

5- لمقاومة موصل طوله ( L ) ومساحة مقطعه ( A ) ومقاومته ( R ) إذا أصبح طول السلك ( 2 L ) ومساحة مقطعه ( 2 A ) .

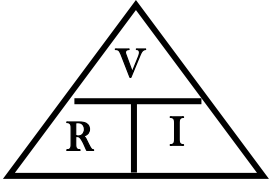
المقاومة النوعية	المقاومة الكهربائية	وجه المقارنة
مقاومة موصل طوله 1 متر ومساحة مقطعه 1 متر مربع	الإعاقة التي تواجهها الإلكترونات بسبب تصادمها مع ذرات الفلز	التعريف
		العوامل
		وحدة القياس
$\rho = \frac{RA}{L}$	$R = \frac{\rho L}{A}$	العلاقة الرياضية



## قانون أوم

قانون أوم فرق الجهد يتناسب طردياً مع شدة التيار المار في مقاومة ثابتة عند ثبات درجة الحرارة

$$R = \frac{V}{I} \quad \text{** لحساب المقاومة الكهربائية ( R ) نستخدم العلاقة$$



الأوم مقاومة موصل فرق الجهد بين طرفيه ( 1 فولت ) ويمر به تيار شدته ( 1 أمبير )

\*\* وحدة الأوم تكافئ .....

ماذا يحدث في الحالات الآتية :

1- لشدة التيار عند مضاعفة فرق الجهد .

2- لشدة التيار عند مضاعفة المقاومة الكهربائية .

3- للمقاومة الكهربائية عند مضاعفة فرق الجهد .

وجه المقارنة	المقاومات الأومية	المقاومات غير الأومية
تحقيق قانون أوم		
شكل العلاقة		
العلاقة البيانية ( فرق الجهد وشدة التيار )	<p>فرق الجهد بين طرفي مقاومة <u>أومية</u> وشدة التيار المار بها</p>	<p>فرق الجهد بين طرفي مقاومة <u>لا أومية</u> وشدة التيار المار بها</p>

علل لما يأتي :

1- يراعي عند إجراء تجربة قانون أوم عملياً فتح الدائرة بسرعة أو استخدام تيار كهربائي ضعيف .

حتى لا تسخن الأسلاك وبالتالي تزداد حرارتها وتزداد المقاومة الكهربائية

2- استخدام الريوستات في الدائرة الكهربائية .

لتغيير المقاومة الكلية للدائرة وبالتالي تغيير شدة التيار

**مثال 1 :** في تجربة أوم كان فرق الجهد بين طرفي السلك ( 10 V ) وكانت شدة التيار فيه ( 2 A ) . أحسب :  
أ ) مقاومة السلك :

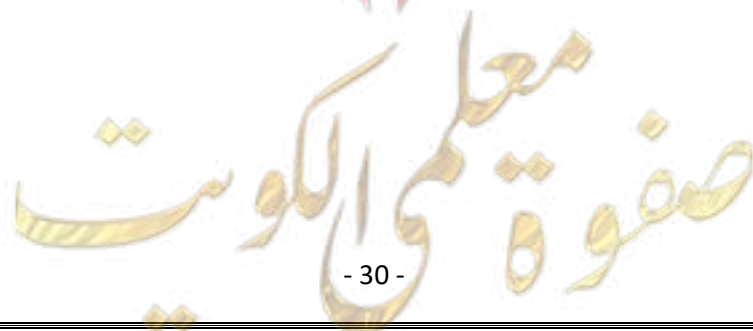
ب) طول السلك إذا كانت مقاومته النوعية  $1.6 \times 10^{-8} \Omega.m$  ومساحة مقطعه  $3 \text{ mm}^2$  :

**مثال 2 :** سلك طوله ( 200 m ) ومساحة مقطعه (  $2 \times 10^{-6} \text{ m}^2$  ) ومقاومته النوعية (  $2.5 \times 10^{-8} \Omega.m$  ) .  
أ ) أحسب مقاومة السلك :

ب) أحسب فرق الجهد بين طرفي السلك عندما يمر به تيار شدته ( 4 A ) :

**مثال 3 :** سلك معدني طوله ( 500 m ) ومساحة مقطعه (  $1 \text{ cm}^2$  ) وفرق الجهد بين طرفيه ( 210 V )  
وكانت شدة التيار المار فيه ( 7 A ) . أحسب :  
أ ) المقاومة الكهربائية السلك :

ب) المقاومة النوعية لمادة السلك :



الدرس ( 2-3 ) : القدرة الكهربائية

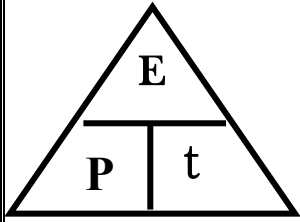
الشغل المبذول خلال وحدة الزمن

القدرة الميكانيكية

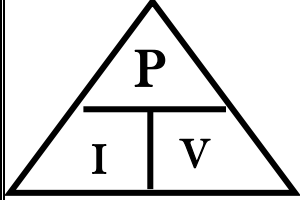
حاصل ضرب شدة التيار وفرق الجهد

القدرة الكهربائية

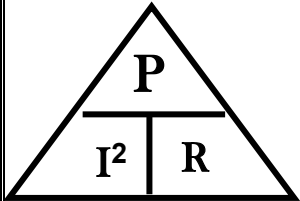
أو معدل تحول الطاقة الكهربائية إلى أشكال أخرى (حرارية وضوئية)



\*\* لحساب القدرة الكهربائية بدلالة الطاقة الكهربائية والزمن نستخدم العلاقة : .....



\*\* لحساب القدرة الكهربائية بدلالة شدة التيار وفرق الجهد نستخدم العلاقة : .....



\*\* لحساب القدرة الكهربائية بدلالة شدة التيار والمقاومة نستخدم العلاقة : .....

\*\* تقاس القدرة الكهربائية بوحدة ..... ويكافئ .....

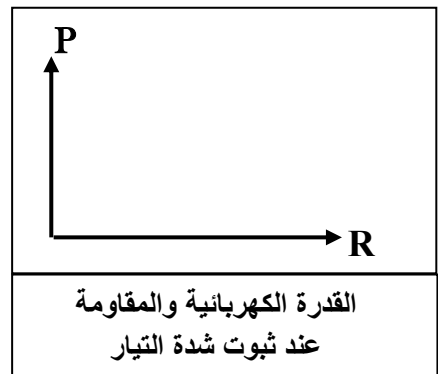
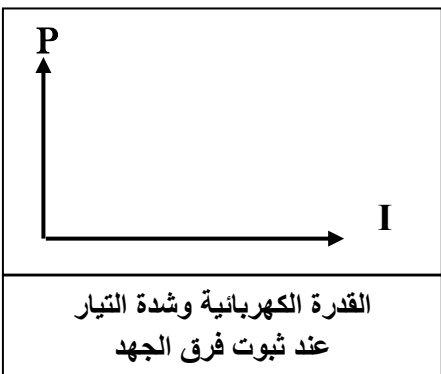
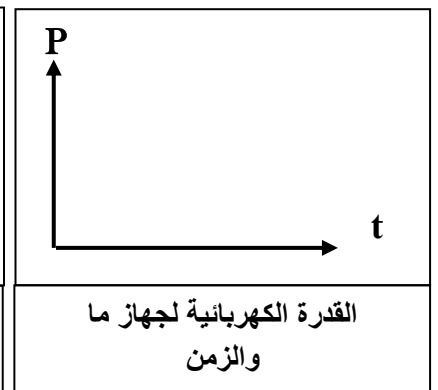
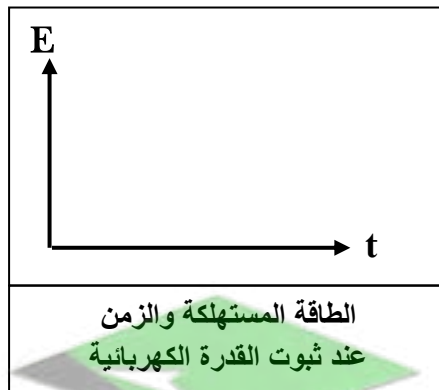
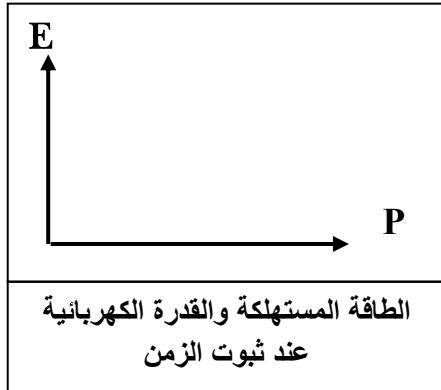
قدرة جهاز يستهلك طاقة ( 1 جول ) في الثانية

الوات

تختلف شدة إضاءة مصباحين بالرغم من أنهما يعملان بنفس فرق الجهد الكهربائي .

علل :

بسبب اختلاف القدرة الكهربائية للمصباحين



## الطاقة الكهربائية

\*\* لحساب الطاقة المستهلكة في المنزل نستخدم العلاقة : .....

\*\* لحساب الطاقة المستهلكة في جهاز موصل على فرق جهد (V) نستخدم العلاقة : .....

\*\* لحساب الطاقة المستهلكة في مقاومة أومية ( قانون جول ) نستخدم العلاقة : .....

\*\* الطاقة الحرارية الناتجة في مقاومة أومية تتناسب طردياً مع .....

\*\* تقاس الطاقة المستهلكة في المنازل بوحدة .....

\*\* الكيلو وات . ساعة ( KW.h ) = ..... جول ( J )

ماذا يحدث في الحالات الآتية :

1- للطاقة الحرارية المتولدة في مقاومة أومية عند زيادة شدة التيار إلي المثليين.

2- للطاقة الحرارية المتولدة في جهاز موصل علي فرق جهد ثابت عند زيادة شدة التيار إلي المثليين .

مثال 1 : مدفأة في داخلها ملف تسخين واحد وتعمل على فرق جهد (240 V) ويمر فيها تيار شدته (5 A) .

(أ) أحسب مقاومة الملف الواحد :

(ب) أحسب القدرة المستهلكة عند استخدام الملف الواحد :

(ج) أحسب الطاقة المستهلكة (بالجول) إذا استخدمت المدفأة لمدة يوم :

(د) أحسب الطاقة المستهلكة ( بالكيلو وات - ساعة ) إذا استخدمت لنفس المدة :

(هـ) أحسب سعر التكلفة الذي ستدفعه إذا كان سعر الكيلو وات - ساعة يساوي ( 10 فلس ) في هذه المدة .

مثال 2 : مقاومة أومية (50 Ω) يمر فيه تيار شدته (10 A) . أحسب :

أ- القدرة الكهربائية للمقاومة الأومية :

ب- الطاقة المستهلكة في ( 20 S ) :

الدرس ( 2-4 ) : الدوائر الكهربائية

مسار مغلق تناسب خلاله الإلكترونيات

الدائرة الكهربائية

قيمة المقاومة المفردة التي تشكل نفس الحمل على البطارية

المقاومة المكافئة

دوائر التوازي	دوائر التوالي	وجه المقارنة
		1- رسم الدائرة الكهربائية
		2- شدة التيار في كل مقاومة
		3- فرق الجهد في كل مقاومة
		4- شدة التيار الكلي في الدائرة
		5- الجهد الكلي في الدائرة
$\frac{1}{R_{eq}} = \frac{1}{R_1} + \frac{1}{R_2} + \frac{1}{R_3}$	$R_{eq} = R_1 + R_2 + R_3$	6- المقاومة المكافئة في الدائرة
		7- المقاومة المكافئة في الدائرة وعلاقتها بباقي المقاومات
		8- نتيجة انقطاع التيار عن إحدى المقاومات
		9- رسم العلاقات البيانية

علل لما يأتي :

1- توصل الأجهزة في المنازل علي التوازي ولا توصل علي التوالي.

لأن في التوصيل علي التوازي إذا انقطع التيار عن أحد الأجهزة لا ينقطع عن باقي الأجهزة في المنزل

2- مجموع الجهود الواقعة عبر كل جهاز في الدائرة يكون مساوياً للجهد الكلي للمصدر في التوالي.

مجموع الطاقات اللازمة لنقل وحدة الشحنات في كل مقاومة يساوي الطاقة اللازمة لنقل وحدة الشحنات في الدائرة

## تابع الدوائر الكهربائية

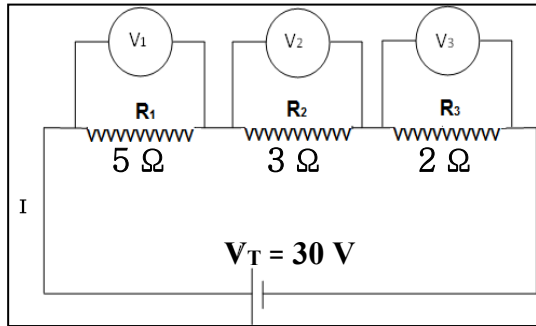
ماذا يحدث في الحالات الآتية :

1- للمقاومة الكلية للدائرة عند إضافة أجهزة أخرى إلى دائرة التوالي .

2- للمقاومة الكلية للدائرة عند إضافة أجهزة أخرى إلى دائرة التوازي .

3- لإضاءة المصابيح موصلة على التوالي عند إضافة مصباح للدائرة .

4- لإضاءة المصابيح موصلة على التوازي عند إضافة مصباح للدائرة .



مثال 1 : دائرة كهربائية تحتوي على ثلاث مقاومات كما بالشكل المقابل .

أحسب :

أ) قيمة المقاومة المكافئة :

ب) شدة التيار الكلي في الدائرة :

ج) شدة التيار المار في المقاومة ( $R_1$ ) :

د) فرق الجهد في المقاومة ( $R_1$ ) :

هـ) القدرة المصروفة في المقاومة ( $R_2$ ) :

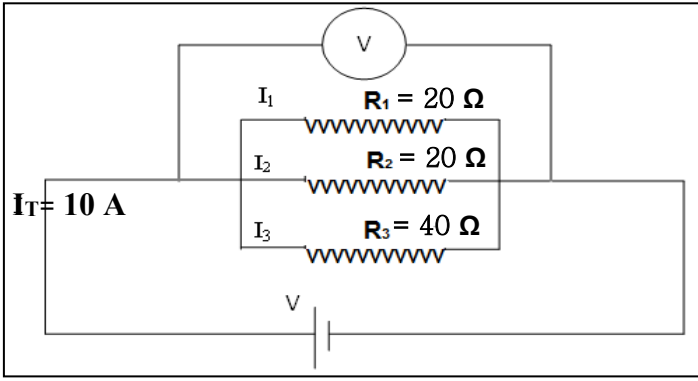
و) الطاقة المصروفة في المقاومة ( $R_3$ ) خلال (10) ثواني :

ي) الطاقة المصروفة في الدائرة خلال (10) ثواني :



مثال 2 : من خلال الدائرة الكهربائية التالية . أحسب :

أ ( قيمة المقاومة المكافئة :



ب) فرق الجهد الكلي في الدائرة :

ج) فرق الجهد بين طرفي المقاومة (R1) :

د) شدة التيار المار في المقاومة (R2) :

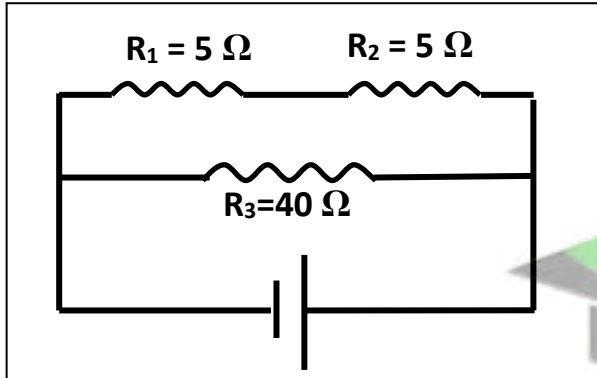
هـ) القدرة المصروفة في المقاومة (R2) :

و) الطاقة المصروفة في الدائرة خلال دقيقة واحدة :

الدوائر المركبة دائرة تحتوي على نوعين من التوصيل التوالي والتوازي في شبكة واحدة

مثال 1 : الشكل المقابل يمثل دائرة كهربائية مركبة فإذا كان فرق الجهد بين قطبي البطارية V ( 24 ) . احسب :

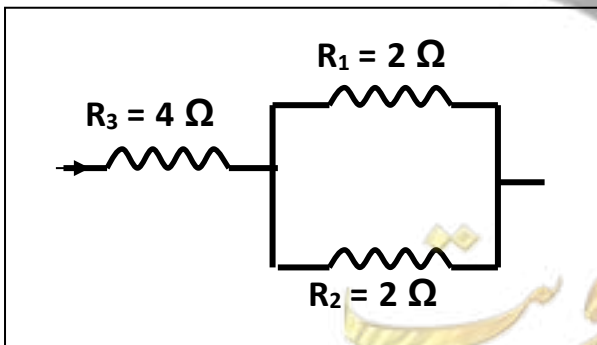
أ ( المقاومة المكافئة لمجموعة المقاومات لهذه الدائرة :



ب) شدة التيار في الدائرة :

مثال 2 : الشكل المقابل يمثل دائرة كهربائية مركبة فإذا كان شدة التيار المار في الدائرة A ( 3 ) . احسب :

أ ( المقاومة المكافئة لمجموعة المقاومات لهذه الدائرة :



ب) فرق الجهد بين طرفي الدائرة :

## العلاقات الرياضية في المنهج

### التحويلات

$gm \div 1000 \rightarrow Kg$	الكتلة	$cm \div 100 \rightarrow m$ $mm \div 1000 \rightarrow m$	الطول
$min \times 60 \rightarrow S$ $hr \times 3600 \rightarrow S$	الزمن	$cm^2 \div 100^2 \rightarrow m^2$ $mm^2 \div 1000^2 \rightarrow m^2$	المساحة
$mA \times 10^{-3} \rightarrow A$	شدة التيار	$\mu C \times 10^{-6} \rightarrow C$	الشحنة الكهربائية

### قوانين الحركة التوافقية البسيطة

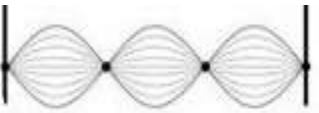

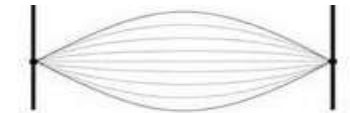
$f = \frac{N}{t}$	التردد في الحركة التوافقية البسيطة
$T = \frac{t}{N}$	الزمن الدوري في الحركة التوافقية البسيطة
$f = \frac{1}{T}$	العلاقة بين التردد والزمن الدوري
$\omega = \frac{2\pi}{T} = 2\pi f$	السرعة الزاوية في الحركة التوافقية البسيطة
$y = A \sin(\omega t)$	الإزاحة في الحركة التوافقية البسيطة
$T = 2\pi \sqrt{\frac{m}{K}}$	الزمن الدوري في النابض
$T = 2\pi \sqrt{\frac{L}{g}}$	الزمن الدوري في البندول البسيط
$F = -mg \sin \theta$	قوة الإرجاع للبندول البسيط

### قوانين الحركة الموجية

$v = \lambda \times f$	سرعة انتشار الموجات
$\lambda = \frac{d}{N}$	الطول الموجي

### قوانين الأوتار المستعرضة

$V = \sqrt{\frac{T}{\mu}}$	سرعة الموجات في الوتر المهتز
$f = \frac{n}{2L} \sqrt{\frac{T}{\mu}}$	تردد النغمة الصادرة من الوتر المهتز
$T = mg$	قوة الشد بدلالة الكتلة المعلقة في الوتر
$\mu = \frac{m}{L}$	كتلة وحدة الأطوال بدلالة كتلة الوتر

التوافيق الثانية	التوافيق الأولى	النغمة الأساسية	نوع النغمة
			الشكل
$n = 3$	$n = 2$	$n = 1$	عدد القطاعات
$L = \frac{3}{2} \lambda$	$L = \frac{2}{2} \lambda = 1 \lambda$	$L = \frac{1}{2} \lambda$	طول الوتر $L = \frac{n}{2} \lambda$
$f_2 = 3 f_0$	$f_1 = 2 f_0$	$f_0$	التردد ( f )

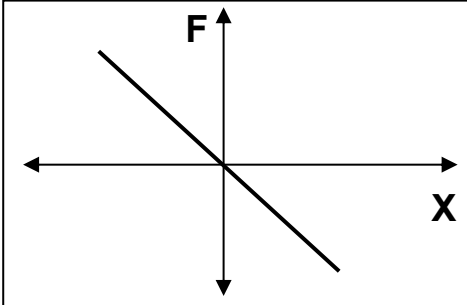
## قوانين الكهربائية الساكنة والتيار المستمر

$F = \frac{K q_1 q_2}{d^2}$	القوة الكهربائية المتبادلة بين شحنتين ( قانون كولوم )
$N = \frac{q}{e}$	عدد الالكترونات
$I = \frac{q}{t}$	شدة التيار
$V = \frac{E}{q}$	فرق الجهد
$R = \frac{\rho L}{A}$	المقاومة الكهربائية
$R = \frac{V}{I}$	المقاومة الكهربائية ( قانون أوم )
$\rho = \frac{RA}{L}$	المقاومة النوعية
$P = \frac{E}{t}$ $P = I^2 R$ $P = IV$	القدرة الكهربائية
$E = P \times t$ $E = I^2 R \times t$ $E = IV \times t$	الطاقة الكهربائية

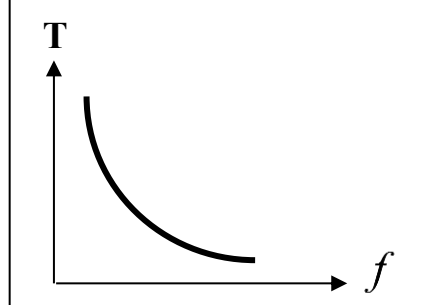
## قوانين التوصيل على التوالي والتوازي

دوائر التوازي	دوائر التوالي	وجه المقارنة
$I_{eq} = I_1 + I_2 + I_3$	$I_{eq} = I_1 = I_2 = I_3$	1- شدة التيار الكلي في الدائرة
$V_{eq} = V_1 = V_2 = V_3$	$V_{eq} = V_1 + V_2 + V_3$	2- الجهد الكلي للمصدر
$\frac{1}{R_{eq}} = \frac{1}{R_1} + \frac{1}{R_2} + \frac{1}{R_3}$	$R_{eq} = R_1 + R_2 + R_3$	3- قيمة المقاومة المكافئة

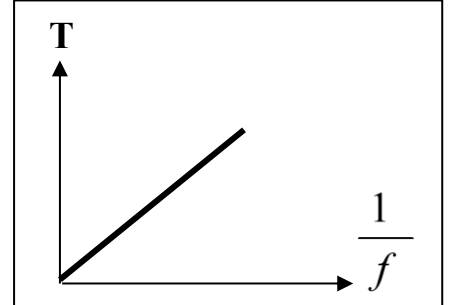
## العلاقات البيانية في المنهج



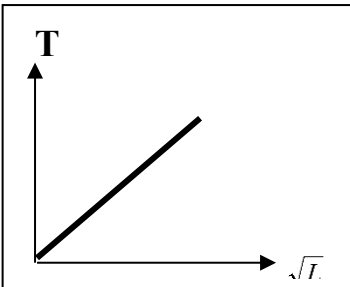
قوة الإرجاع والإزاحة الحادثة  
في الحركة التوافقية البسيطة



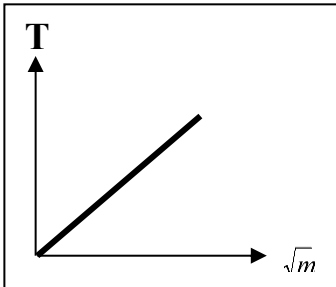
الزمن الدوري والتردد لجسم  
يتحرك حركة توافقية بسيطة



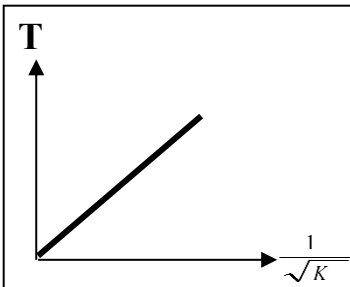
الزمن الدوري ومقلوب التردد  
في الحركة التوافقية البسيطة



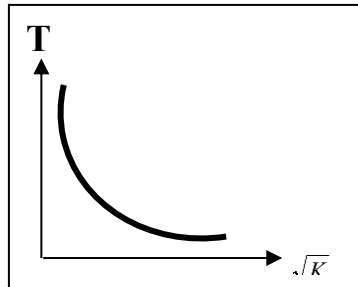
الزمن الدوري للبندول البسيط  
والجذر التربيعي لطول الخيط



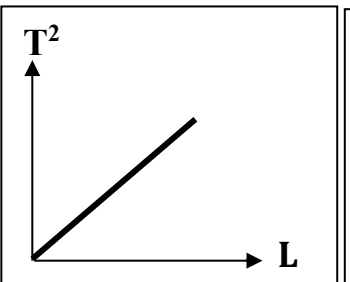
الزمن الدوري للنايـض  
وجذر الكتلة المعلقة بالنايـض



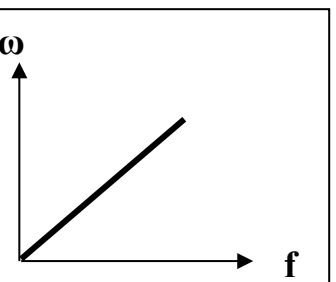
الزمن الدوري للنايـض  
ومقلوب جذر ثابت النايـض



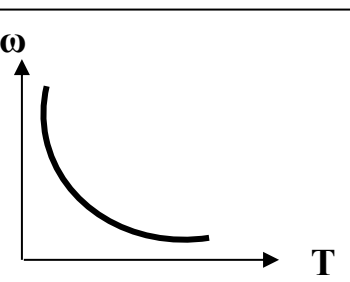
الزمن الدوري للنايـض  
والجذر التربيعي لثابت النايـض



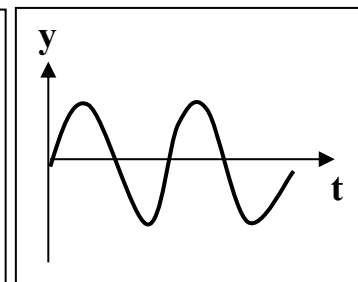
مربع الزمن الدوري للبندول  
البسيط وطول الخيط



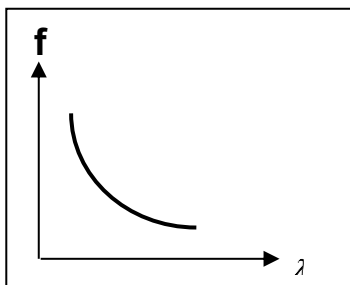
السرعة الزاوية والتردد  
في الحركة التوافقية البسيطة



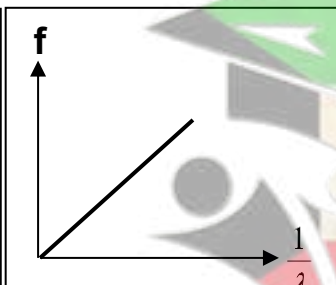
السرعة الزاوية والزمن الدوري  
في الحركة التوافقية البسيطة



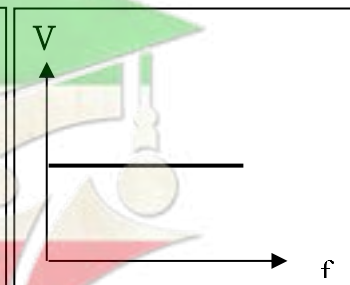
منحني الإزاحة والزمن  
في الحركة التوافقية البسيطة



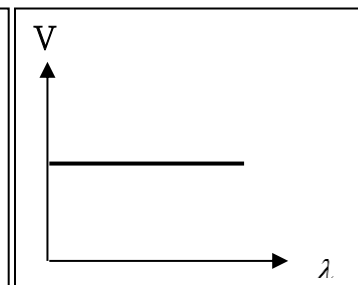
تردد الموجة  
وطولها الموجي



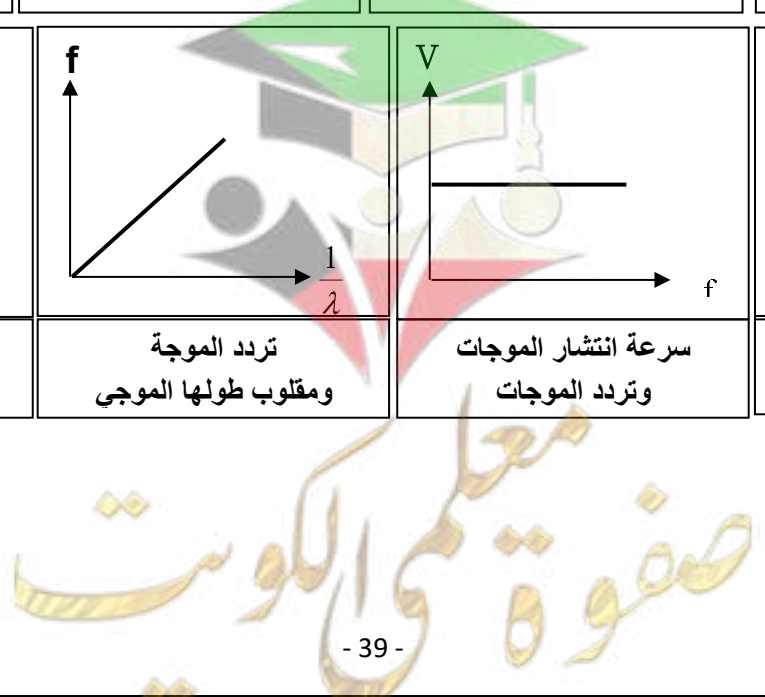
تردد الموجة  
ومقلوب طولها الموجي

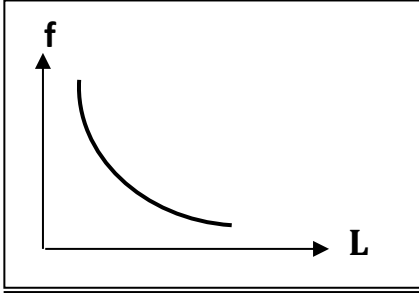


سرعة انتشار الموجات  
وتردد الموجات

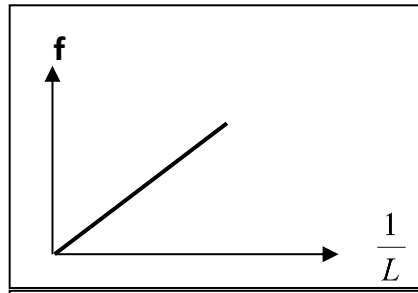


سرعة انتشار الموجات  
والطول الموجي

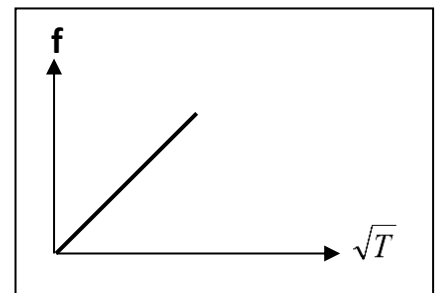




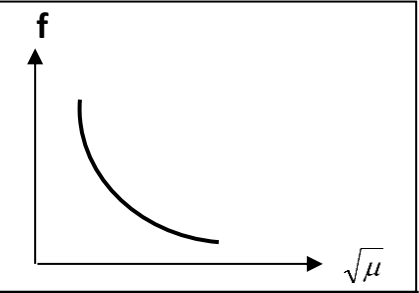
تردد النغمة الأساسية للوتر  
وطول الوتر



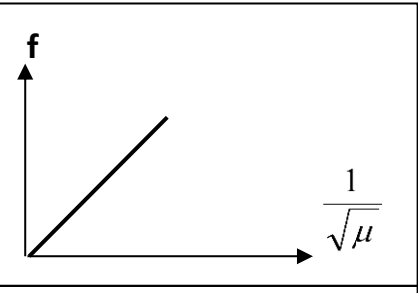
تردد النغمة الأساسية للوتر  
ومقلوب طول الوتر



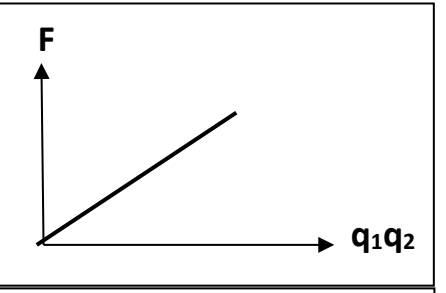
تردد النغمة الأساسية للوتر  
والجذر التربيعي لقوة شد الوتر



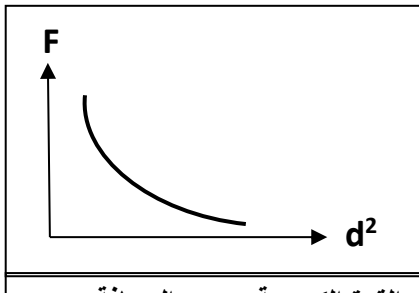
تردد النغمة الأساسية للوتر  
وجذر كتلة وحدة الأطوال من الوتر



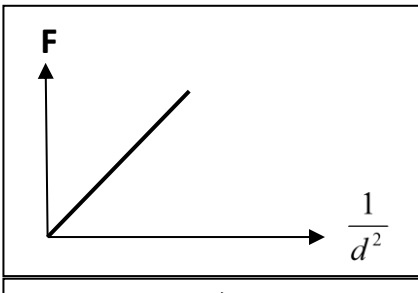
تردد النغمة الأساسية للوتر  
ومقلوب جذر كتلة وحدة الأطوال



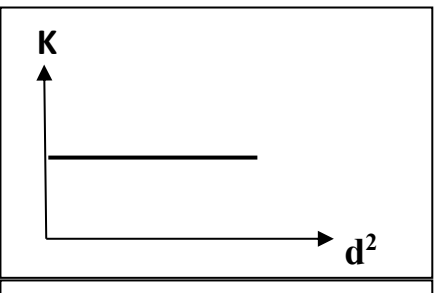
القوة الكهربائية ومقدار كل من  
الشحنتين الكهربائيتين



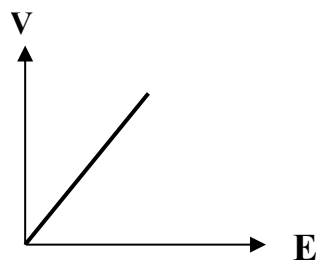
القوة الكهربائية ومربع المسافة  
بين الشحنتين



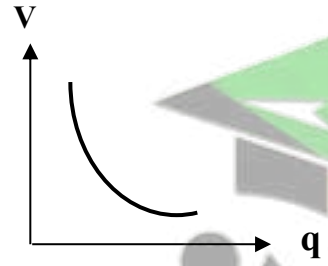
القوة الكهربائية ومقلوب مربع  
المسافة بين الشحنتين



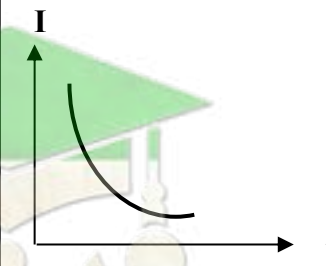
ثابت كولوم ومربع المسافة  
بين الشحنتين



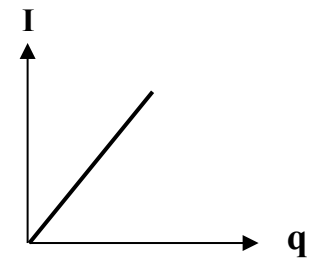
فرق الجهد والشغل المبذول  
عند ثبات كمية الشحنة



فرق الجهد وكمية الشحنة  
عند ثبات الشغل المبذول

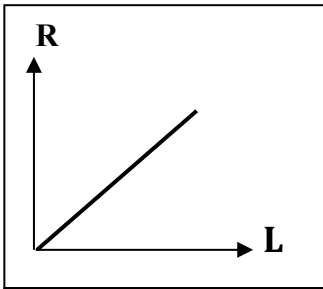


شدة التيار والزمن عند ثبات  
الشحنة الكهربائية المارة بالسلك

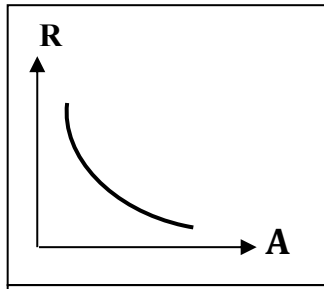


شدة التيار وكمية الشحنة  
المارة عند ثبات الزمن

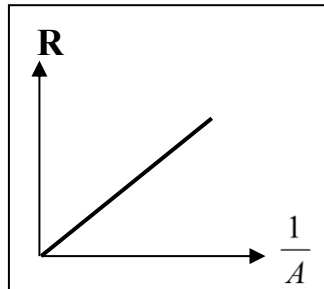




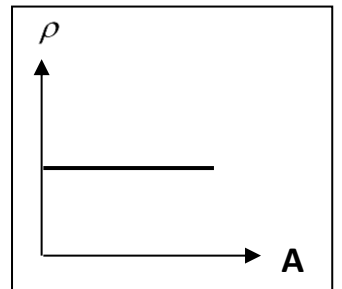
المقاومة الكهربائية للمادة  
وطول السلك



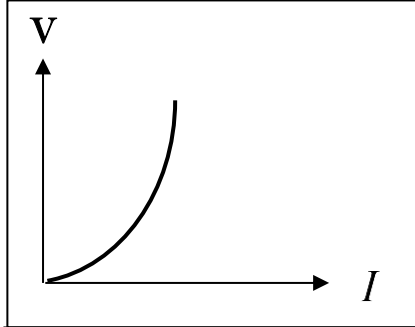
المقاومة الكهربائية للمادة  
ومساحة مقطع السلك



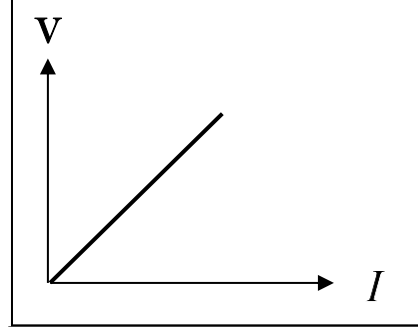
المقاومة الكهربائية للمادة  
ومقلوب مساحة مقطع



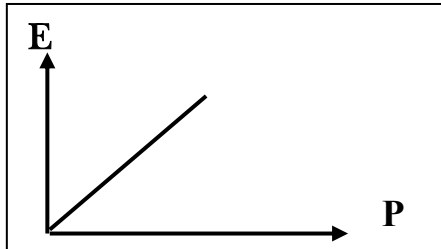
المقاومة النوعية للمادة  
ومساحة مقطع السلك



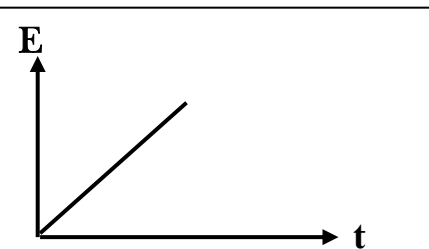
فرق الجهد بين طرفي مقاومة  
لا أومية وشدة التيار المار بها



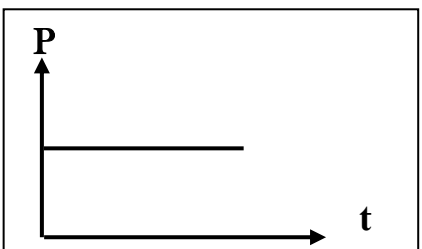
فرق الجهد بين طرفي مقاومة أومية  
وشدة التيار المار بها



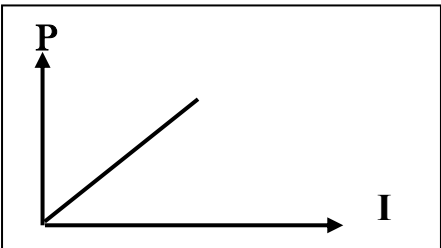
الطاقة المستهلكة والقدرة الكهربائية  
عند ثبوت الزمن



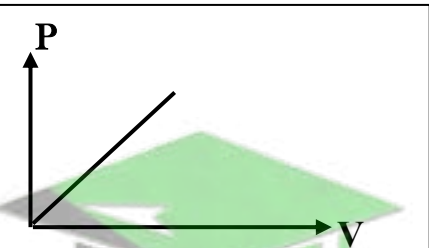
الطاقة المستهلكة والزمن  
عند ثبوت القدرة الكهربائية



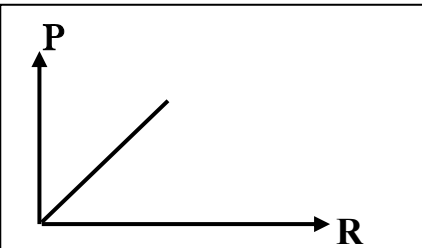
القدرة الكهربائية لجهاز ما  
والزمن



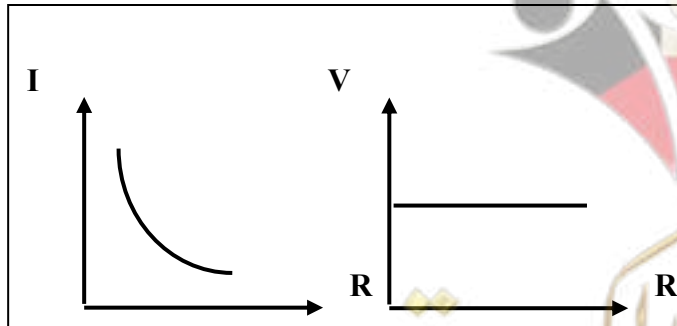
القدرة الكهربائية وشدة التيار  
عند ثبوت فرق الجهد



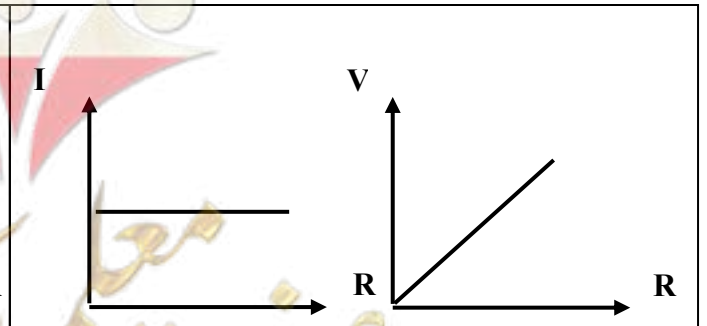
القدرة الكهربائية وفرق  
الجهد عند ثبوت شدة التيار



القدرة الكهربائية والمقاومة  
عند ثبوت شدة التيار



التوصيل على التوازي



التوصيل على التوالي