



امتحانات

تجريبية

القصير الرابع

٢٠٢٤-٢٠٢٥ م

مدرسة التميز النموذجية

الصف : الثاني

المادة علوم

صفحة معلم الكوئيت





نموذج (١)


الصف / الثاني

الاختبار القصير الرابع

السؤال الأول : اختر الإجابة الصحيحة علميا لكل من العبارات التالية ؟ (٤ درجات)

(١) السلسلة الغذائية توضح :

- بيئة الحيوانات انتقال الطاقة تنقل الحيوانات أنواع الطاقة
- (٢) من حاجات النبات الأساسية للنمو



السؤال الثاني: ضع علامة (✓) أمام العبارة الصحيحة وكلمة (×) أمام العبارات الخاطئة (٢ درجة)

- (١) الارنب من الحيوانات التي تاكل نباتات . ()
- (٢) تنتقل الطاقة من كائن لآخر عبر السلسلة الغذائية . ()

السؤال الثالث : صنف الصور التاليه في الجدول ادناه : (٤ درجات)



(٤)

(٣)

(٢)

(١)

سلوكيات خاطئه	سلوكيات صحيحة





الصف / الثاني

الاختبار القصير الرابع


نموذج (١)

السؤال الأول : أختَر الإجابة الصحيحة علمياً لكل من العبارات التالية ؟ (٤ درجات)

(٣) السلسلة الغذائية توضح :

بيئة الحيوانات انتقال الطاقة تنقل الحيوانات انواع الطاقة

(٤) من حاجات النبات الأساسية للنمو



السؤال الثاني: ضع علامة (✓) أمام العبارة الصحيحة وكلمة (×) أمام العبارات الخاطئة (٢ درجة)

(٣) الارنب من الحيوانات التي تاكل نباتات . (✓)

(٤) تنتقل الطاقة من كائن لآخر عبر السلسلة الغذائية . (✓)

السؤال الثالث : صنف الصور التاليه في الجدول ادناه : (٤ درجات)



(٤)

(٣)

(٢)

(١)

سلوكيات خاطئه	سلوكيات صحيحة
٢ - ٣	١ - ٤



مدرسة التميز النموذجية بنين (ابتدائي - متوسط - ثانوي)





نموذج (٢)

الصف / الثالث

الاختبار القصير الرابع

(٤ درجات)

السؤال الأول : اختر الإجابة الصحيحة علميا لكل من العبارات التالية ؟

١. حيوان يغطي جسمه قشور :



٢. من الحاجات الاساسية لنمو الحيوان



السؤال الثاني: ضع علامة (√) أمام العبارة الصحيحة وكلمة (x) أمام العبارات الخاطئة (٢ درجة)

١. الماء حازه اساسيه لنمو الحيوان .
٢. الجذور تكون في اعلي النبات .

(٤ درجات)

السؤال الثالث : اختر من مجموعه (ب) ما يناسب المجموعه (أ) :

الرقم	المجموعه (أ)	المجموعه (ب)
	تبدأ السلسلة الغذائية دائما	١- 
		٢- 
	من الحيوانات التي تاكل	١- النباتات
		٢- الحيوانات





إجابة نموذج (٢)

الصف / الثالث

الاختبار القصير الرابع


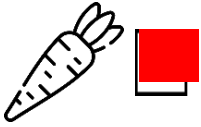
(٤ درجات)

السؤال الأول : أختَر الإجابة الصحيحة علمياً لكل من العبارات التالية ؟

٣. حيوان يغطي جسمه قشور :



٤. من الحاجات الأساسية لنمو الحيوان



السؤال الثاني: ضع علامة (√) أمام العبارة الصحيحة وكلمة (×) أمام العبارات الخاطئة (٢ درجة)

(√)

٣. الماء حاجة أساسية لنمو الحيوان .


(×)

٤. الجذور تكون في اعلي النبات .

(٤ درجات)

السؤال الثالث : اختر من مجموعته (ب) ما يناسب المجموعه (أ) :

الرقم	المجموعه (أ)	المجموعه (ب)
1	تبدأ السلسلة الغذائية دائماً	1- 
		٢- 
2	من الحيوانات التي تاكل	١- النباتات
		٢- الحيوانات





مدرسة التميز النموذجية
(ابتدائي - متوسط - ثانوي)
الجهاز الفني التربوي

منصات التميز التعليمية

لزيارة منصة التميز التعليمية في اليوتيوب امسح الباركود التالي :



لزيارة منصة التميز التعليمية في تليجرام امسح الباركود الخاص بقناة كل فصل مما يلي :



الصف الرابع



الصف الثالث



الصف الثاني



الصف الأول



الصف التاسع



الصف الثامن



الصف السابع



الصف السادس



الصف الخامس



الصف الثاني عشر
أدبي



الصف الثاني عشر
علمي



الصف الحادي عشر
علمي



الصف الحادي عشر
أدبي



الصف الحادي عشر



لزيارة صفحتنا في تويتر

لزيارة صفحتنا في الانستغرام

عنواننا : خيطان - ق ٤ - ش ١٠٠



صفحة المعلم الكومنت



مدرسة التميز النموذجية بنين (ابتدائي - متوسط - ثانوي)