



# الخلاصة

في تاريخ الكويت

الصف العاشر ٢٠٢٥



إعداد

أ- محمد علي

معلم التاريخ والجغرافيا والفلسفة وعلم النفس والاجتماعيات

٥٠٢٤٨٤٨١



تواصل واتساب



TikTok



تواصل تيليجرام

سلسلة

(أ- محمد علي)  
(مستتر تاريخ)

الاجتماعيات

والتاريخ

والجغرافيا

والفلسفة

وعلم النفس



## التعاريف الهامة ( مختصرة )

وادي الباطن : وادي يسير مع الحدود الغربية للكويت والحد الفاصل بين الحدود الكويتية العراقية

سهل برقان : سهل يمتد من جون الكويت باتجاه الجنوب موازي لخط الساحل

الرياح الشمالية الغربية : رياح جافة تهب معظم أيام السنة تتأثر بالمرتفع السيبيري وتؤدي لخفض الحرارة

الجنوبية الشرقية ( الكوس ) : رياح تتأثر بالمنخفض السوداني وترفع الحرارة والرطوبة

السرايات : تهب في أواخر الربيع واوائل الصيف وتثير الغبار وتسقط الأمطار الرعدية.

السموم : رياح تهب من الشمال والشرق ترفع درجة الحرارة في فصل الصيف وتخفف الرطوبة النسبية.

إقليم البحرين : إقليم ممتد من جنوب البصرة شمالا حتى عمان جنوبا

طريق الحرير : أحد أهم الطرق التجارية الدولية في العالم القديم يبدأ من الصين

العمائر الساحلية : مخازن المواد المستخدمة في صناعة السفن

الذشة ( الغوص ) : بداية موسم الغوص في شهر مايو

القفال : انتهاء موسم الغوص في شهر سبتمبر أو أكتوبر

الهيئات : منابت المحار المحتوى على اللؤلؤ

ترانزيت : إعادة تصدير الواردات

الذشة ( موسم السفر ) : بداية موسم السفر في شهر أغسطس

الإغلاق : نهاية موسم السفر في شهر مايو

النجارة : حرفة توفر مستلزمات البناء والمستلزمات المنزلية وتستخدم الأخشاب المستوردة

الصفار : يقوم العاملین بصنع وتلميع القدور المستخدمة في الطبخ.

القفاص : يستخدم العاملون جريد النخيل لصنع الأقفاص

الحياك : صناعة وخياطة الملابس كالبشوت.

التناك : يستخدم العاملون الصفيح المعدنية لصنع المحقان والتناك والدوة والسطول

النداف : تنجيد وصناعة المساند والفرش مستخدماً القطن .

السدو : حرفة تزاولها المرأة وتقوم بحياكة الصوف لصنع بيت الشعر .

الصخين : أداة تستخدم للحفر

الشداخة: تستخدم لصيد الفئران

العدول : ما يوضع على ظهر الدابة وتوضع فيه حاجات الراكب

المنز : هو السرير الذي ينام فيه الطفل قديماً



مذكرة

الخلاصة

تضمن لك

بإذن الله أكثر

من ٩٠ % من

أسئلة الاختبار



@MISTER\_TAREKH



الرك : صندوق به فتحة من أعلى لوضع المأكولات

المزاود : أكياس متوسطة لحفظ الطعام والملابس

العبيد : الحضارة التي وجدت آثارها في منطقة الصبية وترجع للفترة ٥٥٠٠ / ٤٥٠٠ ق.م

النوخذة : قائد السفينة وربانها والمسئول عنها

المجدي : رئيس البحارة والمسئول عن إدارة السفينة من الداخل .

الغيص : الشخص الذي يغوص في قاع البحر

السيب: الشخص الذي يسحب الغيص للسطح عند شد الغيص للحبل ومساعدته في فتح المحار

النهام : الشخص الذي ينشد المواويل تشجيعاً لطاقم السفينة

الرضيف : صغار السن الذين يقومون ببعض الأعمال.

الطواش : تاجر اللؤلؤ

الكوت : تصغير الكوت وتعني القلعة أو الحصن الصغير

القرين : تصغير القرن وتعني المرتفع أو التل الصغير

مرتفع بهيئة : المرتفع الذي نشأت حوله وفوقه مدينة الكويت ويقع بالقرب من قصر السيف

العتوب : مجموعة من العشائر أو الأسر التي تنتمي إلى عدة قبائل أبرزها قبيلة عنزة

بنو خالد : قبيلة قوية امتد نفوذها من قطر جنوباً حتى حدود البصرة شمالاً

تجارة المسابلة : التسهيلات التي كانت تمنح لتجار البادية

مشروع كابنيست : مشروع روسي يهدف لجعل الكويت نهاية لخط سكة حديدية

### بعض الصور الهامة



آثار منطقة الصبية



اختام دلمونية



المستشفى الأمريكي



معركة الصريف ١٩٠١



تواصل واتساب

تتوفر مذكرات الخلاصة

في الاجتماعيات لجميع صفوف المتوسط (٦ و ٧ و ٨ و ٩)

وللحادي عشر الأدبي ( تاريخ - جغرافيا - علم نفس )

وللثاني عشر الأدبي ( تاريخ - جغرافيا - فلسفة )

مذكرات الخلاصة لا يخرج عنها من ٩٠ الى ١٠٠% من أسئلة الاختبار

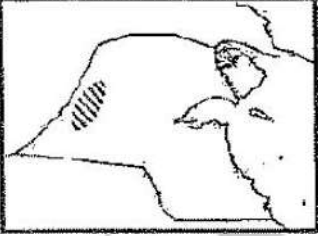
لشراء المذكرة اتصل على ٥٠٢٤٨٤٨١



**أكمل العبارات التالية بما يناسبها فيما درست :** ( بأئي السؤال اختباري - مصطلح جغرافي )

أ- أكمل العبارات التالية فيما درست :

- الحد الفاصل بين الحدود الكويتية العراقية بمسافة ١٥٠ كم ويسير مع الحدود الغربية للكويت بالخريطة المقابلة وادي الباطن



- سهل يمتد من جون الكويت باتجاه الجنوب موازي لخط الساحل يسمى برقان

- تلال على شكل قباب تقع جنوب دولة الكويت تلال وارة - برقان

- أكبر الجزر الكويتية مساحة وتمثل ٥% من مساحة الكويت بوبيان

- أول تعداد رسمي موثق لسكان دولة الكويت تم في عام ١٩٥٧م.

- حاكم الكويت الذي تم في عهده أول تعداد للسكان بدولة الكويت يسمى عبد الله السالم

- تعرف منابت المحار المحتوى على اللؤلؤ باسم الهيرات

- الشخص الذي ينشد المواويل لطاقم السفينة تشجيعاً لهم في رحلتهم يسمى النهام

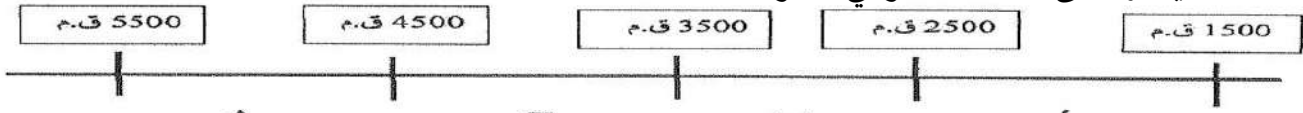
- العامل بالصور الذي يقوم بتنجيد وصناعة المساند والفرش مستخدماً القطن يسمى النداف

- طريق الحرير التجاري يبدأ من دولة تسمى الصين

- الميناء الذي يبدأ منه طريق الحرير البحري كانتون

- العامل الذي يقوم بصنع وتلميع القدور المستخدمة في الطبخ يسمى الصفار

- حضارة العبيد يمثلها على المخطط الزمني الحرف



- المنطقة التي وقعت فيها معركة ذات السلاسل عام ١٢هـ تسمى كاظمة.

- حاكم دولة الكويت الذي تم في عهده بناء السور الثاني جابر الأول

- أول دولة استعمارية في منطقة الخليج العربي البرتغال

- الحملة العثمانية التي قام بها مدحت باشا عام ١٨٧١ كانت للسيطرة على إقليم الاحساء

- العام الذي وقعت فيه الكويت اتفاقية الحماية مع بريطانيا هو ١٨٩٩ في عهد الشيخ مبارك

- الدولة التي قدمت مشروع كابنيست لدولة الكويت هي روسيا

- العام الذي حدث فيه معركة الصريف ١٩٠١ في عهد الحاكم الكويتي الشيخ مبارك الصباح

- المعركة التي قادها الشيخ مبارك عام ١٩١٠ تسمى هدية

- الشهر الذي يبدأ فيه موسم المطر في الكويت هو شهر أكتوبر

- العام الميلادي الذي نشأت فيه دولة الكويت هو ١٦١٣



## أسئلة الصور والمخططات

أهم طرق صيد الأسماك قديماً في دولة الكويت

الشباك الحظور القرقور الميذار القمبار (الصيد بالإضاءة)

أنواع السفن في دولة الكويت قديماً ص ٤٤

الجالبيوت السنبوك الشوعي البغلة البقارة البوم البتيل

**أكمل العبارات في التالية فيما درست :**

١- الصورة المقابلة تمثل الجزيرة الكويتية التي عثر فيها على الأثار تسمى فيلكا



٢- السفينة الموجودة في الشعار المقابل تسمى البوم



٣- الخريطة المقابلة تمثل معركة بحرية بين الكويت وبنو كعب تسمى الركة




٤- الصورة المقابلة تمثل إحدى الحرف في الكويت قديماً تسمى القفاص



٥- الصورة المقابلة تمثل احد العاملين بحرفة الغوص تسمى الغيص

٦- استخراج حقيقة من الرسم المقابل :

الوافدون تمثل النسبة الأكبر من السكان بالكويت





أسئلة التوصيل

الرقم	المجموعة (أ)	الرقم المناسب	المجموعة (ب)
١	وقعت في عهده معركة الصريف .	( ٤ )	الشيخ صباح الأول بن جابر
٢	كان حليماً كريماً يضرب بكرمه المثل .	( ٣ )	الشيخ عبدالله الأول بن صباح
٣	ازدهرت الإمارة في أيامه وامتدت تجارتها إلى الهند واليمن وشرق أفريقيا والعراق .	( ١ )	الشيخ مبارك الصباح
٤	البداية الحقيقية لظهور الكويت كياناً سياسياً منظماً	( ٢ )	الشيخ جابر الأول بن عبدالله الصباح
		( )	الشيخ محمد بن صباح

م	المجموعة (أ)	الرقم المناسب	المجموعة (ب)
١	تقدمت التجارة في عهده بشكل كبير وألغى الرسوم احتراماً لرغبة أبناء شعبه . ص ٧٧	(٤)	الشيخ مبارك الصباح
٢	ساعد العثمانيين في حملة "مدحت باشا" على إقليم الأحساء عام ١٨٧١ م . ص ٧٧	( - )	الشيخ جابر الأول
٣	وقعت معركة الرقة في عهده عام ١٧٨٣ م . ص ٧٣	(١)	الشيخ صباح الثاني بن جابر
٤	دعم الأمير "عبد العزيز آل سعود" عسكرياً وسانده في معاركه لاستعادة ملك أبياته . ص ١٠٥	(٢)	الشيخ عبدالله بن صباح الثاني
		(٣)	الشيخ عبد الله الأول

الرقم	المجموعة (أ)	الرقم المناسب	المجموعة (ب)
١	اشتهر بالنزاهة والوقار والتواضع ص ٧٧	( - )	الشيخ مبارك الصباح
٢	ساعد العثمانيين في حملتهم على إقليم الأحساء عام ١٨٧١ م . ص ٧٧	( ٣ )	الشيخ عبدالله الأول بن صباح بن جابر
٣	ازدهرت الإمارة في أيامه وامتدت تجارتها إلى الهند واليمن وشرق أفريقيا والعراق . ص ٧٣	( ١ )	الشيخ محمد بن صباح
٤	كان يطبخ الأرز للفقراء وله عريش قرب بيته يجتمعون فيه ويقدم لهم الطعام . ص ٧٦	( ٢ )	الشيخ عبدالله بن صباح الثاني
		( ٤ )	الشيخ جابر الأول بن عبدالله الصباح





## أسئلة الفقرات

اقرأ الفقرة التالية ثم أجب عما يليها من أسئلة :

بعد أن استقر العتوب وأسسوا وطنهم الجديد بالكويت تشكلت واكتملت الهوية الجامعة لهذه القبائل والأسر المهاجرة ومن تبعها من السكان الجدد ، وبعد عملية التأسيس ، كان حتما على الجميع الانضواء تحت السلطة التي تدير شؤون البلدة

١ . عرف ما تحته خط : هم مجموعة من الأسر التي تنتمي إلى عدة قبائل من أبرزها قبيلة عنزة .

٢ . اذكر تقسيم المهام بين الأسر بعد استقرار العتوب في موطنهم بدولة الكويت

آل الصباح ( الحكم ) - آل خلفية ( شؤون التجارة ) - الجلاهمة ( شؤون البحر )

٣ . استقر الحكم لآل الصباح بعد عملية التأسيس التي مرت بثلاث مراحل

شكل آخر للسؤال ( عدد المراحل التي أدت إلى استقرار الحكم لآل الصباح بعد عملية التأسيس )

المرحلة الأولى : الهجرة من نجد مع بقية الأسر الكويتية .

المرحلة الثانية : التحالف الثلاثي وتوزيع المهام

المرحلة الثالثة : اختيار آل الصباح لحكم الكويت وانتهاء التحالف الثلاثي

٢- اقرأ الفقرة التالية ثم أجب عما يليها من أسئلة :

"الكويت بلد صحراوي يعاني من شح المياه وارتفاع درجة الحرارة أغلب أيام السنة إلى جانب عدم خصوبة التربة ، لكن على الرغم من تلك الصعوبات فقد تكيف الكويتيون قديما مع البيئة المحيطة بهم وتغلبوا عليها "

١- ضع عنوانا للفقرة " قلة الزراعة في الكويت "

٢- دلل على صحة ما تحته خط .

\* قاموا بزراعة النباتات التي تتلاءم مع البيئة . \* استغلوا مياه الأمطار القليلة

٣ - عدد أهم المناطق الزراعية في دولة الكويت قديما

الدمنة (السالمية ) / الفحيحيل / المنقف / الفنطاس / أبو حليفة / الشعبية / الجهراء

٣- اقرأ الفقرة التالية ثم أجب عما يليها من أسئلة

" سكن الكويت قبل نزول العتوب قليل من البدو وصيادي الأسماك ومارسوا مجموعة من الأنشطة البحرية

مثل صيد الأسماك وصناعة السفن والغوص على اللؤلؤ والتجارة"

١ - عرف ما تحته خط هم مجموعة من الأسر التي تنتمي إلى عدة قبائل من أبرزها قبيلة عنزة

٢- علل تسمية الكويت بهذا الاسم . تصغير لكلمة " كوت " والكلمة تعني القلعة أو الحصن

٣- عدد الأنشطة البحرية في الكويت قديما

\* صيد السمك \* الغوص عن اللؤلؤ \* صناعة السفن \* التجارة





السدو إحدى الحرف السائدة التي تزاولها المرأة في البادية حياكة الصوف حيث إنه هو أساس مكونات بيت الشعر الذي يسكنه أهل البادية ومن الصناعات التي تتعلق بالسدو حياكة العدول ومفردتها (العدل) والمزاود ومفردتها المزودة من الزاد وهي عبارة عن أكياس متوسطة لحفظ الطعام والملابس وكذلك العديد من المنسوجات الصوفية المختلفة كالمفروشات والسجاد والعباءات النسائية البشوت الرجالية .

١- عرف ما تحته خط .

- العدل : عبارة عن ما يوضع على ظهر الدابة وتوضع فيه حاجات الراكب. ص ٥٣ (درجة)

٢- استخرج من الفقرة السابقة ما يلي:

أ - المقصود من كلمة " المزاود" .

-المزاود ومفردتها المزودة من الزاد وهي عبارة عن أكياس متوسطة لحفظ الطعام

ب - أنواع المنسوجات الصوفية. ( درجتان ) يكتفى بنقطتين.

-المفروشات - السجاد - العباءات النسائية - البشوت الرجالية .



### أسئلة المقارنة

وجه المقارنة	معركة الرقة	معركة الصريف
الحاكم التي تمت في عهده	الحاكم الثاني : الشيخ عبدالله الأول بن صباح بن جابر . ص ٧١ (درجة)	الحاكم السابع مبارك الصباح " مبارك الكبير" ص ١٠٤ (درجة)
سنة المعركة	١٧٨٣ ص ٧١ (نصف درجة)	مارس ١٩٠١ م ص ١٠٤ (نصف درجة)

الرياح الشمالية الغربية	الرياح الجنوبية الشرقية ( الكوس )	المميزات
تهب معظم العام	رياح دافئة رطبة تهب من الجنوب الشرقي تتأثر بالمنخفض السوداني.	رياح جافة تتأثر بالمرتفع السيبيري شمال آسيا.
خفض الحرارة في الصيف	الصيف : ترفع الحرارة وتزيد الرطوبة الشتاء: اعتدال الجو وتسقط الأمطار	قارس البرودة في الشتاء

رياح السموم	العواصف الترابية ( السرايات )	المميزات
رياح جافة تهب في الظهيرة تنخفض معها نسبة الرطوبة تهب من الشمال أو الشمال الشرقي في الصيف	تهب في أواخر الربيع وأوائل الصيف وتثير الغبار والعواصف	رياح جافة تهب في الظهيرة تنخفض معها نسبة الرطوبة تهب من الشمال أو الشمال الشرقي في الصيف
ارتفاع درجة الحرارة صيفاً تثير الأتربة والرمال	تثير الغبار مصحوبة بعواصف رعدية يسقط بسببها المطر الشديد في أواخر الربيع وأوائل الصيف	ارتفاع درجة الحرارة صيفاً تثير الأتربة والرمال

القلاف	الأستاذ
الذي يقوم بعملية إعداد المواد وبناء السفينة	الذي يقوم بتصميم السفينة





القفال	الدشة
انتهاء موسم الغوص في شهر سبتمبر أو أكتوبر	بداية موسم الغوص في شهر مايو

الاطلاق	الدشة (موسم السفر)
تعني إغلاق موسم السفر نهاية شهر مايو	تعني دخول البحر و بدايته تكون في شهر أغسطس

القفاص	النداف
يستخدم العاملون جريد النخيل بثقبه وإدخال أطرافه في الثقوب لصنع الأقفاص وأدوات المنزل	تنجيد وصناعة المساند والفرش مستخدمًا القطن .

التلال في شمال الكويت	التلال في جنوب الكويت
اللياح - جال الزور - كراع المرو	برقان - وارة

الجوانب السلبية لاتفاقية الحماية ١٨٩٩م	الجوانب الإيجابية لاتفاقية الحماية ١٨٩٩م
فقدت سيادتها بإدارة شؤونها الخارجية الكويت " إمارة مستقلة تحت الحماية البريطانية "	- حفظت للكويت حدودها من الأطماع - بريطانيا ملتزمة بحماية الكويت والدعم المادي لها

السبب المعلن لخطوات روسيا في الكويت	السبب غير المعلن لخطوات روسيا
- إنشاء محطة للفحم. - إنشاء ميناء لتزويد السفن بالوقود. - جعل الكويت نهاية لخطة سكة حديدية (مشروع كابنيست).	تعزيز نفوذ روسيا في الكويت



الربيع	الخريف	الشتاء	الصيف
- قصير معتدل	- ترتفع فيه الرطوبة . - تقل فيه درجة الحرارة	- قصير دافئ ممطر احياناً. - الأمطار قليلة غير منتظمة	- طويل حار جاف. - ترتفع نسبة الرطوبة



## أسئلة علل لما يلي :

- ١ . نقل مركز البريد والتجارة البريطاني من البصرة إل الكويت عام ١٧٧٥م.  
الصراع بين الدولة الفارسية والعثمانية  
بسبب الحصار الفارسي للبصرة عام ١٧٧٥م .
- ٢ . كساد تجارة الغوص عن اللؤلؤ في دولة الكويت . ( اختفاء مهنة الغوص عن اللؤلؤ )  
بسبب ظهور اللؤلؤ الصناعي عام ١٩٢٨ م
- ٣- قلة عدد السكان " الوافدين " بدولة الكويت خلال عام ١٩٩٠م .  
- العدوان والاحتلال العراقي على دولة الكويت  
- عودة الوافدين إلى أوطانهم .
- ٤- الانهيار التدريجي للاستعمار البرتغالي .  
- المنافسة التجارية مع الهولنديين والإنجليز  
- جهود اليعاربة في عمان  
- وقوع البرتغال نفسها تحت الاحتلال الإسباني .
- ٥ - اختيار الشيخ صباح الأول للحكم في دولة الكويت .  
- سماته الشخصية من شجاعة وحكمة . - والده كانت له الزعامة على قو  
- كان طوال أيام العام مقيماً بالكويت بحكم عمله في الصحراء الصحراء .  
٦- حرص بريطانيا على إبقاء اتفاقية الحماية للكويت عام ١٨٩٩م سرية .  
- عدم إثارة الدولة العثمانية  
٧- لم يستمر الوجود الهولندي في منطقة الخليج كثيراً  
- بسبب المنافسة البريطانية لها  
٨- اشتهر الشيخ جابر الأول بجابر العيش .  
- لكرمه و لكثرة ما يتصدق به على الفقراء - كان يطبخ الأرز للفقراء  
٩- تراجع الشيخ صباح الثاني عن قرار فرض الضرائب .  
- بسبب رفض التجار و احتراماً لرغبة أبناء شعبه  
١٠- اعتبار الخليج العربي أحد أهم الطرق التجارية القديمة (الأهمية الاقتصادية للخليج العربي )  
- لأنه يقع في متوسط قارات العالم القديم - وجود مضيق هرمز الذي يربط خليج عمان بالخليج العربي  
- توافر وسائل نقل التجارة برا وبحرا للبلدان المجاورة  
١١- جزيرتا وربة وبوبيان الكويتية تمثل مطمح دائماً لدولة العراق  
لأن الجزيرتان تمنحان العراق منفذ بحري مناسب علي ساحل الخليج العربي



@MISTER\_TAREKH



١٢- انتعاش حرفة صيد الأسماك في دولة الكويت قديما

- من مصادر الدخل قبل النفط
- السمك الغذاء الرئيسي للسكان
- مياه الخليج العربي تعج بالأسماك
- تعدد وتنوع الأسماك بالكويت

١٣- هجرة العتوب من موطنهم الأصلي

- الصراعات القبلية
- القحط والجفاف

**أسئلة عدد ( أجب عما يلي )**

عدد ثلاث أنواع فقط من المحاصيل التي يزرعها الكويتيون في دولة الكويت .

- الخضراوات
- الحبوب
- الأعلاف
- أشجار الأثل
- أشجار السدر

أذكر ثلاث عوامل ساعدت على ازدهار صناعة السفن في دولة الكويت قديما .

- هبوب الرياح الموسمية
- توافر الأيدي العاملة لصناعة السفن
- براعة الأساتذة والقلاليف
- الموقع الجغرافي لدولة الكويت .

اكتب عن أهم أعمال الحاكم الثالث الشيخ جابر الأول بن عبدالله الصباح ( ١٨١١م - ١٨٥٩م )

- \* بناء السور الثاني عام ١٨١٤م .
- \* رفض إقامة محطة فحم بريطانية
- \* رفض رفع الكويت للراية الإنجليزية
- \* ساعد العثمانيين على إعادة البصرة

عدد أسس علاقة الكويت بالدولة العثمانية التي حددها الفرمان العثماني

- شيخ الكويت مستقل في شؤونه الداخلية .
- منح شيخ الكويت لقب قائم مقام .
- أهالي الكويت لا يدفعون ضرائب إلى الباب العالي .

ما أهمية الموقع الاستراتيجي لدولة الكويت بين دول العالم .

- \* موقعها الواقع على طريق الهند
- \* نشاط دولة الكويت البحري والتجاري
- \* شهرتها بأنها منطقة ترانزيت
- اذكر أسماء الجزر الكويتية .

بوبيان - وربة - فيلكا - أم النمل

عدد العوامل التي ساعدت على نمو وازدهار دولة الكويت تحت حكم آل الصباح .

- \* موقع الكويت المتميز
- \* نظام الحكم المعتمد على العدل والشورى والأمن
- \* تجارة المسابرة
- \* صفات اهل الكويت من التسامح والانفتاح على الآخرين .

عدد أهم الأحداث التي وقعت زمن الشيخ عبد الله الأول

- معركة الرقة
- بناء سور الكويت الأول عام ١٧٩٧م
- وصلت تجارة الكويت الى الهند - اليمن - شق أفريقيا - العراق



عدد أهمية الاختام الدلمونية

\* ختم تجاري

\* هوية لحاملها

\* تستخدم كتعويذة

عدد دلائل الوجود الإغريقي في جزيرة فيلكا

- تل الخزنة الذي كان مكاناً مقدساً عند الإغريق

- عدد من المستوطنات كالقلعة الهلنستية

- الكتابات على الصخور كحجر إيكاروس

- العملات النحاسية

### أسئلة دلي على صحة العبارات التالية:

تطور التعليم والصحة في عهد الشيخ مبارك الصباح

التعليم : أنشئت المدرسة المباركية عام ١٩١١م وكانت أول المدارس النظامية الأهلية

الصحة : وافق على تأسيس أول مستشفى عام ١٩١١م والذي أطلق عليه المستشفى الأمريكي .

حرص حكام الكويت على اتخاذ قرارات ذات أبعاد اقتصادية ساعدت على النمو التجاري والاقتصادي

قلة الضرائب على البضائع القادمة للكويت . - تشجيع بناء السفن وتأمين طرق التجارة

اجتذاب الوكالات التجارية التابعة للشركات الأوربية

لمنطقة الصبية قيمة وأهمية أثرية كبيرة .

\* العثور على آبار المياه القديمة في المنطقة

\* وجود حضارة العبيد القديمة

\* مساكن بيضاوية الشكل

\* العثور على جرار فخارية

تعدد مظاهر اعتزاز الكويت بتراثها البحري

- اتخذت صورة سفينة البوم الكويتي لتكون شعارا للدولة وكذلك العملة الوطنية .

- غالبا ما تزين المؤسسات بصور تعبر عن عمق ارتباط الكويت بتراثها البحري .

ما مدى تأثير حرفة الغوص على أهل الكويت

تقوية العلاقات بين السكان . - الاحترام المتبادل التعاون والطاعة

تعد فترة حكم الشيخ جابر الأول فترة ازدهار بحري لإمارة الكويت

- تطورت صناعة السفن الكبيرة المعروفة باسم البغلة والبتيل

- استطاع الكويتيون الوصول إلى سواحل الهند واليمن لنقل البضائع

كانت العلاقة الكويتية - العثمانية علاقة اسمية

- كانت علاقة قائمة على الولاء الديني

- لم يكن للعثمانيين أي سلطة بالكويت

- رفعت السفن الكويتية العلم العثماني





## أسئلة ما النتائج المترتبة على :

- ١- ارتباط الكويت بنفوذ بن خالد
  - استطاعت الكويت أن تتمتع بمزيد من الأمن والرخاء
  - نجت من كثير من التهديدات والأخطار
- ٢- اثر احتلال العدوان العراقي لدولة الكويت عام ١٩٩٠م على عدد السكان
  - عودة كبيرة للوافدين من العرب لأوطانهم.
- ٣- انهيار النفوذ الهولندي بالنسبة لبريطانيا
  - وضع البريطانيون يدهم على ممتلكات هولندا في بالهند و سيلان
  - استولوا على المواقع التجارية الهولندية في الخليج العربي
  - قيام شاه فارس بمنح البريطانيين بعض الامتيازات



## أهم العبارات

(( لو كانت تحت يدي ثروة طائلة لقمتم بحاجة الفقراء والمحتاجين منها ))

من القائل: جابر الأول ما اللقب الذي أطلق عليه: جابر العيش

" لقد قاومت هذا طيلة عمري، وأنت تطالبني بالموافقة على ذلك "

القائل: الشيخ مبارك الصباح

المناسبة: غضب الشيخ مبارك الصباح ورفض طلب المعتمد البريطاني بتعيين ممثل تركي في الكويت

## أسئلة جاءت مرة واحدة بالاختبار

اكتب فقرة مترابطة من ثلاث اسطر مستعينا بالكلمات التالية :

الكويت - دولة عثمانية - مدحت باشا - الاحساء

قام الشيخ عبد الله بن صباح الثاني حاكم الكويت بمساعدة الدولة العثمانية في حملة مدحت باشا والي البصرة على إقليم الاحساء عام ١٨٧١م حيث ساند الحملة بأسطول بحري مكون من ٨٠ سفينة يقوده بنفسه وجيش بري بقيادة شقيقه الشيخ مبارك

( ب ) رتب الأحداث التاريخية التالية من الاقدم إلى الاحدث :-

( حملة مدحت باشا - اتفاقية الحماية - تأسيس شركة الهند الشرقية البريطانية - معركة ذات السلاسل )

الأحداث التاريخية	م
معركة ذات السلاسل ص ٣٧	١
تأسيس شركة الهند الشرقية البريطانية ص ٥٩	٢
حملة مدحت باشا ص ٥٠	٣
اتفاقية الحماية ص ٦٠	٤

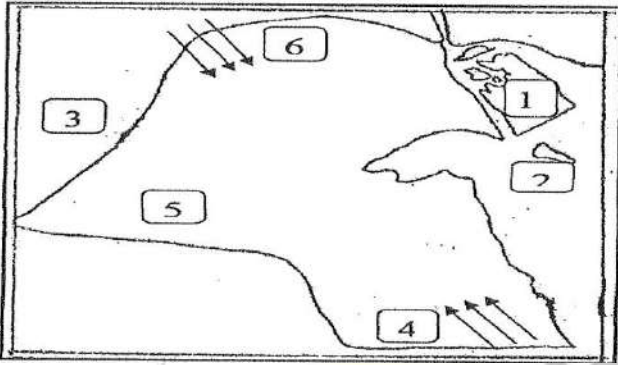
## أسئلة الخرائط



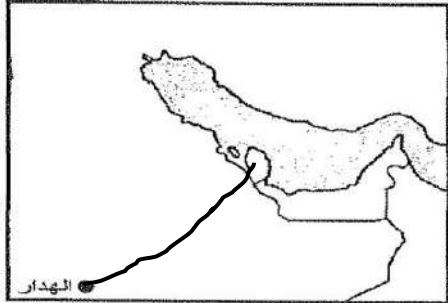
أمامك خريطة دولة الكويت الصماء ، أكتب

الرقم الدال على كل مما يلي :

- سهل الدبدبة على الخريطة يمثلها الرقم ٦...
- كراع المرو على الخريطة يمثلها الرقم ٥..
- منطقة العبدلي يمثلها على الخريطة الرقم ٤..
- جون الكويت يمثلها على الخريطة الرقم ٣..
- سهل برقان الرقم ١ ..
- جزيرة فيلكا الرقم ٢

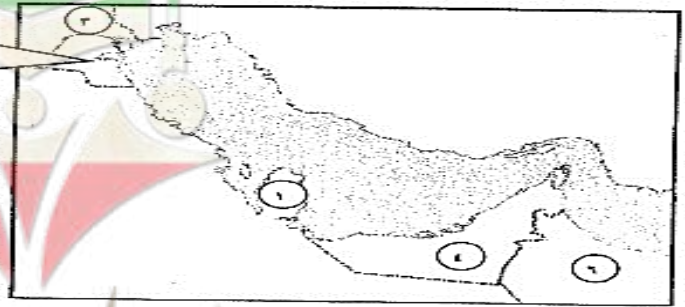
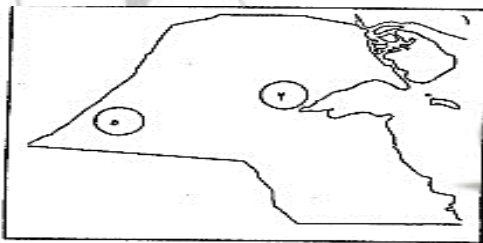


- 1- دولة العراق يمثلها الرقم ( 3 ) ص 19
- 2- الجزيرة الكويتية التي كانت مأهولة بالسكان قبل عام 1990 يمثلها الرقم ( 2 ) ص 22
- 3- سهل الدبدبة يمثلها الرقم ( 5 ) ص 21
- 4- رياح الكوس يمثلها الرقم ( 4 ) ص 23
- رأكب الجزيرة الكويتية يمثلها الرقم ١



لاحظ الخريطة التي أمامك ثم أجب عما يليها من أسئلة :

- ١- أرسم أسهم على الخريطة المقابلة توضح خط سير هجرة العتوب من موطنهم الأصلي الهدار إلى محطة الاستقرار الأول قطر



- محطة الاستقرار الأولي لهجرة العتوب يمثلها الرقم ( ١ )
- قوى قامت بتصفية الاستعمار البرتغالي يمثلها الرقم ( ٦ )
- منطقة زراعية قديمة في دولة الكويت يمثلها الرقم ( ٣ )
- دولة قامت بالاعتداء على دولة الكويت عام ١٩٩٠ م يمثلها الرقم ( ٣ )





## أعمال حكام الكويت

أعمال الشيخ صباح الأول

- توطيد الأمن ونشر العدل.

- تنظيم أمور السكان

أعمال ( أحداث ) الشيخ عبد الله الأول

- معركة الرقة

- بناء سور الكويت الأول عام ١٧٩٧م

- ازدهرت التجارة في عهده ووصلت للهند واليمن

أعمال (الشيخ جابر الأول )

١. بناء السور الثاني ١٨١٤

٢. ساعد العثمانيين علي استعادة البصرة

٣. رفض إقامة محطة فحم علي أراضي الكويت ١٨٤١م. ٤- رفض طلب بريطانيا برفع الراية البريطانية

أعمال الشيخ صباح الثاني

ألغى الرسوم احتراماً لرغبة أبناء شعبه

- زيارة المعتمد البريطاني في الخليج لويس بيلى للكويت

الأحداث في عهد الشيخ عبد الله الثاني

- مساعدة العثمانيين في حملة مدحت باشا على إقليم الإحساء عام ١٨٧١م

أعمال محمد بن صباح الثاني

ترحيبه وتسهيله لاستقرار أسرة الأمير عبد الرحمن آل سعود والد مؤسس الدولة السعودية الثالثة

أعمال الشيخ مبارك الكبير

المجالات الداخلية في عهد الشيخ مبارك بن صباح

- حفظ الأمن وتشجيع التجارة

- التعليم ( مدرسة المباركية ١٩١١ )

- الصحة ( المستشفى الامريكاني ١٩١١ )

- الجيش

المجالات الخارجية في عهد الشيخ مبارك بن صباح

توقيع اتفاقية حماية مع بريطانيا ١٨٩٩

تجهز الأمير عبد العزيز آل سعود في قيام الدولة السعودية الثالثة


قاد معارك (معركة الصريف ١٩٠١م - معركة هدية ١٩١٠م)

رفض مشروع كابينست الروسي ومشروع برلين بغداد الألماني

الصعوبات التي واجهت الشيخ مبارك

واقعا دوليا يموج بالتغيرات

الاطماع الخارجية على الكويت



@MISTER\_TAREKH



## أهم التواريخ بالكتاب

التاريخ	الحدث
١٢ هـ	معركة كاظمة ( ذات السلاسل )
١٥٩٥	تأسيس شركة الهند الشرقية الهولندية
١٦٠٠ م	تأسيس شركة الهند الشرقية الإنجليزية
١٦١٣	نشأة الكويت
١٧٥٢	تولى الشيخ صباح الأول الحكم
١٧٧٥	نقل مركز البريد والوكالة البريطانية والحصار الفارسي للبصرة
١٧٨٣	معركة الرقة
١٧٩٧ م	بناء سور الكويت الأول
١٨١٤	بناء سور الكويت الثاني
١٨٧١	حملة مدحت باشا على الاحساء
١٨٩٩	اتفاقية الحماية
١٩٠١ م	معركة الصريف
١٩١٠ م	معركة هدية
١٩١١ م	إنشاء المدرسة المباركية - تأسيس المستشفى الأمريكي
١٩٢٨	انهيار تجارة اللؤلؤ
١٩٤٠	قانون الغواصين
١٩٥٧ م	أول تعداد رسمي موثق لسكان الكويت



لا تنس الاشتراك في قناة التيليجرام  
نسأل الله لكم التوفيق والسداد والنجاح  
أ-محمد علي



@MISTER\_TAREKH

[https://t.me/mister\\_tarekh](https://t.me/mister_tarekh)