



بنك معلومات الصف السادس
(الكويت ودول الخليج العربية)
الفصل الدراسي الأول ٢٠٢٢-٢٠٢٣م
منظم بالدرس للمعلم والمتعلم
إعداد المعلمتين:
أ: دلال الدرعة - أ: عهد النمشان

إشراف ر.ق جليلة الدغيم
الموجهة الفنية هيفاء مال الله
مديرة المدرسة بدريّة الهدبة



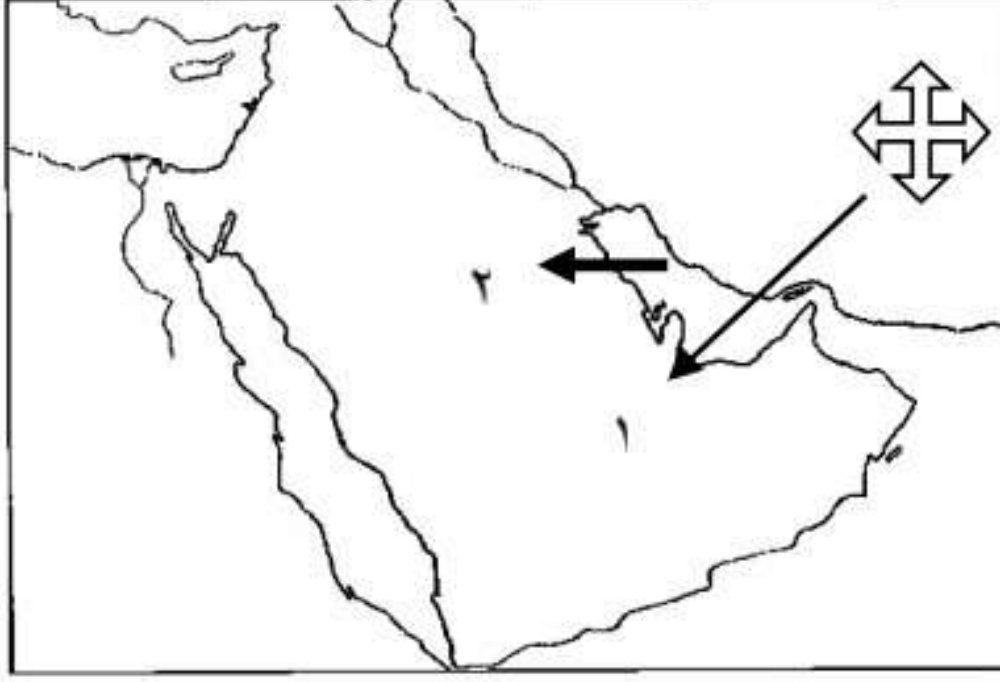
معلمة الكويت
ضوءة في الكويت

الوحدة الاولى: الخصائص الطبيعية والبشرية لمنطقة الخليج العربي
أ. الخصائص الطبيعية لمنطقة الخليج العربي /١ الموقع

من ص ١٩
الى ص ٢٢



أولاً: أكمل العبارات التالية بما يناسبها فيما درست:



- ١- تقع شبه الجزيرة العربية في أقصى جنوب غرب قارة آسيا.
- ٢- تقع دول الخليج العربية بالنسبة لمسطح الخليج العربي في جهة الغرب
- ٣- تمتد منطقة الخليج العربية عبر ١٦ درجة عرضية شمال خط الاستواء - ٢٥ خط طول شرق خط جرينتش

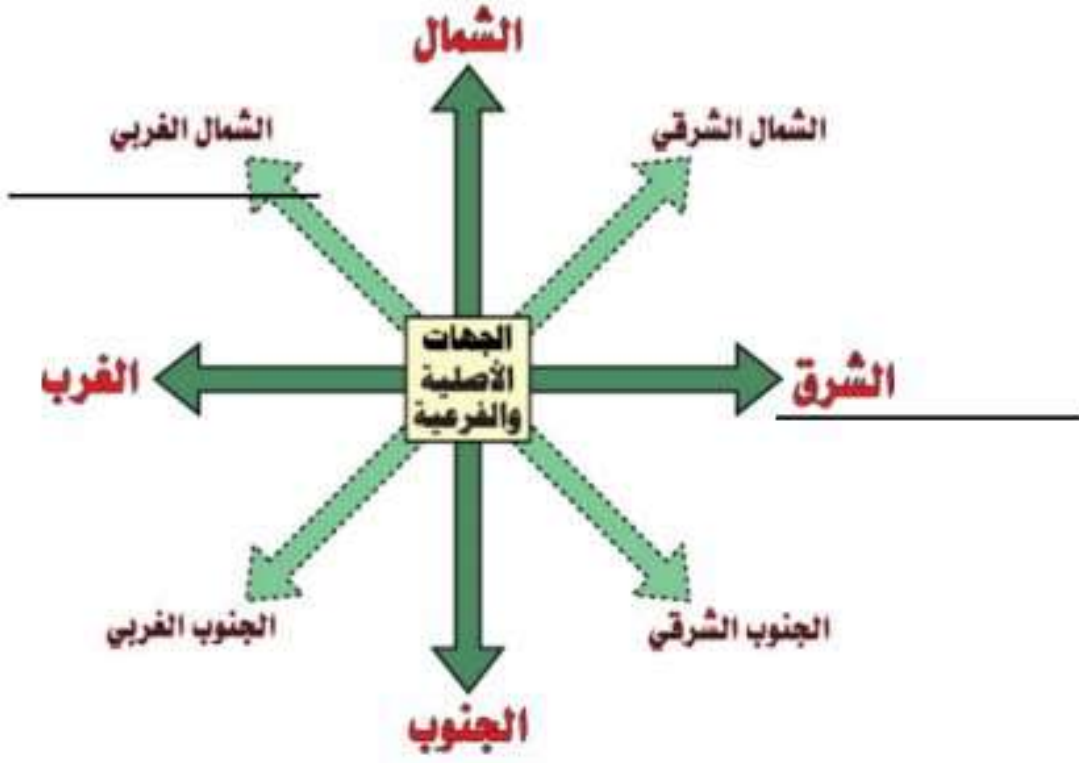
ثانياً: اكتب المفاهيم أو المصطلحات الدالة على العبارات التالية:

| | |
|--|-------------------|
| ذراع مائي لبحر العرب يمتد من خليج عمان جنوباً حتى سطر العرب شمالاً | ١. الخليج العربي. |
| موقع الدولة ما بالنسبة للماء واليابس | ٢. الموقع النسبي |
| موقع الدولة بالنسبة لخطوط الطول ودوائر العرض | ٣. الموقع الفلكي |

ثالثاً: ظلل الخيار الصحيح من بين الخيارات التي تلي كل عبارة:

| | | | | |
|---|---------|----------|------|--------|
| تقع شبه الجزيرة العربية في أقصى جنوب غرب قارة تسمى: | أفريقيا | استراليا | آسيا | أوروبا |
|---|---------|----------|------|--------|

رابعاً: أكمل الناقص في الصورة المقابلة:



مواقع الأماكن على حسب الجهات الأصلية والفرعية:

خامساً: علل / اذكر السبب:

أهمية منطقة الخليج العربية.

موقع متميز في قلب العالم - ممر مائي عالمي - وسيط تجاري بين الشرق والغرب

سادساً: قارن بين كل من:

| وجه المقارنة | خطوط الطول | دوائر العرض |
|--------------|---|--|
| المفهوم | عبارة عن خطوط وهمية ترسم على الكرة الأرضية وتقسّم الكرة الأرضية قسمين إلى شرقي وغربي. | عبارة عن خطوط وهمية ترسم الكرة الأرضية وتقسّم الكرة الأرضية قسمين إلى شمالي وجنوبي |
| الخط الرئيسي | خط جرينتش (رقمه صفر) | خط الاستواء (رقمه صفر) |
| العدد | ٣٦٠ خط | ١٨٠ دائرة |
| الرسم | | |

الوحدة الأولى: الخصائص الطبيعية والبشرية لمنطقة الخليج العربي
أ. الخصائص الطبيعية لمنطقة الخليج العربي / ٢ مظاهر السطح



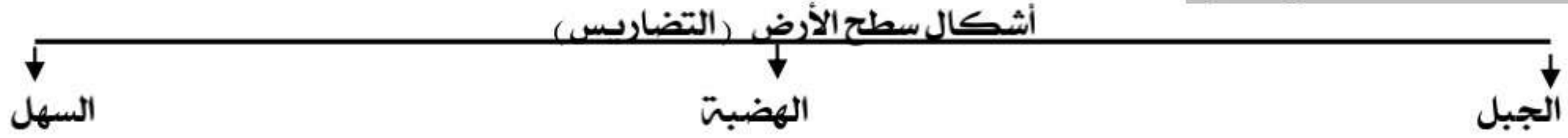
أولاً: أكمل العبارات التالية بما يناسبها فيما درست:

١. الدولة الخليجية التي توجد بها هضبة نجد تسمى المملكة العربية السعودية
٢. الدولة الخليجية التي يوجد بها الجبل الأخضر تسمى سلطنة عمان
٣. الدولة الخليجية التي يوجد بها تلال جال الزور تسمى الكويت
٤. الدولة الخليجية التي يوجد بها جبال عسير والحجاز تسمى المملكة العربية السعودية

ثانياً / عرف المفاهيم التالية:

| | |
|----------|---|
| التضاريس | أشكال سطح الأرض مثل الجبال والهضاب والسهول والتلال |
| الجبل | كل مرتفع له قمة لا تقل ارتفاعها عن ١٠٠٠ متر. |
| الهضبة | أرض مرتفعة سطحها مستوي وتمتد بمساحة كبيرة |
| السهول | أجزاء فسيحة من سطح الأرض تتميز باستوائها وقلتها ارتفاعها. |
| التل | كل مرتفع يقل ارتفاعه عن ألف متر. |

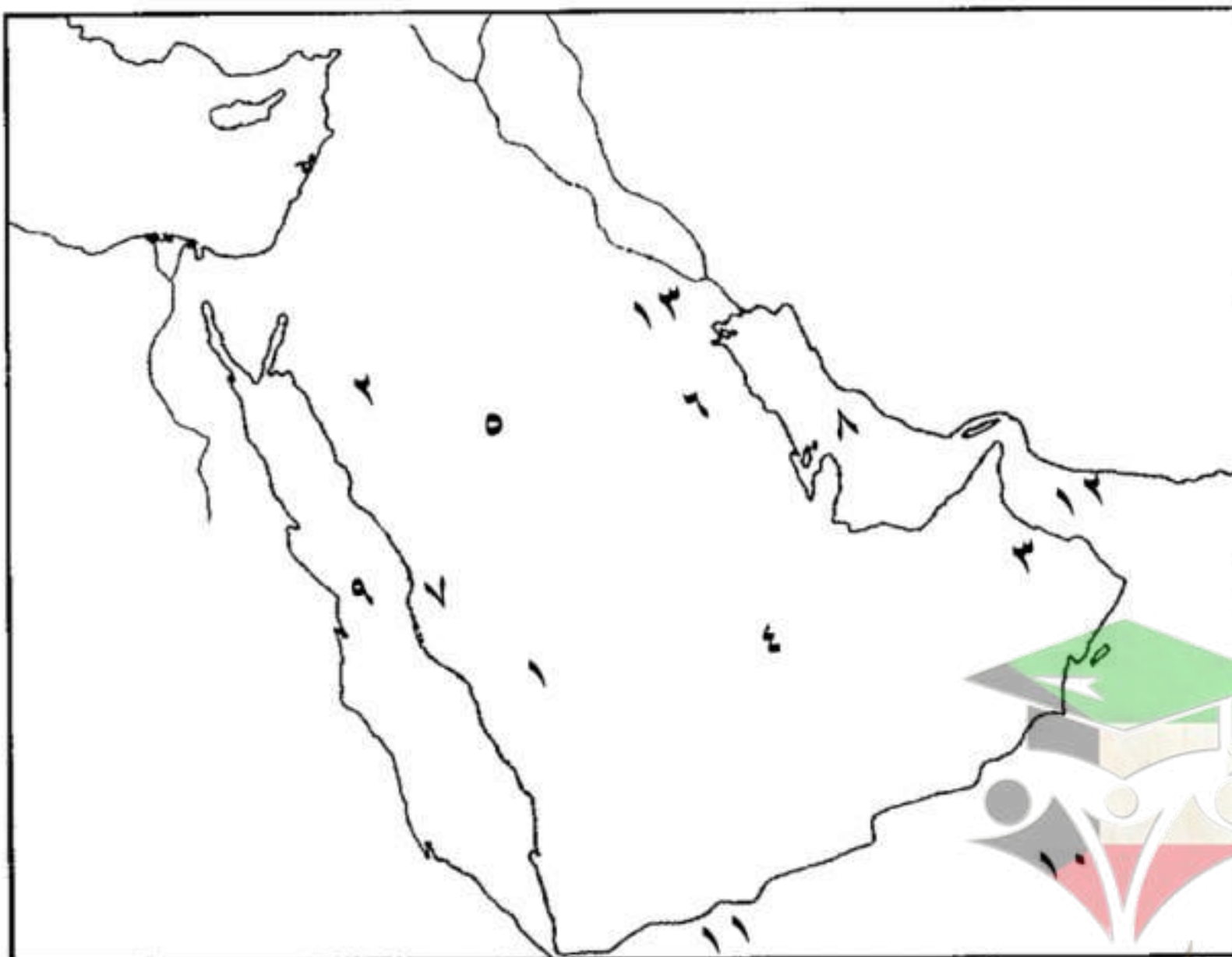
ثالثاً: أكمل المخطط السهمي التالي:



رابعاً / ضل الكلمة التي لا تنتمي للمجموعة:

| | | | | |
|--|-----------|---------------|--------------|---------------|
| جبال شبه الجزيرة العربية | عسير | الحجاز | تهامة | الأخضر |
| مسطحات مائية تطل عليها شبه الجزيرة العربية | بحر العرب | البحر المتوسط | البحر الأحمر | الخليج العربي |

ج. صف المظاهر التضاريسية التالية علي خريطة شبه الجزيرة العربية الصماء:



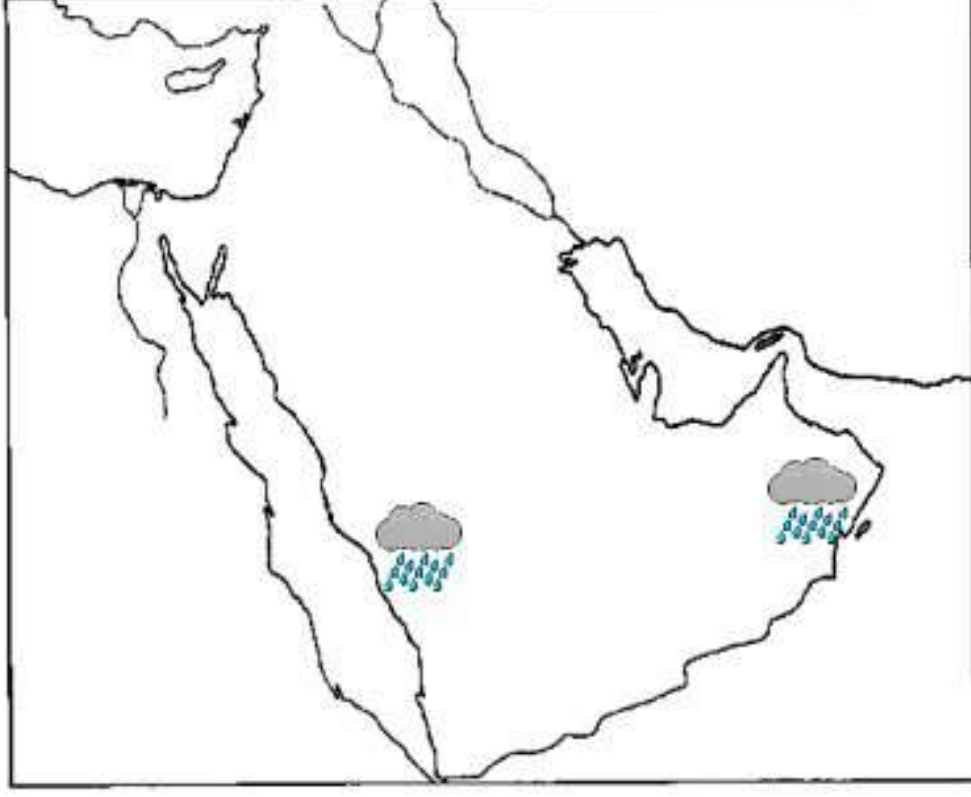
| | |
|--------------|---|
| جبال | ١- جبال عسير ٢- جبال الحجاز ٣- الجبل الأخضر |
| الصحاري | ٤ صحراء الربع الخالي ٥ صحراء النفوذ |
| هضبة | هضبة نجد |
| سهول | ٦- الإحساء ٧- سهل تهامة |
| مسطحات مائية | ٨- الخليج العربي ٩- البحر الأحمر ١٠- بحر العرب ١١- خليج عدن ١٢- خليج عمان |
| التلال | ١٣- تلال جال الزور |

الصفحة ٢

الوحدة الاولى : الخصائص الطبيعية والبشرية لمنطقة الخليج العربي
أ. الخصائص الطبيعية لمنطقة الخليج العربي / ٣ المناخ



أولا : أكمل العبارات التالية بما يناسبها فيما درست :



١. يتشابه مناخ دول الخليج العربية ويتصف بأنه صحراوي قاري.
٢. الأمطار في فصل الشتاء قليلة وغير منتظمة
٣. تسقط الأمطار في فصل الصيف في الجبل الاخضر في دولة عمان
٤. تسقط الأمطار في فصل الصيف في جبال عسير في السعودية.

ثانيا / عرف المفاهيم التالية :

- ١/ المناخ : حالة الجو في مكان ما خلال فترات زمنية طويلة.
- ٢/ الكوس : هي الرياح الجنوبية الشرقية .

ثالثا : أكمل المخطط السهمي التالي :

أنواع الرياح التي تهب على دول الخليج العربية

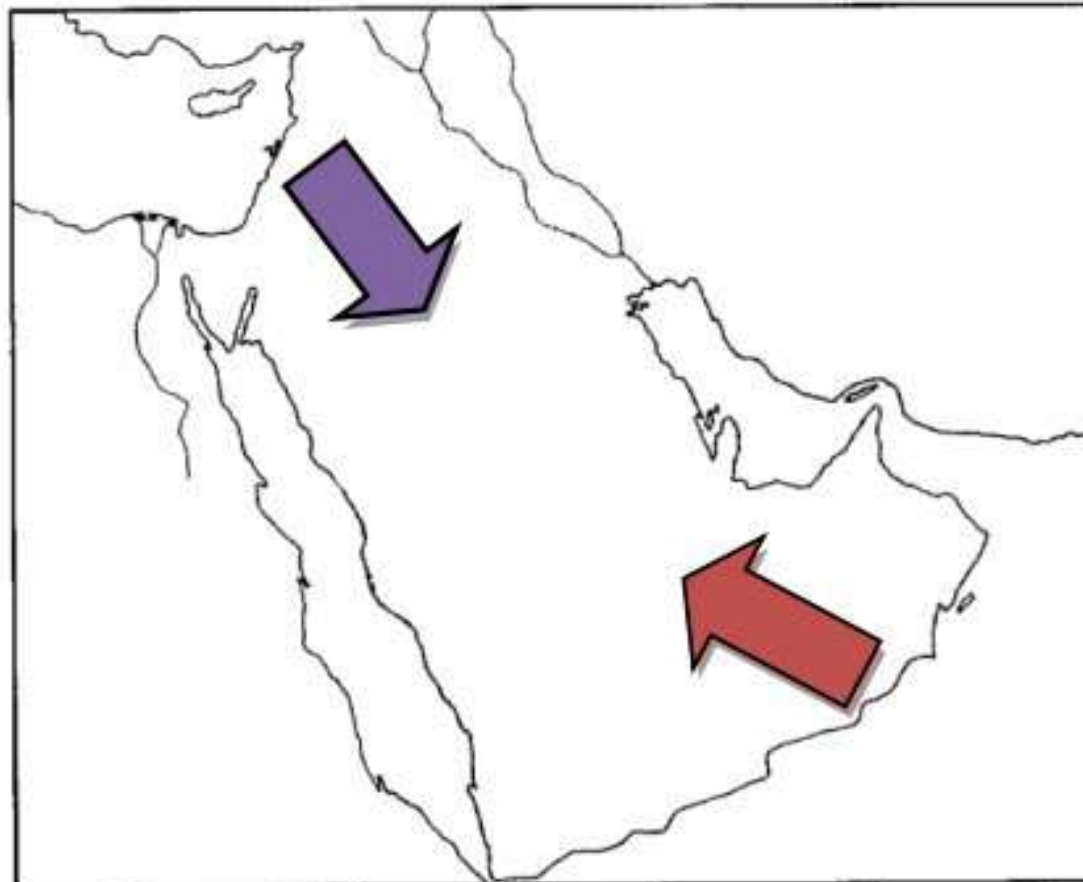
١. الرياح الشمالية الغربية
٢. الرياح الجنوبية الشرقية. (الكوس)
٣. الزوابع الترابية. (الغبان)

ثالثا/ قارن بين فصل الصيف وفصل الشتاء من حيث درجة الحرارة واهم ما يميز كل فصل :-

| وجه المقارنة | فصل الصيف | فصل الشتاء |
|--------------------|--|-----------------------------|
| درجة الحرارة | أكثر من ٤٠ درجة مئوية | أقل من ٤ درجات |
| أهم ما يميز كل فصل | فصل طويل يمتد لمعظم شهور السنة حار جاف ورطب خاصة في المناطق الساحلية. | فصل قصير جدا ويمتاز بالدفء. |

رابعاً اذكر أنواع الرياح التي تهب على دول الخليج العربية ؟

١. الرياح الشمالية الغربية
٢. الرياح الجنوبية الشرقية. (الكوس)
٣. الزوابع الترابية. (الغبان)



حدد اتجاه الرياح على خريطة شبه الجزيرة العربية :



الصفحة ٤

الوحدة الأولى : الخصائص الطبيعية والبشرية لمنطقة الخليج العربي
أ. الخصائص الطبيعية لمنطقة الخليج العربي ٤ / الحياة النباتية والحيوانية



أولا : أكمل العبارات التالية بما يناسبها فيما درست :

١ - تقوم حرفة الرعي على وجود النباتات المعمرة

ثانيا / صنف الكلمات لتالية في الجدول :

ضب - أرنب - ماعز - الابل - الذئب - الغزلان - الزواحف - السحالي

| حيوانات غير مستأنسة | حيوانات برية | حيوانات مستأنسة |
|----------------------|------------------------|-----------------|
| ضب الزواحف - السحالي | أرنب - الذئب - الغزلان | ماعز - الابل |

ثالثا / ظلل الكلمة التي لا تنتمي الى المجموعة :



نباتات معمرة



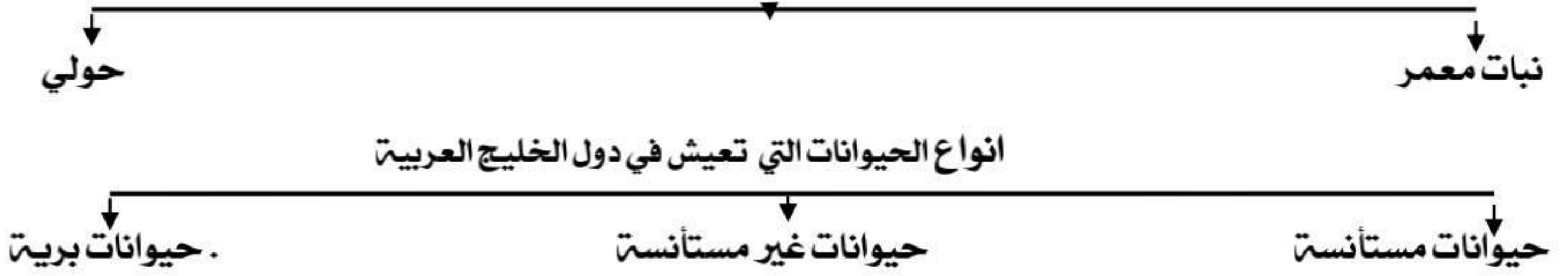
حيوانات برية



حيوانات مستأنسة

رابعا / أكمل المخطط السهمي التالي :

أنواع النباتات في دول الخليج العربية



خامسا / قارن بين النبات المعمر والنبات الحولي من حيث التعريف والأنواع :-

| وجه المقارنة | نبات معمّر | نبات حولي |
|--------------|---|--------------------------------------|
| التعريف | نباتات متوفرة طول العام لأنها تتحمل الجفاف وارتفاع درجة الحرارة | نباتات يرتبط وجودها بموسم سقوط المطر |
| الأنواع | الصابار والعرفج والشدنا والرمث | الخبيزة والحيوان والعنصل |

سادسا / علل (اذكر السبب) :

١. الحياة النباتية والحيوانية فقيرة في دول الخليج العربية.

لقلّة الأمطار وقلّة المياه

٢. توفر النباتات المعمرة طول العام في دول الخليج العربية.

١. تتحمل الجفاف ٢. تتحمل ارتفاع درجة الحرارة . لان جذورها طويلة واوراقها قليلة واشواكها كثيرة تخزن المياه في اوراقها

سابعا / عدد :

١ / أنواع الحيوانات التي تعيش في دول الخليج العربية

أ) حيوانات مستأنسة : يربئها الإنسان مثل الأغناب والماعز والإبل.

ب) حيوانات غير مستأنسة : مثل السحالي والثعابين والضب.

ت) حيوانات برية : مثل الغزلان والثعالب والذئب والضباع والأرانب.

الصفحة ٥

الوحدة الأولى: الخصائص الطبيعية والبشرية لمنطقة الخليج العربي
ب. الخصائص البشرية لمنطقة الخليج العربية قديما



أولا: أكمل العبارات التالية بما يناسبها فيما درست :

- ١- اعتمد الاقتصاد قديما اعتماد رئيسي على حرفة الغوص
- ٢- الحرفة المكملة للأنشطة البحرية هي صناعة السفن
- ٣- استمر موسم الغوص أربعة أشهر
- ٤- يبدأ موسم الغوص من أوائل الصيف شهر يونيو (٦) وينتهي شهر سبتمبر.
- ٥- المياه التي توجد في باطن الأرض تسمى المياه الجوفية
- ٦- منطقة تقع في الصحراء فيها مياه عذبة صالحة للزراعة تسمى الواحة
- ٧- الحرفة التي تعتمد على ما ينمو من نباتات وحشائش بعد سقوط الأمطار تسمى الرعي
- ٨- أشهر الحرف التي مارسها أبناء منطقة الخليج العربية قديما تسمى الغوص على اللؤلؤ

ثانيا: أكمل المخطط السهمي التالي :



ثالثا: ظلل الخيار الصحيح من بين الخيارات التي تلي كل عبارة :

| تسقط الأمطار على دول الخليج في فصل : | | | |
|--------------------------------------|------------|------------|-----------|
| الصيف | الشتاء | الربيع | الخريف |
| يستمر موسم الغوص عن اللؤلؤ : | | | |
| شهرين | ثلاثة أشهر | أربعة أشهر | خمسة أشهر |

| المفهوم | التعريف |
|------------------|--|
| النوخذة | ربان السفينة |
| المجدمي | رئيس البحرية |
| الغواص | يغوص في أعماق البحار بحثاً عن اللؤلؤ |
| السيب | يسحب الغاصّة من أعماق البحار |
| النهام | مطرب السفينة |
| الرضيف | صغار السن وهو المساعد للسيب في السفن الكبيرة |
| التبابة | هم الصبية الذين يعملون على ظهر السفينة لاكتساب الخبرة ويقومون ببعض الأعمال مثل مناولة المياه |
| الطواش | هم تجار اللؤلؤ |
| الدهش | بداية موسم الغوص . |
| القفال | نهاية موسم الغوص . |
| القلاف | صانع السفينة . |
| المسطحات المائية | جميع أشكال المياه على سطح الأرض مثل الخلجان والبحار والمحيطات . |
| المياه الجوفية | هي المياه التي توجد في باطن الأرض . |
| القرقور | وسيلة قديمة لصيد الأسماك / من أدوات الصيد قديماً |



رابعا/ ضع الحرف (أ) أمام العبارة الصحيحة ، والحرف (ب) أمام العبارة الخاطئة :

| السؤال | أ | ب |
|---|---|---|
| ١- مهنة الزراعة من أشهر الحرف التي مارسها أبناء دول الخليج العربي قديما | | |
| ٢- لا يطل الوطن العربي على مسطحات مائية | | |
| ٣- وصل سكان دول الخليج في تجارتهم البحرية إلى شبه القارة الهندية | | |

خامسا/ استنتج الرابط بين العناصر التالية :

- (١) هامور + زيبيدي + ميد = (أسماك)
(٢) الميذار + الحضرة + القرقور = (أدوات صيد)
(٣) البوم + البغلة + الجالبوت = (سفن)

سادسا/ صنّف الاعمال التالية حسب مكانها الجدول التالي:-

((السيب - المجدمي - النهام - النوخذه - الطواش - القلاف))

| ربان السفينة | رئيس البحرية | يسحب الغاصّة | تاجر اللؤلؤ | مطرب السفينة | القلاف |
|--------------|--------------|--------------|-------------|--------------|--------------|
| الנוخذه | المجدمي | السيب | الطواش | النهام | صانع السفينة |

صناعة السدو / الرعي / صيد الأسماك / الغوص على اللؤلؤ / صناعة الخوص / الزراعة

| الحرف اليدوية | الأنشطة البحرية | الأنشطة البرية |
|---------------|------------------|----------------|
| صناعة السدو | صيد الأسماك | الرعي |
| صناعة الخوص | الغوص على اللؤلؤ | الزراعة |

سابعا : علل / اذكر السبب.

١/ انصراف سكان دول الخليج العربي عن حرفة الغوص.

ظهور النفط - اكتشاف اللؤلؤ الصناعي - لأنها مهنة شاقة

٢/ كانت حياة السكان في البيئة الصحراوية لدول الخليج العربية قاسية وخشنة.

لفقر البيئة قلّة الموارد الطبيعية

٤/ تشابه الاعمال التي يقوم بها أبناء الخليج العربية

تشابه الظروف الجغرافية والبيئية والمناخية

٥/ لعب سكان منطقة الخليج العربية دورا بارزا في التجارة البحرية

لأن دول الخليج العربية تطل على مسطحات مائية مهمة

٦/ سفينة البغلة من أفضل أنواع السفن المستعملة في رحلة السفر.

- تمتاز بمتانتها وقدرتها على نقل الحمولة وقلّة تعرضها للأخطار البحرية

ثامنا/ عدد :

١/ انواع الحرف اليدوية لأبناء الخليج العربية:-

صناعة السدو / صناعة الخوص / صناعة البشوت

٢/ البضائع التي تبادلها أبناء الخليج العربية مع الهند واليمن وسواحل شرق أفريقيا

الأخشاب والأغذية مثل الشاي، والأرز، والسكر، والتوابل. مقابل التمور- لؤلؤ

تاسعا / اقرأ القطعة التالية ثم أجب عن الأسئلة التي تليها :-

يعتبر مناخ دول الخليج العربي مشابه من حيث أن مناخ من النوع الصحراوي الحار، وأن من خلال المناخ يمكن معرفة حالة الجو خلال فترة زمنية كما تهب على دول الخليج العربي عدة أنواع من الرياح لذلك نجد أن الأمطار التي تسقط في فصل الشتاء قليلة وغير منتظمة

عرف ما تحته خطاً ؟

(حالة الجو في مكان ما خلال فترة زمنية طويلة)

ما نوع المناخ في دول الخليج العربي

(صحراوي حار)

اذكر أنواع الرياح التي تهب على دول الخليج العربي ؟

(رياح شمالية - جنوبية شرقية - زوابع ترابية)

عدد المناطق الخليجية التي تسقط فيها الأمطار صيفا ؟

(الجبل الأخضر - جبال عسير والحجاز)

نظرا لقلّة الأمطار في الخليج العربي فالحياة النباتية والحيوانية فقيرة بصفة عامة واغلبها نباتات صحراوية قادرة على تحمل الجفاف ، وينقسم النبات الطبيعي في دول الخليج العربية إلى نباتات حولية ونباتات معمرة.

١- عرف ما تحته خطاً ؟

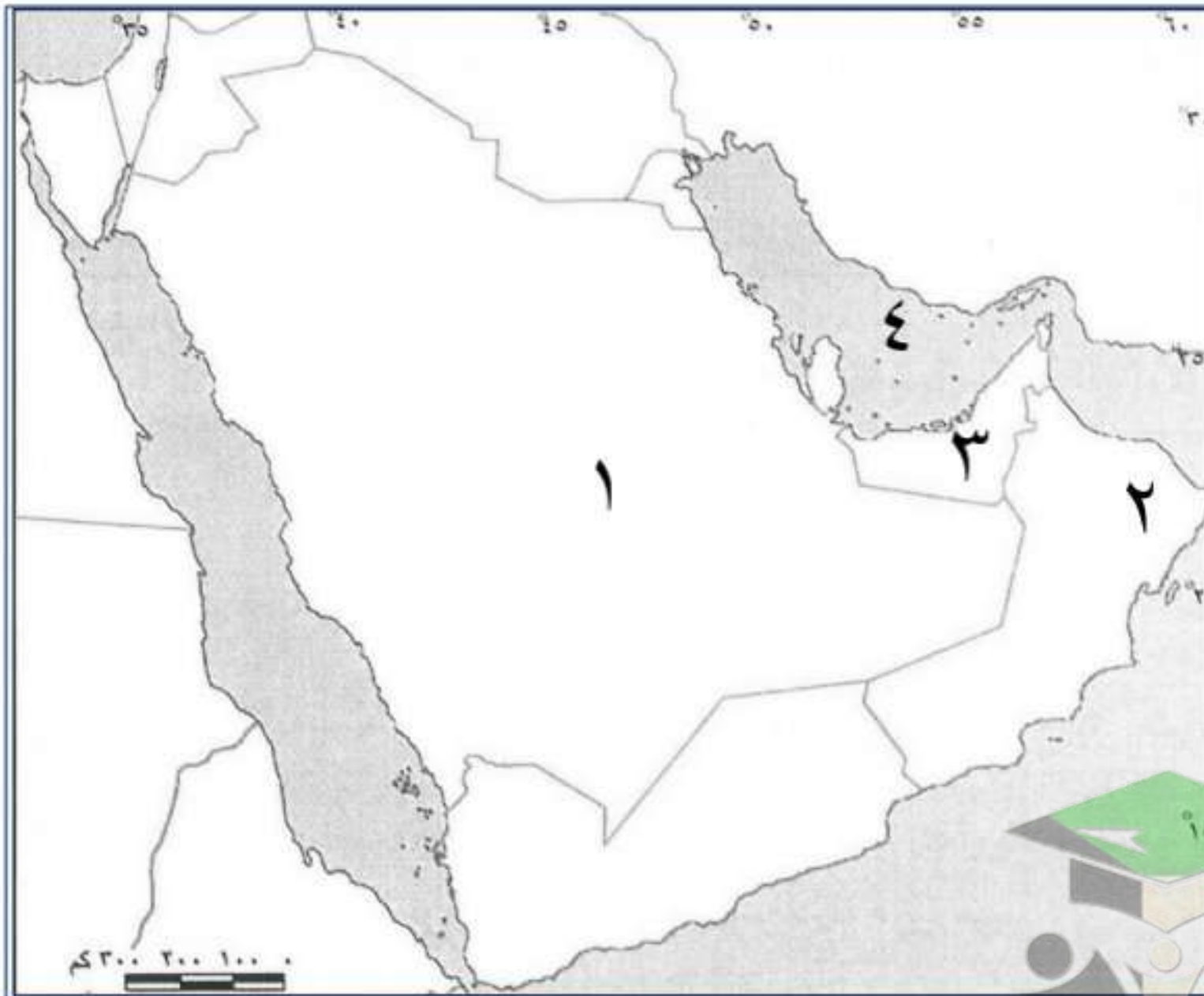
أ- نباتات حولية..... (نباتات يرتبط وجودها بموسم سقوط الأمطار)

بعض الأمثلة عليها..... (الخبيزة - الحويذان - العنصيل)

ب- نباتات معمرة..... (نباتات متوفرة طوال العام)

بعض الأمثلة عليها..... (الصبار - العرفج - الشدة - الرمث)

ثامنا : أمامك خريطة الوطن العربي نفذ المطلوب :



(الرقم ١) يمثل هضبة تسمى نجد.....

(الرقم ٢) يمثل جبل يسمى..... الاخضر.....

(الرقم ٣) يمثل دولة خليجية تسمى الامارات.....

(الرقم ٤) يمثل مسطح مائي يسمى...الخليج العربي.....

الوحدة الثانية: دول الخليج العربية تتطور حضاريا وسياسيا
أحضارات منطقة الخليج العربية قديما
العوامل المؤثرة في نشأة الحضارات بمنطقة الخليج العربية



أولا: أكمل العبارات التالية بما يناسبها فيما درست :

١. ترجع حضارات منطقة الخليج العربية إلى أربعين قرنا .
٢. عرف الخليج العربي قديما باسم بحر شروق الشمس أو البحر الأدنى.
٣. عثر على العديد من أفران المعادن التي اشتهرت بها حضارة مجان في دولة عمان .
٤. ظهرت الحضارة الهلينستية في جزيرة فيلكا في دولة الكويت .
٥. ظهرت حضارة دلمون في البحرين .
٦. ظهر الإسلام في منطقة الخليج العربية في القرن السابع

ثانيا: اكتب المفاهيم الدالة على العبارات التالية :

الحضارة : هي إبداع الإنسان وإسهاماته في تطور وتقدم ورقي مجتمعه في جميع نواحي الحياة وحل مشاكله .
القرن : يساوي ١٠٠ سنة

الجليب : يطلق على البئر عند سكان منطقة الخليج العربية

ثالثا / قارن بين الحضارات التي قامت في دول الخليج العربي من حيث :-

| وجه المقارنة | الدولة التي قامت فيها | مظاهر الحضارة |
|--------------------|-----------------------|-------------------|
| حضارة دلمون | البحرين | أختام دلمون |
| حضارة مجان | سلطنة عمان | أفران صهر المعادن |
| الحضارة الهلينستية | الكويت | بعض الآثار |

ثالثا / عدد

العوامل التي ساعدت على قيام الحضارات في منطقة الخليج العربية :-

١. الموقع المتميز
٢. توفر أبار المياه
٣. البيئة الطبيعية الملائمة

رابعا / علل اذكر السبب :

الموقع المميز لمنطقة الخليج العربية ساعد على قيام الحضارة

لإنشاء العلاقات التجارية مع المناطق المجاورة - سهولة الاتصال السكان مع المناطق



الوحدة الثانية: دول الخليج العربية تتطور حضاريا وسياسيا
بد الحضارة الإسلامية في منطقة الخليج العربية



أولا / ضع الحرف (أ) أمام العبارة الصحيحة ، والحرف (ب) أمام العبارة الخاطئة :

| ب | أ | السؤال |
|---|---|--|
| | | ١- مهنة الزراعة من أشهر الحرف التي مارسها أبناء دول الخليج العربي قديما |
| | | ٢- لعب الخليج العربي دورا كبيرا في التاريخ القديم |
| | | ٣- لم يساعد موقع الخليج العربي على إنشاء علاقات تجارية مع المناطق المجاورة |
| | | ٤- ظهر الإسلام في القرن السابع الميلادي |
| | | ٥- تسقط الأمطار على الخليج العربي في فصل الصيف |
| | | ٦- لا يطل الوطن العربي على مسطحات مائية |
| | | ٧- وصل سكان دول الخليج في تجارتهم البحرية إلى شبه القارة الهندية |
| | | ٨- ظهرت في منطقة الخليج العربي حضارات متعددة |
| | | ٩- شارك أبناء منطقة الخليج في نشر الإسلام |
| | | ١٠- تأثر سكان منطقة الخليج العربي بمظاهر الحضارة الإسلامية |

ما نتعرف على بعض من مظاهر الحضارة الإسلامية تأمل الصور التالية :-



شكل (١٤) صور توضح مظاهر الحضارة الإسلامية

ثانيا / صنف المظاهر التالية حسب مكانها في الجدول التالي :-

((بناء المساجد - الحلي الذهبية - الأواني الفخارية والخزف - الزخرفة))

| العمران | الصناعة | الفن |
|--------------|-----------------------------------|---------|
| بناء المساجد | الحلي الذهبية الأواني الفخارية | الزخرفة |

ثالثا / عدد

عدد مظاهر الحضارة الإسلامية

١. الصناعة ٢. العمران ٣. الفن

الوحدة الثانية: دول الخليج العربية تتطور حضاريا وسياسيا
تطور الحياة السياسية وظهور الدول الحديثة

من ص ٥٧
الى ص ٥٩

أولا : أكمل العبارات التالية بما يناسبها فيما درست :

١/ يطلق على قارة آسيا وقارة أفريقيا وقارة اوربا اسم العالم لقديم.

٢/ المنطقة التي هاجر منها العتوب من الخليج العربي هي منطقة الهدار

ثانيا / صنف الهجرات التي حدثت في الخليج العربي

| | | | | | |
|---------|------------|----------|-------------|------------|---------|
| الكويت | البحرين | قطر | عمان | رأس الخيمة | أبو ظبي |
| ال صباح | (ال خليفة) | المعاضيد | قبائل الازد | القواسم | بني ياس |

ثالثا : علل / اذكر السبب.

١. لموقع الخليج العربي أهمية كبيرة

- يخترق قلب العالم القديم - يطل على العديد من المسطحات المائية
- مارس دورة كوسيط تجاري ومركز تجاري مما أدى الى قيام موانئه بممارسة أنشطة بحرية متنوعة.
- بدأت مرحلة جديدة لدول الخليج العربية في تأثيرها في السياسة الدولية.
- لاكتشاف النفط والبدء في تصديره.

رابعا / صل بين الكلمة والصورة الدالة عليها لأنواع التشابه الثقافي بين دول الخليج العربي :



(اللغة العربية)

(التاريخ المشترك)

(العادات والتقاليد)

خامسا / ظلل الكلمة التي لا تنتمي إلى كل من المجموعات التالية :



الوحدة الثانية: دول الخليج العربية تتطور حضاريا وسياسيا
المنافسة الاستعمارية الأوروبية على الخليج العربي



١. أولا : أكمل العبارات التالية بما يناسبها فيما درست :

- ١) بدأت المنافسة الاستعمارية لمنطقة الخليج العربية منذ القرن ١٥
- ٢) أول دولة أوروبية وصلت للخليج العربي واحتلت أجزاء مهمة لفترة زمنية تسمى البرتغال
- ٣) بدأت مرحلة جديدة في منطقة الخليج العربية باكتشاف النفط
- ٤) الشيخ الذي وقع على اتفاقية الحماية البريطانية يسمى الشيخ مبارك الصباح
- ٥) الشيخ الذي وقع على وثيقة الاستقلال يسمى الشيخ عبدالله السالم الصباح
- ٦) الاسلوب الذي اتبعته بريطانيا لاستعمار الكويت يسمى معاهدة
- ٧) العام الذي تم توقيع اتفاقية الحماية ١٨٩٩ م

ثانيا: اكتب المفهوم الدال على العبارة التالية:

الاستعمار: هو أن تسيطر دولة قوية على دولة ضعيفة بهدف استغلال موقعها ومواردها.

ثالثا : علل / اذكر السبب.

١- تنافس الدول الاستعمارية على منطقة الخليج العربية.

لأهمية موقع الخليج العربي وأهمية استغلاله.

رابعا / عدد

الدول الاستعمارية على منطقة الخليج العربية.

١/ البرتغال ٢/ هولندا ٣/ إنجلترا (الانجليز)

٢/ الأساليب التي اتبعتها الاستعمار للسيطرة على دول الخليج العربية

٢. الاتفاقيات

١. المعاهدات

خامسا / أكمل الجدول بالبيانات التالية:

| البند | معاودة الحماية |
|---|---------------------------|
| السنة | ١٨٩٩ |
| أطراف المعاهدة | الكويت X بريطانيا |
| الظروف التي دفعت الشيخ مبارك على توقيع اتفاقية الحماية البريطانية | خوفه من الأخطار الخارجية. |



الوحدة الثانية: دول الخليج العربية تتطور حضاريا وسياسيا
مرحلة الاستقلال والتطور



أولا : أكمل العبارات التالية بما يناسبها فيما درست :

١. تم إلغاء معاهدة الحماية في عهد الشيخ عبدالله السالم الصباح
٢. وقع على وثيقة الاستقلال الشيخ عبدالله السالم الصباح
٣. الدولة الخليجية التي لم تخضع للاستعمار هي السعودية وسنة استقلالها ١٩٣٢
٤. البحرين وقطر وعمان والإمارات تمتعوا باستقلالهم في عام ١٩٧١.
٥. الكويت أول دولة خليجية نالت استقلالها في عام ١٩٦١.
٦. تم اصدار وثيقة الدستور الكويتي في عام ١٩٦٢ م
٧. اصدرت منظمة الامم المتحدة الاعلان الرسمي لحقوق الانسان عام ١٩٤٨ م
٨. استمدت دول الخليج العربية مبادئ حقوق الانسان من الشريعة الاسلامية.
٩. بدأت شعوب دول الخليج العربية بالتححرر من التبعية البريطانية في القرن العشرين

ثانيا: اكتب المفاهيم أو المصطلحات الدالة على العبارات التالية:

- الاستقلال : تحرر الدولة من المستعمر الأجنبي وقيامها بمسؤولية إدارة شؤونها الداخلية والخارجية .
الديموقراطية : حكم الشعب لنفسه

ثالثا : علل / اذكر السبب.

شهدت دول الخليج العربية نهضة عمرانية هائلة وتقدما كبيرا .

١. بسبب استقلالها
٢. امتلاكها الكامل لثروة النفطية



رابعا/ لاحظ الصورة المقابلة ثم أكمل الجدول التالي :

| البنود | وثيقة الاستقلال |
|---------|-------------------|
| السنة | ١٩ يونيو ١٩٦١ م |
| الأطراف | الكويت X بريطانيا |

الوحدة الثانية: دول الخليج العربية تتطور حضاريا وسياسيا
قيام مجلس التعاون لدول الخليج العربية



أولا: أكمل العبارات التالية بما يناسبها فيما درست

١. أعلن قيام مجلس التعاون الخليجي ٢٥ مايو ١٩٨١ في مدينة أبو ظبي في الإمارات.
٢. يقع مقر مجلس التعاون الخليجي في مدينة الرياض في السعودية.
٣. عدد الدول الأعضاء في مجلس التعاون لدول الخليج العربية ستة دول
٤. الشيخ الذي دعا الى انشاء وحدة خليجية اسمه جابر الاحمد الصباح
٥. العام الذي وجه فيه الشيخ جابر الاحمد فكرة مجلس التعاون ١٩٧٦ م



ثانيا / عرف المفاهيم أو المصطلحات التالية:

مجلس التعاون لدول الخليج العربية: هو عبارة عن منظمة سياسية اقتصادية إقليمية تضم ست دول عربية خليجية



ثالثا / أكمل المخططات السهمية التالية:

الهيكل التنظيمي لمجلس التعاون لدول الخليج العربية



رابعا / علل اذكر السبب:

إنشاء مجلس التعاون الخليجي.

❖ بسبب العلاقات خاصة والصفات مشتركة وأنظمة متشابهة وأساسها وحدة التراث والعقيدة.

تسمية القمة الخليجية السابعة والعشرين لمجلس التعاون الخليجي بقمة الشيخ جابر الاحمد

○ تقديرا لجهود الشيخ جابر الاحمد رحمه الله في انشاء المجلس



رابعا / عدد:

الصفات المشتركة بين دول مجلس التعاون الخليجي :-

التراث- الدين الاسلامي - المصالح المشتركة - العادات والتقاليد- اللغة العربية

ماذا يمثل الشعار (أ)

يمثل شعار مجلس التعاون لدول الخليج العربية



رابعاً / فرق بين كل من :

| إنجازات مجلس التعاون لدول الخليج العربية | أهداف مجلس التعاون لدول الخليج العربية :- |
|---|---|
| ١. المساواة التامة بين مواطني مجلس التعاون لدول الخليج العربية ٢. إقامة الاتحاد الجمركي. ٣. انطلاق السوق الخليجي المشترك في عام ٢٠٠٨ م. ٤. السياسة الزراعية المشتركة. ٥. التنسيق في المجال السياسي في المحافل الدولية لكل القضايا ٦. وثيقة التطوير الشامل للتعليم. ٧. إعلان البيئة البحرية في الخليج العربي منطقة بحرية خاصة. ٨. اتفاقية الدفاع المشتركة واستمرار تعزيز قوه درع الجزيرة | ١. تحقيق التعاون بين الدول الأعضاء في جميع المجالات ٢. تحقيق الترابط والصلات بين دول مجلس التعاون. ٣. العمل على تقدم دول مجلس التعاون في المجال العلمي. |

خامساً / حددي على خريطة شبه الجزيرة العربية (أهم النقاط التي يمكن تحديدها على الخريطة)

❖ دول مجلس التعاون الخليجي :-

١. الكويت
 ٢. البحرين
 ٢. السعودية
 ٤. الإمارات
 ٥. قطر
 ٦. عمان
- ❖ مقر مجلس التعاون الخليجي (أ. الرياض) الدولة التي أعلنت قيام مجلس التعاون (ب. أبو ظبي)
- ❖ الحضارات (دلمون - مجان هيلينستية)
- ❖ الدولة التي لم تخضع للاستعمار (السعودية) - أول دولة تحررت من الاستعمار (الكويت)
- ❖ أسماء المسطحات المائية (الخليج العربي - البحر الأحمر)
- ❖ الهجرات (ال صباح - ال خليفة - الازد - القواسم)

