



أوراق عمل الاختبار التحصيلي الأول



الصف الثالث الابتدائي



أوجد ناتج ما يلي

٢ ٣ ٨

١ ٣ ٦ +

\_\_\_\_\_



٤ ١ ٥

٣ ٧ +


\_\_\_\_\_



٥ ٠ ٢

١ ٣ ٤ +

\_\_\_\_\_



٤ ٥ ٢

٤ ٩ ٢ +


\_\_\_\_\_



٣ ٦ ٧

٢ ٨ ٠ +

\_\_\_\_\_



٤ ٥ ٢

١ ٥ ٢ +

\_\_\_\_\_



٢ ٦ ٣

١ ٤ ٩ -

\_\_\_\_\_



٦ ٨ ٠

٤ ٢ -

\_\_\_\_\_



٩ ٦ ٧

١ ٢ ٥ -

\_\_\_\_\_



٧ ٥ ٦

٤ ٩ ٦ -

\_\_\_\_\_



٩ ٠ ٠

٥ ٤ ٦ -

\_\_\_\_\_



٢ ٤ ٨

١ ٧ ١ -

\_\_\_\_\_





أوراق عمل (الاختبار التحصيلي الأول)



الصف الثالث الابتدائي



أوجد الناتج باستخدام الحساب الذهني



$$\text{---} = 100 + 900$$



$$\text{---} = 500 + 200$$



$$\text{---} = 50 + 40$$



$$\text{---} = 500 - 1000$$



$$\text{---} = 400 - 700$$



$$\text{---} = 20 - 80$$

أوجد العدد المجهول مستخدما العملية العكسية



$$25 = \square + 10$$



$$95 = \square + 72$$



$$69 = \square + 24$$



$$80 = \square + 53$$

إعداد المعلمة : إيمان على





أوراق عمل الاختبار التحصيلي الأول



الصف الثالث الابتدائي



استطلع المعلم آراء المتعلمين البالغ عددهم ٣٠ لتحديد الأماكن الأكثر تفضيلاً لديهم وسجل البيانات كالتالي  
أكمل الجدول ثم أجب عن الأسئلة التالية

المكان الأكثر تفضيلاً عند المتعلمين	علامات العد	العدد
المدينة الترفيهية	////	٣
المركز العلمي	////	
أبراج الكويت	///	
حديقة الحيوانات	////	١٤
المتحف الوطني	/	

كم عدد المتعلمين الذين يفضلون زيارة أبراج الكويت ؟ -----



بكم يزيد عدد الذين يفضلون حديقة الحيوانات عن الذين يفضلون زيارة المركز العلمي؟ -----



كم عدد المتعلمين الذين يفضلون زيارة أبراج الكويت والمدينة الترفيهية معا ؟ -----



التمثيل البياني الذي أمامك يوضح الألوان الأكثر تفضيلاً لدى المتعلمين  
أجب عن الأسئلة التالية :



ما هو اللون الأقل تفضيلاً ؟ -----



كم عدد المتعلمين الذين يفضلون

اللون الأحمر والأزرق معا؟ -----



إذا كان عدد المتعلمين الذين يفضلون اللون البرتقالي ١٠ لون ما يدل ما يدل على ذلك ؟



إعداد المعلمة : إيمان على







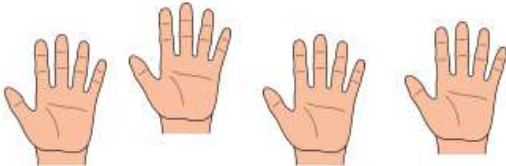
أوراق عمل الاختبار التحصيلي الأول



الصف الثالث الابتدائي




اكتب عبارة الضرب المناسبة




$$\text{-----} = \text{-----} \times \text{-----}$$



$$\text{-----} = \text{-----} \times \text{-----}$$



$$\text{-----} = \text{-----} \times \text{-----}$$



$$\text{-----} = \text{-----} \times \text{-----}$$



$$\text{-----} = \text{-----} \times \text{-----}$$



$$\text{-----} = \text{-----} \times \text{-----}$$

أكمل

ضعف العدد ٥ = -----



ضعف العدد ٣ = -----



ضعف العدد ٨ = -----



ضعف العدد ٦ = -----



إعداد المعلمة : إيمان علي





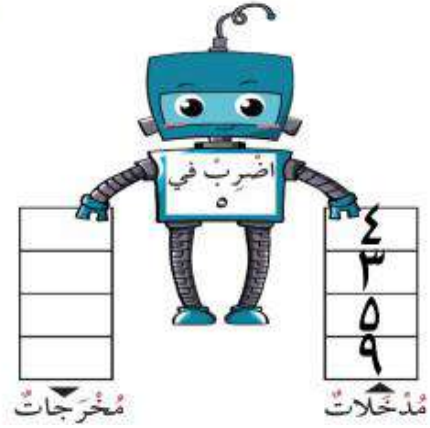

أوراق عمل الاختبار التحصيلي الأول



الصف الثالث الابتدائي



أكمل



أكمل

مضاعفات العدد ٢ آحادها ---- أو ---- أو ---- أو ---- أو ----



مضاعفات العدد ٥ آحادها ---- أو ----



مضاعفات كلا العددين ٢ و ٥ معا آحادها ----



حوظ الإجابة الصحيحة

من مضاعفات العدد ٢



٧٣



١٥



١٢



من مضاعفات ٥، ٢ معا



١٠



١٤



٢٥



إعداد المعلمة : إيمان على





أوراق عمل (الاختبار التحصيلي الأول)  
الصف الثالث الابتدائي

أوجد ناتج الضرب



$$\text{-----} = 8 \times 3$$



$$\text{-----} = 10 \times 1$$



$$\text{-----} = 2 \times 5$$



$$\text{-----} = 1 \times 7$$



$$\text{-----} = 0 \times 12$$



$$\text{-----} = 9 \times 3$$



$$\begin{array}{r} 8 \\ 5 \times \\ \hline \end{array}$$



$$\begin{array}{r} 6 \\ 2 \times \\ \hline \end{array}$$



$$\begin{array}{r} 4 \\ 3 \times \\ \hline \end{array}$$



$$\begin{array}{r} 3 \\ 5 \times \\ \hline \end{array}$$



$$\begin{array}{r} 6 \\ 3 \times \\ \hline \end{array}$$



$$\begin{array}{r} 9 \\ 0 \times \\ \hline \end{array}$$



مبروك يا بطل لقد حصلت على النجمة الذهبية

إعداد المعلمة : إيمان على







أوراق عمل الاختبار التحصيلي الأول

الصف الثالث الابتدائي

الإجابات فقط

هالة لببي

H.O.



أوجد ناتج ما يلي

①

$$\begin{array}{r} 238 \\ +136 \\ \hline 374 \end{array}$$

①

$$\begin{array}{r} 415 \\ +37 \\ \hline 452 \end{array}$$

$$\begin{array}{r} 502 \\ +134 \\ \hline 636 \end{array}$$

①

$$\begin{array}{r} 452 \\ +492 \\ \hline 944 \end{array}$$

①

$$\begin{array}{r} 367 \\ +280 \\ \hline 647 \end{array}$$

①

$$\begin{array}{r} 452 \\ +152 \\ \hline 604 \end{array}$$

①

$$\begin{array}{r} 23 \\ -14 \\ \hline 9 \end{array}$$

①

$$\begin{array}{r} 68 \\ -42 \\ \hline 26 \end{array}$$

$$\begin{array}{r} 967 \\ -125 \\ \hline 842 \end{array}$$

①

$$\begin{array}{r} 706 \\ -496 \\ \hline 210 \end{array}$$

①

$$\begin{array}{r} 800 \\ -546 \\ \hline 254 \end{array}$$


①

$$\begin{array}{r} 148 \\ -171 \\ \hline -23 \end{array}$$

H.L.



أوراق عمل (الاختبار التحصيلي الأول)



الصف الثالث الابتدائي

أوجد الناتج باستخدام الحساب الذهني



$$1000 = 100 + 900$$



$$700 = 500 + 200$$



$$90 = 50 + 40$$



$$500 = 500 - 1000$$



$$200 = 400 - 700$$



$$60 = 20 - 80$$

أوجد العدد المجهول مستخدما العملية العكسية

$$\begin{array}{r} 20 \\ - 10 \\ \hline \end{array}$$



$$20 = \boxed{10} + 10$$

$$\begin{array}{r} 90 \\ - 20 \\ \hline 70 \end{array}$$



$$90 = \boxed{20} + 70$$

$$\begin{array}{r} 79 \\ - 24 \\ \hline 55 \end{array}$$



$$79 = \boxed{55} + 24$$

$$\begin{array}{r} 80 \\ - 53 \\ \hline 27 \end{array}$$



$$80 = \boxed{27} + 53$$

إعداد المعلمة : إيمان علي





أوراق عمل الاختبار التحصيلي الأول

الصف الثالث الابتدائي

H.O.

استطلع المعلم آراء المتعلمين البالغ عددهم ٣٠ لتحديد الأماكن الأكثر تفضيلاً لديهم وسجل البيانات كالتالي  
أكمل الجدول ثم أجب عن الأسئلة التالية

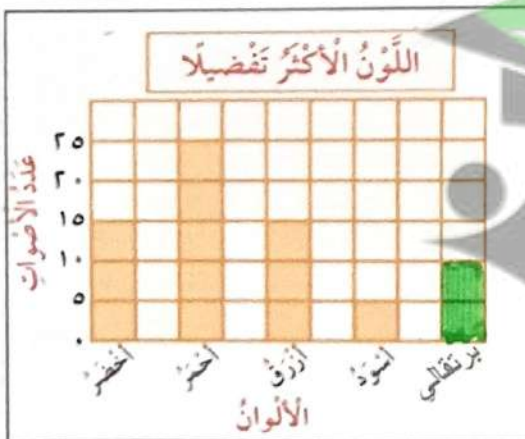
المكان	علامات العد	العدد
المدينة الترفيهية	///	٣
المركز العلمي	////	٥
أبراج الكويت	/// ////	٧
حديقة الحيوانات	//// ////	١٤
المتحف الوطني	/	١

كم عدد المتعلمين الذين يفضلون زيارة أبراج الكويت؟ ٧ زائر

بكم يزيد عدد الذين يفضلون حديقة الحيوانات عن الذين يفضلون زيارة المركز العلمي؟ ٩ زائر  $14 - 5 = 9$

كم عدد المتعلمين الذين يفضلون زيارة أبراج الكويت والمدينة الترفيهية معا؟ ١٠ زائر  $7 + 3 = 10$

التمثيل البياني الذي أمامك يوضح الألوان الأكثر تفضيلاً لدى المتعلمين  
أجب عن الأسئلة التالية :



ما هو اللون الأقل تفضيلاً؟ الأسود

كم عدد المتعلمين الذين يفضلون اللون الأحمر والأزرق معا؟ ٣٥  $20 + 15 = 35$

إذا كان عدد المتعلمين الذين يفضلون اللون البرتقالي ١٠ لون ما يدل ما يدل على ذلك؟

إعداد المعلمة : إيمان على





أوراق عمل الاختبار التحصيلي الأول

☆ الصف الثالث الابتدائي ☆

### اكتب عبارة الضرب المناسبة




$$20 = 5 \times 4$$



$$6 = 3 \times 2$$



$$8 = 2 \times 4$$



$$18 = 3 \times 6$$



$$6 = 2 \times 3$$



$$15 = 5 \times 3$$

### أكمل

$$10 = 2 \times 5$$

$$10 = 5 \text{ ضعف العدد } 2$$

$$6 = 2 \times 3$$

$$6 = 3 \text{ ضعف العدد } 2$$

$$16 = 2 \times 8$$

$$16 = 8 \text{ ضعف العدد } 2$$

$$12 = 2 \times 6$$

$$12 = 6 \text{ ضعف العدد } 2$$

إعداد المعلمة: إيمان علي



H.I.



أوراق عمل الاختبار التحصيلي الأول



الصف الثالث الابتدائي



أكمل

أضرب في ٣

١٢
١٥
١٨
٢١

مُخرَجات

٤
٥
٦
٧

مُدخَلات

أضرب في ٥

٢٠
١٥
٢٥
٤٥

مُخرَجات

٤
٣
٥
٩

مُدخَلات

أكمل

مضاعفات العدد ٢ أحادها ٠ أو ٢ أو ٤ أو ٦ أو ٨



مضاعفات العدد ٥ أحادها ٠ أو ٥



مضاعفات كلا العددين ٢ و ٥ معا أحادها ٠



حوظ الإجابة الصحيحة

٧٣

١٠

١٥

١٤

من مضاعفات العدد ٢



١٢

من مضاعفات ٥، ٢ معا



٢٥

إعداد المعلمة : إيمان على



H.O.

أوراق عمل (الاختبار التحصيلي الأول)  
الصف الثالث الابتدائي

### أوجد ناتج الضرب



$$\underline{\quad 24 \quad} = 8 \times 3$$



$$\underline{\quad 10 \quad} = 10 \times 1$$



$$\underline{\quad 10 \quad} = 2 \times 5$$



$$\underline{\quad 7 \quad} = 1 \times 7$$



$$\underline{\quad 0 \quad} = 0 \times 12$$



$$\underline{\quad 27 \quad} = 9 \times 3$$



$$\begin{array}{r} 8 \\ 5 \times \\ \hline 40 \end{array}$$



$$\begin{array}{r} 6 \\ 2 \times \\ \hline 12 \end{array}$$



$$\begin{array}{r} 4 \\ 3 \times \\ \hline 12 \end{array}$$



$$\begin{array}{r} 3 \\ 5 \times \\ \hline 15 \end{array}$$



$$\begin{array}{r} 6 \\ 3 \times \\ \hline 18 \end{array}$$



$$\begin{array}{r} 9 \\ \cdot \times \\ \hline \cdot \end{array}$$



مبروك يا بطل لقد حصلت على النجمة الذهبية

إعداد المعلمة : إيمان على

