



نموذج اختبار قصير لمادة الاجتماعيات

الفصل الدراسي الأول 2024 – 2025 م

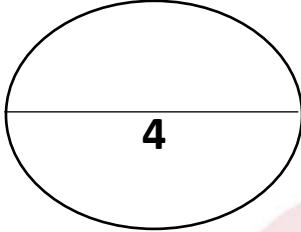
للمصف (الخامس الابتدائي)



صفوة معلم الكوثر



وزارة التربية الإدارة العامة للتعليم الخاص مدرسة التميز النموذجية	الاختبار الأول لمادة الاجتماعيات الصف الخامس (بلادي الكويت) للأسابيع الثمانية الثانية نموذج رقم (1)	العام الدراسي 2025/2024 م 20
---	--	---------------------------------

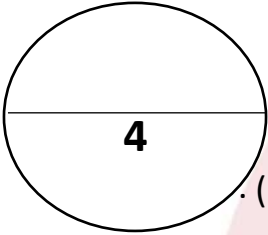


السؤال الأول: - مكون من (أ - ب - ج) :-

(أ) اختر الإجابة الصحيحة من بين البدائل التالية: -

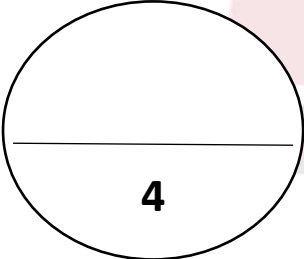
- 1- يشكل النفط ومنتجاته البتروكيماوية بدولة الكويت نسبة من الصادرات تصل إلي (93% - 94% - 95% - 96%).
- 2- تم تصدير أول شحنة نفط في عهد الشيخ (احمد الجابر- عبد الله السالم - صباح السالم- مبارك الكبير)
- 3- أكبر الحقول النفطية بدولة الكويت حقل (بحرة - برقان - الأحمدى - المناقيش).
- 4- أكتشف النفط الخفيف عالي الجودة بدولة الكويت بحقل الصابرية سنة (2003 - 2004 - 2005 - 2006) م .

(ب) ضع علامة (√) أمام العبارة الصحيحة وعبارة (×) أمام العبارة الخاطئة :-



- 1- أكتشف حقل برقان سنة 1938 م في عهد الشيخ أحمد الجابر الصباح (.....).
- 2- تبلغ نسبة احتياطي النفط الكويتي بالنسبة للاحتياطي العالمي نسبة 20% (.....).
- 3- حُرقت آبار النفط الكويتي علي يد القوات العراقية في سنة 1991 م (.....).
- 4- أكتشف النفط في بلادي الكويت في عهد الشيخ احمد الجابر الصباح (.....).

(ج) صنف المفاهيم التالية في مكانها الصحيح: -

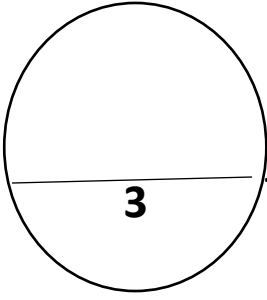


(دوارة الرياح - العمل التطوعي - التدوير - الغاز الحر)

المفهوم
المصطلح	تطوع الفرد بأعمال كثيرة تساهم في المحافظة علي الموارد الطبيعية	تحول أي منتج غير مفيد إلي منتج آخر يستفاد منه	هي أداة تحول حركة الرياح إلي طاقة	وجود بئر الغاز الطبيعي في بئر منفصلة عن النفط



السؤال الثاني: - علل لما يأتي: -
1- تسمية النفط بالذهب الأسود؟

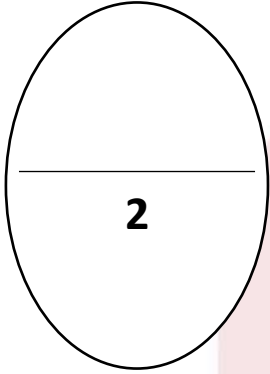


2- تسمية الطاقة المتجددة بالطاقة النظيفة؟

أ-.....
ب-.....

السؤال الثالث: - أكمل المخطط الدائري التالي: -

يتمتع الغاز الطبيعي بالعديد من الخصائص: -



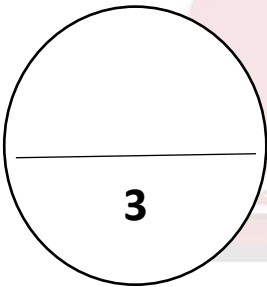
الطاقة
النظيفة

.....

.....

.....

.....



السؤال الرابع فرق بين المفاهيم التالية: -

الطاقة الغير متجددة	الطاقة المتجددة	الطاقة



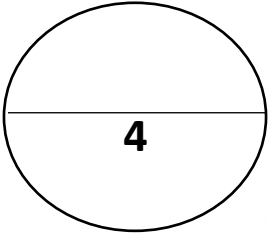
نموذج الإجابة للاختبار القصير الأول لمادة الاجتماعيات
الصف الخامس الابتدائي للثماني أسابيع الثانية
ف1 عام 2025/2024

السؤال الأول: - مكون من (أ - ب - ج) :-

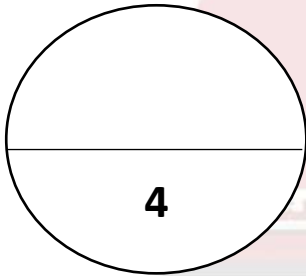
(١) اختر الإجابة الصحيحة من بين البدائل التالية: -

- 1- يشكل النفط ومنتجاته البتروكيمياوية بدولة الكويت نسبة من الصادرات تصل إلي (93% - **94%** - 95%) .
96% .
- 2- تم تصدير أول شحنة نفط في عهد الشيخ (**احمد الجابر** - عبد الله السالم - صباح السالم - مبارك الكبير)
- 3- أكبر الحقول النفطية بدولة الكويت حقل (بحرة - **برقان** - الأحمدى - المناقيش) .
- 4- اكتشف النفط الخفيف عالي الجودة بدولة الكويت بحقل الصابرية سنة (2003 - 2004 - **2005** - 2006) م .

(ب) ضع علامة (√) أمام العبارة الصحيحة وعبارة (×) أمام العبارة الخاطئة :-



- 1- اكتشف حقل برقان سنة 1938 م في عهد الشيخ أحمد الجابر الصباح (**√**) .
- 2- تبلغ نسبة احتياطي النفط الكويتي بالنسبة للاحتياطي العالمي نسبة 20% (**×**) .
- 3- حُرقت آبار النفط الكويتي علي يد القوات العراقية في سنة 1991 م (**√**) .
- 4- اكتشف النفط في بلادي الكويت في عهد الشيخ احمد الجابر الصباح (**×**) .



(ج) صنف المفاهيم التالية في مكانها الصحيح: -

(دورة الرياح - العمل التطوعي - التدوير - الغاز الحر)

المفهوم	العمل التطوعي	التدوير	دورة الرياح	الغاز الحر
المصطلح	تطوع الفرد بأعمال كثيرة تساهم في المحافظة علي الموارد الطبيعية	تحول أي منتج غير مفيد إلي منتج آخر يستفاد منه	هي أداة تحول حركة الرياح إلي طاقة	وجود بئر الغاز الطبيعي في بئر منفصلة عن النفط



السؤال الثاني: - علل لما يأتي: -

1- تسمية النفط بالذهب الأسود؟

نظراً لأهميته وقيمته الكبيرة.

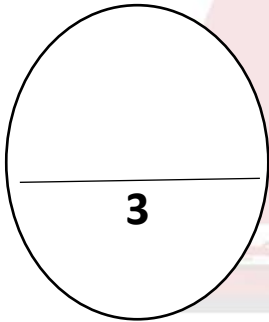
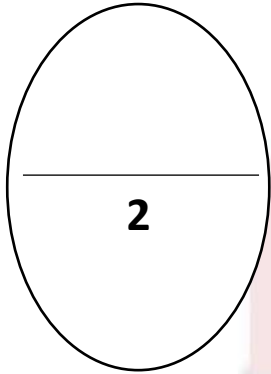
2- تسمية الطاقة المتجددة بالطاقة النظيفة؟

أ- لأنها غير ملوثة للبيئة - متواجدة بشكل دائم

ب- اقتصادية - بديلة عن الطاق الغير متجددة.

السؤال الثالث: - أكمل المخطط الدائري التالي: -

يتمتع الغاز الطبيعي بالعديد من الخصائص: -



السؤال الرابع فرق بين المفاهيم التالية: -

الطاقة الغير متجددة	الطاقة المتجددة	الطاقة
هي التي تنتهي ولا يمكن تعويضها في زمن قصير.	هي التي لا تنتهي ولا تنفذ وتسمى الطاقة النظيفة	هي القدرة على القيام بعمل معين





مدرسة التميز النموذجية
(ابتدائي - متوسط - ثانوي)
الجهاز الفني التربوي

منصات التميز التعليمية

لزيرة منصة التميز التعليمية في اليوتيوب امسح الباركود التالي :



لزيرة منصة التميز التعليمية في تليجرام امسح الباركود الخاص بقناة كل فصل مما يلي :



الصف الرابع



الصف الثالث



الصف الثاني



الصف الأول



الصف التاسع



الصف الثامن



الصف السابع



الصف السادس



الصف الخامس



الصف الثاني عشر
أدبي



الصف الثاني عشر
علمي



الصف الحادي عشر
علمي




الصف الحادي عشر
أدبي



الصف العاشر



لزيرة صفحتنا في تويتر



لزيرة صفحتنا في الإنستغرام

عنواننا : خيطان - ق ٤ - ش ١٠٠

