



## نماذج تدريبية في الورقة التقويمية-2- في مادة العلوم - الصف

8

الفصل الدراسي الأول  
2025 / 2024

(( يرجى تطبيق التدريب في زمن لا يتعدى 15 دقيقة ))

مديرة المدرسة:  
وضحة العتيبي

إعداد و تنسيق:  
عبير الفودري  
رئيسة قسم العلوم

النموذج التدريبي لا يغني عن الدراسة من كتاب الطالب

## نموذج تدريبي في الورقة التدريبية 2 للصف الثامن

السؤال الأول: اختر الإجابة الصحيحة علمياً لكل من العبارات التالية بوضع علامة ( ✓ ) في المربع المقابل لها:

الأسئلة لا تغني عن الدراسة من كتاب الطالب



1- في الشكل المقابل، زاوية السقوط تساوي:

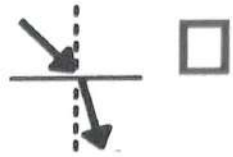
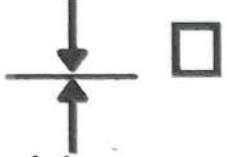
180

90


50

40

2- الرسم الصحيح الذي يبين انتقال الشعاع الضوئي من الهواء إلى الزجاج:



السؤال الثاني: أكتب بين القوسين كلمة (صحيحة) أمام العبارة الصحيحة و كلمة (خطأ) أمام العبارة الغير صحيحة لكل مما يأتي:

1	ينصح باستخدام المنقيات لتنقية الماء من الشوائب العالقة. (-----)
2	عند رفع اليد أمام المرآة المستوية تتكون صورة مقلوبة لها. (-----) 

السؤال الثالث: أكتب الاسم أو المصطلح العلمي الدال على كل من العبارات التالية:

1- (-----): ارتداد الأشعة الضوئية نتيجة سقوطها على سطح جسم ما.

2- (-----): جسم زجاجي شفاف سميك عند الوسط و رقيق عند الأطراف يكسر الأشعة الضوئية الساقطة عليه.

السؤال الرابع: أي مما يلي لا ينتمي إلى المجموعة ضع تحته خط مع ذكر السبب:

1- من خلال دراستك للانعكاس و الانكسار: (حديد مصقول ، ماء ساكن ، مرآة مستوية ، ماء مضطرب )

-السبب: -----

2- من خلال دراستك للانعكاس و الانكسار: ( الزجاج ، الكتاب ، القلم ، القمر ) .

-السبب: -----

صفوة علمي الكويت