

# الاختبار التقويمي الثالث للصف الأول

الفصل الدراسي الأول للعام الدراسي 2024-2025


بنود الاختبار	توزيع درجات الاختبار		درجة الاختبار	مدة الاختبار	موعد الاختبار
	مقالي	موضوعي			
(١-٤)	٣	٢	٥ درجات	لا تتجاوز ١٥ دقيقة من زمن الحصة	الأسبوع العاشر
(٢-٤)					
(٣-٤)					
(٤-٤)					
(٥-٤)					

إشراف الموجهة الفنية : أ. ليلي سالم

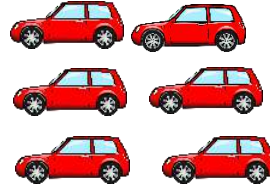
صفوة معلمة الكويت

السؤال الأول :

اشطب لتطرح .



$$\underline{\quad} = 5 - 10$$



$$\underline{\quad} = 2 - 6$$

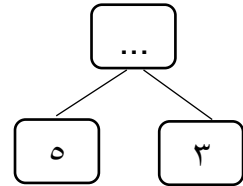


$$\underline{\quad} = 3 - 5$$

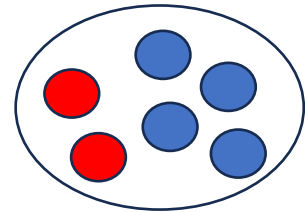
السؤال الثاني :

صل .

٦




٨

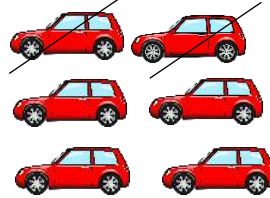


السؤال الأول :


اشطب لتطرح .



$$\underline{\quad 5 \quad} = 5 - 10$$



$$\underline{\quad 4 \quad} = 2 - 6$$

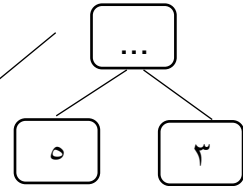


$$\underline{\quad 2 \quad} = 3 - 5$$

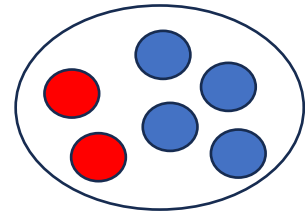
السؤال الثاني :

صل .

٦



٨





نموذج (٢)  
الاختبار التقويمي (٣)  
للمصف الأول في مادة الرياضيات  
الفصل الدراسي ٢٠٢٤ / ٢٠٢٥ م



السؤال الأول:

استخدم خط الأعداد . اجمع



..... = ٣ + ٩

..... = ١ + ١٠


..... = ١ + ٨

السؤال الثاني:

صل بالعبرة المناسبة

٥ = ٢ + ٣

٨ = ٢ + ٦



مدرس رياضيات

65598710

صفوة معلم الكويت  
انتهت الأسئلة،،



إجابة نموذج (٢)  
الاختبار التقويمي (٣)  
للصف الأول في مادة الرياضيات  
الفصل الدراسي ٢٠٢٤ / ٢٠٢٥ م



السؤال الأول :

استخدم خط الأعداد . اجمع



.. ١٢ ... = ٣ + ٩

... ١١ .... = ١ + ١٠


... ٩ ... = ١ + ٨

السؤال الثاني :

صل بالعبرة المناسبة

٥ = ٢ + ٣

٨ = ٢ + ٦



مدرس رياضيات

65598710

انتهت الأسئلة،،،،،

صفوة معلم الكويت