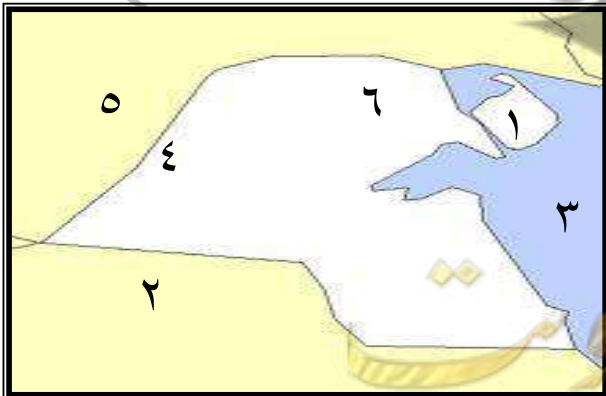


أولاً : أكمل العبارات التالية مما درست :

- ١- تبلغ مساحة دولة الكويت ١٧,٨١٨ كم
- ٢- يبلغ عدد أعضاء مجلس الأمة ٥٠ عضواً
- ٣- الرئيس الأعلى للسلطات الثلاث هو الشيخ نواف الأحمد الصباح
- ٤- تشرق الشمس من جهة الشرق و تغرب الشمس من جهة الغرب
- ٥- الدول المجاورة دولة الكويت هي العراق و المملكة العربية السعودية
- ٦- تقع دولة الكويت في وسط العالم
- ٧- البيئة البحرية علي الخريطة يمثلها اللون الأزرق و البيئة البرية يمثلها اللون الأصفر
- ٨- عدد الجزر الكويتية تسع جزر * الجزيرة الكويتية التي تقع داخل جون الكويت تسمى أم النمل
- ٩- أكبر جزيرة كويتية تسمى بوبيان * جزيرة كويتية كانت مأهولة بالسكان قديماً تسمى فيلكا
- ١٠- ترتفع درجة الحرارة في دولة الكويت في فصل الصيف
- ١١- تدور الأرض حول الشمس مرة كل سنة * مناخ دولة الكويت مناخ صحراوي حار
- ١٢- أول حكام دولة الكويت هو الشيخ صباح بن جابر
- ١٣- وسيلة انتقال آل صباح من منطقة الهدار الي قطر هي الجمال
- ١٤- وسيلة انتقال آل صباح من قطر الي الكويت هي السفينة
- ١٥- استقر آل صباح في شبه جزيرة قطر حوالي ٥٠ عاماً
- ١٦- حدثت معركة الجهراء داخل القصر الاحمر
- ١٧- الأمير الذي لقب بأمير القلوب يسمى الشيخ جابر الأحمد
- ١٨- المدرسة التي افتتحت في عهد الشيخ مبارك الصباح تسمى المدرسة المباركية
- ١٩- الحد الفاصل بين الأراضي الكويتية و العراقية و السعودية يسمى وادي الباطن
- ٢٠- لسان من اليابس يمتد داخل الماء يسمى الرأس
- ٢١- حالة الجو خلال فترة زمنية طويلة تسمى المناخ * حالة الجو خلال فترة زمنية قصيرة تسمى الطقس
- ٢٢- مساحة من اليابس يحيط بها الماء من ثلاث جهات فقط تسمى شبه الجزيرة
- ٢٣- قطعة من اليابس تحيط بها الماء من جميع الجهات تسمى الجزيرة

ثانياً : أكمل المطلوب مع الاستعانة بالخريطة التي إمامك :-



- ١- المملكة العربية السعودية علي الخريطة تحمل الرقم (٢)
- ٢- جزيرة بوبيان علي الخريطة تحمل الرقم (١)
- ٣- وادي الباطن علي الخريطة يحمل الرقم (٤)
- ٤- دولة العراق علي الخريطة تحمل الرقم (٥)
- ٥- الخليج العربي علي الخريطة يحمل الرقم (٣)

ثالثا : اكتب فيما يلي :

عناصر الدولة	السلطات في دولة الكويت	أسباب هجرة آل صباح من منطقة الهدار	استخدامات الكوت قديما	أهمية موقع دولة الكويت	فصول السنة
الأرض الشعب السلطة	السلطة التشريعية --- مجلس الأمة السلطة التنفيذية --- الحكومة السلطة القضائية --- المحاكم	بسبب الجفاف و القحط	تخزين الأسلحة و المون	- تقع في وسط العالم - شرق الوطن العربي - المنفذ الشمالي الشرقي - لشبه الجزيرة العربية	الشتاء - الربيع الصيف - الخريف

رابعا : اكتب التعليق المناسب تحت الصور التالية :-



معركة الرقة البحرية
في عهد الشيخ عبدالله بن صباح



معركة الجهراء
عهد الشيخ سالم المبارك



الشيخ نواف الأحمد الصباح
(حاكم دولة الكويت الحالي)




الشيخ صباح الأحمد الصباح
قائد الإنسانية عام ٢٠١٤م



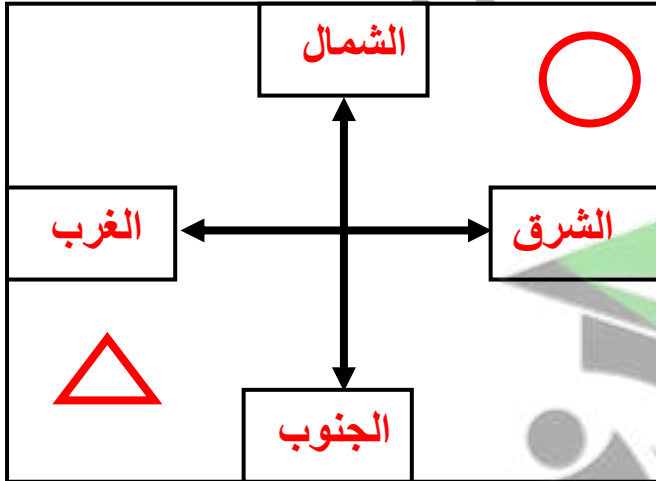
الشيخ جابر الأحمد الصباح
(أمير القلوب)

خامسا: ارسم الأشكال التالية في الشكل الذي أمامك حسب الموقع المطلوب :

اكتب الجهات الاصلية على الشكل المقابل

ارسم  في جهة الجنوب الغربي

ارسم  في جهة الشمال الشرقي



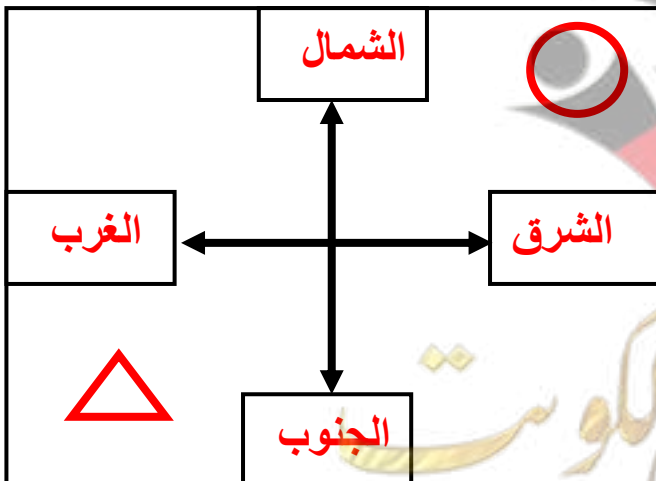
أولاً : أكمل العبارات التالية مما درست :

- ١- يبلغ عدد أعضاء مجلس الأمة ٥٠ عضواً
- ٢- الرئيس الأعلى للسلطات الثلاث هو الشيخ نواف الأحمد الصباح
- ٣- تشرق الشمس من جهة الشرق و تغرب الشمس من جهة الغرب
- ٤- الدول المجاورة دولة الكويت هي العراق و المملكة العربية السعودية
- ٥- تقع دولة الكويت في وسط العالم
- ٦- تبلغ مساحة دولة الكويت ١٧,٨١٨ كم
- ٧- البيئة البحرية علي الخريطة يمثلها اللون الأزرق و البيئة البرية يمثلها اللون الأصفر
- ٨- عدد الجزر الكويتية تسع جزر * الجزيرة الكويتية التي تقع داخل جون الكويت تسمى أم النمل
- ٩- اكبر جزيرة كويتية تسمى بوبيان * جزيرة كويتية كانت مأهولة بالسكان قديماً تسمى فيلكا
- ١٠- ترتفع درجة الحرارة في دولة الكويت في فصل الصيف وتنخفض في فصل الشتاء
- ١١- تدور الارض حول الشمس مرة كل سنة * مناخ دولة الكويت مناخ صحراوي حار
- ١٢- وسيلة انتقال آل صباح من منطقة الهدار الي قطر هي الجمال
- ١٣- وسيلة انتقال آل صباح من قطر الى الكويت هي السفينة
- ١٤- استقر آل صباح في شبه جزيرة قطر حوالي ٥٠ عاماً
- ١٥- الحد الفاصل بين الأراضي الكويتية و العراقية و السعودية يسمى وادي الباطن
- ١٦- مجموعة من الافراد يعيشون على قطعة ارض محددة و تنظمهم سلطة تسمى الدولة
- ١٧- لسان من اليباس يمتد داخل الماء يسمى الرأس
- ١٨- حالة الجو خلال فترة زمنية طويلة تسمى المناخ * حالة الجو خلال فترة زمنية قصيرة تسمى الطقس
- ١٩- مساحة من اليباس يحيط بها الماء من ثلاث جهات فقط تسمى شبه الجزيرة
- ٢٠- قطعة من اليباس تحيط بها الماء من جميع الجهات تسمى الجزيرة

ثانياً : اكتب فيما يلي :


عناصر الدولة	السلطات في دولة الكويت	أسباب هجرة آل صباح من منطقة الهدار	استخدامات الكوت قديماً	أهمية موقع دولة الكويت	فصول السنة
الارض الشعب السلطة	السلطة التشريعية --- مجلس الأمة السلطة التنفيذية --- الحكومة السلطة القضائية --- المحاكم	بسبب الجفاف و القحط	تخزين الأسلحة و الموزن	- تقع في وسط العالم - شرق الوطن العربي - المنفذ الشمالي الشرقي لشبه الجزيرة العربية	الشتاء - الربيع الصيف - الخريف

ثالثاً: ارسم الأشكال التالية في الشكل الذي أمامك حسب الموقع المطلوب :



• اكتب الجهات الاصلية على الشكل المقابل

ارسم  في جهة الجنوب الغربي

ارسم  في جهة الشمال الشرقي