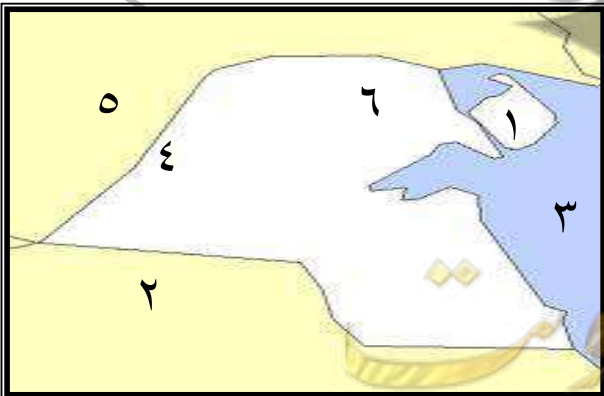


### أولاً : أكمل العبارات التالية مما درست :

- ١- تبلغ مساحة دولة الكويت \_\_\_\_\_
- ٢- يبلغ عدد أعضاء مجلس الأمة \_\_\_\_\_
- ٣- الرئيس الأعلى للسلطات الثلاث هو \_\_\_\_\_
- ٤- تشرق الشمس من جهة \_\_\_\_\_ و تغرب الشمس من جهة \_\_\_\_\_
- ٥- الدول المجاورة دولة الكويت هي \_\_\_\_\_
- ٦- تقع دولة الكويت في وسط \_\_\_\_\_
- ٧- البيئة البحرية علي الخريطة يمثلها \_\_\_\_\_ و البيئة البرية يمثلها اللون \_\_\_\_\_
- ٨- عدد الجزر الكويتية \_\_\_\_\_ \* الجزيرة الكويتية التي تقع داخل جون الكويت تسمى \_\_\_\_\_
- ٩- اكبر جزيرة كويتية تسمى \_\_\_\_\_ \* جزيرة كويتية كانت مأهولة بالسكان قديماً تسمى \_\_\_\_\_
- ١٠- ترتفع درجة الحرارة في دولة الكويت في فصل \_\_\_\_\_
- ١١- تدور الارض حول الشمس مرة كل \_\_\_\_\_ \* مناخ دولة الكويت مناخ \_\_\_\_\_
- ١٢- أول حكام دولة الكويت هو الشيخ \_\_\_\_\_
- ١٣- وسيلة انتقال آل صباح من منطقة الهدار الي قطر هي \_\_\_\_\_
- ١٤- وسيلة انتقال آل صباح من قطر الي الكويت هي \_\_\_\_\_
- ١٥- استقر آل صباح في شبه جزيرة قطر حوالي \_\_\_\_\_
- ١٦- حدثت معركة الجهراء داخل \_\_\_\_\_
- ١٧- الأمير الذي لقب بأمير القلوب يسمى الشيخ \_\_\_\_\_
- ١٨- المدرسة التي افتتحت في عهد الشيخ مبارك الصباح تسمى المدرسة \_\_\_\_\_
- ١٩- الحد الفاصل بين الأراضي الكويتية و العراقية و السعودية يسمى \_\_\_\_\_
- ٢٠- لسان من اليابس يمتد داخل الماء يسمى \_\_\_\_\_
- ٢١- حالة الجو خلال فترة زمنية طويلة تسمى \_\_\_\_\_ \* حالة الجو خلال فترة زمنية قصيرة تسمى \_\_\_\_\_
- ٢٢- مساحة من اليابس يحيط بها الماء من ثلاث جهات فقط تسمى \_\_\_\_\_
- ٢٣- قطعة من اليابس تحيط بها الماء من جميع الجهات تسمى \_\_\_\_\_

### ثانياً : أكمل المطلوب مع الاستعانة بالخريطة التي إمامك :-




- ١- المملكة العربية السعودية علي الخريطة تحمل الرقم (.....)
- ٢- جزيرة بوبيان علي الخريطة تحمل الرقم . (.....)
- ٣- وادي الباطن علي الخريطة يحمل الرقم . (.....)
- ٤- دولة العراق علي الخريطة تحمل الرقم (.....)
- ٥- الخليج العربي علي الخريطة يحمل الرقم (.....)

ثالثا : اكتب فيما يلي :


عناصر الدولة	السلطات في دولة الكويت	أسباب هجرة آل صباح من منطقة الهدار	استخدامات الكوت قديما	أهمية موقع دولة الكويت	فصول السنة

رابعا : اكتب التعليق المناسب تحت الصور التالية :-

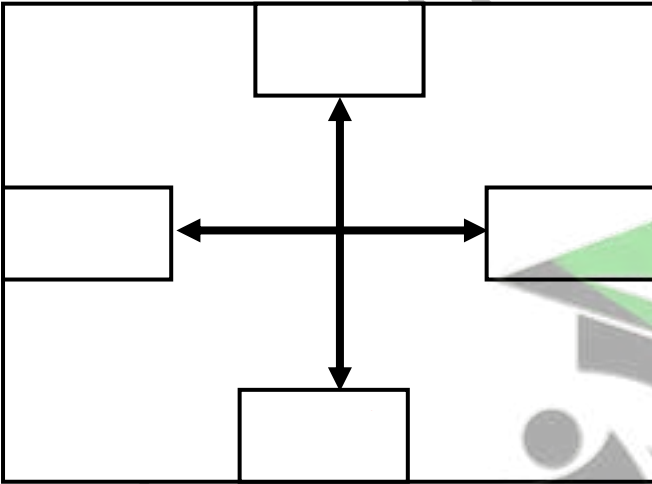


خامسا: ارسم الأشكال التالية في الشكل الذي أمامك حسب الموقع المطلوب :

اكتب الجهات الاصلية على الشكل المقابل

ارسم  في جهة الجنوب الغربي

ارسم  في جهة الشمال الشرقي



صفوة معلمى الكويت

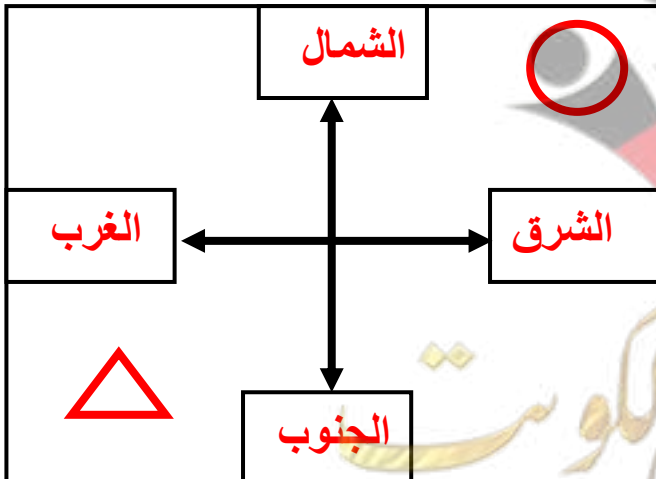
## أولاً : أكمل العبارات التالية مما درست :

- ١- يبلغ عدد أعضاء مجلس الأمة ٥٠ عضواً
- ٢- الرئيس الأعلى للسلطات الثلاث هو الشيخ نواف الأحمد الصباح
- ٣- تشرق الشمس من جهة الشرق و تغرب الشمس من جهة الغرب
- ٤- الدول المجاورة دولة الكويت هي العراق و المملكة العربية السعودية
- ٥- تقع دولة الكويت في وسط العالم
- ٦- تبلغ مساحة دولة الكويت ١٧,٨١٨ كم
- ٧- البيئة البحرية علي الخريطة يمثلها اللون الأزرق و البيئة البرية يمثلها اللون الأصفر
- ٨- عدد الجزر الكويتية تسع جزر \* الجزيرة الكويتية التي تقع داخل جون الكويت تسمى أم النمل
- ٩- اكبر جزيرة كويتية تسمى بوبيان \* جزيرة كويتية كانت مأهولة بالسكان قديماً تسمى فيلكا
- ١٠- ترتفع درجة الحرارة في دولة الكويت في فصل الصيف وتنخفض في فصل الشتاء
- ١١- تدور الارض حول الشمس مرة كل سنة \* مناخ دولة الكويت مناخ صحراوي حار
- ١٢- وسيلة انتقال آل صباح من منطقة الهدار الي قطر هي الجمال
- ١٣- وسيلة انتقال آل صباح من قطر الى الكويت هي السفينة
- ١٤- استقر آل صباح في شبه جزيرة قطر حوالي ٥٠ عاماً
- ١٥- الحد الفاصل بين الأراضي الكويتية و العراقية و السعودية يسمى وادي الباطن
- ١٦- مجموعة من الافراد يعيشون على قطعة ارض محددة و تنظمهم سلطة تسمى الدولة
- ١٧- لسان من اليباس يمتد داخل الماء يسمى الرأس
- ١٨- حالة الجو خلال فترة زمنية طويلة تسمى المناخ \* حالة الجو خلال فترة زمنية قصيرة تسمى الطقس
- ١٩- مساحة من اليباس يحيط بها الماء من ثلاث جهات فقط تسمى شبه الجزيرة
- ٢٠- قطعة من اليباس تحيط بها الماء من جميع الجهات تسمى الجزيرة

## ثانياً : اكتب فيما يلي :


عناصر الدولة	السلطات في دولة الكويت	أسباب هجرة آل صباح من منطقة الهدار	استخدامات الكوت قديماً	أهمية موقع دولة الكويت	فصول السنة
<b>الارض</b> <b>الشعب</b> <b>السلطة</b>	السلطة التشريعية --- مجلس الأمة السلطة التنفيذية --- الحكومة السلطة القضائية --- المحاكم	بسبب الجفاف و القحط	تخزين الأسلحة و الموزن	- تقع في وسط العالم - شرق الوطن العربي - المنفذ الشمالي الشرقي لشبه الجزيرة العربية	الشتاء - الربيع الصيف - الخريف

## ثالثاً: ارسم الأشكال التالية في الشكل الذي أمامك حسب الموقع المطلوب :



### • اكتب الجهات الاصلية على الشكل المقابل

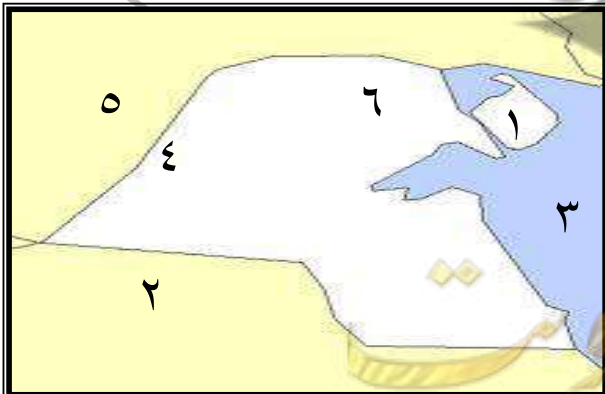
ارسم  في جهة الجنوب الغربي

ارسم  في جهة الشمال الشرقي

## أولاً : أكمل العبارات التالية مما دارست :

- ١- تبلغ مساحة دولة الكويت ١٧,٨١٨ كم
- ٢- يبلغ عدد أعضاء مجلس الأمة ٥٠ عضواً
- ٣- الرئيس الأعلى للسلطات الثلاث هو الشيخ نواف الأحمد الصباح
- ٤- تشرق الشمس من جهة الشرق و تغرب الشمس من جهة الغرب
- ٥- الدول المجاورة دولة الكويت هي العراق و المملكة العربية السعودية
- ٦- تقع دولة الكويت في وسط العالم
- ٧- البيئة البحرية علي الخريطة يمثلها اللون الأزرق و البيئة البرية يمثلها اللون الأصفر
- ٨- عدد الجزر الكويتية تسع جزر \* الجزيرة الكويتية التي تقع داخل جون الكويت تسمى أم النمل
- ٩- أكبر جزيرة كويتية تسمى بوبيان \* جزيرة كويتية كانت مأهولة بالسكان قديماً تسمى فيلكا
- ١٠- ترتفع درجة الحرارة في دولة الكويت في فصل الصيف
- ١١- تدور الأرض حول الشمس مرة كل سنة \* مناخ دولة الكويت مناخ صحراوي حار
- ١٢- أول حكام دولة الكويت هو الشيخ صباح بن جابر .
- ١٣- وسيلة انتقال آل صباح من منطقة الهدار الي قطر هي الجمال
- ١٤- وسيلة انتقال آل صباح من قطر الى الكويت هي السفينة
- ١٥- استقر آل صباح في شبه جزيرة قطر حوالي ٥٠ عاماً
- ١٦- حدثت معركة الجهراء داخل القصر الاحمر
- ١٧- الأمير الذي لقب بأمير القلوب يسمى الشيخ جابر الأحمد.
- ١٨- المدرسة التي افتتحت في عهد الشيخ مبارك الصباح تسمى المدرسة المباركية .
- ١٩- الحد الفاصل بين الأراضي الكويتية و العراقية و السعودية يسمى وادي الباطن
- ٢٠- لسان من اليابس يمتد داخل الماء يسمى الرأس
- ٢١- حالة الجو خلال فترة زمنية طويلة تسمى المناخ \* حالة الجو خلال فترة زمنية قصيرة تسمى الطقس
- ٢٢- مساحة من اليابس يحيط بها الماء من ثلاث جهات فقط تسمى شبه الجزيرة
- ٢٣- قطعة من اليابس تحيط بها الماء من جميع الجهات تسمى الجزيرة

## ثانياً : أكمل المطلوب مع الاستعانة بالخريطة التي إمامك :-



- ١- المملكة العربية السعودية علي الخريطة تحمل الرقم (.....٢.....)
- ٢- جزيرة بوبيان علي الخريطة تحمل الرقم . (.....١.....)
- ٣- وادي الباطن علي الخريطة يحمل الرقم . (.....٤.....)
- ٤- دولة العراق علي الخريطة تحمل الرقم (.....٥.....)
- ٥- الخليج العربي علي الخريطة يحمل الرقم (.....٣.....)




### ثالثا : اكتب فيما يلي :

عناصر الدولة	السلطات في دولة الكويت	أسباب هجرة آل صباح من منطقة الهدار	استخدامات الكوت قديما	أهمية موقع دولة الكويت	فصول السنة
الأرض الشعب السلطة	السلطة التشريعية --- مجلس الأمة السلطة التنفيذية --- الحكومة السلطة القضائية --- المحاكم	بسبب الجفاف و القحط	تخزين الأسلحة و المون	- تقع في وسط العالم - شرق الوطن العربي - المنفذ الشمالي الشرقي - لشبه الجزيرة العربية	الشتاء - الربيع الصيف - الخريف

### رابعا : اكتب التعليق المناسب تحت الصور التالية :-



معركة الرقة البحرية  
في عهد الشيخ عبدالله بن صباح



معركة الجهراء  
عهد الشيخ سالم المبارك



الشيخ نواف أحمد الصباح  
( حاكم دولة الكويت الحالي )




الشيخ صباح أحمد الصباح  
قائد الإنسانية عام ٢٠١٤م




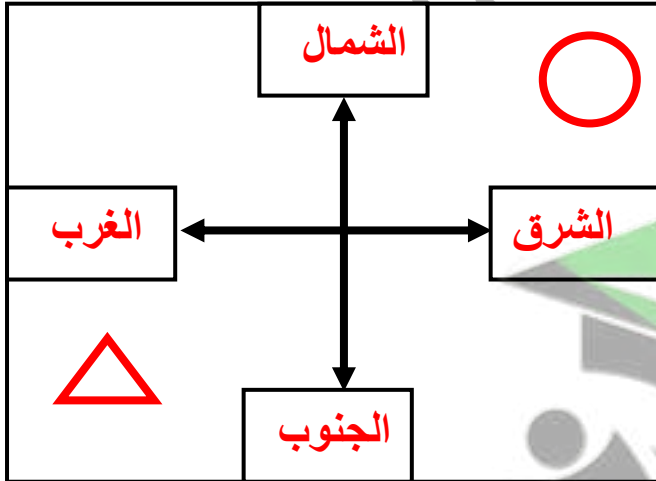
الشيخ جابر أحمد الصباح  
( أمير القلوب )

### خامسا: ارسم الأشكال التالية في الشكل الذي أمامك حسب الموقع المطلوب :

اكتب الجهات الاصلية على الشكل المقابل

ارسم  في جهة الجنوب الغربي

ارسم  في جهة الشمال الشرقي



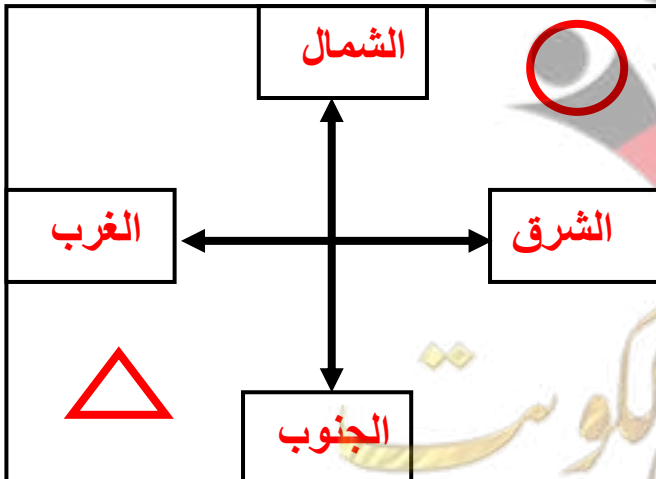
## أولاً : أكمل العبارات التالية مما درست :

- ١- يبلغ عدد أعضاء مجلس الأمة ٥٠ عضواً
- ٢- الرئيس الأعلى للسلطات الثلاث هو الشيخ نواف الأحمد الصباح
- ٣- تشرق الشمس من جهة الشرق و تغرب الشمس من جهة الغرب
- ٤- الدول المجاورة دولة الكويت هي العراق و المملكة العربية السعودية
- ٥- تقع دولة الكويت في وسط العالم
- ٦- تبلغ مساحة دولة الكويت ١٧,٨١٨ كم
- ٧- البيئة البحرية علي الخريطة يمثلها اللون الأزرق و البيئة البرية يمثلها اللون الأصفر
- ٨- عدد الجزر الكويتية تسع جزر \* الجزيرة الكويتية التي تقع داخل جون الكويت تسمى أم النمل
- ٩- اكبر جزيرة كويتية تسمى بوبيان \* جزيرة كويتية كانت مأهولة بالسكان قديماً تسمى فيلكا
- ١٠- ترتفع درجة الحرارة في دولة الكويت في فصل الصيف وتنخفض في فصل الشتاء
- ١١- تدور الارض حول الشمس مرة كل سنة \* مناخ دولة الكويت مناخ صحراوي حار
- ١٢- وسيلة انتقال آل صباح من منطقة الهدار الي قطر هي الجمال
- ١٣- وسيلة انتقال آل صباح من قطر الى الكويت هي السفينة
- ١٤- استقر آل صباح في شبه جزيرة قطر حوالي ٥٠ عاماً
- ١٥- الحد الفاصل بين الأراضي الكويتية و العراقية و السعودية يسمى وادي الباطن
- ١٦- مجموعة من الافراد يعيشون على قطعة ارض محددة و تنظمهم سلطة تسمى الدولة
- ١٧- لسان من اليباس يمتد داخل الماء يسمى الرأس
- ١٨- حالة الجو خلال فترة زمنية طويلة تسمى المناخ \* حالة الجو خلال فترة زمنية قصيرة تسمى الطقس
- ١٩- مساحة من اليباس يحيط بها الماء من ثلاث جهات فقط تسمى شبه الجزيرة
- ٢٠- قطعة من اليباس تحيط بها الماء من جميع الجهات تسمى الجزيرة

## ثانياً : اكتب فيما يلي :


عناصر الدولة	السلطات في دولة الكويت	أسباب هجرة آل صباح من منطقة الهدار	استخدامات الكوت قديماً	أهمية موقع دولة الكويت	فصول السنة
<b>الارض</b> <b>الشعب</b> <b>السلطة</b>	السلطة التشريعية --- مجلس الأمة السلطة التنفيذية --- الحكومة السلطة القضائية --- المحاكم	بسبب الجفاف و القحط	تخزين الأسلحة و الموزن	- تقع في وسط العالم - شرق الوطن العربي - المنفذ الشمالي الشرقي لشبه الجزيرة العربية	الشتاء - الربيع الصيف - الخريف

## ثالثاً: ارسم الأشكال التالية في الشكل الذي أمامك حسب الموقع المطلوب :



### • اكتب الجهات الاصلية على الشكل المقابل

ارسم  في جهة الجنوب الغربي

ارسم  في جهة الشمال الشرقي