

العام الدراسي ٢٠٢٥ - ٢٠٢٤ م

وزارة التربية
الإدارة العامة لمنطقة العاصمة التعليمية
مدرسة سالم الحسينان المتوسطة بنين

(أسئلة مراجعة للصف السادس * مادة الاجتماعيات) (الفصل الدراسي الأول)

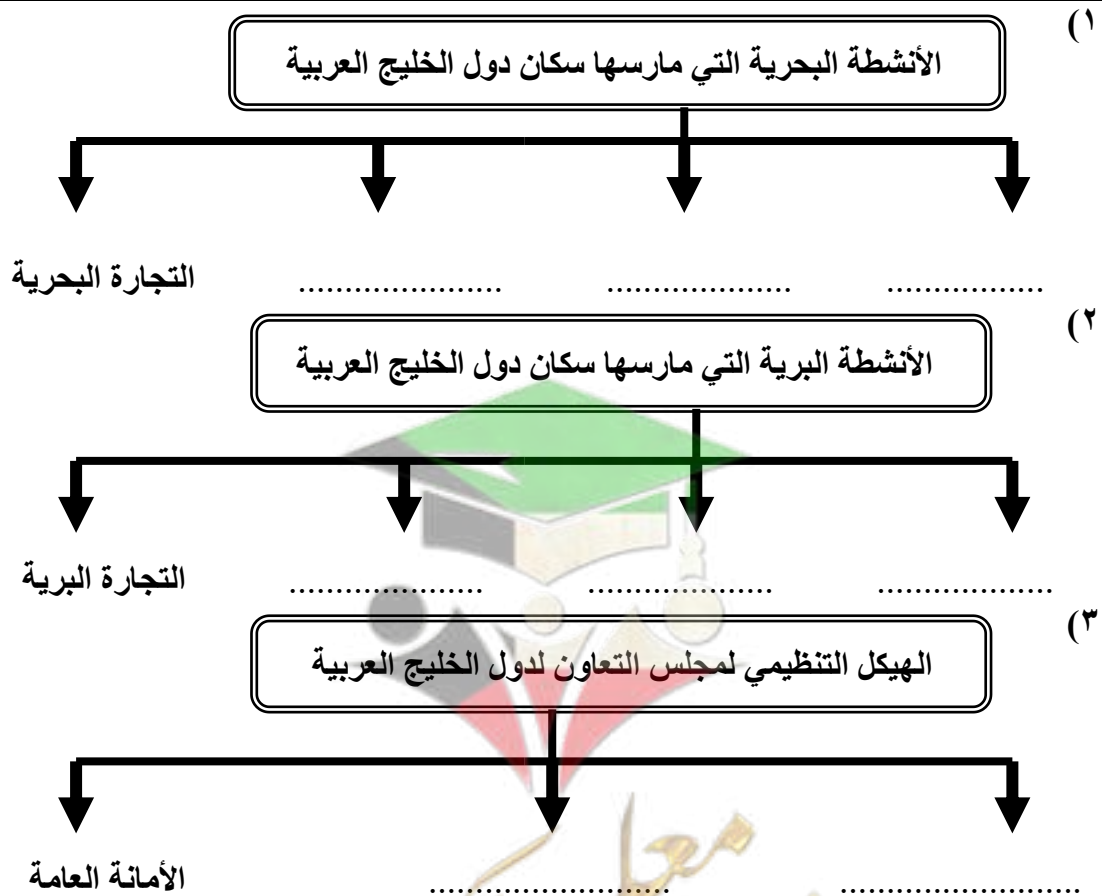
السؤال الأول :- عرف المفاهيم التالية :-

| | | |
|-------|------------------|-----|
| | الخليج العربي | -١ |
| | الموقع الفلكي | -٢ |
| | الموقع النسبي | -٣ |
| | خطوط الطول | -٤ |
| | دوائر العرض | -٥ |
| | الجبل | -٦ |
| | الهضبة | -٧ |
| | السهل | -٨ |
| | المناخ | -٩ |
| | النبات المعمر | -١٠ |
| | النبات الحولي | -١١ |
| | المياه الجوفية | -١٢ |
| | الواحة | -١٣ |
| | المسطحات المائية | -١٤ |
| | القلاف | -١٥ |
| | الطواش | -١٦ |
| | النوخة | -١٧ |
| | المجمدي | -١٨ |

صفوة معلمي الكويت

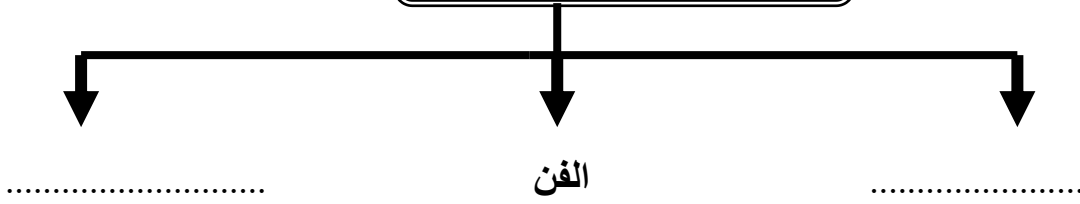
| | | |
|-------|------------------|-----|
| | النهام | -١٩ |
| | السيب | -٢٠ |
| | الحضارة | -٢١ |
| | القليب أو الجليب | -٢٢ |
| | الاستعمار | -٢٣ |
| | الاستقلال | -٢٤ |
| | الديمقراطية | -٢٥ |
| | مجلس التعاون | -٢٦ |

السؤال الثاني :- أكمل المخططات السهمية التالية :-



صفوة معلمي الكويت

مظاهر الحضارة الإسلامية



السؤال الثالث :- أ - قارن بين كل من :-

| دوائر العرض | خطوط الطول | وجه المقارنة |
|----------------|----------------|--------------|
| | | التعريف |
| | | الخط الرئيسي |
| | | العدد |

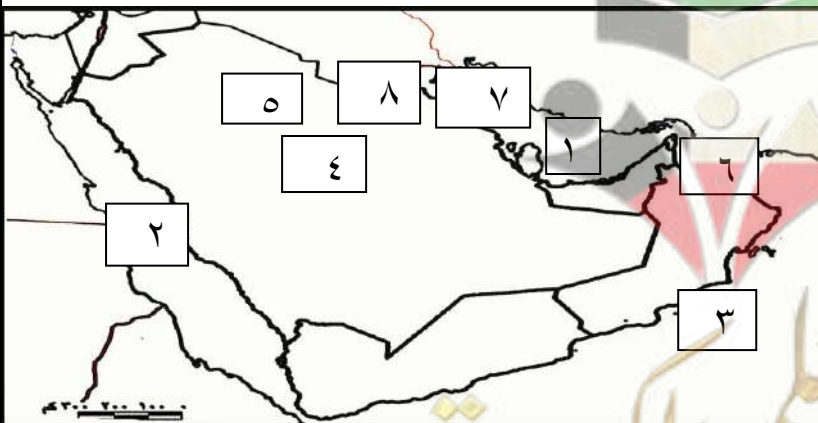
| النبات الحولي | النبات المعمر | وجه المقارنة |
|----------------|----------------|--------------|
| | | التعريف |
| | | أمثلة |

السؤال الرابع :- علل لما يأتي :-

- ١- أهمية الموقع الجغرافي لمنطقة الخليج العربية :-
.....
- ٢- فقر الحياة النباتية والحيوانية بصفة عامة في دول الخليج العربية :-
.....
- ٣- توفر النباتات المعمرة طول العام في دول الخليج العربية :-
.....

- ٤- تحمل النباتات المعمرة الجفاف وارتفاع درجة الحرارة : -
- ٥- كانت حياة السكان في البيئة الصحراوية لدول الخليج العربية قاسية وخشنة :
- ٦- تشابه الأعمال التي قام بها أبناء دول الخليج العربية قديماً :-
- ٧- ممارسة سكان دول الخليج العربية الأنشطة التجارية وتميزهم فيها : -
- ٨- مهنة الغوص على اللؤلؤ من أشهر الحرف التي مارسها أبناء دول الخليج العربية قديماً :-
- ٩- انصراف سكان دول الخليج العربية عن حرفة الغوص على اللؤلؤ:-
- ١٠- سفينة البغلة هي أفضل أنواع السفن المستعملة في رحلة السفر :-
- ١١- ازدهار مدن الخليج العربية :-
- ١٢- تنافس الدول الاستعمارية على منطقة الخليج العربي :-
- ١٣- جذب الهجرات من شبه الجزيرة العربية الى منطقة الخليج العربية :-
- ١٤- قيام الشيخ مبارك الصباح بتوقيع اتفاقية الحماية مع بريطانيا عام ١٨٩٩م
- ١٥- إنشاء مجلس التعاون لدول الخليج العربية :-

السؤال الخامس :- علي الخريطة الصماء التي أمامك حدد ما يلي:-



- يشير الرقم ١ الى
- يشير الرقم ٢ الى
- يشير الرقم ٣ الى
- يشير الرقم ٤ الى
- يشير الرقم ٥ الى
- يشير الرقم ٦ الى
- يشير الرقم ٧ الى
- يشير الرقم ٨ الى

صفوة معلمي الكوئب

السؤال السادس :- أجب عن الأسئلة التالية :-

١- أنواع الرياح التي تهب على دول الخليج العربية :-

.....

٢- ما هي أهم الحرف اليدوية التي مارسها أبناء دول الخليج العربية قديماً :-

.....

٣- ما هي وسائل الصيد القديمة في دول الخليج العربية :-

.....

٤- ما أهم السفن قديماً في دول الخليج العربية :-

.....

٥- ما أهم البضائع المستوردة في دول الخليج العربية قديماً :-

.....

٦- ما هي العوامل المؤثرة في نشأة الحضارات في منطقة الخليج العربية :-

أ-

ب-

ج-

٧- ما أهداف مجلس التعاون لدول الخليج العربية :-

أ-

ب-

ج-

٨- اكتب أهم إنجازات مجلس التعاون لدول الخليج العربية :-

أ-

ب-

ج-

د-

هـ-



صفوة معلمى الكويت

السؤال السابع: - أكمل ما يأتي :

- ١ - تقع منطقة الخليج العربية في الجهة الجنوبية الغربية من قارة
- ٢ - يسقط المطر على الجبل الأخضر وجبال عسير في فصل
- ٣ - يبدأ موسم الغوص في شهر و تسمى بداية موسم الغوص بـ
- ٤ - ينتهي موسم الغوص في شهر و تسمى نهاية موسم الغوص بـ
- ٥ - كان يطلق على صانع السفينة اسم
- ٦ - الدولة التي يوجد بها الجبل الأخضر هي
- ٧ - الدولة التي يوجد بها هضبة نجد هي
- ٨ - تعرف الرياح الجنوبية الشرقية باسم
- ٩ - درجات العرض التي تشغلها شبه الجزيرة العربية شمال خط الإستواء
- ١٠ - يتصف مناخ منطقة الخليج العربية بأنه
- ١١ - الحرفة التي تعتبر أساسية ومكملة للأنشطة البحرية هي
- ١٢ - صغار السن وهو المساعد للسبب في السفن الكبيرة هو
- ١٣ - اطلق على الخليج العربي قديما أو
- ١٤ - وقع الشيخ مبارك الصباح اتفاقية الحماية مع في عام م .
- ١٥ - الفترة الزمنية التي امتدت خلالها حضارة منطقة الخليج العربية ٤٠ قرناً .
- ١٦ - تم إنشاء مجلس التعاون لدول الخليج العربية في مدينة عام م .
- ١٧ - يوجد مقر مجلس التعاون لدول الخليج العربية في مدينة
- ١٨ - أول دولة أوروبية استعمارية وصلت للخليج العربي هي
- ١٩ - الحضارة التي اشتهرت بأفغان صهر المعادن هي
- ٢٠ - تم انطلاق السوق الخليجي المشترك في يناير عام م .
- ٢١ - حصلت الكويت على استقلالها عام م في عهد الشيخ
- ٢٢ - القرن الذي ظهر فيه الدين الإسلامي هو الميلادي .
- ٢٣ - حصلت البحرين وقطر وعمان والإمارات على الاستقلال في عام م .
- ٢٤ - الدولة الخليجية التي لم تخضع للاستعمار وأعلن قيامها عام م .

