



الصف الرابع



إعداد

أحمد علي

٠٢٤٨٤٨١



تواصل واتساب



TikTok



تواصل تيليجرام

سلسلة

(أ-أحمد علي)
(مديتر تا ريخ)

الاجتماعيات

والتاريخ

والجغرافيا

والفلسفة

وعلم النفس



إرشادات عامة

- ❖ تنقسم مذكرة مستر تاريخ إلى جزئين
- مذكرة الشرح الكامل لكل درس من دروس الفصل الثاني
- الجزء الثاني يحتوي على نماذج اختبارات للدروس والتي تساعد الطالب في التدرب على حل وفهم الاسئلة التي سيتعامل معها بالاختبارات
- ❖ يوجد اختبارات قصيرة ليتدرب الطالب عليها
- ❖ الصور الموجودة بالمذكرة جميعها هامة سبق وجودها في الاختبارات المختلفة ويجب التركيز عليها
- ❖ تحتوي المذكرة على تدريبات مختلفة للخرائط حتى يتقن الطالب التعامل معها وينتهي عدم الفهم والخوف من إجابة سؤال الخرائط
- ❖ لمزيد من الشرح والتوضيح يمكنكم الاشتراك في منصة فيديوهات أ/محمد علي وقناة اليوتيوب والتي تحتوي على فيديوهات شرح مفصل لكل درس بطريقة جذابة ومبسطة تناسب جميع الطلاب



تواصل واتساب



TikTok



تواصل تيليجرام الثانوي

الحين تقدر تشاهد فيديوهات

شرح كل دروس الصف الرابع وجميع صفوف المتوسط شرح

مبسطة تفهمه بسرعة بتكلفة اشتراك بسيطة لجميع

الفيديوهات طوال الكورس

للاشتراك اتصل على ٥٠٢٤٨٤٨١



@MOHAUSSAL

تواصل تيليجرام المتوسط



الوحدة الأولى : بلاد الكويت

الدرس الأول : مفهوم الدولة

أهم المعلومات التي يجب دراستها



امسح الباركود وشاهد الدرس

عرف الدولة (تأتي بشكل عرف - أكمل - أختار - صوب - اكتب المفهوم)
مجموعة من الأفراد يعيشون على أرض محددة، وتنظمهم سلطة

العناصر المكونة للدولة (تأتي بشكل أكمل المخطط السهمي) سؤال مهم

الشعب	السلطة	الارض
-------	--------	-------

اسماء السلطات في دولة الكويت

السلطة القضائية	السلطة التنفيذية	السلطة التشريعية
-----------------	------------------	------------------



١. الرئيس الأعلى للدولة يسمى صاحب السمو أمير البلاد

٢. رئيس السلطات الثلاث يسمى صاحب السمو أمير البلاد

٣. تتمثل السلطة التشريعية في مجلس الأمة

٤. تتمثل السلطة التنفيذية في الحكومة

٥. تتمثل السلطة القضائية في المحاكم

٦. يبلغ عدد أعضاء مجلس الأمة ٥٠ عضواً

٧. يتم انتخاب أعضاء مجلس الأمة مرة كل أربع سنوات.



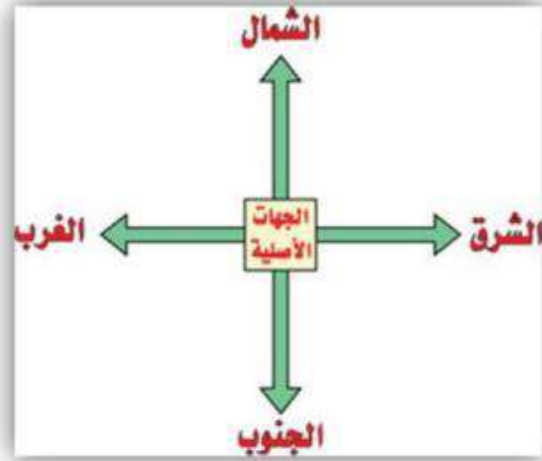


الدرس الثاني : مساحة وحدود بلادي الكويت

أهم المعلومات التي يجب دراستها

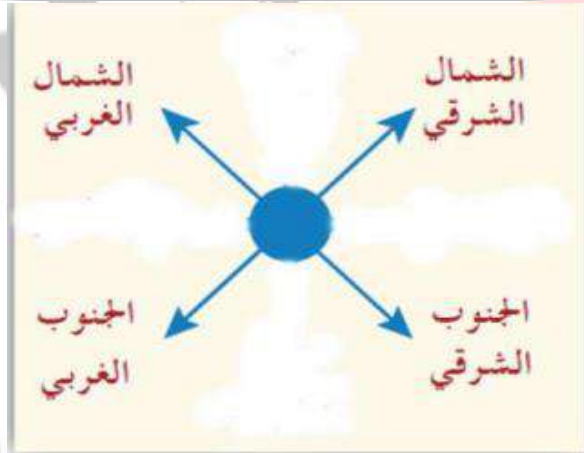
عرف المضيق

منفذ أو ممر ضيق من الماء يفصل بين مسطحين مائيين .



عدد الاتجاهات الرئيسية

١. الشمال
- ٢-الجنوب
- ٣- الشرق
- ٤- الغرب



الاتجاهات الفرعية

- ١- الشمال الشرقي
- ٢- الجنوب الشرقي
- ٢-الشمال الغربي
- ٤-الجنوب الغربي

علل : فائدة الاتجاهات الرئيسية والفرعية

- ١- التعرف إلى مواقع بلادي
- ٢- التعرف على اتجاه القبلة
- ٣- التعرف على الدول التي تحيط بنا واتجاه الخليج العربي

أكمل : اتجاه القبلة في دولة الكويت هو جنوب غربي

عناصر الخريطة

مقياس الخريطة

مفتاح الخريطة

اتجاه الشمال

عنوان الخريطة





عنوان الخريطة



اتجاه الشمال

مفتاح الخريطة

مقياس الخريطة

* تبلغ مساحة دولة الكويت ١٧,٨١٨ كم^٢

* الدولة التي تحد الكويت من الشمال والشمال الغربي تسمى العراق

* الدولة التي تحد الكويت من الجنوب والجنوب الغربي تسمى المملكة العربية السعودية

عدد مميزات سطح دولة الكويت

١- يتميز بالاستواء

٢- ينحدر سطحها تدريجياً من الغرب إلى الشرق

٣- يتكون سطحها من سهول رملية وبعض التلال

٤- تتميز بوجود ساحل رملي منبسط



عرف الخور

لسان بحري ممتد داخل الأرض.

أكبر الخيران في شمال الخليج العربي يسمى جون الكويت

شاهد الخريطة واجب :

١- مسطح مائي يحد دولة الكويت من جهة الشرق يسمى الخليج العربي

٢- دولة تقع في جهة الشمال والشمال الغربي لدولة الكويت العراق

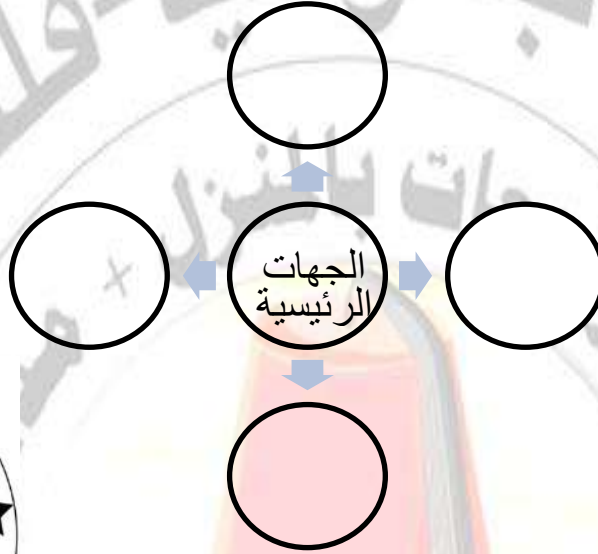
٣- دولة تقع في جهة الجنوب والجنوب الغربي لدولة الكويت السعودية





وزارة التربية
توجيه الاجتماعيات
اختبار (١) فترة الأسابيع الست الأولى
الاسم :
الصف :
الصف الرابع الابتدائي

السؤال الأول : أكمل الجهات الأصلية في الشكل الذي أمامك

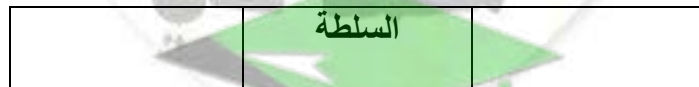


السؤال الثاني : أكمل ما يلي :

١. رئيس السلطات الثلاث يسمى
٢. يبلغ عدد أعضاء مجلس الأمة
٣. يتم انتخاب أعضاء مجلس الأمة مرة كل سنوات.
٤. الدولة التي تحد الكويت من الشمال والشمال الغربي تسمى
٥. تبلغ مساحة دولة الكويت كم^٢
٦. أكبر الخيران في شمال الخليج العربي يسمى

السؤال الثالث : أكمل المخطط السهمي

العناصر المكونة للدولة



اسماء السلطات في دولة الكويت

السلطة التنفيذية	
------------------	--

عناصر الخريطة

عنوان الخريطة	مفتاح الخريطة
---------------	---------------



السؤال الرابع : اجب عما يلي :

أ- عرف ما يلي :

الدولة :

.....

المضيق :

.....

الخور :

.....

ب - رتب الكلمات واستنتج معلومة صحيحة.

(سطح - يتميز - دولة الكويت - بالاستواء)

.....

ج- علل : فائدة الاتجاهات الرئيسية والفرعية

.....

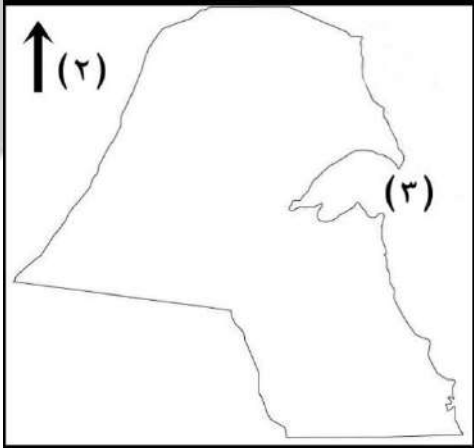
.....

د- لاحظ خريطة دولة الكويت ثم نفذ المطلوب :

الخليج العربي يحمل الرقم

دولة العراق تحمل الرقم

دولة السعودية تحمل الرقم





الدرس الثالث : أهمية موقع بلادي الكويت

أهم المعلومات التي يجب دراستها

عرف شبه الجزيرة

مساحة من اليابس يحيط بها الماء من ثلاث جهات فقط

عدد أهمية موقع الكويت



١- تحتل موقع متوسط بالنسبة للعالم .

٢- تمثل المعبر التجاري بين خطوط الملاحة البحرية والبرية قديما.

٣- تقع في الجزء الشرقي للوطن العربي.

٤- تقع في الطرف الشمالي الغربي للخليج العربي.

٥- المنفذ الشمالي الشرقي لشبه الجزيرة العربية.

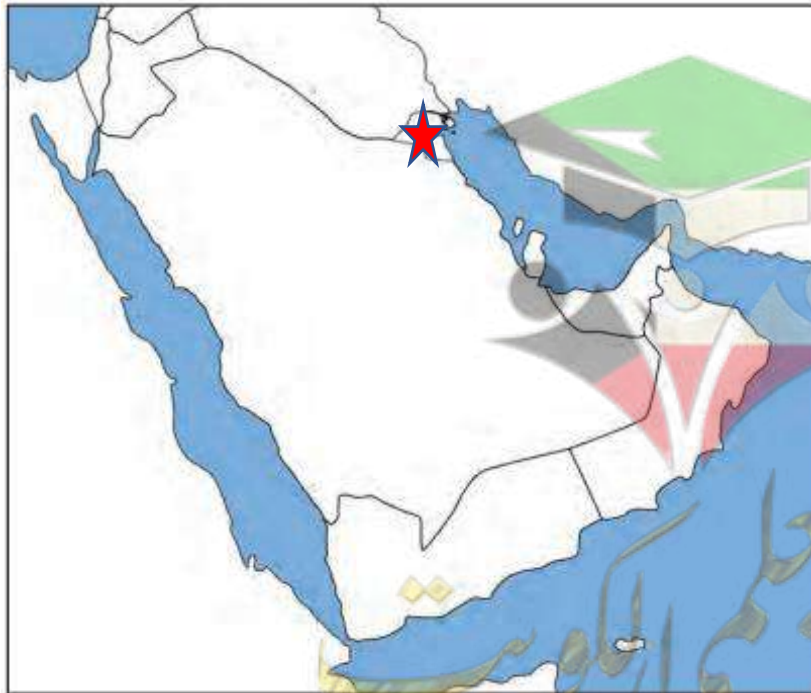
أكمل :

١- تقع الكويت بالنسبة للوطن العربي في اتجاه الجزء الشرقي.

٢- تقع الكويت بالنسبة للخليج العربي في اتجاه الطرف الشمالي الغربي

٣- تقع الكويت بالنسبة لشبه الجزيرة العربية في اتجاه الشمالي الشرقي

٤- تشرق الشمس من جهة الشرق



ضع نجمة على دولة الكويت بالنسبة لشبه

الجزيرة العربية



الدرس الرابع : بيئة بلادي الكويت

أولاً : جزر بلادي الكويت

أهم المعلومات التي يجب دراستها



عرف الجزيرة

قطعة من اليابسة يحيط بها الماء من جميع الجهات .

أكمل :

عدد الجزر في دولة الكويت ٩ جزر

أكبر جزيرة في الكويت تسمى بوبيان.

الجزيرة المأهولة بالسكان تسمى جزيرة فيلكا

الجزيرة التي تقع داخل جون الكويت تسمى أم النمل

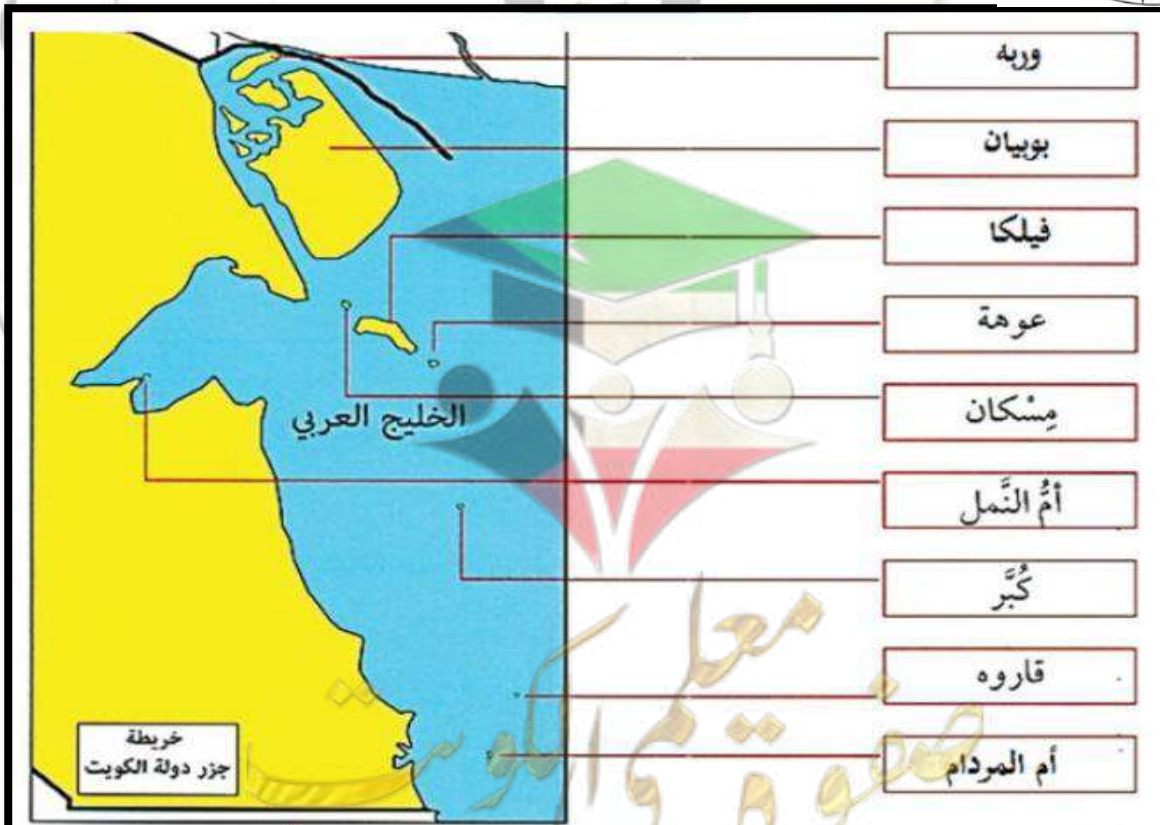
الرأس التي تقع داخل جون الكويت تسمى رأس عشرين



عرف الرأس

لسان من اليابس يمتد داخل الماء

خريطة جزر الكويت





ثانياً : تضاريس بلادنا

عرف المفاهيم التالية :

التضاريس: أشكال سطح الأرض من مرتفعات ومنخفضات

السهل : أرض مستوية المساحة وواسعة.

الوادي : منخفض طولي بين منطقتين مرتفعتين .

التل : أرض مرتفعة قليلا عن مستوى الأراضي المحيطة بها.

ينحدر سطح الكويت تدريجيا من الغرب إلى الشرق

تضاريس دولة الكويت

الاوودية ← وادي الباطن (وهو الحد الفاصل بين الحدود الكويتية - العراقية - السعودية)

السهول ← سهل الدببة ← غرب الكويت

التلال ← تلال جال الزور ← جهة الشمال

الصور الهامة

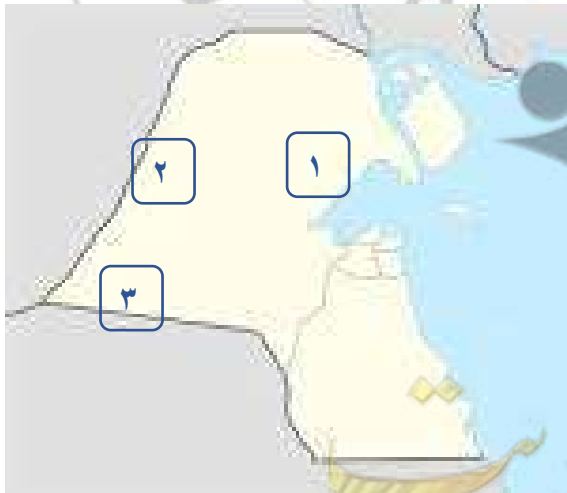


التل



الوادي

الخريطة



سهل الدببة الرقم ٣

تلال جال الزور الرقم ١

وادي الباطن الرقم ٢



ثالثاً : مناخ بلادنا

فرق بين :

المناخ	الطقس
المناخ هو حالة الجو خلال فترة زمنية طويلة لا تقل عن ثلاثين عام	حالة الجو خلال فترة قصيرة من يوم إلى أسبوع

مناخ الكويت شتاءً	مناخ الكويت صيفاً
بارد شتاء قليل الأمطار	حار جاف صيف

المناخ الذي تقع فيه دولة الكويت يسمى المناخ الصحراوي الحار.
عدد دورات الأرض حول الشمس خلال العام مرة واحدة

ما النتائج المترتبة على : أن الأرض تدور حول الشمس مرة كل سنة
وينتج عن هذا الدوران الفصول الأربعة وهي: الشتاء والربيع والصيف والخريف



الفصول الأربعة





السؤال الأول : أكمل ما يلي :

- ١- تقع الكويت بالنسبة للوطن العربي في اتجاه
- ٢- تقع الكويت بالنسبة لشبه الجزيرة العربية في اتجاه
- ٣- عدد الجزر في دولة الكويت
- ٤- أكبر جزيرة في الكويت تسمى
- ٥- الجزيرة المأهولة بالسكان تسمى
- ٦- الجزيرة التي تقع داخل جون الكويت تسمى
- ٧- منخفض طولي بين منطقتين مرتفعتين يسمى
- ٨- المناخ الذي تقع فيه دولة الكويت يسمى
- ٩- الحد الفاصل بين الحدود الكويتية - العراقية - السعودية

السؤال الثاني : صنف ما يلي حسب موقعه بالجدول

جال الزور - بوبيان - وادي الباطن - كبر - الدبدبة

الجزر	الادوية	السهول	التلال





السؤال الرابع : اجب عما يلي :

أ- عرف ما يلي :

الرأس :

السهل :

التضاريس :

التل :

ب- علل : عدد أهمية موقع الكويت

ج- فرق بين :

المناخ	الطقس

مناخ الكويت شتاءً	مناخ الكويت صيفاً

الجزيرة	شبه الجزيرة

د- ما النتائج المترتبة على : أن الأرض تدور حول الشمس مرة كل سنة






الوحدة الثانية : نشأة بلاد الكويت

الدرس الأول : قصة بلادي الكويت (١)

أهم المعلومات التي يجب دراستها

عرف الكوت

تصغيرا لكلمة كوت وهو الحصن الصغير الذي يستخدم لتخزين الأسلحة والمؤن



- الصورة المقابلة تمثل الكوت

- معنى كلمة الكويت هو تصغيرا لكلمة كوت

- اسم الكويت القديم والشائع كانت تسمى القرين

- معنى كلمة القرين هو تصغير القرن.

- اسم القرين اختفى تدريجيا وجاء اسم الكويت

فرق بين :

القرين	الكويت
تصغير القرن	تصغير الكوت





الدرس الثاني : قصة بلادي الكويت (٢)

أهم المعلومات التي يجب دراستها



المنطقة التي هاجر منها آل صباح و الأسر العربية تسمى منطقة الهدار.

المنطقة التي تقع بها الهدار تسمى نجد

المنطقة الأولى التي هاجر إليها آل صباح تسمى شبه جزيرة قطر.

وسيلة السفر التي استخدمها آل صباح للسفر لقطر تسمى الجمال



هاجر آل صباح من قطر إلى منطقة تسمى الصببية

وسيلة السفر التي استخدمها آل صباح للسفر لقطر تسمى السفن

المنطقة التي هاجر واستقر بها آل صباح بعد الصببية تسمى القرين

علل : أسباب الهجرة آل صباح

بسبب الجفاف والقحط

علل تسمية آل صباح بالعتوب

بسبب كثرة ارتحالهم.



القصر الذي سكنت فيه أسرة الصباح في منطقة الهدار

بمحافظة الأفلاج يسمى قصر صباحا

الصورة القابلة تمثل قصر صباحا

استخدم الخريطة التالية وحدد عليها :

١ دولة الكويت

٢ منطقة الهدار

٣ دولة قطر





الدرس الثالث : حكام برادي الكويت

أهم المعلومات التي يجب دراستها

أول حكام دولة الكويت يسمى الشيخ صباح بن جابر العام الميلادي الذي تولى فيه الشيخ صباح الحكم عام ١٧٥٢م الحاكم الذي إليه تنسب أسرة آل صباح يسمى الشيخ صباح بن جابر عدد الحكام من أبناء الشيخ صباح بن جابر هو ١٤ حاكم

علل : اختيار الشيخ صباح بن جابر للحكم

لأنه يتمتع بصفات قيادية وحكمة ونظرة ثاقبة

اذكر دور آل الصباح في إنماء وازدهار الكويت

- ١- كان لهم دور كبير في نمو التجارة وازدهارها بحكم موقع الكويت المميز
- ٢- أصبحت الكويت أرضا جاذبة للسكان.





أهم الأحداث في تاريخ حكام بلادي الكويت



وقعت معركة الرقة البحرية في عام ١٧٨٣م.

الحاكم الذي حدث في عهده معركة الرقة البحرية يسمى الشيخ عبدالله بن صباح (عبدالله الأول)



تمثل الصورة المقابلة مدرسة المباركية

أنشئت مدرسة المباركية في عام ١٩١١م

مدرسة المباركية افتتحت في عهد الشيخ مبارك الصباح



تمثل الصورة المقابلة سور الكويت الثالث

شيد سور الكويت الثالث في عام ١٩٢٠م.

تمثل الصورة المقابلة القصر الأحمر

المعركة التي وقعت في القصر الاحمر تسمى معركة الجهراء

الحاكم الذي وقعت في عهده معركة الجهراء يسمى الشيخ سالم المبارك

وقعت معركة الجهراء في عام ١٩٢٠م



علل أهمية القصر الاحمر

دارت فيه معركة الجهراء في عهد الشيخ سالم المبارك



المدرسة الأحمديّة افتتحت عام ١٩٢١م.

افتتحت المدرسة الأحمديّة في عهد الشيخ أحمد الجابر الصباح

تمثل الصورة المقابلة الشيخ جابر الأحمد الجابر

الحاكم الذي تم في عهده تحرير دولة الكويت الشيخ جابر الأحمد

لقب الشيخ جابر الأحمد بلقب أمير القلوب

تم تحرير دولة الكويت في عام ١٩٩١م.



الحاكم الذي تم اختياره قائدا للعمل الإنساني من الأمم المتحدة يسمى الشيخ صباح الأحمد

تم اختيار الشيخ صباح الأحمد قائدا للعمل الإنساني في عام ٢٠١٤م






وزارة التربية
توجيه الاجتماعيات
اختبار (٣) فترة الأسابيع الست الأولى
الاسم :
الصف :

السؤال الأول : ضع علامة (√) أمام العبارات الصحيحة و علامة (x) أمام العبارات الخاطئة :

م	العبرة	العلامة
١	أول حاكم لبلادي الكويت هو الشيخ صباح بن جابر .	
٢	أصبحت دولة الكويت أرضاً جاذبة للسكان لموقعها المميز و ازدهار التجارة مع حكم آل الصباح	
٣	معركة الرقة البحرية حدثت في عهد الشيخ عبدالله الثاني .	
٤	المدرسة الأحمدية افتتحت في عهد الشيخ جابر الأحمد .	
٥	تحرير دولة الكويت حدث عام ١٩٩٠ م .	
٦	لقب الشيخ صباح الأحمد بأمير القلوب.	

السؤال الثاني :- صل بين المجموعتين برسم خط بينهما :-



انتقل آل الصباح من شبه منطقة الهدار إلى
شبه جزيرة قطر بواسطة

المدرسة
المباركية

انتقل آل الصباح من شبه جزيرة
قطر إلى الكويت بواسطة

الكوت

سور الكويت
الثالث



السؤال الثالث : أكمل العبارات التالية

- ١- المنطقة التي هاجر منها آل صباح و الأسر العربية تسمى منطقة
- ٢- المعركة التي وقعت في القصر الاحمر تسمى
- ٣- لقب الشيخ جابر الأحمد بلقب
- ٤- وقعت معركة الجهراء في عام

السؤال الرابع : أجب عما يلي :

أ- فرق بين :

القرين	الكويت

ب - علل ما يلي :

١- تسمية آل صباح بالعتوب

٢- علل أهمية القصر الاحمر

٣- اختيار الشيخ صباح بن جابر للحكم

ج- اذكر دور آل الصباح في إنماء وازدهار الكويت

د- عرف الكوت :





الدرس الرابع : الاتفاقية الكوينية البريطانية عام ١٨٩٩م

أهم المعلومات التي يجب دراستها



الحاكم الكويتي السابع لدولة الكويت يسمى الشيخ مبارك الصباح

الحاكم الكويتي الذي تطورت إمارة الكويت في عهده في كافة مجالات الحياة يسمى الشيخ مبارك الصباح

الحاكم الذي تم في عهده توقيع اتفاقية ١٨٩٩م مع بريطانيا يسمى الشيخ مبارك الصباح

العام الذي تم فيه توقيع اتفاقية الحماية هو ١٨٩٩م

عدد ألقاب الشيخ مبارك الصباح

١- مبارك الكبير
٢- أسد الجزيرة

عدد بنود اتفاقية الحماية ١٨٩٩م

-التزام بريطانيا بحماية الكويت

-عدم تنازل الشيخ مبارك وورثته عن بيع أو إيجار أو رهن أي جزء من إقليمه دون موافقة الحكومة البريطانية

أطراف الاتفاقية

- الكويت
- بريطانيا





الدرس الخامس: استنقلال برادي الكويت

أهم المعلومات التي يجب دراستها

عرف الاستقلال

مسؤولية الدولة بصورة مباشرة عن إدارة شؤونها الداخلية والخارجية



حاكم دولة الكويت الحادي عشر يسمى الشيخ عبدالله السالم الصباح (١٩٦٥-١٩٥٠م)

الحاكم الذي قام بإلغاء معاهدة ١٨٩٩م يسمى الشيخ عبدالله السالم الصباح

الحاكم الذي قام بتوقيع اتفاقية الصداقة والتشاور مع بريطانيا يسمى الشيخ عبدالله السالم الصباح

المقيم البريطاني السامي الذي قام بتوقيع اتفاقية الصداقة والتشاور يسمى جورج ميدلتون

حصلت دولة الكويت على استقلالها في تاريخ ١٩-٦-١٩٦١

اللقب الذي لقب به الشيخ عبدالله السالم بعد استقلال الكويت هو أبو الاستقلال

عدد الإنجازات الداخلية في عهد الشيخ عبدالله السالم الصباح



انضمام دولة الكويت لجامعة الدول العربية



التصديق على الدستور

* افتتاح ثانوية الشويخ.

* بناء مستشفى الصباح.

* وضع الدستور.

* افتتاح مجلس الأمة .

عدد الإنجازات الخارجية



إنشاء مستشفى الصباح



إنشاء ثانوية الشويخ

* الانضمام إلى جامعة الدول العربية عام ١٩٦١م.

* الانضمام إلى هيئة الأمم المتحدة في عام ١٩٦٣م



انضمام دولة الكويت للأمم المتحدة





الدرس السادس رموز بلادي الكويت (١)

أهم المعلومات التي يجب دراستها

١- النشيد الوطني

بدأ استخدام النشيد الوطني الكويتي في ٢٥ فبراير عام ١٩٧٨م

الحاكم الذي بدأ استخدام النشيد الوطني الكويتي في عهده يسمى الشيخ جابر الأحمد الصباح

مؤلف النشيد الوطني يسمى الشاعر أحمد العدواني

الملحن الذي لحن موسيقى النشيد الوطني يسمى إبراهيم الصولة

علل : أهمية النشيد الوطني

- أحد أهم الرموز الوطنية للدولة

-يقوم بدور كبير في رفع الروح المعنوية للشعب، ولكل دولة مستقلة نشيد



٢- العلم

الصورة المقابلة تمثل العلم الأحمر

الكلمة المكتوبة على العلم الاحمر تسمى كويت

رفع العلم الأحمر في عام ١٩١٤م

الصورة المقابلة تمثل العلم الحالي

رفع العلم الحالي في عام ١٩٦١م

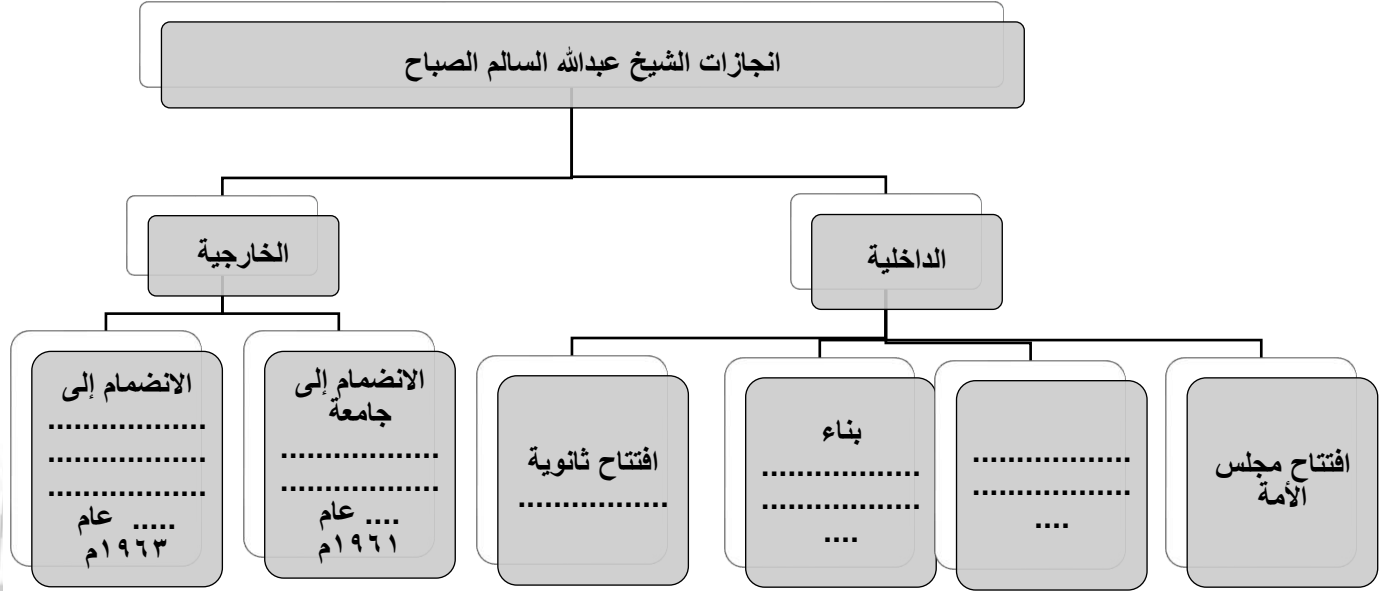
عدد ألوان العلم الحالي هي ٤ ألوان





وزارة التربية
توجيه الاجتماعيات
اختبار (٤) فترة الأسابيع الست الأولى
الاسم :
الصف :

السؤال الأول : أكمل المخطط السهمي التالي :



السؤال الثاني : صوّب ما تحته خط في العبارات التالية :

م	العبرة	التصويب
١	أصبحت إمارة الكويت ذات مكانة قوية في عهد الشيخ محمد الصباح .	
٢	لقّب الشيخ مبارك الصباح بعدة ألقاب منها أبو الدستور .	
٣	وقّع الشيخ مبارك الصباح اتفاقية عام ١٨٩٩م مع الهند .	
٤	من شروط الاتفاقية الكويتية البريطانية ١٨٩٩م إلّتزام بريطانيا بحماية البحرين .	





السؤال الثالث : أكمل العبارات التالية

- ١-الحاكم الذي تم في عهده توقيع اتفاقية ١٨٩٩م مع بريطانيا يسمى
- ٢- العام الذي تم فيه توقيع اتفاقية الحماية هو
- ٣- اللقب الذي لقب به الشيخ عبدالله السالم بعد استقلال الكويت هو _
- ٤- بدأ استخدام النشيد الوطني الكويتي في ٢٥ فبراير عام
- ٥- الحاكم الذي بدأ استخدام النشيد الوطني الكويتي في عهده يسمى
- ٦- مؤلف النشيد الوطني يسمى الشاعر
- ٧-الملحن الذي لحن موسيقى النشيد الوطني يسمى



السؤال الرابع : أجب عما يلي :

أ- قارن بين :

العلم الحديث	العلم القديم	أوجه المقارنة
		الشكل و اللون
		سنة الاستخدام

ب- عدد بنود اتفاقية الحماية ١٨٩٩م

-
-

ج- عرف الاستقلال

د- علل : أهمية النشيد الوطني

-
-



الدرس السابع رموز بلادي الكويت (٢)

أهم المعلومات التي يجب دراستها

٣- شعار بلادي الكويت



الصورة المقابلة تمثل الشعار الأول

الشيخ الذي اعتمد في عهده الشعار الاول يسمى الشيخ أحمد الجابر

اعتمد الشعار الاول عام ١٩٢١ م



الصورة المقابلة تمثل الشعار الثاني

الشعار الثاني اعتمد في عام ١٩٤٠ م.



-ترتيب الشعار الحالي لدولة الكويت هو الثالث

اعتمد الشعار الحالي بعد الاستقلال في عام ١٩٦٢ م

عدد مكونات الشعار الحالي

يمثل هذا الشعار صقرا يحتضن سفينة من نوع البوم مستقرة فوق أمواج البحر الزرقاء والبيضاء
تخليدا لماضي الكويت البحري القديم.

٤: العملة

أول عملة كويتية صكت تسمى بيزة (لم تستمر سوى شهر)

الحاكم الذي صكت في عهده أول عملة كويتية يسمى الشيخ عبدالله بن صباح

العملة التي استخدمتها إمارة الكويت قبل الاستقلال تسمى العملة الهندية (الروبية)

أصدر مجلس النقد الكويتي عملة (الدينار) لتحل محل العملة الهندية بتاريخ ١-٤-١٩٦١ م

الإصدار الحالي لعملات دولة الكويت هو الإصدار السادس





الدرس الثامن : سكان بلادي الكويت



عدد السكان في بداية نشأة الكويت ٤ آلاف نسمة

تزايد عدد السكان في دولة الكويت بعد ظهور النفط

العام الذي تم فيه تصدير النفط هو عام ١٩٤٦م.

أول تعداد سكاني تم إجراؤه في دولة الكويت كان في عام ١٩٥٧م

بلغ عدد السكان بالكويت في تعداد عام ١٩٥٧ ٢٠٦ ألف نسمة.

يتم عمل تعداد سكاني مرة كل (ثلاث - اربع - خمس - عشر) سنوات

عدد سكان الكويت حاليا هو أربعة ملايين وأربعمائة ألف نسمة ٤,٤٠٠,٠٠٠ نسمة.

الذكور أكثر عدد من الإناث

علل : عدد الذكور أكثر عدد من الإناث في الكويت

بسبب ارتباطه بالهجرة والوافدين.

ما فائدة التعداد السكاني؟

- لكي توفر الدولة الخدمات لسكانها.

من خلال ملاحظة الرسم البياني نلاحظ:

غير الكويتيين أكثر من الكويتيون

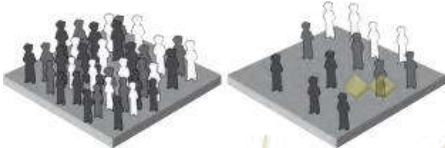
نسبة الكويتيين ٣٠ %

نسبة غير الكويتيين ٧٠ %

عرف كلا من :



الزيادة الطبيعية	الزيادة الطبيعية
الزيادة الناتجة عن الهجرة	عدد المواليد - عدد الوفيات.



*عرف الكثافة السكانية : عدد السكان على مساحة الدولة



الدرس التاسع: محافظات بلادي الكويت

يبلغ عدد محافظات بلادي الكويت ٦ محافظات

أكبر محافظات بلادي الكويت مساحة هي محافظه الجهراء

أصغر محافظات بلادي الكويت مساحة هي محافظه حولي

أكثر محافظات بلادي الكويت كثافة سكانية محافظه الفروانية.

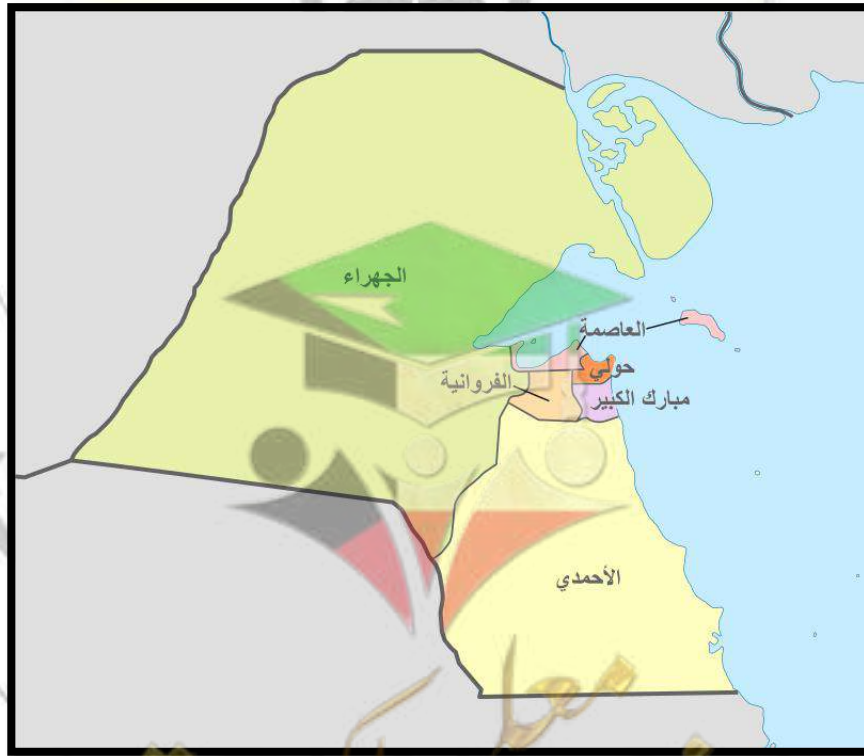
أكثر محافظات بلادي الكويت التي الكويتيون هي محافظه الأحمدى.

أحدث محافظات بلادي الكويت محافظه مبارك الكبير

الجزر الكويتية تتبع إداريا محافظه العاصمة

علل أهمية محافظه العاصمة

يوجد بها المقار الرئيسية للحكم كالوزارات ومجلس الأمة.





وزارة التربية
توجيه الاجتماعيات
اختبار (١) فترة الأسابيع الست الثانية
الاسم :
الصف :
الصف الرابع الابتدائي

السؤال الأول : اختر من المجموعة (ب) ما يرتبط بالمجموعة (أ) بوضع الرقم في المكان المناسب:

(أ)	(ب)
١- أكبر محافظة كويتية .	() الأحمدية
٢- أصغر محافظة كويتية .	() حولي
٣- أكثر محافظة كثافة سكانية	() العاصمة
٤- يتركز الكويتيون في محافظة	() الجهراء
٥- أحدث محافظة كويتية	() مبارك الكبير
٦- محافظة توجد فيها المقار الرئيسية للحكم .	() الفروانية

السؤال الثاني : ظلل الخيار الصحيح من بين الخيارات التي تلي كل عبارة:

١- يبلغ عدد محافظات دولة الكويت :

٤ محافظات	٥ محافظات	٦ محافظات	٧ محافظات
-----------	-----------	-----------	-----------

١- عدد سكان دولة الكويت في بداية نشأتها كان لا يتجاوز :

٤ آلاف نسمة	٥ آلاف نسمة	٦ آلاف نسمة	٧ آلاف نسمة
-------------	-------------	-------------	-------------

٣- عدد سكان دولة الكويت الحالي يبلغ حوالي :

٢,٢٠٠,٠٠٠ نسمة	٣,٣٠٠,٠٠٠ نسمة	٤,٤٠٠,٠٠٠ نسمة	٥,٥٠٠,٠٠٠ نسمة
----------------	----------------	----------------	----------------

٤- الجزر الكويتية تتبع إدارياً محافظة ::

العاصمة	الجهراء	حولي	الأحمدية
---------	---------	------	----------

٥- زاد عدد سكان دولة الكويت بعد ظهور و تصدير :

الحديد	الكالسيوم	النفط	الماء
--------	-----------	-------	-------

٦- الشعار الثاني لدولة الكويت





السؤال الثالث : صل بين المجموعتين برسم خطأ بينهما :

الزيادة الناتجة عن الهجرة

الزيادة الطبيعية

عدد السكان

مساحة الدولة

الزيادة غير الطبيعية

عدد المواليد - عدد الوفيات

الكثافة السكانية

السؤال الرابع : أجب عما يلي :

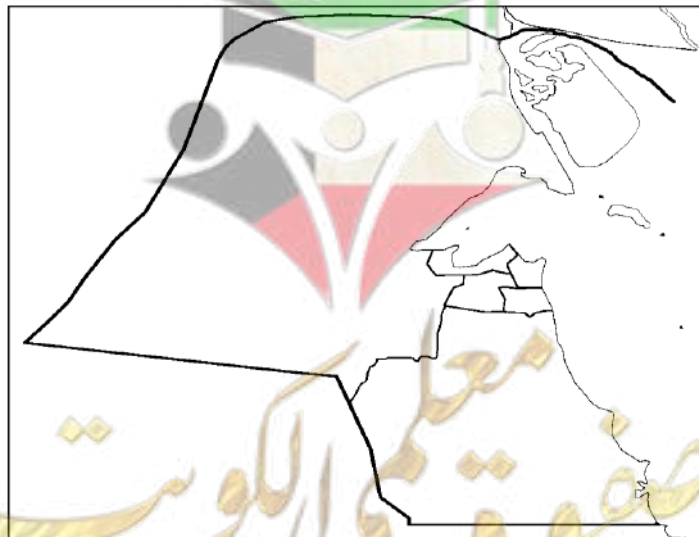
١- علل ما يلي :

أ- عدد الذكور أكثر عدد من الإناث في الكويت

ب- أهمية محافظة العاصمة

٢- لاحظ خريطة محافظات دولة الكويت الصماء ثم نفذ المطلوب :

- لون محافظة الجهراء باللون الوردي
- لون محافظة الأحمدية باللون الأزرق
- لون محافظة الفروانية باللون الأصفر
- لون محافظة العاصمة باللون الأخضر
- لون محافظة مبارك الكبير باللون البنفسجي
- لون محافظة حولي باللون البرتقالي





الوحدة الثالثة : ثراث بلاد الكويت



الدرس الأول: الأزياء الشعبية

علل : تتنوع الملابس في جميع أنحاء العالم وفي بلاد الكويت

- بسبب اختلاف البيئة والمناسبات والفصل المناخي

تنقسم الأزياء إلى نوعين

الملابس النسائية



الملابس الرجالية



اذكر امثلة للملابس الرجالية

البشت العقال

الغتره الدشداشة

اذكر امثلة للملابس النسائية

العباية الثوب

الدراعة البرقع

البخنق

أنواع الدشداشة الكويتية

دشداشة السلاح

دشداشة المقطع

دشداشة الشد

يرتدي الرجل الكويتي دشداشة لونها داكن في فصل الشتاء

يرتدي الرجل الكويتي دشداشة لونها فاتح في فصل الصيف



الدرس الثاني : الحرف والأدوات في بلادنا

عرف الحرف القديمة

هي عمل يحتاج إلى مهارة وصناعة يدوية، وهي مصدر من مصادر الرزق الحلال لأجدادنا

عدد أنواع الحرف القديمة

١- حرف قريبة من ساحل الخليج العربي

- القلاف

٢- حرف أخرى

- الصايغ

- النكاس

- الخراز

أكمل ما يلي :

صانع السفن يسمى القلاف

المكان الذي تصنع فيه السفن يسمى النقعة

صانع المجوهرات والحلي يسمى الصايغ

مصالح الرحي التي تطحن القمح يسمى النكاس

صانع المشغولات الجلدية يسمى الخراز

من أمثلة السفن اليوم والسنبوك

عدد حرف أهل البادية


١- الرجال : حرفة الرعي

٢- النساء : حياكة السدو - صناعة منتجات الألبان المختلفة

علل : ارتباط أسماء اجدادنا بالحرفة التي عمل بها

لأن كان الشخص يفخر بمهنته

شاهد الصورة واستنتج اسم الحرفة



الصايغ



الرعي



حياكة السدو



صناعة منتجات الألبان



النكاس



الدرس الثالث : الغوص على اللؤلؤ

عرف اللؤلؤ :

حبات بيضاء صغيرة لامعة

أكمل ما يلي :

الفصل الذي تخرج في بدايته سفن الغوص إلى الخليج العربي يسمى الصيف

عدد شهور الغوص على اللؤلؤ سنة أشهر

الصورة المقابلة تمثل الذي يستخرج اللؤلؤ يسمى الغواص

تاجر اللؤلؤ يسمى الطواش



من هم طاقم سفينة الغوص

الغواص

المجدمي

النوخدة

الطواش

السيب

فرق بين : صنف

أدوات الغوص	أدوات الطواش
القطام - الدين	الطوس
الحجر الرصاص	الميزان.





وزارة التربية
توجيه الاجتماعيات
اختبار (٢) فترة الأسابيع الست الثانية
الاسم :
الصف :
الصف الرابع الابتدائي

السؤال الأول : اختر الإجابة الصحيحة من بين الخيارات التالية :

١- حبات بيضاء صغيرة لامعة تستخرج من أعماق البحر :

المحار	الروبيان	اللؤلؤ	الصخر
--------	----------	--------	-------

٢- تخرج سفن الغوص إلى الخليج العربي في بداية فصل :

الشتاء	الصيف	الخريف	الربيع
--------	-------	--------	--------

٣- مدة موسم الغوص على اللؤلؤ :

٦ أشهر	٧ أشهر	٨ أشهر	٩ أشهر
--------	--------	--------	--------

٤- شخص يغوص في أعماق البحار ليستخرج اللؤلؤ :

النوخذة	المجدمي	السيب	الغواص
---------	---------	-------	--------

٥- تاجر اللؤلؤ قديما :

القلاف	الطواش	الخراز	النجار
--------	--------	--------	--------

السؤال الثاني : أكمل ما يلي :

- ١- صانع السفن يسمى
- ٢- المكان الذي تصنع فيه السفن يسمى
- ٣- صانع المشغولات الجلدية يسمى
- ٤- يرتدي الرجل الكويتي دشداشة لونها داكن في فصل

السؤال الثالث : شاهد الصورة واستنتج اسم الحرفة



السؤال الرابع : أجب عما يلي :

١- علل : تتنوع الملابس في جميع أنحاء العالم وفي بلاد الكويت

٢- علل : ارتباط أسماء اجدادنا بالحرفة التي عمل بها

٣- عدد أنواع الدشداشة الكويتية



الدرس الرابع : الزراعة في بلادنا

اذكر المناطق الزراعية في دولة الكويت قديما

جزيرة فيلكا

قرية الجهراء

الصبيحية

الطنطاس

على ماذا اعتمد المزارعون قديما في ري مزرعاتهم

على الآبار

عدد أهم المزارع الكويتية

١- الخضراوات بجميع أنواعها

٣-البرسيم

٢-الحبوب كالقمح والشعير

علل : تعتبر شجرة النخيل من الأشجار ذات الانتشار الواسع في الكويت قديما

١- يستفاد من سعفها في (تغطية سقوف المنزل)

٢- جذوعها (مواد النجارة والبناء)

٣- ثمرها (التمور)

أكمل العبارات التالية

- سوق الخضار يسمى الفريضة

- المنطقة التي تعتبر من أكثر المناطق زراعة للنخيل قديما بالكويت تسمى الجهراء

- الشجرة المحببة لدى الكويتيين تسمى النخيل

- دمية توضع في المزارع لإبعاد الطيور عن المحاصيل الزراعية تسمى المخيول



الأهمية	الجزء من النخيل
تغطية سقوف المنزل	السعف
مواد النجارة والبناء	الجذوع
التمور	الثمار

أدوات الزراعة

قديما



المحش

الضخين

الجدوم

الزيبيل

المحراث

الشيل



الدرس الخامس: الصيد البري

الاسم الذي يطلق على الصيد البري هو القنص

الظروف التي ساهمت في انتشار هواية الصيد البري

مرور بعض الطيور المهاجرة

صفاء الجو في فصل الربيع

وجود النباتات الصحراوية

أكتب اسم أدوات الصيد تحت كل صورة



الصلاية



السالية



الفخ

اكتب أسماء ثلاث من حيوانات الصيد بالبيئة الصحراوية
الثعبان - الثعلب - الارنب - الضب - العقرب - القنفذ





الدرس السادس : الألعاب الشعبية

معلومات تأتي على شكل عبارات صحيحة وخاطئة :

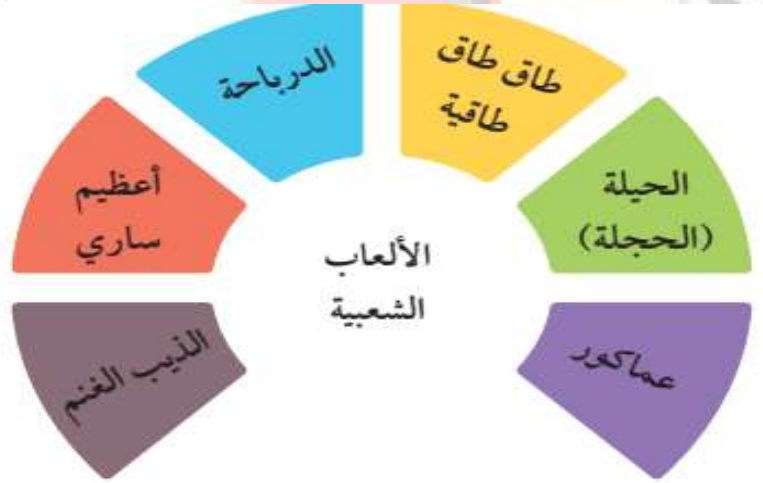
- ترتبط الألعاب الشعبية القديمة بالحركة والإيقاع والأناشيد والأغاني الشعبية
- تختلف عن الألعاب الحديثة من حيث الشكل والمضمون
- الألعاب الشعبية القديمة رغم بساطتها كانت تجلب المتعة والفائدة في نفس الوقت

أقسام الألعاب الشعبية قديما :

١- ألعاب الأولاد

٢- ألعاب للبنات

أهم الألعاب الشعبية القديمة



لعبة الحيلة (الحجلة)

تلعبها الفتيات، وهي عبارة عن رسم مستطيل مقسم إلى ثمانية مربعات على الأرض ثم تقفز البنت برجل واحدة (تحجل) إلى المربع الثاني وتتبعها حجلا إلى المربع الثالث فالرابع حتى الأخير



الدرباحة

كان يحصل الأطفال على "الدرباحة" من عجلات الدراجات ويستخدمون معها العصي كي يتحكموا بحركتها لدحرجتها وتوجيهها بأي اتجاه.





الدرس السابع : الأمثال الشعبية

عرف المثل :

هو كلام موزون واضح المعنى موجز اللفظ يتداوله الناس ليعبر عن حادث ما

المثل	المعنى
ر بع تعاونوا ما ذلوا	أهمية التعاون
اللي ماله أول ماله تالي	الاعتزاز بالماضي أساس المستقبل.
ما يعينك إلا يمينك	يضرب لحث الإنسان للاعتماد على نفسه
الناس للناس والكل بالله واحد	يضرب في الحث على مساعدة الآخرين
الجمعة معزة	يدعو لتآلف الأرحام ومحبتهم وتعاونهم
حبل الكذب قصير	يدعو لضرورة أن يكون الإنسان صادقاً في القول والفعل
أسفرت و أنورت	يدعو للترحيب بالضيف القادم بعد غياب
الخيرة فيما اختاره الله	يدعو بعدم الحزن والرضا بقضاء الله وقدره





وزارة التربية
توجيه الاجتماعيات
اختبار (٣) فترة الأسابيع الست الثانية
الاسم :
الصف :

**السؤال الأول : أكمل ما يلي :**

- ١- سوق الخضار يسمى
- ٢- المنطقة التي تعتبر من أكثر المناطق زراعة للنخيل قديما بالكويت تسمى
- ٣- الصورة المقابلة تمثل دمية توضع في المزارع لإبعاد الطيور تسمى
- ٤- الاسم الذي يطلق على الصيد البري هو
- ٥- أداة الصيد بالصورة تسمى

السؤال الثاني : صل العبارات من المجموعة أ بما يناسبها من ب

(أ)	(ب)
١. اللي ماله أول ماله تالي	() الترحيب بالضيف القادم بعد غياب
٢. الجمعة معزة	() تألف الأرحام و محبتهم و تعاونهم
٣. الخيرة فيما اختاره الله	() مساعدة الآخرين
٤. حبل الكذب قصير	() الاعتزاز بالماضي
٥. ما يعينك الايمينك	() الاعتماد على النفس
٦. أسفرت و أنورت	() لضرورة صدق الانسان في القول و الفعل
٧. الناس للناس و الكل بالله واحد	() لعدم الحزن و الرضا بقضاء الله و قدره

السؤال الثالث : صنف الكلمات التالية حسب موقعها بالجدول

جزيرة فيلكا - الثعلب - الدرباحة - الفنتاس - الذيب الغنم - الارنب - الصبيحية - الثعبان - عماكور

الألعاب الشعبية	المناطق الزراعية	حيوانات الصيد

السؤال الرابع : أجب عما يلي :

١- علل : تعتبر شجرة النخيل من الأشجار ذات الانتشار الواسع في الكويت قديما

.....
.....

٢- عرف المثل

.....

