




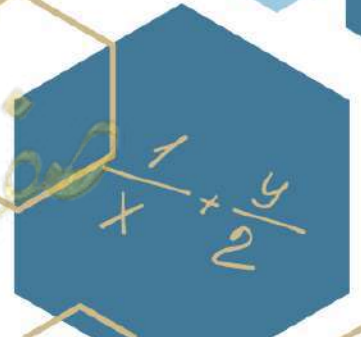
## الاختبار التحصيلي الاول للصف الرابع

الفصل الدراسي الاول للعام 2024-2025



الموجه الفني الاول للرياضيات  
منطقة حولي التعليمية  
أ. عيدة الشمري

موجهة  
م. الكوثرية





نموذج (٣) اختبار تحصيلي ( ١ )  
في مادة الرياضيات للصف ( الرابع )  
الفصل الدراسي الاول للعام ٢٠٢٤ - ٢٠٢٥

وزارة التربية  
الإدارة العامة لمنطقة حولي التعليمية  
التوجيه الفني للرياضيات

السؤال الأول أوجد الناتج لكل مما يأتي:

$$\begin{array}{r} 87008 \\ - 1235 \\ \hline \end{array}$$

$$\begin{array}{r} 75479 \\ + 10350 \\ \hline \end{array}$$

السؤال الثاني أوجد الناتج لكل مما يأتي:

$$\boxed{\phantom{000}} = 6 \times 3$$

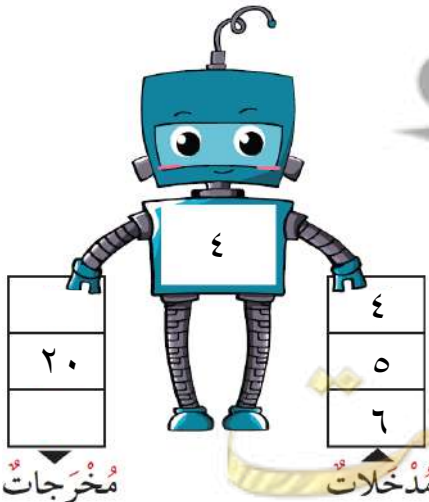
$$\boxed{\phantom{000000}} = 40000 + 30000$$

$$\boxed{\phantom{000}} = 2 \times 4 \times 10$$


$$\boxed{\phantom{00000}} = 8 \times 300$$

(ب) أكمل

السؤال الثالث: (أ) أوجد الناتج



$$\begin{array}{r} 145 \\ \times 3 \\ \hline \end{array}$$



السؤال الرابع:


أولاً: ظلل (أ) إذا كانت العبارة صحيحة وظلل (ب) إذا كانت العبارة خطأ:

|   |                    |   |   |
|---|--------------------|---|---|
| ١ | ضعف العدد ٦ هو ١٢  | أ | ب |
| ٢ | $٨٥ = ٠ \times ٨٥$ | أ | ب |

ثانياً: ظلل الرمز الدال على الإجابة الصحيحة:

|   |                  |       |      |      |     |
|---|------------------|-------|------|------|-----|
| ١ | $١٧٠٠٠ - ٥٠٠٠ =$ | أ     | ب    | ج    | د   |
|   |                  | ١٢٠٠٠ | ١٢٠٠ | ٢٠٠٠ | ٢٠٠ |

|   |   |    |    |    |    |
|---|---|----|----|----|----|
| ٢ | العدد المجهول في العبارة $٤١٠ + ? = ٤٥٠$ هو | أ  | ب  | ج  | د  |
|   |   | ٣٠ | ٤٠ | ٥٠ | ٦٠ |

|   |  |              |              |              |              |
|---|--|--------------|--------------|--------------|--------------|
| ٣ | عبارة الضرب المناسبة   | أ            | ب            | ج            | د            |
|   |  | $٣ \times ١$ | $٣ \times ٥$ | $٢ \times ٣$ | $٣ \times ٠$ |



صفوة معلم الكونت  
الإدارة العامة لمنطقة حولي التعليمية - التوجيه الفني للرياضيات



نموذج (٣) اختبار تحصيلي ( ١ )  
في مادة الرياضيات للصف ( الرابع )  
الفصل الدراسي الاول للعام ٢٠٢٤ - ٢٠٢٥

وزارة التربية  
الإدارة العامة لمنطقة حولي التعليمية  
التوجيه الفني للرياضيات

السؤال الأول أوجد الناتج لكل مما يأتي:

$$\begin{array}{r} 87908 \\ - 1235 \\ \hline 85773 \end{array}$$

$$\begin{array}{r} 70479 \\ + 10350 \\ \hline 90829 \end{array}$$

السؤال الثاني أوجد الناتج لكل مما يأتي:

$$\boxed{18} = 6 \times 3$$

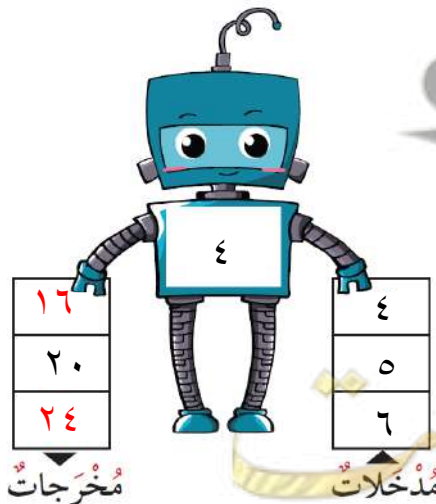
$$\boxed{70000} = 40000 + 30000$$

$$\boxed{80} = 2 \times 4 \times 10$$

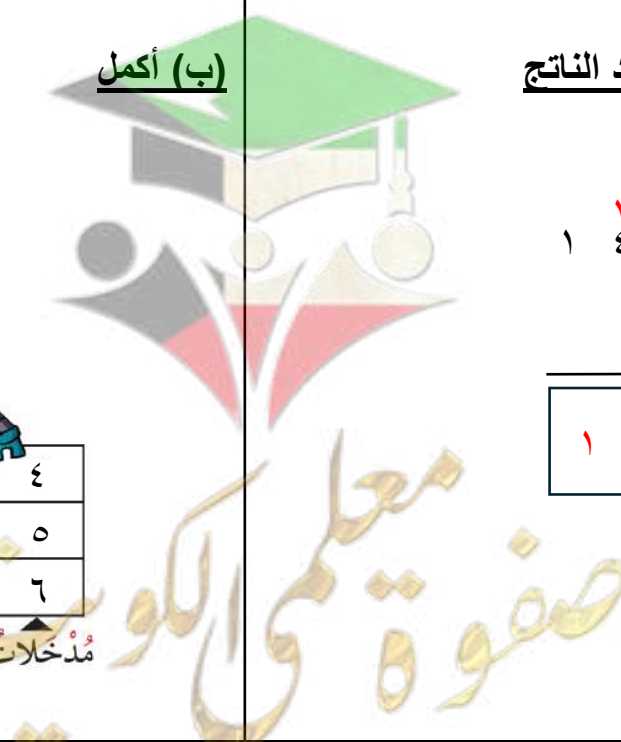
$$\boxed{2400} = 8 \times 300$$

(ب) أكمل

السؤال الثالث: (أ) أوجد الناتج



$$\begin{array}{r} 145 \\ \times 3 \\ \hline 105 \end{array}$$



السؤال الرابع:

أولاً: ظلل (أ) إذا كانت العبارة صحيحة وظلل (ب) إذا كانت العبارة خطأ:

|   |                    |                                  |   |
|---|--------------------|----------------------------------|---|
| ١ | ضعف العدد ٦ هو ١٢  | <input type="radio"/>            | ب |
| ٢ | $٨٥ = ٠ \times ٨٥$ | <input checked="" type="radio"/> | أ |

ثانياً: ظلل الرمز الدال على الإجابة الصحيحة:

|   |                  |                                  |   |       |   |      |   |     |
|---|------------------|----------------------------------|---|-------|---|------|---|-----|
| ١ | $١٧٠٠٠ - ٥٠٠٠ =$ | <input checked="" type="radio"/> | ب | ١٢٠٠٠ | ج | ٢٠٠٠ | د | ٢٠٠ |
|---|------------------|----------------------------------|---|-------|---|------|---|-----|

|   |   |                                  |   |    |   |    |   |    |
|---|---|----------------------------------|---|----|---|----|---|----|
| ٢ | العدد المجهول في العبارة $٤١٠ + ? = ٤٥٠$ هو | <input checked="" type="radio"/> | ب | ٤٠ | ج | ٥٠ | د | ٦٠ |
| أ | ٣٠  |                                  |   |    |   |    |   |    |

|   |                      |                                  |   |              |   |              |   |              |
|---|----------------------|----------------------------------|---|--------------|---|--------------|---|--------------|
| ٣ | عبارة الضرب المناسبة | <input type="radio"/>            | ب | $٣ \times ١$ | ج | $٢ \times ٣$ | د | $٣ \times ٠$ |
| أ | $٣ \times ٥$         | <input checked="" type="radio"/> |   |              |   |              |   |              |



صفوة معلم الكوئوت  
الإدارة العامة لمنطقة حولي التعليمية - التوجيه الفني للرياضيات