



امتحانات

تجريبية

القصير الثالث

٢٠٢٤-٢٠٢٥ م

مدرسة التميز النموذجية

الصف : الاول

المادة علوم

صفوة معلم الكوئيت



مدرسة التميز النموذجية بين (ابتدائي - متوسط - ثانوي)



نموذج (١)

الصف / الاول

الاختبار القصير الثالث

(٤ درجة)

السؤال الأول: اختر الإجابة الصحيحة علميا لكل عبارة:-

١- الطريقة المناسبة لتحويل الماء الي جليد



٢- ماده في الحاله السائله :



(٢ درجة)

السؤال الثاني: ضع علامة (√) أو (×) أمام العبارات الآتية :-

()
()

١- الكتاب ماده في الحاله الغازيه

٢- يمكن تحويل الجليد الي سائل بالتبريد

(٤ درجة)

السؤال الثالث : صنف الصور التاليه في الجدول ادناه حسب حالات الماده :



(4)



(3)



(2)



(1)

مادة غازية	مادة صلبة	مادة سائلة



صفحة معلم الكومنت



مدرسة التميز النموذجية بين (ابتدائي - متوسط - ثانوي)



إجابة نموذج (١)

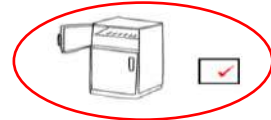
الصف / الاول

الاختبار القصير الثالث

(٤ درجة)

السؤال الأول: اختر الإجابة الصحيحة علميا لكل عبارة:-

٣- الطريقة المناسبة لتحويل الماء الي جليد



٤- ماده في الحاله السائله :



(٢ درجة)

السؤال الثاني: ضع علامة (√) أو (×) أمام العبارات الآتية :-

(×)

(×)

٣- الكتاب ماده في الحاله الغازيه

٤- يمكن تحويل الجليد الي سائل بالتبريد

(٤ درجة)

السؤال الثالث : صنف الصور التاليه في الجدول ادناه حسب حالات الماده :



(4)



(3)



(2)



(1)

مادة غازية	مادة صلبة	مادة سائلة
1	2	3
4		





نموذج (٢)

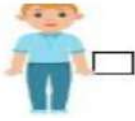
الصف / الاول

الاختبار القصير الثالث

(٤ درجة)

السؤال الأول: اختر الإجابة الصحيحة علميا لكل عبارة:-

١- احد هذه الاشياء لا ينمو



٢- اداه لقياس الطول



(٢ درجة)

السؤال الثاني: ضع علامة (√) أو (×) أمام العبارات الآتية :-

()

١- تحدث تغيرات في الوزن اثناء النمو .

()

٢- المادة توجد في ثلاث حالات .

(٤ درجة)

السؤال الثالث :-

في الجدول التالي اختر العبارة من المجموعة (ب) واكتب رقمها امام ما يناسبها من عبارات المجموعة (أ)

الرقم	المجموعة (أ)	المجموعة (ب)
	مادة في الحالة السائلة.	-1
		-2
	مادة في الحالة الصلبة.	-1
		-2





إجابة نموذج (٢)

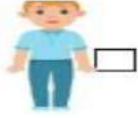
الصف / الاول

الاختبار القصير الثالث

(٤ درجة)

السؤال الأول: اختر الإجابة الصحيحة علميا لكل عبارة:-

١. احد هذه الاشياء لا ينمو



٢. اداه لقياس الطول



(٢ درجة)

السؤال الثاني: ضع علامة (√) أو (×) أمام العبارات الآتية :-

(√)

١- تحدث تغيرات في الوزن اثناء النمو .

(√)

٢- المادة توجد في ثلاث حالات .

(٤ درجة)

السؤال الثالث :-

في الجدول التالي اختر العبارة من المجموعة (ب) واكتب رقمها امام ما يناسبها من عبارات المجموعة (أ)

الرقم	المجموعة (أ)	المجموعة (ب)
1	-مادة في الحالة السائلة.	-1 
		-2 
2	-مادة في الحالة الصلبة.	-1 
		-2 



صفحة معلم الكومنت



مدرسة التميز النموذجية بنين (ابتدائي - متوسط - ثانوي)



مدرسة التميز النموذجية
(ابتدائي - متوسط - ثانوي)
الجهاز الفني التربوي

منصات التميز التعليمية

لزيارة منصة التميز التعليمية في اليوتيوب امسح الباركود التالي :



لزيارة منصة التميز التعليمية في تليجرام امسح الباركود الخاص بقناة كل فصل مما يلي :



الصف الرابع



الصف الثالث



الصف الثاني



الصف الأول



الصف التاسع



الصف الثامن



الصف السابع



الصف السادس



الصف الخامس



الصف الثاني عشر
ادبي



الصف الثاني عشر
علمي



الصف الحادي عشر
علمي



الصف الحادي عشر
ادبي



الصف العاشر



لزيارة صفحتنا في تويتر

لزيارة صفحتنا في الإنستغرام

عنواننا : خيطان - ق ٤ - ش ١٠٠



مدرسة التميز النموذجية بين (ابتدائي - متوسط - ثانوي)

