

مذكرات

الإبلاغ




الاجتماعيات

الفصل الدراسي الأول

٢٠٢٥/٢٠٢٤

66898481



٦

غير مصوح
بالتصوير

الوحدة الأولى: الخصائص الطبيعية والبشرية لمنطقة الخليج العربية

أولاً: الخصائص الطبيعية لمنطقة الخليج العربية

١- الموقع

موقع منطقة الخليج العربية	
الموقع الفلكي	الموقع الجغرافي
١٦ درجة عرضية شمال خط الاستواء ٢٥ خط طول شرق جرينتش	جنوب غرب قارة آسيا



• علل - أهمية موقع منطقة الخليج العربية.

✓ يقع في وسط العالم

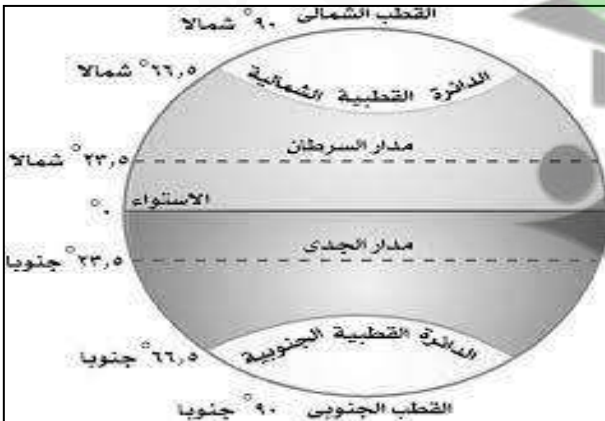
✓ يتحكم بطرق التجارة العالمية

• عرف «الخليج العربي» هو ذراع مائي لبحر العرب يمتد من خليج عمان جنوباً حتى شط العرب شمالاً

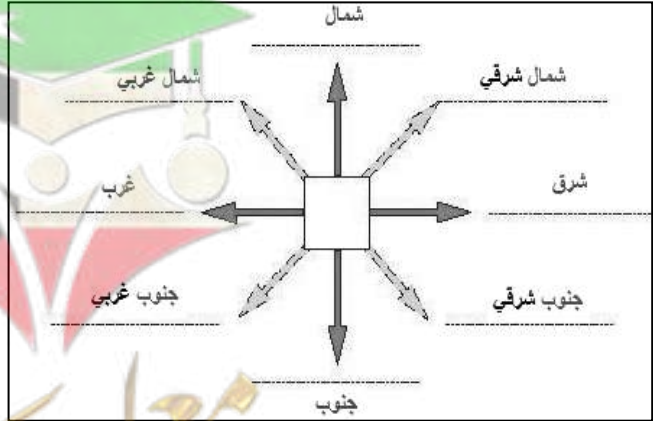
• فرق بين كلا من :-

الموقع النسبي	الموقع الفلكي
موقع الدولة بالنسبة للماء واليابس.	موقع الدولة بالنسبة لخطوط الطول ودوائر العرض

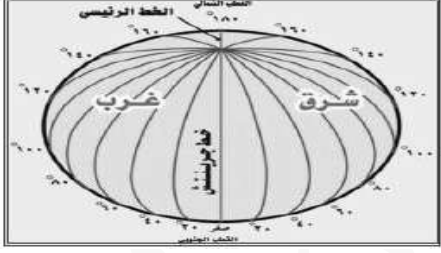
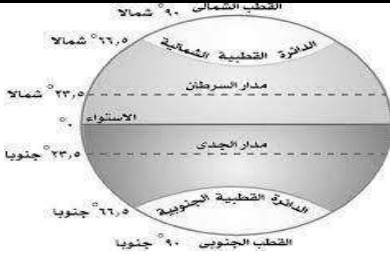
دوائر العرض الرئيسية



الجهات الرئيسية والفرعية



• قارن بين كلا من :-

وجه المقارنة	خطوط الطول	دوائر العرض
التعريف	خطوط وهمية ترسم على الكرة الأرضية وتقسّمها إلى قسمين شرقي وغربي	خطوط وهمية ترسم على الكرة الأرضية وتقسّمها إلى قسمين شمالي وجنوبي
خط الأساس	خط جرينتش	خط الاستواء
العدد	٣٦٠	١٨٠ دائرة
الرسم		

• أكمل العبارات الآتية :-

١- تبلغ عدد درجات العرض التي تشغلها منطقة الخليج العربية شمال خط الاستواء ١٦ درجة

٢- تبلغ عدد خطوط الطول التي تشغلها منطقة الخليج العربية شرق خط جرينتش ٢٥ خط

٣- تقع منطقة الخليج العربية بالنسبة لقارة آسيا في الجهة الجنوبية الغربية

٤- يبلغ عدد خطوط الطول ٣٦٠ خط

٥- خط الطول الأساسي يسمى خط جرينتش

٦- يبلغ عدد دوائر العرض ١٨٠ دائرة

٧- دائرة العرض الرئيسية تسمى خط الاستواء

٨- موقع الدولة بالنسبة لخطوط الطول ودوائر العرض يسمى الموقع الفلكي

٩- موقع الدولة بالنسبة للماء واليابس يسمى الموقع النسبي

١٠- تقع دول الخليج العربية بالنسبة لمسطح الخليج العربية في جهة الغرب

١١- تقع شبة الجزيرة العربية في أقصى جنوب غرب قارة تسمى آسيا



٣- صناعة السفن


• **عرف:** -

• **القالف:** - هو الشخص الذي يقوم بصناعة السفن

• **أسماء أشهر سفن دول الخليج العربي:** -

البوم	البغلة	السنبوك	الجالبوت	شوعي
-------	--------	---------	----------	------

• **علل:** - سفينة البغلة أفضل أنواع السفن المستعملة في السفر.



سفينة البغلة

✓ لقوتها ومتانتها

✓ قدرتها على نقل الحمولة الكبيرة

✓ قلة تعرضها للأخطار البحرية.

٤- التجارة البحرية

• **عرف ((المسطحات المائية))**

• جميع أشكال المياه على سطح الأرض (بحار، خلجان، محيطات، انهار الخ)

• **علل:** ممارسة سكان دول الخليج العربية الأنشطة التجارية وتميزهم فيها؟

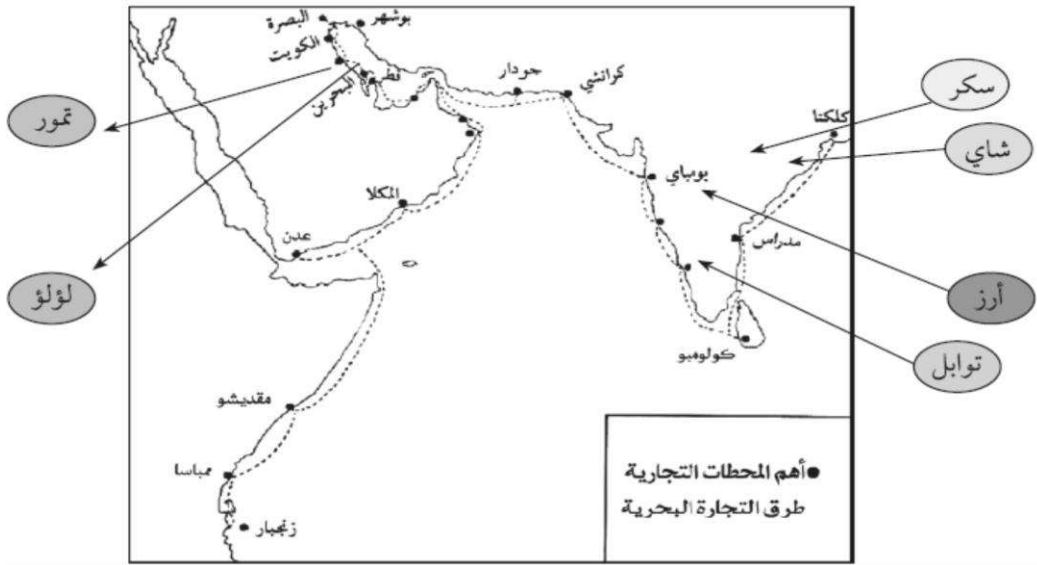
• بسبب موقع المنطقة المطل على العديد من المسطحات المائية

• **عدد البضائع التي تبادلها أبناء منطقة الخليج العربية**

الواردات	الصادرات
الأخشاب - الشاي - الأرز - السكر - التوابل	التمور - اللؤلؤ

• **أهم المحطات التجارية التي وصل إليها التجار الخليجيين عن طريق البحر.**

اليمن	شبه القارة الهندية	شرق أفريقيا
عدن - المكلا	كولومبو - مدراس - بومباي - كلكتا	ممباسا - زنجبار - مقديشو



• أكمل العبارات التالية بما يناسبها :-

- ١- أبرز البضائع التي كانت تنقل من دول الخليج العربي الي الهند وأفريقيا واليمن هي التمور
- ٢- يبدأ موسم الغوص في شهر يونيو وينتهي في شهر سبتمبر
- ٣- يطلق على بداية موسم الغوص اسم اللدشة
- ٤- يطلق على نهاية موسم الغوص اسم القفال
- ٥- الشخص الذي يقوم بصناعة السفن يسمى القلاب
- ٦- أشهر الحرف التي مارسها أبناء الخليج العربي قديما حرفة الغوص على اللؤلؤ
- ٧- حرفة أساسية ومكملة للأنشطة البحرية تسمى صناعة السفن
- ٨- يطلق علي تاجر اللؤلؤ اسم الطواش
- ٩- الصبية الذين يعملون على ظهر السفينة لاكتساب الخبرة التبابة
- ١٠- صغار السن وهو مساعد السيب في السفن الكبيرة الرضيف



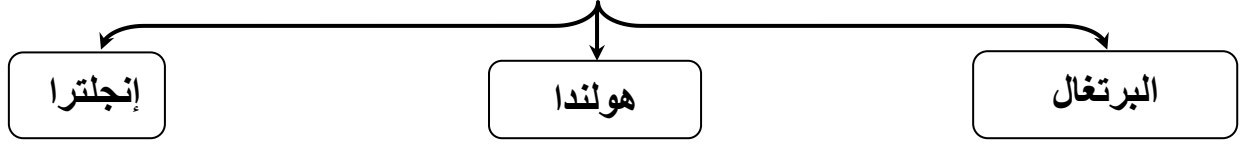
تاجر اللؤلؤ (الطواش)



استخراج اللؤلؤ من المحار

المنافسة الاستعمارية الأوروبية على الخليج العربي

- أهم الدول الاستعمارية المتنافسة في السيطرة على الخليج العربي :-



- عرف ((الاستعمار))

☞ سيطرة دولة قوية على دولة ضعيفة بهدف استغلال موقعها ومواردها (خيراتها).

- أجب على الأسئلة التالية :-

١- أعيد ترتيب الدول الاستعمارية على منطقة الخليج العربية.

البرتغال ✎ هولندا ✎ إنجلترا ✎

٢- ب- ماهي الأساليب التي اتبعتها الاستعمار للسيطرة على دول الخليج العربية؟

✎ المعاهدات

✎ الاتفاقيات

- علل لما يأتي :- (اذكر السبب)

١- تنافس الدول الاستعمارية للسيطرة على دول الخليج العربية

✎ بسبب موقعها المميز

٢- توقيع الشيخ مبارك اتفاقية الحماية مع بريطانيا .

✎ لحماية الكويت من المخاطر الخارجية

- عدد أهم نصوص اتفاقية الحماية البريطانية للكويت سنة ١٨٩٩ م

١- ألا يتنازل حاكم الكويت أو يبيع أو يؤجر أي جزء من أراضيه دون موافقة بريطانيا

٢- ألا يستقبل حاكم الكويت أو خلفاؤه ممثل أي دولة أجنبية دون إذن بريطانيا

٣- حماية بريطانيا للكويت من أي خطر خارجي

معاودة الحماية	البند
١٨٩٩ م	السنة
الكويت × بريطانيا	أطراف المعاهدة
خوف الكويت من الأخطار الخارجية	الأسباب

• **أكمل العبارات الآتية بما يناسبها:**

- ١- بدأت المنافسة الاستعمارية لمنطقة الخليج العربية منذ القرن ١٥
- ٢- أول الدول الاستعمارية الأوروبية التي سيطرت على الخليج العربي هي البرتغال
- ٣- ثاني الدول الاستعمارية الأوروبية التي سيطرت على الخليج العربي هي هولندا
- ٤- الشيخ الذي وقع على اتفاقيه الحماية البريطانية يسمى الشيخ مبارك الصباح
- ٥- الأسلوب الذي اتبعته بريطانيا لاستعمار الكويت يسمى المعاهدات
- ٦- تم توقيع اتفاقية الحماية عام ١٨٩٩ م

مرحلة الاستقلال والتطور

وثيقة الاستقلال	البنود
١٩٦١ م	السنة
الكويت × بريطانيا	الأطراف

• **عرف ما يلي:**

- ✍ **الاستقلال:** تحرر الدولة من المستعمر الأجنبي وقيامها بإدارة شؤونها الداخلية والخارجية
- ✍ **الديموقراطية:** حكم الشعب لنفسه.

• **أكمل العبارات الآتية بما يناسبها:**

- ١- بدأت دول الخليج بالتخلص من التبعية البريطانية في بداية القرن العشرين
- ٢- تم إلغاء معاهدة الحماية بين الكويت وبريطانيا في عهد الشيخ عبد الله السالم
- ٣- حصلت دولة الكويت على استقلالها في ١٩ يونيو ١٩٦١ م
- ٤- أصدرت الأمم المتحدة الإعلان العالمي لحقوق الإنسان عام ١٩٤٨ م
- ٥- وقع على وثيقة الاستقلال الشيخ عبد الله السالم الصباح
- ٦- الدولة الخليجية التي لم تخضع للاستعمار هي السعودية وتم إعلان قيامها عام ١٩٣٢ م
- ٧- البحرين وقطر والإمارات تمتعوا باستقلالهم في عام ١٩٧١ م
- ٨- استقلت سلطنة عمان عام ١٩٧٠ م
- ٩- تم إصدار وثيقة الدستور الكويتي في عام ١٩٦٢ م
- ١٠- استمدت دول الخليج العربية مبادئ حقوق الإنسان من الشريعة الإسلامية.

الدولة	الكويت	البحرين	قطر	عمان	الإمارات
سنة الاستقلال	١٩٦١	١٩٧١	١٩٧١	١٩٧٠	١٩٧١
نوع الاستعمار	بريطاني	بريطاني	بريطاني	بريطاني	بريطاني



اقترح عنوان للصورة
(توقيع معاهدة الاستقلال)
تاريخ الصورة ١٩٦١ م
اسم حاكم الكويت في هذه الفترة
عبد الله السالم
الطرف الأجنبي الذي وقع المعاهدة
بريطانيا

• **علل:** - إصدار وثيقة الدستور الكويتية عام ١٩٦٢ م.

✓ تغرس مبادئ الديمقراطية

✓ تعزز حقوق الإنسان

طلب المذكرة كاملة



66898481

اضغط هنا للطلب



[mozakerat_alibdaa](https://www.instagram.com/mozakerat_alibdaa)



[mozakerat_alibdaa](https://www.telegram.com/mozakerat_alibdaa)



[https://wa.me](https://wa.me/66898481)

اضغط على أحد الروابط
وشاهد نماذج مذكرتنا

صفوة معلمى الكويت