



وزارة التربية  
التوجيه الفني العام للعلوم

# بنك الأسئلة

لمادة الكيمياء

للمصف الثاني عشر العلمي  
الفترة الدراسية الأولى  
العام الدراسي 2024 - 2025م

فريق العمل



الكيمياء ١٢

المصف الثاني عشر  
الجزء الأول



الموجه العام للعلوم بالتكليف  
أ. دلال المسعود



# الوحدة الأولى

## الغازات





## الفصل الأول: سلوك الغازات

### الدرس 1-1 : خواص الغازات

#### السؤال الأول: اكتب بين القوسين الاسم او المصطلح العلمي الذي تدل عليه كل من العبارات التالية:

- 1- علم يدرس أحوال الطقس ويحاول توقعها بتحليل مجموعة من التغيرات مثل الضغط الجوي ، الحرارة ، سرعة الرياح واتجاهها ، درجة الرطوبة .  
( ..... )
- 2- المتغير الذي يغير من متوسط الطاقة الحركية لجسيمات الغاز .  
( ..... )

#### السؤال الثاني : اكتب كلمة ( صحيحة ) بين القوسين المقابلين للعبارة الصحيحة وكلمة ( خطأ ) بين القوسين المقابلين للعبارة الخطأ في كل مما يلي:

- 1- كثافة الهواء الساخن أقل من كثافة الهواء البارد .  
( )
- 2- جميع الغازات في الحالة العنصرية تتكون من جزيئات ثنائية الذرة .  
( )
- 3- نتيجة التصادم المستمر بين جسيمات الغاز وجدران الوعاء فإن متوسط طاقتها الحركية يقل .  
( )
- 4- تتحرك جسيمات الغاز حركة حرة عشوائية ثابتة في جميع الاتجاهات وفي خطوط مستقيمة .  
( )
- 5- تتصادم جسيمات الغاز مع بعضها البعض تصادما مرنا طبقا للنظرية الحركية للغازات .  
( )
- 6- جميع الغازات قابلة للانضغاط و لها قدرة كبيرة علي الانتشار .  
( )
- 7- تحدث الغازات ضغطا على جدران الاناء الحاوي لها .  
( )
- 8- كلما ارتفعت درجة حرارة الغاز قل متوسط الطاقة الحركية لجسيمات الغاز .  
( )
- 9- الوحدة الدولية لقياس الضغط هي الكيلو باسكال ( kPa ) .  
( )
- 10- من المتغيرات التي تصف غاز ما الكتلة المولية للغاز  $M_{wt}$  .  
( )

#### السؤال الثالث : اختر الإجابة الصحيحة لكل من العبارات التالية وضع علامة (√) في القوس المقابل لها:

1- تتميز الغازات جميعها بالخصائص التالية عدا واحدة منها وهي :

- ( ) ليس لها شكل أو حجم ثابت  
( ) قوى التجاذب بين الجسيمات كبيرة  
( ) كثافتها صغيرة جدا بالنسبة لحالات المادة الأخرى  
( ) الوحدة الدولية لقياس حجم الغاز هي :  
( ) المتر L  
( ) المليلتر المربع  
( ) المتر المربع  
( ) الجالون

3- احدى الوحدات التالية لا تعتبر من الوحدات الدولية المستخدمة لقياس تغيرات الحالة الغازية ، وهي :

- ( ) mol  
( ) atm  
( ) K  
( ) kPa

4- أحد الفروض التالية لا يعتبر من فروض نظرية الحركة للغازات وهو :

- ( ) ينشأ الضغط الذي يؤثر به الغاز على جدران الاناء نتيجة التصادم المستمر بين جسيمات الغاز والجدران .  
( ) لا توجد قوى تجاذب أو تنافر بين جسيمات الغاز .  
( ) حجم جسيمات الغاز يساوي الحجم الذي تشغله هذه الجسيمات .  
( ) تتحرك جسيمات الغاز بسرعة في حركة عشوائية ثابتة .



**السؤال الرابع: أكمل الفراغات في الجمل والمعادلات التالية بما يناسبها علمياً :**

- 1- تتحرك جسيمات الغاز حركة حرة عشوائية مستمرة في مسارات ..... و في جميع الاتجاهات
- 2- تفترض النظرية الحركية للغازات أن التصادمات بين جسيمات الغاز .....
- 3- متوسط الطاقة الحركية لجسيمات الغاز يتناسب تناسباً ..... مع درجة حرارته المطلقة.

**السؤال الخامس : علل لكل مما يلي تعليلاً علمياً سليماً:**

- 1- ترتفع كتل الهواء الساخن فوق كتل الهواء البارد .

- 2- تستخدم الغازات في الوسائد الهوائية التي تعمل على حماية الركاب في السيارات .

- 3- يأخذ الغاز شكل وحجم الإناء الحاوي له . / للغازات قدرة عالية على الانتشار .

- 4- يبقى متوسط الطاقة الحركية لجسيمات الغاز كمية معينة من الغاز ثابت عند ثبات حجم الوعاء و درجة الحرارة.

- 5- للغاز ضغط على جدران الإناء الحاوي له .

**السؤال السادس: ماذا تتوقع أن يحدث في كل من الحالات التالية مع ذكر السبب؟ :**

- 1- اصطدام السائق بالوسادة الهوائية في حادث مروري للسيارة التي يقوم بقيادتها

التوقع للغاز داخل الوسادة : .....

التفسير : .....

**السؤال السابع: قارن بين كل مما يلي**

**تستخدم أربعة متغيرات لوصف غاز ما ، أكمل الجدول التالي:**

وجه المقارنة	الضغط	الحجم	درجة الحرارة المطلقة	كمية المادة
الرمز المستخدم	.....	.....	.....	.....
وحدة القياس الدولية	.....	.....	.....	.....



## الفصل الأول: سلوك الغازات

### الدرس 1-2 : العوامل التي تؤثر في ضغط الغاز

**السؤال الأول:** اكتب بين القوسين الاسم او المصطلح العلمي الذي تدل عليه كل من العبارات التالية:

1- العامل الذي ينتج عن تصادم جسيمات الغاز بجدران الوعاء الذي يحتوي عليه. ( .....

**السؤال الثاني:** اكتب كلمة ( صحيحة ) بين القوسين المقابلين للعبارة الصحيحة وكلمة ( خطأ ) بين القوسين المقابلين للعبارة الخطأ في كل مما يلي:

- 1- يتناسب ضغط الغاز تناسباً عكسياً مع كمية الغاز داخل الوعاء عند ثبوت درجة الحرارة. ( )
- 2- عند ثبوت درجة الحرارة يزداد حجم كمية معينة من غاز للضعف عندما يقل الضغط المؤثر للنصف . ( )
- 3- إذا تضاعفت درجة الحرارة المطلقة لكمية معينة من غاز عند ثبات حجم الوعاء فإن ضغط الغاز المحبوس يقل للنصف . ( )

**السؤال الثالث:** اختر الإجابة الصحيحة لكل من العبارات التالية وضع علامة (√) في القوس المقابل لها:


- 1- عندما يقل عدد جسيمات الغاز إلى النصف في حجم معين عند ثبوت درجة الحرارة فإن ضغط الغاز:
- ( ) يزيد إلى الضعف ( ) لا يتغير
- ( ) يقل إلى الربع ( ) يقل إلى النصف
- 2- عند مضاعفة حجم كمية محددة من غاز عند ثبوت درجة حرارتها ، فإن الضغط الواقع عليها:
- ( ) يزيد إلى الضعف ( ) لا يتغير
- ( ) يقل إلى الربع ( ) يقل إلى النصف
- 3- أحد العوامل التي لا تعمل على زيادة الضغط داخل وعاء محكم الإغلاق يحتوي على كمية معينة من الغاز :
- ( ) زيادة كمية الغاز مع ثبات درجة الحرارة وحجم الوعاء .
- ( ) تسخين الغاز مع ثبات كمية الغاز وحجم الوعاء .
- ( ) زيادة حجم الوعاء الذي يحتوي الغاز مع ثبات درجة الحرارة وكمية الغاز .
- ( ) ادخال غاز خامل مع ثبات درجة الحرارة وحجم الوعاء .

**السؤال الرابع:** أكمل الفراغات في الجمل والمعادلات التالية بما يناسبها علمياً :

- 1- يتناسب ضغط الغاز تناسباً ..... مع كمية الغاز داخل الوعاء عند ثبوت درجة الحرارة وحجم الوعاء
- 2- عند ثبوت درجة الحرارة عندما يقل حجم كمية معينة من الغاز المحبوس إلى النصف فإن الضغط .....
- 3- إذا تضاعفت درجة الحرارة المطلقة لكمية معينة من الغاز عند ثبات حجم الوعاء فإن ضغط الغاز المحبوس .....

**السؤال الخامس:** علل لكل مما يلي تعليلاً علمياً سليماً:

1- يتسرب الهواء من اطار السيارة عند حدوث ثقب فيه





2- عند الضغط على صمام عبوة الرذاذ تندفع المادة المستخدمة للخارج.

3- يزداد ضغط الغاز على جدران الوعاء الحاوي له عند زيادة كمية الغاز في الوعاء نفسه عند درجة حرارة ثابتة

4- يقل الضغط داخل إطار سيارة عند تسرب الهواء منه.

5- يزداد ضغط كمية معينة من الغاز على جدران الوعاء الحاوي له عند تقليل حجم الوعاء عند درجة حرارة ثابتة

6- وجوب عدم إحراق عبوات الرذاذ حتى ولو كانت فارغة .

### السؤال السادس: ماذا تتوقع أن يحدث في كل من الحالات التالية مع ذكر السبب؟ :

1- لضغط الهواء إذا سمح له بالخروج من الإطار المطاطي للسيارة

التوقع : .....

التفسير : .....

2- لضغط غاز محبوس عند زيادة عدد الجسيمات وثبوت حجم الإناء ودرجة الحرارة

التوقع : .....

التفسير : .....

3- لكيس بطاذا جاهز عند تركه معرضا لأشعة الشمس لفترة

التوقع : .....

التفسير : .....

### السؤال السابع: أجب عن السؤال التالي :

الشكل الذي أمامك يوضح آلية عمل عبوات الرذاذ و المطلوب أكمل ما يلي :

1- ما هو أساس آلية عمل عبوات الرذاذ؟

2- الضغط داخل عبوة الرذاذ ..... الضغط خارجها

3- كلما قل ضغط الغاز الدفعي داخل العبوة ..... الضغط داخل عبوة الرذاذ

4- عند حرق عبوة الرذاذ أو القاءها في النار فإنها يمكن أن .....





## الفصل الثاني : قوانين الغازات

### الدرس 1-2 : قوانين الغازات

#### السؤال الأول: اكتب بين القوسين الاسم او المصطلح العلمي الذي تدل عليه كل من العبارات التالية:

- 1- عند ثبوت درجة الحرارة يتناسب الحجم الذي تشغله كمية معينة من الغاز تناسباً عكسياً مع ضغط الغاز. (.....)
- 2- أقل درجة حرارة ممكنة وعندها يكون متوسط الطاقة الحركية لجسيمات الغاز يساوي صفراً نظرياً. (.....)
- 3- عند ثبوت الضغط ، يتناسب حجم كمية معينة من الغاز تناسباً طردياً مع درجة حرارته المطلقة. (.....)
- 4- عند ثبوت الحجم ، يتناسب ضغط كمية معينة من الغاز تناسباً طردياً مع درجة حرارته المطلقة. (.....)

#### السؤال الثاني : اكتب كلمة ( صحيحة ) بين القوسين المقابلين للعبارة الصحيحة وكلمة ( خطأ ) بين القوسين المقابلين للعبارة الخطأ في كل مما يلي:

- 1- القانون الذي يوضح العلاقة بين ( P , V ) للغاز عند ثبوت ( n , T ) يعرف بقانون بويل. ( )
- 2- يتناسب حجم كمية معينة من الغاز تناسباً طردياً مع الضغط الواقع عليها عند ثبوت ( n , T ). ( )
- 3- عينة من غاز الهيليوم تشغل حجماً قدره ( 0.4 L ) تحت ضغط ( 80 kPa ) ، فإذا ظلت درجة حرارتها ثابتة وأصبح الضغط الواقع عليها يساوي ( 40 kPa ) ، فإن حجمها يصبح ( 0.8 L ) . ( )
- 4- الحجم الذي يشغله ( 0.5 mol ) من غاز الهيليوم عند ضغط ( 100 kPa ) يساوي نصف الحجم الذي تشغله نفس الكمية من الغاز عند ضغط ( 200 kPa ) عند ثبات درجة الحرارة . ( )
- 7- العلاقة الرياضية بين ( T , V ) عند ثبوت كل من ( n , P ) تسمى بقانون جاي لوساك . ( )
- 8- بالون به كمية من غاز الهيليوم حجمه ( 2 L ) عند درجة حرارة ( 27 °C ) ، وعند وضع البالون في ماء ساخن درجة حرارته ( 50 °C ) ، يصبح حجم البالون ( 4 L ) عند ثبوت الضغط . ( )
- 9- عند زيادة درجة حرارة كمية معينة من غاز من 0°C إلى 273 °C فإن حجمها يزداد للضعف بفرض ثبوت الضغط . ( )
- 10- عند ثبوت الحجم ، فإن ضغط كمية معينة من الغاز يتناسب تناسباً عكسياً مع درجة حرارته المطلقة . ( )
- 11- عينة من الهواء موضوعة في اناء حجمه ثابت تحت ضغط ( 30 kPa ) ودرجة ( 27 °C ) ، فإذا أصبحت درجة حرارتها ( 47 °C ) فإن ضغطها يصبح ( 32 kPa ) . ( )
- 12- إذا كان الضغط الذي تحدته عينة من غاز الأكسجين موجودة في اناء حجمه ثابت عند ( 27 °C ) يساوي ( 80 kPa ) ، فإن ضغط العينة عند درجة ( 54 °C ) يتضاعف . ( )
- 13- يتناسب حجم كمية معينة من غاز الأكسجين تناسباً طردياً مع درجة حرارتها المطلقة عند ثبوت الضغط ، وعكسياً مع الضغط الواقع عليها عند ثبوت درجة الحرارة . ( )
- 14- يمكن اشتقاق العلاقة الرياضية (  $V_1 \times P_1 = V_2 \times P_2$  ) لكمية معينة من الغاز من القانون العام للغازات عند ثبوت درجة الحرارة . ( )

15- عينة من غاز النيتروجين تشغل حجماً قدره ( 500 mL ) عند درجة ( 27 °C ) ، وتحت ضغط

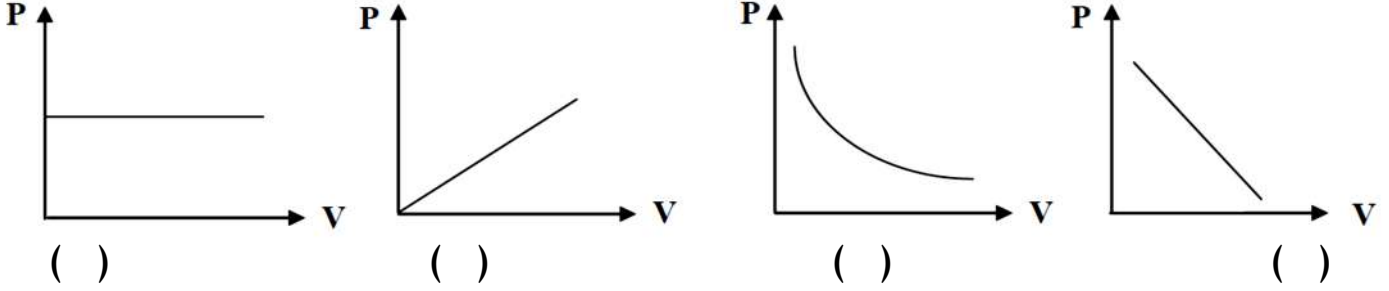
( ) ( 101.3 kPa ) فإن حجمها في الظروف القياسية يصبح ( 455 mL ) .

16- عينة من الهيدروجين موضوعة في اناء حجمه ( 400 mL ) تحت ضغط ( 121.56 kPa ) ودرجة ( 27°C )

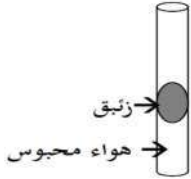
( ) فإذا أصبحت درجة حرارتها ( 47 °C ) ، وحجمها ( 0.256 L ) ، فإن ضغطها يصبح ( 303.9 kPa ) .

### السؤال الثالث : اختر الإجابة الصحيحة لكل من العبارات التالية وضع علامة (√) في القوس المقابل لها:

1- المنحنى البياني الذي يمثل العلاقة بين التغير في حجم كمية معينة من غاز وضغطها عند ثبات درجة الحرارة :



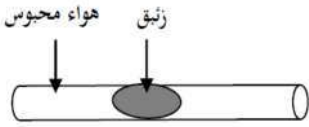
2- الرسم المقابل يمثل أنبوبة شعيرية بها زئبق يحبس كمية من الهواء فيكون ضغط الهواء المحبوس يساوي :



( ) الضغط الجوي . ( ) الضغط الجوي + ضغط عمود الزئبق .

( ) وزن عمود الزئبق . ( ) الضغط الجوي - ضغط عمود الزئبق .

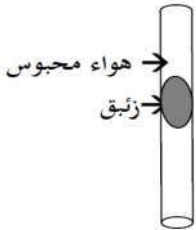
3- من الرسم المقابل فإن ضغط الهواء المحبوس يساوي :



( ) الضغط الجوي . ( ) الضغط الجوي + ضغط عمود الزئبق .

( ) وزن عمود الزئبق . ( ) الضغط الجوي - ضغط عمود الزئبق .

4- من الرسم المقابل فإن ضغط الهواء المحبوس يساوي :



( ) الضغط الجوي . ( ) الضغط الجوي + ضغط عمود الزئبق .

( ) وزن عمود الزئبق . ( ) الضغط الجوي - ضغط عمود الزئبق .

5- إذا كان حجم كمية معينة من غاز يساوي ( 700 mL ) تحت ضغط ( 86.64 KPa ) فإن الضغط اللازم لإنقاص

الحجم الى ( 0.5 L ) عند نفس درجة الحرارة يساوي :

( ) 60.6 kPa ( ) 121.29 kPa ( ) 23.5 kPa ( ) 18.2 kPa

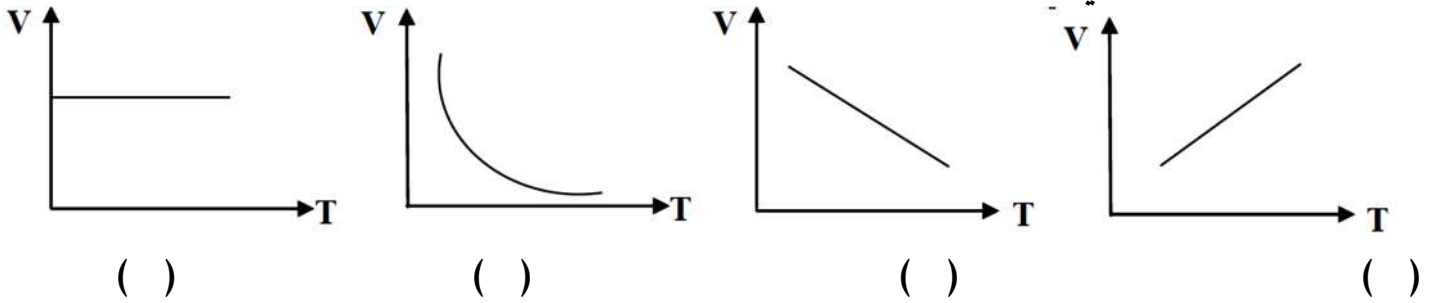
6- إذا تغير حجم كمية معينة من غاز من ( 4 L ) إلى ( 1 L ) مع ثبات درجة الحرارة فإن الضغط :

( ) لا يتغير ( ) يقل للربع ( ) يزداد أربعة أمثال ( ) يزداد للضعف





7- المنحنى البياني الذي يمثل العلاقة بين التغير في حجم كمية معينة من الغاز ودرجة حرارتها المطلقة عند ثبات الضغط وهو الشكل التالي :



8- القانون الذي يوضح العلاقة بين ( V , T ) لكمية معينة من الغاز عند ثبات ضغطها يسمى قانون :

( ) بويل ( ) تشارلز ( ) أفوجادرو ( ) جاي لوساك

9- درجة الحرارة التي تساوي عندها متوسط الطاقة الحركية لجسيمات الغاز تساوي صفرا عند ثبات الضغط هي :

( ) 273 °C ( ) 0 K ( ) - 273 K ( ) 100 K

10- عند رفع درجة الحرارة المطلقة لغاز مثالي الى الضعف وعند ثبات الضغط ، فإن حجمه :

( ) يقل للنصف ( ) لا يتغير ( ) يزيد الى المثلين ( ) يقل للربع

11- كمية معينة من غاز الأكسجين تشغل حجما قدره ( 8 L ) عند درجة حرارة ( 27 °C ) فإذا سخنت الى درجة

( 420 K ) مع ثبات الضغط ، فإن حجمها يساوي :

( ) 124.4 L ( ) 43.5 L ( ) 11.2 L ( ) 106 L

12- عينة من غاز النيون تشغل حجما قدره ( 4 L ) عند درجة ( 27 °C ) فإذا ظل ضغطها ثابتا ، وتغير

حجمها الى ( 3 L ) فإن درجة حرارتها في هذه الحالة تساوي :

( ) 225 °C ( ) - 48 K ( ) - 48 °C ( ) 20.25 °C

13- عينة من الهواء موضوعة في اناء حجمه ثابت تحت ضغط قدره ( 50.65 kPa ) ، ودرجة ( 0 °C ) ، فإذا أصبح

ضغطها ( 101.3 kPa ) ، فإن درجة حرارتها تساوي :

( ) 546 °C ( ) 273 °C ( ) 380 °C ( ) 2 °C

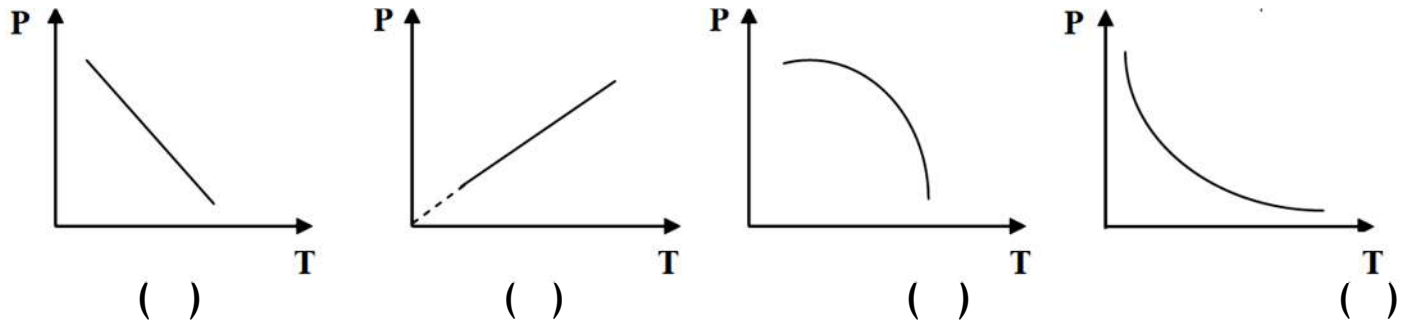
14- اطار سيارة مملوء بالهواء تحت ضغط ( 205 kPa ) عند ( 18 °C ) وبعد تحرك السيارة ارتفعت درجة حرارة الاطار الى

( 54 °C ) فإن ضغط الهواء داخل الاطار عند هذه الدرجة يساوي تقريبا :

( ) 230.36 kPa ( ) 115 kPa ( ) 345 kPa ( ) 460 kPa



15- المنحنى البياني الذي يمثل العلاقة بين التغير في ضغط كمية معينة من غاز و درجة حرارتها المطلقة عند ثبوت الحجم :



16- كمية معينة من غاز حجمها ( 5 L ) ودرجة حرارتها ( 300 K ) وضغطها ( 101.3 kPa ) فإذا أصبحت درجة حرارتها ( 600 K ) وضغطها ( 202.6 kPa ) فإن حجمها يساوي :

5 L ( )      7.5 L ( )      1.5 L ( )      10 L ( )

17- عينة من الهواء تشغل حجماً قدره ( 500 mL ) عندما كان ضغطها ( 25.325 kPa ) وحرارتها ( 300 K ) ، فإذا أصبح حجمها ( 0.35 L ) وضغطها ( 50.65 kPa ) ، فإن درجة حرارتها تساوي :

319.2 K ( )      0.42 K ( )      420 K ( )      420 °C ( )

### السؤال الرابع: أكمل الفراغات في الجمل والمعادلات التالية بما يناسبها علمياً :

1- عند ثبوت درجة الحرارة المطلقة فإن حجم كمية معينة من الغاز يتناسب..... مع الضغط الواقع عليها

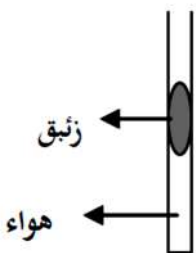
2- إذا كانت قيمة حاصل ضرب (  $P_1V_1$  ) لكمية من الغاز تساوي ( 506.6 kPa.L ) فإن تغير حجمها إلى ( 25 L )

عند ثبوت درجة الحرارة ، فإن ضغطها ( P2 ) يساوي kPa .....

3- عينة من غاز الهيدروجين موضوعة في إناء عند درجة حرارة (  $-50\text{ °C}$  ) فتكون درجة حرارتها المطلقة K .....

4- درجة الحرارة التي ينعدم عندها حجم الغاز نظرياً بفرض ثبات ضغطه تساوي °C .....

5- عند تسخين الأنبوبة الموضحة في الشكل المقابل ، فإن حجم الغاز المحصور



6- عينة من الهواء موضوعة في إناء حجمه ( 800 mL ) عند درجة (  $22\text{ °C}$  ) ، فإذا ظل الضغط ثابتاً

وتغيرت درجة حرارتها إلى (  $97\text{ °C}$  ) ، فإن حجم هذه العينة يصبح L .....

7- كمية من غاز الأكسجين تشغل حجماً قدره ( 10 L ) تحت ضغط ( 202.6 kPa ) وعند درجة (  $27\text{ °C}$  ) فإن أصبح

حجمها ( 20 L ) و ضغطها ( 96 kPa ) ، فإن درجة حرارتها تكون °C .....

8- كمية من غاز الأرجون تشغل حجماً قدره ( 1000 mL ) تحت ضغط ( 101.3 kPa ) و عند درجة حرارة

(  $25\text{ °C}$  ) فإذا سخنت لدرجة حرارة (  $50\text{ °C}$  ) تحت ضغط ( 202.6 kPa ) فإن حجمها يصبح L .....



**السؤال الخامس : علل لكل مما يلي تعليلا علميا سليما:**

1- الحجم الذي تشغله كمية معينة من أي غاز عند ضغط ( 101.3 kPa ) ضعف الحجم الذي تشغله نفس الكمية عند ضغط ( 202.6 kPa ) بفرض ثبات درجة الحرارة.

2- تستخدم درجة الحرارة المطلقة (الكلفن) و ليست درجة الحرارة السليزية في قوانين الغازات

3- يزداد ضغط كمية معينة من الغاز على جدران الوعاء الحاوي له عند رفع درجة الحرارة مع ثبوت حجم الوعاء

4- ينصح بعدم ملء إطارات السيارة بكمية زائدة من الهواء و خاصة في فصل الصيف .

**السؤال السادس: ماذا تتوقع أن يحدث في كل من الحالات التالية مع التفسير :**

1-زيادة حجم كمية محصورة من غاز إلى الضعف ( عند ثبوت درجة الحرارة )

التوقع لضغط الغاز : .....

التفسير : .....

2-لبالون مملوء بغاز النيتروجين عند وضعة في وعاء به ثلج

التوقع : .....

التفسير : .....

3- لعبوة الرذاذ عند تعرضها لدرجة حرارة مرتفعة ( أو القاءها في النار )

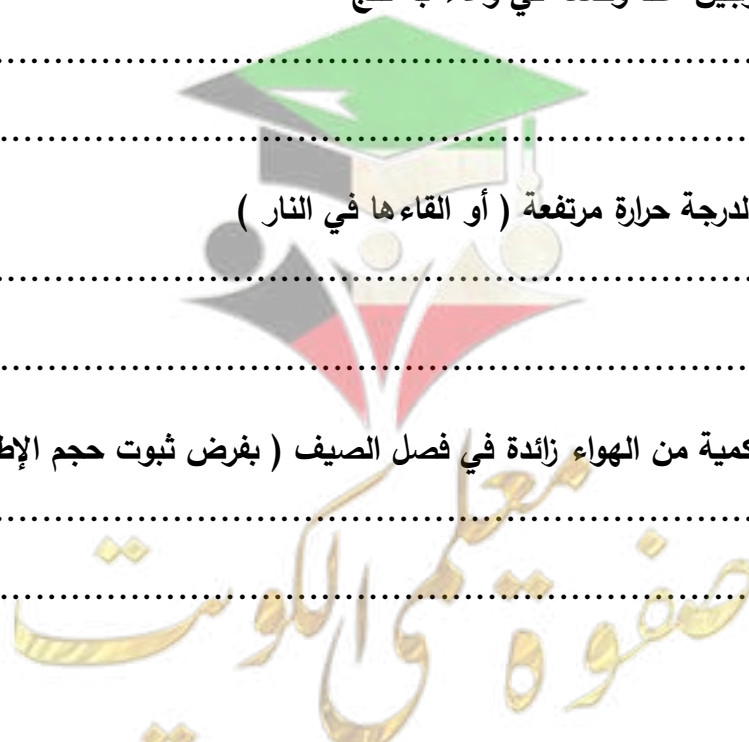
التوقع : .....

التفسير : .....

4- لإطار السيارة عند ملئه بكمية من الهواء زائدة في فصل الصيف ( بفرض ثبوت حجم الإطار )

التوقع : .....

التفسير : .....





**السؤال السابع : حل المسائل التالية :**

1- عينة من غاز النيون تشغل حجماً قدره ( 10 L ) عند درجة حرارة ( 40 °C ) و تحت ضغط ( 101.3 kPa )  
فما هو الضغط اللازم ليصبح حجم هذه العينة من الغاز ( 4 L ) مع ثبات الحرارة ؟

.....  
.....  
.....

2- عينة من غاز النتروجين كتلتها ( 10 g ) تشغل حجماً قدره ( 12 L ) عند درجة ( 30 °C ) ، احسب درجة الحرارة  
السييليزية اللازمة ليصبح حجم هذه العينة من الغاز ( 15 L ) مع ثبات الضغط .

.....  
.....  
.....  
.....

3- عينة من غاز ثاني اكسيد الكربون تشغل حجماً قدره ( 20 L ) عندما تكون درجة حرارتها ( 37 °C ) ، احسب حجم  
هذه العينة من الغاز عندما تصبح درجة حرارتها ( 57 °C ) عند ثبات الضغط .

.....  
.....  
.....  
.....

4- كمية معينة من غاز الهيليوم موضوعة في إناء عند درجة ( 30 °C ) و تحت ضغط ( 121.26 kPa )  
فما هو ضغطها إذا سخنت إلى درجة ( 60 °C ) مع ثبات حجمها ؟

.....  
.....  
.....

5- بالون حجمه ( 3 L ) مملوء بغاز الهيليوم عند درجة حرارة ( 27 °C ) و تحت ضغط ( 121.56 kPa ) ترك ليرتفع في  
السماء حيث وصل إلى نقطة قل فيها ضغطه حتى أصبح ( 60.78 kPa ) فتمدد حجمه إلى ( 5 L ) فما هي درجة  
الحرارة السيليزية التي يتعرض لها هذا البالون عند هذا الارتفاع ؟

.....  
.....  
.....

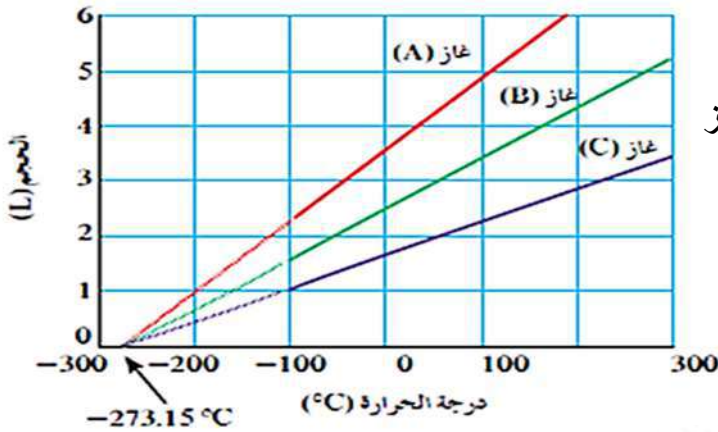


6- عينة من غاز الكلور تشغل حجماً قدره ( 18 L ) عند درجة ( 18 °C ) وتحت ضغط ( 101.3 kPa ) احسب حجم هذه العينة من الغاز عند درجة ( 237 K ) و تحت ضغط ( 50.65 kPa ) .

7- عينة من غاز الأكسجين تشغل حجماً قدره ( 6 L ) عند درجة ( 47 °C ) وتحت ضغط ( 126.6 kPa ) احسب حجم هذه العينة من الغاز في الظروف القياسية

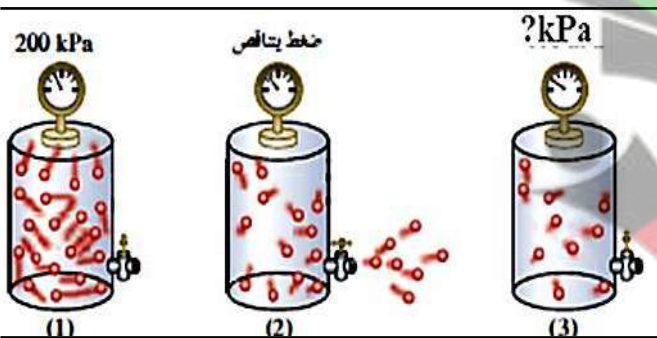
### السؤال الثامن : أجب عن الأسئلة التالية :

#### 1- من الرسم البياني التالي :



يلاحظ أن الخطوط الثلاثة التي تمثل العلاقة بين حجم الغاز ودرجة الحرارة المطلقة للغازات الثلاثة تتقاطع كلها عند درجة حرارة تساوي ..... و التي تسمى .....

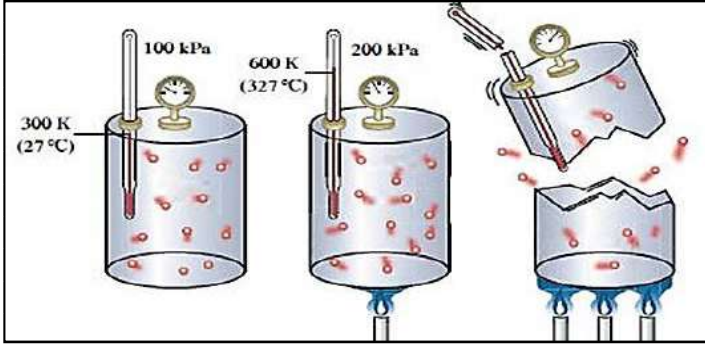
2- في الشكل التالي إذا أصبح عدد الجسيمات في الوعاء رقم ( 3 ) نصف عدد الجسيمات في الوعاء رقم ( 1 )



فإن الضغط في الوعاء رقم ( 3 ) يساوي .....

3- ماذا تتوقع أن يحدث لحجم كمية من الغاز في وعاء قابل للتمدد والانكماش عند رفع درجة الحرارة المطلقة للضعف وزيادة الضغط للضعف

4- في الشكل التالي :



ما سبب انفجار الوعاء الثالث؟

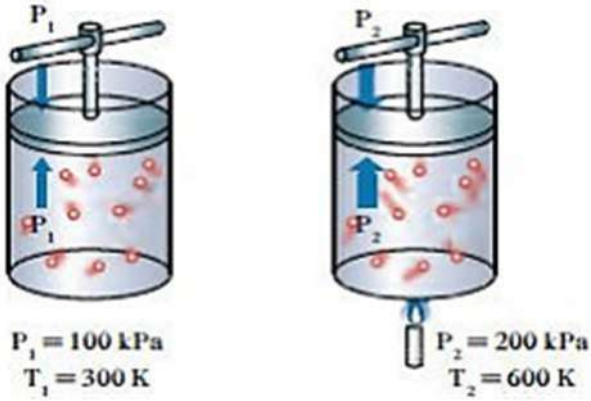
.....

.....

.....

.....

5- في الشكل المقابل ماذا تلاحظ ؟



➤ عند خفض درجة الحرارة لدرجة ( 150 K ) يكون ضغط الغاز

..... المتوقع يساوي

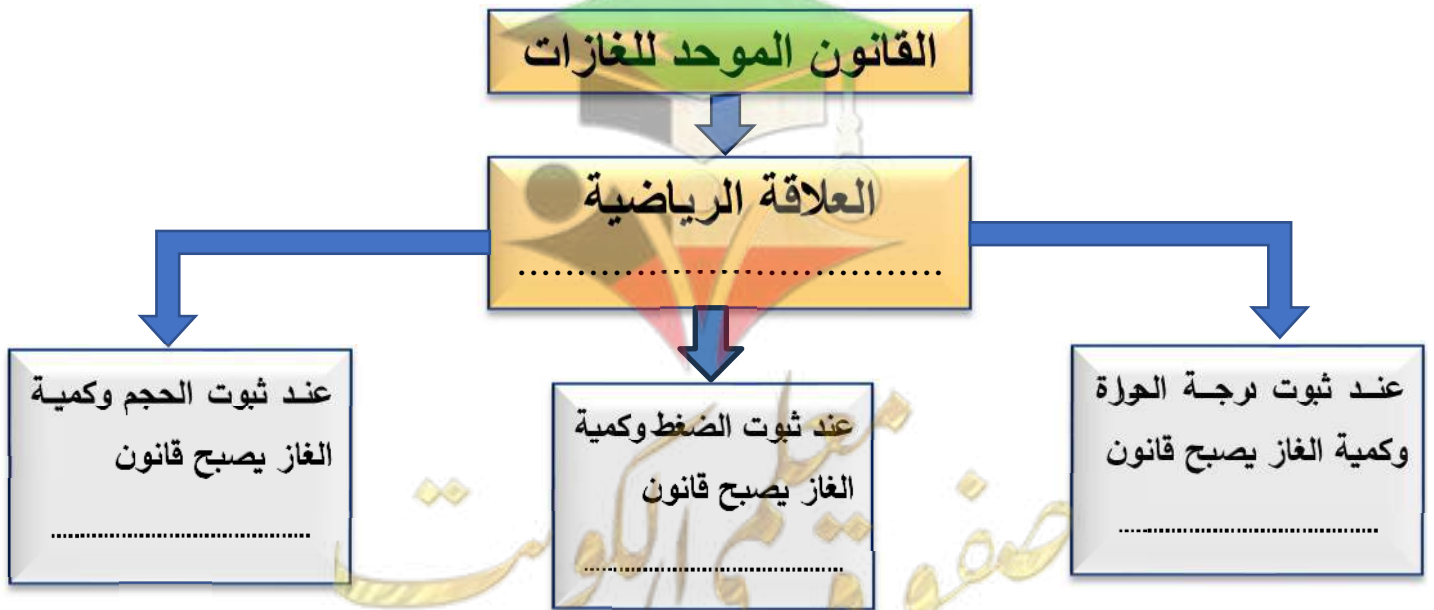
➤ ما العلاقة الرياضية التي يعبر عنها الشكل السابق

.....

6- قارن بين كل مما يلي :

القانون الموحد للغازات	قانون جاي لوساك	قانون تشارلز	قانون بويل	وجه المقارنة
.....	.....	.....	.....	يوضح العلاقة بين
.....	.....	.....	.....	الثوابت
.....	.....	.....	.....	العلاقة الرياضية

7- من خلال دراستك لقوانين الغازات أكمل المخطط التالي :





8- اكمل الجدول التالي الذي يوضح العلاقة بين حجم كمية معينة من غاز ما وضغطه عند درجة حرارة ثابتة، ثم أجب عن ما يلي :

P	V	
100 kPa	1 L	1
50 kPa	2 L	2
.....	0.5 L	3
400 kPa	.....	4

1- القانون الذي يدرس هذه العلاقة هو قانون .....

2- اكتب العلاقة الرياضية لهذا القانون .....

3- إذا تغير حجم غاز من ( 1 L ) إلى ( 0.25 L ) مع ثبات درجة الحرارة

فإن الضغط .....

4- احسب قيمة المقدار الثابت ( K ) .....

5- ارسم علاقة بيانية بين الحجم والضغط

6- عند ثبات درجة الحرارة ، كلما زاد الضغط على كمية محددة من الغاز قلّ حجمه، ما مدى صحة العبارة ، مع التفسير ؟

- العبارة ( صحيحة - خاطئة ) : .....

- التفسير.....

9- اكمل الجدول التالي الذي يوضح العلاقة بين ضغط كمية معينة من غاز ما و درجة حرارته المطلقة عند ثبوت الحجم . ثم أجب عن ما يلي :

T	P	
200 K	100 kPa	1
400 K	200 kPa	2
100 K	.....	3
.....	300 kPa	4

1- ما اسم القانون الذي يدرس هذه العلاقة .....

2- ما العلاقة بين الضغط ودرجة الحرارة المطلقة .....

3- كم تكون قيمة المقدار الثابت ( K ) : .....

4- اكتب العلاقة الرياضية لهذا القانون .....

5- ارسم علاقة بيانية بين الضغط و درجة الحرارة المطلقة:



## الفصل الثاني : قوانين الغازات

### الدرس 2-2 : الغازات المثالية

**السؤال الأول:** اكتب بين القوسين الاسم او المصطلح العلمي الذي تدل عليه كل من العبارات التالية:

1- الغاز الذي يتبع قوانين الغازات عند جميع ظروف الضغط و درجة الحرارة . ( ..... )

**السؤال الثاني :** اكتب كلمة ( صحيحة ) بين القوسين المقابلين للعبارة الصحيحة وكلمة ( خطأ ) بين القوسين المقابلين للعبارة الخطأ في كل مما يلي:

1- من خواص الغاز المثالي أن جسيماته لا تتجاذب و لا تتنافر مع بعضها البعض. ( )

2- تشغل كتلة قدرها ( 8g ) من غاز الميثان (  $CH_4 = 16$  ) حجما قدره ( 12.3 L ) عند درجة (  $27^\circ C$  ) وتحت ضغط

( 101.3 kPa ) علما بأن (  $R = 8.31$  ) . ( )

3- درجة الحرارة التي تشغل عنده كتلة قدرها ( 8 g ) من غاز الهيليوم (  $He = 4$  ) حجما قدره ( 33.24 L ) تحت

ضغط ( 150 kPa ) تساوي (  $27^\circ C$  ) تقريبا علما بأن (  $R = 8.31$  ) . ( )

**السؤال الثالث :** اختر الإجابة الصحيحة لكل من العبارات التالية وضع علامة (√) في القوس المقابل لها:

1- الحجم الذي يشغله ( 0.5 mol ) من غاز ثاني أكسيد الكربون عند درجة حرارة (  $27^\circ C$  ) وتحت ضغط

( 101.3 kPa ) يساوي : (  $R = 8.31 \text{ kPa} \cdot \text{L} / \text{mol} \cdot \text{K}$  )

( 4.46 L ) ( )      2.46 L ( ) ( )      24.6 L ( ) ( )      12.3 L ( ) ( )

2- عينة كتلتها ( 4 g ) من غاز الهيدروجين موضوعة تحت ضغط ( 126.68 kPa ) في اناء حجمه

( 32.8 L ) فإذا كانت (  $R = 8.31$  ,  $H = 1$  ) فإن درجة حرارة العينة تساوي :

(  $250^\circ C$  ) ( )      23  $^\circ C$  ( ) ( )      250 K ( ) ( )      - 23 K ( ) ( )

3- عينة من غاز النيتروجين تشغل حجما قدره ( 24.62 L ) تحت ضغط ( 202.6 kPa ) ودرجة حرارة

(  $27^\circ C$  ) فإذا علمت أن (  $R = 8.31$  ) ، فإن عدد مولات النيتروجين في هذه الكمية من الغاز تساوي :

( 1 mol ) ( )      0.164 mol ( ) ( )      22.22 mol ( ) ( )      2 mol ( ) ( )

4- عينة كتلتها ( 8 g ) من غاز الميثان (  $CH_4$  ) موضوعة في اناء مجهول الحجم تحت ضغط ( 81.07 kPa )

وعند درجة ( 400 K ) ، فإذا كانت (  $R = 8.31$  ,  $H = 1$  ,  $C = 12$  ) فإن حجم الاناء يساوي :

( 20.5 L ) ( )      0.027 L ( ) ( )      0.43 L ( ) ( )      328 mL ( ) ( )

5- عينة من غاز النيون (  $Ne = 20$  ) موضوعة تحت ضغط ( 76 kPa ) في اناء حجمه ( 32.81 L )

ودرجة حرارته (  $27^\circ C$  ) فإذا كانت (  $R = 8.31$  ) فإن كتلة العينة تساوي :

( 10 g ) ( )      20 g ( ) ( )      11.1 g ( ) ( )      1 g ( ) ( )





6- أحد فروض النظرية الحركية للغازات والذي لا ينطبق على أي غاز حقيقي هو :

- ( ) تتحرك جسيمات الغاز بسرعة في حركة عشوائية .  
( ) ضغط الغاز ينشأ عن التصادمات المستمرة بين جسيمات الغاز مع جدار الوعاء .  
( ) لا توجد قوى تنافر أو تجاذب بين جسيمات الغاز .  
( ) متوسط الطاقة الحركية لجسيمات الغاز تتناسب طردياً مع درجة الحرارة المطلقة للغاز .

**السؤال الرابع: أكمل الفراغات في الجمل والمعادلات التالية بما يناسبها علمياً :**

1- عدد مولات غاز النيتروجين الموجودة في ( 500 mL ) منه و عند درجة حرارة ( 20 °C ) و ضغط 202.6 KPa تساوي ..... مول ( R = 8.31 )

2- كمية معينة من غاز النيتروجين تشغل حجماً قدره ( 550 mL ) تحت ضغط ( 72.94 kPa ) وعند

درجة ( 0 °C ) فتكون كتلتها g ..... ( R = 8.31 ) , ( N = 14 )

3- كمية من غاز الهيليوم كتلتها ( 16 g ) عند درجة حرارة ( 27 °C ) وتحت ضغط ( 202.6 kPa ) فإن حجمها

يساوي L ..... ( R=8.31 ) , ( He = 4 )

4- كمية معينة من غاز الأمونيا ( NH<sub>3</sub> ) كتلتها ( 68 g ) تشغل حجماً قدره ( 65.6 L ) عند درجة حرارة

( 127 °C ) فإن قيمة ضغطها يساوي kPa ..... ( R = 8.31 ) , ( N = 14 , H = 1 )

5- من خواص الغاز المثالي أن حجم جسيماته يمكن ..... بالنسبة للحجم الذي تشغله هذه الجسيمات .

6- يختلف الغاز الحقيقي عن الغاز المثالي الافتراضي في إمكانية .....


**السؤال الخامس : حل المسائل التالية :**

1- احسب الحجم الذي تشغله كمية قدرها ( 0.5 mol ) من غاز النيتروجين ، موضوعة في إناء عند درجة

( 27 °C ) وتحت ضغط ( 202.6 kPa ) علماً بأن ( R = 8.31 )

2- احسب الضغط الذي يحدثه ( 0.9 mol ) من غاز النيتروجين الموجود في إناء حجمه ( 2.7 L ) عند

درجة ( 35 °C ) ( R = 8.31 ) .





التوجيه الفني العام للعلوم – بنك أسئلة الكيمياء ( الجزء الأول ) – الصف ( 12 علمي ) – 2024 / 2025 م – ( 18 )

3- عينة من غاز الأكسجين حجمها (1500 mL) عند درجة (20°C) و تحت ضغط (60.78 kPa) احسب :

أ - حجم العينة باللتر عندما يصبح ضغطها ( 50.65 kPa ) عند ثبوت درجة الحرارة .

ب - ضغط العينة عند درجة ( 0 °C ) عند ثبوت الحجم .

ج - درجة حرارة العينة عندما يصبح حجمها ( 1.75 L ) و ضغطها ( 80 kPa ) .

د - عدد مولات الأكسجين في هذه العينة (  $R = 8.31$  ) .

4- عينة من غاز تشغل حجماً قدره ( 2L ) عند درجة (27 °C) و تحت ضغط (101.3 kPa) فإذا علمت أن كتلة

هذه العينة تساوي ( 2.6 g ) و أن (  $R = 8.31$  ) فاحسب الكتلة الجزيئية لهذا الغاز .

5- عينة من غاز الأكسجين  $O_2$  كتلتها ( 8 g ) احسب الضغط اللازم ليصبح حجمها ( 6.15 L ) عند

درجة (27 °C) ، علماً أن (  $R = 8.31$  ) ، (  $16 = O$  )

صفوة معلم الكويت



التوجيه الفني العام للعلوم – بنك أسئلة الكيمياء ( الجزء الأول ) – الصف ( 12 علمي ) – 2025 / 2024 م – ( 19 )

6- ما كتلة غاز النيتروجين الموجودة في إناء حجمه ( 1500 mL ) و تحت ضغط ( 96.25 kPa ) و عند درجة ( 0 °C ) ، ( N = 14 ) ، ( R = 8.31 ) .

**السؤال السادس : أجب عن الأسئلة التالية :**

1- أكمل الجدول التالي

الغاز الحقيقي	الغاز المثالي	وجه المقارنة
.....	.....	قوي التجاذب بين الجسيمات ( توجد - لا توجد )
.....	.....	حجم الجسيمات بالنسبة لحجم الغاز ( تهمل - لا تهمل )
.....	.....	احتمال الإسالة بالضغط والتبريد ( يمكن - لا يمكن )

2- اختر من القائمة ( ب ) ما يناسب القائمة ( أ ) بوضع الرقم المناسب أمامها بين القوسين :

العمود ( ب )	الرقم	العمود ( أ )	الرقم
جسيمات الغاز صغيرة جداً مقارنة مع المسافات التي تفصل بينها	1	احد فرضيات النظرية الحركية للغازات و لا ينطبق علي الغاز الحقيقي	(.....)
قانون تشارلز	2	احد فرضيات النظرية الحركية للغازات و الذي يفسر قابلية الغاز للانضغاط	(.....)
القانون الموحد للغازات	3	احد قوانين الغازات يوضح العلاقة بين الحجم و درجة الحرارة المطلقة عند ثبوت ( P , n )	(.....)
تحدث تصادمات مستمرة بين جسيمات الغاز و جدران الاناء	4	احد قوانين الغازات يوضح العلاقة بين الحجم و درجة الحرارة المطلقة و الضغط عند ثبوت ( n )	(.....)
لا توجد قوى تجاذب أو تنافر بين جسيمات الغاز	5		

صفوة على الكلوب



## الفصل الثاني : قوانين الغازات

### الدرس 2-3 : الجسيمات الغازية مخالبتها و حركتها

#### السؤال الأول: اكتب بين القوسين الاسم او المصطلح العلمي الذي تدل عليه كل من العبارات التالية:

- 1- الحجم المتساوية من الغازات المختلفة عند درجة الحرارة والضغط نفسيهما ، تحتوي على أعداد متساوية من الجسيمات. (.....)
- 2- حجم المول الواحد من أي غاز عند الظروف القياسية يساوي ( 22.4 L ) . (.....)
- 3- الضغط الناتج عن أحد مكونات خليط غازي اذا شغل حجما مساويا لحجم الخليط عند درجة الحرارة نفسها. (.....)
- 4- عند ثبات الحجم ودرجة الحرارة ، يكون الضغط الكلي لخليط من عدة غازات لا تتفاعل مع بعضها البعض يساوي مجموع الضغوط الجزئية للغازات المكونة للخليط (.....)

#### السؤال الثاني : اكتب كلمة ( صحيحة ) بين القوسين المقابلين للعبارة الصحيحة وكلمة ( خطأ ) بين القوسين المقابلين للعبارة الخطأ في كل مما يلي:

- 1- الحجم الذي يشغله المول من غاز الهيدروجين (  $H = 1$  ) يساوي الحجم الذي يشغله المول من غاز الأكسجين (  $O = 16$  ) عند قياس هذه الحجم في نفس الظروف من الضغط والحرارة. ( )
- 2- يشغل ( 0.25 mol ) من غاز الهيدروجين في الظروف القياسية حجما قدره ( 0.25 L ) . ( )
- 3- المول الواحد من الغاز المثالي يشغل في الظروف القياسية حجما قدره ( 22.4 L ) . ( )
- 4- يتناسب حجم كمية معينة من الغاز تناسباً طردياً مع عدد مولاته عند ثبوت كل من (  $T, P$  ) . ( )
- 5- عند زيادة كمية غاز الهيليوم في وعاء حجمه ثابت يحتوي خليط من غازي الهيليوم والنيتروجين عند درجة حرارة ثابتة فإن الضغط الجزئي لغاز النيتروجين يزداد . ( )
- 6- اذا كان الضغط الجزئي لغاز النيون ( 100 kPa ) والضغط الكلي في وعاء يحتوي على خليط من الغازات يساوي ( 300 kPa ) فإن الضغط الجزئي للغاز الأخرى يساوي ( 200 kPa ) . ( )
- 7- يعتمد الضغط الجزئي لأحد مكونات خليط غازات لا تتفاعل مع بعضها البعض في وعاء حجمه ثابت على عدد مولاته فقط عند ثبوت درجة الحرارة. ( )
- 8- لا يتوقف ضغط الغاز على نوع جسيمات الغاز لأن لكل جسيم القدر نفسه من المساهمة في الضغط . ( )

#### السؤال الثالث : اختر الإجابة الصحيحة لكل من العبارات التالية وضع علامة (√) في القوس المقابل لها:

- 1- الحجم الذي يشغله 0.742 mol من غاز الأرجون عند الظروف القياسية يساوي :  
166 L ( )      6.6 L ( )      16.6 L ( )      1.66 L ( )
- 2- الحجم الذي يشغله ( 10 g ) من النيون (  $Ne = 20$  ) في الظروف القياسية يساوي :  
30 L ( )      22.4 L ( )      11.2 L ( )      10 L ( )



3- إذا علمت أن (  $O = 16$  ,  $C = 12$  ) فإن الحجم الذي تشغله كتلة قدرها ( 11 g ) من غاز ثاني

أكسيد الكربون (  $CO_2$  ) في الظروف القياسية يساوي :

( ) 22.4 L ( ) 5.6 L ( ) 11.2 L ( ) 44.8 L

4- عينة قدرها ( 2 mol ) من غاز الهيليوم تشغل حجماً قدره ( 40 L ) في ظروف معينة من الضغط والحرارة ، فإذا

ظلت نفس الظروف ثابتة ، فإن ( 1 mol ) من غاز الهيليوم سوف يشغل حجماً قدره :

( ) 20 L ( ) 80 L ( ) 10 L ( ) 40 L

5- احدى العبارات التالية لا تتفق وقوانين الغازات وهي :

( ) عند ثبوت كل من (  $T$  ,  $P$  ) فإن (  $V \propto n$  ) ( ) عند ثبوت كل من (  $T$  ,  $n$  ) فإن (  $V \propto P$  )

( ) عند ثبوت كل من (  $P$  ,  $n$  ) فإن (  $V \propto T$  ) ( ) عند ثبوت كل من (  $V$  ,  $n$  ) فإن (  $P \propto T$  )

6- اثناء يحتوي على غاز  $N_2$  حجمه 1L عند ضغط 101.3kPa و اثناء اخر يحتوي على غاز  $O_2$  حجمه 1L عند

ضغط 101.3kPa و تم خلطهما معا في اثناء حجمه 1L فيكون .

( ) الحجم الكلي 1L والضغط الكلي 101.3kPa ( ) الحجم الكلي 1L والضغط الكلي 202.6kPa

( ) الحجم الكلي 2L والضغط الكلي 101.3kPa ( ) الحجم الكلي 2L والضغط الكلي 202.6kPa

### السؤال الرابع: أكمل الفراغات في الجمل والمعادلات التالية بما يناسبها علمياً :

1- عند ثبوت الضغط و درجة الحرارة ، فإن حجم الغاز يتناسب تناسباً ..... مع عدد مولاته.

2- المول الواحد ( الحجم المولي ) من الغاز يشغل في الظروف القياسية حجماً قدره L ..... تقريباً .

3- يحتوي المول الواحد من الغاز على ..... جسيم في الظروف القياسية من الضغط ودرجة الحرارة

4- الحجم الذي يشغله  $4.02 \times 10^{22}$  جزيء من غاز الهيليوم عند الظروف القياسية يساوي ..... لتر

5- عدد جزيئات النيتروجين الموجودة في 5.6 L من الغاز عند الظروف القياسية ..... جزيء

6- عدد الجسيمات الموجودة في ( 2L ) من غاز الهيدروجين ..... عدد الجسيمات الموجودة في ( 2L ) من

غاز الأكسجين عند نفس الظروف من الضغط و درجة الحرارة .

7- عدد جسيمات غاز الأكسجين الموجودة في ( 1L ) منه ..... عدد جسيمات التي توجد في ( 2L ) من

غاز الهيدروجين عند قياسهما تحت نفس الظروف من الضغط و درجة الحرارة .

8- إذا كانت (  $N=14$  ) ، فإن ( 14 g ) من غاز النيتروجين  $N_2$  تشغل في الظروف القياسية حجماً قدره L .....

9- اثناء حجمه ( 5.6 L ) وضع فيه ( 0.05 mol ) من غاز النيتروجين ، ( 0.2mol ) من غاز الأكسجين في الظروف

القياسية ، فيكون حجم النيتروجين فقط في هذا الإناء هو L .....

10- عند مزج الغاز A ضغطه الجزئي يساوي 100kPa مع الغاز B ضغطه الجزئي 70kPa في وعاء بفرض عدم تفاعل

الغازين فان الضغط الكلي في الوعاء يساوي kPa .....

11- كلما ارتفعنا عن سطح البحر ..... الضغط الجوي الكلي .



**السؤال الخامس : علل لكل مما يلي تعليلاً علمياً أو اكتب التفسير العلمي :**

1- عند نفس الظروف من الضغط ودرجة الحرارة وبغض النظر عن حجم الجسيمات فإن نفس العدد من جسيمات الغازات المختلفة تشغل حجوماً متساوية.

2- حجم بالون يحتوي على ( 11 ) جرام من غاز ثاني أكسيد الكربون (  $CO_2 = 44$  ) يساوي حجم بالون يحتوي على ( 5 ) جرام من غاز النيون (  $Ne = 20$  ) عند الظروف القياسية .

3- يجب أن يحمل متسلقوا الجبال والطيرون الذين يبلغون ارتفاعات عالية امدادات اكسجين إضافية .

**السؤال السادس : ماذا تتوقع أن يحدث في كل من الحالات التالية مع التفسير :**

1- لتنفس متسلق الجبال عند صعوده الي قمة افرست

التوقع : .....

التفسير : .....

2- للضغط الجزئي لغاز النيتروجين عند زيادة عدد مولات الهيليوم في وعاء صلب يحتوي علي غازي

النيتروجين و الهيليوم في درجة حرارة ثابتة

التوقع : .....


التفسير : .....

**السؤال السابع : حل المسائل التالية :**

1- مخلوط من غازات النيون و الهيليوم والأرجون موضوع في إناء حجمه ( 4 L ) عند درجة حرارة معينة ، فإذا علمت أن

الضغوط الجزئية لهذه الغازات في هذا الإناء على الترتيب هي ( 60.78 kPa ) ، ( 40.52 kPa ) ،

( 20.26 kPa ) فما هو الضغط الكلي للغازات في هذا الإناء .





2- يحتوي خليط غازي على أكسجين ونيروجين وثاني أكسيد الكربون ، ويساوي ضغطه الكلي  $32.9\text{kPa}$  . إذا علمت أن الضغوط الجزئية للغازات كالتالي  $P_{\text{O}_2} = 6.6\text{ kPa}$  ،  $P_{\text{N}_2} = 23\text{ kPa}$  ، احسب الضغط الجزئي لغاز ثاني أكسيد الكربون  $P_{\text{CO}_2}$

3- إناء حجمه ( 10 L ) عند درجة حرارة ( 300 K ) و يحتوي على ( 0.6 mol ) من غاز النيتروجين و ( 0.4 mol ) من غاز الهيدروجين ، فاحسب الضغط الكلي داخل هذا الإناء (  $R = 8.31$  ) .

### السؤال الثامن : أجب عن الأسئلة التالية

1- أمامك ثلاث بالونات ( a , b , c ) تحتوي علي ثلاث غازات مختلفة تحت نفس الظروف من الضغط و درجة الحرارة

a	b	c
$N = 14$	$H = 1$	$O = 16$
$m_s = 0.56\text{ g}$	$m_s = 0.4\text{ g}$	$m_s = 0.64\text{ g}$

أجب عمّا يلي علما بأن (  $R = 8.31$  ) :

1- حجم البالون ( a ) ..... حجم البالون ( b ) .

2- حجم غاز الهيدروجين داخل البالون ( b ) في الظروف القياسية يساوي ..... لتر


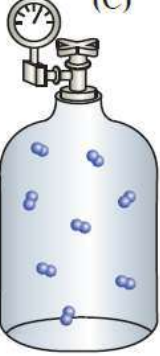
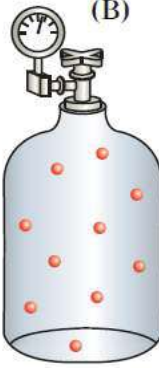

3- عدد جزيئات غاز الاكسجين داخل البالون ( c ) في الظروف القياسية تساوي ..... لتر

4- عدد جزيئات الغاز داخل البالون ( c ) ..... عدد جزيئات الغاز داخل البالون ( b ) تحت ظروف STP

5- حجم البالون ( a ) ..... حجم البالون ( c ) . فسر اجابتك ؟

صفوة معلمي الكويت

2- مُزجت الغازات الموجودة في الأوعية (A)، (B)، (C) في الوعاء (D) والأوعية كلها متساوية الحجم، وعند نفس درجة الحرارة .

			
$P_T = ?$	350 kPa	250 kPa	150 kPa

1- أجب عمّا يلي :

- أ- الضغط الكلي للخليط في الوعاء ( D ) يساوي .....
- ب- اسم القانون المستخدم .....
- ج- عند ثبات الحجم ودرجة الحرارة فإن ضغط الغاز في الوعاء يتناسب ..... مع عدد مولاته
- د- يعتمد الضغط الجزئي للغاز على .....

2- ضع علامة ( ✓ ) امام العبارة الصحيحة وعلامة ( × ) امام العبارة غير الصحيحة

- أ- تتغير المساهمة الجزئية للضغط الذي يبذله كل غاز في الخليط بتغير درجة الحرارة والحجم. ( )
- ب- يرتبط ضغط الغاز بعدد جسيمات الغاز الموجودة في حجم معين وبمتوسط طاقتها الحركية فقط. ( )
- ج- لا يتوقف ضغط الغاز على نوع جسيمات الغاز لأن لكل جسيم القدر نفسه من المساهمة في الضغط. ( )

3- الضغط الجزئي للغاز ( B ) في الخليط يساوي 250 kPa ، ما مدى صحة العبارة ، مع التفسير ؟

العبارة: ( صحيحة - خاطئة ) : .....

التفسير : .....

.....

.....



# الوحدة الثانية

سرعة التفاعل الكيميائي

واللاتزان الكيميائي

صفوة معلم الكويت



## الفصل الأول: سرعة التفاعل الكيميائي واللاتزان الكيميائي

### الدرس 1-1 : سرعة التفاعل

#### السؤال الأول:

اكتب بين القوسين الاسم او المصطلح العلمي الذي تدل عليه كل من العبارات التالية:

- 1- كمية المتفاعلات التي يحدث لها تغير في خلال وحدة الزمن. ( ----- )
- 2- يمكن للذرات والأيونات والجزيئات أن تتفاعل وتكون نواتج عندما يصطدم بعضها ببعض ، بطاقة حركية كافية في الاتجاه الصحيح . ( ----- )
- 3- أقل كمية من الطاقة التي تحتاج إليها الجسيمات لتتفاعل. ( ----- )
- 4- جسيمات تظهر خلال التفاعل لا تكون من المواد المتفاعلة ولا المواد الناتجة وتتكون لحظياً عند قمة حاجز التنشيط. ( ----- )
- 5- مادة تزيد من سرعة التفاعل من دون استهلاكها إذ يمكن بعد توقف التفاعل استعادتها من المزيج المتفاعل من دون أن تتعرض لتغير كيميائي. ( ----- )
- 6- مادة تعارض تأثير المادة المحفزة مما يؤدي الى ببطء التفاعلات أو انعدامها ( ----- )

السؤال الثاني : اكتب كلمة ( صحيحة ) بين القوسين المقابلين للعبارة الصحيحة وكلمة ( خطأ ) بين القوسين المقابلين للعبارة الخطأ في كل مما يلي:

- 1- يختلف الوقت اللازم لحدوث تفاعل بشكل ملحوظ بين تفاعل وآخر، ويرتبط ذلك بطبيعة التفاعل نفسه. ( --- )
- 2- غاز الايثين شائع الاستعمال بين المزارعين حيث يحفز درجة النضوج للفاكهة من خلال سلسلة تفاعلات تسرعها طبيعته الغازية وصغر حجمه. ( --- )
- 3- تحدث التفاعلات الكيميائية جميعها بالسرعة نفسها عند الظروف نفسها. ( --- )
- 4- وفق نظرية التصادم كل تصادم بين الجسيمات المتفاعلة يؤدي إلى حدوث تفاعل كيميائي. ( --- )
- 5- يمكن تغيير سرعة أي تفاعل كيميائي بتغيير ظروف التفاعل. ( --- )
- 6- في تفاعل ما يتكون المركب المنشط عند قمة حاجز التنشيط ولا يعتبر من المواد المتفاعلة أو الناتجة. ( --- )
- 7- يؤدي ارتفاع درجة الحرارة في جميع التفاعلات تقريباً إلى زيادة سرعتها. ( --- )
- 8- عدد الجسيمات المتفاعلة في حجم معين لا يؤثر في سرعة التفاعلات. ( --- )
- 9- تفاعل محلول كلوريد الصوديوم مع محلول نترات الفضة أسرع من تفاعل كلوريد الصوديوم الصلب مع نترات الفضة الصلب. ( --- )
- 10- غبار الفحم أنشط من كتل الفحم الكبيرة لأن مساحة السطح المعرض للتفاعل في غبار الفحم أقل. ( --- )
- 11- المواد المحفزة تعمل على زيادة حاجز طاقة التنشيط للتفاعل. ( --- )
- 12- الإنزيمات من المواد المحفزة الحيوية التي تزيد من سرعة التفاعلات البيولوجية. ( --- )
- 13- يفضل التسخين في زيادة سرعة التفاعلات عن استخدام المواد المحفزة في أغلب أنواع التفاعلات الكيميائية ( --- )



**السؤال الثالث : اختر الإجابة الصحيحة لكل من العبارات التالية وضع علامة (√) في القوس المقابل لها :**

1- أسرع التغيرات الكيميائية التالية هي:

- ( ) احتراق شمعة. ( ) صدأ الحديد في الهواء الجوي الرطب.  
( ) نضج الفاكهة. ( ) الشيوخوخة مع التقدم في السن.

2- احدى العبارات التالية لا تعبر عن سرعة التفاعل الكيميائي :

- ( ) كمية المتفاعلات التي يحدث لها تغير خلال وحدة الزمن.  
( ) كمية النواتج من التفاعل في وحدة الزمن.  
( ) مقدار التغير في عدد المولات خلال وحدة الزمن.  
( ) كمية المادة المحفزة اللازمة لبدء التفاعل في وحدة الزمن.

3- وفق نظرية التصادم :

- ( ) كل تصادم بين جسيمات المواد المتفاعلة يؤدي إلى تفاعل.  
( ) التصادمات بين جسيمات المواد المتفاعلة هي الشرط اللازم لحدوث التفاعل لكنه غير كافي.  
( ) التصادمات بين الجسيمات التي لها طاقة أقل من طاقة التنشيط تؤدي إلى تفاعلات بطيئة.  
( ) التصادمات بين الجسيمات التي لها طاقة أكبر من طاقة التنشيط لا تتفاعل.

4- إحدى العبارات التالية غير صحيحة عن المركب المنشط:

- ( ) المركب المنشط لا يعتبر من المواد الناتجة أو المواد المتفاعلة.  
( ) المركب المنشط عبارة عن جسيمات تتكون عند قمة حاجز طاقة التنشيط للتفاعل الكيميائي.  
( ) المركب المنشط يسمى أحيانا بالحالة الانتقالية.  
( ) المركب المنشط لا يمكن أن يتفكك مرة أخرى ليعطي المواد المتفاعلة .

5- لا يحترق الفحم بسرعة يمكن قياسها عند درجة حرارة الغرفة لأن :

- ( ) الأوكسجين يكون في الحالة الغازية والفحم يكون في الحالة الصلبة.  
( ) غاز الاكسجين لا يتصادم مع الفحم الصلب.  
( ) أكسجين الهواء الجوي لا يتفاعل مع الفحم في كل الظروف.  
( ) التصادمات بين جزيئات الأوكسجين والكربون ( الفحم ) غير فعالة وغير نشطة.

6- احدى التغيرات التالية لا تزيد من سرعة التفاعلات الكيميائية :

- ( ) زيادة درجة الحرارة. ( ) زيادة تركيز المواد المتفاعلة.  
( ) زيادة حجم الجسيمات المتفاعلة. ( ) زيادة كمية المادة المحفزة.

7- يؤدي ارتفاع درجة الحرارة في جميع التفاعلات تقريباً إلى زيادة سرعة التفاعلات بسبب زيادة :

- ( ) تركيز المواد المتفاعلة. ( ) احتمالية التصادمات الفعالة بين الجسيمات المتفاعلة.  
( ) طاقة حاجز التنشيط اللازم لبدء التفاعل. ( ) حجم الغازات لثبات ضغطها.



- 8- احدى العبارات التالية غير صحيحة حيث كلما صغر حجم الجسيمات الصلبة المتفاعلة تزداد:
- ( ) مقدار الطاقة اللازمة لتنشيطها. ( ) معدل التصادمات فيما بينها.  
( ) من سرعة التفاعل فيما بينها. ( ) نشاطها.
- 9- أحد أشكال الفحم التالية هي الأقل نشاطاً:
- ( ) غبار الفحم. ( ) الفحم الصلب في درجة حرارة الغرفة.  
( ) بخار الفحم. ( ) الفحم الصلب الساخن.
- 10- جميع الطرق التالية تعمل على نشاط مادة صلبة متفاعلة عدا واحدة وهي:
- ( ) تبريد هذه المادة. ( ) إذابتها في مذيب مناسب.  
( ) طحن المادة وتحويلها إلى مسحوق ناعم. ( ) زيادة درجة حرارتها.
- 11- تعمل المادة المحفزة للتفاعل على:
- ( ) زيادة حاجز التنشيط. ( ) زيادة درجة الحرارة اللازمة لبدء التفاعل.  
( ) إيجاد آلية ذات طاقة تنشيط أقل للتفاعل. ( ) تقليل كمية النواتج في فترة زمنية معينة.
- 12- العامل الذي يعمل على تقليل سرعة التفاعل الكيميائي:
- ( ) زيادة درجة الحرارة. ( ) تقليل حجم الجسيمات المتفاعلة.  
( ) إضافة مادة مانعة للتفاعل. ( ) زيادة تركيز المواد المتفاعلة.

### السؤال الرابع: أكمل الفراغات في الجمل والمعادلات التالية بما يناسبها علمياً :

- 1- تقاس سرعة التفاعل الكيميائي بكمية ..... التي يحدث لها تغير في وحدة الزمن.
- 2- وفق نظرية التصادم فإن الذرات والأيونات والجزيئات يمكن أن تتفاعل وتكون نواتج عندما تصطدم بعضها ببعض إذا كانت تملك ..... كافية و في اتجاه صحيح .
- 3- أقل كمية من الطاقة التي تحتاجها الجسيمات للتفاعل تسمى .....
- 4- المركب المنشط عبارة عن جسيمات تتكون لحظياً عند قمة حاجز .....
- 5- يؤدي ارتفاع درجة الحرارة إلى ..... سرعة التفاعل الكيميائي.
- 6- زيادة تركيز المواد المتفاعلة يزيد من احتمالية ..... لذلك تزداد سرعة التفاعل.
- 7- كلما صغر حجم الجسيمات ..... مساحة السطح لكتلة معينة.
- 8- يمكن زيادة مساحة سطح مادة متفاعلة صلبة إما بإذابتها في مذيب مناسب أو .....
- 9- تتناسب سرعة التفاعل الكيميائي ..... مع حجم الجسيمات المتفاعلة.
- 10- احتراق كتلة كبيرة من الفحم ..... من احتراق الغبار الناعم لفحم.
- 11- الإنزيمات التي تزيد من سرعة هضم السكريات والبروتينات في جسم الإنسان تعتبر من المواد ..... لهذه التفاعلات.
- 12- يمكن زيادة سرعة التفاعل الكيميائي إما برفع درجة الحرارة أو بتقليل حجم الجسيمات المتفاعلة أو بزيادة تركيز المواد المتفاعلة أو بإضافة .....



### السؤال الخامس : علل لكل مما يلي تعليلا علميا سليما:

1- لا يكفي تصادم جسيمات المادة مع بعضها بعض لكي يحدث التفاعل.

2- سرعة تفاعل الكربون مع الاكسجين عند درجة حرارة الغرفة تساوي صفرًا.

3- ارتفاع درجة حرارة المواد المتفاعلة يؤدي إلى سرعة تفاعلها.

4-يزداد توهج رقاقة خشبية مشتعلة عند إدخالها في مخبر مملوء بغاز الأكسجين.

5-يمنع التدخين في المناطق التي يستخدم فيها الأنابيب المعبأة بغاز الأكسجين

6-تزداد سرعة تفاعل الكربون مع الأكسجين عند امداده بطاقة في صورة حرارة.

7-يستمر الفحم في الاشتعال بعد إزالة اللهب عنه.

8-يفسد الطعام بسرعة إذا ترك في درجة حرارة الغرفة خارج الثلاجة.

9- يبقى الطعام صالحا لمدة أطول ( لا يفسد ) عند وضعه في الثلاجة .

10- تفاعل محلول حمض الهيدروكلوريك مع برادة الحديد أسرع من تفاعله مع قطعة من الحديد.

صفوة علمي الكويت



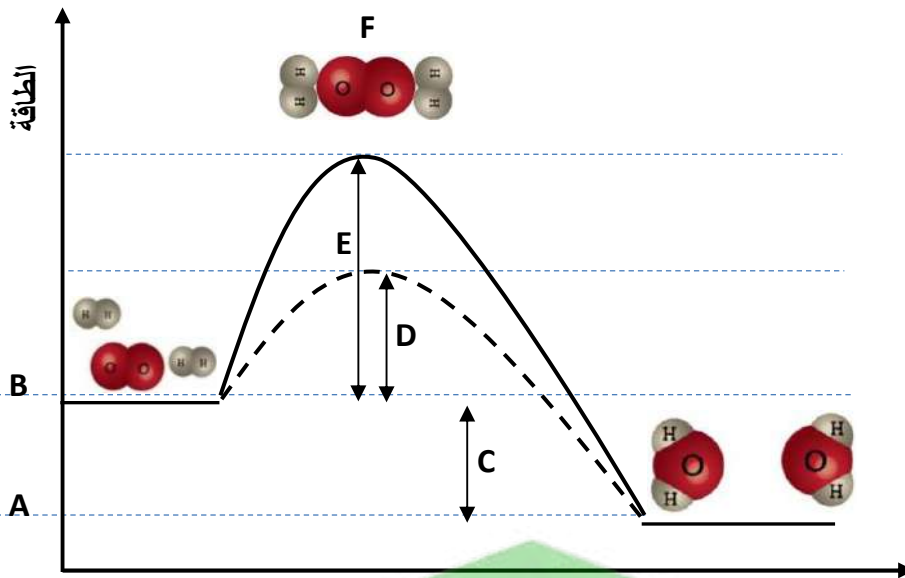
11- يدرك عمال المناجم أن كتل الفحم الكبيرة قد لا تشكل خطراً بقدر غبار الفحم المعلق والمتناثر في الهواء.

12- إضافة مادة محفزة لبعض التفاعلات.

13- تضاف مادة مانعة للتفاعل لبعض التفاعلات الكيميائية.

### السؤال السادس:

قم بدراسة المنحنى التالي وأجب عن الأسئلة التالية



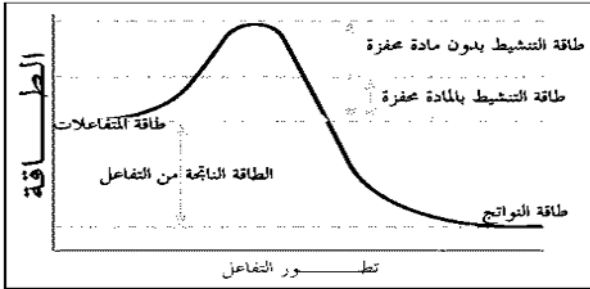
الرمز	المفهوم
.....	طاقة التنشيط في حالة استخدام مادة محفزة
.....	طاقة التنشيط في حالة عدم استخدام مادة محفزة
.....	طاقة المواد المتفاعلة
.....	طاقة المواد الناتجة
.....	المركب المنشط
.....	الطاقة الناتجة من التفاعل

**السؤال السابع: قارن بين كل مما يلي**

التصادم غير المؤثر	التصادم المؤثر	وجه المقارنة
.....	.....	الطاقة والاتجاه
.....	.....	تكوين النواتج

-1

-2



المادة المانعة	المادة المحفزة	وجه المقارنة
.....	.....	طاقة التنشيط
.....	.....	حاجز طاقة التنشيط
.....	.....	سرعة التفاعل

**السؤال الثامن: ماذا تتوقع أن يحدث في كل من الحالات التالية مع ذكر السبب؟ :**

1- لزيادة سرعة التفاعل الكيميائي عند رفع درجة الحرارة

التوقع: .....

التفسير: .....

2- ترك الطعام الرطب لفترة طويلة في درجة حرارة الغرفة

التوقع: .....

التفسير: .....

3- لتوهج رقاقة خشبية مشتعلة عند وضعها في مخبر مملوء بغاز الأكسجين

التوقع: .....

التفسير: .....

4- تدخين أحد عمال مناجم الفحم عند تفتيت كتل الفحم لاستخراجه من المنجم


التوقع: .....

التفسير: .....

5- لزيادة سرعة التفاعل الكيميائي عند إضافة مادة محفزة

التوقع: .....

التفسير: .....





## الفصل الأول: سرعة التفاعل الكيميائي واللاتزان الكيميائي

### الدرس 1-2 : التفاعلات العكوسة واللاتزان الكيميائي

#### السؤال الأول: اكتب بين القوسين الاسم او المصطلح العلمي الذي تدل عليه كل من العبارات التالية:

- 1- تفاعلات تحدث في اتجاه واحد حتى تكتمل بحيث لا تستطيع المواد الناتجة من التفاعل أن تتحد بعضها مع بعض لتكوين المواد المتفاعلة مرة أخرى تحت ظروف التجربة أو أي ظروف معملية أخرى. ( ----- )
- 2- تفاعلات لا تستمر في اتجاه واحد حتى تكتمل بحيث لا تستهلك المواد المتفاعلة تماماً لتكوين النواتج، فالمواد الناتجة تتحد مع بعضها البعض لتعطي المواد المتفاعلة مرة أخرى تحت ظروف التجربة نفسها. ( ----- )
- 3- تفاعلات عكوسة تكون فيها جميع المواد الداخلة والناتجة من التفاعل في حالة واحدة من حالات المادة. ( ----- )
- 4- تفاعلات عكوسة توجد فيها جميع المواد الداخلة والناتجة من التفاعل في أكثر من حالة واحدة من حالات المادة. ( ----- )
- 5- حالة النظام التي فيها تثبت تركيزات المواد المتفاعلة والمواد الناتجة وبالتالي تكون سرعة التفاعل الطردي مساوية لسرعة التفاعل العكسي طالما بقي النظام بعيداً عن أي مؤثر خارجي. ( ----- )
- 6- عند ثبات درجة الحرارة، تتناسب سرعة التفاعل الكيميائي طردياً مع تركيزات المواد المتفاعلة كل مرفوع لأس يساوي عدد المولات أمام كل مادة في المعادلة الكيميائية الموزونة. ( ----- )
- 7- التركيزات النسبية للمواد المتفاعلة والمواد الناتجة عند الاتزان . ( ----- )
- 8- النسبة بين حاصل ضرب تركيزات المواد الناتجة من التفاعل إلى حاصل ضرب تركيزات المواد المتفاعلة كل مرفوع لأس يساوي عدد المولات في الكيميائية الموزونة. ( ----- )
- 9- إذا حدث تغير في أحد العوامل التي تؤثر في نظام متزن ديناميكياً، يعدل النظام نفسه إلى حالة اتزان جديدة، بحيث يبطل أو يقلل من تأثير هذا التغير. ( ----- )

#### السؤال الثاني : اكتب كلمة ( صحيحة ) بين القوسين المقابلين للعبارة الصحيحة وكلمة ( خطأ ) بين القوسين المقابلين للعبارة الخطأ في كل مما يلي:

- 1- في التفاعلات العكوسة الماصة للحرارة تزداد قيمة ثابت الاتزان بخفض درجة الحرارة. ( --- )
- 2- في التفاعلات العكوسة لا تستهلك المواد المتفاعلة تماماً لتكوين النواتج. ( --- )
- 3- في النظام المتزن التالي: 
$$\text{N}_2(\text{g}) + 3\text{H}_2(\text{g}) \rightleftharpoons 2\text{NH}_3(\text{g}) + 92\text{kJ}$$
 فإن رفع درجة حرارة النظام يعمل على زيادة قيمة ثابت الاتزان  $K_{eq}$ . ( --- )
- 4- عند إضافة مادة محفزة لأي نظام متزن يزيد من قيمة  $k_{eq}$  للنظام ( --- )





- 5- إذا علمت أن قيمة  $K_{eq}$  لتفاعل متزن ما تساوي ( 1.1 ) فإن موضع الاتزان يقع ناحية تكوين المواد الناتجة. ( --- )
- 6- في النظام المتزن التالي:  
 $2NO(g) + Cl_2(g) \rightleftharpoons 2NOCl(g)$   
قيمة ثابت الاتزان  $K_{eq}$  لا تتأثر بتغير الضغط المؤثر. ( --- )
- 7- في النظام المتزن التالي :  
 $3Fe(s) + 4H_2O(g) \rightleftharpoons Fe_3O_4(s) + 4H_2(g)$   
يمكن زيادة إنتاج غاز الهيدروجين بزيادة الضغط. ( --- )
- 8- في النظام المتزن التالي:  
 $C(s) + CO_2(g) \rightleftharpoons 2CO(g)$   
يزداد إنتاج غاز أول أكسيد الكربون عند زيادة الضغط المؤثر على النظام. ( --- )
- 9- في النظام المتزن التالي:  
 $C(s) + O_2(g) \rightleftharpoons CO_2(g) + 393kJ$   
فإن قيمة  $K_{eq}$  عند  $500^\circ C$  أقل من قيمة  $K_{eq}$  لنفس النظام عند  $600^\circ C$  . ( --- )
- 10- في النظام المتزن التالي:  
 $5CO(g) + I_2O_5(g) \rightleftharpoons I_2(g) + 5CO_2(g)$   
يزاح موضع الاتزان نحو تكوين المواد الناتجة عند زيادة حجم إناء التفاعل. ( --- )
- 11- في التفاعل المتزن التالي:  
 $PCl_5(g) \rightleftharpoons PCl_3(g) + Cl_2(g)$   
إذا كان (  $K_{eq} = 4 \times 10^{20}$  ) فإن ذلك يدل على أن موضع الاتزان يقع في اتجاه تكوين المواد الناتجة. ( --- )
- 12- تختلف قيمة ثابت الاتزان باختلاف درجة الحرارة التي يحدث عندها الاتزان. ( --- )
- 13- في النظام المتزن التالي:  
 $2SO_3(g) \rightleftharpoons 2SO_2(g) + O_2(g)$   
إذا كانت قيمة ثابت الاتزان (  $K_{eq}$  ) لهذا النظام عند درجة حرارة معينة تساوي (  $1 \times 10^{-4}$  ) فإنه يمكن زيادة انحلال غاز (  $SO_3$  ) بزيادة الضغط . ( --- )
- 14- زيادة الضغط الواقع على النظام المتزن التالي:  
 $PCl_5(g) \rightleftharpoons PCl_3(g) + Cl_2(g)$   
يقلل من قيمة ثابت الاتزان (  $K_{eq}$  ) لهذا النظام . ( --- )
- 15- عند زيادة تركيز إحدى المواد المشتركة في نظام متزن يزاح موضع الاتزان في اتجاه التفاعل الذي يقلل من تركيز المادة المضافة . ( --- )
- 16- في النظام المتزن التالي :  
 $N_2O_4(g) \rightleftharpoons 2NO_2(g)$   
تزداد شدة اللون البني المحمر عند خفض الضغط .  
عديم اللون بني محمر ( --- )
- 17- قيمة ثابت الاتزان لا تتغير بتغير تراكيز المواد المتفاعلة طالما بقيت درجة الحرارة ثابتة. ( --- )
- 18- زيادة حجم الوعاء لمخلوط من غازات في حالة اتزان يؤدي إلى إزاحة موضع الاتزان في اتجاه تكوين الغازات التي لها عدد مولات أقل. ( --- )



**السؤال الثالث : اختر الإجابة الصحيحة لكل من العبارات التالية وضع علامة (√) في القوس المقابل لها:**

- 1- يصل التفاعل الكيميائي إلى حالة الاتزان عندما:
- ( ) يصبح تركيز المواد المتفاعلة مساويا لتركيز المواد الناتجة.
- ( ) تصبح سرعة التفاعل العكسي مساوية لسرعة التفاعل الطردي.
- ( ) يتوقف كل من التفاعل في الاتجاه الطردي والتفاعل في الاتجاه العكسي.
- ( ) يصبح المحتوى الحراري للمواد المتفاعلة مساويا للمحتوى الحراري للمواد الناتجة.
- 2- إذا كان قيمة ثابت الاتزان (  $K_{eq}$  ) للتفاعل المتزن التالي :  $2HCl(g) \rightleftharpoons H_2(g) + Cl_2(g)$  تساوي (  $2.5 \times 10^{-32}$  ) فإن هذا يدل على أن :
- ( ) تركيز المواد المتبقية من التفاعل كبيرة جداً.
- ( ) تركيز (  $HCl$  ) المتبقي منخفض جداً.
- ( ) التفاعل وصل إلى درجة قريبة من الاكتمال.
- ( ) تركيز (  $H_2$  ) المتكون كبير جداً.
- 3- إذا كانت قيمة ثابت الاتزان (  $K_{eq}$  ) لتفاعل عكوس متزن تساوي (  $1.5 \times 10^{-10}$  ) فإن هذا يدل على أن:
- ( ) عند الاتزان تكون سرعة التفاعل في الاتجاه الطردي أكبر من سرعة التفاعل في الاتجاه العكسي.
- ( ) التفاعل يسير باتجاه تكوين كميات كبيرة من المواد الناتجة.
- ( ) موضع الاتزان يقع باتجاه تكوين المواد المتفاعلة.
- ( ) عند الاتزان تكون سرعة التفاعل في الاتجاه العكسي أكبر من سرعة التفاعل في الاتجاه الطردي.
- 4- في التفاعل المتزن التالي :  $2H_2(g) + CO(g) \rightleftharpoons CH_3OH(g), \Delta H = - 92 \text{ kJ}$  يزداد إنتاج الميثانول (  $CH_3OH$  ) عند :
- ( ) خفض الضغط وخفض درجة الحرارة.
- ( ) زيادة الضغط وزيادة درجة الحرارة.
- ( ) خفض الضغط وزيادة درجة الحرارة.
- ( ) زيادة الضغط وخفض درجة الحرارة.
- 5- في التفاعل المتزن التالي:  $PCl_3(g) + Cl_2(g) \rightleftharpoons PCl_5(g) + 120 \text{ kJ}$  تقل قيمة ثابت الاتزان (  $K_{eq}$  )
- ( ) بارتفاع درجة الحرارة.
- ( ) بزيادة تركيز غاز الكلور.
- ( ) بزيادة الضغط المؤثر على النظام المتزن.
- ( ) بخفض درجة الحرارة.
- 6- في التفاعل المتزن التالي:  $C_2H_6(g) \rightleftharpoons C_2H_4(g) + H_2(g), \Delta H = +138 \text{ kJ}$  يمكن زيادة كمية الايثين (  $C_2H_4$  ) الناتجة :
- ( ) برفع درجة الحرارة.
- ( ) بإضافة الهيدروجين إلى مزيج التفاعل.
- ( ) بزيادة الضغط.
- ( ) بخفض درجة الحرارة.



7- في النظام المتزن التالي :  $\text{CO(g)} + \text{Cl}_2(\text{g}) \rightleftharpoons \text{COCl}_2(\text{g})$

إذا كان التفاعل يتم في وعاء حجمه ( 10 L ) وعدد المولات عند الاتزان لكل من (  $\text{COCl}_2$  ,  $\text{Cl}_2$  ,  $\text{CO}$  ) هي على الترتيب ( 0.2 mol , 0.4 , 0.048 ) فإن قيمة ثابت الاتزان (  $K_{eq}$  ) تساوي :

( ) 6 ( ) 60 ( ) 2.4 ( ) 0.5

8- إذا كانت قيمة ثابت الاتزان لتفاعل ما تساوي (  $6 \times 10^{-18}$  ) فإن هذا يعني أن :

( ) التفاعل الطردى طارد للحرارة. ( ) التفاعل الطردى ماص للحرارة.  
( ) تركيز المواد الناتجة صغير جداً. ( ) يقع موضع الاتزان باتجاه تكوين المواد الناتجة.

9- في التفاعل المتزن التالي :  $\text{C(s)} + \text{CO}_2(\text{g}) \rightleftharpoons 2\text{CO(g)}$

يمكن زيادة كمية غاز ثاني أكسيد الكربون في وعاء التفاعل :

( ) بإضافة المزيد من الكربون. ( ) بزيادة الضغط المؤثر.  
( ) بسحب غاز CO من وسط التفاعل. ( ) زيادة حجم الوعاء.

10- عند زيادة تركيز اليود في النظام المتزن التالي :  $\text{H}_2(\text{g}) + \text{I}_2(\text{g}) \rightleftharpoons 2\text{HI(g)}$

والذي يحدث عند درجة حرارة معينة فإن جميع العبارات التالية صحيحة عدا واحدة :

( ) تنشأ حالة اتزان جديدة. ( ) تزداد قيمة ثابت الاتزان  $K_{eq}$ .  
( ) يزاح موضع الاتزان في اتجاه HI . ( ) تبقى قيمة ثابت الاتزان  $K_{eq}$  ثابتة.

11- في النظام المتزن التالي :  $\text{H}_2(\text{g}) + \text{CO}_2(\text{g}) + 41.1 \text{ kJ} \rightleftharpoons \text{H}_2\text{O(g)} + \text{CO(g)}$

جميع العوامل التالية تؤثر على كمية الهيدروجين عدا واحدة منها هو :

( ) زيادة الضغط الواقع على النظام المتزن. ( ) رفع درجة الحرارة.  
( ) إضافة غاز (  $\text{CO}_2$  ) إلى مزيج التفاعل. ( ) إضافة بخار الماء إلى مزيج التفاعل.

12- في النظام المتزن التالي: حرارة :  $2\text{NO(g)} + \text{Cl}_2(\text{g}) \rightleftharpoons 2\text{NOCl(g)}$

واحدا مما يلي لا يزيح موضع الاتزان باتجاه تكوين (  $\text{NOCl}$  ) وهو :

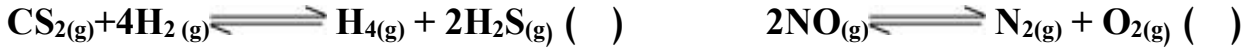
( ) زيادة الضغط الواقع على النظام. ( ) زيادة تركيز الكلور.  
( ) زيادة درجة حرارة النظام. ( ) خفض درجة حرارة النظام.

13- عند زيادة الضغط على النظام المتزن التالي  $3\text{Fe(s)} + 4\text{H}_2\text{O(g)} \rightleftharpoons \text{Fe}_3\text{O}_4(\text{s}) + 4\text{H}_2(\text{g})$  فإن :

( ) قيمة ثابت الاتزان  $K_{eq}$  تزداد. ( ) موضع الاتزان يزاح نحو تكوين النواتج.  
( ) موضع الاتزان للنظام لا يتأثر. ( ) قيمة ثابت الاتزان  $K_{eq}$  تقل.



14- الضغط لا يؤثر على موضع الاتزان في أحد الأنظمة التالية :



15- في النظام المتزن التالي:  $2N_2O(g) + 3O_2(g) \rightleftharpoons 4NO_2(g) + 27 \text{ kJ}$  يمكن تقليل إنتاج غاز  $NO_2$

( ) بتقليل حجم الوعاء الذي يحدث فيه التفاعل. ( ) برفع درجة حرارة النظام.

( ) بإضافة المزيد من غاز الأكسجين. ( ) بخفض درجة حرارة النظام.

16- في التفاعل المتزن التالي :



تزداد قيمة حاصل ضرب  $[CO_2] [H_2O]$  عند :

( ) رفع درجة حرارة النظام. ( ) إضافة كمية قليلة جداً من  $NaHCO_3$ .

( ) تقليل الضغط الواقع على النظام. ( ) خفض درجة حرارة النظام.

17- في النظام المتزن التالي:  $2N_2O_5(g) \rightleftharpoons 4NO_2(g) + O_2(g) + 122 \text{ kJ}$

يزداد انحلال (تفكك) غاز خامس أكسيد النيتروجين ( $N_2O_5$ ) عند :

( ) زيادة الضغط على النظام. ( ) رفع درجة حرارة النظام.

( ) زيادة تركيز غاز الأكسجين. ( ) خفض درجة حرارة النظام.

18- جميع العوامل التالية تؤثر على موضع اتزان التفاعل الكيميائي عدا واحداً:

( ) الضغط. ( ) درجة الحرارة.

( ) التركيز. ( ) العامل الحفاز.

**السؤال الرابع: أكمل الفراغات في الجمل والمعادلات التالية بما يناسبها علمياً :**

1- في النظام المتزن التالي:  $C(s) + CO_2(g) \rightleftharpoons 2CO(g)$

يزداد إنتاج أول أكسيد الكربون عند ..... الضغط المؤثر على النظام.

2- في النظام المتزن التالي:  $2H_2S(g) + 3O_2(g) \rightleftharpoons 2H_2O(g) + 2SO_2(g)$

يزداد إنتاج غاز ( $SO_2$ ) عند ..... حجم وعاء التفاعل.

3- العامل الذي يؤثر على القيمة العددية لثابت الاتزان  $K_{eq}$  هو .....

4- في النظام المتزن التالي:  $CO(g) + 2H_2(g) \rightleftharpoons CH_3OH(g) + 92 \text{ kJ}$

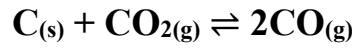
يزداد إنتاج الميثانول  $CH_3OH$  عند ..... درجة الحرارة.

5- إذا كانت قيمة  $K_{eq}$  لنظام متزن عند درجة حرارة ( $20^\circ C$ ) تساوي ( $1.4 \times 10^{-13}$ ) وعند درجة حرارة ( $60^\circ C$ ) تساوي

( $22 \times 10^{-13}$ ) فهذا يعني أن التفاعل من النوع ..... للحرارة.



6- في النظام المتزن التالي:



يعبر عن ثابت الاتزان بالعلاقة:  $K_{eq} = \dots$

7- في النظام المتزن التالي:



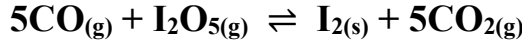
يزداد استهلاك غاز ( $N_2O_5$ ) عند ..... تركيز غاز ( $NO_2$ ) .

8- في النظام المتزن التالي:



فإن زيادة الضغط على هذا النظام يؤدي إلى ..... استهلاك غاز ( $CO$ ) .

9- في النظام المتزن التالي:



يزاح موضع الاتزان نحو تكوين المواد الناتجة عند ..... حجم إناء التفاعل.

10- في التفاعلات العكسية الماصة للحرارة تزداد قيمة ثابت الاتزان عند ..... درجة الحرارة.

11- في النظام المتزن التالي:



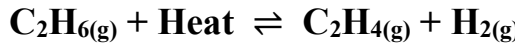
تزداد سرعة التفاعل العكسي عند ..... درجة الحرارة المؤثرة على النظام.

12- في النظام المتزن التالي:



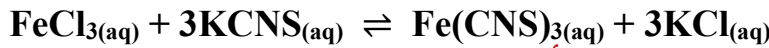
عند رفع درجة الحرارة ..... قيمة ثابت الاتزان  $K_{eq}$  لهذا النظام.

13- في النظام المتزن التالي:



فإن ثابت الاتزان لهذا النظام عند ( $500^\circ C$ ) ..... من ثابت الاتزان لنفس النظام عند ( $750^\circ C$ ) .

14- في النظام المتزن التالي:



**أحمر دموي**

تزداد شدة اللون الأحمر عند زيادة تركيز .....

15- عندما تكون قيمة ثابت الاتزان  $K_{eq}$  أقل من 1 فإن هذا يعني أن التفاعل يسير باتجاه تكوين المواد

..... وأن تركيز المواد الناتجة من التفاعل ..... من تركيز

المواد الداخلة في التفاعل.

16- في النظام المتزن التالي:



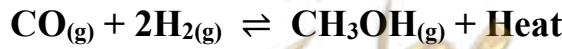
والذي يحدث في وعاء مغلق حجمه 1L وجد عند الاتزان أن عدد مولات كل من ( $CaCO_3$  ,  $CaO$  ,  $CO_2$ ) هي

(0.5 , 0.1 , 0.1) مول على الترتيب فإن قيمة ثابت الاتزان  $K_{eq}$  تساوي .....

17- إذا كان التفاعل الكيميائي المتزن مصحوباً بزيادة في الحجم فإن زيادة الضغط تزيج الاتزان في الاتجاه الذي ينتج

فيه المزيد من المواد التي تشغل حجماً .....

18- في النظام المتزن التالي:



يزداد إنتاج الميثانول الناتج عند ..... تركيز الهيدروجين و ..... الضغط المؤثر

على النظام و ..... درجة الحرارة.



**السؤال الخامس : علل لكل مما يلي تعليلا علميا سليما:**

1- التفاعل  $AgNO_{3(aq)} + NaCl_{(aq)} \rightarrow AgCl_{(s)} + NaNO_{3(aq)}$  لا يعتبر من التفاعلات العكوسة

2- التفاعل التالي:  $CH_3COOH_{(aq)} + H_2O_{(l)} \rightleftharpoons CH_3COO^{-}_{(aq)} + H_3O^{+}_{(aq)}$  يعتبر من التفاعلات العكوسة المتجانسة.

3- عندما يصل النظام إلى حالة الاتزان الكيميائي الديناميكي تثبت تركيزات المواد المتفاعلة والمواد الناتجة من التفاعل.

4- التفاعلات العكوسة لا تستمر في اتجاه واحد حتى تكتمل حيث لا تستهلك فيها المواد المتفاعلة تماماً.

5- تعبير ثابت الاتزان  $K_{eq}$  لا يشمل المواد الصلبة.

6- في التفاعل التالي:  $HNO_{2(aq)} + H_2O_{(l)} \rightleftharpoons NO_{2^{-}(aq)} + H_3O^{+}_{(aq)}$  لا يدخل الماء ضمن تعبير ثابت الاتزان.

7- في النظام المتزن التالي:  $FeCl_{3(aq)} + 3KCNS_{(aq)} \rightleftharpoons Fe(CNS)_{3(aq)} + 3KCl_{(aq)}$

**أحمر دموي**

عند إضافة المزيد من كلوريد البوتاسيوم KCl تقل شدة اللون الأحمر الدموي.

8- في النظام المتزن التالي:  $N_{2(g)} + 3H_{2(g)} \rightleftharpoons 2NH_{3(g)}$  يزداد إنتاج الأمونيا عند زيادة الضغط المؤثر على

النظام.

معلمة الكويت  
صفوة علمي الكويت



9- في النظام المتزن التالي:  $N_2O_4(g) \rightleftharpoons 2NO_2(g)$  يزداد إنتاج غاز  $NO_2$  عند زيادة حجم الوعاء .

10- في النظام المتزن التالي:  $N_2(g) + O_2(g) \rightleftharpoons 2NO(g)$  لا يتغير موضع الاتزان عند زيادة الضغط المؤثر على النظام.

### السؤال السادس: حل المسائل التالية:

1- يتفاعل الكلور مع أكسيد النيتريك طبقاً للتفاعل المتزن التالي:  $Cl_2(g) + 2NO(g) \rightleftharpoons 2NOCl(g)$  فإذا وجد عند الاتزان أن تركيز كل من  $(Cl_2, NO, NOCl)$  هو  $(0.32M, 0.2M, 0.1M)$  على الترتيب . فاحسب قيمة ثابت الاتزان  $K_{eq}$  لهذا التفاعل.

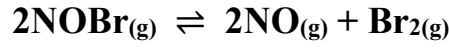
2- أدخل مزيج من  $(NO, H_2)$  في وعاء سعته 2L وعند درجة حرارة معينة حدث الاتزان التالي:  
 $2NO(g) + 2H_2(g) \rightleftharpoons N_2(g) + 2H_2O(g)$   
وعند الاتزان وجد أن المخلوط يحتوي على  $(0.02mol)$  من غازي  $(NO, H_2)$  و  $(0.15mol)$  من غاز  $(N_2)$  و  $(0.3mol)$  من بخار الماء . احسب قيمة ثابت الاتزان  $K_{eq}$

3- يحضر الميثانول  $(CH_3OH)$  في الصناعة بتفاعل غازي  $(CO, H_2)$  عند درجة  $(500K)$  حسب التفاعل المتزن التالي:  
 $CO(g) + 2H_2(g) \rightleftharpoons CH_3OH(g)$   
فإذا وجد عند الاتزان أن المخلوط يحتوي على  $(0.0406mol)$  ميثانول و  $(0.302mol)$  هيدروجين و  $(0.170mol)$  أول أكسيد الكربون أن حجم الإناء يساوي 2L . احسب قيمة ثابت الاتزان  $K_{eq}$

صفوة معلم الكويت



4- في النظام المتزن التالي:



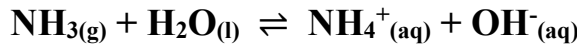
قيمة ثابت الاتزان ( $K_{eq}$ ) تساوي (0.416) عند درجة (373K) فإذا كان تركيز غاز (NOBr) عند الاتزان يساوي تركيز غاز (NO) فاحسب تركيز بخار البروم ( $\text{Br}_2$ ) عند الاتزان

.....

.....

.....

5- أذيبت كمية من غاز الأمونيا في الماء وترك المحلول حتى حدث الاتزان التالي:



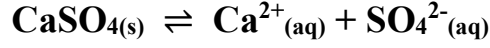
وعند الاتزان وجد أن تركيز كل من أنيون الهيدروكسيد والأمونيا في المحلول يساوي (0.016M , 0.002M) على الترتيب احسب قيمة ثابت الاتزان ( $K_{eq}$ )

.....

.....

.....

6- في التفاعل التالي:




إذا كانت قيمة ثابت الاتزان ( $K_{eq}$ ) تساوي ( $2.4 \times 10^{-5}$ ) فاحسب تركيز كل أيون في المحلول عند الاتزان.

.....

.....

.....

7- ترك محلول لحمض الفورميك في الماء حتى حدث الاتزان التالي:




فإذا وجد أن تركيز كاتيون الهيدرونيوم في المحلول عند الاتزان يساوي ( $4.2 \times 10^{-3}\text{M}$ ) وقيمة ثابت الاتزان ( $K_{eq}$ ) تساوي ( $1.764 \times 10^{-4}$ ) فاحسب تركيز حمض الفورميك عند الاتزان.

.....

.....

.....

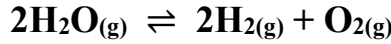






**السؤال السابع: أجب عن الأسئلة التالية :**

1- ينحل بخار الماء في درجة حرارة الغرفة (25°C) طبقاً للتفاعل المتزن التالي:



فإذا كانت قيمة ثابت الاتزان لهذا التفكك  $K_{eq} = 1.1 \times 10^{-81}$

هل يمكن الاستفادة من هذا التفكك في الحصول على كمية وافرة من غاز الهيدروجين ( $\text{H}_2$ ) في هذه الظروف؟

.....

.....

.....

2- يتم إنتاج الأمونيا بطريقة هابر طبقاً للتفاعل المتزن التالي:  $\text{N}_2(\text{g}) + 3\text{H}_2(\text{g}) \rightleftharpoons 2\text{NH}_3(\text{g}) + 92\text{kJ}$

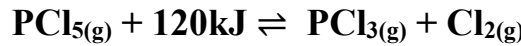
والمطلوب: ما هي أفضل الشروط لزيادة إنتاج الأمونيا.

.....

.....

.....

3- ماذا يحدث لقيمة ثابت الاتزان ( $K_{eq}$ ) ولكمية ( $\text{PCl}_5$ ) في التفاعل التالي:



في الحالات التالية:

أ- رفع درجة حرارة التفاعل.

.....

ب- زيادة الضغط المؤثر على النظام.

.....

ج- زيادة حجم الوعاء.

.....

د- زيادة تركيز غاز الكلور.

.....

هـ- سحب غاز ( $\text{PCl}_3$ ) المتكون باستمرار.

.....





4- في النظام المتزن التالي:  $2\text{NO}(\text{g}) + \text{O}_2(\text{g}) \rightleftharpoons 2\text{NO}_2(\text{g}) + 113\text{kJ}$

وضح تأثير كل مما يلي على الاتجاه الذي يزاح إليه موضع الاتزان:

أ- تقليل تركيز الأكسجين.

ب- إضافة المزيد من  $\text{NO}_2$

ج- تقليل حجم الوعاء.

د- إضافة المزيد من  $\text{NO}$

هـ- تقليل الضغط.

و- خفض درجة الحرارة.

ز- إضافة مادة محفزة.

5- قم بدراسة النظام المتزن التالي ثم أجب عن الأسئلة التالية



أ- يزاح موضع الاتزان في اتجاه تكوين ..... عند رفع درجة الحرارة

ب- تقل قيمة ثابت الاتزان ( $k_{eq}$ ) عند ..... درجة الحرارة

ج- ماذا يحدث لموضع الاتزان عند خفض الضغط المؤثر على النظام؟

د- يزاح موضع الاتزان في اتجاه تكوين ..... عند إضافة المزيد من بخار الماء.

هـ- اكتب تعبير ثابت الاتزان ( $k_{eq}$ )

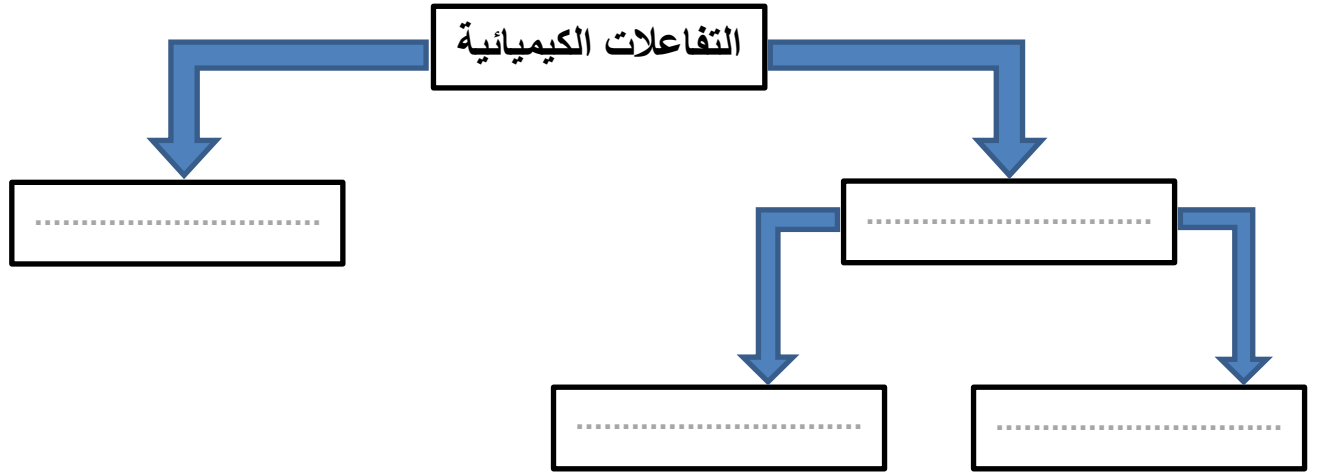
صفحة معلم الكويت



6- أكمل المخطط الفارغ مستعينا بالمفاهيم العلمية الموجودة أمامك بوضعها في المربع المناسب

لتحقق خريطة المفاهيم :

تفاعلات عكوسة – تفاعلات عكوسة متجانسة – تفاعلات غير عكوسة – تفاعلات عكوسة غير متجانسة



السؤال الثامن: قارن بين كل مما يلي

وجه المقارنة	قيمة ثابت الاتزان $K_{eq}$ أكبر من 1	قيمة ثابت الاتزان $K_{eq}$ أقل من 1
موضع الاتزان	.....	.....
تركيز المتفاعلات	.....	.....
تركيز النواتج	.....	.....

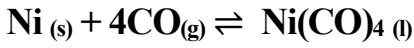
وجه المقارنة	التأثير على موضع الاتزان	تغيير قيمة ثابت الاتزان
درجة الحرارة	.....	.....
التركيز	.....	.....
الضغط أو الحجم (في حالة عدم تساوي عدد المولات)	.....	.....
المادة المحفزة أو المانعة	.....	.....

نوع التفاعل	طاردة للحرارة	ماصة للحرارة
قيمة $\Delta H$	.....	.....
أثر زيادة الحرارة على قيمة $K_{eq}$	.....	.....
أثر خفض الحرارة على قيمة $K_{eq}$	.....	.....



**السؤال التاسع : ماذا تتوقع أن يحدث في كل من الحالات التالية مع ذكر السبب ؟**

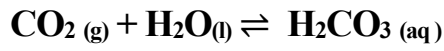
1- لموضع الاتزان إذا أضيف غاز أول أكسيد الكربون CO الي النظام المتزن التالي:



التوقع: .....

التفسير: .....

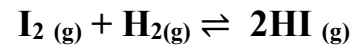
2- لتركيز غاز CO<sub>2</sub> عند إضافة المزيد من حمض الكربونيك للنظام المتزن التالي:



التوقع: .....

التفسير: .....

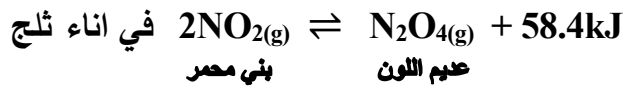
3- لموضع الاتزان عند زيادة الضغط على النظام المتزن التالي:



التوقع: .....

التفسير: .....

4- لشدة اللون البني المحمر عند وضع النظام المتزن التالي



التوقع: .....

التفسير: .....

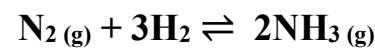
5- لإنتاج غاز NO بزيادة حجم الإناء الذي يحتوي النظام المتزن التالي:



التوقع: .....

التفسير: .....

6- لإنتاج غاز NH<sub>3</sub> عند زيادة الضغط على النظام المتزن التالي:




التوقع: .....

التفسير: .....

7- لموضع الاتزان عند إضافة مادة محفزة الي نظام متزن

التوقع: .....

التفسير: .....



# الوحدة الثالثة

## الأحماض والقواعد



**الفصل الأول : وصف الأحماض والقواعد****الدرس 1-1 : وصف الأحماض والقواعد****السؤال الأول: اكتب بين القوسين الاسم او المصطلح العلمي الذي تدل عليه كل من العبارات التالية:**

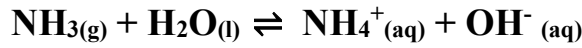
- 1- المركبات التي تحتوي على هيدروجين وتتأين لتعطي كاتيونات الهيدروجين (  $H^+$  ) أو كاتيون الهيدرونيوم (  $H_3O^+$  ) في المحلول المائي. ( ----- )
- 2- المركبات التي تتفكك لتعطي أنيونات الهيدروكسيد (  $OH^-$  ) في المحلول المائي. ( ----- )
- 3- الأحماض التي تحتوي على ذرة هيدروجين واحدة قابلة للتأين. ( ----- )
- 4- الأحماض التي تحتوي على ذرتي هيدروجين قابلتين للتأين . ( ----- )
- 5- الأحماض التي تحتوي على ثلاث ذرات هيدروجين قابلة للتأين. ( ----- )
- 6- المادة ( جزيء أو أيون ) التي تعطي كاتيون الهيدروجين  $H^+$  ( بروتون ) في المحلول. ( ----- )
- 7- المادة ( جزيء أو أيون ) التي تستقبل كاتيون الهيدروجين  $H^+$  ( بروتون ) في المحلول. ( ----- )
- 8- الجزء المتبقي من الحمض بعد فقد البروتون  $H^+$  . ( ----- )
- 9- الجزء الناتج عن القاعدة بعد استقبالها البروتون  $H^+$  . ( ----- )
- 10- الحمض وقاعدته المرافقة أو القاعدة وحمضها المرافق . ( ----- )
- 11- المادة التي لديها القدرة على استقبال زوج من الإلكترونات الحرة لتكون رابطة تساهمية. ( ----- )
- 12- المادة التي لها القدرة على إعطاء زوج من الإلكترونات الحرة لتكون رابطة تساهمية. ( ----- )
- 13- المواد التي يمكنها أن تسلك كحمض عندما تتفاعل مع القاعدة ، كما يمكنها أن تسلك كقاعدة عندما تتفاعل مع الحمض. ( ----- )

**السؤال الثاني : اكتب كلمة ( صحيحة ) بين القوسين المقابلين للعبارة الصحيحة وكلمة ( خطأ ) بين القوسين المقابلين للعبارة الخطأ في كل مما يلي:**

- 1- قاعدة أرهينيوس تتفكك وتزيد من تركيز أنيون الهيدروكسيد (  $OH^-$  ) في المحلول المائي. ( --- )
- 2- محاليل القلويات لها ملمس صابوني وتحول ورقة تباع الشمس الزرقاء إلى اللون الأحمر. ( --- )
- 3- من قصور تعريف أرهينيوس للأحماض والقواعد هو عدم قدرته على تفسير السلوك الحمضي لكوريد الأمونيوم والسلوك القاعدي لأستيات الصوديوم. ( --- )
- 4- لا يمكن تحضير محلول مركز من هيدروكسيد الكالسيوم لأنها شحيحة الذوبان في الماء. ( --- )
- 5- في التفاعل التالي:  
$$NH_3(g) + HCl(g) \rightleftharpoons NH_4^+(aq) + Cl^-(aq)$$
 يسلك كاتيون الأمونيوم كقاعدة مرافقة للأمونيا. ( --- )

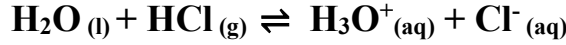


6- في التفاعل التالي:



( --- ) الأزواج المترافقة هي : كاتيون الأمونيوم والأمونيا // الماء وأنيون الهيدروكسيد.

7- في التفاعل التالي:



( --- ) يسلك أنيون الكلوريد كقاعدة مرافقة لحمض (HCl).

( --- ) 8- القاعدة المرافقة لحمض (  $\text{HSO}_4^-$  ) هي (  $\text{SO}_4^{2-}$  ).

( --- ) 9- الحمض المرافق لأنيون الهيدروكسيد (  $\text{OH}^-$  ) هو (  $\text{H}_2\text{O}$  ).

10- المادة التي تستطيع أن تزيد من تركيز كاتيون الهيدرونيوم (  $\text{H}_3\text{O}^+$  ) في المحلول المائي تسمى

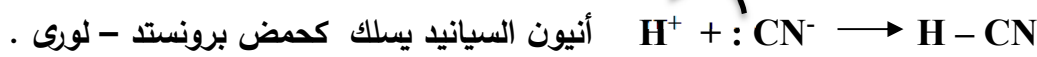
( --- ) حمض برونستد - لوري.

( --- ) 11- المواد التي تسلك كحمض وكقاعدة حسب مفهوم برونستد - لوري تسمى بالمواد المترددة.

12- إذا كان كاتيون الفضة (  $\text{Ag}^+$  ) له القدرة على اكتساب زوج من الإلكترونات وتكوين رابطة ، فيمكن

( --- ) اعتباره حمضاً حسب مفهوم لويس .

13- في التفاعل التالي:



أنيون السيانيد يسلك كحمض برونستد - لوري .

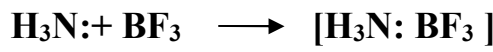
( --- )

( --- ) 14- في التفاعل التالي:



تسلك الأمونيا كحمض لويس.

15- في التفاعل التالي:



يسلك ثالث فلوريد البورون كحمض لويس بينما تسلك الأمونيا كقاعدة لويس .

( --- )

( --- ) 16- يتفاعل الصوديوم (Na) مع الماء ويتكون هيدروكسيد الصوديوم ويتصاعد غاز الأكسجين .

( --- ) 17- أكاسيد الفلزات القلوية تتفاعل مع الماء وتكون محاليل قاعدية .

( --- ) 18- يعتبر حمض الكربونيك (  $\text{H}_2\text{CO}_3$  ) حمض ثنائي البروتون .

### السؤال الثالث : اختر الإجابة الصحيحة لكل من العبارات التالية وضع علامة (√) في القوس المقابل لها:

1- تتميز الأحماض بالخواص التالية ، عدا خاصية واحدة منها ، وهي :

( ) تحمر ورقة تباع الشمس ( ) لا تتفاعل مع الفلزات القلوية

( ) لها طعم لاذع ( ) حاجة جسم الإنسان إليها في العمليات الحيوية

2- أحد المركبات التالية يمكن اعتباره حمضاً حسب مفهوم أرهينيوس :

( )  $\text{NH}_3$  ( )  $\text{CH}_4$  ( )  $\text{LiH}$  ( )  $\text{HCl}$

3- أحد المركبات التالية يمكن اعتباره قاعدة حسب مفهوم أرهينيوس:

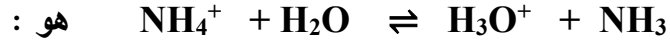
( )  $\text{LiOH}$  ( )  $\text{CH}_3\text{OH}$  ( )  $\text{HOCl}$  ( )  $\text{H}_2\text{S}$



4- يسلك أنيون الاسيتات  $\text{CH}_3\text{COO}^-$  في المحاليل المائية :

- ( ) حمضاً حسب مفهوم أرهينيوس ( ) قاعدة حسب مفهوم برونستد - لوري  
( ) متردداً حسب مفهوم برونستد - لوري ( ) حمض حسب مفهوم برونستد - لوري

5- الحمض حسب مفهوم برونستد - لوري في التفاعل التالي:



( )  $\text{H}_3\text{O}^+$  ( )  $\text{NH}_3$

( )  $\text{NH}_4^+$  ( )  $\text{H}_2\text{O}$

6- أحد الأزواج التالية لا يكون زوجاً مترافقاً حسب مفهوم برونستد - لوري للأحماض والقواعد :

( )  $\text{NH}_3$  و  $\text{NH}_4^+$  ( )  $\text{NaOH}$  و  $\text{OH}^-$

( )  $\text{H}_2\text{O}$  و  $\text{OH}^-$  ( )  $\text{H}_2\text{S}$  و  $\text{HS}^-$

7- أحد الأنواع التالية يسلك سلوكاً متردداً حسب مفهوم برونستد - لوري للأحماض والقواعد:

( )  $\text{HCl}$  ( )  $\text{NO}_3^-$

( )  $\text{H}_2\text{O}$  ( )  $\text{KOH}$

8- في التفاعل التالي :  $\text{HCl}_{(g)} + \text{H}_2\text{O}_{(l)} \rightleftharpoons \text{H}_3\text{O}^+_{(aq)} + \text{Cl}^-_{(aq)}$

( ) يعتبر كاتيون الهيدرونيوم حمضاً مرافقاً للماء

( ) يعتبر الماء حمضاً مرافقاً لكاتيون الهيدرونيوم

( ) يعتبر  $\text{HCl}$  قاعدة مرافقة لأيون الكلوريد

( ) يعتبر أيون الكلوريد قاعدة مرافقة لكاتيون الهيدرونيوم

9- أحد الأنواع التالية يعتبر حمضاً حسب مفهوم لويس فقط :

( )  $\text{NH}_4\text{Cl}$  ( )  $\text{KOH}$  ( )  $\text{HCl}$  ( )  $\text{BF}_3$

10- في التفاعل التالي:  $\text{Ag}^+ + 2 : \text{NH}_3 \longrightarrow [ \text{Ag} ( : \text{NH}_3 )_2 ]^+$

( ) تعتبر الأمونيا حمض لويس ( ) يعتبر كاتيون الفضة حمض لويس

( ) تعتبر كاتيون الفضة قاعدة لويس ( ) تعتبر الأمونيا قاعدة أرهينيوس

11- أحد الأنواع التالية لا يعتبر حمضاً أو قاعدة حسب تعريف برونستد - لوري وهو:

( )  $\text{NH}_3$  ( )  $\text{AlCl}_3$  ( )  $\text{HSO}_4^-$  ( )  $\text{NH}_4^+$

12- أحد الاحماض التالية لا يعتبر من الاحماض ثنائية البروتون ، وهو حمض:

( )  $\text{H}_2\text{SO}_4$  ( )  $\text{H}_2\text{SO}_3$

( )  $\text{H}_2\text{CO}_3$  ( )  $\text{HCOOH}$





13- الحمض ثلاثي البروتون من بين المركبات التالية هو :



14- أحد المركبات التالية لا يعتبر من الأحماض أحادية البروتون:

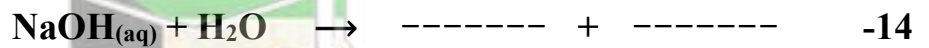
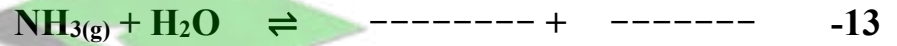
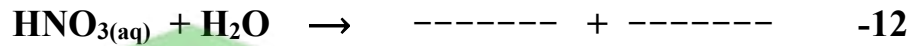
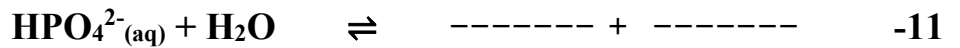


### السؤال الرابع: املأ الفراغات في الجمل والعبارات التالية بما يناسبها :

- 1- المادة التي تستطيع أن تزيد من تركيز كاتيون الهيدرونيوم ( $\text{H}_3\text{O}^+$ ) في المحلول المائي تسمى-----.
- 2- المركبات التي تتفكك لتعطي أنيونات الهيدروكسيد في المحلول المائي تعتبر ----- حسب مفهوم أرهينيوس.
- 3- حمض الكبريتيك ( $\text{H}_2\text{SO}_4$ ) من الأحماض ----- البروتون .
- 4- تتفاعل أكاسيد الفلزات القلوية مع الماء لتنتج محاليل ----- .
- 5- عند القاء قطعة من البوتاسيوم في الماء يتكون مركب صيغته ----- وينطلق غاز الهيدروجين .
- 6- عند تفاعل أكسيد الصوديوم في الماء ينتج مركب صيغته الكيميائية هي ----- .
- 7- يذوب هيدروكسيد الصوديوم ( $\text{NaOH}$ ) في الماء مكونا محلول يحتوي على أيونات ----- و -----.
- 8- عندما يفقد الحمض بروتوناً ( $\text{H}^+$ ) يتحول الى ----- حسب مفهوم برونستد - لوري .
- 9- الحمض المرافق هو ----- استقبلت بروتونا .



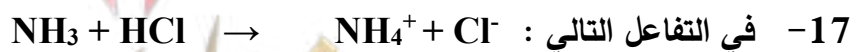
يسلك الماء سلوكاً ----- حسب مفهوم برونستد - لوري .



15- صيغة القاعدة المرافقة لحمض الهيدرويوديك HI هي -----



الأزواج المترافقة ----- ، ----- // ----- ، ----- .



فإن الحمض المرافق هو ----- والقاعدة المرافقة هي ----- .

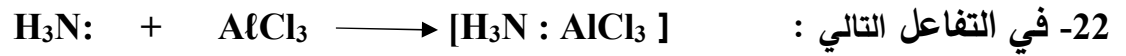
18- صيغة الحمض المرافق للأمونيا ( $\text{NH}_3$ ) هي ----- .

19- صيغة الحمض المرافق للماء هي ----- وصيغة قاعدته المرافقة هي ----- .



20- صيغة الحمض المرافق لأيون  $(\text{HSO}_4^-)$  هي ----- بينما صيغة القاعدة المرافقة لأيون  $\text{H}_2\text{PO}_4^-$  هي ----- .

21- قاعدة برونستد - لوري هي التي ----- بروتونات بينما قاعدة لويس هي التي ----- زوج إلكترونات .



يعتبر ----- حمض لويس ، بينما يعتبر ----- قاعدة لويس .

23- حمض  $(\text{HBr})$  يعتبر حمض ----- البروتون .

24- حمض الكلوريك يعتبر حمض ----- البروتون ، بينما حمض الفسفوريك فيعتبر ----- البروتون .

### السؤال الخامس : علل لكل مما يلي تعليلاً علمياً أو اكتب التفسير العلمي:

1- حمض الأسيتيك  $\text{CH}_3\text{COOH}$  يعتبر من الأحماض أحادية البروتون .

2- لا يعتبر الميثان  $\text{CH}_4$  حمضاً .

3- يمكن تحضير محلول مركز من هيدروكسيد الصوديوم .

4- محاليل هيدروكسيد الكالسيوم ، هيدروكسيد المغنسيوم تكون دائماً مخففة .

5- الأمونيا  $\text{NH}_3$  تعتبر قاعدة حسب نظرية برونستد - لوري .

6- يسلك الماء سلوكاً متردداً حسب نظرية برونستد - لوري .

7- في التفاعل التالي :  $\text{H}_3\text{N} + \text{BF}_3 \longrightarrow \text{H}_3\text{N}:\text{BF}_3$  تعتبر الأمونيا قاعدة لويس ، بينما يعتبر ثالث فلوريد البورون حمض لويس .

8- يسلك أنيون النيتريت  $(\text{NO}_2^-)$  كقاعدة فقط حسب نظرية برونستد - لوري .



**السؤال السادس: أكمل الجدول التالي حسب ما هو مطلوب فيه :**

م	الصيغة الكيميائية للحمض	القاعدة المرافقة له	الصيغة الكيميائية للقاعدة	الحمض المرافق لها
1	$\text{H}_3\text{O}^+$		$\text{NO}_3^-$	
2	$\text{HClO}_3$		$\text{NH}_3$	
3	$\text{HCO}_3^-$		$\text{CN}^-$	
4	$\text{NH}_4^+$		$\text{OH}^-$	
5	$\text{CH}_3\text{COOH}$		$\text{Cl}^-$	

**السؤال السابع : وضح بالمعادلات الكيميائية فقط ماذا يحدث في كل مما يلي:**

1- تفاعل الصوديوم مع الماء .

.....

2- تفاعل أكسيد الصوديوم مع الماء .

.....

3- تفاعل البوتاسيوم مع الماء .

.....

4- تفاعل أكسيد البوتاسيوم مع الماء .

.....

5- ذوبان غاز كلوريد الهيدروجين في الماء .

.....

6- التأين الذاتي للماء .

.....

7- ذوبان غاز الأمونيا في الماء .


.....

8- تفاعل ثلاثي فلوريد البورون مع الأمونيا .

.....

9- تأين حمض الأسيتيك في الماء .

.....





## الفصل الأول : وصف الأحماض والقواعد

### الدرس 1-2 : تسمية الاحماض والقواعد

#### السؤال الأول: اكتب بين القوسين الاسم او المصطلح العلمي الذي تدل عليه كل من العبارات التالية:

- 1- أحماض تحتوي على عنصرين أحدهما هيدروجين والآخر عنصر أعلى سالبية. ( ----- )
- 2- أحماض تتكون من الهيدروجين والأكسجين وعنصر X عادة يكون لا فلزي وفي بعض الأحيان يكون عنصر فلزي من الفلزات الانتقالية . ( ----- )

#### السؤال الثاني : اكتب كلمة ( صحيحة ) بين القوسين المقابلين للعبارة الصحيحة وكلمة ( خطأ ) بين القوسين المقابلين للعبارة الخطأ في كل مما يلي:

- 1- الصيغة العامة للأحماض ثنائية العنصر ثنائية البروتون هي (HA) . ( --- )
- 2- الصيغة الكيميائية لحمض الكلوريك هي ( HCl ) . ( --- )
- 3- الصيغة الكيميائية لحمض الهيوكلوروز (HClO) . ( --- )
- 4- الصيغة الكيميائية لحمض الكبريتوز هي (H<sub>2</sub>SO<sub>4</sub>) . ( --- )

#### السؤال الثالث : اختر الإجابة الصحيحة لكل من العبارات التالية وضع علامة (√) في القوس المقابل لها:

1- المركب الذي له الصيغة Ca(OH)<sub>2</sub> يسمى:

- ( ) هيدروكسيد الصوديوم  
( ) هيدروكسيد البوتاسيوم  
( ) هيدروكسيد الليثيوم  
( ) هيدروكسيد الكالسيوم

2- المركب الذي له الصيغة HBrO<sub>2</sub> يسمى:

- ( ) حمض البروميك  
( ) حمض البروموز  
( ) حمض الهيوبروميك  
( ) حمض البيبروميك

3- المركب الذي له الصيغة H<sub>2</sub>CO<sub>3</sub> يسمى :

- ( ) حمض الهيدروكلوريك  
( ) حمض الفورميك  
( ) حمض الكربونيك  
( ) حمض الأسيتيك

4- المركب الذي له الصيغة HClO<sub>4</sub> يسمى :

- ( ) حمض الكلوريك  
( ) حمض البيركلوريك  
( ) حمض الكلوروز  
( ) حمض الهيوكلوروز

5- الصيغة الكيميائية لحمض الفوسفوريك:

- ( ) H<sub>3</sub>PO<sub>4</sub>  
( ) H<sub>3</sub>PO<sub>3</sub>  
( ) H<sub>3</sub>PO<sub>2</sub>  
( ) HPO<sub>3</sub>





**السؤال الرابع: أكمل الفراغات في الجمل والمعادلات التالية بما يناسبها علمياً :**

- 1- الأحماض التي تحتوي على عنصرين فقط أحدهما الهيدروجين تسمى أحماض ----- العنصر .
- 2- الأحماض التي لها الصيغة الافتراضية العامة (  $H_2A$  ) تسمى أحماض ----- العنصر .  
وتعتبر من الأحماض ----- البروتون مثل (  $H_2S$  ) .
- 3- حمض الكلوريك يعتبر حمض ----- البروتون ، بينما حمض الفسفوريك فيعتبر ----- البروتون.
- 4- يعتبر هيدروكسيد الباريوم  $Ba(OH)_2$  من القواعد القوية ----- الهيدروكسيد .
- 5- الصيغة الكيميائية لحمض الكبريتوز هي ----- .

**السؤال الرابع: أكمل الجدول التالي :**

م	الصيغة الكيميائية للحمض	اسم الحمض	الصيغة الكيميائية للحمض	اسم الحمض
1	$HClO$	.....	$HNO_3$	.....
2	.....	حمض الكلوريك	.....	حمض الكبريتيك
3	$H_3PO_3$	.....	$H_2S$	.....
4	.....	حمض البروموز	.....	حمض الهيدروبيوديك
5	.....	حمض النيتريك	$HIO_3$	.....
6	$HBrO_4$	.....	.....	حمض الهيدروكلوريك
7	.....	حمض الأسيستيك	$H_3PO_4$	.....
8	$HNO_2$	.....	.....	حمض الكربونيك

**السؤال الخامس: قارن بين كل مما يلي :**

وجه المقارنة	$H_2SO_4$	$H_2SO_3$	$HClO_4$	$HBrO$
اسم الحمض	.....	.....	.....	.....
عدد تأكسد الذرة المركزية	.....	.....	.....	.....



## الفصل الأول : وصف الأحماض والقواعد

### الدرس 1-3 : كاتيونات الهيدروجين والحموضة

#### السؤال الأول: اكتب بين القوسين الاسم او المصطلح العلمي الذي تدل عليه كل من العبارات التالية:

- 1- التفاعل الذي يحدث بين جزيئي ماء لإنتاج أيون هيدروكسيد وكاتيون هيدرونيوم. ( ----- )
- 2- المحلول الذي يتساوى فيه تركيز كاتيون الهيدرونيوم  $H_3O^+$  مع تركيز أيون الهيدروكسيد  $OH^-$ . ( ----- )
- 3- المحلول الذي يكون فيه تركيز كاتيونات الهيدرونيوم  $H_3O^+$  أكبر من تركيز أنيونات الهيدروكسيد  $OH^-$ . ( ----- )
- 4- المحلول الذي يكون فيه تركيز أنيونات الهيدروكسيد  $OH^-$  أكبر من تركيز كاتيونات الهيدرونيوم  $H_3O^+$ . ( ----- )
- 5- المحلول الذي يكون فيه تركيز كاتيونات الهيدرونيوم  $H_3O^+$  أكبر من (  $1 \times 10^{-7} M$  ) عند  $25^\circ C$ . ( ----- )
- 6- المحلول الذي يكون فيه تركيز أنيونات الهيدروكسيد  $OH^-$  أكبر من (  $1 \times 10^{-7} M$  ) عند  $25^\circ C$ . ( ----- )
- 7- المحلول الذي يكون فيه تركيز أنيونات الهيدروكسيد  $OH^-$  أقل من (  $1 \times 10^{-7} M$  ) عند  $25^\circ C$ . ( ----- )
- 8- المحلول الذي يكون فيه تركيز كاتيونات الهيدرونيوم  $H_3O^+$  أقل من (  $1 \times 10^{-7} M$  ) عند  $25^\circ C$ . ( ----- )
- 9- المحلول الذي يكون فيه تركيز كاتيونات الهيدرونيوم  $H_3O^+$  يساوي (  $1 \times 10^{-7} M$  ) عند  $25^\circ C$ . ( ----- )
- 10- المحلول الذي يكون فيه تركيز أنيونات الهيدروكسيد  $OH^-$  يساوي (  $1 \times 10^{-7} M$  ) عند  $25^\circ C$ . ( ----- )
- 11- القيمة السالبة اللوغاريتم العشري لتركيز كاتيون الهيدرونيوم  $H_3O^+$ . ( ----- )
- 12- القيمة السالبة اللوغاريتم العشري لتركيز أنيون الهيدروكسيد  $OH^-$ . ( ----- )
- 13- القيمة العددية لحاصل ضرب تركيز كاتيون الهيدرونيوم في تركيز أنيون الهيدروكسيد التي توجد في المحلول المائي. ( ----- )

صفوة محمد الكلوب



**السؤال الثاني : اكتب كلمة ( صحيحة ) بين القوسين المقابلين للعبارة الصحيحة وكلمة ( خطأ ) بين القوسين المقابلين للعبارة الخاطى في كل مما يلي:**

- 1- قيمة ثابت تأين الماء في محلول حمض الهيدروكلوريك (0.1M) تساوى قيمته في محلول هيدروكسيد الصوديوم (0.1M) عند نفس درجة الحرارة . ( --- )
- 2- إذا كان تركيز كاتيون الهيدرونيوم في الماء النقي يساوى (  $1.2 \times 10^{-7} \text{ M}$  ) عند (  $40^\circ \text{C}$  ) فإن تركيز أنيون الهيدروكسيد في المحلول يساوي (  $8.3 \times 10^{-8} \text{ M}$  ) . ( --- )
- 3- ثابت التأين للماء ( $K_w$ ) مقدار ثابت يساوى (  $1 \times 10^{-14}$  ) عند جميع درجات الحرارة . ( --- )
- 4- في المحلول المائي لحمض النيتريك ( $\text{HNO}_3$ ) يكون تركيز انيون الهيدروكسيد أكبر من (  $1 \times 10^{-7} \text{ M}$  ) عند (  $25^\circ \text{C}$  ) . ( --- )
- 5- في محلول الأمونيا يكون تركيز كاتيون الأمونيوم أقل من تركيز أنيون الهيدروكسيد . ( --- )
- 6- في الماء المقطر يكون تركيز كاتيون الهيدرونيوم يساوي تركيز أنيون الهيدروكسيد عند جميع درجات الحرارة . ( --- )
- 7- إذا كان تركيز كاتيون الهيدرونيوم  $[\text{H}_3\text{O}^+]$  في الماء النقي عند (  $40^\circ \text{C}$  ) يساوى (  $1.7 \times 10^{-7} \text{ M}$  ) فان ثابت تأين الماء عند هذه الدرجة يساوى (  $2.89 \times 10^{-14}$  ) . ( --- )
- 8- المحلول المائي الذى تركيز أنيون الهيدروكسيد فيه يساوي (  $1.7 \times 10^{-12} \text{ M}$  ) عند (  $25^\circ \text{C}$  ) يحمر صبغة تباع الشمس الزرقاء . ( --- )
- 9- يتناسب الأس الهيدروجيني للمحاليل المائية تناسباً طردياً مع تركيز كاتيون الهيدرونيوم فيها . ( --- )
- 10- زجاجة ماء كتب عليها الاس الهيدروجيني (  $\text{pH} = 7.8$  ) فهذا يعني أن هذا الماء قاعدي عند (  $25^\circ \text{C}$  ) . ( --- )
- 11- في جميع المحاليل المائية (  $\text{pH} + \text{pOH} = 14$  ) عند (  $25^\circ \text{C}$  ) . ( --- )
- 12- تزداد حمضية المحاليل المائية بزيادة الأس الهيدروجيني (  $\text{pH}$  ) لها . ( --- )



**السؤال الثالث : اختر الإجابة الصحيحة لكل من العبارات التالية وضع علامة (√) في القوس المقابل لها:**

- 1- ثابت تأين الماء  $K_w$  يساوي  $1 \times 10^{-14}$  عند  $25^\circ\text{C}$  في:
- ( ) المحاليل الحمضية ( ) المحاليل القاعدية  
( ) المحاليل المتعادلة . ( ) جميع المحاليل المائية
- 2- في محلول حمض النيتريك  $\text{HNO}_3$  الذي درجة حرارته  $25^\circ\text{C}$  يكون :
- ( ) تركيز كاتيون الهيدرونيوم  $\text{H}_3\text{O}^+$  أكبر من  $1 \times 10^{-7} \text{ M}$   
( ) تركيز كاتيون الهيدرونيوم  $\text{H}_3\text{O}^+$  أقل من  $1 \times 10^{-7} \text{ M}$   
( ) تركيز أنيون الهيدروكسيد أكبر من  $1 \times 10^{-7} \text{ M}$   
( ) تركيز كاتيون الهيدرونيوم  $\text{H}_3\text{O}^+$  يساوي  $1 \times 10^{-7} \text{ M}$
- 3- تركيز كاتيون الهيدرونيوم  $[\text{H}_3\text{O}^+]$  في المحلول المائي لحمض الأسيتيك وعند  $(25^\circ\text{C})$  :
- ( ) تساوي  $1 \times 10^{-7} \text{ M}$  ( ) أقل من  $1 \times 10^{-7} \text{ M}$   
( ) أكبر من  $1 \times 10^{-7} \text{ M}$  ( ) أقل من تركيز أنيون الهيدروكسيد
- 4- المحلول الحمضي من بين المحاليل التالية التي درجة حرارتها  $(25^\circ\text{C})$  يكون فيه تركيز :
- ( ) كاتيون الهيدرونيوم  $1 \times 10^{-7} \text{ M}$  ( ) أنيون الهيدروكسيد  $2 \times 10^{-12} \text{ M}$   
( ) كاتيون الهيدرونيوم  $2 \times 10^{-12} \text{ M}$  ( ) أنيون الهيدروكسيد  $1 \times 10^{-2} \text{ M}$
- 5- حاصل جمع  $(\text{pOH} , \text{pH})$  يساوي ( 14 ) عند  $(25^\circ\text{C})$  :
- ( ) للمحاليل الحمضية فقط ( ) للمحاليل المتعادلة فقط  
( ) للمحاليل القلوية فقط. ( ) لجميع المحاليل المائية
- 6- إذا كان تركيز أنيون الهيدروكسيد في محلول مائي يساوي  $1 \times 10^{-5}$  عند  $25^\circ\text{C}$  فإن قيمة :
- ( ) الأس الهيدروجيني  $\text{pH}$  للمحلول تساوي 5 والمحلول قاعدي  
( ) الأس الهيدروجيني  $\text{pH}$  للمحلول تساوي 5 والمحلول متعادل  
( ) الأس الهيدروجيني  $\text{pH}$  للمحلول تساوي 9 والمحلول حمضي  
( ) الأس الهيدروكسيدي  $\text{pOH}$  للمحلول تساوي 5 والمحلول قاعدي
- 7- المحلول الأكثر حمضية من بين المحاليل التالية والتي درجة حرارتها  $25^\circ\text{C}$  الذي يكون قيمة :
- ( ) الأس الهيدروجيني له 12  
( ) الأس الهيدروكسيدي له 3.5  
( ) تركيز كاتيون الهيدرونيوم فيه أكبر من  $1 \times 10^{-7} \text{ M}$   
( ) تركيز أنيون الهيدروكسيد فيه أقل من  $1 \times 10^{-2} \text{ M}$





**السؤال الرابع: أكمل الفراغات في الجمل والمعادلات التالية بما يناسبها علميا :**

- 1- قيمة ثابت التآين ( $K_w$ ) للماء عند درجة حرارة (  $25^\circ C$  ) تساوي ----- .
- 2- عند إذابة حمض في الماء فإن تركيز أنيون الهيدروكسيد في المحلول ----- عن (  $1 \times 10^{-7} M$  ) عند (  $25^\circ C$  ) .
- 3- إذا علمت أن قيمة ( $K_w$ ) للماء النقي عند (  $47^\circ C$  ) تساوي (  $4 \times 10^{-14}$  ) فإن تركيز كاتيون الهيدرونيوم ( $H_3O^+$ ) في الماء النقي عند نفس الدرجة يساوي ----- .
- 4- إذا كان تركيز أنيون الهيدروكسيد للماء النقي يساوي (  $1.5 \times 10^{-7} M$  ) عند درجة حرارة (  $47^\circ C$  ) فإن تركيز كاتيون الهيدرونيوم يساوي ----- عند نفس الدرجة .
- 5- إذا كانت قيمة الأس الهيدروجيني ( pH ) لمحلول قلوي تساوي ( 11 ) عند (  $25^\circ C$  ) فإن قيمة الأس الهيدروكسيدي ( pOH ) في هذا المحلول تساوي ----- .

**السؤال الخامس : علل لكل مما يلي تعليلا علميا سليما:**

- 1- الماء النقي متعادل التأثير عند جميع درجات الحرارة .

.....  
.....

**السؤال السادس: حل المسائل التالية:**

- 1- خمسة محاليل مائية تركيز أحد أيوناتها بالمول / لتر ( M ) عند (  $25^\circ C$  ) كما في الجدول الموضح :  
\* صنف هذه المحاليل حسب طبيعتها إلى ( حمضية ، قاعدية ، متعادلة )

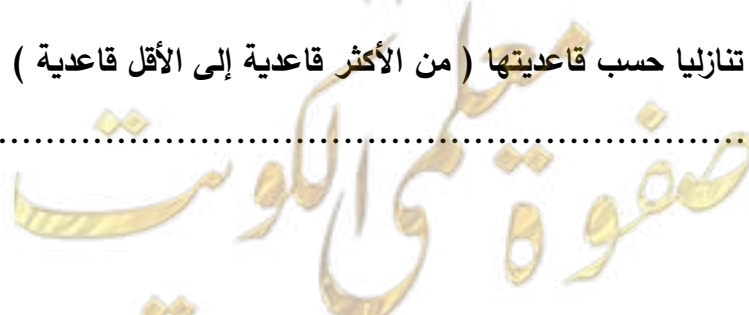
المحلول	A	B	C	D	E
$[H_3O^+]$	$1 \times 10^{-3}$	.....	$1 \times 10^{-10}$	.....	.....
$[OH^-]$	.....	$1 \times 10^{-3}$	.....	$1 \times 10^{-12}$	$1 \times 10^{-7}$
نوع المحلول	.....	.....	.....	.....	.....

- \* رتب هذه المحاليل ترتيبا تصاعديا حسب حمضيتها ( من الأقل حمضية إلى الأكثر حمضية ) .

.....

- \* رتب هذه المحاليل ترتيبا تنازليا حسب قاعدتها ( من الأكثر قاعدية إلى الأقل قاعدية ) .

.....





2- محلول مائي تركيز  $[H_3O^+]$  فيه يساوي ( 0.2 M ) عند ( 25 °C ) احسب تركيز  $[OH^-]$  في المحلول.

3- محلول مائي تركيز  $[OH^-]$  فيه يساوي ( 0.004M ) عند ( 25 °C ) احسب تركيز  $[H_3O^+]$  في المحلول.

4- إذا كان تركيز  $[OH^-]$  في الماء النقي عند درجة حرارة معينة يساوي (  $5.3 \times 10^{-7} M$  ) ، فاحسب قيمة ثابت التأيّن للماء ( Kw ) عند هذه الدرجة.

5- إذا كان الأس الهيدروكسيدي pOH لحمض ضعيف HA يساوي ( 11 ) والمطلوب :  
(أ) حساب تركيز  $[OH^-]$  في المحلول (ب) حساب تركيز  $[H_3O^+]$  في المحلول

6- حضر طالب محلولاً لحمض الأسيتيك تركيزه ( 0.1 M ) ثم قام بقياس قيمة الأس الهيدروجيني pH له فوجدها ( 2.88 ) والمطلوب: حساب تركيز كاتيون الهيدرونيوم في المحلول  $[H_3O^+]$  .

7- إذا كان تركيز كاتيون الفلز الافتراضي  $M^{+2}$  في محلول هيدروكسيد هذا الفلز  $M(OH)_2$  تام التأيّن يساوي (  $5 \times 10^{-3} M$  ) عند ( 25 °C ) . احسب قيمة الأس الهيدروجيني ( pH ) لهذا المحلول.



8- عينة من عصير الليمون قيمة الأس الهيدروجيني ( pH ) لها تساوي ( 4.3 ) عند  $25^{\circ}\text{C}$  . احسب كل من تركيز كاتيون الهيدرونيوم ، أنيون الهيدروكسيد في العينة.

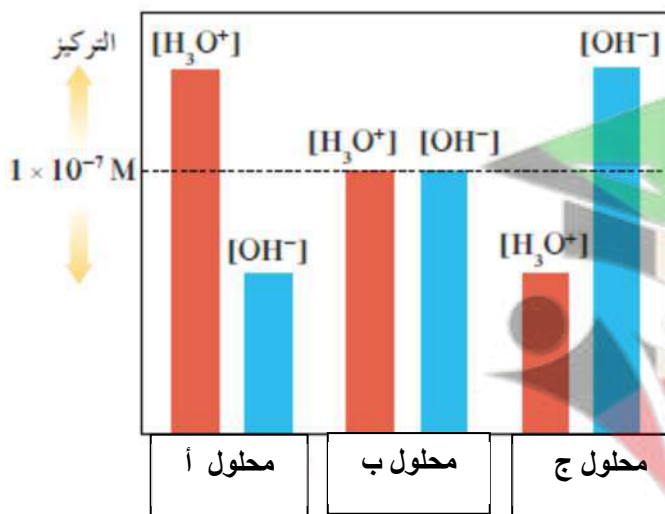
9- محلول لحمض ضعيف أحادي البروتون HA تركيزه ( 0.2 M ) وتركيز كاتيون الهيدرونيوم في هذا المحلول يساوي (  $9.86 \times 10^{-4}\text{M}$  ) والمطلوب حساب قيمة الأس الهيدروجيني لهذا المحلول؟

### السؤال السابع: أجب عن الأسئلة التالية:

1- اختر من القائمة ( ب ) ما يناسب القائمة ( أ ) بوضع الرقم المناسب أمامها بين القوسين :

م	القائمة ( أ )	القائمة ( ب )
1	محلول متعادل	pH = 5.6
2	محلول حمضي	$[\text{H}_3\text{O}^+] = [\text{OH}^-]$
3	محلول قاعدي	$-\text{Log} [\text{H}_3\text{O}^+]$
4	الأس الهيدروجيني	$[\text{OH}^-] = 3 \times 10^{-4}$
5	الأس الهيدروكسيدي	

2- أدرس الشكل المقابل جيداً ثم أجب عن الأسئلة عند  $25^{\circ}\text{C}$ :



1- قيمة pH في المحلول ( أ ) تكون ..... من 7

2- قيمة pH في المحلول ( ج ) تكون ..... من 7

3- قيمة pH في المحلول ( ب ) تساوي .....

4- المحلول الأكثر حمضية هو .....

5- المحلول الأقل أس هيدروكسيدي هو .....

6- المحلول الأقل قاعدية هو .....

7- يتساوى الأس الهيدروجيني مع الأس الهيدروكسيدي في المحلول .....



**السؤال الثامن: ماذا تتوقع ان يحدث في كل من الحالات التالية مع التفسير:**

1- لتركيز كاتيون الهيدرونيوم [  $H_3O^+$  ] عند إضافة محلول قلوي للماء النقي عند درجة  $25^\circ C$  .

التوقع : .....

التفسير : .....

.....

.....

2- لتركيز أنيون الهيدروكسيد [  $OH^-$  ] عند إضافة محلول حمضي للماء النقي عند درجة  $25^\circ C$  .

التوقع : .....

التفسير : .....

.....

.....

3- لقيمة الأس الهيدروجيني pH للماء النقي عند إضافة قطرات من حمض له .

التوقع : .....

التفسير : .....

.....

.....

4- لقيمة الأس الهيدروجيني pH للماء النقي عند إضافة قطرات من قاعدة له .

التوقع : .....

التفسير : .....

.....

.....

.....

صفوة معلمى الكويت

## الفصل الأول : وصف الأحماض والقواعد

### الدرس 4-1 : قوة الأحماض والقواعد

#### السؤال الأول: اكتب بين القوسين الاسم او المصطلح العلمي الذي تدل عليه كل من العبارات التالية:

- 1- الأحماض التي تتأين بشكل تام في المحاليل المائية . ( ----- )
- 2- الأحماض التي تتأين جزئياً في المحاليل المائية وتشكل حالة اتزان . ( ----- )
- 3- القواعد التي تتأين بشكل تام في محاليلها المائية . ( ----- )
- 4- القواعد التي تتأين جزئياً في محاليلها المائية وتشكل حالة اتزان . ( ----- )
- 5- نسبة حاصل ضرب تركيز القاعدة المرافقة بتركيز كاتيون الهيدرونيوم إلى تركيز الحمض عند الاتزان . ( ----- )
- 6- نسبة حاصل ضرب تركيز الحمض المرافق بتركيز أنيون الهيدروكسيد إلى تركيز القاعدة عند الاتزان . ( ----- )

#### السؤال الثاني : اكتب كلمة ( صحيحة ) بين القوسين المقابلين للعبارة الصحيحة وكلمة ( خطأ ) بين القوسين المقابلين للعبارة الخطأ في كل مما يلي:

- 1- تركيز ايون الهيدرونيوم ( $H_3O^+$ ) الناتج من تأين ( $H_2SO_4$ ) أقل من تركيزه الناتج من تأين ( $HSO_4^-$ ) . ( --- )
- 2- المعادلة التالية  $HPO_4^{2-}(aq) + H_2O(l) \rightleftharpoons PO_4^{3-}(aq) + H_3O^+(aq)$  تمثل مرحلة التأين الثانية لحمض الفوسفوريك . ( --- )
- 3- يتأين حمض الفوسفوريك ( $H_3PO_4$ ) على ثلاث مراحل . ( --- )
- 4- ثابت تأين المرحلة الثالثة لحمض الفوسفوريك أقل من ثابت تأين المرحلة الثانية له . ( --- )
- 5- الأحماض الضعيفة هي الأحماض التي تكون درجة تأينها منخفضة في المحاليل المائية . ( --- )
- 6- تحتوي محاليل الأحماض الضعيفة على جزيئات الحمض غير المتأين مع الأيونات الناتجة من التأين . ( --- )
- 7- يحتوي المحلول المائي لحمض الهيدروكلوريك على كاتيونات الهيدرونيوم ( $H_3O^+$ ) وأنيونات الكلوريد ( $Cl^-$ ) فقط . ( --- )
- 8- يحتوي المحلول المائي لحمض الأسيتيك على كاتيونات الهيدرونيوم ( $H_3O^+$ ) وأنيونات الأسيتات ( $CH_3COO^-$ ) فقط . ( --- )
- 9- المحاليل المتساوية التركيز من ( $NaOH$ ) ، ( $NH_3$ ) تحتوي على نفس التركيز من أنيون الهيدروكسيد . ( --- )
- 10- يحتوي المحلول المائي للأمونيا على أنيونات الهيدروكسيد وكاتيونات الأمونيوم وجزيئات الأمونيا غير المتأينة . ( --- )



- 11- حمض الهيدروكلوريك ( HCl ) أقوى من حمض الهيدروفلوريك ( HF ) . ( --- )
- 12- يتأين حمض الهيدروكبريتيك ( H<sub>2</sub>S ) على مرحلتين . ( --- )
- 13- إذا كانت قيمة Ka لحمض الأسيتيك تساوي ( 1.8×10<sup>-5</sup> ) ولحمض الهيوبروموز تساوي ( 2.5×10<sup>-9</sup> ) فإن حمض الأسيتيك هو الأقوى . ( --- )
- 14- إذا كانت قيمة Ka لحمض الأسيتيك تساوي ( 1.8×10<sup>-5</sup> ) ولحمض الفورميك تساوي ( 1.8×10<sup>-4</sup> ) فإن الأس الهيدروجيني لمحلول حمض الفورميك يكون أكبر من الأس الهيدروجيني لمحلول حمض الأسيتيك المساوي له بالتركيز . ( --- )
- 15- في المحلول المائي لحمض الهيدروكلوريك المخفف لا توجد جزيئات HCl . ( --- )
- 16- أقوى الأنواع التالية كحمض ( H<sub>3</sub>PO<sub>4</sub> , H<sub>2</sub>PO<sub>4</sub><sup>-</sup> , HPO<sub>4</sub><sup>2-</sup> ) هو حمض H<sub>3</sub>PO<sub>4</sub> . ( --- )
- 17- الحمض الأقوى تكون قيمة ثابت التأيين Ka له أكبر وقيمة pKa له أقل . ( --- )
- 18- القاعدة القوية يوجد لها ثابت اتزان لأن تأينها جزئي في المحاليل المائية . ( --- )

### السؤال الثالث : اختر الإجابة الصحيحة لكل من العبارات التالية وضع علامة (√) في القوس المقابل لها :

1- تركيز كاتيون الهيدرونيوم يكون أكبر ما يمكن في محلول أحد الأحماض التالية المتساوية التركيز وعند نفس درجة الحرارة ، وهو محلول حمض :

HF ( ) HNO<sub>3</sub> ( )

HClO ( ) CH<sub>3</sub>COOH ( )

2- الحمض القوي الذي له الصيغة الافتراضية HA يكون في محلوله المائي :

( ) متأين جزئياً . ( ) تركيز الجزيء غير المتأين HA صفراً .

( ) يوجد في حالة اتزان ديناميكي . ( ) تركيز كاتيون الهيدروجين أقل من تركيز الحمض .

3- المواد التالية تعتبر تامة التأيين ( أو التفكك ) في المحاليل المائية عدا واحدة منها ، وهي :

HCl ( ) NH<sub>3</sub> ( )

HNO<sub>3</sub> ( ) NaOH ( )

4- يحتوي المحلول المائي لهيدروكسيد الصوديوم ( NaOH ) على :

( ) أنيونات ( OH<sup>-</sup> ) ، كاتيونات ( Na<sup>+</sup> ) وحدات صيغة ( NaOH )

( ) أنيونات ( OH<sup>-</sup> ) وحدات صيغة ( NaOH )

( ) كاتيونات ( Na<sup>+</sup> ) فقط

( ) أنيونات ( OH<sup>-</sup> ) ، كاتيونات ( Na<sup>+</sup> ) فقط

5- الأنواع الموجودة في المحلول المائي لحمض الأسيتيك CH<sub>3</sub>COOH :

( ) CH<sub>3</sub>COO<sup>-</sup> ، H<sub>3</sub>O<sup>+</sup> فقط . ( ) CH<sub>3</sub>COOH ، H<sub>3</sub>O<sup>+</sup> فقط .

( ) CH<sub>3</sub>COO<sup>-</sup> ، H<sub>3</sub>O<sup>+</sup> ، CH<sub>3</sub>COOH . ( ) CH<sub>3</sub>COOH ، H<sub>3</sub>O<sup>+</sup> ، CH<sub>3</sub>COO<sup>-</sup> فقط .



6- المرحلة الثانية لتأين حمض الفوسفوريك في المحاليل المائية تؤدي إلى تكون كاتيون الهيدرونيوم وأيون:



7- الأنواع التالية : (  $\text{H}_3\text{PO}_4$  ,  $\text{H}_2\text{PO}_4^-$  ,  $\text{HPO}_4^{2-}$  ) يكون فيها :



8- قيمة الأس الهيدروجيني ( pH ) لمحلول حمض ( HCl ) الذي تركيزه ( 0.0001 ) تساوي :



9- إذا كانت قيمة ثابت التآين (  $K_a$  ) لكل من حمض الفورميك وحمض الهيدروفلوريك وحمض الأسيتيك وحمض

البنزويك هي (  $1.8 \times 10^{-4}$  ,  $6.7 \times 10^{-4}$  ,  $1.8 \times 10^{-5}$  ,  $6 \times 10^{-5}$  ) على الترتيب فإن أقوى هذه

الأحماض في محاليلها المائية المتساوية التركيز هو حمض :



10- إذا علمت أن (  $K_a$  ) لكل من الأحماض التالية : (  $\text{HCN}$  ,  $\text{HClO}$  ,  $\text{CH}_3\text{COOH}$  ) هي

(  $1.8 \times 10^{-5}$  ,  $3.2 \times 10^{-8}$  ,  $4 \times 10^{-10}$  ) على الترتيب ، فإن ذلك يدل على أن :

( ) حمض (  $\text{HCN}$  ) هو أقوى الأحماض السابقة.

( ) (  $[\text{H}_3\text{O}^+]$  ) في محلول (  $\text{CH}_3\text{COOH}$  ) أكبر من (  $[\text{H}_3\text{O}^+]$  ) في محلول (  $\text{HClO}$  ) والذي له نفس التركيز

( ) قيمة ( pH ) لمحلول (  $\text{CH}_3\text{COOH}$  ) أكبر من قيمة ( pH ) لمحلول (  $\text{HCN}$  ) والذي له نفس التركيز.

( ) قيمة ( pKa ) لمحلول حمض (  $\text{CH}_3\text{COOH}$  ) تساوي ( 6.8 )

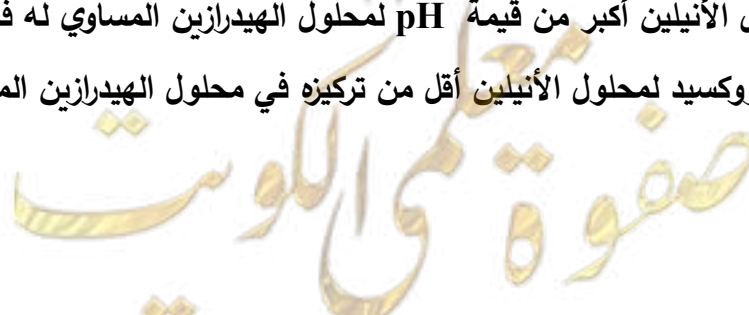
11- إذا كانت قيمة (  $K_b$  ) للأنيولين تساوي (  $4.6 \times 10^{-10}$  ) و للهيدرازين تساوي (  $9.8 \times 10^{-7}$  ) فإن :

( ) درجة تأين الهيدرازين أقل من درجة تأين الأنيولين المساوي له في التركيز.

( ) الأنيولين كقاعدة أقوى من الهيدرازين .

( ) قيمة pH لمحلول الأنيولين أكبر من قيمة pH لمحلول الهيدرازين المساوي له في التركيز.

( ) تركيز أيون الهيدروكسيد لمحلول الأنيولين أقل من تركيزه في محلول الهيدرازين المساوي له في التركيز .





**السؤال الرابع: أكمل الفراغات في الجمل والمعادلات التالية بما يناسبها علمياً :**

- 1- المحلول المائي لحمض الأسيتيك (  $\text{CH}_3\text{COOH}$  ) يحتوي على أيونات ----- , ----- بالإضافة إلى جزيئات ----- .
- 2- المحلول المائي لحمض النيتريك (  $\text{HNO}_3$  ) يحتوي على ----- ، ----- .
- 3- يتأين حمض الفوسفوريك (  $\text{H}_3\text{PO}_4$  ) على ----- مراحل .
- 4- الأحماض التي تتأين على عدة مراحل تكون درجة تأينها في المرحلة الأولى ----- من درجة تأينها في المرحلة الثانية .
- 5- في مراحل تأين حمض الكبريتوز (  $\text{H}_2\text{SO}_3$  ) تكون قيمة (  $K_{a1}$  ) ----- من قيمة (  $K_{a2}$  ) .
- 6- كلما قلت قيمة ثابت التأين (  $K_a$  ) للحمض ----- قوة الحمض .
- 7- تركيز محلول حمض الهيدروكلوريك الذي قيمة الأس الهيدروجيني ( pH ) له تساوي ( 2 ) يساوي -----
- 8- تركيز كاتيون الهيدرونيوم في محلول هيدروكسيد الصوديوم ----- من تركيز كاتيون الهيدرونيوم في محلول الهيدرازين ( قاعدة ضعيفة ) المساوي له بالتركيز .
- 9- محلولان لحمض الأسيتيك  $\text{CH}_3\text{COOH}$  ولحمض الهيدروسيانيك  $\text{HCN}$  متساويا التركيز فإذا علمت أن  $K_a$  لحمض الأسيتيك هي (  $1.8 \times 10^{-5}$  ) وقيمة  $K_a$  لحمض الهيدروسيانيك هي (  $4.5 \times 10^{-10}$  ) فإن المحلول الذي له أس هيدروجيني pH أقل هو محلول حمض ----- .

**السؤال الخامس : علل لكل مما يلي تعليلاً علمياً أو اكتب التفسير العلمي:**

- 1- الأس الهيدروجيني لمحلول حمض الأسيتيك  $\text{CH}_3\text{COOH}$  أكبر من الأس الهيدروجيني لمحلول حمض الهيدروكلوريك  $\text{HCl}$  المساوي له بالتركيز .

- 2- الأس الهيدروجيني لمحلول الأمونيا أقل من الأس الهيدروجيني لمحلول هيدروكسيد الصوديوم المساوي له بالتركيز .

صفحة معلم الكويت





**السؤال السادس: أجب عن الأسئلة التالية:**

1- اكتب معادلات التأيّن الثلاث لحمض الفوسفوريك (  $H_3PO_4$  ) ثم حدد أي المراحل يكون فيها الحمض أقوى.

.....

.....

.....

.....

2- رتب الأحماض التالية تصاعديا حسب قوتها ، علما بأنها متساوية التركيز وعند درجة الحرارة نفسها.

( ) حمض الفورميك (  $K_a = 1.8 \times 10^{-4}$  ) ( ) حمض البروبانويك (  $K_a = 1.3 \times 10^{-5}$  )

( ) حمض الهيپوكلوروز (  $K_a = 3 \times 10^{-8}$  ) ( ) حمض الكلوروز (  $K_a = 1.8 \times 10^{-5}$  )

=====

3- رتب القواعد التالية تصاعديا حسب قوتها ، علما بأنها متساوية التركيز وعند درجة الحرارة نفسها.

( ) محلول الأمونيا (  $K_b = 1.8 \times 10^{-5}$  ) ( ) البريديين (  $K_b = 1.7 \times 10^{-9}$  )

( ) ثنائي ميثيل أمين (  $K_b = 5.4 \times 10^{-4}$  ) ( ) هيدروكسيل أمين (  $K_b = 1.1 \times 10^{-8}$  )

**السؤال السابع: قارن بين كل مما يلي :**

وجه المقارنة	الحمض القوي	الحمض الضعيف
التأيّن	يتأين الحمض القوي بشكل تام في المحلول المائي ، تأينه غير عكوس	
محتوى المحلول		يحتوي المحلول على كاتيونات الهيدرونيوم وأنيونات الحمض وجزيئات الحمض.
توصيل المحلول للتيار الكهربائي	يوصل التيار الكهربائي بدرجة عالية لأنه الكتروليت قوي	
الاتزان		بها اتزان بين الأيونات والجزيئات ولها ثابت تأين ( $K_a$ )
أمثلة	$HBr$ ، $HNO_3$ ، $HCl$ $H_2SO_4$ ، $HI$	

وجه المقارنة	القاعدة القوية	القاعدة الضعيفة
التأين		تتأين القاعدة الضعيفة بشكل جزئي في المحلول المائي لينتج القليل من أنيونات الهيدروكسيد ، تأينها عكوس
محتوى المحلول	يحتوي المحلول على أنيونات الهيدروكسيد وكاتيونات القاعدة فقط	
توصيل المحلول للتيار الكهربائي		يوصل التيار الكهربائي بدرجة منخفضة لأنه الكتروليت ضعيف.
الانزان	لا يوجد بها اتزان بين الأيونات والجزيئات	

وجه المقارنة	الحمض الأقوى ( أكبر – أقل )	الحمض الأضعف ( أكبر – أقل )
درجة التأين	.....	.....
تركيز $[H_3O^+]$	.....	.....
قيمة $(K_a)$	.....	.....
قيمة $(pK_a)$	.....	.....
قيمة $(pH)$	.....	.....
تركيز $[OH^-]$	.....	.....

وجه المقارنة	القاعدة الأقوى ( أكبر – أقل )	القاعدة الأضعف ( أكبر – أقل )
درجة التأين	.....	.....
تركيز $[OH^-]$	.....	.....
قيمة $(pH)$	.....	.....
قيمة $(K_b)$	.....	.....
تركيز $[H_3O^+]$	.....	.....

مع أطيب التمنيات لطلابنا بالنجاح والتفوق الدائمين ،،،