



نماذج أوراق العمل التقويمية

الصف الخامس – الفترة الدراسية الأولى


العام الدراسي 2025-2024 م



وزارة التربية  
التوجيه الفني العام للعلوم

# نماذج أوراق العمل التقويمية للصف الخامس الابتدائي الفترة الدراسية الأولى

العام الدراسي  
2025-2024



5

الصف الخامس

SCAN ME



فريق إعداد التوجيهات الفنية



صفحة 5 من 5



الاسم : .....

الفصل : .....

الدرجة النهائية : ..... / 5

## درس: ما خصائص كواكب النظام الشمسي ؟

### السؤال الأول: اختر الإجابة الصحيحة علمياً بوضع علامة ( ✓ ) في المربع المقابل لها فيما يلي:

- كوكب تدور حوله 8 أقمار و يمتاز ببرودته يسمى بـ :

زحل

المريخ

أورانوس

نبتون

2

### السؤال الثاني: اختر من المجموعة ( ب ) ما يناسب العبارات في المجموعة ( أ ) :

الرقم	المجموعة ( أ )	المجموعة ( ب )
	أكبر كواكب المجموعة الشمسية و يمتاز بوجود بقعة حمراء على سطحه	1- زحل
		2- المشتري
	أسخن كواكب المجموعة الشمسية .	1- الزهرة
		2- عطارد

2

### السؤال الثالث: علل لما يلي تعليلاً علمياً سليماً :

- الأرض كوكب الحياة .

1



الاسم : .....

الفصل : .....

الدرجة النهائية : /..... 5

## درس: حركة الأرض

### السؤال الأول: اختر الإجابة الصحيحة علمياً بوضع علامة ( ✓ ) في المربع المقابل لها فيما يلي:

- يستغرق دوران الأرض حول محورها :

١٢ ساعة

٢٢ ساعة

٢٠ ساعة

٢٤ ساعة

2

### السؤال الثاني : أكمل العبارات التالية بما يناسبها علمياً :

(1) أشعة الشمس تسقط ..... على سطح الأرض في فصل الشتاء .

(2) يتسبب ميل محور الأرض ودورانها حول الشمس بحدوث ظاهرة.....

2

### السؤال الثالث: أكمل جدول المقارنة التالي :

وجه المقارنة	أشعة الشمس عمودية	أشعة الشمس مائلة
درجة الحرارة على سطح الأرض		

1

الاسم: .....

الفصل: .....

الدرجة النهائية: ..... / 5

## درس: ماذا يحيط بالأرض؟

**السؤال الأول: اختر الإجابة الصحيحة علمياً بوضع علامة ( ✓ ) في المربع المقابل لها فيما يلي:**

- الغاز الذي يوجد في الغلاف الجوي بنسبة 78% هو :

 الأوكسجين النيتروجين ثاني أكسيد الكربون الهيليوم

2

**السؤال الثاني: أكمل العبارات التالية بما يناسبها علمياً:**

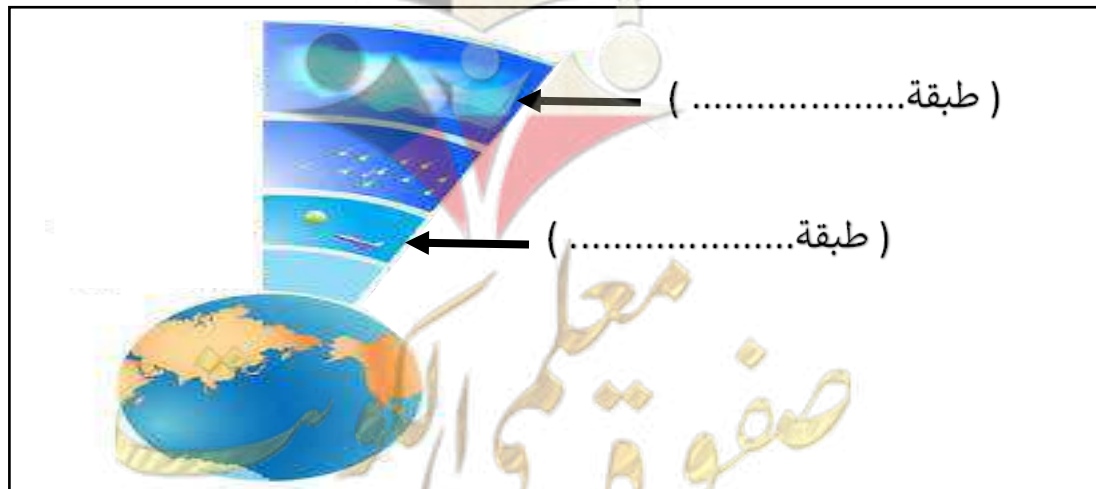
(1) الغلاف الجوي يتكون من مجموعة .....

(2) يطلق إسم غاز الحياة على غاز .....

2

**السؤال الثالث: أكمل البيانات على الريم الموضح :**

- الشكل يوضح طبقات الغلاف الجوي .



1



الاسم: .....

الفصل: .....

الدرجة النهائية: ..... / 5

## درس: ما خصائص طبقات الغلاف الجوي؟

### السؤال الأول: اختر الإجابة الصحيحة علمياً بوضع علامة ( ✓ ) في المربع المقابل لها فيما يلي:

- طبقة الغلاف الجوي التي تحمي الأرض من خطر الشهب القادمة من الفضاء تسمى بـ :

الثيرموسفير

الميزوسفير

الستراتوسفير

التروبوسفير

2

### السؤال الثاني: أكتب بين القوسين كلمة ( صحيحة ) للعبارة الصحيحة وكلمة ( خطأ ) للعبارة غير الصحيحة في كل مما يأتي:

(1) طبقة الميزوسفير تحوي غاز الأوزون الذي يحمي الأرض من أشعة الشمس الضارة . (.....)

(2) تختلف طبقات الغلاف الجوي في خواصها و فائدتها . (.....)

2

### السؤال الثالث: أذكر / عدد ما يلي :

- عدد إثنان من فوائد / أهمية الغلاف الجوي :

1- .....

2- .....

1

صفوة معلمى الكويت



الاسم: .....

الفصل: .....

الدرجة النهائية: ..... / 5

## درس: ما خصائص طبقات الغلاف الجوي؟

### السؤال الأول: اختر الإجابة الصحيحة علمياً بوضع علامة ( ✓ ) في المربع المقابل لها فيما يلي:

- طبقة الغلاف الجوي التي تحوي نسبة كبيرة من بخار الماء و تحدث فيها معظم الظواهر الجوية تسمى بـ:

الثيرموسفير

الميزوسفير

الستراتوسفير

التروبوسفير

2

### السؤال الثاني: اختر من المجموعة ( ب ) ما يناسب العبارات في المجموعة ( أ ) :

الرقم	المجموعة ( أ )	المجموعة ( ب )
	خصائص طبقات الغلاف الجوي	1- مختلفة
		2- متشابهة
	يسمى الجزء السفلي من طبقة الثيرموسفير بـ	1- الأكسوسفير
		2- الأيونوسفير

2

### السؤال الثالث: أذكر / عدد ما يلي :

- عدد إثنان من خصائص طبقة الستراتوسفير :

..... (1)

..... (2)

1

الاسم: .....

الفصل: .....

الدرجة النهائية: ..... / 5

## درس: كيف يحمينا الأوزون ؟

السؤال الأول: اختر الإجابة الصحيحة علمياً بوضع علامة ( ✓ ) في المربع المقابل لها فيما يلي:

- يرمز لغاز الأوزون بالرمز :

O O<sub>2</sub> O<sub>3</sub> CO 

2

السؤال الثاني: أكتب بين القوسين كلمة (صحيحة) للعبارة الصحيحة وكلمة ( خطأ) للعبارة غير الصحيحة في كل مما يأتي :

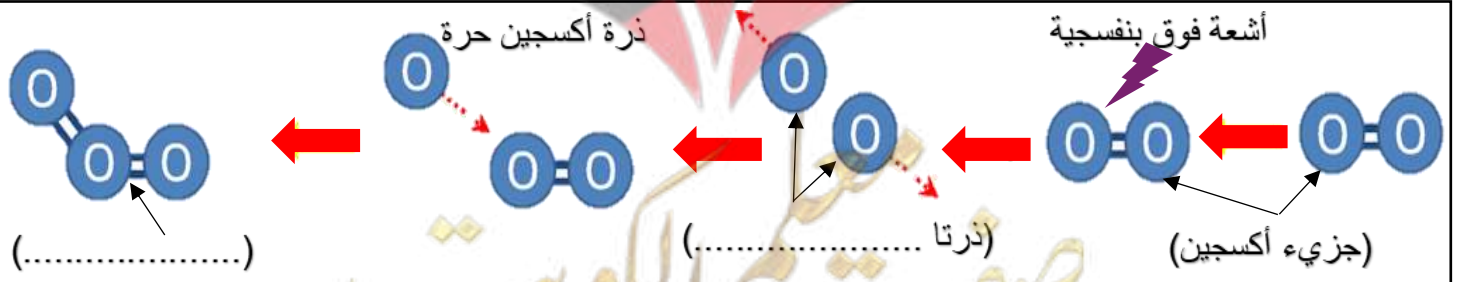
(1) ينشأ غاز الأوزون بتأثير أشعة الشمس فوق البنفسجية . (.....)

(2) توجد طبقة الأوزون في الجزء السفلي من طبقة الميزوسفير . (.....)

2

السؤال الثالث : أكمل البيانات على الرسم الموضح :

- الشكل يوضح مراحل تكون غاز الأوزون .



1



نماذج أوراق العمل التقويمية

الصف الخامس – الفترة الدراسية الأولى

العام الدراسي 2024-2025 م



وزارة التربية  
التوجيه الفني للعلوم

الاسم: .....

الفصل: .....

الدرجة النهائية: ..... / 5

درس: كيف يحمينا الأوزون ؟

**السؤال الأول: اختر الإجابة الصحيحة علمياً بوضع علامة ( ✓ ) في المربع المقابل لها فيما يلي:**

- يتكون غاز الأوزون من :

ذرة أكسجين

ذرتا أكسجين

ثلاث ذرات أكسجين

أربع ذرات أكسجين

2

**السؤال الثاني: أكمل العبارات التالية بما يناسبها علمياً :**

(1) ينشأ غاز الأوزون بتأثير أشعة الشمس .....

(2) توجد طبقة الأوزون في الجزء السفلي من طبقة .....

2

**السؤال الثالث : علل لما يلي تعليلاً علمياً سليماً :**

- طبقة غاز الأوزون لها أهمية كبيرة .

1

صفوة معلمى الكويت



الاسم: .....

الفصل: .....

الدرجة النهائية: ..... / 5

درس: ما الذي يساعد جسمك على أداء وظائفه؟

(الجهاز الهضمي)

**السؤال الأول: اختر الإجابة الصحيحة علمياً بوضع علامة (✓) في المربع المقابل لها فيما يلي:**

- عضو كيسي الشكل ذي جدران عضلية يسمى ب:

الفم المريء الأمعاء الدقيقة المعدة 

2

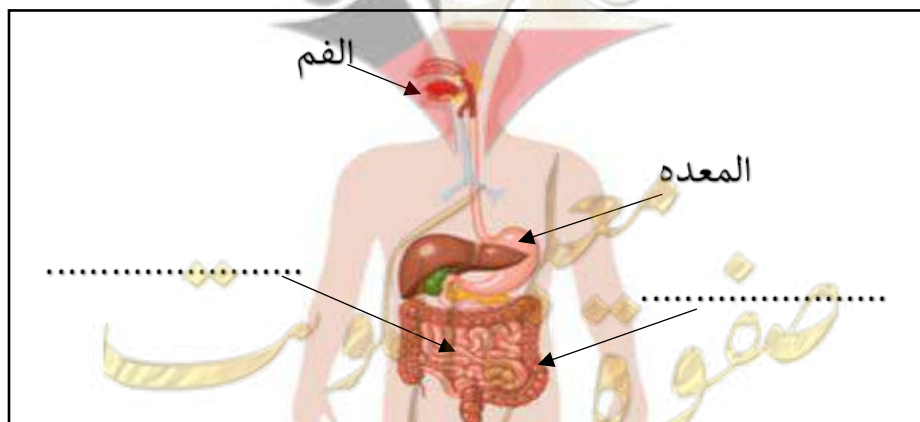
**السؤال الثاني: اختر من المجموعة (ب) ما يناسب العبارات في المجموعة (أ):**

الرقم	المجموعة (أ)	المجموعة (ب)
	عضو يتم فيه استكمال عملية الهضم	1 - الأمعاء الدقيقة
		2 - الأمعاء الغليظة
	القلب عضو ينتمي للجهاز	1- التنفسي
		2- الدوري

2

**السؤال الثالث: أكمل البيانات على الرسم الموضح:**

- الشكل يوضح الجهاز الهضمي في جسم الإنسان .



1

الاسم: .....

الفصل: .....

الدرجة النهائية: ..... / 5

## درس: ما الذي يساعد جسمك على أداء وظائفه؟ ( الجهاز الهضمي )

### السؤال الأول: اختر الإجابة الصحيحة علمياً بوضع علامة ( ✓ ) في المربع المقابل لها فيما يلي:

- يتوزع الطعام المهضوم إلى جميع أجزاء جسمك عن طريق بـ:

الماء الأعصاب الدم المريء 

2

### السؤال الثاني: أكتب بين القوسين كلمة (صحيحة) للعبارة الصحيحة وكلمة ( خطأ ) للعبارة غير الصحيحة في كل مما يأتي :

1) القلب من أعضاء الجهاز الهضمي . ( .....

2) يتكون الجهاز الهضمي من عدة أعضاء لكل منها وظيفة يقوم بها . ( .....

2

### السؤال الثالث: أكمل المنظم الشكلي الموضح :



1



الاسم : .....

الفصل : .....

الدرجة النهائية : ..... / 5

## درس : ما الذي يساعد جسمك على أداء وظائفه؟ (الجهاز التنفسي)

### السؤال الأول: اختر الإجابة الصحيحة علمياً بوضع علامة (✓) في المربع المقابل لها فيما يلي:

- عضله التنفس الأساسية التي لها دور كبير في عملية التنفس وتتحرك إرادياً هي :

الانف

القصبه الهوائية

الحجاب الحاجز

الرئتان

2

### السؤال الثاني: أكمل العبارات التالية بما يناسبها علمياً :

1) يستخدم الجسم الأكسجين لحرق الغذاء بعملية تسمى .....

2) الشهيق عملية يتم خلالها ..... الهواء الي الرئتين .

2

### السؤال الثالث : أكمل جدول المقارنة التالي :

عملية الزفير	عملية الشهيق	وجه المقارنة
		اتجاه الحجاب الحاجز
		حجم الرئة

1

الاسم : .....

الفصل : .....

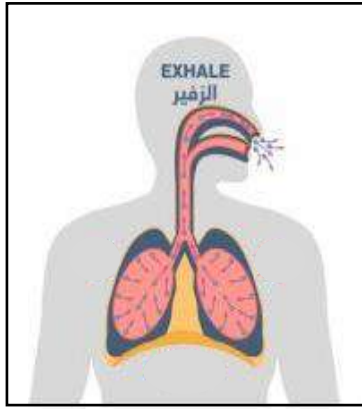
الدرجة النهائية : ..... / 5

درس : ما الذي يساعد جسمك على أداء وظائفه؟

(الجهاز التنفسي)

**السؤال الأول: اختر الإجابة الصحيحة علمياً بوضع علامة (✓) في المربع المقابل لها فيما يلي:**

- الجملة الصحيحة التي تعبر عن العملية الموضحة أمامك بالشكل هي :

يرتفع الحجاب الحاجز و تصغر الرئتان أثناء الزفير يهبط الحجاب الحاجز و تكبر الرئتان أثناء الزفير يرتفع الحجاب الحاجز و تكبر الرئتان أثناء الزفير يهبط الحجاب الحاجز و تصغر الرئتان أثناء الزفير 

2

**السؤال الثاني: أكتب المصطلح العلمي الدال على كل عبارة من العبارات التالية :**

1) جهاز يزود خلايا جسمك بالأكسجين اللازم للقيام بأنشطتك المختلفة و يخلصك من غاز ثاني

أكسيد الكربون .

(.....)

2) عضلة التنفس الأساسية التي لها دور كبير في عملية التنفس و تتحرك إرادياً. (.....)

2

**السؤال الثالث : علل لما يلي تعليلاً علمياً سليماً :**

- عملية الأيض مهمة لجسم الإنسان .

1



نماذج أوراق العمل التقويمية

الصف الخامس – الفترة الدراسية الأولى

العام الدراسي 2024-2025 م



وزارة التربية  
التوجيه الفني العام للعلوم

الاسم : .....

الفصل : .....

الدرجة النهائية : ..... / 5

## درس: ما الذي يساعد جسمك على أداء وظائفه؟ (الجهاز الدوري)

**السؤال الأول: اختر الإجابة الصحيحة علمياً بوضع علامة (✓) في المربع المقابل لها فيما يلي:**

- أحد مكونات الدم مسؤولة عن قتل الجراثيم والميكروبات التي تدخل جسمك هي :

□ خلايا الدم الحمراء

□ خلايا الدم البيضاء

□ الصفائح الدموية

□ البلازما

2

**السؤال الثاني: أكتب بين القوسين كلمة (صحيحة) للعبارة الصحيحة وكلمة (خطأ) للعبارة غير الصحيحة في كل مما يأتي :**

(1) الشريان وعاء دموي ينقل الدم من الجسم عائداً به إلى القلب. (.....)

(2) تزيد عدد دقات القلب بعد قيامك بتمرين رياضي. (.....)

2

**السؤال الثالث: أذكر / عدد :**

- أعضاء الجهاز الدوري .

1- .....

2- .....

1





الاسم : .....

الفصل : .....

الدرجة النهائية : ..... / 5

## درس: ما الذي يساعد جسمك على أداء وظائفه؟ (الجهاز الدوري)

**السؤال الأول: اختر الإجابة الصحيحة علمياً بوضع علامة (✓) في المربع المقابل لها فيما يلي:**

- تزيد عدد دقات القلب بعد ممارسة التمارين الرياضية بسبب حاجة :

الأنف إلى المزيد من الأكسجين

المعدة إلى المزيد من الغذاء

القلب إلى الحركة

العضلات إلى المزيد من الأكسجين

2

**السؤال الثاني: أختَر من المجموعة ( ب ) ما يناسب العبارات في المجموعة ( أ ) :**

الرقم	المجموعة ( أ )	المجموعة ( ب )
	عضو من أعضاء الجهاز الدوري	1- الرئتان
		2- القلب
	وعاء دموي دقيق ذو جدران رقيقة	1- الشعيرة الدموية
		2- الشريان

2

**السؤال الثالث: أذكر / عدد :**

- عدد إثنان من مكونات الدم :

1- .....

2- .....

1





الاسم : .....

الفصل : .....

الدرجة النهائية : ..... / 5

## درس: ما طرق العناية بأنفسنا ؟ (الإسعافات الأولية للنزيف)

### السؤال الأول : اختر الإجابة الصحيحة علمياً بوضع علامة ( ✓ ) في المربع المقابل لها فيما يلي:

- الخطوة الأولى في إسعاف شخص مصاب بنزيف هي :

الربط بإحكام فوق مستوى الجرح

رفع الجزء المصاب فوق مستوى القلب

نقل المصاب للمستشفى

الضغط بقوة على الجرح لوقف النزيف

2

### السؤال الثاني: أكتب بين القوسين كلمة ( صحيحة ) للعبارة الصحيحة وكلمة ( خطأ ) للعبارة غير الصحيحة في كل مما يأتي:

(1) الطريقة الصحيحة لإسعاف المصاب بالرعاف هي رفع راسه الى اعلي. (.....)

(2) تقديم الإسعافات الأولية بطريقة خاطئة يعرض حياة الآخرين للخطر. (.....)

2

### السؤال الثالث: علل لما يأتي تعليلاً علمياً سليماً:

- تجمع الصفائح عند موضع الجرح .

.....

1

صفوة معلمى الكويت