



# التاريخ

مذكرة تفاعلية

10

الصف العاشر



صفوة معلمى الكويت

# لماذا؟

## مذكرات النجاح

مجانا  
بدون  
اشترك

اختبارات الكترونية  
لكل درس  
لكل وحدة



### الأسئلة الذهبية

تكرر في اختبارات سابقة  
من ٣ إلى ٥ مرات



تكرر في اختبارات سابقة  
أكثر من ٥ مرات



تكرر في اختبارات سابقة  
من ١ إلى ٢ مرات



- شاملة ومختصرة
- نماذج اختبارات محلولة
- ملونة ومرتبطة
- مرتبة حسب الدروس
- باركود حل الكتاب المدرسي
- باركود الاختبارات الالكترونية
- محلولة

صفوة الكلويت



2025-2024



# مذكرات النجاح

طريقك للنجاح



66279318

# وقفة لحظة



قبل لا تكمل  
روابط تهلك



حل  
الكتاب



ملاحظات  
المذكرة



صفوة من الكويت

## فهرس المذكرة

### الفصل الأول: معالم الكويت الجغرافية والاقتصادية والحضارية

#### جغرافية دولة الكويت

٣	الموقع والمساحة
٥	التضاريس
٨	جزر الكويت
١٠	المناخ
١٣	السكان

#### الأنشطة الاقتصادية قديماً

١٥	الخليج العربي أحد أهم الطرق التجارية القديمة
١٥	طريق الحرير

#### أنواع الأنشطة الاقتصادية

١٧	أولاً: النشاط البحري
٢٣	ثانياً: النشاط البري
٢٥	ثالثاً: الحرف اليدوية

#### المعالم الحضارية لدولة الكويت

#### الفصل الثاني: نشأة الكويت

٣٢	نشأة الكويت ١٦١٣
٣٦	حكام دولة الكويت
٤١	النمو التجاري والاقتصادي للكويت تحت حكم آل صباح
٤٣	عوامل نمو وازدهار الكويت تحت حكم آل صباح

#### الفصل الثالث: الكويت والتنافس الأوروبي على منطقة الخليج العربي من القرن السادس عشر حتى

#### القرن التاسع عشر ميلادي

٤٥	التنافس الاستعماري الأوروبي على منطقة الخليج العربي
٤٨	الكويت وبريطانيا
٤٩	الكويت والعثمانيون

#### الفصل الرابع: الحاكم السابع الشيخ مبارك الكبير مؤسساً لإمارة الكويت الحديثة ١٨٩٦-١٩١٥م

٥٢	الشيخ مبارك الصباح (١٨٩٦-١٩١٥)
٥٥	تطور الأوضاع الداخلية والخارجية في الكويت
٥٧	الأطماع الدولية تجاه الكويت في عهد الشيخ مبارك الصباح
٥٨	اتفاقية الحماية ١٨٩٩م وأثرها على الكويت



اختبار  
الالكتروني  
تدرب  
وتعلم

## الموقع والمساحة

اختر الإجابة الصحيحة من الإجابات التالية:

١

١ يحد الكويت من الشمال والشمال الغربي:

ج جمهورية العراق

ب اليمن

أ المملكة العربية السعودية

٢ تبلغ مساحة الكويت حوالي

ج ١٧,٨١٨ ألف كم

ب ١٩,٨١٨ ألف كم

أ ١٨,٨١٨ ألف كم

أكمل الفراغات بما يناسبها:

٣

- تقع الكويت بالنسبة للجزيرة العربية في الجزء الشمالي الشرقي.
- يحد الكويت من الجنوب والجنوب الغربي المملكة العربية السعودية.
- تقع دولة الكويت بالنسبة للخليج العربي في الجزء الشمالي الغربي.
- تقع الكويت بين خطي عرض ٢٨,٤٥ درجة و ٣٠,٠٥ درجة شمال خط الاستواء.
- تقع الكويت بين خطي طول ٤٦,٣٠ درجة و ٤٨,٣٠ درجة شرق خط غرينتش.
- الحد الفاصل بين الحدود الكويتية العراقية بمسافة ١٥٠ كم يسمى وادي الباطن.
- أعلى ارتفاع فوق مستوى سطح البحر في المناطق الغربية لدولة الكويت ٣٠٠ متر.
- نسبة المساحة التي تشغلها جزيرة بوبيان من إجمالي مساحة الكويت تبلغ ٥%.

علل بما يلي:

٣

١ أهمية دراسة موقع أي دولة.

- إبراز القيمة الفعلية للدولة
- إبراز الكيفية التي تكون عليها المصالح الحيوية للدولة
- إبراز الدور الذي يمكن أن تمارسه الدولة

٢ أهمية الموقع الجغرافي المتميز للكيان السياسي لدولة الكويت.

- موقعها الذي يمثل النهاية الطبيعية للطريق الملاحي البحري والتجاري
- تمثل البوابة والمدخل الطبيعي لشمال شرق الجزيرة العربية
- منطقة ترانزيت منطقة لتجارة العبور قليلة الضرائب
- نشاط دولة الكويت البحري والتجاري
- تميز الكويتيين بالمهارة في نقل التجارة بين موانئ الخليج وسواحل الهند والشرق الأفريقي.

### ٣ الكويت البوابة والمدخل الطبيعي لشمال شرق الجزيرة العربية

◀ مركز لتجارة السكان الوافدين عليها من (نجد - الإحساء - بادية الشام)

### ٤ على الخريطة دولة الكويت الصماء ادناه سجل التالي:

◀ الدول المجاورة

◀ المسطح المائي

◀ الموقع الفلكي



### ٥ اكتب عن مميزات موقع دولة الكويت:

◀ الكويت موقعها يمثل النهاية الطبيعية للطريق الملاحي البحري والتجاري والكويت مركز لتجارة الوافدين وهي نقطة ترانزيت وللكويت نشاط بحري وتجاري فهي أحد موانئ شمال إقليم إحساء مع ملحقاتها من الجزر.

### ٦ هل دولة الكويت بحرية أم هي دولة مغلقة؟

◀ دولة بحرية

### ٧ فرّق بين الدول البحرية والدول المغلقة من حيث المفهوم:

الدول المغلقة

دول محاطة باليابس من الكامل

الدول البحرية

هي الدول التي تحاط أراضيها بالمياه وتسيطر على أقاليم بحرية

صفوة معلمى الكويت





## التضاريس

اختر الإجابة الصحيحة من الإجابات التالية:

١

١ تلال على شكل قباب تقع في جنوب دولة الكويت:

- أ) جال الزور      ب) واره      ج) كراع المرو      د) اللياح

أكمل الفراغات بما يناسبها:

٢

سهل يمتد بين جون الكويت باتجاه الجنوب موازياً لخط الساحل يسمى سهل البرقان.

ارتفاع سهل برقان بين الصفر عند الساحل وفي الداخل حوالي ١٠٠ م

أكبر الحقول النفطية في دولة الكويت يسمى حقل برقان

سهل يقع في شمال الكويت وهي أرض منبسطة تنحدر نحو الشرق والشمال الشرقي يسمى سهل الروضتين.

تلال برقان ووارة في الجنوب من مدينة الأحمدية تأخذ شكل قباب.

الهضبة التي تأخذ الشكل الطولي وتمتد في اتجاه شمالي جنوبي لمسافة ٣٠ كم تسمى هضبة الأحمدية.

أقصى ارتفاع لهضبة الأحمدية فوق سطح البحر حوالي ١٣٧ م.

وادي يفصل بين الحدود الكويتية العراقية لمسافة ١٥٠ كم يسمى الباطن.

فَرِّق بين السهل والتل من حيث ما هو مطلوب في الجدول التالي:

٣

وجه المقارنة	السهل	التل
المفهوم	مساحات أرضية واسعة من الأراضي المستوية	هو ارتفاع أقل من الجبل

ابحث عن مميزات سهل الروضتين.

٤

يغطي هذا السهل رواسب حصوية وهذا السهل يتميز بانحداره نحو الشرق والشمال الشرقي.

صفوة معلم الكويت



أمامك خريطة دولة الكويت الصماء، اكتب الرقم الدال على كل مما يلي:

٩



- < اسهل الدبدبة على الخريطة يمثلها الرقم ٦.
- < كراع المرو على الخريطة يمثلها الرقم ٥.
- < منطقة العبدلي يمثلها على الخريطة الرقم ٤.
- < جون الكويت يمثلها على الخريطة الرقم ٣.

«الكويت جيولوجياً جزء من الكتلة العربية» دلل على صحة العبارة.

١٠

- < تفصل بين العراق والهضبة الصحراوية المكونة لشبة الجزيرة العربية.
- < سطح الكويت يتكون من سهول رملية وتلال.
- < ينحدر سطحها نحو الشرق.

صنف الكلمات التالية بحسب الجدول:

١١

كراع المرو-الباطن- البرقان- الליاح- الروضتين- جال الزور- الدبدبة

التلال	الادوية	السهول
<ul style="list-style-type: none"> <li>&lt; كراع المرو</li> <li>&lt; جال الزور</li> <li>&lt; اللیاح</li> </ul>	الباطن	<ul style="list-style-type: none"> <li>&lt; الدبدبة</li> <li>&lt; الروضتين</li> <li>&lt; البرقان</li> </ul>

استعن بالصور التي أمامك لإكمال العبارات الآتية بإجابة مناسبة:

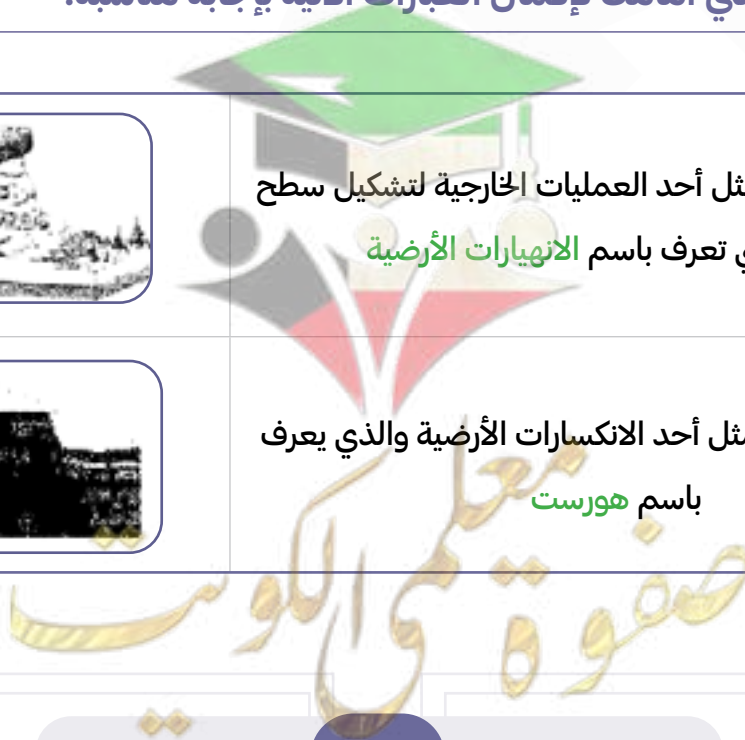
١٢



< الشكل المقابل يمثل أحد العمليات الخارجية لتشكيل سطح الأرض التي تعرف باسم الانهيارات الأرضية



< الشكل المقابل يمثل أحد الانكسارات الأرضية والذي يعرف باسم هورست





اختبار  
الالكتروني  
تدرب  
و تعلم

## جزر الكويت

اختر الإجابة الصحيحة من الإجابات التالية:

١

١ يبلغ عدد الجزر الكويتية:

٩ ج

١٠ ب

١١ أ

٢ أصغر الجزر الكويتية مساحة:

د مسكان وأم النمل

ج مسكان وقاروه

ب أم النمل وكبر

أ عوثة ووربة

٢ أكبر الجزر الكويتية والتي تمثل ٥% من المساحة الإجمالية لدولة الكويت:

د فيلكا

ج بويان

ب وربة

أ عوثة

أكمل الفراغات بما يناسبها:

٣

أ أكبر الجزر الكويتية هي جزيرة بويان.

ب جزيرة أصبحت غير مأهولة بالسكان بعد أحداث الغزو العراقي البائد للكويت عام ١٩٩٠ هي جزيرة فيلكا.

ج جزيرة أصبحت جزءاً من ميناء منطقة الشويخ بعد ردم الجزء المحصور بينها وبين الساحل هي الشويخ.

علل لما يلي:

٣

١ جزيرتا وربة وبويان كانت مطمعاً ومطلباً دائماً للعراق.

لأن الجزيرتين ستمنح العراق منفذاً بحرياً مناسباً له على الخليج العربي

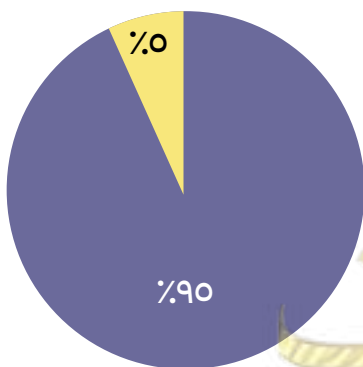
رتب الجزر الكويتية حسب موقعها من الشمال إلى الجنوب في الجدول التالي

٤

وربة	بويان	مسكان	فيلكا	أم النمل	عوثة	الشويخ	كبر	قاروه	أم المرادم
------	-------	-------	-------	----------	------	--------	-----	-------	------------

وضح نسبة مساحة جزيرة بويان نسبة للمساحة  
العجمالية لدولة الكويت على الدائرة البيانية التي أمامك:

٥



أ الكويت

ب بويان

قارن بين الجزيرة وشبه الجزيرة من حيث المفهوم في الجدول التالي:

٦

وجه المقارنة	الجزيرة	شبه الجزيرة
المفهوم	بقعة من الارض تحدها المياه من جميع الاتجاهات	بقعة من الأرض يحدها الماء من ثلاث اتجاهات

اكتب تقريراً لا يتعدى خمسة أسطر عن أهمية جزيرة فيلكا التاريخية:

٧

جزيرة فيلكا ترجع آثارها للحضارة الدلونية وفيها الآثار الحضارة الدلونية وفيها العديد من الآثار المعمارية وانها تتم فيها البعثات الاستكشافية من أجل معرفة الحضارات التي ازدهرت على أرضها وأنها تم فيها تنقيب أثري والمصادر التاريخية وانها ترجع للحضارة الدلونية فهناك القلعة الهلنستية وتل الخزنة وهذه الأماكن مقدسة عند الإغريق ووجدوا هناك العملات النحاسية ووجدوا ٤٠٠ ختم دلوني هناك ومعابد بالقرب من الوحدات السكنية.

اقترح ثلاثة مشاريع لجعل جزيرة فيلكا ذات أهمية استراتيجية:

٨

إنشاء مدينة تراثية

مواطن للترفيه

استديوهات صناعة السينما

صنف الكلمات التالية حسب الجدول :

٩

باب المنذب - أم المرادم - بويان - باب المنذب - الخليج العربي - خليج عمان - قاروة - جبل طارق - بحر العرب.

مضيق	جزيرة	مسطح مائي
هرمز	بويان	الخليج العربي
باب المنذب	قاروة	خليج عمان
جبل طارق	أم المرادم	بحر العرب

أمامك خريطة دولة الكويت صماء أكتب الرقم الدال على العبارات الآتية:

١٠



دولة العراق يمثلها الرقم (٣)

الجزيرة الكويتية التي كانت مأهولة بالسكان قبل

عام ١٩٩٠م يمثلها الرقم (٢)

سهل الدبدبة يمثلها الرقم (٥)

رياح الكوس يمثلها رقم (٤)



اختبار  
الالكتروني  
تدرب  
وتعلم

## المناخ

١ اختر الإجابة الصحيحة من الإجابات التالية:

١ تصل أحياناً درجة الحرارة بدولة الكويت في فصل الصيف:

ج ٤٨ درجة

ب ٤٩ درجة

أ ٥٠ درجة

٢ الشهر الذي يبدأ به موسم المطر في الكويت:

د ديسمبر

ج نوفمبر

ب أكتوبر

أ سبتمبر

٣ أكمل الفراغات بما يناسبها:

◀ في فصل الشتاء يصل معدل درجة الحرارة في الكويت حوالي ١٨ درجة مئوية.

◀ رياح تكون رطبة دافئة تهب من الجنوب الشرقي تتأثر في المنخفض السوداني وتسبب في رفع درجة الحرارة تسمى رياح الكوس.

◀ رياح جافة تهب في الظهيرة حيث تنخفض الرطوبة النسبية وهي رياح ذات درجات حرارة عالية تسمى رياح السموم.

◀ رياح تهب في أواخر الربيع وأوائل الصيف فتثير الغبار وتكون مصحوبة بعواصف رعدية تسمى العواصف الترابية.

٣ علل لما يلي:

١ اختلاف المناخ بين مناطق دول العالم.

◀ بسبب اختلاف موقعها الفلكي والجغرافي

٢ تمتاز الرياح الشمالية الغربية بالجفاف.

◀ لأنها تتأثر بالمرتفع السيبيري.

٣ تمتاز الرياح الجنوبية الشرقية بأنها رطبة ودافئة.

◀ لأنها تتأثر بالمنخفض السوداني.

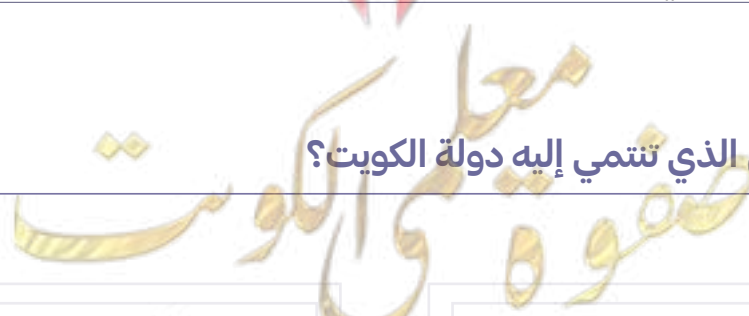
٤ جفاف وارتفاع الرطوبة في دولة الكويت.

◀ نسبة التبخر عالية

◀ قلة الأمطار

٤ ما الإقليم المناخي الذي تنتمي إليه دولة الكويت؟

◀ الإقليم الصحراوي



٥ صف حالة الجو في دولة الكويت خلال فصلي الشتاء والصيف.

الصيف: طويل وجاف وقاسٍ ويهب فيه الغبار

الشتاء: ممطر أحياناً وقصير ودافئ.

٦ اقترح حلولاً لترشيد المياه في دولة الكويت للمحافظة على هذه الثروة.

نشر التوعية بين المواطنين وإنشاء السدوج والخزانات.

٧ اكتب نبذة مختصرة عن إدارة الأرصاد الجوية التابعة للطيران المدني في دولة الكويت من حيث (نشأتها، موقعها، أهم أعمالها، فوائدها للمجتمع).

نشأتها: تأسست عام ١٩٥٣م.

موقعها: مطار الكويت الدولي.

أهم أعمالها وفوائدها للمجتمع: تجعلنا نعرف الطقس ونكون مستعدين لأي تغير في الطقس وتوفر صورة أوضح لأحوال الطقس.

٨ من أنا: (نشأتها، موقعها، أهم أعمالها، فوائدها للمجتمع).

أهب من الجنوب الشرقي وأنا رطبة ودافئة.

أهب معظم أيام السنة وأنا جافة وتنخفض بسببي درجات الحرارة.

من أشهر الفلكيين في الكويت.

(الكوس)

(الشمالية الغربية)

(صالح العجيري)

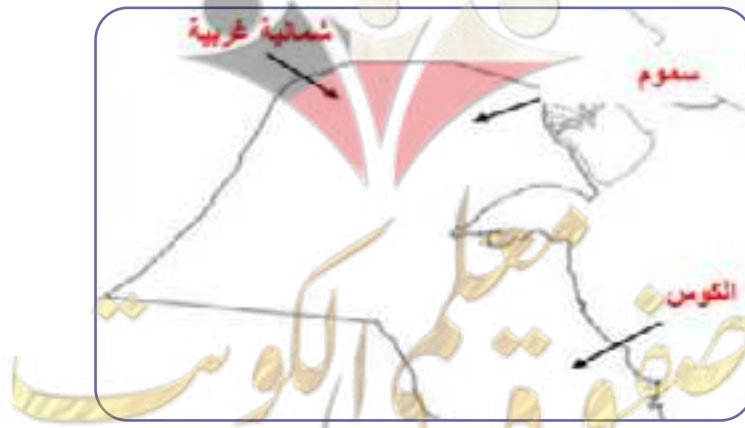
٩ الموارد المائية في دولة الكويت شحيحة « دلل على صحة العبارة.

عانى سكانها منذ القدم من قلتها وارتفاع ملوحتها.

١٠ عدد أهم المناطق التي تنحصر فيها المياه الصالحة للاستهلاك الآدمي بدولة الكويت.

الروضتين - أم العيش - الصليبية - العبدلي - الوفرة - الآبار في الجزء الشرقي.

١١ اذكر أنواع الرياح التي تهب على دولة الكويت محدداً اتجاهاتها بالرسم على الخريطة التي أمامك:



فرق من حيث المفهوم بين:

١٢

السموم	الكوس
رياح جافة جداً تهب في الظهرية	رياح تتميز بأنها رطبة دافئة تهب من الجنوب الشرقي وتتأثر بالمنخفض السوداني.
الهيرات	السرايات
أماكن تكثر فيها منابت المحار المحتوي على اللؤلؤ.	رياح تهب في أواخر الربيع وأوائل الصيف فتثير الغبار.

فرق بين المميزات المناخية لدولة الكويت في الفصول الأربعة:

١٣

الخريف	الربيع	الشتاء	الصيف
ترتفع فيه نسبة الرطوبة وتقل فيه درجة الحرارة نسبياً عن الصيف.	قصير معتدل.	دافئ قصير ممطر أحياناً وتصل درجة الحرارة إلى ١٨ درجة مئوية وقد تنخفض للصفر.	طويل حار جاف وتهب رياح مثيرة للغبار وترتفع نسبة الرطوبة وتصل درجة الحرارة إلى ٥٠ درجة.

قارن بين أنواع الرياح في دولة الكويت حسب الجدول:

١٤

آثارها المناخية	المميزات	الرياح
خفض درجات الحرارة في الصيف والجو قارس البرودة في الشتاء	تهب معظم أيام السنة وهي رياح جافة بفعل المرتفع السيبيري	الشمالية الغربية
ترتفع درجات الحرارة وتزيد نسبة الرطوبة في الصيف وفي الشتاء يعتدل الجو ويسقط المطر.	رطبة دافئة تهب من الجنوب الشرقي وتتأثر بالمنخفض السوداني.	الجنوبية الشرقية ( الكوس )
في الصيف ترتفع درجات الحرارة إلى مستوى عالٍ جداً وقد تثير الاتربة والرمال.	رياح جافة تهب في الظهرية وتنخفض معها نسبة الرطوبة.	السموم
تكون مصحوبة بعواصف رعدية يسقط بسببها المطر الشديد.	تهب في أواخر الربيع وأوائل الصيف	العواصف الترابية (السرايات)

صفوة معلم الكويت





اختبار  
الالكتروني  
تدرب  
و تعلم

## السكان

اختر الإجابة الصحيحة من الإجابات التالية:

١

١ أول تعداد رسمي لسكان الكويت كان عام:

١٩٥٧م

ج

١٩٥٦م

ب

١٩٥٥م

أ

أكمل الفراغات بما يناسبها:

٢

◀ يعود الوجود البشري في منطقة الكويت إلى أكثر من ٤٠٠٠ سنة قبل الميلاد.

◀ اقتصرت المعلومات السكانية لعدد سكان الكويت خلال الفترات التاريخية القديمة على التقديرات المبكرة التي ذكرها بعض الرحالة.

◀ أجري أول تعداد رسمي لسكان الكويت في عهد الشيخ الراحل عبد الله السالم الصباح.

◀ بلغ عدد سكان الكويت عام ١٩٩٠ حوالي ٢١٤٤٦٥ نسمة.

◀ في عام ١٩٩٠ بلغت نسبة عدد السكان غير الكويتيين (الوافدين) حوالي ٧٢٪.

◀ أجري تعداد لسكان الكويت في عام ٢٠١٤ في عهد الشيخ صباح الأحمد الصباح.

◀ بلغ عدد السكان غير الكويتيين (الوافدين) حسب تعداد عام ٢٠١٤م وحوالي ٢٧٨٩٣٠٠ نسمة.

◀ إقليم ممتد من جنوب البصرة شمالاً حتى عمان جنوباً يسمى إقليم البحرين.

◀ عناصر البناء السياسي التي افتقدتها الكويت قبل نزول العتوب بها هما السلطة والحدود السياسية

علل لما يأتي:

٣

١ قلة عدد الوافدين في دولة الكويت بعد عام ١٩٩٠م.

◀ تعرض وضع السكان لتغيرات كبيرة.

◀ هجرة كبيرة للوافدين من العرب وغيرهم إلى أوطانهم بسبب الاحتلال العراقي.

٢ ارتباط أصول السكان في الكويت ارتباطاً وثيقاً بالتركيبة السكانية لشبه الجزيرة العربية.

◀ لأنها تقع ضمن الامتداد الجغرافي والسياسي للإقليم الذي يحتل المنطقة الغربية للخليج العربي

٣ زيادة نسبة الوافدين على نسبة الكويتيين.

◀ بسبب الأمن والأمان في الكويت وفرص العمل بأجور عالية.

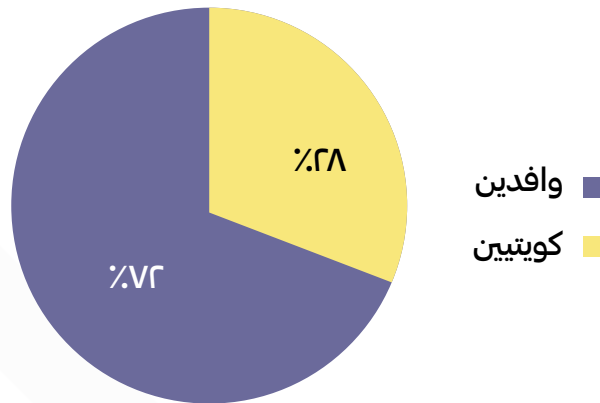
٤ اكتب حقيقة واحدة استنتجتها من الجدول البياني.

◀ أعداد الوافدين أكثر من الكويتيين.

صفحة معلم الكويت

في عام ١٩٩٠ بلغ عدد سكان الكويت ٢١٤١٤٦٥ نسمة منهم ٧٢٪ من غير الكويتيين (الوافدين) ارسم دائرة بيانية تمثل ذلك.

٤



لم تكن الكويت منذ القدم منطقة مهجورة أو خالية من السكان «، دلل على صحة العبارة

◀ يعود الوجود البشري إلى أكثر من ٤٠٠٠ سنة ق. م وتشير بقايا الآثار الحضارية القديمة التي عثر عليها في أرض الكويت مثل فيلكا والصبية.

أمامك جدول بياني لعدد السكان في دولة الكويت:

٦

الإجمالي	الوافدون	الكويتيون	العام
٤٠٠٠٠٥٢ نسمة	٢٧٨٩٣٠٠ نسمة	١٢٦٣١٠٠ نسمة	٢٠١٤م

ما أثر الغزو العراقي لدولة الكويت عام ١٩٩٠م على عدد السكان.

٧

◀ تعرض وضع السكان في الكويت لتغيرات كبيرة وعودة كبيرة للوافدين العرب وغيرهم إلى أوطانهم.





اختبار  
الالكتروني  
تدرب  
و تعلم

## الأنشطة الاقتصادية قديماً

اختر الإجابة الصحيحة من الإجابات التالية:

١

١ طريق الحرير أحد اهم طرق التجارة الدولية في العالم القديم ويبدأ من دولة:

د عمان

ج إندونيسيا

ب الهند

أ الصين

أكمل الفراغات بما يناسبها:

٢

أجمع النشاط الاقتصادي للمجتمع الكويتي القديم بين النشاط البري والنشاط البحري.

أحد أذرع المحيط الهندي في شبه الجزيرة العربية يسمى الخليج العربي.

أحد أهم الطرق التجارية القديمة والأكثر استخداماً للتجارة الدولية في العالم القديم ويبدأ من الصين يسمى

طريق الحرير.

طريق شمالي يبدأ من الصين وينتهي بأوروبا يسمى طريق الحرير البري.

طريق غربي يبدأ من أحد الموانئ الصينية ثم يلتف حول سواحل شبه القارة الهندية ليدخل البحار المحيطة بشبه

الجزيرة العربية يسمى طريق الحرير البحري.

لاحظ الخريطة التالية، ثم حدد:

٣

أسماء المسطحات المائية التي يمر بها طريق الحرير البحري.

البحر الأحمر

الخليج العربي

المحيط الهندي

أستخدم الشكل ( ← ) لتحديد الذراع الشرقي للمحيط الهندي في شبه الجزيرة العربية.





١ ما اسم الحضارة التي تنتسب إليها الصورة المقابلة؟

← الحضارة الملونية

٢ اكتب استخدامات ما تجسده الصورة؟

← تعويذة

← ختم تجاري

← هوية لحاملها

صفوة معلم الكويت



اختبار  
الالكتروني  
تدرب  
و تعلم

## النشاط البحري

اختر الإجابة الصحيحة من الإجابات التالية:

١ حرفة كانت من مصدراً من مصادر الدخل في الكويت قبل اكتشاف النفط تسمى:

- أ الزراعة      ب صيد الأسماك      ج الرعي

٢ حرفة ضمت أغلب رجال الكويت وشبابها تسمى:

- أ الغوص على اللؤلؤ      ب التجارة      ج الزراعة

٣ ظهر اللؤلؤ الصناعي في الكويت عام:

- أ ١٩٢٦م      ب ١٩٢٧م      ج ١٩٢٨م

أكمل الفراغات بما يناسبها:

الصيد بالإضاءة قديماً حيث يتجمع السمك حول سراج يحملها الصياد فيقوم بضربه بآلة حادة كالشيف أو

عصا نهايتها حربة مهنة تعرف باسم القمبار.

الشخص الذي ينشد المواويل تشجيعاً لطاقم السفينة في رحلتهم يسمى النهام.

الذي يقوم بإعداد المواد اللازمة لصناعة وبناء السفن يسمى القلاف.

أشهر حرفة مارسها أهل الكويت منذ نشأة مدينتهم وحتى أوائل الخمسينات من القرن العشرين تسمى

الغوص على اللؤلؤ.

إعادة تصدير الواردات تسمى الترانزيت.

تعني انتهاء موسم الغوص تسمى القفال.

منابت المحار المحتوي على اللؤلؤ تسمى الهيرات.

كسدت تجارة الغوص على اللؤلؤ بسبب ظهور اللؤلؤ الصناعي.

يبدأ مع نهاية موسم الغوص وينتهي مع هبوب الرياح الموسمية يسمى موسم السفر.

بداية موسم السفر وتعني دخول البحر وبداية الدشة تكون في الشهر الثامن (أغسطس) مفهوم الدشة

(موسم السفر)

الشخص الذي يغوص في قاع البحر بحثاً عن المحار يسمى الغيوص.

نهاية موسم السفر وتعني بإغلاق موسم السفر وتكون نهاية شهر (مايو) مفهوم الإغلاق (موسم السفر)

- ◀ الشخص المنوط به سحب الغيص للسطح عند شد الغيص للحبل وكذلك مساعدته في فتح المحار يسمى السيب.
- ◀ صغار السن الذين يقومون ببعض الأعمال الأقل من السيب يدعون الرضيف.
- ◀ تاجر اللؤلؤ يسمى الطواش.
- ◀ المهنة التي يمتنها العامل في الصورة المقابلة تسمى الغيص



### علل لما يأتي:

٣

#### ١ الخليج العربي أحد أسباب الأهمية الاقتصادية للمنطقة العربية قديماً/الأهمية الاقتصادية للخليج العربي قديماً

- ◀ لأنه يقع في موقع متوسط لقارات العالم الثلاث.
- ◀ وجود مضيق هرمز.
- ◀ الخليج العربي أحد أزرع المحيط الهندي.
- ◀ توفر الموارد الطبيعية.
- ◀ توفر وسائل نقل التجارة.

#### ٢ اتجاه معظم السكان الكويتيين قديماً إلى العمل في النشاط البحري.

- ◀ تقع الكويت في منطقة صحراوية قليلة الموارد شحيحة الأمطار.
- ◀ أرضها غير صالحة للزراعة

#### ٣ انتعاش حرفة صيد الاسماك في الكويت.

- ◀ لأن حرفة صيد الاسماك مصدر من مصادر الدخل في الكويت قبل النفط.
- ◀ السمك الغذاء الرئيسي لسكان الكويت.
- ◀ مياه الخليج العربي تعج بالأسماك الجيدة.

#### ٤ سبقت حرفة الغوص على اللؤلؤ غيرها من الانشطة البحرية.

- ◀ لان تجارة اللؤلؤ كانت التجارة الرابحة في ذلك الوقت، وان الكويت بلد صحراوي يعاني من شح المياه وعدم خصوبة التربة لذلك اتجه سكان الكويت إلى ممارسة حرفة الغوص على اللؤلؤ.

#### ٥ للموقع الجغرافي للكويت دوراً في تطور صناعة السفن.

- ◀ كان للموقع الجغرافي لدولة الكويت قديماً دورٌ مهمٌ في نشأة وتطور صناعة السفن، وقد ساعدت العديد من العوامل على ازدهار هذه الصناعة منها :
- ◀ هبوب الرياح الموسمية على منطقة الخليج العربي والتي ساعدت على دفع السفن نحو شواطئ الهند وشرق آسيا

◀ توفر الأيدي العاملة لصناعة السفن .

- ◀ تمتع الكويت بواجهة بحرية طويلة تمتد من شماها إلى جنوبها ويتخللها العديد من التعرجات ، فضلا عن وجود جون الكويت شمالاً، وانتشار العديد من الجزر في مياها الإقليمية ووجود النقع والعمائر الساحلية (مخازن المواد المستخدمة في صناعة السفن )
- ◀ براعة الأساتذة والقلاليف، فالأستاذ هو الذي يقوم بتصميم السفينة ويأتي القلاف في المرتبة ال ثانية وهو الذي يقوم بعملية إعداد المواد اللازمة للصناعة ثم عملية بناء السفينة نفسها .
- ◀ توفر مصادر المواد المستخدمة في صناعة السفن

### ع اكتب فقرة لا تتعدى ثلاثة أسطر عن أهمية جون الكويت.

ع

- ◀ جون الكويت موجود في شمال الكويت وجعل لها واجهة بحرية مميزة وهو يساعد على تكاثر الكائنات البحرية مثل الريبان.

### ابحث في موقع الكتروني أو كتاب عن استخدامات كل نوع من أنواع السفن في دولة الكويت قديماً

ع

#### الجالبوت/ السنبوك/ الشوعي/ البغلة/ البقارة/ البوم/ البتيل.

- ◀ الجالبوت: سفينة متوسطة الحجم تستخدم للغوص على اللؤلؤ.
- ◀ السنبوك: سفينة كويتية قديماً تستخدم للغوص على اللؤلؤ.
- ◀ الشوعي: سفينة تستخدم لصيد الأسماك بالقرب من الساحل.
- ◀ البغلة: ١٣٠-١٥٠ متر وتستخدم لنقل البضائع.
- ◀ البقارة: سفينة شراعية تستخدم للغوص وهي انقرضت.
- ◀ البتيل: سفينة كانت تستخدم للغوص على اللؤلؤ.
- ◀ البوم: نوع من السفن الصغيرة منها للغوص والكبيرة للرحلات التجارية.

### ٦ من أين كانت تجلب الأخشاب المستخدمة في صناعة السفن في دولة الكويت قديماً؟

٦

- ◀ كانت تجلب من الهند وإفريقيا

### ٧ اذكر المواد المستخدمة في صناعة السفن قديماً.

٧

- ◀ الأخشاب والمسامير والحديد.

### ٨ لاحظ الصورتين واذكر اسم السفينة الموجودة في الشعار

٨

- ◀ سفينة البوم.

علل لما يلي:

٩

١ انقراض (إختفاء) حرفة الغوص للبحث عن اللؤلؤ.

بسبب ظهور النفط وخطورة المهنة وظهور اللؤلؤ الصناعي عام ١٩٢٨م.

٢ كانت الكويت قديماً مركزاً تجارياً مهماً.

بسبب موقعها الذي منحها بعداً استراتيجي وهي حلقة وصل بين الشرق والغرب ونقطة ترانزيت ولولا عمل أهلها بالغوص والرعي لما خُطت في هذا الميدان.

٣ يعد حجم السوق الكويتي قديماً صغيراً جداً.

بسبب قلة السكان والإمكانات.

٤ كساد تجارة الغوص عن اللؤلؤ في دولة الكويت

بسبب ظهور اللؤلؤ الصناعي.

١٠ اذكر أدلة على اعتراف دولة الكويت بتراتها البحري.

اتخذت صورة سفينة البوم الكويتي لتكون شعار للدولة.

شعار للعملة الوطنية.

تزين المؤسسات بصور ومشاهدة سفينة البوم التي تعبر عن عمق ارتباط الكويت وشعبها بتراتها البحري.

فرق من حيث المفهوم بين:

١١

القلاف	الأستاذ
هو الذي يقوم بعملية إعداد المواد اللازمة لصناعة السفينة.	هو الذي يقوم بتصميم السفينة.
القفال	الدشة
انتهاء موسم الغوص على اللؤلؤ وكانت في شهر سبتمبر وأكتوبر في الغالب	بداية موسم الغوص على اللؤلؤ وتبدأ في شهر مايو

صفوة معلم الكويت



النوخذة	المجدمي
قائد السفينة وربانها والمسؤول عنها وعن طاقمها والمسؤول عن تحديد أماكن الغوص والبحث عن مزارع اللؤلؤ ويجب أن تتوفر في النوخذة القدرة على معرفة المسالك والطرق والإلمام بالاتجاهات البحرية وعليه اتخاذ جميع القرارات وهو صاحب الحق في إعطاء إذن للبحارة بمغادرة السفينة وضمن سلامة طاقمها.	هو لقب كان يطلق على رئيس البحارة والمسؤول عن إدارة السفينة من الداخل.



### ١٢ عدد العوامل التي ساعدت على ازدهار صناعة السفن.

- ◀ هبوب الرياح الموسمية.
- ◀ توفر الأيدي العاملة.
- ◀ تمتع الكويت بواجهة بحرية طويلة.
- ◀ براعة الأستاذ والقلاف.
- ◀ توفر المواد المستخدمة في صناعة السفن.
- ◀ الموقع الجغرافي لدولة الكويت .

### ١٣ اكتب فيما درست عن:

#### ١ مدى تأثير حرفة الغوص على أهل الكويت.

- ◀ تقوية العلاقات بين السكان
- ◀ الاحترام المتبادل
- ◀ التعاون والتعاقد بالمجتمع
- ◀ الالتزام والطاعة.

#### ٢ الأسطول الكويتي التجاري.

- ◀ جال الأسطول الكويتي مياه الخليج العربي والمحيط الهندي والبحر الأحمر حيث كان السفر يبدأ بتوجه السفن إلى البصرة ومن ثم إلى الموانئ العديدة في الهند والساحل اليمني وشرق إفريقيا.

صفوة من الكويت


أهم أنواع الأسماك في دولة الكويت



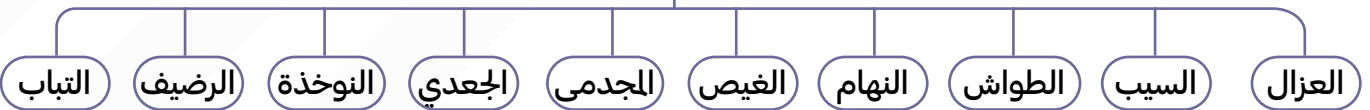
أهم أنواع السفن في دولة الكويت



أهم الادوات والمعدات المستخدمة في عملية الصيد



العاملون في حرفة الغوص



أهم الموانئ التي كان يجول إليها الاسطول الكويتي قديماً



صفوة معالم الكويت



## النشاط البري

### ١ أكمل الفراغات بما يناسبها:

- كانت الحياة السائدة في الكويت منذ القدم حياة تتسم **بالبدوة**.
- تصنف الكويت جغرافياً ضمن المناطق **الصحراوية**.
- يبدأ موسم المطر في الكويت عادة في شهر أكتوبر ويستمر حتى أواخر شهر **أبريل**.
- في فصل الربيع في الكويت تنتشر قطعان الأغنام والماعز طلباً **للمرعى**.
- يطلق على البرسيم اسم **الجت**.
- أشجار استخدمها الكويتيين قديماً كمصدات للرياح تسمى **أشجار الأثل**.

### ٢ علل لما يأتي:

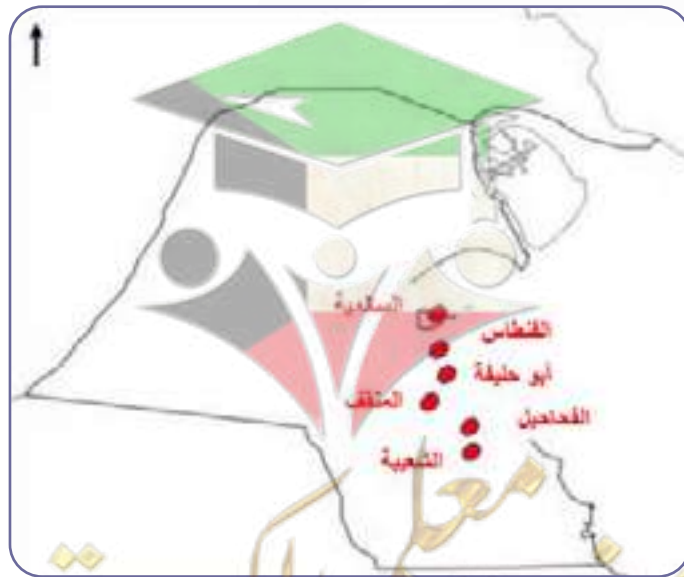
#### ١ تراجع حرفة الرعي في وقتنا الحالي.

- بسبب ظهور أنشطة سكانية واستقرار سكان البادية.

#### ٢ قلة الزراعة في دولة الكويت.

- لأن الكويت بلد صحراوي يعاني من قلة المياه.
- ارتفاع درجة الحرارة
- عدم خصوبة التربة

### ٣ حدد على خريطة دولة الكويت الصماء المناطق الزراعية القديمة، ثم استنتج حقيقة واحدة.



- الحقيقة: المناطق الزراعية قريبة من بعضها وتطل على الساحل.

٤ اكتب نصاً لا يقل عن ثلاثة أسطر تبين من خلاله كيفية تطور الزراعة في دولة الكويت.

◀ شهدت دولة الكويت تطور كبير وملحوظ من الناحية الزراعية إذ تغلبت دولة الكويت على شتى أنواع الظروف القاسية وأهمها الظروف المناخية فقامت الكويت ببناء البيوت البلاستيكية وزرعت الفواكه والخضروات.

٥ عدد ثلاث أنواع فقط من المحاصيل التي يزرعها الكويتيون في دولة الكويت.

◀ الخضراوات بجميع أنواعها - الحبوب كالقمح والشعير - الأعلاف كالبرسيم - أشجار السدر.

٦ دلل على صحة العبارة التالية (لكن على الرغم من كل الصعوبات فقد تكيف الكويتيون قديماً مع البيئة المحيطة بهم وتغلبوا عليها).

◀ احتراف الكويتيون مهنة الزراعة بقصد الربح واكتساب الرزق.

◀ قاموا بزراعة النباتات التي تتلاءم مع البيئة.

◀ استغلوا مياه الأمطار القليلة.

◀ استخدموا الآبار السطحية المتوفرة.

◀ قاو بزراعة بعض الخضراوات مثل الطماطم والبطاطس وغيرها.

٧ عدد أهم المناطق الزراعية في دولة الكويت قديماً.

الدمنة (السالمية) / الفحيحيل / المنقف / الفنتاس / أبو حليفة / الشعبية / الجهراء.

٨ أكمل المخططات السهمية التالية:

### أهم المناطق الزراعية في الكويت قديماً



### أهم المحاصيل التي كانت تزرع في الكويت قديماً



صفوة معلم الكويت



اختبار  
الكروني  
تدرب  
وتعلم

## الحرف اليدوية

اختر الإجابة الصحيحة من الإجابات التالية:

١

العامل الذي يقوم بتنجيد وصناعة المسائد والفرش مستخدماً القطن:

د النجار

ج النداف

ب الحداد

أ الصفار

أكمل الفراغات بما يناسبها:

٢

حرفة يدوية لعب العاملون بها دوراً كبيراً في توفير مواد البناء والمستلزمات المنزلية قديماً تسمى النجارة.

أداة تستخدم للحفر والجدوم والهبب والسكاكين والسلاسل تسمى الصخين.

حرفة يدوية يقوم العاملون بها بصنع وتلميع القدور المستخدمة في الطبخ تسمى الصفارة.

حرفة يدوية يقوم العاملون بها باستخدام الصفيح المعدني لصناعة الدوة والتنك وعلب الجاز والسطول والطشوت تسمى التناك.

حرفة يدوية يستخدم العاملون بها جريد النخيل لصناعة أشكال مختلفة من الأقفاص تسمى القفاص.

السرير الذي ينام عليه الطفل قديماً يسمى المنز.

صندوق له فتحة من الأعلى لوضع بعض المأكولات يسمى الرك.

يقوم بتنجيد وصناعة المسائد والفرش مستخدماً القطن يسمى النداف.

أساس مكونات بيت الشعر الذي يسكنه أهل البادية يسمى غزل السدو.

أكياس كبيرة لحفظ بعض أنواع الطعام توضع على ظهر الدابة تسمى العدول. مفردها (العدل)

أكياس متوسطة لحفظ الطعام والملابس تسمى المزواد.

حرفة يدوية يقوم العاملون بها بتصنيع وتلميع القدور المستخدمة تسمى الصفار.

ابحث عن معنى المصطلحات الكويتية القديمة التالية حسب الجدول الذي أمامك:

٣

هو أعواد قصب متينة تجلب من أفريقيا وهي تستخدم لصنع السطوح	الباسجيل
خزينة المنزل فهو صندوق يكون وكانت توضع فيها حاجيات العروس	السحارة
أداة للحفر	الصخين
قضب من حديد يستخدم لتكسير الصخور	الهبب
تصنع ألواح من خشب أو صفيح لتصريف مياه المطر	المرازيم
فأس للنجارة	الجدوم
طاولة خشب صغيرة	التختة

اذكر ثلاث حرف أخرى لم يتم ذكرها في الكتاب المدرسي، قم استعن بمحرك البحث (Google) لكتابة تقرير عنها، ثم دعم كل حرفة منها بصورة مناسبة:



حرفة القلاف: هو كان يلعب دور في اقتصاد الكويت وكان يصنع السفن



حرفة الخواص: هو الذي كان يصنع الخوص والزبل



حرفة الخراز: وهو الذي كان يصنع الأحذية

فرق من حيث المفهوم بين:

المرازيم	الصخين
تصنع من ألواح الخشب أو الصفيح لتصريف مياه الامطار.	أداة تستخدم للحفر والجدوم والهييب والمنقاش والسكاكسن والسلاسل.

قارن بين أهم الحرف اليدوية في الكويت قديماً من حيث التعريف وأهم الأعمال:

أهم الأعمال	التعريف	الحرفة
الأبواب- النوافذ- حواجز الباسجيل- الشداخة- السحارة- كرسي البرمة-المرازيم	حرفة يدوية لعب العاملون بها دوراً كبيراً لتوفير مواد البناء والمستلزمات المنزلية	النجارة
صناعة الصخين	يقوم العاملون بالحدادة بصناعة المسامير اللازمة لصناعة السفن وأدوات البناء	الحدادة
تلميع الاواني المنزلية وتنظيفها وطلائها من الداخل	صنع وتلميع القدور المستخدمة في الطبخ	الصفارة
صنع المحقان والدوة وعلب الجاز والسطول والطشوت.	يقوم العاملون بهذه الحرفة باستخدام الصفيح المعدني	التناك
الأقفاص- المتز- الرك- أسرة الكبار.	استخدام جريد النخل حيث يشبك بعضه ببعض وذلك بثقبه وإدخال أطرافه في الثقوب.	القفاص
البشوت	يقوم الحياك بخياطة الملابس.	الحياك
حياكة العدول- المزود- المفروشات- السجاد- العباءات النسائية- البشوت الرجالية	إحدى الحرف السائدة التي تزاوها المرأة في البادية	غزل السدو



اكتب العبارة المناسبة للصورة:

احدى الحرف في دولة الكويت قديماً تسمى القفاص



اختبار  
الالكتروني  
تدرب  
و تعلم

## المعالم الحضارية لدولة الكويت

اختر الإجابة الصحيحة من الإجابات التالية:

١

١ تأسست الكويت في الجزء الشمالي الغربي من الخليج العربي عام:

ج ١٦١٢م

ب ١٦١٣

أ ١٦١٤م

٢ العتوب ترجع في أصلها إلى عدة قبائل أبرزها قبيلة:

ج آل جلاهمة

ب شمر

أ عتزة

٣ وقعت معركة ذات السلاسل عام ١٢ هجرية وكانت بين:

ج المسلمين والروم

ب المسلمين والفرس

أ المسلمين والبيزنطيين

٣ المنطقة التي وقعت فيها معركة ذات السلاسل بين المسلمين والفرس عام ١٢ هجرية:

د الجهراء

ج أم العيش

ب الصبية

أ كاظمة

أكمل الفراغات بما يناسبها:

٢


- ◀ يرجع تاريخ أقدم الحفريات الجيولوجية في منطقة الصبية إلى الفترة ما بين ١٥ و ٢٠ مليون سنة.
- ◀ الرحي الحجرية كانت تستخدم في طحن الغلال.
- ◀ عثر على العديد من الكتابات على الصخور كحجر إيكاروس.
- ◀ تعتبر جزيرة فيلكا مركزاً من مراكز حضارة دلمون.
- ◀ وقعت معركة ذات السلاسل عام ١٢ هجرية ٦٣٣ م.
- ◀ وقعت معركة ذات السلاسل في منطقة بالكويت تسمى كاظمة.
- ◀ عثر على مسكوكات إسلامية أهمها عملة أموية مؤرخة بعام ١٢٣ هجرية.
- ◀ منطقة الشقايا ووادي الباطن تقع على طريق قديماً يسمى طريق الحج.
- ◀ الحضارة التي قامت في منطقة الصبية تسمى العبيد.

علل لما يأتي:

٣

١ للكويت دور في التواصل الحضاري بين حضارات شمال الخليج وجنوبه.

- ◀ بسبب الموقع الجغرافي المتميز على الخليج العربي
- ◀ الإنسان القديم رصدت آثاره في الكويت
- ◀ جزيرة فيلكا مركز من مراكز



## ٢ الأهمية الأثرية لمنطقة الصبية.

- ◀ ظهر بها أقدم الحفريات الجيولوجية.
- ◀ أقدم القرى السكنية
- ◀ آبار المياه القديمة.
- ◀ العثور على جرار فخارية.
- ◀ العثور على الرحي الحجرية.

## ٣ الأهمية الأثرية لجزيرة فيلكا.

- ◀ مركز من مراكز حضارة دلمون
- ◀ القلعة الهلستية وتل الخزنة
- ◀ العملات النحاسية
- ◀ الكتابات على الصخور مثل حجر إيكاروس
- ◀ أختام مستديرة
- ◀ كنيستين متجاورتين
- ◀ صورة لختم دلوني

## ٤ الأهمية الحضارية لدولة الكويت.

- ◀ إن الإنسان القديم رصدت آثاره في كل من واره والقرين وسهل البرقان ورصدت بعض المواقع في تل الصليبيخات ومنطقتي كاظمة والصبية وجزيرة فيلكا.

## ٥ الكويت همزة وصل بين حضارة بلاد الرافدين شمالاً وحضارة بلاد السند جنوباً.

- ◀ إذ جزيرة فيلكا لعبت دور الوسيط التجاري بين بلاد الرافدين وبلاد السند باعتبارها مركز للحضارة الدلونية.

## ٤ دون في الجدول التالي الآثار التي وجدت في الصبية وفيلكا. ماذا تلاحظ؟

آثار فيلكا	آثار الصبية
	
تل الخنزة والقلعة اهلستية والمعبد	الرحي الحجرية وآبار ومدافن ركامية

◀ ماذا لاحظت: أن الحضارة في فيلكا أحدث من الصبية



## اذكر بعض مظاهر الامتداد الحضاري لمنطقة الكويت قديماً.



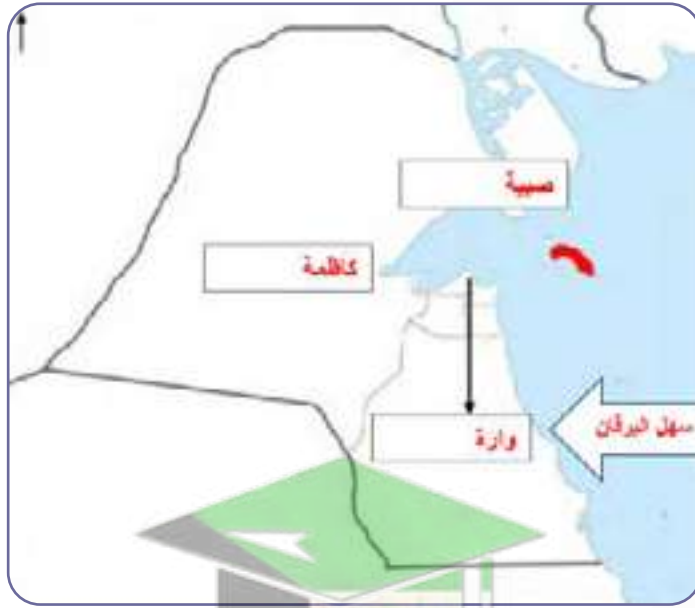
- ◀ حضارة العبيد (٤٥٠٠-٥٥٠٠ ق.م).
- ◀ الحضارة الإغريقية في فيلكا وأم النمل.
- ◀ ظهور الإسلام.

## عدد أهم الاكتشافات في جزيرة أم النمل.

- ◀ قبر على الساحل الجزيرة
- ◀ تمثال من الطين المحروق
- ◀ مذبح من الحجر الرملي مربع الشكل

## ظل جزيرة فيلكا على الخريطة الصماء التالية:

- ◀ حدد المواقع التاريخية لـ : (منطقة تل وارة- سهل البرقان- الصبيّة- كاظمة)



## عرّف الحضارات التالية:

- ◀ الحضارة الإغريقية: هي حضارة اليونان القديمة التي امتدت عام ١٢٠٠ م وهي كانت مليئة بالإنجازات.
- ◀ الحضارة الدولونية: هي حضارة قامت بالبحرين وشرق الجزيرة العربية وهي من أقدم الحضارات.
- ◀ الحضارة الهلستية: هي الحضارة اليونانية القديمة وهي التي حملت كل عناصر الثقافة من الإغريقين للخارج.

صفوة من الكويت

٩ اكتب تقريراً لا يتعدى خمسة أسطر عن آخر اكتشاف أثري في دولة الكويت في عام ٢٠١٦م في منطقة (بحرة) الأثرية:

كشفت مدير إدارة المتاحف في المجلس الوطني الدكتور سلطان عن اكتشاف أقدم بصمة بشرية على مستوى الشرق الأدنى القديم وحقق هذا الكشف الفرق المكلف بالتنقيب على كسرة فخارية أثرية يتجاوز عمرها ٧٣٠٠ عام في بحرة الصبية شمال الكويت.

١٠ عدد استخدامات الختم الدولي.

كستخدم كتعويذة

كختم تجاري

كهوية لحاملها

١١ اكتب فيما درست عن:

١ أهم آثار العصر الإسلامي في الكويت.

كمعركة ذات السلاسل حدثت في منطقة كاظمة.

كالعثور على مسكوكات إسلامية.

كمباني ترجع إلى الفترة الإسلامية

كاستوطنات متتالية.

١٢ عدد النتائج المترتبة على معركة ذات السلاسل

كبوابة لدخول الإسلام بلاد الرافدين وفارس والهند ووسط آسيا

١٣ دلل على صحة العبارة (لمنطقة الصبية قيمة وأهمية أثرية كبيرة)

كإذ أنها تحتضن مئات المواقع الأثرية التي برهنت على وجود حضارة العبيد القديمة.

كالعثور على أقدم القرى السكنية في بحرة وطبيخ شمال الصبية.

كآبار المياه القديمة في المنطقة والعثور على جرار فخارية.

كالعثور على الرحى الحجرية التي تستخدم في طحن الغلال.


كأدوات الغزل وحياسة القماش.

كالعثور على المدافن الركامية ذات الأشكال المختلفة الدائرية والمستطيلة.

١٤ استعن بالصورة التي أمامك لإكمال العبارات الآتية بإجابة مناسبة

الشكل المقابل يمثل رسم بياني لانتاج بعض الدول العربية

عام ١٩٦٦م لنوع من الحبوب الغذائية يعرف باسم القمح



# أحسنت

نهاية الفصل الاول



## لا تنسَ تدرّب واختبر نفسك

اختبار الكتروني شامل للفصل الاول

امسح الباركود



اختبار نموذج ٢

امسح الباركود



اختبار نموذج ١

صفوة عملي الكويب

# لطلب المذكرة كاملة



مذكرات  
النجاح

طريقاً للنجاح



69398804