

وزارة التربية
الإدارة العامة لمنطقة حولي التعليمية
مدرسة فاطمة بنت اليمان المتوسطة - بنات

مذكرة الكويت ودول الخليج العربية للسف السادس

الاسم :

الصف :

إعداد المعلمة : أبرار شهاب - فرح قاسم

رئيس القسم : سارة الحشاش مدير المدرسة : د. وفاء العريعر



اجعل حياتك قصة تستحق أن تروى

صفحة معلمة الكويت

ورقة المتابعة الأسبوعية

التاريخ	حل الأنشطة	الترتيب	أوراق العمل	الملاحظات	توقيع ولي الأمر
تاريخ الاختبار	درجة الاختبار	المشروع الأول	المشروع الثاني	الملاحظات	توقيع ولي الأمر



للأحلام الكبيرة بدايات صغيرة



Teacher

ABRAR SHEHAB

POINTS



ABOUT ME



يوم من الأيام راح أصير

أنا متميزة في



عيد ميلادي



اسم أحب ينادوني فيه

معلومة أتمنى معلمتي تعرفها عني



كلمة حق نفسي



Teacher

ABRAR SHEHAB

صفوة معلمي

التاريخ :

عنوان الوحدة : الخصائص الطبيعية والبشرية لمنطقة الخليج العربية

عنوان الدرس : الموقع (١)



ص ٢٠-١٩

➤ علل : أهمية منطقة الخليج العربية :-

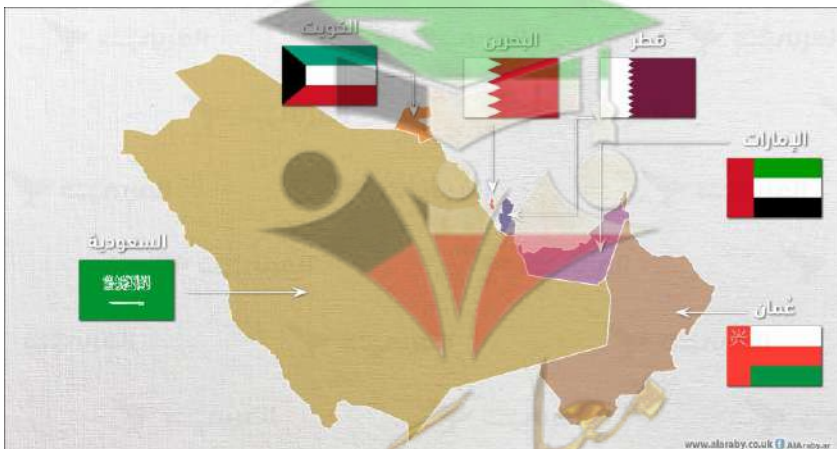
١-

٢-

➤ اكتب المصطلح العلمي المناسب لكل مما يلي :-

١- الموقع بالنسبة لخطوط الطول ودوائر العرض
(.....)

٢- الموقع بالنسبة لليابس والماء
(.....)



التاريخ :

عنوان الوحدة : الخصائص الطبيعية والبشرية لمنطقة الخليج العربية

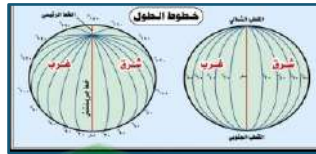
عنوان الدرس : الموقع (٢)



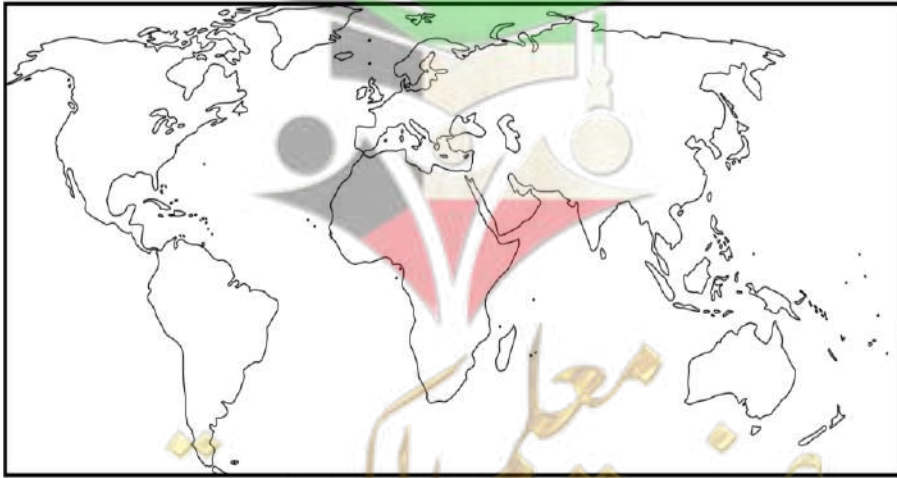
ص ٢١-٢٢

➤ أكمل الجدول بما يلي :-

دوائر العرض	خطوط الطول	وجه المقارنة
خطوط وهمية ترسم على الكرة الأرضية وتقسّم الأرض إلى شمالي وجنوبي، وعددها ١٨٠ خط	خطوط وهمية ترسم على الكرة الأرضية وتقسّم الأرض إلى شرقي وغربي ، وعددها ٣٦٠ خط	التعريف
		عددها
		تقسيم الكرة الأرضية
		الخط الأساسي
١٦ درجة عرضية شمال خط الاستواء	٢٥ خط طول شرق خط جرينتش	موقع منطقة الخليج العربية بالنسبة لـ



➤ حدد منطقة الخليج العربية بالنسبة للعالم :-



التاريخ :

عنوان الوحدة : الخصائص الطبيعية والبشرية لمنطقة الخليج العربية

عنوان الدرس : مظاهر السطح



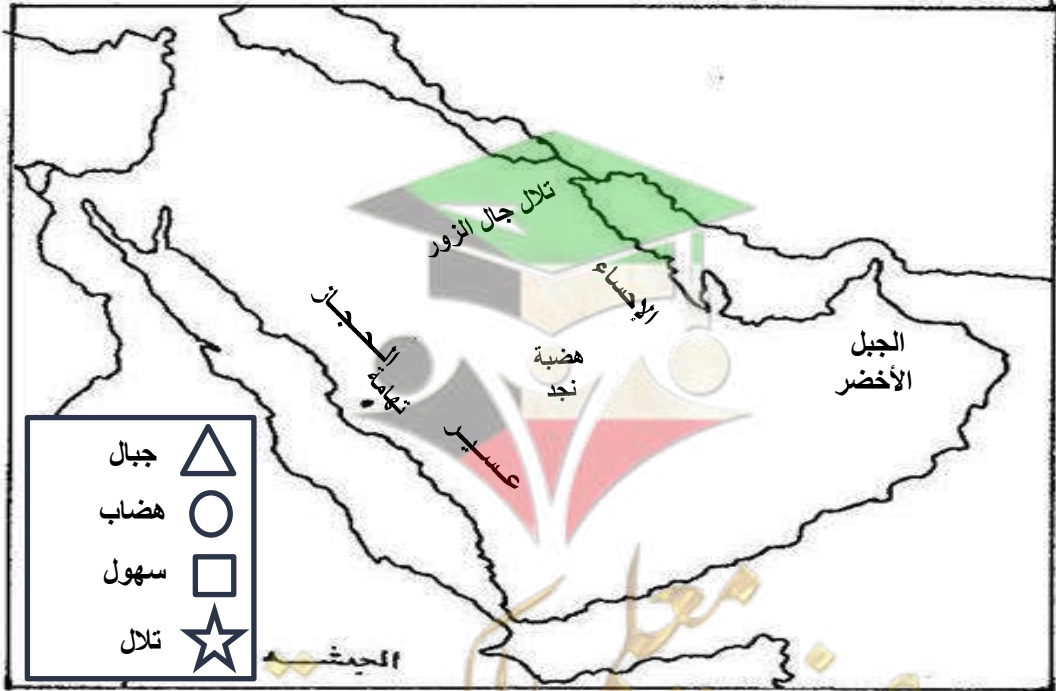
ص ٢٣-٢٤

➤ ضع الرقم المناسب من المجموعة (أ) أمام ما يناسبه من المجموعة (ب) مما يلي :-

المجموعة (ب)	الرقم	المجموعة (أ)
هو كل مرتفع له قمة لا يقل ارتفاعه عن ١٠٠٠ متر		التل
أجزاء فسيحة من سطح الأرض تتميز باستوائها وقلّة ارتفاعها		الجبل
هو كل ما قل ارتفاعه عن ١٠٠٠ متر		الهضبة
أرض مرتفعة سطحها مستوي تمتد على مساحة كبيرة		السهل



➤ لاحظي مدلولات الخريطة ثم ضع الرموز في مكانها المناسب :



Teacher

ABRAR SHEHAB

التاريخ :

عنوان الوحدة : الخصائص الطبيعية والبشرية لمنطقة الخليج العربية

عنوان الدرس : المناخ



ص ٢٥-٢٦

➤ لون صفات فصل الصيف باللون الأصفر وصفات فصل الشتاء باللون الأزرق :

طويل ويمتد معظم
شهور السنة

درجة الحرارة أقل من
٤ درجات مئوية

درجة الحرارة أكثر من
٤٠ درجة مئوية

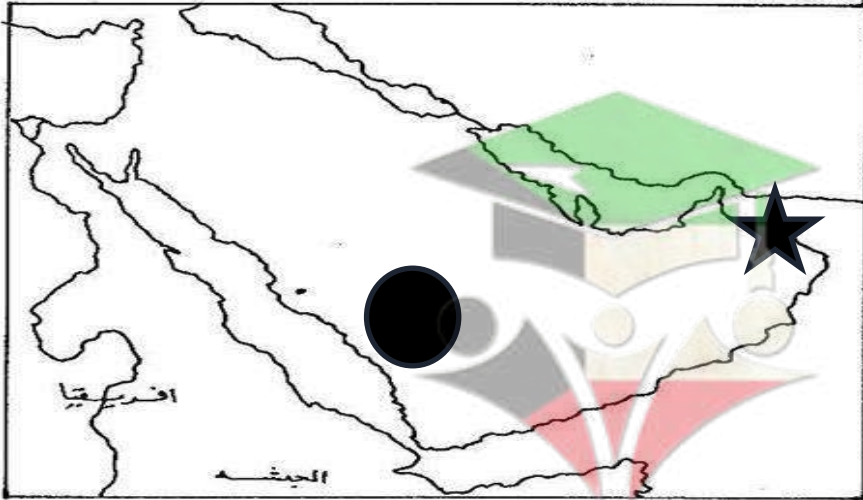
يمتاز بالدفء

قصير جداً

حار جاف رطب في
المناطق الساحلية



➤ بعد ملاحظة الرموز اكتب المناطق التي تسقط عليها أمطار صيفية في منطقة الخليج العربية :-



التاريخ :

عنوان الوحدة : الخصائص الطبيعية والبشرية لمنطقة الخليج العربية

عنوان الدرس : المناخ



ص ٢٥-٢٦


استخدم إبداعك ولمساتك الفنية وساعد فتومة في ارتداء ملابسها سواء في فصل
الصيف أو الشتاء :



شتاء



صيف



Teacher

ABRAR SHEHAB

التاريخ :

عنوان الوحدة : الخصائص الطبيعية والبشرية لمنطقة الخليج العربية
عنوان الدرس : الحياة النباتية والحيوانية




ص ٢٥-٢٦

➤ أكمل الجدول التالي بما يناسبه :-

وجه المقارنة	نبات معمر	نبات حولي
التعريف		
الأمثلة		

➤ لاحظ الصورة ثم اكتب اسم الحيوان ونوعه (مستأنسة - غير مستأنسة - برية) :-



اسم الحيوان

.....

نوعه

.....



اسم الحيوان

.....

نوعه

.....



اسم الحيوان

.....

نوعه

.....



Teacher

ABRAR SHEHAB

التاريخ :

عنوان الوحدة : الخصائص الطبيعية والبشرية لمنطقة الخليج العربية

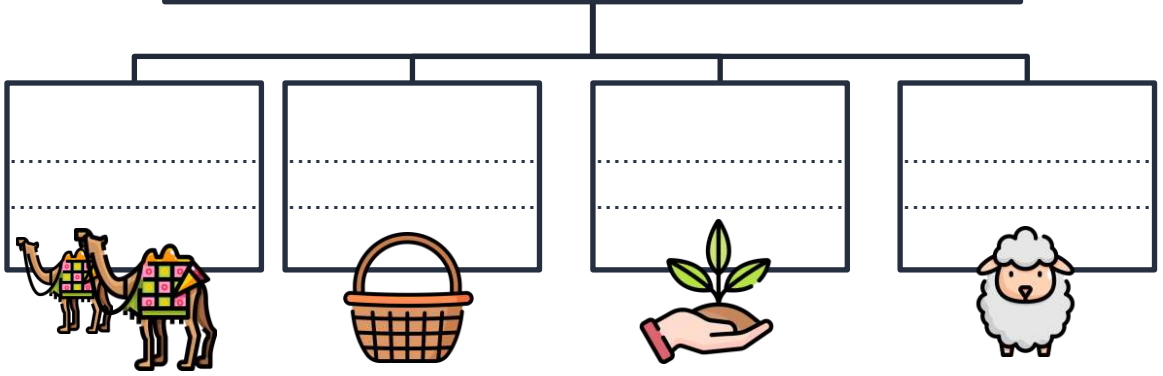
عنوان الدرس : الأنشطة البرية ١ (الرعي - الزراعة)



ص ٢٧-٢٩

➤ أكمل المخطط السهمي بما يناسبه :-

الأنشطة البرية لسكان منطقة الخليج العربية



➤ صوب ما بين القوسين :

التصويب	العبارة
	يطلق على المياه الموجودة في باطن الأرض (المياه السطحية)
	الحرفة التي تعتمد على ما ينمو من نباتات وحشائش بعد سقوط الأمطار هي (الزراعة)
	يطلق على المنطقة التي تقع في الصحراء وفيها مياه عذبة صالحة للزراعة اسم (المزرعة)



Teacher

ABRAR SHEHAB

التاريخ :

عنوان الوحدة : الخصائص الطبيعية والبشرية لمنطقة الخليج العربية
عنوان الدرس : الأنشطة البرية ٢ (الحرف اليدوية - التجارة البرية)



ص ٢٩ - ٣٠

➤ علل لما يأتي :-


مارس سكان منطقة الخليج العربية الحرف اليدوية ؟

.....
.....

ازدهار منطقة الخليج العربية في التجارة البرية ؟

.....
.....

➤ اكتب أسماء طرق التجارة البرية القديمة :-



Teacher

ABRAR SHEHAB

التاريخ :

عنوان الوحدة : الخصائص الطبيعية والبشرية لمنطقة الخليج العربية
عنوان الدرس : الأنشطة البحرية ١ (صيد الأسماك - الغوص على اللؤلؤ)



ص ٣١-٣٢

➤ علل : انصراف سكان منطقة الخليج العربية عن حرفة الغوص ؟



➤ صنف المهن التالية في مكانها المناسب :

الطواش - الغواص - التباب - النهام - النوخذة - السيب - المجدمي - الرضيعف

المهنة	العمل	ربان السفينة	تاجر اللؤلؤ	يسحب الغاصة	رئيس البحرية	يغوص بحثاً عن اللؤلؤ	مطرب السفينة	صغار السن	الصبية الذين يعملون على السفينة



Teacher

ABRAR SHEHAB

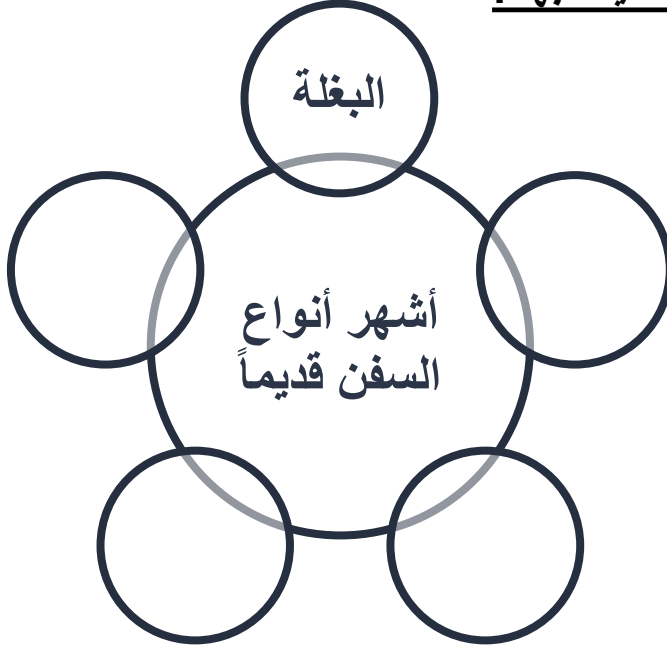
التاريخ :

عنوان الوحدة : الخصائص الطبيعية والبشرية لمنطقة الخليج العربية
عنوان الدرس : الأنشطة البحرية ٢ (صناعة السفن - التجارة البحرية)



ص ٣٣-٣٦

➤ أكمل الخريطة الذهنية بما يناسبها :



➤ أجيب عما يلي :

أنا أفضل أنواع السفن ويستخدمونني لنقل الحمولة الكبيرة ، فما اسمي ؟

- السبب : ١-
- ٢- قلة تعرضها لـ



Teacher

ABRAR SHEHAB

التاريخ :

عنوان الوحدة : دول الخليج العربية تتطور حضارياً وسياسياً

عنوان الدرس : دول الخليج العربية تتطور حضارياً وسياسياً



ص ٤٥-٤٦

➤ أعيد ترتيب المربعات لتفسري مفهوم الحضارة :

ورقي مجتمعه



إبداع الإنسان الخليجي



في تطور وتقدم



في جميع نواحي الحياة

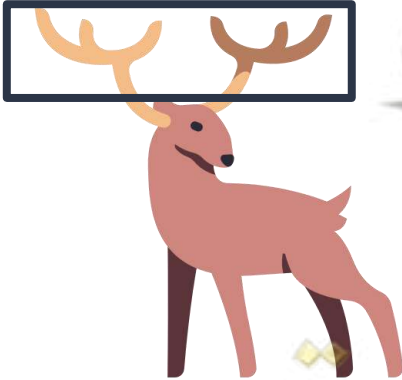


الحضارة :

➤ صح ما تحته خط :

١- الفترة الزمنية التي امتدت خلالها حضارة منطقة الخليج العربية (٣٠ قرن)

٢- عدد السنين في القرن الواحد تساوي (١٠ سنين)



Teacher

ABRAR SHEHAB

التاريخ :

عنوان الوحدة : دول الخليج العربية تتطور حضارياً وسياسياً
عنوان الدرس : العوامل المؤثرة في نشأة الحضارات في منطقة الخليج العربية

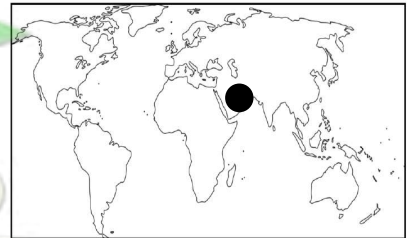





ص ٥١-٥٢



➤ فسر مفهوم القليب؟

➤ ما هي العوامل المؤثرة في نشأة الحضارات بمنطقة الخليج العربية؟



Teacher

ABRAR SHEHAB

التاريخ :

عنوان الوحدة : دول الخليج العربية تتطور حضارياً وسياسياً

عنوان الدرس : حضارات منطقة الخليج العربية قديماً



ص ٤٧-٥٠٠

➤ ظلل الإجابة الصحيحة :

١- الحضارة التي اشتهرت بأفران صهر المعادن خاصة معدن النحاس هي :

مجان	الهلنستية	دلمون	أم النار
------	-----------	-------	----------

٢- الحضارة التي اشتهرت بصناعة الأختام :

مجان	الهلنستية	دلمون	أم النار
------	-----------	-------	----------

➤ لاحظ الصور التالية ثم لوني المربعات حسب الحضارة :

الحضارة الهلنستية (اللون الأخضر)

حضارة مجان (اللون الأزرق)

حضارة دلمون (اللون البرتقالي)



أختام من دلمون



معدن النحاس



Teacher

ABRAR SHEHAB

التاريخ :

عنوان الوحدة : دول الخليج العربية تتطور حضارياً وسياسياً

عنوان الدرس : حضارات منطقة الخليج العربية قديماً



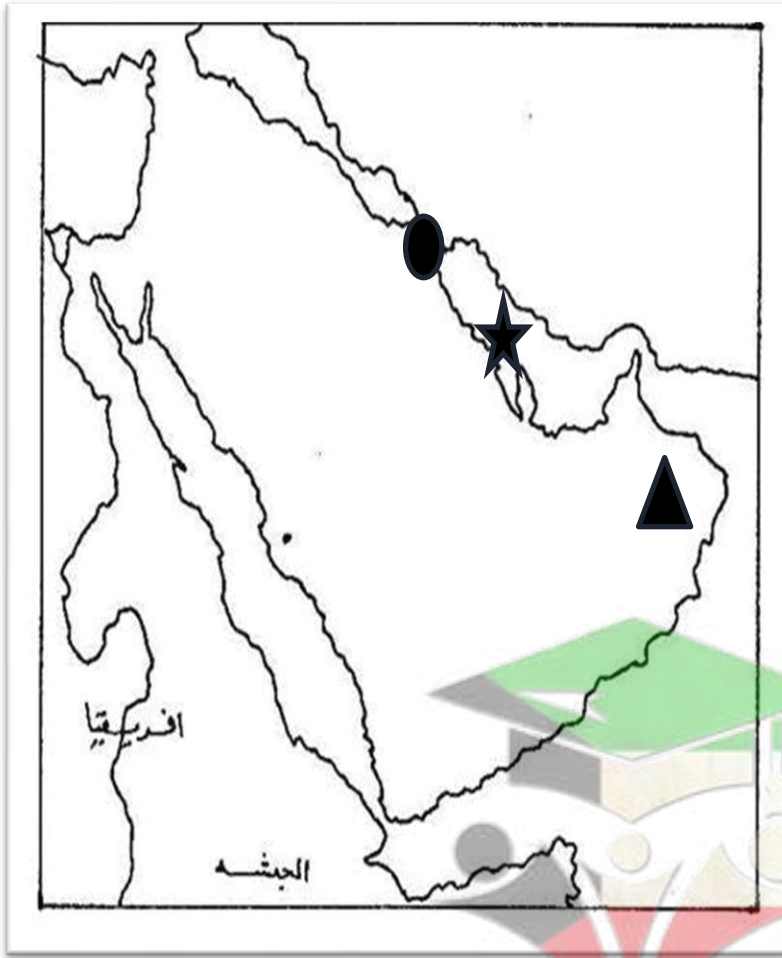
ص ٤٥-٥٠

➤ لاحظ خريطة شبه الجزيرة العربية التي أمامك ثم أجبني عما يلي :

١- لوني الخليج العربي

٢- اكتبني أسماء حضارات
منطقة الخليج العربية حسب
الرموز :

- ●
- ★
- ▲



التاريخ :

عنوان الوحدة : دول الخليج العربية تتطور حضارياً وسياسياً
عنوان الدرس : الحضارة الإسلامية



ص ٥٣-٥٤

أكمل المربعات بما يناسبها :



انطلق الإسلام من

.....

ظهر الإسلام في القرن

.....




انتشر الإسلام في

- ١- ساحل مكران
- ٢- الساحل الشرقي لأفريقيا
- ٣-
- ٤-

شارك سكان منطقة الخليج
العربية في

١- نشر الإسلام

٢-



صل من المجموعة (أ) ما يناسبها من المجموعة (ب) :

الاسم	الرقم	الصورة
متحف الشارقة للحضارة 		
دار الآثار الإسلامية 		
متحف دار القرآن 		



التاريخ :

عنوان الوحدة : دول الخليج العربية تتطور حضارياً وسياسياً
عنوان الدرس : مظاهر الحضارة الاسلامية



ص ٥٥-٥٦

➤ لاحظ الصور ثم أكمل الأحرف الناقصة :

(ن - ص - ع - ن - ع)



مظاهر الحضارة الاسلامية



➤ استخدم إبداعك لترسمي الشكل المقابل ثم اكتب اسم هذا المظهر الحضاري :

اسم المظهر الحضاري :



Teacher

ABRAR SHEHAB

التاريخ :

عنوان الوحدة : دول الخليج العربية تتطور حضارياً وسياسياً
عنوان الدرس : تطور الحياة السياسية وظهور الدول الحديثة (١)

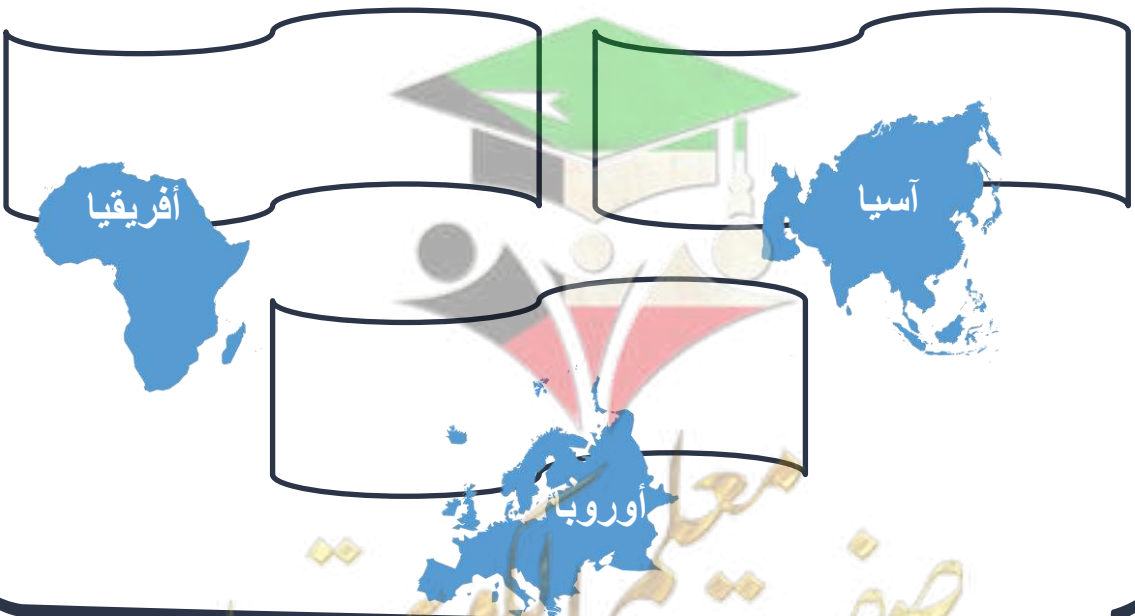


ص ٥٧-٥٨

➤ لون المناطق التي هاجر إليها سكان منطقة الخليج العربية مع القبائل بنفس اللون :

القبيلة	المنطقة التي هاجروا إليها
الأزد	الكويت
المعاضيد	رأس الخيمة
آل الصباح	عمان
آل خليفة	أبو ظبي
القواسم	قطر
بني ياس	البحرين

➤ اذكر قارات العالم القديم :-



Teacher

ABRAR SHEHAB

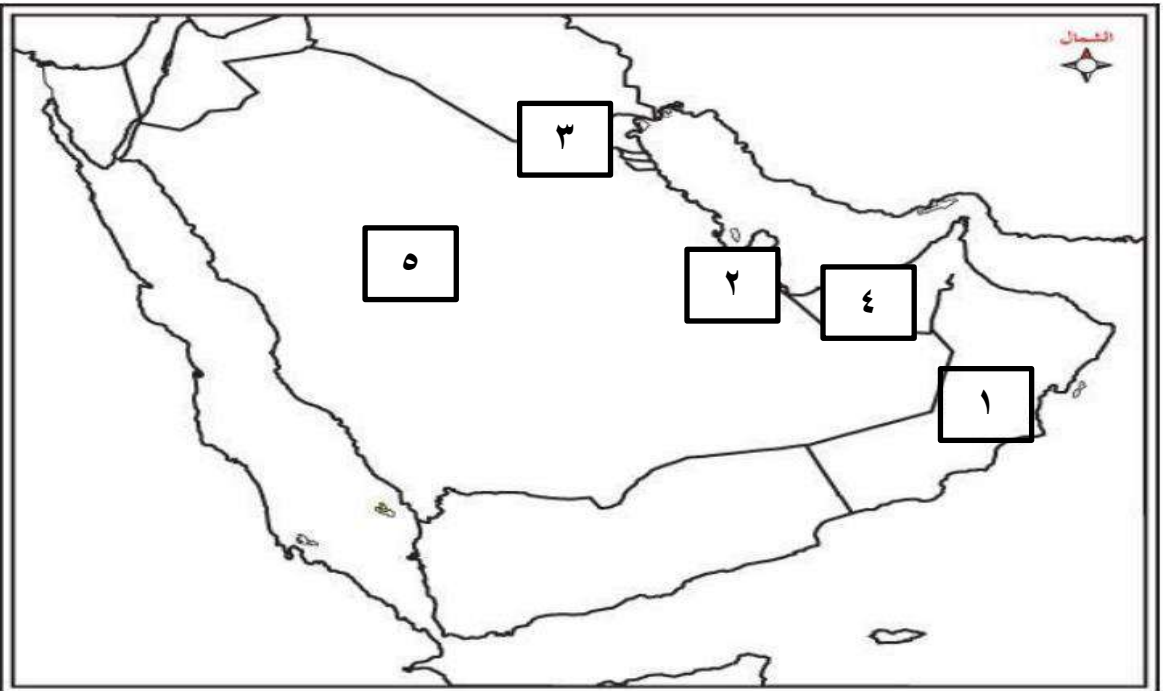
التاريخ :

عنوان الوحدة : دول الخليج العربية تتطور حضارياً وسياسياً
عنوان الدرس : تطور الحياة السياسية وظهور الدول الحديثة (٢)



ص ٥٨-٥٩

➤ لاحظ الخريطة التالية ثم أجب عن الأسئلة التالية :



- رقم (١) يمثل دولة خليجية تسمى
- رقم (٢) دولة خليجية تسمى
- لون الخليج العربي على الخريطة باللون الأزرق

➤ علل : أهمية الخليج العربي :



Teacher

ABRAR SHEHAB



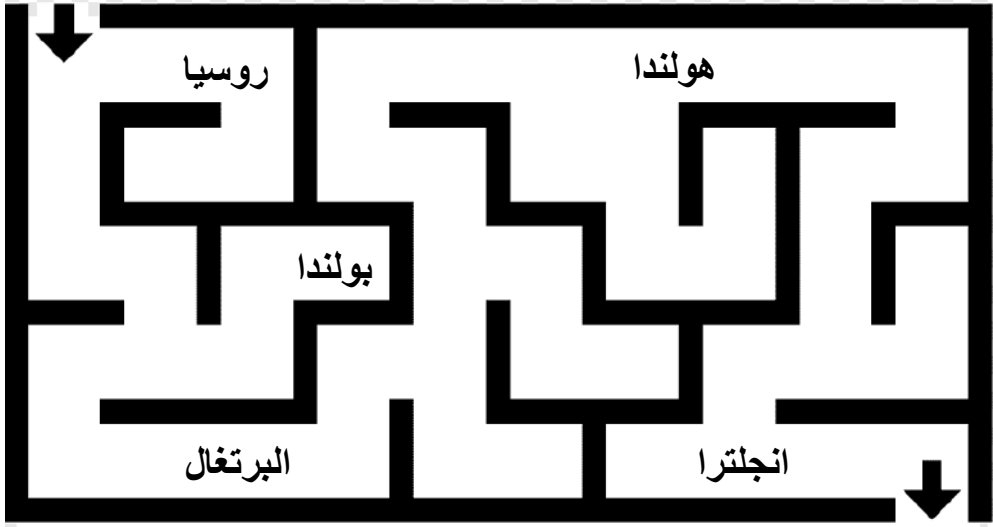
التاريخ :

عنوان الوحدة : دول الخليج العربية تتطور حضارياً وسياسياً
عنوان الدرس : المنافسة الاستعمارية الأوروبية على الخليج العربي



ص ٦٠-٦٢

➤ استعين بالمتاهة لتعدد الدول الاستعماري التي توالت على منطقة الخليج العربية :



➤ علل تنافس الدول الاستعمارية على منطقة الخليج العربية :

.....

.....

.....



Teacher

ABRAR SHEHAB

التاريخ :

عنوان الوحدة : دول الخليج العربية تتطور حضارياً وسياسياً
عنوان الدرس : مرحلة الاستقلال والتطور



ص ٦٣

➤ اقرأ الفقرة التالية ثم أجب عما يلي :

في عهد الشيخ عبدالله السالم الصباح ألغيت معاهدة الحماية التي وقعت مع بريطانيا ، واستبدلت بمعاهدة الاستقلال التي أعلنت في ١٩ / يونيو / ١٩٦١

➤ فسر ما تحته خط ؟

.....
.....
.....

➤ متى استقلت دولة الكويت ؟

.....
.....



➤ ما اسم الحاكم الذي استقلت في عهده دولة الكويت ؟

.....
.....



Teacher

ABRAR SHEHAB

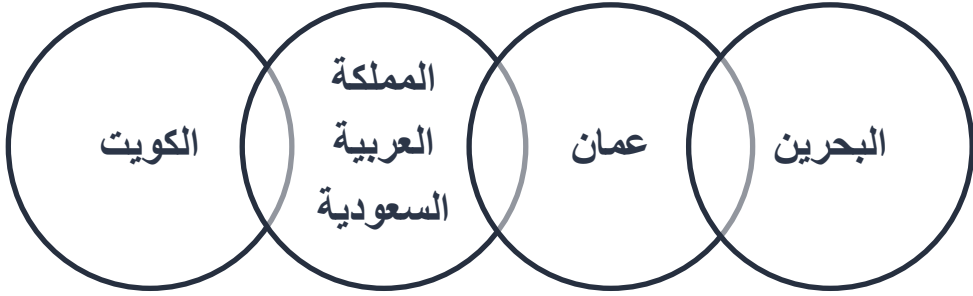
التاريخ :

عنوان الوحدة : دول الخليج العربية تتطور حضارياً وسياسياً
عنوان الدرس : أهلاً بالاستقلال

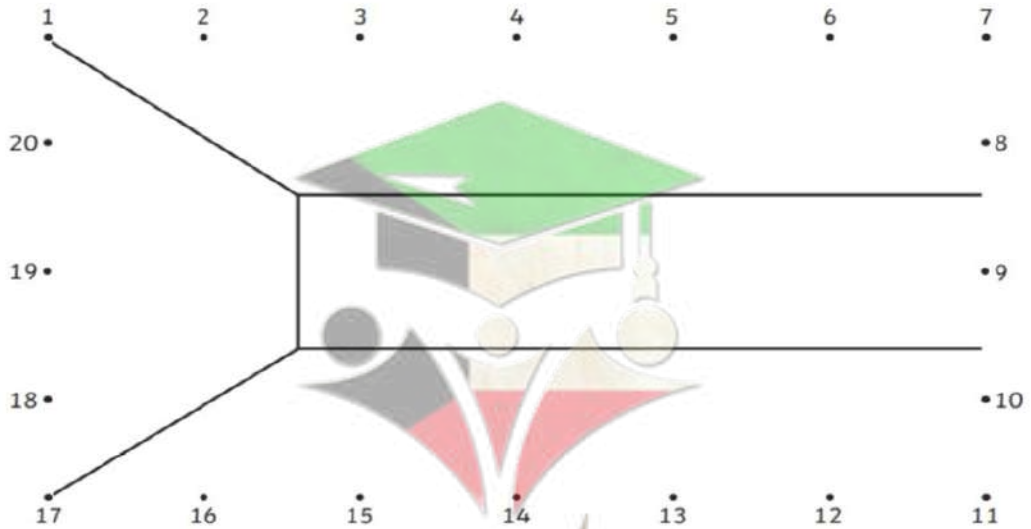


ص ٦٤-٦٧

➤ لون الدولة التي لم تتعرض للاستعمار باللون الأخضر :



➤ صل الأرقام ببعضها البعض ثم لون علم دولة الكويت :



Teacher

ABRAR SHEHAB

صفوة معلم الكويت


التاريخ :

عنوان الوحدة : دول الخليج العربية تتطور حضارياً وسياسياً
عنوان الدرس : رحلة إلى دول الخليج العربية



ص ٦٨-٦٩

➤ أكمل الجدول التالي بما يناسبه :

الإمارات العربية المتحدة	قطر	مملكة البحرين	المملكة العربية السعودية	سلطنة عمان	الكويت	الدولة
						عاصمتها
						العلم



Teacher

ABRAR SHEHAB

التاريخ :

عنوان الوحدة : دول الخليج العربية تتطور حضارياً وسياسياً
عنوان الدرس : قيام مجلس التعاون لدول الخليج العربية



ص ٧٠-٧٢

➤ لون السؤال مع إجابته حسب اللون المناسب :

تاريخ الإعلان عن قيام مجلس التعاون لدول الخليج العربية (أزرق)

اسم الدولة التي تم فيها الإعلان عن مجلس التعاون لدول الخليج العربية (أخضر)

دول مجلس التعاون الخليجي (بنفسجي)

سبب إنشاء مجلس التعاون الخليجي (وردي)

مقر مجلس التعاون لدول الخليج العربية (برتقالي)

تعريف مجلس التعاون الخليجي (أصفر)

الهيكل التنظيمي لمجلس التعاون الخليجي (أحمر)

أبو ظبي في الامارات	منظمة سياسية اقتصادية إقليمية تضم ست دول عربية خليجية
لتحقيق التعاون المشترك بين دول الخليج العربية	٢٥ / مايو / ١٩٨١
المجلس الأعلى - المجلس الوزاري - الأمانة العامة	الرياض في المملكة العربية السعودية
سلطنة عمان - قطر - دولة الكويت - الامارات العربية المتحدة - مملكة البحرين - المملكة العربية السعودية	



Teacher

ABRAR SHEHAB



التاريخ :

عنوان الوحدة : دول الخليج العربية تتطور حضارياً وسياسياً
عنوان الدرس : مجلس التعاون لدول الخليج العربية



ص ٧٥-٧٣

➤ أكمل البطاقة التعريفية لمجلس التعاون لدول الخليج العربية :

بطاقة تعريفية لمجلس التعاون الخليجي

اسم المنظمة :

تاريخ الدعوة :

صاحب الدعوة :

تاريخ التأسيس :

المقر الدائم للمنظمة :



التاريخ :

عنوان الوحدة : دول الخليج العربية تتطور حضارياً وسياسياً
عنوان الدرس : أهداف مجلس التعاون الخليجي



ص ٧٦

➤ أكمل الناقص على شعار مجلس التعاون الخليجي :



➤ اذكر أهداف مجلس التعاون الخليجي :



Teacher

ABRAR SHEHAB

التاريخ :

عنوان الوحدة : دول الخليج العربية تتطور حضارياً وسياسياً
عنوان الدرس : إنجازات مجلس التعاون الخليجي



ص ٧٧-٨٠

➤ صوب ما بين القوسين :

- ١- انطلاق السوق الخليجي المشترك في يناير عام (٢٠٠٦)
- ٢- إقامة الاتحاد الجمركي يعتبر من الانجازات (العسكرية)

➤ اكتب رسالة شكر لدول الخليج العربية على إنجازاتها المبذولة :



Teacher

ABRAR SHEHAB

صفوة معلم الكويت

المشروع الأول



صفوة معلم الكويت



Teacher

ABRAR SHEHAB

المشروع الثاني



صفوة معلم الكويت



Teacher

ABRAR SHEHAB