



الاجتماعيات

الصف السابع



إعداد

أ. محمد علي

سلسلة
(أ- محمد علي)
(مديتر تاريخ)

الاجتماعيات

والتاريخ

والجغرافيا

والفلسفة

وعلم النفس



تواصل واتساب

0248481



تواصل تيليجرام



الوحدة الأولى: الوطن العربي مفومات وملامح جغرافيه

الدرس الأول : البيئة الطبيعية فى الوطن العربي

أ- تعريف الوطن العربي

عرف الوطن العربي

مجموعه من الدول العربية تجمعها عدد من السمات المشتركة (الدين واللغه) ويمتد ضمن أكبر قارتين من قارات العالم مساحه .

- يمتد الوطن العربي بين قارتين هما آسيا و أفريقيا

- الموقع الذي يشغله الوطن العربي بالنسبه للعالم موقع متوسط

- السمات المشتركة بين دول الوطن العربي هي اللغة و الدين



ب - دول الوطن العربي

- البحر الذي يفصل قارة أفريقيا عن قارة آسيا يسمى البحر الأحمر

- عدد الدول العربية يبلغ ٢٢ دولة

- أكبر دولة عربية مساحة في الجناح الآسيوي هي السعودية

- أكبر دولة عربية مساحة في الجناح الأفريقي تسمى الجزائر

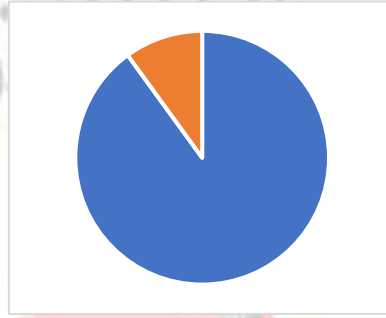
- أصغر دولة عربية مساحة في الجناح الآسيوي هي البحرين

- أصغر دولة عربية مساحة في الجناح الأفريقي تسمى جزر القمر

سنقوم بتسمية الدول العربية في آسيا باسم الجناح الآسيوي وكذلك الدول العربية في أفريقيا باسم الجناح الأفريقي



- أكبر دولة عربية مساحة في الوطن العربي هي الجزائر
 - أصغر دولة عربية مساحة في الوطن العربي تسمى البحرين
 - النسبة المئوية التي تمثلها مساحة الوطن العربي من جملة مساحة العالم تبلغ ١٠%
 - مساحة الوطن العربي تبلغ ١٣,٥ مليون كم²
- ارسم على الدائرة البيانية التي امامك النسبة المئوية للمساحة التي يشغلها الوطن العربي من مساحة العالم



- الدولة التي انضمت حديثا لجامعة الدول العربية تسمى جزر القمر

الدولة	جزر القمر
عدد الجزر	٤
الموقع	شمال غرب جزيرة مدغشقر
العاصمة	موروني
عام الانضمام للجامعة العربية	١٩٩٣م
المحيط الذي تقع فيه جمهورية جزر القمر الاتحادية الإسلامية يسمى <u>المحيط الهندي</u>	

ج - هوية الوطن العربي

مقومات الهوية العربية (سؤال مهم)

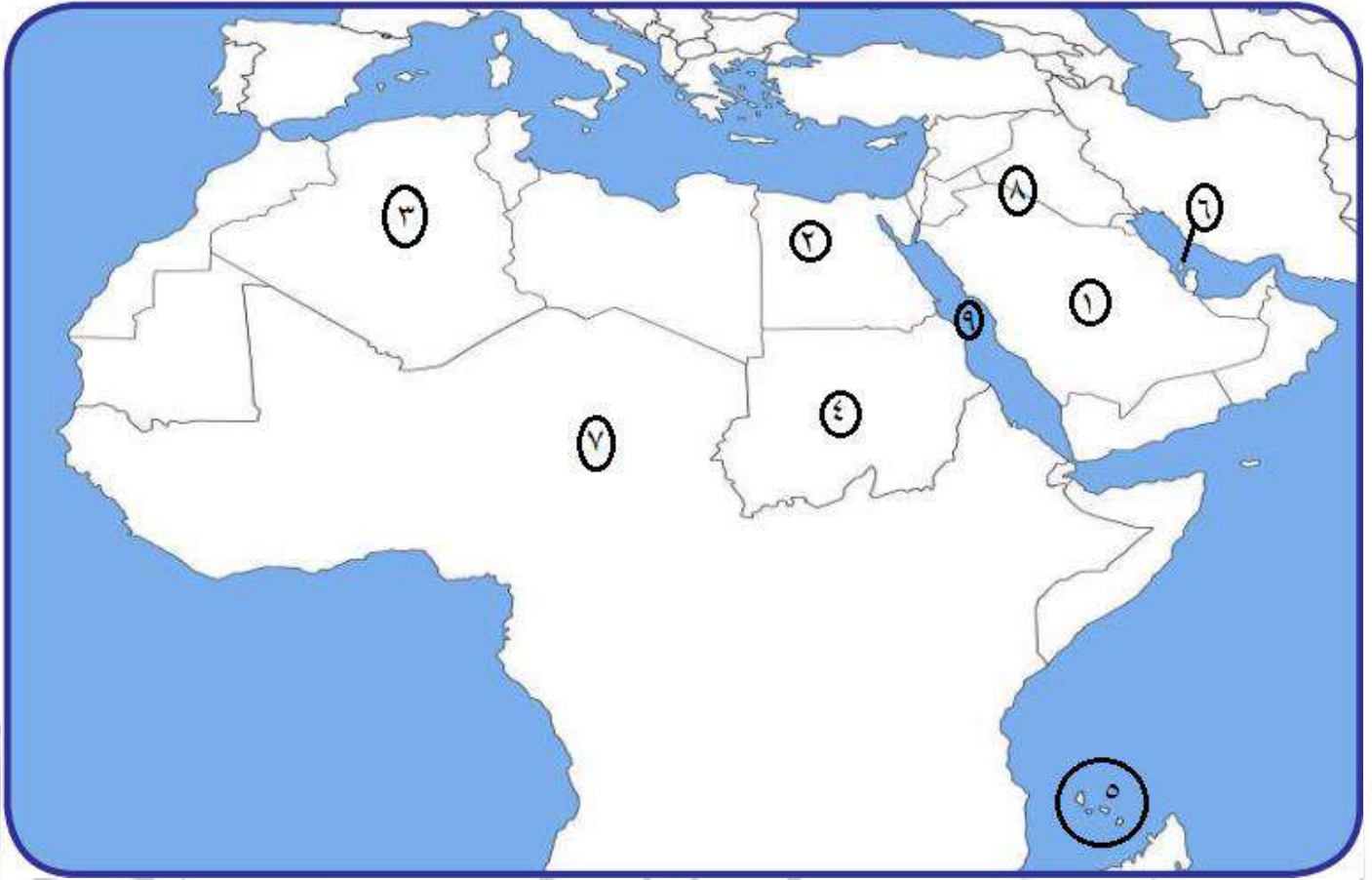


لشراء المذكرة الكاملة

برجاء التواصل على رقم ٥٠٢٤٨٤٨١



مراجعة الخريطة



أكبر دولة مساحة في الجناح الآسيوي رقم (١) السعودية

الدولة التي تحمل الرقم ٢ تسمى مصر

أكبر دولة مساحة في الجناح الأفريقي رقم (٣) الجزائر

الدولة التي تحمل الرقم ٤ تسمى السودان

دولة جزر القمر (أصغر دولة مساحة في الجناح الأفريقي) رقم ٥

أصغر الدول العربية مساحة رقم ٦ البحرين

قارة أفريقيا رقم ٧

قارة آسيا رقم ٨

المسطح المائي رقم ٩ يسمى البحر الأحمر





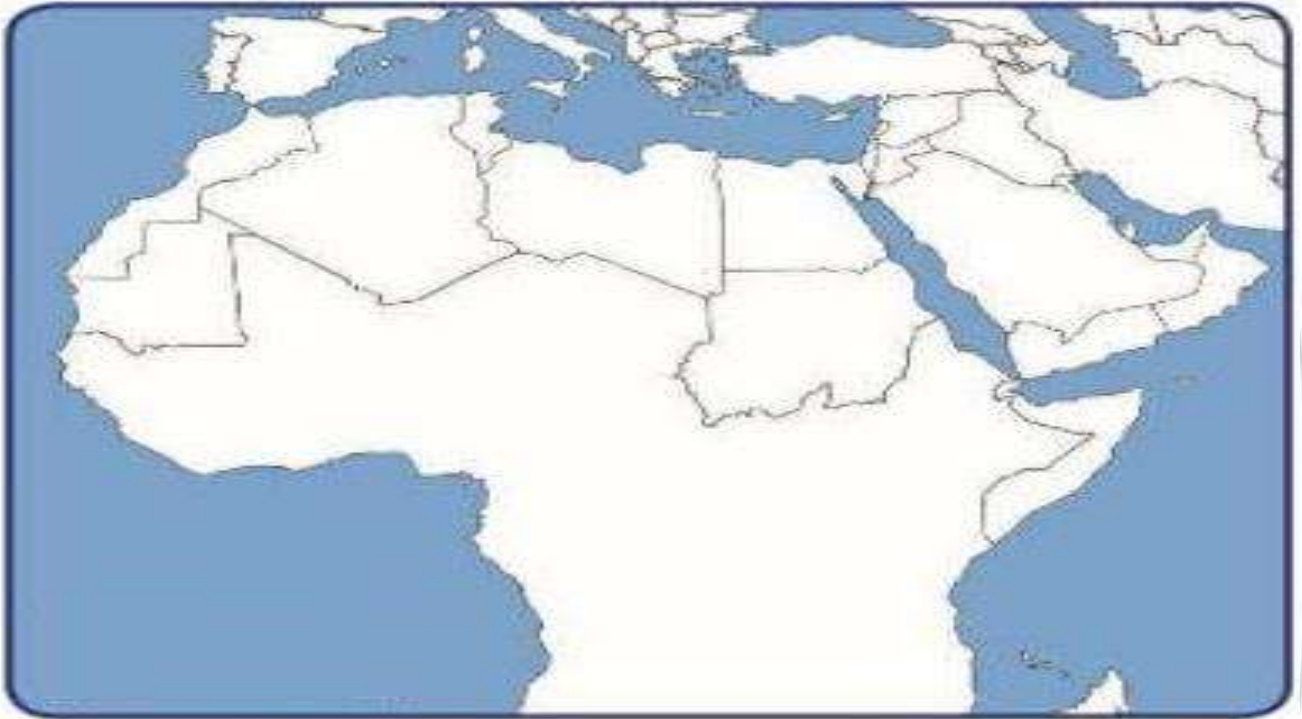
تدريبات على الدرس الأول : البيئة الطبيعية فى الوطن العربي

السؤال الأول : أكمل العبارات التالية بما يناسبها مما درست :

١- يمتد الوطن العربي بين قارتين هما و

٢- السمات المشتركة بين دول الوطن العربي هي و

السؤال الثاني : أكمل خريطة الوطن العربي التى أمامك بكتابة أسماء الدول عليها :



السؤال الثالث : اختر الإكمال المناسب للعبارات التالية من بين الخيارات التى تلى كلاً منها :-

١. عدد الدول العربية يبلغ : (٢٠ دولة - ٢١ دولة - ٢٢ دولة - ٢٣ دولة)

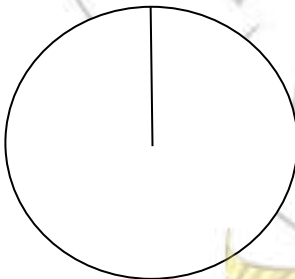
٢. النسبة المئوية التى تمثلها مساحه الوطن العربي من جملة مساحه العالم تبلغ

(٩% - ١٠% - ١١% - ١٢%)

٣. مساحه الوطن العربي تبلغ : (١٢,٥ - ١٣,٥ - ١٤,٥ - ١٥,٥) مليون كم²

السؤال الرابع : ارسم على الدائرة البيانية التى أمامك

النسبة المئوية للمساحة التى يشغلها الوطن العربي من مساحه العالم





حل أنشطة الدرس الأول : البيئة الطبيعية في الوطن العربي

نشاط (١) لاحظ الخريطة شكل (١) ثم شارك زملاءك في الإجابة عن الأسئلة التي تليها :

صفحة ٢١

علام يدل اللون الأصفر في الخريطة .

.....الوطن العربي.....

ما اسم القارات التي يمتد فيها وطننا العربي؟

.....آسيا إفريقيا.....

ما موقع الوطن العربي بالنسبة إلى قارات العالم؟

.....وسط العالم.....

ماذا تستنج من الجدول السابق؟

صفحة ٢٢

أن هناك مجموعة من الروابط المشتركة بين الدول العربية

الدول العربية الآسيوية		الدول العربية الأفريقية	
أكبر دولة عربية	السعودية	أكبر دولة عربية	الجزائر
أصغر دولة عربية	البحرين	أصغر دولة عربية	جزر القمر

صفحة ٢٣

نشاط (٢)

صفحة ٢٤

استعن بالشكل رقم (٢) ثم أجب عما يلي :

ما اسم البحر الذي يفصل الجناح الآسيوي عن الجناح الأفريقي؟

.....البحر الأحمر.....

ما الدولة التي انضمت حديثاً لجامعة الدول العربية؟

.....جزر القمر.....





نشاط (٤)

بالاستعانة بالأطلس المدرسي و شبكة الإنترنت تعرف على أسماء الدول العربية وعواصمها :

الكويت	قطر	السعودية	عمان	الإمارات	البحرين
عاصمتها:	الدوحة	الرياض	مسقط	ابوظبي	المنامة
اليمن	العراق	لبنان	فلسطين	سوريا	الأردن
عاصمتها:	بغداد	بيروت	القدس	دمشق	عمان
مصر	ليبيا	تونس	الجزائر	المغرب	موريتانيا
عاصمتها:	طرابلس	تونس	الجزائر	الرباط	نواكشوط
السودان	جيبوتي	الصومال	الصومال	الصومال	جزر القمر
عاصمتها:	جيبوتي	مقديشو	مقديشو	مقديشو	موروني

نشاط (١)

أكمل المخطط السهمي التالي بعد الاستعانة بالمقكرة السابقة :



نشاط (٢)

ساعد خالداً في كتابة رسالة إلى أحد أصدقائه في الخارج ، بيّن فيها أهم العادات والتقاليد العربية في الوطن العربي .

صديقي العزيز .. تحيتي إليك

يتمتع وطننا العربي بعادات وتقاليد خاصة تميزه عن بقية دول العالم مثل إقامة

الاعراس والمناسبات الدينية الخاصة بديننا الإسلامي

كذلك لدينا الأطعمة الشرقية العربية اللذيذة والملابس العربية التي تميز العرب

رجال ونساء ...



- ❖ تنقسم مذكرة مستر تاريخ للاجتماعيات إلى ثلاث أجزاء
- مذكرة الشرح الكامل لكل درس من دروس المنهج
- مذكرة التدريبات والأسئلة على كل درس ليطبق الطالب بنفسه ويتقن طرق حل الأسئلة بالاختبار بالإضافة إلى فهم كيف يأتي السؤال على كل نقطة من نقاط الدرس
- الجزء الأخير يحتوي على حل جميع أسئلة وتقويمات الدروس والوحدات والتي تساعد الطالب في حل واجباته المدرسية وفهم المنهج بصورة أفضل
- ❖ يوجد حل تدريبات الدروس التي يجيب عليها الطالب بنهاية المذكرة
- ❖ يوجد اختبارات قصيرة ليتدرب الطالب عليها
- ❖ الصور الموجودة بالمذكرة جميعها هامة سبق وجودها في الاختبارات المختلفة ويجب التركيز عليها
- ❖ تحتوي المذكرة على تدريبات مختلفة للخرائط حتى يتقن الطالب التعامل معها وينتهي عدم الفهم والخوف من إجابة سؤال الخرائط
- ❖ لمزيد من الشرح والتوضيح يمكنكم الاشتراك في منصة فيديوهات أ/محمد علي وقناة اليوتيوب والتي تحتوي على فيديوهات شرح مفصل لكل درس بطريقة جذابة ومبسطة تناسب جميع الطلاب



تواصل واتساب



TikTok



@MISTER_TAREKH

تواصل تيليجرام الثانوي



@MOHALISOCIAL

تواصل تيليجرام المتوسط

الحين تقدر تشاهد فيديوهات

شرح كل دروس الصف السابع وجميع صفوف المتوسط شرح

مبسط تفهمه بسرعة بتكلفة اشتراك بسيطة لجميع

الفيديوهات طوال الكورس

للاشتراك اتصل على ٥٠٢٤٨٤٨١