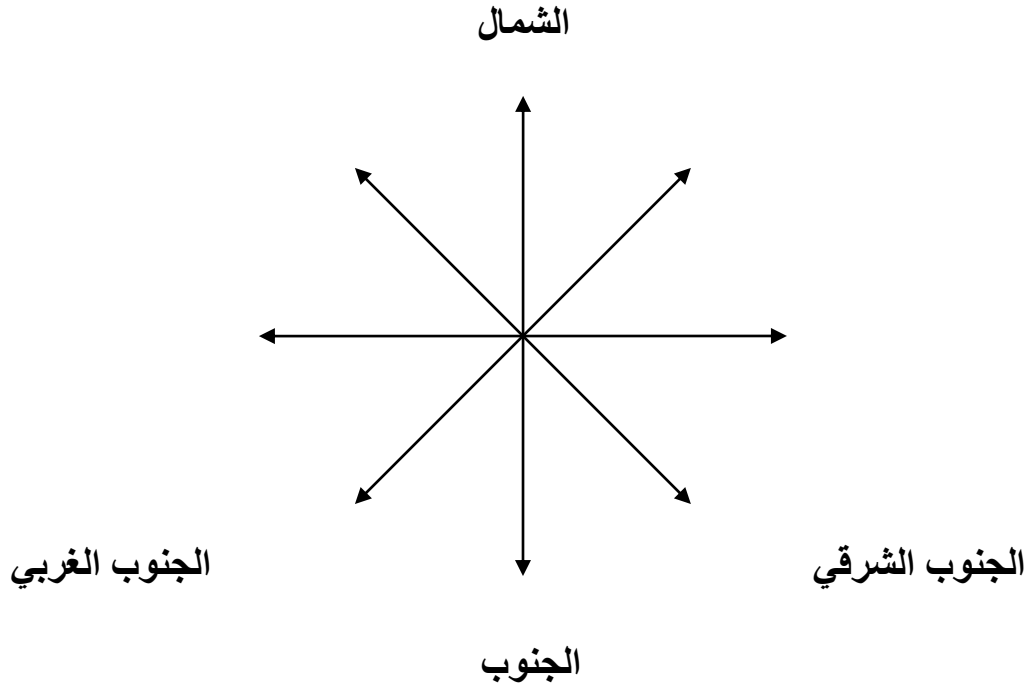


تطبيقات الفصل الأول (الفترة ١ – الفترة ٢)

أكمل المخطط السهمي :



ص ٨

اختر الإجابة الصحيحة :

- ١ من الجهات الأصلية (الشمال الشرقي – الغرب – الجنوب الغربي) ص ٨
- ٢ من الجهات الفرعية (الشمال – الشرق - الجنوب الشرقي) ص ٨

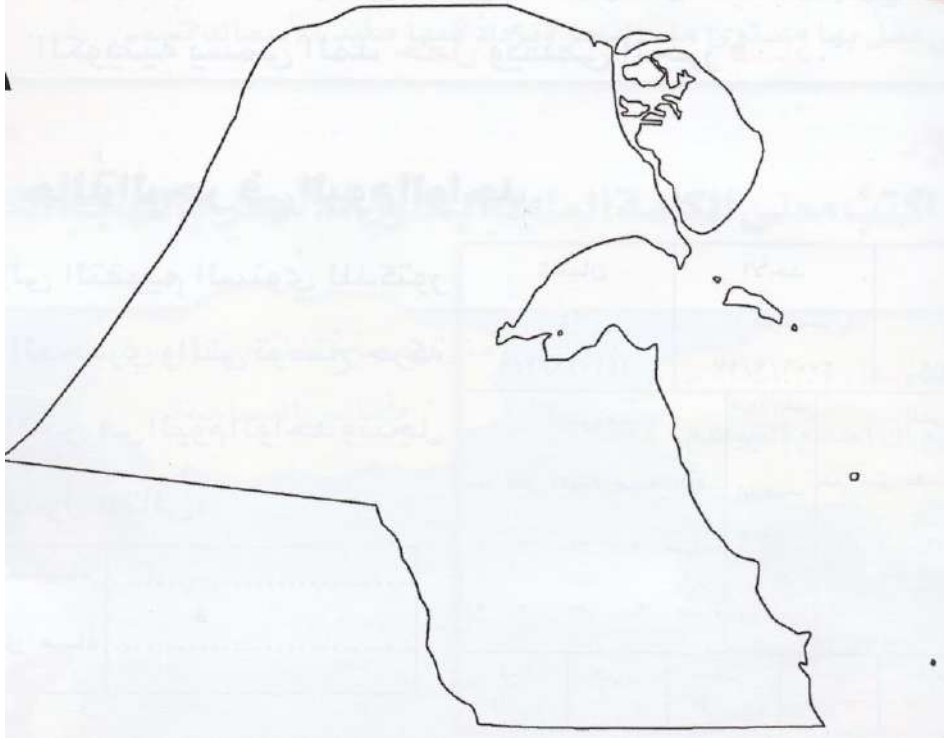
ضع علامة () أمام العبارات الصحيحة وعلامة (X) أمام العبارات الخاطئة :

- ١- الجهات الأصلية أربع هي الشمال والجنوب والشرق والجنوب الغربي . ()
- ٢- الجهات الفرعية أربع الشمال الشرقي والشمال الغربي والجنوب الشرقي والجنوب . ()

ص ٨

صفوة معلم الكويت

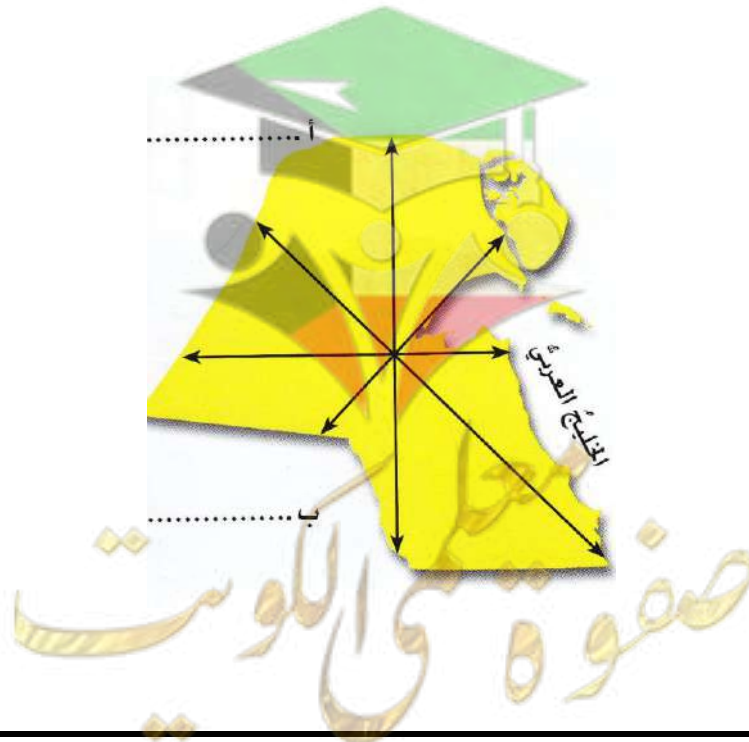
ارسم على خريطة دولة الكويت الجهات الأصلية والجهات الفرعية :



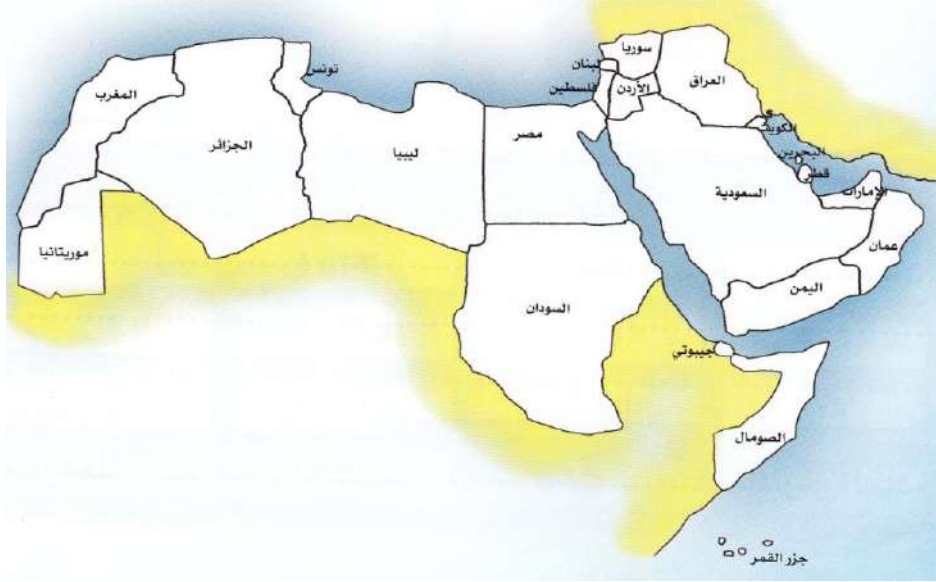
أكمل الفراغات التالية بما يناسبها :

- ١- الدولة التي تحد دولة الكويت من الشمال والشمال الغربي هي
- ٢- الدولة التي تحد دولة الكويت من الجنوب والجنوب الغربي هي

ص ١٢



بالاستعانة بخريطة الوطن العربي أجب عما يلي :



- ١ تقع دولة الكويت في جهة _____ بالنسبة للخليج العربي .
٢ تقع دولة الكويت في جهة _____ بالنسبة لشبه الجزيرة العربية .
٣ تقع دولة الكويت في جهة _____ بالنسبة للوطن العربي .
٤ تقع سوريا في جهة _____ بالنسبة لدولة الكويت .
٥ تقع السودان في جهة _____ بالنسبة لدولة الكويت .
ص ١٢

ضع علامة () أمام العبارات الصحيحة وعلامة (X) أمام العبارات الخاطئة :

- ١ دولة الكويت تعتبر من الدول كبيرة المساحة حيث تبلغ مساحتها ١٧,٨١٨ كيلومتر مربع ()
٢ تبلغ مساحة دولة الكويت ٨١٨,١٧ كيلومتر مربع ()
٣ أكبر الدول الخليجية من حيث المساحة هي الإمارات ()
٤ أصغر الدول الخليجية مساحة هي دولة الكويت ()
ص ١٥

صفوة معلمى الكويت

اختر الإجابة الصحيحة :


- ١ - تبلغ مساحة دولة الكويت (١٧,٨١٨ كيلومتر مربع - ٢٢,٩١٩ كيلومتر مربع - ٨٣,٦٠٠ كيلومتر مربع)
 - ٢ - أكبر الدول الخليجية مساحة هي (الإمارات - عمان - السعودية)
 - ٣ - أصغر الدول الخليجية مساحة هي (البحرين - الكويت - قطر)
- ص ١٥

اذكر المصطلحات التالية :

- ١- هي وصف لسطح الأرض . ()
 - ٢- جزء من اليابس داخل الماء . ()
 - ٣- لسان من الماء داخل اليابس . ()
 - ٤- مكان محاط بالصخور ترسو فيه السفن حيث يتم أيضا إصلاحها وتنظيفها أثناء ظاهرة الجزر. ()
- ص ١٨ - ص ١٩

حدد على الخريطة مايلي :

- رأس الأرض - خور العمي - خور المفتح - جون الكويت - رأس الصبية - جزيرة أم النمل -
خور عبدالله - رأس عجوزة - رأس عشيرج



صفوة معلمي الكويت

أجب عن الأسئلة التالية :

- ١ ما مميزات ساحل دولة الكويت الرملي ؟
أ-
ب-

"لجون الكويت دور أساسي في نشأة الكويت واستقرارها"
فسر العبارة السابقة.

ص ١٩

أكمل الفراغات بما يناسبها :

- ١ يقع اللجون بالنسبة لدولة الكويت في جهة _____
٢ تتضح ظاهرة المد والجزر في جزيرة _____ ص ٢٢
٣ خور الصبية يفصل بين ساحل دولة الكويت وجزيرة _____
٤ -الخور الذي يقع بين جزيرة بوبيان والحدود البحرية الكويتية هو _____
٥ -المد والجزر ظاهرة كونية ثابتة تتمثل في قوة جذب _____ للمياه على سطح الأرض .

صل بين الكلمات وما يناسبها من صور :



الجزر - الرأس - الخور - المد

صفوة معلمى الكويت

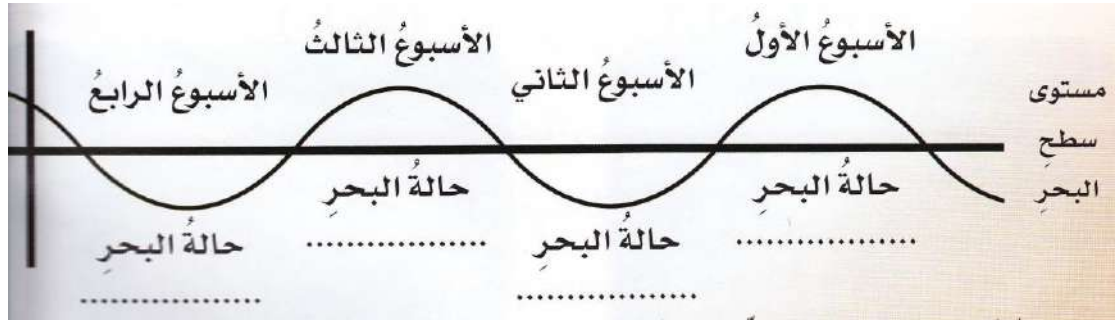
اذكر المصطلحات التالية :

- ١- تقدم المياه نحو الساحل . ()
٢- تراجع المياه عن الساحل . () ص ٢٢

ضع علامة () أمام العبارات الصحيحة وعلامة (X) أمام العبارات الخاطئة :

- ١ للبحر مدان وجزران في اليوم الواحد الهجري وباللهجة الكويتية يسمى المد ثبر والجزر سجي. ()
٢ للبحر مدان وجزران في الشهر الواحد الهجري وباللهجة الكويتية يسمى المد فساد والجزر حمل. () ص ٢٤

أكمل المخطط التالي :



أكمل الفراغات بما يناسبها :

- ١- الأيام التي يرتفع بها مستوى ماء البحر وتكون صالحة لممارسة هواية السباحة ويقل فيها صيد الأسماك تسمى
٢- الأيام التي يقل بها مستوى ماء البحر ويزداد فيها صيد الأسماك تسمى
ص

السؤال الاول:

(١) اكمل الجمل التالية بما يناسبها من كلمات :

- ١ - استفاد الكويتيون من المد والجزر من خلالص ٢٦
٢ من الاحياء البحرية المدجزريةص ٢٧
٣ تعتبر دولة الكويت ضمن منطقة المناخ ص ٣٢
٤ تسقط اشعة الشمس في فصل الصيف بشكل ص ٣٤

صفوة من الكويت

- (ب) ضعي علامة $\sqrt{\quad}$ او علامة \times امام العبارات التالية ؟
- ١ - مناخ الكويت في فصل الصيف حار () ص ٣٤
 - ٢ - تتم الارض دورتها حول الشمس خلال سنة واحدة () ص ٣٤
 - ٣ - درجة الحرارة في فصل الصيف أقل منها في فصل الشتاء () ص ٣٥
 - ٤ - درجة الحرارة تتغير نهارا عنها ليلا () ص ٣٥
 - ٥ - دراسة الاحوال الجوية لا تفيدنا في حياتنا () ص ٣٥
 - ٦ - الرياح الجنوبية الشرقية في فصل الشتاء تؤدي الى هطول الامطار () ص ٣٦

(ج) علل مايلي :-

- ١- اختلاف درجة الحرارة في الكويت في فصل الصيف عنها في فصل الشتاء ؟
..... ص ٣٤
- ٢- هبوب غبار وعواصف ترابية في فصل الصيف ؟
..... ص ٣٥
- ٣- ارتفاع نسبة الرطوبة في فصل الصيف ؟
..... ص ٣٥
- ٤- هطول الامطار في فصل الشتاء ؟
..... ص ٣٥
- ٥- اشاعة الدفء في فصل الشتاء ؟
..... ص ٣٥

السؤال الثاني:

- (أ) ضع علامة $\sqrt{\quad}$ او علامة \times امام العبارات التالية :
- ١- النباتات الطبيعي لا يتأثر بالمناخ السائد ص ٤١
 - ٢- النباتات الطبيعي متنوع في دولة الكويت ص ٤١
 - ٣- تنتشر نباتات التندى جهة شمال الكويت ص ٤٠
 - ٤- يعتبر الجمل والماعز من الطيور التي تعيش في دولة الكويت ص ٤٢
 - ٥- تم بناء المدرسة المباركية في عهد الشيخ جابر الاحمد الصباح ص ٤٧
- (ب) أكمل الفراغات التالية:-
- ١- اختير الشيخ عام أول حاكم لدولة الكويت ص ٤٦
 - ٢- ثاني حكام دولة الكويت هو ص ٤٦
 - ٣- وقعت معركة الرقة في عهد الشيخ ص ٤٨
 - ٤- تم بناء السور الاول والثاني في عهد الشيخ ص ٤٧
 - ٥- تم بناء المدرسة المباركية في عهد الشيخ ص ٤٧
 - ٦- تم بناء السور الثالث في عهد الشيخ ص ٤٦

صفوة معلمى الكويت

- ٧- وقعت معركة الجهراء في عهد الشيخ ص ٥٢ .
٨- حدثت معركة الرقة البحرية في عام بالقرب من جزيرة
..... ص ٤٨

السؤال الثالث:

- امامك خريطة دولة الكويت نفذ منها ما هو مطلوب منك ؟
١ - اتجاه الرياح الشمالية الغربية
٢ - اتجاه الرياح الجنوبية الشرقية
٣ - لون الجزيرة التي تتأثر بالمد والجزر
٤ - موقع معركة الرقة البحرية

السؤال الأول: ضع علامة (صح) أمام العبارة الصحيحة وعلامة (خطأ) أمام العبارة غير صحيحة فيما يلي

- ١- تسمى المسافة الواقعة بين جهة الشمال وجهة الشرق بجهة الشمال الغربي (خطأ)
٢- عدد الجهات الفرعية ٤ جهات فرعية (صح)
٣- دول الخليج تتشابه جميعها من حيث المساحة (خطأ)
٤- تتضح ظاهرة المد والجزر طبيعياً في جزيرة بوبيان (صح)
٥- يسمى الجزر باليوم الواحد باللهجة الكويتية ثبر (صح)

السؤال الثاني: اختر الإجابة الصحيحة من بين البدائل التالية وضع دائرة حولها

- ١- تسمى المسافة الواقعة بين جهة الجنوب وجهة الغرب بجهة :
(جنوب شرقي - شمال - جنوب غربي - شرق)
٢- الدولة الخليجية التي تحد دولة الكويت من جهة الجنوب والجنوب الغربي :
(السعودية - مصر - العراق - الجزائر)
٣- أصغر الدول الخليجية من حيث المساحة هي :
(السعودية - البحرين - الكويت - قطر)

صفوة الكويت

- ٤- من الجزر التي تقع داخل جون الكويت :
(أم المرادم -مسكان -أم النمل -وربة)
٥-تتم الأرض دورتها حول الشمس خلال :
(٣ سنوات -سنة واحدة -٤ سنوات -٧ سنوات)

السؤال الثالث: أكمل العبارات التالية بما يناسبها {٥ درجات }

- ١ مكان محاط بالصخور ترسو فيه السفن (النقعة) .
٢ لسان من الماء داخل اليابس يسمى (الخور) .
٣ يقع الجون بالنسبة لدولة الكويت في جهة (الشرق) .
٤ تراجع الماء عن الساحل يسمى (جزر) .
٥ تعتبر الكويت ذات مناخ (صحراوي) .

السؤال الرابع: صل بين مجموعة (أ) ومجموعة (ب) بما يناسبهما {٥ درجات }

مجموعة (أ)		مجموعة (ب)
١- خور .	٢	فيلكا
٢- جزيرة .	١	العمي
٣- تقدم المياه نحو الساحل .	٤	الحويتة
٤- قوقعة	٣	المد
٥- مد في الشهر الواحد .	٥	حمل

معلمي الكويت
صفوة

السؤال الخامس: أجب عن مايلي { ١٠ درجات }

١- عدد الجهات الفرعية ؟

١...-الشمال الغربي .

٢...- الشمال الشرقي .

٣...- الجنوب الشرقي .

٤-الجنوب الغربي .

٢-ما مميزات ساحل دولة الكويت الرملي ؟

١ -منبسط قليل التعاريج .

٢ -ضحل المياه .

٣-أذكر أهمية كل من ظاهرة :

أ- المد : (للسباحة)

ب-الجزر (جمع القواقع -صيد السمك)

٣ -عرف مايلي :

أ-جون الكويت (جزء من الماء داخل اليابس).

ب-الرأس (جزء من اليابس داخل الماء).

صفوة معلم الكويت