

## بنك الاسئلة - الصف ٥ - الفترة ١ - مقرر بلادي

### السؤال الأول: املأ العبارات بكلمة مناسبة في الجمل الآتية:

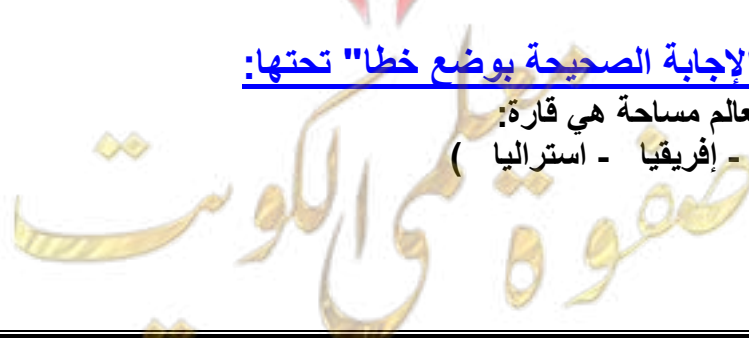
- أصغر قارات العالم مساحة هي قارة.....
- أكبر الجزر الكويتية مساحة هي جزيرة.....
- أكبر المحيطات في العالم هو المحيط.....
- أكبر المحيطات مساحة في العالم هو المحيط.....
- أكبر قارات العالم مساحة هي قارة.....
- الجزيرة الكويتية التي تعرضت للعدوان العراقي وتم طرد سكانها تسمى.....
- الحاكم الذي لقب بأبو الإستقلال هو الشيخ.....
- الحاكم الذي لقب بأبو الدستور هو الشيخ.....
- الحيوان الذي يعرف باسم سفينة الصحراء هو.....
- الدولة التي لها منفذ بحري تسمى بالدولة.....
- الدولة التي يحيط بها اليابس من جميع الجهات تسمى بالدولة.....
- الدولة العربية التي تجاور دولة الكويت من جهة الجنوب والجنوب الغربي تسمى.....
- الدولة العربية التي تجاور دولة الكويت من جهة الشمال والشمال الغربي تسمى.....
- الرعي الجائر هو أحد أسباب انتشار ظاهرة صحراوية تسمى.....
- المسطح المائي الذي تطل عليه دولة الكويت يسمى.....
- المضيق الذي يصل بين الخليج العربي وخليج عمان هو مضيق.....
- انضمت دولة الكويت إلى جامعة الدول العربية في عام.....م
- انضمت دولة الكويت إلى جامعة الدول العربية في عام.....م
- تبلغ مساحة دولة الكويت حوالي.....كم
- تعرف الأمطار الرعدية التي تسقط على دولة الكويت باسم.....
- تقع بلادي الكويت ضمن الإقليم المناخي.....
- تقع دولة الكويت ضمن الإقليم المناخي.....
- تم افتتاح المدرسة الاحمدية في عهد الشيخ.....
- تم افتتاح أول مجلس للشورى في دولة الكويت في عهد الشيخ.....
- تم افتتاح مجلس الأمة الكويتي الأول في عام.....
- تم اكتشاف أول بئر نفطي منتجة في منطقة برقان في عام.....م
- تم تصدير أول شحنة من النفط الكويت في عام.....م
- عقدت اتفاقية امتياز التنقيب عن النفط في عهد الشيخ.....
- قطعة من الأرض تحيط بها المياه من جميع الجهات تسمى.....
- يتوسط ساحل دولة الكويت خليج صغير يعرف باسم.....
- يسمى موقع الدول بالنسبة لليابس والماء باسم الموقع.....
- يصل مضيق هرمز بين الخليج العربي وخليج.....
- يطلق على التلال الرملية التي تتراكم في الصحراء بفعل الرياح اسم.....
- يطلق على الرياح المغبرة التي تهب في فصل الصيف اسم.....
- يظهر نبات الفقع في موسم يسمى.....
- يمر خط جرينتش في قارة تسمى.....

### السؤال الثاني ضع علامة ( / ) أمام العبارة الصحيحة وعلامة ( x ) أمام العبارة الخاطئة.

- تمثل دولة الكويت البوابة الشرقية للوطن العربي كله. ( )
- عقدت اتفاقية التنقيب عن النفط في عهد الشيخ مبارك الصباح. ( )
- انضمت دولة الكويت الى جامعة الدول العربية في عام ١٩٦١م. ( )
- الحيوان الذي يعرف باسم سفينة الصحراء هو الضب. ( )
- يصل مضيق هرمز بين الخليج العربي وخليج عمان. ( )
- الدولة التي لها منفذ بحري تسمى بالدولة المغلقة. ( )
- تحتل دولة الكويت موقعا فريدا يتوسط قارات العالم. ( )
- أكبر قارات العالم هي قارة استراليا. ( )
- يمر خط جرينتش في قارة آسيا. ( )
- الدولة العربية التي تجاور دولة الكويت من جهة الشمال والشمال الغربي هي دولة قطر. ( )
- الحاكم الذي لقب بأبو الجميع هو الشيخ صباح السالم الصباح. ( )
- أكبر المحيطات في العالم هو المحيط الهندي. ( )
- يظهر نبات الفقع في موسم يسمى سهيل. ( )
- أكبر الجزر الكويتية هي جزيرة فيلكا. ( )
- يسمى موقع الدولة بالنسبة لكتلة اليابس والماء باسم الموقع الفلكي. ( )
- تم تصدير أول شحنة من النفط الكويتي عام ١٩٦٦م. ( )
- المسطح المائي الذي تطل عليه دولة الكويت يسمى الخليج العربي. ( )
- تقع دولة الكويت ضمن إقليم المناخ الصحراوي. ( )
- من مميزات دولة الكويت أنها تمثل البوابة الغربية للوطن العربي. ( )
- تلال جال الزور في دولة الكويت تقع شمال جون الكويت مباشرة. ( )
- وادي الباطن يقع في جهة الغرب من دولة الكويت. ( )
- تختلف دول العالم من حيث مساحاتها. ( )
- يطلق على الرياح التي تهب في فصل الصيف اسم رياح الكوس. ( )
- الحاكم العاشر لدولة الكويت هو الشيخ عبدالله السالم الصباح. ( )
- خليج يتوسط ساحل دولة الكويت يسمى الجون. ( )
- الغاء المعاهدة مع بريطانيا كان في عهد الحاكم الشيخ عبدالله السالم الصباح. ( )
- الجزيرة هي قطعة من الأرض اليابسة تحيط بها المياه من كل الجهات. ( )
- تبلغ مساحة دولة الكويت ١٨,٧١٧ كم. ( )
- الطقس هو حالة الجو خلال فترة زمنية طويلة. ( )
- تعرف الأمطار الرعدية التي تسقط على دولة الكويت باسم السرايات. ( )
- تميزت صحراء شبه الجزيرة العربية بطوم الفلك وذلك بسبب صفاء الجو. ( )
- الإفراط في الرعي هو أحد أسباب التصحر في دولة الكويت. ( )
- لقب الشيخ صباح السالم بأبو الجميع. ( )
- افتتاح المدرسة الأحمدية من أهم الأحداث التي حصلت في عهد الشيخ أحمد الجابر الصباح. ( )
- المناخ هو حالة الجو خلال فترة زمنية طويلة. ( )

### السؤال الثالث اختر الإجابة الصحيحة بوضع خطأ" تحتها:

- أصغر قارات العالم مساحة هي قارة:
- ( آسيا - أوروبا - إفريقيا - استراليا )



- تطل الكويت على مسطح مائي هو:  
( الخليج العربي - المحيط الهندي - بحر العرب - خليج عمان )
- الدولة التي تجاور دولة الكويت من جهة الجنوب والجنوب الغربي هي:  
( العراق - الإمارات - قطر - المملكة العربية السعودية )
- الحاكم الذي لقب بأبو الدستور هو الشيخ:  
( عبدا لله السالم - صباح السالم - أحمد الجابر - صباح الأول )
- الرعي الجائر هو أحد أسباب انتشار ظاهرة صحراوية تسمى:  
( المد - الجزر - التصحر - الغبار )
- تحتفل دولة الكويت بالعيد الوطني في:  
( ٢٥ يناير من كل عام - ٢٥ فبراير من كل عام - ٢٥ مارس من كل عام - ٢٥ أبريل من كل عام )
- يطلق على الرياح التي تهب في فصل الصيف وتثير الغبار اسم:  
( السموم - البوارح - الكوس - السريات )
- الجزيرة الكويتية التي تعرضت للعدوان العراقي الغاشم وتم طرد سكانها هي:  
( بوبيان - فيلكا - مسكان - عوثة )
- يظهر الفقع في موسم يسمى:  
( الثريا - الجوزاء - الوسم - المربعانية )
- تم افتتاح المدرسة الأحمدية في عهد الشيخ:  
( صباح السالم الصباح - أحمد الجابو الصباح - عبدا لله السالم - مبارك الصباح )
- أكبر المحيطات في العالم هو:  
( المحيط الهادي - المحيط الأطلسي - المحيط الهندي - المحيط القطبي الشمالي )
- الدولة التي لها منفذ بحري تسمى بالدولة:  
( البحرية - المغلقة - شبه مغلقة - جميع ماسبق )
- تبلغ مساحة دولة الكويت حوالي:  
( ١٥,٨١٨ كم - ١٦,٨١٨ كم - ١٧,٨١٨ كم - ١٨,٨١٨ كم )
- يطلق على التلال الرملية التي تتراكم في الصحراء بفعل الرياح اسم:  
( سبخات - كثبان رملية - وديان - جبال )
- تقع بلادي الكويت ضمن الإقليم المناخي:  
( الاستوائي - القطبي - الصحراوي - المعتدل )
- تقع دولة الكويت بالنسبة للخليج العربي في جهة:  
( الشمال الشرقي - الشمال الغربي - الجنوب الشرقي - الجنوب الغربي )
- تم اكتشاف أول بئر نفطي منتجة في دولة الكويت بمنطقة برقان عام:

( ١٩٣٤ م - ١٩٣٥ م - ١٩٣٦ م - ١٩٣٨ م )

• أكبر الجزر الكويتية مساحة هي جزيرة:  
( وربة - بوبيان - عوهة - كبر )

• حاكم دولة الكويت الذي وقع اتفاقية امتياز التنقيب عن النفط هو الشيخ :  
( أحمد الجابر - صباح السالم الصباح - مبارك الصباح - عبد الله السالم )

• تم افتتاح أول مجلس أمة كويتي في عام:  
( ١٩٦٠ م - ١٩٦١ م - ١٩٦٣ م - ١٩٦٤ م )

• الدولة التي تجاور دولة الكويت من جهة الشمال والشمال الغربي هي :  
( قطر - المملكة العربية السعودية - العراق - سلطنة عمان )

• الحاكم الثاني عشر لدولة الكويت هو الشيخ:  
( صباح الأحمد الصباح - عبد الله السالم الصباح - جابر الأحمد الصباح - صباح السالم الصباح )

• تم إلغاء المعاهدة مع بريطانيا في عهد الشيخ:  
( أحمد الجابر - عبد الله السالم - صباح السالم - جابر الأحمد الصباح )

• تم افتتاح جامعة الكويت في عام :  
( ١٩٦٦ م - ١٩٦٧ م - ١٩٦٨ م - ١٩٦٩ م )

• موقع الدولة بالنسبة لخطوط الطول ودوائر العرض يسمى :  
( الموقع الفلكي - الموقع النسبي - الموقع الجغرافي - الموقع التجاري )

• ليس مما يلي من عناصر المناخ:  
( الحرارة - الضغط - الأمطار - التصحر )

• تم صدور العملة الكويتية الجديدة في عهد الشيخ:  
( صباح الأول - صباح السالم الصباح - عبد الله السالم الصباح - أحمد الجابر الصباح )

• حصلت دولة الكويت على استقلالها عام:  
( ١٩٦٠ م - ١٩٦١ م - ١٩٦٢ م - ١٩٦٣ م )


السؤال الرابع: عرف المفاهيم التالية:

• الموقع الفلكي هو :

.....  
.....

• الموقع النسبي هو:

.....  
.....



• السرايات هي:

.....  
.....

• الكثبان الرملية هي:

.....  
.....

• خط الاستواء هو:

.....  
.....

• الطقس هو:

.....  
.....

• السبخات هي :

.....  
.....

• المناخ هو:

.....  
.....

• الدستور هو:

.....  
.....

• خط جرينتش هو:

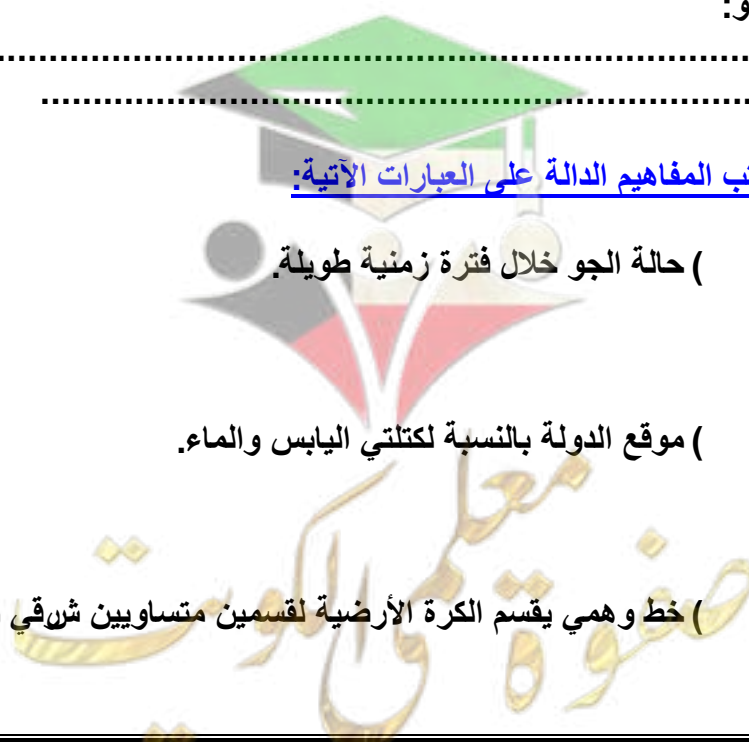
.....  
.....

السؤال الخامس اكتب المفاهيم الدالة على العبارات الآتية:

• ( ) حالة الجو خلال فترة زمنية طويلة.

• ( ) موقع الدولة بالنسبة لكتلتى اليابس والماء.

• ( ) خط وهمي يقسم الكرة الأرضية لقسمين متساويين شرفي وغربي.

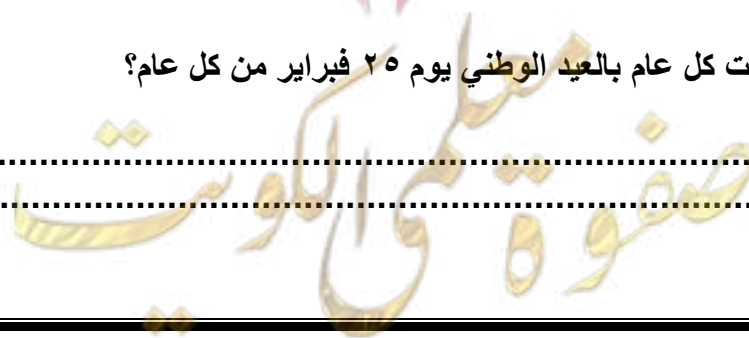


- ( ) موقع الدولة بالنسبة لخطوط الطول والعرض.
- ( ) تلال من الرمال تتراكم في الصحاري بفعل الرياح.
- ( ) هي أراض منخفضة قليلة المياه تنمو فيها النباتات الملحية.
- ( ) الإفراط في الرعي وهو أحد أسباب ظاهرة التصحر في دولة الكويت.
- ( ) مسؤولية الدولة بصورة مباشرة عن إدارة شؤونها الداخلية والخارج.
- ( ) عبارة عن وثيقة مكتوبة تتكون من مجموعة من المواد التي تنظم العلاقة بين الحاكم والمحكوم.
- ( ) حالة الجو خلال فترة زمنية قصيرة.
- ( ) إعطاء الدولة حق البحث والتنقيب عن النفط وبيعه لشركة أجنبية متخصصة.

**السؤال السادس: علل لما يلي ( اذكر السبب ) :**

- تميز العرب بعلوم الفلك؟

- تحتفل دولة الكويت كل عام بالعيد الوطني يوم ٢٥ فبراير من كل عام؟



- لخطوط الطول ودوائر العرض أهمية كبيرة؟

.....  
.....

- قلة الغطاء النباتي في دولة الكويت ؟

.....  
.....

- تسمية موسم المر بعانق بهذا الاسم ؟

.....  
.....

- انتشار ظاهرة التصحر في دولة الكويت ؟

.....  
.....

### السؤال السابع: صحح ما تحته خط بوضع الإجابة الصحيحة بين الأقواس:

- الجزيرة الكويتية التي تقع داخل جون الكويت هي جزيرة وربة (.....)
- المضيق الذي يصل بين الخليج العربي وخليج عمان هو مضيق باب المنذب. (.....)
- النبات الطبيعي الذي يكثر نموه في دولة الكويت هو نبات كحيل. (.....)
- تنخفض درجة الحرارة ويشتد البرد ٤٠ يوماً في موسم السهيل. (.....)
- تم افتتاح جامعة الكويت في عهد الشيخ عبدا لله السالم. (.....)
- موقع الدولة بالنسبة لخطوط الطول والعرض يسمى الموقع النسبي. (.....)

- حصلت دولة الكويت على الاستقلال في عهد الشيخ صباح السالم الصباح. (.....)
- تقع دولة الكويت بالنسبة للخليج العربي في جهة الشمال الشرقي. (.....)
- عدد أيام موسم سهيل ٤٠ يوم. (.....)
- الحاكم الذي وقع اتفاقية تأمين النفط هو الشيخ أحمد الجابر الصباح. (.....)
- يبلغ عدد أيام موسم المر بعانية ٢٥ يوم. (.....)
- أكبر القارات العالم مساحة هي قارة إفريقيا. (.....)
- تطل دولة الكويت على مسطح مائي يسمى خليج عمان. (.....)
- يتوسط ساحل دولة الكويت خليج صغير يعرف باسم خور عبدا لله. (.....)
- يظهر نبات الفقع في موسم الجوزاء. (.....)
- المضيق الذي يصل بين الخليج العربي وخليج عمان هو مضيق جبل طارق. (.....)
- الدولة العربية التي تجاور بلادي الكويت من جهة الشمال والشمال الغربي هي قطر. (.....)
- تم افتتاح أول مجلس أمة كويتي في عام ١٩٦٢م. (.....)

#### السؤال الثامن: صنف المظاهر التضاريسية الآتية حسب موقعها في الجدول.

اللياح - الدبدبة - أم نقا - الصبية - فيلكا - جال الزور - كراع المرو - بوبيان - الباطن

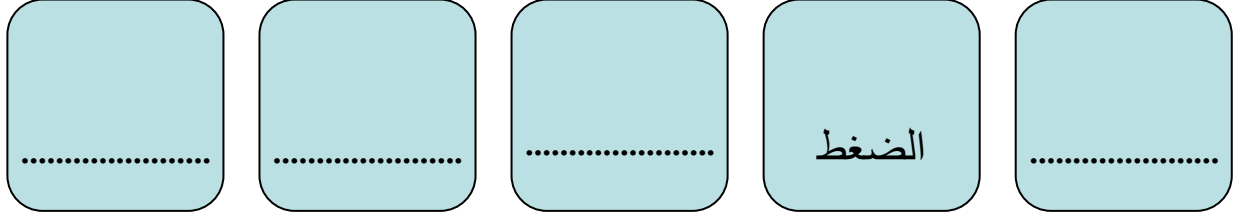
تلال	سهول	رؤوس	كثبان رملية	أودية	جزر

#### السؤال التاسع: أكمل المخططات السهمية الآتية:

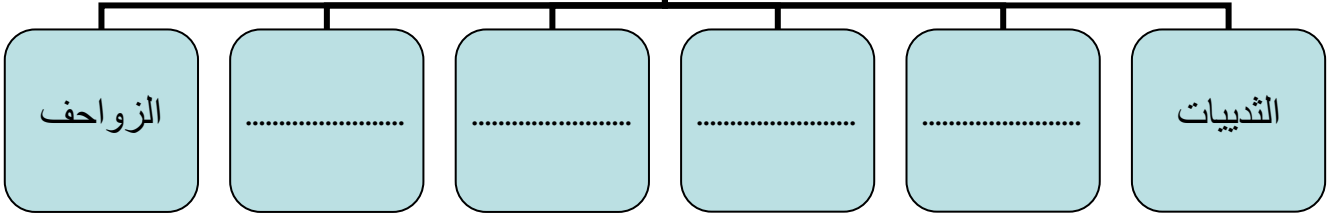
صفوة معلمى الكويت



## عناصر المناخ



## أنواع الحيوانات في دولة الكويت



## أسباب قلة النبات الطبيعي في دولة الكويت



السؤال العاشر: ( أ ) قارن بين النباتات الحولية الموسمية والنباتات الدائمة المعمرة :

المقارنة	النباتات الحولية	النباتات المعمرة
تعريفها		
أنواعها		

السؤال العاشر: (ب) صل من القائمة (أ) بما يناسبها من القائمة (ب) بوضع الرقم.

( أ )

( ب )

١	افتتاح المدرسة الأحمدية	١٩٦٦ م
٢	تصدير أول شحنة من النفط الكويتي	١٨٩٩ م
٣	اكتشاف حقل برقان	١٩٤٦ م
٤	إلغاء معاهدة الحماية (١٨٩٩ م)	١٩٢١ م
٥	افتتاح أول مجلس أمة	١٩٤٨ م
٦	افتتاح جامعة الكويت	١٩٣٦ م

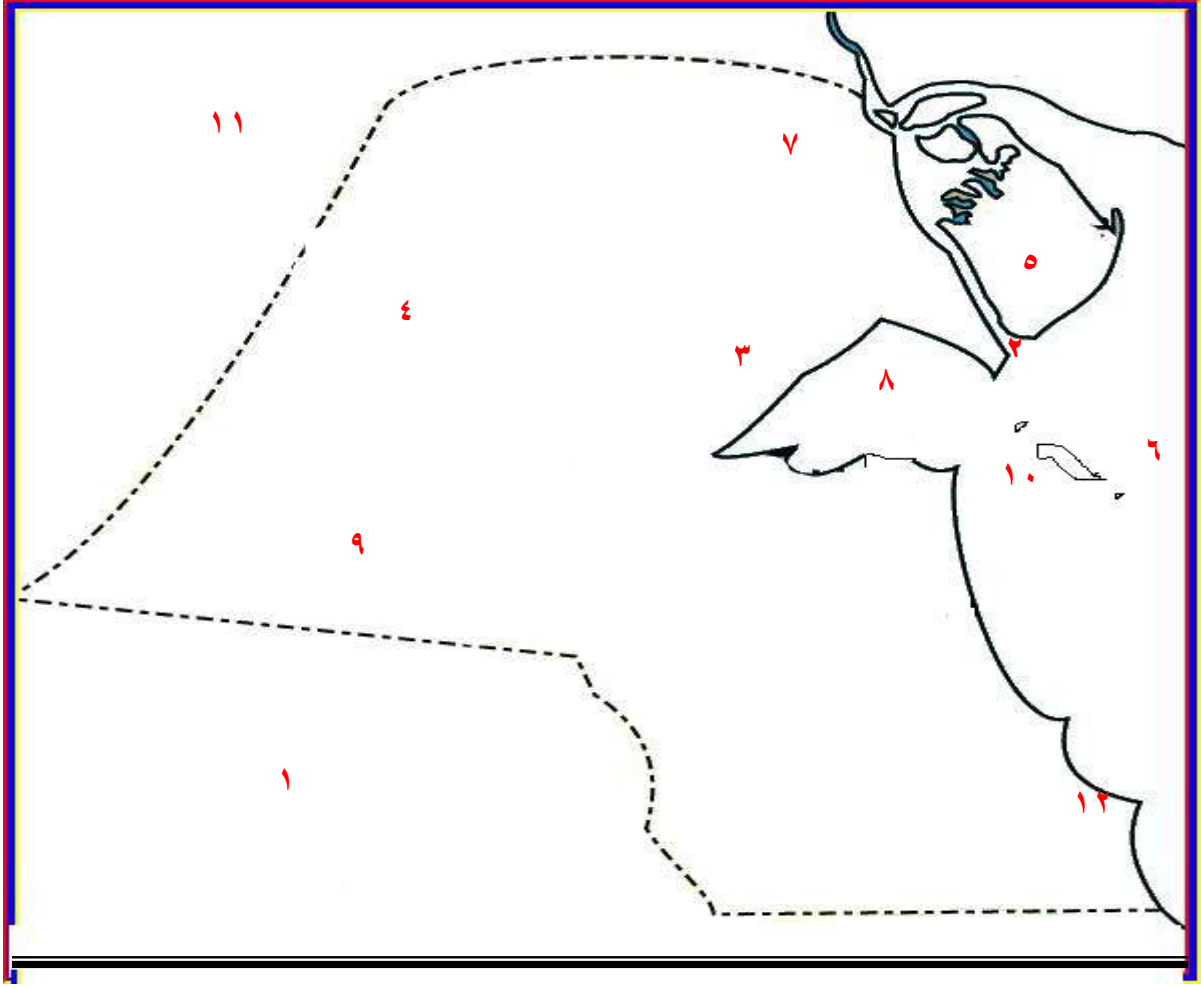
السؤال العاشر (ج) قارن بين خطوط الطول ودوائر العرض.

وجه المقارنة	خطوط الطول	دوائر العرض
عددتها		
أهميتها	تحديد .....	تحديد .....

السؤال الحادي عشر: على خريطة دولة الكويت حدد ما يلي:

١. دولة عربية تجاور دولة الكويت من جهة الجنوب والجنوب الغربي.
٢. خور يفصل أرض دولة الكويت عن جزيرة بوبيان.
٣. تلال توجد شمال جون الكويت مباشرة.
٤. وادي يقع في جهة الغرب من دولة الكويت.
٥. أكبر الجزر الكويتية مساحة.
٦. المسطح المائي الذي تطل عليه دولة الكويت.
٧. منطقة الكثبان الرملية.
٨. خليج صغير يتوسط ساحل دولة الكويت.
٩. سهل يقع في جهة الجنوب من دولة الكويت.
١٠. جزيرة كويتية تعرض سكانها للطرد أثناء الغزو العراقي.
١١. دولة عربية تجاور دولة الكويت من جهة الشمال والشمال الغربي.

١٢ . منطقة تكثر فيها السبخات.



السؤال الثاني عشر: ضع الأحداث التالية أمام كل حاكم حدثت في عهده:

اعداد الدستور الكويتي - تصدير أول شحنة من النفط - تأمين النفط - إلغاء المعاهدة مع بريطانيا  
افتتاح جامعة الكويت - افتتاح المدرسة الأحمدية.



..... ١  
..... ٢

صفوة معلمي الكويت



..... ١  
..... ٢

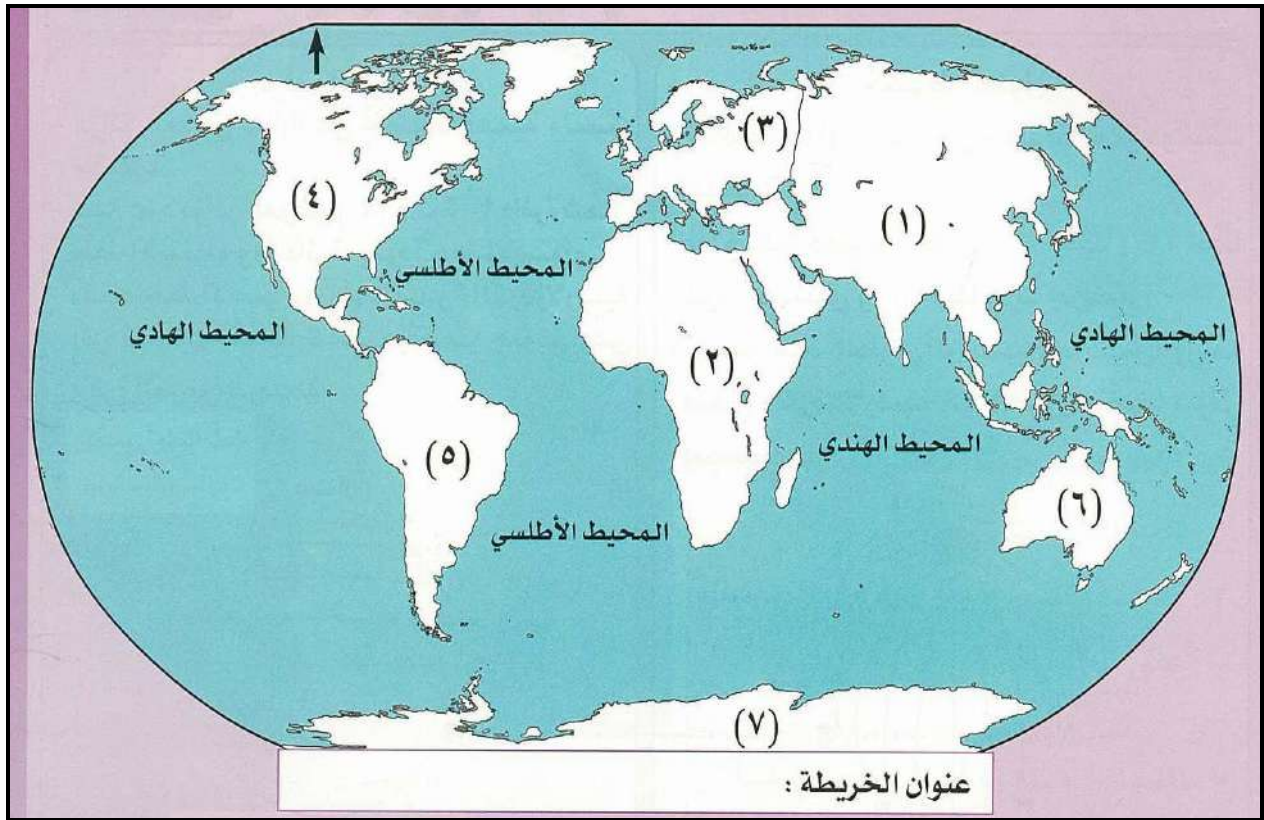


..... ١  
..... ٢

السؤال الثالث عشر: انظر الى الخريطة ثم اجب عن الأسئلة:



صفوة معلمى الكويت



- ١- ضع عنوانا للخريطة؟ .....
- ٢- ما أكبر القارات مساحة؟ .....
- ٣- ما أصغر القارات في العالم؟ .....
- ٤- دولة الكويت تقع في قارة تسمى؟ .....
- ٥- كم عدد قارات العالم؟ .....
- ٦- الرقم ( ١ ) يرمز لقارة تسمى.....
- ٧- الرقم ( ٥ ) يرمز لقارة تسمى.....
- ٨- الرقم ( ٣ ) يرمز لقارة تسمى.....
- ٩- الرقم ( ٦ ) يرمز لقارة تسمى.....
- ١٠- أكبر المحيطات يسمى.....
- ١١- لون قارة آسيا باللون الأحمر.

السؤال الرابع عشر الثب تحت كل صورة اسم النبات:

صفوة معلمى الكويت



صفتوة



صفتوة

معلمي الكويت  
صفوة

معتمديكم بالتوفيق والنجاح



صفوة معلمي الكويت