

2024/2023

العاشر

الاجتماعيات

اسئلة اختبارات
واجاباتها النموذجية

الفترة الثانية

مدير المدرسة
خالد البطي



ثانوية
سلمان الفارسي
بنين



وزارة التربية

التوجيه الفني العام للاجتماعيات

امتحان نهاية الفترة الدراسية الثانية

مقرر / تاريخ دولة الكويت

للفصل العاشر

العام الدراسي: ٢٠٢٢ / ٢٠٢٣ م

الزمن: ساعتان وربع

عدد الأوراق: (٣)

أجب عن جميع الاسئلة

السؤال الأول : موضوعي يتكون من (أ - ب - ج - د) :

(أ) أكمل العبارات التالية بما يناسبها فيما درست :

- ١- تقع مدينة صباح السالم الجامعية في منطقة تسمى
- ٢- المقيم السياسي البريطاني الذي ترأس مؤتمر الكويت عام ١٩١٦ م اسمه

(ب) ظلل الخيار الصحيح من بين الخيارات التي تلي كل عبارة مما يلي :

- ١- أحد نماذج المقاومة الكويتية المشرفة قتل فيها ١٢ شهيدا كويتيا في بيت:

الجهراء	كيفان	الطناس	القرين
---------	-------	--------	--------

- ٢- الحقل النفطي الذي أنتج النفط بكميات تجارية عام ١٩٣٨ م:

بحره	برقان	الرتقة	المناقيش
------	-------	--------	----------

(ج) صوب ما تحته خط في العبارات التالية بكتابة الإجابة الصحيحة في مكانها المناسب حسب الجدول:

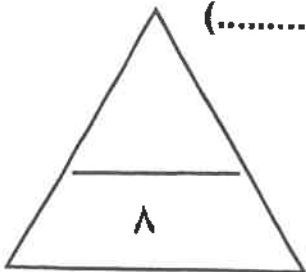
م	العبارة	التصويب
١	قام العراق قبل الانسحاب من الكويت بحرق عدد من الآبار النفطية تقدر ب ٨٣٨.	
٢	الحاكم الذي قام بإلغاء الضرائب على الصادرات هو الشيخ جابر بن مبارك.	

(د) اكتب المصطلح أو المفهوم الدال على العبارات التالية :

- ١- المنطق المتقاربة من بعضها بعضا ولها خصائص مشتركة حيث يفصل بينهما حدود طبيعية أو سياسية.

(.....)

- ٢- الاسم الذي أطلق على معركة تحرير دولة الكويت عام ١٩٩١ م. (.....)



صفوة معلم الكويت

السؤال الثاني : مقالى يتكون من (أ - ب - ج) :

(أ) عَرّف المفاهيم والمصطلحات التالية : (لكل سؤال درجة = ٣ درجات)

١- مجلس المعارف :

٢- التنمية المستدامة :

٣- البيروقراطية :

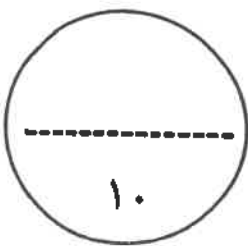
(ب) قارن بين كل من :

وجه المقارنة	مجلس الشورى	المجلس البلدي
تاريخ الإنشاء
أبرز المهام

(ج) اكتب اثنين فيما يلى :

١- الأحداث المهمة في عهد الشيخ سالم بن مبارك الصباح .

٢- الهدف من مشروع مركز الشيخ جابر الأحمد الثقافي (دار الأوبرا).



السؤال الثالث : مقال يتكون من (أ – ب – ج) :

(أ) اقرأ الفقرة التالية ثم أجب عما يليها من أسئلة :

تشكل الدساتير أهمية كبرى في حياة الأوطان والأمم، وذلك لطبيعة المهام التي تنظمها، إذ إنها تحدد المفاصل المهمة في الدولة ، وتحدد صلاحيات كل سلطة من السلطات الثلاث، وتفتخر الكويت وشعبها بإقرار دستور دائم وهو وثيقة تنظم علاقة الحاكم والمحكوم والذي تمت الموافقة عليه بتاريخ ١١ نوفمبر عام ١٩٦٢م في عهد الشيخ عبدالله السالم ويتكون من ١٨٣ مادة ومن أهم المواد المادة الأولى وهي " أن الكويت دولة عربية ذات سيادة تامة ، وشعب الكويت جزء من الأمة العربية ولغتها الرسمية هي اللغة العربية.

١- استخراج من الفقرة السابقة ما يلي:

أ - كم عدد مواد الدستور الكويتي. درجة

ب - أذكر المادة الأولى من الدستور الكويتي. درجة

ج- ما هي أهمية الدساتير في حياة الأوطان والأمم. درجتان

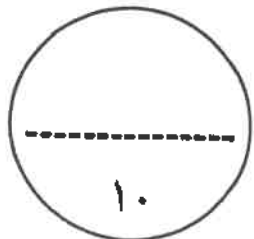
(ب) فرّق بين كل مما يلي :

السبب المعين للمراسلات الكويتية- العراقية عام ١٩٣٢م	السبب غير المعين للمراسلات الكويتية – العراقية عام ١٩٣٢م
.....
.....

(ج) علل لما يلي :

١- أهمية مشروع ميناء (ميناء مبارك الكبير) .

٢- الأهمية التاريخية للجزر الكويتية .



انتهت الأسئلة ،،،،

صفوة معلمي الكويت



وزارة التربية

التوجيه الفني العام للاجتماعيات

امتحان نهاية الفترة الدراسية الثانية

مقرر / تاريخ دولة الكويت

للسف العاشر

"نموذج الإجابة"

العام الدراسي: ٢٠٢٢ / ٢٠٢٣ م

الزمن: ساعتان وربع

عدد الأوراق: (٣)

أجب عن جميع الاسئلة

السؤال الأول: موضوعي يتكون من (أ - ب - ج - د) : (لكل سؤال درجة = ٨ درجات)

(أ) أكمل العبارات التالية بما يناسبها فيما درست :

١- تقع مدينة صباح السلم الجامعية في منطقة تسمى الشداية ص ١٦٦

٢- المقيم السياسي البريطاني الذي ترأس مؤتمر الكويت عام ١٩١٦ م اسمه برسي كوكس ص ١٠٩

(ب) ظلل الخيار الصحيح من بين الخيارات التي تلي كل عبارة مما يلي :

١- أحد نماذج المقاومة الكويتية المشرفة قتل فيها ١٢ شهيدا كويتيا في بيت: ص ١٥٠

الجزء	كيفان	الفنطاس	القارون
-------	-------	---------	---------

٢- الحقل النفطي الذي أنتج النفط بكميات تجارية عام ١٩٢٨ م: ص ١١٣

بحره	المرجان	الرتقه	المنقش
------	---------	--------	--------

(ج) صوب ما تحته خط في العبارات التالية بكتابة الإجابة الصحيحة في مكانها المناسب حسب الجدول:

م	العبارة	التصويب
١	قام العراق قبل الانسحاب من الكويت بحرق عدد من الآبار النفطية تقدر ب <u>٨٣٨</u> .	٧٣٧ ص ١٥٣
٢	الحاكم الذي قام بإلغاء الضرائب على الصادرات هو <u>الشيخ جابر بن مبارك</u> .	سالم بن مبارك ص ١١٠

(د) اكتب المصطلح أو المفهوم الدال على العبارات التالية :

١- المنطق المتقاربة من بعضها بعضا ولها خصائص مشتركة حيث يفصل بينهما حدود طبيعية أو سياسية.

(الجوار الجغرافي) ص ١٣٩

٢- الاسم الذي أطلق على معركة تحرير دولة الكويت عام ١٩٩١ م. (عاصفة الصحراء) ص ١٥١

التربية



وزارة

1

التوجيه الفني العام للاجتماعيات

السؤال الثاني : مقالي يتكون من (أ - ب - ج) :

(أ) عرّف المفاهيم والمصطلحات التالية : (لكل سؤال درجة = ٣ درجات)

١- مجلس المعارف : هو مجلس مهمته الإشراف على تأسيس المدارس والإنفاق عليها وتوجيهها ، وتمت دعوة خمسين نائب من أهالي الكويت لانتخاب أعضاء المجلس . ص ١١٢

٢- التنمية المستدامة : عملية تطوير الأرض والمدن والمجتمعات و الأعمال التجارية لتلبية احتياجات الحاضر دون المساس بقدرة الأجيال القادمة على تلبية حاجاتها . ص ١٥٧

٣- البيروقراطية : تطبيق القوانين بالقوة في المجتمعات المنظمة ، حيث تعتمد على الإجراءات الموحدة وتوزيع المسؤوليات بطريقة هرمية . ص ١٦٠

(ب) قارن بين كل من :

وجه المقارنة	مجلس الشورى	المجلس البلدي
تاريخ الإنشاء	١٩٢١ م. ص ١١٢ (نصف درجة)	١٩٣٠ م. ص ١١٢ (نصف درجة)
أبرز المهام	إسداء الرأي والنصح والمشاركة في القرار ص ١١٢ (درجة)	إدارة أمور التنظيم الداخلي للكويت من أسواق وأمور النظافة العامة. ص ١١٢ (درجة)

(ج) اكتب اثنين فيما يلي :

١- الأحداث المهمة في عهد الشيخ سالم بن مبارك الصباح . ص ١١١ (درجتان)

- حرب الجهراء في أكتوبر ١٩٢٠ م. - معركة حمض مايو ١٩٢٠ م.

- بناء السور الثالث الذي شيد من أجل حماية الكويت من أي هجوم بري.

٢- الهدف من مشروع مركز الشيخ جابر الأحمد الثقافي (دار الأوبرا) . ص ١٦٤ (درجتان)

- ليكون صرحاً ثقافياً ينعكس إيجاباً على تعزيز مكانة دولة الكويت الثقافية.

- تسليط الضوء على الفنون المسرحية . - خلق عالم مسرحي داخل مساحات خضراء فسيحة.

- جذب الرواد من مختلف الفنون من كل أنحاء العالم ليكون مبعثاً للفخر والاعتزاز للكويت دولة وشعباً.



السؤال الثالث : مقالتي يتكون من (أ - ب - ج) :

(أ) اقرأ الفقرة التالية ثم أجب عما يليها من أسئلة :

تشكل الدساتير أهمية كبرى في حياة الأوطان والأمم، وذلك لطبيعة المهام التي تنظمها، إذ إنها تحدد المفاصل المهمة في الدولة، وتحدد صلاحيات كل سلطة من السلطات الثلاث، وتفتخر الكويت وشعبها بإقرار دستور دائم وهو وثيقة تنظم علاقة الحاكم والمحكوم والذي تمت الموافقة عليه بتاريخ ١١ نوفمبر عام ١٩٦٢م في عهد الشيخ عبدالله الصالم ويتكون من ١٨٣ مادة ومن أهم المواد المادة الأولى وهي " أن الكويت دولة عربية ذات سيادة تامة، وشعب الكويت جزء من الأمة العربية ولغتها الرسمية هي اللغة العربية.

- استخرج من الفقرة السابقة ما يلي:

أ - كم عدد مواد الدستور الكويتي. درجة

- ١٨٣ مادة دستورية.

ب - أذكر المادة الأولى من الدستور الكويتي. درجة

- أن الكويت دولة عربية ذات سيادة تامة، وشعب الكويت جزء من الأمة العربية ولغتها الرسمية هي اللغة العربية.

ج- ما هي أهمية الدساتير في حياة الأوطان والأمم. درجتان

- لطبيعة المهام التي ينظمها الدستور والذي يحدد المفاصل المهمة للدولة.

- لأن الدستور يحدد صلاحيات كل سلطة من السلطات الثلاث.

(ب) فَرِّق بين كل مما يلي :

السبب المعن للمراسلات الكويتية- العراقية عام ١٩٣٢م ص ١٤٠ (درجة)	السبب المعن للمراسلات الكويتية- العراقية عام ١٩٣٢م ص ١٤٠ (درجة)
رغبة العراق في الدخول في عضوية عصبة الأمم المتحدة، الأمر الذي يتطلب إبراز حدودها مع جيرانها كدولة مستقلة.	اعتراف العراق رسميا بحدوده مع دولة الكويت .

(ج) علل لما يلي :

١- أهمية مشروع ميناء (ميناء مبارك الكبير) . ص ١٦٩ (درجتان) يكتفى بنقطتين

بسبب مساهمة المشروع في انفتاح البلاد تجاريا واقتصاديا . - يدعم خطة المواصلات والمنافذ.

- سيشكل ميناء مبارك الكبير بعد إنشائه نقلة نوعية في قطاع تجارة الترانزيت . .

- خطوة مهمة في العودة مرة أخرى لإحياء طريق الحرير من خلال بوابة الكويت من شمال الخليج

٢- الأهمية التاريخية للجزر الكويتية . ص ١٧٢ (درجتان) يكتفى بنقطتين .

- محطة أساسية في حركة التجارة من آلاف السنين.

- ارتبطت بأقدم الحضارات التاريخية .

- وجودها وسط أكثر من ١٥٠ مليون نسمة ضمن سوق اقتصادي ضخم جدا.

- موقع جغرافي يتوسط خطوط التجارة بين قارات العالم القديم (آسيا وأوروبا وأفريقيا).

انتهت الأسئلة ،،،،



وزارة التربية

التوجيه الفني العام للاجتماعيات

امتحان الدور الثاني (الفترة الدراسية الثانية)

العام الدراسي: 2022 / 2023م

مقرر / تاريخ دولة الكويت

الزمن: ساعتان وربع

للفص العاشر

عدد الأوراق : (3)

اجب عن جميع الاسئلة

السؤال الأول : موضوعي يتكون من (أ - ب - ج - د) :

(أ) أكمل العبارات التالية بما يناسبها فيما درست :

- 1- الحقل النفطي الذي أنتج النفط بكميات تجارية عام 1938م يسمى
- 2- الوكيل السياسي البريطاني بالكويت عام 1920م اسمه

(ب) ظلل الخيار الصحيح من بين الخيارات التي تلي كل عبارة مما يلي :

- 1- المقر المؤقت للحكومة الكويتية في المملكة العربية السعودية في مدينة :

الطائف	جده	الرياض	الدمام
--------	-----	--------	--------

- 2- المجلس الذي تولى الاشراف على تأسيس المدارس والاتفاق عليها وتوجيهها عام 1936م:

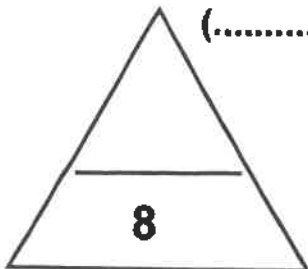
المجلس التشريعي	مجلس المعارف	المجلس البلدي	المجلس التأسيسي
-----------------	--------------	---------------	-----------------

(ج) صوب ما تحته خط في العبارات التالية بكتابة الإجابة الصحيحة في مكانها المناسب حسب الجدول:

م	العبارة	التصويب
1	تشغل دولة الكويت في منظمة هيئة الأمم المتحدة العضوية رقم 222.	
2	الحاكم الذي قام بإلغاء الضرائب على الصادرات هو الشيخ جابر بن مبارك.	

(د) اكتب المصطلح أو المفهوم الدال على العبارات التالية :

- 1- تطبيق القوانين بالقوة في المجتمعات المنظمة حيث تعتمد على الإجراءات الموحدة وتوزيع المسؤوليات بطريقة هرمية. (.....)
- 2- الاسم الذي أطلق على معركة تحرير دولة الكويت عام 1991م. (.....)



صفوة معلم الكويت

السؤال الثاني : مقالى يتكون من (أ - ب - ج) :

(أ) عرّف المفاهيم والمصطلحات التالية :

١- النفايات الصلبة :

٢- التنمية المستدامة :

٣- صندوق الكويت للتنمية :

(ب) قارن بين كل من :

وجه المقارنة	مجلس الشورى	المجلس البلدى
تاريخ الإنشاء
أبرز المهام

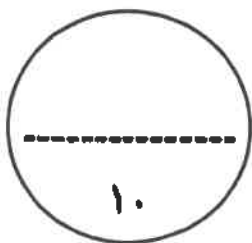
(ج) اكتب اثنين فيما يلى :

١- ركائز صناعة مستقبل الكويت الجديدة.

.....
.....

٢- أهم الأحداث في المجال الاقتصادي في عهد الشيخ أحمد الجابر.

.....
.....



السؤال الثالث : مقالي يتكون من (أ - ب - ج) :

(أ) اقرأ الفقرة التالية ثم أجب عما يليها من أسئلة :

بعد قيام الكويت بإعلان استقلالها في تاريخ ١٩ يونيو ١٩٦١م لم يمهل رئيس وزراء العراق عبدالكريم قاسم الشعب الكويتي بالتمتع بهذه الفرحة ، حيث أعلن في مؤتمر صحفي مطالبته بضم الكويت للعراق ، وترجع أسباب هذه المطالبات إلى طمع عبدالكريم قاسم بالنفط الكويتي والبطالة التي كان يعاني منها الشعب العراقي مع الاستياء العارم من السياسات الداخلية وحاجة العراق إلى موانئ بحرية ، واستمر العراق بين الحين والآخر في تهديد دولة الكويت ، وخير دليل على ذلك أزمة الصامته والتي تعرف بهجوم القوات العراقية على مركز الصامته الحدودي التابع لدولة الكويت عام ١٩٧٣م.

١- استخرج من الفقرة السابقة ما يلي:

أ - ما المقصود بـ " أزمة الصامته "

.....

ب - أسباب مطالبات عبدالكريم قاسم بدولة الكويت.

.....

.....

.....

(ب) فرّق بين كل مما يلي :

المادة الثانية من الدستور الكويتي	المادة الأولى من الدستور الكويتي
.....
.....

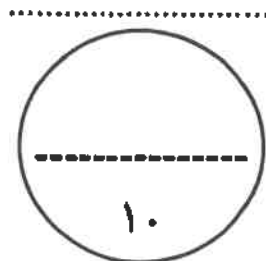
(ج) علل لما يلي :

١- أهمية الدساتير في حياة الأوطان والأمم .

.....

٢- الأهمية التاريخية للجزر الكويتية .

.....



انتهت الأسئلة ،،،

صفوة معلمي الكويت



العام الدراسي: ٢٠٢٢/ ٢٠٢٣ م

الزمن: ساعتان وربع

عدد الأوراق: (٣)

امتحان نهاية الفترة الدراسية الثانية

مقرر / تاريخ دولة الكويت

للسف العاشر

التوجيه الفني العام للاجتماعيات

"نموذج الإجابة"

أجب عن جميع الاسئلة

السؤال الأول: موضوعي يتكون من (أ - ب - ج - د) : (لكل سؤال درجة = ٨ درجات)

(أ) أكمل العبارات التالية بما يناسبها فيما درست :

- ١- الحقل النفطي الذي أنتج النفط بكميات تجارية عام ١٩٣٨ م يسمى حقل برقان. ص ١١٣
- ٢- الوكيل السياسي البريطاني بالكويت عام ١٩٢٠ م اسمه مالكولم. ص ١١١

(ب) ظل الخيار الصحيح من بين الخيارات التي تلي كل عبارة مما يلي :

- ١- المقر المؤقت للحكومة الكويتية في المملكة العربية السعودية في مدينة : ص ١٤٦

النمام	الرياض	جده	الطائف
--------	--------	-----	--------

- ٢- المجلس الذي تولى الاشراف على تأسيس المدارس والإنفاق عليها وتوجيهها عام ١٩٣٦ م: ص ١١٢

المجلس التشريعي	مجلس المعارف	المجلس البلدي	المجلس التأسيسي
-----------------	--------------	---------------	-----------------

(ج) صوب ما تحته خط في العبارات التالية بكتابة الإجابة الصحيحة في مكانها المناسب حسب الجدول:


م	العبارة	التصويب
١	تشغل دولة الكويت في منظمة هيئة الأمم المتحدة العضوية رقم ٢٢٢.	١١١ ص ١٣٠
٢	الحاكم الذي قام بإلغاء الضرائب على الصادرات هو الشيخ جابر بن مبارك.	سالم بن مبارك ص ١١٠

(د) اكتب المصطلح أو المفهوم الدال على العبارات التالية :

- ١- تطبيق القوانين بالقوة في المجتمعات المنظمة حيث تعتمد على الإجراءات الموحدة وتوزيع المسؤوليات بطريقة هرمية. (البيروقراطية) ص ١٦٠
- ٢- الاسم الذي أطلق على معركة تحرير دولة الكويت عام ١٩٩١ م. (عاصفة الصحراء) ص ١٥١

صفحة من الكورس

١٤٤٤ هـ



تابع / نموذج الإجابة لامتحان نهاية الفترة الدراسية الثانية - مقرر تاريخ دولة الكويت - للصف العاشر - العام الدراسي ٢٠٢٢ / ٢٠٢٣ م

السؤال الثاني : مقالي يتكون من (أ - ب - ج) :

(أ) عرّف المفاهيم والمصطلحات التالية : (لكل سؤال درجة = ٣ درجات)

١- النفايات الصلبة : مخلفات صلبة وشبه صلبة تنتج من مختلف القطاعات مثل (المواد البلاستيكية والأوراق والزجاج والأخشاب) وهي تعد من أخطر أنواع النفايات على البيئة . ص١٦٨

٢- التنمية المستدامة : عملية تطوير الأرض والمدن والمجتمعات و الأعمال التجارية لتلبية احتياجات الحاضر دون المساس بقدرة الأجيال القادمة على تلبية حاجاتها . ص١٥٧

٣- صندوق الكويت للتنمية : أول مؤسسة إتمانية في الشرق الأوسط تقوم بالمساهمة في تحقيق الجهود الإتمانية والاقتصادية للدول العربية والدول الأخرى النامية. ص١٢٠

(ب) قارن بين كل من :

وجه المقارنة	مجلس الشورى	المجلس البلدي
تاريخ الإنشاء	١٩٢١م. ص ١١٢ (نصف درجة)	١٩٣٠م. ص ١١٢ (نصف درجة)
أبرز المهام	اسداء الرأي والنصح والمشاركة في القرار ص ١١٢ (درجة)	إدارة أمور التنظيم الداخلي للكويت من أسواق وأمور النظافة العامة. ص ١١٢ (درجة)

(ج) اكتب اثنين فيما يلي :

١- ركائز صناعة مستقبل الكويت الجديدة. ص ١٥٩ - ١٦١ (درجتان)

- مكانة دولية متميزة .
- رأس مال بشري ابداعي.
- رعاية صحية عالية الجودة .
- بنية تحتية متطورة.
- إدارة حكومية فاعلة.
- اقتصاد متنوع مستدام.

٢- أهم الأحداث في المجال الاقتصادي في عهد الشيخ أحمد الجابر. ص ١١٣ (درجتان)

- تأسيس شركة نفط الكويت. - بداية اكتشاف النفط وتصديره. - انهيار تجارة اللؤلؤ عام ١٩٢٨م.



وزارة التربية
التوجيه الفني العام للإجتماعيات

صفوة معلمى الكويت

السؤال الثالث : مقالي يتكون من (أ - ب - ج) :

(أ) اقرأ الفقرة التالية ثم أجب عما يليها من أسئلة :

بعد قيام الكويت بإعلان استقلالها في تاريخ ١٩ يونيو ١٩٦١م لم يمهل رئيس وزراء العراق عبدالكريم قاسم الشعب الكويتي بالتمتع بهذه الفرحة ، حيث أعلن في مؤتمر صحفي مطالبته بضم الكويت للعراق ، وترجع أسباب هذه المطالبات إلى طمع عبدالكريم قاسم بالنفط الكويتي والبطالة التي كان يعاني منها الشعب العراقي مع الاستياء العارم من السياسات الداخلية وحاجة العراق إلى موانئ بحرية ، واستمر العراق بين الحين والآخر في تهديد دولة الكويت ، وخير دليل على ذلك أزمة الصامته والتي تعرف بهجوم القوات العراقية على مركز الصامته الحدودي التابع لدولة الكويت عام ١٩٧٣م.

١- استخراج من الفقرة السابقة ما يلي:

أ - ما المقصود بـ " أزمة الصامته " . درجة ص ١٤٢

- هجوم القوات العراقية على مركز الصامته الحدودي التابع لدولة الكويت عام ١٩٧٣ م .

ب - أسباب مطالبات عبدالكريم قاسم بدولة الكويت. ثلاث درجات ص ١٤٢

- طمع عبدالكريم قاسم بالنفط الكويتي.

- البطالة التي يعاني منها الشعب العراقي مع الاستياء العارم للسياسات الداخلية.

- حاجة العراق إلى موانئ بحرية.

(ب) فرّق بين كل مما يلي :

المادة الأولى من الدستور الكويتي ص ١١٩ (درجة)	المادة الثانية من الدستور الكويتي ص ١١٩ (درجة)
أن الكويت دولة عربية ذات سيادة تامة ، وشعب الكويت جزء من الأمة العربية ولغتها الرسمية هي اللغة العربية.	أن الدين الرسمي للدولة هو الإسلام وأن الشريعة الإسلامية مصدر رئيسي للتشريع.

(ج) علل لما يلي :

١- أهمية الدساتير في حياة الأوطان والأمم . ص ١١٨ (درجتان)

- بسبب طبيعة المهام التي ينظمها الدستور والذي يحدد المفاصل المهمة للدولة.

- لأن الدستور يحدد صلاحيات كل سلطة من السلطات الثلاث.

٢- الأهمية التاريخية للجزر الكويتية . ص ١٧٢ (درجتان) يكتفي بنقطتين .

- محطة أساسية في حركة التجارة من آلاف السنين . ارتبطت بأقدم الحضارات التاريخية .

- وجودها وسط أكثر من ١٥٠ مليون نسمة ضمن سوق اقتصادي ضخم جدا .

- موقع جغرافي يتوسط خطوط التجارة بين قارات العالم القديم (آسيا وأوروبا وأفريقيا) .



التربية

وزارة

انتهت الأسئلة ،،،

امتحان نهاية الفترة الدراسية الثانية

العام الدراسي (٢٠٢١ / ٢٠٢٢ م)

الزمن : ساعتين وربع

عدد الأوراق : (٣)



وزارة التربية

التوجيه الفني العام للاجتماعيات

(أجب عن جميع الأسئلة)

السؤال الأول / الموضوعي ويتكون من (أ - ب) :

(أ) أكمل العبارات التالية بما يناسبها فيما درست :

١- التجارة التي انهارت في الكويت عام ١٩٢٨ م تسمى

٢- حدثت معركة الجهراء في الكويت عام

٣- صاحب فكرة إنشاء مجلس التعاون الخليجي عام ١٩٨١م الشيخ

٤- يطلق على الحرب البرية لتحرير دولة الكويت عام ١٩٩١م اسم

(ب) ضع خطأ تحت الخيار الصحيح من بين الخيارات التي تلي كل عبارة:

١- دولة قدمت لها دولة الكويت مساعدات إغاثة بعد تعرضها لإعصار سيدر :

اليابان - بنغلاديش - الفلبين - تركيا

٢- المعركة الشهيرة التي وقعت بين المقاومين الكويتيين وبين جنود الغزو العراقي في ٢٤ فبراير ١٩٩١م:

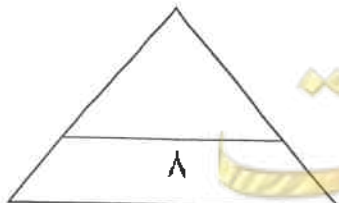
بيت القرين - بيت كيفان - قصر دسمان - قصر بيان

٣- يبلغ عدد مواد الدستور الكويتي :

١٨٠ مادة - ١٨١ مادة - ١٨٢ مادة - ١٨٣ مادة

٤- الشيخ الذي تم في عهده استحداث نظام التجنيد الإلزامي:

سالم بن مبارك الصباح - أحمد الجابر الصباح - عبدالله السالم الصباح - صباح السالم الصباح



صفوة معلمي الكويت

تابع / امتحان نهاية الفترة الدراسية الثانية لمقرر (تاريخ دولة الكويت) للصف العاشر- العام الدراسي (٢٠٢١/٢٠٢٢ م)

السؤال الثاني ويتكون من (أ - ب - ج)

(أ) عرف ما يلي :

١- الجوار الجغرافي:

.....

٢- التنمية المستدامة :

.....

٣- البيروقراطية:

.....

(ب) دلل على صحة العبارات التالية :

١- تأثر دولة الكويت بالحرب العراقية الإيرانية (١٩٨٠م - ١٩٨٨م) .

.....

٢- ارتبطت دولة الكويت بالعراق منذ القدم بعلاقات اقتصادية واجتماعية قديمة.

.....

٣- واجه الشيخ احمد الجابر الصباح العديد من الملفات والقضايا الخارجية المهمة عند توليه الحكم .

.....

(ج) أكتب عن :

١- أزمة الصامته عام ١٩٧٣ م .

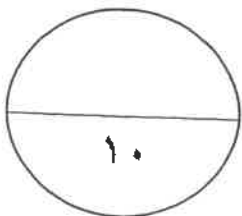
.....

.....

٢- أبرز إنجازات الشيخ جابر الأحمد الصباح الداخلية .


.....

.....



صفوة معلمي الكويت

تابع / امتحان نهاية الفترة الدراسية الثانية لمقرر (تاريخ دولة الكويت) للصف العاشر. العام الدراسي (٢٠٢١/٢٠٢٢ م)



السؤال الثالث ويتكون من (أ - ب - ج)

(أ) لاحظ الصورة المقابلة ثم أجب عما يلي :-

١- ماذا تمثل الصورة التي أمامك ؟

٢- ما اللقب الذي أطلق على الشيخ عبدالله السالم الصباح؟

٣- أذكر سبب تأخر انضمام دولة الكويت إلى منظمة الأمم المتحدة حتى عام ١٩٦٣ م.

(ب) نفذ المطلوب منك فيما بين القوسين :-

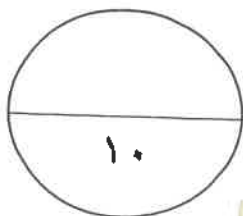
١- الاتجاهات الاستراتيجية لرؤية مستقبل دولة الكويت. (أذكرها)

٢- إنشاء مبنى جامعي جديد في مدينة صباح السالم. (الأهداف)

(ج) علل لما يلي :-

١- للكويت دوراً بارزاً في دعم القضايا العربية في عهد الشيخ صباح السالم الصباح .

٢- تشكل الدساتير أهمية كبرى في حياة الأوطان والأمم .



" انتهت الأسئلة "

صفوة المعلمي الكويت

امتحان نهاية الفترة الدراسية الثانية

العام الدراسي (٢٠٢٢/٢٠٢١ م)

الزمن : ساعتين وربع

عدد الأوراق : (٣)

لمقرر / تاريخ دولة الكويت

(للصف العاشر)

نموذج الإجابة



وزارة التربية

التوجيه الفني العام للاجتماعيات

السؤال الأول / الموضوعي ويتكون من (أ- ب) : (٨ درجات)

(أ) أكمل العبارات التالية بما يناسبها فيما درست :

١- التجارة التي انتهت في الكويت عام ١٩٢٨ م تسمى تجارة اللؤلؤ ص ١١٣

٢- حدثت معركة الجهراء في الكويت عام ١٩٢٠ م ص ١١١

٣- صاحب فكرة إنشاء مجلس التعاون الخليجي عام ١٩٨١م الشيخ جابر الأحمد الصباح ص ١٢٤

٤- يطلق على الحرب البرية لتحرير دولة الكويت عام ١٩٩١م اسم عاصفة الصحراء أو معركة تحرير الكويت ص ١٥١

(ب) ضع خطأ تحت الخيار الصحيح من بين الخيارات التي تلي كل عبارة:

١- دولة قدمت لها دولة الكويت مساعدات إغاثة بعد تعرضها لإعصار سيدون ص ١٣٠

اليابان - بنجالديش - الفلبين - تركيا

٢- المعركة الشهيرة التي وقعت بين المقاومين الكويتيين وبين جنود الغزو العراقي في ٢٤ فبراير ١٩٩١م:

بيت القرين - بيت كيفان - قصر دسمان - قصر بيان ص ١٥٧

٣- يبلغ عدد مواد الدستور الكويتي : ص ١١٩

١٨٠ مادة - ١٨١ مادة - ١٨٢ مادة - ١٨٣ مادة

٤- الشيخ الذي تم في عهده استحداث نظام التجنيد الإلزامي: ص ١٢١

- سالم بن مبارك الصباح - أحمد الجابر الصباح - عبدالله السالم الصباح - صباح السالم الصباح



التربية



وزارة

التوجيه الفني العام للاجتماعيات

السؤال الثاني ويتكون من (أ / ب / ج)

(٣ درجات) .

(أ) عرف ما يلي :

- ١- الجوار الجغرافي : المناطق المتقاربة من بعضها بعضاً ولها خصائص مشتركة ويفصل بينهما حدود طبيعية أو سياسية . ص ١٣٩
- ٢- التنمية المستدامة : عملية تطوير الأرض والمدن والمجتمعات والأعمال التجارية لتلبية احتياجات الحاضر دون المساس بقدرة الأجيال القادمة على تلبية حاجاتها . ص ١٥٧
- ٣- البيروقراطية : تطبيق القوانين بالقوة في المجتمعات المنظمة حيث تعتمد على الإجراءات الموحدة وتوزيع المسؤوليات بطريقة هرمية . ص ١٦٠

(ب) دلل على صحة العبارات التالية :

- ١- تأثر دولة الكويت بالحرب العراقية الإيرانية (١٩٨٠ م - ١٩٨٨ م) . ص ١٢٥ (درجة)
 - تعرض سفن دولة الكويت الحاملة للبتروال للعدوان
 - ٢ - ارتبطت دولة الكويت بالعراق منذ القدم بعلاقات اقتصادية واجتماعية قديمة . ص ١٣٩ (درجة ويكتفى بنقطة)
 - كان الكويتيين يجلبون الماء من شط العرب .
 - تملك الكويتيين أرض زراعية في العراق وقاموا أيضا بلحياها أراضي شاسعة امتدت الى منطقة الفاو .
 - علاقات المصاهرة والنسب والروابط الاجتماعية المختلفة الأخرى
 - ٣- واجه الشيخ أحمد الجابر الصباح العديد من الملفات والقضايا الخارجية المهمة عند توليه الحكم . ص ١١١
 - مشكلة الحدود والمسألة مع السعوديين (المملكة العربية السعودية لاحقاً) . (درجة ويكتفى بنقطة)
 - معالجة علاقات الكويت مع العراق .
 - الحذر في المعاملة مع بريطانيا حيث لم ينصفوا دولة الكويت في معاهدة التحرير عام ١٩٢٢ م .

(ج) أكتب عن :

- ١- أزمة الصامته عام ١٩٧٣ م . ص ١٤٢ (درجتان)
 - هاجمت القوات العراقية مركز الصامته الحدودي التابع لدولة الكويت - توغلت لمسافة ٣ كيلو متراً داخل الأراضي الكويتية، - استشهد عدد من العاملين في المركز من الكويتيين، وذلك في عهد حاكم الكويت الشيخ صباح السالم الصباح .
- ٢- أبرز إنجازات الشيخ جابر الأحمد الصباح الداخلية . ص ١٢٤ (يكتفى بنقطتين)
 - مؤسسة الكويت للتقدم العلمي .
 - الهيئة العامة لشؤون القصر .
 - حقوق المرأة السياسية .
 - إنشاء صندوق احتياطي الأجيال القادمة .
 - صندوق الكويت للتنمية .

وزارة



التربية

التوجيه الفني العام للإجتماعيات



السؤال الثالث ويتكون من (أ / ب / ج)

(أ) لاحظ الصورة المقابلة ثم أجب عما يلي :- ص (١١٧/١١٨)



١- ماذا تمثل الصورة التي أمامك ؟ (درجة)

- توقيع الشيخ عبدالله السالم على اتفاقية الصداقة والتشاور مع بريطانيا

- أو حسب ما يراه المصحح

٢- ما اللقب الذي أطلق على الشيخ عبدالله السالم الصباح؟ (درجة)

- أبو الدستور ، أبو الاستقلال

٣- أذكر سبب تأخر انضمام دولة الكويت إلى منظمة الأمم المتحدة

حتى عام ١٩٦٣ (درجة)

- بسبب موقف الاتحاد السوفيتي سابقاً- الداعم لمطالب

حاكم العراق آنذاك رئيس الوزراء العراقي عبدالكريم قاسم .

(ب) نفذ المطلوب منك فيما بين القوسين :-

١- الاتجاهات الاستراتيجية لرؤية مستقبل دولة الكويت. (أنكرها) ص ١٥٨ (ثلاثة درجات ويكتفى بثلاث نقاط)

- مشاركة المواطن واحترام القانون

- حكومة فاعلة .

- اقتصاد مستدام .

- دولة مزدهرة .

- مكانة عالمية متميزة .

٢- إنشاء مبنى جامعي جديد في مدينة صباح السالم . (الأهداف) ص ١٦٦ (درجتان ويكتفى بنقطتين)

- الارتقاء بالتعليم الجامعي باعتباره محورياً أساسياً للتنمية البشرية

- تطوير منظومة التعليم في البلاد

- إعداد الكوادر الوطنية المؤهلة والقادرة على تلبية احتياجات سوق العمل

- تساهم في بناء الوطن بسواعد أبنائه .

(ج) علل لما يلي :-

١- للكويت دوراً بارزاً في دعم القضايا العربية في عهد الشيخ صباح السالم الصباح . (درجة) ص ١٢٢

- حرصت دولة الكويت على دعم العديد من القضايا العربية لاسيما قضية العرب الأولى (فلسطين) ، حيث شاركت

في حرب ١٩٦٧ م لنصرة فلسطين ، ضد العدوان الصهيوني.

٢- تشكل الدساتير أهمية كبرى في حياة الأوطان والأمم . (درجة) ص ١١٨

- تحدد المفاصل المهمة في الدولة .

- تحدد صلاحيات كل سلطة من السلطات الثلاثة.



وزارة التربية
التوجيه الفني العام للاجتماعيات

امتحان نهاية الفترة الدراسية الثانية

العام الدراسي (٢٠١٨ / ٢٠١٩ م)

الزمن : ساعتان وربع

لمقرر / تاريخ دولة الكويت
(لنصف العاشر)

أجب عن (ثلاثة أسئلة) فقط على أن يكون السؤال الأول منها (إجبارياً) :

السؤال الأول / الموضوعي (إجباري) ويتكون من (أ - ب - ج - د) :

(أ) صوب ما تحته خط في العبارات التالية :

- ١- أول اتفاقية امتياز للنفط في الكويت (بحرة) تمت في عام ١٩٣٠ م .
- ٢- اتخذت حكومة دولة الكويت الشرعية لإدارة أزمة الغزو العراقي من الخارج مقرأ مؤقتاً لها في مدينة جدة .
- ٣- عدد آبار النفط التي أحرقتها ودمرها النظام العراقي البائد قبل انسحابه من دولة الكويت ما يزيد على ٦٥٠ بئراً .
- ٤- مادة الدستور الكويتي التي تنص على أن الدين الرسمي للدولة هو الإسلام هي المادة الرابعة .

(ب) اختر للمجموعة (أ) ما يرتبط بها من المجموعة (ب) بوضع الرقم المناسب :

م	المجموعة (أ)	الرقم المناسب	المجموعة (ب)
١	إنشاء جامعة الكويت عام ١٩٦٦ م	الشيخ جابر بن مبارك الصباح
٢	خفض الرسوم الجمركية وإلغاء الضرائب على الصادرات	الشيخ عبد الله السالم الصباح
٣	مشكلة الحدود والمسألة مع السعوديين	الشيخ صباح السالم الصباح
٤	إعفاء الكويتيين من ضريبة الثلث على العقارات	الشيخ سالم بن مبارك الصباح
.....	الشيخ أحمد الجابر الصباح

صفوة معلمى الكويت

تابع / السؤال الأول (إجباري) :

(ج) أكمل العبارات التالية بما يناسبها فيما درست :

- ١- المجلس الذي يشرف على تأسيس المدارس والإنفاق عليها وتوجيهها اسمه
- ٢- المركز الحدودي لدولة الكويت الذي هاجمته القوات العراقية عام ١٩٧٣م اسمه
- ٣- المعركة التي تحررت من خلالها دولة الكويت من الغزو العراقي الغاشم عام ١٩٩١م تسمى
- ٤- المقيم السياسي البريطاني الذي ترأس المؤتمر الذي عقدته بريطانيا في الكويت عام ١٩٦٦م اسمه

(د) ضع خطأ تحت الخيار الصحيح من بين الخيارات التي تلي كل عبارة :

- ١- صاحب فكرة إنشاء مجلس التعاون الخليجي عام ١٩٨١م الشيخ :

عبدالله السالم الصباح - جابر الأحمد الصباح - سعد العبدالله الصباح - صباح السالم الصباح

- ٢- الدولتان العربيتان اللتان نشأ بينهما الإتحاد الهاشمي :

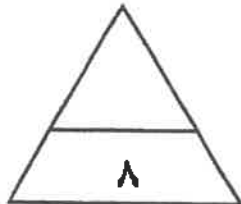
العراق والأردن - سوريا والأردن - العراق وسوريا - مصر والعراق

- ٣- العام الذي تم فيه إنتاج النفط بكميات تجارية في حقل برقان :

١٩٣٥م - ١٩٣٦م - ١٩٣٧م - ١٩٣٨م

- ٤- السور الذي تم بناءه في عهد الشيخ سالم بن مبارك الصباح :

السور الأول - السور الثاني - السور الثالث - السور الرابع



الدرجةنقط

السؤال الثاني (اختياري) ويتكون من (أ - ب - ج) :

(أ) قارن بين كل من:

أوجه المقارنة	المجلس البلدي	المجلس النيابي
سنة التأسيس
المهام

(ب) علل لما يلي :

١- تُشكل الدساتير أهمية كبرى في حياة الأوطان والأمم .

.....

٢- المطالبات العراقية عام ١٩٦١م بدولة الكويت .

.....

(ج) اكتب نقطتين حول كل من :

١ - أهم مشاريع دولة الكويت في مجال تحسين جودة نظام الرعاية الصحية .

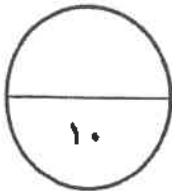
.....

.....

٢- أهمية مشروع طريق الجهراء .

.....

.....



الدرجة فقط

صفوة معلمى الكويت

السؤال الثالث (اختياري) ويتكون من (أ - ب - ج) :

(أ) اقرأ الفقرة التالية ثم أجب عما يليها من أسئلة :

" تولى حضرة صاحب السمو الشيخ صباح الأحمد الجابر الصباح حفظه الله ورعاه مناصب سابقة من بينها منصب وزير الخارجية ، فهو يعد أقدم وزير للخارجية على مستوى العالم العربي، فاستحق أن يكون عميداً للدبلوماسيين العرب ، حيث استطاع أن يحقق إنجازات مهمة في حقل السياسة الكويتية بصفة عامة ، والسياسة الخارجية بصفة خاصة " .

١- في أي عام تم تعيين الشيخ صباح الأحمد الجابر الصباح وزيراً للخارجية ؟

..... -

٢- فسر - ماتحته خط في الفقرة السابقة .


..... -

٣- عدد اثنين من المناصب الأخرى التي تقلدها الشيخ صباح الأحمد الجابر الصباح .

..... -

..... -

(ب) لاحظ الصورة المقابلة ثم أجب عن الأسئلة التالية :



١- ما اسم حاكم دولة الكويت في الصورة المقابلة ؟

..... -

٢- ما اسم الاتفاقية الجديدة التي استبدلت بها اتفاقية الحماية المعقودة عام ١٨٩٩ م ؟

..... -

(ج) عدد كل مما يلي :

١- مشاريع دولة الكويت لتحقيق بيئة معيشية مستدامة .

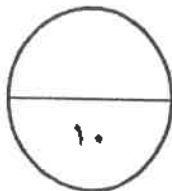
..... -

..... -

٢- مجالات السياسة الداخلية التي شهدت تطوراً كبيراً في عهد الشيخ صباح السالم الصباح .

..... -

..... -



الدرجة فقط

صفحة معلمى الكويت

السؤال الرابع (اختياري) ويتكون من (أ - ب - ج) :

(أ) لاحظ خريطة دولة الكويت الصماء ثم أجب عن الأسئلة التالية :



١- حدد على الخريطة المقابلة ما يلي :

- جزيرة وربة بالشكل ○

- جزيرة فيلكا بالشكل □

٢- علل - أهمية الجزر الكويتية تاريخياً .

.....
.....

(ب) عرف المفهوم والمصطلح التالي:

١- الجوار الجغرافي :

٢- البيروقراطية :

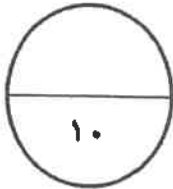
(ج) أجب عن الأسئلة التالية :

١- عدد - المطالب العراقية التي أدت إلى فشل المفاوضات في مؤتمر جدة عام ١٩٩٠ م .

.....
.....

٢- اذكر - الإنجازات الداخلية للشيخ / جابر الأحمد الصباح في دولة الكويت .

.....
.....



الدرجة فقط

انتهت الأسئلة

صفوة معلمي الكويت

العام الدراسي (٢٠١٨ / ٢٠١٩ م)

الزمن : ساعتان وربع

عدد الأوراق : (٥)

امتحان نهاية الفترة الدراسية الثانية

لمقرر / تاريخ دولة الكويت

(للصف العاشر)

نموذج الإجابة







وزارة التربية

التوجيه الفني العام للاجتماعيات

أجب عن (ثلاثة أسئلة) فقط على أن يكون السؤال الأول منها (إجبارياً) :


السؤال الأول / الموضوعي (إجباري) ويتكون من (أ - ب - ج - د) : (لكل سؤال نصف درجة = ٨ درجات)

(أ) صوب ما تحته خط في العبارات التالية :


- ١- أول اتفاقية امتياز للنفط في الكويت (بحرة) تمت في عام ١٩٣٠م .  ص ١١٥
- ٢- اتخذت حكومة دولة الكويت الشرعية لإدارة أزمة الغزو العراقي من الخارج مقراً مؤقتاً لها في مدينة جدة .  ص ١٤٦
- ٣- عدد آبار النفط التي أحرقتها ودمرها النظام العراقي الهائد قبل انسحابه من دولة الكويت ما يزيد على ٦٥٠ بئراً .  ص ١٥١
- ٤- مادة الدستور الكويتي التي تنص على أن الدين الرسمي للدولة هو الإسلام هي المادة الرابعة .  ص ١٢١

(ب) اختر للمجموعة (أ) ما يرتبط بها من المجموعة (ب) بوضع الرقم المناسب :

م	المجموعة (أ)	الرقم المناسب	المجموعة (ب)
١	إنشاء جامعة الكويت عام ١٩٦٦م .	ص ١٢٣	(٤) الشيخ جابر بن مبارك الصباح
٢	خفض الرسوم الجمركية وإلغاء الضرائب على الصادرات .	ص ١١٢	(-) الشيخ عبد الله سالم الصباح
٣	مشكلة الحدود والمسألة مع السعوديين .	ص ١١٣	(١) الشيخ صباح سالم الصباح
٤	اعفاء الكويتيين من ضريبة التثالث على العقارات .	ص ١١١	(٢) الشيخ سالم بن مبارك الصباح
			(٣) الشيخ أحمد الجابر الصباح



معلمي الكويت



تابع / السؤال الأول (إجباري) :

(ج) اكمل العبارات التالية بما يناسبها فيما درست :

- ١- المجلس الذي يشرف على تأسيس المدارس والإنفاق عليها وتوجيهها اسمه مجلس المعارف ص ١١٤
- ٢- المركز الحدودي لدولة الكويت الذي هاجمته القوات العراقية عام ١٩٧٣ م اسمه الصلامة ص ١٤٠
- ٣- المعركة التي تحررت من خلالها دولة الكويت من الغزو العراقي الغاشم عام ١٩٩١ م تسمى معركة تحرير الكويت / عاصفة الصحراء ص ١٤٩
- ٤- المقيم السياسي البريطاني الذي ترأس المؤتمر الذي عقدته بريطانيا في الكويت عام ١٩٦٦ م اسمه برسي كوكس ص ١١١

(د) ضع خطأ تحت الخيار الصحيح من بين الخيارات التي تلي كل عبارة :

- ١- صاحب فكرة إنشاء مجلس التعاون الخليجي عام ١٩٨١ م الشيخ : ص ١٢٦

عبدالله السالم الصباح - جابر الأحمد الصباح - سعد العبدالله الصباح - صباح السالم الصباح

- ٢- الدولتان العربيتان اللتان نشأ بينهما الإتحاد الهاشمي : ص ١٢٩


العراق والأردن - سوريا والأردن - العراق وسوريا - مصر والعراق

- ٣- العام الذي تم فيه إنتاج النفط بكميات تجارية في حقل برقان : ص ١١٥

١٩٣٥ م - ١٩٣٦ م - ١٩٣٧ م - ١٩٣٨ م

- ٤- السور الذي تم بناءه في عهد الشيخ سالم بن مبارك الصباح : ص ١١٣

السور الأول - السور الثاني - السور الثالث - السور الرابع



صفوة معلمى الكويت

السؤال الثاني (اختياري) ويتكون من (أ - ب - ج) :

ص ١١٤

(أ) قارن بين كل من: (٤ درجات)

أوجه المقارنة	المجلس البلدي	مجلس الشورى
سنة التأسيس	١٩٣٠م (درجة)	١٩٦١م (درجة)
المهام	إدارة أمور التنظيم الداخلي للكويت من أسواق وأمور للنظافة العامة . (درجة)	إسداء الرأي والنصح والمشاركة بالقرار. (درجة)

(ب) علل لما يلي

- ١- تُشكل الدساتير أهمية كبرى في حياة الأوطان والأمم .
- وذلك لطبيعة المهام التي تنظمها إذ أنها تحدد المفاصل المهمة في الدولة .
- تحدد صلاحيات كل سلطة من السلطات الثلاث .
- ٢- المطالبات العراقية عام ١٩٦١م بدولة الكويت .
- طمع عبدالكريم قاسم بالنفط الكويتي حيث تميزت الكويت بالإنتاج التجاري للنفط .
- البطالة التي كان يعاني منها الشعب العراقي مع الاستياء العارم من السياسات الداخلية في العراق .
- حاجة العراق إلى موانئ بحرية رغم أن العراق يمتلك ست موانئ بحرية .

(ج) اكتب نقطتين حول كل من :


- ١ - أهم مشاريع دولة الكويت في مجال تحسين جودة نظام الرعاية الصحية .
- مستشفى الصباح الجديد .
- مستشفى الأمراض السارية الجديد .
- التوسع الجديدة لمستشفى الأميري .
- تشجيع وتحفيز ممارسة الرياضة في المجتمع .
- الوقاية والتصدي للأمراض المزمنة غير السارية .
- ٢- أهمية مشروع طريق الجهراء .
- شكل أحد الحلول المهمة للتقليل من الازدحام المروري .
- رفع القدرة الاستيعابية لطريق الجهراء .
- خفض نسبة الحوادث المرورية .
- يساهم برفع مستوى الخدمات لمستخدمي الطرق .
- الفصل بين حركة المرور العابرة وحركة المرور المحلية .

ص ١٥٨ (درجتين ويكتفى بنقطتين)

وزارة

مديرية التعليم العام

صفحة علمي الكويت



السؤال الثالث (اختياري) ويتكون من (أ - ب - ج) :

ص ١٣٠

(أ) اقرأ الفقرة التالية ثم أجب عما يليها من أسئلة :

" تولى حضرة صاحب السمو الشيخ صباح الأحمد الجابر الصباح حفظه الله ورعاه مناصب سابقة من بينها منصب وزير الخارجية ، فهو يعد أقدم وزير للخارجية على مستوى العالم العربي، فاستحق أن يكون عميداً للدبلوماسيين العرب ، حيث استطاع أن يحقق إنجازات مهمة في حقل السياسة الكويتية بصفة عامة ، والسياسة الخارجية بصفة خاصة "

١- في أي عام تم تعيين الشيخ صباح الأحمد الجابر الصباح وزيراً للخارجية ؟

(درجة)

(في عام ١٩٦٣ م)

٢- فسر - ماتحته خط في الفقرة السابقة .

أن الشيخ صباح الأحمد الجابر الصباح شغل منصب وزير للخارجية سنوات طويلة استمرت لأكثر من أربعين عاماً /
(درجة ويكتفى بنقطة)

٣- عدد اثنين من المناصب الأخرى التي تقلدها الشيخ صباح الأحمد الجابر الصباح .

- تم تعيينه في اللجنة التنفيذية العليا التي عهد إليها تنظيم الدوائر الحكومية ووضع الخطط ومتابعة تنفيذها وهو لم يتجاوز الخامسة والعشرين من عمره .

- تولى منصب رئيس دائرتي المطبوعات والشؤون الاجتماعية .


- تولى منصب رئيس لجنة كتابة تاريخ الكويت عام ١٩٥٩ م .

- تم تعيينه عضواً في المجلس التأسيسي الذي عهد إليه مهمة وضع دستور دولة الكويت عام ١٩٦٢ م .

- تولى منصب نائب رئيس مجلس الوزراء ثم منصب رئيس مجلس الوزراء عام ٢٠٠٣ م .

(درجتين ويكتفى بنقطتين)

(ب) لاحظ الصورة المقابلة ثم أجب عن الأسئلة التالية : ص ١١٩



١- ما اسم حاكم دولة الكويت في الصورة المقابلة ؟

- الشيخ عبدالله السالم الصباح .

(درجة)

٢- ما اسم الاتفاقية الجديدة التي استبدلت بها اتفاقية الحماية

المعقودة عام ١٨٩٩ م ؟

- (الصداقة والتشاور) .

(درجة)

(ج) عدد كل مما يلي :

١- مشاريع دولة الكويت لتحقيق بيئة معيشية مستدامة .

- مشروع جنوب المطلاع .

- معالجة النفايات البلدية الصلبة - موقع كبد .

- مراقبة الملوثات المنبعثة من المصادر (الثابتة والمتحركة) .

- تطوير برنامج المراقبة وتحسين جودة الهواء .

ص ١٦٠ (درجتين ويكتفى بنقطتين)

٢- مجالات السياسة الداخلية التي شهدت تطوراً كبيراً في عهد الشيخ صباح السالم الصباح .

- المجال الإسكاني : توزيع مساكن لذوي الدخل المحدود بإشراف وزارة الأشغال .

- المجال العسكري : استحدثت نظام التجنيد الإلزامي .

(درجتين)

ص ١٢٣



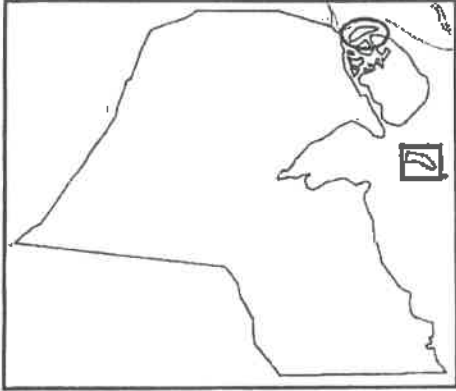
وزارة



السؤال الرابع (اختياري) ويتكون من (أ - ب - ج) :

(أ) لاحظ خريطة دولة الكويت الصماء ثم أجب عن الأسئلة التالية :

١- حدد على الخريطة المقابلة ما يلي : ص ١٧١ (درجتين)



- جزيرة وربة بالشكل
- جزيرة فيلكا بالشكل

٢- علل - أهمية الجزر الكويتية تاريخياً . ص ١٧٠
(درجتين ويكتفى بنقطتين)

- محطة أساسية في حركة التجارة من آلاف السنين .
- ارتبطت بأقدم الحضارات التاريخية .
- وجودها وسط أكثر من ١٥٠ مليون نسمة ضمن سوق اقتصادي ضخم جداً .
- موقع جغرافي يتوسط خطوط التجارة بين قارات العالم القديم (آسيا - أفريقيا - أوروبا) .

(درجتين)

(ب) عرف المفهوم والمصطلح التالي :

١- الجوار الجغرافي : المناطق المتقاربة من بعضها بعضاً ولها خصائص مشتركة يفصل بينهما حدود طبيعية أو سياسية . ص ١٣٧

٢- البيروقراطية : تطبيق القوانين بالقوة في المجتمعات المنظمة حيث تعتمد على الإجراءات الموحدة وتوزيع المسؤوليات بطريقة هرمية . ص ١٥٨

(ج) أجب عن الأسئلة التالية :

١- عدد - المطالب العراقية التي أدت إلى فشل المفاوضات في مؤتمر جدة عام ١٩٩٠ م . ص ١٤٢

- إلغاء ديون تقدر ب ١٢ مليار دولار .
- تعويضها عن البترول الذي تدعي بأنه أخذ من الجزء العراقي من حقل الرميلة الجنوبي بحوالي ٢.٤ بليون دولار .
- تأجير جزيرتي وربة وبوبيان للعراق .
- تقديم مبلغ ضخم غير محدد كنواة لمشروع مارشال عربي (كالمشروع الاقتصادي لإعادة ترميز أوروبا بعد الحرب العالمية الثانية وكان هدفه إعادة إعمار وتشغيل الاقتصاد والمصانع الأوروبية) يستفيد منه العراق دون أي وعد عراقي سوى بالإبقاء على الأوضاع كما هي .

ص ١٢٦

٢- انكر - الإجازات الداخلية للشيخ / جابر الأحمد الصباح في دولة الكويت .

(درجتين ويكتفى بنقطتين)

- مؤسسة الكويت للتقدم العلمي .
- الهيئة العامة لشؤون القصر .
- إنشاء صندوق احتياطي الأجيال القادمة .
- مكتب الشهيد .
- حقوق المرأة السياسية .
- صندوق الكويت للتنمية .





امتحان الدور الثاني (الفترة الدراسية الثانية) العام الدراسي (٢٠١٨ / ٢٠١٩ م)

الزمن : ساعتان وربع

لمقرر / تاريخ دولة الكويت

وزارة التربية
التوجيه الفني العام للاجتماعيات

عدد الأوراق : (٥)

(للصف العاشر)

أجب عن (ثلاثة أسئلة) فقط على أن يكون السؤال الأول منها (إجبارياً) :

السؤال الأول / الموضوعي (إجباري) ويتكون من (أ - ب - ج - د) :

(أ) صوب ما تحته خط في العبارات التالية :

- ١- أول ولي للعهد في تاريخ دولة الكويت هو الشيخ أحمد الجابر الصباح .
- ٢- نشأ الاتحاد الهاشمي بين دولتين عربيتين هما العراق ومصر .
- ٣- سيطرت القوات العراقية على معظم الأراضي الكويتية في نهاية اليوم الثاني من أغسطس عام ١٩٩٠م عدا جزيرة بوبيان .
- ٤- الموقعة الشهيرة التي وقعت في ٢٤ فبراير عام ١٩٩١م بين المقاومين الكويتيين وبين جنود الغزو العراقي هي موقعة قصر دسمان .

(ب) اختر للمجموعة (أ) ما يرتبط بها من المجموعة (ب) بوضع الرقم المناسب :

م	المجموعة (أ)	الرقم المناسب	المجموعة (ب)
١	الأمير الوالد	الشيخ جابر الأحمد الصباح
٢	أبو الدستور	الشيخ صباح الأحمد الصباح
٣	قائد العمل الإنساني	الشيخ سعد العبدالله الصباح
٤	أمير القلوب	الشيخ أحمد الجابر الصباح
		الشيخ عبد الله السالم الصباح

صفوة معلمى الكويت

تابع / السؤال الأول (إجباري) :

(ج) أكمل العبارات التالية بما يناسبها فيما درست :

- ١- يبلغ عدد مواد الدستور الكويتي مادة .
- ٢- العام الذي تم فيه تشييد المدرسة الأحمدية في الكويت م .
- ٣- حاكم الكويت الذي عاصر الحرب العالمية الأولى (١٩١٤ - ١٩١٨م) يسمى
- ٤- المدينة العربية التي عقدت بها القمة العربية الطارئة بتاريخ ١٠ أغسطس عام ١٩٩٠م اسمها

(د) ضع خطأ تحت الخيار الصحيح من بين الخيارات التي تلي كل عبارة :

١- المدينة التي تعتبر المقر المؤقت لحكومة الكويت (الشرعية) أثناء الغزو العراقي البائد :

مكة المكرمة - الطائف - المدينة المنورة - الدمام

٢- أولى الأراضي الكويتية المحررة من احتلال النظام العراقي البائد :

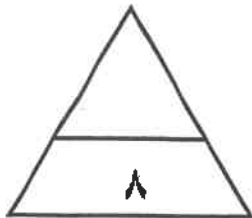
فيلكا - بونيان - كبر - قاروه

٣- المجلس الكويتي الذي تأسس عام ١٩٣٦م ومهمته الإشراف على تأسيس المدارس والإنفاق عليها وتوجيهها :

الشورى - المغارف - التشريعي - البلدي

٤- المعلم الكويتي الذي يتكون من أربعة مبانٍ ضخمة على شكل جواهر مبعثرة :

مبنى الجامعة الجديد - المطار الجديد - دار الأوبرا - مستشفى الشيخ جابر



الدرجة نقط

صفوة معلمى الكويت

السؤال الثاني (اختياري) ويتكون من (أ - ب - ج) :

(أ) قارن بين كل من:

أوجه الاختلاف	المجلس التشريعي	مجلس الشورى
سنة التأسيس
المهام

(ب) علل لما يلي :

١- تأخر انضمام دولة الكويت إلى هيئة الأمم المتحدة إلى عام ١٩٦٣ م .

.....

٢- المطالبات العراقية عام ١٩٦١م بدولة الكويت .

.....

(ج) اكتب نقطتين حول كل من :

١ - أهم الأحداث في عهد الشيخ سالم بن مبارك الصباح .

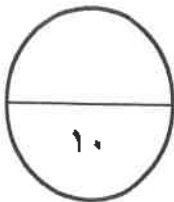
.....

.....

٢- المشاريع الهامة التي تحسّن جودة خدمات الرعاية الصحية في دولة الكويت .

.....

.....



الدرجة فقط

صفوة معلمي الكويت

السؤال الثالث (اختياري) ويتكون من (أ - ب - ج) :

(أ) اقرأ الفقرة التالية ثم أجب عما يليها من أسئلة :

" شارك الشيخ سعد العبد الله الصباح أخاه الشيخ جابر الأحمد الصباح في التصدي للعدوان العراقي الأثم عام ١٩٩٠م ، فأطلق عليه بطل التحرير تقديراً لدوره في التصدي لهذا العدوان ، كما أطلق عليه أيضاً بطل التعمير بعد أن تحررت دولة الكويت ، وقد تنازل الشيخ سعد العبدالله الصباح عن الحكم في بيان لمجلس الأمة . توفّي عام ٢٠٠٨م بعد عطاء وانجازات حافلة "

١- دلل على صحة العبارة التالية .

"استحقاق الشيخ سعد العبد الله الصباح لقب بطل التحرير والتعمير" .

- لقب بطل التحرير :

- لقب بطل التعمير :

٢- علل - ماتحته خط في الفقرة السابقة .

-

(ب) لاحظ الصورة التي أمامك ثم أجب عن الأسئلة التالية :

١- ما اسم المجلس الذي يرمز له الشعار المقابل ؟

-

٢- من صاحب فكرة إنشاء هذا المجلس ؟

-

٣- في أي عام تم إنشاء هذا المجلس ؟

-

(ج) عدد كل مما يلي :

١- أهم المشاريع الرئيسية لدولة الكويت في مجال تطوير البنية التحتية .

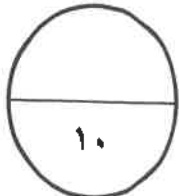
-

-

٢- المطالب العراقية التي أدت إلى فشل المفاوضات في مؤتمر جدة عام ١٩٩٠م .

-

-



الدرجة فقط

صفوة معلمي الكويت

السؤال الرابع (اختياري) ويتكون من (أ - ب - ج) :

(أ) لاحظ خريطة دولة الكويت الصماء ثم أجب عما يليها من أسئلة :



١- حدد على الخريطة ما يلي :

- جزيرة بوبيان بالشكل *

- جزيرة فيلكا بالشكل □

٢- علل - أهمية الجزر الكويتية تاريخياً .

.....
.....

(ب) عرف المفهوم والمصطلح التالي :

١- النفايات الصلبة :

٢- البيروقراطية :

(ج) أجب عن الأسئلة التالية :

١- ما موقف دولة الكويت من الحروب التالية :

- حرب اليمن :

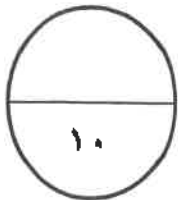
- الحرب العراقية - الإيرانية :

.....

٢- اذكر - نص المواد التالية من الدستور الكويتي .

- المادة الثانية :

- المادة الرابعة :



الدرجة فقط

انتهت الأسئلة

صفحة من الكويت



وزارة التربية
التوجيه الفني العام للاجتماعيات

امتحان نهاية الفترة الدراسية الثانية

لمقرر / تاريخ دولة الكويت
(للفصل العاشر)

العام الدراسي (٢٠١٨ / ٢٠١٩ م)

الزمن : ساعتان وربع

عدد الأوراق : (٥)

نموذج الإجابة

أجب عن (ثلاثة أسئلة) فقط على أن يكون السؤال الأول منها (إجباريا) :

السؤال الأول / الموضوعي (إجباري) ويتكون من (أ - ب - ج - د) : (لكل سؤال نصف درجة = ٨ درجات)

(أ) صوب ما تحته خط في العبارات التالية :

- ١- أول ولي للعهد في تاريخ دولة الكويت هو الشيخ أحمد الجابر الصباح .
صباح السالم الصباح ص ١٢٣
- ٢- نشأ الاتحاد الهاشمي بين دولتين عربيتين هما العراق ومصر .
الأردن ص ١٣٩
- ٣- سيطرت القوات العراقية على معظم الأراضي الكويتية في نهاية اليوم الثاني من أغسطس عام ١٩٩٠م عدا جزيرة بوبيان .
فيلاكا ص ١٤٣
- ٤- الموقعة الشهيرة التي وقعت في ٢٤ فبراير عام ١٩٩١م بين المقاومين الكويتيين وبين جنود الغزو العراقي هي موقعة قصر دسمان .
بيت القرين ص ١٤٨

(ب) اختر للمجموعة (أ) ما يرتبط بها من المجموعة (ب) بوضع الرقم المناسب :

م	المجموعة (أ)	الرقم المناسب	المجموعة (ب)
١	الأمير الوالد	(٤)	الشيخ جابر الأحمد الصباح
٢	أبو الدستور	(٣)	الشيخ صباح الأحمد الصباح
٣	قائد العمل الإنساني	(١)	الشيخ سعد العبدالله الصباح
٤	أمير القلوب	(-)	الشيخ أحمد الجابر الصباح
		(٢)	الشيخ عبد الله السالم الصباح



معلمي الكويت



وزارة

التربية

التوجيه الفني العام للاجتماعيات

تابع / السؤال الأول (إجباري) :

(ج) أكمل العبارات التالية بما يناسبها فيما درست :

- ١- يبلغ عدد مواد الدستور الكويتي ١٨٣ مادة . ص ١٢١
- ٢- العام الذي تم فيه تشييد المدرسة الأحمدية في الكويت ١٩٢١ م . ص ١١٤
- ٣- حاكم الكويت الذي عاصر الحرب العالمية الأولى (١٩١٤-١٩١٨م) يسمى جابر بن مبارك الصباح . ص ١١١
- ٤- المدينة العربية التي عقدت بها القمة العربية الطارئة بتاريخ ١٠ أغسطس عام ١٩٩٠م اسمها القاهرة ص ١٤٤

(د) ضع خطأ تحت الخيار الصحيح من بين الخيارات التي تلي كل عبارة :

- ١- المدينة التي تعتبر المقر المؤقت لحكومة الكويت (الشرعية) أثناء الغزو العراقي البائد : ص ١٤٦

مكة المكرمة - الطائف - المدينة المنورة - الدمام

- ٢- أولى الأراضي الكويتية المحررة من احتلال النظام العراقي البائد : ص ١٥٠

فيلكا - بوبيان - كبير - قاروه

- ٣- المجلس الكويتي الذي تأسس عام ١٩٣٦م ومهمته الإشراف على تأسيس المدارس والإنفاق عليها وتوجيهها :

الشورى - المعارف - التشريعي - البلدي ص ١١٤

- ٤- المعلم الكويتي الذي يتكون من أربعة مبانٍ ضخمة على شكل جواهر مبعثرة : ص ١٦٢

مبنى الجامعة الجديد - المطار الجديد - دار الأوبرا - مستشفى الشيخ جابر



السؤال الثاني (اختياري) ويتكون من (أ - ب - ج) :

ص ١١٤

(أ) قارن بين كل من: (٤ درجات)

أوجه الاختلاف	المجلس التشريعي	مجلس الشورى
سنة التأسيس	١٩٦٨ م (درجة)	١٩٦١ م (درجة)
المهام	- إدارة شؤون مدينة الكويت الداخلية بالتعاون مع حاكم الكويت . - إدارة الجمارك والأسواق وحل الصراعات بين التجار في الأسواق . - وضع ميزانية للإمارة .	- إسداء الرأي والنصح والمشاركة بالقرار .
	(درجة)	(درجة)

(ب) علل لما يلي :

١- تأخر انضمام دولة الكويت إلى هيئة الأمم المتحدة إلى عام ١٩٦٣ م . ص ١١٩ (درجة)
- بسبب موقف الاتحاد السوفيتي - سابقاً - الداعم لمطالب حاكم العراق آنذاك رئيس الوزراء العراقي عبد الكريم قاسم .

٢- المطالبات العراقية عام ١٩٦١ م بدولة الكويت . ص ١٤٠ (درجة)
- طمع عبد الكريم قاسم بالنفط الكويتي حيث تميزت الكويت بالإنتاج التجاري للنفط .
- البطالة التي كان يعاني منها الشعب العراقي مع الاستياء العارم من السياسات الداخلية في العراق .
- حاجة العراق إلى موانئ بحرية رغم أن العراق يمتلك ست موانئ بحرية .

(ج) اكتب نقطتين حول كل من :

١- أهم الأحداث في عهد الشيخ سالم بن مبارك الصباح . ص ١١٢ (درجتين)
- حرب الجبراء في أكتوبر ١٩٢٠ م .
- معركة حمض في مايو ١٩٢٠ م .
- بناء السور الثالث الذي شيد من أجل حماية مدينة الكويت من أي هجوم بري .

٢- المشاريع الهامة التي تحسّن جودة خدمات الرعاية الصحية في دولة الكويت . ص ١٥٨ (درجتين)
- التوسعة الجديدة لمستشفى الأميري .
- مستشفى الصباح الجديد .
- تشجيع وتحفيز ممارسة الرياضة في المجتمع .
- الوقاية والتصدي للأمراض المزمنة غير السارية .



معلمي الكويت



وزارة التربية
مجلس التعليم العام للأجتماعات

السؤال الثالث (اختياري) ويتكون من (أ - ب - ج) :

ص ١٢٨

(أ) اقرأ الفقرة التالية ثم أجب عما يليها من أسئلة :

" شارك الشيخ سعد العبد الله الصباح أخاه الشيخ جابر الأحمد الصباح في التصدي للعدوان العراقي الأثم عام ١٩٩٠م ، فأطلق عليه بطل التحرير تقديراً لدوره في التصدي لهذا العدوان ، كما أطلق عليه أيضاً بطل التعمير بعد أن تحررت دولة الكويت ، وقد تنازل الشيخ سعد العبدالله الصباح عن الحكم في بيان لمجلس الأمة . توفي عام ٢٠٠٨م بعد عطاء وإنجازات حافلة " .

١- دلل على صحة العبارة التالية .

" استحقاق الشيخ سعد العبد الله الصباح لقب بطل التحرير والتعمير " . (درجتين)

- بطل التحرير : تقديراً لدوره في التصدي للعدوان العراقي .

- بطل التعمير : بعد أن تحررت دولة الكويت حيث قام بمتابعة وتعمير البنى التحتية التي دمرها العدوان العراقي .

٢- علل - ماتحته خط في الفقرة السابقة .

- نظراً لسوء حالته الصحية .

(درجة)

(ب) لاحظ الصورة التي أمامك ثم أجب عن الأسئلة التالية : ص ١٢٦



(درجة)

١- ما اسم المجلس الذي يرمز له الشعار المقابل ؟

(مجلس التعاون لدول الخليج العربية)

(درجة)

٢- من صاحب فكرة إنشاء هذا المجلس ؟

الشيخ / جابر الأحمد الجابر الصباح .

(درجة)

٣- في أي عام تم إنشاء هذا المجلس ؟

عام ١٩٨١م

(ج) عدد كل مما يلي :

ص ١٥٧

(درجتين يكتفى بنقطتين)

١- أهم المشاريع الرئيسية لدولة الكويت في مجال تطوير البنية التحتية .

- ميناء مبارك الكبير .

- شبكة السكك الحديدية .

- الطريق الأقليمي .

- جسر الشيخ جابر الأحمد .

- مشروع مطار الكويت الجديد .

- أنظمة النقل السريع - مترو الكويت .

ص ١٤٢

(درجتين يكتفى بنقطتين)

٢- المطالب العراقية التي أدت إلى فشل المفاوضات في مؤتمر جدة عام ١٩٩٠م .

- إلغاء ديون تقدر بـ ١٢ مليار دولار .


- تعويضها عن البترول الذي تدعي بأنه أخذ من الجزء العراقي من حقل الرميطة الجنوبي بحوالي ٢,٤ بليون دولار .

- تأجير جزيرتي وربة وبوبيان للعراق .

- تقديم مبلغ ضخم غير محدد كنواة لمشروع مارشال عربي (كالمشروع الاقتصادي لإعادة تعمير أوروبا بعد

الحرب العالمية الثانية وكان هدفه إعادة إعمار وتشغيل الاقتصاد والمصانع الأوروبية) يستفيد منه العراق دون أي

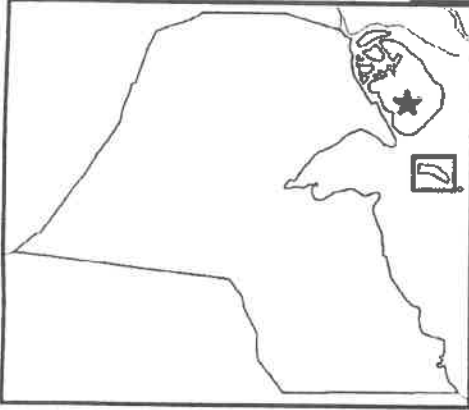
وعد عراقي سوى بالإبقاء على الأوضاع كما هي .



السريية

السؤال الرابع (اختياري) ويتكون من (أ - ب - ج) :

(أ) لاحظ خريطة دولة الكويت الصماء ثم أجب عما يليها من أسئلة :



- ١- حدد على الخريطة ما يلي :
 - جزيرة بوبيان بالشكل ★
 - جزيرة فيلكا بالشكل □

٢- علل - أهمية الجزر الكويتية تاريخياً . ص ١٧٠ (درجتين ويكتفى بنقطتين)

- محطة أساسية في حركة التجارة من آلاف السنين .
- ارتبطت باقدم الحضارات التاريخية .
- وجودها وسط أكثر من ١٥٠ مليون نسمة ضمن سوق اقتصادي ضخم جداً .
- موقع جغرافي يتوسط خطوط التجارة بين قارات العالم القديم (آسيا - أفريقيا - أوروبا) .

(درجتين)

(ب) عرف المفهوم والمصطلح التالي :

١- النفايات الصلبة: مخلفات صلبة وشبه صلبة تنتج من مختلف القطاعات مثل (المواد البلاستيكية والأوراق والزجاج والأخشاب) وهي تعد من أخطر أنواع النفايات على البيئة . ص ١٦٦

٢- البيروقراطية : تطبيق القوانين بالقوة في المجتمعات المنظمة حيث تعتمد على الاجراءات الموحدة وتوزيع المسؤوليات بطريقة هرمية . ص ١٥٨

(ج) أجب عن الأسئلة التالية :

١- ما موقف دولة الكويت من الحروب التالية :

- حرب اليمن : الحرص على تحقيق الوحدة بين اليمن الجنوبي والشمالي .
- الحرب العراقية - الإيرانية : تعرض سفن الكويت الحاملة للبترول للعدوان من الحرب ، إلا أن سياسة دولة الكويت المتوازنة وعدم الإندفاع جنبتها الدخول المباشر في هذه الحرب .

٢- اذكر- نص المواد التالية من الدستور الكويتي .

- المادة الثانية : أن الدين الرسمي للدولة هو الإسلام وأن الشريعة الإسلامية مصدر رئيسي للتشريع .
- المادة الرابعة : أن الكويت إمارة وراثية في ذرية المغفور له الشيخ مبارك الصباح .





وزارة التربية
التوجيه الفني العام للاجتماعيات

امتحان نهاية الفترة الدراسية الثانية
للسف العاشر
المجال الدراسي: تاريخ الكويت

العام الدراسي: ٢٠١٧-٢٠١٨م
الزمن: ساعتان وربع
عدد الأوراق: ٥

**أجب عن ثلاثة أسئلة على أن يكون السؤال الأول (إجباري) :-
السؤال الأول (إجباري) : ويتكون من (أ- ب- ج- د)**

أ- أكمل العبارات التالية بما يناسبها مما درست:-

- ١- اللقب الذي أطلق على الشيخ عبدالله السالم الصباح يسمى
- ٢- أول مؤسسة إنمائية في الشرق الأوسط أسسها الشيخ عبدالله السالم تسمى
- ٣- القصر الذي استخدمه الملك غازي بن فيصل للتحريض ضد الكويت يسمى
- ٤- المدينة التي كانت مقرا مؤقتا للحكومة الكويتية بالسعودية أثناء الغزو العراقي تسمى

ب- ضع خطا تحت الخيار الصحيح من بين الخيارات التي كل عبارة :-

١- الدولة التي طرحت مشروع خط سكة حديد برلين - بغداد تسمى :

- ألمانيا - البرتغال - فرنسا - إنجلترا

٢- العام الذي انضمت الكويت لجامعة الدول العربية :

- ١٩٦١م - ١٩٦٢م - ١٩٦٣م - ١٩٦٤م

٣- الاتحاد الهاشمي تم بين دولتين :-

- الكويت والأردن - سوريا والأردن - العراق وسوريا - العراق والأردن

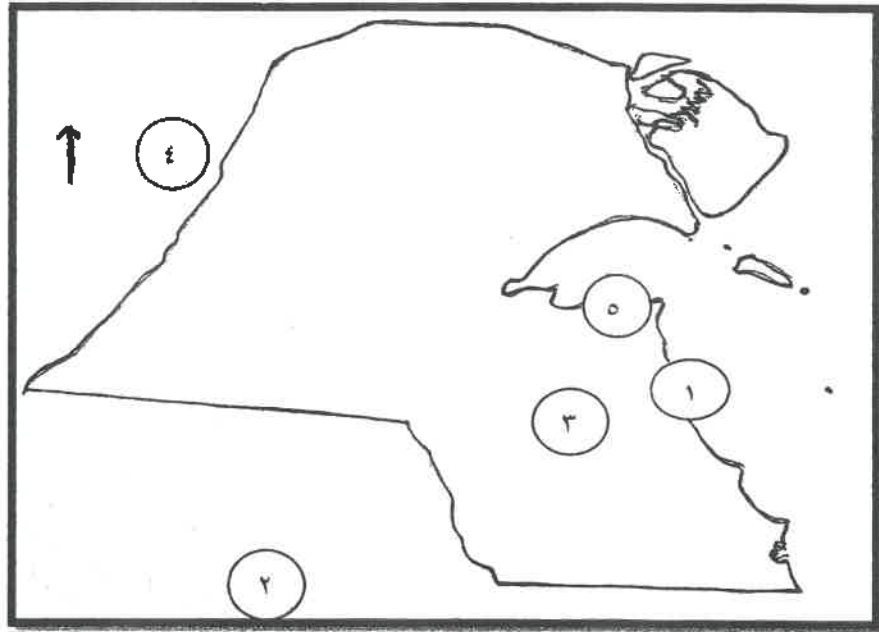
٤- حاكم الكويت الذي أصدر لشعبه أعفاء ضريبة الثلث على العقارات :-

- جابر بن مبارك - سالم بن مبارك - عبدالله السالم - أحمد الجابر

تابع السؤال الأول :-

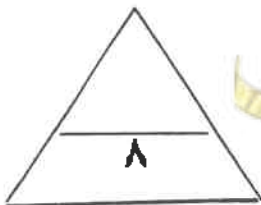
ج- أمامك خريطة دولة الكويت الصماء اكتب مدلول الأرقام التالية :-

- الرقم (١) على الخريطة يمثل مينا يسمى ()
- الرقم (٣) على الخريطة يمثل حقل نفطي يسمى ()
- الرقم (٤) على الخريطة يمثل معركة تسمى ()
- الرقم (٢) على الخريطة يمثل معركة تسمى ()



د- صوب ما تحته خط في العبارات التالية :-

- ١- الفترة الزمنية التي استقر فيها الأمير عبد العزيز آل سعود بالكويت ٧ سنوات. ()
- ٢- المقيم السياسي البريطاني الذي ترأس مؤتمر الكويت عام ١٩١٦م يسمى جون ميد. ()
- ٣- اللقب الذي أطلق على الشيخ جابر الأحمد الصباح جابر العيش. ()
- ٤- أول وزير خارجية في تاريخ الكويت و الشيخ صباح الأحمد الصباح ()



السؤال الثاني (اختياري) ويتكون من (أ- ب- ج)

أ- علل لما يلي :-

١- لقب الشيخ عبد الله السالم بلقب (أبو الدستور) .

٢- تشكل الدساتير أهمية كبرى في حياة الأوطان .

٣- تأخر انضمام الكويت إلى منظمة هيئة الأمم المتحدة إلى عام ١٩٦٣ م .

(ب) فرق بين كلا من :-

مهام المجلس التأسيسي	مهام مجلس الشورى

ج- دال على صحة العبارات التالية:-

١- حرص الشيخ سالم المبارك على تأكيد حدود دولة الكويت السياسية .

٢- الكويت رائدة في مجال تقديم المساعدات الإنسانية لمختلف دول العالم .

٣- دور المقاومة الكويتية داخليا من العدوان العراقي الغاشم ١٩٩٠ م .

السؤال الثالث (اختياري) :ويتكون من (أ- ب- ج)

أ- نفذ المطلوب ما بين القوسين :-

١- اتفاقية الحماية ١٨٩٩م . (نتائجها على الكويت)

.....

.....

٢- مؤتمر الكويت عام ١٩١٦م . (السبب المعلن)

.....

٣- افتعال العراق الأزمة السياسية مع الكويت في شهر يوليو ١٩٩٠م . (الأسباب)

.....

.....

ب- فرق بين الشيخ أحمد الجابر والشيخ صباح السالم من حيث انجازاتهم في المجال الثقافي والتعليمي :-

الشيخ صباح السالم	الشيخ أحمد الجابر

ج- أكتب مما درست حول :-

١- انجازات الشيخ جابر الأحمد الداخلية .

.....

.....

٢- المناصب التي تقلدها الشيخ صباح الأحمد الصباح .

.....

.....

السؤال الرابع (اختياري) : ويتكون من (أ- ب- ج)

أ- أكتب مما درست عن :-

١- موقف الدولة العثمانية من الكويت بعد اتفاقية الحماية ١٨٩٩ م .

.....

.....

٢- أهم الملفات والقضايا المصيرية التي تعامل معها الشيخ أحمد الجابر .

.....

.....

٣- أسباب المطالبات العراقية عام ١٩٦١م لدولة الكويت .

.....

.....

ب- علل لما يلي :-

١- أثرت الحرب العراقية الإيرانية على الكويت .

.....

٢- لقب الشيخ سعد العبد الله ببطل التعمير .

..... بطل التعمير :-

ج- قارن بين كلا مما يلي :-

أوجه المقارنه	معركة الصريف	معركة الجهراء
السنة		
حاكم الكويت		

انتهت الأسئلة مع تمنياتنا لكم بالتوفيق



وزارة التربية
التوجيه الفني العام للاجتماعيات
الصف: العاشر
تاريخ الكويت
نموذج اجابة
امتحان نهاية الفترة الدراسية الثانية
العام الدراسي: ٢٠١٧-٢٠١٨م
الزمن: ساعتان وربع
عدد الأوراق: ٧

اجب على ثلاث أسئلة مما يلي على أن يكون السؤال الأول (اجباري)

السؤال الأول (اجباري) : ويتكون من (أ- ب- ج- د)

أ- أكمل العبارات التالية بما يناسبها مما درست:- (لكل نقطة نصف درجة)

- ١- اللقب الذي أطلق على الشيخ عبدالله السالم الصباح أبو المستور ص ٨٦
- ٢- أول مؤسسة إيمانية في الشرق الأوسط أسسها الشيخ عبدالله السالم تسمى الصندوق الكويتي للتنمية ص ٨٧
- ٣- القصر الذي استخدمه الملك غازي بن فيصل للتحريض ضد الكويت يسمى قصر الزهور ص ١٠٤
- ٤- المدينة التي كانت مقر للحكومة الكويتية بالسعودية أثناء الغز العراقي تسمى الطائف ص ١٠٦

ب- ضع خطا تحت الخيار الصحيح من بين الخيارات التي كل عبارة :-

١- الدولة التي طرحت مشروع خط سكة حديد برلين - بغداد تسمى : ص ٦٧



- المانيا - البرتغال - فرنسا

٢- العام الذي انضمت الكويت لجامعة الدول العربية : ص ٨٥

- ١٩٦١م - ١٩٦٢م - ١٩٦٣م

٣- الاتحاد الهاشمي تم بين دولتين :- ص ١٠٤

- الكويت والأردن - سوريا والأردن - العراق وسوريا - العراق والأردن

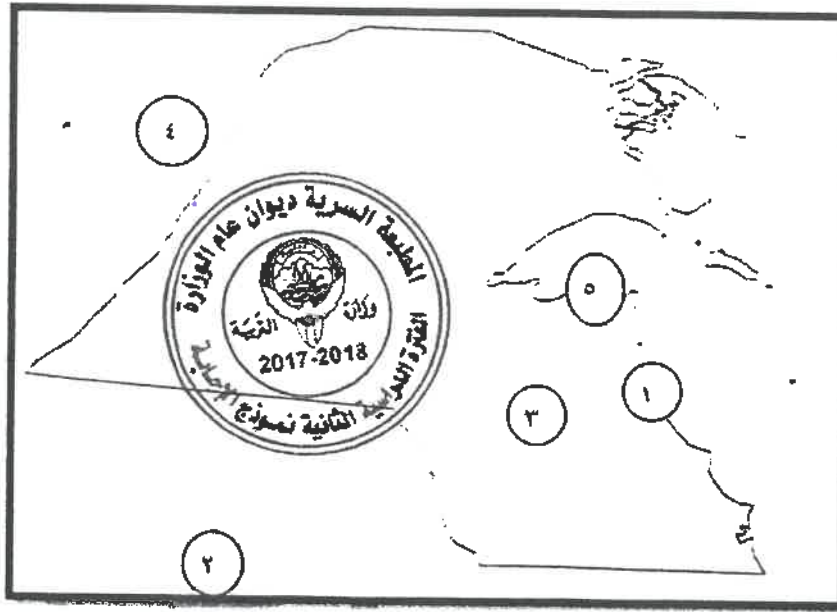
٤- حاكم الكويت الذي أصدر لشعبه أعفاء ضريبة الثلث على العقارات :- ص ٧٧

جابر بن مبارك - سالم بن مبارك - عبدالله السالم - أحمد الجابر

تابع إجابة السؤال الأول

ج- أمامك خريطة دولة الكويت الصماء اكتب مدلول الأرقام التالية :ص ٨١

- الرقم (١) على الخريطة يمثل ميناء يسمى الأحمدى ص ٨١
- الرقم (٣) على الخريطة يمثل حقل نفطي يسمى برقان ص ٨١
- الرقم (٤) على الخريطة يمثل معركة تسمى هدية ص ٧١
- الرقم (٢) على الخريطة يمثل على الخريطة يمثل معركة تسمى الصريف ص ٧١



د- صوب ما تحته خط في العبارات التالية ثم أكتب الاجابة الصحيحة بين القوسين :-

- ١- الفترة الزمنية التي استقر فيها الأمير عبد العزيز آل سعود بالكويت ٧ سنوات. (٩ سنوات)

ص ٦٩

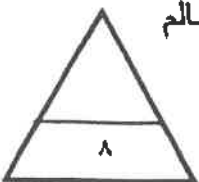
- ٢- المقيم السياسي البريطاني الذي ترأس مؤتمر الكويت عام ١٩١٦م يسمى جون ميد (برسي

كوكس) ص ٧٧

- ٣- اللقب الذي أطلق على الشيخ جابر الأحمد الصباح جابر العرش ص ٩٠ (أمير القلوب)

- ٤- أول وزير خارجية في تاريخ الكويت الشيخ صباح الأحمد الصباح ص ٨٨ (صباح السالم

الصباح)



صفوة معلمى الكويت

السؤال الثاني (اختياري) :ويتكون من (أ-ب-ج)

أ- علل لما يلي :-

- ١- لقب الشيخ عبد الله السالم بلقب (أبو الدستور). ص ٨٦ درجه واحده
- لأنه دعا الى انتخاب مجلس تأسيسي عام ١٩٦٢م وتمت الموافقة عليه بتاريخ ١١ نوفمبر ١٩٦٢م بدون أن يطلب الشيخ عبد الله السالم أية تغييرات عليه ، فلقب ب (أبو الدستور)
- ٢- تشكل الدساتير أهمية كبرى في حياة الأوطان . ص ٨٥ (درجتان)
- * تحدد المفاصل المهمة في الدولة .
- * تحدد صلاحية كل سلطة من السلطات الثلاث .
- ٣- تأخر انضمام الكويت إلى منظمة هيئة الأمم المتحدة إلى عام ١٩٦٣م. ص ٨٥ درجه واحده
- بسبب موقف الاتحاد السوفيتي (سابقا) الداعم لمطالب حاكم العراق آنذاك

رئيس الوزراء العراقي عبدالكريم قاسم

(ب) (فرق بين كلا من :- (درجتان)



مهام مجلس الشورى	مهام المجلس التأسيسي
- إبداء الرأي والنصح والمشاركة بالقرار ص ٨٠	- إقرار دستور دائم لدولة الكويت ص ٨٦

ج- دلل على صحة العبارات التالية:-

١- حرص الشيخ سالم المبارك على تأكيد حدود دولة الكويت السياسية . ص ٧٨ (درجة واحدة)
- عندما اختلف على الحدود مع الامير عبد العزيز ارسل رسالة إلى الوكيل البريطاني في الكويت في سبتمبر ١٩٢٠م نكر فيها أن حدود الكويت كما يراها هي تلك التي جاءت بموجب الاتفاقية العثمانية الانجليزية عام ١٩١٣م .

٢- الكويت رائدة في مجال تقديم المساعدات الإنسانية لمختلف دول العالم . ص ٩٥ درجة واحدة
- سارعت الكويت في إعانة جمهورية بنغلادش التي تعرضت لإعصار سيذر .
- الجهود المقدمة لليابان بعد تسونامي * ساهمت في إرسال إعانة للصومال للتخفيف من آثار الجفاف والمجاعة . * دعمت تركيا بعد زلزال فان . * مساعدات للفلبين جراء تضررها من إعصار هايان .

* تبرعت لمنظمة الصحة العالمية لمعالجة فيروس
الأزمة السورية ٢٠١١م .



٣- دور المقاومة الكويتية للعدوان الغاشم ١٩٩٠م . ص ١٠٨ (درجتان بكتفي بنقطتين)
- عمل عصيان مدني بشكل كامل وقاطعوا كل أشكال التعاون مع المحتل العراقي * تشكلت جبهة شعبية وطنية من مختلف أطراف الشعب لمقاومة العدوان . * تألفت وتشكلت مجموعات مدنية لدعم العصيان المدني * من أبرز مشاهد المقاومة ما جرى في بيت القرين . * قامت مجموعة من الكويتيين بتشغيل المخابز والمستشفيات والجمعيات التعاونية * قامت مجموعات برفع المخلفات والقمامة من الشوارع وتشغيل محطات البنزين . * وإنشاء مخازن سرية وتقديم مساعدات للأسر المتضررة . * رفض الكويتيون تغيير هويتهم أو لوحات سياراتهم أو التعامل بالعملة العراقية أو الذهاب لمقار أعمالهم في الوزارات * نشطت الحكومة الكويتية في الخارج بكشف جرائم احتلال النظام العراقي وشرح أبعاد القضية الكويتية التي مثلت آنذاك إهدار لكل القيم العربية والإسلامية والإنسانية ..

السؤال الثالث (اختياري) :ويتكون من (أ،ب،ج)

أ- نفذ المطلوب ما بين القوسين :-

١- اتفاقية الحماية ١٨٩٩م . ص ٦٨ (درجتان يكتفي بنقطتين) (نتائجها على الكويت)
- تدعيم واستقرار وتطور الأوضاع في الكويت . * حفظت للكويت حدودها من الأطماع .
- دعم قدرتها على مواجهة الأخطار الخارجية والداخلية .

٢- مؤتمر الكويت عام ١٩١٦م . ص ٧٧ (درجة) (السبب المعلن)
- وعود بريطانيا باستقلال الدول العربية والوحدة العربية .

٣- اقتتال العراق الأزمة السياسية مع الكويت في شهر يوليو ١٩٩٠م . ص ١٠٥ (الأسباب)
(درجتان يكتفي بنقطتين)
- خرجت العراق من حرب مذهكة مع إيران استمر ثمان سنوات وجدت القيادة العراقية نفسها
مطالبة بإيجاد حلول سريعة لاقتصادها المنهار . *إعادة البنية التحتية والخدمات المتهالكة . *
التصعيد الإعلامي تجاه الجارة الشقيقة الصغرى الكويت . *اتهم الكويت بانها اعتدت على
أراضيها الحدودية وسرقت النفط العراقي وأنها وراء خفض أسعار النفط العراق.

ب - فرق بين كل من الشيخ أحمد الجابر والشيخ صباح السالم من حيث الجوانب التي في المجال الثقافي والتعليمي :-

الشيخ أحمد الجابر ص ٨٠ درجة	الشيخ صباح السالم ص ٨٨ درجة
- المدرسة الأحمدية ١٩٢١م وأضيف عام ١٩٤٣م من الغرف للمبني الأول وأعيد بناء المدرسة ١٩٤٨م لمواجهة الزيادة في - مجلس المعارف عدد الطلاب ١٩٣٦مهمته الإشراف على تأسيس المدارس والإنفاق عليها وتوجيهها . وتمت دعوة خمسين ناخباً من أهالي الكويت لانتخاب أعضاء المجلس .	- إنشاء جامعة الكويت ١٩٦٦م

تابع اجابة السؤال الثالث :-

ج- اكتب مما درست حول:-

- ١- انجازات الشيخ جابر الأحمد الداخلية . ص ٩٠ (درجتان يكتفي بنقطتين)
 - مؤسسة الكويت للتقدم العلمي . * منح المرأة حقوقها السياسية .
 - الهيئة العامة لشئون القصر . * إنشاء صندوق احتياطي الأجيال القادمة
- ٢- المناصب التي تقلدها الشيخ صباح الأحمد الصباح . ص ٩٤-٩٥ (نصف × ٢ = درجة واحدة)
 - تم تعيينه عضوا في اللجنة التنفيذية العليا التي عهد إليها تنظيم الدوائر الحكومية . ووضع الخطط ومتابعة تنفيذها وهو لم يتجاوز الخامسة والعشرين من عمره .
 - تولى منصب رئيس دائرتي المطبوعات والشؤون الاجتماعية .
 - تولى منصب رئيس لجنة كتابة تاريخ الكويت ١٩٥٩ م .
 - توليه منصب وزير الخارجية عام ١٩٦٣م حيث استمر لأكثر من أربعين عاما يشغل هذا المنصب ، وهو بذلك يعد أقدم وزيرا للخارجية على مستوى العالم العربي . فاستحق أن يكون عميدا للدبلوماسيين العرب حيث استطاع خلال تلك السنوات الطويلة التي شغل فيها المنصب أن يوطد علاقات الكويت بغيرها من الدول . كما ارتكزت سياسته علي مساعدة الدول بكل ماتملكه الكويت من طاقات سياسية ومادية وتقديم المنح والقروض للدول المحتاجة فكان اهم ملامح ذلك دعمه للقضية الفلسطينية والوقوف بجانب الاشقاء في مختلف مراحل القضية كما اسهم بالوساطة والتدخل لحل الكثير من الخلافات العربية .
 - تولى منصب نائب رئيس مجلس الوزراء ثم منصب رئيس مجلس الوزراء في عام ٢٠٠٣م حيث كان هذا المنصب هو آخر المناصب التي شغلها قبل توليه مقاليد الحكم في ٢٠٠٦م .

١٠



السؤال الرابع (اختياري): ويتكون من (أ-ب-ج)

أ- أكتب مما درست عن :-

- ١- موقف الدولة العثمانية من الكويت بعد اتفاقية الحماية ١٨٩٩م . ص ٦٧ (درجتان يكتفي بنقطتين)
- محاولات فرض النفوذ بالقوة . * إرسال بعض الوحدات العسكرية لأراضي الكويت .
- تهديد الشيخ مبارك نفسه بالنفي .

٢- أهم الملفات والقضايا المصيرية التي تعامل معها الشيخ أحمد الجابر.

ص ٧٩ (درجتان يكتفي بنقطتين)

- مشكلة الحدود والمسألة مع السعوديين . * معالجة علاقات الكويت مع العراق .
- الحذر في التعامل مع بريطانيا حيث لم ينصفوا الكويت في معاهدة العقير ١٩٢٢ .

٣- أسباب المطالبات العراقية عام ١٩٦١م لدولة الكويت . ص ١٠٥ (درجتان يكتفي بنقطتين)

- طمع عبد الكريم قاسم في النفط الكويتي حيث كان ثالث منتج للنفط في العالم .
- البطالة التي كان يعاني منها الشعب العراقي مع استياء المواطنين العراقيين العارم من السياسات الداخلية للعراق - حاجة العراق إلى موانئ بحرية على الخليج العربي .

ب- علل لما يلي :-

ص ٩٢ (درجة)



- ١- أثرت الحرب العراقية الإيرانية على الكويت
- تعرضت سفنها الحاملة للبترول للعدوان .

٢- لقب الشيخ سعد العبد الله ببطل التعمير .

- بطل التعمير :- قام بمتابعة البنية التحتية وتعميرها والتي دمرها عدوان النظام العراقي الغاشم.

(درجتان)

ج- قارن بين كلا مما يلي كما في الجدول التالي :-

أوجه المقارنة	معركة الصريف ص ٧٠	معركة الجهراء ص ٧٨
السنة	١٩٠١م	١٩٢٠م
حاكم الكويت	الشيخ مبارك الصباح	الشيخ سالم بن مبارك الصباح

انتهت الإجابة



وزارة التربية
التوجيه الفني العام للاجتماعيات

امتحان الدور الثاني (الفترة الدراسية الثانية)

الصف العاشر

تاريخ الكويت

العام الدراسي : ٢٠١٧/٢٠١٨ م
الزمن : (ساعتان وربع)
عدد الأوراق : (٥)

أجب عن ثلاثة أسئلة على أن يكون السؤال الأول إجباري :

السؤال الأول : (إجباري) يتكون من (أ - ب - ج - د) :-

(أ) أكمل العبارات التالية بما يناسبها :-

- ١- الشيخ الذي تم اختياره قائداً للعمل الإنساني يسمى
- ٢- العام الذي تم فيه عقد معاهدة الحماية بين الكويت وبريطانيا.....م
- ٣- المعركة التي قادها الشيخ مبارك الصباح عام ١٩٠١م عرفت باسم
- ٤- الحاكم الذي قام بإعفاء الكويتيين من ضريبة الثلث على العقارات الشيخ.....

(ب) ضع خطأ تحت الخيار الصحيح من بين الخيارات التي تلي كل عبارة :-

- ١- العام الذي تأسس فيه أول مجلس بلدي في دولة الكويت:
(- ١٩٣٠م - ١٩٣١م - ١٩٣٢م - ١٩٣٣م)
- ٢- مركز حدودي كويتي هاجمته القوات العراقية عام ١٩٧٣م :
(- النويصيب - الصامته - العبدلي - الجهراء)
- ٣- الشيخ الذي تحررت في عهده دولة الكويت من الغزو العراقي الغاشم عام ١٩٩١م:
(- صباح الأحمد - صباح السالم - جابر الأحمد - عبدالله السالم)
- ٤- المجلس الذي تولى الإشراف على تأسيس المدارس والإنفاق عليها عام ١٩٣٦م يسمى :
(- المجلس الشوري - المجلس البلدي - المجلس التشريعي - مجلس المعارف)

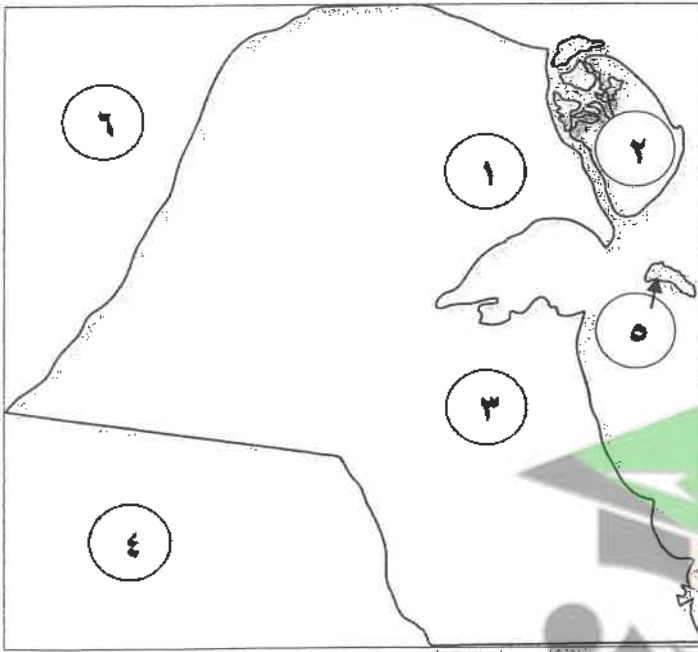
صفوة المعلمين الكويت

تابع السؤال الأول:

(ج) اختر للمجموعة (أ) ما يرتبط بها من المجموعة (ب) بوضع الرقم المناسب :

م	المجموعة (أ)	الرقم المناسب	المجموعة (ب)
١-	العام الذي استقلت فيه دولة الكويت		١٩٦٣م
٢-	أول شحنة نفط من ميناء الأحمدى		١٩٣٨م
٣-	تأسيس المجلس التشريعي في دولة الكويت		١٩٦٦م
٤-	تولى الشيخ صباح الأحمد منصب وزير للخارجية		١٩٤٦م
			١٩٦١م

(د) أمامك خريطة دولة الكويت الصماء ، اكتب الرقم الدال على العبارات التي تليها :



- حقل بحره يمثل على الخريطة الرقم ()

- الدولة التي استضافت الحكومة الكويتية أثناء

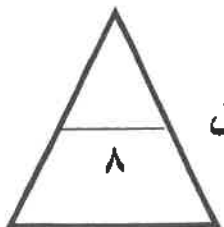
الغزو يمثلها الرقم ()

- أكبر الجزر الكويتية يمثلها على الخريطة

الرقم ()

- بداية حفر النفط في دولة الكويت يمثل

على الخريطة الرقم ()



درجة السؤال الأول

صفوة معلمى الكويت

السؤال الثاني (اختياري) يتكون من (أ - ب - ج)

أ) علل لما يلي :

١- أهمية المجلس التشريعي في عهد الشيخ أحمد الجابر .

.....
.....

٢- لقب الشيخ جابر الأحمد بلقب أمير القلوب .

.....
.....

ب) دلل على صحة العبارات التالية :

١- حفظت اتفاقية الحماية البريطانية للكويت حدودها .

.....
.....
.....

٢- اهتمام الشيخ مبارك الصباح بالتعليم والصحة .

التعليم :

الصحة :

ج) عدد الإنجازات الداخلية للشيخ جابر الأحمد في شتى المجالات :

.....
.....
.....

١٠

درجة السؤال الثاني

معلمي الكويت
صفوة

السؤال الثالث (اختياري) يتكون من (أ - ب - ج)
أ) اكتب عن المناسبة التي ذكرت فيها العبارة :

١- (لقد قاومت هذا طيلة عمري وأنت تطالبني بالموافقة على ذلك.)

٢- (إن جُلَّ قصدنا من هذا الاجتماع هو دعم مسائل الأمة العربية .)

٣- (علينا أن ندرك أن التعاون الإيجابي المثمر بين السلطتين التشريعية والتنفيذية قدر حتمي لتحقيق النقلة النوعية نحو التغيير والاصلاح ودفع مسيرة البناء والتنمية إلى الأمام) .

ب) علل لما يلي :

١- تأسيس الصندوق الكويتي للتنمية عام ١٩٦١م .

٢- إطلاق لقب بطل التعمير للشيخ المغفور له الشيخ سعد العبدالله الصباح.

ج) اذكر مما يلي :

١- اذكر الأحداث المهمة في عهد الشيخ سالم المبارك .

٢- الخطوات الروسية الثلاث لتعزيز نفوذها في الكويت نهاية القرن التاسع عشر ميلادي.

درجة السؤال الثالث

السؤال الرابع (اختياري) يتكون من (أ - ب ج)

أ) ١- فرق بين كلاً من :

السياسة الخارجية للشيخ جابر الأحمد	السياسة الخارجية للشيخ صباح السالم
.....
.....
.....
المادة الثانية من الدستور الكويتي	المادة الأولى من الدستور الكويتي
.....
.....
.....

ب) عدد النتائج المترتبة على كل من :

١- الحرب العراقية الإيرانية على دولة الكويت.

.....
.....
٢- مساعدة الشيخ مبارك الصباح للأمير عبدالعزيز آل سعود.

.....
.....

ج) اكتب مما درست حول:

١- مطالبات النظام العراقي من الكويت في شهر يوليو ١٩٩٠ م.

.....
.....

٢- السياسة الداخلية في عهد الشيخ صباح السالم.

.....
.....

(نهاية الأسئلة)

العام الدراسي : ٢٠١٧/٢٠١٨ م
الزمن : (ساعتان وربع)
عدد الأوراق : (٥)

امتحان الدور الثاني (الفترة الصباحية الثانية)



وزارة التربية
التوجيه الفني العام للاجتماعيات

أجب عن ثلاثة أسئلة على أن يكون السؤال الأول إجباري :

السؤال الأول : (إجباري) يتكون من (أ - ب - ج - د) :

(أ) أكمل العبارات التالية بما يناسبها : (نصف درجة لكل نقطة)

١- الشيخ الذي تم اختياره قائداً للعمل الإنساني يسمى . الشيخ صباح الأحمد الصباح ص ٩٧

٢- العام الذي تم فيه معاهدة الحماية بين الكويت وبريطانيا . ١٨٨٩م ص ٦٩

٣- المعركة التي قادها الشيخ مبارك الصباح عام ١٩٠١م عرفت باسم . الصريف ص ٧٠

٤- الحاكم الذي قام بإعفاء الكويتيين من حربية الثلث على العقارات الشيخ . جابر بن مبارك ص ٧٧

(ب) ضع خطأ تحت الخيار الصحيح من بين الخيارات التي تلي كل عبارة :- (نصف درجة لكل نقطة)

١- العام الذي تأسس فيه أول مجلس بلدي في دولة الكويت : ص ٨٠

(١٩٣٠م - ١٩٣١م - ١٩٣٢م - ١٩٣٣م)

٢- مركز حدودي كويتي هاجمته القوات العراقية عام ١٩٧٣م ص ١٠٥

(النويصيب - الصامته - العبدلي - الجهراء)

٣- الشيخ الذي تحررت في عهده دولة الكويت من الغزو العراقي الغاشم عام ١٩٩١م : ص ٩٠

(صباح الأحمد - صباح السالم - جابر الأحمد - عبدالله السالم)

٤- المجلس الذي تولى الإشراف على تأسيس المدارس والافتتاح عليها عام ١٩٣٦م يسمى : ص ٨٠

(المجلس الشوري - المجلس البلدي - المجلس التشريعي - مجلس المعارف)

صفوة تلمي الكويت

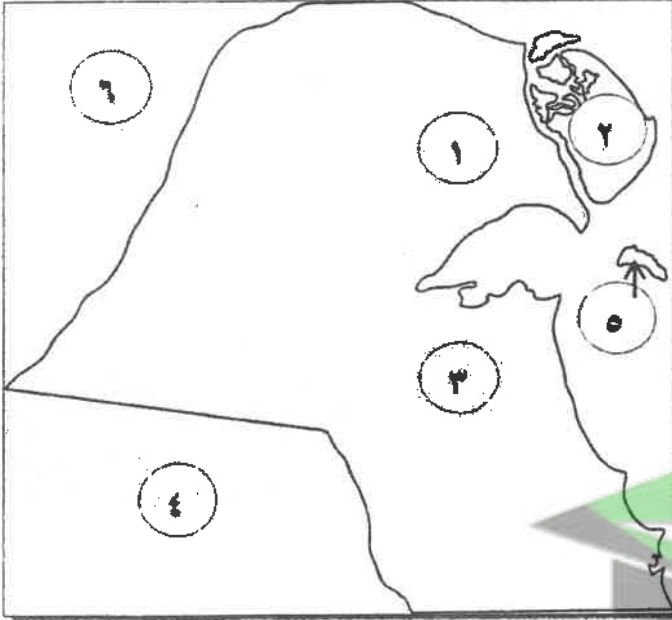
تابع السؤال الأول:

ج) اختر للمجموعة (أ) ما يرتبط بها من المجموعة (ب) بوضع الرقم المناسب : (نصف درجة لكل نقطة)

م	المجموعة (أ)	الرقم المناسب	المجموعة (ب)
١-	العام الذي استقلت فيه دولة الكويت	٤	١٩٦٣م
٢-	أول شحنة نفط من ميناء الأحمدى	٣	١٩٣٨م
٣-	تأسيس المجلس التشريعي في دولة الكويت	-	١٩٦٦م
٤-	تولى الشيخ صباح الأحمد منصب وزير للخارجية	٢	١٩٤٦م
		١	١٩٦١م



د) أمامك خريطة دولة الكويت الصماء ، اكتب الرقم الدال على العبارات التي تليها : (نصف درجة لكل نقطة)



- حقل بحره يمثل على الخريطة الرقم (١) ص ٨١
- الدولة التي استضافت الحكومة الكويتية أثناء الغزو يمثلها الرقم (٤) ص ١٠٦
- أكبر الجزر الكويتية يمثلها على الخريطة الرقم (٢) ص ١٠٣
- بداية حفر النفط في دولة الكويت يمثلها الخريطة الرقم (٣) ص ٨١

السؤال الثاني (اختياري) يتكون من (أ - ب - ج)

(أ) علل لما يلي :

- ١- أهمية المجلس التشريعي في عهد الشيخ أحمد الجابر الصباح (درجتين) بنقطتين فقط) ص ٨٠
- إدارة شئون مدينة الكويت الداخلية بالتعاون مع حاكم الكويت
- إدارة الجمارك والأسواق وحل الصراعات بين التجار في الأسواق
- وضع ميزانية للجمارة.
- ٢- لقب الشيخ جابر الأحمد بلقب أمير القلوب .
- تميزت شخصيته بحب الخير والعطاء والحكمة.
- تفانيا في عطاء خدمة وطنه وشعبه ورعاية مصالح أبناء وطنه في أصعب الأوقات وأحلك المراحل التي مرت بها الكويت في تاريخها أحبه الجميع وتمسكوا به قائداً للدولة لذلك لقب (بأمير القلوب) .
(ب) نل على صحة العبارات التالية : (درجة واحدة فقط)

- ١- حفظت اتفاقية الحماية البريطانية للكويت حدودها . ص ٦٩
- أنت اتفاقية الحماية عام ١٨٩٩م إلى نعيم واستقرار وتطور الأوضاع في الكويت ودعم قدراتها في مواجهة الأخطار الخارجية . ص ٦٨
- استمرت الكويت في ظل هذه المحافظة على استقلالها ، إذا انطبق عليها وصف الدولة المستقلة تحت الحماية البريطانية ، وذلك لأن الكويت خلال فترة الحماية فقدت سيادتها فيما يتعلق بإدارة شئونها الخارجية وطبقت على الكويت عبارة (إمارة مستقلة تحت الحماية البريطانية) في جميع الاتصالات الرسمية التي أجرتها الحكومة البريطانية بشأن الكويت مع الحكومات الأخرى وتكمن أهمية اتفاقية الحماية البريطانية في أنها حفظت للكويت حدودها من الأطماع في تلك الفترة . ص ٦٩

- كانت الكويت تعاني من تهديدات الدولة العثمانية ومحاولات بسط سيطرتها على الأراضي الكويتية وإرسال موظفين أو حاميات من الجند إلى الكويت إلى أن عقدت الكويت مع بريطانيا اتفاقية الحماية عام ١٨٩٩م التي أبطلت كثيراً من الإدعاءات والاطماع المزعومة للجانب العراقي في فترة من الفترات ، لكنها على الرغم من ذلك لم توقفها . ص ١٠٣

- ٢- اهتمام الشيخ مبارك الصباح بالتعليم والصحة . (درجتين) ص ٦٥
التعليم : أنشئت المدرسة المباركية عام ١٩١١م أول المدارس النظامية الأهلية.
الصحة : وافقة على تأسيس أول مستشفى عام ١٩١١م والذي أطلق عليه المستشفى الأمريكي.

ج) عدد الإنجازات الداخلية للشيخ جابر الأحمد في شتى المجالات : (ثلاث درجات)

- مؤسسة الكويت للتقدم العلمي .
- الهيئة العامة لشئون القصر .
- منح المرأة حقوقها السياسية .
- إنشاء صندوق احتياطي الأجيال القادمة .

ص ٩٠

السؤال الثالث (اختياري) يتكون من (أ - ب - ج)

(ا) اكتب عن المناسبة التي ذكرت فيها العبارة :

١- (لقد قاومت هذا طيلة عمري وأنت تطالبني بالموافقة على ذلك) (درجة) ص ٧٠
احتد النقاش بين الشيخ مبارك الصباح والمعمد البريطاني بشأن تعيين ممثل تركي في الكويت كان الشيخ مبارك رافضاً وبشدة لهذا التعيين.

٢- (إن خلّ قصبنا من هذا الاجتماع هو دعم مسائل الأمة العازية) (درجة) ص ٧٧
الشيخ جابر بن مبارك الصباح مع أمير الأهواز الشيخ خزعل خلال عقد بريطانيا مؤتمر في الكويت عام ١٩١١م بغرض وقف الدول العربية إلى جانب هيئة الدولة العثمانية أثناء الحرب العالمية الأولى ، مقابل ذلك الوفاء بوعودها في الاستقلال وتحقيق الوحدة العربية.

٣- (علينا أن ندرك أن التعاون الإيجابي المثمر بين السلطتين الشرعية والتفوضية قدر حتمي لتحقيق النقلة النوعية نحو التغيير والإصلاح ودفع مسيرة البناء والتنمية إلى الأمام) . (درجة) ص ٩٥
(أول كلمة وجهها الشيخ صباح الأحمد للشعب الكويتي بعد أداء اليمين الدستورية في مجلس الأمة عام ٢٠٠٦ م)
(ب) علل لما يلي :

١- تأسيس الصندوق الكويتي للتنمية عام ١٩٦١ م . (درجة) ص ٨٧
لتقديم المساهمة في تحقيق الجهود الإنمائية والاقتصادية للدول العربية والدول الأخرى النامية ويعد أداة لمد جسور الصداقة والإخاء بين دولة الكويت والدول العربية النامية.

٢- إطلاق لقب بطل التعمير للشيخ المغفور له الشيخ سعد العبدالله الصباح . (درجة) ص ٩٣
قام بمتابعة البنية التحتية وتعميرها ، والتي دمرها عدوان النظام العراقي .

(ج) اذكر مما يلي :

١- الأحداث المهمة في عهد الشيخ سالم المبارك . ص ٧٨
- معركة حمض مايو ١٩٢٠م . - معركة الجهراء اكتوبر ١٩٢٠م .
- بناء السور الثالث للكويت والذي شيد من أجل حماية مدينة الكويت من أي هجوم بري بعد هزيمة الكويتيين في معركة حمض . - خفض الرسوم الجمركية وإلغاء الضرائب على الصادرات .
- قام بتعيين مختارين في الأحياء .

٢- الخطوات الروسية الثلاث لتعزيز نفوذها في الكويت نهاية القرن التاسع عشر ميلادي . (ثلاث درجات)
ص ٦٦

- إنشاء محطة للفحم .
- ميناء لتزويد سفنها بالوقود .
- جعل الكويت نهاية لخط سكة حديدية (مشروع كاتيسيت) .

السؤال الرابع (اختياري) يتكون من (أ - ب - ج)
 (أ) - ١- فرق بين كلاً من :

السياسة الخارجية للشيخ جابر الأحمد ص ٩١-٩٢ (درجة)	السياسة الخارجية للشيخ صباح السالم ص ٨٩ (درجة)
- صاحب فكرة إنشاء مجلس التعاون عام ١٩٨١ م .	- حرصت الكويت على دعم القضايا العربية لا سيما قضية العرب الأولى (فلسطين) حيث شاركت في حرب ١٩٦٧م وحرب ١٩٧٣م لنصرة فلسطينيين ضد العدوان الصهيوني .
المادة الثانية من الدستور الكويتي ص ٨٦ (درجة)	المادة الأولى من الدستور الكويتي ص ٨٦ (درجة)
- إن الدين الرسمي للدولة هو الإسلام ، وإن الشريعة الإسلامية مصدر رئيسي للتشريع .	- إن الكويت دولة عربية ذات سيادة تامة ، وشعب الكويت جزء من الأمة العربية ولغتها الرسمية هي اللغة العربية .

(ب) عدد النتائج المترتبة على كل من :

- ١- الحرب العراقية الإيرانية على دولة الكويت .
- تعرضت سفن وناقلات النفط الكويتية الحاملة للبترول للعنوان ، إلا أن سياسة الكويت المتوازنة واعد اندفاعها
وحكمة الشيخ جابر الأحمد الصباح جنبها الدخول المباشر في هذا الحرب .
ص ٩٢ (درجة)
- ٢- مساعدة الشيخ مبارك الصباح للأمير عبدالعزيز آل سعود .
- قيام الدولة السعودية الثالثة .
ص ٦٩ (درجة)

(ج) اكتب مما درست حول:

- ١- مطالبات النظام العراقي من الكويت في شهر يوليو ١٩٩٠م .
- إلغاء ديون تقدر بـ ١٢ مليار دولار . - تعويضها عن البترول الذي تدعي بأنه أخذ من الجزء العراقي
من حقل الرميلة الجنوبي بحوالي ٢.٤ بليون دولار . - تأجير جزيرتي وربة ويوييان .
- تقديم مبلغ ضخم غير محدد كنواة لمشروع تنموي كبير بالعراق .
ص ١٠٦ (درجتين)
- ٢- السياسة الداخلية في عهد الشيخ صباح السالم .
- المجال الإسكاني : مساكن ذوي الدخل المحدود بإشراف وزارة الأشغال .
- المجال التعليمي : إنشاء جامعة الكويت عام ١٩٦٦م .
- المجال الاقتصادي : تأميم النفط في الخامس من شهر مارس عام ١٩٧٥م .
- المجال العسكري : استحداث نظام التجنيد الإلزامي .
ص ٨٨ (درجتين)

(نهاية الأسئلة)

انتهت الأسئلة مع تمنياتنا لكم بالتوفيق ،،،

صفوة على اللبيب



وزارة التربية
امتحان نهاية الفترة الدراسية الثانية
التوجيه الفني العام للاجتماعيات
العام الدراسي/ ٢٠١٦- ٢٠١٧م
للسف العاشر
الزمن : ساعتان
تاريخ الكويت
عدد الأوراق : ٥

السؤال الأول (إجباري) يتكون من (أ - ب - ج - د)

أ- أكمل العبارات التالية بما يناسبها فيما درست :

- ١- المدينة التي اتخذتها الحكومة الكويتية مقراً مؤقتاً لها في المملكة العربية السعودية تسمى.....
- ٢- المقيم السياسي البريطاني الذي ترأس المؤتمر الذي عقد في الكويت عام ١٩١٦م اسمه.....
- ٣- مظهر معماري تم بنائه في عهد الشيخ سالم بن مبارك الصباح يسمى
- ٤- المنطقة التي استقبل فيها الشيخ مبارك الصباح البعثة الألمانية عام ١٩٠٠م تسمى

ب- ضع خطاً تحت الخيار الصحيح من بين الخيارات التي تلي كل عبارة :

- ١- شيخ الكويت الذي قام بإعفاء الكويتيين من ضريبة الثلث على العقارات :
(أحمد الجابر الصباح - عبد الله السالم الصباح - جابر بن مبارك الصباح - مبارك الصباح)
- ٢- الدولة التي تم معها إلغاء معاهدة الحماية عام ١٨٩٩م في عهد الشيخ عبد الله السالم الصباح :
(البرتغال - هولندا - ألمانيا - بريطانيا)
- ٣- العام الذي تم فيه إختيار الشيخ صباح الأحمد الصباح قائدا للعمل الانساني من جانب هيئة الأمم المتحدة :
(٢٠١١م - ٢٠١٢م - ٢٠١٣م - ٢٠١٤م)
- ٤- المركز الحدودي الكويتي الذي هاجمته القوات العراقية عام ١٩٧٣م :
(النويصيب - الصامنة - العبدلي - الجهراء)

معلمي الكويت
صفوة

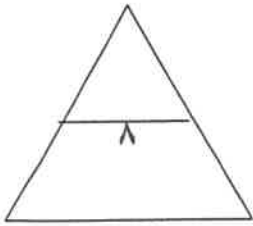
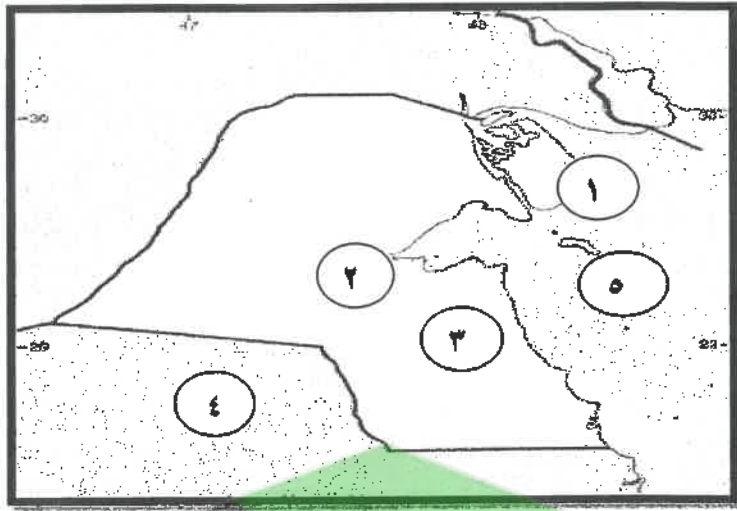
تابع / امتحان مادة تاريخ الكويت للصف العاشر لنهاية الفترة الدراسية الثانية / العام الدراسي ٢٠١٦-٢٠١٧م

تابع السؤال الأول

ج- اختر للمجموعة (أ) ما يرتبط بها من المجموعة (ب) بوضع الرقم المناسب:

م	المجموعة (أ)	الرقم المناسب	المجموعة (ب)
١	الشيخ عبد الله السالم الصباح		الأمير الغالي
٢	الشيخ جابر الأحمد الصباح		بطل التعمير
٣	الشيخ سعد العبد الله سالم الصباح		عميدا للدبلوماسيين
٤	الشيخ صباح الأحمد الصباح		أبو الدستور
			أمير القلوب

د- أمامك خريطة دولة الكويت الصماء أكتب الرقم الدال على العبارات التي تليها :



- حقل برقان يمثل على الخريطة الرقم ()
- جزيرة بوبيان يمثلها على الخريطة الرقم ()
- دولة إنتقلت إليها الحكومة الشرعية الكويتية أثناء الغزو العراقي الغاشم يمثلها على الخريطة الرقم ()
- معركة وقعت في عهد الشيخ سالم بن مبارك عام ١٩٢٠م يمثلها على الخريطة الرقم ()

تابع /امتحان مادة تاريخ الكويت للصف العاشر لنهاية الفترة الدراسية الثانية /العام الدراسي ٢٠١٦-٢٠١٧م

السؤال الثاني (اختياري) يتكون من (أ - ب - ج)

أ- دلل على صدق العبارات التالية:

١- اهتمام الشيخ مبارك الصباح بمجالي الصحة والتعليم .

- مجال الصحة :

- مجال التعليم:.....

٢- تولى الشيخ صباح الأحمد الصباح العديد من المناصب الهامة .

-

-

ب- نفذ المطلوب منك ما بين القوسين:

(نتائجها على الكويت)

١- معاهدة ١٨٩٩م .

-

-

(الأسباب)

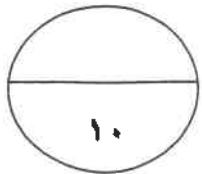
٢- مشكلة الحدود الكويتية العراقية في عهد عبد الكريم قاسم .

-

-

ج- قارن بين كل من:

المجلس التشريعي	المجلس البلدي	أوجه الاختلاف
م.	م.	سنة التأسيس
.....	المهام



٣
معلمي الكويت
صفوة

تابع /امتحان مادة تاريخ الكويت للصف العاشر لنهاية الفترة الدراسية الثانية /العام الدراسي ٢٠١٦-٢٠١٧م

السؤال الثالث (اختياري) يتكون من (أ - ب - ج)

أ- علل لما يلي :

١ - أهمية تأسيس الصندوق الكويتي للتنمية .

٢- أهمية الدساتير في حياة الأمم والأوطان .

ب- دلل على متانة الروابط بين الشعب الكويتي وحكومته عام ١٩٩٠م .

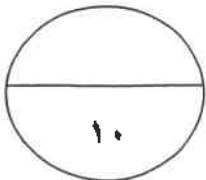
ج- فرق بين كل من :

١- السياسة الداخلية في دولة الكويت في عهد كل من :

الشيخ صباح السالم الصباح	الشيخ جابر الأحمد الصباح
.....
.....

٢- مواد الدستور الكويتي:-

المادة الأولى	المادة الثانية
.....



معلمي الكويت
صفوة الكويت

تابع /امتحان مادة تاريخ الكويت للصف العاشر لنهاية الفترة الدراسية الثانية /العام الدراسي ٢٠١٦-٢٠١٧م

السؤال الرابع (اختياري) يتكون من (أ - ب - ج)

أ- علل لما يلي :

١- افتعال العراق الأزمة السياسية مع الكويت في شهر يوليو ١٩٩٠م .

٢- كان الشيخ مبارك الصباح حاكما مطلقا بل هو في حقيقة الأمر الدولة بكل ما تمثله من سلطات .

ب- فرق بين كل مما يلي :

السياسة الخارجية للشيخ جابر الأحمد الصباح	السياسة الخارجية للشيخ صباح السالم الصباح
.....

ج- دلل على صدق العبارات التالية:

١- واجهت الشيخ أحمد الجابر الصباح قضايا وملفات مصيرية في السياسة الخارجية للكويت .

٢- - تأييد الشيخ مبارك الصباح للأمير عبد العزيز آل سعود .

انتهت الأسئلة مع تمنياتنا لكم بالتوفيق



نموذج الإجابة

وزارة التربية
التوجيه الفني العام للاجتماعيات
امتحان نهاية الفترة الدراسية الثانية
للسف العاشر
تاريخ الكويت
العام الدراسي: ٢٠١٦-٢٠١٧م
ساعتان
الأوراق: ٦



السؤال الأول (إجباري) يتكون من (أ - ب - ج - د)

١- أكمل العبارات التالية بما يناسبها فيما درست : (لكل نقطة نصف درجة)

- ١- المدينة التي اتخذتها الحكومة الكويتية مقراً مؤقتاً لها في المملكة العربية السعودية مدينة تسمى الطائف ص ١٠٦
- ٢- المقيم السياسي البريطاني الذي ترأس المؤتمر الذي عقد في الكويت عام ١٩١٦م اسمه السير برسي كوكس ص ٧٧
- ٣- مظهر معماري تم بناؤه في عهد الشيخ سالم بن مبارك الصباح يسمى السور الثالث ص ٧٨
- ٤- المنطقة التي استقبل فيها الشيخ مبارك الصباح البعثة الألمانية عام ١٩٠٠م تسمى الجبراء ص ٦٧

ب- ضع خطاً تحت الخيار الصحيح من بين الخيارات التي تلي كل عبارة :

١- شيخ الكويت الذي قام بإعفاء الكويتيين من ضريبة الثلث على العقارات : ص ٧٧

(أحمد الجابر الصباح - عبد الله سالم الصباح - جابر بن مبارك الصباح - مبارك الصباح)

٢- الدولة التي تم معها إلغاء معاهدة الحماية عام ١٨٩٩م في عهد الشيخ عبد الله سالم الصباح: ص ٨٥

(البرنغال - هولندا - ألمانيا - بريطانيا)

٣- العام الذي تم فيه إختيار الشيخ صباح الأحمد الصباح قائدا للعمل الانساني من جانب هيئة الأمم المتحدة :

(٢٠١١م - ٢٠١٢م - ٢٠١٣م - ٢٠١٤م) ص ٩٧

٤- المركز الحدودي الكويتي الذي هاجمته القوات العراقية عام ١٩٧٣م :

(النويصيب - الصامطة - العبدلي - الجبراء) ص ١٠٥

معلمي الكويت
صفوة

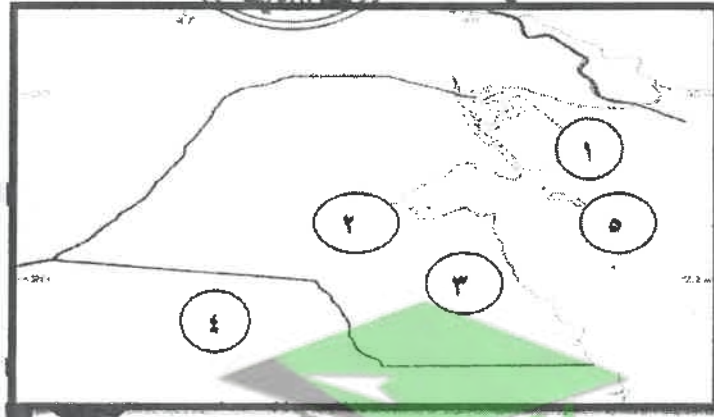
تابع /نموذج إجابة امتحان مادة تاريخ الكويت للصف العاشر الفترة الدراسية الثانية/ العام الدراسي ٢٠١٦-٢٠١٧م

تابع إجابة السؤال الأول

ج- اختر للمجموعة (أ) ما يرتبط بها من المجموعة (ب) بوضع الرقم المناسب:

م	المجموعة (أ)	الرقم المناسب	المجموعة (ب)
١	الشيخ عبد الله السالم الصباح	—	الأمير الغالي
٢	الشيخ جابر الأحمد الصباح	٣	بطل التعمير ص ٩٣
٣	الشيخ سعد العبد الله سالم الصباح	٤	عميداً للدبلوماسيين ص ٩٤
٤	الشيخ صباح الأحمد الصباح	١	أبو الدستور ص ٨٦
			أمير القلوب ص ٩٠

د- أمامك خريطة دولة الكويت الصماء أكتب الرقم الذي لا على العبارة التي تليها :



- حقل برقان يمثل على الخريطة الرقم (٣) ص ٨١
- جزيرة بوبيان يمثلها على الخريطة الرقم (١) ص ٨١
- دولة إنتقلت إليها الحكومة الشرعية الكويتية أثناء الغزو العراقي الغاشم يمثلها على الخريطة الرقم (٤) ص ١٠٦
- معركة وقعت في عهد الشيخ سالم بن مبارك عام ١٩٢٠م يمثلها على الخريطة الرقم (٢) ص ٧٨

معلمي الكويت
صفوة

تابع/ نموذج إجابة امتحان مادة تاريخ الكويت للصف العاشر الفترة الدراسية الثانية /العام الدراسي ٢٠١٦-٢٠١٧م

السؤال الثاني (اختياري) يتكون من (أ - ب - ج) (يكتفى بنقطتين لكل سؤال)

أ- دلل على صدق العبارات التالية: (درجتان) ص ٦٥

١- اهتمام الشيخ مبارك الصباح بمجالي الصحة والتعليم .

- مجال الصحة : وافق على تأسيس أول مستشفى والذي أطلق عليها المستشفى الأمريكاني

- مجال التعليم: أنشئت المدرسة المباركية أول المدارس النظامية الأهلية

٢- تولى الشيخ صباح الأحمد الصباح العديد من المناصب الهامة . (درجتان) ص ٩٤

- منصب رئيس دائرتي المطبوعات والشؤون الاجتماعية

- منصب رئيس لجنة كتابة تاريخ الكويت ١٩٥٩م

- منصب وزير الخارجية عام ١٩٦٣م حيث استمر لأكثر من

- منصب نائب رئيس مجلس الوزراء . منصب رئيس مجلس الوزراء ٢٠١٦-٢٠١٧م

- منصب أمير دولة الكويت

ب- نفذ المطلوب منك ما بين القوسين:

١- معاهدة ١٨٩٩م . (نتائجها على الكويت) (درجتان) ص ٦٨

- تدعيم الاستقرار - تطور الأوضاع في الكويت

- دعم قدراتها في مواجهة الأخطار الخارجية والداخلية - حفظت للكويت حدودها من الأطماع في تلك الفترة

٢- مشكلة الحدود الكويتية العراقية في عهد عبد الكريم قاسم (الأسباب) (درجتان) ص ١٠٥

- طمع عبد الكريم قاسم في النفط الكويتي حيث كانت الكويت ثالث منتج للنفط في العالم

- البطالة التي كان يعاني منها الشعب العراقي مع استياء المواطنين العراقيين العارم من السياسات الداخلية للعراق

- حاجة العراق إلى موانئ بحرية على الخليج العربي

معلمي الكويت
صفوة

تابع/ نموذج إجابة امتحان مادة تاريخ الكويت للصف العاشر الفترة الدراسية الثانية/العام الدراسي ٢٠١٦-٢٠١٧م

(درجتان) ص ٨٠

ج- قارن بين كل من :

المجلس البلدي	المجلس التشريعي	أوجه الاختلاف
١٩٣٠م نصف درجة	١٩٣٨م نصف درجة	سنة التأسيس
إدارة أمور التنظيم الداخلي للكويت - من أسواق - وأمور النظافة العامة نصف درجة	- إدارة شؤون مدينة الكويت الداخلية بالتعاون مع حاكم الكويت - إدارة الجمارك والأسواق وحل الصراعات بين التجار في الأسواق - وضع ميزانية للإمارة نصف درجة	المهام

السؤال الثالث (اختياري) يتكون من (أ - ب - ج) (يكتفى بقطعتين على كل سؤال)

أ- علل لما يلي :

(درجتان) ص ٨٧

١ - أهمية تأسيس الصندوق الكويتي للتنمية

- المساهمة في تحقيق الجهود الإنمائية والاقتصادية للدول العربية الأخرى النامية
- يعد أداة لمد جسر الصداقة والإخاء بين دولة الكويت والدول العربية النامية

(درجتان) ص ٨٥

٢- أهمية الدساتير في حياة الأمم والأوطان

- لطبيعة المهام التي تنظمها إذ إنها تحدد المفاصل المهمة في الدولة
- تحدد صلاحيات كل سلطة من السلطات الثلاثة (التشريعية والتنفيذية والقضائية)

(درجتان) ص ١٠٨

ب- دلل على متانة الروابط بين الشعب الكويتي وحكومته عام ١٩٩٠م

- قام الكويتيون بعصيان مدني بشكل كامل وقاطعوا كل أشكال التعاون مع المحتل العراقي
- تشكلت جبهة شعبية وطنية من مختلف أطياف الشعب الكويتي لمقاومة العدوان ومساعدة الجهود العسكرية

- من ابرز مشاهد المقاومة ماجرى في بيت القرين

- تشكلت مجموعات مدنية لدعم العصيان المدني الكويتي بالداخل

- قامت مجموعات من الكويتيون بتشغيل المخابز والمستشفيات والجمعيات التعاونية وغيرها من مؤسسات وجمعيات النفع العام الكويتية

معلمي الكويت
صفوة

تابع /نموذج إجابة امتحان مادة تاريخ الكويت للصف العاشر الفترة الدراسية الثانية/العام الدراسي ٢٠١٦-٢٠١٧م

- كذلك قامت مجموعات برفع القمامة والمخلفات من الشوارع وتشغيل محطات البنزين
- وإنشاء مخازن سرية وتقديم مساعدات للأسر المتضررة
- كما رفض الكويتيون تغيير هوياتهم أو لوحات سياراتهم أو التعامل بالعملة العراقية أو الذهاب إلى مقار أعمالهم في الوزارات المختلفة.
- نشطت الحكومة الكويتية في الخارج بكشف جرائم احتلال النظام العراقي وشرح أبعاد القضية الكويتية التي مثلت آنذاك إهدارا لكل القيم العربية والإسلامية والإنسانية.

ج- فرق بين كل من :

١ - السياسة الداخلية في دولة الكويت في عهد كل من:

الفترة الدراسية: ديوان عام الوزارة الوزارة السنة ٢٠١٦-٢٠١٧ الشيخ جابر الأحمد الصباح	الشيخ صباح السالم الصباح
- استحداث نظام التجنيد الإجباري	استحدثت نظام التجنيد الإجباري
- مساكن ذوي الدخل المحدود بإشراف وزارة الإشتغال	مساكن ذوي الدخل المحدود بإشراف وزارة الإشتغال
- إنشاء جامعة الكويت ١٩٦٦م	إنشاء جامعة الكويت ١٩٦٦م
- تأميم النفط في ٥ مارس ١٩٧٥م	- تأميم النفط في ٥ مارس ١٩٧٥م

(درجتان) ص ٨٦

٢ - مواد الدستور الكويتي :-

المادة الثانية	المادة الأولى
- أن الدين الرسمي للدولة هو الإسلام	- أن الكويت دولة عربية ذات سيادة تامة
- أن الشريعة الإسلامية مصدر رئيسي للتشريع	- شعب الكويت جزء من الأمة العربية ولغتها الرسمية هي اللغة العربية

صفوة معلمى الكويت

تابع /نموذج إجابة امتحان مادة تاريخ الكويت للصف العاشر الفترة الدراسية الثانية/العام الدراسي ٢٠١٦-٢٠١٧م

السؤال الرابع (اختياري) يتكون من (أ - ب - ج) (يكتفى بنقطتين لكل سؤال)

أ- علل لما يلي :

١- افتعال العراق الأزمة السياسية مع الكويت في شهر يوليو ١٩٩٠م . (درجتان) ص ١٠٥
- الاقتصاد المنهار اثر الحرب العراقية الإيرانية التي استمرت ثمانية سنوات
- رغبتها في أعاده بناء البنية التحتية والخدمات المتهاكلة - لذلك قام النظام العراقي بالتصعيد الاعلامي
تجاه الجارة والشقيقة الصغرى الكويت - لذلك اتهمت الكويت بأنها اعتدت على أراضيها الحدودية وسرقت
النفط العراقي خلال انشغالها بالحرب مع إيران وأنها وراء انخفاض أسعار النفط آنذاك .

٢- كان الشيخ مبارك الصباح حاكما مطلقا بل هو في حقيقة الأمر الدولة بكل ما تمثله من سلطات (درجتان) ص ٦٥

- لأنه يواجه خلال فترة حكمه واقعا دوليا يموج بالتغيرات والتحديات الدولية
- المطامع والتهديدات التي طالبت وهددت إمارته ووجدت لها

ب- فرق بين كل من : (درجتان) ص ٨٩-٩١

السياسة الخارجية للملك جابر الأحمد الصباح	السياسة الخارجية الشيخ صباح السالم الصباح
- حرص على أقامت علاقات الود والتفاهم مع اغلب شعوب العالم وتجسدت انجازاته التالية: صاحب فكرة إنشاء مجلس التعاون الخليجي اثبت موقف الكويت في الحروب العربية - حرب اليمن حرص على تحقيق الوحدة اليمنية - حرب العراق وإيران	- حرصت دولة الكويت على دعم العديد من القضايا العربية لاسيما فلسطين - شاركت الكويت في حرب ١٩٧٣م ١٩٦٧م لنصرة فلسطين ضد العدوان الصهيوني

ج- نل على صدق العبارات التالية:

١- واجهت الشيخ أحمد الجابر الصباح قضايا وملفات مصيرية في السياسة الخارجية للكويت . (درجتان) ص ٧٩

- مشكلة الحدود والمسألة مع السعوديين (المملكة العربية السعودية لاحقا) - معالجة علاقات الكويت مع العراق

- الحذر في التعامل مع بريطانيا حيث لم ينصفوا الكويت في معاهدة (العقير) ١٩٢٢م

٢- - تأييد الشيخ مبارك الصباح للأمير عبد العزيز آل سعود (درجتان) ص ٦٩

- عندما جهز الأمير عبد العزيز آل سعود لمغادرة الكويت قدم له الشيخ مبارك الأسلحة والمؤن ما يعينه

على تحقيق هدفه في (استعادة ملك أبائه وأجداده) - بعد استقرار دام تسع سنوات على أرض الكويت

- بعد نجاح الأمير عبد العزيز من دخول الرياض وقيام الدولة السعودية الثالثة طالب من والده الإمام

عبد الرحمن الحضور وجميع أفراد عائلته للرياض



وزارة التربية
التوجيه الفني العام للاجتماعيات

امتحان الدور الثاني (الفترة الدراسية الثانية)
لمادة تاريخ الكويت للصف العاشر

العام الدراسي : ٢٠١٦ / ٢٠١٧ م
الزمن : ساعتان
عدد الأوراق : (٥)



السؤال الأول (اجباري) يتكون من (أ - ب - ج - د) .

(أ) أكمل العبارات التالية بما يناسبها فيما درست : (٤x٠.٥ = ٢)

- ١- العام الذي عقدت فيه الاتفاقية العثمانية الإنجليزية الخاصة بحدود الكويت
- ٢- مدة استقرار الإمام عبد الرحمن آل سعود في الكويت - سنوات .
- ٣- المعركة التي خاضها الشيخ مبارك عام ١٩٠١ م تسمى - - - - -
- ٤- إذاعة أعلن فيها إدعاء الملك غازي بن فيصل بضم الكويت للعراق عام ١٩٣٨ م تسمى - - - - -

(ب) ضع خطا تحت البديل المناسب من بين البدائل التالية لكل عبارة مما يلي : (٤x٠.٥ = ٢)

- ١- تأسس الصندوق الكويتي للتنمية عام : ص ٨٧
- ١٩٦٠ م - ١٩٦١ م - ١٩٦٢ م - ١٩٦٣ م
- ٢- مستشفى تأسس في عهد الشيخ مبارك : ص ٦٥
- المستشفى الروسي - المستشفى الأمريكي
- المستشفى الألماني - المستشفى العثماني
- ٣- أول وزير خارجية في تاريخ الكويت: ص ٨٨
- صباح السالم - جابر الاحمد - سعد العبد الله - صباح الاحمد
- ٤- أول قرار طالب فيه مجلس الأمن الدولي بالانسحاب العراقي الفوري غير المشروط من الكويت : ص ١٠٦
- ٦٦٠ - ٦٦١ - ٦٦٢ - ٦٦٣

(ج) ضع الشيوخ التالية اسمائهم كلا في مكانه حسب الجدول التالي : (٤x٠.٥ = ٢)

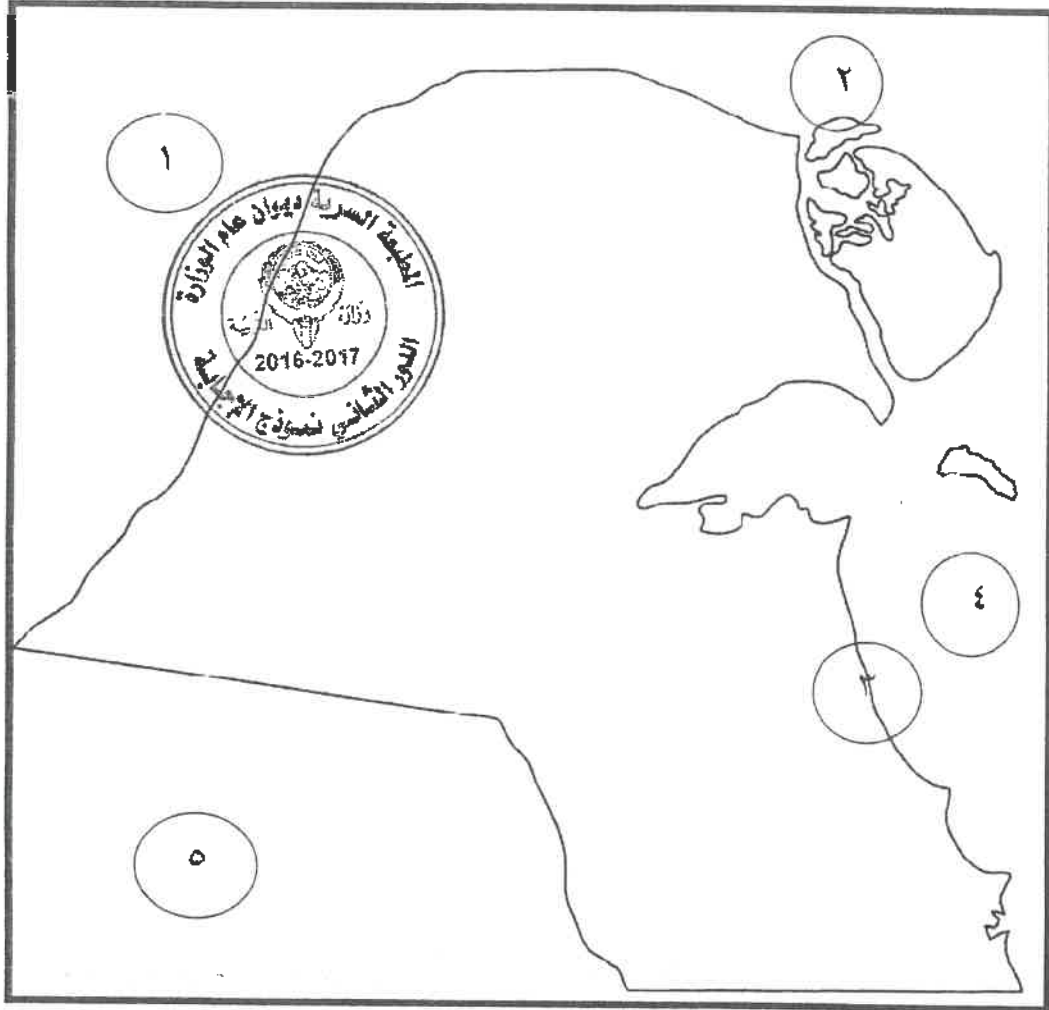
(الشيخ عبدالله السالم - الشيخ صباح السالم - الشيخ احمد الجابر - الشيخ سالم المبارك)

-----	-----	-----	-----
١٩٦٥م - ١٩٧٧م	١٩٢١م - ١٩٥٠م	١٩٥٠م - ١٩٦٥م	١٩١٧م - ١٩٢١م

صفوة معلمي الكويت

تابع السؤال الأول :

(د) أمامك خريطة دولة الكويت الصماء أكتب الرقم الدال على العبارات التي تليها : (٢ = ٤ x ٠.٥)



- ميناء الأحمدية يمثل على الخريطة الرقم ~ ~ ~ ~ ~
- جزيرة وربة يمثلها على الخريطة الرقم ~ ~ ~ ~ ~
- الدولة التي غزت دولة الكويت عام ١٩٩٠ م يمثلها على الخريطة الرقم ~ ~ ~ ~ ~
- الخليج العربي يمثل على الخريطة الرقم ~ ~ ~ ~ ~

معلمي الكويت
صفوة



السؤال الثاني (اختياري) يتكون من (أ - ب - ج) .

(أ) نفذ المطلوب منك ما بين القوسين : (1 x 1 = 1)

١- السياسة الخارجية في عهد الشيخ مبارك الصباح . (النتائج)

٢- الشيخ أحمد الجابر الصباح . (القضايا المصرية في عهده)

(ب) فرّق بين مهام كل من المجلس التالية حسب الجدول التالي : (1 x 3 = 3) ص ٨٠

المجلس البلدي ١٩٣٠ م	المجلس التشريعي ١٩٣٨ م

(ج) عدد لكل من :

١- أهم خصائص الدستور الكويتي .

- المادة الاولى :

العربية.

- المادة الثانية :

- المادة الرابعة :

٢- السياسة الداخلية في عهد الشيخ صباح السالم الصباح .

- المجال الإسكاني .

- المجال التعليمي :

- المجال الاقتصادي:

- المجال العسكري :

صفوة مجلسي الكويت

السؤال الثالث (اختياري) يتكون من (أ - ب - ج) .

(أ) عرف المفاهيم التالية :

١- الدستور :

٢- الصامته :

٣- مجلس المعارف :

٤- الصداقة والتشاور :



(ب) علل ما يلي :

١- فشل المشاريع التجارية الروسية في الكويت .

٢- أهمية الدساتير في حياة الأوطان والأمم

٣- مطالبة الرئيس العراقي عام ١٩٦١م بضم دولة الكويت للعراق .

(ج) عدد أهم إنجازات الشيخ جابر الأحمد الصباح الخاصة بالشؤون الداخلية .

صفوة معلمي الكويت



السؤال الرابع (اختياري) يتكون من (أ - ب - ج) .

(أ) عطل لما يلي : (١ x ٣ = ٣)

١- أهمية معاهدة ١٨٩٩م المعروفة باتفاقية الحماية

٢- تأخر دولة الكويت في انضمامها إلى هيئة الأمم المتحدة.

٣- انشاء الصندوق الكويتي للتنمية .

(ب) دال على صحة العبارات التالية :

١- عدم تبعية الكويت للدولة العثمانية .

٢- اهتمام الشيخ مبارك بمجال التعليم .

٣- اعتلى الشيخ سعد العبد الله الصباح العديد من المناصب

(ج) فرق بين السياسة الخارجية لكل من : (١ x ٤ = ٤)

الشيخ صباح المسالم الصباح	الشيخ جابر الأحمد الصباح

صفوة معلمي الكويت



وزارة التربية
التوجيه الفني العام للاجتماعيات

(نموذج الاجابة)
امتحان الدور الثاني (الفترة الدراسية الثانية)
لمادة تاريخ الكويت للصف العاشر

العام الدراسي : ٢٠١٦ / ٢٠١٧ م
الزمن : ساعتان
عدد الأوراق : (٥)



السؤال الأول (إجباري) يتكون من (أ - ب - ج - د) .

(أ) أكمل العبارات التالية بما يناسبها فيما درست : (٤ x ٥ = ٢)

- ١- العام الذي عقدت فيه الاتفاقية العثمانية الإنجليزية الخاصة بحدود الكويت ١٩١٣ م
- ٢- مدة استقرار الإمام عبد الرحمن آل سعود في الكويت ٩ سنوات . ص ٦٩
- ٣- المعركة التي خاضها الشيخ مبارك عام ١٩٠١ م تسمى الصريف . ص ٧٠
- ٤- إذاعة أعلن فيها إدعاء الملك غازي بن فيصل بضم الكويت للعراق عام ١٩٣٨ م تسمى قصر الزهور . ص ١٠٤

(ب) ضع خطاً تحت البديل المناسب من بين البدائل التالية لكل عبارة مما يلي : (٤ x ٥ = ٢)

- ١- تأسس الصندوق الكويتي للتنمية عام : ص ٨٧
١٩٦٠ م - ١٩٦١ م - ١٩٦٢ م - ١٩٦٣ م
- ٢- مستشفى تأسس في عهد الشيخ مبارك : ص ٦٥
- المستشفى الروسي - المستشفى الأمريكي - المستشفى الألماني - المستشفى العثماني
- ٣- أول وزير خارجية في تاريخ الكويت: ص ٨٨
- صباح السالم - جابر الاحمد - سعد العبد الله - صباح الاحمد

٤- أول قرار طالب فيه مجلس الأمن الدولي بالانسحاب العراقي الفوري غير المشروط من الكويت : ص ١٠٦

٦٦٠ - ٦٦١ - ٦٦٢ - ٦٦٣

(ج) ضع الشيوخ التالية اسمائهم كلا في مكانه حسب الجدول التالي : (٤ x ٥ = ٢)

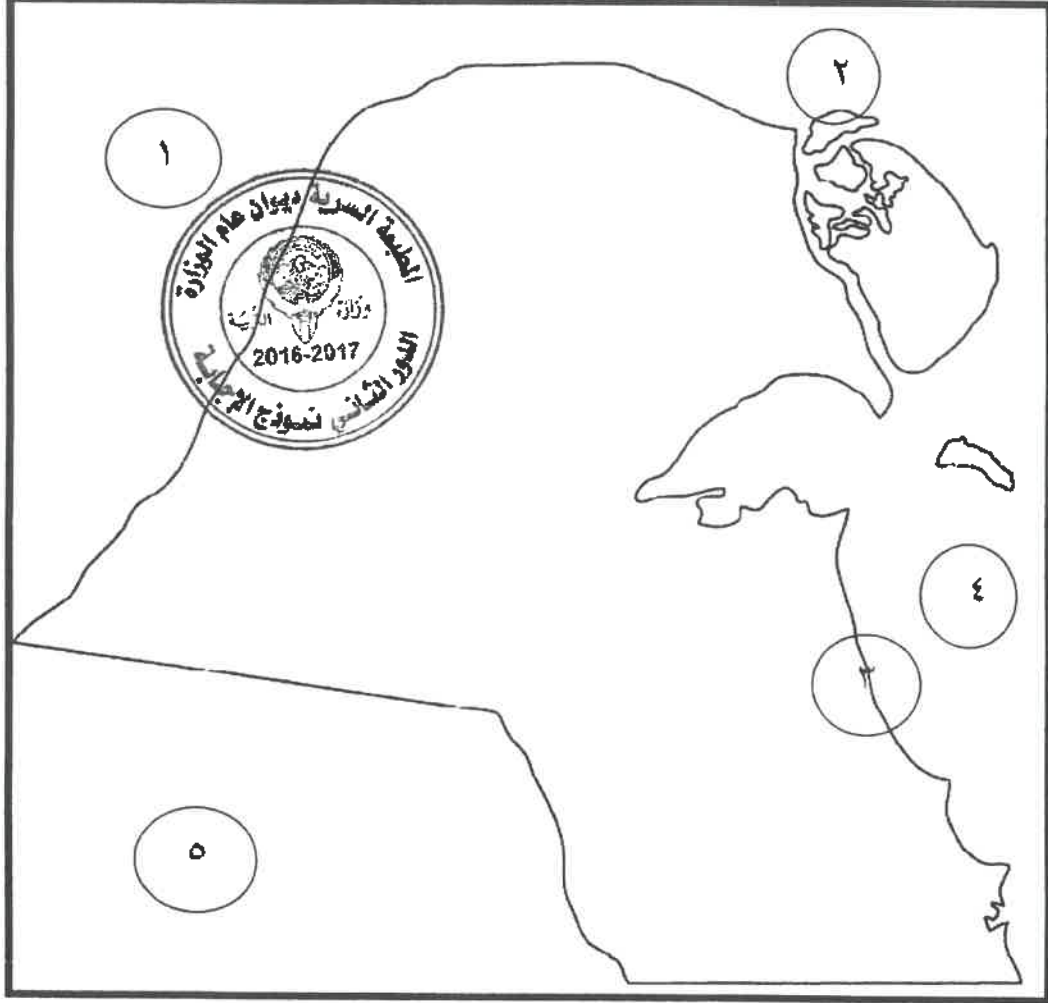
(الشيخ عبدالله السالم - الشيخ صباح السالم - الشيخ أحمد الجابر - الشيخ سالم المبارك)

الشيخ سالم المبارك ص ٧٨	الشيخ عبدالله السالم ص ٨٥	الشيخ أحمد الجابر ص ٧٩	الشيخ صباح السالم ص ٨٨
١٩١٧م - ١٩٢١م	١٩٥٠م - ١٩٦٥م	١٩٢١م - ١٩٥٠م	١٩٦٥م - ١٩٧٧م

صفوة معلمي الكويت

تابع السؤال الأول :

(د) أمامك خريطة دولة الكويت الصماء أكتب الرقم الدال على العبارات التي تليها : (٢ = ٤ x ٠.٥)



- ميناء الأحمدية يمثل على الخريطة الرقم ٣ ص ٨١
- جزيرة وربة يمثلها على الخريطة الرقم ٢ ص ١٠٦
- الدولة التي غزت دولة الكويت عام ١٩٩٠ م يمثلها على الخريطة الرقم ١ ص ١٠٥
- الخليج العربي يمثل على الخريطة الرقم ٤ ص ١٠٥



السؤال الثاني (اختياري) يتكون من (أ - ب - ج) .

(أ) نفذ المطلوب منك ما بين القوسين : (1 x 4 = 4)

- ١- السياسة الخارجية في عهد الشيخ مبارك الصباح . (النتائج) ص ٧٠
 - تكريس المزيد من الخيارات والانسلاخ عن أي التزام تجاه أي قوى إقليمية أو دولية بإعتناء بريطانيا.
 - أصبح جزءا من ترتيب السياسات بالمنطقة وطرفا مؤثرا في معادلة القوى.
 - ٢- الشيخ أحمد الجابر الصباح . (القضايا المصرية في عهده) ص ٧٩
 - مشكلة الحدود والمسألة مع السعوديين (المملكة العربية السعودية لاحقا).
 - معالجة علاقات الكويت مع العراق .
 - الحذر في المعاملة مع بريطانيا ، حيث لم ينصفوا الكويت في معاهدة (العقير) عام ١٩٢٢ م . يكتفى بنقطتين
- (ب) فرق بين مهام كل من المجلس التالية حسب الجدول التالي : (1 x 3 = 3) ص ٨٠

المجلس البلدي ١٩٣٠ م	المجلس التشريعي ١٩٣٨ م
<ul style="list-style-type: none"> - إدارة أمور التنظيم الداخلي للكويت من أسواق . - إدارة أمور النظافة العامة . 	<ul style="list-style-type: none"> - ادارة شؤون مدينة الكويت الداخلية بالتعاون مع حاكم الكويت. - ادارة الجمارك والاسواق وحل الصراعات بين التجار. - وضع ميزانية للإمارة . <u>يكتفى بنقطتين</u>

(ج) عدد لكل من :

١ - أهم خصائص الدستور الكويتي . (1 x 3 = 3) ص ٨٦ - ٨٧

- المادة الاولى : ان الكويت دولة عربية ذات سيادة تامة وشعب الكويت جزء من الأمة العربية ولغتها الرسمية هي اللغة العربية.

- المادة الثانية : ان الدين الاسلامي هو الدين الرسمي للدولة والشريعة الاسلامية مصدر رئيسي للتشريع.

- المادة الرابعة : الكويت امارة وراثية في ذرية المغفور له الشيخ مبارك الصباح . يكتفى بنقطتين

٢- السياسة الداخلية في عهد الشيخ صباح السالم الصباح . ص ٨٨

- المجال الإسكاني : مساكن ذوي الدخل المحدود بإشراف وزارة الأشغال .

- المجال التعليمي : إنشاء جامعة الكويت عام ١٩٦٦ م .

- المجال الاقتصادي : تأميم النفط في الخامس من شهر مارس عام ١٩٧٥ م .

- المجال العسكري : استحداث نظام التجنيد الإلزامي . يكتفى بنقطتين/يراعى عدم ذكر السنوات للطلاب

السؤال الثالث (اختياري) يتكون من (أ - ب - ج) .

(أ) عرف المفاهيم التالية : (١ x ٤ = ٤)

- ١- الدستور : وثيقة لتنظيم العلاقة بين الحاكم والمحكوم . ص ٨٦
- ٢- الصامتا : مهاجمة القوات العراقية مركز الصامتا الحدودي عام ١٩٧٣ م التابع لدولة الكويت م . ص ١٠٥
- ٣- مجلس المعارف : مجلس مهمته الاشراف على تأسيس المدارس والانفاق عليها وتوجيهها . ص ٨٠
- ٤- الصداقة والتشاور : اتفاقية عقدت بتاريخ ١٩ يونيو ١٩٦١ م نالت الكويت استقلالها من بريطانيا . ص ٨٥

(ب) عطل ما يلي : (١ x ٣ = ٣)

- ١- فشل المشاريع التجارية الروسية في الكويت . ص ٦٦
- لأن هذه المشاريع كانت ستارا لأهداف سياسية غير معلنة وتعامل معها الشعب ببارك بكل حذر من خلال رفضها .
- عقد اتفاقية حماية مع بريطانيا عام ١٨٩٩ م .
٢- أهمية الدساتير في حياة الأوطان والأمم . ص ٨٥
- لطبيعة المهام التي تنظمها إذ انها تحدد المفاصل المهمة في الدولة .
- تحدد صلاحيات كل سلطة من السلطات الثلاث (التشريعية - التنفيذية - القضائية) .
٣- مطالبة الرئيس العراقي عام ١٩٦١ م بضم دولة الكويت للعراق . ص ١٠٥
- طمع عبدالكريم قاسم في النفط الكويتي - البطالة التي يعاني منها الشعب العراقي مع استياء المواطنين العراقيين العارم من السياسات الداخلية للعراق - حاجة العراق إلى موانئ بحرية تطل على الخليج العربي .
(ج) عدد أهم انجازات الشيخ جابر الأحمد الصباح الخاصة بالشؤون الداخلية . (١ x ٣ = ٣) ص ٩٠

- مؤسسة الكويت للتقدم العلمي .

- الهيئة العامة لشؤون القصر .

- منح المرأة حقوقها السياسية .

- انشاء صندوق احتياطي الاجيال القادمة . يكتفى بثلاث نقاط

صفوة معلمى الكويت



السؤال الرابع (اختياري) يتكون من (أ - ب - ج) .

(أ) علل لما يلي : (١ x ٣ = ٣)

١- أهمية معاهدة ١٨٩٩م المعروفة باتفاقية الحماية . ص ٦٩
- دعمت استقرار وتطور الأوضاع في الكويت / دعمت قدراتها في مواجهة التطور الداخلي والخارجي حيث حفظت حدود الكويت من الأطماع في تلك الفترة .

٢- تأخر دولة الكويت في انضمامها إلى هيئة الأمم المتحدة. ص ٨٥
- بسبب موقف الاتحاد السوفييتي سابقا الداعم لمطالب حاكم العراق آنذاك رئيس الوزراء العراقي عبدالكريم قاسم .

٣- انشاء الصندوق الكويتي للتنمية . ص ٨٧
- للمساهمة في تحقيق الجهود الإنمائية والاقتصادية للدول العربية والدول الأخرى النامية .
- لمد جسور الصداقة والإخاء بين دولة الكويت والدول العربية النامية . يكتفى بنقطة واحدة .

(ب) نل على صحة العبارات التالية : (١ x ٣ = ٣)

١- عدم تبعية الكويت للدولة العثمانية . ص ٦٨ - ٧٠ - ٧٧ - ١٠٣
- لم يقم الشيخ مبارك الصباح بأية تنازلات إقليمية عن أراضيه لأي قوة أجنبية باستثناء بريطانيا حيث عقد اتفاقية الحماية معها عام ١٨٩٩ م . / رفض الشيخ مبارك الصباح تعيين ممثل تركي في الكويت . / عقدت بريطانيا عام ١٩١٦م (في عهد الشيخ جابر المبارك الصباح) مؤتمر في الكويت بغرض وقوف الدول العربية الى جانبها ضد الدولة العثمانية أثناء الحرب العالمية الأولى. / اتفاقية ١٩١٣ م بين بريطانيا والدولة العثمانية الفاصلة لحدود الكويت عن العراق العثمانية .

٢- اهتمام الشيخ مبارك بمجال التعليم . ص ٦٥
- تأسست في عهده المدرسة المباركية عام ١٩١١ م .

٣- اعتلى الشيخ سعد العبد الله الصباح العديد من المناصب . ص ٩٣
- كان وزيرا للداخلية - وزير دفاع - وليا للعهد - رئيسا لمجلس الوزراء عام ١٩٧٧ م - أميراً لدولة الكويت عام ٢٠٠٦ م .
يكتفى بنقطة واحدة .

(ج) فرق بين السياسة الخارجية لكل من : (١ x ٤ = ٤)

الشيخ صباح السالم الصباح ص ٨٩	الشيخ جابر الأحمد الصباح ص ٩١ - ٩٢
- دعم قضية العرب الأولى وهي فلسطين.	- حرص على الود والتفاهم والمصالح مع اغلب شعوب العالم .
- المشاركة في حرب ١٩٦٧م لنصرة فلسطين.	- صاحب فكرة انشاء مجلس التعاون الخليجي عام ١٩٨١م .
- دخول حرب ١٩٧٣م ضد العدوان الصهيوني. <u>يكتفى بنقطتين</u>	- أثبت موقف الكويت من الحروب العربية في المنطقة وهي حرب اليمن والحرب العراقية الإيرانية. <u>يكتفى بنقطتين</u>

انتهى نموذج الاجابة

صفوة من الكويت