



وزارة التربية

الإدارة العامة لمنطقة الفروانية التعليمية
مدرسة أبرق خيطان المتوسطة - بنات

بنك أسئلة

مادة الاجتماعيات

الفصل الدراسي الثاني

العام الدراسي ٢٠٢٢ - ٢٠٢٣ م



ملاحظة:

هذه المذكرة لا تغني عن الكتاب

إعداد المعلمة: ريم السنان

مديرة المدرسة:
أ. ليلى الشمري

الموجهة الفنية:
أ. جميلة البصمان

رئيسة القسم:
أ. جميلة العدواني



الوحدة الثالثة: العالم الإسلامي تحديات وحلول



وزارة التربية
الإدارة العامة لمنطقة الفروانية التعليمية
مدرسة ابرق خيطان المتوسطة بنات

السؤال الأول: أكمل العبارات التالية بما يناسبها فيما درست:-

- ١- ظهر خطر التلوث البيئي مع بداية قيام الثورة
- ٢- العام الذي تم فيه انشاء شرطة البيئة في دولة الكويت
- ٣- بلغت نسبة التلوث الهوائي في باكستان بسبب عوادم السيارات حوالي %.....
- ٤- تعاني ماليزيا من تلوث هوائي خطير يسمى
- ٥- تم ضخ مياه المجاري في جون الكويت في عام
- ٦- الدولة التي عانت من تلوث مائي ناتج من تسرب بقع الزيت من البواخر تسمى
- ٧- مدينة تعتبر نموذجاً للتلوث الضوضائي بسبب كثرة عدد السيارات فيها تسمى
- ٨- يؤدي تدهور التربة وتلوثها إلى حدوث مشكلة تسمى
- ٩- ضرب إعصار جونو سواحل سلطنة عمان الشرقية في عام
- ١٠- مواد زائدة وغير مرغوبة من مخلفات البيئة تسمى
- ١١- تم تشغيل أول محطة كهرباء تعمل بالطاقة الشمسية في دولة الكويت عام
- ١٢- الدولة العربية التي قامت بتشغيل مدرسة بالطاقة الشمسية تسمى
- ١٣- الزيادة الكبيرة في أعداد السكان تسمى
- ١٤- تبلغ نسبة عدد السكان تحت مستوى خط الفقر في العالم الإسلامي حوالي %.....
- ١٥- الدولة الإسلامية الأولى في نسبة الفقر تسمى
- ١٦- الدول التي مازالت أقل تقدماً في ميادين الاقتصاد والعلم والتكنولوجيا تسمى
- ١٧- مجموع الدخل المكتسب في بلد ما خلال فترة زمنية معينة يسمى
- ١٨- تم عقد مؤتمر العقير لترسيم الحدود بين الكويت والعراق والسعودية في عام
- ١٩- قامت القوات العراقية بالهجوم على مركز الصامته الحدودي في عام
- ٢٠- تحيي جمهورية البوسنة والهرسك ذكرى اغلاق معسكر اعتقال وتعذيب يسمى
- ٢١- اندلعت الحرب الأهلية في دولة الصومال في عام
- ٢٢- بطلة كويتية شاركت في إطفاء حرائق النفط المشتعلة في الكويت تسمى
- ٢٣- انتهى اخماد آخر بئر نفطي في ٦ نوفمبر عام
- ٢٤- أقل الدول الإسلامية في نسب محو الأمية تسمى

السؤال الثاني: صحح ما تحته خط في العبارات التالية:

| التصحيح | العبرة |
|---------|--|
| | ١- أكد مؤتمر الأمم المتحدة للتصحر عام ١٩٧٨م بأن التصحر عملية بشرية. |
| | ٢- يحدث الاحتباس الحراري نتيجة الزيادة المستمرة لغاز <u>الأكسجين</u> . |
| | ٣- الدولة الإسلامية الأخيرة في نسبة الفقر هي <u>باكستان</u> . |
| | ٤- تبلغ نسبة السكان تحت مستوى خط الفقر في العالم الإسلامي ٣٥%. |
| | ٥- الفرق بين قيمة الصادرات والواردات بالدولة يسمى <u>الدخل القومي</u> . |
| | ٦- جاءت ادعاءات مؤتمر عبدالكريم قاسم بشأن الكويت في عام ١٩٦٠م. |
| | ٧- اعترفت الدولة العثمانية باستقلال الكويت وترسيم حدودها مع العراق عام ١٩١٢م |
| | ٨- القرار الذي أصدرته الجمعية العامة للأمم المتحدة بشأن تقسيم فلسطين إلى قسمين يحمل رقم ٢٨٢. |
| | ٩- الدولة العربية التي سجلت أعلى معدل في إمام البالغين بالقراءة والكتابة لعام ٢٠١٥ هي <u>البحرين</u> . |
| | ١٠- بلغ عدد الآبار المشتعلة بدولة الكويت ٨٣٨ بئراً. |
| | ١١- تحررت دولة الكويت من الغزو العراقي الغاشم في عام ١٩٩٠م. |

السؤال الثالث: علل ما يلي:

- تعرضت دولة الكويت لتلوث بيئي خطير عام ١٩٩٠م.

١-

٢-

- تعرضت دولة موريتانيا لتلوث مائي شديد في عام ٢٠١٧م.

.....

- تعتبر مدينة القاهرة نموذجاً للتلوث الضوضائي في العالم الإسلامي.

.....

- زيادة كمية المخلفات الصناعية والمنزلية والزراعية.

١-

٢-

- ظهور المشكلة السكانية في العالم الإسلامي.

١-

٢-

- قامت القوات العراقية بالهجوم على مركز الصامته الكويتي في عام ١٩٧٣م.

.....

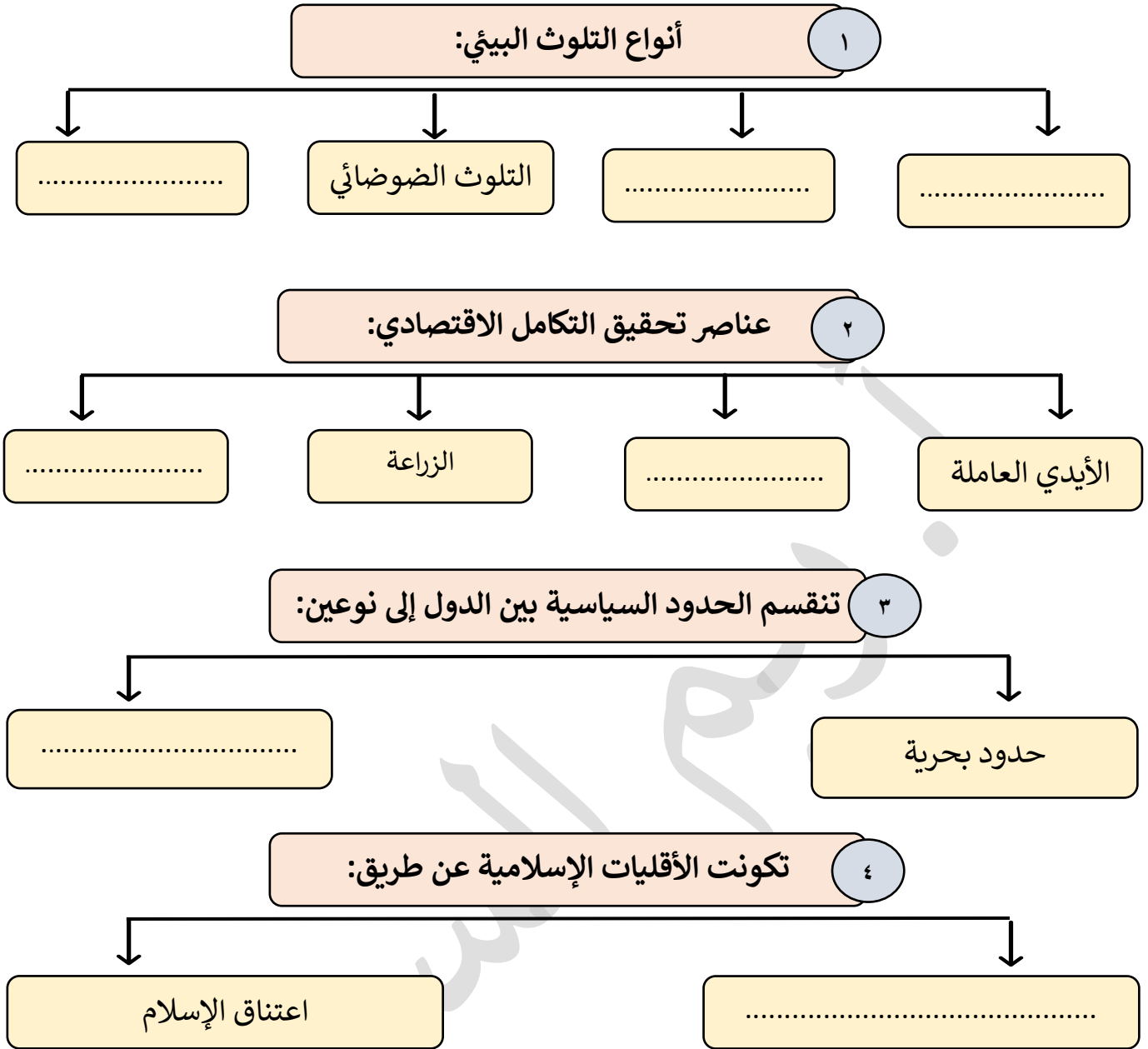
- اجتاحت دولة الصومال موجات من الجفاف والمجاعة.

.....

السؤال الرابع: عرف ما يلي:

| المصطلح | التعريف |
|---------------------|----------------|
| التلوث البيئي: | |
| التصحّر: | |
| الاحتباس الحراري: | |
| التدوير: | |
| التنمية المستدامة: | |
| الفقر: | |
| خط الفقر: | |
| العولمة: | |
| التكامل الاقتصادي: | |
| الدخل القومي: | |
| الحدود: | |
| الأقليات الإسلامية: | |

السؤال الخامس: أكمل المخططات السهمية التالية:



السؤال السادس: اختر من المجموعة (أ) ما يناسبها من المجموعة (ب) بوضع الرقم الصحيح في المكان المناسب:-

| الرقم | المجموعة (أ) | الرقم الصحيح | المجموعة (ب) |
|-------|--|--------------|-----------------|
| ١ | الغزو العراقي على دولة الكويت | | ٦ نوفمبر ١٩٩١م |
| ٢ | حرب "عاصفة الصحراء" | | ٢٦ فبراير ١٩٩١م |
| ٣ | تحرير دولة الكويت | | ١٧ يناير ١٩٩١م |
| ٤ | إطفاء آخربئر نفطي مشتعل في دولة الكويت | | ٢ أغسطس ١٩٩٠م |
| | | | ١١ مارس ١٩٩١م |



التعب يزول والإنجاز يبقى ..

السؤال السابع: صنف العبارات التالية حسب مكانها المناسب في الجدول الذي يليها:

(الانفجارات النووية - البراكين - الأسمدة - الحروب - الغبار - المبيدات الحشرية)

| مصادر التلوث الطبيعية | مصادر التلوث البشرية |
|-----------------------|----------------------|
| | |

(الكويت - لبنان - مصر - السنغال - جيبوتي - السعودية - العراق - السودان)

| نسبة التصحر ٩٠% | نسبة التصحر من ١٠ - ٥٠% |
|-----------------|-------------------------|
| | |

السؤال الثامن: فرق بين كل مما يلي حسب المطلوب في الجدول:

| أثر التلوث الهوائي | أثر التلوث المائي |
|--------------------|-------------------|
| | |

تعريف الأمية:

| البلدان المتقدمة | البلدان النامية |
|------------------|-----------------|
| | |

الحلول الإسلامية المقترحة للتحديات التي تواجه الأقليات الإسلامية:

| تفعيل الوجود الإسلامي | الدور التثقيفي للمؤسسات الإسلامية |
|-----------------------|-----------------------------------|
| | |



نجاحك غداً .. هو نتيجة عملك اليوم

السؤال التاسع: قارن بين كل مما يأتي من خلال الجداول التالية:

| وجه المقارنة | التلوث الضوضائي | تلوث التربة |
|--------------|-----------------|-------------|
| الأسباب | - | - |
| | - | - |
| | - | - |
| النتائج | - | - |
| | - | - |
| | - | - |

| وجه المقارنة | الفقر | ادمان المخدرات |
|--------------|---------|----------------|
| الأسباب | - | - |
| | - | - |
| | - | - |

السؤال العاشر: اكتب كل ما تعرفه عما يلي:-

١- النتائج المتوقعة لظاهرة الاحتباس الحراري.

أ-
ب-

٢- ادعاءات مؤتمر عبدالكريم قاسم ١٩٦١م.

.....

٣- أهم أحداث القضية الفلسطينية.

أ-
ب-

٤- موقف الملك عبدالله بن عبدالعزيز رحمه الله تجاه القضية الفلسطينية.

أ-
ب-

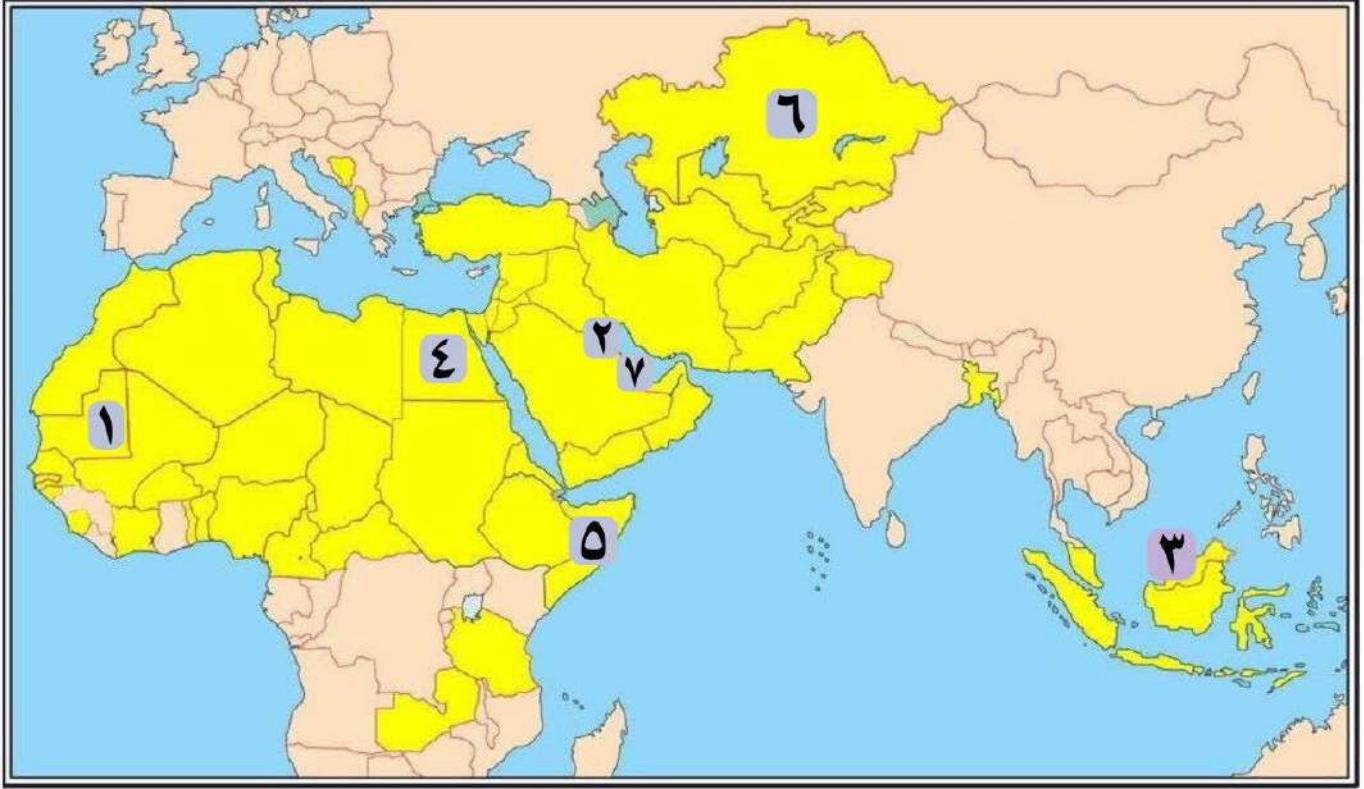
٥- التحديات التي تواجه الأقليات الإسلامية حول العالم.

أ-
ب-

٦- آثار مشكلة ادمان المخدرات.

أ-
ب-

السؤال الحادي عشر: لاحظ خريطة العالم الإسلامي ثم أجب عما يلي:



١- دولة تعرضت لتلوث بيئي بسبب الغزو العراقي الغاشم عام ١٩٩٠م يمثلها الرقم (.....)

٢- دولة تعرضت لتلوث دخاني يمثلها الرقم (.....)

٣- دولة عانت من تسرب بقع الزيت من البواخر يمثلها الرقم (.....)

٤- دولة يصل فيها نسبة التصحر ما بين ١٠-٥٠% يمثلها الرقم (.....)

٥- دولة قامت بتشغيل مدرسة بالطاقة الشمسية يمثلها الرقم (.....)

٦- دولة سجلت أعلى معدل إمام البالغين بالقراءة والكتابة في عام ٢٠١٥م يمثلها الرقم (.....)

٧- أعلى الدول الإسلامية في معدل محو الأمية يمثلها الرقم (.....)



كُنْ عَالِي الهمّة .. ولا ترضى بغير القمة



**الوحدة الرابعة: منظمة التعاون الإسلامي
ودور دولة الكويت في التعايش الإنساني**



وزارة التربية
الإدارة العامة لمنطقة الفروانية التعليمية
مدرسة ابرق خيطان المتوسطة بنات

السؤال الأول: اختر الإجابة الصحيحة من بين البدائل التالية:-

- ١- أنشأت منظمة التعاون الإسلامي في عام
- أ- ١٩٦٧ م ب- ١٩٦٨ م ج- ١٩٦٩ م د- ١٩٧٠ م
- ٢- يقع مقر منظمة التعاون الإسلامي في مدينة تسمى
- أ- الرباط ب- القاهرة ج- المنامة د- جدة
- ٣- صاحب الدعوة لإنشاء تجمع يضم الدول الإسلامية يسمى
- أ- الشيخ صباح الأحمد الجابر ب- الملك فيصل بن عبدالعزيز ج- الملك عبدالله بن عبدالعزيز
- ٤- يبلغ عدد الدول التي تضمها منظمة التعاون الإسلامي دولة.
- أ- ٥٧ ب- ٥٨ ج- ٥٩ د- ٦٠
- ٥- المشكلة التي تحاربها المنظمة الإسلامية للتربية والعلوم والثقافة تسمى
- أ- إدمان المخدرات ب- الفقر ج- التدخين د- الأمية
- ٦- مؤتمر ملوك و رؤساء الدول والحكومات يعقد مرة كل ثلاث سنوات يسمى
- أ- الأمانة العامة ب- القمة الإسلامية ج- محكمة العدل د- مجلس وزراء الخارجية
- ٧- تغير مسمى منظمة المؤتمر الإسلامي إلى منظمة التعاون الإسلامي في عام
- أ- ٢٠١١ م ب- ٢٠١٢ م ج- ٢٠١٣ م د- ٢٠١٤ م
- ٨- يقوم الأمين العام برئاسة الأمانة العامة لفترة زمنية تبلغ مع جواز إعادة تعيينه.
- أ- سنة ب- سنتين ج- ثلاث سنوات د- أربع سنوات
- ٩- صاحب الدعوة لاستضافة المؤتمر الخامس في دولة الكويت يسمى الشيخ
- أ- صباح الأحمد الجابر ب- عبدالله السالم الصباح ج- جابر الأحمد الصباح

السؤال الثاني: اكتب المصطلح العلمي المناسب أمام كل تعريف من التعريفات التالية:

| التعريف | المصطلح |
|---|---------|
| هي التي يكون فيها نسبة المسلمين ٥٠% أو أكثر من نسبة مجموع سكانها ويحكمها حاكم مسلم. | (.....) |
| هي منظمة تضم في عضويتها ٥٧ دولة إسلامية مستقلة ومقرها مدينة جدة. | (.....) |

السؤال الثالث: علل ما يلي (اذكر السبب):-

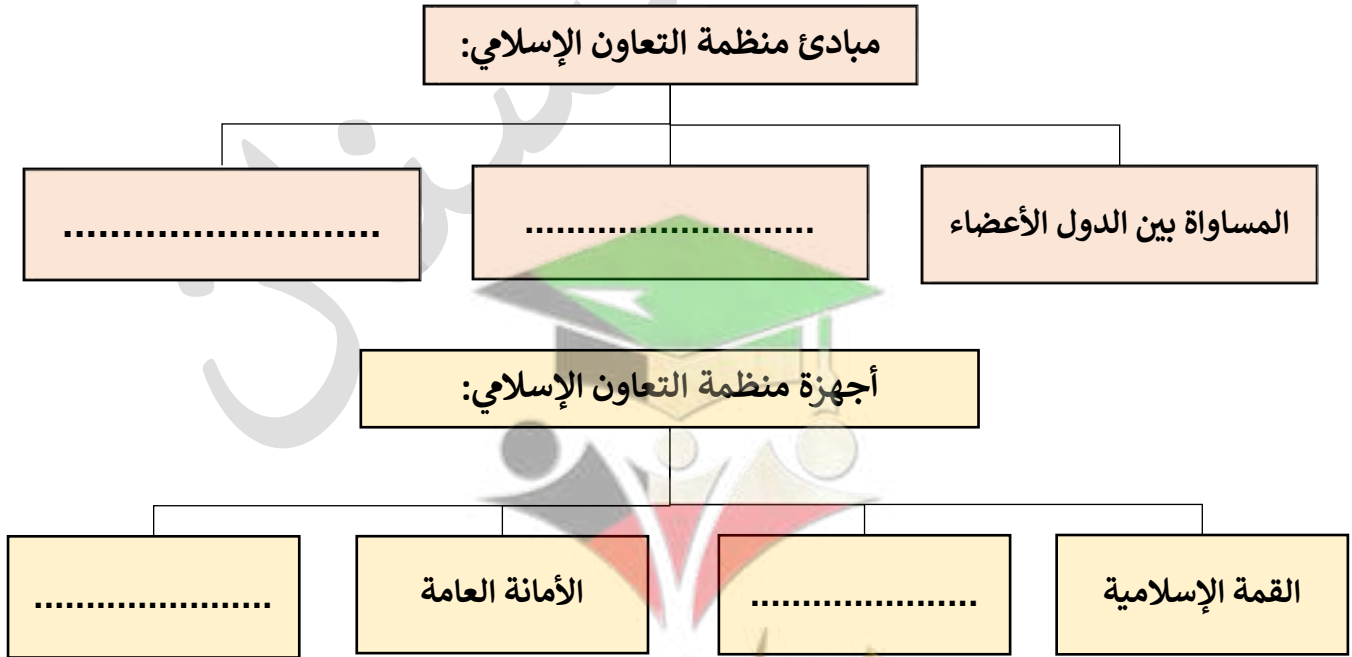
- انشاء منظمة التعاون الإسلامي.

السؤال الرابع: صنف أهداف منظمة التعاون الإسلامي حسب مكانها الصحيح في الجدول:

(تعزيز التعاون الاقتصادي - دعم القضية الفلسطينية - الرقي بالعلوم والتكنولوجيا - تحقيق التنمية البشرية المستدامة والشاملة - المصالح المشتركة - تعزيز دور الأسرة)

| الجانب السياسي | الجانب الاقتصادي | الجانب الثقافي والاجتماعي |
|----------------|------------------|---------------------------|
| | | |

السؤال الخامس: أكمل المخططات السهمية التالية:








بالعمل الجاد والتعلم من الفشل ننجح بالوصول إلى الهدف

السؤال السادس: قارن بين كل مما يأتي من خلال الجداول التالية:-

أ- مؤتمرات منظمة التعاون الإسلامي:

| وجه المقارنة | المؤتمر الإسلامي الأول | المؤتمر الإسلامي الخامس | المؤتمر الإسلامي الثالث عشر |
|--------------|------------------------|-------------------------|-----------------------------|
| العام | | | |
| مقر الانعقاد | | | |
| سبب الانعقاد | | | |
| أهم القرارات | | | |

ب- المنظمات والمؤسسات الإسلامية:

| الشعار |  |  |  |  |  |
|---------|---|---|---|--|---|
| الاسم | | | | | |
| العام | | | | | |
| المقر | | | | | |
| الأهداف | | | | | |
| دورها | | | | | |



الوحدة الخامسة: دور دولة الكويت في التعايش الإنساني



وزارة التربية
الإدارة العامة لمنطقة الفروانية التعليمية
مدرسة ابرق خيطان المتوسطة بنات

السؤال الأول: أكمل العبارات التالية بما يناسبها فيما درست:

- ١- تزيد اللغات الواسعة الانتشار في العالم الإسلامي عن لغة.
- ٢- يتكلم (٢٠ - ٣٠%) من المسلمين في العالم الإسلامي لغة تسمى
- ٣- حصلت دولة الكويت على استقلالها في عام
- ٤- صاحب فكرة انشاء الصندوق الكويتي للتنمية يسمى
- ٥- تأسس الصندوق الكويتي في عهد الشيخ
- ٦- أول مؤسسة تنموية في الشرق الأوسط تسمى
- ٧- أكبر المؤسسات العالمية في المجال الإنساني تسمى
- ٨- دولة استضافت المؤتمرات الأول والثاني والثالث للمانحين لدعم دولة سوريا تسمى
- ٩- تأسست الهيئة الخيرية الإسلامية العالمية في عهد الشيخ
- ١٠- أكبر المؤسسات العالمية في المجال الإنساني تسمى
- ١١- عقدت القمة الخليجية الثالثة والثلاثون في ٢٠١٣م في مدينة تسمى
- ١٢- افتتح الشيخ صباح الأحمد الجابر الصباح أعمال مؤتمر المانحين لدعم سوريا في عام
- ١٣- تم اختيار الشيخ صباح الأحمد الجابر الصباح قائداً للعمل الإنساني في تاريخ

السؤال الثاني: اكتب المفاهيم أو المصطلحات الدالة على العبارات التالية:

| العبرة | المفهوم |
|--|---------|
| هيئة مساعدة للسلطات الرسمية في الجانب الإنساني، وتمارس عملها استناداً إلى اتفاقيات جنيف الأربع والقوانين والمعاهدات الدولية التي تشكل القانون الدولي الإنساني. | |
| هيئة عامة ذات ميزانية مستقلة وتخضع لإشراف وزير الأوقاف والشؤون الإسلامية. | |
| هيئة مستقلة متعددة الأنشطة، ومن أكبر المؤسسات العالمية في المجال الإنساني، وتقدم خدماتها لجميع أنحاء العالم دون تمييز أو تعصب. | |



تذكر دائماً أنك قادر على تحقيق النجاح

السؤال الثالث: علل ما يلي:- (اذكر السبب)

- تأسيس بيت الزكاة الكويتي.

- زيادة اللغات الواسعة الانتشار في العالم الإسلامي عن ٢٠ لغة أصلية.

١-
٢-

السؤال الرابع: لاحظ الصورة أمامك ثم أجب عن الأسئلة التالية:



- ماذا يمثل هذا الشعار؟

- متى تم تأسيسه؟

- من هو صاحب الفكرة؟

- اكتب اثنين من أهداف الصندوق.

١-
٢-

- عدد نطاقات عمل الصندوق.

١-
٢-

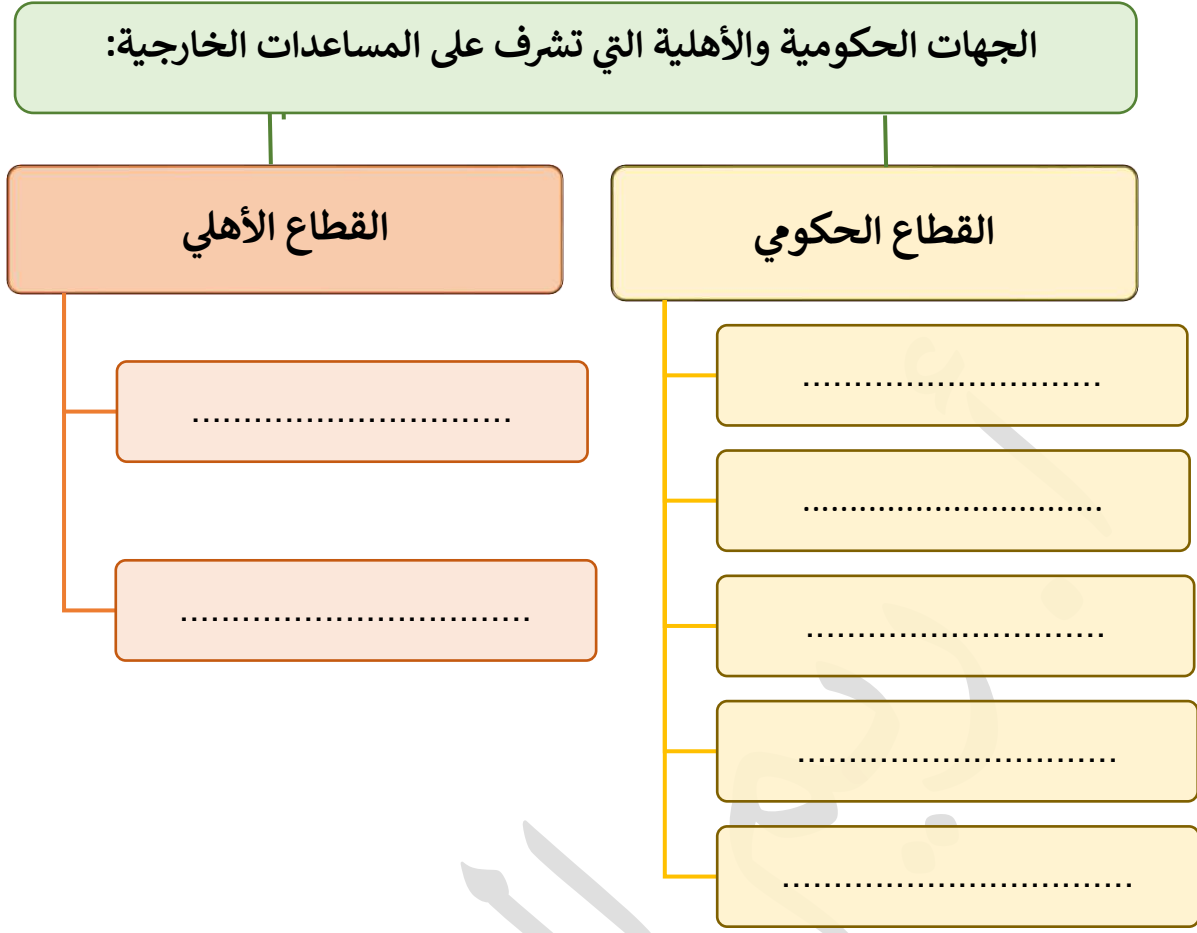
٣-
٤-

السؤال الخامس: اختر من المجموعة (أ) ما يناسبها من المجموعة (ب) بوضع الرقم الصحيح في

المكان المناسب:-

| الرقم | المجموعة (أ) | الرقم الصحيح | المجموعة (ب) |
|-------|-----------------------------------|--------------|--------------|
| ١ | جمعية الهلال الأحمر | | ١٩٨٦م |
| ٢ | الهيئة الخيرية الإسلامية العالمية | | ١٩٦١م |
| ٣ | بيت الزكاة الكويتي | | ١٩٦٦م |
| ٤ | | | ١٩٨٢م |

السؤال السادس: أكمل المخطط السهمي التالي:-



انتهت الأسئلة

مع تمنياتي لكم بالتوفيق والنجاح