

مدرسة رقية بنت حمد المتوسطة بنات

قسم الاجتماعيات


بنك معلومات الصف الثامن
(الكويت والعالم الإسلامي)
الفصل الدراسي الثاني ٢٠٢٤م

منظم بالدرس للمعلم والمتعلم

إعداد المعلمتين :

أ.سارة الشنفا - أ. بشاير النملان أ.غالية الربيعي

إشراف ربق جليلة الدغيم
الموجهة الفنية هيفاء مال الله
مديرة المدرسة بدريّة الهدبة



الوحدة الثالثة :
أولاً : المشكلات البيئية في دول
العالم الإسلامي.

١ - التلوث البيئي أ- التلوث الهوائي ص ٨١-٨٤

١- أكمل العبارات التالية بما يناسبها فيما درست:

ص ٨١

ص ٨١

ص ٨٢

ص ٨٣

١. الثورة التي ظهر معها الخطر البيئي تسمى الثورة الصناعية
٢. ترجع مصادر التلوث البيئي إما مصدر طبيعي أو مصدر بشري.
٣. العام الذي أنشأت فيه دولة الكويت شرطة البيئة ٢٠١٥ م
٤. نسبة التلوث الهوائي في باكستان بسبب عوادم السيارات بلغت ٤٠٪

٢) اكتب المفاهيم أو المصطلحات الدالة على العبارات التالية :

المفهوم	العبارة
التلوث البيئي ص ٨١	أي تغيير غير مرغوب به في الخواص الطبيعية أو الكيميائية أو البيولوجية للبيئة المحيطة (الهواء- الماء التربة) والذي قد يتسبب في الإضرار بحياة الإنسان والكائنات الأخرى

٣/ استنتج الرابط بين العناصر التالية :

- ١/ النفايات + الاستخدام المفرط للأسمدة + الحروب + الانفجارات النووية (مصادر التلوث بشرية) ص ٨١
- ٢/ التلوث الهوائي + التلوث المائي + التلوث الضوضائي + تلوث التربة (أنواع التلوث البيئي) ص ٨٣

٤/ صنف الكلمات التالية إلى مكانها المناسب في الجدول الذي يليها :

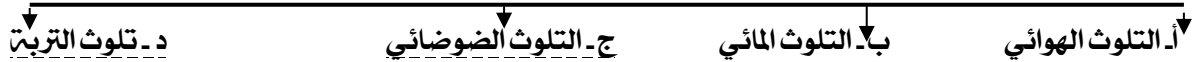
١/ مصادر التلوث البيئي ص ٨١

البراكين - الاستخدام المفرط للأسمدة - رش المبيدات الحشرية على المزروعات - الحروب - الانفجارات النووية - النفايات - الغبار

مصادر طبيعية	مصادر بشرية
البراكين - الغبار	الاستخدام المفرط للأسمدة رش المبيدات الحشرية على المزروعات - الحروب - الانفجارات النووية - النفايات

٥/ أكمل المخططات السهمية التالية :

١- أنواع التلوث البيئي : ص ٨٣



٦/ علل / اذكر السبب

١. يعتبر تلوث الهواء من أخطر أنواع التلوث البيئي . ص ٨٣
لأن الأوكسجين المحمول في هذا الهواء أحد أسباب الحياة، فبدونه لا تتم الحياة على هذا الكوكب،

٧/ عدد ما يلي :

- أ. نماذج من الدول الإسلامية التي تعاني من التلوث الهوائي : ص ٨٣
- ماليزيا - باكستان

ب. آثار تلوث الهواء على الانسان والبيئة. ص ٨٤

أمراض القلب والأوعية الدموية وأمراض الرئة، وضيق التنفس.. اضطراب في الجهاز العصبي.. تآكل وتلف المباني والمنشآت والآثار



٨) أكمل العبارات التالية بما يناسبها : ص ٨٤

- ١) أمراض القلب و الرئة، وضيق التنفس. (٢) اضطراب في الجهاز العصبي
- الشكل المقابل يمثل أحد الآثار التي تآكلت وأتلفت بسبب التلوث الهوائي
- ذكر آثار أخرى لهذا التلوث.

٩/ عدد جهود دولة الكويت في مواجهة تحديات البيئة

إنشاء مجلس حماية البيئة ٢. اصدت الهيئة العامة للبيئة قنن حماية البيئة ٢. إنشاء شرطة البيئة في الكويت ٢٠١٥ م

أنواع التلوث البيئي: ب- التلوث المائي ص ٨٥-٨٦

١- أكمل العبارات التالية بما يناسبها فيما درست:

١. تعرضت دولة الكويت لتلوث بيئي خطير في عام ١٩٩٠م.
٢. حدثت ظاهرة نفوق الاسماك بدولة الكويت نتيجة ضخ مياه المجاري في جون الكويت في عام ٢٠٠١م.
٣. عانت موريتانيا من تلوث مائي شديد في عام ٢٠١٧ م

(٢) علل / اذكر السبب.

١/ التلوث المائي اخطر أشكال التلوث البيئي ص ٨٥
لأن الماء هو المادة الضرورية لبقاء الحياة على سطح الأرض فأى خلل بهذا العنصر الأساسي سيؤدي إلى تدهور واختلال بقتية نظام الحياة والنظام البيئي

٢/ تتعرض المياه لتلوث اشعاعي ص ٨٥
نتيجة للتجارب النووية والذرية ومخلفات الحروب التي تؤدي لموت الأسماك وفساد نوعية المياه

٣) عدد ما يلي :

١- نماذج من الدول الإسلامية التي تعاني من التلوث المائي : ص ٨٥

الكويت - موريتانيا

٢- آثار التلوث المائي ص ٨٦

- * هلاك الكائنات البحرية الحيوانية والنباتية.
- * فقدان السواحل لقيمتها الاقتصادية والسياحية.
- * التأثير على صحة الإنسان

(٧) برهن على صحة العبارة التالية:

تعرضت دولة الكويت لتلوث بيئي خطير (٨٥)

- قامت قوات النظام العراقي الغاشم وبشكل متعمد بسكب كميات كبيرة من النفط الكويتي بمياه الخليج العربي مكونة بقعة نفطية كبيرة
- تكونت سحابة دخانية كثيفة ناتجة عن احتراق آبار النفط الكويتية لمدة سبعة أشهر أثناء وبعد حرب التحرير في عام ١٩٩١ م،
- تلوث مياه الخليج عن طريق تساقط الأمطار الحمضية في مياه الخليج العربي
- تم ضخ مياه المجاري في جون الكويت عام ٢٠٠١ م ، وهذا أدى إلى نفوق كثير من الأسماك، وتكررت هذه الظاهرة عدة سنوات كما حدث آخرها في عام ٢٠١٧.

أنواع التلوث البيئي: ج- التلوث الضوضائي د- تلوث التربة ص ٨٧-٨٩

١- أكمل العبارات التالية بما يناسبها فيما درست:

- ١- إحدى ملوثات البيئة عرفت أنها الإزعاج أو الضجيج وتسمى بالتلوث الضوضائي ص ٨٧
- ٢- العاصمة العربية الإسلامية التي تعتبر نموذج للتلوث الضوضائي تسمى القاهرة ص ٨٧
- ٣- من عناصر البيئة الطبيعية وتعد المصدر الرئيسي لإنتاج الغذاء تسمى التربة ص ٨٨
- ٤- زحف رمال الصحراء على المناطق الجافة وشبه الجافة يسمى التصحر ص ٨٨
- ٥- عقد مؤتمر الأمم المتحدة للتصحر في عام ١٩٧٧ م ص ٨٩
- ٦- الدولة الخليجية التي لا تعاني من مشكلة التصحر اسمها عمان ص ٨٩
- ٧- تصل نسبة التصحر في كل من مصر وجيبوتي ودول الخليج العربية ما عدا سلطنة عمان إلى ٩٠٪ ص ٨٩

٢- استنتج الرابط بين العناصر التالية:

٣/ عمليات البناء والهدم + أصوات آلات الحفر + وسائل النقل (أسباب التلوث الضوضائي) ص ٨٧

٣) صف الكلمات التالية إلى مكانها المناسب في الجدول الذي يليها:

وسائل النقل- الأمطار الحمضية- النفايات- عمليات الهدم والحفر- المبيدات الحشرية- اصوات الات الحفر

اسباب تلوث التربة ص ٨٨	اسباب تلوث الضوضاء ص ٨٧
الامطار الحمضية- المبيدات الحشرية-	وسائل النقل- عمليات الهدم والحفر- اصوات الات الحفر

مصر - لبنان - سوريا- السودان- العراق- السنغال - جيبوتي - الصومال- دول الخليج العربي عدا سلطنة عمان ص ٨٩

دول إسلامية تصل نسبة التصحر فيها ما بين ١٠٪ - ٥٠٪	دول إسلامية تصل نسبة التصحر إلى ٩٠٪
لبنان - سوريا- السودان- العراق- السنغال - الصومال	مصر - دول الخليج العربي عدا سلطنة عمان - جيبوتي

(٢) علل / اذكر السبب.

- ١- تعتبر التربة عنصر مهم من عناصر البيئة الطبيعية ص ٨٨ لأنها المصدر الرئيسي لإنتاج الغذاء.

قارن بين كل من التلوث الضوضائي وتلوث التربة

وجه المقارنة	التلوث الضوضائي ص ٨٧	تلوث التربة ص ٨٨
الأسباب	وسائل النقل بأنواعها المختلفة عمليات البناء والهدم وأصوات آلات الحفر	الإفراط باستخدام المبيدات الحشرية على المزروعات النباتية . المخلفات الصناعية والكيميائية والبشرية (النفايات). الأمطار الحمضية
النتائج	☐ ضرر خطير في الجهاز السمعي. ☐ التوتر العصبي لدى الإنسان	☐ الاخلال بالتوازن البيئي للتربة . ☐ انحسار الغطاء النباتي. ☐ ضعف عمليات البناء الضوئي للنبات .

ص ٨٨

(٣) عرف التصحر: زحف رمال الصحراء على المناطق الجافة وشبه الجافة

ملخص أنواع التلوث

١١. قارن بين كل من :

١. أنواع التلوث حسب الجدول :ص ٨٨٨٢

أوجه المقارنة	التلوث الهوائي ص ٨٤	التلوث المائي ص ٨٦	التلوث الضوضاء ص ٨٧	تلوث التربة ص ٨٨
الأسباب.	الثورة الصناعية عوادم السيارات	١/سكب البقع النفطية في المياه ٢/تساقط الأمطار الحمضية في المياه ٣/ضخ مياه المجاري ٤/تسرب كميات من بقع الزيت من البواخر	وسائل النقل السيارات بأنواعها المختلفة، والطائرات، والقطارات وغيرها. عمليات البناء والهدم وأصوات آلات الحفر	الإفراط باستخدام المبيدات الحشرية على المزروعات النباتية. المخلفات الصناعية والكيميائية والبشرية (النفايات). الأمطار الحمضية.
النتائج	❖ سبب رئيسي لأمراض القلب والأوعية الدموية وأمراض الرئة وضيق التنفس. ❖ اضطراب في الجهاز العصبي ❖ تآكل وتلف المباني والمنشآت والآثار	❖ هلاك الكائنات البحرية والحيوانية والنباتية. ❖ فقدان السواحل لقيمتها الاقتصادية والسياحية. ❖ التأثير على صحة الإنسان	❖ الضوضاء الشديدة تؤدي إلى ضرر خطير في الجهاز السمعي. ❖ التوتر العصبي لدى الإنسان	❖ الاخلال بالتوازن البيئي للتربة. ❖ انحسار الغطاء النباتي. ❖ ضعف عمليات البناء الضوئي للنبات.
تعرضت للتلوث نماذج من دول	باكستان - ماليزيا	الكويت - موريتانيا	مصر (القاهرة)	

٢ - تحديات بيئية أخرى: أ- الاحتباس الحراري : ص ٩٠

١- أكمل العبارات التالية بما يناسبها فيما درست:

١. ارتفاع درجات حرارة الأرض عن معدلها الطبيعي يسمى الاحتباس الحراري
٢. الغاز المسبب لظاهرة الاحتباس الحراري يسمى ثاني أكسيد الكربون
٣. ضرب سواحل سلطنة عمان والإمارات وإيران اعصار يسمى جونو (غونو)
٤. حدث اعصار جونو (غونو) نتيجة لظاهرة الاحتباس الحراري في عام ٢٠٠٧

٢ (اكتب المفهوم الدال على العبارة التالية :

المفهوم	العبارة
الاحتباس الحراري	ارتفاع درجات حرارة الأرض عن معدلها الطبيعي مما يؤدي إلى تغيرات مناخية

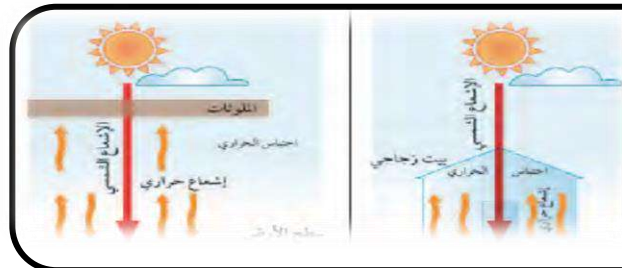
(٣) علل / اذكر السبب.

١. حدوث اعصار جونو او غونو في سواحل عمان والامارات وايران عام ٢٠٠٧م.
نتيجة لظاهرة الاحتباس الحراري
٢. حدوث ظاهرة الاحتباس الحراري.
نتيجة الزيادة المستمرة لغاز ثاني أكسيد الكربون في الهواء الجوي

٤/ أقرأ الفقرة التالية ثم أجب على الأسئلة التي تليها :

يرى علماء البيئة ان اعصار جونو او غونو عام ٢٠٠٧م الذي ضرب سواحل سلطنة عمان الشرقيه باتجاه سواحل الامارات الشرقية وسواحل ايران الجنوبية الشرقية نتيجة لظاهرة الاحتباس الحراري:

- ١- عرف المفهوم الذي تحته خط:
أ. ارتفاع درجات حرارة الأرض عن معدلها الطبيعي مما يؤدي إلى تغيرات مناخية
ب. ما اسباب حدوث هذه الظاهرة
نتيجة الزيادة المستمرة لغاز ثاني أكسيد الكربون في الهواء
ج. ما النتائج المتوقعة لهذه الظاهرة
● ارتفاع درجات الحرارة في الأرض
● تغير المناخ أذوبان الجليد في القطب الشمالي والجنوبي بد غرق مناطق كثيرة من العالم
د. نماذج من الدول الإسلامية التي سعت لتحقيق التنمية
الكويت- السعودية - مصر



- ١) أكمل العبارات التالية بما يناسبها :
الشكل المقابل يمثل ظاهرة تسمى : الاحتباس الحراري
الغاز الأول المسؤول عن الظاهرة هو ثاني أكسيد الكربون
ظهر نتيجة له اعصار يسمى جونو أو غونو

٢- تحديات بيئية أخرى: ب- النفايات

٣- العالم الإسلامي في مواجهة التحديات البيئية: التنمية المستدامة: ص ٩١ - ص ٩٤

١- أكمل العبارات التالية بما يناسبها فيما درست:

١. أي مواد زائدة وغير مرغوبة من مخلفات البيئة أو الفضلات تسمى النفايات ص ٩١
٢. إعادة استخدام المخلفات لإنتاج منتجات أخرى أقل جودة من المنتج الأصلي يسمى تدوير ص ٩١
٣. تحسين نوعية الحياة وفق بيئة صحية آمنة ومستقرة ومتقدمة يسمى التنمية المستدامة ص ٩٣
٤. منطقة في الكويت سيتم بها اكتمال مشروع توليد ٧٠ ميجاوات من الكهرباء تسمى الشقيا ص ٩٣

٢ (اكتب المفاهيم أو المصطلحات الدالة على العبارات التالية:

المفهوم	العبرة
النفايات	أي مواد زائدة وغير مرغوبة من مخلفات البيئة أو الفضلات.
التدوير	إعادة استخدام المخلفات لإنتاج منتجات أخرى أقل جودة من المنتج الأصلي
التنمية المستدامة	عبرة عن برامج تحسين نوعية الحياة، ص ٩٣

٣ (علل / اذكر السبب.

١/ زيادة كمية المخلفات الصناعية والمنزلية والزراعية والبنائية. ص ٩١

نتيجة لسرعة التقدم الصناعي، والسلوك الاستهلاكي لدى الإنسان

٤ (اكتب اثنين من دور دول العالم الإسلامي في مواجهة التحديات والمشكلات البيئية. ص ٩٣

- أ. اتجهت دول العالم الإسلامي إلى برامج التنمية المستدامة
- ب. أعلنت دولة الكويت عن خطط لتوليد الطاقة من خلال المصادر المتجددة.
- تد. وضعت السعودية خططا لبناء قطاع لتوليد (٤١) ميجاوات من الكهرباء بالطاقة الشمسية.
- ث. مصر قامت بتشغيل مدرسة بالطاقة الشمسية.

٥ أقرأ الفقرة التالية ثم أجب على الأسئلة التي تليها :

أعلنت دولة الكويت عن خطط لتوليد ١٥٪ من احتياجاتها من الطاقة و بحلول عام ٢٠١٧ تم تشغيل أول محطة كهرباء تعمل بالطاقة الشمسية. ومن المتوقع اكتمال مشروع رائد لإنتاج ٧٠ ميجاوات من الكهرباء في منطقة الشقيا في غرب الكويت. ص ٩٣

١. في أي عام تم تشغيل أول محطة كهرباء تعمل بالطاقة الشمسية في دولة الكويت ؟ عام ٢٠١٧م
٢. ما اسم المنطقة التي سيتم اكتمال مشروع إنتاج ٧٠ ميجاوات من الكهرباء بها ؟ الشقيا
٣. اذكر نماذج أخرى من الدول الإسلامية سعت لتحقيق التنمية أ. السعودية ب / مصر

ثانياً: التحديات الاقتصادية التي تواجه دول العالم الإسلامي.

١- الانفجار السكاني ص ٩٥ - ص ٩٦

١- أكمل العبارات التالية بما يناسبها فيما درست:

١. يبلغ عدد سكان دولة الكويت حوالي ٤.٥٢٢.٠٤٨.

٢. أكمل المخطط السهمي التالي:

٢- التحديات الاقتصادية التي تواجه دول العالم الإسلامي

أ- الانفجار السكاني ص ٩٥ ب- الفقر ص ٩٦ ج- العولمة الاقتصادية ص ٩٩ د- التكامل الاقتصادي ص ١٠٠

٢- أنواع الزيادة السكانية : ص ٩٥

أ- الزيادة طبيعية ب- الزيادة الغير طبيعية

٣- عرف المفهوم التالي:

الانفجار السكاني ص ٩٥ : الزيادة الكبيرة في أعداد السكان

٤- علل / اذكر السبب.

١/ زيادة عدد السكان ص ٩٥

بسبب الزيادة الطبيعية والزيادة وغير الطبيعية

٢/ ظهور المشكلة السكانية ص ٩٥

نتيجة لعدم التوازن بين عدد السكان والموارد والخدمات وفرص العمل وارتفاع المستوى المعيشي

٥- عدد ما يلي:

١- أنواع الزيادة السكانية ص ٩٥

١- زيادة طبيعية ٢- زيادة غير طبيعية

٢- المشكلات الناتجة عن الانفجار السكاني ص ٩٥

ظهور الجريمة والبطالة والطلاق والمخدرات.

ثانياً: التحديات الاقتصادية التي تواجه دول العالم الإسلامي.

١- الفقر ص ٩٦ - ص ٩٨

١- أكمل العبارات التالية بما يناسبها فيما درست:

١. أعلى نسبة فقري في دول العالم الإسلامي لعام ٢٠١٥ دولة تسمى بنغلادش ص ٩٧

٢. أقل نسبة فقري في دول العالم الإسلامي لعام ٢٠١٥ دولة تسمى مالي ص ٩٧

٣. تبلغ نسبة الفقر في دولة بنغلادش حوالي ٧٧,٥٪ ص ٩٧

٤. نسبة السكان الذين يعيشون تحت مستوى خط الفقر في العالم الإسلامي يبلغ ٢٧٪ ص ٩٧

٢- اكتب المفاهيم أو المصطلحات الدالة على العبارات التالية:

المفهوم	العبرة
الفقر ص ٩٦	الحالة الاقتصادية التي يفتقد فيها الفرد إلى الدخل الكافي للحصول على المستويات الدنيا من الغذاء والملبس عدوالتعليم والرعاية الصحية وكل ما ي من الاحتياجات الضرورية لتأمين مستوى لائق في الحياة»
خط الفقر ص ٩٧	ادنى مستوى من الدخل يحتاجه المرء أو الأسرة حتى يكون بالإمكان توفير مستوى معيشة ملائم في بلد ما

٢- اكتب عنواناً للمخططات السهمية التالية:

أسباب الفقر ص ٩٨

البطالة ضعف الاقتصاد عدم توفر عمل قلّة التبرعات

عدد أسباب الفقر في الدول الإسلامية ص ٩٨

- ١- ضعف اقتصاد الدولة.
- ٢- انتشار البطالة.
- ٣- تضخم أسعار السلع والخدمات.
- ٤- قلّة التبرعات والصدقات في المجتمع.
- ٥- عدم توفر فرص العمل.
- ٦- الحروب والدمار.
- ٧- عدم الاستغلال الأمثل للموارد الطبيعية والبشرية.
- ٨- عدم تكافؤ الفرص.
- ٩- التفرقة بين الناس في الحقوق والواجبات.

ثانياً: التحديات الاقتصادية التي تواجه دول العالم الإسلامي.

٣- العولمة الاقتصادية - ٤- التكامل الاقتصادي: ص ٩٩ - ص ١٠١

١) اكتب عنواناً للمخططات السهمية التالية:

العولمة الاقتصادية ص ٩٩

قوانين قريية عالمية ثورة معلومات نظام عالمي جديد

٢) اكتب المفاهيم أو المصطلحات الدالة على العبارات التالية:

المفهوم	العبارة
العولمة ص ٩٩:	نظام عالمي جديد يقوم على الإبداع العلمي، والتطور التقني، والتكنولوجيا، وثورة الاتصالات بحيث تزول الحدود الثقافية بين الشعوب بالعالم ويصبح العالم كقريية واحدة.
التكامل الاقتصادي ص ١٠٠	عملية اقتصادية، واجتماعية يتم بموجبها إزالة جميع الحواجز بين الوحدات المختلفة، وتؤدي إلى تحقيق تكافؤ الفرص أمام جميع عناصر الإنتاج في دول التكامل
البلدان النامية ص ١٠٠	الدول التي مازالت أقل في ميادين الاقتصاد تقدماً والعلم والتكنولوجيا
الدخل القومي ص ١٠٠	مجموع الدخل المكتسب في بلد ما خلال فترة زمنية ما تكون سنة معينة، عادة واحدة.
الميزان التجاري ص ١٠٠	الفرق بين قيمة الصادرات وقيمة الواردات بالدول

٤) عدد - العوامل التي أثرت على انخفاض مستوى نصيب الفرد من الدخل القومي ص ١٠٠

١) ضعف الإنتاج الاقتصادي، والذي يترتب عليه انخفاض شديد في الدخل القومي .

٢) تعاني غالبية دول العالم الإسلامي عجزاً في ميزانها التجاري.

ثالثاً: التحديات السياسية التي تواجه دول العالم الإسلامي.

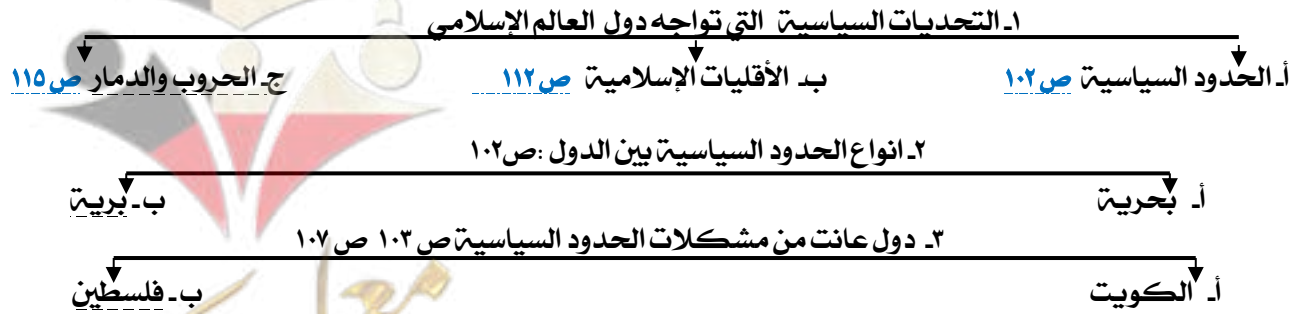
١- مشكلة الحدود السياسية - أزمة الحدود السياسية بين دولة الكويت والعراق: ص ١٠٢ - ص ١٠٦

١- أكمل العبارات التالية بما يناسبها فيما درست:

١. تنقسم الحدود السياسية بين الدول الى حدود بحرية وحدود برية
٢. عقد مؤتمر العقير في عام ١٩٢٢م
٣. الحاكم العراقي الذي ادعى أن الكويت تابعة لولاية البصرة يسمى عبد الكريم قاسم
٤. هاجمت القوات العراقية مركز الصامته الكويتي في عام ١٩٧٣م
٥. اجتاحت قوات النظام العراقي على دولة الكويت في تاريخ ٢ أغسطس ١٩٩٠م
٦. انسحاب القوات العراقية بالقوة العسكرية من أراضي دولة الكويت في تاريخ ٢٣ فبراير ١٩٩١م
٧. اصدرت الامم المتحدة عام ١٩٩١ م عن طريق مجلس الأمن قرار رقم ٦٧٨
٨. قرار ٦٧٨ يهدف لترسيم الحدود بين دولتين الكويت والعراق
٩. اصدر مجلس الأمن قرار ٨٣٣ لترسيم الحدود بين الكويت والعراق عام ١٩٩٢م
١٠. تم توقيع اتفاقية الحماية بين الشيخ مبارك الصباح والحكومة البريطانية عام ١٨٩٩م
١١. الشيخ الذي وقع على اتفاقية الحماية عام ١٨٩٩ مع بريطانيا يسمى مبارك الصباح
١٢. أول ترسيم للحدود بين الكويت والعراق في عام ١٩١٣م
١٣. اعترفت العراق بتريسيم الحدود بينها وبين الكويت بقرار ٨٣٣ عام ١٩٩٤م

١٢ عرف الحدود خطوط حددت بواسطة الإنسان ودرست حتى تفصل بين سيادة دولة ودولة أخرى . ص ١٠٢

٣) أكمل المخططات السهمية التالية :



٤) اختر للمجموعة (أ) ما يرتبط بها من المجموعة (ب) بوضع الرقم في المكان المناسب

م	المجموعة (أ)	الرقم المناسب	المجموعة (ب)
١	١٨٩٩ م	٣	مؤتمر العقير ص ١٠٣
٢	١٩٩١ م	١	اتفاقية الحماية بين الكويت وبريطانيا ص ١٠٦
٣	١٩٢٢ م	٢	تحرير دولة الكويت من المعتدي العراقي ص ١٠٤
٤	١٩٩٣ م	٤	قرار مجلس الأمن لترسيم حدود الكويت والعراق ص ١٠٤ - ١٠٦

٥) علل / اذكر السبب.

١/ انعقاد مؤتمر العقير عام ١٩٢٢ م ص ١٠٣

لإيجاد حل لمشاكل الحدود بين نجد والعراق من جهة، والكويت والعراق، ونجد من جهة أخرى.

٦) دلل

١- دلل على عدم تبعية دولة الكويت للعراق: ص ١٠٦

- أ- أول ترسيم للحدود بين الكويت والعراق - الدولة العثمانية - عام ١٩١٢ م و اعتراف العثمانيين باستقلال الكويت وترسيم الحدود.
- ب- تم ترسيم الحدود في مؤتمر العقير ١٩٢٢ م بين الكويت والعراق والسعودية مما يثبت استقلال الكويت عن العراق.
- ت- اتفاقية الحماية عام ١٨٩٩ م بين الشيخ مبارك الصباح والحكومة البريطانية.
- ث- عام ١٩٩٣ م صدر قرار مجلس الأمن رقم ٨٣٣ بترسيم الحدود بين الكويت والعراق واعترفت الكويت به فيما اعترف العراق بالقرار في عام ١٩٩٤ م.

٧) اذكر ما تعرفه عن مراحل أزمة الحدود السياسية بين الكويت والعراق: ص ١٠٣-١٠٤

* مراحل أزمة الحدود	* أهم الأحداث
* ادعاءات مؤتمر عبد الكريم قاسم ٢٥ / يونيو / ١٩٦١ م بأن الكويت تابعة الى ولاية البصرة	* رفض الشيخ عبدالله السالم حاكم دولة الكويت هذه الادعاءات . * انضمام دولة الكويت لاتفاقية الدفاع العربي المشتركة
* اعتداء على مركز الصامته عام ١٩٧٣ م	* رفض الحكومة الكويتية للمشروع العراقي للحصول على منفذ بحري ١٩٧٣ * الهجوم على مركز الصامته الكويتي. * انسحاب القوات العراقية من الصامته بعد نصيحه موسكو للعراق
* غزو النظام العراقي على دولة الكويت ١٩٩٠ م * ترسيم الحدود عام ١٩٩٣ م	* هزيمة وانسحاب القوات العراقية بالقوة العسكرية ١٩٩١ م * اصدرت هيئة الأمم المتحدة قرار ٦٧٨ بترسيم الحدود عام ١٩٩١ م * اصدار قرار ٨٣٣ ليرسم الحدود بين الدولتين عام ١٩٩٣ م

٨/ من القائل :

" ان الكويت دولة عربية ذات سياده ومن ورائها يقف شعب الكويت بدعم قياداتها " ص ١٠

١/ من القائل؟ الشيخ عبد الله السالم

٢/ المناسبة؟ عندما رفض ادعاءات عبد الكريم قاسم بأنه يوجد حقوق تاريخية للعراق في الكويت، وأنها كانت تابعة للبصرة



ثالثاً: التحديات السياسية التي تواجه دول العالم الإسلامي.

١ - مشكلة الحدود السياسية ب- قضية فلسطين ص ١٠٧ - ص ١٠٩

١- أكمل العبارات التالية بما يناسبها فيما درست:

١. بدأت القضية الفلسطينية عقب الحرب العالمية الأولى
٢. توسع المحتل الصهيوني الإسرائيلي في أراضي فلسطين بعد حرب ١٩٤٨ م
٣. احتل المعتدي الصهيوني من الأراضي الفلسطينية بعد حرب ١٩٤٨ م حوالي ٨٠٪
٤. تشرد سبعمائة وخمسين ألفاً من الفلسطينيين ما بين نازح، ومهاجر في حرب ١٩٤٨ م.
٥. أصدرت الجمعية العامة للأمم المتحدة قرارها رقم ١٨١ عام ١٩٤٧ م لتقسيم فلسطين إلى قسمين عربي ويهودي
٦. اطلق على مؤتمر القمة العربية في القاهرة عام ٢٠٠٠ م اسم قمة الأقصى
٧. عقدت قمة التضامن مع الشعب الفلسطيني في غزة عام ٢٠٠٩ م في دولة تسمى الكويت
٨. الملك الذي اقترح إنشاء صندوق انتفاضة القدس و صندوق الأقصى يسمى عبدالله بن عبدالعزيز

(٢) علل / اذكر السبب.

١/ بدأت القضية الفلسطينية عقب الحرب العالمية الأولى ص ١٠٧
بسبب تشجيع الانتداب البريطاني الذي حكم فلسطين في الفترة ما بين ١٩٢٠ و ١٩٤٨ م ووصول موجات متتالية من الهجرات اليهودية داخل فلسطين.

٢/ إصدار الجمعية العامة للأمم المتحدة قرار رقم ١٨١ ص ١٠٧
لتقسيم فلسطين إلى قسمين عربي ويهودي عام ١٩٤٧ م حيث شهد تعداد اليهود ارتفاعاً كبيراً

٣) اكتب ما تعرفه عن:

١/ موقف الملك عبدالله بن عبدالعزيز في قضية فلسطين ص ١٠٨

- أ) اقترح فيه إنشاء صندوق يحمل اسم (صندوق انتفاضة القدس).
- ب) إنشاء صندوق يحمل اسم (صندوق الأقصى) برؤوس أموال تخدم الشعب الفلسطيني.
- ج) كان للملك عبدالله بن عبدالعزيز - رحمه الله - موقف تاريخي في مؤتمر القمة العربية الاقتصادية والتنموية والاجتماعية (قمة التضامن مع الشعب الفلسطيني في غزة) التي عقدت في الكويت في شهر يناير ٢٠٠٩.

٤) عدد

- ١/ اهم المناطق التي احتلها الكيان الصهيوني بفلسطين بعد حرب ١٩٦٧ م: ص ١٠٧
أ. غزة ب. الضفة الغربية ج. القدس الشرقية د. سيناء المصرية و. هضبة الجولان السورية
- ٢/ ما النتائج المترتبة بعد حرب ١٩٤٨ م بين المحتل الصهيوني الإسرائيلي وفلسطين ١٠٧
أ. التوسع الصهيوني الإسرائيلي في أراضي فلسطين لتحتل حوالي ٨٠ % من الأراضي الفلسطينية
ب. تشرد سبعمائة وخمسين ألفاً من الفلسطينيين ما بين نازح، ومهاجر

٥- قارن بين كل من :

١/ حرب ١٩٤٨ م حرب يونيو ١٩٦٧ م من حيث النتائج المترتبة :

حرب يونيو ١٩٦٧ م	حرب ١٩٤٨ م	النتائج المترتبة
* احتلت غزة والضفة الغربية وسيناء المصرية وهضبة الجولان السورية والقدس الشرقية.	* توسع المحتل الصهيوني الإسرائيلي في أراضي فلسطين لتحتل حوالي ٨٠ % من الأراضي الفلسطينية . * تشرد سبعمائة وخمسين ألفاً من الفلسطينيين ما بين نازح، ومهاجر	



- (١) أكمل العبارات التالية بما يناسبها : ص ١٠٨/١٠٩
- الصورة المقابلة تمثل شخصية ملك يسمى عبد الله بن عبدالعزيز
- شارك في مؤتمر القمة العربية في القاهرة عام ٢٠٠٠ م
ما أسماء الصناديق التي اقترحها لكي تخدم القضية الفلسطينية؟
١. صندوق انتفاضة القدس ٢. صندوق الأقصى



- (١) أكمل العبارات التالية بما يناسبها : ص ١٠٩
- الشكل المقابل يمثل : مؤتمر القمة العربية الاقتصادية والتنموية والاجتماعية
في أي دولة حدث ؟ الكويت - في أي عام ؟ ٢٠٠٩ م

ثالثاً: التحديات السياسية التي تواجه دول العالم الإسلامي.

١ - مشكلة الأقليات الإسلامية: ص ١١٢ - ص ١١٥


١- أكمل العبارات التالية بما يناسبها فيما درست:

١. مجموعة من المسلمين تعيش تحت سلطة دولة غير مسلمة في وسط اغلبية غير مسلمة تسمى الأقليات الإسلامية ص ١١٢
٢. عدد المسلمون في دول غير العضو بمنظمة المؤتمر الاسلامي يبلغ حوالي ٤٥٠ مليون ص ١١٢
٣. من نماذج الاقليات الإسلامية حول العالم منطقة شينجيانغ أوريغور ومنطقة تسمى أراكان ص ١١٣
٤. تقع منطقة أراكان (بورما) في ميانمار ص ١١٣
٥. تقع منطقة شينجيانغ أوريغور على الحدود الغربية لجمهورية تسمى الصين الشعبية ص ١١٣
٦. واجهت العديد من المسلمين تمييزاً في العمل منذ أحداث ١١ سبتمبر م ٢٠٠١. ص ١١٤

٢ (اكتب المفاهيم أو المصطلحات الدالة على العبارات التالية :

المفهوم	العبارة
الاقليات	ص ١١٢ يطلق لفظ الأقلية على مجموعة من سكان دولة او إقليم ما يختلفون عن غالبية سكان تلك الدولة بخاصية من الخصائص المتمثلة في العرف او الثقافة او الدين
الأقليات الإسلامية ص ١١٢	مجموعة من المسلمين تعيش تحت سلطة دولة غير مسلمة في وسط اغلبية غير مسلمة

٣ أكمل المخططات السهمية التالية :



(٤) علل / اذكر السبب.

١. مواجهة العديد من المسلمين تمييزاً في العمل ص ١١٤ بسبب أحداث ١١ سبتمبر ٢٠٠١ م
٢. انخفاض المستوى التعليمي للأقليات الإسلامية ص ١١٤ نتيجة سوء الأحوال الاجتماعية والمادية.
٣. - سوء الظروف الاجتماعية والمادية التي تعيش فيها معظم الجاليات المسلمة ص ١١٤ تدني الاجور او عدم وجود فرص عمل مستقرة.
٤. اضطرار أكثر من مليوني مسلم إلى الفرار من ميانمار والعيش كلاجئين في الدول المجاورة ص ١١٣ بسبب قيام السلطات الميانمارية في شن حملات قمعية ضد المجموعات المسلمة وصلت إلى حد الإبادة الجماعية والجرائم ضد الإنسانية.

٤ عدد مايلي :

١- التحديات التي تواجه الأقليات الإسلامية حول العالم؟ ص ١١٤

- أ- مواجهة العديد من المسلمين تمييزاً في العمل منذ أحداث ١١ سبتمبر ٢٠٠١ م.
- ب- سوء الظروف الاجتماعية والمادية نتيجة تدني الأجور أو عدم وجود فرص عمل مستقرة
- ت- الحفاظ على الهوية الإسلامية في ظل عادات وتقاليد المجتمعات الغربية
- ث- انخفاض المستوى التعليمي نتيجة سوء الأحوال الاجتماعية والمادية
- ج- فرض القيود على المسلمين في حرية ممارستهم لشعائرهم الدينية الإسلامية

٢- الأوضاع التي عانا منها المسلمون المقيمين في منطقة شينجيانغ أوريغور الواقعة على الحدود الغربية للصين. ص ١١٢
أ- محاولات طمس هويتهم الثقافية بد حرمانهم من حقوقهم الاجتماعية والدينية.

٣- الطرق التي كونت الأقليات الإسلامية ص ١١٢

- ١- اعتناق الإسلام ٢- هجرة بعض المسلمين إلى أرض غير مسلمة
- ٤- مناطق تواجد الأقليات الإسلامية؟ ص ١١٢
أ- أراكان ب- شينجيانغ أوريغور

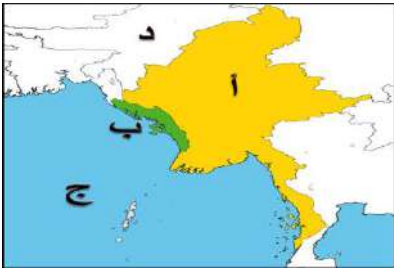
٥- الحلول الإسلامية والدولية المقترحة للتحديات التي تواجه الأقليات الإسلامية؟ ص ١١٥
أ- تفعيل الوجود الإسلامي ب- الدور التثقيفي للمؤسسات الإسلامية

٦- الدور التثقيفي للمؤسسات الإسلامية اتجاه الأقليات الإسلامية؟ ص ١١٥

أ- الحفاظ على الهوية الإسلامية بد التمسك بقيم الدين الإسلامي
(أجب عن الأسئلة التالية)

٨- كيف يتم تفعيل الوجود الإسلامي للأقليات الإسلامية؟ ص ١١٥

- أ- حيث يكون لكل جالية مسلمة هيئة تتحدث باسمها .
- ب- تفعيل المشاركات الاجتماعية والسياسية والاقتصادية للمسلمين في الغرب.



(١) لاحظ الخريطة التي أمامك ثم أجب على الأسئلة التي تليها : ص ١١٢

١. منطقة أراكان يمثلها على الخريطة الحرف : **ب**
٢. الحرف (د) يمثل على الخريطة دولة تسمى **الهند**
٣. الحرف (ج) على الخريطة يمثل مسطح مائي يسمى: **خليج البنغال**
٤. ارسم على الخريطة اتجاه دولة الصين بالنسبة لأراكان



(١) لاحظ الخريطة التي أمامك ثم أجب على الأسئلة التي تليها : ص ١١٢

١. اقليم شينجيانغ أوريغور يمثلها على الخريطة الحرف: **أ**
٢. بحر الصين الشرقي يمثلها على الخريطة الحرف (د)

٢- مشكلة الحروب والدمار (أ- البوسنة والهرسك ب- الصومال)

ص ١١٥ - ص ١١٨

١- أكمل العبارات التالية بما يناسبها فيما درست:

١. اندلعت حرب البوسنة والهرسك على يد القوات الصربية من عام ١٩٩٢ الى عام ١٩٩٥
٢. المعسكر الذي كان مركزا لاعتقال وتعذيب المدنيين البوسنيين والكروات يسمى (أومارسكا)
٣. اندلعت الحرب الاهلية في الصومال في عام ١٩٩١ م

ص ١١٦

ص ١١٦

ص ١١٧

٢- أكمل المخططات السهمية التالية:

نماذج من دول العالم الإسلامي التي تعاني من مشكلة الحروب والدمار: ص ١١٥

البوسنة والهرسك الصومال فلسطين دولة الكويت

٣- أجب عن الأسئلة التالية:

- ١- ما هو دور دولة الكويت اتجاه دولة الصومال؟ ص ١١٧
- ٢- تقديم المساعدات عبر مؤسسات ومراكز خيرية من بينها جمعية الهلال الأحمر الكويتي

١٤ من القائل :

➤ الناس تموت هنا، ويجب على العالم أن يتحرك الآن لوقف هذا < ص ١١٧

١/ من القائل ؟ السكرتير العام للأمم المتحدة أنطونيو جوتيريش

٢/ المناسبة؟ أزمة الصومال

٣/ ما هو دور منظمة التعاون الإسلامي؟

أ. ارتفاع أعداد المشردين والنازحين في الصومال من جراء الأزمة التي اندلعت في البلاد.

ب. تقدم دولة الكويت مساعداتها عبر عدة مراكز ومؤسسات خيرية من بينها جمعية الهلال الأحمر الكويتي.

١٥- قارن بين كل من :

١٣ حرب البوسنة والهرسك وحرب الصومال من حيث المطلوب :

أوجه المقارنة	البوسنة والهرسك ص ١١٦	الصومال ص ١١٧
الأطراف	البوسنيين والكروات × القوات الصربية	حرب أهلية
العام	١٩٩٢-١٩٩٥	١٩٩١
النتائج	١. اغلاق معسكر اومارسكا الذي كان مركزا لاعتقال وتعذيب المسلمين ٢. ابادة اكثر من ٣٠٠ الف مسلم	موجات من الجفاف والمجاعة اجتاحت البلاد واودت بحياة اكثر من مليون نسمة

٦- عدد ما يلي :

الشخصيات الكويتية التي بذلت العطاء في مساعدة الدول والمجتمعات التي تعرضت للكوارث والحروب. ص ١١٨

١/ د. معالي العسوسي

٢/ د. عبدالرحمن السميح

٢- مشكلة الحروب والدمار (ج- دولة الكويت)

ص ١١٩ - ص ١٢٣



١- أكمل العبارات التالية بما يناسبها فيما درست:

١. بطلة من ابطال إطفاء حرائق النفط الناجمة عن الغزو العراقي الغاشم تسمى سارة اكبر
٢. بلغ عدد الابار المشتعلة في الكويت اثناء الغزو العراقي ٧٣٧ بئرا
٣. أطفأت الابار المشتعلة خلال ٢٤٠ يوم
٤. أطفأ أحر برن نفطي في تاريخ ٦ نوفمبر ١٩٩١
٥. أطفأت أبار النفط المشتعلة في عهد الشيخ جابر الاحمد الصباح
٦. شنت قوات التحالف حرب عاصفة الصحراء في تاريخ ١٧ يناير ١٩٩١
٧. اطلق على حرب تحرير دولة الكويت اسم عاصفة الصحراء
٨. تحررت دولة الكويت في تاريخ ٢٦ فبراير ١٩٩١
٩. مكان يحتوي على أسماء وصور شهداء الكويت يسمى حديقة الشهيد

٢ اكتب ما تعرفه عن:

١/ الآثار البيئية التي خلفها الغزو العراقي على دولة الكويت ص ١١٩

أ. حرق الآبار بد تدمير المباني والمنشآت. ج. تدمير البيئة الطبيعية والكائنات الحية

٢/ دور الجيش الكويتي في الغزو العراقي ص ١٢٢

- أ. قامت القوة الجوية الكويتية بالاسلحة صقور الجو بتدمير عدد من دبابات النظام العراقي البائد وأكثر من ١٨ طائرة مقاتلة مما أدى إلى تأخير عملياتهم الهجومية.
- ب. قام الجيش الكويتي في دحر المعتدي واضعاف قوة النظام العراقي بعدها دخلت قوات التحالف والجيش الكويتي برياً للقضاء على الجيوش العراقية.

٣/ الغيوم السوداء التي حلت بسماء دولة الكويت نتيجة العدوان العراقي الغاشم. ص ١٢٠ .

- أ. اشتعال ٧٣٧ بئر نفطي.
- ب. تمكنوا فرقا الاطفاء من إطفاء الآبار جميعها والسيطرة عليها خلال ٢٤٠ يوماً .
- ج. بدأ العمل الفعلي للإطفاء في ١١ مارس ١٩٩١ م , انتهى بإخماد آخر بئر نفطي في ٦ نوفمبر ١٩٩١ م.

رابعاً: التحديات الاجتماعية والثقافية التي تواجه دول العالم الاسلامي.

١- مشكلة ادمان المخدرات ص ١٢٥ - ص ١٢٧

١) أكمل المخططات السهمية التالية:

التحديات الاجتماعية والثقافية التي تواجه دول العالم الاسلامي

بد الأمية ص ١٢٨

أ. إدمان المخدرات ص ١٢٥

٢) عدد

١/ أسباب الإدمان ص ١٢٦

- ✓ ضعف الوازع الديني وانحدار القيم الأخلاقية. ✓ ضعف الرقابة من الأسرة على الفرد.
- ✓ رفاق السوء ✓ انتشار التدخين بين المتعلمين في المدارس.
- ✓ التقليد الأعمى ✓ قضاء أوقات الفراغ في أمور تافهة لا تعود على الشباب بالنفع.

٢ / الآثار المترتبة على ادمان المخدرات ؟ ص ١٢٥

أ. سلوك عدواني بد هلوسة سمعية وبصرية

رابعاً: التحديات الاجتماعية والثقافية التي تواجه دول العالم الإسلامي.

٢- مشكلة الأمية ص ١٢٨ - ص ١٢٩

١- أكمل العبارات التالية بما يناسبها فيما درست:

١. ظاهرة ثقافية متفشية في معظم دول العالم الإسلامي ومختلف البلدان تسمى الأمية ص ١٢٨
٢. الدولة التي سجلت أعلى معدل من إمام البالغين بالقراءة والكتابة حيث بلغ ٩٧٪ تسمى قطر ص ١٢٨
٣. تقدمت دول العالم الإسلامي في مجال محو الأمية خلال عامي (١٩٩٠م و ٢٠١٣م) من نسبة ٥٥٪ إلى ٧٨٪ ص ١٢٩
٤. أقل نسبة محو أمية الكبار في الدول الأعضاء في منظمة التعاون الإسلامي لعام ٢٠١٥ م. تسمى النيجر ص ١٢٩
٥. أعلى نسبة محو أمية الكبار في الدول الأعضاء في منظمة التعاون الإسلامي لعام ٢٠١٥ م تسمى كازاخستان ص ١٢٩

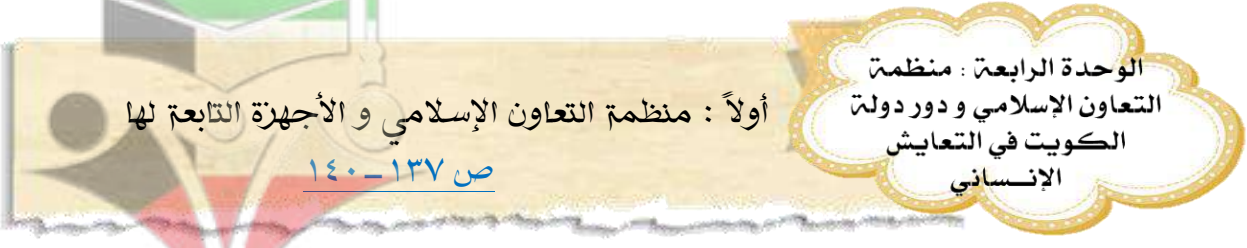
٢- عرف مفهوم الأمية ص ١٢٨

ظاهرة ثقافية متفشية في معظم دول العالم الإسلامي ومختلف البلدان وخاصة البلدان النامية

٣- قارن بين كل من :

١/ عرف الأمية حسب مفهوم الدول الإسلامية : ص ١٢٨

البلدان المتقدمة	البلدان النامية	مفهوم الأمية
الشخص الذي لم يصل الى المستوى التعليمي الذي يجعله يفهم التعليمات الكتابية في موضوعات التقنية في عملته	الانسان الذي بلغ الثانية عشرة من عمرة ولم يتعلم مبادئ القراءة والكتابة والحساب بلغة ما	



الوحدة الرابعة : منظمة
التعاون الإسلامي و دور دولة
الكويت في التعايش
الإنساني

أولاً : منظمة التعاون الإسلامي و الأجهزة التابعة لها
ص ١٣٧ - ١٤٠

١- أكمل العبارات التالية بما يناسبها فيما درست :

١. الملك الذي دعا إلى إنشاء تجمع يضم الدول الإسلامية يسمى فيصل بن عبدالعزيز آل سعود ص ١٣٧
٢. عقد مؤتمر القمة العربية الثالثة في عام ١٩٦٥ م ص ١٣٧
٣. أحرق المسجد الأقصى في عام ١٩٦٩ م ص ١٣٧
٤. دولة يكون فيها نسبة المسلمين ٥٠٪ أو أكثر ويحكمها حاكم مسلم تسمى الدولة الإسلامية ص ١٣٧
٥. نسبة المسلمين تبلغ في الدولة الإسلامية الى ٥٠٪ أو أكثر ص ١٣٧
٦. تضم منظمة التعاون الإسلامي في عضويتها ٥٧ دولة ص ١٢٨
٧. يقع مقر منظمه التعاون الإسلامي بالملكة العربية السعودية في مدينة تسمى جدة ص ١٢٨
٨. أنشأت منظمه التعاون الإسلامي في تاريخ ٢٥/٩/١٩٦٩م ص ١٢٨
٩. تغير اسم منظمة المؤتمر الإسلامي إلى اسم منظمة التعاون الإسلامي في عام ٢٠١١م ص ١٢٨
١٠. تغير اسم منظمة المؤتمر الإسلامي إلى اسم منظمة التعاون الإسلامي ص ١٢٨

٢- اكتب المفاهيم أو المصطلحات الدالة على العبارات التالية :

المفهوم	العبرة
١. الدولة الإسلامية ص ١٣٧	الدولة التي يكون فيها نسبة المسلمين ٥٠٪ أو أكثر من نسبة مجموع سكانها ويحكمها حاكم مسلم
٢. منظمة التعاون الإسلامي ص ١٢٨	منظمة تضم في عضويتها ٥٧ دولة إسلامية مستقلة مقرها مدينة جدة

٣- صف الكلمات التالية في مكانها المناسب في الجدول الذي يليها :

أ (ألبانيا - كازاخستان - السنغال - سورينام) ص ١٣٧

القارة	قارة آسيا	قارة افريقيا	قارة اوروبا	قارة امريكا الجنوبية
اسم الدولة	كازاخستان	السنغال	اليابا	سورينام

٤- أكمل المخططات السهمية التالية :



٥- علل لما يلي : اذكر السبب :

- ١) إنشاء منظمة التعاون الإسلامي ص ١٢٨
- بسبب قيام المحتل الإسرائيلي بإحراق المسجد الأقصى في فلسطين عام ٢١/٨/١٩٦٩

٦- عدد ما يلي :

١) أهداف منظمة التعاون الاسلامي ص ١٣٩

أ/ الجانب السياسي ب/ الجانب الاقتصادي ج/ الجانب الثقافي والاجتماعي

٧- قارن بين كل من أهداف منظمة التعاون الاسلامي

جوانب منظمة التعاون الاسلامي من حيث ص ١٣٩

وجه المقارنة	الجانب السياسي	الجانب الاقتصادي	الجانب الثقافي والاجتماعي
١- تعزيز التضامن بين الدول الاعضاء.	١- تعزيز التعاون الاقتصادي بين دول الاعضاء.	١- الرقي بالعلوم والتكنولوجيا و تطويرها والتعاون الثقافي بين الدول الاعضاء.	
٢- المصالح المشتركة بين دول الاعضاء	٢- بذل الجهود لتحقيق التنمية البشرية المستدامة والشاملة.	٢- تعزيز دور الاسرة و حماية حقوق الانسان و صيانه الحريات.	
٣- دعم القضية الفلسطينية.	٣- تقديم الدعم والمساعدات المالية الاقتصادية لدول الاسلامية		

٨- أقرأ الفقرات التالية ثم أجب مما يليها من أسئلة :

دعا عاهل المملكة العربية السعودية الملك فيصل بن عبدالعزيز آل سعود في مؤتمر القمة العربية الثالثة في عام ١٩٦٥ م إلى إنشاء تجمع يضم الدول الإسلامية. ولكن هذه الدعوة لم ترَ النور إلا بعد إحراق المسجد الأقصى في عام ١٩٦٩ م. ص ١٣٧

٩- عرف ما تحته خط ص ١٣٧

الدولة الإسلامية هي التي يكون فيها نسبة المسلمين ٥٠% أو أكثر من نسبة مجموع سكانها ويحكمها حاكم مسلم.*



١٢ من صاحب الدعوة لإنشاء تجمع يضم الدول الاسلامية ؟

الملك فيصل بن عبدالعزيز آل سعود

١٣ ما سبب هذه الدعوة ؟

إحراق المسجد الأقصى في عام ١٩٦٩ م.

لاحظ الصورة التي أمامك ، ثم أكتب الحدث التاريخي الدال عليها : ص ١٣٧-١٣٨

الحدث : إحراق المسجد الأقصى
الدولة : فلسطين
العام : ١٩٦٩م
المعتدي : المحتل الإسرائيلي



أولاً : منظمة التعاون الإسلامي و الأجهزة التابعة لها
- أجهزة منظمة التعاون الإسلامي منبذة عن بعض مؤتمرات منظمة التعاون الإسلامي
ص ١٤١-١٤٤

١. أكمل العبارات التالية بما يناسبها فيما درست :

١. يعقد مؤتمر القمة الإسلامية مرة كل ثلاث سنوات
٢. المدة التي يتراش فيها الأمين العام لمنظمة التعاون الإسلامي سنتان
٣. الهيئة التنفيذية لمنظمة المؤتمر الإسلامي تسمى الأمانة العامة
٤. انعقد المؤتمر الإسلامي الأول في عام ١٩٦٩ م
٥. انعقد المؤتمر الإسلامي الأول بمملكة المغرب بمدينة تسمى الرباط
٦. انعقد المؤتمر الإسلامي الخامس في دولة تسمى الكويت
٧. انعقد المؤتمر الإسلامي الخامس في دولة الكويت عام ١٩٨٧ م
٨. انعقد المؤتمر الإسلامي الرابع في عام ١٩٨٤ م
٩. انعقد المؤتمر الإسلامي الرابع في مدينة تسمى الدار البيضاء
١٠. الشيخ الذي دعا الى اقامة المؤتمر الإسلامي الخامس في دولة الكويت يسمى الشيخ جابر الاحمد الصباح
١١. انعقد المؤتمر الإسلامي الثالث عشر في عام ٢٠١٦ م
١٢. انعقد المؤتمر الإسلامي الثالث عشر في مدينة تسمى اسطنبول في تركيا

٢/ عرف المفاهيم التالية :

مؤتمر ملوك ورؤساء الدول والحكومات ويعقد مرة كل ثلاث سنوات .	القمة الإسلامية ص ١٤١
الهيئة التنفيذية لمنظمة التعاون الاسلامي والتي تقوم بمباشرة الشؤون الموكلة اليها من المؤتمر يرأسها أمين عام لمدة سنتين .	الأمانة العامة ص ١٤١

٣- صنف الكلمات التالية في مكانها المناسب في الجدول الذي يليها :

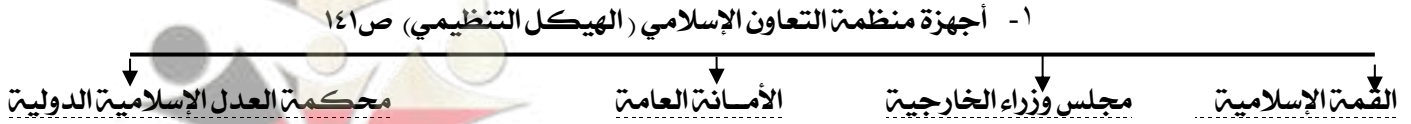
بد (اسطنبول - الكويت - الرباط)

المؤتمرات	المؤتمر الإسلامي الاول ص ١٤٢	المؤتمر الإسلامي الخامس ص ١٤٣	المؤتمر الإسلامي الثالث عشر ص ١٤٤
اسم المدينة	الرباط	الكويت	اسطنبول

ج. (الملك فيصل بن عبد العزيز / الشيخ جابر الأحمد الصباح / الشيخ صباح الاحمد الصباح)

الشخصية	الملك فيصل بن عبد العزيز ص ١٣٧	الشيخ جابر الأحمد الصباح ص ١٤٣	الشيخ صباح الاحمد الصباح ص ١٦٠
الحدث	دعا الى انشاء تجمع يضم الدول الاسلامية	دعا الى عقد القمة الخامسة في الكويت	أعلن عن استضافة الكويت للمؤتمر الاول للمانحين

١٤ / أكمل المخطط السهمي التالي :



٥. علل لما يلي : اذكر السبب :

١) انعقاد المؤتمر الإسلامي الخامس ص ١٤٣

- تلبية لرغبة الشيخ الراحل جابر الأحمد الصباح لاستضافة المؤتمر الخامس في دولة الكويت

٢) اعتبر خطاب الشيخ جابر الأحمد من الوثائق الرسمية في منظمة التعاون الإسلامي ص ١٤٣

- لما فيه من أهمية للعالم الإسلامي والدول الأعضاء ولأنه يحتوي على عدة قضايا تواجه أمتنا الإسلامية.

٦/ عدد:

١/ مبادئ منظمة التعاون الإسلامي. ص ١٤٠

- أ. المساواة بين دول الأعضاء ج. تسوية المنازعات بالطرق السلمية بين دول الأعضاء.
ب. احترام حق تقرير المصير وعدم التدخل في الشؤون الداخلية للدول الأعضاء.

٧/ اقرأ الفقرة التالية ثم أجب عن الأسئلة التي تليها : ص ١٤٣



دعا سمو أمير دولة الكويت الراحل الشيخ/ جابر الأحمد الجابر الصباح من مدينة الدار البيضاء في نهاية الجلسة الختامية لمؤتمر القمة الإسلامي الرابع عام ١٩٨٤ م لعقد القمة المقبلة في الكويت في عام ١٩٨٧ م، وانتخب سمو الأمير رئيساً للمؤتمر بحضور ٤٤ دولة، حيث استعرض سموه عدة قضايا تواجه أمتنا الإسلامية، ومنها دعم القضية الفلسطينية. واعتبر خطابه من الوثائق الرسمية للمؤتمر لما فيه من أهمية للعالم الإسلامي، والدول الأعضاء في المنظمة.

١- في أي عام أقيم المؤتمر الإسلامي الرابع ؟ ١٩٨٤ م

٢- في أي مدينة عقد مؤتمر القمة الإسلامي الرابع ؟ الدار البيضاء

٣- أين أقيم المؤتمر الإسلامي الخامس؟ دولة الكويت

٤- اذكر اثنين من قرارات المؤتمر الإسلامي الخامس :

❖ دعم القضية الفلسطينية.

❖ الحرص التام على استقلال لبنان ووحدة أراضيه ورفض الاحتلال الإسرائيلي للجزء الجنوبي منه.

❖ ضرورة الوقف الفوري لكل عمليات الحربية بين الجمهورية العراقية وجمهورية إيران الإسلامية.

❖ الموافقة على مشروع النظام الأساسي لمحكمة العدل الإسلامية الدولية.

المؤتمرات الإسلامية: ص ١٤٢-١٤٣-١٤٤

وجه المقارنة	المؤتمر الإسلامي الأول ص ١٤٢	المؤتمر الإسلامي الخامس ص ١٤٣	المؤتمر الإسلامي الثالث عشر ص ١٤٤
السنة	١٩٦٩	١٩٨٧	٢٠١٦
سبب الانعقاد	بسبب قيام الاحتلال الصهيوني الإسرائيلي بحرق المسجد الأقصى	تلبية لدعوة امير دولة الكويت الراحل الشيخ جابر الأحمد الصباح لاستضافة المؤتمر الخامس في دولة الكويت	
مقر الانعقاد	مدينة الرباط عاصمة مملكة المغرب	دولة الكويت	اسطنبول في تركيا
أهم القرارات	١- رفض أي حل للقضية الفلسطينية لا يكفل لمدينه القدس وضعها السابق لأحداث يونيو ١٩٦٧. ٢- تمسك المسلمين بالقدس وعزم حكومتها على تحريرها. ٣- بذل الجهود المشتركة لتحقيق الانسحاب السريع للقوات الإسرائيلية من كافة الأراضي الفلسطينية التي احتلتها بعد حرب يونيو ١٩٦٧	١- دعم القضية الفلسطينية. ٢- الحرص التام على استقلال لبنان ووحدة أراضيه ورفض الاحتلال الإسرائيلي للجزء الجنوبي منه. ٣- ضرورة الوقف الفوري لكل عمليات الحربية بين الجمهورية العراقية وجمهورية ايران الاسلامية. ٤- الموافقة على مشروع النظام الاساسي لحكمة العدل الاسلامية الدولية.	١- التأكيد على مركزية قضية فلسطين و القدس الشريفة بالنسبة لامة الإسلامية. ٢- دعم الشعب الفلسطيني في حق تقرير المصير وانشاء الدولة الفلسطينية المستقلة. ٣- التأكيد على دعم لبنان في استكمال تحرير اراضيه من الاحتلال الإسرائيلي لها والانسحاب من الأراضي اللبنانية المحتلة. ٤- التأكيد على أن تكون علاقات التعاون بين الدول الاسلامية و الجمهورية الإسلامية الإيرانية قائمة على مبدأ حسن الجوار وعدم التدخل في الشؤون الداخلية للدول واحترام استقلال وسيادة ووحدة أراضيها.

ثانياً: دور المنظمات و المؤسسات الإسلامية في مواجهة
التحديات التي يمر بها العالم الإسلامي ص ١٤٥-١٤٨

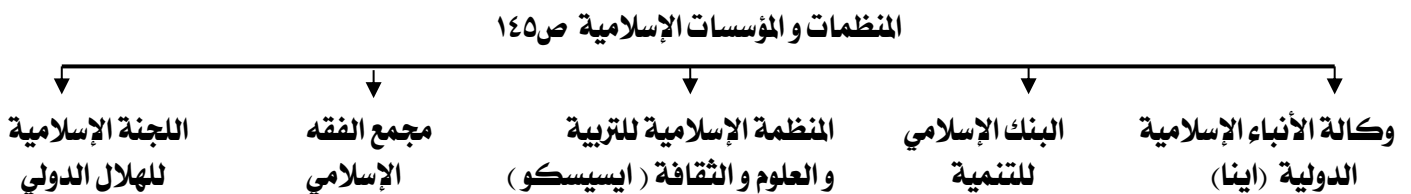
١- أكمل العبارات التالية بما يناسبها فيما درست :

١. يطلق على وكالة الأنباء الإسلامية اسم إينا ص ١٤٥
٢. يقع مقر وكالة الأنباء الإسلامية (إينا) بالمملكة العربية السعودية في مدينة تسمى جدة ص ١٤٥
٣. تأسست وكالة الأنباء الإسلامية إينا في عام ١٩٧٢ م ص ١٤٥
٤. تأسس البنك الإسلامي للتنمية في عام ١٩٧٥ م ص ١٤٥
٥. يقع مقر البنك الإسلامي للتنمية بالمملكة العربية السعودية في مدينة تسمى جدة ص ١٤٥
٦. يطلق على المنظمة الإسلامية للتربية والعلوم والثقافة إيسيسكو ص ١٤٥
٧. تأسست المنظمة الإسلامية للتربية والعلوم والثقافة (إيسيسكو) في عام ١٩٨٢ م ص ١٤٥
٨. تأسس مجمع الفقه الإسلامي في عام ١٩٨٢ م ص ١٤٥
٩. يقع مقر مجمع الفقه الإسلامي بالمملكة العربية السعودية في مدينة تسمى جدة ص ١٤٥
١٠. تأسست اللجنة الإسلامية للهلال الدولي في عام ١٩٨٢ م ص ١٤٥
١١. يقع مقر اللجنة الإسلامية للهلال الدولي في مدينة تسمى بنغازي ص ١٤٥

٢- اكتب المفاهيم أو المصطلحات الدالة على العبارات التالية :

المفهوم	العبرة
إينا	وكالة الأنباء الإسلامية الدولية. ص ١٤٥-١٤٧
إيسيسكو	المنظمة الإسلامية للتربية والعلوم والثقافة. ص ١٤٥-١٤٧

٣- أكمل المخططات السهمية التالية :



٤- علل: اذكر السبب :

- ١- دعم المنظمة الإسلامية للتربية والعلوم والثقافة للمؤسسات العلمية داخل الدول الإسلامية ص ١٤٧
- لمحاربة الأمية والقضاء عليها - حتى لا يكون هناك عائق للتقدم والتطور

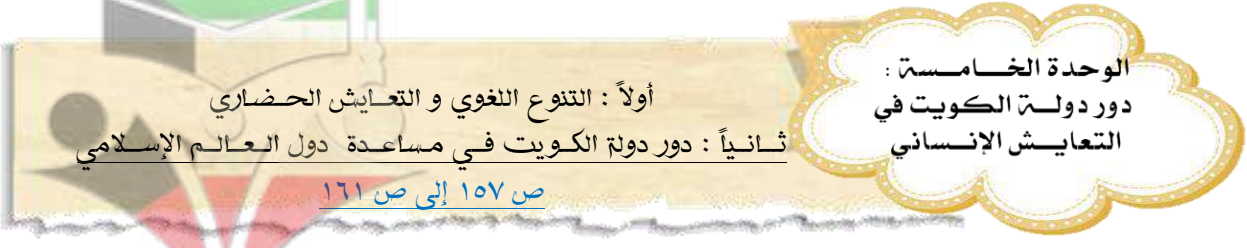
٥- عدد ما يلي :

- ٢ (المنظمات و المؤسسات الإسلامية ص ١٤٥)
أ) وكالة الأنباء الإسلامية الدولية (إينا)
ب) البنك الإسلامي للتنمية
ج) المنظمة الإسلامية للتربية والعلوم والثقافة (إيسيسكو)
د) مجمع الفقه الإسلامي
هـ - اللجنة الإسلامية للهلال الأحمر

قارن بين كل من :

المنظمات والمؤسسات الإسلامية: ص ١٤٥ / ١٥٢

الشعار	الاسم	سنة	المقر	الأهداف	دورها
	اللجنة الإسلامية للشلال الدولي	١٩٨٣	بنغازي	١- تقديم الاسعافات الطبية و الانسانية في الكوارث الطبيعية أو بفعل الانسان. ٢- مساعدة المنظمات الدولية و المحلية المهتمة بخدمة الانسانية.	١/ مساعدة الدول الإسلامية في أوقات الكوارث والنكبات. بتقديم الدعم المالي والصحي والاجتماعي لتلك الدول المنكوبة. ص ١٤٨
	المنظمة الإسلامية للتربية و العلوم والثقافة (إيسيسكو)	١٩٨٢	الرباط	١- تقوية التعاون و التشجيع و تعميقه بين الدول الاعضاء في مجالات التربية و العلوم و الثقافة والاتصال. ٢- العمل على التكامل بين المنظمات التربوية في الدول الاعضاء.	١/ دعم المؤسسات العلمية داخل الدول الإسلامية، لمحاربة الأمية والقضاء عليها باعتبارها عائقاً أمام التقدم والتطور ص ١٤٧
	البنك الإسلامي للتنمية	١٩٧٥	جدة	١- دعم التنمية الاقتصادية و التقدم الاجتماعي لشعوب الإسلامية. ٢- تنمية التجارة الخارجية للدول الاعضاء و التبادل التجاري.	١/ دعم الجوانب المختلفة من احتياجات الدول الإسلامية كافة ٢/ تعزيز مكانتها بين دول العالم المتقدمة ص ١٤٦
	وكالة الأنباء الإسلامية الدولية (إينا)	١٩٧٢	جدة	١- اقامة علاقات وثيقة بين الدول الاعضاء و تنميتها في ميدان الاعلام . ٢- تعريف الرأي العام العالمي بمشكلة الشعوب الإسلامية	١/ تغطية الشرائع الدينية ٢/ والتواصل بين الشعوب الإسلامية كافة ٣/ تحسين الرأي العام العالمي في عدالة الإسلام ومنهجيته المعتدلة، في ظل حملات التشويه الموجهة نحو الإسلام. ص ١٤٧
	مجمع الفقه الإسلامي	١٩٨٢	جدة	١- تحقيق الوحدة الإسلامية نظريا و علميا وفقا للشريعة الإسلامية ٢- تقوية ارتباط الأمة الإسلامية بعقيدتها.	١/ يسعى إلى الاجتهاد الفقهي ٢/ القضاء على التطرف الفكري والتعصب الطائفي ٣/ تحقيق الوسطية الدينية بين عامة المسلمين ص ١٤٨



الوحدة الخامسة :
دور دولة الكويت في
التعايش الإنساني

أولاً : التنوع اللغوي و التعايش الحضاري
ثانياً : دور دولة الكويت في مساعدة دول العالم الإسلامي

ص ١٥٧ إلى ص ١٦١

١- أكمل العبارات التالية بما يناسبها فيما درست :

١. يتكلم (٢٠ - ٣٠ %) من المسلمين في العالم الاسلامي لغة تسمى العربية
٢. يبلغ عدد اللغات الواسعة الانتشار في العالم الإسلامي تزيد على ٢٠ لغة أصلية
٣. استقلت دولة الكويت في عام ١٩٦١م
٤. صاحب فكرة انشاء الصندوق الكويتي للتنمية هو الشيخ جابر الاحمد الصباح
٥. تأسس الصندوق الكويتي للتنمية في عهد الشيخ عبدالله السالم الصباح
٦. تأسس الصندوق الكويتي للتنمية في عام ١٩٦١م
٧. أول مؤسسة تنموية في المنطقة يسمى الصندوق الكويتي للتنمية
٨. تأسست جمعية الهلال الاحمر عام ١٩٦٦م.
٩. الهيئة المساعدة للسلطات الرسمية في الجانب الانساني تسمى جمعية الهلال الاحمر
١٠. تأسست الهيئة الخيرية الاسلامية العالمية عام ١٩٨٤
١١. تأسست الهيئة الخيرية الاسلامية في عهد الشيخ جابر الاحمد الصباح.
١٢. أكبر المؤسسات العالمية في المجال الانساني تسمى الهيئة الخيرية الاسلامية
١٣. هيئة حكومية مستقلة تخضع لإشراف وزير الاوقاف والشؤون الاسلامية تسمى بيت الزكاة
١٤. تأسس بيت الزكاة عام ١٩٨٢م
١٥. الدولة التي استضافت المؤتمرات الأول والثاني والثالث للمانحين لدعم الوضع الانساني في سوريا تسمى الكويت
١٦. عقدت القمة الخليجية الثالثة والثلاثون في ٢٠١٢ في مدينة تسمى المنامة
١٧. عقد أول مؤتمر للمانحين لدعم الوضع الانساني في سوريا عام ٢٠١٢م
١٨. اختير الشيخ صباح الاحمد الصباح قائدا للعمل الانساني في تاريخ ٢٠١٤/٩/٩م

٢- اكتب المفاهيم أو المصطلحات الدالت على العبارات التالية :

المفهوم	العبرة
١-الصندوق الكويتي للتنمية ص ١٥٩	صندوق مالي كويتي تأسس في ٣١ ديسمبر ١٩٦١م ، ويعد أول مؤسسة تنموية في المنطقة.
٢-جمعية الهلال الاحمر الكويتي ص ١٦٠	هيئة مساعدة للسلطات الرسمية في الجانب الانساني تأسست عام ١٩٦٦م تمارس عملها استنادا إلى اتفاقيات جنيف الأربع والقوانين والمعاهدات الدولية التي تشكل القانون الدولي الإنساني.
٣-بيت الزكاة ص ١٥٩- ١٦٠	هيئة حكومية مستقلة تخضع لإشراف وزير الاوقاف والشؤون الاسلامية تأسست عام ١٩٨٢م
٤-الهيئة الخيرية الاسلامية ص ١٦٠	هيئة مستقلة متعددة الأنشطة ومن أكبر المؤسسات العالمية في المجال الانساني تأسست في عهد الشيخ جابر الاحمد الصباح عام ١٩٨٦م

٢- عدد :

- ١- الجهات الحكومية و الاهلية التي تشرف على المساعدات الخارجية :-ص ١٥٩
- (أ) القطاع الحكومي (١-وزاره المالية ٢- الصندوق الكويتي ٣ جمعية الهلال الاحمر ٤-الهيئة الخيرية الاسلامية العالمية ٥- بيت الزكاة)
- (ب) القطاع الأهلي (غرفة تجارة وصناعة الكويت الجمعيات واللجان الخيرية و مؤسسات المجتمع المدني)

٢-نطاقات عمل الصندوق الكويتي للتنمية ص ١٥٩

١. المساعدات الزراعية بـ المساعدات الصناعية ج- المساعدات الصحية د- المساعدات التعليمية
- ٢-الجمعيات والهيئات الخيرية في دولة الكويت ص ١٦٠
- أ. جمعية الهلال الاحمر الكويتي بـ الهيئة الخيرية الاسلامية العالمية ج- بيت الزكاة

١٣/ علل: اذكر السبب:

- تأسيس بيت الزكاة الكويتي ص ١٦٠

أ. لأحياء ركن من أركان الإسلام وتيسير أداؤه ب. العمل على جمع وتوزيع الزكاة بأفضل الطرق المشروعة

١٤/ أكمل المخططات السهمية التالية:

أ) القطاعات (الحكومية) التي تشرف على المساعدات الخارجية ص ١٥٩



٥) أكمل العبارات التالية بما يناسبها : ص ١٥٩



- أ) الشعار المقابل يمثل ؟ الصندوق الكويتي للتنمية
ب) متى تم تأسيسه ؟ ١٩٦١م ٣. صاحب الفكرة ؟ الشيخ جابر الأحمد الصباح
ج) اكتب اثنين من أهداف الصندوق
أ. تقديم القروض الميسرة للدول المحتاجة ب. تقديم المنح

أكمل العبارات التالية بما يناسبها : ص ١٦١



- أ) ما اسم الشخصية في الصورة المقابلة ؟ الشيخ صباح الأحمد الصباح
ب) بماذا لقب ؟ قائد العمل الإنساني
ج) ما هو تاريخ حصوله على هذا اللقب؟ ٢٠١٤/٩/٩م

١٦/ قارن بين كل من :

- الجمعيات والهيئات الخيرية في دولة الكويت والصندوق الكويتي من حيث سنة التأسيس والهدف من التأسيس

وجه المقارنة	الهلال الاحمر الكويتي ص ١٦٠	الهيئة الخيرية الاسلامية العالمية ص ١٦٠	بيت الزكاة ص ١٦٠	الصندوق الكويتي ص ١٥٩
سنة التأسيس	١٩٦٦م	١٩٨٦م	١٩٨٢م	٣١/ديسمبر/١٩٦١م
الهدف من المؤسسة	مساعدة السلطات الرسمية في الجانب الانساني	تقديم خدماتها في جميع أنحاء العالم دون تمييز أو تعصب	جمع وتوزيع الزكاة بأفضل وأجود الطرق المشروعة	١- تقديم القروض الميسرة للدول المحتاجة . ٢- تقديم المنح . ٣- الإسهام في برامج التنمية.



ملحق الأحداث :

العام	الحدث	الصفحة
١٩٦١م	● استقلال دولة الكويت	١٥٨
	● تأسيس الصندوق الكويتي للتنمية	١٥٩
١٩٦٥م	● مؤتمر القمة العربية الثالثة	١٣٧
١٩٦٦م	● جمعية الهلال الأحمر الكويتي	١٦٠/١٥٩
١٩٦٩م	● تأسست منظمه التعاون الاسلامي	١٣٨
	● احراق المسجد الأقصى	١٣٨-١٣٧
	● انعقد المؤتمر الاسلامي الأول	١٤٢
١٩٧٢	● تأسست وكالة الأنباء الاسلامية (إينا)	١٤٥
١٩٧٥م	● تأسيس البنك الاسلامي للتنمية	١٤٥
١٩٨٢م	● تأسست المنظمة الاسلامية للتربية و العلوم و الثقافة (إيسيسكو)	١٤٥
	● تأسيس بيت الزكاة	١٥٩
١٩٨٣م	❖ تأسيس مجمع الفقه الإسلامي	١٤٥
	تأسست اللجنة الاسلامية للهلال الدولي	
١٩٨٤م	❖ انعقد المؤتمر الاسلامي الرابع	١٤٣
١٩٨٦م	❖ تأسست الهيئة الخيرية الاسلامية العالمية	١٦٠
١٩٨٧م	انعقد المؤتمر الاسلامي الخامس	١٤٣
٢٠١٢م	عقدت القمة الخليجية ٣٣ في المنامة	١٦٠
٢٠١٣م	أول مؤتمر للمانحين لدعم الوضع الانساني في سوريا في دولة الكويت	١٦٠
٢٠١٤م	اختيار الشيخ صباح الاحمد الصباح قائدا للعمل الانساني	١٦١
٢٠١٦م	انعقد المؤتمر الاسلامي الثالث عشر	١٤٤