



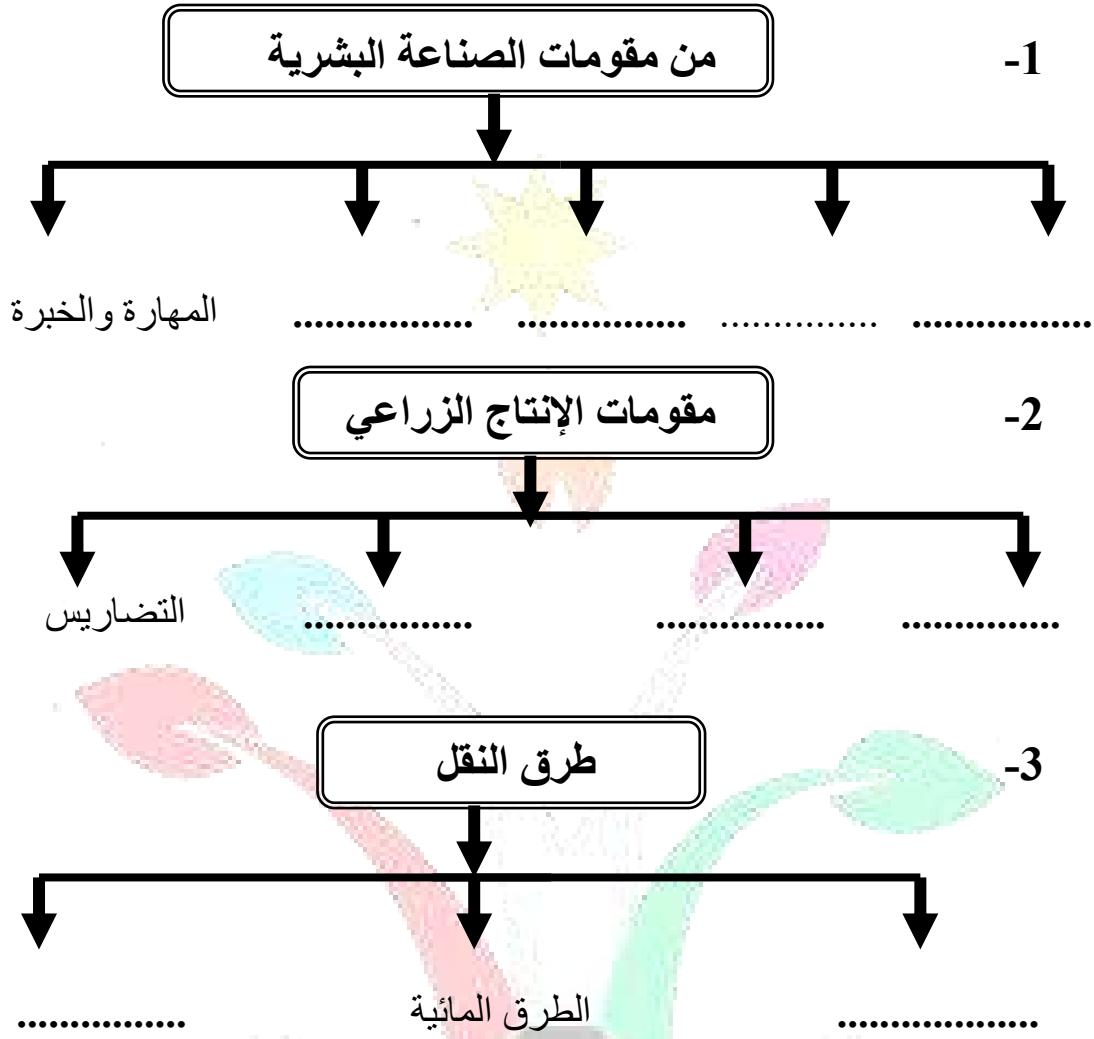
ورقة مراجعة للصف السابع
(الفصل الدراسي الثاني)

وزارة التربية
الإدارة العامة لمنطقة العاصمة التعليمية
مدرسة سالم الحسينان المتوسطة بنين

السؤال الأول:- عرف المفاهيم التالية:-

.....	التعداد السكاني	1
.....	الإحصاء الحيوي	2
.....	الكثافة السكانية	3
.....	الموارد الطبيعية	4
.....	الموارد البشرية	5
.....	الهجرة الداخلية	6
.....	الهجرة الخارجية	7
.....	غلات نقدية	8
.....	النفط	9
.....	الغاز الطبيعي	10
.....	الطاقة	11
.....	الأوبك	12
.....	الأوابك	13
.....	الصناعة	14
.....	مقومات الصناعة	15
.....	الصادرات	16
.....	الواردات	17
.....	التجارة البينية	18
.....	التصحر	19
.....	التلوث	20
.....	التوازن البيئي	21
.....	التنمية	22
.....	التنمية المستدامة	23
.....	التضامن العربي	24
.....	إستراتيجية	25

السؤال الثاني: - أكمل المخططات السهمية التالية :-



السؤال الثالث:- اختر من المجموعة (أ) ما يناسبها من المجموعة (ب):-

المجموعة (ب)	المجموعة (أ)	
(.....) المغرب	الدولة العربية الأولى في إنتاج التمور .	-1
(.....) قطر	الدولة العربية الأولى في إنتاج الارز.	-2
(.....) موريتانيا	الدولة العربية الأولى في إنتاج الغاز الطبيعي.	-3
(.....) سوريا	الدولة العربية الأولى في إنتاج الرصاص.	-4
(.....) مصر	الدولة العربية الأولى في إنتاج البن.	-5
(.....) السعودية	الدولة العربية الأولى في إنتاج العنب.	-6
(.....) اليمن	الدولة العربية الأولى في إنتاج الحديد.	-7

السؤال الرابع : - علل لما يأتي: -

- 1- ارتفاع كثافة السكان في وادي النيل ودلتاه في مصر .
- 2- تركيز زراعة الحمضيات والمواالح في حوض البحر المتوسط.
- 3- تختلف أنواع المنتجات الزراعية من دولة عربية إلى أخرى .
- 4- هجرة الأيدي العاملة في الدول العربية إلى منطقة الخليج العربية.
- 5- يطلق علي الغاز الطبيعي اسم الطاقة النظيفة .
- 6- إنشاء منظمة الأوبك .
- 7- ضرورة نقل البضائع بوسائل حديثة ومتطورة .
- 8- الطرق البرية أكثر انتشاراً من السكك الحديدية .
- 9- قلة حجم النقل النهري بالنسبة لباقي وسائل النقل في الوطن العربي .
- 10- قلة التبادل التجاري بين دول الوطن العربي .

السؤال الخامس : - أجب عن الأسئلة التالية: -

- 1- يتمتع النفط العربي بمكانة مهمة على المستوى العالمي (مزايا النفط العربي).
- 2- اذكر أسباب احتلال الأغنام مكانة مهمة في الثروة الرعوية في الوطن العربي.
- 3- أهمية القطاع الزراعي في الاقتصاد العربي .
- 4- اذكر أهم مناطق الزراعة في الوطن العربي .

5- تتركز معظم الحقول النفطية في ثلاث مناطق (أذكرها).

6- أذكر أهداف الصناعة البتر وكيمياوية.

7- كيفية علاج مشكلة التصحر.

8- طرق المحافظة على ثروة المياه.

9- ما أهداف التنمية الاقتصادية.

10- ما أهداف التنمية البشرية.

11- ما المشكلات (التحديات) التي تواجه التنمية البشرية.

12- ما أهداف التنمية المستدامة.

13- أذكر أهداف الصندوق الكويتي للتنمية الاقتصادية العربية.

14- أذكر أمثلة لمحميات طبيعية في الوطن العربي .

15- أذكر مراحل الصناعة.

16- ما أهم أهداف القمة الاقتصادية التنموية العربية بالكويت عام 2009 م.

السؤال السادس: - أكمل ما يأتي: -

- 1- يقدر معدل النمو السنوي للسكان في الوطن العربي عام 2006م بحوالي % .
- 2- تأسست منظمة الأقطار المصدرة للنفط (أوبك) في بغداد عام م .
- 3- تعتمد زراعة المحاصيل الزراعية في الوطن العربي علي مياه الأنهار ومياه
- 4- أكثر دول الوطن العربي إنتاجا واحتياطيا للنفط العربي هي
- 5- يبلغ عدد الدول العربية التي يتألف منها الوطن العربي دولة عربية .
- 6- الدولة العربية الأولى عربياً في إنتاج محصول الشعير هي
- 7- أكثر الدول العربية في عدد السكان دولة تسمى

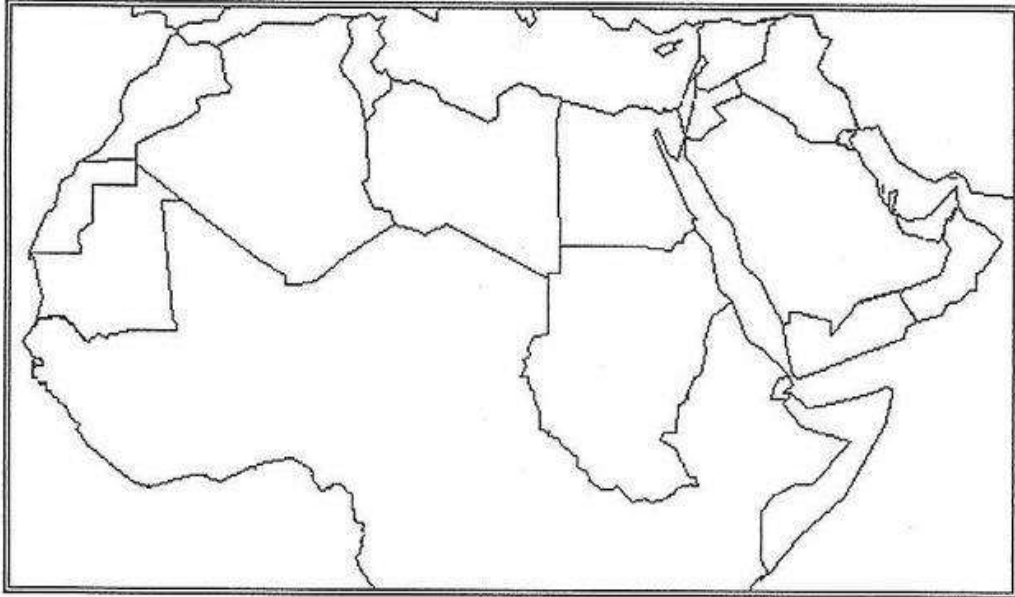
- 8- يتوزع سكان الوطن العربي بنسبة % في القارة الأفريقية و % في القارة الآسيوية
- 9- يتفوق الغاز الطبيعي علي النفط لخلوه من مادة الكبريت و
- 10- تتنوع المحاصيل الزراعية في الوطن العربي بتنوع
- 11- تتنافس مصر والسعودية علي المركز الأول في زراعة محصول
- 12- الدولة العربية الأولى في امتلاك الإبل هي
- 13- يبلغ إنتاج الجناح الآسيوي من إنتاج النفط بالوطن العربي % .
- 14- يختزن الوطن العربي من احتياطي النفط العالمي حوالي % .
- 15- يأتي القطاع الزراعي في المرتبة من حيث الأهمية في الاقتصاد العربي .
- 16- تم إنشاء الصندوق الكويتي للتنمية الاقتصادية العربية في عام م .
- 17- تم إنشاء الصندوق السعودي للتنمية في عام وصندوق أبو ظبي عام م .
- 18- أعلن قيام مجلس التعاون الخليجي في 25 مايو عام م في مدينة
- 19- عملية تركيب وجمع المواد المصنعة علي اختلاف مصادرها هي الصناعات
- 20- انضمت الكويت إلي جامعة الدول العربية في عام م .
- 21 - العالم المصري الذي حصل علي جائزة نوبل في الكيمياء عام 1999م هو
- 22- الأسواق التي تحتل المكانة الأولى بالنسبة لتجارة الصادرات العربية هي الأسواق
- 23- عقد مؤتمر قمة الأرض في مدينة ريودي جانيرو بالبرازيل في عام م .
- 24- تم تشكيل جامعة الدول العربية في القاهرة في 22 مارس عام م .

السؤال السابع :- قارن بين منظمة الأوبك ومنظمة الأوابك من حيث :-

منظمة الأوابك	منظمة الأوبك	وجه المقارنة
.....	سنة التأسيس
.....	المقر
.....	الأهداف

السؤال السابع:- على خريطة الوطن العربي الصماء حدد ما يأتي :-

- 1- المحيط الأطلسي بوضع الإشارة *
- 2- الخليج العربي بوضع الإشارة @
- 3- المملكة العربية السعودية بوضع الإشارة %
- 4- الدولة العربية الأولى في إنتاج محصول الأرز بوضع الإشارة #
- 5- الدولة العربية الأولى في إنتاج محصول الشعير بوضع الإشارة &
- 6- ظلل البحر الأحمر علي الخريطة
- 7- ارسم نهر النيل علي الخريطة



(انتهت الأسئلة مع أطيب التمنيات بالنجاح والتفوق)

سالم الحسينان

معلمي الكويت
صفوة



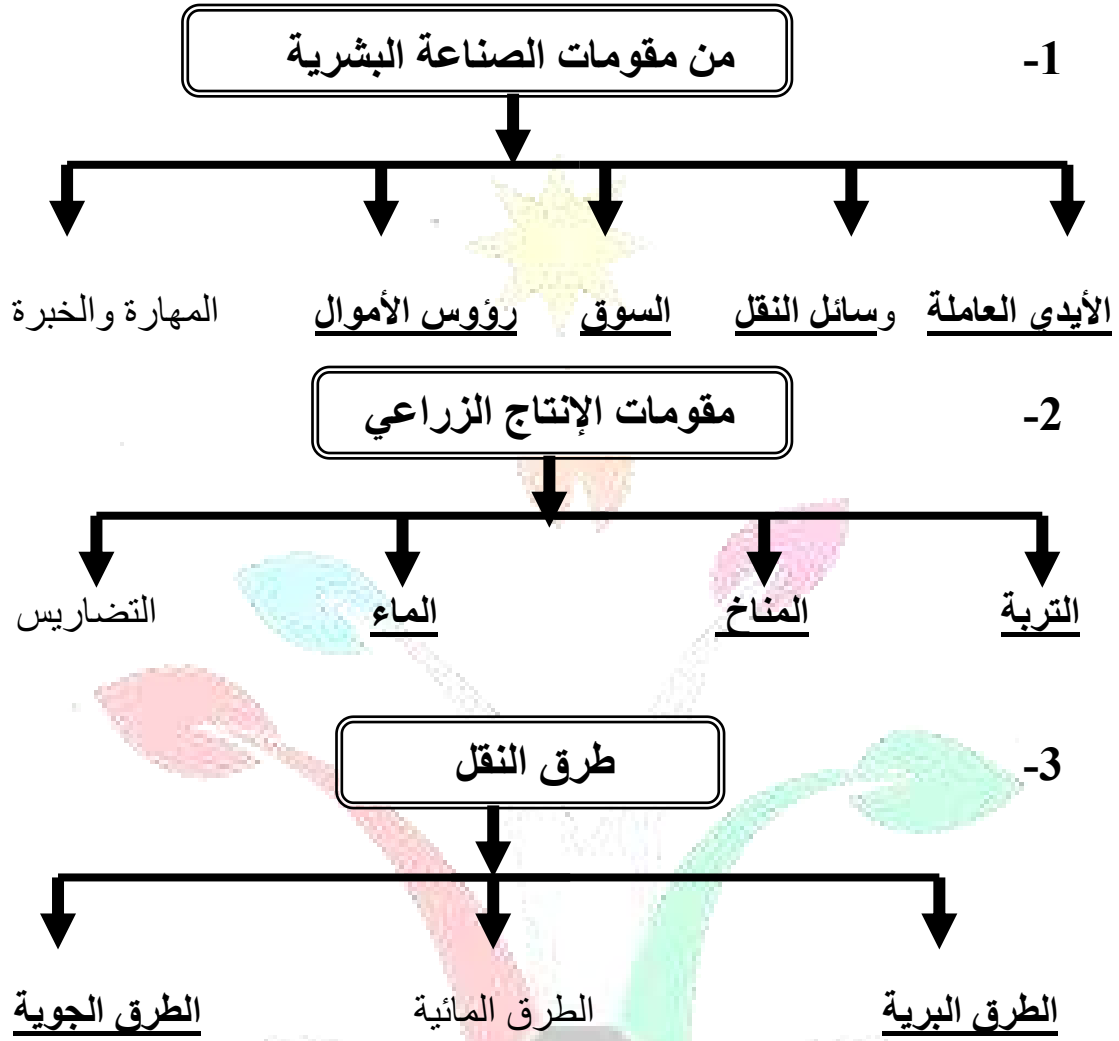
ورقة مراجعة للصف السابع
(الفصل الدراسي الثاني)

وزارة التربية
الإدارة العامة لمنطقة العاصمة التعليمية
مدرسة سالم الحسينان المتوسطة بنين

السؤال الأول:- عرف المفاهيم التالية:-

1	التعداد السكاني	تقوم الدولة من حين إلى آخر في إجراء تعداد لسكانها كل 5 أو 10 سنوات
2	الإحصاء الحيوي	تسجيل المواليد والوفيات وحالات الزواج والطلاق .
3	الكثافة السكانية	عدد سكان الدولة مقسوماً علي مساحة الدولة .
4	الموارد الطبيعية	الثروات التي منحها الله لإقليم ما دون تدخل الإنسان في وجودها .
5	الموارد البشرية	الموارد التي ترتبط بالسكان من حيث عددهم وتوزيعهم .
6	الهجرة الداخلية	هجرة من القرى إلي المدن .
7	الهجرة الخارجية	هجرة من دولة إلي دولة أخرى .
8	غلات نقدية	غلات تزرع بغرض التجارة والحصول علي نقد .
9	النفط	بقايا عضوية علي هيئة نباتات وحيوانات ترسبت في عصور قديمة .
10	الغاز الطبيعي	غاز مصاحب للنفط الخام أو يوجد منفرداً تتم إيسالته لعدة استخدامات.
11	الطاقة	قوي محركة للآلات وعنصر مهم للتقدم والتطور في جميع المجالات
12	الأوبك	منظمة الدول المصدرة للنفط تأسست عام 1960م في بغداد .
13	الأوابك	منظمة الدول العربية المصدرة للنفط تأسست عام 1968م .
14	الصناعة	تحويل المواد الخام من صورتها الأولى إلي صورة أخرى يستفاد منها
15	مقومات الصناعة	العوامل التي تساعد علي تحويل المادة الخام إلي سلع استهلاكية .
16	الصادرات	السلع التي تنقل من دولة إلي دولة أخرى .
17	الواردات	السلع التي تشتريها الدولة من الخارج لسد احتياجاتها .
18	التجارة البينية	التبادل التجاري بين الدول العربية .
19	التصحّر	زحف رمال الصحراء علي المناطق الجافة وشبه الجافة .
20	التلوث	الضرر الذي يلحق بالتربة والهواء والماء .
21	التوازن البيئي	بقاء عناصر الطبيعية في حالة من التوازن لتؤدي وظائفها علي أكمل وجه
22	التنمية	تعني التطور والتطوير وهي عملية تتطلب التخطيط والمشاركة من الجميع
23	التنمية المستدامة	هي عبارة عن برامج تحسين نوعية الحياة .
24	التضامن العربي	العمل علي توثيق الصلات بين الدول والشعوب العربية وحماية لمصالحها السياسية والاقتصادية والثقافية وغيرها .
25	إستراتيجية	خطة أو طريقة توضع لتحقيق هدف معين .

السؤال الثاني: - أكمل المخططات السهمية التالية :-



السؤال الثالث:- اختر من المجموعة (أ) ما يناسبها من المجموعة (ب):-

المجموعة (ب)	المجموعة (أ)	
(4) المغرب	الدولة العربية الأولى في إنتاج التمور.	-1
(3) قطر	الدولة العربية الأولى في إنتاج الارز.	-2
(7) موريتانيا	الدولة العربية الأولى في إنتاج الغاز الطبيعي.	-3
(6) سوريا	الدولة العربية الأولى في إنتاج الرصاص.	-4
(2) مصر	الدولة العربية الأولى في إنتاج البن.	-5
(1) السعودية	الدولة العربية الأولى في إنتاج العنب.	-6
(5) اليمن	الدولة العربية الأولى في إنتاج الحديد.	-7

السؤال الرابع : - علل لما يأتي: -

- 1- ارتفاع كثافة السكان في وادي النيل ودلتاه في مصر .
بسبب وفرة المياه وخصوبة التربة .
- 2- تركيز زراعة الحمضيات والمواالح في حوض البحر المتوسط.
لأنها تتطلب ظروف مناخية خاصة .
- 3- تختلف أنواع المنتجات الزراعية من دولة عربية إلي اخري .
لاختلاف المناخ والتربة ومدى توفر المياه .
- 4- هجرة الأيدي العاملة في الدول العربية إلي منطقة الخليج العربية.
وجود النفط أدي لتوفر فرص عمل بأجور مرتفعة .
- 5- يطلق علي الغاز الطبيعي اسم الطاقة النظيفة .
لا ينتج عن احتراقه ظهور الملوثات التي تنتج عن احتراق النفط .
- 6- إنشاء منظمة الأوبك .
لحفاظ علي حقوق الدول المصدرة للنفط وعلی استقرار أسعار النفط في الأسواق العالمية .
- 7- ضرورة نقل البضائع بوسائل حديثة ومتطورة .
لحفاظ عليها من التلف وسرعة وصولها من مكان لآخر .
- 8- الطرق البرية أكثر انتشاراً من السكك الحديدية .
لأنها أقل في التكلفة ويسهل وصولها لأي مكان .
- 9- قلة حجم النقل النهري بالنسبة لباقي وسائل النقل في الوطن العربي .
لأن معظم أنهاره قصيرة .
- 10- قلة التبادل التجاري بين دول الوطن العربي .
بسبب تشابه المنتجات في الدول العربية ومنافسة المنتجات الأوروبية لها .

السؤال الخامس : - أجب عن الأسئلة التالية: -

- 1- يتمتع النفط العربي بمكانة مهمة علي المستوى العالمي (مزايا النفط العربي).
 - أ- ضخامة الإنتاج وتزايد مستمر .
 - ب- الموقع الاستراتيجي لحقول النفط وقربها من الأسواق .
 - ج- انخفاض تكلفة إنتاج البرميل الواحد .
 - د- ارتفاع نسبة احتياطي النفط واستمرار نموه بسبب الاكتشافات النفطية الجديدة .
- 2- اذكر أسباب احتلال الأغنام مكانة مهمة في الثروة الرعوية في الوطن العربي.
 - أ- الأكثر انتشاراً في المراعي العربية . ب- أكثر الحيوانات المستأنسة ملائمة لمراعي الوطن العربي ولتحملها الجفاف والانتقال ج- أهمية منتجاتها بالنسبة للسكان د- مصدر أساسي من مصادر الثروة القومية .
- 3- أهمية القطاع الزراعي في الاقتصاد العربي .
 - أ- توفر الغذاء ب- توفر العمل ج- مادة أولية لكثير من الصناعات الغذائية .

4- اذكر أهم مناطق الزراعة في الوطن العربي .

- أ- وادي النيل ودلتاه في مصر والسودان ب- السهول الساحلية شمال غرب أفريقيا .
ج- وادي دجلة والفرات في العراق وسوريا د- اليمن وجنوب الجزيرة العربية .

5- تتركز معظم الحقول النفطية في ثلاث مناطق (اذكرها).

- أ- دول الخليج العربية وسهول دجلة والفرات (80%)
ب- منطقة الشمال الصحراء الكبرى (18%) ج- منطقة خليج السويس (4.7%)

6- أذكر أهداف الصناعة البتر وكيمائية .

- أ- تنويع مصادر الدخل للدولة المنتجة ب- توفير المواد الأولية للصناعات التحويلية .
ج- تطوير الصناعة في الوطن العربي .

7- كيفية علاج مشكلة التصحر.

- أ- استخدام طرق ري حديثة ب- تثبيت الكثبان الرملية ج- إقامة المحميات الطبيعية

8- طرق المحافظة على ثروة المياه .

- أ- ترشيد المياه ب- إقامة بحيرات وسدود ج- تطوير استعمال مياه الصرف الصحي .

9- ما أهداف التنمية الاقتصادية .

- أ- استخدام العلم في زيادة الإنتاج ب- تحقيق التكامل بين الدول العربية .

10- ما أهداف التنمية البشرية .

- أ- الاهتمام بالطفل العربي ب- تعميق المشاركة بالرأي والحوار ج- توفير فرص عمل

11- ما المشكلات (التحديات) التي تواجه التنمية البشرية .

- أ- مشكلة الأمية ب- نقص مشاركة المرأة ج- اختلاف مستوي المعيشة من دولة لأخرى .

12- ما أهداف التنمية المستدامة .

- أ- تأمين مستوي معيشي أفضل ب- إيجاد فرص عمل مناسبة ج- محو الأمية

13- أذكر أهداف الصندوق الكويتي للتنمية الاقتصادية العربية .

- أ- تقديم القروض الميسرة للدول المحتاجة .
ب- تقديم المساعدات المادية للعالم العربي والإسلامي .
ج- المساهمة في تطوير التنمية في العام العربي والإسلامي .

14- أذكر أمثلة لمحميات طبيعية في الوطن العربي .

- أ- محمية العرين في مملكة البحرين ب- محمية صباح الأحمد في الكويت .
ج- محمية المها في سلطنة عمان .

15- أذكر مراحل الصناعة .

- أ- مواد أولية ب- تحويل وتصنيع ج- توزيع .

16- ما أهم أهداف القمة الاقتصادية التنموية العربية بالكويت عام 2009 م.

- أ- إنشاء بنك عربي لتمويل المشاريع ب- القضاء علي الفقر والبطالة
ج- الاعتناء بالعنصر البشري .

السؤال السادس: - أكمل ما يأتي:-

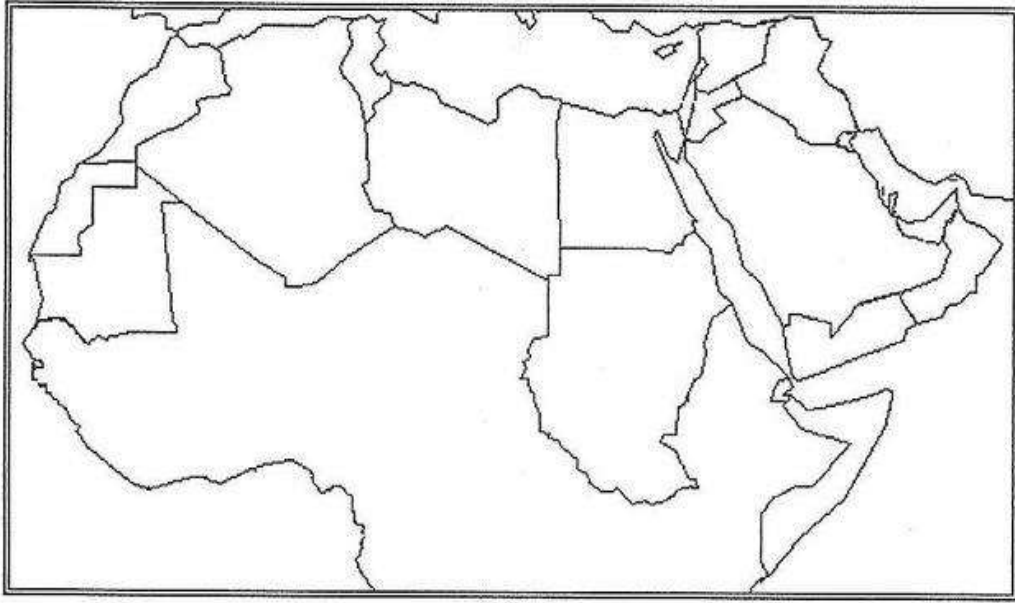
- 1- يقدر معدل النمو السنوي للسكان في الوطن العربي عام 2006م بحوالي 2.20 % .
2- تأسست منظمة الأقطار المصدرة للنفط (أوبك) في بغداد عام 1960م .
3- تعتمد زراعة المحاصيل الزراعية في الوطن العربي علي مياه الأنهار ومياه الأمطار .

- 4- أكثر دول الوطن العربي إنتاجاً واحتياطياً للنفط العربي هي السعودية .
 - 5- يبلغ عدد الدول العربية التي يتألف منها الوطن العربي 22 دولة عربية .
 - 6- الدولة العربية الأولى عربياً في إنتاج محصول الشعير هي المغرب .
 - 7- أكثر الدول العربية في عدد السكان دولة تسمى مصر
 - 8- يتوزع سكان الوطن العربي بنسبة 70% في القارة الأفريقية و 30% في القارة الآسيوية
 - 9- يتفوق الغاز الطبيعي علي النفط لخلوه من مادة الكبريت و الريصاص .
 - 10- تتنوع المحاصيل الزراعية في الوطن العربي بتنوع المناخ .
 - 11- تتنافس مصر والسعودية علي المركز الأول في زراعة محصول القمح .
 - 12- الدولة العربية الأولى في امتلاك الإبل هي الصومال .
 - 13- يبلغ إنتاج الجناح الآسيوي من إنتاج النفط بالوطن العربي 80% .
 - 14- يخترن الوطن العربي من احتياطي النفط العالمي حوالي 29% .
 - 15- يأتي القطاع الزراعي في المرتبة الأولى من حيث الأهمية في الاقتصاد العربي .
 - 16- تم إنشاء الصندوق الكويتي للتنمية الاقتصادية العربية في عام 1961 م .
 - 17- تم إنشاء الصندوق السعودي للتنمية في عام 1974م وصندوق أبو ظبي عام 1971 م .
 - 18- أعلن قيام مجلس التعاون الخليجي في 25 مايو عام 1981 م في مدينة أبو ظبي .
 - 19- عملية تركيب وجمع المواد المصنعة علي اختلاف مصادرها هي الصناعات التجميعية
 - 20- انضمت الكويت إلي جامعة الدول العربية في عام 1961 م ..
 - 21 - العالم المصري الذي حصل علي جائزة نوبل في الكيمياء عام 1999م هو أحمد زويل .
 - 22- الأسواق التي تحتل المكانة الأولى بالنسبة لتجارة الصادرات العربية هي الأسواق الأوروبية
 - 23- عقد مؤتمر قمة الأرض في مدينة ريودي جانيرو بالبرازيل في عام 1992 م .
 - 24- تم تشكيل جامعة الدول العربية في القاهرة في 22 مارس عام 1945 م .
- السؤال السابع :- قارن بين منظمة الأوبك ومنظمة الأوابك من حيث :-**

وجه المقارنة	منظمة الأوبك	منظمة الأوابك
سنة التأسيس	1960م	1968م
المقر	فيينا	الكويت
الأهداف	الحفاظ علي حقوق الدول المصدرة للنفط والحفاظ علي استقرار أسعار النفط في الأسواق العالمية .	التعاون بين الدول العربية المصدرة للنفط وتأمين وصول النفط للأسواق بشروط وأسعار عادلة .

السؤال السابع:- على خريطة الوطن العربي الصماء حدد ما يأتي :-

- 1- المحيط الأطلسي بوضع الإشارة *
- 2- الخليج العربي بوضع الإشارة @
- 3- المملكة العربية السعودية بوضع الإشارة %
- 4- الدولة العربية الأولى في إنتاج محصول الأرز بوضع الإشارة #
- 5- الدولة العربية الأولى في إنتاج محصول الشعير بوضع الإشارة &
- 6- ظل البحر الأحمر علي الخريطة
- 7- ارسم نهر النيل علي الخريطة



(انتهت الأسئلة مع أطيب التمنيات بالنجاح والتفوق)

سالم العتيبان

صفوة معلم الكويت