

السؤال الأول : أكمل العبارات التالية بما يناسبها:

- ١- بدأ التلوث البيئي مع بداية قيام الثورة ...الصناعية....
- ٢- العام الميلادي الذي تم فيه انشاء شرطة البيئة في دولة الكويت هو٢٠١٥م.....
- ٣- الدولة التي بلغت فيها نسبة التلوث الهوائي ٤٠% تسمىباكستان.....
- ٤- التلوث الهوائي في ماليزيا يمثل خطرا على الشعب يسمى التلوث الدخاني أوالضبابي....
- ٥- الدولة الاسلامية التي عانت من التلوث المائي عام ٢٠١٧ تسمىموريتانيا.....
- ٦- العاصمة المصرية التي تعتبر نموذجا للتلوث الضوضائي في العالم الاسلامي تسمىالقاهرة.....
- ٧- العام الميلادي الذي عقد فيه مؤتمر الامم المتحدة للتصحر هو ...١٩٧٧م.....
- ٨- الاعصار الذي ضرب سواحل سلطنة عمان وإيران عام ٢٠٠٧م يسمىغونو.....
- ٩- المركز الحدودي الكويتي الذي تعرض للاعتداء العراقي عام ١٩٧٣م يسمى ...الصامته....
- ١٠ - العام الميلادي الذي عقد فيه مؤتمر العقير هو١٩٢٢م....
- ١١ - ظاهرة ثقافية متفشية في معظم دول العالم الاسلامي ومختلف البلدان تسمى ...الامية....
- ١٢- الغاز المسؤول عن ظاهرة الاحتباس الحراري في الكرة الارضية يسمىثاني اكسيد الكربون.....
- ١٣- السبب الرئيسي لإعصار غونو عام ٢٠٠٧ هو ...الاحتباس الحراري.....
- ١٤- الدولة الاسلامية التي تحتل المرتبة الاولى في نسبة الفقر في العالم الاسلامي تسمىبنغلادش.....
- ١٥- بلغ عدد سكان دولة الكويت تسمى ...٤,٥٣٢,٠٤٨..... نسمة
- ١٦- الزيادة الكبيرة في اعداد السكان تسمىالانفجار السكاني.....
- ١٧- الدولة الاسلامية التي تحتل المرتبة الاخيرة في نسبة الفقر في العالم الاسلامي تسمىمالي....
- ١٨- العام الميلادي الذي تعرض فيه دولة الكويت لتلوث بيئي خطير١٩٩٠م.....
- ١٩- العام الميلادي الذي حدث فيه نفوق الاسماك بدولة الكويت نتيجة ضخ مياه المجاري في جون الكويت٢٠٠١م..
- ٢٠ - الدولة الخليجية التي لا تعاني من مشكلة التصحر تسمى ..سلطنة عمان.....
- ٢١- نسبة السكان الذين يعيشون تحت مستوى خط الفقر في العالم الاسلامي ..٣٧%....
- ٢٢- العام الميلادي الذي عقد فيه مؤتمر العقير١٩٢٢م.....
- ٢٣ - الحاكم العراقي الذي ادعى ان دولة الكويت تابعة لولاية للبصرة ١٩٦١م يسمىعبد الكريم قاسم.....
- ٢٤- القرار الذي صدره مجلس الامن ويهدف ترسيم الحدود بين دولة الكويت والعراق يحمل الرقم ...٨٣٣..
- ٢٥ - بلغ عدد الابار المشتعلة في دولة الكويت اثناء الغزو العراقي ...٣٧٣... بئرا
- ٢٦- تاريخ بدء العمل في اطفاء الابار المشتعلة في دولة الكويت هو١١ مارس ١٩٩١م.....
- ٢٧ - حاكم دولة الكويت الذي في عهده تم اطفاء ابار النفط المشتعلة هو الشيخجابر الاحمد الصباح.....
- ٢٨ - اعلى الدول الاسلامية في معدل محو الامية دولة تسمى ...كازاخستان..... واقلها .. النيجر....

تابع السؤال الاول : اكمل العبارات التالية بما يناسبها :

- ٢٩ - الدولة التي سجلت اعلى معدل من المام البالغين بالقراءة والكتابة وبلغ ٩٧% تسمى ...قطر...
- ٣٠ - المدينة التي يقع بها مقر منظمة التعاون الاسلامي تسمىجدة.....
- ٣١ - العام الميلادي الذي شهد فيه تغيير مسمى منظمة التعاون الاسلامي هو٢٠١١م...
- ٣٢ - بلغ عدد الدول الاعضاء في منظمة التعاون الاسلامي هو . ٥٧ .. دولة .
- ٣٣ - العام الميلادي الذي احرق فيه الكيان الصهيوني المسجد الاقصى هو١٩٦٩م.....
- ٣٤ - المدينة التي اعلن فيها عن انشاء منظمة التعاون الاسلامي تسمىالرباط.....
- ٣٥ - اول من دعا الى تجميع يضم الدول الاسلامية هوالملك فيصل بن عبد العزيز.....
- ٣٦ - يعقد مؤتمر القمة لرؤساء وملوك الدول الاسلامية لمنظمة التعاون الاسلامي مرة كل ..٣ سنوات...
- ٣٧ - يترأس الامين العام لمنظمة التعاون الاسلامي الامانة العامة لمدةسنتين.....
- ٣٨ - المدينة التي يقع فيها اللجنة الاسلامية للهلال الاحمر تسمىبنغازي.....
- ٣٩ - العام الميلادي الذي تأسس فيه اللجنة الاسلامية للهلال الدولي هو١٩٨٣....
- ٤٠ - تبلغ نسبة المسلمين للدول التي يطلق عليها الدولة الاسلامية اكثر من.....٥٠ %
- ٤١ - اجتاحت قوات النظام العراقي دولة الكويت في تاريخ .. ١٢ اغسطس ١٩٩٠م
- ٤٢ - صاحب فكرة انشاء الصندوق الكويتي للتنمية الاقتصادية المغفور له الشيخ .. جابر الاحمد...
- ٤٣ - حاكم الكويت الذي تم في عهده انشاء الصندوق الكويتي للتنمية هو الشيخ ... عبدالله السالم...
- ٤٤ - العملية العسكرية التي شنتها قوات التحالف لتحرير كويت تسمى ... عاصفة الصحراء.....
- ٤٥ - الدولة التي استضافت المؤتمر الاول للمانحين للوضع الانساني في سوريا تسمى ... الكويت....
- ٤٦ - اول ترسيم للحدود بين دولة الكويت والعراق من جانب الدولة العثمانية عام ...١٩١٣....
- ٤٧ - الشيخ الذي وقع اتفاقية الحماية عام ١٨٩٩ مع بريطانيا يسمىمبارك الصباح.....
- ٤٨ - اصدر مجلس الامن قرار لترسيم الحدود بين الكويت والعراق عام ١٩٩٣ رقمه ... ٨٣٣
- ٤٩ - العام الميلادي الذي اعترف فيه العراق بترسيم الحدود مع الكويت بقرار ٨٣٣ هو .. ١٩٩٤ م.
- ٥٠ - التاريخ الذي تحررت فيه دولة الكويت من الغزو العراقي هو٢٦ فبراير ١٩٩١.....
- ٥١ - منطقة غرب الكويت سيتم بها اكمال مشروع توليد ٧٠ ميجاوات من الكهرباء تسمى .. الشقاييا....
- ٥٢ - احدي الملوثات للبيئة وعرفت انها الازعاج او الضجيج تسمى .. التلوث الضوضائي.....

السؤال الثاني :: اكتب المصطلح المناسب امام العبارات التالية .

- [التلوث البيئي] تغير غير مرغوب فيه في الخواص الطبيعية والكيميائية للبيئة المحيطة .
- [التصحر] زحف الرمال على المناطق الجافة وشبه الجافة .
- [الاحتباس الحراري] ارتفاع درجات الحرارة عن معدلها الطبيعي .
- [النفايات] أي مواد زائدة وغير مرغوب فيها من مخلفات البيئة او الفضلات.
- [التدوير] اعادة استخدام المخلفات لإنتاج منتجات اخرى اقل جودة من المنتج الاصيل.
- [التنمية المستدامة] عبارة عن برامج تحسين نوعية الحياة .
- [الانفجار السكاني] الزيادة الكبيرة في اعداد السكان .
- [الفقر] حالة اقتصادية يفقد فيها الفرد الدخل الكافي من الاحتياجات الضرورية للحياة.
- [خط الفقر] ادنى مستوى من دخل الذي يحتاجه المرء لتوفير مستوى معيشي ملائم .
- [العولمة] نظام عالمي جديد يقوم على الابداع العلمي والتطور التقني ويصبح العالم قرية واحدة .
- [التكامل الاقتصادي] عملية اقتصادية واجتماعية يتم بموجبها ازالة الحواجز بين الوحدات المختلفة .
- [الحدود] خطوط حددت بواسطة الانسان ورسمت حتى تفصل بين سيادة دولة ودولة اخرى .
- [الدول النامية] البلدان التي ما زالت اقل تقدما في ميادين الاقتصاد والعلم والتكنولوجيا .
- [الدخل القومي] مجموعة الدخل المكتسب خلال فترة زمنية معينة تكون عادة سنة واحدة .
- [الميزان التجاري] الفرق بين قيمة الصادرات وقيمة الواردات .
- [الدولة الاسلامية] الدولة التي يكون فيها المسلمين ٥٠% او اكثر ويحكمها حاكم مسلم .
- [التعاون الاسلامي] منظمة المؤتمر الاسلامي سابقا وتم تغيير مسمها عام ٢٠١١ م .
- [الامية] الانسان الذي بلغ الثانية عشر من عمره ولم يتعلم القراءة و الكتابة والحساب بلغة ما .
- [الاقليات] مجموعة من سكان دولة يختلفون عن غالبية السكان بخاصية العرق او الدين او الثقافة .
- [الاقلية الاسلامية] مجموعة من المسلمين تعيش تحت سلطة دولة غير مسلمة في اقلية غير مسلمة.
- [الامية] ظاهرة ثقافية متفشية في معظم العالم الاسلامي ومختلف البلدان النامية .

السؤال الثالث: علل لما يلي .

- ١- التلوث المائي من اخطر اشكال التلوث البيئي ؟
*لان الماء المادة الضرورية لبقاء الحياة على الارض
- ٢- التلوث الهوائي يعتبر من اخطر انواع التلوث البيئي ؟
*لان الاوكسجين احد اسباب الحياة على الارض
- ٣- حدوث ظاهرة الاحتباس الحراري ؟
*نتيجة الزيادة المستمرة لغاز ثاني اكسيد الكربون في الهواء الجوي
- ٤- زيادة كمية المخلفات الصناعية والمنزلية والزراعية والبنائية ؟
* بسبب سرعة التقدم الصناعي والسلوك الاستهلاكي للانسان
- ٥ - اتجهت كثير من الدول الاسلامية الى برامج التنمية المستدامة ؟
* لمواجهة التحديات والمشكلات البيئية
- ٦- عقد مؤتمر العقير عام ١٩٢٢م ؟
* لحل مشكلة الحدود بين دولة الكويت والعراق والسعودية
- ٧- اسباب الفقر في الدول الاسلامية ؟
 - ١- الحروب والدمار
 - ٢ - انتشار البطالة
 - ٣- عدم توفر فرص عمل
 - ٤ - قلة التبرعات والصدقات
- ٨- انخفاض مستوى نصيب الفرد من الدخل القومي في غالبية دول العالم الاسلامي ؟
 - ١- ضعف الانتاج الاقتصادي
 - ٢ - عجز الميزان التجاري
 - ٩- سبب الاعتداء على مركز الصامته الحدودي عام ١٩٧٣م ؟
* رفض الحكومة الكويتية المشروع العراقي للحصول على منفذ بحري على الخليج العربي من خلال محاولة عقد مشروع اتفاق بين الدولتين

تابع السؤال الثالث : علل لما يلي :

١٠- زيادة السكان في دول العالم ؟

١- الزيادة الطبيعية ٢ - الزيادة غير الطبيعية

١١- تعتبر التربة عنصرا مهما من عناصر البيئة الطبيعية ؟

*لأنها المصدر الرئيسي للغذاء

١٢- ظهور المشكلة السكانية في معظم الدول النامية ؟

١- بسبب عدم التوازن بين عدد السكان والموارد والخدمات وفرص العمل وارتفاع مستوى المعيشة

السؤال الرابع : اكتب ما تعرفه عن .

١- الآثار السيئة التي خلفها الغزو العراقي على دولة الكويت ؟

أ - حرق الابار ب - تدمير المباني والمنشآت ج - تدمير البيئة والكائنات الحية

٢ - اسباب الادمان ؟

أ - ضعف الوازع الديني ب - ضعف الرقابة من الاسرة

ج - انتشار التدخين في المدارس د - التقليد الاعمى للغرب

٣ - الآثار المترتبة على ادمان المخدرات على الانسان والمجتمع ؟

أ - السلوك العدواني ب - الهلوسة السمعية والبصرية

٤ - دور الجيش والمقاومة الكويتية اثناء الغزو العراقي لدولة الكويت ؟

أ - المقاومة الباسلة لصقور الجو وتدمير عدد من الدبابات العراقية

ب - اضعاف قوة النظام العراقي ودحر المعتدي.

٥- دلل على عدم تبعية دولة الكويت للعراق ؟

أ - ترسيم الحدود من جانب الدولة العثمانية ١٩١٣م ب - ترسيم الحدود في مؤتمر العقير ١٩٢٢م

ج - اتفاقية الحماية مع بريطانيا ١٨٩٩م د- ترسيم الحدود من جانب مجلس الامن ١٩٩٣م

٦ - كيف تكونت الاقليات المسلمة ؟

أ - اعتناق الاسلام ب - هجرة بعض المسلمين الى ارض غير مسلمة

تابع السؤال الرابع : اكتب ما تعرفه عن .


- ٧- اهم قرارات المؤتمر الاسلامي الخامس في دولة الكويت لمنظمة التعاون الاسلامي ؟
- أ - دعم القضية الفلسطينية
ب - استقلال ووحدة لبنان
ج - الوقف الفوري للحب الايرانية والعراقية - الموافقة على مشروع محكمة العدل الاسلامية
- ٨- مبادئ منظمة التعاون الاسلامي ؟
- أ - المساواة بين الاعضاء
ب - تسوية المنازعات بالطرق السلمية
ج - احترام حق تقرير المصير
- ٩- الاهداف السياسية لمنظمة التعاون الاسلامي ؟
- أ - تعزيز التضامن
ب - المصالح المشتركة بين دول الاعضاء
ج - دعم قضية فلسطين
- ١٠- المصادر البشرية للتلوث البيئي ؟
- أ - النفايات
ب - الاستخدام المفرط للأسمدة
ج - الحروب
د - الانفجارات النووية
- ١١- الآثار الناتجة للتلوث الهوائي ؟
- أ - امراض القلب والأوعية الدموية
ب - اضطراب الجهاز العصبي
ج - نأكل وتلف المباني
- ١٢- النتائج المترتبة بعد حرب ١٩٤٨ م بين فلسطين والمحتل الصهيوني ؟
- أ - التوسع الصهيوني وتحتل ٨٠% من الاراضي الفلسطينية ب - تشرّد الفلسطينيين بين نازح ومهاجر
- ١٣- التحديات التي تواجه الاقليات المسلمة حول العالم ؟
- أ - التمييز في العمل
ب - سوء الظروف الاجتماعية والمادية
ج - انخفاض المستوى التعليمي
د - الحفاظ على الهوية الاسلامية
- ١٤- اهداف بيت الزكاة ؟
- أ - جمع وتوزيع الزكاة
ب - احياء ركن الاسلام
ج - تيسير اداء الزكاة
- ١٥ - موقف الملك عبدالله بن عبد العزيز في قضية فلسطين
- أ - انشاء صندوق انتفاضة القدس ب - انشاء صندوق الاقصى لخدمة الشعب الفلسطيني
ب - قمة التضامن مع الشعب الفلسطيني

السؤال الخامس : أكمل المخططات السهمية التالية :


انواع التلوث البيئي



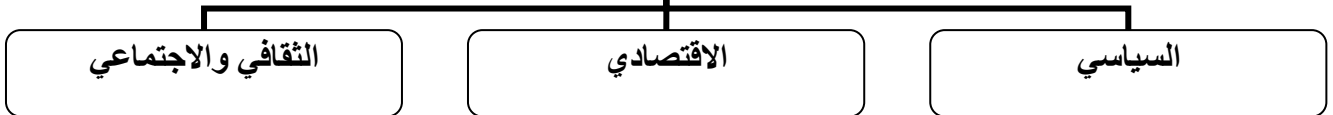
الجهات الحكومية التي تشرف
علم, المساعدات الخارجية



الجهات الاهلية التي تشرف على المساعدات الخارجية



جوانب اهداف منظمة التعاون
الاسلامي



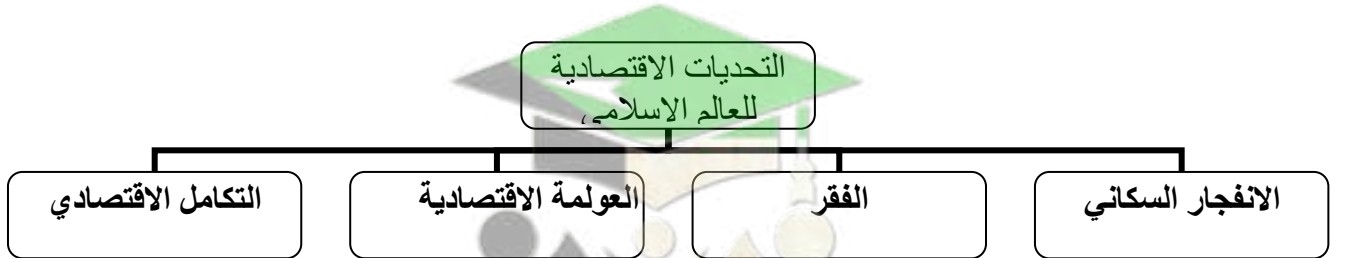
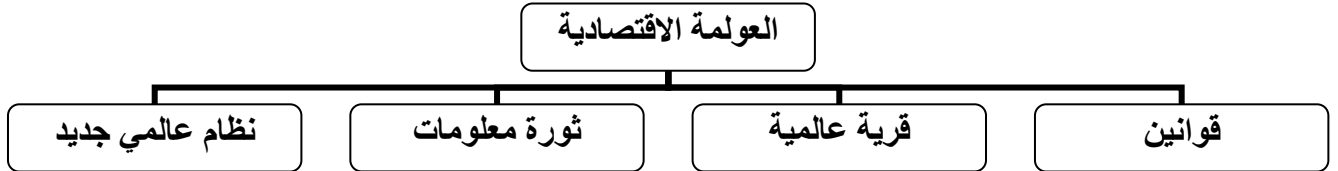
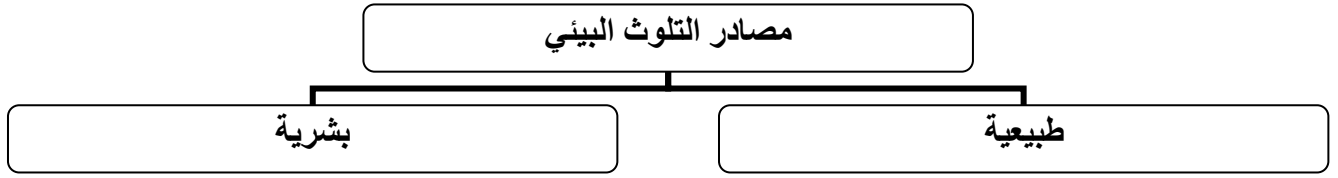
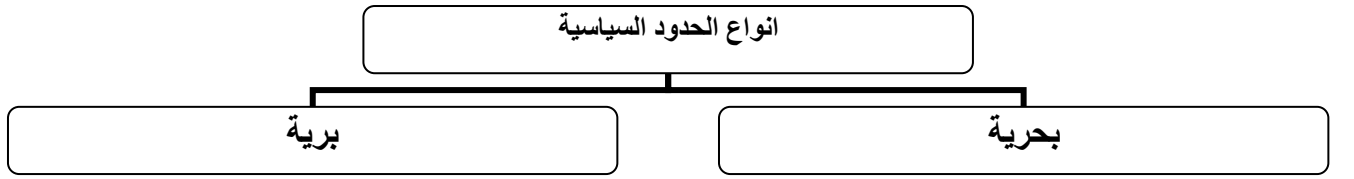
نطاق عمل الصندوق الكويتي



الهيكل التنظيمي
لمنظمة التعاون الاسلامي



تابع السؤال الخامس: أكمل المخططات السهمية التالية :-



السؤال السادس :- صل من المجموعة (أ) ما يناسبها من المجموعة (ب) بوضع الرقم المناسب

مسلسل	المجموعة (أ)	الرقم المناسب	المجموعة (ب)
١	مؤتمر الامم المتحدة للتصحر	٣	١٩٢٢م
٢	المؤتمر الاسلامي الخامس في دولة الكويت	٤	١٩٦٥م
٣	مؤتمر العقير	٥	١٩٦٩م
٤	دعوة الملك فيصل لإنشاء تجمع اسلامي	١	١٩٧٧م
٥	انشاء منظمة التعاون الاسلامي	٢	١٩٨٧

مسلسل	المجموعة (أ)	الرقم المناسب	المجموعة (ب)
١	تغيير منظمة المؤتمر الاسلامي الى منظمة التعاون الاسلامي	٢	٢٠٠٧م
٢	تعرض سلطنة عمان لإعصار جونو	١	٢٠١١م
٣	تأسيس شرطة البيئة في دولة الكويت	٥	٢٠١٣م
٤	تشغيل اول محطة كهرباء بالطاقة الشمسية في الكويت	٣	٢٠١٥م
٥	استضافت دولة الكويت للمؤتمر الاول للمانحين لسوريا	٤	٢٠١٧م

مسلسل	المجموعة (أ) الشيخ	الرقم المناسب	المجموعة (ب)
١	عقد اتفاقية الحماية مع بريطانيا ١٨٩٩م	٢	الشيخ جابر الاحمد
٢	صاحب فكرة انشاء الصندوق الكويتي للتنمية ١٩٦١م	١	الشيخ مبارك الصباح
٣	تم في عهده انشاء الصندوق الكويتي للتنمية	٤	الشيخ صباح الاحمد
٤	لقب بقائد العمل الانساني من جانب الامم المتحدة	٣	الشيخ عبدا لله السالم

السؤال السابع : قارن بين كل مما يلي :

وجه المقارنة	الاحتباس الحراري	النفائات
السبب	الزيادة المستمرة لغاز ثاني اكسيد الكربون	سرعة التقدم الصناعي صعوبة التخلص من النفائات
النتائج	١ - تغير المناخ - ارتفاع الحرارة ٢ - زوبان الجليد- غرق المدن	١- تدمير البيئة ٢- التلوث بانواعه

وجه المقارنة	التلوث الهوائي	التلوث المائي
الاسباب	١ - الثورة الصناعية ٢ - عوادم السيارات	١- الامطار الحمضية ٢- ضخ مياه المجاري
النتائج	١ - امراض القلب والرئة التنفس ٢ - تلف المباني والآثار	١- هلاك الكائنات البحرية ٢- التأثير على صحة الانسان فقدان السواحل لقيمتها

وجه المقارنة	التلوث الضوضائي	تلوث التربة
الاسباب	١ - وسائل النقل بأنواعها ٢ - عمليات الهدم والبناء	١- الافراط في المبيدات الحشرية ٢- المخلفات الصناعية
النتائج	١ - ضرر في الجهاز السمعي ٢ - تاثر الجهاز العصبي للانسان	١- انحسار الغطاء النباتي ٢- ضعف عملية البناء الضوئي للنبات

تابع السؤال السابع : قارن بين كل مما يلي :

وجه المقارنة	المؤتمر الاسلامي الاول	المؤتمر الاسلامي الثالث عشر
العام	١٩٦٩م	٢٠١٦م
مقر الانعقاد	الرباط (المغرب)	اسطنبول (تركيا)
اهم القرارات	١ - رفض أي حل لا يكفل للقدس وضعها السابق قبل حرب ١٩٦٧م ٢ - تمسك المسلمين بالقدس ٣ - الانسحاب السريع للقوات الاسرائيلية	١ - مركزية فلسطين والقدس للمسلمين ٢ - دعم الشعب الفلسطيني ٣ - التأكيد على حسن الجوار بين المسلمين وإيران

وجه المقارنة	وكالة الانباء الاسلامية (اينا)	البنك الاسلامي للتنمية
سنة التأسيس	١٩٧٢	١٩٧٥
المقر	جدة	جدة
الاهداف	١ - اقامة علاقات اعلامية وثيقة ٢ - تعريف الرأي العام بالمشاكل الاسلامية	١ - دعم التنمية الاقتصادية ٢ - تنمية التجارة الخارجية والتبادل التجاري

وجه المقارنة	المنظمة الاسلامية للتربية والثقافة (ايسيسكو)	مجمع الفقه الاسلامي
سنة التأسيس	١٩٨٢	١٩٨٣
المقر	الرباط	جدة
الاهداف	١ - تقوية التعاون وتعميقه في المجال الثقافي ٢ - دعم المؤسسات ومحاربة الامية	١ - تحقيق الوحدة الاسلامية ٢ - القضاء على التطرف والتعصب الفكري



السؤال الثامن : ظلل الخيار الصحيح من بين الخيارات التي تلي كل عبارة :-

١ - العام الذي تم فيه احراق المسجد الاقصى

١٩٤٩م	١٩٥٩م	١٩٦٩م	١٩٧٩م
-------	-------	-------	-------

٢ - الدول الاسلامية التي يكون فيها نسبة المسلمين اكثر من

٥٠%	٦٠%	٧٠%	٨٠%
-----	-----	-----	-----

٣ - عدد الدول الاسلامية المنضمة الى التعاون الاسلامي

٥٥ دولة	٥٦ دولة	٥٧ دولة	٥٨ دولة
---------	---------	---------	---------

٤ - المدينة التي يوجد بها مقر منظمة التعاون الاسلامي

الكويت	المنامة	الرياض	جدة
--------	---------	--------	-----

٥ - العام الذي تم فيه تغيير اسم منظمة المؤتمر الاسلامي الى منظمة التعاون الاسلامي

٢٠١١م	٢٠١٤م	٢٠١٦م	٢٠١٨م
-------	-------	-------	-------

٦ - الدولة التي عقد بها المؤتمر الاسلامي الخامس

الرباط	الراض	الكويت	الدار البيضاء
--------	-------	--------	---------------

٧ - المدة التي يتراأس فيها الامين العام لمنظمة التعاون الاسلامي

سنة	سنتان	٣ سنوات	٤ سنوات
-----	-------	---------	---------

٨ - الشيخ الذي دعا الى اقامة المؤتمر الاسلامي الخامس في دولة الكويت

احمد الجابر الصباح	صباح الاحمد الصباح	عبدالله السالم الصباح	جابر الاحمد الصباح
--------------------	--------------------	-----------------------	--------------------

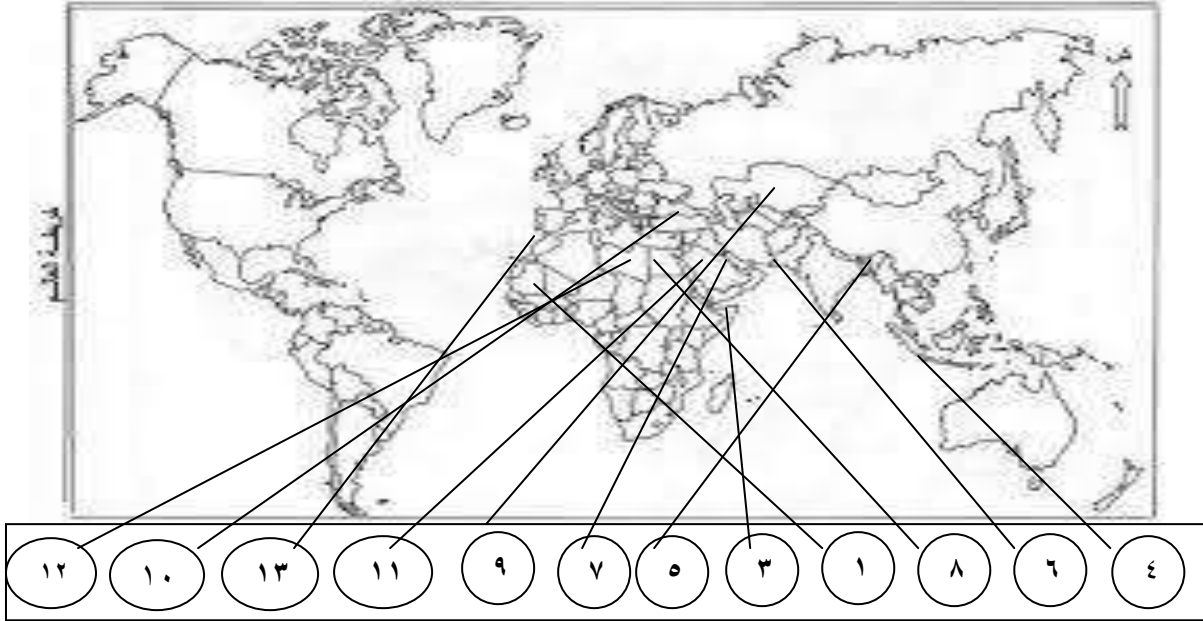
٩ - العام الذي تم فيه استقلال دولة الكويت

١٩٦٠م	١٩٦١م	١٩٦٢م	١٩٦٣م
-------	-------	-------	-------

١٠ - الاسم الذي يطلق على المنظمة الاسلامية للتربية والعلوم والثقافة

اينا	اليونسيف	الاسيسكو	اليونسكو
------	----------	----------	----------

السؤال التاسع : امامك خريطة صماء للعالم الاسلامي اكتب الرقم الدال للعبارات التالية :



- ١ - دولة اسلامية بلغ فيها نسبة التلوث الهوائي ٤٠% بسبب العوادم تحمل الرقم (٦) .
- ٢ - دولة اسلامية يمثل التلوث الهوائي خطرا على الشعب للتلوث الضبابي تحمل الرقم (٤) .
- ٣ - دولة اسلامية تعرضت للتلوث المائي لتسرب بقع الزيت من البواخر تحمل الرقم (١) .
- ٤ - دولة اسلامية عربية قامت بتشغيل مدرسة بالطاقة الشمسية تحمل الرقم (٨) .
- ٥ - دولة اسلامية خليجية ضرب اعصار جونو سواحلها الشرقية تحمل الرقم (٣) .
- ٦ - اعلى دول العالم الاسلامي في نسبة الفقر تحمل الرقم (٥) .
- ٧ - الدولة اسلامية الخليجية التي استضافة المؤتمر الاول للمانحين ٢٠١٣م تحمل الرقم (٧) .
- ٨ - اعلى الدول الاسلامية في نسب محو امية الكبار تحمل الرقم (٩) .
- ٩ - دولة اسلامية يوجد بها مقر منظمة التعاون الاسلامي تحمل الرقم (١١) .
- ١٠ - دولة اسلامية تأسست فيها منظمة التعاون الاسلامي تحمل الرقم (١٣) .
- ١١ - الدولة الاسلامية التي عقد بها المؤتمر الاسلامي الثالث عشر تحمل الرقم (١٠) .
- ١٢ - الدولة الاسلامية التي يقع بها اللجنة الاسلامية للهلال الدولي تحمل الرقم (١٢) .

ملحوظة : المراجعة لا تغني عن الكتاب



صفوة معلمى الكويت



صفوة معلمى الكويت