

سلسلة ( مستر تاريخ أ- محمد علي )

للمواد الأدبية والاجتماعيات



في الاجتماعيات

الصف الثامن الفصل الثاني ٢٠٢٤

الْخُلَاصَة



تواصل واتساب

إعداد أ- محمد علي  
مدرس التاريخ والجغرافيا والاجتماعيات  
ت / ٥٠٢٤٨٤٨١



@MOHALISOCIAL

تواصل تيليجرام





## مفاهيم الصف الثامن مختصرة

التعاريف هامة

جدا

عليها اكثر من ١٣

درجة بالاختبار



١. ( التلوث البيئي ) أي تغيير غير مرغوب به في خواص البيئة ويضر الانسان
٢. ( التصحر ) زحف رمال الصحراء علي المناطق الجافة
٣. ( الضوضاء ) الازعاج او الضجيج
٤. ( الاحتباس الحراري ) ارتفاع درجات حرارة الأرض عن معدلها الطبيعي
٥. ( النفايات ) أي مواد زائدة وغير مرغوبه من مخلفات البيئة
٦. ( اعادة التدوير ) إعادة استخدام المخلفات لإنتاج منتجات أخرى
٧. التنمية المستدامة : - برامج تحسين نوعية الحياة
٨. ( الانفجار السكاني ) الزيادة الكبيرة في أعداد السكان
٩. ( الفقر ) الحالة الاقتصادية التي يفتقد فيها الفرد الي الدخل الكافي
١٠. ( خط الفقر ) أدني مستوي من الدخل يحتاجه المرء ليستطيع توفير مستوي معيشة ملائم
١١. ( العولمة ) نظام عالمي يقوم علي التكنولوجيا بحيث تزول الحدود بين الشعوب ويصبح العالم قرية واحدة
١٢. ( التكامل الاقتصادي ) عملية اقتصادية واجتماعية يتم فيها ازالة جميع الحواجز بين الوحدات المختلفة
١٣. ( البلدان النامية ) الدول التي مازالت أقل تقدماً في الاقتصاد والعلم والتكنولوجيا
١٤. ( الدخل القومي ) مجموع الدخل المكتسب في بلد ما خلال فترة زمنية معينه ( سنه )
١٥. ( الميزان التجاري ) الفرق بين قيمة الصادرات وقيمة الواردات بالدولة
١٦. ( الحدود ) خطوط رسمت بواسطة الانسان لتفصل بين دولتين
١٧. الاقليات : مجموعة من سكان دولة ما يختلفون عن غالبية سكان تلك الدولة مثل العرق او الدين
١٨. الاقليات الاسلامية مجموعة من المسلمين تعيش تحت سلطة دولة غير مسلمة وسط اغلبية غير مسلمة
١٩. ( صقور الجو ) القوات الجوية الكويتية
٢٠. ( الأمة حسب الدول الإسلامية ) الانسان الذي بلغ الثانية عشر من عمره ولم يتعلم القراءة والكتابة
٢١. ( الأمة حسب البلدان المتقدمة ) الشخص الذي لم يصل الي المستوي التعليمي في موضوعات التقنية
٢٢. ( الدولة الإسلامية ) هي التي يكون فيها نسبة المسلمين ٥٠ % او أكثر ويحكمها حاكم مسلم
٢٣. ( منظمة المؤتمر الإسلامي ) منظمة تضم بعضويتها ٥٧ دولة اسلامية مقرها مدينة جدة بالسعودية



## الوحدة الثالثة : العالم الإسلامي تحديات وحلول

### أولاً: المشكلات البيئية في دول العالم الإسلامي

السؤال الأول : صوب ما تحته خط في العبارات التالية :

م	العبرة	التصويب
١	العام الذي تم فيه إنشاء شرطة البيئة في الكويت هو ٢٠٠٥ م	٢٠١٥
٢	الدولة الإسلامية التي بلغ فيها نسبة التلوث الهوائي ٤٠ % هي <u>ماليزيا</u>	باكستان
٣	الدولة الإسلامية التي تعاني من التلوث الدخاني أو الضبابي هي <u>باكستان</u>	ماليزيا
٤	بلغت مدة تكون السحابة الدخانية من احتراق آبار النفط الكويتية <u>٩</u> شهور	٧ شهور
٥	عاصمة مصر التي تعتبر نموذج للتلوث الضوضائي هي <u>الإسكندرية</u>	القاهرة
٦	العام الذي عقد فيه مؤتمر الأمم المتحدة للتصحر هو ١٩٨٨ م	١٩٧٧
٧	تبلغ نسبة التصحر في دول الخليج ٩٠ % ماعدا دولة هي <u>البحرين</u>	عمان

السؤال الثاني : أكمل الفراغ المناسب في العبارات التالية :

#### ١. أنواع التلوث البيئي

التلوث الهوائي	التلوث المائي	التلوث الضوضائي	تلوث التربة
----------------	---------------	-----------------	-------------

السؤال الثالث : صنف الدول التالية إلى مكانها المناسب في الجدول التالي :

( البراكين - رش المبيدات الحشرية - الحروب - الانفجارات النووية - الغبار - النفايات الصناعية )

المصادر الطبيعية للتلوث البيئي	المصادر البشرية للتلوث البيئي
- البراكين	- رش المبيدات الحشرية - الحروب
- الغبار	- الانفجارات النووية - النفايات الصناعية

( مصر - لبنان - سوريا - جيبوتي - الكويت - السعودية - العراق - الصومال - السنغال - قطر )

دول نسبة التصحر فيها ٩٠ %	دول نسبة التصحر فيها ١٠ - ٥٠ %
- مصر - جيبوتي	- سوريا - لبنان - العراق
- الكويت - السعودية - قطر	- الصومال - السودان - السنغال





**السؤال الثالث : علل لما يلي : (أذكر السبب)**

**هذه المذكرة مجانية لوجه الله تعالى  
مقدمة من الأستاذ محمد علي (مستر  
تاريخ) ولا يجوز بيعها لغرض الربح**

١. يعتبر التلوث الهوائي من أخطر أنواع التلوث البيئي .  
\* لان الأوكسجين أحد أسباب الحياة
٢. يعتبر التلوث المائي من أخطر أنواع التلوث البيئي.  
\* لأن الماء ضروري لبقاء الحياة علي سطح الأرض.
٣. تعتبر التربة عنصراً مهماً من عناصر البيئة الطبيعية .  
\* لأنها المصدر الرئيسي لإنتاج الغذاء
٤. يصل نسبة التصحر في مصر وجيبوتي ودول الخليج ( ماعدا عمان ) الي ٩٠ %  
\* لان يتسم مناخها بالجفاف وشدة الحرارة.

**السؤال الرابع : ما النتائج المترتبة علي :**

١. ضخ مياه المجاري في جون الكويت. ( تسرب كميات من بقع الزيت من البواخر في موريتانيا )  
نفوق كميات كبيرة من الأسماك.

**السؤال الخامس : قارن بين كلا من :**

أثر التلوث الهوائي	أثر التلوث المائي
١. سبب رئيسي لأمراض القلب والتنفس	١. هلاك للكائنات البحرية
٢. اضطراب في الجهاز العصبي	٢. فقدان السواحل لقيمتها الاقتصادية والسياحية
٣. تآكل وتلف المباني والمنشآت	٣. التأثير السلبي علي صحة الإنسان

التلوث الضوضائي	تلوث التربة	أسبابه
١. وسائل النقل ( الطائرات - السيارات ) ٢. عمليات البناء والهدم	١. استخدام المبيدات الحشرية ٢. المخلفات الصناعية ٣. الأمطار الحمضية	١. ضهر الجهاز السمعي ٢. التوتر العصبي
	١. الاخلال بالتوازن البيئي للتربة ٢. ضعف عمليات البناء الضوئي للنبات ٣. انحسار الغطاء النباتي	

## السؤال السادس : أجب عن الأسئلة التالية :

١. أكتب أسباب التلوث المائي في دولة الكويت .

ب. تساقط الأمطار الحمضية

أ. سكب النفط الكويتي بمياه الخليج العربي اثناء الغزو العراقي

ج. ضخ مياه المجاري في جون الكويت في عام ٢٠٠١ م و ٢٠١٧ م

٢. اكتب المشكلات الناتجة عن تلوث التربة . ( ما نتائج )

أ. انجراف التربة ب. التصحر

٣- لدولة الكويت دوراً كبيراً في مواجهة تحديات البيئة . ( دلل )

\* إنشاء مجلس حماية البيئة \* إصدار قانون إنشاء الهيئة العامة للبيئة

\* كذلك إصدار قانون حماية البيئة \* إنشاء شرطة البيئة في دولة الكويت عام ٢٠١٥ م

\* كان للشهيد صباح الأحمد الصباح دوراً رائداً في تعزيز مبادئ الإنسانية وتهئية بيئة نظيفة

السؤال السابع : أكتب المفاهيم الدالة علي العبارات التالية أو يأتي بصيغة ( عرف ما يلي )

١. ( التلوث البيئي ) أي تغيير غير مرغوب به في خواص البيئة .

٢. ( التصحر ) زحف رمال الصحراء علي المناطق الجافة وشبه الجافة

٣. ( الضوضاء ) الازعاج او الضجيج

\* الشعار المقابل يمثل الهيئة العامة للبيئة

## تحديات بيئية اخري

## [ الاحتباس الحراري - النفايات ]

السؤال الأول : أكمل العبارات التالية بما يناسبها مما درست :

١. الغاز الأول المسؤول عن الاحتباس الحراري يسمى ثاني أكسيد الكربون

٢. الدول الإسلامية التي ضربها إعصار جونو ٢٠٠٧ م هي عمان والإمارات وإيران

٣. الصورة المقابلة تمثل إعادة التدوير

السؤال الثاني : أكمل الفراغ المناسب في العبارات التالية :

١. أنواع النفايات

الصناعية	المنزلية	الزراعية	البنائية
----------	----------	----------	----------

٢. أشكال ( حالات ) النفايات

الصلبة	السائلة	الغازية
--------	---------	---------



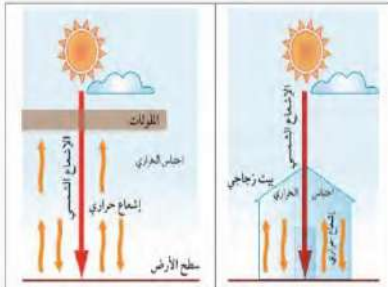




الغيايات	الاحتباس الحراري	
١- التقدم الصناعي ٢- السلوك الاستهلاكي للإنسان	الزيادة المستمرة لغاز ثاني أكسيد الكربون	أسبابه
- تدمير البيئة	١. ارتفاع درجات الحرارة ٢. تغيير المناخ ٣. ذوبان الجليد في القطبين ٤. غرق مناطق في العالم	نتائجه

السؤال الرابع : أجب عن الاسئلة التالية :

١. علل : حدوث اعصار جونو الذي ضرب سواحل عمان والامارات وايران عام ٢٠٠٧م



\* بسبب الاحتباس الحراري

٢. اكتب اسم الظاهرة التي تمثلها الصورة المقابلة

\* الاحتباس الحراري

السؤال الخامس : أكتب المفاهيم الدالة علي العبارات التالية ( عرف ما يلي )

١. ( الاحتباس الحراري ) ارتفاع درجات حرارة الأرض عن معدلها الطبيعي

٢. ( النفايات ) أي مواد زائدة وغير مرغوبه من مخلفات البيئة أو الفضلات

٣. ( إعادة التدوير ) إعادة استخدام المخلفات لإنتاج منتجات أقل جودة



## العالم الإسلامي في مواجهة التحديات البيئية

السؤال الأول : أكمل العبارات التالية بما يناسبها مما درست :

١. العام الميلادي الذي تم فيه تشغيل اول محطة كهرباء تعمل بالطاقة الشمسية في الكويت هو ٢٠١٧

٢. المنطقة الكويتية التي بها مشروع انتاج ٧٠ ميجاوات من الكهرباء تسمى الشقايا

٣. العام الميلادي الذي سوف يتم فيه توليد الكهرباء بالطاقة الشمسية لكافة المملكة السعودية هو ٢٠٤٠

٤. الدولة العربية التي قامت بتشغيل مدرسة بالطاقة الشمسية تسمى مصر

٥. نسبة الطاقة التي سيتم توليدها من الطاقة المتجددة بالكويت بحلول عام ٢٠٣٠ هي ١٥٪

السؤال الثاني : أجب عن الاسئلة التالية :

١. اكتب اسم الطاقة الموجودة في الصورة المقابلة .

\* الطاقة الشمسية

٢. عدد الدول التي بدأت الاعتماد على الطاقة المتجددة ( الشمسية )

الكويت مصر السعودية





## التحديات الاقتصادية التي تواجه دول العالم الإسلامي

السؤال الأول : صوب ما تحته خط في العبارات التالية :

م	العبرة	التصويب
١	نسبة السكان تحت مستوى خط الفقر في العالم الإسلامي تبلغ ٢٧ %	٣٧٪
٢	أعلى الدول الإسلامية في نسبة الفقر هي <u>باكستان</u>	بنغلاديش
٣	أقل الدول الإسلامية في نسبة الفقر هي <u>أوغندا</u>	مالي

السؤال الثاني : أكتب المفاهيم الدالة علي العبارات التالية ( عرف ما يلي )

١. ( الانفجار السكاني ) الزيادة الكبيرة في أعداد السكان
٢. ( الفقر ) الحالة الاقتصادية التي يفتقد فيها الفرد الي الدخل الكافي
٣. ( خط الفقر ) أدنى مستوى من الدخل يحتاجه المرء ليكون بالإمكان توفير مستوى معيشة ملائم
٤. ( العولمة ) نظام عالمي يقوم علي التطور التكنولوجي بحيث تزيل الحدود الثقافية بين الشعوب ويصبح العالم كقرية واحدة
٥. ( التكامل الاقتصادي ) عملية اقتصادية واجتماعية يتم فيها ازالة جميع الحواجز بين الوحدات المختلفة
٦. ( البلدان النامية ) الدول التي مازالت أقل تقدماً في الاقتصاد والعلم والتكنولوجيا
٧. ( الدخل القومي ) مجموع الدخل المكتسب في بلد ما خلال فترة زمنية معينه ( سنه )
٨. ( الميزان التجاري ) الفرق بين قيمة الصادرات وقيمة الواردات بالدولة

السؤال الثالث : علل لما يلي :

١. أسباب الزيادة السكانية في العالم بسبب  
١. الزيادة الطبيعية  
٢. الزيادة الغير طبيعية
٢. أسباب الفقر في الدول الإسلامية . ( سؤال مهم )  
أ. عدم توفر فرص العمل  
ب. ضعف اقتصاد الدولة  
ج. البطالة  
د. تضخم اسعار
٣. أسباب حدوث المشكلة السكانية بسبب عدم التوازن بين السكان والموارد وفرص العمل







٤. انخفاض مستوي نصيب الفرد من الدخل القومي .

او ( ما النتائج المترتبة علي: ضعف الانتاج الاقتصادي )

أ. انخفاض الدخل القومي

ب. العجز في الميزان التجاري

السؤال الرابع : أجب عن الأسئلة التالية :

١. اكتب المشكلات الناتجة عن الانفجار السكاني .

أ. الجريمة

ب. البطالة

ج. الطلاق

د. المخدرات

٢. طرق تحقيق التكامل الاقتصادي بين الدول الإسلامية

الزراعة | النفط والغاز | الثروة السمكية | الايدي العاملة

٣. بعد دراسة الجدول التالي . أجب عن الاسئلة التالية

١. استخرج اكثر ٣ دول في نسبة الفقر في العالم الإسلامي .

\* بنغلاديش - باكستان - نيجيريا

٢. استخرج أقل ٣ دول في نسبة الفقر في العالم الإسلامي .

\* مالي - بوركينا فاسو - النيجر

اسم الدولة	النسبة المئوية
أفغانستان	١٨,٨ %
النيجر	١٤,٢ %
أوغندا	٢٣,٨ %
مالي	١٢,١ %
باكستان	٧٦,٥ %
بوكينا فاسو	١٣,١ %
إندونيسيا	٣٧,٢ %
بنغلاديش	٧٧,٥ %
موزمبيق	١٦,٧ %
نيجيريا	٦٩,٢ %



تواصل واتساب



تواصل تليجرام المتوسط



تواصل تليجرام الثانوي

الحين تقدر تشاهد فيديوهات

شرح كل دروس الصف الثامن وجميع صفوف المتوسط شرح مبسط تفهمه

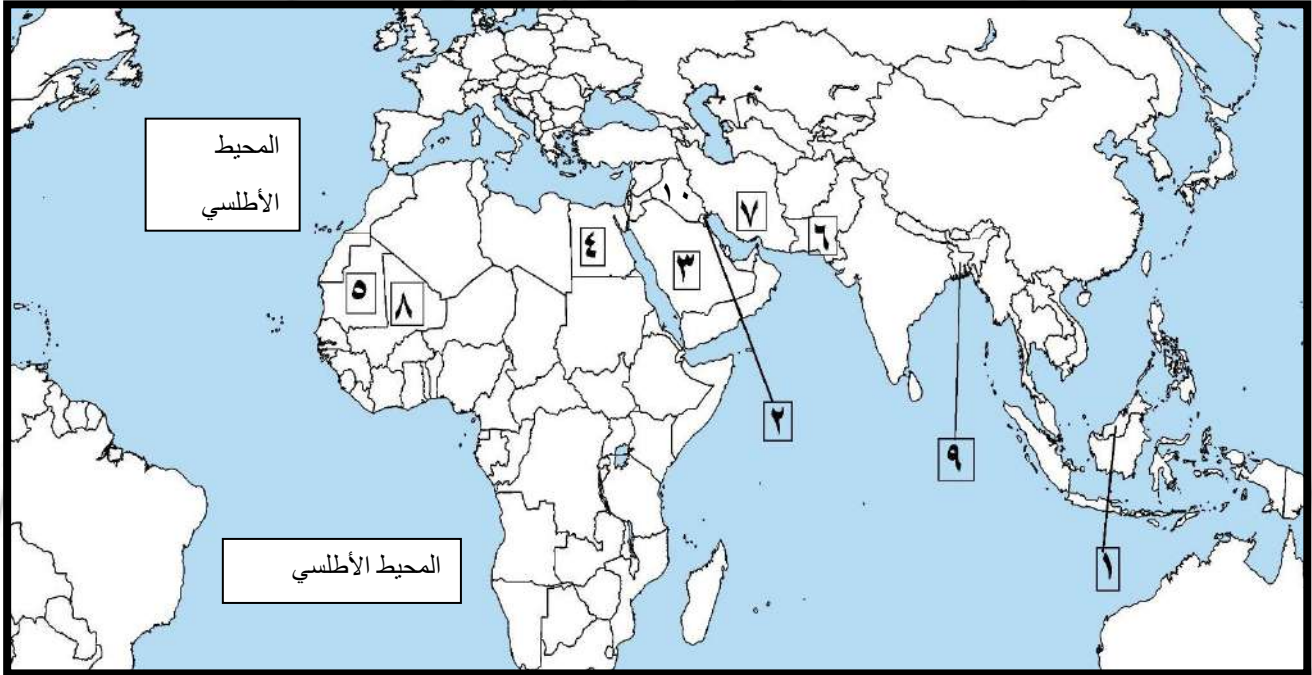
بسرعة تكلفة الاشتراك ٥ دنانير فقط لجميع الفيديوهات طوال الكورس

للاشتراك اتصل على ٥٠٢٤٨٤٨١ ( امسح كود الواتساب )





السؤال الخامس : لاحظ خريطة العالم الإسلامي ثم أكتب الرقم الدال على العبارات التالية :



١. الدولة التي تعرضت لإعصار جونو ٢٠٠٧م تحمل الرقم ( ٧ ) ايران
٢. دولة بلغ فيها نسبة التلوث الهوائي ٤٠ % تحمل الرقم ( ٦ ) باكستان
٣. دولة تعتبر عاصمتها نموذج للتلوث الضوضائي تحمل الرقم ( ٤ ) مصر
٤. دولة تعرضت للتلوث المائي عام ٢٠١٧م تحمل الرقم ( ٥ ) موريتانيا
٥. أكثر الدول الإسلامية في نسبة الفقر تحمل الرقم ( ٩ ) بنغلاديش
٦. دولة يعاني شعبها من التلوث الضبابي او الدخاني تحمل الرقم ( ١ ) ماليزيا
٧. الدول التي يوجد فيها نسبة التصحر ٩٠ % هي ( ٤ , ٣ , ٢ ) الكويت السعودية مصر
٨. الدولة التي ستستخدم الطاقة الشمسية لكافة مناطقها عام ٢٠٤٠م تحمل الرقم ( ٣ ) السعودية
٩. دولة تعرضت للغزو العراقي عام ١٩٩٠م تحمل الرقم ( ٢ ) الكويت
١٠. دولة قامت بغزو الكويت ١٩٩٠ تحمل الرقم ( ١٠ ) العراق
١١. دولة قامت بتشغيل مدرسة بالطاقة الشمسية الرقم ( ٤ ) مصر
١٢. المسطح المائي الذي يحمل الرقم ١١ يسمى ... البحر المتوسط...
١٣. اكتب اسم المحيط الأطلسي على الخريطة



## ثالثاً: التحديات السياسية التي تواجه دول العالم الإسلامي

### ١. مشكلة الحدود السياسية

السؤال الأول : أكمل العبارات التالية بما يناسبها مما درست :

١. حاكم العراق الذي أشار في مؤتمراً صحفياً أن الكويت تابعة لولاية البصرة يسمى عبد الكريم قاسم
٢. المركز الكويتي الحدودي الذي أعطي عليه العراقيين عام ١٩٧٣ م يسمى الصامته
٣. حاكم الكويت الذي وقع اتفاقية الحماية مع الحكومة البريطانية عام ١٨٩٩ م يسمى مبارك الكبير
٤. نائب الرئيس العراقي الذي زار موسكو ونصحته بتراجع العراق عن هجومها يسمى صدام حسين
٥. الاسم الذي أطلق علي مؤتمر القمة العربية بالقاهرة عام ٢٠٠٠ م هو قمة الأقصى
٦. الملك السعودي الذي اقترح إنشاء صندوق انتفاضه القدس وصندوق الأقصى يسمى عبدالله بن عبدالعزيز
٧. الانتداب الذي حكم فلسطين في الفترة من ( ١٩٢٠ - ١٩٤٨ م ) يسمى البريطاني
٨. عدد الفلسطينيين الذين تشردوا بعد حرب ١٩٤٨ هو ٧٥٠ ألف

السؤال الثاني : صوب ما تحته خط في العبارات التالية :

م	العبرة	التصويب
١	حدث الغزو العراقي علي دولة الكويت يوم الخميس ٥ يناير ١٩٩٠ م	٢ اغسطس
٢	تحررت دولة الكويت من الغزو العراقي في تاريخ ٢٦ فبراير ١٩٩٢ م	١٩٩١ م
٣	القرار الذي أصدرته الأمم المتحدة عام ١٩٩١ م لترسيم الحدود بين العراق والكويت يحمل رقم ٨٣٣	٦٧٨
٤	القرار الذي أصدرته الأمم المتحدة عام ١٩٩٣ م برسم الحدود بين الكويت والعراق يحمل رقم ٦٧٨	٨٣٣
٥	حاكم دولة الكويت الذي حدث في عهده الغزو العراقي هو الشيخ <u>مبارك الصباح</u>	جابر الاحمد
٦	القرار الذي أصدرته الأمم المتحدة عام ١٩٤٧ م لتقسيم فلسطين الي قسمين عربي ويهودي هو ٢٨٢	١٨١
٧	الدولة التي عقد فيها مؤتمر القمة العربية عام ٢٠٠٩ م هي <u>اليمن</u>	الكويت

السؤال الثالث عدد : اهداف مؤتمر العقير ١٩٢٢

- حل مشاكل الحدود بين نجد والعراق من جهة
- والكويت والعراق ونجد من جهة أخرى







حرب ١٩٦٧م	حرب ١٩٤٨م	النتائج
احتلال غزة والضفة الغربية وسيناء المصرية وهضبة الجولان السورية والقدس الشرقية	احتلال ٨٠٪ من ارض فلسطين	

السؤال الرابع : اختر للمجموعة ( أ ) ما يرتبط بها من المجموعة ( ب ) بوضع الرقم المناسب :

م	المجموعة ( أ )	الرقم	المجموعة ( ب )
١	انضمام الكويت لاتفاقية الدفاع المشتركة	٢	١٩١٣م
٢	أول ترسيم للحدود بين الكويت والعراق ( الدولة العثمانية )	٣	١٩٢٢م
٣	مؤتمر العقير .	٤	١٩٩٤م
٤	اعتراف العراق بقرار مجلس الأمن رقم ٨٣٣ .	١	١٩٦١م

السؤال الخامس : أجب عن الأسئلة التالية :

١. " إن الكويت دولة عربية ذات سيادة ومن ورائها يقف شعب الكويت بدعم قيادتها

- من قائل هذه العبارة : الشيخ عبد السالم الصباح

- ما المناسبة : عندما اعلن حاكم العراق ان الكويت تابعة لولاية البصرة

٢. دلل علي : عدم تبعية دولة الكويت للعراق ( ان دولة الكويت دولة مستقلة ) .

١. اتفاقية الحماية ١٨٩٩م بين الشيخ مبارك الصباح والحكومة البريطانية دليل علي سيادة الكويت

٢. أول ترسيم للحدود بين الكويت والعراق - الدولة العثمانية عام ١٩١٣م والاعتراف باستقلال الكويت

٣. ترسيم الحدود في مؤتمر العقير ١٩٢٢م بين الكويت والعراق والسعودية يثبت استقلال الكويت

٤. عام ١٩٩١م شكل مجلس الامن لجنة لترسيم الحدود البلدين

٥. عام ١٩٩٣م صدر مجلس الأمن قرار ٨٣٣ بترسيم الحدود واعترفت العراق بالقرار في عام ١٩٩٤م

السؤال السادس : أجب عما يلي :

١. عدد أنواع الحدود : أ- برية ب- بحرية

٢- اذكر موقف الملك عبد الله بن عبد العزيز تجاه القضية الفلسطينية منها :

١. اقترح إنشاء صندوق يحمل اسم ( صندوق انتفاضة القدس ) واخر يحمل

( صندوق الأقصى ) برأس مال يخدم الشعب الفلسطيني في مؤتمر القمة العربية في القاهرة عام ٢٠٠٠م

٢. كان للملك موقف تاريخي في مؤتمر القمة العربية التي عقدت في الكويت شهر يناير ٢٠٠٩م





## ٢- مشكلة الأقليات الإسلامية

السؤال الأول : أكمل العبارة التالية بما يناسبها مما درست :

١. بلغ عدد الأقليات الإسلامية في العالم ٤٥٠ مليون مسلم

السؤال الثاني : أجب عن الاسئلة التالية :

١. اكتب طرق تكوين الأقليات الإسلامية

أ. اعتناق الاسلام ب. هجرة بعض المسلمين الي أرض غير مسلمة

٢. ما النتائج المترتبة علي : شن حملات قمعية ضد المجموعات المسلمة في منطقة أراكان ( بورما )

\* اضطر أكثر من مليوني مسلم الفرار الي الدول المجاورة

٣. اكتب المشكلات التي يعاني من المسلمين في منطقة شينجيانغ أوريجور .

\* محاولات طمس هويتهم الثقافية

\* حرمانهم من الحقوق الاجتماعية والدينية

٤. أكتب التحديات ( المشكلات ) التي تواجه الأقليات الإسلامية في العالم .

١- سوء الظروف الاجتماعية والمادية

٢- الحفاظ علي الهوية الاسلامية في ظل عادات وتقاليد المجتمعات الغربية

٣- انخفاض المستوي التعليمي

٤- فرض بعض الدول قيود علي المسلمين في حرية ممارستهم لشعائهم الاسلامية

٥- تمييز المسلمين في العمل منذ أحداث ١١ سبتمبر ٢٠٠١ م

٦. أكتب الحلول الإسلامية للتحديات التي تواجه الأقليات الإسلامية .



٢- الدور التثقيفي للمؤسسات الإسلامية

١- تفعيل الوجود الإسلامي

كيفية الحفاظ علي الهوية الإسلامية والتمسك بالدين

أ. لكل جالية مسلمة هيئة تتحدث باسمها وترعي مصالحها  
ب. تفعيل المشاركات الاجتماعية والسياسية والاقتصادية

السؤال الثالث : أكتب المفاهيم الدالة علي العبارات التالية ( عرف ما يلي )

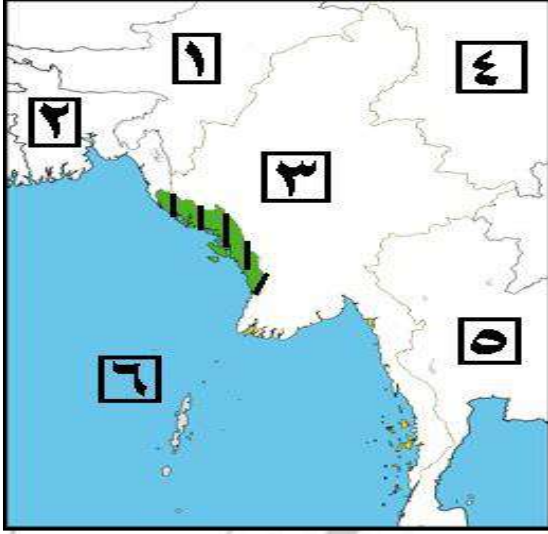
١. ( الاقليّة ) مجموعة من سكان دولة ما يختلفون عن غالبية سكان تلك الدولة مثل العرق أو الثقافة او الدين

٢. ( الاقليات الاسلامية ) مجموعة من المسلمين تعيش تحت سلطة دولة غير مسلمة و اغلبية غير مسلمة .

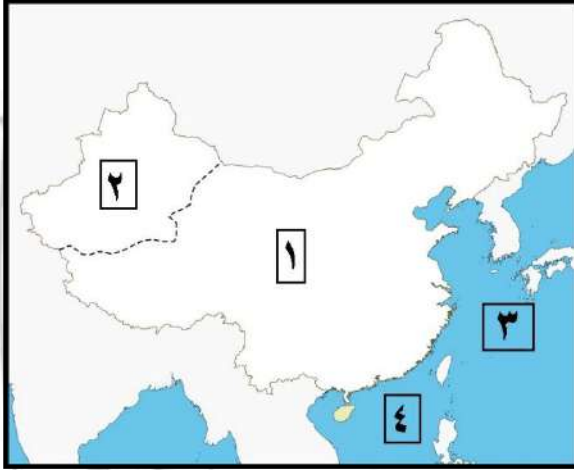




السؤال الرابع : بعد دراسة الخرائط التالية نفذ ما يلي :



١. خليج البنغال يحمل الرقم ( ٦ )
٢. الصين تحمل الرقم ( ٤ )
٣. بنغلاديش تحمل الرقم ( ٢ )
٤. ميانمار بورما تحمل الرقم ( ٣ )
٥. تايلاند تحمل الرقم ( ٥ )
٦. الهند تحمل الرقم ( ١ )
٧. الجزء المظلل يسمي إراكان



١. بحر الصين الشرقي يحمل الرقم ( ٣ )
٢. الصين تحمل الرقم ( ١ )
٣. بحر الصين الجنوبي يحمل الرقم ( ٤ )
٤. إقليم شينجيانغ أوريجور يحمل الرقم ( ٢ )



تواصل واتساب



تواصل تيليجرام المتوسط



تواصل تيليجرام الثانوي

**فاتك الوقت وتحتاج تجمع المنهج**

**جهزت لكم فيديوهات شرح كل دروس الصف الثامن وجميع صفوف المتوسط شرح**

**مبسطة تكلفة الاشتراك ٥ دنانير فقط لجميع الفيديوهات طوال الكورس**

**للاشتراك اتصل على ٥٠٢٤٨٤٨١ (امسح كود الواتساب)**



### ٣- مشكلة الحروب والدمار [ نماذج من دول العالم الإسلامي ]

**السؤال الأول : أكمل العبارات التالية بما يناسبها مما درست :**

١. المعسكر الذي كان مركزاً لاعتقال وتعذيب البوسنيين و الكروات علي يد القوات الصربية يسمى اومارسكا.
٢. الفترة التي وقعت فيها حرب البوسنة بين عامي ١٩٩٢-١٩٩٥ م
٣. الوباء الذي انتشر في الصومال في عام ١٩٩١ م يسمى الكوليرا
٤. عدد آبار النفط المشتعلة في الغزو العراقي بلغت ٧٣٧ بئراً
٥. خبير مكافحة الحرائق الذي تنبأ بأن المدة المطلوبة لإخماد حرائق النفط ٥ سنوات يسمى ريد اير
٦. بدأ العمل الفعلي لإخماد حرائق آبار النفط الكويتية في تاريخ ١١ مارس ١٩٩١ م
٧. حاكم العراقي في الغزو العراقي علي الكويت عام ١٩٩٠ م يسمى صدام حسين
٨. الاسم الذي يطلق على القوات الجوية الكويتية هو صقور الجو
٩. الاسم الذي سميت به حرب تحرير الكويت هو عاصفة الصحراء
١٠. بلغ عدد شهداء بيت القرين ١٢ شهيد

**السؤال الثاني : صوب ما تحته خط في العبارات التالية :**

م	العبرة	التصويب
١	وقعت الحرب الأهلية في الصومال في عام ١٩٩٢ م	١٩٩١
٢	بلغ عدد أيام أطفاء آبار النفط المشتعلة <u>٢٨٠</u> يوم	٢٤٠
٣	تاريخ إخماد آخر بئر نفطي في الكويت هو <u>٦ ديسمبر ١٩٩١ م</u>	٦ نوفمبر
٤	بلغ عدد الشباب الذين قاوموا الاحتلال العراقي في بيت القرين <u>٣٩</u> شاباً	١٩
٥	حكام الكويت الذي تم في عهده إطفاء آبار النفط المشتعلة هو الشيخ <u>صباح الأحمد</u>	جابر الاحمد
٦	قامت حرب " عاصفة الصحراء " في <u>٢٧ يناير ١٩٩١ م</u>	١٧ يناير
٧	تحررت دولة الكويت من الغزو العراقي في تاريخ <u>٢٦ مارس ١٩٩١ م</u>	٢٦ فبراير

**السؤال الثالث : فرق بين كلا من :**

حرب البوسنة ( ١٩٩٢ - ١٩٩٥ م )	الحروب الأهلية في الصومال عام ١٩٩١ م
النتائج	ابادة ٣٠٠ الف مسلم
	- موجات من الجفاف والمجاعة - وفاة أكثر من مليون نسمة

**السؤال الرابع : أجب عن الأسئلة التالية :**

١. أكتب دور الجيش الكويتي أثناء الغزو العراقي ٢ أغسطس ١٩٩٠ م .
- أ. قامت القوات الجوية ( صقور الجو ) بتدمير دبابات العراقيين واكثر من ١٨ طائرة مقاتلة
- ب. كان الجيش الكويتي أول من هاجم في حرب التحرير " عاصفة الصحراء "





## التحديات الاجتماعية والثقافية التي تواجه دول العالم الإسلامي

السؤال الأول : أكمل العبارات التالية بما يناسبها مما درست :

١. الدولة التي سجلت أعلى معدل في إلمام البالغين بالقراءة والكتابة عام ٢٠١٥ م تسمى قطر
٢. نسبة إلمام البالغين بالقراءة والكتابة من إجمالي السكان في قطر عام ٢٠١٥ م بلغت ٩٧%
٣. الاسم الذي يطلق علي اللجنة الاقتصادية والاجتماعية التابعة للأمم المتحدة هو الاسكوا
٤. من أمثلة العقاقير التي تسبب إدمان المخدرات الشبو وعقار آخر يسمى الهيروين

السؤال الثاني : فرق بين كلا من :

أسباب الإدمان	آثار الإدمان علي الإنسان والمجتمع
١. ضعف الرقابة من الاسرة ٢. رفاق السوء ٣. التقليد الأعمى .٤. انتشار التدخين	- حالة هلوسة سمعية وبصرية وعصبية زائدة - يضر نفسه ومجتمعه

تعريف الأمية حسب مفهوم الدول الإسلامية	تعريف الأمية حسب مفهوم البلدان المتقدمة
الانسان الذي بلغ الثانية عشر- من عمره ولم يتعلم القراءة والكتابة	الشخص الذي لم يصل الي المستوى التعليمي في موضوعات التقنية

البلدان	المجموع
سيراليون	٤٨,٠٩
كازاخستان	٩٩,٩٧
اندونيسيا	٩٣,٨٨
تركيا	٩٥,١
سورينام	٩٥,٥٧
النيجر	١٩,١٣

السؤال الثالث : لاحظ الجدول التالي ثم أجب عن الأسئلة التالية :

١. أستخرج أعلى الدول في معدلات محو الأمية .  
\* كازاخستان
٢. استخرج أقل الدول في معدلات محول الأمية .  
\* النيجر
٣. اكتب نسبة محو أمية الكبار خلال عامي ١٩٩٠ و ٢٠١٣ م في دول العالم الإسلامي .  
\* من ٥٥% إلى ٧٨%



الوحدة الرابعة: منظمة التعاون الإسلامي ودور دوله الكوب في التعايش الإنساني

## أولاً: منظمة التعاون الإسلامي والأجهزة التابعة لها

السؤال الأول: أكمل العبارات التالية بما يناسبها مما درست:

١. ملك السعودية الذي دعا عام ١٩٦٥م إلى إنشاء تجمع يضم الدول الإسلامية يسمى فيصل بن عبد العزيز
٢. العام الميلادي الذي عقدت فيه القمة العربية الثالثة هو ١٩٦٥م
٣. تاريخ إحراق المسجد الأقصى هو ١٩٦٩/٨/٢١م
٤. عدد الدول الأعضاء في منظمة التعاون الإسلامي بلغت ٥٧ دولة
٥. المدينة التي أنشأت فيها منظمة التعاون الإسلامي في ١٩٦٩/٩/٢٥م تسمى الرباط
٦. المدينة التي يقع فيها مقر منظمة التعاون الإسلامي تسمى جدة
٧. العام الميلادي الذي تم فيه تغيير اسم منظمة المؤتمر الإسلامي إلى التعاون الإسلامي هو ٢٠١١م
٨. الشعار المقابل يمثل منظمة تسمى التعاون الإسلامي

السؤال الثاني: فرق بين كلا من:

### أهداف منظمة التعاون الإسلامي

الجانب السياسي	الجانب الاقتصادي	الجانب الثقافي والاجتماعي
- تعزيز التعاون الإسلامي - المصالح المشتركة بين الدول	- التعاون الاقتصادي بين الدول - تحقيق التنمية المستدامة	- التعاون الثقافي بين الدول - حماية حقوق الإنسان

السؤال الثالث: أجب عن الاسئلة التالية:

١. علل: إنشاء منظمة التعاون الإسلامي.

- قيام الكيان الصهيوني الاسرائيلي بأحراق المسجد الأقصى في فلسطين في ١٩٦٩/٨/٢١م

٢. أكتب مبادئ منظمة التعاون الإسلامي

١. المساواة بين الدول الأعضاء

٢- تسوية المنازعات بالطرق السلمية

٣- تعزيز حقوق الانسان

٣. عرف كلا من:

الدولة الإسلامية: هي التي يكون فيها نسبة المسلمين ٥٠% أو أكثر ويحكمها حاكم مسلم

منظمة المؤتمر الإسلامي: منظمة تضم بعضويتها ٥٧ دولة اسلامية مستقلة مقرها مدينة جدة بالسعودية







## تابع : منظمة التعاون الإسلامي والأجهزة التابعة لها

السؤال الأول : أكمل الفراغ المناسب في العبارات التالية :

- أجهزة منظمة التعاون الإسلامي ( الهيكل التنظيمي )

القمة الاسلامية	مجلس وزراء الخارجية	الامانة العامة	محكمة العدل الإسلامية الدولية
-----------------	---------------------	----------------	-------------------------------

السؤال الثاني : صوب ما تحته خط في العبارات التالية :

م	العبرة	التصويب
١	يعقد مؤتمر ملوك وأمراء ورؤساء الدول والحكومات الإسلامية مرة كل ٥ سنوات	٣ سنوات
٢	الهيئة التنفيذية للمنظمة وتقوم بمباشرة شؤون المؤتمر هي <u>محكمة العدل الإسلامية</u>	الامانة العامة
٣	مدة تعيين الأمين العام لمنظمة التعاون الإسلامي هي ٣ سنوات	سنتين
٤	المدينة التي عقد فيها المؤتمر الإسلامي الرابع عام ١٩٨٤م هي <u>الرياض</u>	الدار البيضاء
٥	رئيس المؤتمر الإسلامي الخامس ١٩٨٧ م هو الشيخ <u>عبد الله السالم الصباح</u>	جابر الاحمد
٦	عدد الدول التي حضرت المؤتمر الإسلامي الخامس في الكويت بلغ <u>٥٥ دولة</u>	٤٤

السؤال الثالث : قارن بين كلا :

المؤتمر الإسلامي الأول	المؤتمر الإسلامي الخامس	المؤتمر الإسلامي الثالث عشر
العام ١٩٦٩م	١٩٨٧م	٢٠١٦م
المقر الرباط عاصمة المغرب	الكويت	إسطنبول في تركيا
سبب الانعقاد إحراق المحتل الاسرائيلي المسجد الاقصى	تلبية دعوة امير الكويت الشيخ جابر الاحمد الصباح	التأكيد علي قضية فلسطين والقدس الشريف
أهم القرارات ١- دعم القضية الفلسطينية ٢- تمسك المسلمين بالقدس ٣- تحقيق الانسحاب لإسرائيل من فلسطين	١- دعم القضية الفلسطينية ٢- استقلال لبنان ٣- الوقف الفوري للحرب بين ايران والعراق	١- دعم القضية الفلسطينية ٢- دعم لبنان ٣- التعاون بين ايران والدول الإسلامية





## ثانياً: دور المنظمات والمؤسسات الإسلامية في مواجهة التحديات

السؤال الأول : أكمل الجدول التالي بما يناسبه مما درست :

المنظمات والمؤسسات الإسلامية			
١. وكالة الأنباء الإسلامية الدولية ( إينا )			
سنة التأسيس	المقر	الأهداف	الشعار
١٩٧٢م	جدة	١- إقامة علاقات بين الدول في الاعلام ٢- تعريف العالم بمشكلات الشعوب الإسلامية	
٢. البنك الإسلامي للتنمية			
سنة التأسيس	المقر	الأهداف	الشعار
١٩٧٥م	جدة	١- دعم التنمية الاقتصادية ٢- تنمية التجارة الخارجية	
٣. المنظمة الإسلامية للتربية والعلوم والثقافة ( إيسيسكو )			
سنة التأسيس	المقر	الأهداف	الشعار
١٩٨٢م	الرباط	١- التعاون بين الدول في التربية والعلوم والثقافة ٢- التكامل بين المنظومات التربوية	
٤. مجمع الفقه الإسلامي			
سنة التأسيس	المقر	الأهداف	الشعار
١٩٨٣م	جدة	١- تحقيق الوحدة الإسلامية ٢- تقوية ارتباط الأمة الإسلامية بعقيدتها	
٥. اللجنة الإسلامية للهلل الدولي			
سنة التأسيس	المقر	الأهداف	الشعار
١٩٨٣	بنغازي	١- تقديم الإسعافات الطبية والإنسانية في الكوارث الطبيعية ٢- مساعدة الإنسانية	







السؤال الثاني : أكتب دور المنظمات التالية في مواجهة التحديات

١. البنك الإسلامي للتنمية :

أ. دعم الجوانب المختلفة من احتياجات الدول الإسلامية

ب. تعزيز مكانة الدول الإسلامية بين دول العالم المتقدمة

٢. وكالة الأنباء الإسلامية الدولية ( إينا )

أ. التواصل بين الشعوب

ب. تغطية الشعائر الإسلامية

٣. المنظمة الإسلامية للتربية والعلوم والثقافة ( إيسيسكو )

- محاربة الأمية والقضاء عليها

٤. مجمع الفقه الإسلامي

أ - السعي الى الاجتهاد الفقهي ب - القضاء علي التطرف والتعصب الطائفي

ج - تحقيق الوسطية الدينية بين المسلمين

## الوحدة الخامسة : دور دولة الكويت في التعايش الانساني

### ثانياً: دور دولة الكويت في مساعدة دول العالم الإسلامي

السؤال الأول : صوب ما تحته خط في العبارات التالية :

م	العبرة	التصويب
١	استقلت دولة الكويت في عام ١٩٩١م	١٩٦١م
٢	الوزارة التي كان يرأسها الشيخ جابر الأحمد عام ١٩٦١م هي وزارة الخارجية	المالية
٣	تأسست الهيئة الخيرية الإسلامية العالمية في عهد الشيخ سعد العبد الله	جابر الاحمد
٤	تم اختيار الشيخ صباح الأحمد كقائد للعمل الإنساني في تاريخ ٢٠١٥/٩/٩م	٢٠١٤/٩/٩
٥	أول مؤسسة تنموية في المنطقة يسمى بيت الزكاة	الصندوق الكويتي للتنمية
	تزيد اللغات المنتشرة في العالم الإسلامي علي ٥٠ لغة أصلية	٢٠



السؤال الثاني : أختار الإكمال المناسب من بين الخيارات التي تلي كلا من :

١. صاحب فكرة الصندوق الكويتي للتنمية :

أ. الشيخ جابر الأحمد ب. الشيخ أحمد الجابر ج. الشيخ عبد الله السالم د. الشيخ سعد العبد الله

٢. حاكم الكويت الذي تأسس في عهده الصندوق الكويتي للتنمية :

أ. الشيخ جابر الأحمد ب. الشيخ أحمد الجابر ج. الشيخ عبد الله السالم

٣. المدينة التي عقدت فيها القمة الخليجية الثالثة والثلاثين عام ٢٠١٢ :

أ. الكويت ب. الرياض ج. الدوحة د. المنامة

٤-نسبة التحدث باللغة العربية في العالم الإسلامي :

أ. ١٠- ٢٠ % ب. ٢٠- ٣٠ % ج. ٣٠- ٤٠ % د. ٤٠- ٥٠ %

السؤال الثالث اكمل ما يلي :

١. العام الميلادي الذي أنشئ فيه الصندوق الكويتي هو ١٩٦١

٢. الوزارة التي تشرف على بيت الزكاة تسمى الاقواق والشئون الإسلامية

٣. العام الميلادي الذي أنشأ فيه بيت الزكاة هو ١٩٨٢

٤. الحاكم الكويتي الذي قام بعقد مؤتمر اللاجئين يسمى صباح الأحمد

٥. العام الميلادي الذي عقد فيه مؤتمر المانحين هو ٢٠١٣

٦. عدد الدول المشاركة في مؤتمر المانحين بالكويت هو ٥٩ دولة

السؤال الرابع: انظر للشكل المقابل ثم اجب :

١. الشكل المقابل يمثل الصندوق الكويتي للتنمية

٢. علل لما يلي إنشاء الصندوق الكويتي للتنمية ( أكتب أهداف الصندوق الكويتي )

أ- تقديم القروض ب- تقديم المنح

ج- الاسهام في برامج التنمية

٣. أكتب نطاق عمل الصندوق الكويتي للتنمية

١ - المساعدات الزراعية ٢- المساعدات الصناعية

٣- المساعدات الصحية ٤- المساعدات التعليمية

السؤال الخامس : أجب عن الاسئلة التالية :

١. أكتب دور الكويت في مساعدة العالم الإسلامي .

أ. تقديم المساعدات الانسانية لدول العالم ب. قامت الكويت بالمبادرات والمواقف الانسانية





٢. علل : تأسيس بيت الزكاة عام ١٩٨٢م

أ. احياء ركن الزكاة

ب. جمع وتوزيع الزكاة

٣. أكتب دور دولة الكويت لدعم الوضع الإنساني في سوريا

- استضافة الكويت المؤتمرات الاول والثاني والثالث للمانحين

٤. علل استضافة الكويت المؤتمر الاول للمانحين عام ٢٠١٣

- لدعم الوضع الانساني في سوريا

علل : تزايد اللغات في العالم الإسلامي علي ٢٠ لغة أصلية

أ. اتساع العالم الاسلامي ب. تنوع الاعراق والثقافات

السؤال السادس فرق بين كلا من



هيئة حكومية مسجلة  
دولة الكويت

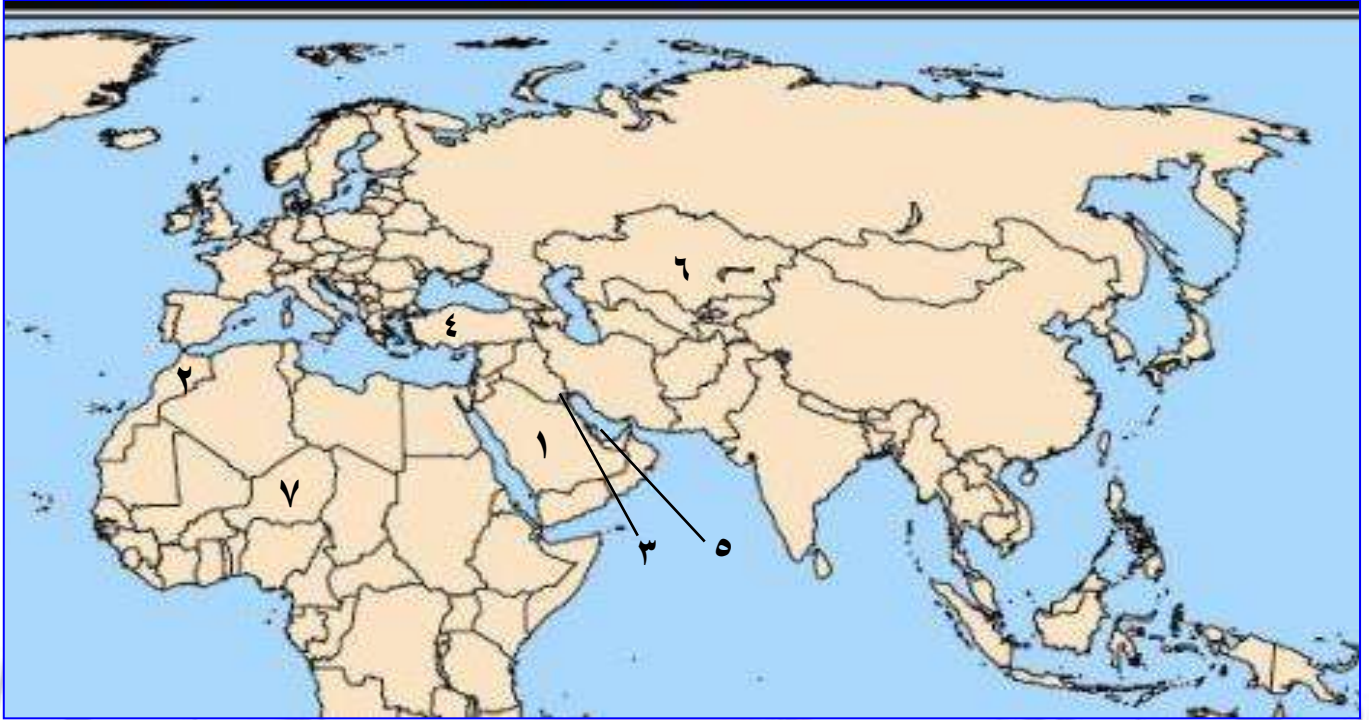


الهيئة الإسلامية العالمية	جمعية الهلال الأحمر الكويتي	عام التأسيس
١٩٨٦	١٩٦٦	
		الشعار
أكبر المؤسسات العالمية في المجال الإنساني	هيئة مساعدة للسلطات في الجانب الإنساني	الدور

القطاعات الحكومية	القطاعات الأهلي
وزارة المالية الصندوق الكويتي ١٩٦١ جمعية الهلال الأحمر ١٩٦٦ الهيئة الخيرية الإسلامية العالمية ١٩٨٤ بيت الزكاة ١٩٨٢	غرفة تجارة وصناعة الكويت الجمعيات واللجان الخيرية ومؤسسات المجتمع الدولي



السؤال السابع: لاحظ خريطة العالم الإسلامي ثم أكتب الرقم الدال على العبارات التالية :



- مقر منظمة التعاون الإسلامي يحمل الرقم ( ١ ) جدة السعودية  
الدولة التي اعلن فيها عن قيام منظمة التعاون الإسلامي رقم ( ٢ ) الرباط المغرب  
مقر البنك الإسلامي - مقر وكالة الانباء الإسلامية - مقر مجمع الفقه الإسلامي ( ١ ) جدة السعودية  
مقر ايسيسكو ( ٢ ) الرباط المغرب  
الدولة التي عقد فيها المؤتمر الإسلامي الأول ( ٢ ) الرباط المغرب  
الدولة التي عقد فيها المؤتمر الإسلامي الخامس ٣ الكويت  
الدولة التي عقد فيها المؤتمر الإسلامي ٤ إسطنبول تركيا  
مقر الهيئة الخيرية الإسلامية العالمية ٣ الكويت  
الدولة التي سجلت أعلى معدل في إمام البالغين بالقراءة والكتابة ٥ قطر  
أعلى الدول في معدلات محو الأمية ٦ كازاخستان  
أقل الدول في معدلات محو الأمية ٧ النيجر

