

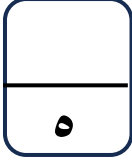
الاختبار التقويمي الرابع

للمصف الرابع

الفصل الدراسي الثاني 2023 / 2024

بنود الاختبار	توزيع درجات الاختبار		درجة الاختبار	مدة الاختبار	موعد الاختبار
من : (٥-١١) إلى : (٧-١١)	مقال	موضوعي	٥ درجات	لا تتجاوز ١٥ دقيقة من زمن الحصة	الأسبوع ١٤
	٣	٢			

إشراف الوجيه الفني : أ. مها العنزي



نموذج ١ اختبار تقويمي (٤)
في مادة الرياضيات للصف الرابع
الفصل الدراسي الثاني للعام الدراسي ٢٠٢٣ / ٢٠٢٤



السؤال الأول :

$$\begin{array}{r} 6,25 \\ + 3,39 \\ \hline \end{array}$$

أوجد الناتج

السؤال الثاني اختر الإجابة الصحيحة بوضع (✓) .

العدد الأقرب الي ٤٠ هو				
٤٠,٩٧ <input type="radio"/>	٤٠,٩٩ <input type="radio"/>	٣٩,٠٧ <input type="radio"/>	٣٩,٥ <input type="radio"/>	١
= ٠,٣ - ٠,٧				
٠,٥ <input type="radio"/>	٠,٨ <input type="radio"/>	٠,٤ <input type="radio"/>	٠,٧ <input type="radio"/>	٢

انتهت الأسئلة ،،،

مدرس رياضيات

65598710



السؤال الأول :

$$\begin{array}{r} 6,25 \\ + 3,39 \\ \hline 9,64 \end{array}$$

أوجد الناتج

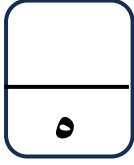
السؤال الثاني اختر الإجابة الصحيحة بوضع (✓) .

العدد الأقرب الي ٤٠ هو				
٤٠,٩٧ <input type="radio"/>	٤٠,٩٩ <input type="radio"/>	٣٩,٠٧ <input type="radio"/>	٣٩,٥ <input checked="" type="radio"/>	١
= ٠,٣ - ٠,٧				
٠,٥ <input type="radio"/>	٠,٨ <input type="radio"/>	٠,٤ <input checked="" type="radio"/>	٠,٧ <input type="radio"/>	٢

مدرس رياضيات
65598710

انتهت الأسئلة ،،،

صفوة معلمي الكوئيت



نموذج ٢ اختبار تقويمي (٤)
في مادة الرياضيات للصف الرابع
الفصل الدراسي الثاني للعام الدراسي ٢٠٢٣ / ٢٠٢٤



السؤال الأول :

أوجد الناتج

$$\begin{array}{r} 6,1 \\ - 3,73 \\ \hline \end{array}$$

السؤال الثاني اختر الإجابة الصحيحة بوضع (✓) .

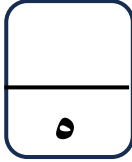
٧,٤٨ مقرباً إلى أقرب عدد كلي هو				
٧,٤ <input type="radio"/>	٩ <input type="radio"/>	٨ <input type="radio"/>	٧ <input type="radio"/>	١
= ٠,١ + ٠,٩				
١,٥ <input type="radio"/>	١ <input type="radio"/>	٠,١ <input type="radio"/>	٠,٨ <input type="radio"/>	٢

مدرس رياضيات

65598710

انتهت الأسئلة ،،،

صفوة معلمي الكويت



نموذج ٢ إجابة اختبار تقويمي (٤)

في مادة الرياضيات للصف الرابع

الفصل الدراسي الثاني للعام الدراسي ٢٠٢٣ / ٢٠٢٤



وزارة التربية
الإدارة العامة للتعليم الخاص
التوجيه الفني للرياضيات

السؤال الأول :

$$\begin{array}{r} 5 \quad 10 \quad 10 \\ 6, 1, 1 \\ \hline 3, 73 - \\ \hline 2, 37 \end{array}$$

أوجد الناتج

السؤال الثاني اختر الإجابة الصحيحة بوضع (✓) .

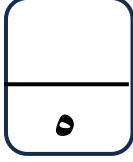
٧,٤٨ مقرباً إلى أقرب عدد كلي هو				
٧,٤ <input type="radio"/>	٩ <input type="radio"/>	٨ <input type="radio"/>	٧ <input checked="" type="radio"/>	١
= ٠,١ + ٠,٩				
١,٥ <input type="radio"/>	١ <input checked="" type="radio"/>	٠,١ <input type="radio"/>	٠,٨ <input type="radio"/>	٢

مدرس رياضيات

65598710

انتهت الأسئلة ،،،،

صفوة معلمي الكويت



نموذج ٣ اختبار تقويمي (٤)
في مادة الرياضيات للصف الرابع
الفصل الدراسي الثاني للعام الدراسي ٢٠٢٣ / ٢٠٢٤



السؤال الأول :

أوجد الناتج

$$\begin{array}{r} 1,9 \\ + 5,18 \\ \hline \end{array}$$

السؤال الثاني :

ظلل (✓) إذا كانت العبارة صحيحة، و ظلل (x) إذا كانت العبارة خطأ

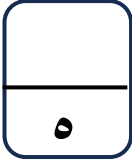
<input checked="" type="checkbox"/>	<input checked="" type="checkbox"/>	$0,6 = 0,4 - 1$	١
<input checked="" type="checkbox"/>	<input checked="" type="checkbox"/>	أقرب عدد كلي للعدد ٤,٨ هو ٤	٢

مدرس رياضيات

65598710

انتهت الأسئلة ،،،

صفوة محمدي الكويت



نموذج ٣ إجابة اختبار تقويمي (٤)
في مادة الرياضيات للصف الرابع
الفصل الدراسي الثاني للعام الدراسي ٢٠٢٣ / ٢٠٢٤



السؤال الأول :

١

$$\begin{array}{r} 1,90 \\ + 5,18 \\ \hline \end{array}$$

أوجد الناتج

٧,٠٨

السؤال الثاني :

ظلل (✓) إذا كانت العبارة صحيحة، و ظلل (x) إذا كانت العبارة خطأ

<input checked="" type="checkbox"/>	<input checked="" type="checkbox"/>	$0,6 = 0,4 - 1$	١
<input checked="" type="checkbox"/>	<input checked="" type="checkbox"/>	أقرب عدد كلي للعدد ٤,٨ هو ٤	٢

مدرس رياضيات
65598710

انتهت الأسئلة ،،،

صفوة معلم الكويت