



الصف السابع
مذكرة تفاعلية

07



اجتماعيات

الفصل الثاني

2024-2023

2

تفوق مع مذكرات النجاح

طريقة سهلة ومميزة لعرض الدروس والتمارين



اختبارات الكترونية
لكل درس
لكل وحدة

مجانا
بدون
اشتراك



ما يميز مذكراتنا !



- شاملة ومختصرة تحوي جميع معلومات الكتاب
- ملونة ومرتبة بشكل جذاب
- يسهل الدراسة
- محلولة
- مرتبة حسب الدروس
- باركود الاختبار الالكتروني
- نماذج اختبارات محلولة

69398804



صفوة الكويتي الكويت



مذكرات النجاح

طريقك للنجاح

69398804

فهرس المذكرة / بلادي الكويت

الوحدة الثالثة: الوطن العربي ملامح بشرية واقتصادية

03

- 02 نمو السكان وتوزيعهم في الوطن العربي
- 06 الموارد الاقتصادية في الوطن العربي
- 07..... إنتاج الغذاء في الوطن العربي
- 11..... الإنتاج الحيواني
- 13..... الطاقة والثروة المعدنية
- 16..... الإنتاج الصناعي
- 18 النقل والتبادل التجاري في الوطن العربي

الوحدة الرابعة: الوطن العربي قضايا وتحديات وحلول نحو مستقبل عربي أفضل

04

- 20..... المشكلات الأساسية في الوطن العربي
- 27..... نحو مستقبل عربي أفضل
- 29..... التعاون والتضامن العربي لتحقيق التقدم والتنمية
- 33..... الصندوق الكويتي للتنمية الاقتصادية العربية
- 35..... استضافة دولة الكويت لأضخم وأهم المؤتمرات الاقتصادية العربية

38 نماذج اختبارات قصيرة + الحل

46 نماذج اختبارات نهائية + الحل

صفوة معلمي الكويت



س: أكمل الفراغات التالية بما يناسبها:

1. يتألف الوطن العربي من ٢٢ دولة تضم حوالي ٣٨٢ مليون نسمة.
2. تبلغ مساحة الوطن العربي حوالي ١٣.٥ مليون كم مربع.
3. تبلغ نسبة سكان الجزء الأفريقي من الوطن العربي بنسبة 70%.
4. تبلغ نسبة سكان الجزء الآسيوي من الوطن العربي بنسبة ٣٠%.
5. الجهة المسئولة عن أول تعداد سكاني في دولة الكويت تسمى **الشؤون الاجتماعية**.
6. أكثر دول الوطن العربي من حيث السكان **مصر**.
7. أكبر دول الوطن العربي من حيث المساحة **الجزائر**.
8. أقل دول الوطن العربي من حيث السكان **جزر القمر**.
9. أكبر دول الوطن العربي في الجناح الآسيوي من حيث السكان **العراق**.
10. أقل دول الوطن العربي في الجناح الآسيوي من حيث السكان **البحرين**.
11. أقل دول الوطن العربي في الجناح الآسيوي من حيث المساحة **البحرين**.
12. أكبر دول الوطن العربي في الجناح الأفريقي من حيث السكان **مصر**.
13. أكبر دول الوطن العربي في الجناح الأفريقي من حيث المساحة **الجزائر**.
14. أقل دول الوطن العربي في الجناح الأفريقي من حيث السكان **جزر القمر**.
15. أكبر تجمع للسكان يكون غالباً **حول الأنهار والبحار ومصادر المياه**.
16. يقدر معدل النمو السكاني في الوطن العربي بحوالي 2.2% لعام 2006م.
17. الزراعة على المدرجات الجبلية في دولة عربية تسمى **اليمن**.
18. يبلغ معدل النمو السكاني في العالم 1.1%.
19. يرجع النمو السكاني بالوطن العربي إلى عاملين هما **الزيادة الطبيعية والهجرة**.
20. المناخ المعتدل **عامل جذب للسكان**.
21. المناطق المناخية التي يقل فيها السكان في الوطن العربي هي **الصحاري**.
22. أُجري أول تعداد سكاني في الكويت عام **١٩٥٧م**.
23. العام الذي أنشئت فيه الدائرة المركزية للإحصاء في دولة الكويت **1963م**.

س: عرف المفاهيم التالية:

1. الإحصاء الحيوي: تسجيل المواليد والوفيات وحالات الزواج والطلاق ونحصل على بياناتها من واقع السجلات الرسمية للدولة.
2. كثافة السكان: نسبة عدد السكان الكلي في دولة ما، أو منطقة ما إلى المساحة الكلية لهذه الدولة أو المنطقة.
3. النمو السكاني: تزايد عدد السكان من عام لآخر نتيجة للزيادة الطبيعية للسكان (معدل المواليد _ معدل الوفيات) والهجرة.
4. الزيادة غير الطبيعية: الزيادة الناتجة عن الهجرة.
5. الزيادة الطبيعية: الفرق بين معدل المواليد ومعدل الوفيات.
6. هجرة داخلية: الهجرة من القرى إلى المدن.
7. هجرة خارجية: الهجرة من دولة إلى دولة أخرى.

س: علل لما يلي:

1. تعاني مصر من سوء توزيع السكان.
حيث يتركز سكان مصر على مساحة صغيرة جدًا (وادي النيل ودلتاه).
2. تقوم الدولة بإجراء تعداد سكاني مستمر.
للحصول على معلومات وافية عن أوضاع السكان مثل عددهم، أعمارهم وأجناسهم.
3. اختلاف عدد السكان من دولة لأخرى.
بسبب العوامل الطبيعية والعوامل البشرية والمساحة الكلية للدولة.
4. ارتفاع وانخفاض الكثافة السكانية بين المناطق.
حسب المقومات الطبيعية والمناخية وتوفر الثروات الطبيعية وطرق المواصلات.
5. تختلف الزيادة السكانية من دولة لأخرى.
حيث يتوقف تأثير هذه الزيادة على مساحة الدولة ومواردها.
6. وجود مناطق شبه خالية من السكان في الوطن العربي.
لأنها تعتبر مناطق طاردة للسكان لعدم توفر مقومات العيش فيها (مثل توفر المياه والجو المناسب).

س: أجب عن الأسئلة التالية:

1. كيف استطاع الإنسان التغلب على صعوبة أنواع التضاريس؟

بفضل التطور العلمي حول الجبال إلى مدرجات وزرعها وشق العديد من الطرق.

2. ماهي مكونات النمو السكاني في الوطن العربي؟

* الزيادة الطبيعية. * الهجرة.

س: عدد لكل مما يلي

1. المناطق المناخية التي يقل بها عدد السكان:

- المناخ الصحراوي.
- المناخ المتجمد.
- المناخ الاستوائي.

2. المناطق التي لا يرغب السكان العيش فيها:

- المناطق الصحراوية والحارة.
- المناطق المتجمدة.
- المناطق الجبلية.

3. المناطق التي يجذب السكان للعيش فيها:

- المناطق السهلية.
- حول مصادر المياه.
- مناطق المناخ المعتدل.

س: أكمل المخططات السهمية التالية:

مناطق الوطن العربي من حيث الكثافة

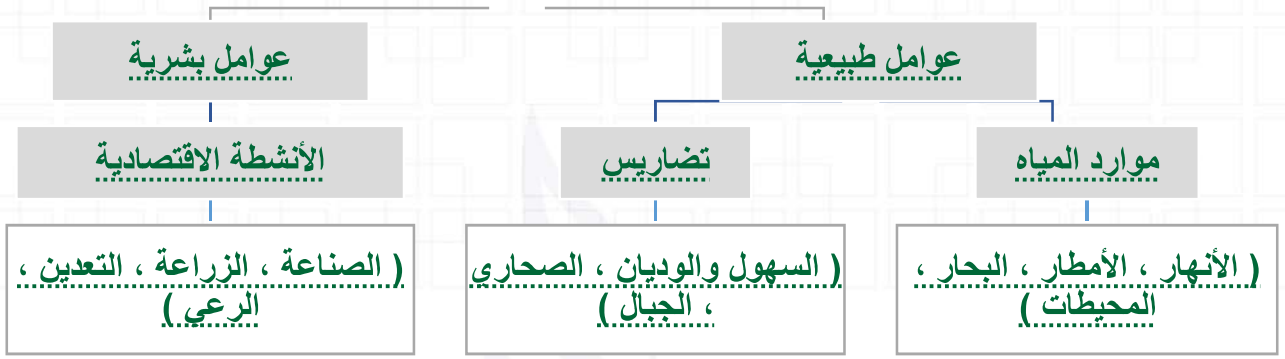
مناطق شبه خالية من السكان

مناطق منخفضة الكثافة

مناطق متوسطة الكثافة

مناطق مرتفعة الكثافة

العوامل المؤثرة في توزيع السكان



س: فرق بين كلاً من:

النمو السكاني	الكثافة السكانية
زيادة عدد السكان من عام لآخر نتيجة الزيادة الطبيعية والهجرة	عدد السكان الكلي / المساحة الكلية

الإحصاء الحيوي	التعداد السكاني
تسجيل المواليد والوفيات وحالات الزواج والطلاق، وتحصل على بياناتها من واقع السجلات الرسمية للدولة	تقوم الدولة من حين لآخر بإجراء التعداد السكاني للحصول على معلومات وافية عن أوضاع السكان، مثل: عددهم، أعمارهم وأجناسهم

س: حول الآتي الى دوائر بيانية:

نسبة السكان في الجناح الأفريقي والجناح الآسيوي:



صفوة معلمى الكويت



س: عرف المفاهيم التالية:

1. الموارد الطبيعية: الثروات التي منحها الله لإقليم ما دون أن يكون للإنسان أي دخل في وجودها مثل: الثروات المعدنية والغابات والمراعي والموارد المائية وموقع الإقليم.
2. الموارد البشرية: الموارد التي ترتبط بالسكان من حيث أعدادهم وتوزيعهم ومناسبة أعدادهم لمساحة الأرض التي يستغلونها.

س: فرق بين كلاً من:

الموارد البشرية	الموارد الطبيعية
الموارد التي ترتبط بالسكان من حيث أعدادهم وتوزيعهم ومناسبة أعدادهم لمساحة الأرض التي يستغلونها.	الثروات التي منحها الله لإقليم ما دون أن يكون للإنسان أي دخل في وجودها مثل: الثروات المعدنية والغابات والمراعي والموارد المائية وموقع الإقليم.

س: عدد لكل مما يلي:

1. أنواع الموارد الطبيعية:

- الثروات المعدنية.
- الغابات.
- الموارد المائية.
- المراعي.
- موقع الإقليم.



صفوة معلمى الكويت



تدرب
وتعلم
اختار
الإلكتروني

س: أكمل الفراغات التالية بما يناسبها:

1. القطاع الذي يمثل 50% من الاقتصاد العربي يسمى **الزراعة**.
2. تختلف كمية إنتاج الحبوب الغذائية في الوطن العربي حسب **كمية الأمطار**.
3. المحاصيل الزراعية التي تتطلب ظروفًا مناخية خاصة وتتركز في حوض البحر المتوسط هي **الفواكه والثمار**.

س: عرف المفاهيم التالية:

1. الغلات النقدية: غلات تدخل في الصناعة وتزرع بغرض التجارة والحصول على نقد.
2. الزراعة التقليدية: استخدام الطرق البدائية في الزراعة.
3. الزراعة الحديثة: استخدام الآلات في الزراعة.

س: علل لما يلي:

1. أهمية الزراعة في الوطن العربي.

لأنها تشكل نسبة 50% من الاقتصاد العربي يليها الخدمات العامة 30% ثم الصناعة 20%.

2. تعتبر الحبوب الغذائية من أهم المزروعات في الوطن العربي.

لأنها تشغل مساحة كبيرة من الأراضي المزروعة وتؤثر كمية الأمطار في إنتاجها.

3. تختلف أنواع المنتجات من دولة عربية إلى أخرى.

بسبب اختلاف المناخ والتربة ومدى توافر المياه.

4. تركز زراعة الفواكه والثمار في حوض البحر المتوسط.

لأنها تتطلب ظروفًا مناخية خاصة.

س: عدد لكل مما يلي:

1. مقومات الإنتاج الزراعي:

- مقومات طبيعية مثل (التربة، الماء، المناخ، التضاريس).
- مقومات بشرية مثل (جهد الإنسان، التقدم التكنولوجي، أيدي عاملة، رأس المال).

صفوة المعلمين الكويت



2. اذكر أهم المنتجات التي يصدرها الوطن العربي إلى الخارج:

- القطن.
- الزيتون.
- الصمغ العربي.
- الحمضيات.

3. الفوائد الأساسية للنشاط الزراعي في الوطن العربي (ما أهمية القطاع الزراعي في اقتصاد بعض الدول العربية):

- توفير الغذاء.
- توفير العمل.
- توفير المادة الأولية للعديد من الصناعات.
- مصدر للدخل القومي.

س: قارن بين الآتي:

أوجه القارنة	الحبوب الغذائية	الغلات الصناعية والتجارية	الفواكه والثمار
التعريف	تعتبر من أهم المزروعات، تشغل مساحة كبيرة من الأراضي المزروعة، تؤثر كمية الأمطار في إنتاجها من عام إلى آخر.	تشمل الغلات التي تدخل في الصناعة وتزرع بغرض التجارة والحصول على نقد، ولذلك تسمى (الغلات النقدية).	تتطلب ظروفًا مناخية خاصة تتركز معظمها في حوض البحر المتوسط وتزرع منها أنواع كثيرة.
أمثلة	الشعير - الأرز - القمح - الذرة.	البن - القطن - قصب السكر.	العنب - التمر - الموالح - الموز.

صفوة معلمة الكويت

س: أكمل الجدول التالي:

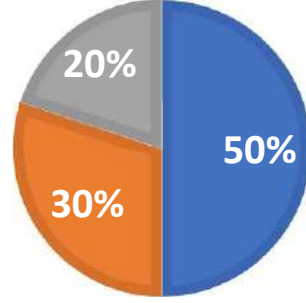
الدولة العربية	تحتل المركز الأول في
مصر	إنتاج القمح
السعودية	إنتاج التمور
الصومال	إنتاج الموز
اليمن	إنتاج البن
المغرب	إنتاج الشعير
مصر	إنتاج الذرة (الشامية)
مصر	إنتاج الأرز
مصر	إنتاج القطن
مصر	إنتاج قصب السكر
مصر	إنتاج الموالح
سوريا	إنتاج العنب



س: حول الآتي إلى دوائر بيانية:

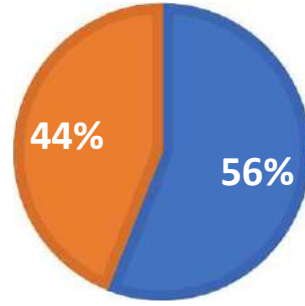
1- نسب قطاعات الاقتصاد العربي:

■ القطاع الصناعي ■ خدمات عامة ■ القطاع الزراعي



2- مساحة الأراضي المزروعة والقابلة للزراعة:

■ المساحة القابلة للزراعة ■ المساحة المزروعة



صفوة معلمي الكويت



س: علل لما يلي:

1. تحتل الأغنام العربية مكاناً مهماً ضمن الثروة الرعوية.

- لأنها مصدر أساسي من مصادر الثروة القومية.
- أكثر الحيوانات المستأنسة والملائمة لمراعي الوطن العربي وذلك لتحملها الجفاف والانتقال.
- الأكثر انتشاراً في المراعي العربية.
- ولأهمية منتجاتها بالنسبة للسكان.

2. تنتشر تربية الدواجن والطيور في جميع الدول العربية.

لأن إنتاجها يكفي حاجة السكان المحلية ولسهولة تربيتها وقلّة تكلفتها وتوافر الغذاء المناسب لها.

3. امتلاك الصومال ٦.٦% من ثروة الوطن العربي من الإبل.

بسبب المناخ الصحراوي وانتشار المراعي الصحراوية في الصومال.

4. تنوع الثروة المائية في الوطن العربي.

لأن دول الوطن العربي دول بحرية لها سواحل ومسطحات مائية واسعة منها المالحة ومنها العذبة.

س: عدد لكل مما يلي:

1. أهمية الثروة الحيوانية:

- مصدر للغذاء.
- مادة خام لصناعات مختلفة.
- مصدر للعمل والدخل.

2. أنواع الثروة الرعوية في الوطن العربي.

- الأغنام.
- الماعز.
- الإبل.
- الأبقار.



س: أكمل الجدول التالي:

الدولة العربية	تحتل المركز الأول في
السودان	تربية الأبقار
السودان	تربية الماعز
السودان	تربية الأغنام
الصومال	تربية الإبل

صفوة معلمي الكويت



تدرب
وتعلم
اختبار
الالكتروني

س: أكمل الفراغات التالية بما يناسبها:

- 1- الدولة العربية الأولى في إنتاج الغاز الطبيعي تسمى **قطر**.
- 2- يتفوق الجناح العربي الآسيوي على الجناح العربي الأفريقي في **إنتاج النفط**.
- 3- الدولة العربية الأولى في إنتاج واحتياط النفط تسمى **السعودية**.
- 4- دولة الكويت تحتل **المركز الثالث** في إنتاج النفط بين دول الوطن العربي.
- 5- أكثر دول العالم استيرادًا للنفط العربي أوروبا واليابان و**الولايات المتحدة الأمريكية**.
- 6- دولة عربية تحتل المرتبة الأولى عربيًا في إنتاج معدن الحديد تسمى **موريتانيا**.
- 7- دولة عربية تحتل المرتبة الأولى عربيًا في إنتاج معدن الفوسفات تسمى **المغرب**.
- 8- دولة عربية تحتل المرتبة الأولى عربيًا في إنتاج معدن النحاس تسمى **المغرب**.
- 9- دولة عربية تحتل المرتبة الأولى عربيًا في إنتاج معدن الرصاص تسمى **المغرب**.
- 10- دولة عربية تحتل المرتبة الأولى عربيًا في إنتاج معدن المنجنيز تسمى **المغرب**.

س: عرف المفاهيم التالية:

- 1- **النفط: بقايا عضوية على هيئة نباتات وحيوانات دقيقة ترسبت في عصور قديمة وانطمرت تحت رواسب سميكة، وتحولت بالضغط والحرارة إلى صورتها الحالية.**
- 2- **الغاز الطبيعي: غاز مصاحب للنفط الخام أو يوجد منفردًا تتم إيسالته لاستخدامات عديدة.**
- 3- **الطاقة: قوى محركة للآلات وعنصر مهم للتقدم والتطور الاقتصادي في جميع المجالات.**
- 4- **منظمة أوبك: هي منظمة عالمية تعتمد على صادراتها النفطية اعتمادًا كبيرًا لتحقيق مدخولها.**

صفوة معلمى الكويت



لطلب المذكرة **كاملة** مع الحلول
ونماذج اختبارات تقويمية ونهاية
مذكرات النجاح



6 5 5 9 8 8 2 4

