

## أكتب مدلول الأشكال التالية :



البيئة الطبيعية



البيئة المشيدة



اليونيسيف



يوم الأغذية العالمي



الفاو



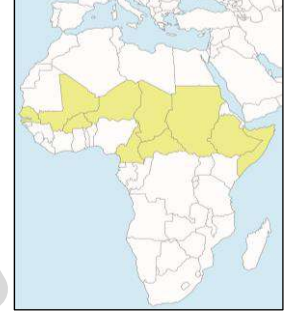
يوم البيئة العالمي 2008 م



مجلس التعاون الخليجي



يوم الأغذية العالمي 2007 م



حزام الجوع الأفريقي



الهيئة العربية للاستثمار والإنماء الزراعي



برنامج الأغذية العالمي



المنظمة العربية للتنمية الزراعية



طاقة الرياح - طاحونة الهواء



تصحر معتدل



تصحر طفيف



الأفلاج



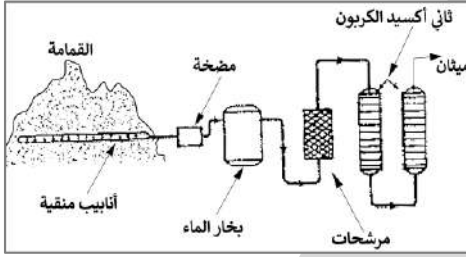
أسلحة دمار شامل



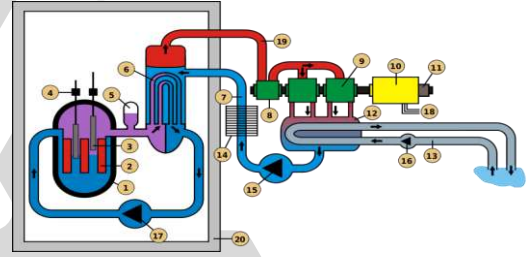
تصحر شديد جداً



تصحر شديد




مخطط استخلاص غاز الميثان من القمامة



المفاعلات النووية لتوليد الكهرباء



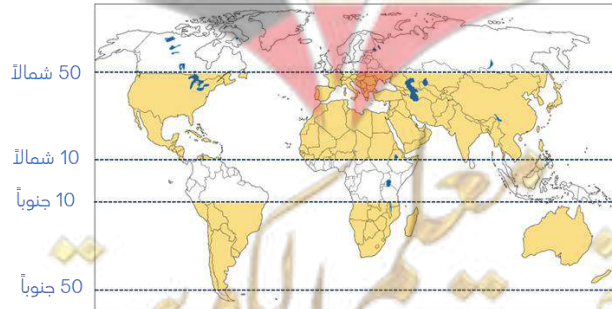
مركز البحرين التجاري العالمي



مصادر الطاقة المتجددة ( البديلة )

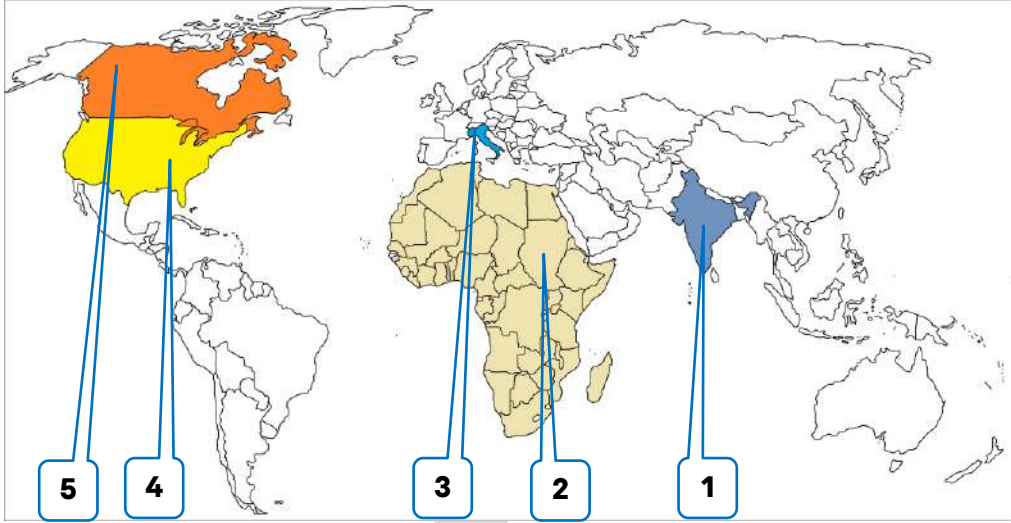


شلالات نياجرا

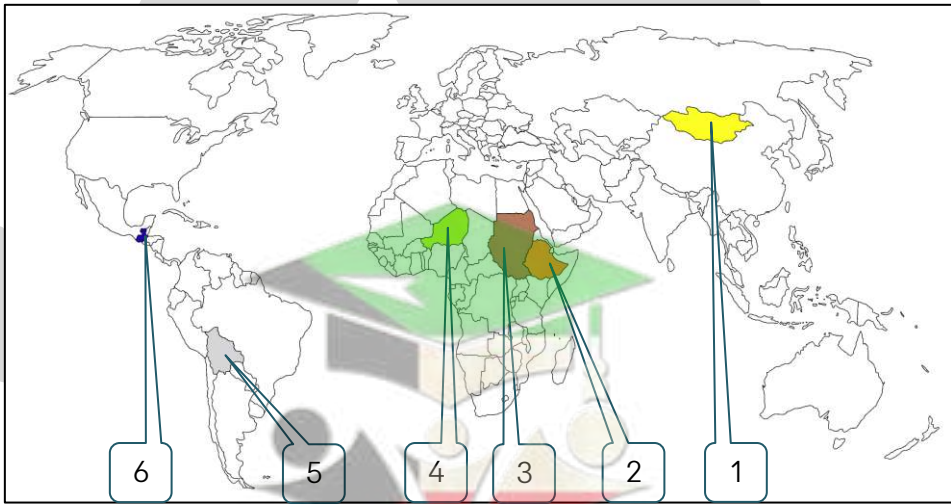


المناطق الجافة وشبه الجافة

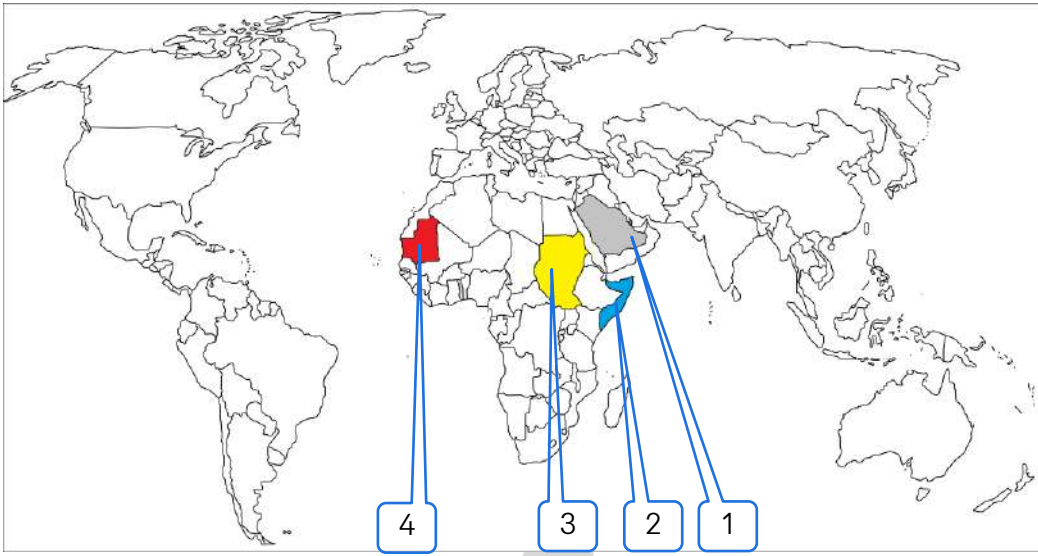
## لاحظ خريطة العالم ثم أجب عن الأسئلة التي تليها :



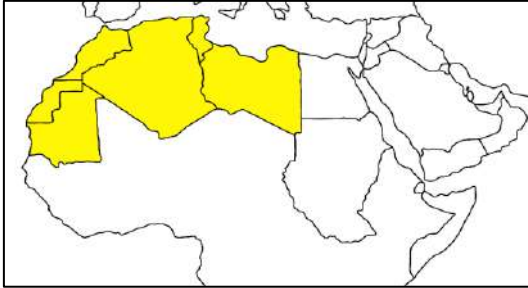
- 5 كندا الدولة التي تأسست فيها منظمة الفاو تحمل الرقم
- 4 الولايات المتحدة الأمريكية الدولة التي انتقل منها مقر منظمة الفاو عام 1951م إلى إيطاليا تحمل الرقم
- 4 المدينة التي يقع فيها المقر اليونسيف تحمل الرقم
- 3 إيطاليا الدولة التي يقع فيها المقر الدائم لمنظمة الفاو تحمل الرقم
- 3 إيطاليا المدينة التي يقع فيها مقر برنامج الأغذية العالمي تحمل الرقم
- 1 الهند الدولة الآسيوية التي صنعت معتقداتها الدينية (تقديس الأبقار) مشكلة غذائية تحمل الرقم
- 2 أفريقيا القارة التي تهرم بعض قبائلها أكل أنواع من الأسماك والقشريات تحمل الرقم



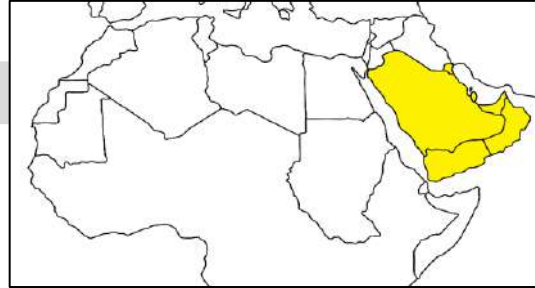
- 5 الدولة التي يعيش فيها 90% من الأسر في المناطق الريفية تحمل الرقم
- 6 الدولة التي لا يزال 75% من سكانها تحت خط الفقر تحمل الرقم
- 4 الدولة التي 35% من سكانها يواجهون خطر المجاعة تحمل الرقم
- 3 الدولة التي نزع فيها 100 ألف نسمة من قراهم هرباً من خطر المجاعة تحمل الرقم
- 1 الدولة التي يعاني 42% من سكانها من نقص التغذية تحمل الرقم
- 2 الدولة التي يعاني 44% من سكانها من نقص التغذية تحمل الرقم



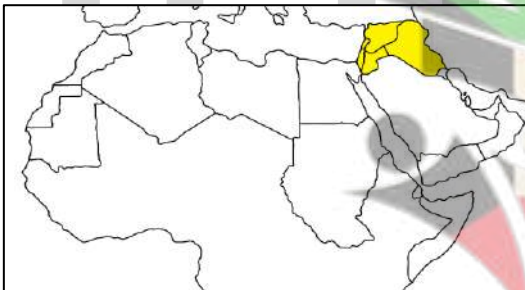
- ❶ الدولة العربية التي تعاني من نقصاً حاداً في الأغذية بسبب الجفاف تحمل الرقم **4 موريتانيا**
  - ❷ المقر الدائم للمنظمة العربية للتنمية الزراعية يحمل الرقم **3 السودان**
  - ❸ المقر الدائم للهيئة العربية للاستثمار والإنماء الزراعي يحمل الرقم **3 السودان**
  - ❹ الدولة العربية التي تعاني من نقصاً حاداً في الأغذية بسبب الجفاف والنزاعات الأهلية تحمل الرقم **2 الصومال**
  - ❺ الدولة الخليجية التي حققت الاكتفاء الذاتي من محصول القمح موسم 1984م تحمل الرقم **1 السعودية**
- ❻ اكتب مدلول الضرائط التالية :



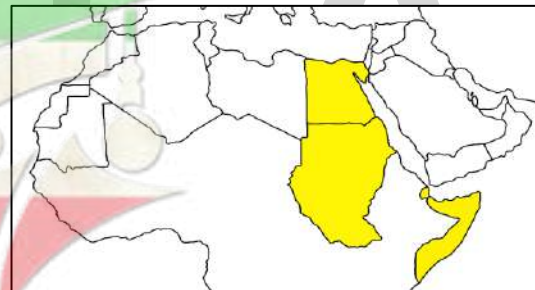
**إقليم المغرب العربي**



**إقليم شبه الجزيرة العربية**



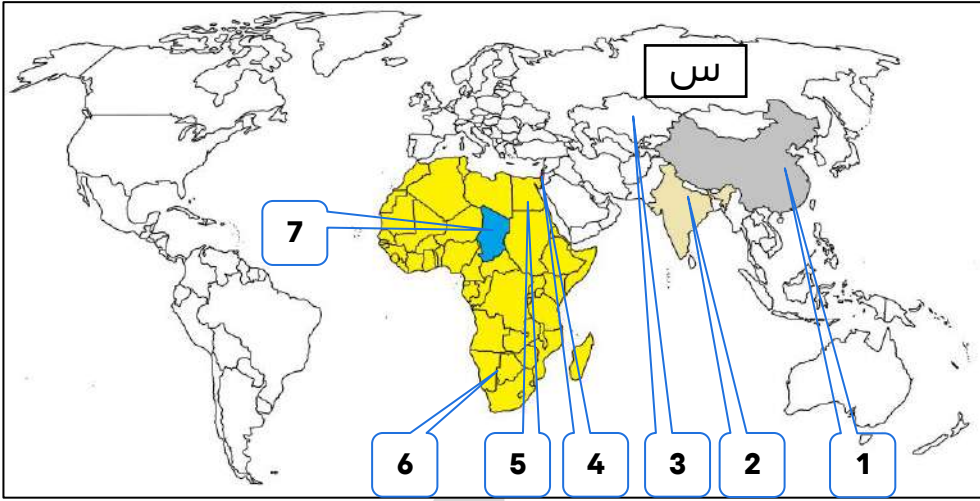
**إقليم المشرق العربي**



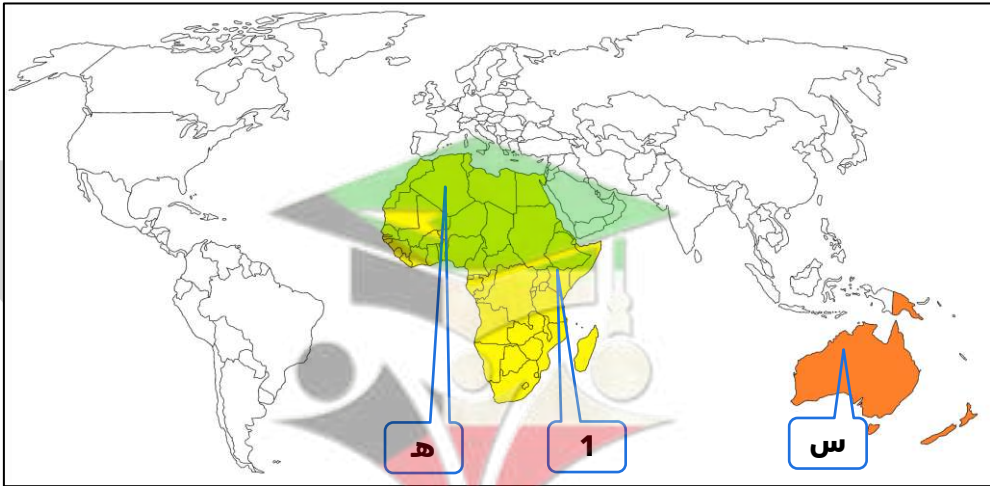
**الإقليم الأوسط**

صفوة معلمي الكويت

لاحظ الخريطة جيداً ثم أجب عما يليها من أسئلة :

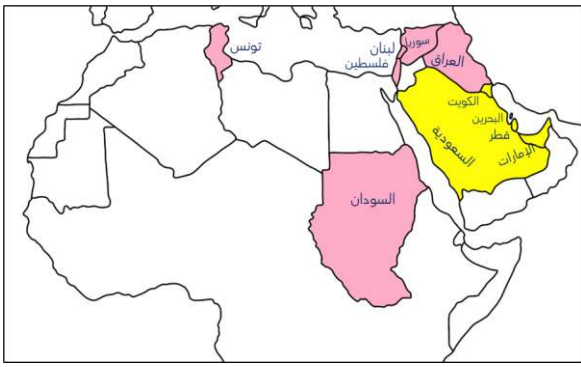


- 3 رابع أكبر بحار العالم الداخلية سابقاً يحمل الرقم
- 1 الدولة التي يوجد بها خزان مياه يقل مستوى الماء فيه 1.5م سنوياً تحمل الرقم
- 2 الدولة التي يقل مستوى الماء فيها من 1إلى 3 متر سنوياً تحمل الرقم
- 4 الدولة التي يستخدم شعبها ربع ما يستخدمه اليهود من الماء تحمل الرقم
- 5 النهر الذي تشترك فيه عشر دول ويفقد سنوياً 94% من المياه يحمل الرقم
- 7 بحيرة تشترك فيها 6 دول وقلت المياه فيها بمقدار 95% تحمل الرقم
- 6 القارة التي يعاني فيها 13 دولة من ندرة المياه تحمل الرقم
- 6 أفريقيا أقل قارات العالم من حيث توفير المياه النقية لسكانها تحمل الحرف
- 6 (س) آسيا ثاني أقل قارات العالم من حيث توفير المياه النقية لسكانها تحمل الحرف



- هـ القارة التي تحتوي علي أكبر مساحة من أراضي المناطق الجافة وشبه الجافة تحمل الحرف
- س (أستراليا) القارة التي تمثل أكبر نسبة مئوية من أراضي المناطق الجافة إلى إجمالي مساحتها تحمل الحرف
- 1 نيروبي المدينة التي عقد فيها مؤتمر الأمم المتحدة للتصحر عام 1977م تحمل الرقم

## أكمل العبارات التالية :



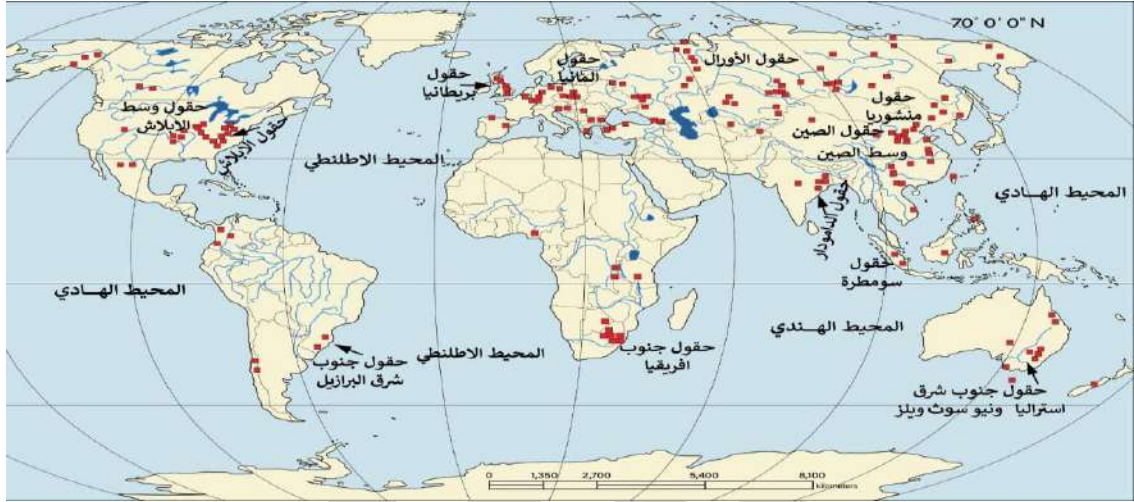
نسبة الأراضي المهددة بالتصحر في سوريا **58%**

نسبة الأراضي المهددة بالتصحر في العراق **54.3%**

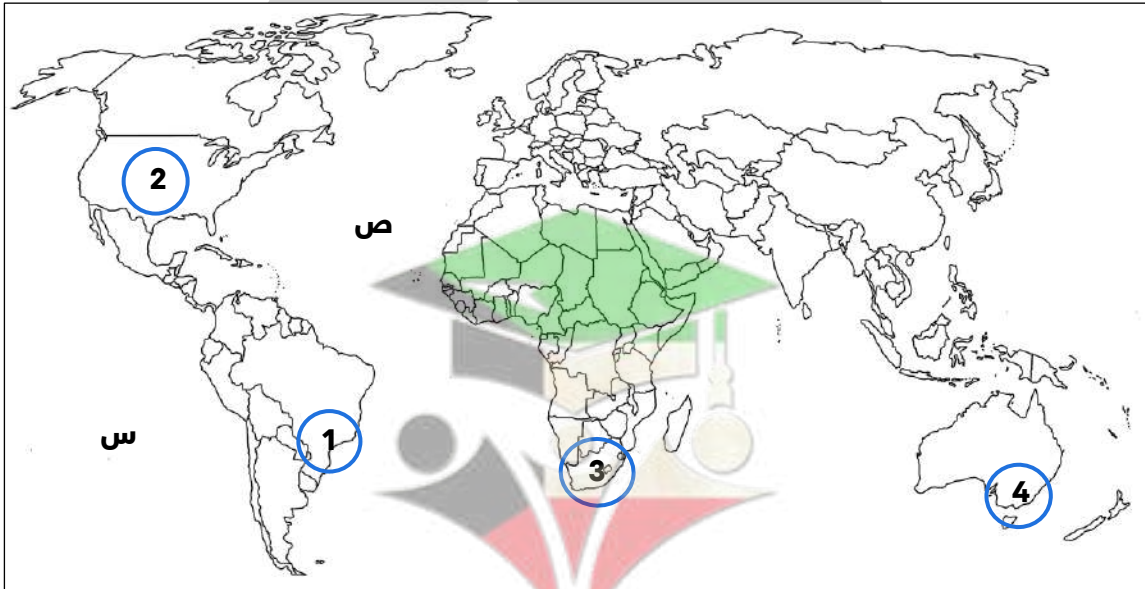
نسبة الأراضي المهددة بالتصحر في السودان **26%**

نسبة الأراضي المهددة بالتصحر في تونس **36%**

أغنى بلد عربي بالمصادر المائية **السودان**



## لاحظ خريطة العالم ثم أجب عما يليها من أسئلة



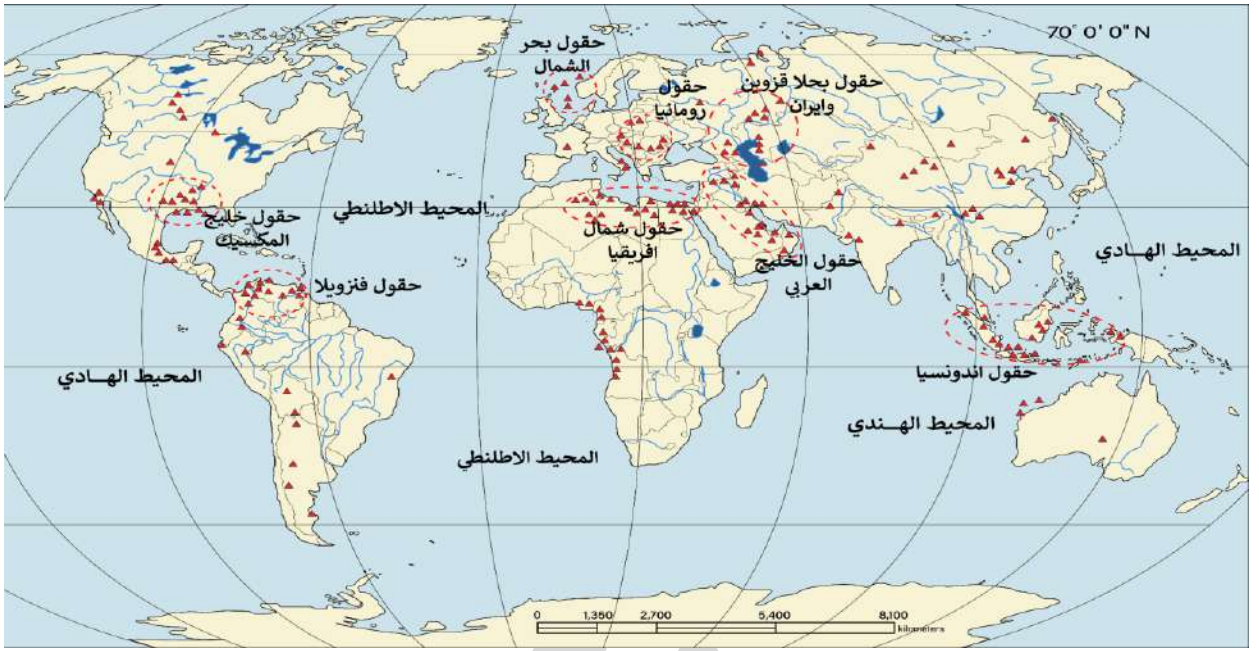
حقول جنوب شرق استراليا المنتجة للقمح تمثلها على الخريطة الدائرة التي تحمل الرقم **4**

حقول جنوب شرق البرازيل المنتجة للقمح تمثلها على الخريطة الدائرة التي تحمل الرقم **1**

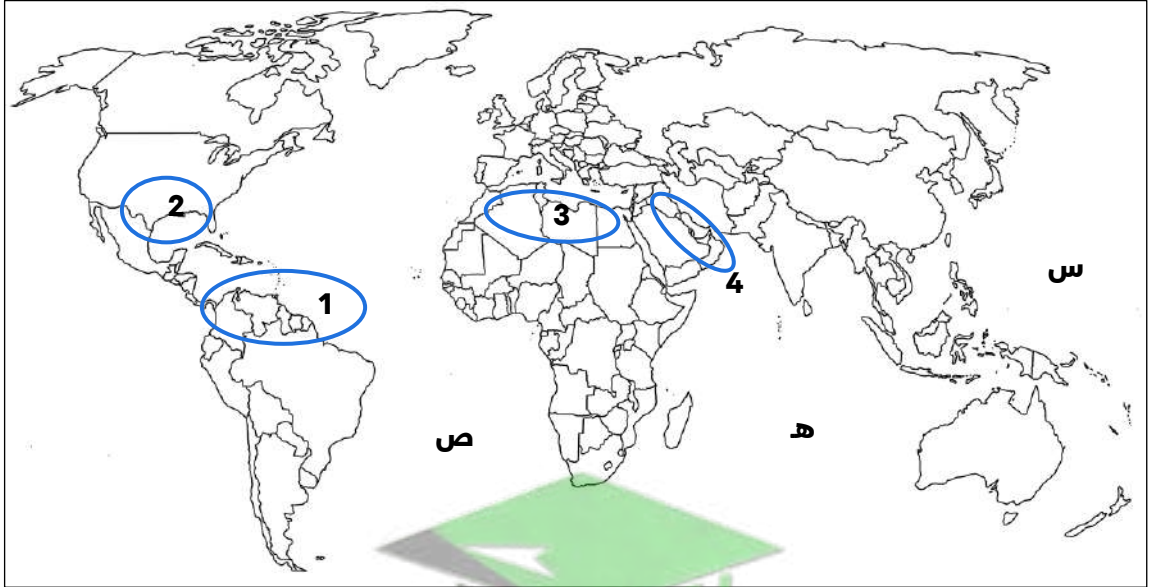
حقول جنوب أفريقيا المنتجة للقمح تمثلها على الخريطة الدائرة التي تحمل الرقم **3**

حقول وسط الألبلاش المنتجة للقمح تمثلها على الخريطة الدائرة التي تحمل الرقم **2**

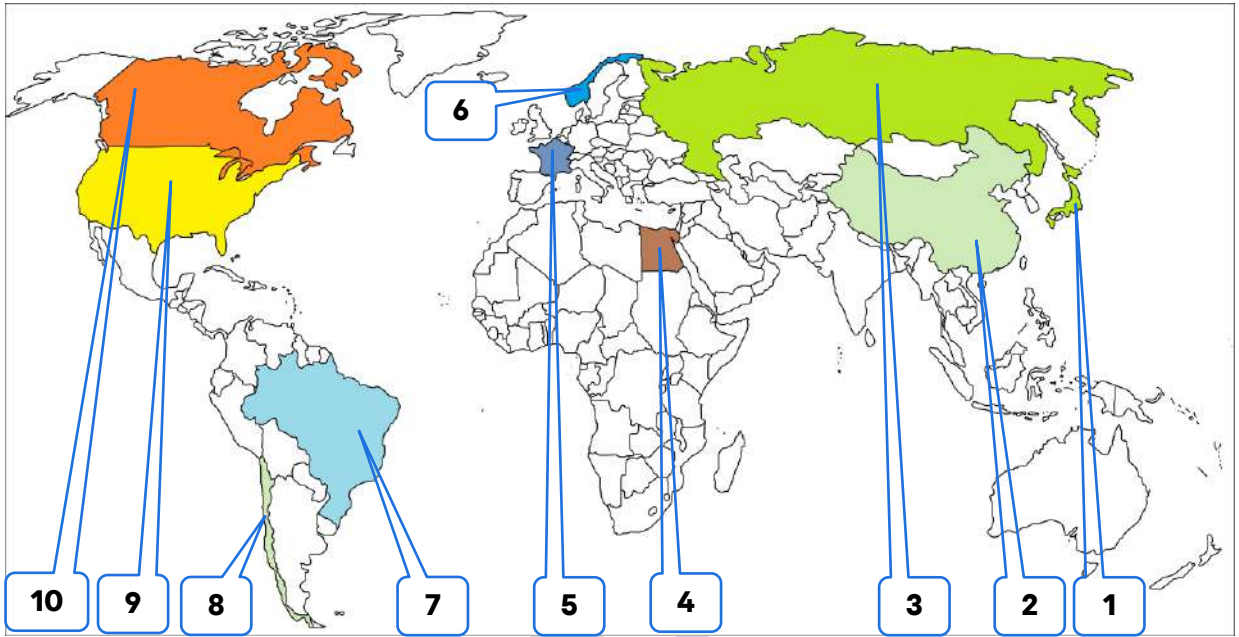
المحيط الهادي يحمل على الخريطة الحرف **س**



### لادظ خریطة العالم ثم اأب عما یلیها من أسئلة



- 4  حقول الخلیج العربى المنتجة للبتروى تمثلها على الخریطة الدائرة التى تحمل الرقم
- 1  حقول فنزویلا المنتجة للبتروى تمثلها على الخریطة الدائرة التى تحمل الرقم
- 3  حقول شمال أفريقيا المنتجة للبتروى تمثلها على الخریطة الدائرة التى تحمل الرقم
- 2  حقول خلیج المكسیك المنتجة للبتروى تمثلها على الخریطة الدائرة التى تحمل الرقم
- هـ  المحیط الهندى یحمل على الخریطة الحرف
- ص  المحیط الأطلنطى یحمل على الخریطة الحرف
- س  المحیط الهادى یحمل على الخریطة الحرف



- الدولة الأولى عالمياً في إنتاج الفحم تحمل الرقم **2** **الصين**
- الدولة الأولى عالمياً في احتياطي الفحم تحمل الرقم **3** **روسيا الاتحادية**
- الدولة الأولى عالمياً في احتياطي الغاز الطبيعي تحمل الرقم **3**
- الدولة التي أقامت أول محطة لتوليد الكهرباء بالطاقة النووية عام 1954م تحمل الرقم **3**
- الدولة التي حدث فيها حادثة مفاعل تشرنوبل تحمل الرقم **3**
- الدولة التي حفر فيها أول بئر للغاز الطبيعي في العالم تحمل الرقم **9** **الولايات المتحدة الأمريكية**
- أول دولة استخدمت الطاقة النووية كأسلحة دمار شامل في الحرب العالمية الثانية تحمل الرقم تحمل الرقم **9**
- الدولة التي حفر فيها أول بئر للغاز الطبيعي في العالم تحمل الرقم **9**
- أكثر دول العالم استغلالاً للطاقة الريحية تحمل الرقم **9**
- الدولة التي تستغل طاقة الكتلة الحيوية في توليد 3% من جملة الطاقة المنتجة بها تحمل الرقم **9**
- أول دولة استطاعت توليد الطاقة الكهرومائية باستخدام حرارة مياه المحيطات تحمل الرقم **9**
- الدولة التي تحتل المرتبة الأولى عالمياً في استغلال الطاقة الكهرومائية تحمل الرقم **9**
- الدولة التي تستخدم الايثانول (الكحول الإيثيلي) كوقود للسيارات تحمل الرقم **7** **البرازيل**
- أول دولة استخدمت الطاقة الشمسية في تحلية مياه البحر عام 1892م تحمل الرقم **8** **شيلي**
- أول دولة أقامت محطة لتوليد الكهرباء من مياه المد عام 1966م تحمل الرقم **5** **فرنسا**
- الدولة التي نجحت سنة 1985م في بناء محطتي توليد الكهرباء من طاقة الأمواج تحمل الرقم **6** **النرويج**
- الدولة التي نجحت في بناء محطات مماثلة للنرويج لتوليد الكهرباء من حركة الأمواج تحمل الرقم **1** **اليابان**
- الدولة التي تحتل المرتبة الثانية عالمياً في استغلال الطاقة الكهرومائية تحمل الرقم **10** **كندا**
- الدولة التي يوجد فيها السد العالي تحمل الرقم **4** **مصر**
- الدولة الأكثر استغلالاً للطاقة الريحية تحمل الرقم **4**