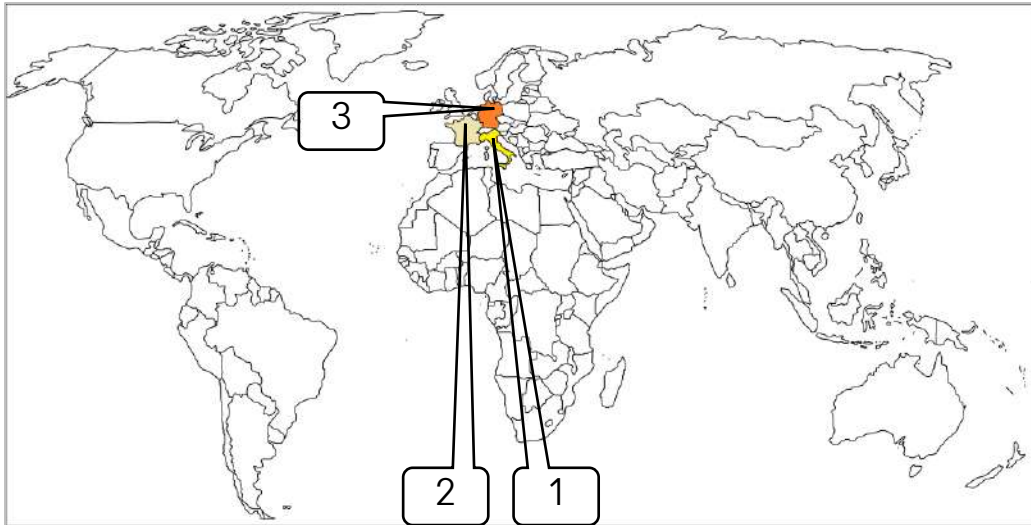
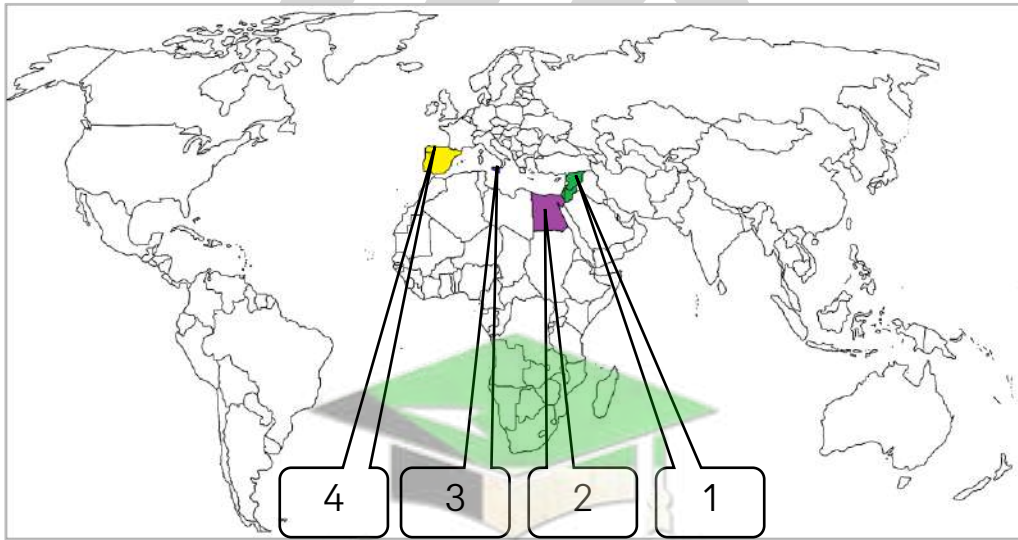


أهم الخرائط في الفصل الأول



- 1
- 3
- 2
- 1

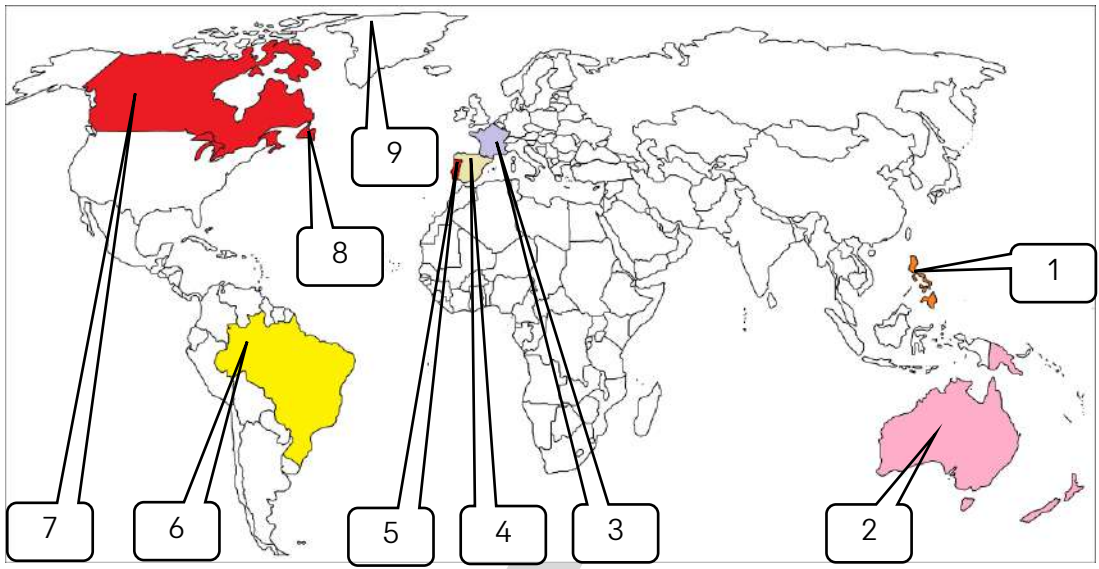
- الدولة التي انطلقت منها النهضة الأوروبية يمثلها الرقم
- الدولة التي ينتمي إليها المخترع حنا جوتنبرج يمثلها الرقم
- المدينة التي يوجد بها متحف اللوفر يمثلها الرقم
- الدولة التي ينتمي إليها نيقولا ماكيافيلي يمثلها الرقم



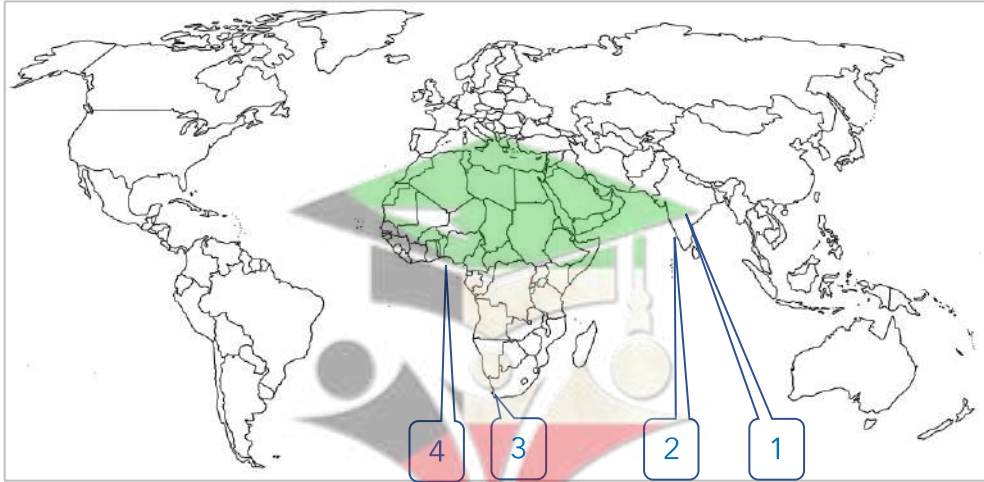
- 2
- 1
- 3
- 4

- مركز مصر أحد مراكز انتقال الحضارة الإسلامية إلى أوروبا يمثلها الرقم
- مركز بلاد الشام أحد مراكز انتقال الحضارة الإسلامية إلى أوروبا يمثلها الرقم
- مركز صقلية أحد مراكز انتقال الحضارة الإسلامية إلى أوروبا يمثلها الرقم
- مركز الأندلس أحد مراكز انتقال الحضارة الإسلامية إلى أوروبا يمثلها الرقم

صفوة معلم الكويت

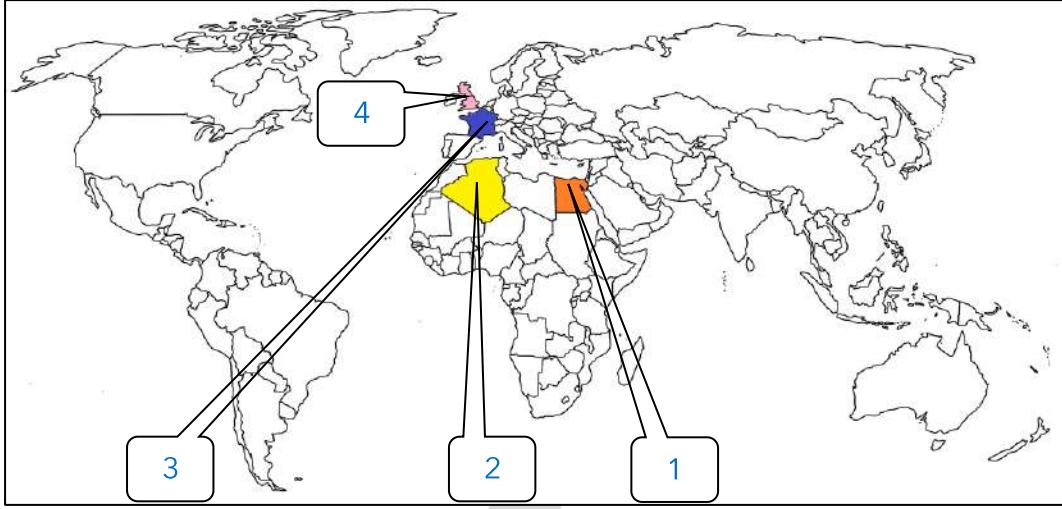


- الدولة الأولى في مجال حركة الكشوف الجغرافية يمثلها الرقم 5 البرتغال
- الدولة الثانية في مجال حركة الكشوف الجغرافية وتنتمي إليها الملكة إيزابيلا يمثلها الرقم 4 اسبانيا
- الدولة التي اكتشفها المكتشف الإيطالي أمريكو فسبوتشي يمثلها الرقم 6 البرازيل
- الدولة التي قتل فيها ماجلان يمثلها الرقم 1 الفلبين
- دولة يرجع إليها الفضل في اكتشاف كندا يمثلها الرقم 3 فرنسا
- الدولة التي اكتشفها جاك كارتية يمثلها الرقم 7 كندا
- قارة اكتشفها جيمس كوك يمثلها الرقم 2 استراليا
- جزيرة اكتشفها الملاح جون كابوت يمثلها الرقم 8 نيوفوندلند
- جزيرة اكتشفها الملاح مارتن فروبشير يمثلها الرقم 9 جرينلند



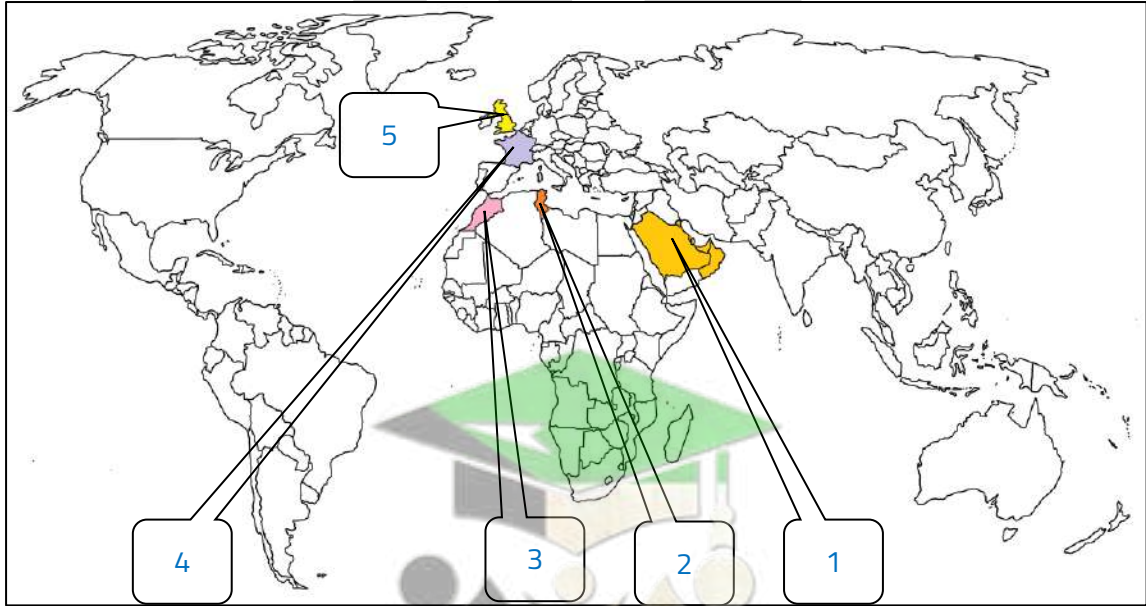
- المنطقة التي توقفت عندها رحلة الأمير هنري الملاح تحمل على الخريطة الرقم 4
- الدولة التي تعتبر مركز التوابل تحمل على الخريطة الرقم 1
- كلكتا التي وصلت إليها رحلة فاسكو دي جاما تحمل على الخريطة الرقم 2
- منطقة أطلق عليها رأس العواصف تحمل على الخريطة الرقم 3
- ميناء سانت هيلينا يحمل على الخريطة الرقم 3

لاحظ خريطة العالم ثم نفذ المطلوب منك :



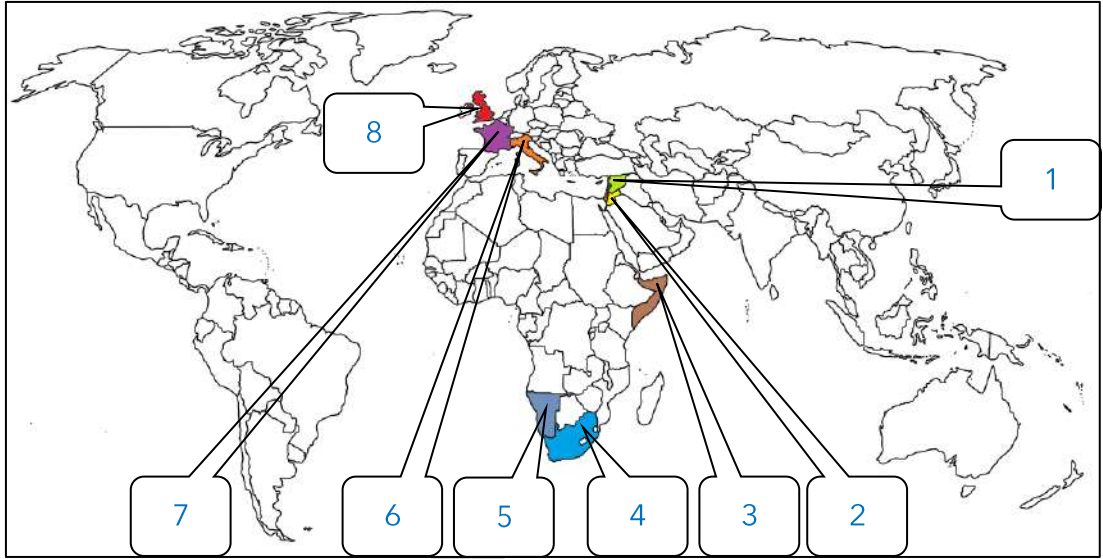
- 3 الدولة التي قامت بغزو الجزائر عام 1830 م تحمل على الخريطة الرقم
- 1 الدولة التي تعرضت للاحتلال بالقوة العسكرية عام 1882 م تحمل على الخريطة الرقم
- 4 الدولة التي قامت باحتلال مصر عام 1882 م تحمل على الخريطة الرقم
- 2 الدولة العربية التي تعرضت للاحتلال بالقوة العسكرية عام 1830 م تحمل على الخريطة الرقم

لاحظ خريطة العالم ثم نفذ المطلوب منك :



- 5 الدولة التي قامت بحماية منطقة الخليج العربي تحمل على الخريطة الرقم
- 4 الدولة التي قامت بحماية كل من تونس ومراكش تحمل على الخريطة الرقم
- 1 المنطقة التي قامت إنجلترا بحمايتها تحمل على الخريطة الرقم
- 3 مراكش خضعت للحماية الفرنسية تحمل على الخريطة الرقم
- 2 تونس خضعت للحماية الفرنسية تحمل على الخريطة الرقم

لاحظ خريطة العالم جيداً ثم نفذ المطلوب منك :

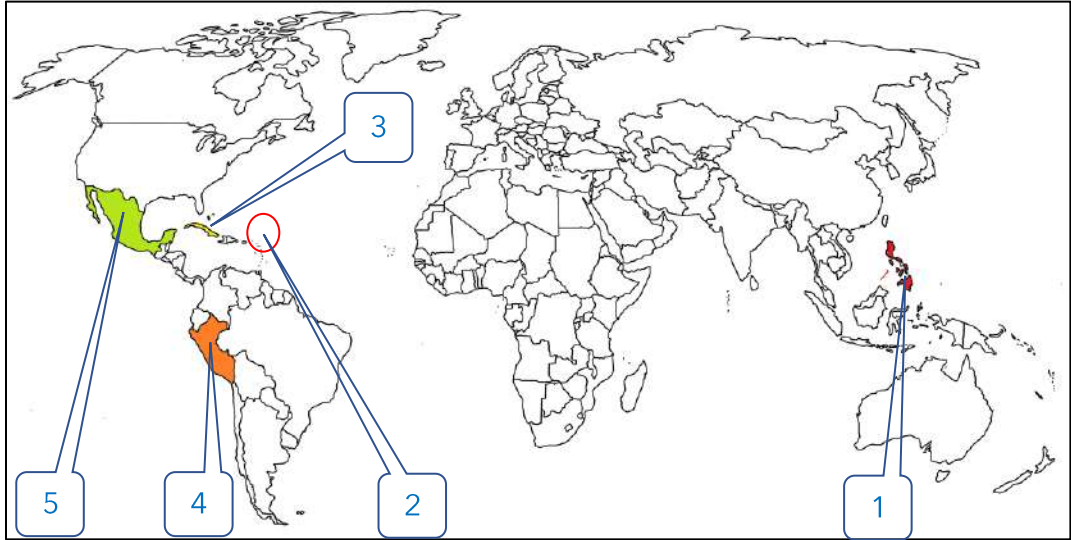


- 8 الدولة التي انتدبت على فلسطين والأردن بعد الحرب العالمية الأولى تحمل على الخريطة الرقم
- 3 دولة وضعت تحت الوصاية الإيطالية تحمل على الخريطة الرقم
- 1 الدولة التي وضعت تحت الانتداب الفرنسي تحمل على الخريطة الرقم
- 5 إقليم وقع تحت وصاية اتحاد جنوب أفريقيا يحمل على الخريطة الرقم
- 6 الدولة التي قامت بالوصاية على الصومال تحمل على الخريطة الرقم
- 4 الدولة التي قامت بالوصاية على إقليم ناميبيا تحمل على الخريطة الرقم
- 2 دولة وقعت تحت الانتداب البريطاني تحمل على الخريطة الرقم
- 7 الدولة التي انتدبت على سوريا عقب الحرب العالمية الأولى تحمل على الخريطة الرقم



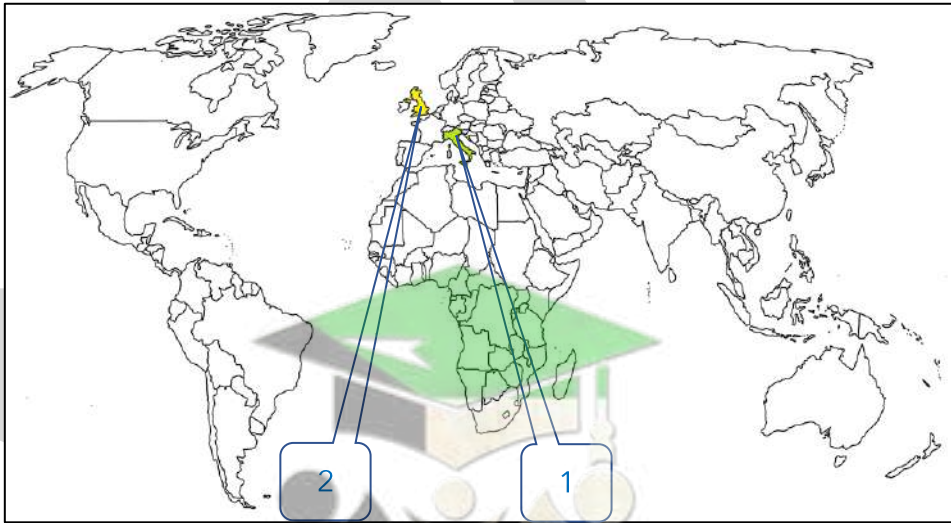
صفوة معلمي الكويت

لاحظ خريطة العالم ثم نفذ المطلوب منك



- 3 الدولة التي يوجد بها مقر الاستعمار الإسباني تحمل على الخريطة الرقم
- 1 دولة سميت نسبة إلى ابن ملك إسبانيا تحمل على الخريطة الرقم
- 2 جزر اهتم فيها الإسبان بالبحث عن الذهب والفضة تحمل على الخريطة الرقم
- 4 الدولة التي يوجد بها حضارة الأنكا تحمل على الخريطة الرقم
- 5 الدولة التي يوجد بها حضارتا الأزتك والماباس تحمل على الخريطة الرقم

لاحظ الخريطة التالية ثم نفذ المطلوب منك



- 2 القاعدة التي انطلقت منها الثورة الصناعية تحمل على الخريطة الرقم
- 2 أولى دول أوروبا في مجال الثورة الصناعية
- 1 في مقدمة حركة النهضة الأوروبية ونقلت أوروبا من ظلمات العصور الوسطى إلى الأفاق المضيئة للعصور الحديثة تحمل على الخريطة الرقم

صفوة معلمي الكويت