

الاختبار التقويهي الثالث

للمصف الأول

الفصل الدراسي الأول 2023 / 2024

بنود الاختبار	توزيع درجات الاختبار	درجة الاختبار	مدة الاختبار	موعد الاختبار	
(١-٤)	مقال	موضوعي	٥ درجات	لا تتجاوز ١٥ دقيقة من زمن الاختبار	الأسبوع ٩
(٢-٤)					
(٣-٤)	٣	٢			
(٤-٤)					
(٥-٤)					

إشراف الوجيه الفني : أ.هما العنزي

أختبر نفسك

أضفط

السؤال الأول :

استخدم خط الأعداد



ب) اجمع

$$\boxed{} = 2 + 9$$

أ) اطرح



$$\boxed{} = 1 - 4$$

السؤال الثاني :

صل بالعبارة المناسبة

$$7 = 1 - 8$$

$$8 = 2 + 6$$





نموذج ٢ اختبار تقويمي (٣)
في مادة الرياضيات للصف الأول
الفصل الدراسي الأول للعام الدراسي ٢٠٢٣ / ٢٠٢٤ م




وزارة التربية
الإدارة العامة للتعليم الخاص
التوجيه الفني للرياضيات

السؤال الأول :

أ أكمل

ب



يكونان

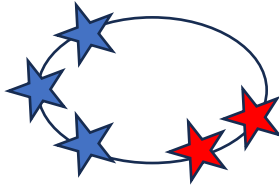
و

يكونان

و

السؤال الثاني : حوّل الإجابة الصحيحة

عبارة الجمع المناسبة هي



$$5 = 2 + 3$$

$$8 = 2 + 6$$

$$5 = 1 + 4$$



٢

٤


٣

عدد العصافير المتبقية

انتهت الأسئلة ،،،

السؤال الأول :

استخدم خط الأعداد



اجمع (ب)

$$11 = 2 + 9$$

اطرح (أ)



$$3 = 1 - 4$$

السؤال الثاني :

صل بالعبرة المناسبة

$$7 = 1 - 8$$

$$8 = 2 + 6$$



السؤال الأول :

أ أكمل




٣

١

يكونان

٤

ب



٥

و

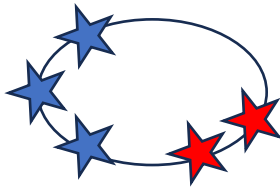
٢

يكونان

٧

السؤال الثاني : حوّل الإجابة الصحيحة

عبارة الجمع المناسبة هي



$$٥ = ٢ + ٣$$

$$٨ = ٢ + ٦$$

$$٥ = ١ + ٤$$

عدد العصافير المتبقية



٢

٤

٣

انتهت الأسئلة ،،،