

الاختبار التقويهي الأول

للمصف الثاني

الفصل الدراسي الأول 2023 / 2024

بنود الاختبار	توزيع درجات الاختبار		درجة الاختبار	مدة الاختبار	موعد الاختبار
الوحدة الأولى	مقال	موضوعي	٥ درجات	لا تتجاوز ١٥ دقيقة من زمن الاختبار	الأسبوع ٣
	٣	٢			








إشراف الھوجه الفني : أ. أسماء الفيلكاوي

اختبر نفسك

اضبط



السؤال الأول : استخدم التمثيل البياني بالصور للإجابة عن الأسئلة .

الفواكة المفضلة	
	 التفاح
	 الموز
	 الفراولة
كل  يمثل ١ متعلم	

١ (كم عدد المتعلمين الذين يفضلون فاكهة الفراولة ؟)

٢ (أي الفواكة أكثر تفضيلاً ؟)

٣ (أي الفواكة أقل تفضيلاً ؟)

السؤال الثاني : حوِّط الإجابة الصحيحة :

أ (حوِّط الشئ بين










ب (حوِّط النجوم .



انتهت الأسئلة،،،

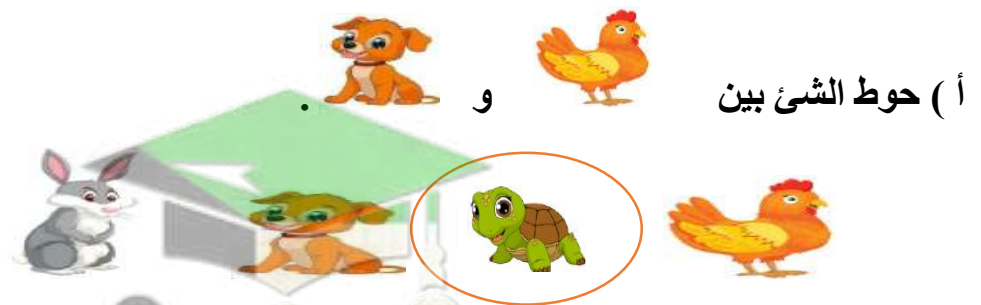
السؤال الأول : استخدم التمثيل البياني بالصور للإجابة عن الأسئلة .

الفواكة المفضلة	
	 التفاح
	 الموز
	 الفراولة

كل  يمثل ١ متعلم

- ١ (كم عدد المتعلمين الذين يفضلون فاكهة الفراولة ؟) _____ هـ
- ٢ (أي الفواكهة أكثر تفضيلاً ؟) التفاح
- ٣ (أي الفواكهة أقل تفضيلاً ؟) الموز

السؤال الثاني : حوط الإجابة الصحيحة :




ب (حوط النجوم .)



انتهت الأسئلة،،،

السؤال الأول :


(أ) أكمل النمط .



(ب) أكمل النمط .



السؤال الثاني :




انتهت الأسئلة،،،،

صفوة معلمي الكلوب

السؤال الأول :


(أ) أكمل النمط .



(ب) أكمل النمط .



السؤال الثاني :



انتهت الأسئلة،،،

صفوة مكي الكوييت