

# الدراسات الاجتماعية الكويت ودول الخليج العربية

للمنصف السادس

٦

تأليف

أ/ عبدالله الجيران  
أ/ سارة القنور  
أ/ هاجر خلاف  
أ/ عائشة الأنصاري

الطبعة الثانية

١٤٤٣ هـ

٢٠٢١ - ٢٠٢٢ م

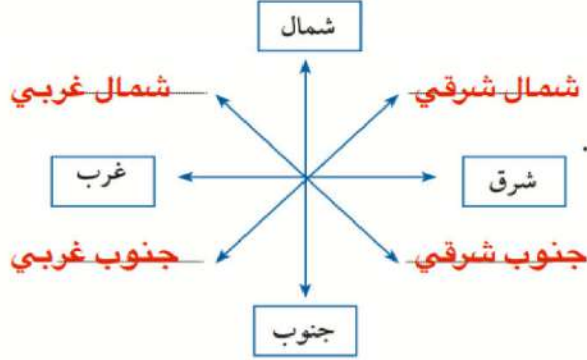
حقوق التأليف والطبع والنشر محفوظة لوزارة التربية - قطاع البحوث التربوية والمناهج  
إدارة تطوير المناهج

مفتوحة  
معلنة  
كويت



# الوحدة الأولى

الخصائص الطبيعية والبشرية لمنطقة الخليج العربية



## نشاط ٢

صفحة  
22

أكمل تحديد الجهات الفرعية على الشكل .

## نشاط ٣

ظل المربع الذي يقابل العبارة الصحيحة فيما يلي : شكل (٣) يوضح الجهات الرئيسة والفرعية

تقع منطقة الخليج العربية في موقع متوسط من العالم ، وقد ساعد موقعها على اتساع نشاط سكانها التجاري والتواصل الحضاري والثقافي .	<input checked="" type="checkbox"/>
عدد خطوط الطول ٢٨٠ خطاً	<input type="checkbox"/>
الموقع النسبي هو الموقع بالنسبة للماء واليابس .	<input checked="" type="checkbox"/>

## نشاط ٤

\* اختر الإجابة الصحيحة من بين البدائل التالية :-

- ١) تقع منطقة الخليج العربية بالنسبة لقارة آسيا في الجهة :  
( الشمالية الغربية - الجنوبية الغربية - الشمالية الشرقية - الجنوبية الشرقية ) .
- ٢) الموقع بالنسبة لخطوط الطول ودوائر العرض هو : (الموقع النسبي - الموقع المكاني - الموقع الفلكي - الموقع التجاري) .
- ٣) تقع منطقة الخليج العربية بالنسبة لمسطح الخليج العربي بالجهة :  
( الجنوبية - الشرقية - الغربية - الشمالية )

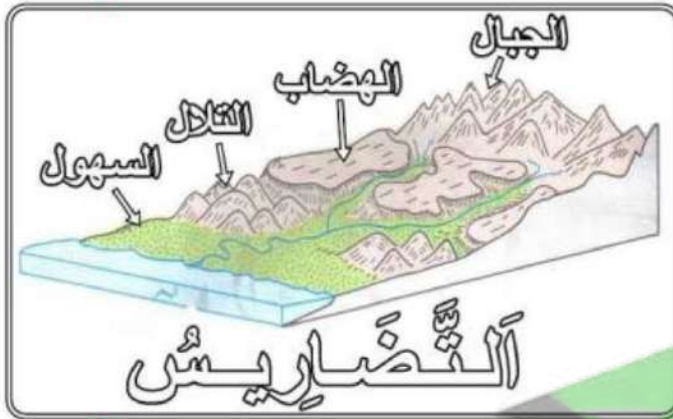


استعن بخريطة منطقة الخليج العربية ثم أكمل الجدول التالي :

السهول	الهضاب	المرتفعات (الجبال - التلال)
تهامة الإحساء	هضبة نجد	الجبل الأخضر / جبال عسير / جبال الحجاز / جبال اليمن / تلال جبال الزور

نشاط ٢

أكمل الرسم التوضيحي للمظاهر التضاريسية التالية :



هضبة

وادي

جبل

سهل

صفوة علمي الكويت



صفحة  
25

## نشاط ١

استعن بالفقرة السابقة ثم اكتب عن : أنواع الرياح في دول الخليج العربية .

- ١ - الرياح الشرقية .....
- ٢ - .. الرياح الجنوبية الشرقية (الكوس) .....
- ٣ - .. الزوابع (العواصف) الترابية .....

صفحة  
27

## نشاط ١

١- علل توافر النباتات المُعمَّرة طول العام في دول الخليج العربية .

لأنها تتحمل الجفاف وارتفاع درجة الحرارة، فجذورها طويلة وأوراقها قليلة وأشواكها كثيرة.

## نشاط ٢

ألصق صورة لنبات حوْلي وصورة لنبات مُعمَّر مع كتابة أسمائها وفق الجدول التالي :

النباتات الحولية: نباتات الربلة الحويدان مرار الخبيزة	النباتات المعمرة: العرفج الرمث القندي العوسج
اسم النبات : .....	اسم النبات : .....

## نشاط

اقرأ الفقرة الأولى ثم أعط أمثلة لما تحته خط .

- ١ - لفقر البيئة وقلة الموارد الطبيعية.
- ٢ - لأنها تتحمل الجفاف وارتفاع درجات الحرارة.



- اذكر اسماء بعض المنتجات الزراعية في منطقة الخليج العربية .

..... **فراولة/ خس/ طماطم/ خيار/ ملفوف** .....

.....

## نشاط

بعد مشاهدتك للمهن القديمة التالية :-

\* اكتب الاسم المناسب لكل مما يلي : ( حياكة السدو - صناعة الخوص - خياطة البشوت ) أسفل الصورة .



صناعة البشوت

صناعة السدو

صناعة الخوص

إلى أجدادنا العظماء

نعلم كيف أن المهن كانت شاقة رغم  
بساطتها، ونعلم كم أبدعتم فيها  
وأصبحت تراثنا الذي نعتز ونفتخر  
به، ونعدكم بالمحافظة عليه وتوارثه  
عبر الأجيال.

\* اكتب رسالة

معبراً فيها عن

تقديرك للتراث

الخليجي اليدوي .

صفحة  
30





ألصق صوراً أو عينات للبضائع المستوردة بالجدول التالي :-

			
شاي	توابل	سكر	أرز

استعن بالخريطة السابقة ثم اكتب أسماء المدن التي وصل إليها التجار قديماً .

أفريقيا

مقديشو/ ممباسا/ زنجبار

شبه القارة الهندية

بومباي/ مدراس/ كلكتا/ كولومبو



صفوة معلمي الكويت



هيا بنا نلعب (( من أنا ))؟؟

عرّف المفاهيم الواردة بالدوائر :

قلّاف

صانع السفينة

طواش

تاجر اللؤلؤ

القرقور

أداة لصيد السمك قديماً

التبّاب

الصبّي الذي يعمل على ظهر السفينة لاكتساب الخبرة.

الكويتية

school-kw.com



صفوة معلمي الكويت





## الخصائص الطبيعية والبشرية لمنطقة الخليج العربية

السؤال الأول : أكمل العبارات التالية بما يناسبها مما درست :-

١- تتميز الأمطار في دول الخليج العربية بأنها قليلة وغير منتظمة وتسقط في فصل

..... **الشتاء** .....

٢- الرياح الجنوبية الشرقية تسمى ..... **الكوس** .....

٣- بداية موسم الغوص على اللؤلؤ في شهر ..... **يونيو** .....

٤- نهاية موسم الغوص على اللؤلؤ في شهر ..... **سبتمبر** .....

٥- الدولة التي يوجد بها الجبل الأخضر هي ..... **عمان** .....

٦- الدولة التي توجد فيها هضبة نجد هي ..... **المملكة العربية السعودية** .....

السؤال الثاني : اختر الإجابة الصحيحة للعبارات التالية من بين الخيارات التي

تلي كل منها وضع خطأ تحتها :-

١- عدد درجات العرض التي تشغلها شبه الجزيرة العربية شمال خط الاستواء .

( ١٤ درجة - ١٥ درجة - **١٦ درجة** - ١٧ درجة )

٢- تقع منطقة الخليج العربية بالنسبة لقارة آسيا في الجهة :

( الشمالية الغربية - **الجنوبية الغربية** - الشمالية الشرقية - الجنوبية الشرقية ) .

٣- الحرفة التي تعتمد على ما ينمو من نباتات وحشائش بعد سقوط الأمطار هي .

( **الرعي** - الزراعة - الحرف اليدوية - التجارة )

٤- من أشهر الحرف التي مارسها أبناء دول الخليج العربية قديماً .

( صيد الأسماك - **الغوص على اللؤلؤ** - صناعة السفن - التجارة البحرية )



٥- الحرفة التي تعتبر مكملة وأساسية للأنشطة البحرية هي .

( صيد الأسماك - الغوص على اللؤلؤ - صناعة السفن - التجارة البحرية )

السؤال الثالث : صنف النباتات الآتية حسب مكانها الصحيح في الجدول التالي :

( الخبيزة - الصبار - الحويذان - العرفج - الشندا - العنصيل - الرمث )

النباتات المُعَمَّر	النباتات الحولية
الصبار العرفج الشندا الرمث	الخبيزة الحويذان العنصيل

السؤال الرابع : المقارنات :

(أ) قارن بين خطوط الطول ودوائر العرض حسب الجدول التالي :

وجه المقارنة	خطوط الطول	دوائر العرض
التعريف	خطوط وهمية ترسم على الكرة الأرضية وتقسّمها إلى قسمين: شرقي وغربي.	خطوط وهمية ترسم على الكرة الأرضية وتقسّمها إلى قسمين: شمالي وجنوبي.
الخط الرئيسي	خط طول جرينتش.	الاستواء.
العدد	٣٦٠ خط	١٨٠ دائرة





## ( ب ) قارن بين فصل الصيف وفصل الشتاء في دول الخليج العربية -

التالي :

صفحة  
39

وجه المقارنة	فصل الصيف	فصل الشتاء
درجة الحرارة	أكثر من ٤٠ درجة مئوية	أقل من ٤ درجات
طول الفصل	فصل طويل ممتد لمعظم الشهور	فصل قصير جداً
حالة الجو	حار. جاف. ورطب. خاصة في المناطق الساحلية.	يمتاز بالدفء قليلاً.

السؤال الخامس : من خلال دراستك لموضوع مظاهر السطح لشبه الجزيرة العربية (استعن بخريطة شكل « ٤ » ) :

اكتب أسماء التضاريس (الجبال - التلال - الهضاب - السهول) في المكان الصحيح على الخريطة التالية :

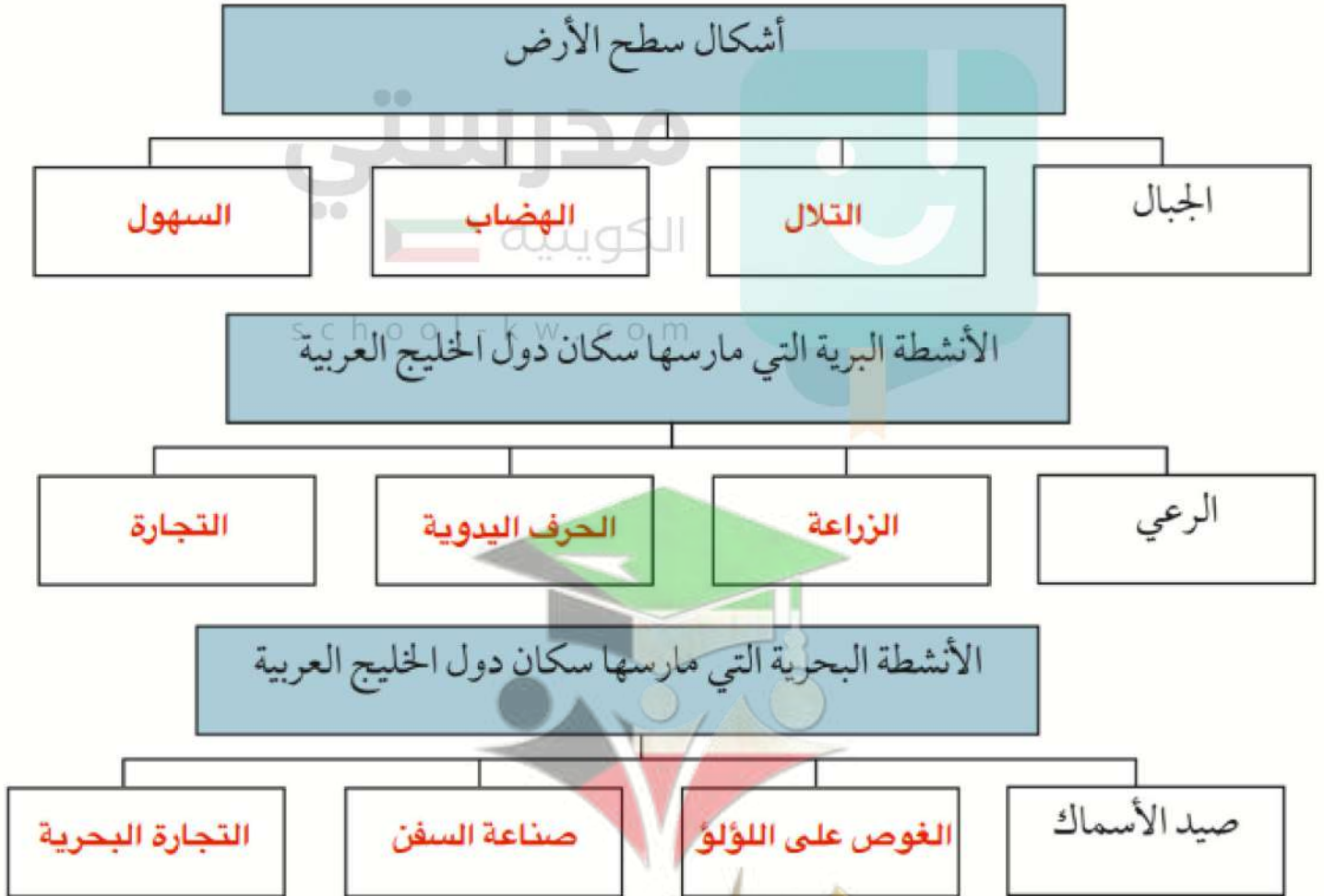




## السؤال السادس : فرق بين كل مما يلي :

- ١-النباتات المُعَمَّر - النباتات الحوْلية . الحولية:نباتات يرتبط وجودها بموسم سقوط المطر. . . . .
- .النبات المعمر:نباتات متوفرة طول العام لأنها تتحمل الجفاف وارتفاع درجات الحرارة. . . . .
- ٢-الموقع الفلكي - الموقع النسبي . الموقع النسبي هو موقع الدولة بالنسبة لليابس والماء. . . . .
- الموقع الفلكي هو موقع الدولة بالنسبة لخطوط الطول ودوائر العرض. . . . .
- ٣-الدشة - القفال . . . . .
- الدشة: بداية موسم الغوص وهو شهر يونيو. . . . .
- القفال: نهاية موسم الغوص وهو شهر سبتمبر. . . . .

## السؤال السابع : أكمل المخططات السهمية التالية :



# تم تحميل الملف من موقع مدرستي الكويتية

مدرستي

الكويتية

school-kw.com



ننصح بأفضل مذكرة  
مذكرات النجاح

حمل تطبيق مدرستي الكويتية



Download on the  
App Store



GET IN ON  
Google Play



## السؤال الثامن : علل لما يلي ( اذكر السبب ) :

١- أهمية الموقع الجغرافي لمنطقة الخليج العربية .

... كونها تقع في وسط العالم، فإنها تتحكم بأهم طرق التجارة العالمية.

٢- فقر الحياة النباتية والحيوانية بصفة عامة في دولة الخليج العربية .

... نظراً لقلة الأمطار.

٣- توفر النباتات المعمّر طول العام في دول الخليج العربية .

لأنها تتحمل الجفاف وارتفاع درجات الحرارة بسبب طول جذورها وقلة أوراقها وكثرة أشواكها وقدرتها العالية على تخزين المياه..

٤- تحمل النباتات المعمّر الجفاف وارتفاع درجة الحرارة .

بسبب طول جذورها وقلة أوراقها وكثرة أشواكها وقدرتها العالية على تخزين المياه.

٥- كانت حياة السكان في البيئة الصحراوية لدول الخليج العربية قاسية وخشنة .

لفقر البيئة وقلة الموارد فيها خاصة المياه مما يترتب عليه فقر النباتات والحياة الحيوانية.

٦- تشابه الأعمال التي قام بها أبناء دول الخليج العربية قديماً .

لتوحد الظروف الجغرافية البيئية والمناخية.

٧- ممارسة سكان دول الخليج العربية الأنشطة التجارية وتميزهم فيها

بسبب موقعها المميز الذي يطل على مسطحات مائية مهمة (الخليج العربي/ بحر العرب/ البحر الأحمر).

٨- كانت مهنة الغوص على اللؤلؤ من أشهر الحرف التي مارسها أبناء دول الخليج العربية قديماً .

بسبب اعتماد الاقتصاد عليه اعتماداً رئيسياً.

٩- انصراف سكان دول الخليج العربية عن حرفة الغوص على اللؤلؤ .

بسبب ظهور اللؤلؤ الصناعي واكتشاف النفط، ولما تحمله هذه الحرفة من مشقة وتعب.

١٠- سفينة البغلة هي أفضل أنواع السفن المستعملة في رحلة السفر .

لمتانتها وقدرتها على نقل الحمولة الكبيرة، وقلة تعرضها للمخاطر البحرية.

معلمي الكويت  
صفوة



# الوحدة الثانية

## دول الخليج العربية تتطور حضارياً وسياسياً

صفحة  
46

### نشاط ١

استخرج من الفقرتين :-

- ١- حقيقة ... القرن. ١٠٠٠ عام .....
- ٢- رأي ..... منطقة الخليج ذات حضارة زاهرة .....
- ٣- تعريفاً للحضارة .. كل تطور وتقدم وورقي. يطرأ على المجتمع في جميع نواحي الحياة.

### نشاط ٢

١ - قم بعملية حسابية لمعرفة عدد السنوات التي امتدت خلالها حضارة منطقة الخليج العربية .

..... ٤٠ قرن . × ١٠٠ عام = ٤٠٠٠ عام .....

٢ - نستنتج أن .. الحضارات القديمة في دول الخليج العربي امتدت لمدة ٤٠٠٠ سنة ق. م

.....  
.....

صفحة  
48

### نشاط ١

- ماذا كان يسمى الخليج العربي في العصور القديمة ؟ البحر الأدنى أو بحر شروق الشمس



١- اكتب بيانات كل حضارة .

٢- ألصق صورًا لها .



اسم الدولة الخليجية . . . . **الكويت** . . .

اسم الحضارة . . **الحضارة الهلينستية**



اسم الدولة الخليجية . **سلطنة عمان** .

اسم الحضارة . . . **حضارة مجان** . . .



اسم الدولة الخليجية . **مملكة البحرين** .

اسم الحضارة . . . **حضارة بلون** . . .





رتب الحضارات التي ظهرت في منطقة الخليج العربية حسب موقعها الجغرافي على الخريطة من الشمال إلى الجنوب



ابحث مع خالد

عن حضارات أخرى قديمة  
ظهرت في دول الخليج  
العربية وألصق صوراً لها



اتصلت حضارات شبه الجزيرة العربية بالعديد من الحضارات القديمة التي كانت سائدة في العراق وإيران ومصر وشرق إفريقيا وآسيا الصغرى، حيث نتج عن ذلك تأثيرات حضارية متبادلة، ومن أهم المناطق الأثرية في المملكة العربية السعودية مدائن صالح والأخدود وقرية الفاو والأحقاف وتيماء ودومة الجندل، فمعظم تلك المناطق كانت ممرًا لطرق التجارة التي تعبر شبه الجزيرة العربية.

المصدر: سلسلة الحضارات التاريخية، حضارات شبه الجزيرة العربية

صفوة معلمي الكويت



ضع أمام كل عامل من العوامل التالية عنواناً مناسباً :



شكل (١٣) خريطة توضح موقع دول الخليج العربية بالنسبة للعالم

وقد ساعد موقع الخليج العربي المتميز على إنشاء علاقات تجارية واسعة مع المناطق المجاورة مما عاد عليه بمزايا اقتصادية عديدة ، كما أن سهولة اتصال سكانه مع المناطق أدى إلى انطلاق الهجرات وتأسيس أقدم الحضارات .

الموقع المميز



شكل (١٤) يوضح بئرًا لمياه الشرب في إحدى حضارات دول الخليج العربية

الكويتية

توفر آبار مياه الشرب الناتجة عن سقوط الأمطار وحفر آبار قليلة العمق ( القليب ) . \*

الموارد المائية

تمتاز بعض مناطق الخليج العربية بملائمة بيئتها الطبيعية للاستقرار وقيام الحضارات .

العوامل الطبيعية

- أ - نستنتج أن من العوامل التي أثرت في حضارة منطقة الخليج العربي: عوامل طبيعية، الموقع المميز، الموارد المائية
- ب - بالتعاون مع معلمك استخرج تعميماً سكنت منطقة الخليج العربي حضارات عدة.





## لاحظ الصور التالية وفكر :



دار الآثار الإسلامية في الكويت



متحف الشارقة للحضارة الإسلامية



متحف دار القرآن في مملكة البحرين

### نشاط ١ // صفحة 53

ما العنصر المشترك بين هذه الصور ؟ ماذا تتوقع أن تحوي من معروضات ؟

..... مظاهر الحضارة الإسلامية/ آثار الحضارة الإسلامية.....

\* نستنتج ..... وجود الحضارة الإسلامية في منطقة الخليج العربي.....

### نشاط ٢ // صفحة 54

ضع علامة (✓) أو علامة (X) أمام العبارات التالية مستعيناً بالفقرة السابقة :

- ١- ظهر الإسلام في القرن العاشر الميلادي الكويتية (X)
- ٢- شارك أبناء منطقة الخليج العربية في نشر الإسلام فقط . (X)
- ٣- لم يتأثر سكان منطقة الخليج العربية بمظاهر الحضارة الإسلامية . (X)
- ٤- ساهم سكان منطقة الخليج العربية في نشر الإسلام في جنوب شرق آسيا . (✓)

### نشاط ٣

استخرج من الفقرة السابقة :-

- ١- حدثاً تاريخياً مهماً دخل سكان شبه الجزيرة العربية الإسلام في القرن السابع ميلادي.
- ٢- نشاطاً اقتصادياً مارسه سكان منطقة الخليج العربية . التجارة.....
- ٣- ما يثبت استمرار اهتمام أبناء منطقة الخليج العربية بالحضارة الإسلامية في الوقت الحالي . وجود المظاهر الحضارية الإسلامية.....
- ٤- عاملاً ساهم في ازدهار مدن الخليج العربية ..... الخليج العربي.....

صفحة ١٧ من الكويت



نشاط ٤ // صفحة 56

صنّف مظاهر الحضارة الإسلامية في الشكل السابق بوضع الرقم المناسب في الجدول التالي :

الصناعة	الفن	العمران
٧-٥-٣-١	٨-٦	٤-٢

نشاط ١ // صفحة 58

أ- استخرج من الفقرة :-

مظهرًا من مظاهر التطور السياسي لدول الخليج العربية . **ظهور وحدات سياسية في الخليج**

ب - سببًا ونتيجةً ورتبها بالجدول التالي :

السبب	النتيجة
قيام موانئ الخليج العربي بأنشطة بحرية مختلفة	جذب الهجرات إلى منطقة الخليج العربية
اكتشاف النفط	بدأت مرحلة جديدة لدول الخليج العربية في تأثيرها على السياسة الدولية



استخرج من الفقرة السابقة حقائق تؤكدها الخريطتان :-



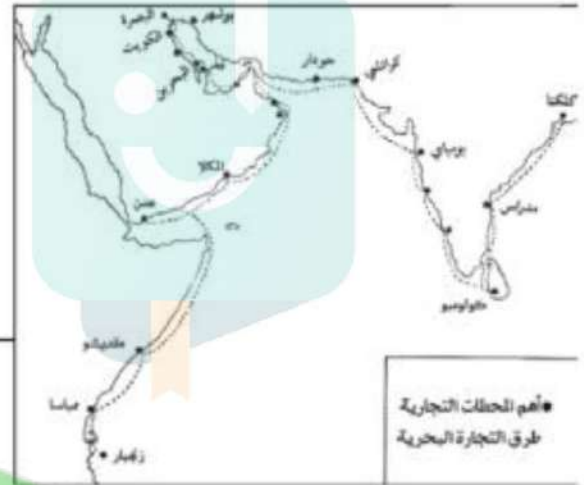
شكل (١٦) خريطة العالم

للخليج العربي موقع جغرافي هام

مدرستي  
الكويتية

school-kw.com

ممكن الخليج العربي سكانه من ممارسة  
الأنشطة البحرية المختلفة خاصة التجارة  
البحرية



شكل (١٧) خريطة توضح أهم المحطات التجارية وطرق  
التجارة البحرية التي مارسها سكان دول الخليج العربية قديماً

صفوة معلمى الكويت



أكمل الجدول المقابل مستعيناً بالفقرة السابقة :-

الاسم	المنطقة التي هاجروا إليها
آل البوسعيد واليعاربة	عمان
العيوب (آل صباح وآل خليفة)	إلى الكويت والبحرين
القواسم	رأس الخيمة

نشاط ٤



حدد على خريطة شبه الجزيرة العربية خط سير هجرة العتوب من منطقة الهدار إلى منطقة الخليج العربية باستخدام الأسهم.

شكل (١٨) خريطة شبه الجزيرة العربية صماء

نشاط ٥

أكمل كتابة أسماء الدول الخليجية في

الشكل التالي :-



معلمي الكويت  
صفوة



\* بعد قراءة الصحيفة التي أعدها متعلمو الصف السادس أجب  
التالية :

صفحة 61

### نشاط ١

عرف الاستعمار هو أن تسيطر دولة قوية على دولة ضعيفة بهدف استغلال مواردها.

### نشاط ٢

موقع مهم

استعمار

اكتب جملة مفيدة مستعيناً بالكلمات التالية :

... هدف الاستعمار هو السيطرة على المواقع المهمة في الدول واستغلال مواردها. ....

### نشاط ٣

١- اكتب حدث تاريخي منافسة استعمارية من دول الخليج العربية منذ القرن الخامس عشر

### نشاط ٤

٢- حدد على المخطط الزمني الفترة الزمنية التي ظهر فيها الحدث :



١٣٠٠ م ١٤٠٠ م ١٥٠٠ م ١٦٠٠ م ١٧٠٠ م ١٨٠٠ م ١٩٠٠ م ٢٠٠٠ م

### نشاط ٥

١- رتب الدول الاستعمارية الأوروبية تصاعدياً حسب وصولها لمنطقة الخليج العربية :

٣	إنجلترا
٢	هولندا
١	البرتغال

معلمي الكويت  
صفوة



٢- هل هذه الدول قريبة أم بعيدة عن منطقة الخليج العربية ؟ **صفحة 62**

**بعيدة**

٣- ماذا تستنج من ذلك؟

**أهمية موقع دول الخليج العربية أدى إلى طمع الدول الاستعمارية، وتوفر الثروات الطبيعية في منطقة الخليج العربي**

٤- أستخرج من تقرير خالد الأساليب التي اتبعتها الاستعمار للسيطرة على دول الخليج العربية :-

**المعاهدات**

**الاتفاقيات**

**أفكر وأجيب**

**اتفاقية الحماية ١٨٩٩م**

«ألا يتنازل أو يبيع أو يؤجر أي جزء من أراضيه لدولة أجنبية دون موافقة مسبقة من الحكومة البريطانية، وألا يستقبل هو أو خلفاؤه من بعده ممثل أي دولة أجنبية دون إذن من السلطات البريطانية مقابل حماية بريطانية لإمارة الكويت من أي خطر خارجي» .

تمعن (اقرأ بدقة)  
الاتفاقية في الوثيقة  
التالية ثم :-

١- اكتب بيانات الاتفاقية في الجدول التالي :

السنة	أطراف الاتفاقية	أسلوب الاستعمار
١٨٩٩م	الكويت وبريطانيا	اتفاقية الحماية

٢- ابحث في المواقع الالكترونية المتخصصة عن أهم أسباب عقد الشيخ مبارك الصباح اتفاقية الحماية عام ١٨٩٩ مع بريطانيا وسجلها في الفراغات التالية :

**خوفاً من الأطماع التي أحاطت بالكويت ورغبته في حمايتها.**

**معلمي الكويت  
صفوة**





الاستقلال : تحرر الدولة من المستعمر الأجنبي وقيامها بمسؤولية  
إدارة شؤونها الداخلية والخارجية .



هيا تكمل البطاقة التالية :

اقترح عنوان للصورة

... توقيع اتفاقية استقلال الكويت .

تاريخ الصورة ..... ١٩٦١ م.....

اسم حاكم الكويت في هذه الفترة

.... الشيخ عبد الله السالم الصباح ..

الطرف الأجنبي الذي وقع المعاهدة

..... بريطانيا .....

## نشاط ١

استدل من القرآن الكريم والسنة النبوية الشريفة ما يؤكد اهتمام الإسلام بمبادئ حقوق الإنسان .

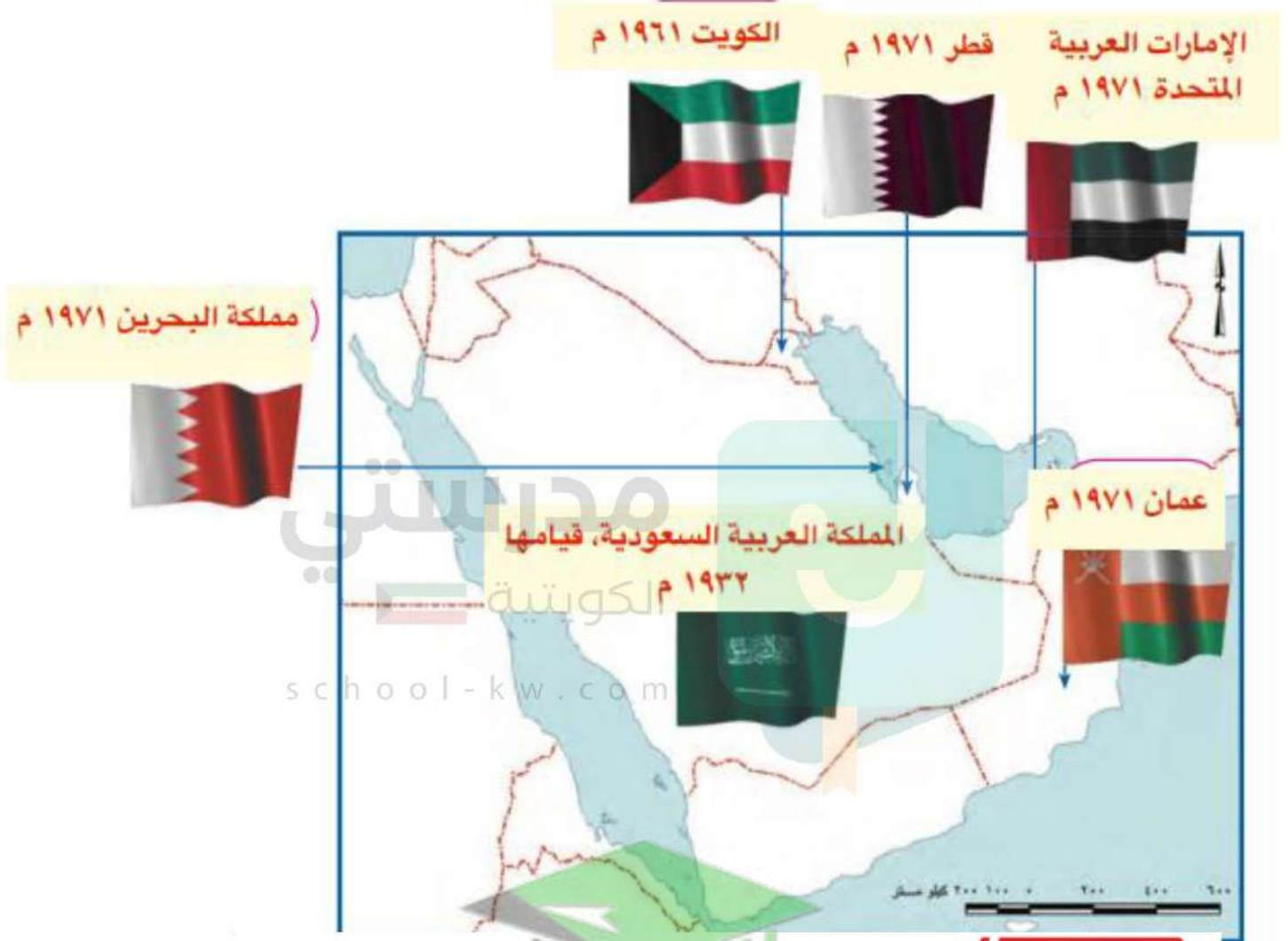
آية : وَالَّذِينَ اسْتَجَابُوا لِرَبِّهِمْ وَأَقَامُوا الصَّلَاةَ وَأَمْرُهُمْ شُورَى بَيْنَهُمْ وَمِمَّا رَزَقْنَاهُمْ يُنْفِقُونَ ﴿٢٨﴾ الشورى

حديث نبوي : جاء في السنة الشريفة: (المسلم أخو المسلم، لا يحل لمسلم إذا باع من أخيه بي ما فيه عيب إلا بينه)، أما  
جاء في الحديث: (لا يحل لمسلم أن يغش مسلماً) (رواه البخاري)

معلمي الكويت  
صفوة



لاحظ خريطة دول الخليج العربية ثم سجل داخل المربعات اسم الدولة وسنة الاستقلال .



اختر احدي الدول الخليجية واكتب لها بطاقة تهنئة بمناسبة عيدها الوطني :





## نشاط ١

- قام مجموعة من أبناء دول الخليج العربية بزيارة وطنك الكويت .
- ارشدهم إلى أهم المناطق السياحية في وطنك الكويت .
- ألصق صورًا لأهم المعالم السياحية في وطنك الكويت .

أبراج الكويت  
المسجد الكبير



صفوة معلمي الكويت



عرّف مصطلح مجلس التعاون الخليجي .....  
عبارة عن منظمة سياسية اقتصادية إقليمية تضم ست دول عربية خليجية.

## نشاط ٢ /

١ - قم بعملية حسابية لمعرفة عدد السنوات التي تمثل مسيرة مجلس التعاون لدول الخليج العربية ( منذ بداية قيامه إلى سنة انعقاد آخر قمة خليجية ) .

$$2020 - 1981 = 39$$

٢ - اسم المدينة التي اتخذت مقراً لمجلس التعاون لدول الخليج العربية مدينة الرياض في المملكة العربية السعودية

school-kw.com

## نشاط ٣ /

استخرج من الفقرة :-

السمات ( الصفات ) المشتركة بين دول مجلس التعاون لدول الخليج العربية .  
صفات مشتركة وانظمة متشابهة. أساسها وحدة التراث والانتماء والعقيدة والمصالح المشتركة: العادات والتقاليد، الدين، اللغة، التاريخ، الأهداف المشتركة، أنظمة الحكم، المستوى الاقتصادي

معلمي الكويت  
صفوة

# تم تحميل الملف من موقع مدرستي الكويتية

مدرستي

الكويتية

school-kw.com



ننصح بأفضل مذكرة  
مذكرات النجاح

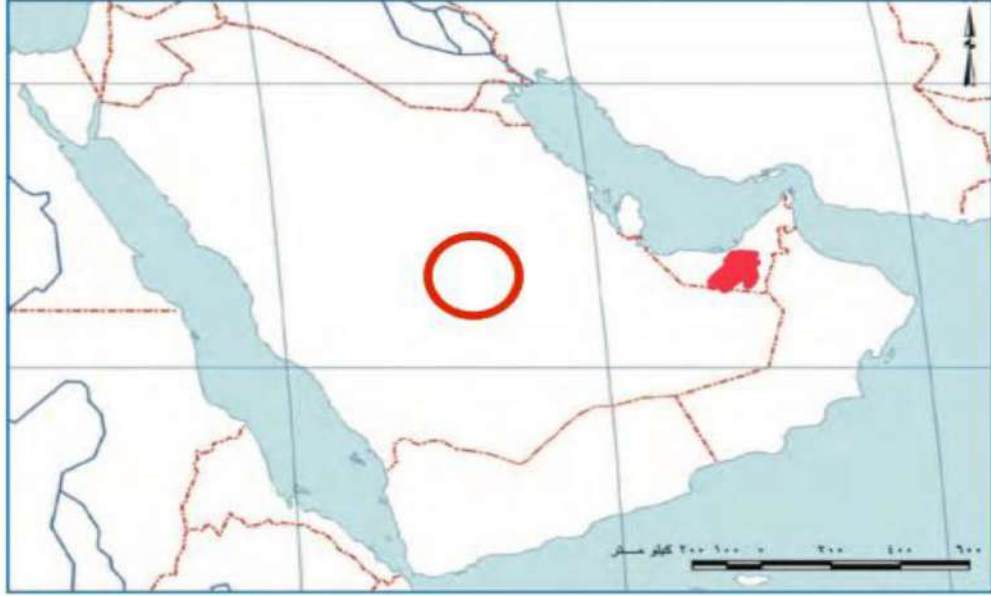
حمل تطبيق مدرستي الكويتية



Download on the  
App Store



GET IN ON  
Google Play



لاحظ التالي :- صفحة 73



شكل (٢١) صورة توضح آخر اجتماعات مجلس التعاون الخليجي

### نشاط ١

- ما اسم التنظيم السياسي الذي تمثله الصور . مجلس التعاون لدول الخليج العربي  
في أي عام ..... م ٢٠٠٨

### نشاط ٢

ماذا يمثل شكل رقم (أ)؟ . شعار مجلس التعاون لدول الخليج العربي (أ)



العناصر الأساسية التي يتكون منها .....  
الخريطة السياسية لدول مجلس التعاون، والشكل السداسي يحدد  
الألوان المشتركة لألوان الأعلام واللون الأزرق الذي يجمعهم هو الخليج  
العربي، وأسم الشعار والبسمة.



أبحث مع زملائك عن اسم الشخصية التالية :-

- ١- وجه . الشيخ جابر الأحمد الصباح . . . . . سنة ١٩٧٦ دعوة إلى إنشاء وحدة خليجية ، بهدف تحقيق التعاون في جميع المجالات ، وإيجاد نوع من الاتحاد على أسس سليمة ومتمينة لمصلحة شعوب هذه المنطقة واستقرارها .
- ٢- ألصق صورة لهذه الشخصية .

صفحة  
74

لاحظ الصور التالية وشارك بالأنشطة التي تليها :-



القمة السابعة والعشرون بالرياض ١٠ / ١٢ / ٢٠٠٦  
( قمة الشيخ جابر الأحمد الصباح رحمه الله )

## نشاط ١

- ١- ماذا تمثل الشخصيات الظاهرة في الصور؟  
.....  
قادة دول مجلس التعاون الخليجي

أكمل البيانات التالية :

تاريخ القمة : ١٠ / ١٢ / ٢٠٠٦ م

اسم القمة : قمة الشيخ جابر الأحمد الصباح  
رحمه الله

عدد الدول المشاركة : ٦ أعضاء

صفوة من الكويت



لماذا سميت باسم هذه الشخصية ؟

.....قابلياً لذكرى رحيل الشيخ جابر الأحمد الصباح.....

## نشاط ٢ /

بالتعاون مع زملائك وبزيارة مكتبة المدرسة اكتب نبذة عن  
سيرة المغفور له الشيخ جابر الأحمد .

الشيخ جابر الأحمد الجابر الصباح (29 مايو 1926 - 15 يناير 2006) ، أمير دولة الكويت الثالث عشر والثالث بعد الاستقلال من المملكة المتحدة. هو الابن الثالث للشيخ أحمد الجابر الصباح من الشيخة بيبي السالم الصباح ابنة حاكم الكويت التاسع الشيخ سالم المبارك الصباح. تلقى تعليمه في المدرسة المباركية والمدرسة الأحمدية. في عام 1949 عينه والده نائباً له في الأحمدية، وكان المسؤول العام عن المدينة، وفي عام 1959 عينه الشيخ عبد الله السالم الصباح رئيساً لدائرة المال والأموال العامة، كما كان رئيساً لمجلس النقد الكويتي، وقام في 1 أبريل 1961 بإصدار أول عملة في الكويت تحمل توقيعه. وبعد استقلال الكويت في 19 يونيو 1961 وإجراء انتخابات المجلس التأسيسي عين وزيراً للمالية والصناعة في الحكومة الأولى والتي كانت برئاسة الشيخ عبد الله السالم الصباح. وعندما تولى الشيخ صباح السالم الصباح رئاسة الحكومة أصبح نائباً لرئيس مجلس الوزراء، وبعد وفاة الشيخ عبد الله السالم وتولى الشيخ صباح السالم الحكم عُيّن في 30 نوفمبر 1965 رئيساً لمجلس الوزراء، وفي 31 مايو 1966 بويع في مجلس الأمة ولياً للعهد وذلك بعد تزكية الأمير له. وفي 5 يونيو 1967 أصبح حاكماً عرفياً للكويت بعد تطبيق الأحكام العرفية، وذلك إلى أن رفعت الأحكام العرفية في 1 يناير 1968. تولى الحكم في 31 ديسمبر 1977 بعد وفاة الشيخ صباح السالم الصباح، وكان صاحب فكرة إنشاء مجلس التعاون الخليجي الذي أنشئ في 1981، تعرّض في يوم 25 مايو 1985 لمحاولة اغتيال نجا منها، وفي 2 أغسطس 1990 غزت العراق الكويت، فاستخدم كافة الوسائل لتحريرها، وتحقق ذلك في 26 فبراير 1991 بعد حرب الخليج الثانية.

نال شهادة دكتوراه فخرية من قبل جامعة اليابان في 14 أكتوبر 1965. واختير في عام 1995 شخصية العام الخيرية من قبل مؤسسة المتحدون للإعلام والتسويق البريطانية بعد استبيان شارك فيه 5 ملايين عربي.

صفوة من الكويت





١- ماذا تتوقع أن يحدث لو لم تكن هناك صفات مشتركة بين دول مجلس التعاون الخليجي؟

..... قلة التعاون بين تلك الدول.....  
..... عدم قيام مجلس التعاون الخليجي.....

٢- استخرج القيم التي تسعى دول مجلس التعاون الخليجي إلى تحقيقها ، على سبيل المثال في رقم :

- (١) قيمة التعاون  
.....  
(٢) قيمة الترابط والعمل على تقديم حل مشاكل دول الأعضاء.....  
(٣) قيمة الترابط بين الأعضاء.....

مدرستي  
الكويتية

school-kw.com



صفوة معلمي الكويت



## نشاط / صفحة 78

قم بزيارة الموقع الإلكتروني لدول مجلس التعاون الخليج العربية  
WWW-GCC-SG. ORG واستخرج أهم الإنجازات الحديثة لدول مجلس التعاون  
الخليجي .

ومن الإنجازات الكبيرة والتي نفخر بها ما تم في حرب تحرير الكويت ، إذ كان  
لدول مجلس التعاون دورًا متميزًا ، حيث شكلت الجسم الرئيسي للقوات المشتركة  
ضمن قوات عربية ، وإسلامية ، ودولية صدت العدوان وشاركت بفعالية في دحر  
المعتدي العراقي وطرده يجر أذيال الخيبة من الكويت .

متى قام النظام العراقي البائد بغزو دولة الكويت؟ ..... ٢ أغسطس ١٩٩٠.....

### خطط مع زملائك لزيارة هذا الموقع لتسجيل إنجازات أخرى

صنّف الإنجازات السابقة كما هو مطلوب في الجدول التالي :

الاقتصادية	الثقافية	السياسية	العسكرية
المساواة التامة بين مواطني مجلس التعاون لدول الخليج العربية.	وثيقة التطوير التي تشمل للتعليم.	التنسيق في المجال السياسي في المحافل الدولية لكل القضايا.	اتفاقية الدفاع المشتركة واستمرار تعزيز قوة درع الجزيرة.
إقامة الاتحاد الجمركي.		إعلان البيئة البحرية في الخليج العربي منطقة بحرية خاصة.	الدور المميز في تحرير دولة الكويت عام ١٩٩١ م من الغزو العراقي الفاشم.

- انطلاق السوق  
الخليجي المشتركة  
في يناير ٢٠٠٨ م.  
- السياسة الزراعية  
المشتركة.



صفوة معلمي الكويت



لاحظ خريطة مجلس التعاون الخليجي التالية ثم نفذ ما يلي :



- ١- اكتب أسماء دول مجلس التعاون الخليجي في مكانها الصحيح على الخريطة .
- ٢- ارسم اتجاه الشمال في أعلى الخريطة؟
- ٣- ما وسائل النقل التي يمكن لك أن تستخدمها إذا أردت السفر إلى سلطنة عُمان .  
..... و 🚗 و ✈️
- ٤- ارسم خط سير سكة حديد يربط دول مجلس التعاون الخليجي ببعضها بعضًا .



معلمي الكويت  
صفوة الكويت



## دول الخليج العربية تتطور حضارياً وسياسياً

السؤال الأول : أكمل العبارات التالية بما يناسبها مما درست :

- ١- الفترة الزمنية التي امتدت خلالها حضارة منطقة الخليج العربية ..... ٤٠ ..... قرناً
- ٢- الاسم الذي أطلق على الخليج العربي قديماً . **البحر الأدنى أن بحر شروق الشمس** .
- ٣- المدينة التي انطلقت منها الأمة الإسلامية تسمى ..... **المدينة المنورة** .....
- ٤- العام الذي وقع فيه الشيخ مبارك اتفاقية الحماية مع بريطانيا هو ..... **١٨٩٩** ..... م .
- ٥- القرن الذي بدأت فيه شعوب الخليج العربية بالتخلص من التبعية البريطانية هو .....  
..... **العشرين** .....
- ٦- العام الذي حصلت فيه دولة قطر على استقلالها هو ..... **١٩٧١** ..... م .
- ٧- العام الذي حصلت فيه مملكة البحرين على استقلالها هو ..... **١٩٧١** ..... م .
- ٨- المدينة التي يوجد فيها مقر مجلس التعاون لدول الخليج العربية  
..... **الرياض** .....
- ٩- أطلق على القمة السابعة والعشرون لمجلس التعاون لدول الخليج العربية اسم الشيخ  
..... **جابر الأحمد الصباح رحمه الله** .....
- ١٠- المدينة التي عقدت فيها القمة السابعة والعشرون لمجلس التعاون لدول الخليج العربية  
..... **الرياض** .....
- ١١- صاحب فكرة إنشاء مجلس التعاون لدول الخليج العربية الشيخ  
..... **جابر الأحمد الصباح رحمه الله** .....

صفوة معلمى الكويت



السؤال الثاني : اختر الإجابة الصحيحة للعبارات التالية من بين الخيارات  
كل منها وضع خطأ تحتها :

- ١- القرن الذي ظهر فيه الإسلام هو .  
( السادس - السابع - الثامن - التاسع )
- ٢- أول دولة أوروبية استعمارية وصلت للخليج العربي .  
( هولندا - البرتغال - إنجلترا - فرنسا )
- ٣- العام الذي حصلت فيه دولة الكويت على استقلالها .  
( ١٩٦٠ - ١٩٦١ - ١٩٦٢ - ١٩٦٣ )
- ٤- العام الذي حصلت فيه دولة الإمارات العربية المتحدة على استقلالها .  
( ١٩٧٠ - ١٩٧١ - ١٩٧٢ - ١٩٧٣ )
- ٥- عدد الدول العربية الخليجية التي خضعت للاستعمار البريطاني .  
( ٣ - ٤ - ٥ - ٦ )
- ٦- أول دولة عربية خليجية نالت استقلالها من الاستعمار البريطاني .  
( قطر - البحرين - الكويت - عُمان )
- ٧- الدولة العربية الخليجية التي لم تخضع للاستعمار البريطاني .  
( المملكة العربية السعودية - البحرين - الكويت - عُمان )
- ٨- المدينة التي أعلن فيها قيام مجلس التعاون لدول الخليج العربية .  
( الرياض - أبوظبي - الكويت - مسقط )

السؤال الثالث : صحح ما تحته خط في العبارات التالية واكتب الإجابة الصحيحة فيما بين الأقواس :

- ١- حصلت دولة الكويت على استقلالها في عهد الشيخ مبارك الصباح .

(عبد الله السالم الصباح)

- ٢- وقعت الكويت اتفاقية الحماية مع بريطانيا في عهد الشيخ عبد الله السالم .

(... مبارك الصباح...)

صفوة الكويت



- ٣- حصلت سلطنة عُمان على استقلالها في عام ١٩٧٠ م . ( )
- ٤- كان الخليج العربي ملتقى الحضارات الكبرى في الغرب . ( ..... **الشرق** ..... )
- ٥- الحضارة التي اشتهرت بأفران صهر المعادن هي دلمون . ( ..... **مجان** ..... )
- ٦- شهدت منطقة الخليج العربي المنافسة الاستعمارية منذ القرن ١٦ . ( ..... **١٥** ..... )
- ٧- أعلن قيام مجلس التعاون لدول الخليج العربية في ٢٥ مايو ١٩٨٠ م . ( ..... **١٩٨١** ..... )
- ٨- توحدت المملكة العربية السعودية في عام ١٩٣٠ م . ( ..... **١٩٣٢** ..... )
- ٩- طرح الشيخ جابر الاحمد فكرة إنشاء وحدة خليجية في عام ١٩٧٧ م . ( ..... **١٩٧٦** ..... )
- ١٠- تم انطلاق السوق الخليجي المشترك في يناير عام ٢٠٠٧ م . ( ..... **٢٠٠٨** ..... )
- ١١- يتكون المجلس الوزاري لمجلس التعاون الخليجي من وزراء العدل . ( ..... **الخارجية** ..... )

السؤال الرابع : أكمل المخططات السهمية التالية :





## السؤال الخامس : صنف انجازات مجلس التعاون لدول الخليج العربية > الصحيح في الجدول التالي :

( إقامة الاتحاد الجمركي / السياسة الزراعية المشتركة / السوق الخليجية المشتركة / التنسيق في المجال السياسي في المحافل الدولية / وثيقة التطوير الشامل للتعليم / إعلان البيئة البحرية في الخليج العربي منطقة بحرية خاصة / اتفاقية الدفاع المشتركة واستمرار تعزيز قوة درع الجزيرة / المساواة بين مواطني مجلس التعاون في المجالات الاقتصادية والاجتماعية والصحية والتعليمية ) .

الإنجازات الاقتصادية	الإنجازات الثقافية	الإنجازات السياسية	الإنجازات العسكرية
<ul style="list-style-type: none"> <li>- المساواة التامة بين مواطني مجلس التعاون لدول الخليج العربية.</li> <li>- إقامة الاتحاد الجمركي.</li> <li>- انطلاق السوق الخليجي المشتركة في يناير ٢٠٠٨م.</li> <li>- السياسة الزراعية المشتركة.</li> </ul>	<ul style="list-style-type: none"> <li>- وثيقة التطوير الشامل للتعليم.</li> </ul>	<ul style="list-style-type: none"> <li>- التنسيق في المجال السياسي في المحافل الدولية.</li> <li>- إعلان البيئة البحرية في الخليج العربي منطقة بحرية خاصة.</li> </ul>	<ul style="list-style-type: none"> <li>- اتفاقية الدفاع المشتركة واستمرار تعزيز قوة درع الجزيرة.</li> </ul>

## السؤال السادس : علل لما يلي ( اذكر السبب ) :

- ١- ازدهار مدن الخليج العربية .  
- ثروتها النفطية أدت إلى نهضة عمرانية هائلة وتقدمًا كبيرًا من أجل بناء الإنسان الخليجي المتطور ..
- ٢- تنافس الدول الاستعمارية على منطقة الخليج العربي .  
- استغلالاً لموقعها الجغرافي المميز الذي يطل على مسطحات مائية هامة للتجارة ..
- ٣- جذب الهجرات من شبه الجزيرة العربية إلى منطقة الخليج العربية .  
موقعه المميز في قلب العالم مقرباً بين دول المحيط الهندي ودول البحر المتوسط/ كونه ممر مائي علمي/مركز تجاري.
- ٤- قيام الشيخ مبارك الصباح بتوقيع اتفاقية الحماية مع بريطانيا في عام ١٨٩٩م .  
- لحماية إمارة الكويت من الأخطار والأطماع الخارجية ..
- ٥- إنشاء مجلس التعاون لدول الخليج العربية .  
- لما بين دول الأعضاء من علاقات خاصة وصيغ مشتركة وأنظمة متشابهة، أسبابها وحدة التراث والانتماء والعقيدة والمصالح المشتركة، واقتناعاً بأن التعاون والتكامل فيما بينها يخدم الأهداف السامية للأمة العربية.



# الوحدة الثالثة

## الموارد الاقتصادية لدول الخليج العربية

صفحة  
89

- ١ - أكمل الرسم البياني مستعيناً بالجدول السابق .
- ٢ - لَوّن المربعات بألوان مختلفة لكل دولة في الجدول .
- ٣ - أعلى نسبة إنتاج لشهر أغسطس لدولة تسمى ... **المملكة العربية** ...  
**السعودية**
- ٤ - ارسم أعلام الدول المطلوبة .



### نشاط ٢

اكتب عبارة شكر لله عز وجل على امتلاك دولنا هذه الثروة

الحمد لله الذي أنعم علينا بنعمه التي لا تعد ولا تحصى، الحمد لله حمداً كثيراً على الثروات النفطية في بلادنا الخليجية، والتي لعبت الدور الأساسي في تطورنا وازدهارنا، فبارك لنا فيما رزقتنا وارشدنا لحسن استغلال ثرواتنا وخيرات بلادنا.





اكتب البيانات المطلوبة في الجدول المرفق مستعيناً بخريطة النفط وموانئ التصدير في دول الخليج العربية .

الدولة	حقل نفط	ميناء تصدير النفط
الإمارات	العصب، بوحصا، زاكوم، حالول، أم الشيف	جبل الظنة
البحرين	عوالي	سترة
السعودية	الغوار، بقيق، خريص، السفانية	راس تنورة
عُمان	الخوير، ناطح، بابل، فهود	فحل
قطر	دخان	أمسيعيد
الكويت	برقان، الروضتين، الوفرة	الأحمدي، الزور





استعن بالخريطة لإكمال الجدول التالي :

مناطق زراعية لدول مجلس التعاون الخليجي			
عُمان	الإمارات	السعودية	الكويت
* سهل الباطنة	* العين	* الإحساء	* العبدلي
صلالة	ليوا	* سهل تهامة	* الوفرة

نشاط ٢

اقترح حلولاً مناسبة للتغلب على الصعوبات التي تواجه دول مجلس التعاون الخليجي في مجال الزراعة .

يترك للمتعلم

مدرستي

الكويتية

school-kw.com

نشاط ٣

قم بزيارة سوق الخضار ( الفرضة ) للتعرف على أهم المحاصيل الزراعية في دول مجلس التعاون الخليجي ثم قدم عرضاً شفهيًا أمام زملائك لأبرز ما لاحظته خلال هذه الزيارة .





## عزيزي المتعلم ابحث في الشبكة العنكبوتية عن أهم أسباب استخدام البيوت البلاستيكية بمنطقة الخليج العربية وسجلها في الفراغات التالية :

### ١. زيادة الإنتاج والحفاظ على المياه:

إن إنتاج البيوت البلاستيكية الزراعية أفضل بكثير من إنتاج الحقول الزراعية المفتوحة، وتساعد البيوت البلاستيكية على الحد من هدر المياه من خلال استخدام ريّ المزروعات بطريقة التنقيط، كما أنها تُقلّل من تبخر المياه، وتساعد أيضاً الأغشية البلاستيكية على أن تتكاثف قطرات المياه المتبخرة وتتحوّل إلى مياه لإعادة استخدامها مرةً أخرى.

### ٢. حماية النبات من تقلبات الطقس:

تحمي البيوت البلاستيكية النباتات من تقلبات الطقس الضارة بالنبات كالرياح القوية والصقيع، ويتمّ صناعة هذه البيوت من الزجاج أو البلاستيك السميك الذي تمّت معالجته كالبولي كربونات (بالإنجليزية: polycarbonate) من أجل الصمود والوقوف في وجه الأمطار الغزيرة والتغيرات الحادة في درجات الحرارة طوال السنة، وتوفّر كذلك البيوت البلاستيكية بيئةً مستقرةً ودافئةً من أجل البدء في زراعة محاصيل الطماطم، والخس، والبصل، والفلفل، وفي أشهر الصيف الحارة يمكن استخدام مكيفات التبريد والمراوح في هذه البيوت من أجل الحفاظ على أوراق النباتات اللينة والناعمة وحمايتها من التعرض لشمس الصيف القاسية التي تحولها إلى اللون البني، بالإضافة إلى قدرة هذه البيوت على توفير الخضار والفواكه الطازجة المتنوعة في موسم نموها، وتوفير الزهور المقطوفة والحديثة النمو طوال السنة ولمدّة طويلة.

### ٣. زيادة نمو النبات:

إنّ البيوت البلاستيكية محكمة الإغلاق لذا لا تسمح بنفاذ غاز ثاني أكسيد الكربون CO<sub>2</sub>، الذي يعتبر من الغازات الضرورية والمهمة في عملية التمثيل الضوئي للنبات، حيث تتراكم كميات عالية جداً من غاز ثاني أكسيد الكربون تحت غطاء البيت البلاستيكي، ممّا يؤدي إلى تركيز هذا الغاز بشكل وغيّر من أجل نشاط الأوراق النامية، وتُعدّ المنتجات الزراعية في هذه البيوت أنظف من المنتجات الأخرى وأقلّ عرضةً للعفن بسبب إزالة بقع التربة عن النباتات أو الفواكه.

## ابحث عن السبب والنتيجة لازدهار الصناعة في الفقرة السابقة :

السبب :	اكتشاف النفط
النتيجة :	ازدهار الصناعة، زيادة الدخل، النمو الاقتصادي، التوسع في الصناعات

## نشاط ٢

عدّد أنواع الصناعات القائمة على النفط بدول مجلس التعاون الخليجي بالمخطط التالي :

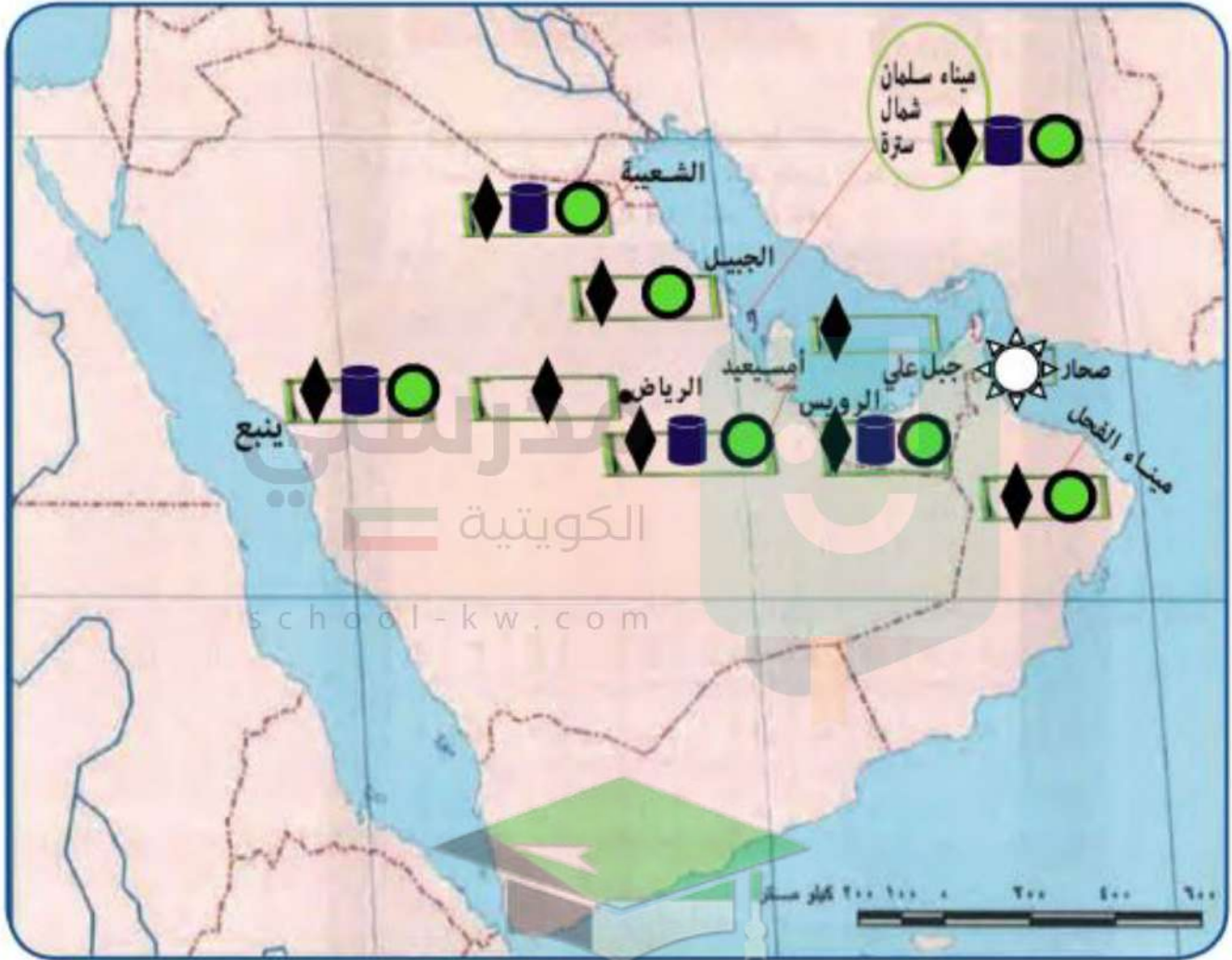




والآن قم بتوزيع أنواع الصناعات القائمة في دول مجلس التعاون

الخريطة باستخدام الرموز التالية : **صفحة 97**

بتروكيمايات  الغاز  حديد  تكرير النفط  نحاس  المنيوم 



معلمي الكويت  
صفوة



لاحظ الصور التالية ثم استكمل الشكل التالي :



المادة التحويلية

صناعة



المادة الخام



المادة التحويلية

صناعة



المادة الخام



المادة التحويلية

صناعة



المادة الخام

صفوة معلمى الكويت



تصدير

إعادة تصدير البضائع  
المستوردة

الواردات

البضائع والسلع التي  
تشتريها دولنا من الخارج

الصادرات

السلع والمنتجات التي  
تبيعها دولنا في الخارج



٥

٤

٣

٢

١

صفحة 99

نشاط ١

لاحظ الصور وصنفها بين صادرات وواردات بوضع الرقم في الجدول التالي :

واردات	صادرات
٤ - ٣ - ١	٥ - ٢

نشاط ٢

صحح ما تحته خط :

- ١/ البضائع والسلع التي تشتريها دولنا تسمى صادرات (..... **واردات** .....)
- ٢/ إعادة تصدير البضائع المستوردة تسمى واردات (..... **صادرات** .....)

معلمي الكويت  
صفوة

# تم تحميل الملف من موقع مدرستي الكويتية

مدرستي

الكويتية

school-kw.com



ننصح بأفضل مذكرة  
مذكرات النجاح

حمل تطبيق مدرستي الكويتية



Download on the  
App Store



GET IN ON  
Google Play



# التقويم

صفحة 100

## الموارد الاقتصادية لدول الخليج العربية

السؤال الأول : صحح ما تحته خط في العبارات التالية واكتب الإجابة الصحيحة فيما بين الأقواس :

- ١- يوجد سهل الباطنة في دولة الإمارات . ( ..... **عمان** ..... )
- ٢- توجد منطقة ليوا الزراعية في دولة قطر . ( ..... **الإمارات** ..... )
- ٣- بدأ التنقيب عن النفط في دولة الكويت عام ١٩٣٤م في حقل **برقان** . ( ..... **بحرة** ..... )

السؤال الثاني : أكمل المخططات السهمية التالية :



السؤال الثالث : صنف المناطق الزراعية حسب مكانها الصحيح في الجدول التالي :

( الوفرة - سهل الباطنة - سهل تهامة - العبدلي - سهل الأحساء - العين - صلالة - ليوا )

السعودية	الإمارات	الكويت	عُمان
سهل تهامة	العين	الوفرة	سهل الباطنة
سهل الأحساء	ليوا	العبدلي	صلالة





## السؤال الرابع : فرق بين كل مما يلي : صفحة 101

- ١- إنتاج النفط - احتياطي النفط : إنتاج النفط: هو كميات النفط التي يتم استخراجها للاستفادة منها.  
احتياطي النفط: كميات النفط المخزونة في باطن الأرض.
- ٢- الصادرات - الواردات : الصادرات: السلع والمنتجات التي تبيعها دولنا في الخارج.  
الواردات: البضائع والسلع التي تشتريها دولنا من الخارج.
- ٣- الزراعة بدون تربة - السمات البلاستيكية  
الزراعة بدون تربة: هي الزراعة التي تتم في بيئة مائية أو رملية أو حصى أو نشارة خشب تضاف إليها المحاليل الغذائية.  
البيوت البلاستيكية: يزرع فيها الخضراوات في غير مواسمها وتقوم بحماية المحاصيل من تقلبات الطقس.

١- توسع دول الخليج العربية في صناعة التكرير .

نظراً لاكتشاف النفط وتصديره دوراً كبيراً في ازدهار الدخل القومي لدول الخليج وأبرزها صناعة تكرير النفط.

٢- قيام دول الخليج العربية بإقامة العديد من الموانئ النفطية .

... نتيجة لتزايد الإنتاج الخليجي للنفط، وتزايد الطلب العالمي عليه كمصدر أساسي للطاقة. ...

السؤال السادس : اكتب فيما يلي مما درست :

- ١- أهم الدول المستوردة للنفط الكويتي .  
الولايات المتحدة الأمريكية، هولندا، اليابان.
- ٢- أنواع المحاصيل الزراعية في دول مجلس التعاون الخليجي .  
الطماطم/ الخيار/ البطاطس/ الباذنجان/ الفلفل الرومي/ الورقيات... الخ.
- ٣- الجهود التي تتبعها حكومات مجلس التعاون لزيادة إنتاج المحاصيل الزراعية .  
الزراعة بدون تربة/ الزراعة في بيوت بلاستيكية/ إدخال أساليب زراعية حديثة/ النجاح في زراعة محاصيل زراعية مثل: القمح في المملكة العربية السعودية.

الصناعة	تحويل المواد الخام إلى مواد مصنعة يمكن الاستفادة منها.
الدخل القومي	هو مجموع الدخل التي تحصل عليها الدولة خلال عام.
الترانزيت	إعادة تصدير البضائع المستوردة.

معلمتي الكويت  
صفوة الكويت