

الاختبار التقويهي الأول

للمصف الثالث


الفصل الدراسي الأول 2023 / 2024

بنود الاختبار	توزيع درجات الاختبار		درجة الاختبار	مدة الاختبار	موعد الاختبار
الوحدة الأولى	مقال	موضوعي	٥ درجات	لا تتجاوز ١٥ دقيقة من زمن الاختبار	الأسبوع ٣
	٣	٢			

إشراف الوجه الفني : أشيهه المطيري

اختبر نفسك

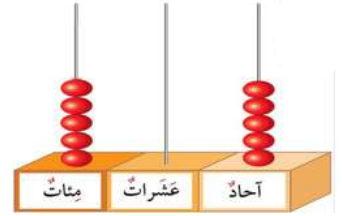
اضغط



نموذج (١)



أولاً : اكتب رمز العدد لكل مما يلي :



تسعمئة وستون

$$٣٠٠ + ٢٠ + ٧$$

ثانياً : ظلل (أ) إذا كانت العبارة صحيحة و ظلل (ب) إذا كانت العبارة غير صحيحة :

أ ب

$$١٠١ < ٩٩$$

أ ب

٣٦١ أقرب إلى العدد ٤٠٠ عند تقريبه لأقرب مئة

انتهت الأسئلة ...



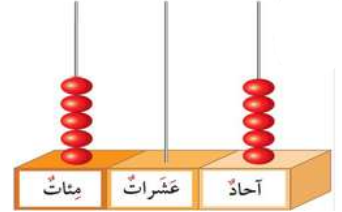
صفوة معلمى الكويت

إجابة نموذج (ا)



أولاً : اكتب رمز العدد لكل مما يلي :

٥٠٥



٩٦٠

تسعمئة و ستون

٣٢٧

$٣٠٠ + ٢٠ + ٧$

ثانياً : ظلل (أ) إذا كانت العبارة صحيحة و ظلل (ب) إذا كانت العبارة غير صحيحة :

أ

ب

$١٠١ < ٩٩$

أ

ب

٣٦١ أقرب إلى العدد ٤٠٠ عند تقريبه لأقرب مئة

انتهت الأسئلة ...

صفوة معلمى الكويت

نموذج (٢)



أولاً:

• ضع رمز العلاقة المناسبة < أو > أو = لتحصل على عبارة صحيحة:

٨٣٠ ٦٨٢

• رتب الأعداد من الأصغر إلى الأكبر (تصاعدياً) :

٤٤٠ ، ٤٠٤ ، ٤٩١ ، ٤١٩

، ، ،

ثانياً: اختر الإجابة الصحيحة بوضع

• القيمة المكانية للرقم ٢ في العدد ٢٦١ هي :

٢٠٠

٢٠

٢

• العدد الذي يقع بين العددين ٧٣٩ ، ٧٤١ هو :

٧٤٢

٧٤٠

٧٣٨

انتهت الأسئلة ...



صفوة معلمة الكويت

إجابة نموذج (٢)



أولاً:

• ضع رمز العلاقة المناسبة < أو > أو = لتحصل على عبارة صحيحة:

$$٨٣٠ > ٦٨٢$$

• رتب الأعداد من الأصغر إلى الأكبر (تصاعدياً) :

٤٤٠ ، ٤٠٤ ، ٤٩١ ، ٤١٩

٤٩١ ، ٤٤٠ ، ٤١٩ ، ٤٠٤

ثانياً: اختر الإجابة الصحيحة بوضع

• القيمة المكانية للرقم ٢ في العدد ٢٦١ هي :

٢٠٠



٢٠



٢



• العدد الذي يقع بين العددين ٧٣٩ ، ٧٤١ هو :

٧٤٢



٧٤٠



٧٣٨



انتهت الأسئلة ...

صفوة معلمة الكويت