



spedia



معهد سمارت مايند
SMART MIND INSTITUTE

مذكرة التقوية لمادة الاجتماعيات

الصف السابع



spedia



جميع الدروس مشروحة بالكامل في مكتبة الفيديوهات على تطبيق سبيديا

www.smartmindkw.com - www.spediaapp.com

Tel: +9651881880 – SM: @smartmindkw @spediaapp



نمو السكان وتوزيعهم في الوطن العربي

(الوطن العربي يغطي مساحة كبيرة من الأرض تبلغ 13,5 مليون كم2 تقريباً، ويتألف من 22 دولة، ويضم حوالي 382,009 مليون نسمة تقريباً).

من خلال الفقرة السابقة أجب عن التالي:

س/ تعتمد دراسة السكان بصورة عامة على الإحصاءات السكانية أذكر أهمها؟

1. 2.

س/ عرف ما يلي:

1. التعداد السكاني: هو إجراء تعداد لسكان الدولة بين الحين والآخر كل 5 أو 10 سنوات، للحصول على معلومات وافية عن السكان (عددهم، عدد كل جنس وأعمارهم، وغيرها من المعلومات).

2. الإحصاء الحيوي:

س/ أكمل الفراغات التالية:

1. يبلغ عدد الدول العربية
2. يبلغ عدد سكان الوطن العربي حسب إحصائية عام 2014 حوالي نسمة
3. نسبة عدد سكان الوطن العربي في قارة أفريقيا هي%
4. نسبة عدد سكان الوطن العربي في قارة آسيا هي%
5. العام الذي أنشئت الإدارة المركزية للإحصاء في الكويت هو
6. أُجري أول تعداد للسكان في دولة الكويت عام
7. الجهة التي أشرفت على أول تعداد سكاني في الكويت هي
8. أكبر دولة عربية من حيث عدد السكان هي
9. أصغر دولة عربية من حيث عدد السكان هي

س / أكمل الجدول التالي:

.....	1. إجمال عدد سكان الوطن العربي يقدر بـ
.....	2. عدد سكان الوطن العربي في الجناح الآسيوي يقدر بـ
.....	3. عدد سكان الوطن العربي في الجناح الأفريقي يقدر بـ
.....	4. أكثر الدول العربية سكاناً هي دولة.
.....	5. أقل الدول العربية سكاناً هي دولة.
.....	6. من الدول العربية التي يزيد عدد سكانها عن 5 مليون.
.....	7. من الدول العربية التي يقل عدد سكانها عن 5 مليون.

س / ما أهمية التعداد السكاني للدولة؟

1. الحصول على معلومات وافية عن السكان.
2. معرفة احتياجات السكان المختلفة ووضع الخطط المناسبة.

س / قارن حسب الجدول التالي:

الدولة	مساحة الدولة	عدد سكانها
الكويت		
مصر		
ليبيا		

pedia

معهد سمارت مايند
SMART MIND INSTITUTE

س / علل: يختلف عدد السكان بين دولة عربية وأخرى.

..... -
..... -



الكثافة السكانية والنمو السكاني في الوطن العربي

الكثافة السكانية:

س/ ما المقصود بالكثافة السكانية؟

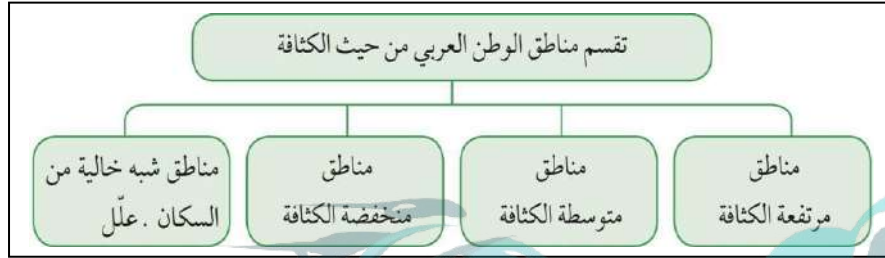
عدد السكان الكلي

الكثافة السكانية = _____

المساحة الكلية

الكثافة السكانية:

س/ ما أقسام الوطن العربي من حيث الكثافة السكانية؟



1.

2.

3.

4.

س/ علل: تعاني بعض الدول مثل مصر من سوء توزيع السكان فيها.

- لأن السكان يتركز على مساحة صغيرة جداً مثل (وادي النيل ودلتاه).

س/ أذكر العوامل المؤثرة في توزيع السكان؟ (أسباب اختلاف توزيع السكان)

2. عوامل بشرية	1. عوامل طبيعية
1. الأنشطة الاقتصادية: (زراعة، صناعة، رعي، تعدين...)	1. موارد المياه: (أمطار، أنهار، ينابيع، آبار...).
2. توفر الخدمات.	2. التضاريس: (السهول، الجبال، الهضاب...).
3. المواصلات.	3. المناخ. 4. التربة.

س/ علل لما يأتي:

1. الجبال بيئة طاردة للسكان والعيش فيها صعب.

.....

2. يفضل السكان العيش في المناطق السهلية.

.....

3. الصحراء تعتبر من المناطق الطاردة للسكان ويندر فيها السكان.

.....

4. يتركز السكان بشكل مرتفع حول نهر النيل ودلتاه.

(ترتفع الكثافة السكانية في المناطق التي تتمتع بمقومات طبيعية ومناخية ملائمة وثروات طبيعية وطرق ومواصلات، وتنخفض في المناطق التي لا تتوفر فيها هذه المقومات).
من خلال الفقرة السابقة أجب عن التالي:



س/ كيف تغلب الإنسان على صعوبة العيش والزراعة في الجبال؟

.....
.....

س/ ما أهم المدن والدول التي نشأت ونمت في الصحراء؟

- مدن الخليج العربي، وليبيا وغيرها.

س/ كيف تمكن الإنسان من العيش في الصحراء؟

.....
.....

(يقدر معدل النمو السكاني في الوطن العربي بحوالي 2,20% حسب إحصائيات 2006م، وهو معدل مرتفع يفوق المعدل العالمي الذي يقدر بحوالي 1,7%).
من خلال الفقرة السابقة أجب عن التالي:

س/ عرف النمو السكاني؟

pedia

معهد سمارت مايند
SMART MIND INSTITUTE

س/ أكمل الفراغات التالية:

1. تزايد عدد السكان من عام لآخر نتيجة للزيادة الطبيعية و.....
2. يبلغ معدل النمو السنوي للسكان في الوطن العربي حوالي.....%
3. يبلغ معدل النمو العالمي للسكان حوالي.....%

س/ فرق حسب الجداول التالية:

أنواع الزيادة السكانية

1. زيادة طبيعية	2. زيادة غير طبيعية
.....

أنواع الهجرة

1. الهجرة الداخلية	2. الهجرة الخارجية
.....
.....

س/ ماذا يحدث لو: زاد عدد السكان بكثرة عن موارد الدولة الاقتصادية؟

1. ضغط على الخدمات والمرافق الصحية والتعليمية والمواصلات وغيرها.
2. مشاكل اقتصادية في الدخل والمعيشة.

س/ علل ما يلي:

1. أسباب هجرة الأيدي العاملة من دول آسيا إلى بعض الدول العربية.

..... -

..... -

2. أسباب هجرة الأيدي العاملة لبعض الدول العربية إلى دول الخليج العربية.

..... -

..... -



الموارد الاقتصادية في الوطن العربي

س/ أكتب أهم الثروات الطبيعية في الوطن العربي؟

1. الثروة المعدنية والنفطية.
2. الثروة الحيوانية.
3. الثروة المائية والسمكية.
4. الثروة النباتية.

س/ ما الفرق بين الموارد الطبيعية والموارد البشرية؟

الموارد الطبيعية	الموارد البشرية
.....
.....

س/ أكمل الفراغات التالية:

1. نسبة مساهمة القطاع الزراعي في الاقتصاد العربي يبلغ%.
2. نسبة مساهمة القطاع الصناعي في الاقتصاد العربي يبلغ%.
3. نسبة مساهمة الخدمات العامة في الاقتصاد العربي يبلغ%.

س/ ما أهمية وفوائد النشاط الزراعي في الوطن العربي؟

1.
2.
3.

س/ علل: تختلف أنواع المنتجات الزراعية في الوطن العربي من دولة إلى أخرى.

..... -

س/ ما هي مقومات الإنتاج الزراعي؟

مقومات طبيعية	مقومات بشرية
1. التربة. 2. المياه.	1. جهد الإنسان. 2. رأس المال.
3. المناخ. 4. التضاريس.	3. الأسواق والمواصلات. 4. التكنولوجيا.

س/ ما الفرق بين الزراعة التقليدية والزراعة الحديث؟

الزراعة التقليدية	الزراعة الحديثة
.....
.....

س/ ما أهم المحاصيل الزراعية في الوطن العربي؟

1. الحبوب الغذائية	2. الغلات الصناعية والتجارية	3. الفواكه والثمار
-تعد من أهم المزروعات وتشغل مساحة كبيرة من الأراضي المزروعة. مثل: (القمح، والذرة، والشعير)	هي المحاصيل التي تزرع بهدف التصدير والحصول على العملة. مثل: (البن، قصب السكر، القطن)	وهي التي تتطلب ظروفًا مناخية خاصة، وتتركز في حوض البحر المتوسط مثل: (الموز، التفاح وغيرها)

س/ صنف المحاصيل الزراعية حسب نوعها في الجدول:

(الشعير، البن، العنب، الأرز، الشمندر، التمور، القمح، الزيتون، الموز، قصب السكر، القطن، الذرة)

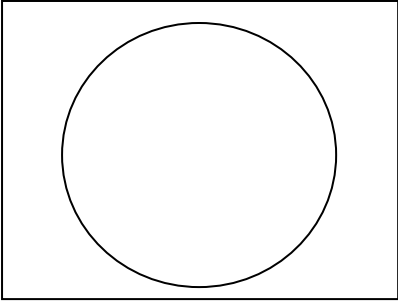
الحبوب الغذائية	الغلات الصناعية والتجارية	الفواكه والثمار
.....
.....
.....

س/ ما المشكلات التي تعاني منها الزراعة في الوطن العربي؟

1.
2.
3.
4.
5.

س/ أكمل العبارات التالية:

1. الدولة العربية التي تحتل المركز الأول في إنتاج القمح الذرة والأرز هي
2. الدولة العربية الأولى في إنتاج الشعير هي
3. الدولة العربية الأولى في إنتاج القطن وقصب السكر هي
4. الدولة العربية الأولى في إنتاج الموز هي
5. الدولة العربية الأولى في إنتاج البن هي
6. الدولة العربية الأولى في إنتاج التمور هي
7. الدولة العربية الأولى في إنتاج العنب هي



* تبلغ نسبة المساحة المزروعة في الوطن العربي

من المساحة القابلة للزراعة حوالي 56%.

حول هذه النسبة إلى دائرة بيانية؟

الإنتاج الحيواني في الوطن العربي:

(يمتلك الوطن العربي أعداداً متنوعة من الثروة الحيوانية التي تساهم في زيادة الدخل، وهي ثروة قابلة للزيادة والنمو إذا

ما تدخل الإنسان بوسائله الحديثة لرعايتها وتنظيم استغلالها). من خلال الفقرة السابقة أجب عن التالي:

س/ ما أهم أنواع الثروة الحيوانية في الوطن العربي؟

1. الثروة الرعوية: مثل (.....،.....،.....،.....).

2. الدواجن والطيور: مثل (.....،.....،.....).

س/ علل ما يلي:

1. أهمية وفوائد الثروة الرعوية.

2. تحتل الأغنام مكاناً مهماً في الوطن العربي.

س/ أكمل الفراغات التالية:

1. الدولة العربية الأولى في إنتاج الأغنام تسمى

2. الدولة العربية الأولى في إنتاج الماعز تسمى

3. الدولة العربية الأولى في إنتاج الأبقار

4. الدولة العربية التي تحتل المركز الأول في إنتاج الإبل تسمى

5. الدولة العربية الأولى في إنتاج الأسماك تسمى

س/ علل: تمتلك الصومال 6,6% من ثروة الوطن العربي من الأبل.

س/ ما هي العوامل التي ساعدت على انتشار مزارع الدواجن في الوطن العربي؟

1.
2.

س/ أكمل الجدول التالي:

المشكلات التي تواجه تربية الدواجن في الوطن العربي	حلول مقترحة لمشكلة تربية الدواجن في الوطن العربي
.....
.....
.....

* الثروة المائية:

* لاحظ الجدول المقابل ثم أجب عن التالي:

س/ أذكر أهم أنواع الأسماك في مياه الخليج العربي؟

س/ رتب الدول الخمس الأولى في الإنتاج السمكي تنازلياً.

الرقم	الدولة	الإنتاج (ألف طن)
١	اليمن	١٥٧
٢	مصر	١٣٧٤
٣	موريتانيا	٦٤٤
٤	المغرب	١٢٤٦
٥	تونس	١٢٣
٦	الجزائر	١٢٢
٧	عُمان	٢٠٦
٨	الإمارات	٧٣

شكل (٦٤) الإنتاج السمكي في بعض دول الوطن العربي

س/ علل لما يلي:

1. تنوع الثروة المائية في الوطن العربي.
- لأن دول الوطن العربي دولاً بحرية وتمتلك مسطحات مائية واسعة منها المالحة ومنها العذبة.
2. تساهم مصر بأكثر من ثلث الإنتاج العربي من الأسماك.

س/ ما أهم المقترحات التي تساعد في تنمية الثروة السمكية؟



الطاقة والثروة المعدنية

(يمتلك الوطن العربي ثروة معدنية كبيرة لها أهميتها محلياً وعالمياً، حيث ينتج العديد من الخدمات المعدنية ومصادر الطاقة اللازمة لقيام الصناعة).

في ضوء العبارة السابقة أجب عن التالي:

س/ عرف المفاهيم التالية:

1. النقط: بقايا عضوية على هيئة نباتات وحيوانات دقيقة تحولت بفعل الحرارة والضغط إلى صورتها الحالية.
2. الغاز الطبيعي:
3. الطاقة:

س/ ما أهمية النفط والغاز الطبيعي للدول العربية؟

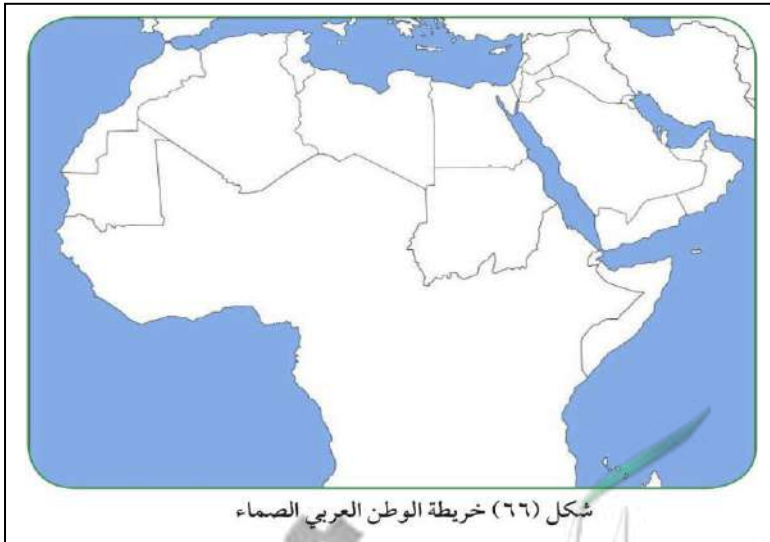
1.
2.
3.
4.

س/ ما المناطق الرئيسية الثلاث في إنتاج النفط في الوطن العربي؟ ثم حددها على الخريطة المقابلة؟

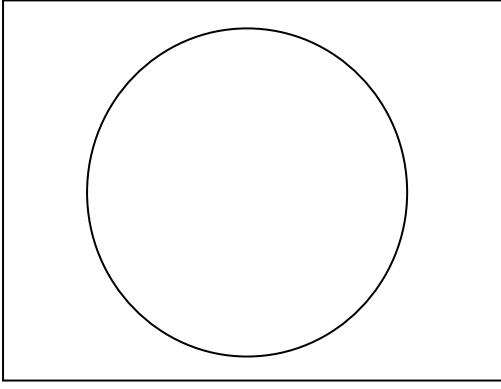
- منطقة دول الخليج وسهول دجلة والفرات وإنتاجها حوالي 80%.

- منطقة الصحراء الكبرى وإنتاجها حوالي 18%.

- منطقة خليج السويس وإنتاجها 4.7%.




شكل (٦٦) خريطة الوطن العربي الصماء



س/ حدد نسب المناطق الرئيسية السابقة التي تتركز فيها حقول النفط في الوطن العربي إلى دائرة بيانية؟

س/ أكمل الفراغات التالية:

1. نسبة احتياطي النفط الخام في الوطن العربي حوالي%.
2. نسبة احتياطي الغاز في الوطن العربي حوالي%.
3. نسبة إنتاج النفط الخام في الوطن العربي حوالي%.
4. نسبة إنتاج الغاز في الوطن العربي حوالي%.
5. احتياطي النفط الخام في الجناح الآسيوي%.
6. احتياطي النفط الخام في الجناح الأفريقي%.
7. احتياطي الغاز الطبيعي في الجناح الآسيوي%.
8. احتياطي الغاز الطبيعي في الجناح الأفريقي%.
9. إنتاج النفط الخام في الجناح الآسيوي%.
10. إنتاج النفط الخام في الجناح الأفريقي%.
11. إنتاج الغاز الطبيعي في الجناح الآسيوي%.
12. إنتاج الغاز الطبيعي في الجناح الأفريقي%.



شكل (٦٧) يوضح نسب إنتاج واحتياط النفط والغاز الطبيعي في الوطن العربي بالنسبة للعالم.

الرقم	الدولة العربية	إنتاج النفط الخام ألف برميل / يوم	احتياط النفط الخام مليار برميل	إنتاج الغاز الطبيعي مليار متر مكعب	احتياط الغاز الطبيعي مليار متر مكعب
١	الإمارات	٢٧٩٤	٩٧,٨	٥٤,٢	٦٠٩١
٢	البحرين	٢٠٢	٠,١	١٥,٤	٩٢
٣	تونس	٥٥,٥	٠,٤	٢,٦	٦٥
٤	الجزائر	١١٩٣	١٢,٢	٨١,٧	٤٥٠٥
٥	السعودية	٩٧٠١	٢٦٥,٨	١٠٢,٤	٨٣١٦
٦	سوريا	١٠	٢,٥	٥,٣	٢٨٥
٧	العراق	٣١١٠	١٤٥,٣	٩	٣٦٩٤
٨	قطر	٧٠٣	٢٥,٢	٢٠٤,٦	٢٤٤٠٠
٩	الكويت	٢٨٦٦,٨	١٠١,٥	١٥	١٧٨٤
١٠	ليبيا	٤٨٠	٤٨,٤	١٥,٨	١٥٣٢
١١	مصر	٥٩٣,٤	٤,٢	٤٨,٨	٢١٨٦
١٢	السودان	١٢٢	١,٥	-	٨٥
١٣	عُمان	٨٥٦,٥	٥,١٥١	٢٩	٧٠٥
١٤	اليمن	١٤٠,٤	٢,٦٧	٩,٦	٤٧٩

إنتاج واحتياط دول الوطن العربي حسب إحصاء ٢٠١٤

* لاحظ الجدول المقابل ثم أجب عن التالي:

س/ أكمل ما يلي:

1. الدولة العربية الأولى في إنتاج واحتياطي النفط هي
2. الدولة العربية الأولى في إنتاج الغاز الطبيعي تسمى
3. أهم الدول المستوردة للنفط العربي هي: (أوروبا، اليابان، أمريكا)
4. ترتيب الكويت إنتاجاً واحتياطاً للنفط هو

س/ أذكر أسماء ثلاث دول عربية أولى في إنتاج النفط؟

..... /

س/ أذكر أسماء ثلاث دول عربية أولى في احتياط النفط؟

..... /

س/ أذكر أسماء ثلاث دول عربية أولى في إنتاج الغاز الطبيعي؟

..... /..... /.....

س/ أذكر أسماء ثلاث دول عربية أولى في احتياط الغاز الطبيعي؟

..... /..... /.....

س/ ما الأسباب التي أعطت النفط العربي أهمية عالمية؟

..... 1.

..... 2.

..... 3.

س/ علل لما يأتي:

1. يتمتع النفط العربي بمكانة على المستوى العالمي.

- نظراً لأهميته للدول الصناعية المتقدمة (أوروبا، الولايات المتحدة الأمريكية)،

2. يطلق على الغاز الطبيعي اسم الطاقة النظيفة.

..... -

س/ ما هي استخدامات الغاز الطبيعية؟

.....

.....

س/ ما أهم المعادن التي يمتلكها الوطن العربي؟

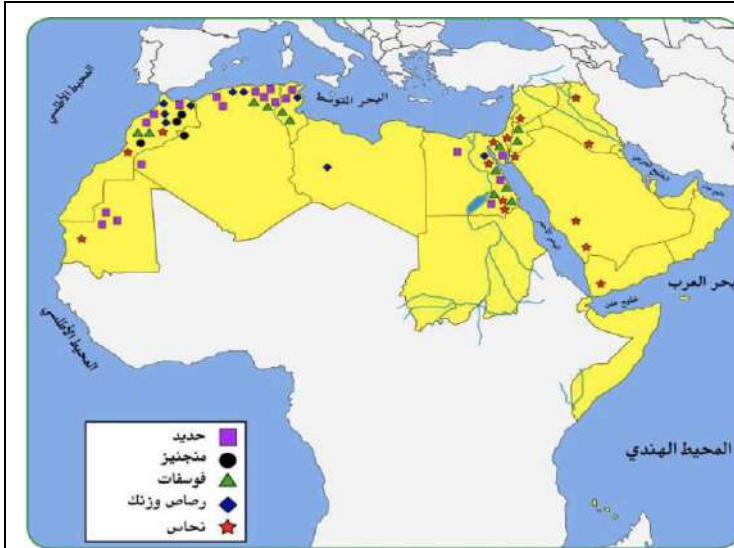
.....

س/ أكل الفراغات التالية:

1. الدولة العربية التي تحتل المرتبة الأولى في إنتاج الحديد هي

2. الدولة العربية التي تحتل المرتبة الأولى في إنتاج الفوسفات والمنجنيز والنحاس هي

س / لاحظ الخريطة المقابلة ثم أكمل الجدول:



شكل (٧٧) خريطة توزيع المعادن في الدول العربية

المعدن	الدول العربية المنتجة للمعدن
الفوسفات
الحديد
النحاس
الرصاص

س / قارن حسب الجدول التالي:

منظمة أوبك	منظمة أوبك	وجه المقارنة
هي منظمة الدول العربية المصدرة للنفط.	هي منظمة عالمية للدول المصدرة للنفط.	التعريف
		التأسيس
		الدول الأعضاء
		المقر
		الأهداف
		أجهزة المنظمة



الإنتاج الصناعي

س/ تتم عملية التصنيع على ثلاث مراحل أذكرها؟

مراحل التصنيع	مواد أولية	تحويل وتصنيع	توزيع
..... ،..... ،.....

س/ عرف ما يلي:

1. الصناعة:
2. مقومات الصناعة:

س/ ما هي مقومات الصناعة في الوطن العربي؟

2. مقومات بشرية	1. مقومات طبيعية	
.....	الطاقة	المواد الخام
.....
.....
.....
.....
.....
.....

س/ ما أنواع الصناعات في الوطن العربي؟

1. الصناعات الاستخراجية: وهي الصناعات التي تستخرج من باطن الأرض مثل (النفط والغاز، والمعادن وغيرها).
2. الصناعات التعدينية:
3. الصناعات التحويلية: وهي تحويل المواد الأولية إلى سلع استهلاكية صالحة للاستعمال. وتشمل ما يلي:
(الصناعات الغذائية، صناعة المنسوجات، صناعة الخشب والورق، الصناعات البتروكيمياوية، الإنشائية..)
4. الصناعات التجميعية:
5. الصناعات الحرفية: وهي الصناعات الأولى في العالم وتستخدم مواد أولية محلية وتعتمد على الجهد البشري.
6. الصناعات البتروكيمياوية:

س/ نفذ المطلوب في الجدول التالي:

ما أهم أنواع الصناعات البتروكيمياوية	ما أهم مشتقات النفط
‘.....‘	‘.....‘

س/ ما أهداف الصناعات البتروكيميائية؟

1. تنوع مصادر الدخل.
2. توفر المواد الأولية للصناعات التحويلية خاصة في مجال البناء.
3. تطوير الصناعات البتروكيميائية إلى تقنيات متخصصة وعالية.

س/ أين تتركز صناعة البتروكيمياويات في الوطن العربي؟





النقل والتبادل التجاري في الوطن العربي

تعد وسائل النقل والمواصلات من المقومات الأساسية التي تسهم في استغلال وتنمية الموارد الاقتصادية، فالتبادل التجاري ونشاطه يعتمد على توافر وسهولة النقل ووسائله). من خلال الفقرة السابقة أجب عن التالي:

س/ ما هي طرق النقل؟

1. الطرق البرية ووسائلها: (.....)
2. الطرق البحرية ووسائلها: (.....)
3. الطرق الجوية ووسائلها: (.....)

س/ ما أنواع النقل المائي؟

1. النقل النهري: يقتصر على نهر النيل ونهري دجلة والفرات.
2. النقل البحري: يتمتع الوطن العربي بسواحل ومنافذ بحرية طويلة ساعدت في إنشاء الموانئ التجارية والنفطية.

س/ علل لما يأتي:

1. قلة حجم النقل النهري بالنسبة لباقي وسائل النقل في الوطن العربي.

.....
2. إنشاء العديد من الموانئ التجارية والنفطية في الوطن العربي.

3. قلة التبادل التجاري بين دول الوطن العربي.

4. الطرق البرية أكثر انتشاراً من السكك الحديدية

س/ ما مميزات طرق النقل الجوي؟

س/ عرف المفاهيم التالية:

1. التبادل التجاري:

2. الصادرات: السلع التي تبعتها الدولة إلى الدول أخرى.

3. الواردات: السلع التي تشتريها الدولة من الخارج لسد احتياجاتها.

4. التجارة البينية:

س/ أكمل العبارات التالية:

1. الأسواق التي تحتل المرتبة الأولى بالنسبة للصادرات العربية هي

2. تقدر نسبة الواردات العربية من الأسواق الأوروبية بحوالي%.

3. تبلغ نسبة الصادرات بين الدول العربية%.

4. تبلغ نسبة الواردات العربية%.



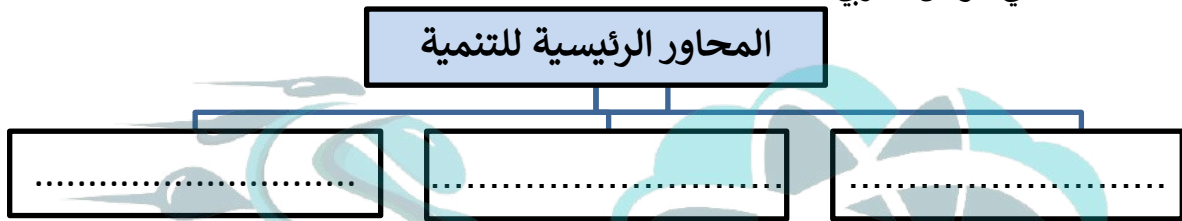


نحو مستقبل عربي أفضل التنمية في الوطن العربي

(حققت الدول العربية خلال العقود الثلاث الماضية إنجازات في مجالات التنمية الاقتصادية والاجتماعية والبشرية، وذلك بفضل التعاون بين الدول العربية لمواجهة التحديات). من خلال الفقرة السابقة أجب عن التالي:
س/ عرف المفاهيم التالية:

1. التنمية:
2. التضامن العربي:

س/ ما محاور التنمية في الوطن العربي؟



س/ فرق حسب الجدول التالي:

أهداف التنمية البشرية	أهداف التنمية الاقتصادية
.....
.....
.....

س/ ما أهم المشكلات التي تواجه التنمية البشرية؟

1.
2.
3.
4.

س/ عرف التنمية المستدامة؟ وما جوهرها؟

التنمية المستدامة:

جوهر التنمية المستدامة: (الحرية، المعرفة، العمل الجماعي، الإبداع، الكفاءة، حقوق المرأة، حقوق الطفل).

س/ اذكر بعض أهداف التنمية المستدامة؟

.....
.....
.....

س/ أكمل الجدول التالي: (أشهر علماء العرب في الخارج)

1. الدكتور فاروق الباز	2. الدكتور أحمد زويل	3. الدكتور محمد صلاح الدين زكي
التخصص:	التخصص:	التخصص:
.....

س/ ما أبرز المؤسسات الاقتصادية العربية التي تحقق التعاون والتكامل العربي؟

1. مجلس الوحدة الاقتصادية العربية. 2. المنظمة العربية للتنمية الزراعية.

س/ عرف الجامعة العربية؟ وما أهدافها؟

الجامعة العربية: هي منظمة إقليمية تضم الدول العربية تأسست في 22 مارس 1945م وتضم 22 دولة عربية.
أهداف جامعة الدول العربية

1.
2.

س/ أكمل الفراغات التالية:

1. العام الذي تأسست فيه جامعة الدول العربية هو
2. المقر الدائم لجامعة الدول العربية هو مدينة
3. العام الذي انضمت فيه الكويت إلى جامعة الدول العربية هو
4. العام الذي تم فيه إنشاء الصندوق الكويتي للتنمية الاقتصادية العربية هو
5. العام الذي تم فيه إنشاء صندوق أبوظبي للتنمية هو
6. العام الذي تم فيه إنشاء الصندوق السعودي للتنمية هو

س/ كيف ساهمت الصناديق الإنمائية العربية في التنمية العربية.

.....
.....



المشكلات الأساسية في الوطن العربي

س/ ما العقبات التي تواجه الإنتاج الزراعي في الوطن العربي؟

1.
2.
3.
4.
5.

س/ عرف المفاهيم التالية:

1. الرعي الجائر: هو الرعي غير المنظم الذي يحول المراعي إلى أراضي جرداء.

2. التصحر:

س/ ما أسباب التصحر؟

1.

2.

س/ علل: السودان والصومال وموريتانيا أكثر الدول العربية تهديداً بالتصحر؟

1.

س/ ما طرق علاج مشكلة التصحر في الوطن العربي؟

1.

4.

2.

5.

3.

س/ فرق حسب الجدول:

ما الإنجازات التي تحققت في هذا المجال؟	كيف عالجت الدول العربية مشاكل الزراعة؟
1. زياد الإنتاج باستخدام الأساليب العلمية.	1. الخطط التي تهدف لتكثيف العمل الزراعي وتطويره.
2. زيادة المساحة المزروعة.	2. اعتماد التكنولوجيا الحديثة وتأصيل البذور.
3. إقامة مشروعات الري.	3. استعمال الأسمدة المناسبة.

ما المحاصيل الزراعية التي ينتجها الوطن العربي؟	ما المحاصيل الزراعية التي يستوردها الوطن العربي؟
.....
.....

س/ علل: تشابه المحاصيل وتنافسها في الأسواق العربية وغياب محاصيل أخرى يمكن إنتاجها محلياً؟

.....

س/ ما أسباب تدني وفرة المياه في الوطن العربي؟

1.

2.

3.

4.

5.

س/ كيف نحافظ على الثروة المائية ونخفف من المشكلة؟

1.

2.

3.

4.

5.

(يصيب التلوث عناصر البيئة من عدة مصادر أهمها: صناعية، زراعية، منزلية، ومن أكثر هذه الملوثات انتشاراً التلوث الكيميائي مثل الغازات السامة كدخان المصانع وعوادم السيارات وغيرها). من خلال الفقرة السابقة أجب عن التالي:

س/ عرف التلوث؟ وما أسبابه؟

التلوث: هو الضرر الذي يلحق بالتربة والهواء والماء، ويصيب عناصر البيئة من عدة مصادر.

أسباب التلوث:

1.

2.

س/ ما أهم مظاهر التلوث؟

.....

.....

س/ ما أنواع التلوث؟

1. تلوث الهواء.
2. تلوث التربة.
3. تلوث المياه.
4. التلوث الضوضائي.

س/ ما أثر التلوث على الإنسان والنبات والحيوان؟

س/ ما الحلول المناسبة لمواجهة مشكلة التلوث البيئي؟

س/ أكمل الفراغات التالية:

1. أكثر الملوثات انتشاراً هو
2. المدينة التي عقد بها مؤتمر قمة الأرض لمكافحة التلوث تسمى
3. عدد الدول التي حضرت مؤتمر قمة الأرض بالبرازيل 1992م بلغ دولة.
4. لطبقة التي تحمي الأرض من الإشعاعات فوق البنفسجية تسمى
5. تعد الرياح والشمس من مصادر الطاقة

س/ ما دور الإنسان في الحفاظ على التوازن البيئي؟

1. المشاركة والحرص على تخضير المساحات من خلال غرس الشجار.
2. التخطيط العمراني السليم وابعاد المصانع بعيداً عن المدن.
3. إنشاء المحميات الطبيعية البرية منها والبحرية.

س/ ما النتائج المترتبة على التالي:

1. تلوث الهواء بالمواد الغازية الكلورية الموجودة في وسائل التبريد وتكرير المياه.

2. تلوث الهواء بأكسيد الكربون الناتج من عوادم السيارات.

3. الدخان المتصاعد من المصانع.

س/ عرف التوازن البيئي؟ وما الأعمال السلبية التي تؤدي إلى اختلال التوازن البيئي؟
التوازن البيئي: هو بقاء عناصر الطبيعية في حالة من التوازن لتؤدي وظائفها على أكمل وجه.
الأعمال السلبية التي تؤدي اختلال التوازن البيئي:

س/ ما فوائد إنشاء المحميات الطبيعية؟
.....
.....

س/ نفذ المطلوب منك في الجدول التالي:

تنمية الوعي البيئي	توليد طاقة نظيفة	حماية الموارد الطبيعية
.....
.....
.....
.....
.....

pedia

معهد سمارت مايند
SMART MIND INSTITUTE



نحو مستقبل عربي أفضل التنمية في الوطن العربي

(حققت الدول العربية خلال العقود الثلاث الماضية إنجازات في مجالات التنمية الاقتصادية والاجتماعية والبشرية، وذلك بفضل التعاون بين الدول العربية لمواجهة التحديات). من خلال الفقرة السابقة أجب عن التالي:
س/ عرف المفاهيم التالية:

1. التنمية:
2. التضامن العربي:

س/ ما محاور التنمية في الوطن العربي؟



س/ فرق حسب الجدول التالي:

أهداف التنمية البشرية	أهداف التنمية الاقتصادية
.....
.....
.....

س/ ما أهم المشكلات التي تواجه التنمية البشرية؟

1.
2.
3.
4.

س/ عرف التنمية المستدامة؟ وما جوهرها؟

التنمية المستدامة:

جوهر التنمية المستدامة: (الحرية، المعرفة، العمل الجماعي، الإبداع، الكفاءة، حقوق المرأة، حقوق الطفل).

س/ اذكر بعض أهداف التنمية المستدامة؟

.....
.....
.....

س/ أكمل الجدول التالي: (أشهر علماء العرب في الخارج)

1. الدكتور فاروق الباز	2. الدكتور أحمد زويل	3. الدكتور محمد صلاح الدين زكي
التخصص:	التخصص:	التخصص:
.....

س/ ما أبرز المؤسسات الاقتصادية العربية التي تحقق التعاون والتكامل العربي؟

1. مجلس الوحدة الاقتصادية العربية. 2. المنظمة العربية للتنمية الزراعية.

س/ عرف الجامعة العربية؟ وما أهدافها؟

الجامعة العربية: هي منظمة إقليمية تضم الدول العربية تأسست في 22 مارس 1945م وتضم 22 دولة عربية.
أهداف جامعة الدول العربية

1.
2.

س/ أكمل الفراغات التالية:

1. العام الذي تأسست فيه جامعة الدول العربية هو
2. المقر الدائم لجامعة الدول العربية هو مدينة
3. العام الذي انضمت فيه الكويت إلى جامعة الدول العربية هو
4. العام الذي تم فيه إنشاء الصندوق الكويتي للتنمية الاقتصادية العربية هو
5. العام الذي تم فيه إنشاء صندوق أبوظبي للتنمية هو
6. العام الذي تم فيه إنشاء الصندوق السعودي للتنمية هو

س/ كيف ساهمت الصناديق الإنمائية العربية في التنمية العربية.

.....
.....



نموذج التعاون العربي ال مشترك بين دول ذات انتماء جغرافي

* لاحظ الشكل المقابل ثم أجب عن التالي:

س/ ما ذا يمثل الشعار المقابل؟



س/ أكمل الفراغات التالية:

1. العام الذي أعلن فيه مجلس التعاون الخليجي هو
2. المدينة التي أعلن منها مجلس التعاون الخليجي هي
3. عدد الدول التي يضمها مجلس التعاون الخليجي

س/ ما أهداف مجلس التعاون الخليجي؟

* اتخذت عدة منظمات عربية من دولة الكويت مقراً لها مثل:

المنظمة العربية للتربية والثقافة والعلوم (ألكسو)	المنظمة العربية للتنمية الصناعية والتعدين.	المنظمة العربية للتنمية الزراعية.

س/ ما أهم المساعدات التي قدمها الصندوق الكويتي للتنمية الاقتصادية العربية؟

س/ أكمل الفراغات التالية:

1. أول مؤسسة لتنمية في الوطن العربي هي
2. الشيخ الذي تأسس في عهده الصندوق الكويتي للتنمية الاقتصادية هو
3. الوزارة التي يتبعها حالياً الصندوق الكويتي للتنمية الاقتصادية هي

4. الدولة التي استضافت القمة العربية الاقتصادية والتنموية في يناير 2009م هي
5. الشيخ صاحب فكرة عقد القمة العربية الاقتصادية للتنمية 2009م هو
6. الدولة التي عقد فيها أول مؤتمر للمانحين 2013م لدعم الوضع الإنساني السوري هي

س/ فرق حسب الجدول التالي:

أهداف الصندوق الكويتي للتنمية الاقتصادية	أهداف الاقتصادية التنموية العربية
1.	1. انشاء بنك عربي لتمويل المشاريع التنموية
2.	2. القضاء على البطالة والفقر.
3.	3. الاعتناء بالعنصر البشري والتنمية المستدامة.
4.	4. الاستثمار الاقتصادي بين الدول العربية.

س/ أكمل المخطط السهمي التالي:

المؤتمر الدولي للمانحين لدعم الوضع الإنساني في سوريا

