



العلوم Science

وزارة التربية

التوجيه الفني للعلوم

اللجنة الفنية المشتركة للفصول الخاصة

الصف الثالث
الجزء الثاني

بنك اسئلة الصف الثالث

الفصل الدراسي الثاني

٢٠١٨-٢٠١٩

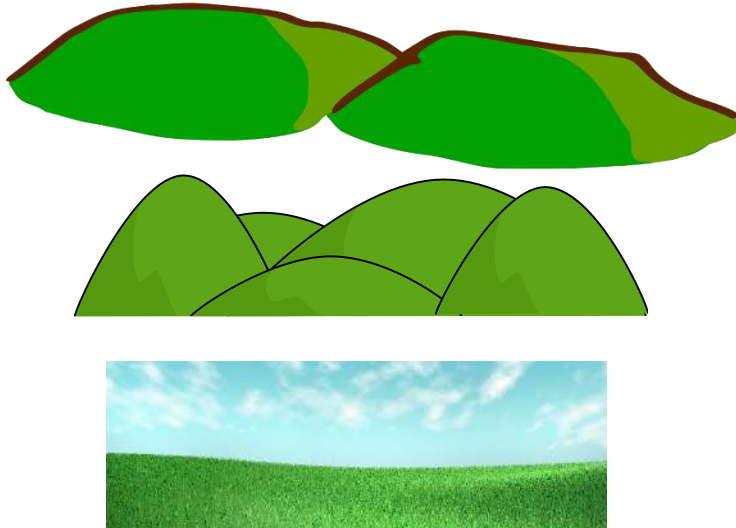


كتاب التلميذ
المرحلة الابتدائية

الطبعة الأولى

الوحدة التعليمية	الأولى
الكفايات الخاصة	(٣-١) تعرف خصائص سطح الأرض في الكويت.
	(١-٢) فحص وتصنيف أجزاء النباتات ونموها في دولة الكويت .

الكفاية الخاصة : (١ – ٣) تعرف خصائص سطح الأرض في الكويت.
السؤال الأول : صل بين مظاهر سطح الأرض والصورة المناسبة لها :-

	تلال هضاب سهل
--	---------------------

السؤال الثاني : ضع علامة (✓) امام العبارة الصحيحة وعلامة (✗) امام العبارة الخاطئة في كلا مما يلي :-

١- من مظاهر سطح الأرض في الكويت وجود الجبال . ()

٢- يوجد بالكويت وادي يسمى حفر الباطن. ()

٣- نبنى منازلنا في دولة الكويت على تلال من الرمال ()


السؤال الثالث : من خلال تفحصك لأنواع التربة المختلفة ، ارسم حجم الحبيبات للتربة الموضحة :



تربة طينية



تربة زراعية



تربة رملية

السؤال الرابع : تم وضع ٣ انواع مختلفة من التربة في كلا قمع من الاقماع ،ساعد أحمد في التعرف على نوع التربة من خلال ملاحظة كمية الماء النافذ في الكأس:



١- التربة (٣) هي تربة

٢- تربة الكويت رقم

السؤال الخامس : ضع علامة (✓) امام العبارة الصحيحة وعلامة (✗) امام العبارة الخاطئة في كلا مما يلي :-

١- تختلف الصخور في ألوانها ()



٢- الصخور متشابهة في الملمس ()

٣- يختلف التماسك بين كل صخر وآخر ()

الكفاية الخاصة : (٢ – ١) فحص وتصنيف أجزاء النباتات ونموها في دولة الكويت .

السؤال الأول : اختر الإجابة الصحيحة علمياً لكل من العبارات التالية بوضع علامة (✓) في المربع المقابل لها :

١- نبات صحراوي :-



٢- نبات تعتبر زهرته الزهرة الوطنية لدولة الكويت :-



الرمث



الأقحوان



الكحيل



العرفج

٣- لحل مشكلة قلة المياه في دولة الكويت نقوم ب :-



السؤال الثاني : ضع علامة (✓) امام العبارة الصحيحة وعلامة (✗) امام العبارة الخاطئة في كلا مما يلي :-

- ١- تنمو النباتات الحولية بعد سقوط الأمطار مباشرة () .
- ٢- النباتات المعمرة هي نباتات تتواجد طوال العام () .
- ٣- النباتات الصحراوية هي نباتات تحتاج الى كمية مياه كبيرة () .
- ٤- التربة الصحراوية لا يمكن استصلاح اراضيها فلا يمكن الزراعه فيها () .

السؤال الثالث : في الجدول التالي اختر العبارة من المجموعة (ب) واكتب رقمها أمام ما يناسبها من عبارات المجموعة (أ) حتى يستمر نمو النباتات في دولة الكويت :

الرقم المناسب	مجموعة (أ) المشكلة	الرقم	مجموعة (ب) الحل
()	الرياح في الصحراء	(١)	
()	ارتفاع درجات الحرارة في الصحراء	(٢)	

الوحدة التعليمية	الثانية
الكفايات الخاصة	(٥-١) تعرف وتقدير قيمة المحافظة على البيئة الكويتية.
	(٧-٢) بيان كيفية التصرف لتحقيق السلامة في البحر وعند التخيم في الصحراء .
	(٤-٢) إنشاء وتشغيل جهاز تنقية ماء ليحدد ويسجل نقاء الماء .

الكفاية الخاصة : (١ - ٥) تعرف وتقدير قيمة المحافظة على البيئة الكويتية.

السؤال الأول : من خلال الصور التالية أجب عما يلي :-



٢



١

- انا افضل الذهاب الى شاطئ رقم

- السبب

.....

معلمة
صفوة
الكويت
Kuwaitteacher.Com



السؤال الثاني : اكتب تعليق على الصورة :-

.....

.....

السؤال الثالث : حوط السلوكيات الصحيحة في كلا مما يلي :-




الكفاية الخاصة : (٧-٢) بيان كيفية التصرف لتحقيق السلامة في البحر وعند التخيم في الصحراء .

السؤال الأول : أجب عن الأسئلة التالية :-

الجزء يشير الى

ارسم مستوى الماء المناسب للقارب



السؤال الثاني : ضع علامة (✓) امام الأدوات اللازمة للذهاب الى رحلة بحرية بالقارب وعلامة (✗) حول الادوات التي لا تحتاجها .



السؤال الثالث : ضع علامة (✓) امام العبارة الصحيحة وعلامة (✗) امام العبارة الخاطئة في كلا مما يلي :-

- ١- عند الذهاب الى البر يجب عدم رمي الأوساخ على الارض () .
- ٢- نشعل فحم الشواء بالأماكن المغلقة ()
- ٣- يجب قتل الحيوانات الصحراوية عند الذهاب الى التخييم ()



السؤال الرابع :اجب عن السؤال التالي :

عندما ذهبت للتخييم في البر شاهدت هذا السلوك

قدم نصيحة لهذا الولد .

.....

.....

الكفاية الخاصة : (٢-٤) إنشاء وتشغيل جهاز تنقية ماء ليحدد ويسجل نقاء الماء .
السؤال الأول : اكمل الفراغ بكلمة علمية صحيحة :-

١- ماء البحر ماء غير صالح للشرب () .

٢- التبخير هو تحويل الماء من الحالة السائلة الى الصلبة بالحرارة () .

٣- عند تكثيف ماء البحر نحصل على ماء صالح للشرب ()




السؤال الثاني : اجب عن الاسئلة التالية :-

- عند غلي ماء البحر يتبخر الماء كله ويتبقى



- عند وضع سطح بارد مثل المرآه كما في الصورة ماذا يتجمع على سطح المرآه



السؤال الثالث : أجب عن الاسئلة التالية :-

الشكل يمثل


السؤال الثالث : صل بين الصورة والكلمة المناسبة لها فيما يلي :-

عملية تكثيف

عملية التبخير



السؤال الرابع : اجب عن الاسئلة التالية :-



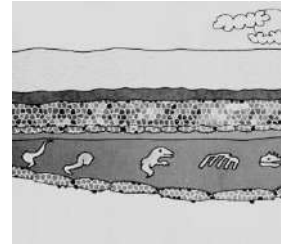

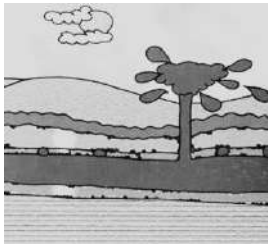
- يوجد بداخل الأبراج

الوحدة التعليمية	الثالثة
الكفايات الخاصة	(١ - ٣) التعرف على دور التكنولوجيا في استخلاص واستخدام النفط.
	(٣ - ٣) تعرف وتوضح الممارسات الآمنة والمخاطر المتعلقة في استخدام النفط في الكويت.

الكفاية الخاصة: (٣ - ١) التعرف على دور التكنولوجيا في استخلاص واستخدام النفط:

السؤال الأول : اختر الإجابة الصحيحة علمياً لكل من العبارات التالية بوضع علامة (✓) في المربع المقابل لها :

١- المرحلة الأولى من مراحل تكون النفط هي :



السؤال الثاني : اكمل الفراغات التالية بما يناسبها علمياً من الكلمات الموجودة ما بين القوسين وذلك فيما يلي:

١- يوجد في باطن الأرض وهو ثروتنا الرئيسية في الكويت..... (ماء - نفط).


٢- يعتبر قوام النفط (ثقيل - خفيف).

الكفاية الخاصة: (٣- ٣) تعرف وتوضح الممارسات الآمنة والمخاطر المتعلقة في استخدام النفط في


الكويت:

السؤال الأول : اختر الإجابة الصحيحة علمياً لكل من العبارات التالية بوضع علامة (✓) في المربع المقابل لها:

١- من طرق المحافظة على الهواء من التلوث :



السؤال الثاني : اختر رقم المنتج النفطي المناسب وضع رقمه أسفل الصورة:

من المنتجات النفطية وتستخدم بكثرة في القضاء على الحشرات ()	(١) 
	(٢) 
	(٣) 

السؤال الثالث : ضع علامة (√) أمام العبارة الصحيحة وعلامة (X) أمام العبارة غير الصحيحة فيما يلي:

١. يفضل تناول المشروب الساخن في كأس من الزجاج بدلاً من الفلين. ()
٢. تعتبر أكياس البلاستيك صديقة للبيئة. ()
٣. الغازات المنبعثة من عوادم السيارات تسبب تلوث الهواء الجوي. ()

السؤال الرابع : اكمل الفراغات التالية بما يناسبها علمياً من الكلمات الموجودة ما بين القوسين وذلك فيما يلي:

- ١- تصنع الأكياس التي يمكن إعادة استعمالها منالورق.....(الورق – البلاستيك).

السؤال الخامس : قابل بين ما هو محدد في الجدول وذلك فيما يلي:

بنزين	مبيدات حشرية	
.....		وجه الشبه

الوحدة التعليمية	الرابعة
الكفاية الخاصة	(٣ - ٤) التعبير عن المعلومات حول صناعة النفط في الكويت من خلال استخدام المعرفة والمهارات المكتسبة خلال تعلم المواد الدراسية الأخرى.

السؤال الأول : اختر الإجابة الصحيحة علمياً لكل من العبارات التالية بوضع علامة (✓) في المربع المقابل لها :

١. مادة تستخدم في صناعة إطارات السيارات :

بنزين مطاط فلين

٢. مادة صناعية خفيفة تطفو فوق سطح الماء وتستخدم لصناعة الأكواب العازلة للحرارة :

خشب فلين بلاستيك

السؤال الثاني : ضع علامة (✓) أمام العبارة الصحيحة وعلامة (X) أمام العبارة غير الصحيحة فيما يلي:

١- يستخدم النفط كوقود للسيارات. ()



٢- استخدام أكواب الورق أكثر أماناً من استخدام أكواب الفلين. ()

السؤال الثالث : اكمل الفراغات التالية بما يناسبها علمياً من الكلمات الموجودة ما بين القوسين وذلك فيما يلي:

١. من المنتجات النفطية المفيدة في حياتنا (بنزين – قلم رصاص).

٢. تسبب كثرة استخدام بعض المنتجات النفطية أمراض (الزكام – الربو).

السؤال الرابع : قارن بين ما هو محدد في الجدول وذلك فيما يلي:

		وجه المقارنة
.....	المادة المصنوعة منها

معلمي الكويت
صفوة
KuwaitTeacher.Com