



العلوم

الأستاذ إبراهيم علي

الفصل الدراسي الثاني

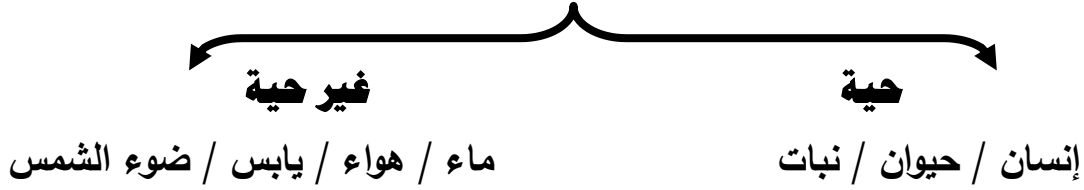
معلمي الكويت
صفوة الكويت
KuwaitTeacher.Com

Ibrahim ali



- تتكون البيئة من سطح الأرض و ما تحته و ما فوقه من هواء و أنهار و بحيرات و بحار و محيطات و تربة و ما يعيش عليها من إنسان و حيوان و نبات .

مكونات البيئة



- تعتمد المكونات الحية على المكونات غير الحية في معيشتها .

- الإنسان يعتمد في معيسته على غيره من المكونات الحية و غير الحية في البيئة .

- كل كائن حي يعيش في بيئة خاصة به ، و يشاركه في نفس الحيز مكونات أخرى يتفاعل معها قد تكون حية و قد تكون غير حية .



- تحتوي بيئة النمل على مكونات متعددة و يتفاعل معها النمل بطريقة معينة .

- الكائنات الحية تعيش في بيئة خاصة بها و تشارك نفس الحيز مع مكونات أخرى.

الحياة في حديقة المدرسة : ص ١٧

صنف مكونات تربة حديقتك المدرسية ثم سجل مشاهدتك :



شكل (2)

حبيبات رملية و
طينية / ماء /
هواء / دبال

مكوّنات غير حيّة

حشرات / فطريات
كائنات دقيقة / ديدان
جذر نبات / حشائش

مكوّنات حيّة

ناقش زملائك ثم صف كيف تتفاعل هذه الأجزاء مع بعضها البعض في الحديقة :

تتفاعل المكونات الحية مع المكونات غير الحية في علاقة أخذ و عطاء .

تتفاعل المكونات الحية مع بعضها البعض في علاقة غذائية تأخذ شكل السلسلة الغذائية .



Ibrahim ali

موطن طبيعي سعيد : ص ١٨

أكتب المكونات التي ستضعها مع سمك الزينة حتى تكون في موطن طبيعي مناسب :

- ١- نبات بحري
- ٢- حصى و رمل و زلط لتكوين قاع الحوض
- ٣- كشاف للإضاءة
- ٤- مضخة هواء
- ٥- سخان ليحافظ على درجة حرارة الماء
- ٦- فلتر لتنقية الماء

* **النظام البيئي** : هو المكونات الحية و غير الحية التي تتواجد في مكانٍ ما .

* **الموطن الطبيعي** : هو المكان الذي يعيش فيه الكائن الحي . مثل الصحراء ، الغابة ، البحيرة



- الموطن الطبيعي للبطة هو البحيرة أو المكان القريب منها حيث يقضي البطم معظم وقته في السباحة في البحيرة .

* **المجال** : هو الدور الذي يقوم به الكائن الحي في موطنه الطبيعي .

- لكل كائن حي مجال مختلف .

- تساعد هذه المجالات المختلفة على تنوع الكائنات الحية في الموطن الطبيعي الواحد .



تجمع الثعابين في الصحراء

- أي أن الموطن الطبيعي الواحد يضم أنواع عدة من الكائنات الحية .

- كل نوع من أنواع الكائنات الحية يسمى تجمع .

* **التجمع** :- هو كافة أعضاء نوع واحد تعيش في المنطقة نفسها .

- هو مجموعة أفراد نوع ما تعيش في منطقة واحدة .



شكل (٦)

- تجمعات الكائنات الحية التي تعيش في منطقة ما تسمى بالمجموعة البيئية .

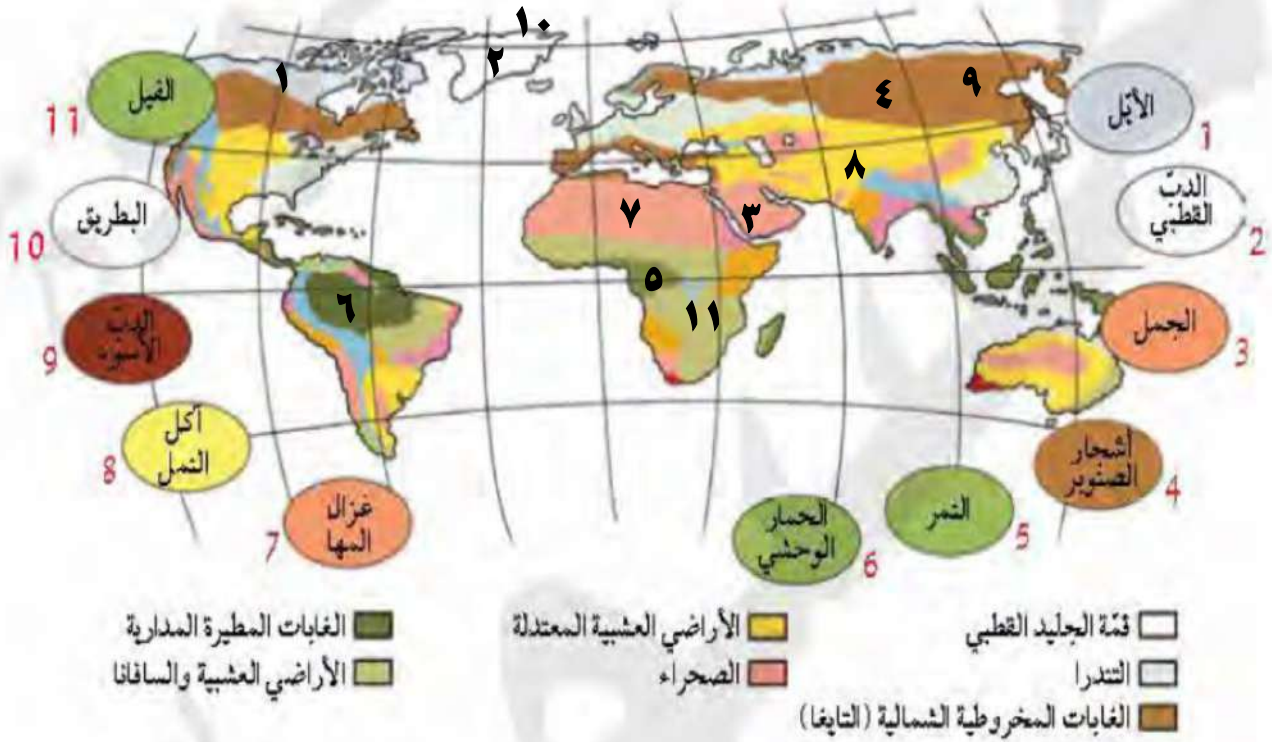
* **المجموعة البيئية** : هي تجمعات الكائنات الحية كلها التي تعيش في منطقة واحدة .

س : علل : تختلف البيئات الحيوية على سطح الأرض .

ج : السبب : نتيجة اختلاف درجات الحرارة من مكان لآخر و اختلاف كمية سقوط الأمطار .

- سطح الأرض بيئتين أساسيتين ماء و يابس ، و يمكن تقسيم بيئة اليابس إلى سبعة أنواع .

هل رأيت الحيوانات في الشكل (6) من قبل؟ أين يعيش باعتقادك؟ في الصحراء



- * أنا أسكن في البيئة الحيوية الصحراء
- * صيف البيئة الحيوية التي تعيش فيها **حار جاف صيفا بارد قليل الأمطار شتاء**
- * حدّد رقم الكائن الحيّ في البيئة الحيوية التي يعيش فيها على الخريطة.
- * صيف البيئة الحيوية التي تعيش فيها الكائنات الحيّة بحسب رقم الكائن الحيّ.

1	غطاء ثلجي/باردة	4	شتاء بارد/صيف قصير	7	حارة جدا صيفا
2	غطاء ثلجي/باردة جدا	5	أشجار كثيفة/مطر	8	معتدلة المناخ
3	حارة جدا صيفا	6	أشجار كثيفة/مطر	9	شتاء بارد/صيف قصير

* فسّر سبب اختلاف البيئات الحيوية للكائنات الحيّة المختلفة.

لاختلاف درجات الحرارة و اختلاف كمية سقوط الأمطار

- مما سبق يتضح أن البيئات على سطح الأرض تختلف باختلاف درجات الحرارة و كمية سقوط الأمطار ، و أن سطح الأرض عبارة عن بيئتين كبيرتين هما بيئة الماء و بيئة اليابس .
- البيئات الحيوية على سطح الأرض متنوعة .

البيئات الحيوية

بيئات الماء

- الأفلاج
- الأنهار
- البرك
- المستنقعات
- البحار
- المحيطات

بيئات اليابس

- غابات مدارية مطيرة
- أراضي عشبية (سافانا)
- أراضي عشبية معتدلة
- التندرا - الصحراء
- غابات مخروطية (التايغا)
- الجليد القطبي



شكل (9)

الأراضي العشبية (السافانا)

أعشابها طويلة، ثقّل أو تنعدم فيها الأشجار. يتواجد أفضل نماذجها في أفريقيا حيث تكثر الحيوانات آكلة الأعشاب.



شكل (8)

الغابات المدارية المطيرة

أشجارها كثيفة، غزيرة الأمطار، تتميز بثبات متوسط الحرارة اليومية طوال أيام السنة.



شكل (11)

التندرا

أشجارها صغيرة ويغطيها الثلج والجليد معظم أيام السنة.



شكل (10)

الأراضي العشبية المعتدلة

منتشرة في المناطق الداخلية من القارات. تمثل المناطق الانتقالية بين الصحاري والغابات المعتدلة.



شكل (13)

الجليد القطبي

يُعتبر أبرد مكان على وجه الأرض، وتعيش غالبية الحيوانات في القطب الشمالي أكثر منه في القطب الجنوبي.



شكل (12)

الغابات المخروطية (التايغا)

تتميز أشجارها بأوراق إبرية تحمل المخاريط، وتنمو في المناطق الشمالية من الكرة الأرضية التي تتصف بشتاء بارد طويل كثير الثلوج وصيف قصير.

- كلما اختلفت البيئة تختلف أنواع الكائنات الحية التي تعيش فيها .

- هناك علاقة وثيقة بين الكائن الحي و موطنه ، هذه العلاقة تخلق تداخل بين المكونات الحية و غير الحية ، حيث تعتمد الكائنات الحية على المكونات غير الحية في معيشتها .

- النبات ككائن حي يعتمد على المكونات غير الحية مثل الماء و ثاني أكسيد الكربون و ضوء الشمس في صنع غذائه من خلال قيامه بعملية البناء الضوئي ، و يضيف للبيئة غاز الأوكسجين .

- عملية البناء الضوئي التي يقوم بها النبات لها علاقة بعملية تنفس الكائنات الحية حيث توفر عملية البناء الضوئي الأوكسجين اللازم لتنفس الكائنات الحية .

- عملية تنفس الكائنات الحية أيضا هي علاقة أخذ و عطاء حيث يتم أخذ الأوكسجين و إعطاء غاز ثاني أكسيد الكربون للبيئة .

- مما سبق يتضح أن هناك علاقة أخذ و عطاء بين المكونات الحية و غير الحية في البيئة .



شكل (7)

* أكتب، على الصورة، ماذا يضيف الكائن الحي إلى البيئة، وماذا يستهلك منها.

* يتبين أن هناك علاقة أخذ و عطاء بين المكونات الحية و غير الحية في الموطن البيئي.

صمم نموذج لبيئة صحراوية موضعا أنواع الكائنات الحية المتعددة التي تُكوّن تجمعا و

Ibrahim ali

مجموعة بيئية : ص ٢٣



تجمع ثعابين



تجمع من الضب



تجمع جرابيع



تجمع من الإبل



تجمع من المها العربي

كل هذه التجمعات معا تُكوّن مجموعة بيئية تعيش في الصحراء .

اكتب تقريرا يوضح أنواع الكائنات الحية في نظام بيئي معين ، محددا أهمية تعدد

مصادر الغذاء لنوع معين من الكائنات الحية : ص ٢٤

(١) المنتجات : وهي النباتات و الطحالب التي تقوم بتكوين غذائها بنفسها معتمدة في ذلك على عناصر غير حية .

(٢) المستهلكات : مثل حيوانات آكلة العشب، وكذلك آكلة اللحم ، والإنسان .

(٣) المحللات : وهي عبارة عن عناصر تقوم بتحليل أي مادة عضوية إلى مواد مفككة، أو مواد سهلة الامتصاص، وتتضمن: الفطريات والبكتيريا.



شكل (4)

المجموعة البيئية في بيئة الحشائش

KuwaitTeacher.Com

- يحتاج الكائن الحي إلى مصدر طاقة كي يعيش و ينمو .
- مصدر الطاقة الرئيسي للكائنات الحية هو الغذاء .
- النبات هو الكائن الحي الوحيد بالإضافة إلى الطحالب الذي ينتج غذائه بنفسه بعد أن يستمد الطاقة من الشمس .
- الكائنات الحية الأخرى (الحيوانات و الإنسان) تعتمد على غيرها في الحصول على الطاقة .
- لذلك توجد علاقة بين الكائنات الحية و بعضها في النظام البيئي هي علاقة غذائية تأخذ شكل السلسلة الغذائية .

الكائنات الحية المنتجة والكائنات الحية المستهلكة

أمامك بيئتان قام الإنسان بيناتهما. حدّد منهما المطلوب في الجدول.



بيئة رقم (2)



بيئة رقم (1)

بيئة رقم (2)	بيئة رقم (1)	
نباتات	طحالب / نباتات مائية	كائن منتج يصنع الغذاء
الغنم/الأرانب/الحصان/البقر	سلحفاة / أسماك صغيرة	كائن مستهلك يأكل النباتات
الإنسان	أخطبوط / سمكة القرش	كائن مستهلك يأكل الحيوانات

فكر : إلام تحتاج الكائنات الحية المنتجة لتصنع غذائها ؟ ص ٢٦

ماء و أملاح - ثاني أكسيد الكربون - ضوء الشمس .

فكر : إلام تحتاج الكائنات المستهلكة للغذاء لتبقى حية ؟ ص ٢٦

الحصول على الغذاء - حماية من الافتراس كي تبقى حية - أكسجين للتنفس .

الكائنات الحية

كائنات مستهلكة

كائنات منتجة

تحصل على الطاقة من النباتات المنتجة

تحوّل الطاقة المستمدة من الشمس

بطريقة مباشرة أو غير مباشرة

إلى طاقة مختزنة في الغذاء (سكر/نشا)

آكلات لحوم (مفترسة)

آكلات نبات (أعشاب)

تستخدم جزء للنمو و تُخزن الباقي

- مما سبق نستنتج أن الحياة على سطح الأرض تعتمد على طاقة الشمس .

* الكائنات المنتجة : هي التي تستخدم ضوء الشمس لتصنع الغذاء من الماء و ثاني أكسيد الكربون.

* الكائنات المستهلكة : هي التي تستهلك كائنات حية أخرى لتأمين غذائها .

* إختار الكائنات الحية من البيئتين التاليتين، وضّعها في تسلسل يبيّن انتقال الطاقة (الغذاء).



سمك كبير

سمك صغير

طحالب

3

2

1

نمر

ثعلب

غزال المها

نبات

4

3

2

1

صقر

ثعبان

ثعلب

جربوع

نبات

5

4

3

2

1

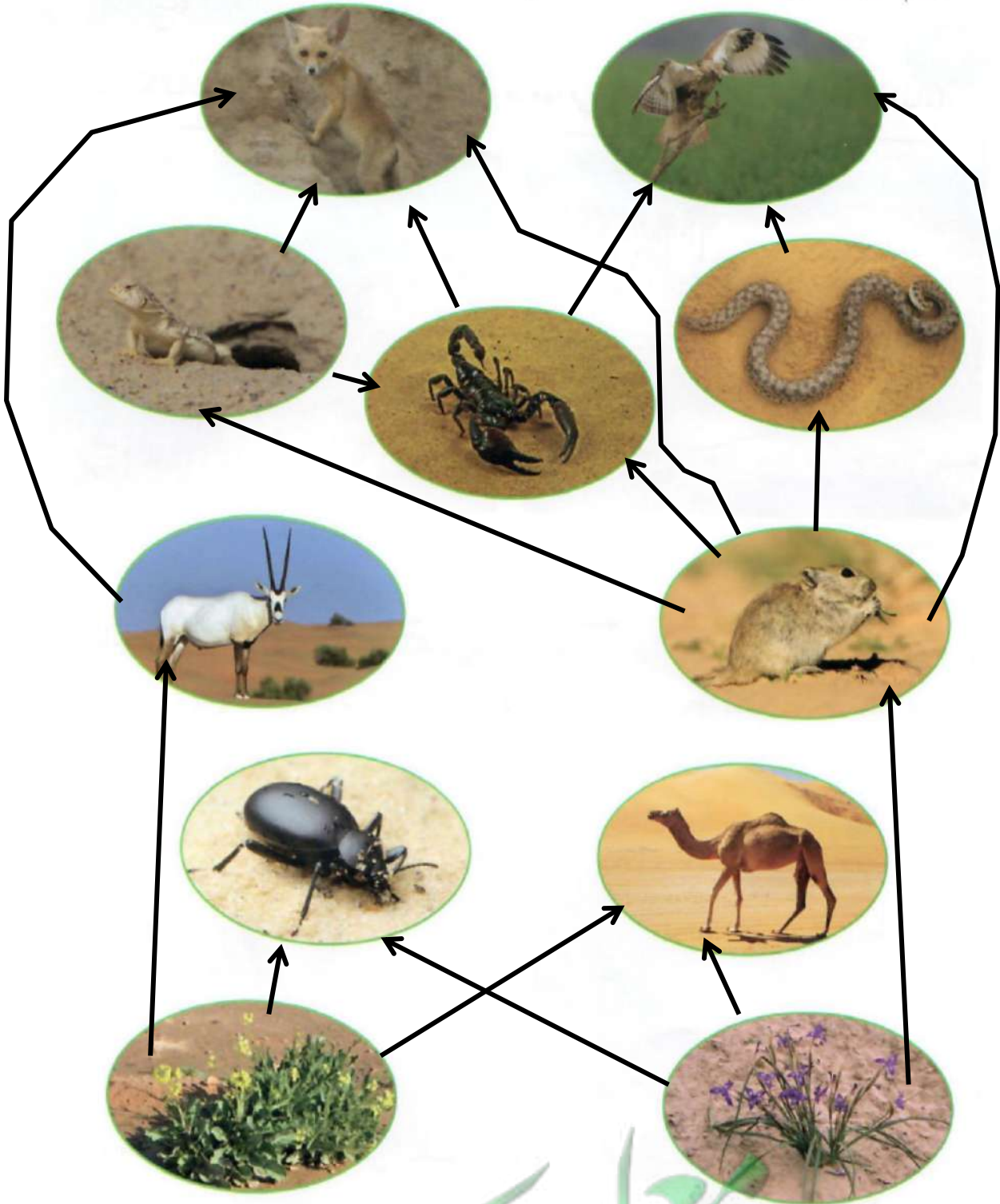
* هل وضعت كائنًا حيًّا في أكثر من تسلسل واحد؟ فسّر.

* نعم - لتداخل الكائنات الحية مع بعضها البعض ولوجود أكثر من نوع في منطقة واحدة

* توقّع ما الكائنات الحية التي سيكون عددها أكبر في البيئتين السابقتين؟

الكائنات الحية المنتجة أكثر عددًا من الكائنات المستهلكة في أي بيئة.

4. أرسم أسهمًا تبين انتقال الطاقة من كائن حيّ إلى آخر في النظام البيئي الصحراوي.



* ماذا تلاحظ على الأسهم؟

تتداخل فيما بينها وتوجه من المنتجات إلى المستهلكات ثم توجه من الأضعف

إلى الأقوى و تصبح متشابكة ، أي أنها تكون شبكة غذائية .

- الطاقة تنتقل من كائن حي لآخر في النظام البيئي .

* **السلسلة الغذائية** : رسم بياني يُستخدم لإظهار كيفية انتقال الطاقة و المغذيات من كائن حي لآخر.

- أعداد الكائنات المنتجة يفوق أعداد الكائنات المستهلكة .

- أعداد آكلات الأعشاب يفوق أعداد آكلات اللحوم .

* **الشبكة الغذائية** : هي تداخل السلاسل الغذائية كلها في مجموعة بيئية معينة .

س : ماذا ينتج عندما تترابط السلاسل الغذائية المختلفة في النظام البيئي ؟

ج : ينتج علاقات معقدة مكوّنة الشبكة الغذائية .

- الشبكة الغذائية تُظهر اعتماد الكائنات الحية على بعضها .

- الأسهم في السلسلة الغذائية أو في الشبكة الغذائية تُظهر العلاقات بين المكونات الحية .

- عدد الأسهم في الشبكة أكبر من عدد الأسهم في السلسلة .

ابحث عن مجموعة من أسماء بعض الكائنات الحية في بيئة الكويت الصحراوية : ص ٢٩

النخيل / العرفج / العوسج / الرمث / الإقحوان / لحية التيس / الربلة / شجر الصفصاف

عقارب / ضب / ثعابين / ورل / حرباء / غزال / يربوع / إبل / خفافيش / أرانب برية


س : ماذا تتوقع أن يحدث عند إزالة أحد أنواع الكائنات الحية من النظام البيئي ؟

ج : يحدث خلل في التوازن البيئي .

- التنوع في الكائنات الحية في النظام البيئي أمر جيد لأنه يؤدي إلي حدوث التوازن البيئي .

ما الاختلافات الستة ؟ ص ٣٠

صُغ دائرة حول الاختلافات الستة بين الصورتين اللتين تمثلان البيئة البحرية.



* توقع ما سيحدث في الصورة عند الجهة اليمنى بعد فترة من الزمن.

يحدث خلل في التوازن البيئي

* فسّر توقعك.

لأن عدم وجود كائنات آكلة لحوم في البيئة سوف يؤدي إلى زيادة عدد آكلات الأعشاب

وبالتالي تقل المنتجات في البيئة ويؤدي ذلك إلى خلل و عدم اتزان بيئي

نستنتج أن التنوع في الكائنات الحية في النظام البيئي يخلق **التوازن** في البيئة، بينما

يؤدي نقص أحد عناصر النظام البيئي إلى حدوث **خلل** في البيئة.



- البيئة الطبيعية قبل التمدن و بعده :


* منذ أن بدأ الإنسان يستوطن بيئات مختلفة و أقام المدن على بيوت كائنات أخرى حدثت بعض التغيرات في البيئة منها :-

(١) تناقص أعداد بعض الكائنات الحية التي يصطادها الإنسان كالغزلان و الأرانب ، و قد أدى ذلك إلى تجرؤ بعض الكائنات المفترسة على الإنسان و دخولها إلى سلسلته الغذائية مثل النمور و الدببة .

(٢) نقص عدد الفرائس و زيادة عدد الكائنات المفترسة .

* الشكل التالي يوضح :-

انقراض أنواع الكائنات الحية مع زيادة أعداد البشر



و من الشكل يتضح أن العلاقة بين انقراض الكائنات الحية و زيادة أعداد البشر علاقة طردية .

* ما سبب الخلل البيئي الذي حدث في المثال السابق ؟ ص ٣١

اختفاء بعض الكائنات الحية من البيئة كالغزلان و الأرانب .

* في رأيك ، هل للإنسان دور في اختفاء بعض الكائنات الحية من مواطنها الطبيعية ؟ ص ٣٢
نعم له دور أكيد – فمع زيادة عدد السكان و بناء مدن جديدة زاد انقراض بعض الحيوانات

* ما التوصيات التي تقترحها لإعادة التوازن البيئي ؟ ص ٣٢

- انشاء محميات طبيعية .
- إقامة المدن الجديدة في الصحراء المترامية .
- عدم قطع الأشجار و المحافظة عليها .
- الحفاظ على البيئات الطبيعية .

- نستنتج مما سبق أن أي نقص أو تغير في النظام البيئي يمكن أن يعطل الشبكة الغذائية .

- اختفاء أو زيادة كائن حي واحد في الشبكة الغذائية يؤدي إلى خلل في التوازن البيئي .

- كلما قل تنوع الكائنات الحية تحدث تغيرات في النظام البيئي لإعادة التوازن .

صمم نموذج لنظام بيئي باستخدام صور ، موضحاً أثر الإخلال بأحد عناصر البيئة على الكائنات الحية : ص ٣٢



سبب اختلال التوازن هو عدم وجود الماء في البيئة .

س : علل : تعتبر مهمة الحفاظ على الأرض من المشكلات التي تغل بالتوازن أمرا هاما لكل إنسان .
ج : لأن هذا الأمر سيحدد نوع الطعام و جودة الحياة المتاحة لنا في السنوات القادمة .

س : ما الذي يحدث عند اهتمامنا اليوم بالأرض و بيئاتها الطبيعية ؟
ج : سيؤثر ذلك على العالم الذي نعيش فيه في السنوات الخمسين القادمة .

التحديات البيئية : ص ٣٤

حدد الآثار المترتبة على المشكلات المتعلقة بالبيئة بما فيها من مكونات :-

الآثار	المشكلات
قلة النبات / تدهور الرعي / هجرة السكان / زيادة العواصف الترابية / زيادة ملوحة التربة و فقد لخصوبتها .	التصحّر
تلوث الشواطئ / فقد الكائنات الشاطئية لبيئاتها / موت بعض الكائنات الشاطئية مثل المرجان / تغير نسبة ملوحة الماء .	ردم الشواطئ
قلة خصوبتها / تعرض التربة للانجراف و الجفاف .	استنزاف التربة
قلة الإنتاج الزراعي / ارتفاع أسعار المحاصيل الزراعية .	الزحف العمراني
تعرية التربة / قلة خصوبة التربة و تعرضها للانجراف .	الرعي الجائر

- استصلاح التربة :

تحتاج التربة إلى مواد عضوية تحتوي على العناصر الغذائية اللازمة لنمو النبات .

راقب محتويات سلة المهملات . ما النفايات التي تحتوي على مغذيات ؟ ص ٣٥

بقايا الطعام - قشور الخضراوات و الفواكه .

فكر و صمم تجربة لإعادة العناصر الغذائية المهدورة في النفايات و التي تأتي من كائنات

Ibrahim ali

كانت حية لإصلاح التربة الفقيرة بالمغذيات . ص ٣٥

يجب تجميع بقايا الطعام بأنواعها من النفايات البدء في إعادة تدوير هذه النفايات .
و بإعادة التدوير أمكن تحويل النفايات العضوية إلى سماد خصب للزراعة . و الجهاز الأساسي
هو آلة التسبيخ الأسطوانية حيث يتم قلب النفايات العضوية الممزوجة بخليط إنزيمي لتسريع
الاختمار . و أولى المناطق التي فعلت ذلك هي بلدة عيترون الحدودية اللبنانية .

* **المواد العضوية** :- هي المواد التي تأتي من الكائنات التي كانت حية . مثل بقايا الطعام .

- هذه المواد تحتوي على كربوهيدرات أو بروتين أو دهون أو جميعها معا .

- تتحلل هذه المواد العضوية بفعل الكائنات الحية الدقيقة التي تتغذى عليها لتنمو و تكبر ، و في
أثناء ذلك تعود مكوناتها للتربة حيث تزيد من خصوبتها .

* **المحللات** : هي كائنات حية دقيقة تساعد على تفكيك الكائنات الميتة و مخلفات الكائنات الحية و

تحللها إلى مكونات بسيطة تعود للتربة ليمتصها النبات و يستفيد منها .

- **أمثلة على المحللات** : بعض أنواع البكتيريا و الفطريات .

- من دون المحللات لن تحتوي التربة على المغذيات الكافية لنمو النبات .

- المواد غير العضوية لا تتحلل في التربة بل تبقى فترة طويلة جدا في البيئة .

س : علل : بدأ الإنسان بالزحف على الأراضي الزراعية ليبنى مسكنه .

ج : لتسهيل توافر الغذاء و الماء .

- بناء الإنسان لمسكنه على الأراضي الزراعية أثر في النظام البيئي و تسبب بموت الكثير من
الكائنات الحية و انقراضها و تلف التربة الخصبة .

س : كيف يمكن أن نعيش و نحافظ على البيئة في الوقت نفسه ؟

ج : بإجراء هذا النشاط : مدينتي صديقة للبيئة : ص ٣٦

Ibrahim ali

المدينة صديقة البيئة هي التي يقل فيها انبعاثات غاز ثاني أكسيد الكربون ، و تزداد فيها المساحات الخضراء ، و بالتالي يجب أن يكون البناء الرأسي هو الغالب لتوفير مساحات خضراء لتجديد الأكسجين و الاهتمام بمصادر الطاقة النظيفة مثل طاقة الرياح و الطاقة الشمسية ، و إقامة البيوت الزجاجية لزراعة المحاصيل المختلفة و الاهتمام بالحدائق المعلقة لزيادة الخضرة . كما يجب الاهتمام بترشيد استهلاك الماء و استهلاك الكهرباء و إعادة تدوير النفايات و معالجة الماء المستهلك و استخدامه في ري النبات .

- **لنتحدث الغبار :** يمكن استخدام النفايات الموضحة في الصور التالية في وقف زحف رمال الصحراء.



سجل اقتراحك لوقف زحف التربة إلى داخل المدن و المزارع : ص ٣٧

- إقامة مصدات للرياح من إطارات السيارات الموضحة بالصورة .
- عمل مصدات رياح باستخدام انواع من الاشجار التي تتحمل الجفاف و شدة الرياح مثل الاثل .
- * **التصحّر :** هو تحول المساحات الخضراء الخصبة إلى مساحات فقيرة بالحياة النباتية و الحيوانية .
 - **أسباب التصحر :** (١) تلف التربة الخصبة .
 - (٢) أسباب طبيعية : أ- ارتفاع درجة الحرارة .
 - ب- قلة الأمطار .
 - ج- زيادة الأملاح في التربة مما يؤدي إلى تقليل خصوبتها
- التصحر يجعل التربة مفككة و قابلة للزحف على المسطحات الخضراء فتقل قدرتها على إنتاج المحاصيل الزراعية ، و يؤثر ذلك على التنوع الحيوي .
- استنزاف التربة الزراعية يمكن أن يحدث بسبب الممارسات الزراعية الخطأ .
- * **الزحف العمراني :** هو التعدي على الأراضي الزراعية الخصبة و بناء مساكن الإنسان عليها .

* **الرمي الجائر** : هو الإفراط في رمي الماشية مما يؤثر على المروج الخضراء ، و بالتالي يؤدي إلى تعرية التربة و التصحر .
Ibrahim ali

س : علل : يقوم الإنسان بردم بعض الشواطئ .

ج : للاستفادة من مساحات إضافية على الساحل للسياحة و لحماية المنشآت الشاطئية .

- ردم الشواطئ له تأثير سيء على البيئة البحرية و على كائنات الشواطئ .

ردم الشواطئ له آثار سلبية كثيرة على البيئة البحرية كما يلي : ص ٣٩

(١) يؤدي إلى تلوث الرمال و قتل الكائنات الشاطئية .

(٢) تقل أعداد الأسماك و الطيور و الزواحف .

(٣) يؤدي إلى موت المرجان و العوالق الحيوانية بسبب حجب الضوء عنها .

(٤) يؤدي إلى صغر منطقة المد و الجزر مما يقلل من إنتاجية بيوض الأسماك .

(٥) يغير اتجاه التيار البحري مما يؤدي إلى تغيير نسبة الملوحة .

وضع الآثار السلبية على البيئة البحرية (جون الكويت) الناتجة عن رمي المخلفات :

ص ٤٠ :



جون الكويت يزخر بالخيرات البحرية ويعتبر أكبر حاضنة أسماك في الخليج حيث تشجع مياهه الدافئة الأسماك والقشريات على التكاثر و وضع البيض .

إن رمي المخلفات له آثار سلبية على الكائنات البحرية و خصوصا الروبيان .

إن رمي المخلفات يسبب تلوثا بحريا وأضرارا بحياة الكائنات البحرية و خصوصا الأسماك و

القشريات كالروبيان ، و عند تناول الإنسان لهذه الأسماك المريضة بعد صيدها فإنه معرض

للإصابة ببعض الأمراض التي قد تؤدي بحياته .

إن التلوث البحري مصادره كثيرة منها المصانع التي تتخلص من الزيوت وبقايا التصنيع برميها

في مجاري تصريف مياه الأمطار التي تنتقل مياهها بشكل طبيعي إلى البحر ، فيجب على

الحكومة مراقبة الشواطئ للحد من مشكلة رمي المخلفات في البحر .



منزل صديق للبيئة

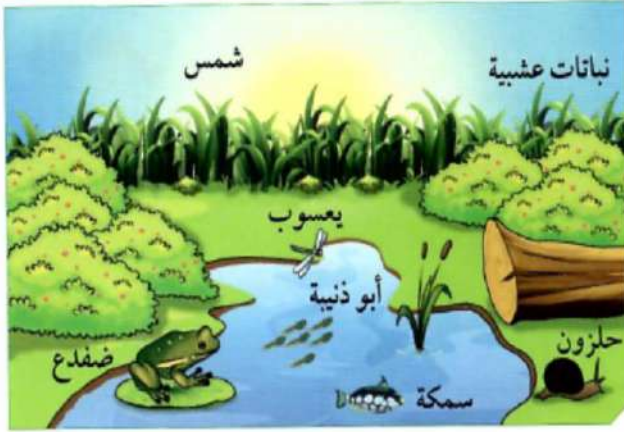
هو ذلك المنزل الذي يتم تصميمه و بنائه بشكل يتفق مع الاستخدام الأمثل لموارد الطاقة و يرشد استهلاكها ، و يتضمن إعادة تدوير المواد المستهلكة و إنتاج أقل كم ممكن من الفضلات ، كما يتضمن شراء أجهزة منزلية موفرة للطاقة و استخدام مواد في البناء تعمل على سخونة أو برودة الهواء الداخلي للمنزل .

تم بحمد الله

استخلاص النتائج



- 1 يحدث التفاعل بين الكائنات الحيّة مع بعضها بعضًا في النظام البيئي، وكذلك بينها وبين الأشياء غير الحيّة أو التي كانت حيّة. إنّ هذه الأجزاء الحيّة وغير الحيّة الموجودة كلّها في مكان ما تُسمّى النظام البيئي.
- 2 تتنوّع البيئات الحيوية على سطح الأرض، فمنها ما يكون على اليابسة، ومنها ما يكون في الماء، ويسبّب هذا التنوّع اختلافًا في أنواع الكائنات الحيّة.
- 3 تُسمّى الكائنات الحيّة التي تستخدم ضوء الشمس لتصنع الغذاء من الماء وثنائي أكسيد الكربون الكائنات المنتجة.
- 4 تُسمّى الكائنات الحيّة التي تستهلك الكائنات الحيّة الأخرى لتأمين غذائها الكائنات المستهلكة.
- 5 تُسمّى الرسوم البيانية التي تُستخدم لإظهار كيفية انتقال الطاقة والمغذيات من كائن حيّ إلى آخر السلسلة الغذائية.
- 6 تُعرف الشبكة الغذائية بأنّها تداخل السلاسل الغذائية كلّها في مجموعة بيئية، ويظهر فيها بوضوح كيف أنّ الكائنات الحيّة تعتمد على بعضها بعضًا.
- 7 يخلق التنوّع في الكائنات الحيّة في النظام البيئي توازنًا في البيئة، بينما يؤدي نقص أحد عناصر النظام إلى حدوث خلل في البيئة.
- 8 يحدث تحوّل المساحات الخضراء الخصبة إلى مساحات فقيرة بالحياة النباتية والحيوانية بسبب ظاهرة تُسمّى التصحّر.
- 9 يُعرف الزحف العمراني بأنّه التعديّ على الأراضي الزراعية الخصبة وبناء مساكن الإنسان عليها.



السؤال الأول:

اختر الإجابة الصحيحة من العبارات التالية بوضع إشارة (✓) أمامها.

1. الجزء غير الحيّ في الشكل السابق هو:

- النباتات الشمس السمكة الضفدع

2. الموطن الطبيعي لأبي ذنبية هو:

- العشب الماء اليابسة جذع الشجرة

3. الشكل السابق يمثل:

- تجمّعاً مجموعة بيئية نظاماً بيئياً موطناً طبيعياً

4. المستهلك الأول في الشكل السابق هو:

- النباتات الشمس الضفدع اليعسوب

5. كلّ الكائنات التالية هي منتجّة ما عدا:

- الحشائش النباتات العشبية الطحالب الحلزون

6. الكائن الحيّ الموجود بأعداد كبيرة في البيئة السابقة هو:

- النباتات الأسماك الضفادع الحشرات

7. إذا تمّ اصطياد جميع الضفادع في البيئة السابقة فإنه:

- يزداد عدد الحشرات. يقلّ عدد الحشرات.

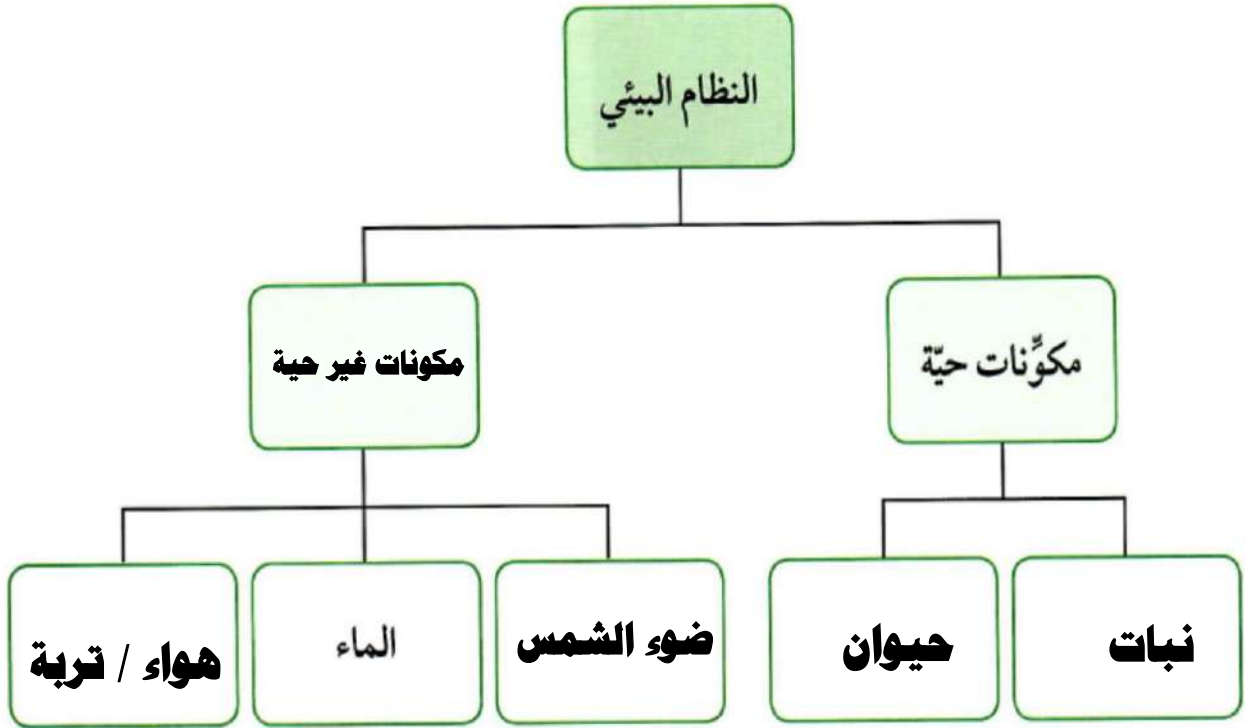
- يزداد عدد أبي ذنبية. يزيد عدد النباتات.

8. كلّ الموادّ التالية هي عضوية ما عدا:

- النباتات الميتة السمكة الحشرات الصخور

السؤال الثاني:

أكمل خريطة المفاهيم للنظام البيئي.




السؤال الثالث:

قارن بين البيئات الحيوية التالية.

وجه المقارنة	الأراضي العشبية المعتدلة	الأراضي العشبية (السافانا)	الغابات المخروطية (التايغا)
الخصائص	مناطق انتقالية بين الصحاري و الغابات المعتدلة و تنتشر داخل القارات	أعشابها طويلة ، أشجارها قليلة جدا ، تكثر في أفريقيا ، و تكثر آكلات الأعشاب	أوراق أشجارها إبرية تحمل مخاريط ، شتاءها بارد طويل ثلجي ، و صيف قصير
إسم كائن حيّ يعيش فيها	الحمار الوحشي	كلاب البراري	السنجاب

السؤال الرابع:

أجب عن السؤال مستنداً إلى الرسم التالي.



المناطق التي تحتوي على نباتات في الكويت

ما هي المشكلات البيئية التي قد تواجه المناطق الزراعية في دولة الكويت؟

التصحر - تلف التربة - ملوحة التربة - الرعي الجائر

السبب:

لأن المناطق الزراعية في الكويت تحيط بها الصحراء من كل جانب ، كما أن المناخ حار

جدا صيفا مما يؤدي لزيادة الجفاف .

Ibrahim ali

٢

التلوث Pollution



- نتيجة لتزايد السكان بدأ الإنسان يتوسع و يسكن بيئات جديدة و بدأ يغير فيها .
- هذا التغير أثر كثيرا على المكونات الحية و غير الحية في البيئة بطريق مباشر أو غير مباشر .

ما هي المواد الضارة التي تؤثر على البيئة ؟ ص ٤٨

- (١) الدخان الناشئ عن احتراق وقود المصانع و عوادم وسائل النقل .
- (٢) الغبار و دخان البراكين و المبيدات الحشرية .
- (٣) النفايات الصلبة الناتجة من رمي القمامة المنزلية .
- (٤) مياه المجاري و مخلفات المصانع السائلة و ناقلات النفط .

كيف تقتل الأمطار النباتات التي تسقط عليها ؟ ص ٤٨

نتيجة لوجود أكاسيد الكبريت و النيتروجين و الكربون الناتجة عن احتراق الوقود في الجو فإنها قد تذوب في مياه الأمطار و تُكوّن ما يسمى بالأمطار الحمضية و التي لها تأثير سيء على الأشجار إذ تجردها من أوراقها ، و تحدث خلل في التربة فيضطرب امتصاص الجذور للماء و الأملاح مما يؤدي لحدوث خسارة كبيرة في المحاصيل .

ما التغيرات التي تطرأ على درجة حرارة الأرض ؟ ص ٤٨

نتيجة لزيادة التلوث بالدخان و زيادة انبعاث ثاني أكسيد الكربون الذي يعتبر أحد الغازات الدفيئة و التي تمتص حرارة الشمس و يحتفظ بها قد يحدث زيادة في درجة حرارة الأرض و هذا ما يسمى بالاحتباس الحراري و الذي له أضرار كثيرة .

كيف يتصرف الإنسان مع النفايات في البيئة ؟ ص ٤٨

- (١) إلقاء القمامة في المكان المخصص لها .
- (٢) بعد تجميعها يعاد فرزها لإعادة التدوير حتى يقل التلوث منها .

- التلوث يؤدي إلى اختلال التوازن البيئي ، فالتلوث يضيف مواد إضافية للبيئة و يغير فيها ، و هذه المواد المضافة ناتجة عن نشاط الإنسان .



- هذا التغير يؤثر في المكونات الحية و غير الحية في البيئة .

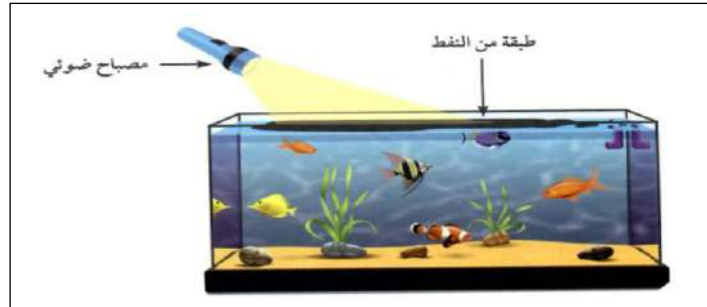
- أمثلة على حدوث هذه التغيرات :-

(١) تم بناء مطار الكويت في منطقة بعيدة عن السكان ، و بعد ذلك اتسعت رقعة المساكن لدرجة أنها أصبحت قريبة من المطار ، و أطلق عليها منطقة الضجيج نظرا للتلوث الضوضائي الصادر من صوت الطائرات أثناء صعودها و هبوطها .

(٢) نفوق بعض الأسماك على ساحل الخليج العربي نتيجة حدوث تلوث لمياه البحر ، و ذلك لتسرب النفط من ناقلات النفط ، و لذلك تفرض الدول قوانين صارمة على ناقلات النفط لاتباع شروط الأمان و عدم ترك النفط يتسرب إلى البحر .

(٣) رمي النفايات عند إجراء حفلات الشواء على الشواطئ و في الحدائق ، و لذلك وضعت بعض الدول قوانين خاصة تمنع ذلك للمحافظة على البيئة و منع التلوث .

صمم بيئة بحرية و أضف نفطا إلى الماء ، و استكشف الضرر الذي قد يسببه : ص ٤٩



(١) اكتب ملاحظتك بعد تواجد المواد الدخيلة في البيئة البحرية التي صممتها : ص ٥٠
يتغير لون الماء و يقل ضوء المصباح النافذ في الماء بشكل كبير .

(٢) توقع تأثير ملاحظتك على المكونات الحية و غير الحية في البيئة البحرية :


تموت النباتات لعدم وصول الضوء لها و أيضا قد تموت الحيوانات و تتغير خواص الماء .

(٣) ناقش زملائك، ثم اكتب بأسلوبك ملخصا عن المواد الدخيلة التي أثرت على البيئة البحرية، هل هي ضارة أم مفيدة ؟


المواد الدخيلة على البيئة البحرية تضر بحياة الكائنات الحية (ضارة) .

ضع الهمام النفطي (الفازلين) على بطاقات، ثم وزعها في أماكن مختلفة في مدرستك و


اتركها لمدة يوم كامل. ارسم ما التصق على البطاقات : ص ٥٠




موقف السيارات



المختبر



الساحة



الحديقة

* عدّد الموادّ التي التقطتها من الهواء، ومن ثمّ حدّد مصادر هذه الموادّ الدخيلة.

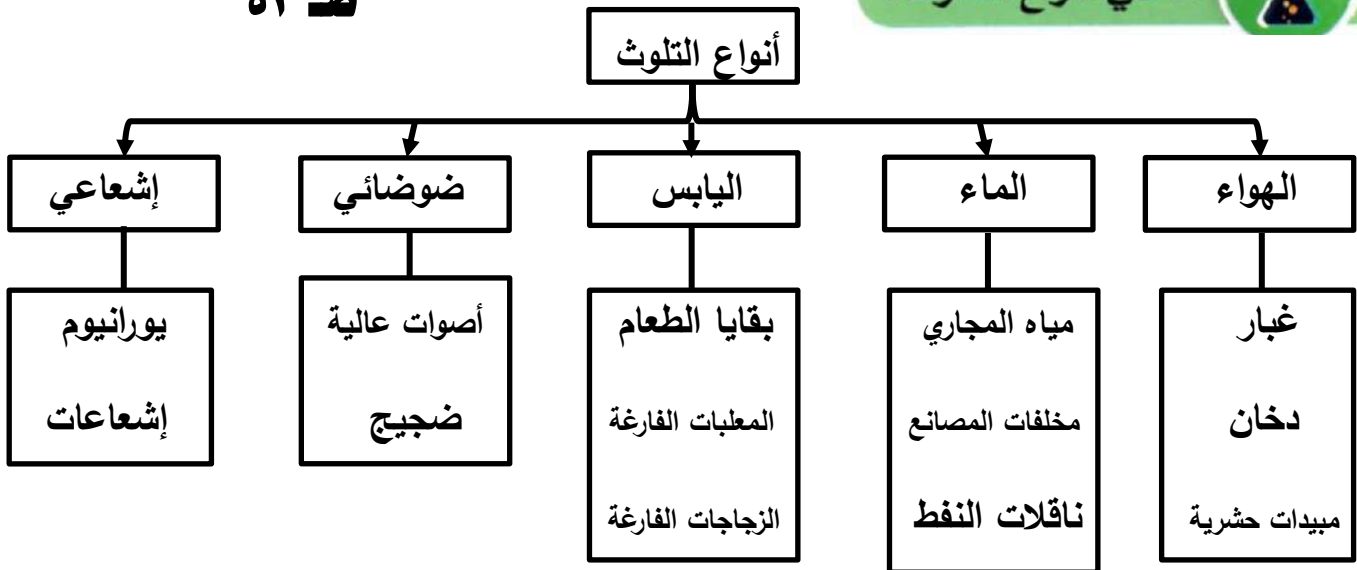
حبّيات فبار - حبّيات سوداء من الأدخنة .

* ناقش زملاءك، ثمّ صفّ كمّية هذه الموادّ في الأماكن الأربعة.

يختلف وجود المواد الضارة من مكان لآخر، فتزيد في مواقف السيارات وتقل في المختبر

ص ٥١

ما هي أنواع التلوّث؟



- يختلف توزيع المواد الضارة في البيئة بحسب أماكن تواجدها .

- تكثر المواد الضارة في المناطق الصناعية و المدن نتيجة دخان المصانع و مخلفاتها الصلبة و السائلة و الدخان الناشئ عن عوادم السيارات ، بالإضافة إلى الأصوات العالية .

- تقل المواد الضارة في المناطق الريفية حيث يكون الهواء أكثر نقاوة بسبب عدم وجود سيارات أو مصانع بشكل كبير مثل المدن .

- يُعدّ الإنسان المُسبّب الرئيسي في إدخال المواد الضارة (الملوثات) إلى البيئة ، فيحدث التلوث بسبب إدخال هذه المواد الضارة إلى البيئة فيحدث اضطراب في النظام البيئي .

- قد يكون السبب في إدخال هذه المواد الضارة بعض الظواهر الطبيعية مثل البراكين .

- أنواع التلوث :

(١) تلوث الهواء يحدث بسبب وجود مواد ضارة فيه كالدخان الي يحتوي على غازات ضارة مثل ثاني أكسيد الكربون و ثاني أكسيد الكبريت .

(٢) تلوث الماء يحدث عندما تتغير خصائص الماء مما يجعله غير صالح للاستخدام ، و يحدث ذلك بسبب تسرب النفط أو مياه المجاري أو المبيدات الحشرية .

(٣) تلوث اليابس أو التربة يحدث عن رمي النفايات الصلبة المنزلية أو الصناعية .

(٤) التلوث الضوضائي الذي يحدث نتيجة الأصوات العالية .

(٥) التلوث الإشعاعي الذي يحدث نتيجة تسرب المواد المشعة كاليورانيوم إلى أحد عناصر البيئة



ب. تلوث مياه البحر بماء المجاري



أ. ظاهرة نفوق الأسماك بسبب تلوث البحر



٥. تلوث الهواء بالدخان



ج. تلوث التربة بالنفايات

ابحث عن الحملات الكويتية للحد من تلوث البر والبحر في دولة الكويت : ص ٥٢



أحد هذه الحملات هو فريق الغوص سنيار التابع لمركز العمل التطوعي ، ويهدف الفريق إلى إعمار البيئة البحرية من خلال مراقبة ومتابعة الشواطئ والسواحل ووقف التعدادات عليها مثل اتلاف الشواطئ وتكسير الشعاب المرجانية والصيد الجائر والممارسات الخاطئة بكل اشكالها، كما يهدف لزيادة الثقافة القانونية عند مرتادي البحر والعمل على تفعيل نصوص القوانين و تطبيقها على كل من يدمر البيئة البحرية.

اكتب خطة تبين كيف تشارك في حملات تطوعية لتنظيف المدرسة و توعية زملائك على رمي القمامة في الأماكن المخصصة لذلك : ص ٥٣

- اسم البرنامج : نظافة مدى الحياة / شعار البرنامج : مدرستنا متميزة لأنها نظيفة / مدة البرنامج : طوال العام الدراسي
- الهدف الأساسي : ترسيخ قيم النظافة والمحافظة على البيئة والاهتمام بالصحة بحيث تتحول إلى سلوك يلزم الإنسان طوال عمره
- 1) تضع المدرسة البرنامج وإجراءات التنفيذ والمتابعة ضمن خطة المدرسة السنوية منذ بداية العام الدراسي.
 - 2) تكوين لجنة تشرف على تنفيذ البرنامج برئاسة المدير المساعد وتضم المرشد الطلابي ورائد النشاط و بعضا من المعلمين و الطلاب .
 - 3) يشترك كل العاملين بالمدرسة في التنفيذ والمتابعة - مدير - وكيل - معلمون - مرشد طلابي - رائد نشاط ... الخ.
 - 4) توفير ما يلزم من سلال المهملات داخل الفصول وخارجها بحيث يسهل على الطلبة التخلص من المهملات بصورة يسييرة.
 - 5) متابعة النظافة داخل الفصول في كل حصة وفق استمارة معدة لذلك .

صمم مطوية عن أنواع التلوث البيئي : ص ٥٣

تلوث التربة

تلوث التربة هو: انخل مواد غريبة في التربة من شأنها احدث تغير في الخواص الفيزيائية أو الكيميائية أو الحيوية للتربة مما يؤثر سلباً على نمو الكائنات الحية وتكاثرها.

من ملوثات التربة : يمكن ان تكون ملوثات التربة صلبة او سائلة من اهم مصادر التلوث -المياه العادمة التي تضر بصحة الانسان والتي يمكن ان تؤدي الى اصابة الانسان بمرض الملاريا 2- النفايات الصلبة يتم لقاء النفايات مكبات عشوائية حيث ان العصارة التي تتسرب من النفايات تذهب الى التربة وقد تصل الى المياه الجوفية فتلوثها.

ان تلوث البيئة بعد مسؤولية دولة تحتاج الرقابة فتلوث مياه الجوف والبحار وانتشار الاشعاعات القاتلة التي تنتقل مع الرياح والحرارة والطقس المضطرب، او الكائنات البحرية كالاسماك، لا يمكن احداثها الا وعلى الجميع توحيدهم الجهد للحفاظ على نظافة المساحات المائية والأهوار.

ان سلامة البيئة واجب وطني وأساسي عظيم ومن حق الاجيال المتعاقبة العيش في بيئة صحية سليمة. لنحرص على بيئتنا نظيفة نظيفة، ولنرضن منقذاً وقرناً من فئات الأمراض، ولكن شعارنا ((درهم وقاية خير من قنطار علاج))

تلوث الهواء

تلوث الهواء هو : تغير في خواص ومكونات الهواء الطبيعي وهو قد يسبب خطراً على الانسان والبيئة .

وهناك بعض الملوثات مثل (احتراق الوقود من مصادره المتعددة كعوادم السيارات ودخان المصانع و حرق النفايات و الأثار المتبقية في الهواء من المبيدات الحشرية الكيميائية)

س : علل : ماء المطر مهم في البيئات الطبيعية .

ج : السبب : لأن وجود الماء يساعد على تنوع الحياة ، قال تعالى (و جعلنا من الماء كل شيء حي)

- في بعض الأحيان يحمل ماء المطر مواد ضارة إذ تذوب فيه بعض الغازات مثل ثاني أكسيد الكربون و ثاني أكسيد الكبريت و أكسيد النيتريك مكونة أحماض ، و بالتالي نسمي المطر بالمطر الحمضي

- الأمطار الحمضية لها تأثير ضار و سيء على المكونات الحية و الغير حية على حد سواء .

 <p>صخور داكنة</p>	 <p>صخور الحجر الجيري</p>	<p>٥٤ - ٥٥</p> <p>وجه المقارنة</p>
<p>ملاحظاتي:</p> <p>لا يحدث شيء</p>	<p>ملاحظاتي:</p> <p>تتكون فقاعات غازية و يتفتت الحجر الجيري</p>	<p>عند وضع قطرات من الخل</p>
<p>ملاحظاتي:</p> <p>لا يحدث شيء</p>	<p>ملاحظاتي:</p> <p>تتكون فقاعات غازية و يتفتت الحجر الجيري</p>	<p>عند وضع قطرات من حمض الهيدروكلوريك</p>

1. يتواجد حمض الهيدروكلوريك كمادة ضارة في الأمطار التي تسقط في البيئات الملوثة بالدخان. هل في البيئة التي تحيط بك دخان؟ ما هو مصدره؟

..... نعم - يوجد بها دخان من عوادم السيارات و من بعض الحرائق و المصانع .

2. توقع ... هل سيكون المطر في بيتك خاليًا من الملوثات؟ فسّر.

..... لا - سيكون ملوث لأنه محاط بالدخان الضار .

3. ما هو قرارك النهائي الآن؟ أي أرض ستبني بيتك عليها؟ ولماذا؟

..... أبني بيتي على الأرض التي لا تحتوي على الحجر الجيري لأنه صخر سهل

..... التفتت ، و خوفًا من الأمطار الحمضية و الجوفية و التي تسهل تفتته .



1. لاحظ التغيرات على النباتات الثلاث بعد سقيها بالماء الحمضي لمدة أسبوع.
ذبلت النباتان رقم ١ و رقم ٢ بعد سقيهما بكمية مناسبة بالماء الحمضي

2. في اعتقادك، هل سيأكل حيوانك الأليف هذه النباتات؟ فسّر.
لا - لن يأكل الأرنب من النباتين اللذان تم سقيهما بماء حمض ، بل سيأكل من النبتة رقم ١ والتي تم سقيها بماء صالح للشرب .

3. توقّع أثر تلوث المطر على الكائنات الحيّة في البيئة الطبيعية. ما تأثيره إذا استمرّ لفترة طويلة؟
لن تستطيع أن تعيش بصحة جيدة ، وقد تموت إذا استمرّ التلوث لفترة طويلة .

ناقش مع معلمك أثر الأمطار الحمضية على الكائنات الحية والمكونات غير الحية : ص ٥٦



الأمطار الحمضية تتفاعل مع الحجر الجيري وتعمل على تفتته مثل ما حدث للتمثال . ولها أثر

سيء على النباتات حيث تجرد الأشجار من أوراقها وتقلل من امتصاص الماء والأملاح من التربة .

فكر لماذا يتلوث ماء المطر؟ من أين أتت هذه الملوثات واتحدت بالماء؟ ص ٥٦

نتيجة لتصادم غازات الكبريت و النيتروجين من البراكين و من المصانع عند احتراق الوقود فإن هذه الغازات تتحد مع ماء المطر و تُكوّن أحماض ، و يصبح المطر حمضيا . و مما سبق يتم التأكد من أن المطر الحمضي له تأثير سيء على المكونات الحية و الغير حية في البيئة .

- ١) الدخان الناشئ عن احتراق الوقود و الغابات و من البراكين .
- ٢) الغبار الناشئ عن حركة الرياح وحركة السيارات على الأراضي الترابية و من البراكين .
- ٣) البكتيريا والجراثيم والعفن الناتجة من تحلل النباتات والحيوانات الميتة والنفايات الأدمية .
- ٤) الإشعاعات الذرية الطبيعية والصناعية .
- ٥) المبيدات الحشرية .



- تلوث الهواء له تأثير كبير على المكونات الحية و غير الحية في البيئة .

- الدخان الناشئ عن احتراق الوقود في المصانع و السيارات و عن احتراق النفايات و الغابات يحتوي على غازات ضارة مثل ثاني أكسيد الكربون و أول أكسيد الكربون و الكلور و أكاسيد النيتروجين و أكاسيد الكبريت .
- تتفاعل هذه الغازات في الجو مع بخار الماء في الهواء لتشكل أحماضا .

* **المطر الحمضي** : هو مطر يحتوي على أحماض تتشكل عندما تتفاعل ملوثات الهواء مع بخار الماء .

- **تأثير الأمطار الحمضية على البيئة** :- (لها تأثير سلبي)

- ١) تجعل بعض البحيرات عديمة الحياة تقريبا .
- ٢) تؤذي المحاصيل الزراعية .
- ٣) تعمل على تآكل بعض أنواع الصخور و البنايات المستخدم فيها الحجر الجيري .
- ٤) زيادة حموضة التربة .



- في الأيام التي يزداد فيها تلوث الهواء بالأتربة و الدخان ارتدي كماما واقيا لتحمي به رئتيك .

أبحث على الإنترنت عن آثار التلوث الذي حدث في الكويت عام ١٩٩٠ م : ص ٥٨

أدى الغزو العراقي للكويت عام ١٩٩٠ م إلى كارثة بيئية نوضحها كما يلي :-

(١) تلوث الهواء : ارتفعت سحابة ضخمة من الدخان نتيجة احتراق ٧٣٠ بئر نفطي و أحدثت تغيرات في المناخ و انخفاض الحرارة و هطول الأمطار الحمضية .

(٢) تلوث المياه : بلغت كمية النفط التي ضخها الجيش العراقي في مياه الخليج بأكثر من ٦ مليون برميل فتأثرت الكائنات البحرية بذلك تأثرا كبيرا حيث حدث خلل في السلسلة الغذائية .

(٣) تلوث التربة : زادت ملوحة التربة لاستخدام ماء البحر في إطفاء الآبار المشتعلة و أصبحت غير صالحة للزراعة ، أيضا النفط المتسرب صنع بحيرة نفطية مساحتها أكثر من ٢٥٠ كم٢ .

(٤) الصحة العامة : زادت أعداد المصابين بأمراض الجهاز التنفسي و الهضمي و الإجهاد و العيوب الخلقية و الطفح الجلدي و الخمول و السرطان .

حدد الأماكن الأنسب لإنشاء المصانع في الدولة مستعينا بخريطة طبوغرافية لدولة الكويت : ص ٥٩



في اعتقادي أن أفضل الأماكن لإنشاء المصانع في الكويت أن تكون في مناطق بعيدة عن السكان و يسهل الوصول إليها و يراعى أن يكون اتجاه الرياح بعيدا عن المدن حتى لا يتأثر السكان بالأدخنة ، و تم وضع علامات على الخريطة لتوضيح أنسب الأماكن .

اكتب تقريرا عن كيفية حماية الجسور من الأمطار الحمضية من خلال البحث على الإنترنت : ص ٥٩

اهتم العلماء بحماية الجسور بعد ما حدث لأحدها في أوهايو بأمريكا الذي انهار بسبب تآكل جدرانه نتيجة تعرضه للأمطار الحمضية ، و تتم الحماية كالتالي :

١- يتم طلاء الجسور بمادة عازلة للمطر .

٢- عمل مصارف مناسبة لمياه الأمطار .

٣- عدم استخدام الرخام أو الحجر الجيري في بناء الجسور .

٤- إجراء صيانة دورية للكشف عن أي ضرر .

س : علل : تتغير الأرض يوماً بعد يوم .

ج : بسبب التغيرات التي يدخلها الإنسان على البيئة .

حبس الحرارة



ص ٦٠



1. قارن درجة الحرارة بين العلبتين بعد وضعهما في الحديقة لمدة نصف ساعة.

درجة الحرارة في العلبتين المغطاة أكبر من درجة الحرارة في العلبتين المكشوفتين.

2. فسّر ما حدث.

لأن العلبتين المغطاة حبست الحرارة ، والهواء حبس حرارة الشمس .

س : علل : يجب أن تبقى الأرض دافئة بنسب معينة .

ج : حتى تستطيع الكائنات الحية أن تعيش .

* الغازات الدفينة :- هي الغازات التي تعمل على تدفئة الأرض .

- مثل ثاني أكسيد الكربون و بخار الماء و غازات أخرى حيث تمتص الأشعة

المنعكسة من على سطح الأرض و تحتفظ بها .

س : ماذا يحدث إذا بدأت درجة حرارة الأرض تتجاوز النسبة اللازمة للدفاء ؟

ج : ترتفع درجة حرارة الأرض ، و هذا ما يسمى بظاهرة الاحتباس الحراري .

أسباب ارتفاع درجة حرارة الأرض : ص ٦١

(١) انفجار البراكين مما يؤدي لزيادة تلوث الهواء مما يزيد ارتفاع حرارة الجو .

(٢) تولد غاز الميثان من النفايات ، و يعتبر الميثان من أهم الغازات الدفينة .

(٣) قطع أشجار الغابات أدى لزيادة نسبة ثاني أكسيد الكربون في الجو .

- أدت أنشطة الإنسان الصناعية إلى زيادة نسبة غاز ثاني أكسيد الكربون و بخار الماء و الغازات الدفيئة الأخرى في الغلاف الجوي .

س : اذكر أمثلة لأنشطة الإنسان الصناعية التي أدت إلى زيادة الغازات الدفيئة .

ج : (١) احتراق الوقود في المصانع .

(٢) احتراق الوقود في محطات توليد الكهرباء (إنتاج الطاقة) .

(٣) احتراق وقود وسائل النقل المختلفة .

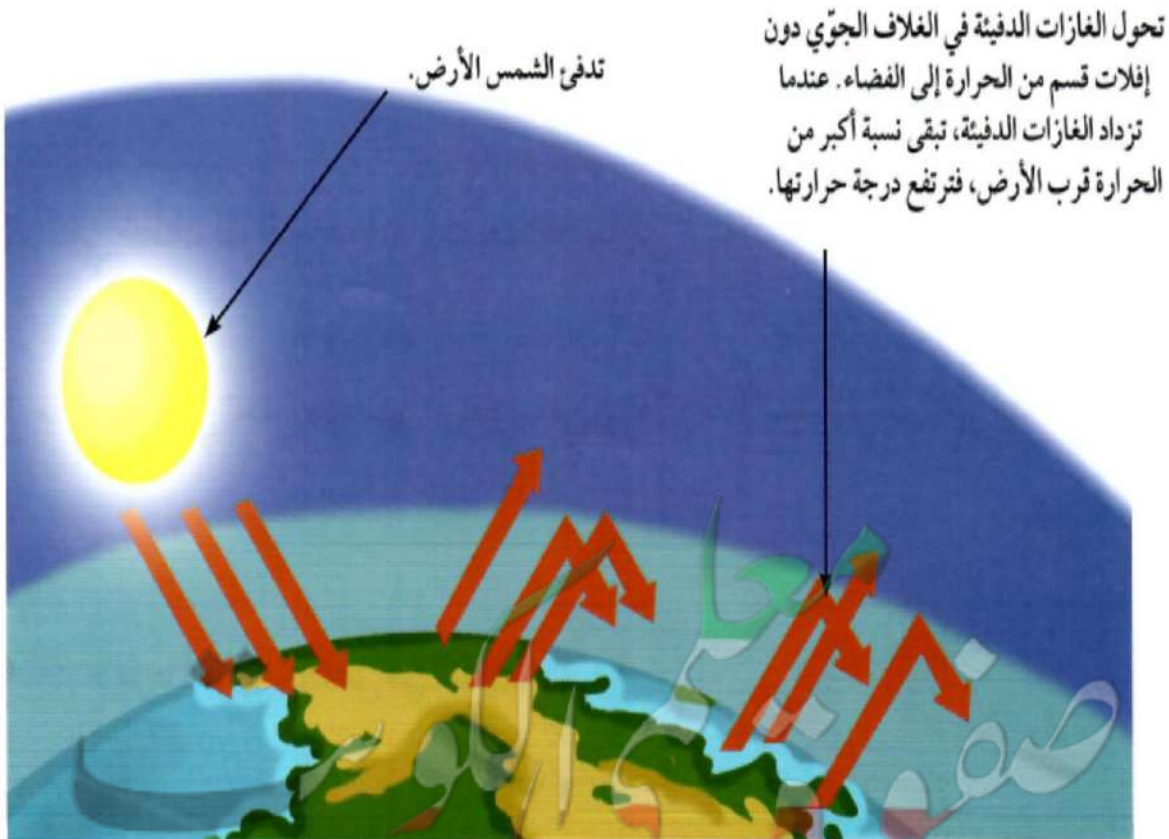
(٤) قطع أشجار الغابات لاستخدامها في الصناعات المختلفة .

- يظن العلماء أن عملية تدفئة الأرض بدأت تزداد مع زيادة الغازات الدفيئة مما أدى إلى ارتفاع درجة حرارة الأرض .

- يتوقع العلماء ارتفاع درجات حرارة الأرض خلال الأعوام القادمة .

- الظواهر الطبيعية التي تزيد نسبة الغازات الدفيئة في الغلاف الجوي للأرض :-

(١) البراكين . (٢) تغير كمية الإشعاع الشمسي من الشمس . (٣) حرائق الغابات .



س : هل يمكن أن تؤثر النفايات التي تبقى على سطح الأرض بشكل غير مباشر على زيادة درجة الحرارة ؟
ج : نعم ، إذا حرقها الإنسان تنتج غازات تؤدي إلى تدفئة الأرض و احتباس الحرارة .

٦٢

هل ستختفي النفايات حقاً؟



قُم بإعادة مجموعة النفايات اليومية الظاهرة في الصور إلى البيئة. فكّر.



1. كيف ستعيد هذه المجموعة من النفايات إلى البيئة؟

من خلال دفنها في التربة في حفرة عميقة .

2. ما هي خطتك لمراقبة هذه النفايات بعد إعادتها إلى البيئة؟

وضع علامات عليها مع كتابة اسمها وإخراجها بعد أسبوعين من التجربة .

3. ما الأشياء التي تحلل جزء منها أو تغيرت في البيئة؟ وما الأشياء التي لم تتغير أبداً؟

التي تحللت الخس و التفاحة - والتي تغير لونها ورق الجريدة و المناديل الورقية

- والتي لم تحلل كوب ورق الألمنيوم و العلب البلاستيكية .

4. اقترح طرقاً أخرى للتخلص من النفايات الصلبة.

وضع بقايا الطعام القابلة للتحلل في التربة لكي تتحول إلى دبال و العمل على إعادة

تدوير كوب ورق الألمنيوم و العلب البلاستيكية .

س : علل : تُعدّ النفايات الصلبة غير العضوية التي لا تتحلل في البيئة مشكلة كبيرة .

ج : السبب : لأنها تؤذي البيئة و تُحدث فيها خلاا يُغيّر توازنها .

س : علل : حاول الإنسان التخلص من هذه النفايات بدمها في التربة على أعماق بعيدة .

ج : السبب : حتى لا يصل أثرها على الإنسان .

- بعض النفايات لم تتحلل و لو تختف في التربة ، بل ظلت موجودة .

- بعض النفايات التي تحللت ينبعث منها غازات ضارة سريعة الاشتعال مثل غاز الميثان .

- بدأ الإنسان يفكر في إعادة استخدام بعض المواد التي لا تتحلل مثل البلاستيك و الزجاج و المعادن

* إعادة التدوير : هو إعادة استخدام بعض المواد التي لا تتحلل مثل البلاستيك و الزجاج و المعادن .



(٤) إعادة تدوير الإطارات واستخدامها لغايات جمالية في إحدى رياض دولة الكويت

شكل (29) مردم نفايات القرين الذي يتوسط المنطقة السكنية

ابحث عن مردم نفايات القرين و كيف تم استغلال غاز الميثان الناتج عن تحلل النفايات : ص ٦٤

يعتبر مردم القرين اشهر مرادم النفايات في الكويت ، و قد عاني سكان منطقة القرين من مشاكل

صحية وبيئية إلى أن حدث انفجار و اندلاع للنيران في عام ١٩٨٨ فتنبهت الحكومة لهذا الخطر

و توصلت إلى إنشاء محطة لحرق غاز الميثان المنبعث من النفايات و الاستفادة من ذلك الحرق

في إنتاج الكهرباء ، وهذه المحطة تعمل بصفة مستمرة منذ تشغيلها في مارس ٢٠٠٣ ، وهي

من النظام المتنقل في حاويتين من السهل نقلها وتركيبها في أي موقع آخر وفي وقت قصير.



الإكثار من زراعة الأشجار و المسطحات الخضراء / وضع فلاتر على مداخن المصانع لتقليل الدخان
وضع فلاتر على عوادم السيارات لتقليل الدخان / استخدام الطاقات النظيفة مثل الرياح و الشمس

صمم لوحة عن الآثار السلبية لظاهرة الاحتباس الحراري في دول العالم : ص ٦٥





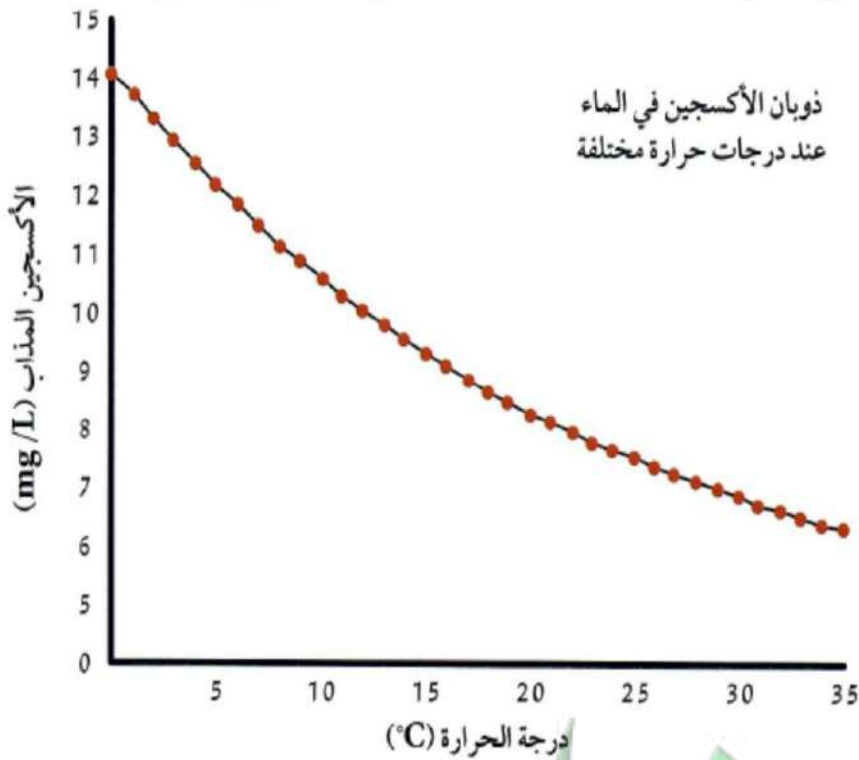
- 1 يحدث التلوث بسبب إدخال موادّ ضارّة إلى البيئة الطبيعية، ما يلحق الضرر بها ويسبّب اضطراباً في النظام البيئي.
- 2 تتنوّع أشكال التلوث في البيئة الطبيعية بحسب تأثر المكوّنات غير الحيّة الثلاثة في البيئة وهي: الهواء، الماء، التربة.
- 3 يحتوي المطر الحمضي على أحماض تتشكّل عندما تتفاعل ملوّثات الهواء مع بخار الماء.
- 4 تتكوّن الغازات الدفيئة من ثاني أكسيد الكربون وبخار الماء وغازات أخرى في الغلاف الجوّي وتمتصّ الأشعّة المنعكسة من على سطح الأرض.
- 5 تزيد بعض الظواهر الطبيعية مثل البراكين وتغيّر كمّيّة الإشعاع الشمسي من الشمس وحرارة الغابات من نسبة الغازات الدفيئة في الغلاف الجوّي للأرض.



السؤال الأول:

اقرأ الفقرة التالية ثم أجب عن الأسئلة.

تُعتبر ظاهرة المدّ الأحمر ظاهرة طبيعية تحدث في المياه البحرية نتيجة ازدهار نوع من أنواع الطحالب النباتية، وهي كائنات حيّة دقيقة لا تُرى بالعين المجردة تتغذى عليها الأسماك الصغيرة، وتطفو مع الأمواج والتيارات. تعطي البحر لوناً أحمر كلونها، وتمثل المصدر الرئيسي لقاعدة السلسلة الغذائية في البيئة البحرية. وعند ازدياد كمّيتها في الماء تستهلك كلّ الأكسجين المذاب فيه. وتعود أسباب زيادة كمّيتها إلى زيادة كمّية المغذّيات التي تتغذى عليها كالأمونيا والنترات نتيجة تلوث ماء البحر بماء الصرف الصحي غير المعالج، ومخلفات السفن والناقلات، بالإضافة إلى درجة الحرارة المرتفعة التي تساعد على تكاثر هذه العوالق. يبيّن الرسم البياني التالي نسبة الأكسجين المذاب في الماء مع ارتفاع درجة الحرارة.



* ماذا سيحدث للكائنات الحيّة في البيئة البحرية بعد فترة من الزمن؟

ستموت الأسماك في هذه المنطقة.

* ما السبب؟

لأن الأسماك ستخنق من دون غاز

الأكسجين الذي استهلكته النباتات بالكامل.

السؤال الثاني:

اقرأ الفقرة التالية ثم أجب عن الأسئلة.

بعد تزايد عدد المصانع في البلدان، وعلى الرغم من بنائها بعيداً عن المدن، إلا أن لدخانها الأسود أثر واضح على البيئة الطبيعية من حولها. فقد قُلت الحيوانات التي تعيش في المنطقة نفسها هرباً من الدخان الأسود.

أصبحت التربة ملوثة وغير صالحة للزراعة، وامتدّ أثر الدخان إلى السكّان فزادت أمراض الجهاز التنفّسي، كالربو، وظهرت أمراض جديدة مثل بعض أنواع السرطان.

يتكوّن الدخان الناتج عن الاحتراق من موادّ سائلة وصلّبة وغازية، وهو يحتوي على دقائق سوداء (السناج) وغازات ضارة مثل غاز ثاني أكسيد الكربون وأول أكسيد الكربون وأكسيد النيتروجين وثاني أكسيد الكبريت.

* ما هي الغازات الدفيئة التي ذُكرت في الفقرة السابقة؟

ثاني أكسيد الكربون، أول أكسيد الكربون،

ثاني أكسيد الكبريت، أكسيد النيتروجين.

* ما هي الآثار المترتبة على التلوّث بحسب الفقرة السابقة؟

هروب الكائنات الحيّة من البيئة الملوّثة.

تلوّث التربة وتدهورها.

ظهور أمراض عند الإنسان.

* أيّ مشكلة بيئية يمكن أن تسبّب أنشطة الإنسان المذكورة في الفقرة السابقة؟

الاحتباس الحراري.

السؤال الثالث:

أكمل الرسم التالي ثم أجب عن السؤال.



* ما اسم المشكلة البيئية التي يمثلها الرسم؟

الأمطار الحمضية.

* أكمل الخريطة الذهنية موضِّحاً آثار هذه المشكلة على البيئة وأسباب حدوثها.



تم بحمد الله

Ibrahim ali

٣



- للسوائل قوة على الأجسام فتجعلها تطفو أو تغوص .

- هذه القوة تعمل رأسيا من أسفل إلى أعلى تسمى قوة دفع السائل ، و تُمكِّن السفن من الطفو فوق سطح الماء و الغواصات من الغوص في أعماق مختلفة في البحار و المحيطات ، كما تُمكِّن الجسور الخرسانية من الطفو على سطح الماء على الرغم من وزنها و أوزان ما عليها .



س : فكر : كيف تستطيع الغواصة أن تطفو على سطح الماء و أن تغوص في أعماق مختلفة ؟ ص ٧٤

ج : الغواصة تطفو كالسفينة لأن بها تجويف يمكنها من إزاحة كمية كبيرة من الماء يساوي وزنها ، و تغوص في أعماق مختلفة لاحتوائها على خزانات يتم ملئها بالماء تزيد من وزنها للوصول للعمق المطلوب .

- للكويت ميناء بحري يتم فيه التبادل التجاري بواسطة السفن الكبيرة .

- السفينة مصنوعة من الفولاذ الصلب الذي يُصنع من الحديد .

- الحديد يستخدم لصنع هياكل قوية مثل ناظحات السحاب ، كما يستخدم في صنع المسامير التي يمكن استخدامها في تثبيت قطع من الخشب معا .

س : ماذا يحدث عند وضع مسامير حديدي في الماء .

ج : يغوص المسامير في الماء و يصل حتى القاع .

س : علل : يغوص المسامير الحديدي في الماء بينما تطفو السفن المصنوعة من الفولاذ .

ج : السبب : المسامير يغوص لأن وزنها أكبر من قوة دفع الماء عليه ، و تطفو السفينة لأن بها تجويف يزيح كمية كبيرة من الماء يساوي وزنها .



شكل (35)

خُذْ ورقتين متساويتين في القياسات من ورق الألمنيوم (10 cm × 10 cm)، وقُمْ بتشكيل إحداهما على شكل كرة مُصمَّتة والأخرى على شكل قارب.

1. توقّع ما يحدث عندما تضع كلا الشكلين في حوض فيه ماء.

قد يطفو الجسمين ، وقد يغوصان ، وقد يطفو أحدهما ويغوص الآخر .

2. جرّب توقّعاتك ولا حظ ما حدث.

ملاحظات: تطفو ورقة الألمنيوم التي على شكل كرة مصممة و تطفو التي على شكل قارب

3. فسّر ما حدث.

تزداد قوة دفع الماء بزيادة حجم الجسم ، وبالتالي طفا الشكل الكبير و غاص الصغير

إتبع الخطوات التالية:

1. خُذْ قارب وكرة الألمنيوم اللذين صمّمتهما في التجربة السابقة.

2. إستخدِم الميزان الزنبركي لتحديد قوّة سحب الميزان لكلّ من شكلي الألمنيوم.

تذكير: قوّة السحب على الزنبرك في الميزان تمثل الوزن، وحدة قياس الوزن تسمّى نيوتن.

وزن قارب الألمنيوم = ٢..... نيوتن. وزن كرة الألمنيوم = ٢..... نيوتن.

ستستتج أنّ وزن شكلي الألمنيوم هو نفسه. لماذا برأيك؟

لأنهما مصنوعان من ورقتين لهما نفس الحجم و من نفس المادة فيكون لهما نفس الوزن

3. ضَع الشكلين كلّ على حدة داخل حوض فيه ماء.

ملاحظات: يطفو قارب الألمنيوم ، و تغوص كرة الألمنيوم

4. قِسْ وزن الشكل في كلّ مرّة، وسجّل النتائج.

وزن قارب الألمنيوم فوق الماء = **صفر** نيوتن.

وزن كرة الألمنيوم في الماء = 1,٥..... نيوتن.

5. هل لاحظت أيّ فرق في النتائج؟ هل كنت تتوقّع مثل هذه النتائج؟ اشرح.

نعم - الجسم الطافي لا وزن له ، و الجسم داخل الماء وزنه أقل من وزنه في الهواء

6. حاول إجراء المزيد من التجارب على موادّ أخرى غير الألمنيوم.

وجه المقارنة	وزن الجسم في الهواء	وزن الجسم في الماء (لا يلامس القاع)
جسم يطفو على سطح الماء	٣ نيوتن	صفر نيوتن
جسم يغوص في الماء	٥ نيوتن	٤ نيوتن

7. اشرح ما إذا كانت نتائجك مماثلة لنتائج تجربة قارب الألمنيوم وكرة الألمنيوم.

نعم مماثلة - الجسم الطافي لا وزن له ، و الجسم داخل الماء وزنه أقل من وزنه في الهواء

س : ماذا يحدث لو أن كمية الحديد التي صنعت منها السفينة لم تُصمم على شكل به تجويف ؟
ج : الحدث : تغوص السفينة في الماء مثل مسمار الحديد .

Ibrahim ali

- العوامل التي تتوقف عليها قوة الطفو :

- (١) وزن الجسم .
- (٢) كمية الماء التي يزيحها الجسم (وزن السائل المزاح) .


س : ماذا يحدث عند وضع جسم في الماء ؟

- ج : الحدث : الجسم يلقي دفعا من أسفل إلى أعلى بقوة تعادل وزن الماء المزاح .
- إذا كان وزن الماء المزاح أكبر من وزن الجسم فإن الجسم يطفو .
 - إذا كان وزن الماء المزاح أقل من وزن الجسم فإن الجسم يغوص .
 - إذا كان وزن الماء المزاح مساويا لوزن الجسم فإن الجسم يصبح معلقا .

س : علل : وزن الجسم في الماء أقل من وزنه في الهواء .

- ج : السبب : لوجود قوة دفع السائل و التي تقلل من وزن الجسم لأنها تعمل رأسيا إلى أعلى .
- يتم استخدام الميزان الزنبركي في قياس الوزن .
 - وحدة قياس الوزن هي النيوتن .

ناقش خطورة الجبال الجليدية بعد مشاهدة فيلم تعليمي عن حادث غرق سفينة تيتانيك : ص ٧٧



صورة مركبة لكتلة جليدية متحركة

الجبل الجليدي هو كتلة ضخمة من الجليد، انفصلت عن أطراف إحدى المتالجات و تتجه إلى المحيط . و قد ينقسم هذا الجبل الجليدي إلى كتل صغيرة من الجليد قد تشكل خطورة على السفن في المنطقة ، لماذا؟؟
لأنه كما هو واضح في الصورة أن جزء صغير فقط من الجبل الجليدي هو الذي يظهر لقائد السفينة و باقي الجبل غائص في الماء لا يظهر لقائد السفينة و هو الذي يمثل الخطر على السفن لأنه عند الاصطدام قد يحدث ثقب في جسم السفينة يسمح بتسرب الماء داخلها فتغرق السفينة .

طبقة الجليد التي تطفو على السطح تشكل عازل حراري للماء المتواجد في قاع البحيرة تحت ألواح الجليد مما يسمح للكائنات الحية مثل الأسماك و النباتات بالعيش خلال مواسم البرد دون أن تتجمد. لولا هذه الخاصية التي يتميز بها مركب الماء لماتت الأحياء خلال فصل الشتاء و بالتالي لما تطورت الحياة.

اكتب فقرة عن المدينة العائمة بلغة عربية سليمة : ص ٧٨



البندقية (المدينة العائمة) وهي مدينة إيطالية وميناء بحري رئيسي ،
مكوّنة من مجموعة من الجزر الصغيرة التي يصل عددها إلى ١١٨ جزيرة،
ترتبط بينها الجسور والقنوات المائية، وتستخدم القوارب للتنقل فيما بينها.

تتمتع مدينة البندقية بمناخ معتدل بشكل عام، تُعتبر مدينة البندقية من أبرز الوجهات السياحية



شكل (36) السلحفاة المائية والسلحفاة البرية

التي تستقطب السياح من جميع أنحاء العالم سنويا .

س : ماذا يحدث عندما تتحرك السلحفاة داخل الماء ؟

ج : تسبح بسرعة على عكس حركتها البطيئة على اليابسة .

س : علل : تتحرك السلحفاة بسرعة في الماء عكس حركتها البطيئة على اليابسة .

ج : السبب : لوجود قوة دفع الماء لأعلى و التي تُقلل من وزن السلحفاة فتتحرك بسهولة و سرعة .

كيف تجعل طبقًا من الألومنيوم يغوص في الماء؟

ص ٧٩

1. ضَع الطبق في حوض فيه ماء.

2. اِسْتخدِم قلم رصاص لدفع الطبق نحو الأسفل.

ملاحظات: يتحرك الطبق لأسفل مع الإحساس

بقوة معاكسة من الماء

3. اِرْفَع القلم عن الطبق.

ملاحظات: يتحرك الطبق لأعلى و يطفو على سطح الماء

استنتاجي: للسائل قوة دفع تدفع الأجسام لأعلى .

4. ضع بعض الكرات الزجاجية داخل الطبق بشكل تدريجي .

ملاحظات: يهبط الطبق تدريجيا في الماء كلما زاد وزنه بالكرات إلى أن يغوص


استنتاجي: يطفو الجسم إذا كان وزنه أقل من قوة دفع السائل

و يغوص إذا كان وزنه أكبر من قوة دفع السائل .

- تتعرض الأجسام عند وضعها في الماء إلى قوتين :-

- (١) قوة وزن الجسم إلى أسفل .
- (٢) قوة دفع الماء على الجسم إلى أعلى .

س : علل : يستطيع الغواصون الغوص تحت الماء حاملين أنبوية الأكسجين دون أن يشعروا بثقلها
ج : السبب : لوجود قوة دفع الماء لأعلى و التي تقلل من وزن الأنبوية .



- يطفو الجسم في حالتين :-

- (١) إذا كانت قوة دفع السائل أكبر من وزنه .
- (٢) إذا كانت قوة دفع السائل مساوية لوزن الجسم بشرط أن يحدث ذلك عند سطح السائل .

- قد تتساوى قوة دفع السائل مع وزن الجسم عند أي عمق في بطن السائل و عند ذلك يكون الجسم معلقا ، و تم أخذ هذه الفكرة في صناعة الغواصات .

- تطفو الغواصة على سطح الماء لأن بها تجويف يزيح كمية كبيرة من الماء يساوي وزنها . و بمعنى آخر لأن قوة دفع الماء أكبر من وزنها .

- الغواصة مزودة بخزانات في قاعها و جوانبها و مؤخرتها ، فعندما يريد قائد الغواصة أن يغوص في الماء فإنه يسمح بدخول الماء إلى الخزانات رويدا رويدا فتصبح أثقل وزنا ويصبح وزنها أكبر من قوة دفع الماء عليها فتغوص حتى عمق معين يصبح عندها قوة دفع الماء مساويا لوزن الغواصة

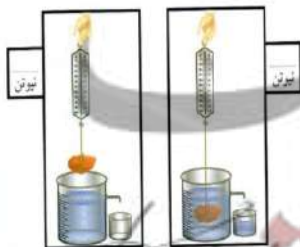
- يمكن لقائد الغواصة التحكم في كمية الماء اللازمة لملء الخزانات تبعا للعمق الذي يريد الوصول إليه من خلال ملئها و تفريغها .

- عندما يريد قائد الغواصة الطفو مرة أخرى فإنه يُفرغ جميع الخزانات من الماء و يتم ملئها بالهواء فتصبح قوة الدفع أكبر من وزنها فتطفو .

حساب قوّة دفع السائل

ص ٨١

1. قارن بين القوّة اللازمة لرفع جسم وهو في الماء والقوّة اللازمة لحمله وهو خارج الماء باستخدام الميزان الزنبركي .
2. سجّل القراءة على الرسم .
3. احسب قوّة دفع السائل .



4. ماذا حدث للماء عندما غمر الجسم؟

ينسكب الماء من الفتحة الجانبية للكأس . (يزاح)





- عند وضع جسم في سائل فإنه يلقى قوة دفع من أسفل لأعلى تُقلل من وزنه ، ويكون :


* وزن الجسم في السائل (الظاهري) أقل من وزنه في الهواء (الحقيقي)

* التغير الظاهري في الوزن = وزن الجسم في الهواء - وزن الجسم مغمورا في السائل

* التغير الظاهري في الوزن = قوة دفع السائل

* قوة دفع السائل = وزن الجسم في الهواء - وزن الجسم مغمورا في السائل

أرسم الجسم  في الكؤوس الثلاث بحسب موقعه في الحالات التالية:
(أ) إذا كانت قوة دفع السائل إلى الأعلى أكبر من قوة  وزن الجسم إلى الأسفل.
(ب) إذا كانت قوة دفع السائل إلى الأعلى أقل من قوة  وزن الجسم إلى الأسفل.
(ج) إذا تساوت قوة دفع السائل إلى الأعلى مع قوة  وزن الجسم إلى الأسفل.



* قاعدة أرخميدس : إذا غمر جسم في سائل فإنه يلقى دفعا من أسفل إلى أعلى بقوة تساوي وزن السائل المزاح بالجسم المغمور .

- تحقيق قاعدة أرخميدس عمليا : ص ٨٤ : تختلف الإجابات حسب الأدوات .

حدد العوامل التي تتوقف عليها قوة دفع الماء : ص ٨٥

- (١) حجم الجسم المغمور . تزداد قوة الدفع بزيادة حجم الجسم (تناسب طردي) .
- (٢) كثافة الماء . تزداد قوة الدفع بزيادة كثافة الماء (تناسب طردي) .
- (٣) عجلة الجاذبية الأرضية في ذلك المكان .

بخاصة ناقلات النفط العملاقة و اهميتها : ص ٨٦

يتم صناعة السفن و الغواصات على تكنولوجيا قائمة على مبدأ الطفو حيث يلزم وجود تجويف كبير يزيد من حجم السفينة أو الغواصة فتقل كثافتها حيث تصبح كثافتها الكلية أقل من كثافة الماء فتطفو ، و تستخدم الغواصات في الأمور العسكرية و تستخدم السفن في التجارة و الصيد و في نقل النفط (الذي يعتبر من أهم مصادر الطاقة في العالم) من الدول المصدرة إلى الدول المستوردة .




صمم ملفا إلكترونيا حول المشروعات التكنولوجية القائمة على مبدأ الطفو من خلال

البحث في مواقع التكنولوجيا الرقمية : ص ٨٦

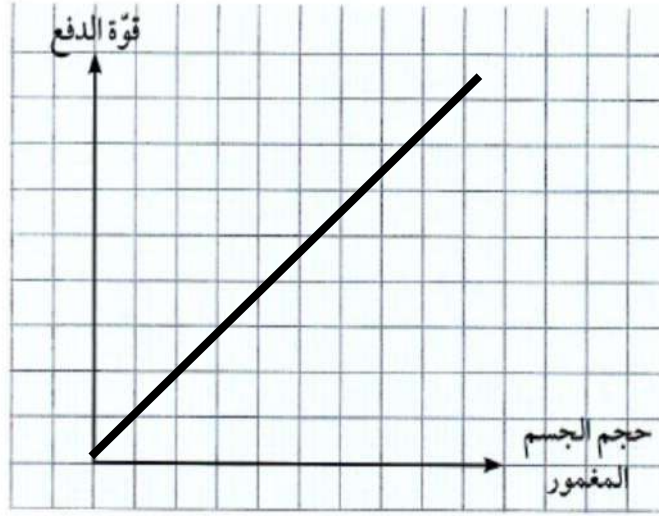
- (١) صناعة السفن و الغواصات .
- (٢) قياس كثافة السوائل المجهولة : حيث تم صناعة جهاز الهيدروميتر
- (٣) تحديد كثافة المواد الصلبة والسائلة واللزجة والتي تسمح بنفاذ السوائل، وذلك باستخدام أطقم قياس الكثافة من شركة **METTLER TOLEDO**
- (٤) مفتاح عوامة المنسوب ذو الربط المغناطيسي (المستخدم في موتورات الماء) .
- (٥) استخدام البالونات والمناطيد : حيث يتم ملؤها بغاز خفيف كالهيليوم أو هواء ساخن .

على ماذا تتوقف قوّة دفع السائل؟ ص ٨٧ ستختلف الإجابات حسب الأدوات

١. احسب قوّة دفع الماء على ثلاثة مكعبات من الألومنيوم مختلفة الحجم باستخدام الميزان الزنبركي، وسجّل نتائجك في الجدول.

		
حجم المكعب = cm^3	حجم المكعب = cm^3	حجم المكعب = cm^3
وزن المكعب في الهواء = نيوتن	وزن المكعب في الهواء = نيوتن	وزن المكعب في الهواء = نيوتن
		
وزن المكعب في الماء = نيوتن	وزن المكعب في الماء = نيوتن	وزن المكعب في الماء = نيوتن
		
قوّة دفع الماء على المكعب =	قوّة دفع الماء على المكعب =	قوّة دفع الماء على المكعب =

2. أرسم العلاقة البيانية بين قوّة دفع الماء وحجم الجسم المغمور بالماء من بيانات الجدول السابق. حدّد في الرسم البياني نوع العلاقة.



تناسب طردي

اجعلني أطفو



حاول أن ترفع البيضة إلى الأعلى باستخدام الأدوات المتاحة لك. فكّر.
1. أضف كمية قليلة من ملح الطعام الناعم ولا حظ موقع البيضة.

ملاحظاتي: لا ترفع البيضة

2. أرسم بقلم السبورة خطأ على الكأس.

3. أضف كمية أخرى من ملح الطعام الناعم إلى الكأس نفسها ولا حظ موقع البيضة.

ملاحظاتي: ترفع البيضة إلى أعلى

4. أرسم بقلم السبورة خطأ على الكأس.

5. ما العامل الذي أثر على قوّة دفع السائل؟

اختلاف نوع السائل (كثافة المادة)

الكثافة (g/cm ³)	المادة
13.6	الزئبق
7.9	الحديد
2.7	الألومنيوم
1	الماء
0.92	الثلج
0.8	الزيت
0.68	النفط
0.5	الخشب

شكل (42) كثافة المواد المختلفة

6. استعن بجدول كثافة المواد المختلفة (الشكل 42)،
للإجابة عن الأسئلة التالية:

* ماذا تعرف عن كثافة المادة؟

.. هي صفة فيزيائية مميزة للمادة تعبر عن العلاقة

.. بين الكتلة والحجم (كتلة وحدة الحجم من المادة)

* قارن بين كثافة الأجسام وكثافة الماء.

.. كثافة الماء = 1 جم/سم³

.. كثافة المواد إما أكبر أو أقل من كثافة الماء

* حدّد الأجسام التي تطفو على سطح الماء والتي

تغوص فيه في الجدول التالي، مستعيناً بجدول الكثافة.

تغوص	تطفو	نوع المادة	وجه المقارنة
✓		الزئبق	أكثر كثافة من الماء
✓		الحديد	
	✓	الزيت	أقل كثافة من الماء
	✓	الخشب	



شكل (43)

- العوامل التي تتوقف عليهما قوة دفع السائل :

- (١) حجم الجسم : تزداد قوة دفع السائل بزيادة حجم الجسم . (تناسب طردي)
- (٢) كثافة السائل : تزداد قوة دفع السائل بزيادة كثافة السائل . (تناسب طردي)

- المادة تغوص في السائل عندما تكون كثافة السائل أقل من كثافة المادة .

- تطفو المادة عندما تكون كثافة السائل أكبر من كثافة المادة الصلبة .

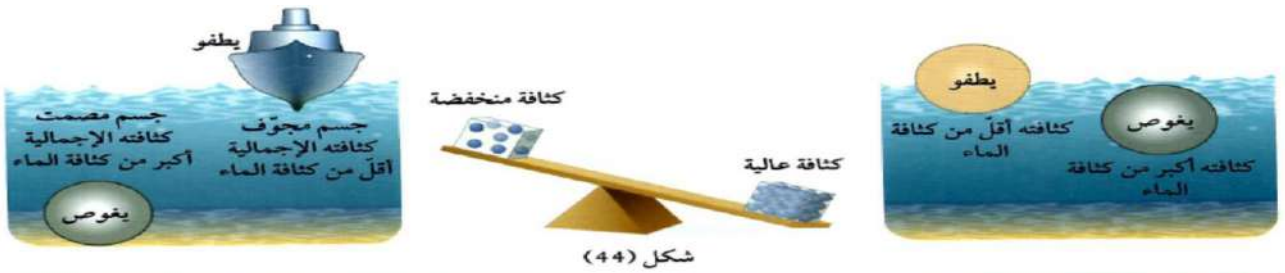
- * **الكثافة** :- صفة فيزيائية مميزة للأجسام ، تُعبر عن علاقة وحدة الحجم بوحدة الكتلة .
- هي كتلة وحدة الحجم من المادة .

س : كيف يمكن جعل الجسم الأكثر كثافة من الماء يطفو على سطحه ؟

ج : يمكن ذلك من خلال جعل حجمه كبيراً و يحتوي على تجاويف .

- بناء على ذلك تمت صناعة السفن بحيث يسمح لها حجمها بإزاحة كمية كبيرة من الماء تساوي وزنها فتبقى طافية .

- يجب مراعاة ألا تتعدى حمولة السفينة الحد المسموح به ، و لهذا قام العالم صموئيل بليمسول برسم خطوط على جانبي السفينة تمثل حد الأمان ، و سُميت بخطوط بليمسول .



شكل (44)

أقل كثافة	الأجسام التي تطفو على سطح الماء
أكثر كثافة	الأجسام التي تغوص في الماء

ضع بيضة في ثلاث محاليل مختلفة التركيز ، و لاحظ موضع البيضة في كل محلول : ص ٩١



فكره عمل الغواصات الحديثة تعتمد على قانون ارخميدس للطفو. فالغواصات الحديثة تحتوي على حاويات يتم من خلالها التحكم في كثافته الغواصة ومن ثم التحكم في عمقها في الماء. تختلف اشكال الحاويات من غواصه لأخرى.

عندما يراد انزال الغواصة تحت سطح الماء يتم فتح الصمامات العلوية و السفلية للحاوية في الغواصة كي يحل الماء محل الهواء فيزداد متوسط كثافته جسم الغواصة لتتهبط إلى عمق معين تحت سطح الماء.

أما عند رفعها إلى السطح فيتم ذلك بفتح الصمامات السفلية للغواصة وضخ هواء مضغوط من الأعلى ليتم تفريغ الغواصة من الماء فيقل متوسط كثافته الجسم فترتفع إلى السطح. أما عند التحكم في عمق الغواصة وإنزالها إلى القاع أو صعودها فيتم ذلك عن طريق الزلاقات الجانبية الموجودة في مقدمه ومؤخره ويرج الغواصة .

وعند التحكم في اتجاهها يمينا أو يسارا، فيتم ذلك عن طريق الزلاقات "الزعانف" الموجودة في مؤخره الغواصة من خلال التصميمات للزعانف الرأسية والجانبية الموجودة في مؤخره الغواصة.

استخلاص النتائج




- 1 تُقسَم الأجسام بحسب موقعها في الماء إلى نوعين:
 - * أجسام تطفو على سطح الماء.
 - * أجسام تغوص في الماء.
- 2 يعتمد موقع الجسم في الماء على عدّة عوامل:
 - * حجم الجسم (تطفو الأجسام الكبيرة المجرّفة على سطح الماء بينما تغوص الأجسام الصغيرة المصمّنة في الماء).
 - * كثافة الجسم (تطفو الأجسام على سطح السائل إذا كانت كثافتها أقل من كثافة السائل، بينما تغوص الأجسام في السائل إذا كانت كثافتها أكبر من كثافة السائل).
- 3 يؤثر الماء بقوة دفع رأسيًا إلى أعلى على جميع الأجسام المغمورة فيه والطافية على سطحه.

- 4 تتعرض جميع الأجسام المغمورة أو الطافية على سطح سائل لقوتين:
 - * قوة دفع السائل رأسياً إلى أعلى.
 - * قوة دفع وزن الجسم رأسياً إلى أسفل.
- 5 يختلف موقع الجسم في السائل بحسب العلاقة بين قوة دفع السائل إلى الأعلى وقوة دفع وزن الجسم إلى الأسفل.
- * يطفو الجسم على سطح السائل إذا كانت قوة دفع السائل أكبر من قوة دفع وزن الجسم.
- * يعلق الجسم في السائل إذا كانت قوة دفع السائل تساوي قوة دفع وزن الجسم.
- * يغوص الجسم في السائل إذا كانت قوة دفع السائل أقل من قوة دفع وزن الجسم.
- 6 إذا غُمر جسم في سائل فإنَّ وزنه يقلُّ بمقدار قوة دفع السائل له.
- 7 تُحسب قوة دفع السائل من وزن الجسم في الهواء ناقص وزن الجسم مغموراً في السائل.
- 8 إذا غُمر جسم في سائل فإنه يلتقى قوة دفع من أسفل إلى أعلى تساوي وزن السائل المزاح بالجسم المغمور.

- 9 تطفو السفينة لأنَّ قوة دفع الماء على الجزء المغمور من السفينة تساوي وزن السفينة وما تحمله.
- 10 تُصنع الغواصة من الحديد ويتم تزويدها بخزانات خاصة يمكن ملؤها بالماء أو تفرغها للتحكم في موقعها داخل الماء.
- 11 يتحكم قائد الغواصة في كمية الماء اللازمة للخزانات وفقاً للعمق الذي يريد الوصول إليه أثناء الغوص.

السؤال الأول:



- يوضح الرسم المقابل ثلاثة أشياء موجودة في البحيرة.
صَعَّ إشارة (✓) في المربع المقابل للعبارة الصحيحة.
- قوّة دفع الماء على البطة أقل من وزن البطة.
- قوّة دفع الماء على السمكة أكبر من وزن السمكة.
- قوّة دفع الماء على الصخرة أكبر من وزن الصخرة.
- قوّة دفع الماء على الصخرة أقل من وزن الصخرة.

السؤال الثاني:



- صَعَّ إشارة (✓) في المربع المقابل للعبارة الصحيحة.
- حجم الجسم الصُّلب أكبر من حجم السائل داخل المخبر المدرَّج.
- حجم الجسم الصُّلب يساوي حجم الماء داخل المخبر المدرَّج.
- حجم السائل داخل المخبر المدرَّج أكبر من حجم الجسم الصُّلب.
- حجم السائل داخل المخبر المدرَّج أقل من حجم الجسم الصُّلب.

السؤال الثالث:

إذا كانت كثافة الجسم الصُّلب تساوي 2.5 g/cm^3 فإن العبارة الصحيحة ممّا يلي هي:

حجم الجسم الصُّلب = 250 cm^3

حجم السائل داخل المخبر المدرَّج = 100 cm^3

حجم السائل داخل المخبر المدرَّج أكبر من 100 cm^3

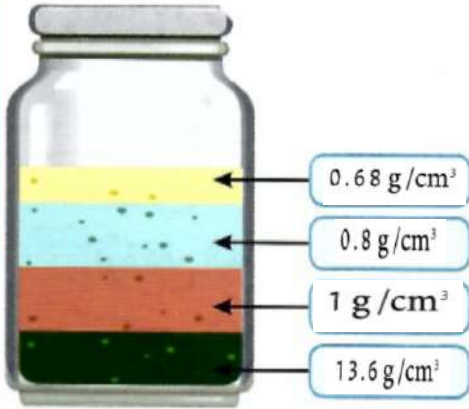
كتلة الجسم الصُّلب = 100 g

الحجم = الكتلة ÷ الكثافة

= $250 \div 2.5 =$

السؤال الرابع:

يوضح الشكل المقابل مجموعة من السوائل رُتبت في طبقات تبعًا لكثافتها. أجب عن الأسئلة التالية:



1. أيّ طبقة من السوائل لها أكبر كثافة؟

الطبقة السفلية السوداء اللون .

2. أيّ طبقة من السوائل لها أقلّ كثافة؟

الطبقة العلوية الصفراء اللون .

3. افترض أن قيم كثافة السوائل هي كالتالي:

1 g/cm^3 13.6 g/cm^3

0.68 g/cm^3 0.8 g/cm^3

ضع هذه القيم على الرسم في مكانها الصحيح.

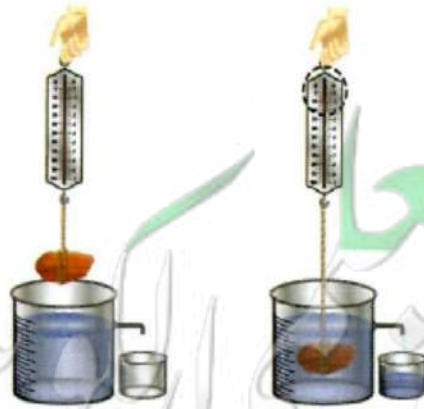
السؤال الخامس:

ماذا تتوقع أن يحدث لو وزن الصخرة عند وضعها داخل الكأس الزجاجي؟

يقل

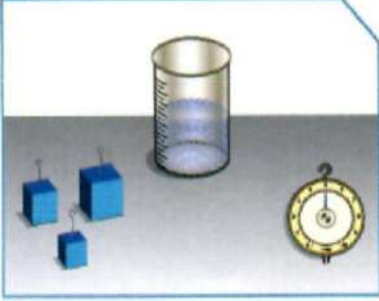
إشرح السبب.

لوجود قوة دفع الماء التي تعمل رأسياً لأعلى فتقلل من وزن الجسم .






السؤال السادس:

أجرى أحد المتعلمين نشاطاً عملياً مستخدماً الأدوات الموضحة في الشكل المقابل.
الهدف من النشاط: تعيين قوة دفع السائل (الماء) على الجسم.



* يبين الجدول التالي أحجام المكعبات المستخدمة في النشاط.

المكعب الأول	المكعب الثاني	المكعب الثالث	حجم المكعب
 10 cm ³	 20 cm ³	 30 cm ³	

من خلال دراستك قاعدة أرخميدس، أجب عن الأسئلة التالية:

1. ما هي العوامل التي تتوقف عليها قوة دفع السائل للأجسام المغمورة فيه؟
أ. **حجم الجسم**

ب. **كثافة السائل المغمور فيه الجسم**

2. أي من المكعبات الثلاثة سوف يلقي أكبر قوة دفع من الماء؟

المكعب الأكبر حجماً

3. إذا تمّ استبدال السائل المستخدم (الماء) بسوائل أخرى مثل العسل أو الكحول الطبي،
أ. ماذا يحدث لقوة دفع السائل عند استخدام العسل؟ علّل إجابتك.

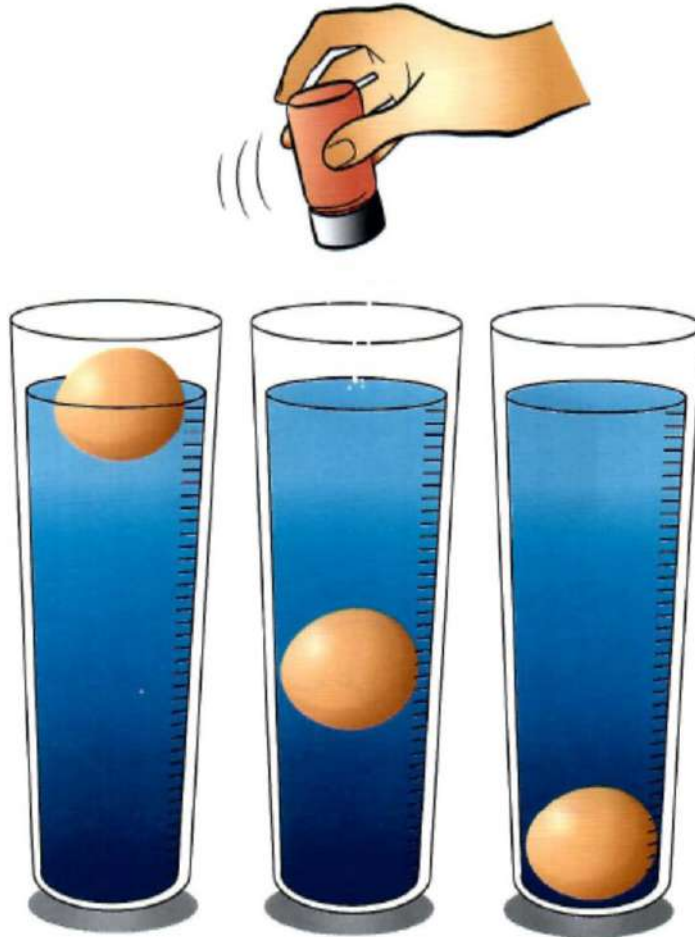
تزداد - بسبب زيادة كثافة السائل

ب. ماذا يحدث لقوة دفع السائل عند استخدام الكحول الطبي؟ علّل إجابتك.

تقل - بسبب انخفاض كثافة السائل

السؤال السابع:

فسّر طفو البيضة فوق سطح الماء عند إضافة كمّية من ملح الطعام إلى الكوب في الشكل التالي.



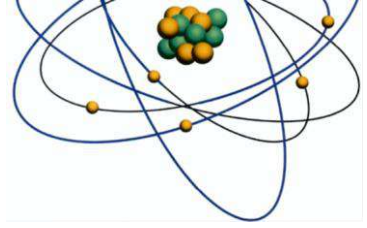
عند إضافة ملح الطعام إلى الماء تزداد كثافة الماء، وبالتالي تزداد قوّة دفع السائل على البيضة المغمورة، فتترفع إلى أعلى.

تم بحمد الله

Ibrahim ali



العناصر والمركبات Elements and compounds



- العناصر و المركبات هي أساس المادة .

* **العنصر** : هو مادة مكوّنة من نوع واحد من الذرات .

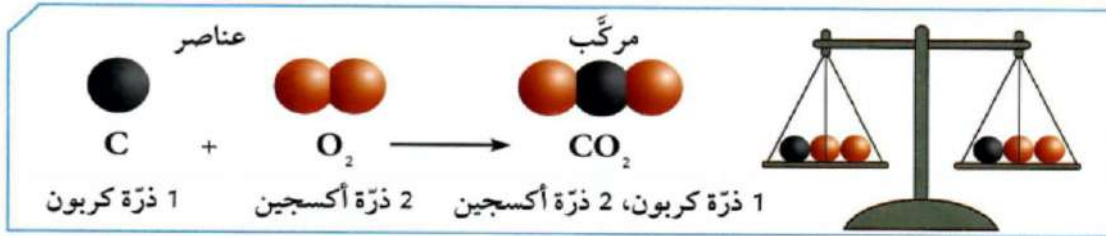
* **المركب** : هو اتحاد عنصرين أو أكثر .

س : علل : يمكن أن تتشكل العديد من المركبات .

ج : لاختلاف العناصر و اختلاف طرق ترابطها .

- يمكن أن تتفاعل المركبات مع بعضها البعض لتشكل مركبات جديدة مختلفة .

- **ماذا نستنتج من الصيغ الكيميائية ؟**



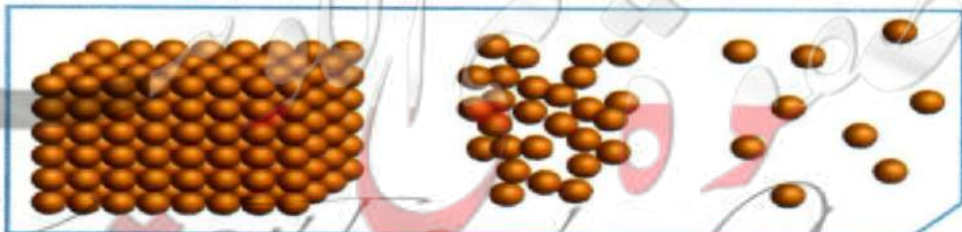
- تتحد العناصر مع بعضها لتكوّن مركبات لها خواص تختلف عن خواص عناصرها .

- ترتبط ذرة كربون مع ذرتين أكسجين لتكوين جزيء من غاز ثاني أكسيد الكربون .

- تختلف خواص المركب عن خواص العناصر التي يتكون منها .


- عدد الذرات الداخلة في التفاعل يساوي عدد الذرات الناتجة منه .

- **ما هي خواص المادة الصلبة و السائلة و الغازية ؟**



- المادة الصلبة لها شكل ثابت و حجم ثابت .
- المادة السائلة لها شكل متغير و حجم ثابت .
- المادة الغازية لها شكل متغير و حجم متغير .

- علام تدل هذه الرموز ؟



- كل عنصر من العناصر الكيميائية له رمز خاص به .
- يدل رمز العنصر على اسم العنصر و على ذرة واحدة منه .
- يمكن التعرف على المواد من خلال خواصها .



ماذا يحدث لعنصر النحاس عند تسخينه ؟ ص ١٠١

- ١) خذ قطعة من النحاس و حدد وزنها على الميزان و سجل قراءتك ٥ جم
- ٢) خذ قطعة النحاس التي زنتها و ضعها على لهب موقد بنزن :
ملاحظاتي : يتكون لون أسود (هباب : كربون)

٣) باستخدام الماسك ضع قطعة النحاس الساخنة على الميزان و سجل قراءتك ٥,١ جم
استنتاجي : يزداد وزن عنصر النحاس . (العنصر لا يمكن تجزئته)

٤) ناقش زملائك سبب اختلاف الوزن بعد حرق النحاس .
ما تأثير اللون الأسود المتكوّن على قطعة النحاس ؟

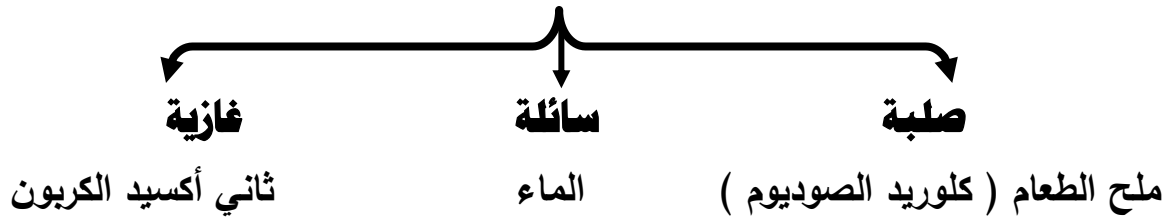
سبب الزيادة البسيطة هو تكوّن الكربون على النحاس .

و ليس له أي تأثير على عنصر النحاس

- يمكن أن تتحد العناصر مع بعضها البعض و تكوّن مركبات .

- تتكون المركبات من عنصرين أو أكثر ، و توجد في حالات المادة الثلاثة . ٢

المركبات



حلل الماء إلى مكوناته : فصل الماء إلى عناصره : ص ١٠٢

(١) ضع الماء مع حمض الكبريتيك المخفف في أنبوب على شكل حرف U . اغمر قطبين من الكربون في طرفي الأنبوب ثم صلها بمصدر للتيار الكهربائي .



ملاحظاتي : تتصاعد فقاعات عند كلا القطبين (غازات) .

(٢) قَرِّب شظية مشتعلة إلى فوهة كل من الأنبوبين . لاحظ ما يحدث :-

* صوت فرقة دليل على اشتعال غاز الهيدروجين .

* ازدياد الاشتعال دليل على غاز الأكسجين .

استنتاجي : الماء مركب يتكون من عنصرين هما الهيدروجين و الأكسجين .

ماذا يحدث عند مزج كبريتات النحاس و كربونات الكالسيوم ؟ ص ١٠٢

(١) أمزج كبريتات النحاس مع كربونات الكالسيوم .

ملاحظاتي : لا يحدث شيء ، يختلطان فقط .

(٢) أضف الماء إلى المزيج :

ملاحظاتي : يذوب كبريتات النحاس ، ويبدو المحلول باللون الأزرق .

(٣) استمر في رج المزيج :

ملاحظاتي : لا يحدث شيء ، وترسب كربونات الكالسيوم التي لا تذوب في الماء .

استنتاجي : المحلول نوع خاص من المخاليط .

(٤) ناقش زملائك نتائج التجربة :

تذوب كبريتات النحاس و تُكوّن محلول و لا تذوب كربونات الكالسيوم .

(٥) ماذا نسمي هذا المزيج ؟ لماذا ؟ يسمى محلول ، و هو نوع من المخاليط .

و يسمى محلول لاحتوائه على مادة ذائبة في الماء ، أي أنه مادة ذائبة في الأخرى .

استخدامات كربونات الكالسيوم في مجال الصناعة : ص ١٠٣

تُستخدم كربونات الكالسيوم في صناعة اللدائن و المطاط و الطلاء و الورق و مواد البناء و في صناعة الحديد و الصلب و في صناعة الزجاج و الدواء و الأغذية و العلف الحيواني و الأسمدة الزراعية و في الزجاج البلوري و في صناعة الطباشير المستخدم في المدارس .



* **العنصر** :- هو أبسط صور المادة .

- لا يمكن تقسيمه إلى مادتين .

- يتكون من نوع واحد من الذرات ، أي أنه يتكون من مادة واحدة .



- **أمثلة على العناصر** :-

(١) الحديد : يستخدم في صناعة السيارات .

(٢) الألومنيوم : يستخدم في صناعة أواني الطهي و هياكل الطائرات .

(٣) الأكسجين : غاز الحياة . (ضروري للتنفس)

(٤) الزئبق : يستخدم في صناعة الترمومترات المستخدم في قياس الحرارة .

(٥) الذهب : يستخدم في صناعة حلّي النساء .

(٦) الكربون : صناعة أقلام الرصاص .

* **المركب** : مادة تتكون من اتحاد عنصرين أو أكثر .

- **أمثلة على المركبات** :-

(١) السكر .

(٢) الماء H_2O :

- الماء مركب من عنصرين هما الهيدروجين و الأكسجين .

- يمكن تحليل الماء إلى عنصريه بواسطة كهرباء البطارية ، حسب المعادلة التالية :-



- مركب الماء لا يشتعل و لا يساعد على الاشتعال .

- عنصر الهيدروجين غاز يشتعل .

- عنصر الأكسجين غاز يساعد على الاشتعال .

- **مما سبق نستنتج أن صفات المركب تختلف عن صفات العناصر التي يتكون منها .**

* **المخلوط** : هو مزيج من مادتين أو أكثر غير متحدة مع بعضها .



- **أمثلة على المخاليط :-**

- الماء مع الرمل .

- الرمل مع برادة الحديد .

- الماء مع الملح . (**محلول**)

- الهواء الجوي .

- يمكن فصل المخلوط بطرق بسيطة مثل : الترشيح / التقطير / قمع الفصل / المغناطيس



* **المحلول** : هو نوع خاص من المخاليط يحتوي على مذيب و مذاب .

اختبر حمض الكبريتيك المخفف والملح والفلفل : ص ١٠٥

- عند إضافة الملح إلى حمض الكبريتيك المركز :

- ملاحظاتي : يحدث تفاعل بين الحمض والملح وتكون مركبات جديدة.

- عند إضافة الفلفل إلى حمض الكبريتيك :

- ملاحظاتي : لا يحدث شيء بين الفلفل و حمض الكبريتيك . (يتكون مخلوط)

- أيهما يصبح مخلوطا ؟ حمض الكبريتيك مع الفلفل .

اكتب تقريراً عن حلقة نقاشية بين مجموعتين من المتعلمين : المجموعة الأولى تؤكد أن المحلول يتكون

من مادة واحدة ، و المجموعة الثانية تؤكد أن المحلول يتكون من مادتين : ص ١٠٥

طالبت المجموعة الثانية المجموعة الأولى أن تصنع محلولاً أمامها ، و تقدمه لها ، فاحتارت

المجموعة الأولى في إيجاد محلول يتكون من مادة واحدة ، فقامت المجموعة الثانية بإذابة

الملح في الماء فاختلف الملح و بالتالي يصبح لدينا محلول ، و هو نوع خاص من المخاليط .

- تتكون المادة من وحدات صغيرة جدا جدا تسمى جزيئات .

- يعتبر الجزيء أصغر جزء من المادة و يحمل خواص المادة .



تفتيت مكعب السكر : ص ١٠٦

١- خذ قطعة السكر و تذوقها ، ما طعمها ؟

ملاحظات : **طعمها حلو .**

٢- فتت قطعة السكر إلى أجزاء صغيرة ثم تذوق أحدها .

ملاحظات : **طعمها حلو .**

٣- استمر في طحن السكر ثم تذوق جزءا من مسحوق السكر .

ملاحظات : **طعمها حلو .**

استنتاجي : **تحتفظ المادة بخواصها مهما تجزأت .**

٤- أصغر جزء من المادة هو **الجزيء** و يحتفظ **بخواص المادة** .



انتشار برمنجانات البوتاسيوم في الماء : ص ١٠٧

١- أمامك كأس به ماء .

٢- أضف كمية من برمنجانات البوتاسيوم الصلب إلى الماء ، ماذا يحدث ؟

ملاحظات : **تنتشر جزيئات برمنجانات البوتاسيوم في الماء .**

٣- فسر ما حدث : **جزيئات المادة في حالة حركة مستمرة ، وبالتالي تتحرك جزيئات**

برمنجانات البوتاسيوم في المسافات البينية بين جزيئات الماء و

تتداخل الجزيئات مع بعضها .

عطري ينتشر : ص ١٠٧

١- رش كمية من العطر في زاوية المختبر . ماذا يحدث ؟

ملاحظات : **تنتشر رائحة العطر في كل أنحاء المختبر .**


٢- فسر اختفاء العطر :

يختفي العطر لأن جزيئاته تنتشر بين جزيئات الهواء .

- أولا :- الحالة :-

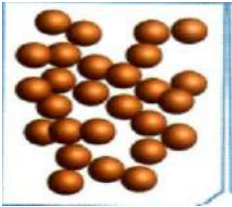
هناك ثلاثة حالات رئيسية للمادة على سطح الأرض و هي :

١- **الحالة الصلبة** :- جزيئاتها متقاربة مع بعضها و متراسة ، و لا تُغير مكانها .

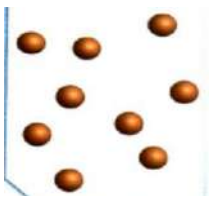


- تتحرك الجزيئات حركة اهتزازية في مكانها .
- لها شكل ثابت و حجم ثابت .

٢- **الحالة السائلة** :- جزيئاتها متقاربة من بعضها و غير متراسة ، و تُغير مكانها




- تتحرك الجزيئات حركة انسيابية .
- لها شكل متغير و حجم ثابت .
- شكل السائل يتغير مع تغير شكل الوعاء .
- يأخذ السائل شكل الوعاء الذي يوضع فيه .



٣- **الحالة الغازية** :- جزيئاتها متباعدة جدا و غير متراسة .

- تتحرك الجزيئات حركة حرة .
- لها شكل متغير و حجم متغير .
- يأخذ الغاز شكل و حجم المكان الذي يوجد فيه . .

- ثانيا :- اللون :-

تختلف المواد في ألوانها ، بعض المواد لها ألوان مميزة .
يتم التمييز بين الشاي و الحليب و القهوة من خلال ألوانها

**- ثالثا :- الطعم :-**

نتعرف على بعض المواد من خلال طعمها ، مثل السكر الحلو و الملح المالح .

- رابعا :- الرائحة :-

نتعرف على بعض المواد من خلال رائحتها مثل العطر و البصل و الثوم .

@ ملحوظة هامة :

يعتبر السكر من المركبات التي تؤثر على جسم الإنسان ، لذلك تجنب تناوله بكثرة .

تعرّف على داء السكر من خلال البحث في الإنترنت و اكتب بعض الأسطر عن أسباب داء

السكر من النوع الثاني : ص ١٠٩

السكري من النوع الثاني (مرض السكري الغير معتمد على الأنسولين) هو أكثر أنواع السكري شيوعا ، و يكون بسبب حدوث مقاومة من الجسم للأنسولين (الهرمون الذي ينظم حركة السكر إلى خلايا الجسم) ، أو أن الجسم لا ينتج الأنسولين بكميات كافية . و يحدث بشكل كبير لدى البالغين ، و أحيانا الأطفال مع زيادة معدلات السمنة و قلة النشاط الرياضي .

ابحث في الإنترنت عن علاقة الحرارة بحركة الجزيئات : ص ١١٠

حيث إن جزيئات المادة تكون في حالة حركة مستمرة عند أي درجة حرارة، إذا فهي تمتلك طاقة حركية، غير أن هذه الجزيئات لا تمتلك جميعًا نفس الطاقة الحركية، كما أن طاقتها تتغير بشكل دائم بسبب تغير سرعتها نتيجة الاصطدامات المتكررة مع الجزيئات الأخرى، وبناء على ذلك يمكننا تحديد فقط معدل الطاقة الحركية للجزيئات وتكون درجة الحرارة مقياسًا لمعدل الطاقة الحركية لجزيئات المادة .

- للعناصر و المركبات رموز تعبر عنها و تدل عليها . هذه الرموز تسهل دراسة العناصر و المركبات



س : كيف نفرق بين العنصر و المركب ؟

ج :- يتم ذلك من خلال كتابة الرمز الكيميائي لكل منهما .

- العنصر يتكون من نفسه فقط و له رمز واحد عبارة عن حرف كبير أو حرفين أولهما كبير و الآخر صغير .

- المركب يتكون من اتحاد عنصرين أو أكثر و بالتالي فله رمز يتكون من عدة رموز من رموز العناصر .

باستخدام نموذج الذرات كيف تستطيع أن تفرق بين العنصر و المركب ؟ ص ١١١

بكتابة رمز كل منهما .

Na

١- كوّن من النماذج شكل عنصر الصوديوم Na ثم ارسم تصميمك :

Cl

٢- كوّن من النماذج شكل عنصر الكلور Cl ثم ارسم تصميمك :

٣- باستخدام نموذج الصوديوم Na و نموذج الكلور Cl الذي قمت بتصميمهما ، صمم



مركب كلوريد الصوديوم $Na Cl$ ثم ارسم تصميمك :

- ما الفرق بين العنصر و المركب ؟

العنصر له رمز يتكون من حرف أو حرفين أحدهما كبير و الآخر صغير .

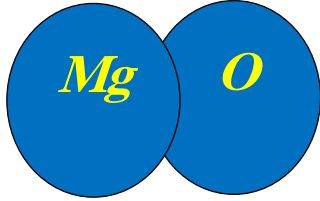
المركب له رمز يتكون من عدة رموز لعناصر مختلفة .

@ ملحوظة هامة :

عند تعرض العين للمواد الكيميائية يجب غسلها مباشرة بالماء .

باستخدام نموذج الذرات ، كُونُ مركب أكسيد المغنيسيوم $Mg O$ ، ثم ارسم تصميمك : ص ١١٢

يتكون أكسيد المغنيسيوم من اتحاد ذرة أكسجين مع ذرة مغنيسيوم



- كيفية كتابة رموز العناصر :

١) تم الاتفاق على أخذ الحرف الأول من اسم العنصر ليكون رمزا له و يُكتب كبيرا .

٢) إذا اتفق عنصران في الحرف الأول فإن العنصر الذي اكتشف مؤخرا يأخذ حرفان الأول يُكتب

كبيرا و الثاني يُكتب صغيرا ، مثل هيدروجين H - هيليوم He

٣) بعض العناصر تم أخذ رمزها من الاسم اللاتيني لها ، مثل الزئبق Hg

العناصر لها رموز : ص ١١٣

١- اكتب رمز عنصر " أكسجين " $Oxygen$ ؟ O_2 جزيء O ذرة

٢- اكتب رمز عنصر " الهيدروجين " $Hydrogen$ ؟ H_2 جزيء H ذرة

٣- اكتب رمز عنصر " كربون " $Carbon$ ؟ C

٤- ميّز بين رمز كل من عنصر "هيليوم" $Helium$ و عنصر "هيدروجين" $Hydrogen$

رمز الهيليوم He رمز الهيدروجين H

- استخدام الرموز يسهل دراسة العنصر من خلال التعرف على خصائصه الكيميائية و الفيزيائية .

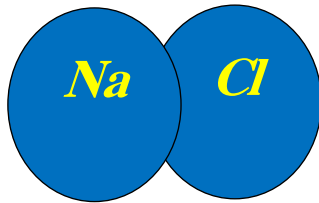
- إذا كان رمز العنصر يتألف من حرف واحد يُكتب كبيرا .

- إذا كان رمز العنصر يتألف من حرفين يُكتب الأول كبيرا و الثاني يُكتب صغيرا .

رمز العنصر	إستخدامات العنصر	إسم العنصر
He	غاز خفيف يُستخدَم في ملء المناطق والبالونات.	الهيليوم
I	مطهر يُستخدَم في الملح اليودي وأفلام التصوير.	اليود
Cu	فلزّ جيّد لتوصيل الكهرباء يُستخدَم في صناعة الأسلاك الكهربائية.	النحاس
Hg	الفلزّ السائل الوحيد عند درجة حرارة الغرفة، يُستخدَم في الترمومترات.	الزئبق

- تؤثر بعض المركبات الكيميائية على الجهاز التنفسي ، مثل غاز الكلور و سائل البروم و أكاسيد الكبريت .

استخدام نموذج الذرات لتكوين مركب كلوريد الصوديوم $Na Cl$ ثم ارسم نموذجك :- ص ١١٤
يتكون كلوريد الصوديوم من اتحاد ذرة كلور مع ذرة صوديوم



حدد في مجموعات الطريقة الأنسب لإيجاد المعلومات من أهم العناصر و المركبات الأكثر وفرة ، و سجلها تصاعديا في قائمة ، ثم ناقشها مع زملائك :- ص ١١٥

العنصر	الرمز	الاستخدام
الحديد	Fe	صناعة السيارات و الدبابات و الكثير من الأدوات
الألمنيوم	Al	صناعة أواني الطهي و هياكل الطائرات و النوافذ
الأكسجين	O_2	ضروري للتنفس و في لحام و قطع المعادن
الزئبق	Hg	صناعة الترمومترات المستخدمة في قياس درجة الحرارة
المركبات	الرمز	الاستخدام
كلوريد الصوديوم	$Na Cl$	في حفظ الطعام بالتمليح و في تحضيرها
السكر	$C_{12} H_{22} O_{11}$	في حفظ الطعام بالتسكير و في صناعة الحلويات
الصابون	$C_{17} H_{35} COONa$	في التنظيف

استخلاص النتائج



Ibrahim ali

- 1 العناصر والمركبات هي أساس المادة. فالعنصر عبارة عن مادة لا يمكن تبسيطها أكثر من ذلك.
- 2 المركب الكيميائي هو مادة كيميائية تكوّنت من اتحاد عنصرين أو أكثر.
- 3 صفات المركب تختلف عن صفات العناصر التي يتكوّن منها. فالماء السائل مثلاً لا يشتعل ولا يساعد على الاشتعال، فيما يشتعل غاز الهيدروجين ويساعد غاز الأوكسجين على الاشتعال.
- 4 المخلوّط هو مزيج من مادّتين أو أكثر، يمكن فصله بطرق بسيطة مثل الترشيح، التقطير، قمع الفصل، المغناطيس، وغيرها.
- 5 المادة هي كلّ ما له كتلة ويشغل حيزاً من الفراغ.
- 6 الحالة الصلبة هي التي تكون فيها جزيئات المادة مترابطة ومتقاربة من بعضها بعضاً، وتكون المادة الصلبة ذات شكل وحجم ثابتين.
- 8 الحالة السائلة هي الحالة التي تكون فيها جزيئات المادة متقاربة من بعضها بعضاً، وتكون حركة الجزيئات فيها انسيابية، ويكون للمادة السائلة حجم ثابت وشكل يتغيّر تبعاً لشكل الوعاء الذي توضع فيه.
- 9 الحالة الغازية هي الحالة التي تكون فيها جزيئات المادة متباعدة جداً حرّة الحركة.
- 10 رمز العنصر يدلّ على ذرّة واحدة من العنصر وعلى اسم العنصر.
- 11 الصيغة الجزيئية للمركب تدلّ على اسم المركب وعدد ذرّات العناصر المكوّنة لجزيء واحد من المركب.

السؤال الأول:

أمامك رمزان للعنصرين التاليين، أذكرهما.

He H

1. الرمز H يدل على عنصر **الهيدروجين**
2. الرمز He يدل على عنصر **الهيليوم**
3. أي من العنصرين اكتشف أولاً؟ **الهيدروجين** اكتشف أولاً
4. ما سبب كتابة رمز عنصر H ورمز عنصر He؟ **اكتشاف الهيدروجين قبل الهيليوم**

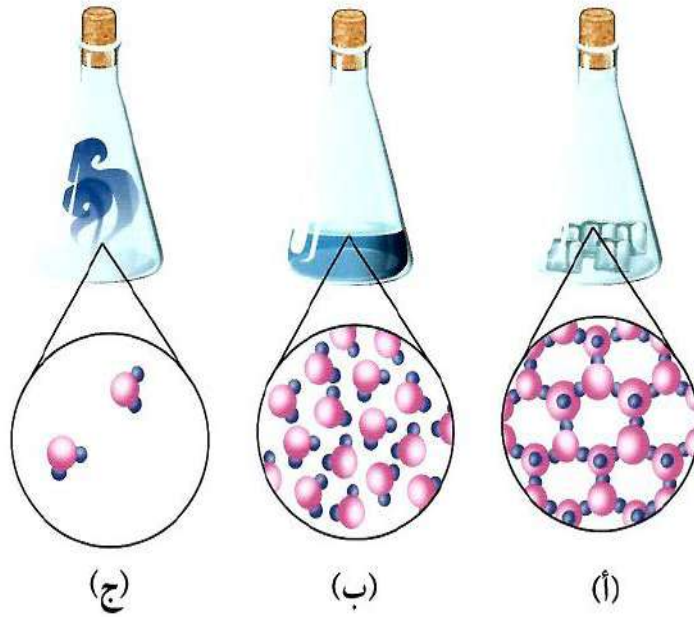
السؤال الثاني:

إنّ عنصري الأكسجين (O) والهيدروجين (H) هما المكوّنان الأساسيان للماء (H_2O). تعرّف على خواص الماء من خلال هذه التجربة.



1. ماذا يحدث للأكسجين المتصاعد عند تقريب شظية؟ **يزيد من اشتعال الشظية**
2. ماذا يحدث للهيدروجين المتصاعد عند تقريب شظية؟ **يشعل بفرقة**
3. يحمل الغواص معه أسطوانة محمّلة بغاز **الأكسجين** وذلك لـ **يساعده على التنفس**
4. يُستخدم غاز الهيدروجين في صناعة **غاز الأمونيا NH_3 المستخدم في صناعة الأسمدة**

تمثّل الأشكال التالية حالات المادّة الثلاث.




يمثّل الشكل (أ) المادّة الصلبة

يمثّل الشكل (ب) المادّة السائلة

يمثّل الشكل (ج) المادّة الغازية

أيّ من الأشكال التالية يعبر عن جزيء عنصري؟ وأيها يعبر عن جزيء مركّب؟



يعبر الشكل (أ) عن جزيء عنصري لأنّ الذرتان متشابهتان من نوع واحد

يعبر الشكل (ب) عن جزيء مركّب لأنّ الذرتان مختلفتان لعنصران مختلفان

يعبر الشكل (ج) عن جزيء مركّب لأنّ الذرات مختلفة لعناصر مختلفة

Ibrahim ali



الأحماض والقلويات Acids and alkalis



- تحتل الأحماض و القلويات مساحة كبيرة في التفاعلات الكيميائية المهمة .
- ملح الطعام (كلوريد الصوديوم $NaCl$) ينتج من تفاعل حمض مع قلوي .



- كثير من الأطعمة التي نأكلها تحتوي على أحماض كما يلي :-
- * الحمضيات كالليمون و البرتقال تحتوي على حمض الستريك .
- * التفاح يحتوي على حمض الماليك .
- * اللبن يحتوي على حمض اللاكتيك .
- تستخدم القلويات في البناء و في تصنيع الأسمدة الزراعية .

كيف تُشكل محلولاً متعادلاً ؟ ص ١٢٠

- بتفاعل كمية من حمض مع كمية مكافئة من القلوي ينتج محلول متعادل .
- الحمض يُحمر ورقة تباع الشمس .
- القلوي يُزرق ورقة تباع الشمس .
- المحلول المتعادل عديم التأثير على ورقتي تباع الشمس .



ما فائدة مقياس درجة الحموضة (PH) ص ١٢٠

يمكن معرفة درجة حموضة أي محلول باستخدام مؤشر الرقم الهيدروجيني PH تعتبر السوائل ذات درجة حموضة أعلى من ٧ محاليل قلوية أو قواعد . أما درجة الحموضة ٧ فهي تعتبر متعادلة وهي تساوي الأس الهيدروجيني للماء النقي عند درجة حرارة 25 مئوية.



كيف تتعرف على طعم المواد الحامضة ؟ ص ١٢٠

بالتذوق . المواد الحامضة لها طعم لاذع .

- يوجد الكثير من الخضراوات و الفواكه تحتوي على أحماض مختلفة مثل الليمون و البرتقال و التفاح و الفلفل و الملفوف و الطماطم .

121

كيف تتعرف على الأطعمة الحمضية من دون تذوقها؟



أحضرت قطارة فيها عصير ليمون، وقطارة أخرى فيها القليل من الخل وأخرى فيها سائل التمر الهندي. ضَعُ 4 قطرات من عصير الليمون على ورقة تباع الشمس (pH)، وكرّر الأمر نفسه مع سائل الخل والتمر الهندي.



1. عند وضع قطرات من الليمون على ورقة تباع الشمس (pH)

ملاحظاتي: تبدو ورقة تباع الشمس باللون الأحمر (تأثير حمضي)



2. عند وضع قطرات من الخل على ورقة تباع الشمس (pH)

ملاحظاتي: تبدو ورقة تباع الشمس باللون الأحمر (تأثير حمضي)



3. عند وضع قطرات من التمر الهندي على ورقة تباع الشمس (pH)

ملاحظاتي: تبدو ورقة تباع الشمس باللون الأحمر (تأثير حمضي)

تستطيع أن تغيّر مذاق بعض الأطعمة بطرق كثيرة. فكّر كيف؟

من خلال إضافة الملح أو السكر

- من النشاط السابق نستنتج أن :-

(1) الأحماض لها طعم لاذع .

(2) الأحماض تُحوّل ورقة تباع الشمس الزرقاء إلى اللون الأحمر (تُحمرها) .

(3) أمثلة للأحماض : حمض الهيدروكلوريك و حمض الكبريتيك و حمض الكربونيك .

- بعض الأحماض خطيرة تؤدي إلى تآكل الأجسام عندما تقع عليها ، في حين أننا نضيف بعض الأحماض إلى طعامنا كالليمون و الخل .

- يتم استخدام كاشف تباع الشمس للكشف عن الأحماض و القلويات . كيف ؟

يتغير لونه إلى الأحمر مع الأحماض و يتغير لونه إلى الأزرق مع القلويات .

أحضِر ثلاث قطّارات، ووضِع في كلّ واحدة منها إحدى الموادّ التالية: خلّ، ماء، صابون سائل، ثمّ استخدم ورقة تباع الشمس (pH) عليها.

النتيجة	ملاحظاتي	122
حمض	أحمر	خلّ
متعادل	لا يتغير	ماء
قلوي	أزرق	صابون سائل

– من النشاط السابق يتم استنتاج أن الخل من الأحماض ، و أن الصابون من القلويات ، و أما الماء فهو مركب متعادل التأثير على ورقتي تباع الشمس .

لماذا نستخدم أدلة الكاشف على المركبات الكيميائية ؟ ص ١٢٣

أدلة الكاشف هي عبارة عن محاليل كيميائية تضاف لمحاليل التفاعل بمقدار قطرتين او ثلاثة لمعرفة تمام التفاعل حيث يتغير لونها بتغير وسط التفاعل و تعلمنا نوع الوسط إن كان حمضا أو قلويا أو متعادلا . و هي لا تدخل في التفاعل الكيميائي .



س : ما هي صفات و خصائص الأحماض ؟

- ج : (١) لها طعم حمضي لاذع قوي جدا .
 (٢) تُحوّل لون ورقة تباع الشمس الزرقاء إلى اللون الأحمر
 (٣) لها قوة (pH) أقل من (7) .



س : ما هي صفات و خصائص القلويات ؟

- ج : (١) لها طعم مر جدا و لها ملمس صابوني .
 (٢) تُحوّل لون ورقة تباع الشمس الحمراء إلى اللون الأزرق .
 (٣) لها قوة (pH) أكثر من (7) . و عندما تصل لدرجة ١٤ ، تبلغ أعلى تركيز .

* الأهمية الاقتصادية للأحماض:

الأهمية الاقتصادية	الحمض	
 <p>يتكوّن في العضلات أثناء التدريبات الرياضية المكثّفة.</p> <p>شكل (72)</p>	حمض اللاكتيك	جسم الإنسان
 <p>يعمل كمصدر لفيتامين C، ويتواجد في البرتقال والجوافة والطماطم.</p> <p>شكل (73)</p>	حمض الأسكوربيك	التغذية
 <p>يُستخدَم في صناعة المنظّفات الصناعية وأسطح المعادن المراد طلاؤها.</p> <p>شكل (74)</p>	حمض الهيدروكلوريك	المنزل
 <p>يُستخدَم في تركيب بطاريات السيارات وفي تكرير البترول والألياف الصناعية.</p> <p>شكل (75)</p>	حمض الكبريتيك	الصناعة

* الأهمية الاقتصادية للقليويات:

الأهمية الاقتصادية	القليوي	
 <p>يُستخدَم في صناعة الأدوية المضادّة لحموضة المعدة.</p> <p>شكل (76)</p>	هيدروكسيد المغنيسيوم	الدواء
 <p>يُستخدَم في صناعة الأسمنت ومعالجة الماء وتقليل حموضة التربة.</p> <p>شكا (77)</p>	أكسيد الكالسيوم	الصناعة



إفحص مشروبك

إقرأ الملصقات على حاويات المشروبات، وتعرف على الأحماض التي أضيفت إليها.
استخدم مؤشر ورقة تباع الشمس لفحصها، ودون ملاحظتك في الجدول التالي.

المسحوق ١٨٠ مل
شراب نكهة الأناناس
المكونات: ماء، سكر، حامض الستريك،
نكهة الأناناس المماثلة للطبيعة، كربوكسي ميثيل
سليلوز، بكتين، فيناترين ج، مواد حافظة
إيثاناسيوم سوربات، صوديوم بنوات،
لون (بنثانكاروتين)،
مبستر، غل من الألوان والنكهات الاصطناعية

125

إسم المشروب الغازي أو العصير	تأثيره على ورقة تباع الشمس	إسم المادة الحمضية
شراب نكهة الأناناس	تأثيره حمضي	حامض الستريك
	يحمّر ورقة تباع الشمس	

- تحتوي المعدة على حمض الهيدركلوريك الذي يساعد على هضم الطعام .

- عندما تقوم المعدة بإفراز كمية زائدة من الحمض نعاني من الألم و نحس بحرقة المعدة .



- يجب أخذ دواء قلوي التأثير ليُهدئ من آلام المعدة (يصبح الوسط متعادل) .

126

محلولي المتعادل



أحضِر قطارة ووضِعْ فيها محلول كربونات الصوديوم، ثمَّ جَهِّزْ كوبين يحتوي كلاهما على (10 mL) من حمض الكبريتيك المخفَّف، ودوِّنْ حرف (أ) على الكوب الأوَّل وحرف (ب) على الكوب الثاني.



1. إفحص محتوى الكوب (أ) مستخدماً ورقة تباع الشمس. ما لون الورقة؟

ورقة الدليل تعطي اللون الأحمر

- أضف 3 قطرات من القطارة إلى الكوب (أ) و اختبر لون ورقة تباع الشمس ، ثم كرر ذلك بإضافة 3 قطرات من القطارة في كل مرة و املا الجدول التالي :

127

عدد القطرات	3 قطرات	3 قطرات	3 قطرات	3 قطرات	3 قطرات	3 قطرات
المرحلة	الأولى	الثانية	الثالثة	الرابعة	الخامسة	السادسة
لون الورقة	أحمر	أحمر	أحمر	أحمر	لا تتغير	أزرق

2. إلى كم قطرة احتجت حتى أصبح المحلول متعادلاً؟

إلى خمس عشرة نقطة

3. بعد انتهاء التجربة على الكوب (أ)، لماذا لم يتغير لون ورقة تباع الشمس؟

لأن المحلول في الكوب أصبح متعادلاً - لا حمضي ولا قلوي

4. وضح ماذا حدث للحمض في الكوب (أ) عند إضافة قطرات من كربونات الصوديوم؟

لقد تحول الحمض إلى محلول متعادل بعد إضافة القلوي إليه

5. أكمل التجربة بعد إضافة (10 mL) من الماء المقطر إلى الكوب (ب) وامزجه جيّداً، هل

تتوقع أن تحتاج إلى العدد نفسه من القطرات حتى يتعادل السائل؟

أتوقع أنه سيحتاج إلى قطرات أقل لأن الحمض أصبح مخففاً

كرر التجربة مع الكوب (ب) الذي قمت بتخفيفه إلى أن يصبح متعادلاً :

عدد القطرات	3 قطرات	3 قطرات	3 قطرات	3 قطرات	3 قطرات	3 قطرات
المرحلة	الأولى	الثانية	الثالثة	الرابعة	الخامسة	السادسة
لون الورقة	أحمر	أحمر	لا تتغير	أزرق		

1. إلى كم قطرة احتجت حتى أصبح المحلول متعادلاً في الكوب (ب)؟

احتجت إلى تسع نقاط

2. قارن بين عدد القطرات التي أضفتها إلى الكوب (أ) وعدد القطرات التي أضفتها إلى الكوب (ب) حتى أصبح المحلول متعادلاً. أيهما كان أكثر؟ علّل السبب.

عدد القطرات المضافة إلى الكوب أ أكبر لأن تركيزه أكبر من الحمض ب الذي خُفّف بالماء

3. ضَع الكوب على موقد النار وابدأ بتسخين المحلول إلى أن يتبخّر. ماذا يبقى في الكوب؟

راسب أبيض / يسمى ملح كبريتات الصوديوم

- من النشاط السابق نستنتج أنه عند إضافة قلوي إلى حمض يمكن أن نحصل على الوسط المتعادل و الذي يحتوي على أحد الأملاح و الماء ، و بتبخير الماء يمكن أن نحصل على الملح .

1. أحضِر الكوب (ب) من التجربة السابقة، وافحص الراسب المتكوّن أو المادّة الجديدة، ثم صِف الآتي: اللون، الملمس، الطعم، الشكل.

بيضاء اللون / خشنة الملمس / بلورات / لها طعم ملح

2. أضِف (10 mL) من الماء المقطّر إلى المرغّب الذي ترسّب في الكوب (ب) وامزجه جيّداً، ثم افحصه بورقة تباع الشمس. هل تغيّر لونها؟

لا يتغير لونها لأن المادة المتكوّنة متعادلة لا حمضية ولا قلووية .

3. ناقِش المجموعة حول الاختلاف بين المرغّب الذي كوّنته في الكوب (أ) وبين حمض الكبريتيك وكربونات الصوديوم بالنسبة إلى لون ورقة تباع الشمس. إلّام يشير تغيّر لون الورقة؟

الأملاح متعادلة / أي أن الأملاح عديمة التأثير على ورقتي تباع الشمس .

الأحماض تحمرها / القلوويات تزرقتها

4. فسّر ماذا يتكوّن عند إضافة مرغّب حمضي إلى أي مرغّب قلوي آخر؟ عبّر عن هذا التفاعل بمعادلة وصفية.

عند إضافة حمض إلى قلوي فإنه يتكون أحد الأملاح و الماء .

حمض + قلوي ← ملح + ماء

- يوجد الملح في معظم الأطعمة التي نتناولها ، يضاف الملح إلى طعامنا لإكسابه النكهة ، كما يساعد الملح على حفظ الطعام من الفساد .

- المادة الناتجة من تفاعل حمض الكبريتيك المخفف مع كربونات الصوديوم هو ملح كبريتات الصوديوم .



س : فيما يُستخدم ملح كبريتات الصوديوم ؟

ج : (١) في صناعة عجينة الورق .

(٢) في صناعة المنظفات المنزلية .

(٣) في صناعة الزجاج (يزيل فقاعات الهواء الصغيرة من الزجاج المصهور) .

(٤) في معالجة المياه (يزيل الكلور و يطرد الغازات) .

اكتب تقريراً عن أضرار ملح الطعام على جسم الإنسان : ص ١٣٠

(١) زيادة ضغط الدم

(٢) زيادة مشاكل أمراض القلب

(٣) تقلصات العضلات والدوار وذلك نتيجة لاحتباس السوائل في الجسم .

(٤) قد تحدث الإصابة بسرطان المعدة .

(٥) زيادة مشاكل الكلى و تكوين الحصوات .

إن درجة الحموضة مهمة لجسم الإنسان ولعمل الإنزيمات. إبحث على الإنترنت عن الإنزيمات وأهميتها لجسم الإنسان، و اكتب بعض الإنزيمات التي تعمل على أس هيدروجيني (pH) معين.

131

الإنزيمات هي مواد بروتينية تساعد على سرعة التفاعلات الحيوية داخل خلايا الجسم . و لها أهمية اقتصادية لدخولها في كثير من الصناعات الغذائية وصناعات الأدوية ، و لكل إنزيم رقم هيدروجيني PH معين يكون الإنزيم عنده أكثر نشاطا ويسمى الرقم الهيدروجيني المثالي وإذا قل عنه أو زاد فإن نشاط الإنزيم يقل . و منها :-

(١) أنزيم أميليز (Amylase): يعمل على تحفيز عملية هضم وتحويل الكربوهيدرات إلى سكريات.

(٢) أنزيم بروتيز (Protease): وهو مسؤول عن تحليل البروتينات وتحويلها إلى أحماض أمينية.

(٣) أنزيم ليبيز (Lipase): وظيفة هذا الأنزيم الرئيسية هي تحليل الدهون .

- درجة الحموضة تختلف من محلول إلى آخر .

- درجة حموضة الحليب تزداد عند تركه لمدة طويلة خارج الثلاجة بفعل البكتيريا .

- يمكن قياس درجة حموضة المحاليل باستخدام جهاز قياس درجة الحموضة (pH meter)

132

درجة حموضة المحاليل



إستخدِمِ جهاز قياس درجة الحموضة (pH meter) وسجِّل درجة حموضة المحاليل التالية.

	 ماء مقطر	 شامبو أطفال	 خلّ	 عصير الليمون	نوع المحلول
	٧	١٠	٣,٥	٢	قيمة درجة الحموضة

الحدّ الأعلى الذي ظهر هو **شامبو الأطفال** الحدّ الأدنى الذي ظهر هو **عصير الليمون**

133

هل تختلف درجة الحموضة في محاليل مائية مختلفة؟



إستخدِمِ جهاز قياس درجة الحموضة (pH meter) وسجِّل درجة حموضة المحاليل التالية.

	 ماء مقطر	 ماء البحر	 ماء الصنبور	 ماء من زجاجة معدنية	نوع المحلول
	٧	٨	٧,٢	٧,٥	قيمة درجة الحموضة

الحدّ الأعلى الذي ظهر هو **ماء البحر** الحدّ الأدنى الذي ظهر هو **ماء مقطر**

فسّر أسباب الاختلاف الذي ظهر في المحاليل المائية.

بسبب اختلاف العناصر الحمضية و القلوية الموجودة في محاليل الماء المختلفة

س : لماذا يعتبر مقياس درجة الحموضة مهما في حياتنا ؟ ص ١٣٣

ج : درجة الحموضة تُعبر عن الحالة الصحية للإنسان، فمثلاً عند قياس حموضة الدم تُظهر الأرقام مدى الصحة العامة للإنسان، فكلما ارتفعت نسبة الحموضة فيه تبين إصابة الجسم بالالتهاب، حيث أن ارتفاع درجة حموضة الدم تعني وجود نقص في الأكسجين . و له أهمية بالنسبة لتناسل الإنسان. فبينما تكون سوائل المرأة حمضية لقتل البكتريا الضارة يكون سائل الحيوان المنوي قلوي . و يصبح الوسط متعادل مناسب لحركة الحيوانات المنوية للبحث عن البويضة وتخصيبها.. كما يفرز جسم الإنسان العديد من السوائل الحمضية مثل البول والعرق لذلك يجب استخدام غسول قاعدي للجسم لتسهيل عملية التخلص من الأوساخ والطبقات الدهنية، كما أن مستحضرات الغسيل تكون قاعدية كي تُساعد جيداً في التنظيف .

- يمكن استخدام مقياس درجة الحموضة (*pH meter*) لكشف حدة الحمض و القلوي .

- يُرمز لدرجة الحموضة بالرمز (*pH*) و تعرف أيضا بالرقم الهيدروجيني *power of hydrogen*

- درجة الحموضة هي عبارة عن مقياس مدرج من ٠ إلى ١٤



القلويات	الوسط المتعادل	الأحماض
منظف أفران / قاصر ألوان /أمونيا / صابون / صودا الخبز / بيض	ماء نقي	عصارة المعدة / ليمون / عنب / طماطم / موز / حليب

استنتج من الجدول : ص ١٣٤

١- أقوى حمض في الصورة : عصارة المعدة عند $pH = 1$

٢- أقوى قلوي في الصورة : منظف الأفران عند $pH = 14$

٣- تمتلك المواد الحمضية قيمة pH أقل من ٧ ، و كلما قلت قيمة pH للحمض كلما

Ibrahim ali

زادت قوته .

٤- تمتلك المواد القلوية قيمة pH أكبر من ٧ ، و كلما زادت قيمة pH للقلوي كلما

زادت قوته .

درجة الحموضة في محاليل المختبر



إستخدام جهاز قياس درجة الحموضة (pH) وسجّل درجة حموضة المحلولين التاليين.



نوع المحلول	
هيدروكسيد الصوديوم	حمض الهيدروكلوريك
١٤	١
قيمة pH	

أضف حمض الهيدروكلوريك إلى أنبوب يحتوي على هيدروكسيد الصوديوم.
ألمس الأنبوب، بماذا تشعر؟ فسّر.

أشعر بارتفاع درجة حرارة الأنبوب (تفاعل طارد للحرارة)

اكتب تقريراً بسيطاً عن خطورة الأحماض والقلويات على أجسامنا : ص ١٣٥

تصيب المواد الكيماوية جسم الإنسان بحروق نتيجة تأثيرها المباشر وهذه المواد قد تكون أحماض أو قلويات . و يعتبر الماء من أفضل الوسائل لمعالجة الحروق الكيماوية بشرط ان يسكب على الجزء المصاب بكميات كبيرة وبأسرع وقت ممكن .
يعتبر حمض الكبريتيك المركز من أخطر الأحماض لأنه شره الامتصاص للماء .
و الحروق الناتجة عن التعرض للقلويات لها تأثير على الانسان أكبر من التي تسببه الاحماض وذلك لأنها لها قدرة أسرع على النفاذ الى الانسجة الداخلية وخلايا الجلد ،

ابحث على الإنترنت عن الإجراءات السليمة إذا انسكب حمض أو قلوي على طاولة المختبر : ص ١٣٦

Ibrahim ali

بعض الإجراءات السليمة التي يجب اتباعها أثناء العمل في المختبر :

- ١- لا يضاف الماء أبداً للأحماض المركزة لأن الطاقة الحرارية الناتجة يمكن أن تسبب كسر للإناء أو تطاير المحلول منه و الصحيح هو إضافة الحمض للماء حتى يعمل الماء كمبرد.
- ٢- إذا انسكبت على يدك أي مادة كيميائية اغسل يدك جيداً بالماء وإذا شعرت بأي شعور غير عادي أبلغ معلمك أو فني المختبر .
- ٣- إذا دخلت أي مادة كيميائية في عينك اغسلها جيداً بكمية كبيرة من الماء ، ثم أبلغ معلمك أو فني المختبر.
- ٤- في حالة تعرضك لحرق بحمض اغسل موضع الإصابة أولاً بالماء ثم بمحلول كربونات صوديوم لمعادلة أثر الحمض. وفي حالة تعرضك لحرق بمادة قلوية اغسل موضع الإصابة بالماء المقطر أولاً ثم بحمض الخليك المخفف.
- ٥- إذا انسكب حمض مركز على طاولة العمل أضيف عليه كربونات صوديوم صلب حتى يعادل تأثيره ثم اشطف بالماء.
- ٦- إذا انسكب قلوي مركز على طاولة المختبر ضف عليه حمض حتى يعادل تأثيره ثم اشطف بالماء.

استخلاص النتائج



- 1 صفات الأحماض وخصائصها:
 - * تتمتع بمذاق حمضي قوي جداً.
 - * تمتلك القدرة على التفاعل مع القلويات لتكوين ماء وملح.
 - * تحوّل لون ورقة تبّاع الشمس إلى الأحمر عند التفاعل معه.
 - * تمتلك درجة الحموضة أقلّ من (7).
- 2 صفات القلويات وخصائصها:
 - * تتمتع بمذاق مرّ جداً وبملمس صابوني.
 - * تحوّل لون ورقة تبّاع الشمس إلى الأزرق عند التفاعل معه.
 - * تمتلك درجة الحموضة أكثر من (7)، وعندما تصل إلى درجة (14)، تبلغ أعلى مستويات تركيزها.
- 3 إنّ المركّب الكيميائي الجديد الذي تكوّن نتيجة تفاعل حمض الكبريتيك المخفّف وكربونات الصوديوم هو ملح كبريتات الصوديوم.
- 4 يُستخدم مقياس درجة الحموضة (pH meter) لكشف حدّة الحمض والقلوي.
- 5 يُرمز إلى درجة الحموضة بالرمز (pH)، وتُعرف أيضاً بالرقم الهيدروجيني (power of hydrogen).

السؤال الأول:

قارن بين الأحماض والقلويات بحسب الجدول التالي.

القلويات	الأحماض	وجه المقارنة
قابض مر	لاذع	الطعم
تُزرق	تُحمر	مؤشّر تبّاع الشمس
أكبر من ٧	أقل من ٧	درجة الحموضة
هيدروكسيد الصوديوم	حمض الهيدروكلوريك	مثال

السؤال الثاني:

أمامك أنابيب اختبار على الشكل التالي:



ما أثر إضافة صبغة تبّاع الشمس إلى الأنابيب؟

* رقم (1) تبدو باللون الأحمر

* رقم (2) تبدو باللون الأزرق

* رقم (3) تبدو باللون الأزرق

السؤال الثالث:

من خلال قيمة درجة الحموضة (pH) في القائمة (أ)، أكتب أسماء الأطعمة المناسبة لها في القائمة (ب).

القائمة (أ)	القائمة (ب)
pH = 6	الجبن
pH = 1	لا يوجد
pH = 14	لا يوجد
pH = 8	بياض البيض
pH = 7	السالمون / الماء النقي

السؤال الرابع:

كيف تُكوّن محلولاً متعادلاً؟

* ضَعُ في أنبوب اختبار حمضاً وقِسْ قيمة درجة الحموضة (pH) وسجّل قراءتك.

$$pH = 1$$

* أضِف محلولاً قلويّاً إلى الحمض وقِسْ قيمة درجة الحموضة (pH) وسجّل قراءتك.

$$pH = 6$$

* ما هي قيمة درجة الحموضة (pH) لمحلول متعادل؟

$$pH = 7$$

السؤال الخامس:

أدرس الرسم التالي ثم املأ الفراغات بالكلمات المناسبة.



محاليل حمضية


محاليل قلوية

تم بحمد الله

Ibrahim ali

٦

التربة Soil



قال تعالى:

﴿ وَالْبَلَدُ الطَّيِّبُ يَخْرِجُ نَبَاتَهُ، وَالَّذِي بِأَذْنِ رَبِّهِ، وَالَّذِي حَبِطَ لَا يَخْرُجُ إِلَّا نَكِدًا كَذَلِكَ نُصَرِّفُ الْآيَاتِ لِقَوْمٍ يَشْكُرُونَ ﴿٥٨﴾

سورة الأعراف (58)

﴿ يَأْتِيهَا الَّذِينَ ءَامَنُوا لَا يُبْلَوْنَ أَصْدَقَتِكُمْ بِالْمَنِّ وَالْأَذَىٰ كَالَّذِي يُنْفِقُ مَالَهُ رِثَاءَ النَّاسِ وَلَا يُؤْمِنُ بِاللَّهِ وَالْيَوْمِ الْآخِرِ فَمَثَلُهُ كَمَثَلِ صَفْوَانٍ عَلَيْهِ تُرَابٌ فَأَصَابَهُ وَابِلٌ فَتَرَكَهُ صَلْدًا لَا يَقْدِرُونَ عَلَىٰ شَيْءٍ مِّمَّا كَسَبُوا وَاللَّهُ لَا يَهْدِي الْقَوْمَ الْكَافِرِينَ ﴿٢٦٤﴾

سورة البقرة (264)

س : علل : سمى الله تعالى التربة بالبلد .

ج : السبب : لأن التربة بمكوناتها و كائناتها الحية تشبه البلد .

- التربة تحتوي على مساكن العديد من الكائنات الحية المجهرية مثل البكتيريا و الفطريات التي تتغذى على المواد العضوية و تحوّلها إلى مواد معدنية في إطار الدورات الجيوكيميائية .

س : اذكر أمثلة لدورات جيوكيميائية تحدث في البيئة .

ج : ١) دورة النيتروجين N في الطبيعة .

٢) دورة الفوسفور P في الطبيعة .

٣) دورة الكبريت S في الطبيعة .

- تحتوي التربة على قنوات مياه السيل و التبخر ، كما تحتوي على الهواء للتهوية ، و تحتوي على مساكن تأوي كائناتها تتألف من حبيبات الرمل و الطين .

س : فكر : هل تختلف أنواع التربة ؟

ج : نعم تختلف . توجد التربة الطينية و الرملية و الدبالية .

س : فكر : لو كنت تعيش في التربة مثل دودة الأرض ، فكيف سيكون شكل التربة التي تعيش فيها ؟



Ibrahim ali

ج : ستكون مليئة بالأنفاق و الكهوف .

س : فكر : ما الرابط بين الآية العظيمة من سورة البقرة و نطاقات التربة ؟

ج : الصفوان يمثل الأساس الصخري و التراب يمثل التربة الفوقية و التحتية .



- يتكون سطح الأرض من يابسة و ماء .

- تتكون اليابسة من صخور و تربة .

* **التربة** : هي الطبقة السطحية أو الخارجية لسطح الأرض .

- توجد التربة في كل مكان على سطح اليابسة .

- يختلف سُمك التربة من مكان لآخر ، فهي سميكة في السهول و المروج الخضراء و أودية الأنهار

و تكون رقيقة فوق الجبال ، و أحيانا نجد الصخور معرّة من الرمال .

س : ما أهمية التربة ؟

ج : ١) زراعة المحاصيل الزراعية .

٢) صناعة الأواني الفخارية .



شكل (82)

اكتشف مكونات التربة



1. خُذ عيّنة من تربة المدرسة وافحصها بيدك.

2. اِستخدِم تلك العيّنة واتبع الخطوات التالية:



أ. خُذ جرة و صُغ فيها ماء .

ب. صُغ في الجرة كمية قليلة

ج. رجّ الجرة و اتركها و سجّل

ملاحظاتك .

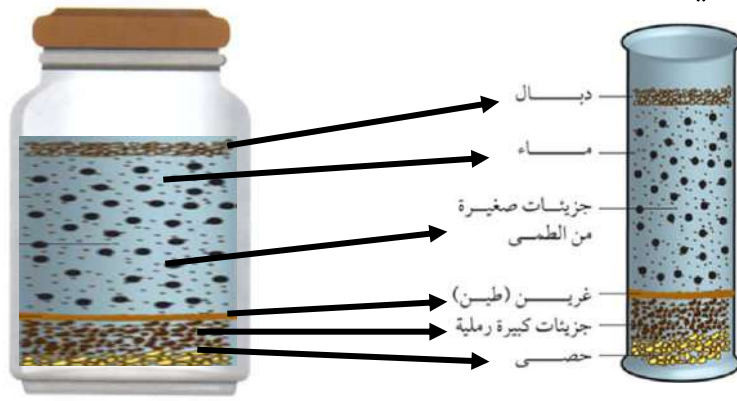
من تربة الحديقة .

ملاحظاتي: تتكون طبقات مختلفة ، و توجد بقايا نباتات طافية على الماء .

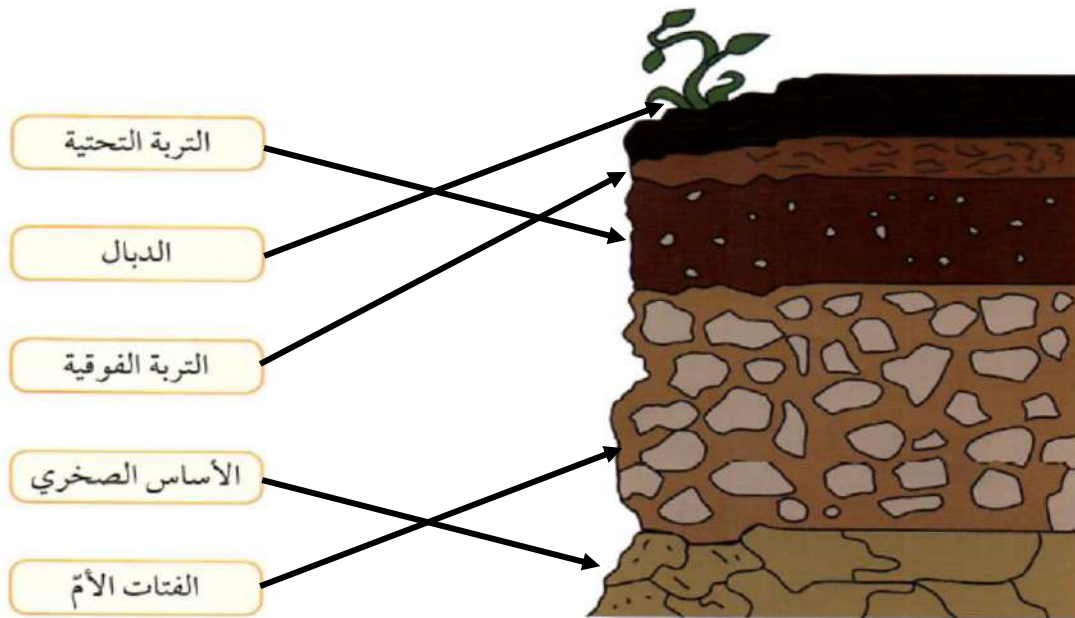
2

تتكون التربة من عدة مكونات مختلفة في حجمها .

3. ارسم مكونات التربة في الزجاجية : ص ١٤٦



شاهد فيلماً حول نطاقات التربة ثم صل البيانات بمكانها الصحيح.



شكل (83)

بعد تفحصك أجزاء التربة الدبالية ، سجل على الرسم البياني مكوناتها مستعيناً بمفتاح الحل : ص ١٤٧



فكر : هل تختلف تلك النسب في حال تغير التربة ؟ نعم تختلف .

س : كيف تكوّنت التربة ؟

ج : تكوّنت نتيجة تعرض صخور الياابس لعوامل التجوية مما أدى إلى تكسيورها و تفتيتها و طحنها .

- قد يبقى الفتات الصخري مكانه أو ينتقل لمكان آخر نتيجة عوامل التعرية .

س : ما هي عوامل التعرية التي تباعد على نقل فتات الصخور من مكان لآخر ؟

ج : (١) الرياح .

(٢) الماء الجاري .

س : علل : مكونات التربة تختلف من مكان لآخر .

ج : لوجود عوامل التعرية التي تساعد على نقل فتات الصخور من مكان لآخر ثم حدوث الترسيب .

* **التربة الزراعية الخصبة** :- هي التربة الجيدة الصالحة للزراعة .

- هي الوسط الذي تنبت فيه النباتات و تُثبَّت جذورها و تحصل منه

على ما تحتاج إليه من ماء و غذاء لتنمو .

- تعيش دودة الأرض في طبقة الدبال للتربة الغنية بالمواد العضوية .

ارسم خط مسار دودة الأرض لتتعرف على المكان الذي تعيش فيه : ص ١٤٨



س : فكر : ما الذي يجعل التربة الزراعية جيدة الزراعة ؟

ج : لوجود الدبال الذي يُزوّد النبات بالمواد اللازمة لنموه مثل النيتروجين و الفوسفور و الكبريت و البوتاسيوم .

* **الدبال** : مادة داكنة اللون تتكون عند تحلل بقايا الحيوانات و النباتات .

س : ماذا يحدث عند تسخين مكونات التربة الزراعية في غلبة معدنية ؟

ج : تنتشر رائحة احتراق أوراق النباتات ، و هذا دليل على احتواء التربة الزراعية على أجزاء من النبات .

س : ما أهمية الدبال ؟

ج : الدبال يُزوّد النبات بالمواد اللازمة لنموه حيث يتحلل إلى مواد بسيطة تذوب في الماء و يمتصها

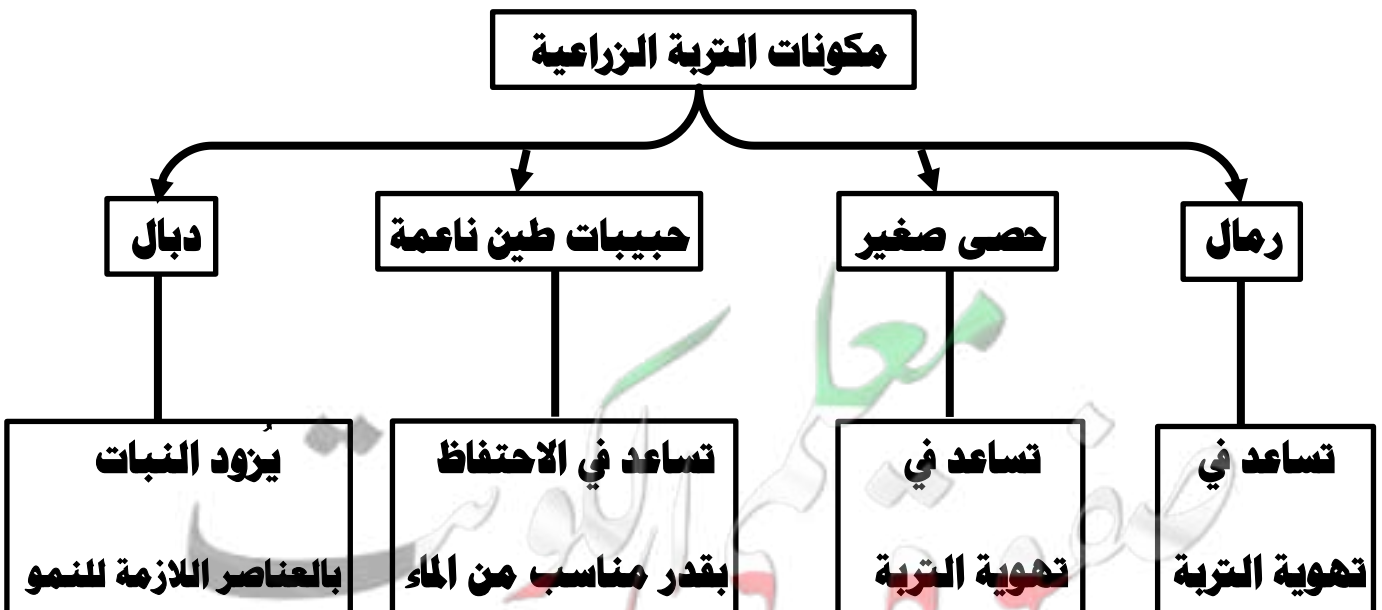
النبات عبر الجذور ، كما أن الدبال غني بعناصر النيتروجين و الكبريت و الفوسفور و البوتاسيوم

و هي مواد تحتاج إليها النباتات لتنمو .



الصق صورة نبتة في منزلك : ص ١٤٩

ارسم خريطة ذهنية توضح أهمية أجزاء التربة الزراعية بالنسبة إلى النباتات : ص ١٥٠



- عندما تسقط الأمطار على التربة فإنها قد تتجمع في بعض الأماكن و التي تسمى خباري أو مطينة بينما قد تتسرب بسرعة من أماكن أخرى .
Ibrahim ali

* **الخباري** : هي الأماكن التي تتجمع فيها مياه الأمطار لمدة طويلة . مثل خباري حولي و الفحيحيل.

* **المطينة** : هي حفر واسعة وعمق ذراع أو أكثر ، يُستخدم طينها في البناء ، و لذلك يتجمع فيها ماء المطر بشكل تلقائي . و كانت تتواجد بالقرب من البيوت شرق حولي .

فكر : ما سبب تكوين برك مائية في أماكن معينة و عدم تكونها في أماكن أخرى ؟ ص ١٥١
لاختلاف نوع التربة من حيث نفاذيتها للماء .

الكنز البني



إقطع قناني بلاستيكية مستهلكة و ضَع في الفوهة قطعة من القطن، ثم ضَع في كل واحدة نوعًا مختلفًا من التربة. ضَع بذورًا في القناني الثلاث و انتظر أسبوعًا. لا تنس أن تسقي عينات الزرع الثلاث كل يوم بكمية الماء نفسها، ثم سجّل ملاحظاتك.

وجه المقارنة	دبالية	رملية	طينية
نوع التربة	دبالية	رملية	طينية
نمو البذور	نمو جيد	نمو عادي	نمو ضعيف
كمية الماء المتجمّع في قعر القنينة	متوسطة	كبيرة	قليلة

في اعتقادك، أي من أنواع التربة السابقة يُطلق عليه الكنز البني؟ فسّر إجابتك.

التربة الدبالية - لأنها بيئة خصبة لنمو النبات و هي تتميز بتهوية جيدة و

بخصوبتها العالية و احتفاظها بالقدرة المناسب من الماء .

* **الدبال** :- هو المادة العضوية المتحللة في التربة .

- هو مادة داكنة اللون تتكون عند تحلل بقايا النباتات و الحيوانات .

- يساعد على تكوين فراغات في التربة يشغلها الهواء و الماء المهمان للنبات .

هل نسبة الهواء بين جزيئات أنواع التربة متساوية ؟ ص ١٥٢

سيتم إجراء هذه التجربة لمعرفة نوع التربة التي تحتوي على أكثر الفراغات الهوائية :



١- ما هو نوع التربة التي يقل فيها منسوب الماء لوجود فراغات كثيرة ؟
التربة الرملية .

٢- فسر إجابتك :

حبيبات الرمل كبيرة نوعا ما مما يجعل الفراغات بين الحبيبات كبيرة فتستوعب كمية أكبر من الماء و بالتالي يقل منسوب الماء فيها ، أي أن لها نفاذية عالية .

٣- لتكون التجربة صحيحة ، أي الشروط التالية يجب أن تبقى على نفس المقدار :

حجم المخبار / نوع التربة / كمية التربة / كمية الماء ؟
حجم المخبار / كمية التربة / كمية الماء .

س : علل : يجب ريّ المزروعات بكمية مناسبة من الماء .

ج : لأن زيادة الماء أو قلته قد يؤدي إلى موت النباتات .

س : كيف تكونت التربة ؟

ج : تكونت التربة بتفكك الصخور نتيجة عملية التجوية ، حيث يختلط الفتات الصخري بالمواد العضوية و الماء و الهواء على سطح الأرض .

أيضاً تتكون التربة تدريجياً بتعرض الأساس الصخري للتجوية حيث يتفتت إلى جزيئات أصغر فأصغر مكونة المادة الأساسية للتربة .

* التجوية : هي العملية التي بواسطتها يتفكك الصخر المنكشف .

* الأساس الصخري : هي طبقة تتأثر بالتجوية تدريجياً فتتفتت مكونة المادة الأساسية للتربة .

استعن بما سبق لإكمال المخطط التالي الذي يوضح تكوّن التربة : ص ١٥٣



- * **التربة** :- هي حبيبات نتجت عن تعرض الأساس الصخري للتجوية .
 - هي خليط من الرواسب و المعادن و المواد العضوية المتحللة و الهواء و الماء .

استخدم العدسة المكبرة لفحص أنواع التربة و أكمل الجدول التالي : ص ١٥٤

			أرسم حجم حبيبات التربة
دبالية	طينية	رملية	نوع التربة
متوسط	صغير جدا	كبير	حجم الحبيبات
متوسطة	قليلة	كبيرة	المسافة بين الحبيبات
٢	١	٣	رتّب أنواع التربة تصاعديًا بحسب حجم حبيباتها

استنادًا إلى النشاط السابق، التربة التي اختارها الدودة هي..... **الدبالية**

- تعتبر التربة من أهم موارد الأرض . (تربة / صخور / معادن / نفط / غاز طبيعي / فحم) .

س : علل : يمكن أن تتعرض التربة للتلف و فقدان خصوبتها .

ج : السبب : تكرار زراعة المحصول نفسه لفترات طويلة .

س : كيف يمكن إعادة تخصيب التربة مرة أخرى ؟

ج : (١) بتطوير طرق الزراعة .

(٢) بزراعة محاصيل جديدة مثل الفول السوداني .

س : علل : يعتبر الفول السوداني من المحاصيل التي تساعد على جعل التربة خصبة مرة أخرى

ج : السبب : لأنه من النباتات البقولية التي تحتوي جذورها على عقد بكتيرية تثبت النتروجين في

التربة في صورة مركبات نيتروجينية يمتصها النبات و يستفيد منها .



س : علل : الفول السوداني يثبت نيتروجين الجو في التربة .

ج : السبب : لوجود عقد بكتيرية في جذورها .

الصق أو ارسم صورة توضح دورك في الحفاظ على التربة : ص ١٥٥

اكتب آية قرآنية أو حديثا شريفا عن أهمية الزراعة : ص ١٥٥

عَنْ أَنَسِ بْنِ مَالِكٍ قَالَ : قَالَ رَسُولُ اللَّهِ صَلَّى اللَّهُ عَلَيْهِ وَسَلَّمَ : (إِنْ قَامَتِ السَّاعَةُ وَفِي يَدِ أَحَدِكُمْ فَسِيلَةٌ، فَإِنْ اسْتَطَاعَ أَنْ لَا تَقُومَ حَتَّى يَغْرِسَهَا فَلْيَغْرِسْهَا) .

- في خمسينات القرن الماضي كانت الزراعة مقتصرة في القطاع الحكومي على الاهتمام بالتجميل .

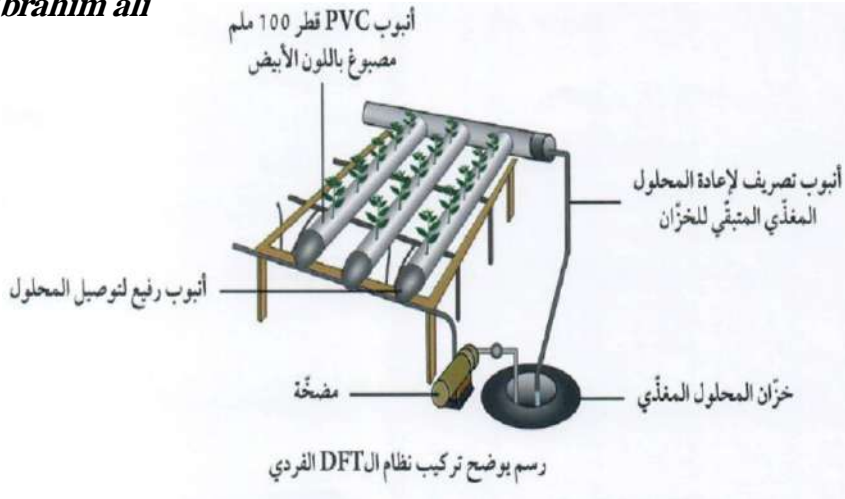
- في نهاية الستينات و مطلع السبعينات بدأ الاهتمام بالزراعة الإنتاجية شيئا فشيئا ، و بدأ القطاع الأهلي ينشئ المزارع في الوفرة و العبدلي .

- في هذه الأيام زاد اهتمام الحكومة بالزراعة ، و أقامت الحكومة حملة خاصة لدعم المنتجات الكويتية تحت شعار " منا و فينا " .

- للتعرف على نباتات الكويت و تاريخ زراعتها قم بزيارة حديقة الشهيد أو الهيئة العامة للزراعة .

صمم ورقة A4 باستخدام التجارب لتقدم حولا لتحويل الكويت الرملية إلى تربة زراعية : ص ١٥٦

Ibrahim ali



- الظروف المناخية القاسية التي تعاني منها الكويت تُعيق عملية استصلاح الأراضي .

- نجح المزارع الكويتي في التغلب على الظروف البيئية ، و نجح في توطين أصناف زراعية جديدة مثل الذرة الحمراء و البطيخ الأبيض و البرتقالي و القطن .

كيف يمكن استغلال الأراضي الصحراوية في الكويت للزراعة ؟

وكيف يمكن التغلب على المعوقات المناخية ؟ ص ١٥٧

التربة في الكويت ذات قوام رملي مفككة جيدة الصرف و التهوية و نسب الرمال تصل فيها إلى ٩٠ % و لا تزيد نسبة الغرين و الطين فيها عن ٧ % ، و هي فقيرة بالمواد العضوية لتغذية النباتات ، كما تحتوي على نسبة عالية من الأملاح الضارة .

الحلول : (١) التسميد العضوي الطبيعي الذي يُحسن من خواص التربة و يكسبها القدرة على الاحتفاظ بالماء

(٢) زراعة نباتات اقتصادية تتحمل الملوحة .

(٣) غسل التربة بمياه منخفضة الملوحة .

(٤) الزراعة المحمية .

- الدبال من المكونات الأساسية للتربة الزراعية .

- يتكون الدبال نتيجة تحلل بقايا النباتات و الحيوانات بفعل الكائنات الحية الدقيقة التي تعيش في التربة . و التي تسمى بالمحللات .

* **المحللات :** هي كائنات تفتت بقايا الكائنات الميتة إلى أجزاء صغيرة و تهضمها بالأنزيمات .



لاحظ سرعة نمو النبتة و دوّن ملاحظاتك في الجدول التالي.

		وجه المقارنة
تربة بدون سماد عضوي	تربة فيها سماد عضوي	
تنمو ببطء و يصفر لونها	تنمو بصورة ممتازة	سرعة نمو النبتة

بعد زيارتك السوق المركزي ، سجل في ركن الخضار أسماء محاصيل زراعية يتم انتاجها في الكويت : ص ١٥٨
طماطم - خيار - البطاطس - الفلفل - الباذنجان - الخس الخ.

- قام معهد الكويت للأبحاث العلمية بعدة تجارب لتحسين و استصلاح التربة الصحراوية منها مشروع تطوير منتج مكوّن من الكبريت و البكتيريا المؤكسدة .

- طرق استصلاح الأراضي الصحراوية :- (١) إضافة الدبال للتربة الصحراوية .

(٢) توفير الماء اللازم للزراعة . (٣) استخدام طرق حديثة في ري النباتات لتوفير الماء .

(٤) استخدام الطرق الحديثة في الزراعة . (٥) غسل التربة لإزالة حموضتها .

س : علل : تعمل دولة الكويت على استصلاح أراضيها الصحراوية .

ج : السبب : لتأمين المخزون الغذائي من الخضار و الفاكهة .

تقسيم المتعلمين إلى مجموعتين لعقد المناظرة العلمية :- ص ١٦٠

عدم تمكّن دولة الكويت من تأمين الإنتاج الزراعي والتخلّي عن حاجتها إلى استيراد المحاصيل الزراعية.	يمكن لدولة الكويت تأمين الإنتاج الزراعي والتخلّي عن حاجتها إلى استيراد المحاصيل الزراعية.
الأسباب	الحلول والمقترحات
ارتفاع التكلفة و ظهور تشوهات .	الزراعة النسيجية .
انتشار مخلفات الحرب و تدهور أراضي الرعي .	مشروع انتاج المركب الكبريتي الحيوي
قلة الماء و ملوحة التربة و ارتفاع الحرارة .	مشروع زراعة ٣٥ مليون شتلة نخلة .
ارتفاع تكلفة الزراعة المائية .	مشروع الزراعة المائية بدون تربة .
ارتفاع الحرارة و قلة الماء و رداءة التربة .	الزراعة المحمية .

- اتبعت دولة الكويت عدة طرق لتطوير قطاع الزراعة ، وقد واجهت بعض المعوقات كما يلي :-

أولا : **الزراعة النسيجية** : هي عملية استنساخ خلايا أو أنسجة أو أعضاء من النبات الأم و إكثارها في أوساط غذائية تحت بيئة معقمة و مُتحكم بها في المختبر .

تساعد الزراعة النسيجية على تطوير أصناف من البطاطس مقاومة للملوحة و زراعة النخيل .



المعوقات :- (١) ارتفاع التكلفة المادية .

(٢) ظهور تشوهات في القمة النامية للنخيل .

ثانيا : **مشروع انتاج المركب الكبريتي الحيوي** : هو تحويل مخلفات الكبريت الناتجة عن مصافي

البتروال الضارة بالبيئة إلى مركب كبريتي حيوي

مفيد يستخدم لتحسين التربة الزراعية .

المعوقات :- (١) انتشار المخلفات بعد حرب الخليج .

(٢) تدهور الأراضي الرعوية .

(٣) عدم وجود قوانين بيئية لإقامة المخيمات

ثالثا : **مشروع زراعة ٣٥ مليون شتلة نخيل** :

يسهم المشروع في إعادة تأهيل البيئة البرية الكويتية عبر إنتاج شتلات من النباتات

الفطرية داخل عدد من المحميات المُسيّجة بمساحة تُقدر بـ ١٦٠٠ كم ٢ .



المعوقات :- (١) قلة مصادر الماء العذب اللازم للري .

(٢) ملوحة التربة .

(٣) شدة الحرارة صيفا و انخفاضها شتاءً .

رابعا : **مشروع الزراعة المائية من دون تربة** : هو نمط زراعي جديد لمواجهة محدودية الموارد

الطبيعية المتزايدة مثل ضعف التربة و سُخّ المياه .

المعوقات :- ارتفاع تكلفة الزراعة بدون تربة .

خامسا : مشروع تثقيف المواطنين في مجال الزراعة :

يتم ذلك من خلال إقامة الملتقيات تحت شعار " معا نجعل الكويت مروجا خضراء " و تسليط الضوء على أهمية الزراعة و التشجير و أساليب الزراعة المتطورة .

المعوقات :- عدم وجود الوعي الكافي لدى المواطنين .

سادسا : الزراعة المحمية : هي إنتاج الخضار أو نباتات الزينة داخل أنفاق أو دفيئات أو بيوت محمية كبيرة من البلاستيك الخفيف لتوفير ظروف نمو ملائمة و حماية المحاصيل من تقلبات الطقس .

المميزات :- (١) تساعد على إنتاج نباتات معينة بوفرة و في غير مواسمها .



(٢) زيادة الإنتاج مع تقليل التكلفة .

(٣) توافر المحاصيل في الأسواق طول السنة .

المعوقات :- (١) المناخ الصحراوي الحار .

(٢) صغر المساحة الممكن استغلالها زراعيًا و رداءة تربتها الرملية .

(٣) ندرة الماء و شحّه .



احذر العبث بأي شيء غريب أثناء التخميم في البرفي فصل الربيع.





إبحث عن الدراسات المقدّمة من معهد الكويت
للأبحاث العلمية لاستغلال التربة الرملية للزراعة،
وسجّل نقاطاً عنها.



تقنية صندوق
النمو
تحسين نظم
الإنتاج الزراعي



دراسة لري
أشجار النخيل
تحسين إنتاج
النخيل



تقييم الأشعة فوق
البنفسجية
تحسين أداء الدفيئة



نظام المنصة
المعزولة المغلقة

أكتب تقريرًا من خمسة أسطر عن سبب تدمير التربة في بعض مناطق الكويت.



(١) تلوث الهواء بالغبار .

(٢) استنزاف التربة بالتركيز على صنف واحد من المنتجات الزراعية

(٣) الأنشطة البشرية الغير منظمة (بناء المصانع والمنازل على الأراضي الزراعية)

(٤) الجفاف : يدمر التربة ويفككها

(٥) الرعي الجائر

(٦) التلوث النفطي للتربة

أكتب تقريرًا عن كيفية المحافظة على التربة من التدمير في دولة الكويت.



(١) عمل مصدات للرياح حول الأراضي الزراعية

(٢) الحرص على تهوية التربة منعا لجفافها .

(٣) عدم دفن النفايات أو المخلفات الناتجة من المصانع والبيوت

(٤) اتباع أسلوب الدورات الزراعية (تناوب المحاصيل) لعدم اجهاد التربة ..

(٥) تجنب الزحف العمراني

(٦) توعية المواطنين للزراعة وتقديم تسهيلات للمزارعين

استخلاص النتائج



- 1 تتكوّن التربة من عدّة طبقات هي: الأساس الصخري والفتات الأمّ والتربة التحتية والتربة الفوقية والدبال.
- 2 تشكّل التربة الزراعية الخصبة الوسط الذي تنبت فيه النباتات وتُثبت جذورها، وتحصل منه على ما تحتاج إليه من ماء وغذاء لتنمو.
- 3 يُعرّف الدبال humus على أنه مادة داكنة اللون تتكوّن عند تحلّل بقايا الحيوانات والنباتات.
- 4 تُعتبر المطينة حفر واسعة وعمق ذراع أو أكثر، يُستخدم طينها في البناء، ما يجعلها مكاناً يتجمّع فيه ماء المطر بشكل تلقائي.
- 5 تختلف نسبة الهواء بين جزئيات التربة الرملية والطينية والدبالية.
- 6 تكوّن التربة بتفكك الصخور نتيجة التجوية وهي العملية التي بواسطتها يتفكك الصخر المنكشف والمواد الأخرى، مع اختلاط الفتات الصخري بالمواد العضوية والماء والهواء على سطح الأرض. لذلك تُعتبر عملية التجوية المسؤول الرئيسي عن تكوين التربة.
- 7 تختلف حبيبات التربة بحسب نوعها.
- 8 تُعرّف المحلّلات على أنّها كائنات تفتت بقايا الكائنات الميتة إلى قطع صغيرة وتهضمها بالإنزيمات.
- 9 يتمّ استصلاح الأراضي الصحراوية بطرق متعدّدة مثل إضافة الدبال، زراعة النباتات، غسل التربة، توفير الماء اللازم للزراعة، استخدام طرق حديثة في الزراعة.
- 10 تتنوّع طرق الزراعة المطوّرة في دولة الكويت ومنها الزراعة النسيجية، مشروع إنتاج المركّب الكبريتي الحيوي، مشروع زراعة 35 مليون شتلة نخيل، مشروع الزراعة المائية، الزراعة المحمية، مشروع تثقيف المواطنين في مجال الزراعة.

السؤال الأول:

أمامك ثلاثة أنواع من التربة.



(3)

طين 0-10%

طمي 0-10%

رمل 80-100%



(2)

طين 10-30%

طمي 30-50%

رمل 25-50%



(1)

طين 50-100%

طمي 0-45%

رمل 0-45%

1. تمثل العينة رقم (٣) التربة الرملية.

2. يمكن تحسين التربة رقم (3) من خلال:

إضافة الطمي و الدبال و الطين إليها

3. ما هي الاختلافات بين التربة (1) و التربة (2)؟ أذكر أشياء تجدها في التربة (2) ولا تجدها في التربة (1).

يوجد بقايا كائنات حية (دبال) و ماء.

السؤال الثاني:

التربة التي تجدها على الشاطئ هي رقم (١) وهي تتألف من جزيئات رملية كبيرة وقطع صغيرة جداً من الصخور التي تُسمى حبيبات الرمل مع بعض القطع الصغيرة من الحصى.



(3)



(2)



(1)

لماذا تعتقد أن النباتات لا تنمو جيداً في التربة الرملية؟

لأنها مفككة و فقيرة بالمواد الغذائية .

لذلك نستخدم التربة رقم (٣) في الزراعة.

السؤال الثالث:

طلب المعلم من يوسف رسماً لنمو بذرة داخل قنينة.

			رسم يوسف
دبالية	رملية	طينية	نوع التربة

ما الخطأ في الرسم؟ أذكر السبب.

نمو النبات في التربة الطينية و عدم نموها في التربة الدبالية

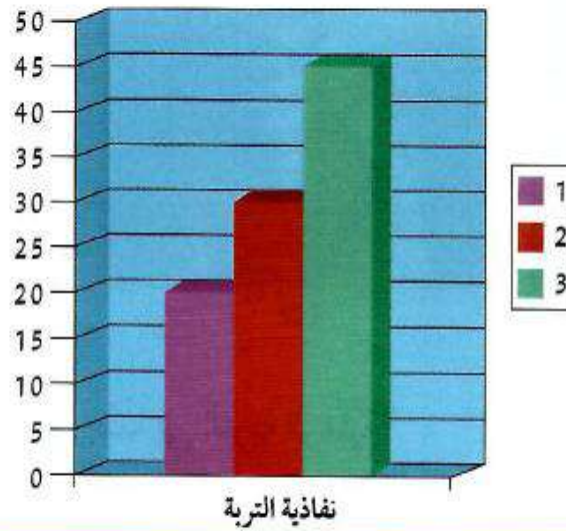
السبب : النبات ينمو في التربة الدبالية و لا ينمو في التربة الطينية و لا الرملية .

السؤال الرابع:

يوضح الشكل التالي نسبة النفاذية في أنواع التربة الثلاثة.

* يُمثّل العمود رقم (٣) التربة الرملية.

* يُمثّل العمود رقم (١) أكثر تربة تحتفظ بالماء.



السؤال الخامس:

سجّل نوع التربة تحت كلّ رسم.



تربة رملية



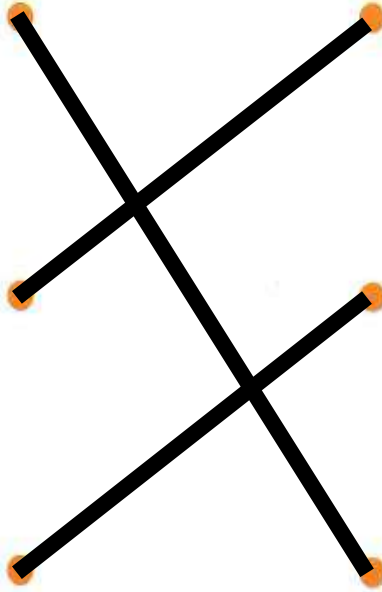

تربة دبالية



تربة طينية

السؤال السادس:

أوصِل كل نوع من أنواع التربة بالرسم الذي يمثله.



التربة الطينية

التربة الرملية

التربة الدبالية

السؤال السابع:

أكتب ثلاث طرق لاستصلاح الأراضي الصحراوية.

1. إضافة الدبال و غسل التربة .

2. توفير المياه اللازمة للزراعة .

3. استخدام طرق حديثة للزراعة .

السؤال الثامن:

أكتب ثلاث طرق للزراعة المطوّرة في دولة الكويت.

1. الزراعة النسيجية .

2. الزراعة المائية .

3. الزراعة المحمية .

تم بحمد الله وفضله