






وزارة التربية

# تاريخ العالم الحديث والمعاصر

الصف الثاني عشر - الأدبي



المرحلة الثانوية



الطبعة الأولى

اعداد وتنسيق  
أ. سعود المونس  
رئيس قسم الاجتماعيات

[ دليل الأسئلة وأوراق العمل لمادة تاريخ العالم الحديث والمعاصر - للصف الثاني عشر أدبي ]

الفصل الدراسي الثاني

اسم الطالب/ة

الصف ٢١٢ د

KuwaitTeacher.Com

## ورقة متابعة أنشطة الطالب الصفية واللاصفية للعام الدراسي ٢٠٢٠ - ٢٠٢١ م

اليوم و التاريخ	ملاحظات/ النشاط الصفّي واللاصفّي	الدرجة	توقيع ولي الأمر
( ) الأحد ( ) الاثنين ( ) الثلاثاء ( ) الأربعاء ( ) الخميس <b>المواظف</b> ...../...../.....	* القصور في : ١- ( ) التأخر في موعد التسليم ٢- تسجيل ( ) التاريخ - ( ) العنوان ٣- تعريف المفاهيم والمصطلحات. ٤- إكمال الدروس والواجبات الناقصة. ٥- حل أنشطة ورقة العمل واستكمالها. ٦- لصق ورق العمل. ٧- المهارات من حيث: أ- الخرائط: ( ) الرسم والتلوين - ( ) دقة التوزيعات - ( ) قراءة وتحليل الخريطة. ب- ( ) تحليل الصور والأشكال والجداول الإحصائية والبيانية. ٨- ( ) اشكرك لتميزك في الأنشطة الصفية. ٩- ( ) بارك الله فيك لتميزك في الأنشطة اللاصفية. ١٠- ملاحظات أخرى:.....		
( ) الأحد ( ) الاثنين ( ) الثلاثاء ( ) الأربعاء ( ) الخميس <b>المواظف</b> ...../...../.....	* القصور في : ١- ( ) التأخر في موعد التسليم ٢- تسجيل ( ) التاريخ - ( ) العنوان ٣- تعريف المفاهيم والمصطلحات. ٤- إكمال الدروس والواجبات الناقصة. ٥- حل أنشطة ورقة العمل واستكمالها. ٦- لصق ورق العمل. ٧- المهارات من حيث: أ- الخرائط: ( ) الرسم والتلوين - ( ) دقة التوزيعات - ( ) قراءة وتحليل الخريطة. ب- ( ) تحليل الصور والأشكال والجداول الإحصائية والبيانية. ٨- ( ) اشكرك لتميزك في الأنشطة الصفية. ٩- ( ) بارك الله فيك لتميزك في الأنشطة اللاصفية. ١٠- ملاحظات أخرى:.....		
( ) الأحد ( ) الاثنين ( ) الثلاثاء ( ) الأربعاء ( ) الخميس <b>المواظف</b> ...../...../.....	* القصور في : ١- ( ) التأخر في موعد التسليم ٢- تسجيل ( ) التاريخ - ( ) العنوان ٣- تعريف المفاهيم والمصطلحات. ٤- إكمال الدروس والواجبات الناقصة. ٥- حل أنشطة ورقة العمل واستكمالها. ٦- لصق ورق العمل. ٧- المهارات من حيث: أ- الخرائط: ( ) الرسم والتلوين - ( ) دقة التوزيعات - ( ) قراءة وتحليل الخريطة. ب- ( ) تحليل الصور والأشكال والجداول الإحصائية والبيانية. ٨- ( ) اشكرك لتميزك في الأنشطة الصفية. ٩- ( ) بارك الله فيك لتميزك في الأنشطة اللاصفية. ١٠- ملاحظات أخرى:.....		
( ) الأحد ( ) الاثنين ( ) الثلاثاء ( ) الأربعاء ( ) الخميس <b>المواظف</b> ...../...../.....	* القصور في : ١- ( ) التأخر في موعد التسليم ٢- تسجيل ( ) التاريخ - ( ) العنوان ٣- تعريف المفاهيم والمصطلحات. ٤- إكمال الدروس والواجبات الناقصة. ٥- حل أنشطة ورقة العمل واستكمالها. ٦- لصق ورق العمل. ٧- المهارات من حيث: أ- الخرائط: ( ) الرسم والتلوين - ( ) دقة التوزيعات - ( ) قراءة وتحليل الخريطة. ب- ( ) تحليل الصور والأشكال والجداول الإحصائية والبيانية. ٨- ( ) اشكرك لتميزك في الأنشطة الصفية. ٩- ( ) بارك الله فيك لتميزك في الأنشطة اللاصفية. ١٠- ملاحظات أخرى:.....		
( ) الأحد ( ) الاثنين ( ) الثلاثاء ( ) الأربعاء ( ) الخميس <b>المواظف</b> ...../...../.....	* القصور في : ١- ( ) التأخر في موعد التسليم ٢- تسجيل ( ) التاريخ - ( ) العنوان ٣- تعريف المفاهيم والمصطلحات. ٤- إكمال الدروس والواجبات الناقصة. ٥- حل أنشطة ورقة العمل واستكمالها. ٦- لصق ورق العمل. ٧- المهارات من حيث: أ- الخرائط: ( ) الرسم والتلوين - ( ) دقة التوزيعات - ( ) قراءة وتحليل الخريطة. ب- ( ) تحليل الصور والأشكال والجداول الإحصائية والبيانية. ٨- ( ) اشكرك لتميزك في الأنشطة الصفية. ٩- ( ) بارك الله فيك لتميزك في الأنشطة اللاصفية. ١٠- ملاحظات أخرى:.....		

فكرة وإعداد وتصميم رئيس قسم الاجتماعيات  
أسعد المونس  
[www.q84s.com](http://www.q84s.com)  
جميع الحقوق محفوظة

- ✓ **ملاحظات:**
- يكتب الطالب /ة الاسم والفصل في بداية الورقة.
  - تلصق الورقة في بداية الدفتر أو كراس الأنشطة.
  - تجمع الدفاتر كل حصة أولى من كل أسبوع دراسي.
  - يتم توقيع ولي الأمر على الدرجة.
  - تتم مراجعة المعلم أثناء الدرس فقط وتترك ورقة في حال عدم تواجد المعلم.

## جدول الحصص الأسبوعي

اليوم	الحصّة الأولى	الحصّة الثانية	الحصّة الثالثة	الحصّة الرابعة	الحصّة الخامسة	الحصّة السادسة	الحصّة السابعة
الأحد							
الاثنين							
الثلاثاء							
الأربعاء							
الخميس							

## ملاحظات

ملاحظات:

.....

.....

.....

.....

.....

.....

.....

.....

.....

مواضيع:

.....

.....

.....

.....

.....

.....

.....

.....

.....

الثورة الإنجليزية || الدرس صفحة ٧٣ إلى ٧٤

س ١ / علل ما يلي:

أ- عرفت الثورة الإنجليزية بالثورة المجيدة.

ب- الثورة الإنجليزية كانت مثلاً تحتذي به دول أوروبا.

ج- نشوء الخلاف بين الملك الإنجليزي جيمس الثاني (دوق يورك)، والبرلمان الإنجليزي.

بسبب تبني الملك سياسة ذات ثلاث عناصر هي:

١-

٢-

٣-

د- بداية المشكلات الحقيقية عندما اقترح الملك جيمس الثاني تعديل قانون يسمح للكاثوليك تولي الوظائف العامة.

س ٢ / عرف ما يلي:

١- الحكم المطلق:

٢- الإنجليكانية:

س ٣ / فسر العبارات التالية:

أ- "لم يواجه وليم اورانج ملك هولندا أي مقاومة تذكر عند مجيئه إلى إنجلترا لتسلم الحكم".

ب- "هروب الملك جيمس الثاني إلى فرنسا عام ١٦٨٩ م".

س ٤ / ماذا يحدث لو لم يتبنى الملك الإنجليزي جيمس الثاني سياسة ذات ثلاثة عناصر.



س ٥ / لاحظ الأشكال التالية ثم أجب :

١- صاحب الصورة في الشكل (١) يسمى: .....

س ٢ / عدد: العناصر التي تنبأها الملك جيمس الثاني.

١- .....

٢- .....

٣- .....



١- صاحبة الصورة في الشكل (٢) تسمى: .....

٢- تزوجت الملكة ماري الثانية بملك يسمى: .....

س ٦ / أكمل العبارات التالية بما يناسبها:

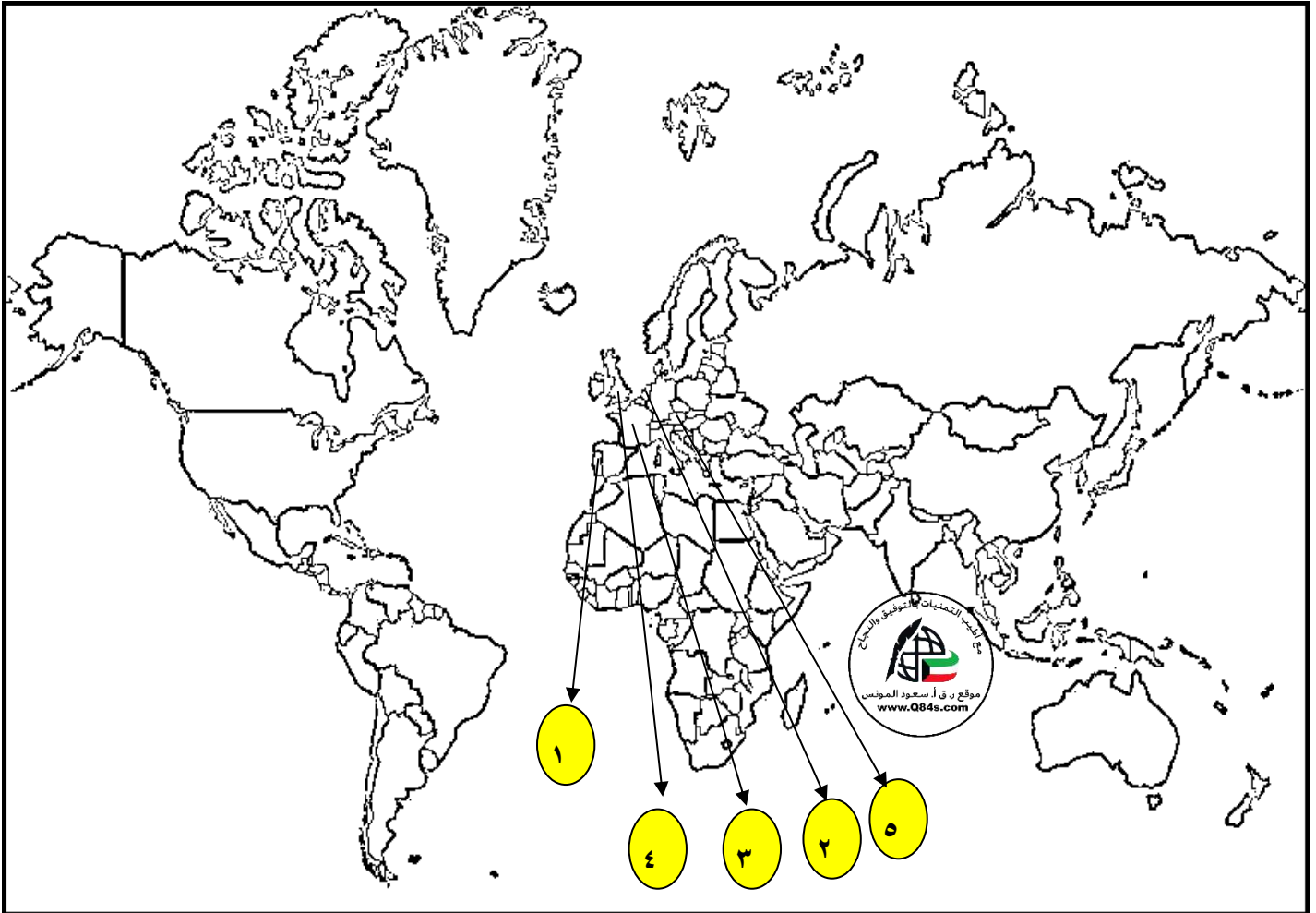
١- عرفت الثورة الانجليزية عام .....

٢- أعلن الملك جيمس الثاني عام ١٦٨٧ م مبدأ يسمى .....

٣- ابنة الملك الانجليزي جيمس الثاني وزوجة ملك هولندا وليم اورانج تسمى .....

٤- الملك الهولندي الذي مارس مهام الملك الانجليزي عام ١٦٨٩ م يسمى .....

س/ انظر الخريطة جيداً ثم أجب:



• موقع انطلاق الثورة المجيدة على الخريطة يمثلها الرقم .....

• موطن الملك وليم اورانج الذي جاء لتولي عرش إنجلترا على الخريطة يمثلها الرقم .....

• البلدة التي هرب إليها الملك جيمس الثاني على الخريطة يمثلها الرقم .....

الدرس صفحة ٧٤ إلى ٧٥س١/ ما النتائج المترتبة على: هروب الملك جيمس الثاني إلى صديقه لويس الرابع عشر.س٢/ علل: عقد البرلمان الإنجليزي اجتماعاً عام ١٦٨٩م.س٣/ اذكر: بنود لائحة الحقوق الإنجليزية.

-١

-٢

-٣

-٤

س٤/ لاحظ الصورة المقابلة ثم أجب:

١- صاحب الصورة يسمى: .....

س٥/ أكمل الفراغات التالية بما يناسبها:

١- الدولة التي يحكمها وليم أورانج قبل تتويجه ملكاً على إنجلترا تسمى .....

٢- لقب أطلق على الملك وليم أورانج هو .....

الدرس صفحة ٧٥ إلى ٧٦

س ١/ عدد: نتائج الثورة الإنجليزية.

- ١- .....
- ٢- .....
- ٣- .....
- ٤- .....
- ٥- .....

س ٢/ فرق بين: مجلس اللوردات ومجلس العموم.

مجلس اللوردات	مجلس العموم

س ٣/ لاحظ الصورة المقابلة ثم أجب:



صفحة رقم - ٧ -

١- صاحب الصورة يسمى: .....

٢- اكتب عن: نظرية جون لوك السيادة الشعبية.

تسمى السيادة الشعبية: .....

.....

.....

.....

س ٤/ أكمل العبارات التالية بما يناسبها:

١- الدول التي انتشرت فيها نظرية السيادة الشعبية تسمى .....

٢- النظرية التي أصبحت القاعدة لمعظم دساتير العالم تسمى .....



## الثورة الأمريكية الدرس صفحة ٧٦ إلى ٧٨

س١/ فرق بين: نظام الحكم في المستعمرات الانجليزية.

المجلس النيابي	الحاكم

س٢/ فند العبارة التالية: "كان التوافق بين الحاكم والمجلس المنتخب واضحاً في المستعمرات الانجليزية في امريكا".

س٣/ أوجد العلاقة بكتابة فقرة مترابطة بالاستعانة بالكلمات التالية:

(حرب السنين السبع - معاهدة باريس - فلوريدا - أزمة مالية)

س٤/ قارن بين: نتائج حرب السنين السبع بين كل من إنجلترا / المستعمرات الانجليزية في امريكا.

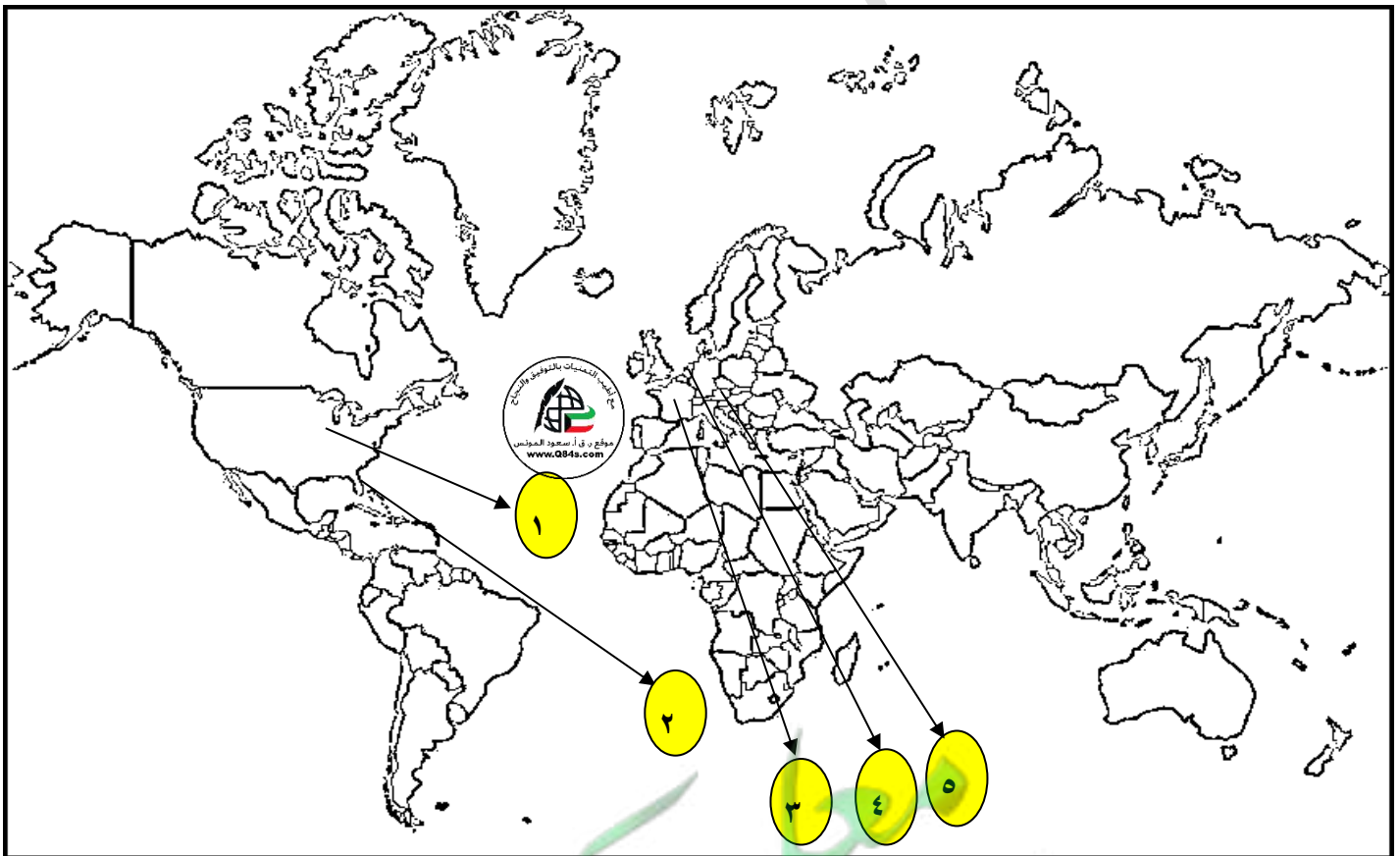
وجه المقارنة	إنجلترا	المستعمرات الإنجليزية في أمريكا
النتائج	-١	-١
	-٢	-٢
	-٣	-٣
	-٤	-٤

س٥/ ماذا يحدث لو لم: تعقد فرنسا معاهدة باريس ١٧٦٣م بعد هزيمتها بحرب السنين السبع.

## س٦/ أكمل العبارات التالية بما يناسبها:

- ١- أول مستعمرة انجليزية تأسست في أمريكا الشمالية تسمى .....
- ٢- تأسست مستعمرة جيمس تون عام .....
- ٣- الملك الانجليزي الذي ظهر في عهده الخلاف الكبير بين الحاكم والمجلس النيابي يسمى .....
- ٤- بدأت حرب السنين السبع عام .....
- ٥- الدولة التي انهزمت في حرب السنين السبع تسمى .....
- ٦- انتهت حرب السنين السبع وعقدت معاهدة باريس عام .....
- ٧- المستعمرة الاسبانية المنافسة لإنجلترا في أمريكا تسمى .....

س/ انظر الخريطة جيداً ثم أجب:



- أول مستعمرة انجليزية تأسست في أمريكا الشمالية على الخريطة يمثلها الرقم .....
- المستعمرة الاسبانية المنافسة لإنجلترا في أمريكا على الخريطة يمثلها الرقم .....
- الدولة التي انهزمت في حرب السنين السبع على الخريطة يمثلها الرقم .....

الدرس صفحة ٧٨ إلى ٧٩

س ١/ اذكر: أسباب قيام الثورة الأمريكية.

-١

-٢

س ٢/ عرف المفاهيم التالية:

١- القوانين سيئة السمعة:

٢- قانون التمغة:

٣- جماعة أبناء الحرية:

س ٣/ علل ما يلي:

أ- معارضة الأمريكيين للقوانين سيئة السمعة.

ب- معارضة الأمريكيين لقانون التمغة.

ج- المقاومة العنيفة التي أبدتها جماعات أبناء الحرية نحو القوانين سيئة السمعة.

س ٤/ اذكر: مبدأ البرلمان الإنجليزي.

الدرس صفحة ٧٩ إلى ٨٠

س١/ ما النتائج المترتبة على: "استخدام الأمريكيون ل سلاح المقاطعة التجارية للبضائع الإنجليزية".

س٢/ علل: إلغاء الحكومة الانجليزية جميع الضرائب (سيئة السمعة) ما عدا ضريبة الشاي.

س٣/ انظر الشكل التالي ثم أجب:

١- الشكل يمثل حدث تاريخي يسمى:

٢- حدثت حفلة شاي بوسطن في عام .....

س٤/ عدد: قرارات البرلمان الإنجليزي لمعاقبة ميناء بوسطن.

١- .....

٢- .....

٣- .....



س٥/ أكمل العبارات التالية بما يناسبها:

١- الزعيم الأمريكي الذي ارتفعت الصيحات في عهده ضد القوانين الإنجليزية الجديدة يسمى .....

٢- تركزت صيحات الغضب الأمريكية ضد القوانين الإنجليزية في المركز التجاري بمدينة تسمى .....

س٦/ ماذا يحدث لو لم: " تبقى الحكومة الإنجليزية ضريبة الشاي على المستعمرات الإنجليزية".

.....

س٧/ عرف القوانين الجائرة:

.....

## الدرس صفحة ٨٠



س ١/ انظر الشكل المقابل ثم أجب:

أ- الشكل يمثل حدث تاريخي يسمى: .....

ب- حدث اجتماع الكونجرس الأول عام .....

س ٢/ عدد: قرارات الكونجرس الاول.

-١

-٢

-٣

س ٣/ قارن بين: قرارات مؤتمر فيلادلفيا الأول والثاني وفقاً للجدول التالي.

مؤتمر فيلادلفيا الأول (الكونجرس الأول)	مؤتمر فيلادلفيا الثاني ١٧٧٥ م (الكونجرس الثاني)	وجه المقارنة
		العام
		القرارات
-١	-١	
-٢	-٢	
-٣	-٣	

صفحة رقم - ١٢ -

س ٤/ أكمل العبارات التالية بما يناسبها:

١- المدينة التي اتخذها الثوار الأمريكيون معسكراً لبداية صدامهم المسلح مع الإنجليز عام ١٧٧٥ م تسمى .....

٢- القائد الإنجليزي الذي أمر بمصادرة الأسلحة واعتقال الزعماء الوطنيين الأمريكيين عند حامية كونكورد يسمى .....

٣- المدينة التي اتخذها الثوار الأمريكيين كميناً للقوات الانجليزية عام ١٧٧٥ م تسمى .....

٤- القائد الأمريكي الذي لمح اسمه في حرب السنين السبع وعين قائداً لحرب الاستقلال يسمى .....

الدرس صفحة ٨١ إلى ٨٢

س١/ اذكر: ما جاء في وثيقة الاستقلال الأمريكية.

-١

-٢

س٢/ علل: يحتفل الأمريكيون في تاريخ ٤ يوليو كل عام.

س٣/ عدد: نتائج معركة ساراتوجا ١٧٧٧م.

-١

-٢

-٣

-٤

س٤/ أكمل العبارات التالية بما يناسبها:

١- الزعيم الأمريكي الذي تقدم باقتراح للكونجرس عام ١٧٧٦م لإعلان الاستقلال الأمريكي عن إنجلترا يسمى

٢- المدينة التي تقدم منها الزعيم الأمريكي باقتراحه للكونجرس عام ١٧٧٦م لإعلان الاستقلال الأمريكي عن إنجلترا

تسمى .....

٣- القائد الذي تولى الجيش الأمريكي في معركة سارا توجا عام ١٧٧٧م يسمى .....

٤- القائد الإنجليزي للقوات الإنجليزية في معركة سارا توجا يسمى .....

٥- القائد الفرنسي الذي ساعد جورج واشنطن للسيطرة على أهم مواقع الجيش الإنجليزي يسمى .....

٦- مدينة سيطر عليها جورج واشنطن تعتبر أهم مواقع الجيش الإنجليزي تسمى .....

٧- معاهدة اعترفت فيها إنجلترا باستقلال الولايات المتحدة الأمريكية تسمى .....

٨- ظهرت الولايات المتحدة الأمريكية كوحدة سياسية مجتمعة في العالم الجديد عام .....

الدرس صفحة ٨٢ إلى ٨٣

س ١/ عدد ما يلي:

أ- مميزات الدستور الأمريكي ١٧٨٩م.

- ١- .....
- ٢- .....
- ٣- .....
- ٤- .....

ب- نتائج الثورة الأمريكية.

- ١- .....
- ٢- .....
- ٣- .....

س ٢/ دلل على صحة العبارة التالية: " تعتبر الثورة الأمريكية السبب المباشر في قيام الثورة الفرنسية " .

- ١- .....
- ٢- .....

س ٣/ أكمل العبارات التالية بما يناسبها:

- ١- النواب الذين اجتمعوا لوضع دستور الولايات المتحدة الأمريكية بلغ عددهم .....
- ٢- القائد الذي اختير رئيساً لوضع دستور الولايات المتحدة الأمريكية يسمى .....
- ٣- الملك الفرنسي الذي حدثت في عهده الأزمة المالية الفرنسية يسمى .....
- ٤- حدثت الأزمة المالية الفرنسية عام .....

**الثورة الفرنسية** **الدرس صفحة ٨٣ إلى ٨٤**

س١/علل: تعتبر الثورة الفرنسية واحدة من أهم الثورات الكبرى في العالم.

س٢/ما تفسيرك: لقبث الثورة الفرنسية بالنموذج الشامل للثورة.

-١

-٢

-٣

س٣/عدد: العوامل السياسية لقيام الثورة الفرنسية.

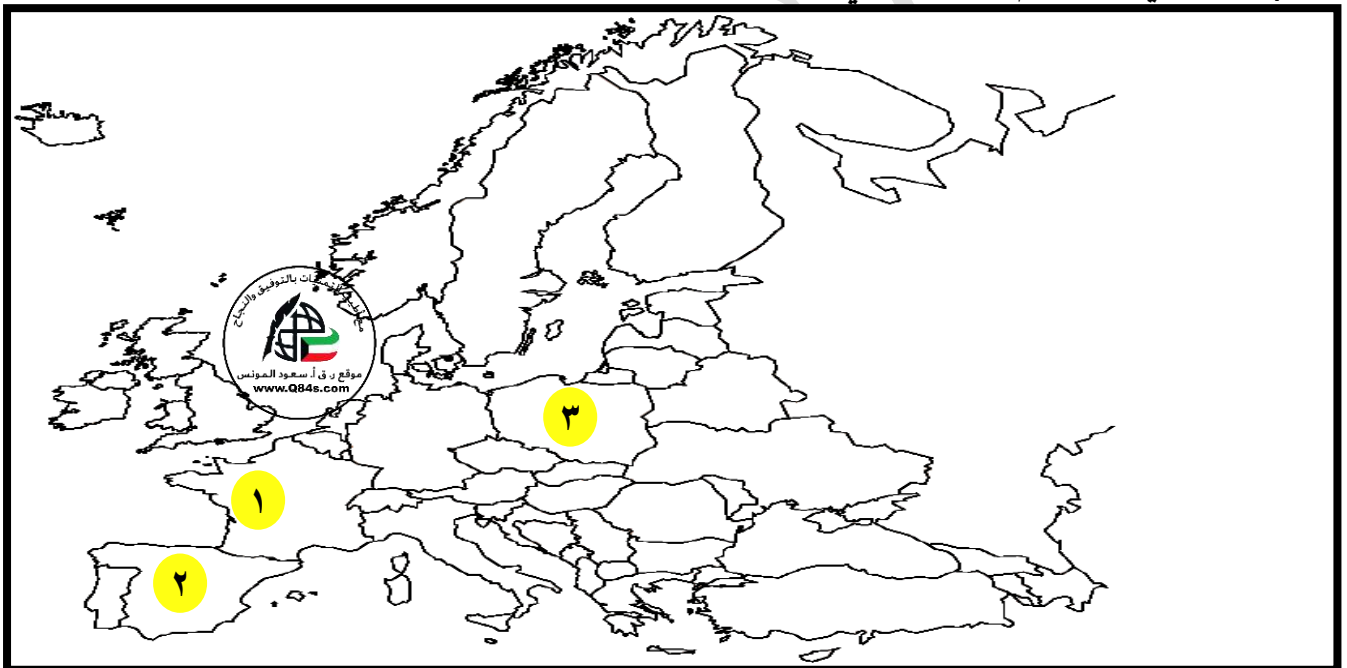
-١

-٢

-٣

-٤

س٤/لاحظ الخريطة جيداً ثم أجب عما يلي:



• الثورة التي لقبث بالنموذج الشامل للثورات يمثلها على الخريطة الرقم .....

• عين على الخريطة موقع الثورة الفرنسية بوضع الرمز X




**س ٥/ أكمل العبارات التالية بما يناسبها:**

- ١- النظرية التي كان ملوك فرنسا يحكمون بها تسمى .....
- ٢- الملك الفرنسي الذي عرف بضعف شخصيته يسمى .....
- ٣- الدولة التي يعود لها أصل الملكة ماري أنطوانيت تسمى .....

**س ٦/ انظر الأشكال التالية ثم أجب:**

- ١- صاحب الصورة في الشكل (١) يسمى .....



- ١- صاحب الصورة في الشكل (٢) يسمى .....
- ٢- زوجة الملك لويس السادس عشر تسمى .....

الدرس صفحة ٨٥

س١/ فرق بين: الطبقة الممتازة والطبقة العامة.

الطبقة الممتازة	الطبقة العامة

س٢/ علل ما يلي:

أ- مؤلفات فولتير أكثر انتشاراً بين طبقات الشعب الفرنسي.

ب- يطلق على كتاب العقد الاجتماعي إنجيل الثورة الفرنسية.

لأنه اتفق في كثير من الأحيان مع مبادئ المفكر الإنجليزي جون لوك في:

-١

-٢

-٣

-٤

س٣/ قارن بين: مفكري الثورة الفرنسية وفقاً للجدول التالي.

وجه المقارنة	فولتير	منتيسكيو	روسو
نبذه عنه			
أهم مؤلفاته			

س ٤/ انظر الأشكال التالية ثم أجب:



الشكل (١)

١- صاحب الصورة في الشكل (١) يسمى .....

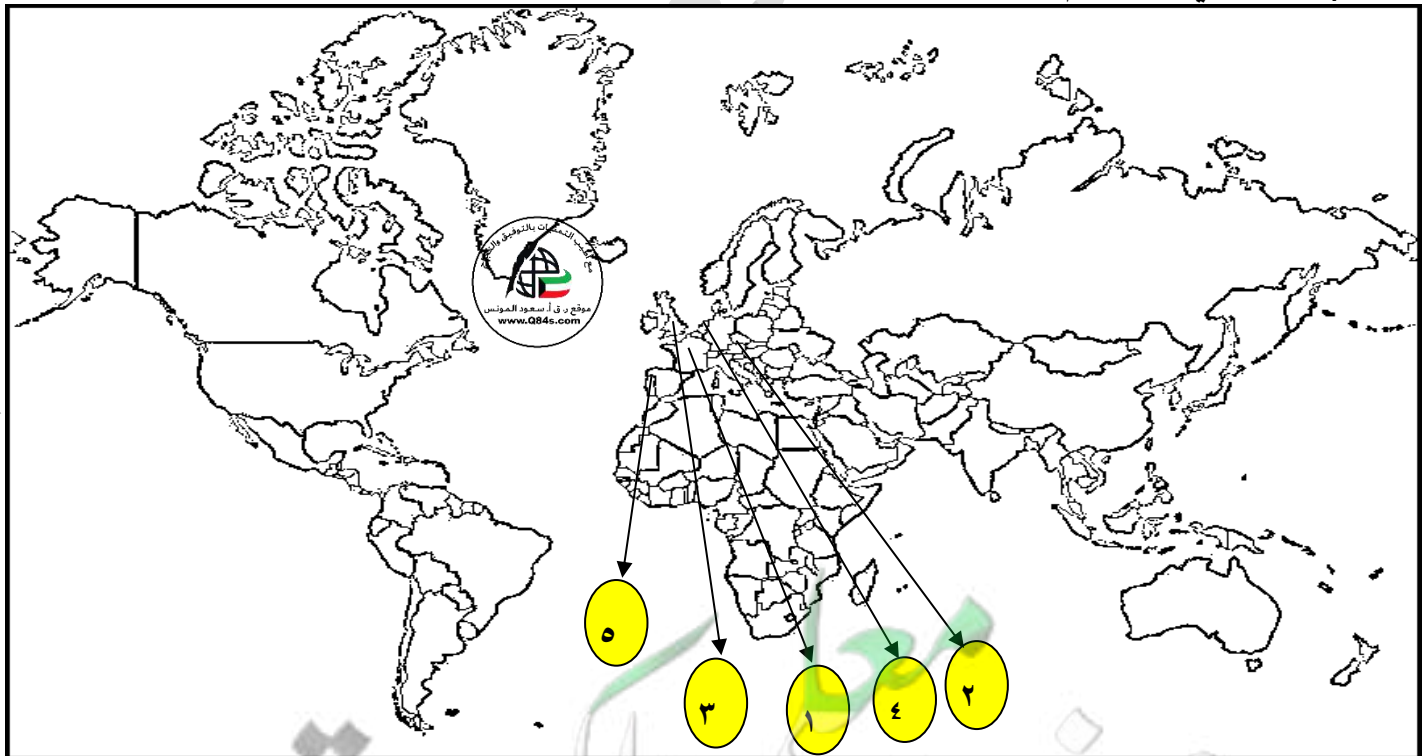
٢- اذكر: أهم مؤلفات فولتير.

الشكل (٢)

١- صاحب الصورة في الشكل (٢) يسمى .....

٢- اذكر: أهم مؤلفات روسو.

س/ انظر الخريطة جيداً ثم أجب:



• الثورة التي أعطت مفاهيم جديدة للعالم ولقيت بالنموذج الشامل على الخريطة يمثلها الرقم .....

• موطن الملكة التي لعبت دوراً في أضعاف شخصية زوجها وتدخلت في سياسة فرنسا على الخريطة يمثلها الرقم .....

الدرس صفحة ٨٦ إلى ٨٧

س١/عدد: العوامل الاقتصادية لقيام الثورة الفرنسية.

-١

-٢

-٣

-٤

س٢/علل: اشتراك فرنسا في حرب الاستقلال الأمريكية.

س٣/ما النتائج المترتبة على: نظام التصويت في مجلس طبقات الأمة.

س٤/عرف الجمعية الوطنية:

س٥/أكمل العبارات التالية بما يناسبها:

١-وزير الخزانة الفرنسي الذي دعا لعقد مجلس طبقات الأمة عام ١٧٨٩م يسمى .....


٢-من قائل العبارة "إننا هنا بإرادة الشعب ولن نبزح أماكننا إلا على أسنة الرماح" يسمى .....

٣-الشكل المقابل يمثل .....



الدرس صفحة ٨٨

س ١/ انظر الشكل التالي ثم أجب:



١- الشكل يمثل حدث تاريخي يسمى .....

٢- سقط حصن الباستيل عام .....

س ٢/ ما النتائج المترتبة على: سقوط حصن الباستيل.

١- .....

٢- .....

٣- .....

٤- .....

٥- .....

س ٣/ علل ما يلي:

١- يحتفل الفرنسيون بتاريخ ١٤ يوليو كل عام.

.....

٢- هجرة النبلاء الفرنسيين الي خارج فرنسا عام ١٧٨٩م.

.....

س ٤/ اذكر: ما جاء في وثيقة إعلان حقوق الإنسان المواطن عام ١٧٨٩م.

١- .....

٢- .....

٣- .....

٤- .....

٥- .....

٦- .....

س ٥/ أكمل العبارات التالية بما يناسبها:

١- رمز الظلم والاستبداد في فرنسا والذي سقط عام ١٧٨٩م يسمى .....

٢- عدد المواد التي صيغت منها وثيقة إعلان حقوق الإنسان الفرنسية .....

الدرس صفحة ٨٩ إلى ٩٠

س ١/ اكتب في سطرين عن: دستور فرنسا ١٧٩١م.

نص هذا الدستور على بقاء الملكية:

س ٢/ عدد: إصلاحات الجمعية الوطنية الفرنسية.

-١

-٢

-٣

-٤

س ٣/ علل: وجهت الجمعية الوطنية الفرنسية إصلاحاتها نحو الكنيسة.

س ٤/ ما النتائج المترتبة على: محاولة هروب الملك لويس السادس عشر وزوجته.

-١

-٢

س ٥/ فند العبارة التالية: "يجمع المؤرخين على صحة منع اعضاء الهيئة التأسيسية الفرنسية من الترشيح".

س ٦/ أكمل العبارات التالية بما يناسبها:

١- تم البدء بوضع الدستور الفرنسي عام .....

٢- تم الانتهاء من عملية وضع الدستور الفرنسي عام .....

٣- أعتقل لويس السادس عشر في مدينة تسمى .....

٤- القصر الذي سجن فيه الملك لويس السادس عشر يسمى .....

٥- المدينة التي تعتبر مفتاح باريس الشمالي تسمى .....

## الدرس صفحة ٩٠ إلى ٩١

س١/ أوجد العلاقة بكتابة فقرة مترابطة بالاستعانة بالكلمات التالية:

(اعلان بلنتر - ليوبولد - فريدرك وليم الرابع - ١٧٩٢م - دموريه)


س٢/ علل: تعد معركة فالمي من أهم المعارك في التاريخ.

- ١- .....
- ٢- .....
- ٣- .....
- ٤- .....

س٣/ انظر الشكل المقابل ثم أجب:

- ١- الشكل المقابل يمثل حدث تاريخي يسمى .....
- ٢- أعدم الملك لويس السادس عشر عام .....
- ٣- الساحة التي أعدم فيها لويس السادس عشر تسمى .....
- ٣- عرف حزب اليقافية: .....

س٤/ فرق بين: نتائج اعدام الملك لويس السادس عشر داخلياً وخارجياً.

خارجياً	داخلياً
	

## الشكل (٢)

س٥/ صحح ما تحته خط بين الأقواس:

- ١- الشكل (٢) يمثل رفض شعبي لجيش الثورة الفرنسية (.....)
- ٢- مدينة ليون مفتاح مدينة باريس الشمالي. (.....)
- ٣- أعلن عن قيام الجمهورية الفرنسية عام ١٧٩٠م. (.....)

الدرس صفحة ٩١ إلى ٩٣

س١/ علل: سيطرة اليعاقبة على المؤتمر الوطني رغم قلة عددهم.

س٢/ عرف عصر الإرهاب:

س٣/ اذكر: نصوص دستور ١٧٩٥م الفرنسي (السنة الثالثة).

-١

-٢

س٤/ فرق بين: مجلس الخمسمائة ومجلس الشيوخ.

مجلس الشيوخ	مجلس الخمسمائة

س٥/ انظر الشكل المقابل ثم أجب:

أ- صاحب الصورة يسمى .....

ب- خاض نابليون بونابرت معركة في عام ١٧٩٧م تسمى .....

س٦/ عدد: شروط معاهدة كامبو فروميو بين فرنسا والنمسا.

-١

-٢

-٣

س٧/ أكمل العبارات التالية بما يناسبها:

١- الزعيم الذي قاد حزب اليعاقبة المتطرفين يسمى .....

٢- الحزب الذي عمد اليعاقبة المتطرفين التخلص منه يسمى .....

٣- توسعت فرنسا في قلب النمسا بقيادة القائدان .....

٤- المعاهدة التي اجبرت النمسا على توقيعها مع فرنسا تسمى .....

٥- التعليم المجاني الذي عمل نابليون بونابرت عليه يسمى .....

٦- القائد الفرنسي الذي لقب بـرجل فرنسا الأول وأعاد أمجادها يسمى .....

٧- وقعت معركة ريفولي عام .....





س ٨ / ارسم خريطة ذهنية لإصلاحات نابليون بونابرت الداخلية زمن حكومة القنصل.



صفحة رقم - ٢٤ -

س ٥ / انظر الشكل المقابل ثم أجب:

أ- الحدث التاريخي الذي تمثله الصورة يسمى:

**الحرب العالمية الثانية** الدرس صفحة ٩٧ إلى ٩٨

س ١/ علل ما يلي:

أ- انقسم العالم سياسياً في أواخر القرن التاسع عشر وبداية القرن العشرين الميلادي.

-١

-٢

-٣

٢- كانت القارة الأوروبية محور العلاقات الدولية في بداية القرن العشرين.

-١


-٢

-٣

-٤

س ٢/ عرف الأيديولوجية: نسق من الآراء والأفكار السياسية والقانونية والدينية والفلسفية.

س ٣/ فرق بين: العلاقات الدولية والاتفاقات الدولية.

الاتفاقات الدولية	العلاقات الدولية
	

س ٤/ أكمل العبارات التالية بما يناسبها:

١- الفترة الزمنية للحرب العالمية الأولى .....

٢- أهم الدول التي اتبعت أسلوب الأحلاف تسمى .....

٣- المستشار الألماني الذي يرجع إليه الفضل في تكوين الأحلاف

يسمى .....

س ٥/ انظر الخرائط التالية ثم أجب:

١- الشكل (١) يمثل حلف يسمى .....

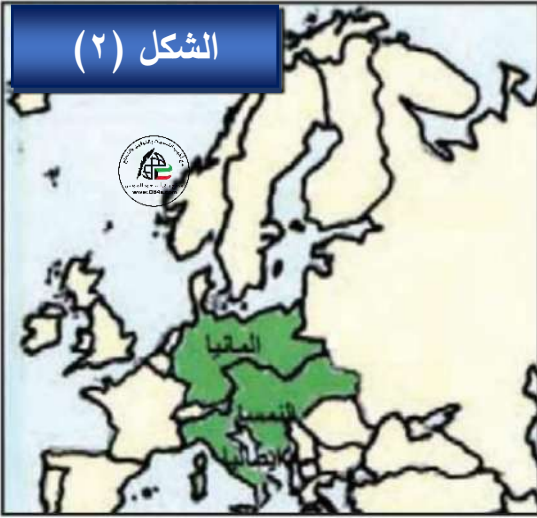
٢- ما تفسيرك: لم يدم تحالف عصبة الأباطرة طويلاً.

.....

الشكل (١)



## الشكل (٢)



١- الشكل (٢) يمثل حلف يسمى .....

٢- اكتب عن الحلف الثلاثي:

٣- علل: انضمام إيطاليا للحلف الثلاثي عام ١٨٨٢.

## الشكل (٣)

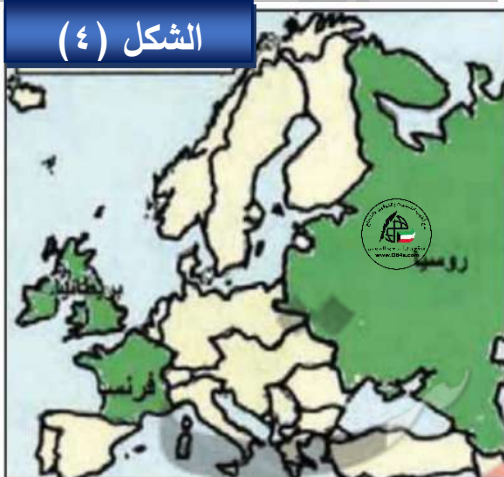


١- الشكل (٣) يمثل حلف يسمى .....

٢- اكتب عن الاتفاق الودي:

٣- علل: تقارب بريطانيا مع فرنسا.

## الشكل (٤)



١- الشكل (٤) يمثل حلف يسمى .....

٢- اكتب عن الوفاق الودي:

٣- علل: قيام الوفاق الودي بين فرنسا وبريطانيا وروسيا.

الدرس صفحة ٩٩ إلى ١٠٠س ١/ أوجد العلاقة بكتابة فقرة مترابطة بالاستعانة بالكلمات التالية:

(الوفاق الودي - انسحاب إيطاليا - انظام الدولة العثمانية - انقسمت أوروبا)

س ٢/ عدد: اسباب قيام الحرب العالمية الأولى.

-١

-٢

-٣

س ٣/ انظر الشكل المقابل ثم أجب:

١- الشكل المقابل يمثل حادثة تسمى .....

٢- اذكر: السبب المباشر للحرب العالمية الأولى

٣- وقعت حادثة الاغتيال عام .....

٤- ولي عهد النمسا الذي قتل عام ١٩١٤ م يسمى .....

٥- المدينة التي قتل فيها ولي عهد النمسا تسمى .....

س ٤/ اذكر: ما جاء في إنذار النمسا إلى صربيا قبل الحرب العالمية الأولى.

-١

-٢

-٣

-٤

س ٥/ علل ما يلي:

أ- إعلان ألمانيا الحرب على فرنسا.

ب- أعلنت بريطانيا الحرب على ألمانيا.

ج- دخول الولايات المتحدة الأمريكية الحرب العالمية الأولى عام ١٩١٧ م ضد ألمانيا.

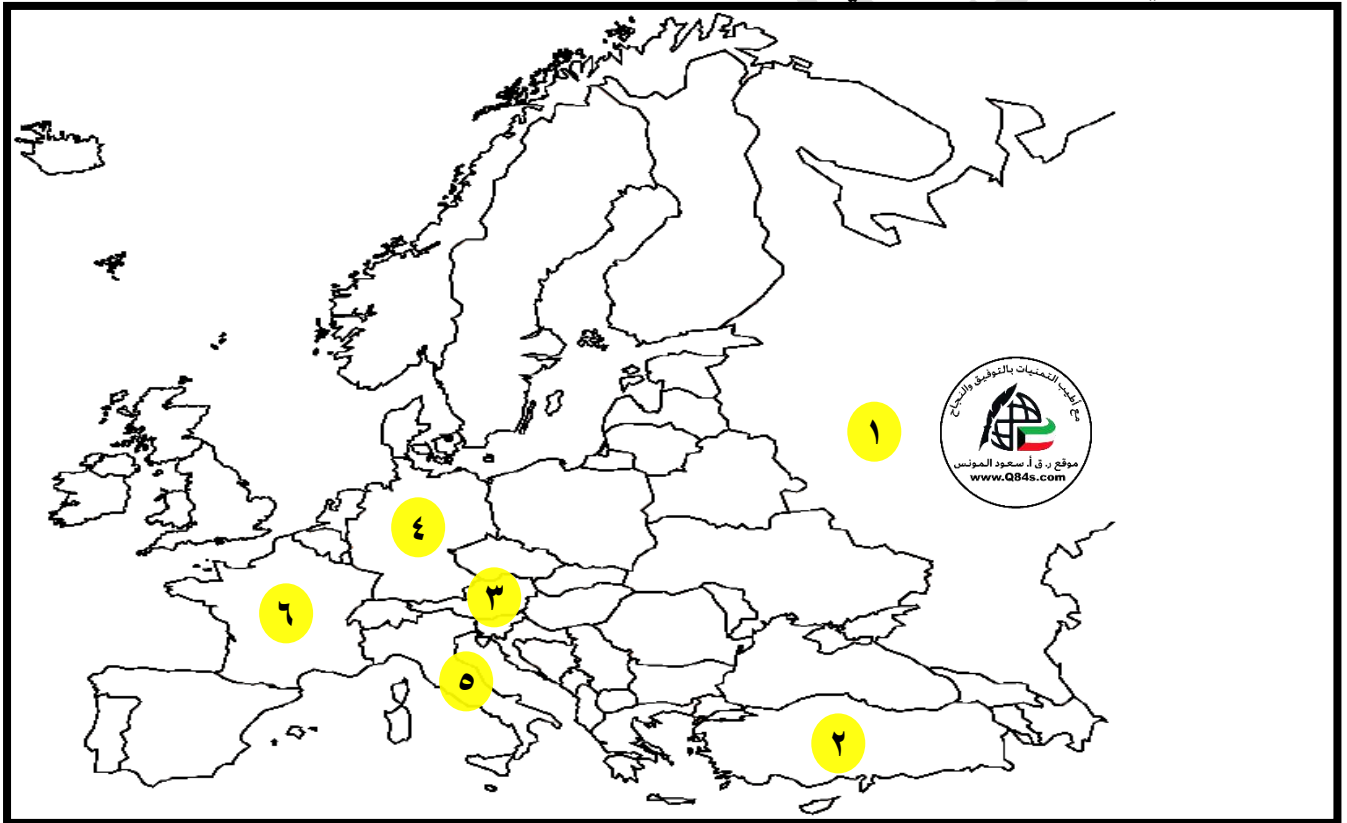
س٦/ عرف البلقان:

س٧/ أكمل العبارات التالية بما يناسبها:

١- دخلت الدولة العثمانية الحرب العالمية الأولى إلى جانب دولة تسمى .....

٢- بلغ عدد الدول المشاركة في الحرب العالمية الأولى .....

س٨/ لاحظ الخريطة جيداً ثم أجب عما يلي: ص ١٠١



\*الدولة العثمانية على الخريطة يمثلها الرقم (.....)

\*روسيا على الخريطة يمثلها الرقم (.....)

\*ألمانيا على الخريطة يمثلها الرقم (.....)

\*النمسا على الخريطة يمثلها الرقم (.....)

\*فرنسا على الخريطة يمثلها الرقم (.....)

\*إيطاليا على الخريطة يمثلها الرقم (.....)

الدرس صفحة ١٠١ إلى ١٠٢

المرحلة الأولى	المرحلة الثانية	المرحلة الثالثة
١-	*	١-
٢-		٢-

س١/ فرق بين: مراحل الحرب العالمية الأولى.

س٢/ علل: انسحاب روسيا من الحرب العالمية الأولى عام ١٩١٧م.

س٣/ قارن بين: معركة المارن الأولى والثانية وفقاً للجدول التالي.

وجه المقارنة	معركة المارن الأولى	معركة المارن الثانية
العام		
النتائج		

س٤/ عرف المارن:

س٥/ انظر الشكل التالي ثم أجب:

١- الصورة المقابلة تمثل:

٢- وقعت هدنة انتهاء الحرب العالمية الأولى عام

٣- الغابة التي وقعت فيها هدنة نهاية الحرب العالمية

الأولى تسمى



س٦/ فند العبارات التالية: " لم يكن للحرب العالمية الأولى أي نتائج سلبية " أو عدد: نتائج الحرب العالمية الأولى.

-١

-٢

-٣

س٧/ أكمل العبارات التالية بما يناسبها:

١- الغابة التي وقع فيها الألمان على هزيمتهم في الحرب العالمية الأولى تسمى .....

٢- الحرب التي انتهت في الساعة الحادية عشرة من اليوم الحادي عشر من الشهر الحادي عشر تسمى .....

٣- انتهت الحرب العالمية الأولى عام .....

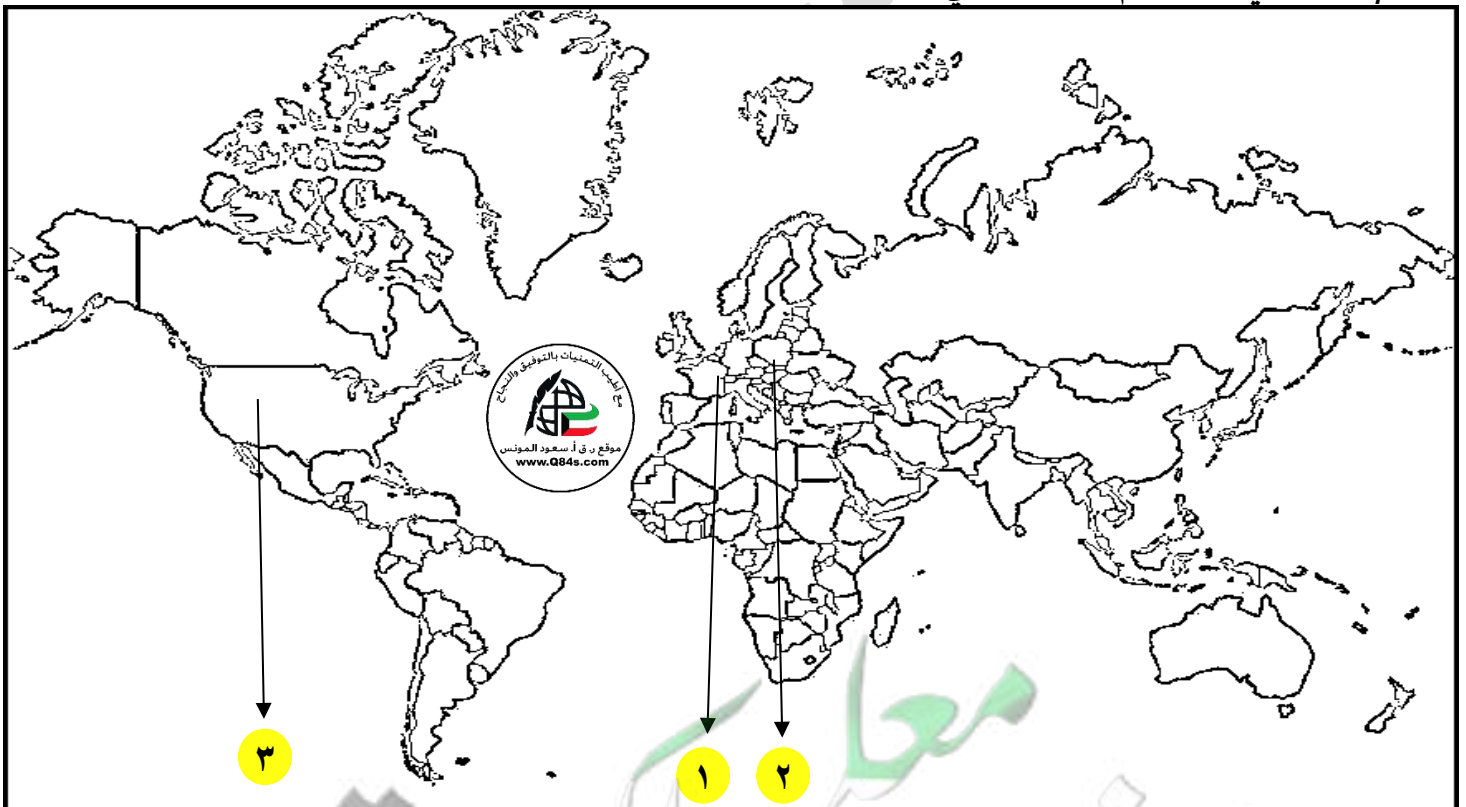
س٨/ ماذا يحدث لو: لم تحدث الحرب العالمية الأولى ١٩١٤-١٩١٨م.

-١

-٢

-٣

س٩/ انظر الخريطة جيداً ثم أجب عما يلي:



• ظلل المناطق التي ظلت موضوع خلاف بعد مؤتمر فرساي عام ١٩١٩م بالرمز //

• النهر الذي كان مسرحاً لمعركتين حاسمتين خلال الحرب العالمية الأولى على الخريطة يمثله الرقم .....

الدرس صفحة ١٠٣ إلى ١٠٤

س١/صحح ما تحته خط بين الأقواس:

أ-مدينة سان دوني إحدى ضواحي مدينة باريس وفيها قصر فرساي الشهير. (.....)

س٢/عدد ما يلي:

أ-نتائج مؤتمر فرساي.

-١

-٢

-٣

-٤

-٥

-٦

ب-أهداف عصبة الأمم.

-١

-٢

س٣/ارسم: مخطط ذهني لأجهزة عصبة الأمم عام ١٩٢٠م.

س٤/اذكر: الدول المكونة لعصبة الأمم.

خمسة دول: .....

س٥/علل: فشل عصبة الامم.

١-عدم التزام الدول الكبرى بميثاق العصبة وذلك من خلال:

أ-.....

ب-.....

ج-.....

٢-.....

٣-.....

س٦/أكمل الفراغات التالية بما يناسبها:

١-الرئيس الامريكي الذي طالب بإنشاء عصبة الأمم يسمى .....

٢-الدولة التي قدمت فكرة إنشاء عصبة الأمم ١٩١٩م ولم تشارك بعضويتها تسمى .....

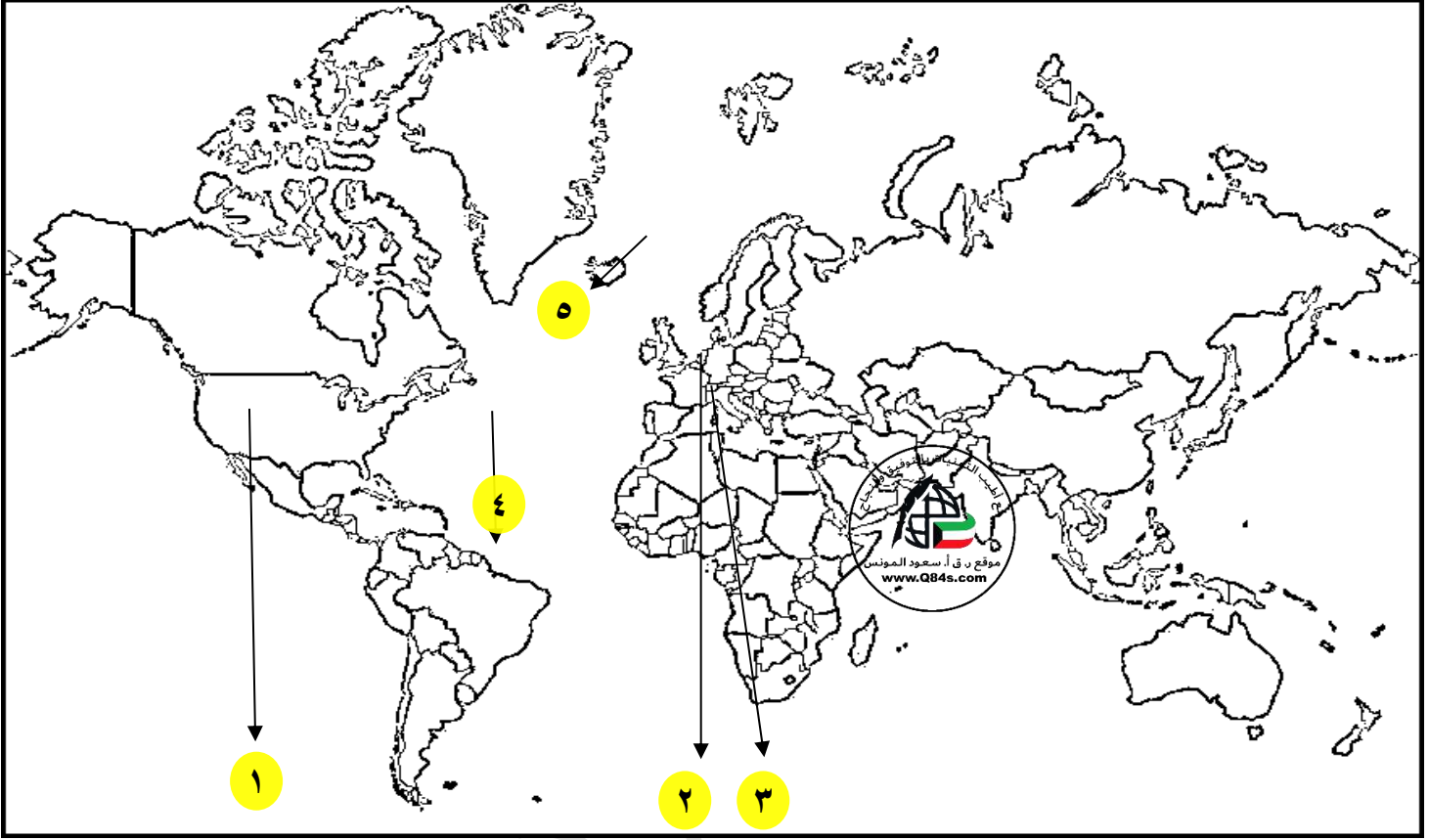
٣-مقر الجمعية العامة لعصبة الأمم مدينة تسمى .....

٤-انشأت محكمة العدل الدولية عام .....

٥-مقر محكمة العدل الدولية مدينة تسمى .....




س/انظر الخريطة جيداً ثم أجب عما يلي:



• مقر محكمة العدل الدولية على الخريطة يمثلها الرقم .....

• مقر الجمعية العامة لعصبة الأمم على الخريطة يمثلها الرقم .....

الدرس صفحة ١٠٥س١/ افرق بين: اقتصاد الدول المهزومة والدول المنتصرة بعد الحرب العالمية الأولى.

الدول المنتصرة	الدول المهزومة
	

س٢/ ما النتائج المترتبة على: انهيار سوق الأوراق المالية في أكتوبر عام ١٩٢٩م (أزمة وول ستريت).

- ١- .....
- ٢- .....
- ٣- .....
- ٤- .....
- ٥- .....
- ٦- .....

س٣/ دلل على صحة العبارة التالية: "الرئيس الأمريكي روزفلت دوراً في إصلاح الاقتصاد الأمريكي".

- ١- .....
- ٢- .....
- ٣- .....

س٤/ أكمل العبارات التالية بما يناسبها:

- ١- انهيار سوق الأوراق المالية عام .....
- ٢- تعرف بورصة نيويورك سوق الأوراق المالية باسم .....
- ٣- الرئيس الامريكي الذي قدم مشروع لإصلاح الاقتصاد الأمريكي يسمى .....
- ٤- نظام يقوم على الدخول في مشاريع كبرى وذلك لتشغيل أكبر عدد من العمال لحل مشكلة البطالة  
يسمى .....

الدرس صفحة ١٠٦

س١/اذكر: أهم آثار الأزمة الاقتصادية العالمية.

-١

-٢

س٢/ما النتائج المترتبة على: نمو الشعور القومي عند البعض إلى حد التطرف.

س٣/علل: قيام الثورة الشيوعية في روسيا.

أو (عدد: العوامل التي ساعدت على قيام النظام الشيوعي)

-١

-٢

-٣

-٤

س٤/عدد: مبادئ النظام الشيوعي.

-١

-٢

-٣

-٤


س٥/أكمل العبارات التالية بما يناسبها:

١-عرفت المجالس الشيوعية المحلية التي أسسها الحزب الشيوعي باسم .....

٢-تعرض الجيش الروسي لهزائم متتالية على يد اليابان منذ عام .....


٣-الزعيم الشيوعي الذي رفع شعار "السلام للجيش /الأرض للفلاحين / الغذاء للجميع /الحكم للسوفيت" يسمى .....

٤-الحاكم الذي حكم بعد وفاة لينين يسمى .....



س٦/ انظر الأشكال التالية ثم أجب:

- ١- صاحب الصورة في الشكل (١) يسمى .....
- ٢- أسس لينين نظاماً يسمى .....
- ٣- ظهر النظام الشيوعي في دولة تسمى .....
- ٤- بدأ النظام الشيوعي بالظهور عام .....
- ٥- شعار لينين المشهور يقول: .....



- ١- صاحب الصورة في الشكل (٢) يسمى .....
- ٢- اتبع ستالين نظاماً يسمى .....
- ٣- ظهر النظام الاشتراكي العالمي في دولة تسمى .....
- ٤- نجح ستالين في تحقيق النهضة الشاملة عن طريق عدة مشاريع أطلق عليها .....

الدرس صفحة ١٠٧

س١/علل: قيام الحركة النازية في ألمانيا.

-١

-٢

-٣

-٤

س٢/انظر الشكل المقابل ثم أجب:

١-صاحب الصورة يسمى .....

٢-الحزب الذي أسسه هتلر يسمى .....

٣-الدولة التي ظهر فيها النظام النازي تسمى .....

٤-بدأ النظام النازي بالظهور عام .....

٥-الكتاب الذي وضع فيه هتلر مبادئ الحركة النازية يسمى .....

٦-تولى هتلر حكم ألمانيا عام .....

٧-عرف النازية:

٨-عدد: مبادئ النظام النازي.

-١

-٢

-٣

-٤

-٥

س٣/ما النتائج المترتبة على: نجاح هتلر في الوصول إلى الحكم عام ١٩٣٤م.

-١

-٢

س٤/ماذا يحدث لو لم: تكتب شروط معاهدة فرساي عام ١٩١٩م.



الدرس صفحة ١٠٨س١/ عرف الفاشية:

س٢/ عدد: مميزات الحركة الفاشية.

-١

-٢

-٣

س٣/ أكمل العبارات التالية بما يناسبها:

١- الحاكم الفاشي الذي وصل الي الحكم عام ١٩٢٢م يسمى .....

٢- أسمى النظم الديكتاتورية في سفك الدماء يسمى .....

٣- دعمت كل من النازية والفاشية النظام الديكتاتوري في أسبانيا بقيادة زعيم يسمى .....

٤- ظهر النظام الدكتاتوري في تركيا على يد قائد يسمى .....

٥- سيطر العسكريون في اليابان على الحكم وتحالفوا مع ألمانيا النازية ونشأ ما يسمى .....

٦- الصورة المقابلة تمثل .....



س ٤/ انظر الأشكال التالية ثم أجب:




الشكل (١)

١- صاحب الصورة في الشكل (١) يسمى .....

٢- اتبع فرانكو نظاماً يسمى .....

٣- ظهر النظام الديكتاتوري في دولة تسمى .....



الشكل (٢)

١- صاحب الصورة في الشكل (٢) يسمى .....

٢- اتبع أتاتورك نظاماً يسمى .....

٣- ظهر النظام الديكتاتوري في دولة تسمى .....



الشكل (٣)

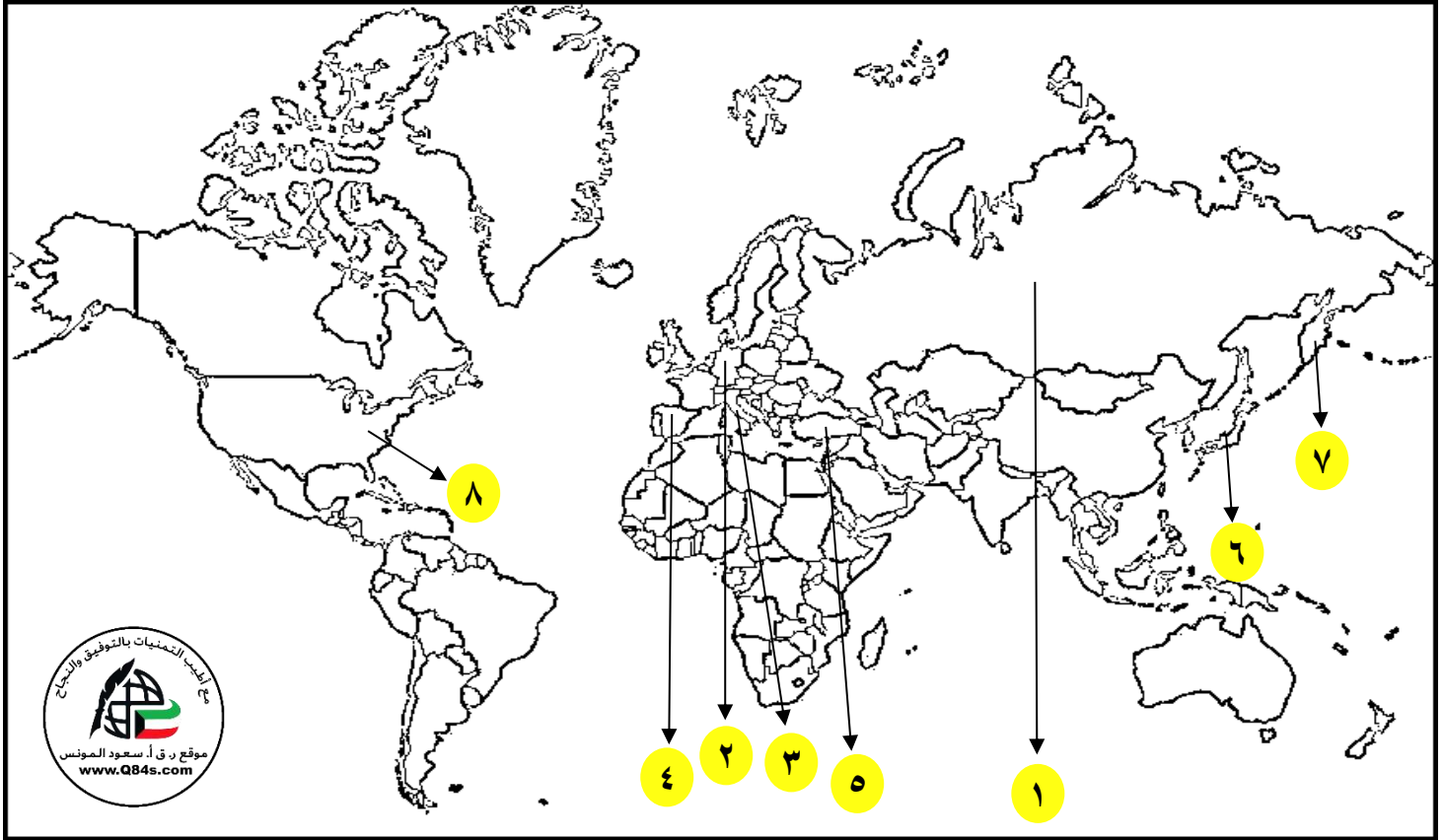
١- صاحب الصورة في الشكل (٣) يسمى .....

٢- اتبع موسوليني نظاماً يسمى .....

٣- ظهر النظام الفاشي في دولة تسمى .....



س/انظر الخريطة جيداً ثم أجب عما يلي:



- الدولة التي ظهر فيها النظام الشيوعي والاشتراكي بقيادة لينين وستالين على الخريطة يمثلها الرقم .....
- الدولة التي ظهر فيها هتلر بنظامه النازي على الخريطة يمثلها الرقم .....
- أسمى النظم الديكتاتورية في سفك الدماء على الخريطة يمثلها الرقم .....
- النظام الذي دعمته النازية والفاشية بقيادة فرانسيس فرانكو على الخريطة يمثلها الرقم .....
- ظهر النظام الدكتاتوري على يد قائد يسمى مصطفى أتاتورك على الخريطة يمثلها الرقم .....
- الدولة التي سيطر العسكريون فيها على الحكم وتحالفوا مع ألمانيا وشكلوا محور برلين - طوكيو على الخريطة يمثلها الرقم .....



الدرس صفحة ١٠٩ إلى ١١٠

الحرب العالمية الثانية ١٩٣٩-١٩٤٥م

س١/اذكر: أسباب قيام الحرب العالمية الثانية.

-١

-٢

-٣

-٤

-٥

س٢/دلل على صحة العبارات التالية:

أ- "معاهدات الصلح عام ١٩١٩م التي تلت الحرب العالمية الأولى سبب من أسباب قيام الحرب العالمية الثانية".

ب- "التوتر الدولي سهل قيام الحرب العالمية الثانية".

-١

-٢

-٣

-٤

-٥

ج- "وجد هتلر في الموقف الضعيف للدول الديمقراطية (بريطانيا وفرنسا) في مؤتمر ميونخ تشجيعاً له في سياسته التوسعية".

-١

-٢

-٣

-٤

س٣/عدد: ما جاء في معاهدة هتلر عدم الاعتداء مع السوفيت.

س ٤ / أوجد العلاقة بكتابة فقرة مترابطة بالاستعانة بالكلمات التالية:

(ميونخ - ١٩٣٨م - حق تقرير المصير - شامبرلين - لاتيه)

.....

.....

.....

.....

.....

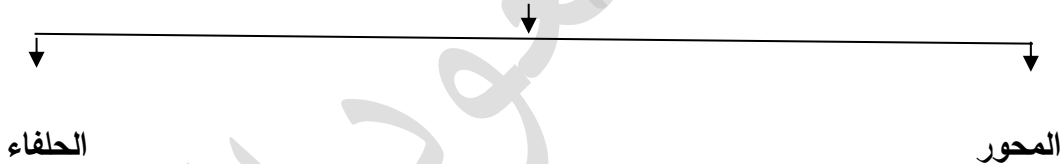
س ٥ / اذكر: السبب المباشر لقيام الحرب العالمية الثانية.

.....

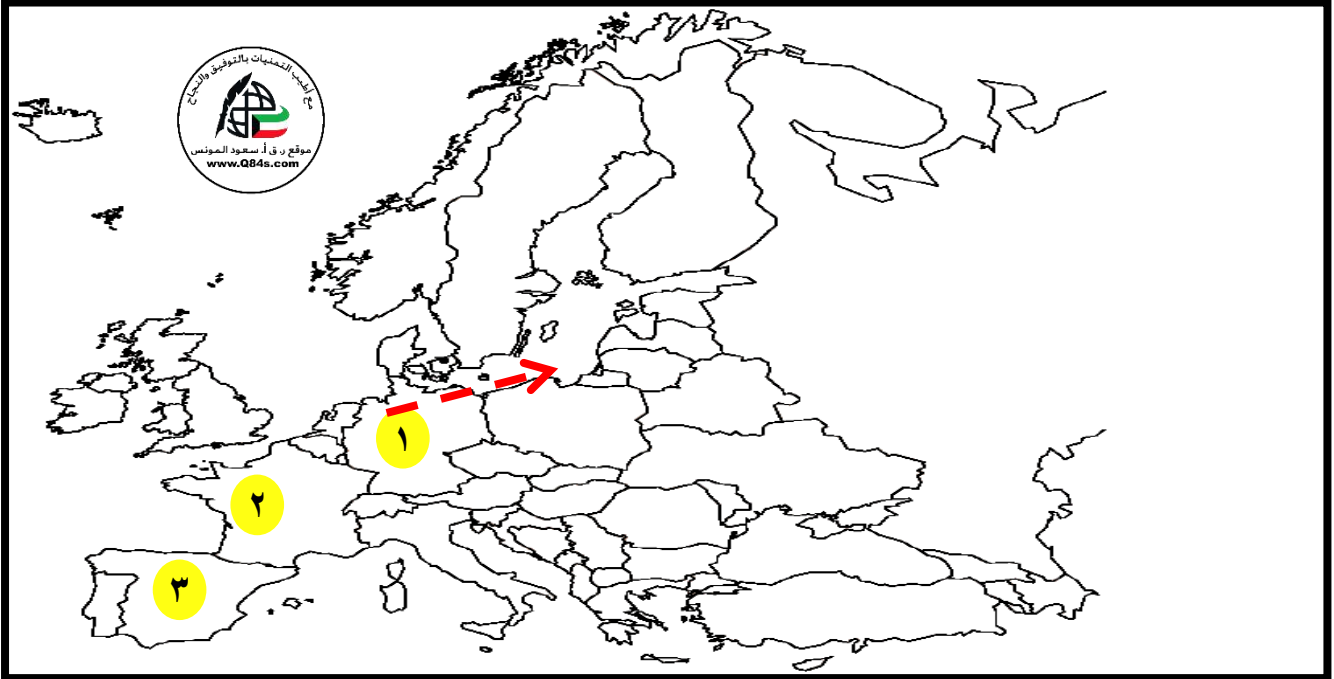
.....

س ٦ / أكمل المخطط السهمي:

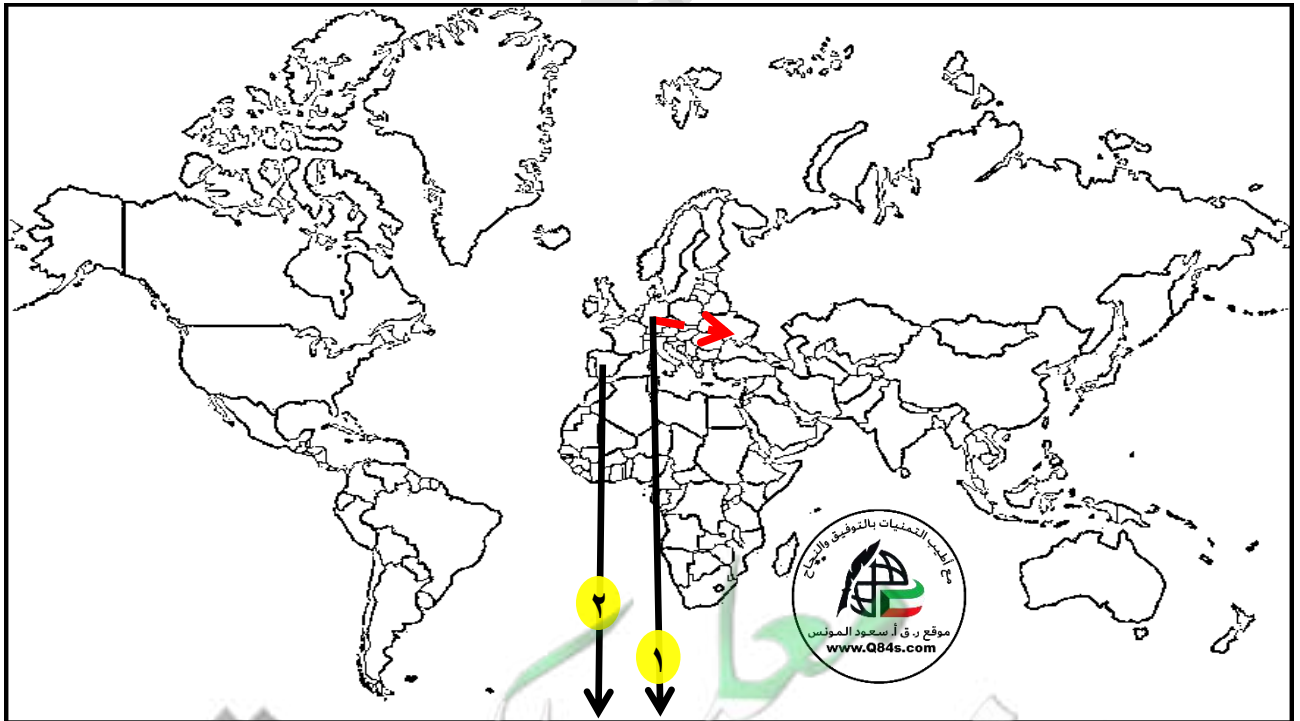
الدول المشاركة في الحرب العالمية الثانية



س ٧/ انظر الخرائط التالية ثم أجب:



- الدولة التي فاجأت العالم عام ١٩٣٩م ببدء الحرب العالمية الثانية على الخريطة يمثلها الرقم .....
- السهم يشير الي السبب المباشر لقيام الحرب العالمية الثانية ويسمى .....



- الدولة التي فاجأت العالم عام ١٩٣٩م ببدء الحرب العالمية الثانية على الخريطة يمثلها الرقم .....
- السهم → - يشير الي السبب المباشر لقيام الحرب العالمية الثانية ويسمى .....

الدرس صفحة ١١١ إلى ١١٢

س ١/ اذكر: مراحل (أدوار) الحرب العالمية الثانية.

أ-الدور الأول: انتصارات دول المحور ١٩٣٩ - ١٩٤١ م.

-١

-٢

-٣

-٤

-٥

-٦

-٧

س ٢/ انظر الشكل المقابل ثم أجب:

١- الصورة المقابلة تمثل حدث تاريخي يسمى .....

٢- دمرت اليابان ميناء بيرل هاربر عام .....

٣- ماذا يحدث لو لم: تهاجم اليابان ميناء بيرل هاربر عام ١٩٤١ م.

٤- علل: دخلت الولايات المتحدة الأمريكية الحرب عام ١٩٤١ م.

ب-الدور الثاني: (السنة الانقلابية) ١٩٤٢ م.

-١

-٢

-٣

س ٤/ أكمل العبارات التالية بما يناسبها:

١- وقعت فرنسا الهدنة بعد اجتياح ألمانيا ثلثي أراضيها عام .....

٢- المدينة التي أقام فيها هتلر حكومة موالية له تسمى .....

٣- الجنرال الفرنسي الذي أعلن عن قيام حكومة فرنسا الحرة في مدينة لندن يسمى .....

٤- دخلت إيطاليا عام ١٩٤٠ م إلى جانب ألمانيا وتم تشكيل محور يسمى .....

٥- العاصمة التي اقترب منها هتلر بعد نقض معاهدته مع الاتحاد السوفيتي تسمى .....

٦- الميناء الأمريكي الذي هاجمته اليابان عام ١٩٤١ م في جزر هاواي يسمى .....

٧- الزعيم البريطاني الذي أصر على الصمود في الحرب العالمية الثانية يسمى .....

٨- المعركة التي تمكن فيها الجيش الروسي من إلحاق الهزيمة بالقوات الألمانية عام ١٩٤٢ م تسمى .....

٩- المعركة التي انتصر فيها البريطانيون عام ١٩٤٢ م غرب مدينة الإسكندرية تسمى .....

## الدرس صفحة ١١٢

## ج-الدور الثالث: النصر النهائي لدول الحلفاء ١٩٤٣ - ١٩٤٥ م.

✓ وينقسم الي:

أ-الجهة الغربية لأوروبا.

-١

-٢

ب-الجهة الشرقية لأوروبا.

-١

ج-جهة المحيط الهادي.

-١

-٢

س ٥ / أكمل العبارات التالية بما يناسبها:

١-الشكل المقابل يمثل حدث تاريخي يسمى .....

٢- ألفت الولايات المتحدة الأمريكية القنبلة الذرية على اليابان

عام .....

٣-القائد الروسي الذي احتل مدينة برلين بعد انتحار هتلر يسمى .....

٤- ألفت الولايات المتحدة الأمريكية القنبلتين الذريتين على مدينتي تسمى .....



الدرس صفحة ١١٣ إلى ١١٤س١/ارسم المخطط الزمني للحرب العالمية الثانية.

س٢/علل: اختلفت الحرب العالمية الثانية عن جميع الحروب التي سبقتها فهي أكبر حرب عرفها التاريخ.

١- حرب عالمية شاملة:

٢- سخرت الطاقات البشرية:

٣- مواجهة بين أيديولوجيات:

٤- تنافس صناعي:

٥- سباق تسلح تكنولوجي:

س٣/صحح ما تحته خط بين الأقواس:

- ١- بعد الحرب العالمية الثانية تحولت دول أوروبا إلى دول مصدرة. (.....)
- ٢- دفع الحلفاء بالرجال للعمل في المصانع والحقول وفتحت الولايات المتحدة باب الهجرة للعمل. (.....)
- ٣- تراجعت مكانة دول بريطانيا وفرنسا السياسية إلى الدرجة الأولى وتقلص نفوذها. (.....)
- ٤- من النتائج البشرية للحرب العالمية الثانية سقوط ٥٠ ألف قتيل. (.....)
- ٥- انتهت الديمقراطيات في إيطاليا وألمانيا واليابان. (.....)
- ٦- نتج عن الحرب العالمية الثانية اتحاد ألمانيا الي غربية وشرقية. (.....)
- ٧- لم تصب اليابان بخسائر وإنما فقدت مستعمراتها. (.....)

## س ٤/ فرق بين كلاً من:

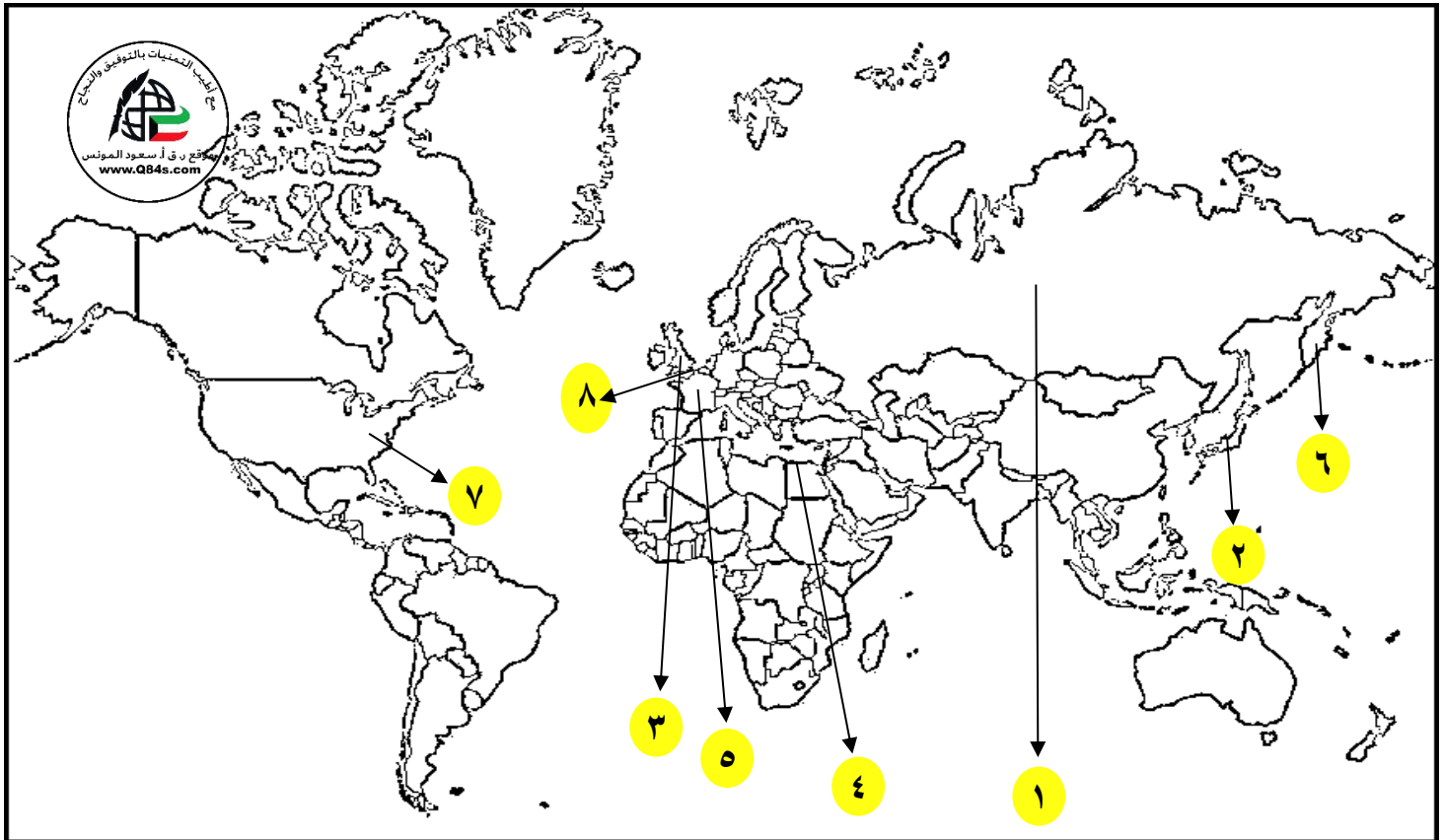
الاقتصادية	البشرية
-١	-١
-٢	-٢
-٣	-٣

١- نتائج الحرب العالمية الثانية البشرية والاقتصادية.

٢- نتائج الحرب العالمية الثانية العلمية والسياسية.

السياسية	العلمية
-١	
-٢	*
-٣	
-٤	
-٥	
-٦	

س/انظر الخريطة جيداً ثم أجب عما يلي:



- العاصمة التي اقترب منها هتلر بعد اكتساح أراضي الاتحاد السوفيتي على الخريطة يمثلها الرقم.....
- الدولة التي هاجمت ميناء بيرل هاربر عام ١٩٤١م على الخريطة يمثلها الرقم .....
- الدولة التي أصرت على الصمود في الحرب العالمية الثانية بفضل زعيمها على الخريطة يمثلها الرقم .....
- المعركة التي انتصر فيها البريطانيون عام ١٩٤٢م على الخريطة يمثلها الرقم .....
- الدولة التي تعرضت مدنها للقنبلتين الذريتين على الخريطة يمثلها الرقم .....
- الدولة التي تراجعت مكانتها للدرجة الثانية بين دول أوروبا بعد الحرب الثانية على الخريطة يمثلها الرقم .....
- ساحل النورماندي الذي نزلت فيه الحلفاء قواتهم لتحرير فرنسا يمثلها على الخريطة الرقم .....



الدرس صفحة ١١٥

ملاح عالمنا المعاصر

س١/عدد: أهم ملاح عالمنا المعاصر .

-١

-٢

-٣

-٤

-٥

-٦

-٧


-٨

-٩

س٢/أكمل العبارات التالية بما يناسبها:

١- اتفاقيات لوقف التسلح واستخدام الأسلحة الفتاكة تسمى.....

س٣/اكتب مدالوت الأشكال التالية:



## الدرس صفحة ١١٦



س ١/ انظر الصورة المقابلة ثم أجب:

- ١- اذكر: اسماء الشخصيات .....
- ٢- الصورة تمثل مؤتمر يسمى .....
- ٣- عقد مؤتمر يالطا عام .....
- ٤- بلغ عدد الدول التي أبرمت ميثاق الامم المتحدة .....
- ٥- دعا تشرشل وستالين وروزفلت الدول المحبة للسلام لحضور مؤتمر يسمى .....

س ٢/ اذكر: أهداف هيئة الأمم المتحدة.

- ١- .....
- ٢- .....
- ٣- .....
- ٤- .....

س ٣/ أكمل العبارات التالية بما يناسبها:

- ١- الشكل (١) يمثل .....
- ٢- المدينة التي يقع فيها المقر الرسمي للأمم المتحدة تسمى .....
- ٣- أعلن قيام هيئة الأمم المتحدة رسمياً في ٢٤ أكتوبر عام .....
- ٤- الشعار في الشكل (٢) يمثل .....

صفحة رقم - ٤٩ -



الشكل (١)



الشكل (٢)

الدرس صفحة ١١٧




س١/صنف: أجهزة الأمم المتحدة وفقاً للجدول التالي.

مجلس الوصاية - مجلس الأمن - الأمانة العامة - المجلس الاقتصادي والاجتماعي - الجمعية العامة

	١- الجمعية العامة
	٢- مجلس الوصاية
	٣- محكمة العدل الدولية
✓ يتألف هذا المجلس من ١٥ عضو وانقسمت العضوية الي فئتين هما: ١- الأعضاء الدائمون: ٢- عشرة أعضاء منتخبون كل سنتين:	٤- مجلس الأمن 
	٥- الأمانة العامة
	٦- المجلس الاقتصادي والاجتماعي

س٢/عرف الوكالات المتخصصة:

س ٣/أكمل الناقص: حول الوكالات المتخصصة التابعة للأمم المتحدة من حيث المهام والاختصار وفقاً للجدول التالي.

الشعار	الاختصار	المهام	الوكالة
		*	(١) البنك الدولي للتنمية والتعمير
		*	(٢) منظمة التربية والعلوم والثقافة (اليونسكو)
		*	(٣) منظمة الصحة الدولية
		*	(٤) منظمة التغذية والزراعة (الفاو)
		*	(٥) منظمة العمل الدولية

س ٤/ماذا يحدث لو لم: تظهر منظمة التربية والعلوم والثقافة اليونسكو (UNESCO).