



وزارة التربية
التوجيه العام للاجتماعيات



بنك أسئلة
للمصف السادس

الفصل

الدراسي الثاني

٢٠٢١ / ٢٠٢٢ م

إعداد
الموجه الفنية

أ. جميلة البصمان

مراجعة


الموجه الأول بالإتابة

أ. مساعد الغريب

إشراف عام

الموجه العام للاجتماعيات

أ. إيمان السويحل



الرجوع الأول للاجتماعيات بالإتابة
أ. مساعير حسين الغريب

الموجه الفني العام للاجتماعيات

أولاً: الأسئلة الموضوعية

الفصل

الدراسي

الثاني

بنك

الأسئلة

الكويت ودول الخليج العربية

صفحة من الكوييت
KuwaitTeacher.Com

السؤال الأول: أكمل العبارات التالية بما يناسبها فيما درست:

١. بدأ التنقيب عن النفط في دولة الكويت في عام ١٩٣٤م.
٢. تم تصدير أول شحنة من النفط الكويتي في عام ١٩٤٦م.
٣. كميات النفط المخزونة في باطن الأرض تعرف باسم احتياطي النفط.
٤. كميات النفط التي يتم استخراجها للاستفادة منها تعرف باسم إنتاج النفط.
٥. الدولة الخليجية التي تحتل المركز الأول في إنتاج النفط تسمى المملكة العربية السعودية.
٦. الدولة الخليجية التي يوجد بها حقل عوالي النفطي تسمى البحرين.
٧. الدولة الخليجية التي يوجد بها حقل الفهود النفطي تسمى عمان.
٨. أكبر حقل نفطي في دولة الكويت يسمى برقان.
٩. نجحت المملكة العربية السعودية في زراعة و انتاج محصول زراعي يسمى القمح.
١٠. الزراعة التي تتم في بيئة مائية أو رملية أو حصى أو نشارة خشب تعرف باسم الزراعة بدون تربة.
١١. تحويل المواد الخام الى مواد مصنعه يمكن الاستفادة منها تسمى الصناعة.
١٢. مجموع الدخول التي تحصل عليها الدولة خلال عام واحد تسمى الدخل القومي.
١٣. السلع والمنتجات التي تبيعها دولنا الى الخارج الصادرات.
١٤. البضائع والسلع التي تشتريها دولنا من الخارج تسمى الواردات.
١٥. اعادة تصدير البضائع المستوردة تسمى الترانزيت.
١٦. الدولة الخليجية التي تحتل المركز الاول في عدد السكان تسمى المملكة العربية السعودية.
١٧. الدولة الخليجية التي تحتل المركز الأول في الكثافة السكانية تسمى البحرين.
١٨. مجموعة العادات والتقاليد والقيم في مجتمع ما من المجتمعات تسمى الثقافة.
١٩. حدث غزو النظام العراقي البائد على دولة الكويت في عام ١٩٩٠م.
٢٠. التربية الخاطئة والإحباط يؤديان الى مشكلة تسمى العنف.
٢١. صدر إعلان الدوحة بقيام السوق الخليجية المشتركة في عام ٢٠٠٨م.
٢٢. تم انشاء قوات درع الجزيرة في عام ١٩٨٤م.
٢٣. الضرر الذي يصيب عناصر البيئة الأساسية فتتحول من عناصر مفيدة الى عناصر ضارة يسمى التلوث.
٢٤. الدرع الواقي للأحياء ضد الاشعة فوق البنفسجية يسمى طبقة الاوزون.

السؤال الثاني: صحح ما تحته خط في العبارات التالية:

١. أول حقل نفطي تم اكتشافه في دولة الكويت برقان.
 ٢. زراعة الخضراوات في غير مواسمها الزراعة بدون تربة.
 ٣. يوجد حقل الغوار النفطي في البحرين.
 ٤. الدولة الخليجية التي يوجد فيها مقر درع الجزيرة الإمارات.
 ٥. المركز الذي تحتله الكويت في عدد السكان الثالث.
 ٦. صدرت اول شحنة من النفط الكويتي في عهد الشيخ عبد الله السالم.
 ٧. المدينة التي يوجد بها مقر التربية العربي الدوحة.
 ٨. اعلى دولة خليجية في نسبة المواطنين البحرين.
 ٩. الدولة الخليجية المصدرة لمعدن النحاس قطر.
- (بحرة).
(البيوت البلاستيكية).
(المملكة العربية السعودية).
(المملكة العربية السعودية).
(الرابع).
(أحمد الجابر).
(الرياض).
(المملكة العربية السعودية).
(عمان).

السؤال الثالث: ضع خطأ تحت الخيار الصحيح من بين الخيارات التي تلي كل عبارة:

١. توجد منطقة صلالة الزراعية في دولة:
(عمان - الإمارات - قطر - البحرين)
٢. أكبر دولة خليجية في الكثافة السكانية:
(عمان - الإمارات - قطر - البحرين)
٣. الدولة الخليجية التي لم تتعرض للاستعمار:
(قطر - الكويت - المملكة العربية السعودية - البحرين)
٤. قام النظام العراقي البائد بإحراق آبار نفطية عددها:
(٧٥٦ بئرًا - ٧٤٧ بئرًا - ٧٣٧ بئرًا - ٧٣٩ بئرًا)
٥. توجد منطقة امسيعيد الصناعية في دولة:
(عمان - الكويت - قطر - الامارات)
٦. بدأ التنقيب عن النفط في دولة الكويت عام ١٩٣٤م في حقل:
(بحرة - برقان - الروضتين - الوفرة)
٧. أصغر دولة خليجية من حيث المساحة:
(الكويت - الإمارات - قطر - البحرين)
٨. أعلى دولة خليجية من حيث عدد الوافدين:
(قطر - الكويت - الإمارات - المملكة العربية السعودية)
٩. المدينة التي تم فيها الإعلان عن قيام السوق الخليجية المشتركة:
(الرياض - المنامة - الدوحة - الكويت)

السؤال الرابع: صنف حسب ما يلي:

١-صنف الحقول النفطية حسب الجدول التالي:

(عوالي – برقان – دخان – ناطح – الغوار - مربان)

قطر	البحرين	عمان	السعودية	الكويت	الإمارات
دخان	عوالي	ناطح	الغوار	برقان	مربان

٢-صنف المناطق التالية حسب الجدول التالي:

(العبدلي- صلالة – الإحساء – ليوا _ الشعبية – الجبيل – الرويس _ امسيعيد)

مناطق زراعية	مناطق صناعية
العبدلي صلالة الإحساء ليوا	الشعبية الجبيل الرويس امسيعيد

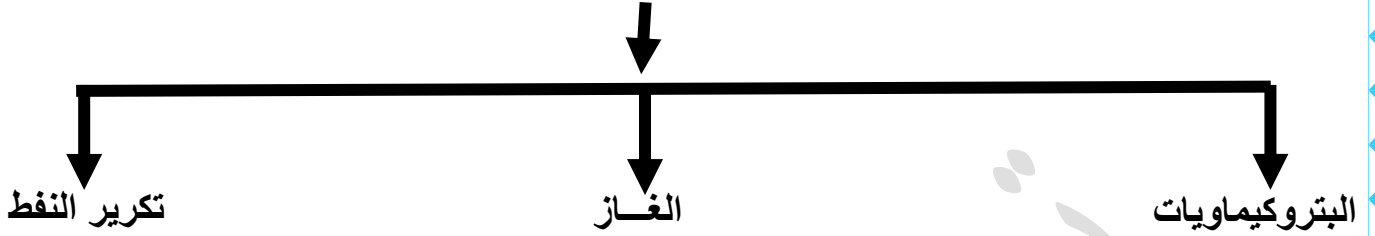
٣-صنف مظاهر التعاون بين دول مجلس التعاون حسب مكانها في الجدول التالي:

(المناورات العسكرية _ توحيد المناهج _ انشاء قوة مشتركة _
قيام سوق خليجية _ زيادة التبادل التجاري _ إنشاء مكتب التربية العربي)

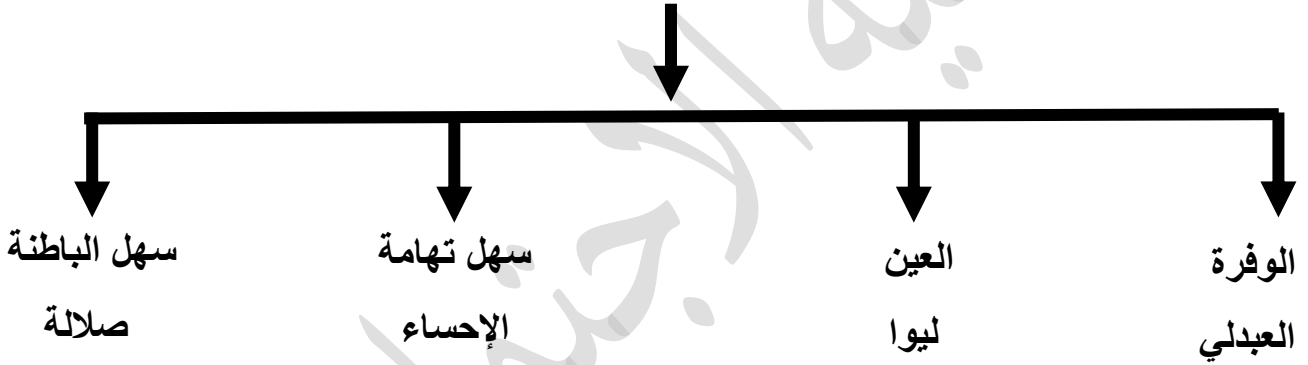
التعاون الثقافي	التعاون الاقتصادي	التعاون العسكري
توحيد المناهج	زيادة التبادل التجاري	المناورات العسكرية
إنشاء مكتب التربية العربي	قيام السوق الخليجية المشتركة	إنشاء قوة مشتركة

السؤال الخامس: أكمل المخططات السهمية التالية بما يناسبها:

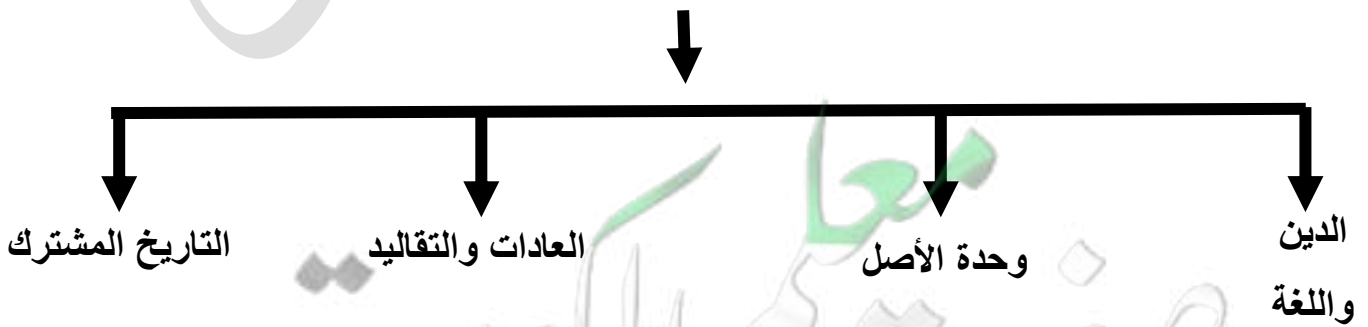
١-الصناعات القائمة على النفط في دول الخليج العربية



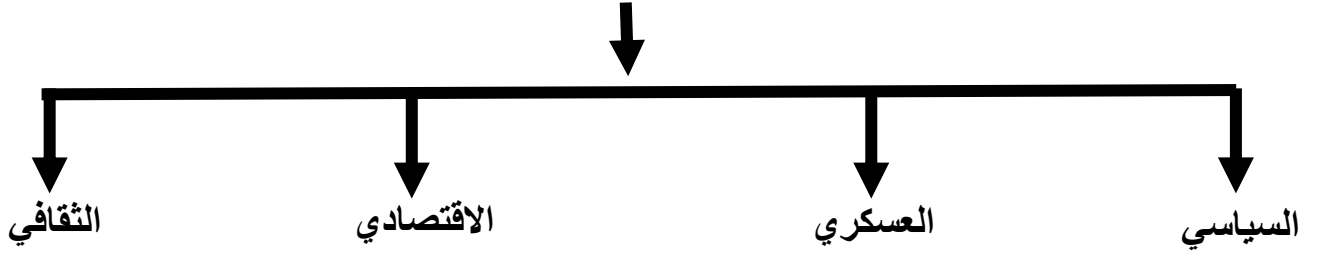
٢-المناطق الزراعية في منطقة الخليج العربي



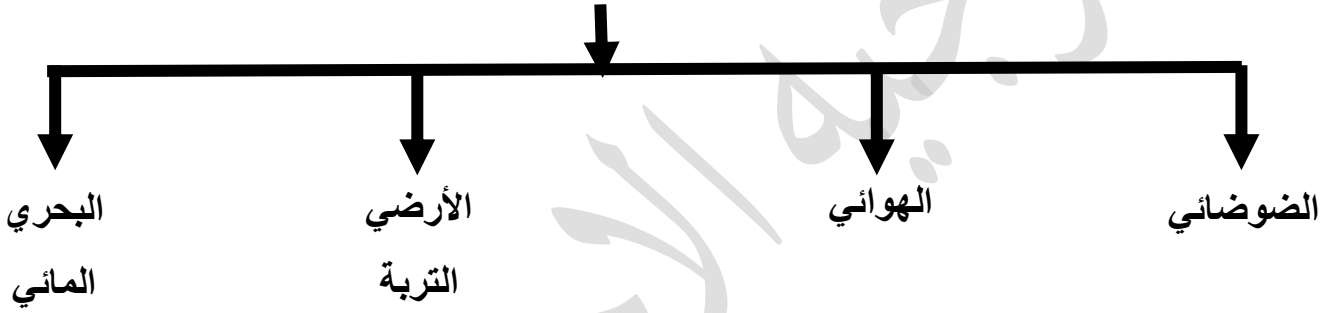
٣-الروابط التي تربط بين دول الخليج العربية



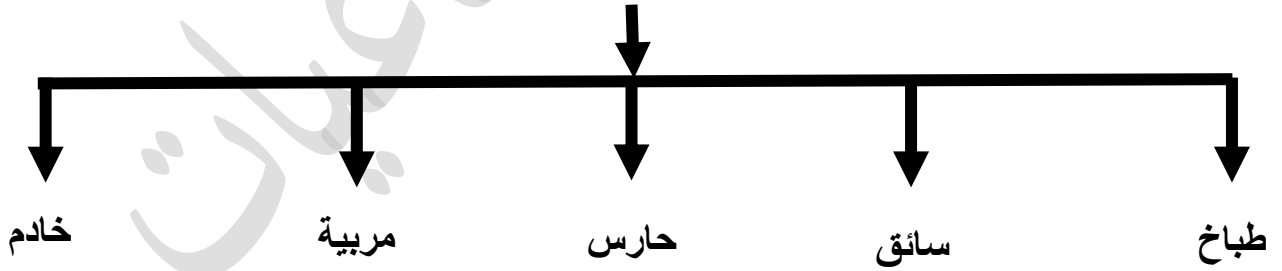
٤- مجالات التعاون بين دول مجلس التعاون الخليجي



٥- أنواع التلوث البيئي



٦- وظائف العمالة المنزلية



السؤال السادس: اختر للقائمة (أ) ما يناسبها من القائمة (ب) بوضع الرقم في المكان المناسب:

الرقم	القائمة (أ) الدولة	المكان المناسب	القائمة (ب) المنطقة الصناعية
١	الكويت	٦	صحار
٢	المملكة العربية السعودية	٥	الرويس
٣	البحرين	٤	امسيعد
٤	قطر	٣	شمال سترة
٥	الإمارات	٢	الجبيل
٦	عمان	١	الشعبية

أ-

الرقم	القائمة (أ) التعريف	المكان المناسب	القائمة (ب) المصطلح
١	مجموعة من العادات والتقاليد والقيم	٤	العنف
٢	الضرر الذي يصيب عناصر البيئة	٣	الزيادة غير الطبيعية
٣	الزيادة المستمرة في عدد السكان بسبب الهجرة	١	الثقافة
٤	السلوك العدواني الموجه ضد الغير	٢	التلوث

السؤال السابع: ضع عنواناً مناسباً للصور والأشكال التالية:



٢-القرقيعان (ص ١١٩)



١-الزراعة في بيوت بلاستيكية(ص ٩٤)



٤-حرق آبار النفط (ص ١٤٠)



٣-التلوث الهوائي (ص ١٣٣)

فيوايسر						
الأسد	الأثنين	الثلاثاء	الأربعاء	الخميس	الجمعة	السبت
١	٢	٣	٤	٥	٦	٧
٨	٩	١٠	١١	١٢	١٣	١٤
١٥	١٦	١٧	١٨	١٩	٢٠	٢١
٢٢	٢٣	٢٤	٢٥	٢٦	٢٧	٢٨
٢٩						



٦-تقويم العجيري (ص ١٢٢)

٥-مشكلة العنف (ص ١٤١)



٧-وسائل التواصل الاجتماعي (ص ١٢١)

معلمي الكويت
صفحة
Kuwaitteacher.Com

السؤال الثامن: لاحظ الخريطة المطلوبة ثم اكتب مدلول الأرقام عليها:

١- لاحظ خريطة دول الخليج العربية ثم اكتب مدلول الأرقام التالية:



❖ الخليج العربي يمثل الرقم (٣)

❖ سهل تهامة يمثل الرقم (٦)

❖ سهل الباطنة يمثل الرقم (٢)

❖ البحر الأحمر يمثل الرقم (٥)

❖ منطقة ليوا الزراعية يمثلها الرقم (١)

❖ منطقة الوفرة الزراعية يمثلها الرقم (٤)

٢- لاحظ خريطة دول الخليج العربية ثم اكتب مدلولات الرموز التالية:



ميناء الأحمدى



حقل غوار



حقل دخان



حقل الفهود



ثانيًا: الأسئلة المقالية

الفصل

الدراسي

الثاني

بنك

الأسئلة

الكويت ودول الخليج العربية

السؤال الأول: اكتب المفهوم أو المصطلح الدال على العبارات التالية:

- ١- إنتاج النفط: كميات النفط التي يتم استخراجها من باطن الأرض.
- ٢- احتياطي النفط: كميات النفط المخزونة في باطن الأرض.
- ٣- الزراعة بدون تربة: هي الزراعة التي تتم في بيئة مائية أو رملية أو حصى أو نشارة خشب يضاف إليها محاليل غذائية.
- ٤- البيوت البلاستيكية: يزرع فيها الخضراوات في غير مواسمها وتقوم بحماية المحاصيل من تقلبات الطقس.
- ٥- الصناعة: تحويل المواد الخام إلى مواد يمكن الاستفادة منها.
- ٦- الصادرات: السلع والمنتجات التي تبيعها دولنا إلى الخارج.
- ٧- الواردات: البضائع والسلع التي تشتريها دولنا من الخارج.
- ٨- الترانزيت: إعادة تصدير البضائع المستوردة.
- ٩- الزيادة الطبيعية: هي عدد المواليد - عدد الوفيات.
- ١٠- الزيادة غير الطبيعية: هي الزيادة التي تحدث بسبب الهجرة (الوافدين).
- ١١- النمو السكاني: هو التغير الذي يحدث لعدد السكان نتيجة للزيادة الطبيعية وغير الطبيعية.
- ١٢- الكثافة السكانية: عدد السكان في الكيلومتر الواحد وتقاس بقسمة عدد السكان على مساحة

الدولة

عدد السكان

مساحة الدولة

= أي أن الكثافة السكانية =

١٣-الثقافة: مجموعة من العادات والتقاليد و القيم في مجتمع من المجتمعات.

١٤- درع الجزيرة: قوات عسكرية انشأها مجلس التعاون لدول الخليج العربية بهدف حماية

ومساندة أي عضو يتعرض للعدوان في المجلس.

١٥-التلوث: هو الضرر الذي يصيب عناصر البيئة الاساسية الثلاث (الماء-الهواء-التربة).

١٦-التلوث الأرضي: دخول مواد غريبة في التربة مما يلحق الضرر في مكوناتها وخواصها.

١٧- طبقة الاوزون: هي الدرع الواقي للأحياء ضد خطر الأشعة فوق البنفسجية الضارة.

١٨-التلوث البحري (المائي): هو احداث افساد لنوعية المياه من خلال ادخال مواد ضارة بها

من قبل الانسان مما يؤدي الى حدوث خلل بيئي.

١٩-التلوث الهوائي: هو تعرض الغلاف الجوي لمواد تسبب الضرر للإنسان والكائنات الحية

الاخري وتؤدي الى إضرار في البيئة الطبيعية.

٢٠-العمالة المنزلية: مجموعة من الأفراد الذين يشاركون في دور او أكثر داخل المنزل أو

خارجه من مربيات وسائقين وخدم.

٢١-العنف: هو ذلك السلوك العدوانى الموجه ضد الغير والذي يتسم بالتخريب والتدمير سواء

كان ذلك السلوك أفعالاً أو أفعالاً.

السؤال الثاني: - علل لما يلي :

١-ظهرت الحاجة إلى إقامة العديد من الموانئ النفطية.

-نتيجة لزيادة الانتاج النفطي لدول مجلس التعاون

-تزايد الطلب على النفط كمصدر أساسي للطاقة.

٢-انتعاش الموانئ التجارية في دول الخليج العربية.

-ارتباط دول الخليج العربي بعلاقات تجارية مع دول العالم.

- بسبب الصادرات والواردات.

-تجارة الترانزيت.

٥-شهدت منطقة الخليج العربي بعد اكتشاف النفط نمو سكاني فجائيا.

-ارتفاع دخل الفرد.

-توفر الرعاية الصحية.

-توفر فرص عمل.

٦-عدد السكان في دولة الكويت ودول الخليج العربي في تزايد مستمر.

-بسبب الزيادة الطبيعية (عدد المواليد - عدد الوفيات).

-بسبب الزيادة غير الطبيعية (الهجرة).

٧-استخدام كلمة خليجيين بدلا من إطلاق لفظ الدولة.

-بسبب التشابه الثقافي الكبير بين سكان دول الخليج العربي.

٨-انشاء مجلس التعاون الخليجي لقوات درع الجزيرة.

-بهدف حماية أو مساندة أي دولة عضو في المجلس تتعرض لعدوان.

٩- تعرض مياه الخليج العربي للتلوث البحري.

- النفط ومشتقاته - مياه الصرف الصحي - النفايات الخطرة

- الأمطار الحمضية - مخلفات المصانع.

١٠- تزايد حالات العنف عند المتعلمين.

-تربية الأطفال الخاطئة - الإحباط - أسباب اسرية

- أسباب نفسية - أسباب البيئة العامة.

السؤال الثالث: - اكتب فيما يلي:

١-أنواع الصناعات القائمة على النفط بدول مجلس التعاون الخليجي:

- تكرير النفط.
- الغاز.
- البتروكيماويات.

٢-الروابط التي تربط بين سكان دول الخليج العربية:

- وحدة الاصل.
- الدين واللغة.
- العادات والتقاليد.
- التاريخ المشترك.

٣-مظاهر التعاون السياسي بين دول مجلس التعاون الخليجي:

- إدانة احتلال الجزر الإماراتية الثلاث.
- مناصرة القضايا العادلة مثل قضية الشعب الفلسطيني.
- توحيد الموقف السياسي بين دول الخليج العربية تجاه عدوان النظام العراقي البائد على الكويت.

٤-مظاهر التعاون العسكري بين دول مجلس التعاون الخليجي:

- المناورات العسكرية المشتركة.
- إنشاء قوة مشتركة (درع الجزيرة).
- قبول أبناء دول مجلس التعاون في الكليات العسكرية.

٥-مظاهر التعاون الاقتصادي بين دول مجلس التعاون الخليجي:

- صدور إعلان الدوحة بشأن قيام السوق الخليجية المشتركة عام ٢٠٠٨م.
- زيادة التبادل التجاري.

٦-مظاهر التعاون الثقافي بين دول الخليج العربي:

- توحيد المناهج.
- انشاء مكتب التربية العربي ومقره الرياض.
- اجتماع وزراء التربية والتعليم.

٧- آثار التلوث الناجمة عن الغزو العراقي للكويت:

- تفجير وإحراق معظم الآبار وعددها ٧٣٧ بئرًا.
- ضخ النفط في مياه البحر.
- تلوث وتدمير الحياة الفطرية.
- إشعال الآبار سبب كميات كبيرة من الدخان.
- الآثار الخطرة على صحة الإنسان والكائنات الحية.

٨- الآثار المترتبة على مشكلة العمالة المنزلية:

- السلوكيات الخاطئة
- التأثر بثقافتهم المختلفة

٩- الحلول المناسبة لمشكلة العمالة المنزلية:

- الاهتمام الجاد بالقران الكريم والسنة النبوية الشريفة.
- يتحمل كل فرد في الاسرة مسؤوليته.
- جعل مهمة الخادم مقتصرة على دوره الأساسي.

١٠- الحلول المناسبة لمشكلة العنف:

- الاهتمام الجاد بالقران الكريم والسنة النبوية الشريفة.
- الاهتمام بالقراءة بدلا من أصدقاء السوء.
- القدوة الحسنة.

السؤال الرابع: فرق بين كل من :-

أ:

احتياطي النفط	انتاج النفط
كميات النفط المخزونة في باطن الأرض.	كميات النفط التي يتم استخراجها للاستفادة منها

ب:

البيوت البلاستيكية	الزراعة بدون تربة
يزرع فيها الخضراوات في غير مواسمها وتقوم بحماية المحاصيل من تقلبات الجو.	هي التي تتم في بيئة مائية أو رملية او حصى او نشارة خشب تضاف اليها المحاليل الغذائية.

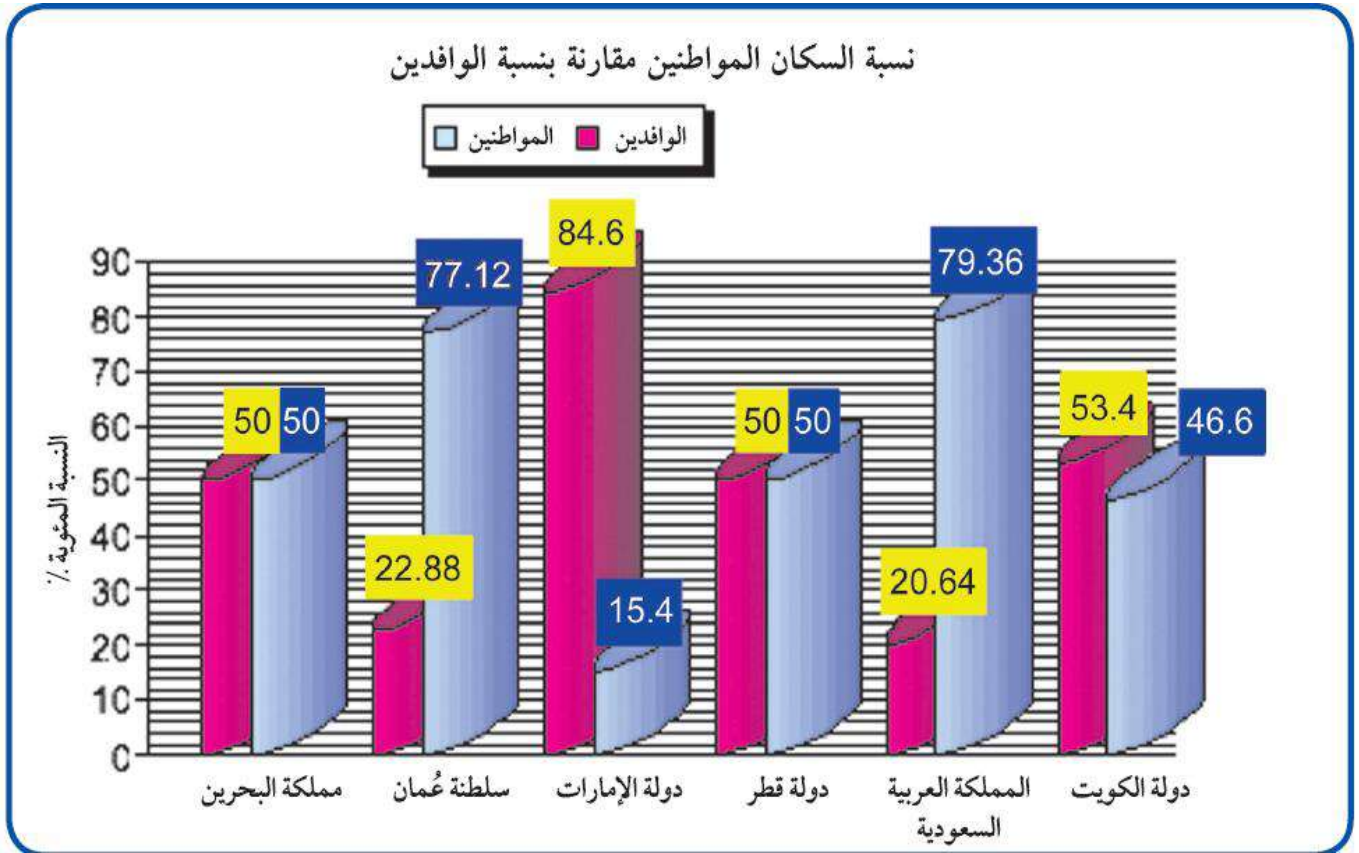
ج:

الصادرات	الواردات
السلع والمنتجات التي تبيعها دولنا في الخارج.	البضائع والسلع التي تشتريها دولنا من الخارج.

د:

الزيادة غير الطبيعية	الزيادة الطبيعية
الزيادة بسبب الهجرة.	عدد المواليد - عدد الوفيات.

السؤال الخامس: لاحظ الرسم البياني توزيع السكان في دول الخليج العربية وفقاً لإحصاء ٢٠٠٦ م، ثم أجب:



١- ما هي أعلى دولة خليجية في نسبة المواطنين؟
- المملكة العربية السعودية.

٢- ما هي أقل دولة خليجية في نسبة المواطنين؟
- الإمارات.

٣- كم تبلغ نسبة الوافدين في دولة الكويت؟
- ٥٣,٤%.

٤- ما هي أعلى دولة خليجية في نسبة الوافدين؟
- الإمارات.

٥- كم تبلغ نسبة المواطنين في سلطنة عمان؟
- ٧٧,١٢%.

٦- ما هي الدولة التي يتساوى فيها عدد المواطنين والوافدين؟
- البحرين وقطر.

السؤال السادس: قارن بين كل من: -

١- قارن بين التلوث الهوائي والمائي حسب الجدول الآتي:

أوجه المقارنة	التلوث الهوائي	التلوث المائي
التعريف	تعرض الغلاف الجوي لمواد تسبب الضرر للإنسان والكائنات الحية والطبيعة.	أحداث افساد لنوعية المياه من خلال مواد ضارة بها من قبل الانسان.
الأسباب	أسباب طبيعية أسباب غير طبيعية السيارات - الطائرات - غازات المصانع - العواصف - حرق النفايات - المبيدات الحشرية.	مخلفات المصانع - النفط مياه الصرف الصحي - النفايات الخطرة - الأمطار الحمضية - مياه الصرف الزراعي.

٢- قارن بين مشكلة العمالة المنزلية ومشكلة العنف حسب الجدول التالي:

أوجه المقارنة	العمالة المنزلية	العنف
التعريف	مجموعة من الافراد الذين يشاركون الاسرة في دور او أكثر داخل المنزل او خارجه.	السلوك العدواني الموجه ضد الغير والذي يتسم بالتخريب والتدمير.
الحلول	<ul style="list-style-type: none">• الاهتمام الجاد بالقرآن الكريم والسنة النبوية.• يتحمل كل فرد في الأسرة مسؤوليته والقيام بدوره.• جعل مهمة الخادم مقتصرة على ممارسة دوره الأساسي في المساهمة في تحمل أعباء المنزل لا غير.	<ul style="list-style-type: none">• الاهتمام الجاد بالقرآن الكريم والسنة النبوية.• الاهتمام بالقراءة والمطالعة بدلاً من أصدقاء السوء.• القدوة الحسنة.

انتهت

الأسئلة

مع
تمنياتنا
لكم
بالتوفيق
والنجاح

معلمة
صفوة الكوثر
KuwaitTeacher.Com