

الصف السادس  
الفصل الثاني

6

المذكرة الشاملة  
لامتحانات الاجتماعيات

جميع امتحانات العام الدراسي

٢٠١٧ - ٢٠١٨

جميع أسئلة  
الامتحانات تليها  
نماذج الإجابة



هَدَايَا

مجموعة قنوات الوزارة التعليمية على التليجرام

ملاحظة: توجد نسخة أخرى من نفس المذكرة [ نحتوي الأسئلة فقط ]

Kuwaitteacher.Com

امتحان الفترة الدراسية الثانية

مقرر الكويت ودول الخليج العربية

للفيف السادس المتوسط

العام الدراسي ٢٠١٧ / ٢٠١٨ م



وزارة التربية

الإدارة العامة لمنطقة العاصمة التعليمية

التوجيه الفني للاجتماعيات

عدد الصفحات : ( ٥ ) صفحة

الزمن : ساعة وخمس وأربعون دقيقة

السؤال الأول : ( موضوعي ) يتكون من ( أ - ب - ج - د - هـ - و ) : ( درجة لكل إجابة = ٣٦ درجة )

( أ ) اختر الإجابة الصحيحة من بين البدائل التي تلي كل عبارة مما يلي وضع خطأ تحتها :-

- ١- الدولة الخليجية التي هاجرت إليها جماعة المعاضيد من قلب الجزيرة العربية واستقرت فيها اسمها :- ص ١٠٨  
أ- الكويت      ب- البحرين      ج- قطر      د- عمان
- ٢- سهل الباطنة منطقة زراعية تقع في دولة خليجية اسمها :- ص ٩٣  
أ- عمان      ب- السعودية      ج- الإمارات      د- البحرين
- ٣- الحقل النفطي الذي يقع في مملكة البحرين يسمى :- ص ٩١  
أ- مريان      ب- دخان      ج- ناطح      د- عوالي
- ٤- صدر إعلان الدوحة بشأن قيام السوق الخليجية المشتركة في يناير عام :- ص ١٣٠  
أ- ٢٠٠٧م      ب- ٢٠٠٨م      ج- ٢٠٠٩م      د- ٢٠١٠م
- ٥- السلوك العدواني الموجه ضد الغير ويتسم بالتخريب والتدمير سواء أقالماً أو أفعالاً يعرف باسم :- ص ١٤٤  
أ- الضوضاء      ب- الأخطار الخارجية      ج- العنف      د- العمالة المنزلية
- ٦- تم تصدير أول شحنة من النفط الكويتي عام ١٩٤٦م في عهد الشيخ :- ص ٩٠  
أ- أحمد الجابر الصباح      ب- صباح السالم الصباح      ج- عبدالله السالم الصباح      د- جابر الأحمد الصباح

( ب ) اكتب المفاهيم أو المصطلحات الدالة على العبارات التالية :-

- ١- إعادة تصدير البضائع المستوردة . ( )
- ٢- مجموعة من العادات والتقاليد والقيم في مجتمع من المجتمعات . ( )
- ٣- إحداث إفساد لنوعية المياه من خلال إدخال مواد ضارة بها من قبل الإنسان ( )
- ٤- مجموع الدخول التي تحصل عليها الدولة خلال عام . ( )
- ٥- السلع والمنتجات التي تبيعها دولنا في الخارج . ( )
- ٦- كميات النفط المخزونة في باطن الأرض . ( )

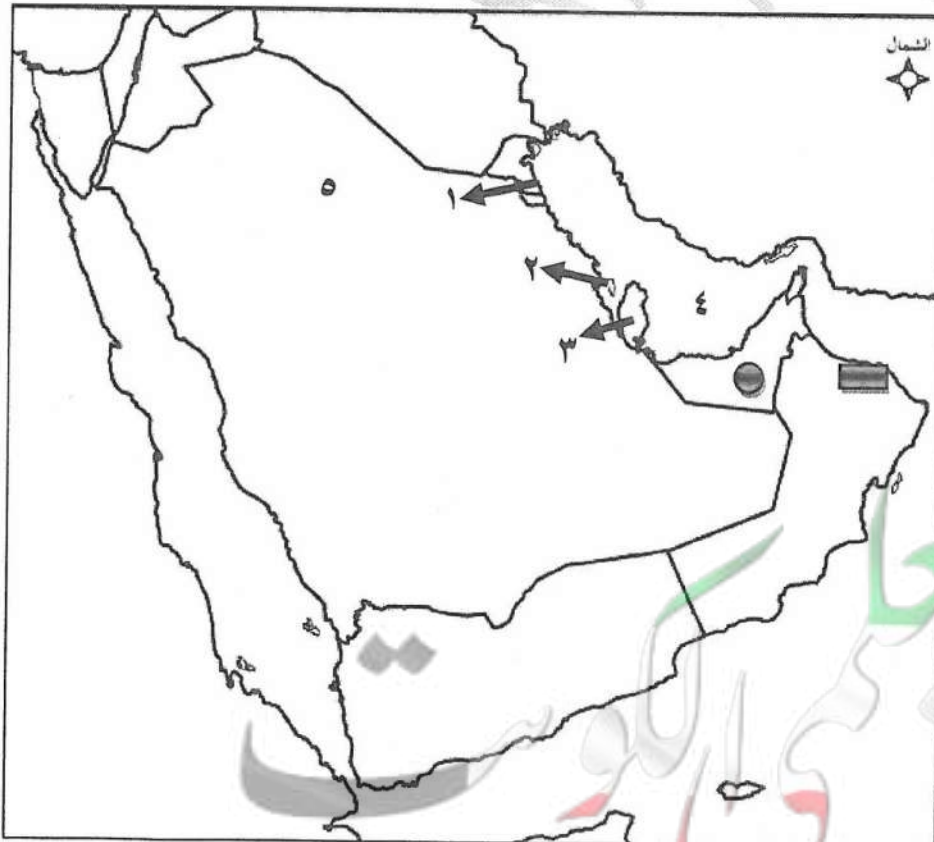


تابع / السؤال الأول ،،

ج) صحح ما تحته خط في العبارات التالية بكتابة الإجابة الصحيحة ما بين الأقواس:

- ١- بدأ التنقيب عن النفط بدولة الكويت عام ١٩٧٠ م . ( )
- ٢- قام النظام العراقي البائد بغزو دولة الكويت عام ١٩٨٠ م . ( )
- ٣- البضائع والسلع التي تشتريها دولنا من الخارج تعرف باسم الصناعة . ( )
- ٤- ترجع أصول السلالات السكانية في منطقة الخليج العربية إلى جنس شرق أفريقيا و أوروبا . ( )
- ٥- تمت هجرة القواسم إلى مدينة خليجية اسمها أبو ظبي . ( )
- ٦- إدانة احتلال الجزر الإماراتية الثلاث أحد مظاهر التعاون العسكري الخليجي . ( )
- ٧- الزراعة التي تتم في بيئة مائية أو رملية أو حصى أو نشارة خشب مضاف إليها المحاليل الغذائية تسمى الحقلية . ( )

د) لاحظ خريطة دول الخليج العربية ثم استعن بالمدلولات التي عليها لإكمال العبارات التالية:



- توجد منطقة امسيعيد الصناعية في دولة خليجية يمثلها على الخريطة الرقم .
- الدولة الخليجية الرائدة في إنتاج محصول القمح تحمل الرقم
- أكثر دولة خليجية في الكثافة السكانية يمثلها على الخريطة الرقم
- منطقة العين الزراعية في دولة خليجية يمثلها على الخريطة الشكل
- ميناء الفحل النفطي يمثله على الخريطة الشكل
- الخليج العربي يحمل على الخريطة الرقم

تابع / السؤال الأول ،،

هـ) صنف الحضارات الخليجية التالية حسب ما يناسبها في الجدول :

هيلي	دبا	أم النار	تاروت	دلمون
------	-----	----------	-------	-------

الرقم	اسم الدولة الخليجية التي قامت فيها	اسم الحضارة القديمة
١	السعودية	
٢	الإمارات	
٣	قطر	
٤	البحرين	
٥	عمان	

و) أكمل العبارات التالية بما يناسبها :

- ١- زيادة التبادل التجاري بين دول الخليج العربية مظهر من مظاهر التعاون
- ٢- أكبر حقل نفطي في المملكة العربية السعودية يسمى
- ٣- تقع منطقة العبدلي الزراعية في دولة خليجية اسمها
- ٤- مقر مكتب التربية العربي في مدينة خليجية اسمها
- ٥- عدد الآبار النفطية التي أحرقها النظام العراقي البائد في دولة الكويت يبلغ
- ٦- أول حقل نفطي تم اكتشافه في دولة الكويت اسمه



السؤال الثاني (مقالى) : يتكون من ( أ - ب - ج )

(أ) علل لما يلي : (كل إجابة درجة = ٥ درجات)

١- شهدت منطقة الخليج العربية بعد اكتشاف النفط نمواً سكانياً مضطرباً (فجائياً). (يكتفى بنقطتين)

٢- ظهرت الحاجة إلى إقامة العديد من الموانئ النفطية في دول الخليج العربية.

٣- استقرار السكان في أطراف شبه الجزيرة العربية ومنطقة الخليج العربية .

(ب) فرق بين كل مما يلي : ( كل إجابة درجة = ٤ درجات ) ( يكتفى بنقطتين فقط )

أسباب التلوث الضوضائي	أسباب التلوث البحري ( المائي )

(ج) عرف ما يلي : (كل إجابة درجة = ٣ درجات)

١- إنتاج النفط :

٢- السلالة :

٣- الصناعة :

إجابة امتحان الفترة الدراسية الثانية

مقرر الكويت ودول الخليج العربية

للفصل السادس المتوسط

العام الدراسي ٢٠١٧ / ٢٠١٨ م



وزارة التربية

الإدارة العامة لمنطقة العاصمة التعليمية

التوجيه الفني للاجتماعيات

عدد الصفحات: ( ٥ ) صفحة

الزمن : ساعة وخمس وأربعون دقيقة

**السؤال الأول؛ ( موضوعي ) يتكون من ( أ - ب - ج - د - هـ - و ) : ( درجة لكل إجابة = ٣٦ درجة )**

**( أ ) اختر الإجابة الصحيحة من بين البدائل التي تلي كل عبارة مما يلي وضع خطأ تحتها:-**

- ١- الدولة الخليجية التي هاجرت إليها جماعة المعاضيد من قلب الجزيرة العربية واستقرت فيها اسمها :- ص ١٠٨  
أ- الكويت      ب- البحرين      ج- قطر      د- عمان
- ٢- سهل الباطنة منطقة زراعية تقع في دولة خليجية اسمها :- ص ٩٣  
أ- عمان      ب- السعودية      ج- الإمارات      د- البحرين
- ٣- الحقل النفطي الذي يقع في مملكة البحرين يسمى:- ص ٩١  
أ- مريان      ب- دخان      ج- ناطح      د- عوالي
- ٤- صدر إعلان الدوحة بشأن قيام السوق الخليجية المشتركة في يناير عام :- ص ١٣٠  
أ- ٢٠٠٧م      ب- ٢٠٠٨م      ج- ٢٠٠٩م      د- ٢٠١٠م
- ٥- السلوك العدواني الموجه ضد الغير ويتسم بالتخريب والتدمير سواء أقوالاً أو أفعالاً يعرف باسم :- ص ١٤٤  
أ- الضوضاء      ب- الأخطار الخارجية      ج- العنف      د- العمالة المنزلية
- ٦- تم تصدير أول شحنة من النفط الكويتي عام ١٩٤٦م في عهد الشيخ :- ص ٩٠  
أ- أحمد الجابر الصباح      ب- صباح السالم الصباح      ج- عبدالله السالم الصباح      د- جابر الأحمد الصباح

**( ب ) اكتب المفاهيم أو المصطلحات الدالة على العبارات التالية:-**

- ١- إعادة تصدير البضائع المستوردة . ( ترانزيت ) ص ٩٩
- ٢- مجموعة من العادات والتقاليد والقيم في مجتمع من المجتمعات . ( الثقافة ) ص ١١٨
- ٣- إحداث إفساد لنوعية المياه من خلال إدخال مواد ضارة بها من قبل الإنسان . ( التلوث المائي ) ص ١٣٦
- ٤- مجموع الدخول التي تحصل عليها الدولة خلال عام . ( الدخل القومي ) ص ٩٥
- ٥- السلع والمنتجات التي تبيعها دولنا في الخارج . ( الصادرات ) ص ٩٩
- ٦- كميات النفط المخزونة في باطن الأرض . ( احتياطي النفط ) ص ٨٨



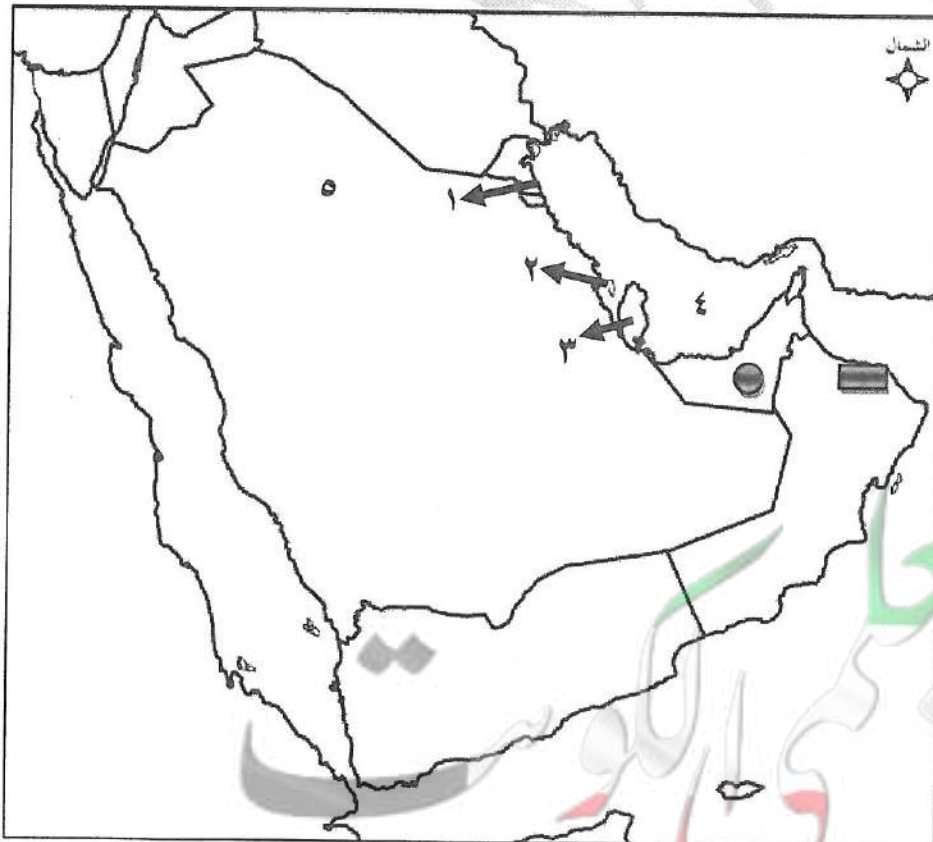


## تابع / السؤال الأول ،،

### (ج) صحح ما تحته خط في العبارات التالية بكتابة الإجابة الصحيحة ما بين الأقواس:

- ١- بدأ التنقيب عن النفط بدولة الكويت عام ١٩٧٠ م . ( ١٩٣٤ ) ص ٨٧
- ٢- قام النظام العراقي البائد بغزو دولة الكويت عام ١٩٨٠ م . ( ١٩٩٠ م ) ص ١٣٩
- ٣- البضائع والسلع التي تشتريها دولنا من الخارج تعرف باسم الصناعة . ( الواردات ) ص ٩٩
- ٤- ترجع أصول السلالات السكانية في منطقة الخليج العربية إلى جنس شرق أفريقيا و أوروبا . ( البحر المتوسط ) ص ١٠٥
- ٥- تمت هجرة القواسم إلى مدينة خليجية اسمها أبو ظبي . ( رأس الخيمة ) ص ١٠٨
- ٦- إدانة احتلال الجزر الإماراتية الثلاث أحد مظاهر التعاون العسكري الخليجي . ( السياسي ) ص ١٢٩
- ٧- الزراعة التي تتم في بيئة مائية أو رملية أو حصى أو نشارة خشب مضاف إليها المحاليل الغذائية تسمى الحقلية . ( بدون تربة ) ص ٩٤

### (د) لاحظ خريطة دول الخليج العربية ثم استعن بالمدلولات التي عليها لإكمال العبارات التالية:



- توجد منطقة امسيعيد الصناعية في دولة خليجية يمثلها على الخريطة الرقم ٣ . ص ٩٦
- الدولة الخليجية الرائدة في إنتاج محصول القمح تحمل الرقم ٥ . ص ٩٢
- أكثر دولة خليجية في الكثافة السكانية يمثلها على الخريطة الرقم ٢ . ص ١١٤
- منطقة العين الزراعية في دولة خليجية يمثلها على الخريطة الشكل (●) . ص ٩٢
- ميناء الفحل النفطي يمثله على الخريطة الشكل (■) . ص ٩٧
- الخليج العربي يحمل على الخريطة الرقم ٤ . ص ٩١

تابع / السؤال الأول ،،

هـ) صنف الحضارات الخليجية التالية حسب ما يناسبها في الجدول : ص ١٠٥

هيلي	دبا	أم النار	تاروت	دلمون
------	-----	----------	-------	-------

الرقم	اسم الدولة الخليجية التي قامت فيها	اسم الحضارة القديمة
١	السعودية	تاروت
٢	الإمارات	هيلي
٣	قطر	أم النار
٤	البحرين	دلمون
٥	عمان	دبا

و) أكمل العبارات التالية بما يناسبها :

- ١- زيادة التبادل التجاري بين دول الخليج العربية مظهر من مظاهر التعاون الاقتصادي . ص ١٣٠
- ٢- أكبر حقل نفطي في المملكة العربية السعودية يسمى الغوار . ص ٩١
- ٣- تقع منطقة العبدلي الزراعية في دولة خليجية اسمها الكويت . ص ٩٢
- ٤- مقر مكتب التربية العربي في مدينة خليجية اسمها الرياض . ص ١٣٠
- ٥- عدد الآبار النفطية التي أحرقتها النظام العراقي البائد في دولة الكويت يبلغ ٧٣٧ . بنراً ص ١٣٩
- ٦- أول حقل نفطي تم اكتشافه في دولة الكويت اسمه بحرة . ص ٨٧



السؤال الثاني (مقالى) : يتكون من ( أ - ب - ج )

(أ) علل لما يلي : (كل إجابة درجة = ٥ درجات)

- ١- شهدت منطقة الخليج العربية بعد اكتشاف النفط نمواً سكانياً مضطرباً (فجائياً). (يكتفى بنقطتين) ص ١١٠ / ١١١
  - \* ارتفاع دخل الفرد
  - \* توفر الرعاية الصحية
  - \* توفر فرص العمل
  - \* زيادة عدد المواليد .
  - \* الأمن والأمان
  - \* ارتفاع الأجور
  - \* السماح للوافدين باصطحاب عائلاتهم .
- ٢- ظهرت الحاجة إلى إقامة العديد من الموانئ النفطية في دول الخليج العربية. ص ٩٠
  - \* تزايد الإنتاج النفطي لدول مجلس التعاون من الحقول البرية والبحرية.
  - \* تزايد الطلب العالمي على النفط كمصدر أساسي للطاقة .
- ٣- استقرار السكان في أطراف شبه الجزيرة العربية ومنطقة الخليج العربية . ص ١٠٧
  - \* للظروف الطبيعية القاسية .

(ب) فرق بين كل مما يلي : ( كل إجابة درجة = ٤ درجات ) ( يكتفى بنقطتين فقط )

أسباب التلوث الضوضائي ص ١٣٨	أسباب التلوث البحري (المائي) ص ١٣٦
* آلات كهربائية	* مخلفات المصانع
* أعمال النجارة	* مياه الصرف الصحي غير المعالجة
* أجهزة التسجيل	* مياه الصرف الزراعي
	* الأمطار الحمضية
	* النفط ومشتقاته
	* النفايات الخطرة

(ج) عرف ما يلي : (كل إجابة درجة = ٣ درجات)

- ١- إنتاج النفط : كميات النفط التي يتم استخراجها للاستفادة منها . ص ٨٨.
- ٢- السلالة : مجموعة من الناس تشترك فيما بينها في الصفات الجسدية الرئيسية كلون الجلد وشكل الأنف وشكل الشعر وطول القامة وتختلف عن غيرها من السلالات في هذه الصفات . ص ١٠٦
- ٣- الصناعة : تحويل المواد الخام إلى مواد يمكن الاستفادة منها . ص ٩٥

السؤال الثالث ( مقال ) : يتكون من : ( أ - ب - ج )

أ ) اقرأ الفقرة التالية ثم أجب عما يليها من أسئلة: (كل إجابة درجة = ٣ درجات )

" تواجه دول الخليج العربية تحديات تشكل عائقا وحاجزا أمام برامج التنمية والأمن والاستقرار في منطقة الخليج العربي كالتلوث البيئي وندرة المياه الجوفية والأمن الغذائي ". ص ١٣٢

١- عرف ما تحته خط .

التلوث : هو الضرر الذي يصيب عناصر البيئة الأساسية (هواء - ماء - تربة ) فتتحول من عناصر مفيدة إلى عناصر ضارة. ص ١٣٣

٢- ضع حلاً مناسباً للمشكلات التي تواجهها دول الخليج العربية في الجدول التالي :

الاخطار الخارجية والداخلية	الاعتماد على الموارد النفطية
*إقامة نظام دفاعي متماسك ودائم للمنطقة. ص ١٣٢ ( أو ما يراه المصحح مناسباً )	* التوسع في مجال الاستثمار. ص ١٣٢ ( أو ما يراه المصحح مناسباً )

ب) اكتب فيما يلي : ( كل إجابة درجة = ٦ درجات ) ( يكفي بنقطتين فقط )

١- أهم الدول المستوردة للنفط الكويتي . ص ٩٠

\* الولايات المتحدة الأمريكية \* اليابان \* هولندا

٢- مظاهر التعاون العسكري بين دول مجلس التعاون الخليجي. ص ١٢٩

\* المناورات (التدريبات) العسكرية المختلفة. \* قبول أبناء دول مجلس التعاون في الكليات العسكرية.

\* إنشاء قوة مشتركة تضم جميع دول مجلس التعاون الخليجي.(درع الجزيرة) .

٣- نتائج تلوث التربة . ص ١٣٤

\* ضعف قدرتها على الإنتاج الزراعي. \* تلوث الإنتاج الزراعي مما يؤثر على صحة الإنسان.

ج) اكتب تعليقا مناسباً لما تمثله كل صورة مما يلي: ( كل إجابة درجة = ٣ درجات )


( أو ما يراه المصحح مناسباً )



٣- الصناعات في دول الخليج العربية ص ٩٦



٢- العمالة المنزلية ص ١٤٤



١- تلوث هوائي ص ١٣٣

( انتهت الاسئلة ) ،،،،



السؤال الثالث ( مقال ) : يتكون من : ( أ - ب - ج )

أ ) اقرأ الفقرة التالية ثم أجب عما يليها من أسئلة: (كل إجابة درجة = ٣ درجات )

" تواجه دول الخليج العربية تحديات تشكل عائقا وحاجزا أمام برامج التنمية والأمن والاستقرار في منطقة الخليج العربي كالتلوث البيئي وندرة المياه الجوفية والأمن الغذائي ".  
١- عرف ما تحته خط .

التلوث :

٢- ضع حلاً مناسباً للمشكلات التي تواجهها دول الخليج العربية في الجدول التالي :

الاخطار الخارجية والداخلية	الاعتماد على الموارد النفطية


ب) اكتب فيما يلي : ( كل إجابة درجة = ٦ درجات ) ( يكتفى بنقطتين فقط )

١- أهم الدول المستوردة للنفط الكويتي .

٢- مظاهر التعاون العسكري بين دول مجلس التعاون الخليجي.

٣- نتائج تلوث التربة .

ج) اكتب تعليقا مناسباً لما تمثله كل صورة مما يلي: ( كل اجابة درجة = ٣ درجات )



-٣

-٢

-١

( انتهت الاسئلة ) ،،،





أجب عن جميع الأسئلة التالية :-

لكل نقطة درجة

السؤال الأول ويتكون من ( أ - ب - ج - د - هـ - و ) :

أ) أكمل العبارات التالية بما يناسبها مما درست :-

- ١- الشيخ الذي تم تصدير أول شحنة من النفط الكويتي في عهده يسمى
- ٢- الدولة الخليجية التي تحتل المركز الأول في عدد السكان تسمى
- ٣- ترجع أصول السلالات السكانية في منطقة الخليج العربية إلى جنس البحر المتوسط و جنس آخر يسمى
- ٤- المدينة التي تم فيها الإعلان عن قيام السوق الخليجية المشتركة تسمى
- ٥- مجموعة من العادات والتقاليد والقيم في مجتمع من المجتمعات تسمى
- ٦- العام الذي قام فيه النظام العراقي البائد بغزو دولة الكويت

ب) ضع خطا تحت الخيار الصحيح من بين الخيارات التي تلي كل عبارة :-

١- بدأ التنقيب عن النفط في دولة الكويت عام :

- أ- ١٩٣٣ م      ب- ١٩٣٤ م      ج- ١٩٣٥ م      د- ١٩٣٦ م

٢- الدولة الخليجية التي توجد فيها المنطقة الزراعية سهل الباطنة :

- أ- الكويت      ب- البحرين      ج- قطر      د- عمان

٣- الدولة الخليجية التي توجد فيها حضارة هيلي :

- أ- البحرين      ب- قطر      ج- الإمارات      د- السعودية

٤- عدد آبار النفط الكويتية التي دمرها النظام العراقي البائد :

- أ- ٧٣٦ بئر      ب- ٧٣٧ بئر      ج- ٧٣٨ بئر      د- ٧٣٩ بئر

٥- من أهم الدول المستوردة للنفط الكويتي :

- أ- بريطانيا      ب- الصين      ج- البرتغال      د- اليابان

٦- الهجرة العربية التي استقرت في دولة قطر :

- أ- المعاضيد      ب- آل خليفة      ج- القواسم      د- بني ياس



تابع / السؤال الأول :-

ج) انسب كل من المناطق الصناعية إلى مكانها المناسب في الجدول التالي :

( الشعبية - الجبيل - شمال سترة - امسيعد - الرويس - صحار )

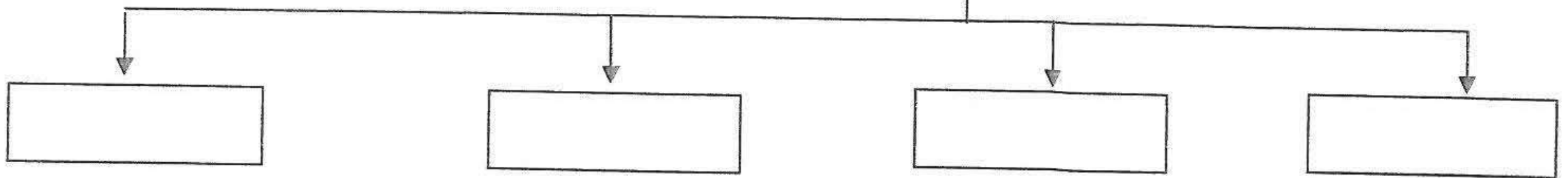
الدولة	الكويت	عمان	قطر	البحرين	الإمارات	السعودية
المنطقة الصناعية						

د) أكتب المفاهيم أو المصطلحات الدالة عليها العبارات التالية :-

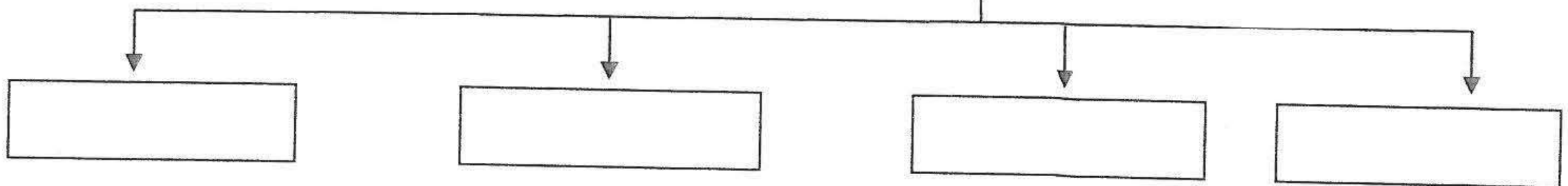
- ١- ( ) تحويل المواد الخام إلى مواد يمكن الاستفادة منها .
- ٢- ( ) ضرر يصيب عناصر البيئة الأساسية (ماء/هواء/تربة) فتنحول من عناصر مفيدة إلى عناصر ضارة.
- ٣- ( ) سلوك عدواني موجه ضد الغير يتسم بالتخريب والتدمير سواء كان ذلك السلوك قولاً أو فعلاً .
- ٤- ( ) درع واق للأحياء ضد خطر الأشعة فوق البنفسجية الضارة .
- ٥- ( ) تغير يحدث لعدد السكان نتيجة للزيادة الطبيعية وغير الطبيعية .
- ٦- ( ) إعادة تصدير البضائع المستوردة .

هـ) أكمل المخططات السهمية التالية :-

١- الصناعات القائمة في دول الخليج العربية :

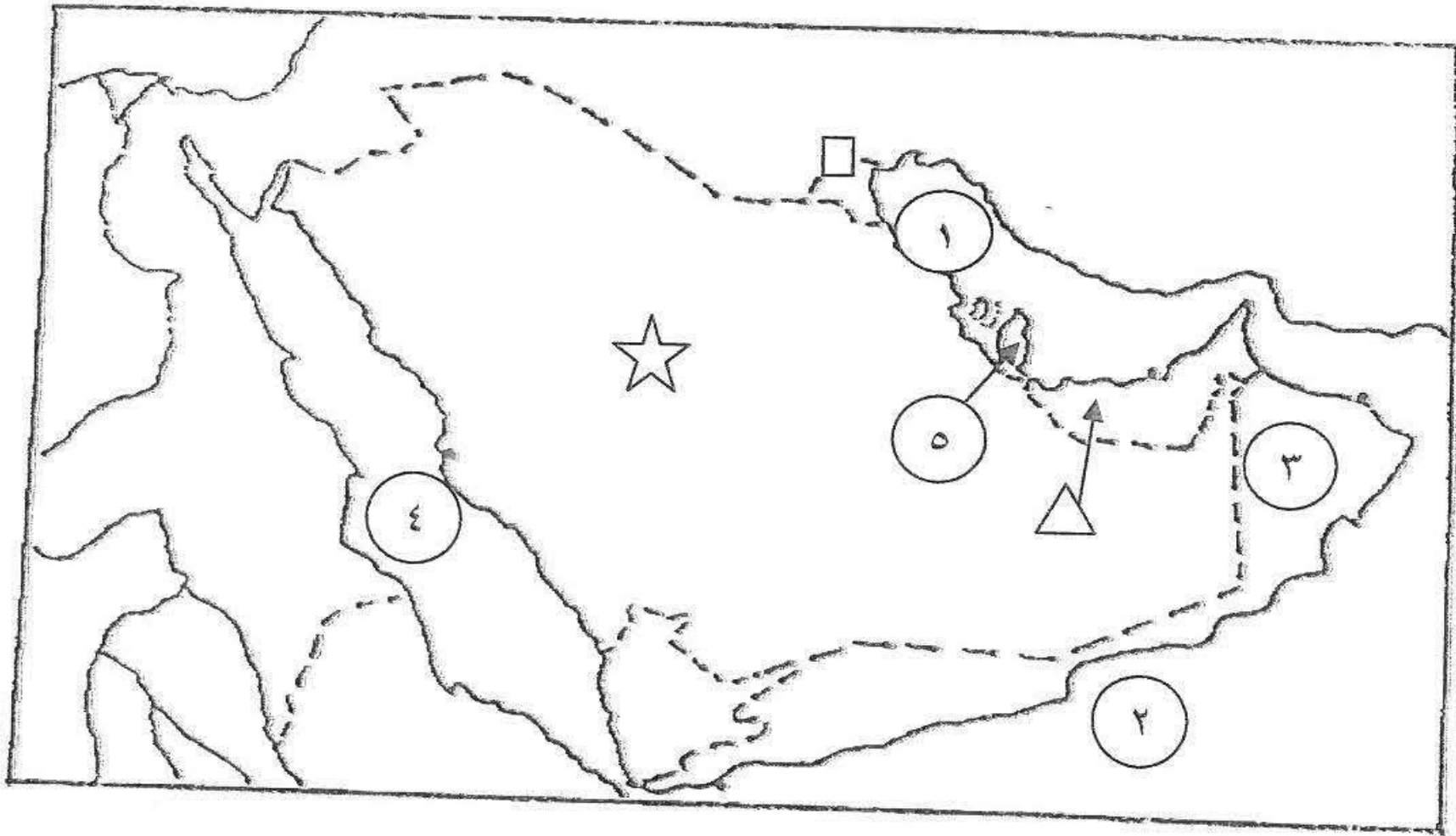


٢- الروابط التي تربط سكان دول الخليج العربية :



تابع / السؤال الأول :-

و) أمامك خريطة شبه الجزيرة العربية الصماء نفذ المطلوب عليها :



١- اكتب الرقم الدال على العبارات التالية :

- الخليج العربي يمثله على الخريطة الرقم

- هجرة آل بوسعيد واليعاربة يمثلهما على الخريطة الرقم

- حضارة أم النار يمثلهما على الخريطة الرقم

٢- حدد كل مما يلي على الخريطة باستخدام الرموز التالية :

- الدولة الخليجية التي لها تجربة رائدة في إنتاج محصول القمح باستخدام الرمز

- منطقة العبدلي الزراعية باستخدام الرمز

- الدولة الخليجية الأولى في نسبة الوافدين باستخدام الرمز



السؤال الثاني : ويتكون من ( أ ، ب ، ج ) :-

( أ ) فرق بين كل مما يلي :- ٤ درجات

إنتاج النفط	إحتياطي النفط
صادرات	واردات

ب ) علل لما يأتي :- ٤ درجات لكل سؤال درجتان (يكتفي بنقطتين)

١- النمو السكاني المفاجيء في منطقة الخليج العربية بعد اكتشاف النفط .

٢- حدوث التلوث البحري .

ج ) اكتب مما درست حول : ٤ درجات لكل سؤال درجتان (يكتفي بنقطتين)

١ - مظاهر التعاون السياسي بين دول الخليج العربية .

٢ - النتائج المترتبة على حرق آبار النفط الكويتية .



**أجب عن جميع الأسئلة التالية :-**

**السؤال الأول ويتكون من ( أ - ب - ج - د - هـ - و ) :** لكل نقطة درجة

**( أ ) أكمل العبارات التالية بما يناسبها مما درست :-**

- ١- الشيخ الذي تم تصدير أول شحنة من النفط الكويتي في عهده يسمى الشيخ أحمد الجابر . ص ٩٠
- ٢- الدولة الخليجية التي تحتل المركز الأول في عدد السكان تسمى المملكة العربية السعودية . ص ١١٤
- ٣- ترجع أصول السلالات السكانية في منطقة الخليج العربية إلى جنس البحر المتوسط وجنس آخر يسمى  
شرق أفريقيا . ص ١٠٥
- ٤- المدينة التي تم فيها الإعلان عن قيام السوق الخليجية المشتركة تسمى الدوحة . ص ١٣٠
- ٥- مجموعة من العادات والتقاليد والقيم في مجتمع من المجتمعات تسمى الثقافة . ص ١١٨
- ٦- العام الذي قام فيه النظام العراقي البائد بغزو دولة الكويت ١٩٩٠ م . ص ١٣٩

**( ب ) ضع خطاً تحت الخيار الصحيح من بين الخيارات التي تلي كل عبارة :-**

- ١- بدأ التنقيب عن النفط في دولة الكويت عام :  
أ- ١٩٣٣ م      ب- ١٩٣٤ م      ج- ١٩٣٥ م      د- ١٩٣٦ م      ص ٨٧
- ٢- الدولة الخليجية التي توجد فيها المنطقة الزراعية سهل الباطنة :  
أ- الكويت      ب- البحرين      ج- قطر      د- عمان      ص ٩٢
- ٣- الدولة الخليجية التي توجد فيها حضارة هيلي :  
أ- البحرين      ب- قطر      ج- الإمارات      د- السعودية      ص ١٠٥
- ٤- عدد آبار النفط الكويتية التي دمرها النظام العراقي البائد :  
أ- ٧٣٦ بئر      ب- ٧٣٧ بئر      ج- ٧٣٨ بئر      د- ٧٣٩ بئر      ص ١٣٩
- ٥- من أهم الدول المستوردة للنفط الكويتي :  
أ- بريطانيا      ب- الصين      ج- البرتغال      د- اليابان      ص ٩٠
- ٦- الهجرة العربية التي استقرت في دولة قطر :  
أ- المعاضيد      ب- آل خليفة      ج- القواسم      د- بني ياس      ص ١٠٨



تابع / السؤال الأول :-

ج) انسب كل من المناطق الصناعية إلى مكانها المناسب في الجدول التالي : ص ٩٦

( الشعبية - الجبيل - شمال سترة - امسيعيد - الرويس - صحار )

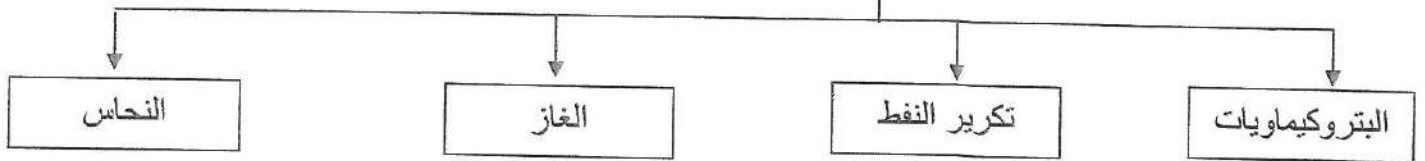
الدولة	الكويت	عمان	قطر	البحرين	الإمارات	السعودية
المنطقة الصناعية	الشعبية	صحار	امسيعيد	شمال سترة	الرويس	الجبيل

د) أكتب المفاهيم أو المصطلحات الدالة عليها العبارات التالية :-

- ١- ( صناعة ) تحويل المواد الخام إلى مواد يمكن الاستفادة منها . ص ٩٥
- ٢- ( تلوث ) ضرر يصيب عناصر البيئة الأساسية (ماء/هواء/تربة) فتتحول من عناصر مفيدة إلى عناصر ضارة . ص ١٣٣
- ٣- ( عنف ) سلوك عدواني موجه ضد الغير يتسم بالتخريب والتدمير سواء كان ذلك السلوك قولاً أو فعلاً . ص ١٤٤
- ٤- ( طبقة الأوزون ) درع واق للأحياء ضد خطر الأشعة فوق البنفسجية الضارة . ص ١٣٥
- ٥- ( نمو سكاني ) تغير يحدث لعدد السكان نتيجة للزيادة الطبيعية وغير الطبيعية . ص ١١١
- ٦- ( ترانزيت ) إعادة تصدير البضائع المستوردة . ص ٩٩

هـ) أكمل المخططات السهمية التالية :-

١- الصناعات القائمة في دول الخليج العربية : ص ٩٦

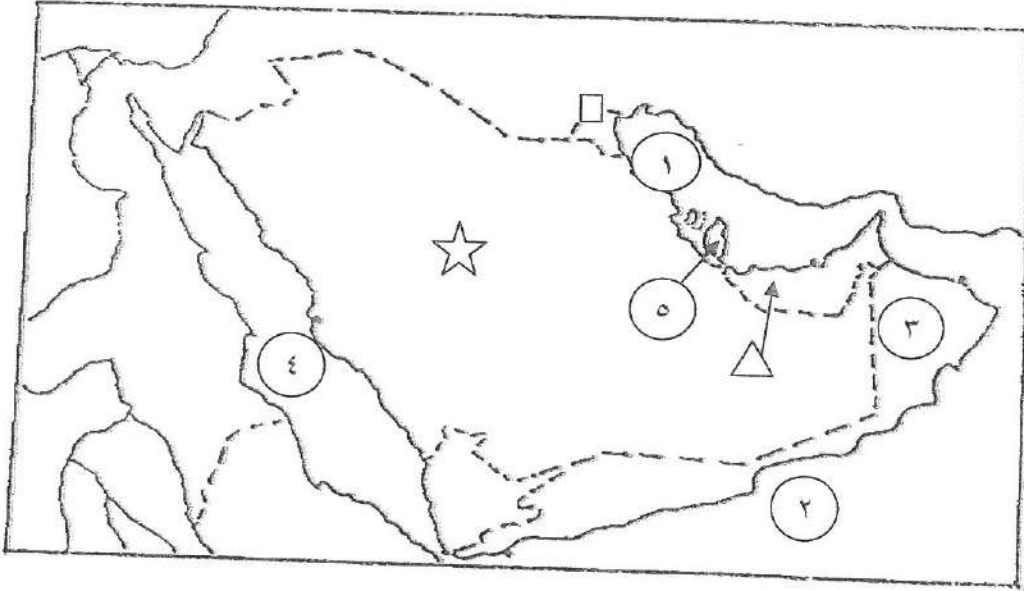


٢- الروابط التي تربط سكان دول الخليج العربية : ص ١١٧ - ١٢٠



تابع / السؤال الأول :-

و) أمامك خريطة شبه الجزيرة العربية انصاء نفذ المطلوب عليها :



١- اكتب الرقم الدال على العبارات التالية :

- الخليج العربي يمثله على الخريطة الرقم ١ . ص ٩٢

- هجرة آل بوسعيد واليعاربة يمثلهما على الخريطة الرقم ٣ . ص ١٠٨

- حضارة أم النار يمثلهما على الخريطة الرقم ٥ . ص ١٠٥

٢- حدد كل مما يلي على الخريطة باستخدام الرموز التالية :

- الدولة الخليجية التي لها تجربة رائدة في انتاج محصول القمح باستخدام الرمز ☆ ص ٩٢

- منطقة العبدلي الزراعية باستخدام الرمز □ ص ٩٢

- الدولة الخليجية الأولى في نسبة الوافدين باستخدام الرمز △ ص ١١٢



السؤال الثاني : ويتكون من ( أ ، ب ، ج ) :-

أ) فرق بين كل مما يلي :- ٤ درجات

إنتاج النفط ص ٨٨	إحتياطي النفط
كميات النفط التي يتم استخراجها للاستفادة منها .	كميات النفط المخزونة في باطن الأرض .
صادرات ص ٩٩	واردات
السلع والمنتجات التي تبيعها دولنا للخارج .	البضائع والسلع التي تشتريها دولنا من الخارج .

ب) علل لما يأتي :- ٤ درجات لكل سؤال درجتان (يكتفي بنقطتين)

- ١- النمو السكاني المفاجيء في منطقة الخليج العربية بعد اكتشاف النفط . ص ١١٠  
- ارتفاع دخل الفرد . - توفر الرعاية الصحية . - توفر فرص العمل .
- ٢- حدوث التلوث البحري . ص ١٣٦  
- مخلفات المصانع . - النفط ومشتقاته . - النفايات الخطرة .  
- مياه الصرف الصحي غير المعالجة . - الأمطار الحمضية . - مياه الصرف الزراعي .

ج) اكتب مما درست حول : ٤ درجات لكل سؤال درجتان (يكتفي بنقطتين)

- ١ - مظاهر التعاون السياسي بين دول الخليج العربية . ص ١٢٩  
- ادانة احتلال الجزر الإماراتية الثلاث .  
- مناصرة القضايا العادلة مثل قضية الشعب الفلسطيني وحقه في تقرير مصيره .  
- توحيد الموقف السياسي الخليجي تجاه عدوان النظام العراقي البائد على دولة الكويت .
- ٢ - النتائج المترتبة على حرق آبار النفط الكويتية . ص ١٣٩  
- تكون بحيرات نفطية أحدثت تلوث للتربة وتدمير للحياة الفطرية .  
- إشعال الآبار سبب كميات كبيرة من الدخان محدثا تلوثا هوائيا .  
- تساقط الرذاذ النفطي على التربة محدثا تلوثا أرضيا حيث تحول لون الرمال من اللون الأصفر إلى الأسود .  
- آثار خطيرة على صحة الإنسان والكائنات الحية .

السؤال الثالث : ويتكون من ( أ ، ب ، ج ) :-

( أ ) علل لما يلي :- ٤ درجات لكل سؤال درجتان ( يكتفي بنقطتين )

١ - قيام دول الخليج العربية بإقامة العديد من الموانئ النفطية . ص ٩٠  
زيادة إنتاج النفط . -زيادة الطلب العالمي للنفط .

٢ - انخفاض الكثافة السكانية في دول الخليج العربية قديماً . ص ١١٣  
-الموقع الصحراوي . - الفقر الشديد .

( ب ) اكتب مما درست حول :- ٤ درجات لكل سؤال درجتان ( يكتفي بنقطتين )

١ - الأضرار الناتجة عن التلوث الأرضي ( التربة ) . ص ١٣٤  
- ضعف قدرتها على الإنتاج الزراعي . - تلوث الإنتاج الزراعي مما يؤثر على صحة الإنسان .

٢ - جهود دول الخليج العربية لحل مشكلة العمالة المنزلية . ص ١٥٠  
-الاهتمام الجاد بالقرآن الكريم والسنة النبوية الشريفة .  
-يتحمل كل فرد في الأسرة مسؤولية والقيام بدورة خير قيام .  
-جعل مهمة الخادم مقتصرة على ممارسة دورة الأساسي في المساهمة في تحمل أعماء المنزل لا غير .

( ج ) عرف المفاهيم التالية : ٤ درجات

١ - زراعة بدون تربة : الزراعة التي تتم في بيئة مائية أو مائية أو رملية أو نشارة خشب تضاف إليها المحاليل الغذائية .  
ص ٩٤

٢ - سلالة : مجموعة من الناس تشترك فيما بينها في الصفات الجسمانية الرئيسية كلون الجلد وشكل الأنف وشكل الشعر وطول القامة وما إليها وتختلف عن غيرها من السلالات في هذه الصفات . ص ١٠٦

٣ - كثافة سكانية : عدد السكان في الكيلو متر المربع وتقاس بقسمة عدد السكان على مساحة الدولة . ص ١١٤

٤ - تلوث ضوضائي : أصوات غير متجانسة تجتاز شدتها المعدل الطبيعي المسموح به للأذن . ص ١٣٤

انتهت الأسئلة مع تمنياتنا لكم بالتوفيق والنجاح ...



السؤال الثالث : ويتكون من ( أ ، ب ، ج ) :-

( أ ) علل لما يلي :- ٤ درجات لكل سؤال درجتان ( يكتفي بنقطتين )  
١ - قيام دول الخليج العربية بإقامة العديد من الموانئ النفطية .

٢ - انخفاض الكثافة السكانية في دول الخليج العربية قديما .

( ب ) اكتب مما درست حول :- ٤ درجات لكل سؤال درجتان ( يكتفي بنقطتين )  
١ - الأضرار الناتجة عن التلوث الأرضي ( التربة ) .

٢ - جهود دول الخليج العربية لحل مشكلة العمالة المنزلية .

( ج ) عرف المفاهيم التالية : ٤ درجات

١ - زراعة بدون تربة :

٢ - سلالة :

٣ - كثافة سكانية :

٤ - تلوث ضوضائي :

انتهت الأسئلة مع تمنياتنا لكم بالتوفيق والنجاح ...





المقرر : الكويت ودول الخليج  
العربية  
الزمن : ساعة ونصف  
عدد الأوراق : ( ٥ )

امتحان نهاية الفترة الدراسية الثانية  
للسف السادس  
للعام الدراسي ٢٠١٧ / ٢٠١٨

وزارة التربية  
الإدارة العامة لمنطقة الفروانية التعليمية  
التوجيه الفني للاجتماعيات

أجب عن جميع الأسئلة التالية :

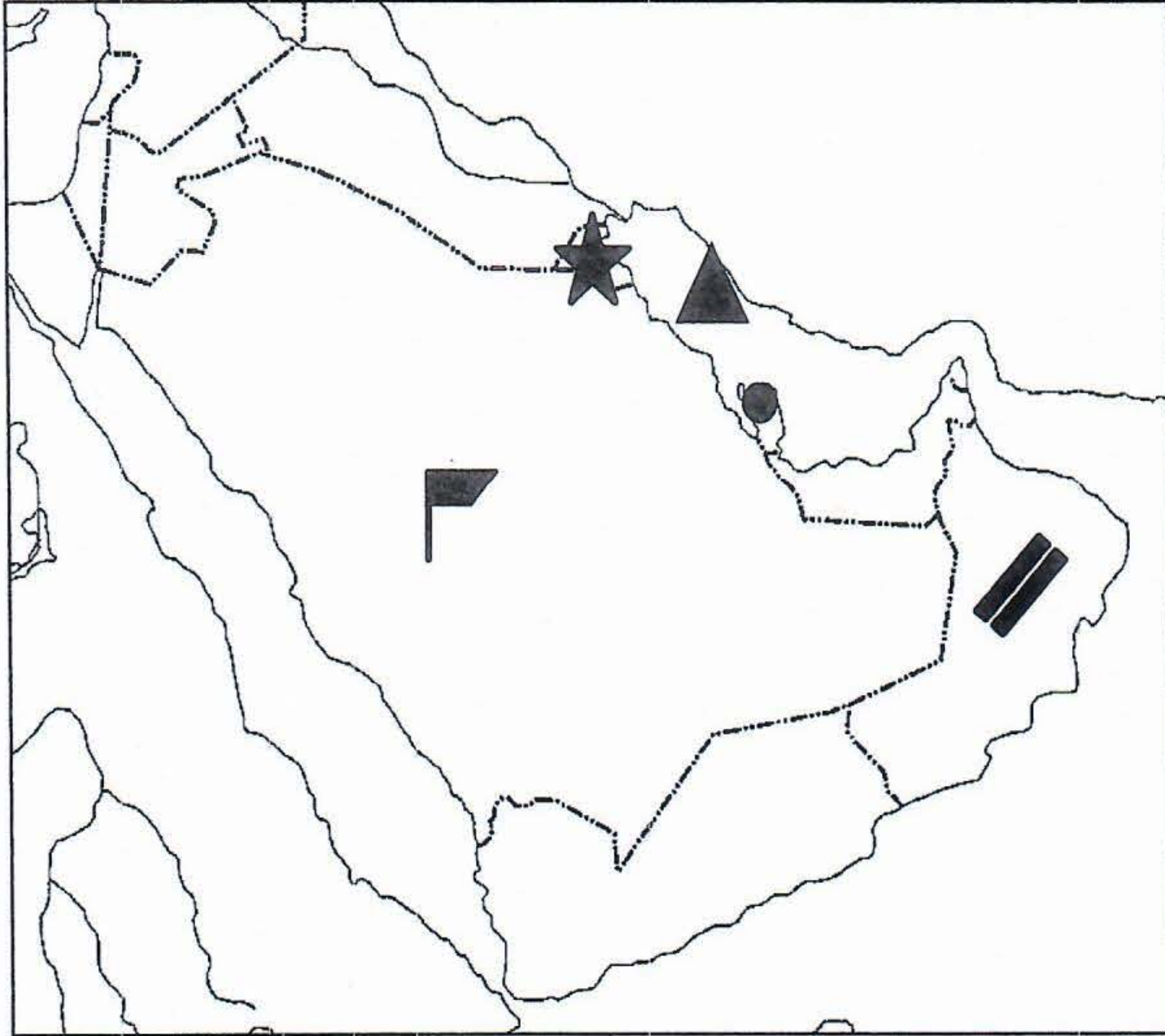
السؤال الأول: (يتكون من أ / ب / ج / د / هـ / و)

أ) صنف الهجرات التالية ومناطق استقرارها في الجدول التالي : ( لكل بند درجة )

آل صباح - آل خليفة - القواسم - المعاضيد - آل بوسعيد واليعاربة - بني ياس

مناطق الاستقرار	سلطنة عمان	قطر	الكويت	البحرين	رأس الخيمة	أبوظبي

ب) لاحظ خريطة شبة الجزيرة العربية ثم أجب عن الأسئلة التي تليها : ( لكل بند درجة )



- ١- الرمز يمثل مسطح مائي يسمى الخليج العربي .
- ٢- الرمز يمثل سهل في سلطنة عمان يسمى سهل الباطنة .
- ٣- الرمز يمثل أعلى دولة عربية خليجية في نسبة المواطنين تسمى السعودية .
- ٤- الرمز يمثل مدينة عربية خليجية صدر فيها اعلان قيام السوق الخليجية المشترك تسمى الدوحة .
- ٤- الرمز تمثل دولة عربية خليجية توجد بها منطقة الوفرة الزراعية أسمها الكويت



تابع امتحان مادة الاجتماعيات الصف السادس نهاية الفترة الدراسية الثانية العام الدراسي ٢٠١٧/٢٠١٨

(ج) إستخرج المفهوم التي تشير إليه المعادلات التالية : ( لكل بند درجة )

○	=	الإحباط	+	تربية الطفل الخاطئة		
○	=	عدد الوفيات	-	عدد المواليد		
○	=	مساحة الدولة	÷	عدد السكان		
○	=	يوم الخميس	+	٢ أغسطس ١٩٩٠		
○	=	مربية خدم	+	طباخ سائق		
○	=	النفط ومشتقاته	+	مخلفات المصانع	+	نفايات خطرة

(د) ظلّل الحرف (أ) إذا كانت العبارة صحيحة وظلل الحرف (ب) إذا كانت الإجابة خاطئة :

م	العبارة	(أ)	(ب)
١	اكتشاف النفط ساعد على النمو السكاني في منطقة الخليج العربي .		
٢	أصغر دول الخليج العربية من حيث المساحة مملكة البحرين .		
٣	عدد الآبار النفطية الكويتية التي أشعلها النظام العراقي البائد ٧٤٧ بئراً .		
٤	الدخل القومي هو مجموع الدخول التي تحصل عليها الدولة خلال عام .		
٥	توجد حضارة دلمون في دولة الكويت		
٦	حقل الغوار يوجد في سلطنة عمان		
٧	دولة الكويت تحتل المركز الأول بإنتاج النفط بين دول الخليج العربي حسب إحصاء ٢٠٠٨م		

تابع امتحان مادة الاجتماعيات الصف السادس نهاية الفترة الدراسية الثانية العام الدراسي ٢٠١٧/٢٠١٨

هـ ( اكمل العبارات التالية بما يناسبها :

- ١- العام الذي تم فيه تصدير أول شحنة من النفط الكويتي
- ٢- الدولة العربية الخليجية التي ظهرت فيها حضارة أم النار تسمى
- ٣- تنتمي أصول السلالات السكانية في منطقة الخليج العربية الى جنس البحر المتوسط وجنس منطقة تسمى
- ٤- العام الذي انشأ فيه مجلس التعاون الخليجي قوات درع الجزيرة
- ٥- نجحت المملكة العربية السعودية في إنتاج محصول يسمى
- ٦- الدولة العربية الخليجية الأولى في نسبة الوافدين تسمى

و) ظل الإجابة الصحيحة من بين البدائل في العبارات التالية :

١- توجد منطقة ليوا الزراعية في :

المملكة العربية السعودية	دولة الإمارات العربية المتحدة	قطر	البحرين
--------------------------	-------------------------------	-----	---------

٢- الدولة العربية الخليجية التي تحتل المركز الأول في عدد السكان :

الكويت	البحرين	قطر	المملكة العربية السعودية
--------	---------	-----	--------------------------

٣- بدأ التنقيب عن النفط بدولة الكويت في :

١٩٣٢	١٩٣٤	١٩٣٦	١٩٣٨
------	------	------	------

٤- توحيد المناهج التعليمية بين دول الخليج العربية تعتبر من مجالات التعاون:

الثقافي	الاقتصادي	السياسي	العسكري
---------	-----------	---------	---------

٥- يقع مقر مكتب التربية العربي في :

الدوحة	المنامة	مسقط	الرياض
--------	---------	------	--------

٦- كميات النفط المخزونة في باطن الأرض :

إنتاج النفط	تصدير النفط	احتياطي النفط	استيراد النفط
-------------	-------------	---------------	---------------





تابع امتحان مادة الاجتماعيات الصف السادس نهاية الفترة الدراسية الثانية العام الدراسي ٢٠١٧/٢٠١٨

السؤال الثاني : (يتكون من أ / ب)

(أ) عرف مايلي:

١- الصناعة

٢- الواردات

٣- التلوث الأرضي ( التربة)

٤- طبقة الأوزون

٥- إنتاج النفط

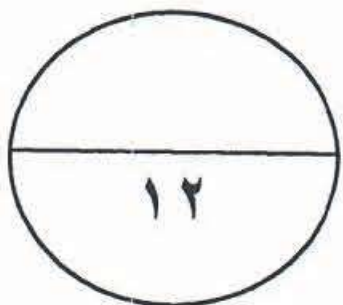
(أ) علل لما يلي:

١- قيام دول الخليج العربية بإقامة العديد من الموانئ النفطية .

٢- استقبلت منطقة الخليج العربية موجات سكانية من كل المناطق المجاورة .

٣- إنشاء مجلس التعاون الخليجي قوات درع الجزيرة .

٤- تزايد عدد السكان في دولة الكويت ودول الخليج العربية .



تابع امتحان مادة الاجتماعيات الصف السادس نهاية الفترة الدراسية الثانية العام الدراسي ٢٠١٧/٢٠١٨

السؤال الثالث : (يتكون من أ / ب)

أ) اكتب فيما يلي :

١- الروابط التي تربط أبناء دول الخليج العربية .

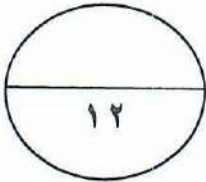
٢- التحديات التي تواجه دول الخليج العربية.

٣- أنواع الصناعات القائمة على النفط في دول الخليج العربية .

٤- أهم الدول المستوردة للنفط الكويتي .

ب) فرق بين كل مما يلي من حيث التعريف في الجدول التالي :- ص ٩٤

البيوت البلاستيكية	الزراعة بدون تربة







المقرر : الكويت ودول الخليج  
العربية  
الزمن : ساعة ونصف  
عدد الأوراق : ( ٥ )

نموذج الإجابة  
امتحان نهاية الفترة الدراسية الثانية  
للصف السادس  
للعام الدراسي ٢٠١٧ / ٢٠١٨

وزارة التربية  
الإدارة العامة لمنطقة الفروانية التعليمية  
التوجيه الفني للاجتماعيات

أجب عن جميع الأسئلة التالية :

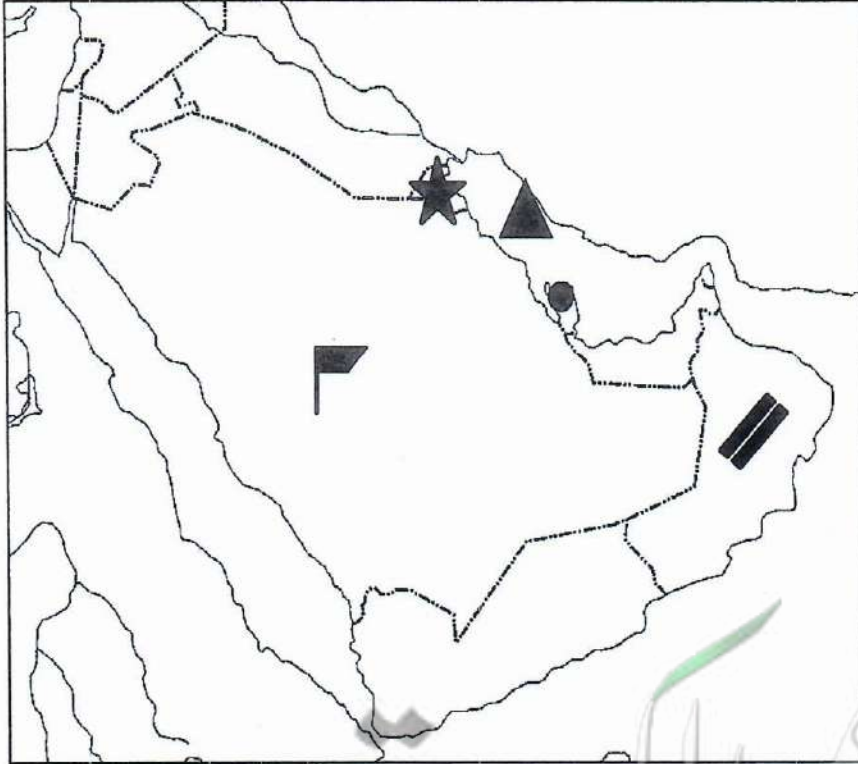
السؤال الأول: (يتكون من أ / ب / ج / د / هـ / و )

أ) صنف الهجرات التالية ومناطق استقرارها في الجدول التالي : ( لكل بند درجة ) ص ١٠٨

آل صباح - آل خليفة - القواسم - المعاضيد - آل بوسعيد واليعاربة - بني ياس

مناطق الاستقرار	سلطنة عمان	قطر	الكويت	البحرين	رأس الخيمة	أبوظبي
الهجرات	آل بوسعيد واليعاربة	المعاضيد	آل صباح	آل خليفة	القواسم	بني ياس

ب) لاحظ خريطة شبه الجزيرة العربية ثم أجب عن الأسئلة التي تليها : ( لكل بند درجة )



- ١- الرمز ▲ يمثل مسطح مائي يسمى الخليج العربي ( ص ٩٢ )
- ٢- الرمز // يمثل سهل في سلطنة عمان يسمى سهل الباطنة ( ص ٩٢ )
- ٣- الرمز ﬂ يمثل أعلى دولة عربية خليجية في نسبة المواطنين تسمى السعودية ( ص ١١٢ )
- ٤- الرمز ● يمثل مدينة عربية خليجية صدر فيها اعلان قيام السوق الخليجية المشترك تسمى الدوحة ( ص ١٣٠ )
- ٤- الرمز ★ تمثل دولة عربية خليجية توجد بها منطقة الوفرة الزراعية أسمها الكويت ص ٩٢

تابع امتحان مادة الاجتماعيات الصف السادس نهاية الفترة الدراسية الثانية العام الدراسي ٢٠١٧/٢٠١٨

(ج) إستخرج المفهوم التي تشير إليه المعادلات التالية : ( لكل بند درجة )

ص ١٤٦	العنف	=	الإحباط	+	تربية الطفل الخاطئة		
ص ١١٠	الزيادة الطبيعية	=	عدد الوفيات	-	عدد المواليد		
ص ١١٤	الكثافة السكانية	=	مساحة الدولة	÷	عدد السكان		
ص ١٣٩	الغزو العراقي على دولة الكويت	=	يوم الخميس	+	٢ أغسطس ١٩٩٠		
ص ١٤٢	العمالة المنزلية	=	مربية خدم	+	طباخ سائق		
ص ١٣٦	أسباب التلوث البحري	=	النفط ومشتقاته	+	مخلفات المصانع	+	نفايات خطرة

(د) ظل الحرف (أ) إذا كانت العبارة صحيحة وظلل الحرف (ب) إذا كانت الإجابة خاطئة :

م	العبارة	(أ)	(ب)
١	اكتشاف النفط ساعد على النمو السكاني في منطقة الخليج العربي. ص ١١٠		
٢	أصغر دول الخليج العربية من حيث المساحة مملكة البحرين . ص ١١٤		
٣	عدد الآبار النفطية الكويتية التي أشعلها النظام العراقي البائد ٧٤٧ بئراً . ص ١٣٩		
٤	الدخل القومي هو مجموع الدخول التي تحصل عليها الدولة خلال عام . ص ٩٥		
٥	توجد حضارة دلمون في دولة الكويت . ص ١٠٥		
٦	حقل الغوار يوجد في سلطنة عمان . ص ٩١		
٧	دولة الكويت تحتل المركز الأول بإنتاج النفط بين دول الخليج العربي حسب إحصاء ٢٠٠٨م ص ٨٨		



تابع امتحان مادة الاجتماعيات الصف السادس نهاية الفترة الدراسية الثانية العام الدراسي ٢٠١٧/٢٠١٨

هـ ( اكمل العبارات التالية بما يناسبها :

- ١- العام الذي تم فيه تصدير أول شحنة من النفط الكويتي ١٩٤٦ م . ص ٩٠
- ٢- الدولة العربية الخليجية التي ظهرت فيها حضارة أم النار تسمى قطر ص ١٠٥ .
- ٣- تنتمي أصول السلالات السكانية في منطقة الخليج العربية الى جنس البحر المتوسط و جنس منطقة تسمى شرق أفريقيا ص ١٠٥
- ٤- العام الذي انشأ فيه مجلس التعاون الخليجي قوات درع الجزيرة ١٩٨٤م ص ١٢٩ .
- ٥- نجحت المملكة العربية السعودية في إنتاج محصول يسمى القمح ص ٩٢ .
- ٦- الدولة العربية الخليجية الأولى في نسبة الوافدين تسمى الإمارات العربية المتحدة ص ١١٢ .

و) ظل الإجابة الصحيحة من بين البدائل في العبارات التالية :

١- توجد منطقة لبوا الزراعية في : ص ٩٢

المملكة العربية السعودية	دولة الإمارات العربية المتحدة	قطر	البحرين
--------------------------	-------------------------------	-----	---------

٢- الدولة العربية الخليجية التي تحتل المركز الأول في عدد السكان : ص ١١٤

الكويت	البحرين	قطر	السعودية
--------	---------	-----	----------

٣- بدأ التنقيب عن النفط بدولة الكويت في : ص ٨٧

١٩٣٢م	١٩٣٤م	١٩٣٦م	١٩٣٨م
-------	-------	-------	-------

٤- توحيد المناهج التعليمية بين دول الخليج العربية تعتبر من مجالات التعاون: ص ١٣٠

الثقافي	الاقتصادي	السياسي	العسكري
---------	-----------	---------	---------

٥- يقع مقر مكتب التربية العربي في : ص ١٣٠

الدوحة	المنامة	مسقط	الرياض
--------	---------	------	--------

٦- كميات النفط المخزونة في باطن الأرض : ص ٨٨

إنتاج النفط	تصدير النفط	احتياطي النفط	استيراد النفط
-------------	-------------	---------------	---------------

تابع امتحان مادة الاجتماعيات الصف السادس نهاية الفترة الدراسية الثانية العام الدراسي ٢٠١٧/٢٠١٨

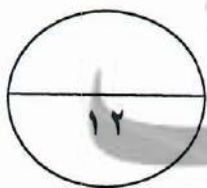
السؤال الثاني : (يتكون من أ / ب)

(أ) عرف مايلي:

- ١- الصناعة  
تحويل المواد الخام الى مواد يمكن الإستفادة منها ص ٩٥
- ٢- الواردات  
البضاعة والسلع التي تشتريها دولنا من الخارج ص ٩٩
- ٣- التلوث الأرضي ( التربة)  
دخول مواد غريبة في التربة مما يلحق الضرر في خواصها ومكوناتها ص ١٣٤
- ٤- طبقة الأوزون  
درع واق للأحياء ضد خطر الأشعة فوق البنفسجية الضارة ص ١٣٥
- ٥- إنتاج النفط  
كميات النفط التي يتم إستخراجها للإستفادة منها ص ٨٨

(أ) علل لما يلي:

- ١- قيام دول الخليج العربية بإقامة العديد من الموانئ النفطية . ص ٩٠  
تزايد الطلب العالمي على النفط وزيادة الإنتاج / مصدر أساسي للطاقة
- ٢- استقبلت منطقة الخليج العربية موجات سكانية من كل المناطق المجاورة . ص ١٠٨  
بسبب الموقع الجغرافي المهم
- ٣- إنشاء مجلس التعاون الخليجي قوات درع الجزيرة . ص ١٢٩  
حماية ومساندة أي دولة عضو في المجلس تتعرض للعدوان
- ٤- تزايد عدد السكان في دولة الكويت ودول الخليج العربية . ص ١١١  
توفر فرص العمل / السماح للوافدين بإصطحاب عائلاتهم / الأمن والأمان / ارتفاع الأجور / توفر الرعاية الصحية





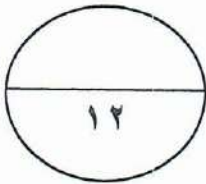
السؤال الثالث : (يتكون من أ / ب)

أ) اكتب فيما يلي :

- ١- الروابط التي تربط أبناء دول الخليج العربية .  
وحدة الأصل / التاريخ المشترك / العادات والتقاليد / الدين واللغة ص ١١٧
- ٢- التحديات التي تواجه دول الخليج العربية.  
الإعتماد على الموارد النفطية فقط / الغزو الثقافي / ندرة المياه الجوفية / الأمن الغذائي / التلوث البيئي / الأخطار الداخلية والخارجية ص ١٣٢
- ٣- أنواع الصناعات القائمة على النفط في دول الخليج العربية .  
البتروكيماويات / الغاز / تكرير النفط ص ٩٦
- ٤- أهم الدول المستوردة للنفط الكويتي .  
هولندا / اليابان / الولايات المتحدة الأمريكية ص ٩٠

ب) فرق بين كل مما يلي من حيث التعريف في الجدول التالي :- ص ٩٤

البيوت البلاستيكية	الزراعة بدون تربة
يزرع فيها الخضروات في غير مواسمها ( أوقاتها ) وتقوم بحماية المحاصيل من تقلبات الطقس	هي الزراعة التي تتم في بيئة مائية أو رملية أو حصى أو نشارة خشب تضاف إليها المحاليل الغذائية



السؤال الاول: ويتكون من ( أ - ب - ج - د - هـ - و )أ- اكمل العبارات التالية بما يناسبها :

١- اول حقل نفطى اكتشف في دولة الكويت عام ١٩٣٤

٢- سهل الباطنة منطقة زراعية تقع في دولة اسمها

٣- طبقة الغلاف الجوى التى تحمينا من الاشعة فوق البنفسجية تسمى

٤- أقل دولة خليجية في عدد السكان اسمها

٥- المحصول الزراعى الذى نجحت السعودية في زراعته يسمى

٦- ترجع اصول السلالات السكانية في منطقة الخليج الى جنس البحر المتوسط ومنطقة

ب - اقرأ العبارات التالية ثم صحح ماتحته خط فى خانة التصويب :

م	العبارة	التصويب
١	مجال التعاون العسكرى لدول مجلس التعاون الخليجى إنشاء قوات <u>درع العرب</u>	
٢	صدر إعلان الدوحة بشأن قيام السوق الخليجية المشتركة فى عام <u>٢٠٠٧ م</u> -	
٣	اعادة تصدير البضائع المستوردة يسمى <u>الواردات</u>	
٤	الدولة الخليجية التى ظهرت بها حضارة أم النار تسمى <u>الكويت</u>	
٥	الزراعة التى تتم فى بيئة مائية اونشارة خشب تسمى <u>زراعة محمية</u>	
٦	تم تصدير اول شحنة من النفط الكويتى عام <u>١٩٤٨م</u>	
٧	بلغ عدد الآبار النفطية الكويتية التى أحرقتها النظام العراقى البائد <u>٣٣٠</u> بئراً	
٨	يعتبر العنف مرض اجتماعى وهو عادة <u>موروثة</u>	



ج - اكمل المخططات السهمية التالية بما يناسبها :

١- اسباب التلوث البحري

Three empty rectangular boxes for answers.

( مخلفات المصانع - مياه الصرف الصحي - النفايات الخطرة - الامطار الحمضية )

٢- التشابه الثقافي بين دول الخليج العربية

Three empty rectangular boxes for answers.

التاريخ المشترك

٣- هجرات لمنطقة الخليج العربي

Three empty rectangular boxes for answers.

المعاضيد - ال بوسعيد - اليعاربه - بنى ياس

د- اكتب نوع التعاون الذي تمثله كل صورة فيما يلي:

( تعاون سياسى - تعاون إقتصادي - تعاون عسكري - تعاون ثقافى )



Four empty rectangular boxes for answers.

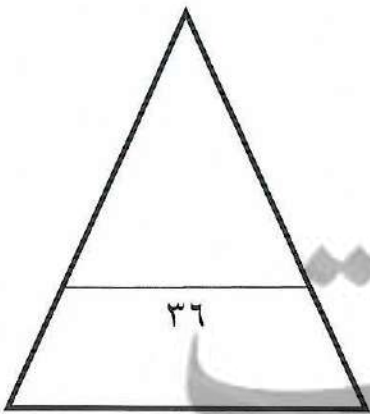
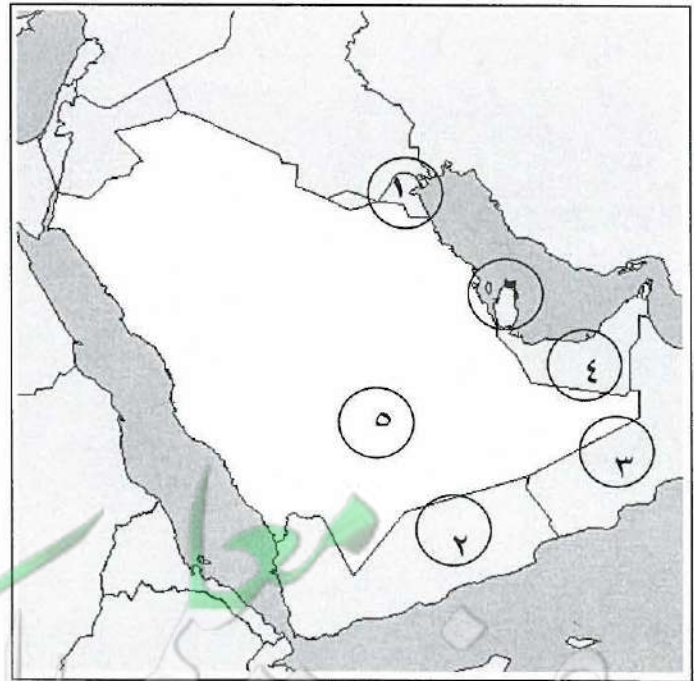
هـ صنف الحقول النفطية لدول الخليج العربية في الجدول التالي :

( العصب - الغوار - عوالى - الروضتين - بابل - دخان )

السعودية	البحرين	الامارات	عمان	الكويت	قطر

و - لاحظ خريطة شبه الجزيرة العربية التي امامك ثم اختر من الارقام مايتناسب مع العبارات التالية :

- ١- الدولة الخليجية التي تصنع النحاس يرمز لها الرقم ( )
- ٢- الدولة التي يقل فيها عدد الوافدين يرمز لها الرقم ( )
- ٣- منطقة هيلي التاريخية توجد في دولة خليجية يرمز لها الرقم ( )
- ٤- الدولة الخليجية التي تقع فيها منطقة العبدلى يرمز لها الرقم ( )
- ٥- الدولة الخليجية التي يوجد بها ميناء امسيعيد يرمز لها الرقم ( )





السؤال الثاني يتكون من ( أ - ب ) :

أ - علل لما يلي :

١- الأهمية الكبرى لاكتشاف النفط وتصديره في دول الخليج العربية

٢- إقامة الموانئ النفطية في دول الخليج العربية :


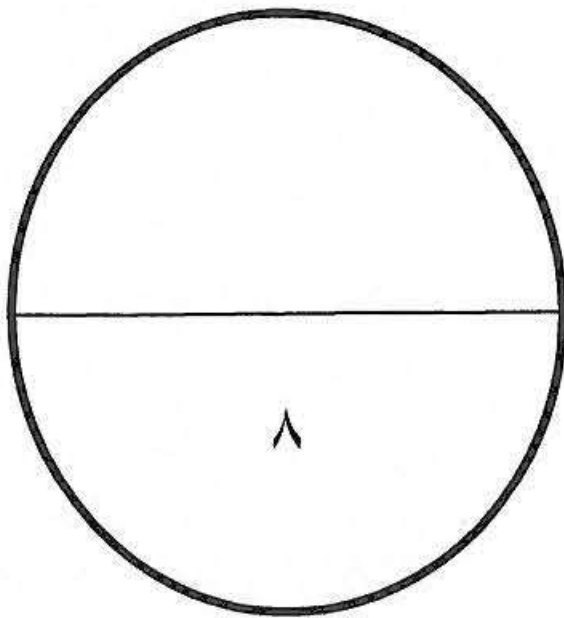
٣- زيادة نسبة الوافدين ( الهجرات ) في دول الخليج العربية :

ب- شاهد الصورة التي امامك ثم اجب عما يليها من اسئلة :

١- ما اسم التلوث الظاهر في الصورة :

٢- ما المصادر المسببة له :

:



السؤال الثالث يتكون من ( أ - ب - ج ) :

أ - قارن بين كلا مما يلي على حسب الجدول التالي :

الزيادة الطبيعية للسكان	الزيادة الطبيعية للسكان	اوجه المقارنة

ب - اجب عن الأسئلة التالية :

١- عرف مفهوم العنف :

٢- اذكر حلولاً لمشكلة العنف :

ج اقرأ الفقرة التالية ثم اجب عما يليها :

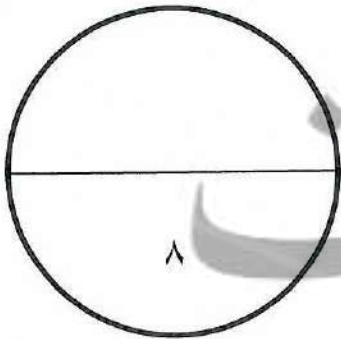
"انتشرت في المجتمعات الخليجية وأدت لظهور مشكلات عديدة "

١- عرف ماتحته خط :

- العمالة المنزلية :

٢- من مشكلات العمالة :

٣- اذكر حلاً واحداً من لمشكلة العمالة المنزلية :





العام الدراسي: ٢٠١٧م/٢٠١٨م  
الزمن : ساعة و ٤٥ دقيقة  
عدد الأوراق ( ٦ )

اجابة اختبار الفترة الدراسية الثانية  
للسف السادس  
مقرر الكويت ودول الخليج العربية

وزارة التربية  
الإدارة العامة لمنطقة حولي التعليمية  
التوجيه الفني للاجتماعيات

السؤال الاول: ويتكون من ( أ - ب - ج - د - ه - و )

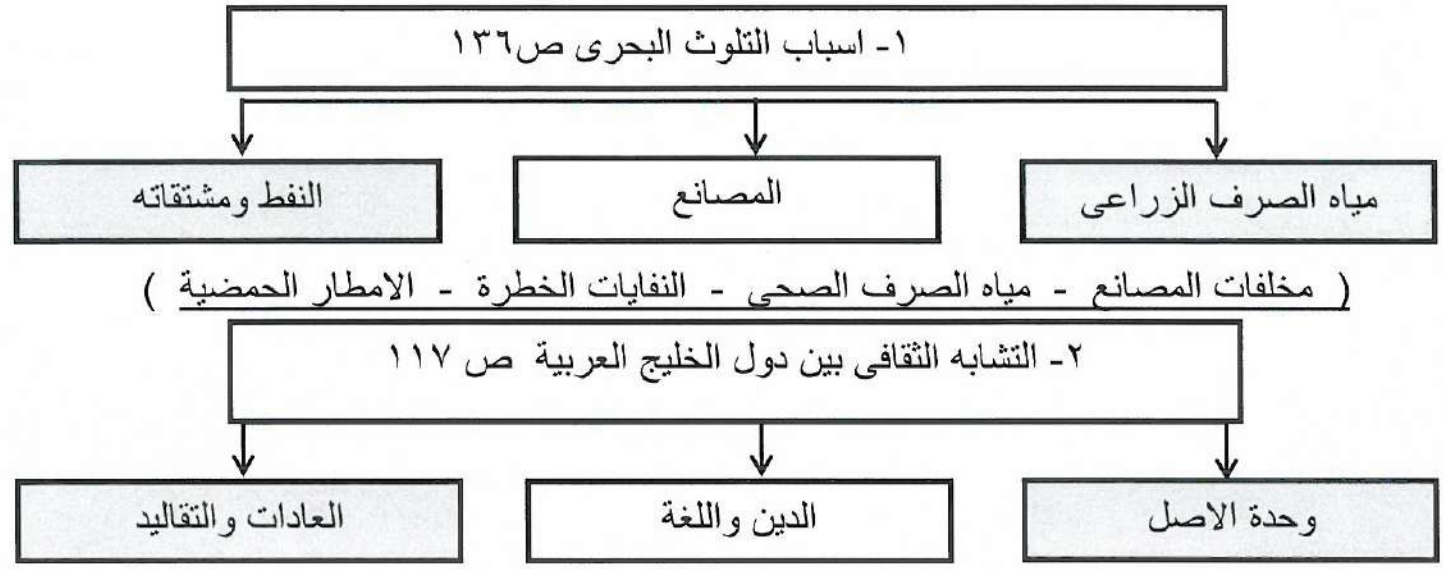
أ- اكمل العبارات التالية بما يناسبها :

- ١- اول حقل نفطى اكتشف في دولة الكويت عام ١٩٣٤ اسمه .....بحرة.....ص٨٧
- ٢- سهل الباطنة منطقة زراعية تقع في دولة اسمها .....عمان.....ص٩٢
- ٣- طبقة الغلاف الجوى التى تحمينا من الاشعة فوق البنفسجية تسمى .....الاوزون.....ص١٣٥
- ٤- أقل دولة خليجية في عدد السكان اسمها.....البحرين.....ص١١٤
- ٥- المحصول الزراعى الذى نجحت السعودية في زراعته يسمى .....القمح..... ص ٩٢
- ٦- ترجع اصول السلالات السكانية في منطقة الخليج الى جنس البحر المتوسط ومنطقة شرق افريقيا  
ص ١٠٥

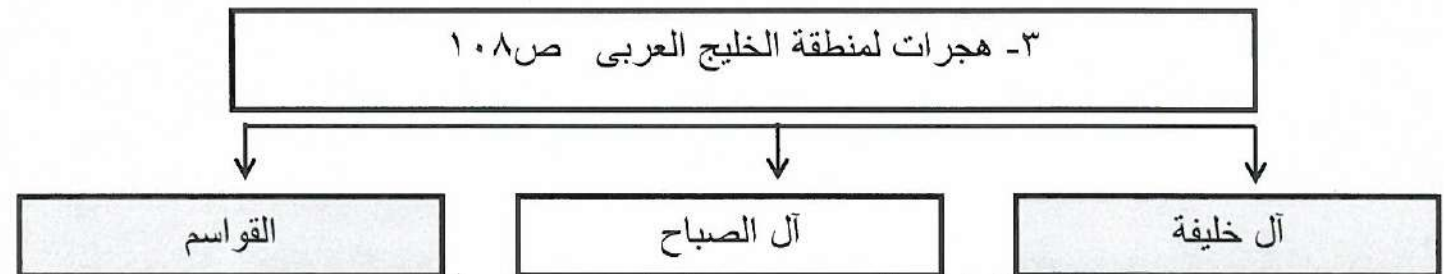
ب - اقرأ العبارات التالية ثم صحح ماتحته خط في خانة التصويب :

م	العبارة	التصويب
١	مجال التعاون العسكرى لدول مجلس التعاون الخليجى إنشاء قوات <u>درع العرب</u> ص١٢٩	درع الجزيرة
٢	صدر إعلان الدوحة بشأن قيام السوق الخليجية المشتركة فى عام <u>٢٠٠٧م</u> ص١٣٠	٢٠٠٨
٣	اعادة تصدير البضائع المستوردة يسمى <u>الواردات</u> ص٩٩	الترانزيت
٤	الدولة الخليجية التى ظهرت بها حضارة أم النار تسمى <u>الكويت</u> ص١٠٥	قطر
٥	الزراعة التى تتم فى بيئة مائية اونشارة خشب تسمى <u>زراعة محمية</u> ص ٩٤	زراعة بدون تربة
٦	تم تصدير اول شحنة من النفط الكويتى عام <u>١٩٤٨م</u> ص ٩٠	١٩٤٦
٧	بلغ عدد الآبار النفطية الكويتية التى أحرقتها النظام العراقى البائد <u>٣٣٠</u> بئراً ص١٣٩	٧٣٧
٨	يعتبر العنف مرض اجتماعى وهو عادة <u>موروثة</u> ص ١٤٦	متعلمة

ج - اكمل المخططات السهمية التالية بما يناسبها :



التاريخ المشترك



المعاضيد - آل بوسعيد - اليعاربة - بني ياس

د- اكتب نوع التعاون الذي تمثله كل صورة فيما يلي: ص ١٢٩

( تعاون سياسي - تعاون إقتصادي - تعاون عسكري - تعاون ثقافي )



تعاون عسكري

تعاون ثقافي

تعاون سياسي

تعاون إقتصادي



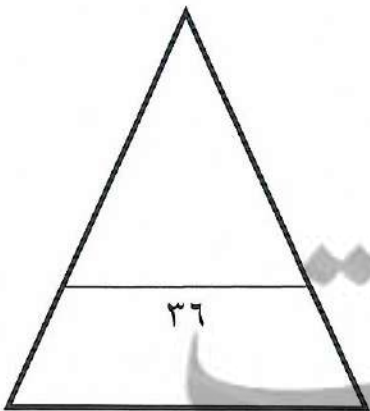
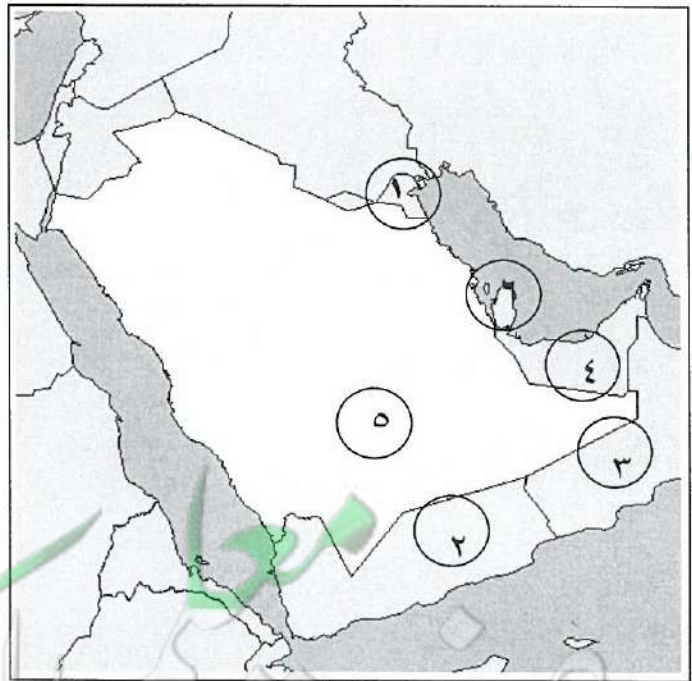
هـ صنف الحقول النفطية لدول الخليج العربية في الجدول التالي: ص ٩١

( العصب - الغوار - عوالى - الروضتين - بابل - دخان )

قطر	الكويت	عمان	الامارات	البحرين	السعودية
دخان	الروضتين	بابل	العصب	عوالى	الغوار

و - لاحظ خريطة شبه الجزيرة العربية التى امامك ثم اختر من الارقام مايتناسب مع العبارات التالية :

- ١- الدولة الخليجية التى تصنع النحاس يرمز لها الرقم ( ٣ ) ص ٩٦
- ٢- الدولة التى يقل فيها عدد الوافدين يرمز لها الرقم ( ٥ ) ص ١١٢
- ٣- منطقة هيلى التاريخية توجد فى دولة خليجية يرمز لها الرقم ( ٤ ) ص ٩١
- ٤- الدولة الخليجية التى تقع فيها منطقة العبدلى يرمز لها الرقم ( ١ ) ص ٩٢
- ٥- الدولة الخليجية التى يوجد بها ميناء امسيعد يرمز لها الرقم ( ٦ ) ص ٩١



السؤال الثاني يتكون من ( أ - ب ) :

أ - علل لما يلي :

١- الأهمية الكبرى لاكتشاف النفط وتصديره في دول الخليج العربية : ص ٩٥

\*.....نمو الاقتصاد.....\*

\*.....دور بارز في الدخل القومي.....\*

٢- إقامة الموانئ النفطية في دول الخليج العربية : ص ٩٩

\*.....تجارة الترانزيت - ارتفاع الدخل القومي للدول.....\*

\*.....علاقات تجارية مع دول العالم.....\*

٣- زيادة نسبة الوافدين ( الهجرات ) في دول الخليج العربية : ص ١١٠

\*.....توفر فرص العمل - ارتفاع دخل الفرد.....\*

\*.....الرعاية الصحية - الامن والامان - السماح للوافدين بإصطحاب عائلاتهم.....\*

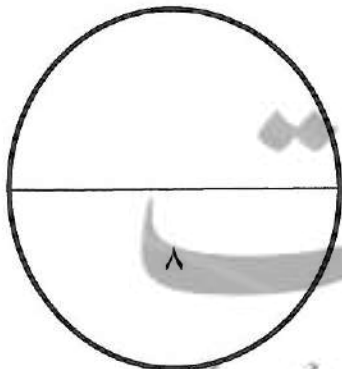

ب- شاهد الصورة التي امامك ثم اجب عما يليها من اسئلة :

١- ما اسم التلوث الظاهر في الصورة : ص ١٣٤

.....هوائى.....\*

٢- ما المصادر المسببة له :

سيارات - طائرات - مصانع - عواصف ترابية - براكين - حرق النفايات - المبيدات الحشرية





السؤال الثالث يتكون من ( أ - ب - ج ) :

أ – قارن بين كلا مما يلي على حسب الجدول التالي : ص ١١٠

الزيادة الطبيعية للسكان	الزيادة الطبيعية للسكان	أوجه المقارنة
تكون بسبب الهجرة	عدد المواليد – عدد الوفيات	التعريف

ب – اجب عن الأسئلة التالية :

١- عرف مفهوم العنف : ص ١٤٤

\* السلوك العدوانى الموجه ضد الغير والذي يتسبب بالتخريب والتدمير سواء كان < لك السلوك قوياً او فعلاً

٢- اذكر حلولاً لمشكلة العنف : ص ١٥٠

\*...الاهتمام بالقرآن والسنة – القدوة الحسنة  
\*...الاهتمام بالقراءة....

ج اقرأ الفقرة التالية ثم اجب عما يليها :

"انتشرت العمالة المنزلية فى المجتمعات الخليجية وأدت لظهور مشكلات عديدة "

١- عرف ماتحته خط :

- العمالة المنزلية : مجموعة من الافراد الذين يشاركون الاسرة فى دور او اكثر داخل المنزل او خارجه من خدم وسائقين ومربيات ....

٢- من مشكلات العمالة : \* السلوكيات الخاطئة. و ..التأثر بثقافتهم.....ص ١٤٢

٣- اذكر حلاً واحداً من لمشكلة العمالة المنزلية : ص ١٥٠

\*...الاهتمام بالقرآن والسنة.....كل فرد فى الاسرة يتحمل مسؤوليته.....

\*.....مهمة الخادم تقتصر على دوره الاساسى فى تحمل اعباء المنزل.....

السؤال الرابع يتكون من ( أ - ب ) :

أ - عرف المفاهيم التالية :

١- الثقافة :.....مجموعة العادات والتقاليد والقيم في مجتمع من المجتمعات.....ص ١١٨

٢- احتياط النفط ....كميات النفط المخزونة في باطن الارض.....ص ٨٨

٣- الصناعة .....تحويل المواد الخام الى مواد يمكن الاستفادة منها.....ص ٩٥

$\frac{\text{عدد السكان}}{\text{مساحة الدولة}}$
---

٤- الكثافة.. عدد السكان في الكيلومتر المربع.....

ص ١١٤

ب- اكتب نقطتين حول كلا من :

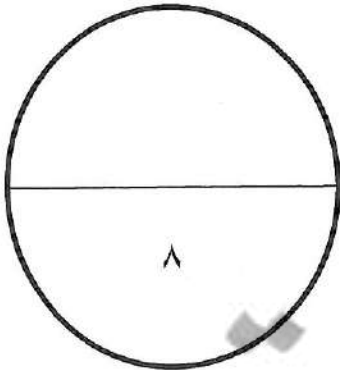
١- مظاهر التلوث الناتجة عن الغزو العراقي لدولة الكويت :ص ١٣٩

\*..تلوث البيئة البرية والبحرية والهوائية - ...تدمير الحياة الفطرية.....

\*....اشعال الآبار الذي سبب تلوثا شديدا للهواء - ..تأثر الانسان والكائنات الحية.....

٢- انواع الصناعات القائمة على النفط في دول الخليج العربية :ص ٩٧

• بتروكيماويات - الغاز - تكرير النفط





السؤال الرابع يتكون من ( أ - ب ) :

أ – عرف المفاهيم التالية :

١- الثقافة :

٢- احتياط النفط

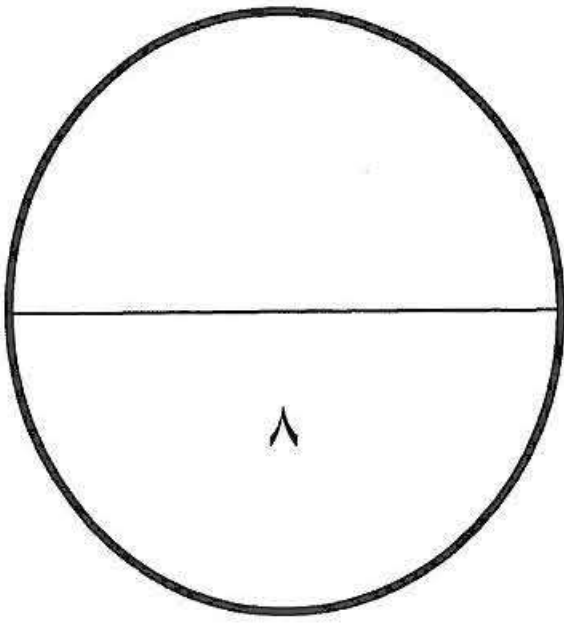
٣- الصناعة

٤- الكثافة

ب- اكتب نقطتين حول كلا من :

١- مظاهر التلوث الناتجة عن الغزو العراقي لدولة الكويت :

٢- انواع الصناعات القائمة على النفط في دول الخليج العربية :



العام الدراسي ٢٠١٧/٢٠١٨		وزارة التربية
الفصل الدراسي الثاني		منطقة مبارك الكبير التعليمية
الزمن / ساعة و ٤٥ دقيقة		التوجيه الفني للاجتماعيات

اختبار مادة الكويت ودول الخليج العربية ( الصف السادس )

٦

السؤال الاول موضوعي يتكون من (ا-ب):  
(ا) صحح ماتحته خط :

- ١) نجحت المملكة العربية السعودية في إنتاج محصول القطن  
 ٢) عدد الآبار النفطية التي اشعلها النظام العراقي البائد ٧٤٧ بئرا  
 ٣) البعثة التي اكتشفت الاثار الحضارية في منطقة الخليج العربية هي البعثة البريطانية


٤) كميات النفط التي يتم استخراجها للاستفادة منها تسمى احتياطي النفط  
 ٥) العنف ظاهرة موروثة

٤


٦) تعرضت دولة الكويت للغزو العراقي الغاشم في عام ١٩٩٢

(ب) اكمل المخططات السهمية التالية:

الصناعات القائمة على النفط في دول الخليج العربية



انواع التلوث البيئي

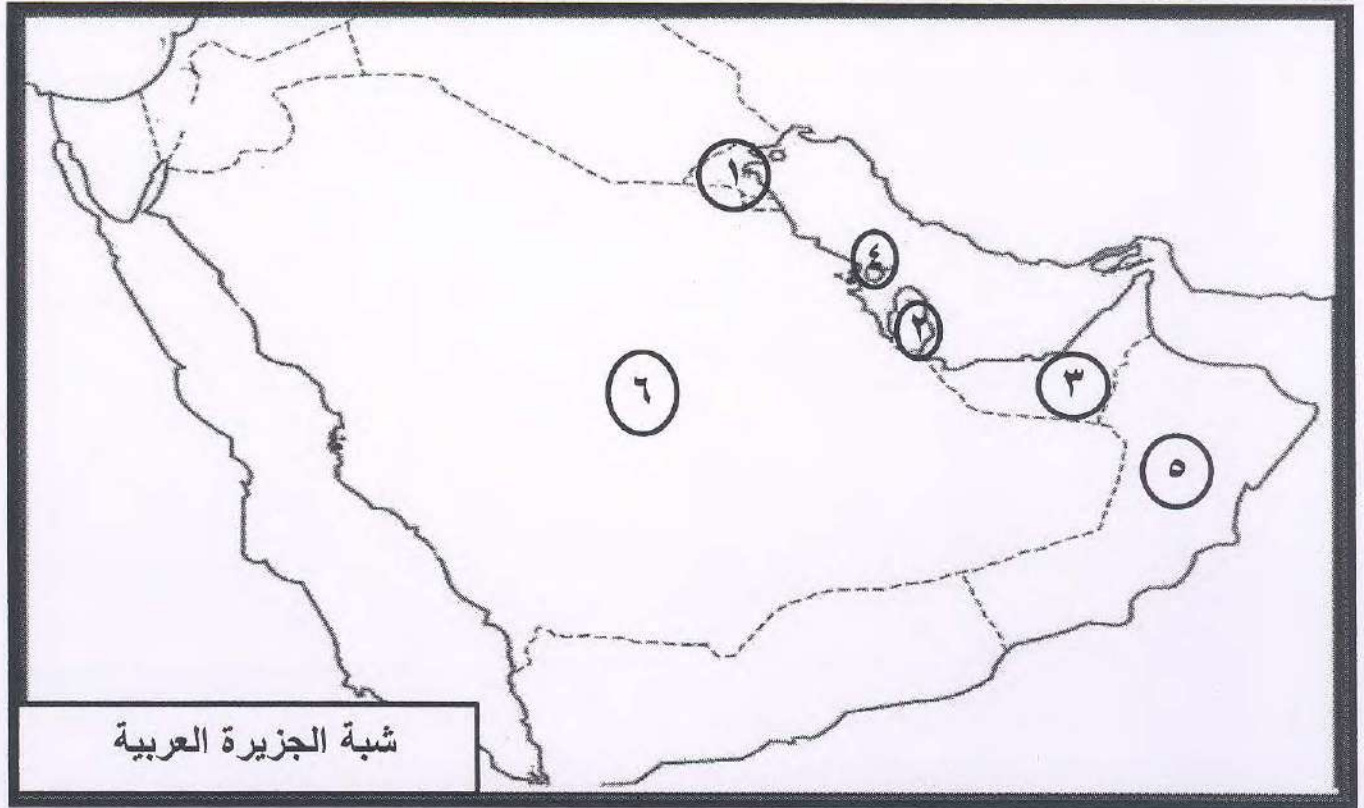


١٠

1



السؤال الثاني: موضوعي و يتكون من ( ١ - ب ) :  
(١) أمامك خريطة شبه الجزيرة العربية الصماء ثم نفذ ما هو مطلوب منك



٥

- ١- يقع ميناء الفحل في دولة خليجية تحمل الرقم ٥
- ٢- تقع منطقة الشعيب الصناعية في دولة خليجية تحمل الرقم ١
- ٣- الدولة الخليجية الاعلى من حيث الكثافة السكانية تحمل الرقم ٤
- ٤- مدينة خليجية تم فيها صدور قيام السوق الخليجية المشتركة تحمل الرقم ٢
- ٥- الدولة الخليجية الاعلى في نسبة الوافدين تحمل الرقم ٣

٥



(ب) أكتب المصطلح العلمي المناسب في الفراغات التالية :

- (١) ( ) هو الضرر الذي يصيب عناصر البيئة الاساسية (هواء ، ماء ، تربة )  
فتتحول من عناصر مفيدة الى عناصر ضارة .
- (٢) ( ) هي درع واقى من الاحياء ضد خطر الاشعة فوق البنفسجية .
- (٣) ( ) مجموعة من العادات والتقاليد والقيم في مجتمع من المجتمعات .
- (٤) ( ) مجموعة من الناس ترتبط فيما بينها في الصفات الجسمانية الرئيسية .
- (٥) ( ) السلوك العدوانى الموجة ضد الغير .

١٠

السؤال الثالث : موضوعي ويتكون من (ا- ب):

(ا) لاحظ الصور التالية ثم استنتج عوامل زيادة اعداد السكان في منطقة الخليج العربية :



\_\_\_\_\_

\_\_\_\_\_

\_\_\_\_\_

\_\_\_\_\_

5

(ب) صنف الكلمات التالية في مكانها الصحيح في الجدول التالي:  
( سيارات وطائرات ، براكين ، الصناعة ، عواصف ترابية ، حرق النفايات )

مصادر تلوث الهواء	
طبيعية	غير طبيعية
_____	_____



السؤال الرابع : موضوعي ويتكون من ( ا ب ):

٣

( أ ) ساعد منصور للتوصليل بين المفهوم والتعريف المناسب له :



الواردات

١- السلع والمنتجات التي تبيعها دولنا في الخارج

الصادرات

٢- إعادة تصدير البضائع

ترانزيت

٣- البضائع والسلع التي تشتريها دولنا من الخارج

ب) أكمل العبارات التالية بما يناسبها من كلمات :

١- بدأ عمليات التنقيب عن النفط في دولة الكويت في حقل يسمى

٣

٢- ظهرت في البحرين حضارة تسمى

٣- أعلى دولة خليجية في نسبة المواطنين هي

٦

٣٦

4

٣

السؤال الخامس: مقالتي و يتكون من (ا،ب،ج):

(أ) علل لما يأتي:

(١) إقامة دول الخليج العربية للعديد من الموانئ النفطية .

(٢) استقبال حوض الخليج العربي موجات سكانية من كل المناطق المجاورة .

(٣) حدوث التلوث البحري.

٤

(ب) فسر المفاهيم التالية :

١- كثافة سكانية:

٢- دخل قومي :

٣- عمالة منزلية :

٤- صناعة :

٣

(ج) انظر للصورة التي أمامك ثم أجب عن الأسئلة التالية :

- ما المقصود بالتلوث الارضي؟



- ما النتائج المترتبة على التلوث الارضي؟

١٠



العام الدراسي ٢٠١٧/٢٠١٨		وزارة التربية
الفصل الدراسي الثاني		منطقة مبارك الكبير التعليمية
الزمن / ساعة و٤٥ دقيقة		التوجيه الفني للاجتماعيات

اختبار مادة الكويت ودول الخليج العربية ( الصف السادس )

٦

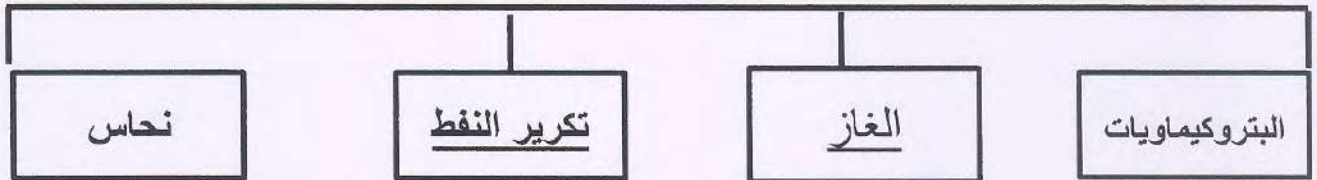
السؤال الاول موضوعي يتكون من (ا-ب):  
(ا) صحح ماتحته خط :

- ١) نجحت المملكة العربية السعودية في إنتاج محصول القطن (القمح ص ٩٢)
- ٢) عدد الآبار النفطية التي اشعلها النظام العراقي البائد ٧٤٧ بئرا (٧٣٧ ص ١٣٩).
- ٣) البعثة التي اكتشفت الاثار الحضارية في منطقة الخليج العربية هي البعثة البريطانية (الدنماركية ص ١٠٥)
- ٤) كميات النفط التي يتم استخراجها للاستفادة منها تسمى احتياطي النفط ( انتاج النفط ) ص ٨٨
- ٥) العنف ظاهرة موروثة ( متعلمة ص ١٤٦)
- ٦) تعرضت دولة الكويت للغزو العراقي الغاشم في عام ١٩٩٢ (١٩٩١ ص ١٣٩)

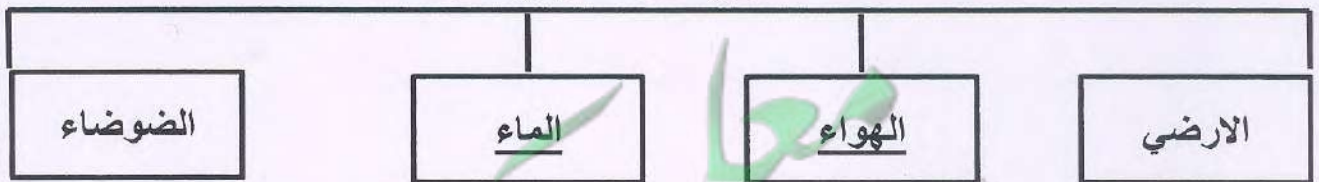
٤

(ب) اكمل المخططات السهمية التالية:

الصناعات القائمة على النفط في دول الخليج العربية ص ٩٧



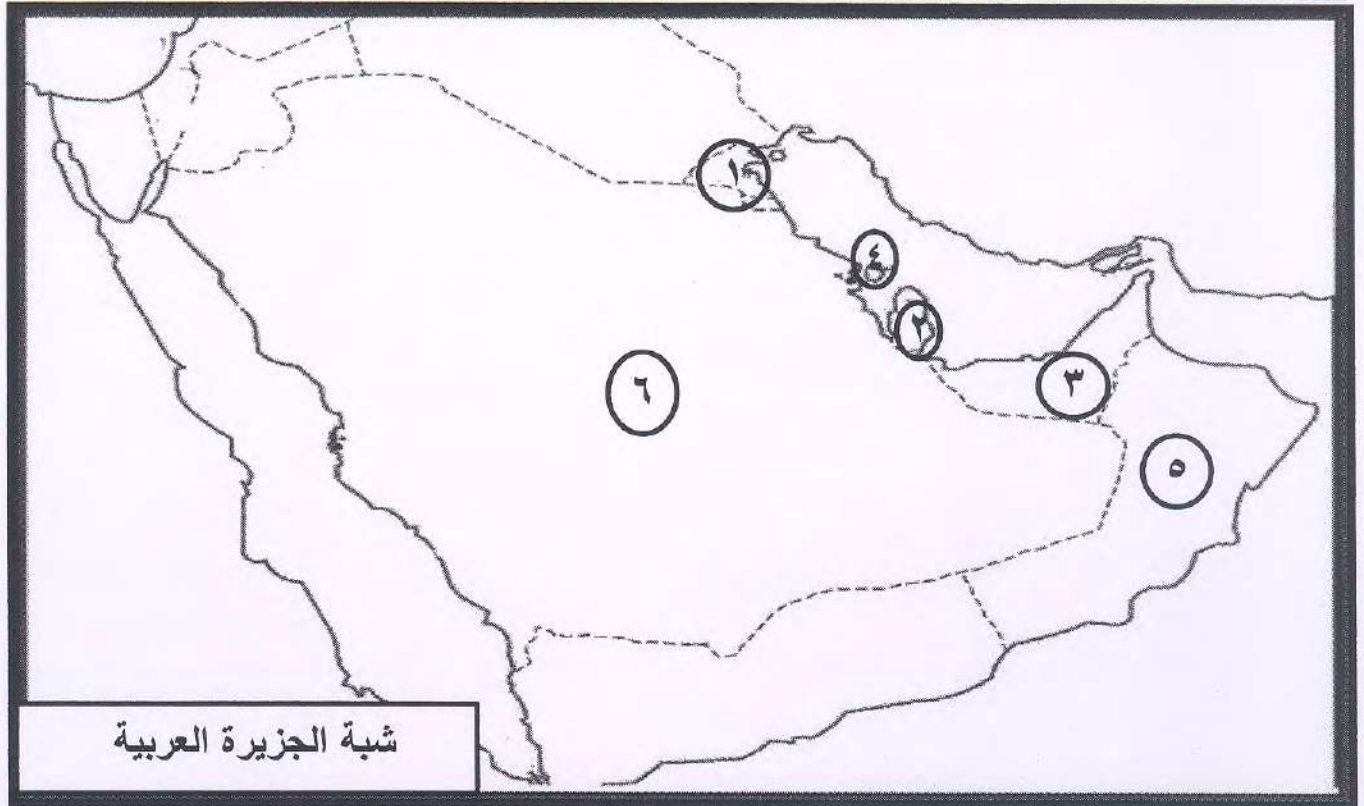
انواع التلوث البيئي ص ١٣٣



١٠

1

السؤال الثاني: موضوعي و يتكون من ( ١ - ب ) :  
(١) أمامك خريطة شبه الجزيرة العربية الصماء ثم نفذ ما هو مطلوب منك



٥

- ١- يقع ميناء الفحل في دولة خليجية تحمل الرقم ٥ سلطنة عمان ص ٩٧
- ٢- تقع منطقة الشعيب الصناعية في دولة خليجية تحمل الرقم ١ دولة الكويت ص ٩٢
- ٣- الدولة الخليجية الاعلى من حيث الكثافة السكانية تحمل الرقم ٤ البحرين ص ١١٤
- ٤- مدينة خليجية تم فيها صدور قيام السوق الخليجية المشتركة تحمل الرقم ٢ الدوحة ص ١٣٠ .
- ٥- الدولة الخليجية الاعلى في نسبة الوافدين تحمل الرقم ٣ الامارات ص ١١٢

٥

(ب) أكتب المصطلح العلمي المناسب في الفراغات التالية :

- (١) (التلوث ص ١٣٣) هو الضرر الذي يصيب عناصر البيئة الاساسية (هواء ، ماء ، تربة )  
فتتحول من عناصر مفيدة الى عناصر ضارة .
- (٢) (طبقة الاوزون ص ١٣٥) هي درع واقى من الاحياء ضد خطر الاشعة فوق البنفسجية .
- (٣) ( الثقافة ص ١١٨) مجموعة من العادات والتقاليد والقيم في مجتمع من المجتمعات .
- (٤) (السلالة ص ١٠٦) مجموعة من الناس ترتبط فيما بينها في الصفات الجسمانية الرئيسية .
- (٥) (العنف ص ١٤٤) السلوك العدوانى الموجة ضد الغير .


١٠

2




٥


السؤال الثالث : موضوعي ويتكون من (ا- ب) :ص ١١١  
(ا) لاحظ الصور التالية ثم استنتج عوامل زيادة اعداد السكان في منطقة الخليج العربية :



توفر فرص العمل



زيادة عدد المواليد



ارتفاع الاجور



توفر الرعاية الصحية



الامن والامان

٥

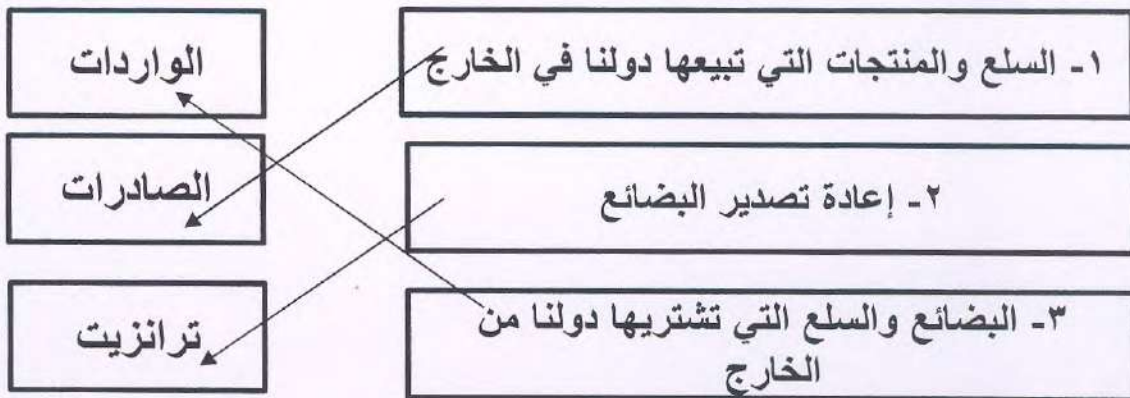
(ب) صنف الكلمات التالية في مكانها الصحيح في الجدول التالي:ص ١٣٤  
( سيارات وطائرات ، براكين ، الصناعة ، عواصف ترابية ، حرق النفايات )

مصادر تلوث الهواء	
طبيعية	غير طبيعية
<u>عواصف ترابية</u> <u>براكين</u>	<u>سيارات وطائرات ، حرق النفايات ،</u> <u>الصناعة</u>

السؤال الرابع : موضوعي ويتكون من ( ١ ب ):

٣

( أ ) ساعد منصور للتوصليل بين المفهوم والتعريف المناسب له :ص ٩٩



ب) أكمل العبارات التالية بما يناسبها من كلمات :

١- بدأ عمليات التنقيب عن النفط في دولة الكويت في حقل يسمى بحرة ص ٨٧

٢- ظهرت في البحرين حضارة تسمى دلمون ص ١٠٥.

٣- أعلى دولة خليجية في نسبة المواطنين هي السعودية ص ١١٢.

٣

٦

٣٦

4



٣

السؤال الخامس :مقالى و يتكون من (ا،ب،ج):  
أ) علل لما يأتى :

- ١) إقامة دول الخليج العربية للعديد من الموانئ النفطية .ص ٩٠  
-تزايد الانتاج النفطي  
-تزايد الطلب العالمي

- ٢) استقبال حوض الخليج العربي موجات سكانية من كل المناطق المجاورة . ص ١٠٨  
- بحكم موقعه الجغرافى المهم بين قارات العالم القديم

٤


- ٣) حدوث التلوث البحرى .ص ١٣٦  
-مخلفات المصانع/مياه الصرف الصحى الغير معالجة / النفط ومشتقاته/مياه الصرف  
الزراعى /النفط ومشتقاته/ النفايات الخطرة /الامطار الحمضية.

ب) فسر المفاهيم التالية :

- ١- كثافة سكانية: عدد السكان في الكيلومتر المربع وتقاس بقسمة عدد السكان على مساحة الدولة ص ١١٤  
٢- دخل قومي : مجموعة الدخول التي تحصل عليها الدولة خلال عام ص ٩٥  
٣- عمالة منزلية : مجموعة من الافراد الذين يشاركون الاسرة في دور او اكثر داخل المنزل او خارجه ص ١٤٢  
٤- صناعة : تحويل المواد الخام الى مواد يمكن الاستفادة منها ص ٩٥

٣

ج) انظر للصورة التي أمامك ثم أجب عن الأسئلة التالية : ص ١٣٤



- ما المقصود بالتلوث الارضى؟  
دخول مواد غريبة في التربة مما يلحق الضرر في  
خواصها ومكوناتها

- ما النتائج المترتبة على التلوث الارضى؟  
ضعف قدرتها على الانتاج الزراعى  
- تلوث الانتاج الزراعى مما يؤثر على صحة الانسان

١٠



السؤال السادس: مقالتي و يتكون من (أ، ب- ج) :  
 (أ) فرق بين كل مما يلي من حيث التعريف:

بيوت بلاستيكية ص ٩٤	زراعة بدون تربة ص ٩٤
<u>يزرع فيها الخضراوات في غير مواسمها وتقوم بحماية المحاصيل من تقلبات الطقس</u>	<u>الزراعة التي تتم في بيئة مائية او رملية او حصى او نشارة خشب تضاف اليها المحاليل الغذائية</u>
زيادة غير طبيعية	زيادة طبيعية ص ١١٠
<u>الهجرة</u>	<u>عدد المواليد على عدد الوفيات</u>

(ب) أكتب نقطتين فيما يلي :

- ١) الروابط التي تربط بين أبناء دول الخليج العربية ص ١١٧ + ص ١٢٠ \*  
 \* التاريخ المشترك / الدين واللغة / \* وحدة الاصل / العادات والتقاليد.
  - ٢) مظاهر التلوث الناتجة عن الغزو العراقي لدولة الكويت ١٣٩ \*  
 \* تساقط الرذاذ النفطي على التربة ( تلوث التربة ) / اشتعال الابار و الدخان (تلوث هوائي)  
 \* ضخ النفط في مياة البحر بسبب تلوث للتربة وتدمير للحياة الفطرية/ اثار خطيرة على صحة الانسان
  - ٣) اهم الحضارات الموجودة في شبة الجزيرة العربية ١٠٥ \*  
 \* هيلي في الامارات / أم النار قطر / ودبا عمان / تاروت السعودية/ دلمون البحرين
  - ٤) مظاهر التعاون بين دول مجلس التعاون الخليجي في المجال الثقافي. ص ١٣٠ \*  
 \* توحيد المناهج/ انشاء مكتب التربية العربي/ اجتمع وزراء التربية لدى دول الخليج كل عامين لوضع السياسات
- (ج) اقرأ الفقرة ثم اجب عن ما يلي: ص ٩٠
- ((تم تصدير اول شحنة من النفط الكويتي عام ١٩٤٦ في عهد الشيخ احمد الجابر رحمه الله ومن اهم الدول المستوردة الولايات المتحدة الامريكية و هولندا و اليابان))

١- متى تم تصدير اول شحنة من النفط الكويتي؟

\* ١٩٤٦

٢- في عهد أي من حكام دولة الكويت تم تصديرها؟

\* الشيخ احمد الجابر





السؤال السادس: مقالي و يتكون من (أ، ب-ج) :  
أ) فرق بين كل مما يلي من حيث التعريف:

بيوت بلاستيكية	زراعة بدون تربة
زيادة غير طبيعية	زيادة طبيعية

ب) أكتب نقطتين فيما يلي :

١) الروابط التي تربط بين أبناء دول الخليج العربية .

٢) مظاهر التلوث الناتجة عن الغزو العراقي لدولة الكويت .

٣) اهم الحضارات الموجودة في شبة الجزيرة العربية .

٤) مظاهر التعاون بين دول مجلس التعاون الخليجي في المجال الثقافي.

ج) اقرأ الفقرة ثم اجب عن ما يلي:

((تم تصدير اول شحنة من النفط الكويتي عام ١٩٤٦ في عهد الشيخ احمد الجابر رحمه الله ومن اهم الدول المستوردة الولايات المتحدة الامريكية و هولندا و اليابان))

١- متى تم تصدير اول شحنة من النفط الكويتي؟

٢- في عهد أي من حكام دولة الكويت تم تصديرها؟







وزارة التربية

الإدارة العامة لمنطقة الأحمدية التعليمية  
التوجيه الفني للاجتماعيات

امتحان نهاية الفترة الدراسية الثانية

للمصف السادس المتوسط (الكويت ودون حبيج العربية)

لمادة الاجتماعيات للعام الدراسي ٢٠١٧م - ٢٠١٨م

الزمن: ساعة وخمس واربعون دقيقة

عدد الاوراق: (٥ صفحات)

### السؤال الأول: موضوعي يتكون من (أ- ب )

(أ) ضع خطا تحت الخيار الصحيح من بين الخيارات التي تلي كل عبارة: (٦ درجات لكل نقطه درجة)

- ١- يقع حقل بحرة النفط في دولة الكويت في جهة  
أ- الشمال      ب- الشرق      ج- الجنوب      د- الغرب
- ٢- تقع منطقة سهل الباطنة في دولة  
أ- الامارات      ب- عمان      ج- الكويت      د- قطر
- ٣- بدأ التنقيب عن النفط في دولة الكويت عام  
أ- ١٩٣٤م      ب- ١٩٣٥م      ج- ١٩٣٦م      د- ١٩٣٧م
- ٤- عدد الآبار النفطية التي أشعلها النظام العراقي البائد أكثر من  
أ- ٦٣٦      ب- ٧٣٧      ج- ٨٣٨      د- ٩٣٩
- ٥- الدولة التي تحتل المركز الأول في عدد السكان بالنسبة الى دول الخليج العربية  
أ- عمان      ب- الكويت      ج- قطر      د- السعودية
- ٦- المدينة التي تم فيها الاعلان عن قيام السوق الخليجية المشتركة هي  
أ- الرياض      ب- الكويت      ج- ابوظبي      د- الدوحة

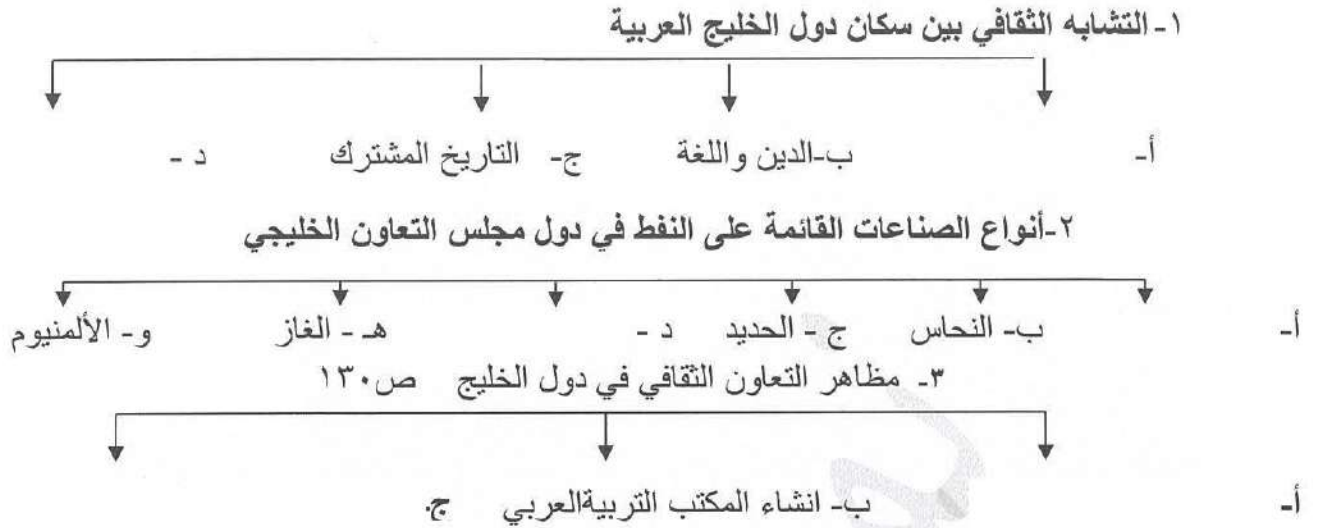
(ب) أكمل العبارات التالية بما يناسبها مما درست : (٦ درجات لكل نقطه درجة)

- ١- أنشأ مجلس التعاون الخليجي قوات درع الجزيرة في عام
- ٢- تحتل دوله الكويت بالنسبة الى دول الخليج العربية من حيث المساحة المركز
- ٣- تقع حضارة تاروت في دولة تسمى السعودية
- ٤- تم تصدير أول شحنة من النفط الكويتي عام
- ٥- أعلى دوله خليجية في نسبه الوافدين وفقا لإحصاء ٢٠٠٦م
- ٦- مقر انشاء مكتب التربية العربي لمجلس التعاون الخليجي في مدينة



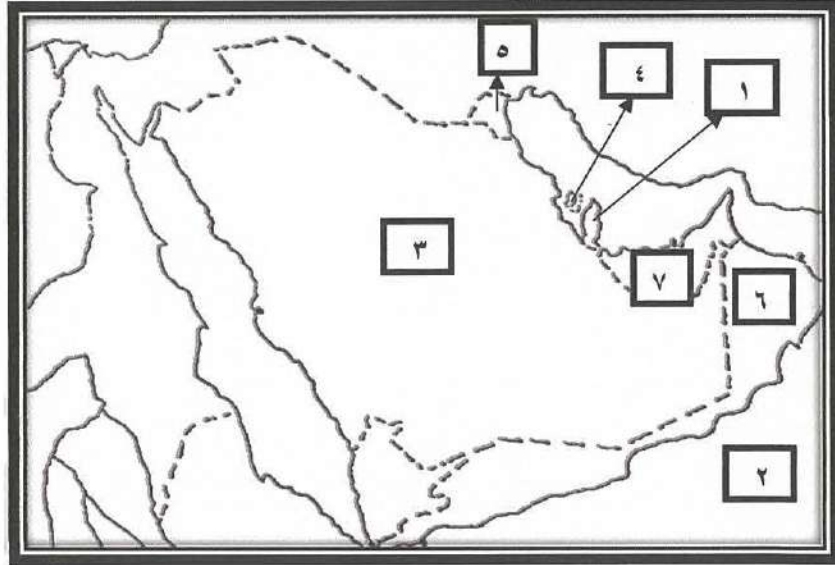
السؤال الثاني: موضوعي يتكون من ( أ – ب )

(أ) أكمل الفراغات في المخططات السهمية التالية بما يناسبها مما درست: (٦ درجات لكل نقطه درجة)



(ب) لاحظ خريطة شبه الجزيرة العربية الصماء ثم اكمل ما يلي مستعينا بالأرقام الموضحة على الخريطة:

( ٦ درجات لكل نقطه درجة )



١- بحر العرب يمثله على الخريطة رقم

٢- الدولة الخليجية الأقل في عدد السكان يمثها على الخريطة الرقم

٣- حضارة أم النار يمثها على الخريطة الرقم

٤- الدولة الرائدة في انتاج محصول القمح يمثها على الخريطة الرقم

٥- الدولة الخليجية التي تعرضت للعدوان العراقي الغاشم يمثها على الخريطة الرقم

٦- ميناء الفحل يقع في دولة خليجية يمثها على الخريطة الرقم

**السؤال الثالث : يتكون من ( أ - ب )**

**( أ ) صحح ما تحته خط في العبارات التالية بكتابة الإجابة الصحيحة بين القوسين : ( ٦ درجات لكل نقطه درجة)**

- ١- الزراعة التي تتم في بيئة مائية أو رملية أو حصى تعرف بالزراعة البلاستيكية ( )
- ٢- مجموعة من العادات والتقاليد والاخلاقيات في مجتمع من المجتمعات تسمى التاريخ المشترك ( )  
ص ١١٨
- ٣- عدد المواليد ناقص عدد الوفيات تعريف لمفهوم الزيادة الغير طبيعية ( )
- ٤- مجموع الدخول التي تحصل عليها الدولة خلال عام تطلق على مفهوم الكثافة السكانية ( )  
ص ٩٥
- ٥- تحويل المواد الخام إلى مواد يمكن الاستفادة منها يعرف بالتجارة ( )
- ٦- مجموعة من الناس تشترك فيما بينها في الصفات الجسمانية الرئيسية وتختلف عن غيرها هي ( )

**(ب) صنف الهجرات التالية حسب مكانها المناسب في الجدول التالي: (٦ درجات لكل نقطه درجة)**

(آل صباح - آل خليفة - آل بوسعيد واليعاربة - بني ياس - المعاضيد - القواسم)

سلطنة عمان	قطر	رأس الخيمة	الكويت	ابو ظبي	البحرين



السؤال الرابع: مقالي و يتكون من ( أ - ب): (٦ درجات لكل نقطه درجة)  
(أ) فرق بين كل مما يلي:

احتياطي النفط	انتاج النفط
الواردات	الصادرات
الكثافة السكانية	النمو السكاني

(ب) ما النتائج المترتبة على كل مما يلي: (٦ درجات لكل نقطه درجة)

١- التلوث الارضي(التربة).

٢- الغزو العراقي على دولة الكويت وأثره على البيئة .

٣- ارتباط دول مجلس التعاون بعلاقات تجارية مع دول العالم وفيما بينها.



وزارة التربية

الإدارة العامة لمنطقة الأحمدية التعليمية  
التوجيه الفني للاجتماعيات

نموذج إجابة امتحان نهاية الفترة الدراسية الثانية

للسف السادس المتوسط (الكويت ودول الخليج العربية)

لمادة الاجتماعيات للعام الدراسي (٢٠١٧-٢٠١٨) م

الزمن: ساعة وخمس وأربعون دقيقة

عدد الاوراق: (٥ صفحات)



### السؤال الأول: موضوعي يتكون من (أ- ب )

(أ) ضع خطأ تحت الخيار الصحيح من بين الخيارات التي تلي كل عبارة: (٦ درجات لكل نقطه درجة)

- ١- يقع حقل بحرة النفط في دولة الكويت في جهة  
أ- الشمال      ب- الشرق      ج- الجنوب      د- الغرب  
ص ٨٧
- ٢- تقع منطقة سهل الباطنة في دولة  
أ- الامارات      ب- عمان      ج- الكويت      د- قطر  
ص ٩٣
- ٣- بدأ التنقيب عن النفط في دولة الكويت عام  
أ- ١٩٣٤م      ب- ١٩٣٥م      ج- ١٩٣٦م      د- ١٩٣٧م  
ص ٨٧
- ٤- عدد الآبار النفطية التي أشعلها النظام العراقي البائد أكثر من  
أ- ٦٣٦      ب- ٧٣٧      ج- ٨٣٨      د- ٩٣٩  
ص ١٣٩
- ٥- الدولة التي تحتل المركز الأول في عدد السكان بالنسبة الى دول الخليج العربية  
أ- عمان      ب- الكويت      ج- قطر      د- السعودية  
ص ١١٤
- ٦- المدينة التي تم فيها الاعلان عن قيام السوق الخليجية المشتركة هي  
أ- الرياض      ب- الكويت      ج- ابوظبي      د- الدوحة  
ص ١٣٠

(ب) أكمل العبارات التالية بما يناسبها مما درست : (٦ درجات لكل نقطه درجة)

- ١- أنشأ مجلس التعاون الخليجي قوات درع الجزيرة في عام ١٩٨٤ م ص ١٢٩
- ٢- تحتل دوله الكويت بالنسبة الى دول الخليج العربية من حيث المساحة المركز الرابع ص ١١٤
- ٣- تقع حضارة تاروت في دولة تسمى السعودية ص ١٠٥
- ٤- تم تصدير أول شحنة من النفط الكويتي عام ١٩٤٦ م ص ٩٠
- ٥- أعلى دوله خليجية في نسبه الوافدين وفقا لإحصاء ٢٠٠٦ الامارات ص ١١٢
- ٦- مقر انشاء مكتب التربية العربي لمجلس التعاون الخليجي في مدينة الرياض ص ١٣٠




تابع/ نموذج اجابه امتحان نهاية الفترة الدراسية الثانية للصف السادس اجتماعيات للعام الدراسي (٢٠١٧/٢٠١٨) م

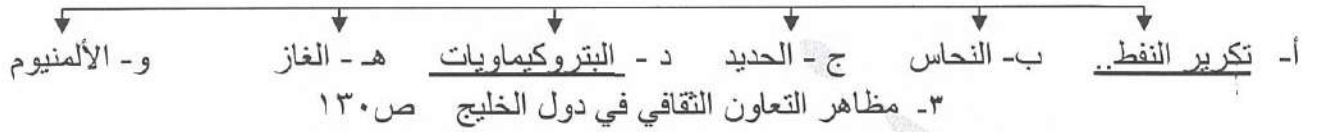
السؤال الثاني: موضوعي يتكون من ( أ – ب )

(أ) أكمل الفراغات في المخططات السهمية التالية بما يناسبها مما درست: (٦ درجات لكل نقطه درجة)

١- التشابه الثقافي بين سكان دول الخليج العربية ص ١١٧+١٢٠



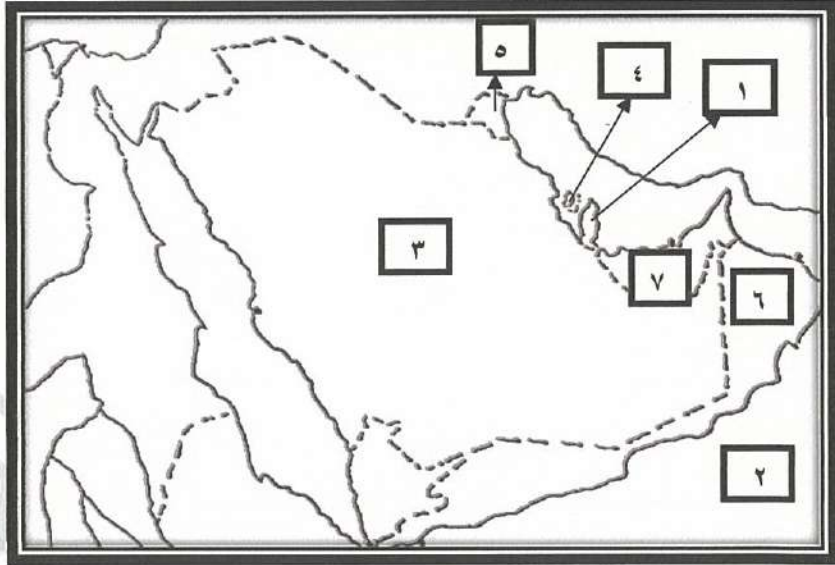
٢- أنواع الصناعات القائمة على النفط في دول مجلس التعاون الخليجي



أ- توحيد المناهج التعليمية      ب- انشاء المكتب التربيه العربي      ج- اجتماع وزراء التربيه والتنظيم

(ب) لاحظ خريطة شبه الجزيرة العربية الصماء ثم اكمل ما يلي مستعينا بالأرقام الموضحة على الخريطة:

( ٦ درجات لكل نقطه درجة )



١- بحر العرب يمثله على الخريطة رقم ٢ ص ٩٢

٢- الدولة الخليجية الأقل في عدد السكان يمثها على الخريطة الرقم ٤ ص ١١٤

٣- حضارة أم النار يمثها على الخريطة الرقم ١ ص ١٠٥

٤- الدولة الرائدة في انتاج محصول القمح يمثها على الخريطة الرقم ٣ ص ٩٢

٥- الدولة الخليجية التي تعرضت للعدوان العراقي الغاشم يمثها على الخريطة الرقم ٥ ص ١٣٩

٦- ميناء الفحل يقع في دولة خليجية يمثها على الخريطة الرقم ٦ ص ٩٦

**السؤال الثالث : يتكون من ( أ - ب )**

**( أ ) صحح ما تحته خط في العبارات التالية بكتابة الإجابة الصحيحة بين القوسين : ( ٦ درجات لكل نقطه درجة)**

- ١- الزراعة التي تتم في بيئة مائية أو رملية أو حصى تعرف بالزراعة البلاستيكية ( ... بدون تربة ... ) ص ٩٤
- ٢- مجموعة من العادات والتقاليد والاخلاقيات في مجتمع من المجتمعات تسمى التاريخ المشترك ( ... الثقافة ... ) ص ١١٨
- ٣- عدد المواليد ناقص عدد الوفيات تعريف لمفهوم الزيادة الغير طبيعية ( ... الزيادة الطبيعية .. ) ص ١١٠
- ٤- مجموع الدخول التي تحصل عليها الدولة خلال عام تطلق على مفهوم الكثافة السكانية ( .. الدخل القومي .. ) ص ٩٥
- ٥- تحويل المواد الخام إلى مواد يمكن الاستفادة منها يعرف بالتجارة ( ... الصناعة ... ) ص ٩٥
- ٦- مجموعة من الناس تشترك فيما بينها في الصفات الجسمانية الرئيسية وتختلف عن غيرها هي الهجرة ( .. السلالة .. ) ص ١٠٦

**(ب) صنف الهجرات التالية حسب مكانها المناسب في الجدول التالي: ص ١٠٨ ( ٦ درجات لكل نقطه درجة)**

( آل صباح - آل خليفة - آل بوسعيد واليعاربة - بني ياس - المعاضيد - القواسم )

سلطنة عمان	قطر	رأس الخيمة	الكويت	ابو ظبي	البحرين
آل بوسعيد واليعاربة	المعاضيد	القواسم	آل صباح	بني ياس	آل خليفة



**السؤال الرابع: مقالي و يتكون من ( أ - ب): (٦ درجات لكل نقطه درجة)**  
**(أ) فرق بين كل مما يلي:**

احتياطي النفط ص ٨٨	انتاج النفط
كميات النفط المخزونة في باطن الارض	كميات النفط التي يتم استخراجها للاستفادة منها
الواردات ص ٩٩	الصادرات
البضائع والسلع التي تشتريها دولنا من الخارج	السلع والمنتجات التي تبيعها دولنا في الخارج
الكثافة السكانية ص ١١٤	النمو السكاني ص ١١١
عدد السكان في الكيلومتر المربع وتقاس بقسمة عدد السكان على مساحة الدولة	هو التغيير الذي يحدث لعدد السكان نتيجة للزيادة الطبيعية وغير الطبيعية

**(ب) ما النتائج المترتبة على كل مما يلي: (٦ درجات لكل نقطه درجة)**

١- التلوث الارضي(التربة). ص ١٣٤

\* ضعف قدرتها على الانتاج الزراعي

\* تلوث الانتاج الزراعي مما يؤثر على صحة الانسان

٢- الغزو العراقي على دولة الكويت وأثره على البيئة . ص ١٣٩ ( يكتفى بنقطتين )

\* تلوث التربة وتدميرا الحياة الفطرية \* تلوث الهواء سبب كميات كبيرة من الدخان

\* تساقط الرذاذ النفطي على التربة محدثا تلوث أرضي حيث تحول لوم الرمال من اللون الأصفر الى اللون الأسود

\* الآثار الخطرة على صحة الانسان والكائنات الحية .

٣- ارتباط دول مجلس التعاون بعلاقات تجارية مع دول العالم وفيما بينها. ص ٩٩

\* انتعاش الموانئ التجارية في دول الخليج العربية

\* ارتفاع الدخل القومي للدول

**السؤال الخامس: مقالى ويتكون من (أ- ب) :**

**(أ) علل لما يلي: (٦ درجات لكل نقطه درجة)**

١-حاجة دول الخليج إلى إقامة العديد من الموانئ النفطية . ص ٩٠

- تزايد الانتاج النفطي لدول مجلس التعاون من الحقول البرية والبحرية

- تزايد الطلب العالمي عليه كمصدر أساسي للطاقة.

٢-شهدت منطقة الخليج العربية بعد اكتشاف النفط نموا سكانيا. (يكتفى بنقطتين) ص ١١٠

- ارتفاع دخل الفرد. \* توفر فرص العمل \* توفر الرعاية الصحية

٣-التلوث البحري ( المائي ) لمياه الخليج العربي . ( يكتفى بنقطتين ) ص ١٣٧

- مخلفات المصانع - مياه الصرف الصحي - مياه الصرف الزراعي

- النفايات الخطرة - النفط ومشتقاته - الأمطار الحمضية

**(ب) نفذ ما هو مطلوب بين القوسين: (٦ درجات لكل نقطه درجة)**

١-مظاهر التعاون العسكري بين دول مجلس التعاون الخليجي(عدد) . ( يكتفى بنقطتين ) ص ١٢٩

- المناورات(التدريبات) العسكرية المختلفة- انشاء قوة مشتركة

- قبول أبناء دول مجلس التعاون في الكليات العسكرية

٤- أنواع التلوث ( عدد ) . ص ١٣٣

- الهوائي - الضوضائي - الأرضي ( التربة ) - البحري ( المائي )

٥- أهم الدول المستوردة للنفط من دولة الكويت (عدد) . ص ٩٠

- هولندا - الولايات المتحدة الأمريكية

- اليابان

انتهت الاسئلة ،،،

تمنياتنا لكم بالنجاح والتوفيق

(٥)



السؤال الخامس: مقالى ويتكون من (أ- ب) :

(أ) علل لما يلي: (٦ درجات لكل نقطه درجة)

١-حاجة دول الخليج إلى إقامة العديد من الموانئ النفطية .

٢-شهدت منطقة الخليج العربية بعد اكتشاف النفط نموا سكانيا. (يكتفى بنقطتين )

٣-التلوث البحري ( المائي ) لمياه الخليج العربي . ( يكتفى بنقطتين )

(ب) نفذ ما هو مطلوب بين القوسين: (٦ درجات لكل نقطه درجة)

١-مظاهر التعاون العسكري بين دول مجلس التعاون الخليجي(عدد) . ( يكتفى بنقطتين )

٤- أنواع التلوث (عدد) . ( يكتفى بنقطتين )

٥- أهم الدول المستوردة للنفط من دولة الكويت (عدد) . ( يكتفى بنقطتين )

انتهت الاسئلة ،،،

تمنياتنا لكم بالنجاح والتوفيق

(٥)

وزارة التربية  
الإدارة العامة للتعليم الخاص  
التوجيه الفني للاجتماعيات

اختبار نهاية الفصل الدراسي الثاني  
المادة : الاجتماعيات  
المقرر : الكويت ودول الخليج العربية  
الصف السادس المتوسط

العام الدراسي : ٢٠١٧/٢٠١٨ م  
الزمن : ساعة وخمس وأربعون  
عدد الأوراق : ( ٦ )

السؤال الأول: يتكون من ( أ ، ب )

(أ) ظلل الحرف ( أ ) إذا كانت العبارة صحيحة وظلل الحرف(ب) إذا كانت العبارة غير الصحيحة :-

٦ × ١ = ٦ درجات

ت	العبارات	الحرف
١	المملكة العربية السعودية لها تجربة رائدة إنتاج محصول الأرز .	أ ب
٢	البعثة الدانمركية هي التي كشفت عن وجود حضارات في منطقة الخليج العربية.	أ ب
٣	يطلق اسم العرب للدلالة على سكان منطقة الخليج العربية.	أ ب
٤	التلفاز من وسائل الإعلام التي تنقل أشكال العنف .	أ ب
٥	درع الجزيرة هي القوة العسكرية المشتركة لدول الخليج العربية .	أ ب
٦	الإنسان عدواني بطبعه كما يرى العلماء .	أ ب

٦ × ١ = ٦ درجات

(ب) ظلل العنصر الذي لا ينتمي لكل مجموعة مما يلي:-

١ { أهم الدول المستوردة للنفط الكويتي:-

الولايات المتحدة الأمريكية	اليابان	هولندا	البرتغال
----------------------------	---------	--------	----------

٢ { مناطق زراعية في دول الخليج العربية :-

العين	سهل الدبدة	سهل الباطنة	الإحساء
-------	------------	-------------	---------

٣ { صناعات قائمة في منطقة الخليج العربية :-

الغاز	بتروكيماويات	السيارات	تكرير النفط
-------	--------------	----------	-------------

٤ { دول خليجية تعرضت للاستعمار:-

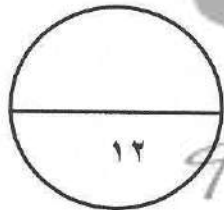
السعودية	الكويت	عمان	الإمارات
----------	--------	------	----------

٥ { أسباب التلوث البحري ( المائي )

مخلفات المصانع	الأمطار الحمضية	النفائيات الخطرة	العواصف الترابية
----------------	-----------------	------------------	------------------

٦ { وظائف العمالة المنزلية :-

سكرتير	طباخ	سائق	مربية
--------	------	------	-------



درجة السؤال الأول

١٢

يتبع الصفحة التالية

Kuwaitteacher.Com

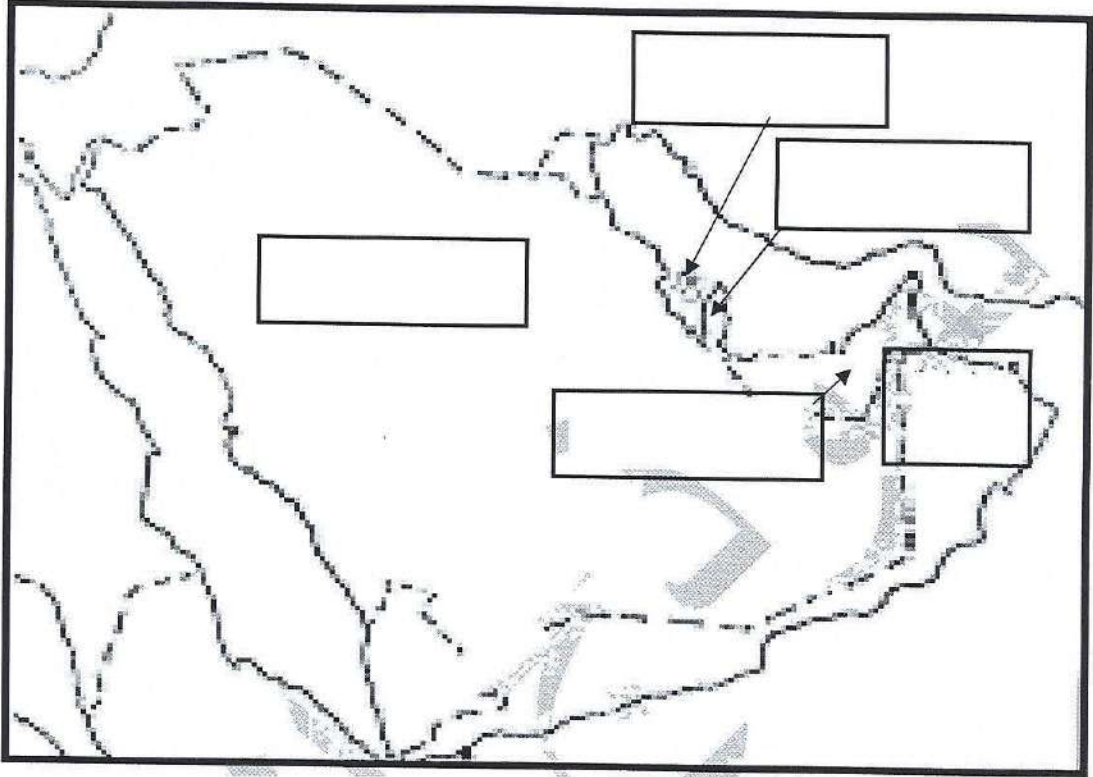


السؤال الثاني : يتكون من ( أ ، ب )

( أ ) وزع الحضارات التي ظهرت في منطقة الخليج العربية بكتابتها في المكان المناسب على الخريطة :-

١ × ٥ = ٥ درجات ص ١٠٥

(( حضارة هيلي // حضارة أم النار // حضارة دهبوت // حضارة دبا // حضارة تاروت ))



١ × ٧ = ٧ درجات

( ب ) أكمل العبارات التالية بما يناسبها مما درست :-

- ١ { الصناعة التي اشتهرت بها منطقة صحار في عُمان تسمى
- ٢ { أصول السلالات السكانية في منطقة الخليج العربية ترجع إلى جنس شرق أفريقيا وجنس آخر يسمى

٣ { توحيد المناهج التعليمية مظهر من مظاهر التعاون بين دول الخليج العربية يسمى

٤ { العام الميلادي الذي صدر فيه إعلان الدوحة بشأن قيام السوق الخليجية المشتركة هو

٥ { الصورة المقابلة تمثل نوع من أنواع التلوث يسمى



٦ { الدولة التي قامت بالاعتداء على دولة الكويت عام ١٩٩٠م تسمى

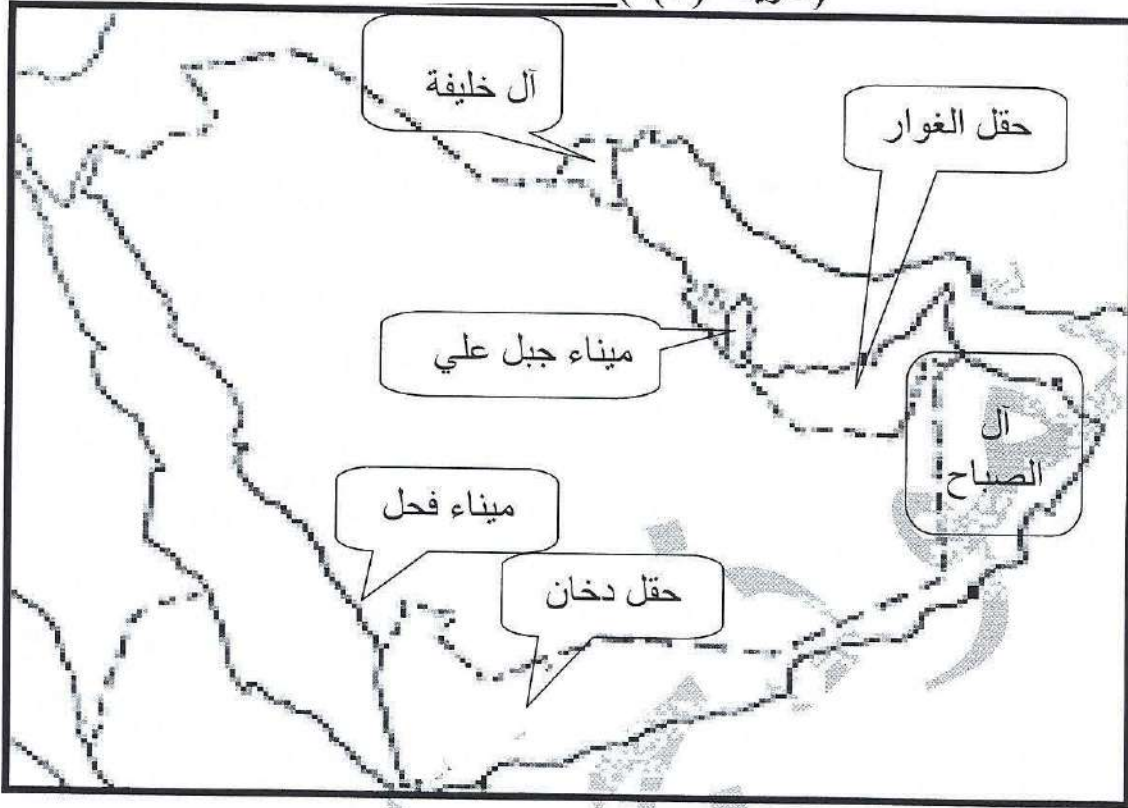
٧ { الدولة الخليجية التي هاجر لها المعاصيد تسمى

١ × ٦ = ٦ درجات

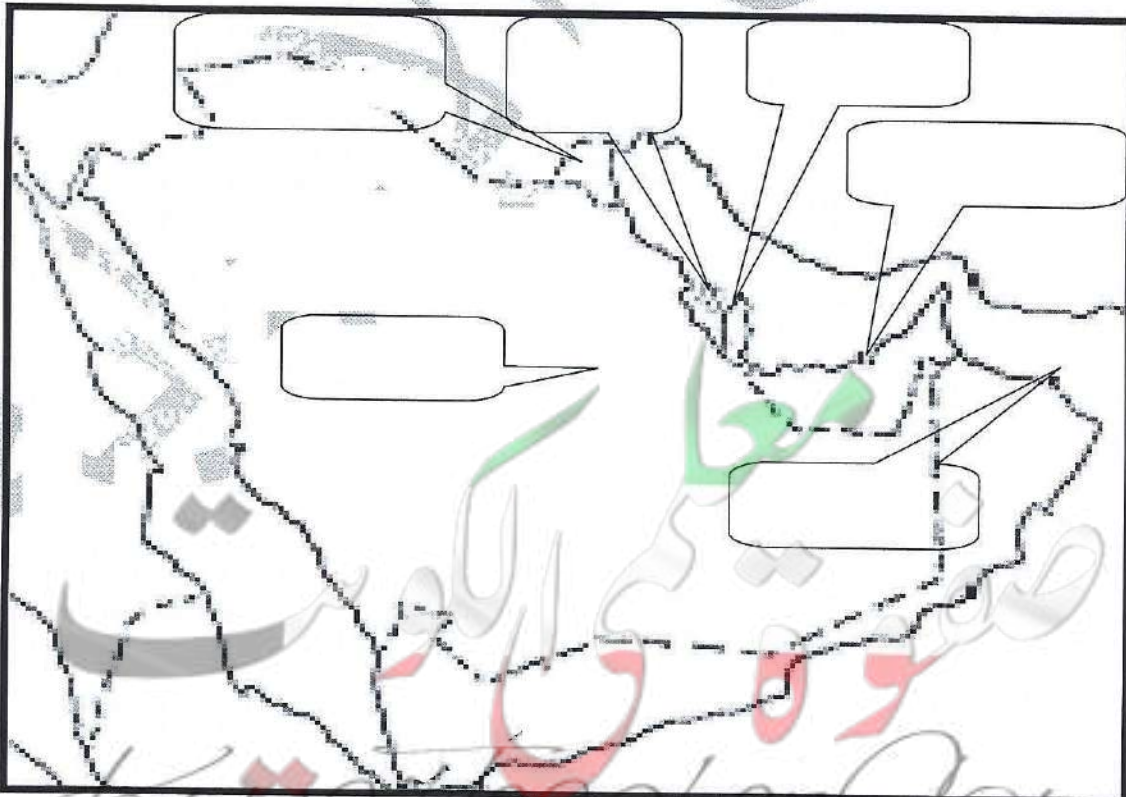
السؤال الثالث: يتكون من ( أ ، ب )

( أ ) صحح الأخطاء على الخريطة ( أ ) بكتابتها في مكانها الصحيح على الخريطة ( ب ) :-

( خريطة ( أ ) )



( خريطة ( ب ) )

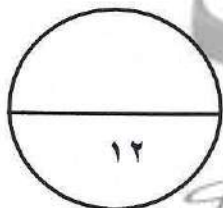






تابع السؤال الثالث :-

( ب ) اختر التعليق المناسب للصور بالاستعانة بالكلمات التالية :-

الجلابية // سوق الخضار (الفريضة) // التلوث البحري // إحراق آبار النفط الكويتية // تحرير دولة الكويت // العنف في المدارس // الجمعية التعاونية // التلوث الضوضائي // الإرهاب // الدشداشة .



١٢

درجة السؤال الثالث

يتبع الصفحة التالية

السؤال الرابع: يتكون من ( أ ، ب )  $٦ = ٦ \times ١$  درجات  
( أ ) اقرأ الفقرة التالية ثم أجب عن من أسئلة التي تليها بالاستعانة بالفقرة ومما درست :

(( بدأ التنقيب عن النفط في دولة الكويت عام ١٩٣٤م في حقل بحرة ، ولم تكن الكميات الكبيرة فاتجهت إلى الجنوب في عمليات التنقيب وتم اكتشاف كميات كبيرة في حقل برقان وبعد ١٢ عاما من بدء التنقيب عن النفط تم تصدير أول شحنة نفط كويتي ، إلا إنه لا يتم تصدير إنتاج النفط كله إلى الخارج .))

١- عرف ما تحته خط :

٢- قارن بين حقل بحرة وحقل برقان حسب المطلوب في الجدول .  $٤ = ٤ \times ١$  درجات

حقل برقان	حقل بحرة	أوجه المقارنة
		الموقع
		الكميات المستخرجة

٣- من المعطيات الموجودة في الفقرة احسب العام الذي تم فيه تصدير أول شحنة من النفط الكويتي .  
درجة


( ب ) علل ما يلي :

١- ازدياد الهجرة إلى منطقة الخليج العربية بعد ظهور النفط .  
يكتفى بنقطتين  $٢ = ٢ \times ١$  درجة

٢- ارتفاع الدخل في دول مجلس التعاون الخليجي .  
يكتفى بنقطتين  $٢ = ٢ \times ١$  درجة

٣- أهمية طبقة الأوزون .  
درجة

٤- اجتماع وزراء التربية والتعليم لدول الخليج العربية كل عامين .  
درجة





السؤال الأول: يتكون من ( أ ، ب )

(أ) ظلل الحرف ( أ ) إذا كانت العبارة صحيحة وظلل الحرف(ب) إذا كانت العبارة غير الصحيحة :-

٦ × ٦ = ٦ درجات

ت	العبارات	الحرف
١	المملكة العربية السعودية لها تجربة رائدة إنتاج محصول الأرز . ص ٩٢	أ
٢	البعثة الدانمركية هي التي كشفت عن وجود حضارات في منطقة الخليج العربية. ص ١٠٥	أ
٣	يطلق اسم العرب للدلالة على سكان منطقة الخليج العربية. ص ١١٧	أ
٤	التلفاز من وسائل الإعلام التي تنقل أشكال العنف . ص ١٤٥	أ
٥	درع الجزيرة هي القوة العسكرية المشتركة لدول الخليج العربية . ص ١٢٩	أ
٦	الإنسان عدواني بطبعه كما يرى العلماء . ص ١٤٦	أ

٦ × ٦ = ٦ درجات

(ب) ظلل العنصر الذي لا ينتمي لكل مجموعة مما يلي:-

١ { أهم الدول المستوردة للنفط الكويتي:- ص ٩٠

الولايات المتحدة الأمريكية	اليابان	هولندا	البرتغال
----------------------------	---------	--------	----------

٢ { مناطق زراعية في دول الخليج العربية :- ص ٩٢

العين	سهل الدبدبة	سهل الباطنة	الإحساء
-------	-------------	-------------	---------

٣ { صناعات قائمة في منطقة الخليج العربية :- ص ٩٦ / ٩٧

الغاز	بتروكيماويات	السيارات	تكرير النفط
-------	--------------	----------	-------------

٤ { دول خليجية تعرضت للاستعمار:- ص ١٢٠

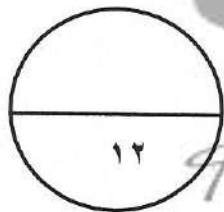
السعودية	الكويت	عمان	الإمارات
----------	--------	------	----------

٥ { أسباب التلوث البحري ( المائي ):- ص ١٣٦

مخلفات المصانع	الأمطار الحمضية	النفائيات الخطرة	العواصف الترابية
----------------	-----------------	------------------	------------------

٦ { وظائف العمالة المنزلية :- ص ١٤٢

سكرتير	طباخ	سائق	مربية
--------	------	------	-------

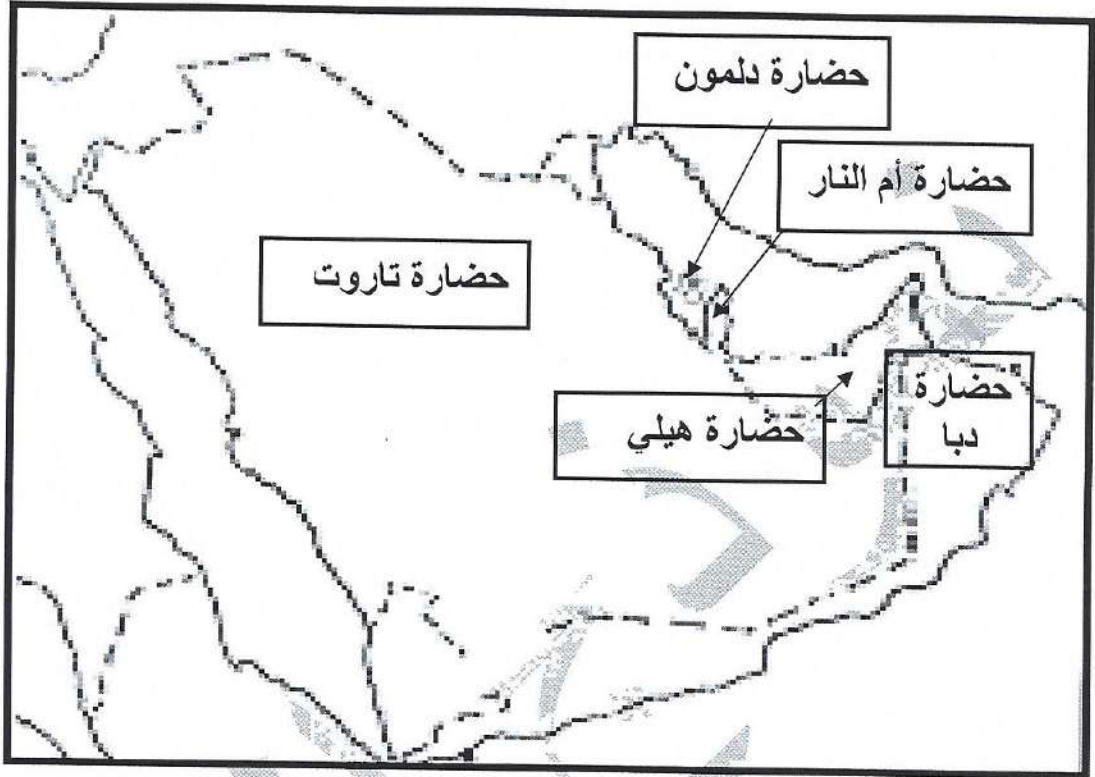


السؤال الثاني : يتكون من ( أ ، ب )

( أ ) وزع الحضارات التي ظهرت في منطقة الخليج العربية بكتابتها في المكان المناسب على الخريطة :-

١ × ٥ = ٥ درجات ص ١٠٥

(( حضارة هيلي // حضارة أم النار // حضارة دلمون // حضارة دبا // حضارة تاروت ))



١ × ٧ = ٧ درجات

( ب ) أكمل العبارات التالية بما يناسبها مما درست :-

- ١ { الصناعة التي اشتهرت بها منطقة صحار في عُمان تسمى النحاس ص ٩٦
- ٢ { أصول السلالات السكانية في منطقة الخليج العربية ترجع إلى جنس شرق أفريقيا وجنس آخر يسمى البحر المتوسط ص ١٠٥
- ٣ { توحيد المناهج التعليمية مظهر من مظاهر التعاون بين دول الخليج العربية يسمى الثقافي ص ٩٧
- ٤ { العام الميلادي الذي صدر فيه إعلان الدوحة بشأن قيام السوق الخليجية المشتركة هو ٢٠٠٨م ص ١٣٠
- ٥ { الصورة المقابلة تمثل نوع من أنواع التلوث يسمى الهوائي ص ١٣٣



٦ { الدولة التي قامت بالاعتداء على دولة الكويت عام ١٩٩٠م تسمى العراق ص ١٣٩

٧ { الدولة الخليجية التي هاجر لها المعاصيد تسمى قطر ص ١٠٨

درجة السؤال الثاني

رغم الصفحة التالية

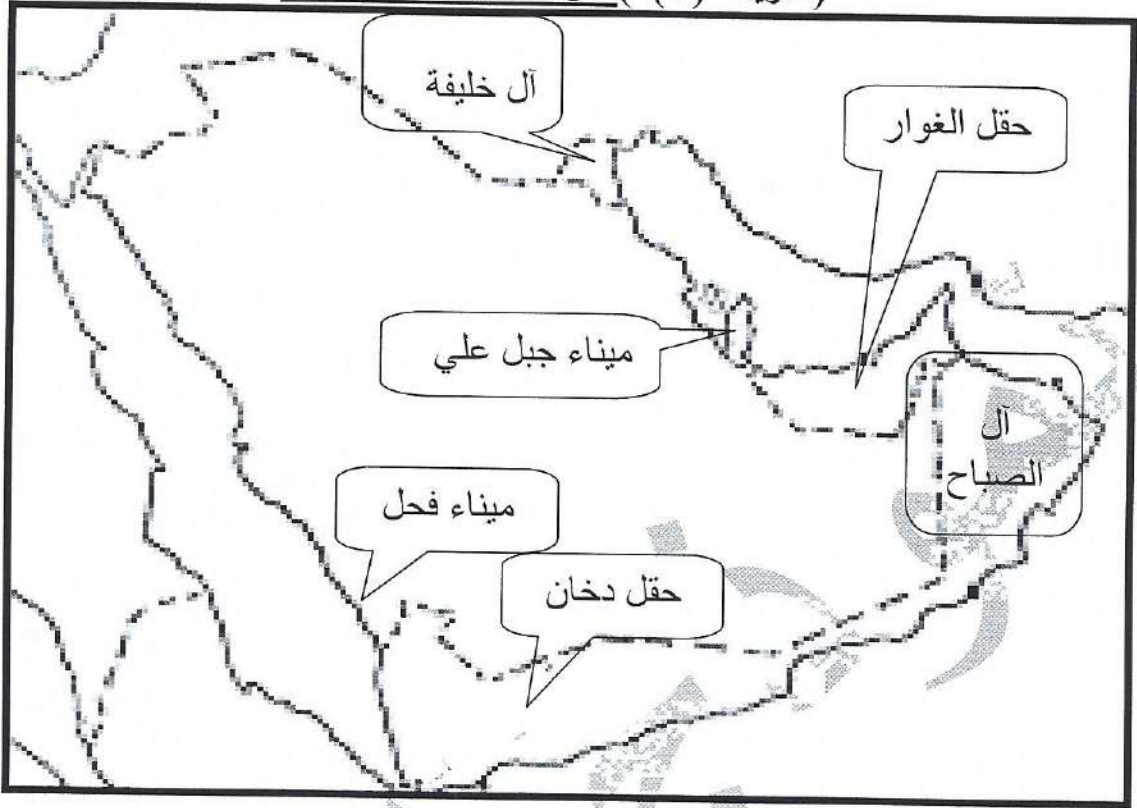


١ × ٦ = ٦ درجات

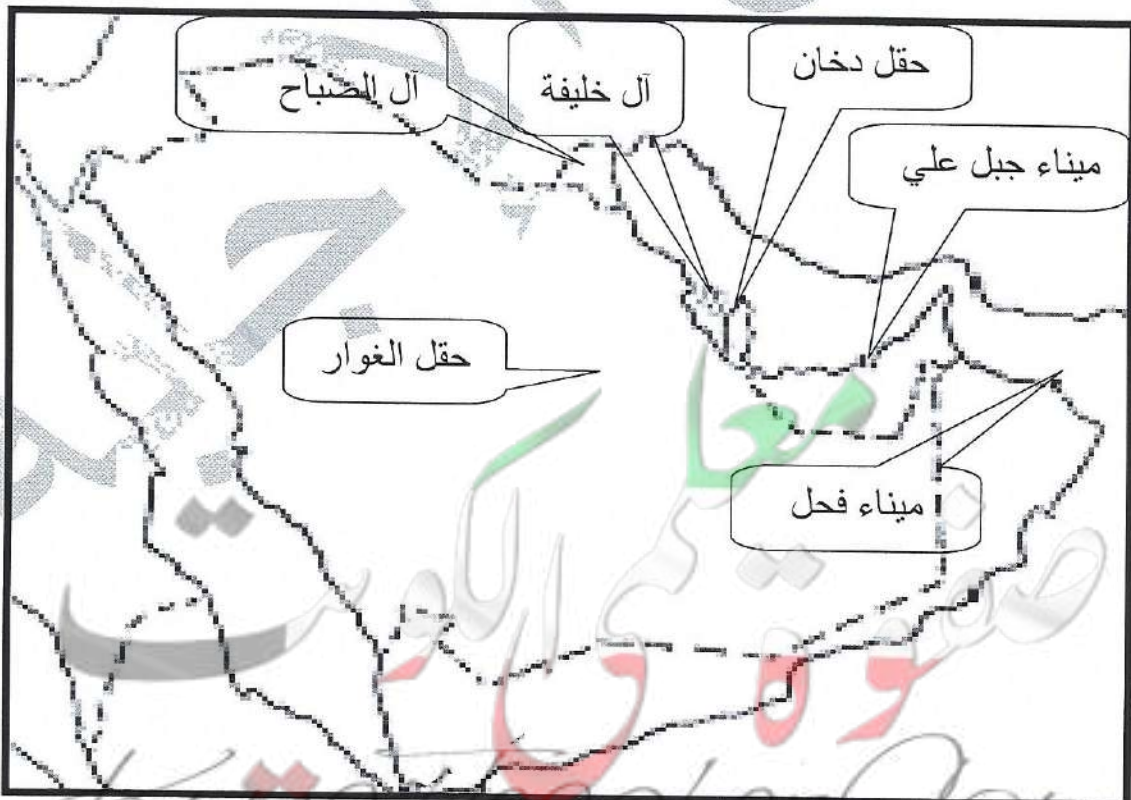
السؤال الثالث: يتكون من ( أ ، ب )

( أ ) صحح الأخطاء على الخريطة ( أ ) بكتابتها في مكانها الصحيح على الخريطة ( ب ) :-

( خريطة ( أ ) ) ص ٩١ // ٩٧ // ١٠٨



( خريطة ( ب ) )




تابع السؤال الثالث :-

( ب ) اختر التعليق المناسب للصور بالاستعانة بالكلمات التالية :-

الجلابية // سوق الخضار (الفرضة) // التلوث البحري // إحراق آبار النفط الكويتية // تحرير دولة الكويت // العنف في المدارس // الجمعية التعاونية // التلوث الضوضائي // الإرهاب // الدشداشة .

التلوث الضوضائي . ص ١٣٣



العنف في المدارس . ص ١٤٧




الدشداشة ص ١١٨



سوق الخضار ( الفرضة ) ص ٩٣



إحراق آبار النفط الكويتية ص ١٣٩



تحرير دولة الكويت ص ١١٩





السؤال الرابع: يتكون من (أ، ب)  $1 \times 6 = 6$  درجات  
(أ) اقرأ الفقرة التالية ثم أجب عن من أسئلة التي تليها بالاستعانة بالفقرة ومما درست :

(( بدأ التنقيب عن النفط في دولة الكويت عام ١٩٣٤م في حقل بحرة ، ولم تكن الكميات الكبيرة فاتجهت إلى الجنوب في عمليات التنقيب وتم اكتشاف كميات كبيرة في حقل برقان وبعد ١٢ عاما من بدء التنقيب عن النفط تم تصدير أول شحنة نفط كويتي ، إلا إنه لا يتم تصدير إنتاج النفط كله إلى الخارج .))  
١- عرف ما تحته خط : إنتاج النفط هو كميات النفط التي يتم استخراجها للاستفادة منها . ص ٨٨ درجة  
٢- قارن بين حقل بحرة وحقل برقان حسب المطلوب في الجدول .  $1 \times 4 = 4$  درجات ص ٨٧

أوجه المقارنة	حقل بحرة	حقل برقان
الموقع	شمال الكويت	جنوب الكويت
الكميات المستخرجة	كميات قليلة	كميات كبيرة .

٣- من المعطيات الموجودة في الفقرة احسب العام الذي تم فيه تصدير أول شحنة من النفط الكويتي .  
درجة

$$1934 + 12 = 1946 \quad \text{ص } 87, 90$$

(ب) علل ما يلي :


١- ازدياد الهجرة إلى منطقة الخليج العربية بعد ظهور النفط . ص ١١١ يكتفى بنقطتين  $1 \times 2 = 2$  درجة  
\*\* ارتفاع دخل الفرد .  
\*\* توفير الرعاية الصحية .  
\*\* توفر فرص العمل .  
\*\* الأمن والأمان . \*\* السماح للوافدين باصطحاب عائلاتهم .

٢- ارتفاع الدخل في دول مجلس التعاون الخليجي . ص ٩٥ / ٩٩ يكتفى بنقطتين  $1 \times 2 = 2$  درجة  
\*\* اكتشاف النفط وتصديره .  
\*\* نما اقتصاد دول مجلس التعاون الخليجي .  
\*\* ارتباطها بعلاقات تجارية مع دول العالم خاصة تجارة الترانزيت .

٣- أهمية طبقة الأوزون . ص ١٣٩ درجة

\*\* لأنها درع واق للأحياء ضد خطر الأشعة فوق البنفسجية .

٤- اجتماع وزراء التربية والتعليم لدول الخليج العربية كل عامين . ص ١٣٠ درجة  
\*\* لوضع السياسات التربوية .



السؤال الخامس: يتكون من ( أ ، ب )

( أ ) أكتب فيما يلي :-  $2 \times 3 = 6$  درجات

١- نتائج إشعال العدوان العراقي لأبار النفط في دولة الكويت . ص ١٣٩ يكتفى بنقطتين  
\*\* كميات كبيرة من الدخان \*\* تساقط الرذاذ النفطي على التربة محدثة تلوث أرضي .

\*\* تلوث هوائي هائل لم تشهده أي دولة في العالم .

\*\* آثار خطيرة على صحة الإنسان والكائنات الحية.

٢- حلول مشكلة العمالة المنزلية . ص ١٥٠ يكتفى بنقطتين

\*\* الاهتمام الجاد بالقرآن الكريم والسنة النبوية .

\*\* تحمل كل فرد من أفراد الأسرة بمسئولته والقيام بدوره خير قيام .

\*\* جعل مهمة الخادم مقتصرة على ممارسة دوره الأساسي في المساهمة في تحمل عبء المنزل لا غير .

٣- التحديات التي تواجه دول الخليج العربية. ص ١٣٢ يكتفى بنقطتين

\*\* الأمن الغذائي. \*\* التلوث البيئي .

\*\* الاعتماد على الموارد النفطية فقط. \*\* ندرة المياه . \*\* الأخطار الخارجية والداخلية

( ب ) لاحظ الرسم البياني لتوزيع السكان في بعض دول الخليج العربية وفقا لإحصاء ٢٠٠٦م :- ص ١١٢

١- رتب نسبة الوافدين لبعض

دول الخليج العربية تنازليا

في الجدول .

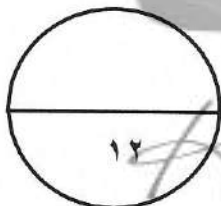
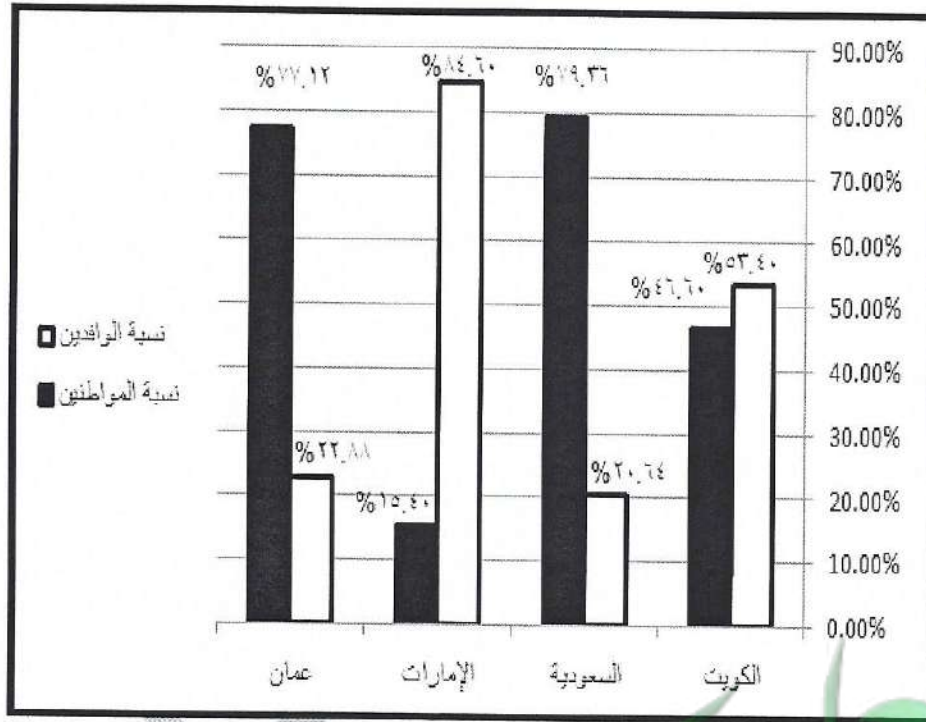
ت	الدولة	النسبة
١	الإمارات	%٨٤.٦
٢	الكويت	%٥٣.٤
٣	عمان	%٢٢.٨٨
٤	السعودية	%٢٠.٦٤

٢- اكتب حقيقة من الرسم البياني

\*\* أي حقيقة صحيحة


٣- ظلل نسبة المواطنين في

الكويت على الدائرة البيانية .



درجة السؤال الخامس

انتهت الأسئلة  
بالتوفيق والنجاح





السؤال الخامس: يتكون من ( أ ، ب )

( أ ) أكتب فيما يلي :-  $2 \times 3 = 6$  درجات

يكتفي بنقطتين

١- نتائج إشعال العدوان العراقي لآبار النفط في دولة الكويت .

يكتفي بنقطتين

٢- حلول مشكلة العمالة المنزلية

يكتفي بنقطتين

٣- التحديات التي تواجه دول الخليج العربية.

( ب ) لاحظ الرسم البياني لتوزيع السكان في بعض دول الخليج العربية وفقا لإحصاء ٢٠٠٦م :- ص ١١٢

١- رتب نسبة الوافدين لبعض

دول الخليج العربية تنازليا

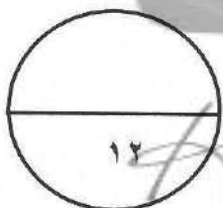

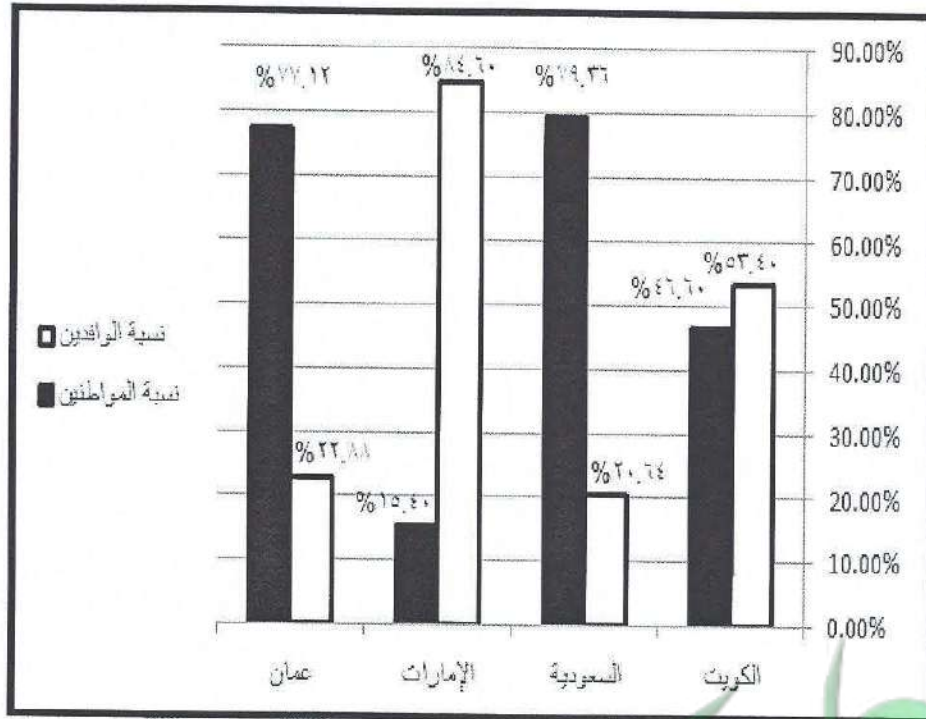
في الجدول .

ت	الدولة	النسبة
١		
٢		
٣		
٤		

٢- اكتب حقيقة من الرسم البياني

٣- ظلل نسبة المواطنين في

الكويت على الدائرة البيانية .



درجة السؤال الخامس

انتهت الأسئلة  
بالتوفيق والنجاح